

Question Paper Title : TI_16

Date of Exam : 11-07-2019 02:30 PM

Reference ID:(10234) सरासरी काढा.
88, 98, 48, 28, 38 & 18

A.88

B.48

C.18

D.53

Answer: D.53

Reference ID:(9927) खाली दिलेल्या शब्दसमूहातून समानार्थी नसणारा शब्द पर्याय ओळखा.

A.मुलगी- सुता, दुहिता, कन्या

B.मुलगा- सुत, पुत्र, तनय

C.कमळ- सुम, सुमन, पुष्प

D.हुशार- चतुर, चलाख, तरबेज

Answer: C.कमळ- सुम, सुमन, पुष्प

Reference ID:(10210) भारतामधील खालीलपैकी कोणत्या ठिकाणी छत्रपती शिवाजी महाराज आणि त्यांच्या मुलाला औरंगजेबने नजरकैदेत ठेवले होते?

A.दिल्ली

B.बीजापुर

C.अहमदनगर

D.आग्रा

Answer:

D.आग्रा

Reference ID:(9940)

क्रियापदानुसार कर्त्याच्या योग्य रूपाची निवड करा.
..... गावाला गेले.

A.तो

B.तुम्ही

C.आम्ही

D.ते

Answer:

D.ते

Reference ID:(9915)

Choose the most suitable determiner for the given sentence:

She always keeps _____ money in her wallet for emergencies.

A.any

B.every

C.some

D.much

Answer:

C.some

Reference ID:(10224)

'भेरी शेती' कशाचा संदर्भ देते:

A.आवळ्यांच्या जंगलीप्रकाराला वाढवणे

B.देशी दुभत्या प्रजातीचे पालन करणे

C.पश्चिम बंगालमध्ये आढळणारा मत्स्य शेतीचा प्रकार

D.मैदानांच्या सिंचनासाठी वापरले जाणारे प्राचीन कालवा सिंचन.

Answer:

C.पश्चिम बंगालमध्ये आढळणारा मत्स्य शेतीचा प्रकार

Reference ID:(10227)

तीन व्यक्ती राघव, अमित आणि सुरेशचे वर्तमान वय अनुक्रमे 7:4:9 च्या गुणोत्तरात आहे. आठ वर्षांपूर्वी, त्यांच्या वयांची बरीज 56 होती. त्यांच्या वर्तमान वयांचे संबंधित गुणोत्तर काढा?

A.8 वर्ष, 20 वर्ष, 28 वर्ष

B.28 वर्ष, 16 वर्ष, 36 वर्ष

C.20 वर्ष, 35 वर्ष, 45 वर्ष

D.13 वर्ष, 16 वर्ष, 25 वर्ष

Answer:

B.28 वर्ष, 16 वर्ष, 36 वर्ष

Reference ID:(10239)

एका खांबाचा एक तृतीयांश भाग जर जमिनीखाली असेल, एक चतुर्थांश भाग जर पाण्यात बुडालेला असेल आणि राहिलेला 5 मीटर पाण्यावर दिसत असेल तर खांबाची एकूण लांबी किती?

A.12 मीटर

B.10 मीटर

C.9 मीटर

D.8 मीटर

Answer:

A.12 मीटर

Reference ID:(10213)

मुंबईमध्ये दरवर्षी आयोजित केला जाणारा बाणगंगा महोत्सवाद्वारे, _____ देवाला संगीतमय श्रद्धांजली दिली जाते.

A.शिव

B.विष्णू

C.राम

D.गणेश

Answer:

C.राम

Reference ID:(10212)

भारतात खालीलपैकी कोणत्या राज्यामध्ये ऑरेंज व्याघ्र अभयारण्य स्थित आहे?

A.कर्नाटक

B.आसाम

C.मध्य प्रदेश

D.पश्चिम बंगाल

Answer:

B.आसाम

Reference ID:(9911)

Choose the option with the appropriate suffix to complete the given sentence:

The dog made himself comfort_____ in front of the cooler as it was a very hot day.

A.-sion

B.-tion

C.-able

D.-ing

Answer:

C.-able

Reference ID:(9928)

दिलेल्या शब्दगटातून विरुद्धार्थी शब्द ओळखा.
काच – पारदर्शक X -----

A.निळी

B.बहिर्वक्र

C.अपारदर्शक

D.गुळगुळीत

Answer:

C.अपारदर्शक

Reference ID:(10237)

प्रश्नाचे उत्तर देण्यासाठी खालील माहितीचा काळजीपूर्वक अभ्यास करा.
3 D K \$ P 2 7 # @ 4 J T H 9 * F M R 1 5 % ? 6 8

खालील पाचपैकी चार हे वरील मांडणीमधील त्यांच्या स्थानावर आधारित विशिष्ट प्रकारे सारखे आहेत त्यामुळे त्यांचा एक गट बनतो. कोण या गटाशी संबंधित नाही?

A.8%

B.9M

C.@T

D.\$7

Answer:

A.8%

Reference ID:(9906)

Choose the correct form of adjective for the given sentence:

They missed a _____ opportunity.

A.huge

B.big

C.golden

D.major

Answer:

C.golden

Reference ID:(9932)

खालील वाक्यातील अधोरेखित शब्दाचे लिंग ओळखा.
आईने माळ आणली.

A.पुल्लिंग

B.स्त्रीलिंग

C.नपुसकलिंग

D.उभयलिंग

Answer:

B.स्त्रीलिंग

Reference ID:(10229)

एका लॉटरी मध्ये, 7 बक्षिसे आणि 21 रिक्त आहेत. जर यादृच्छिक रूपामध्ये लॉटरी काढली, तर बक्षिस मिळण्याची संभाव्यता काय आहे?

A.1/4

B.2/5

C.3/5

D.1/10

Answer:

A.1/4

Reference ID:(10222)

48 मतदार संघांमधून 2019 लोक सभा निवडणूक लढवण्यास सात डॉक्टरांचा परिचय देणाऱ्या एकमेव राज्याचे नाव काय आहे?

A.उत्तर प्रदेश

B.मध्यप्रदेश

C.महाराष्ट्र

D.आंध्र प्रदेश

Answer:

C.महाराष्ट्र

Reference ID:(25011)

450 रुपयांच्या दराने 100 सफरचंद खरेदी केली आणि 60 रुपये प्रति डझनच्या दराने त्यांची विक्री करण्यात आली. नफा किंवा तोट्याची टक्केवारी आहे:

$11\frac{1}{9}\%$ नफा

$9\frac{1}{11}\%$ तोटा

$1\frac{9}{11}\%$ नफा

$9\frac{11}{1}\%$ तोटा

Answer:

$11\frac{1}{9}\%$ नफा

Reference ID:(9902)

Choose the option that has the correct spelling.

A.Maegistrate

B.Magistrate

C.Magestrate

D.Magistrate

Answer: B.Magistrate

Reference ID:(10232) 74 पुस्तके आणि 106 पेनांची एकूण किंमत 1910 रुपये आहे, तर 106 पुस्तके आणि 74 पेनांची एकूण किंमत 2230 रुपये आहे. एक पुस्तक आणि एक पेनाची किंमत काढा:

A.25 रुपये

B.37 रुपये

C.30 रुपये

D.23 रुपये

Answer: D.23 रुपये

Reference ID:(10228) जग्गाचे वय हे त्याच्या मुलाच्या वयाच्या तीन पट आहे. सहा वर्षांपूर्वी, जग्गाचे वय हे त्यावेळच्या त्याच्या मुलाच्या वयाच्या पाचपट होते. जग्गाचे वर्तमान वय काढा.

A.35 वर्षे

B.36 वर्षे

C.37 वर्षे

D.38 वर्षे

Answer: B.36 वर्षे

Reference ID:(10245) दुधात 5% पाणी आहे. 8 लिटर दुधात किती शुद्ध दूध मिसळावं लागेल जेणेकरून पाण्याचे प्रमाण 4% होईल?

A.3 लिटर

B.2 लिटर

C.4 लिटर

D.1 लिटर

Answer:

B.2 लिटर

Reference ID:(9929)

दिलेल्या शब्दागटातून विरुद्धार्थी शब्द ओळखा.
मंदिर – प्राचीन X -----

A.दगडी

B.जीर्ण

C.अर्वाचीन

D.भग्न

Answer:

C.अर्वाचीन

Reference ID:(10231)

काही खेळणी 18 मुलांमध्ये एकसारखी अशाप्रकारे वितरीत केली की प्रत्येक मुलाला मिळणाऱ्या खेळण्यांची संख्या ही मुलांच्या संख्येइतकीच होती, आणि वितरणानंतर 6 खेळणी बाकी राहिली. खेळण्यांची एकूण संख्या काय होती?

A.324

B.330

C.336

D.320

Answer:

B.330

Reference ID:(9944)

पुढील वाक्यांमधील विशेषण ओळखा.
मीना वाटते हळूबाई, पण तिच्या कामाचा उरका जबरदस्त आहे.

A.मीना

B.उरका

C.जबरदस्त

D.पण

Answer:

C.जबरदस्त

Reference ID:(25012)

40 किलोग्रॅम साखर आणि पाण्याच्या 2% द्रावणाला 10% द्रावणापर्यंत वाढवण्यासाठी किती किलोग्रॅम शुद्ध साखर मिसळली जायला हवी?

$3\frac{9}{5}$ किग्रॅ

$3\frac{5}{9}$ किग्रॅ

$9\frac{3}{5}$ किग्रॅ

$9\frac{5}{3}$ किग्रॅ

Answer:

$3\frac{5}{9}$ किग्रॅ

Reference ID:(10248)

दिलेल्या प्रश्नामध्ये खाली दिलेल्या कोड आणि त्यापुढील अटीनुसार अक्षर समूहाला संख्या/चिन्हांना संकेतबद्ध करायचे आहे.

अक्षर	P	D	A	F	L	H	M	R	K	T	B	E	U
संकेत	3	6	#	8	\$	4	2	7	@	9	5	1	%

अट: जर पहिले अक्षर स्वर असेल आणि शेवटचे अक्षर व्यंजन असेल, तर दोन्हींना 0 असे कूटबद्ध केले जाईल.

'EDRTMP' साठी काय संकेत आहे?

A.067920

B.167932

C.169721

D.067923

Answer:

A.067920

Reference ID:(9905)

Out of the following options, choose the rightly punctuated sentence.

A.Then there are the can't do types" who want to maintain the status quo.

B.Then there are the "can't do" types who want to maintain the status quo.

C.Then there are "the can't do types" who want to maintain the status quo

D.Then there are the can't do types who want to maintain the status quo!

Answer:

B.Then there are the "can't do" types who want to maintain the status quo.

Reference ID:(10223)

कोणत्या बँकेने एमएसएमइ बिल वटववणीसाठी एम1एक्सचेंज ट्रेड रिसिक्वेबल्स डिस्कांऊंटिंग सिस्टीम प्लॅटफॉर्मसोबत भागीदारी केली आहे?

A.बँक ऑफ इंडिया (बीओआय)

B.बँक ऑफ महाराष्ट्र (बीओएम)

C.बँक ऑफ हैदराबाद (बीओएच)

D.भारतीय स्टेट बँक (एसबीआय)

Answer:

B.बँक ऑफ महाराष्ट्र (बीओएम)

Reference ID:(9933)

पुढील वाक्याचा प्रकार ओळखा.
'चित्रपटगृहे बंद पडली तर माणसे करमणुकीवाचून वेडी होतील.'

A.प्रश्नार्थी

B.मिश्र वाक्य

C.संयुक्त वाक्य

D.केवल वाक्य

Answer:

C.संयुक्त वाक्य

Reference ID:(9942)

रिकाम्या जागी योग्य पर्याय निवडा.
अविकारी शब्दांना म्हणतात.

A.नाम

B.विभक्ती

C.क्रियाविशेषण अव्यय

D.अव्यये

Answer:

C.क्रियाविशेषण अव्यय

Reference ID:(9949)

'चंद्र' व 'जागृती' या शब्दांतील पहिली व्यंजने कोणत्या प्रकारची आहेत?
जागृती

A.ओष्ठ्या

B.तालव्य

C.मूर्धन्य

D.कंठ्य

Answer:

B.तालव्य

Reference ID:(10216)

10 मार्च 2019 रोजी केंद्रीय उद्योग सुरक्षा दल (सीआयएसएफ) चा 50 वा स्थापना दिवस _____ येथे आयोजित करण्यात आला.

A.विशाखापट्टनम

B.गाझियाबाद

C.नोएडा

D.मसूरी

Answer:

B.गाझियाबाद

Reference ID:(9920)

Choose the correct form of conjunction for the given sentence:

The children went to see the horror movie, _____ they had been warned not to do so.

A.since

B.as though

C.as

D.although

Answer:

D.although

Reference ID:(9919)

Choose the appropriate prepositional phrase for the given sentence:

The little boy was continually _____ the toys _____ the shop.

A. tripping over, at

B. falling down, with

C. breaking up, around

D. knocking over, in

Answer:

D. knocking over, in

Reference ID:(10201)

पुढील वाक्यात पर्यायातील अचूक वाक्प्रचार निवडा.
स्पर्धा जिंकल्यावर साहजिकच स्पर्धकांना खूपच आनंद झाला.

A. त्रिभुवन ठेंगणे होणे

B. इकडे आड तिकडे विहीर होणे

C. बुचकळ्यात पडणे

D. आश्चर्य वाटणे

Answer:

A. त्रिभुवन ठेंगणे होणे

Reference ID:(10225)

वाहनांमध्ये वापरला जाणारा मागचे दृश्य दाखवणारा आरसा _____ असतो.

A. अंतर्वक्र आरसा

B. अन्वस्तीय आरसा

C. सपाट आरसा

D. बहिर्वक्र आरसा

Answer:

D. बहिर्वक्र आरसा

Reference ID:(9914)

Choose the correct form of verb for the given sentence:

I have often _____, why they went to live abroad.

A.wondered

B.surprised

C.thought

D.puzzled

Answer:

A.wondered

Reference ID:(10246)

अल्कोहोलचे प्रमाण 10% असलेल्या एका 500 मिली द्रावणात किती शुद्ध अल्कोहोल टाकावे लागेल जेणेकरून नव्या द्रावणातील अल्कोहोलचे प्रमाण 20% होईल?

A.62.5 मिली

B.45.5 मिली

C.50 मिली

D.60 मिली

Answer:

A.62.5 मिली

Reference ID:(10241)

जर $A : B :: 6 : 11$ आणि $B : C :: 6 : 7$, तर $A : C :: ?$

A.66 : 77

B.36 : 77

C.36 : 66

D.6 : 13

Answer:

B.36 : 77

Reference ID:(9910)

Choose the option with the appropriate suffix to complete the given sentence:

The most senior teacher was given add_____ charge as principal.

A.-ing

B.-ition

C.-itional

D.-ed

Answer:

C.-itional

Reference ID:(10206)

महाराष्ट्र प्रशासकीय न्यायासन कधी स्थापित झाले?

A.7 जुलै 1990

B.8 जुलै, 1991

C.10 जून, 1992

D.15 जून, 1999

Answer:

B.8 जुलै, 1991

Reference ID:(10203)

खालीलपैकी कोणी समग्र इतिहासामध्ये त्यांच्या कामासाठी 'पास्ट टाईम डायमेंशन' श्रेणीमध्ये इस्त्राइलचा प्रतिष्ठीत डॅन डेव्हीड पुरस्कार जिंकला?

A.संजय सुब्रमण्यम

B.एस जयशंकर

C.सय्यद अकबरुद्दीन

D.ब्राजेश मिश्रा

Answer:

A.संजय सुब्रमण्यम

Reference ID:(9921)

Choose the appropriate conjunction for the given sentence:

The proposal cannot be considered valid _____ it is signed by all the existing members of the Board.

A.unless

B.whereas

C.however

D.but

Answer:

A.unless

Reference ID:(9946)

पुढील वाक्यांमध्ये योग्य ते अव्यय घाला.
माणसाला ज्ञान हवे ----- धन, हा अवघड प्रश्न आहे.

A.की

B.पण

C.व

D.परी

Answer:

A.की

Reference ID:(10219)

पंत प्रधान नरेंद्र मोदी यांनी "एप्रिल 2019-मार्च 2020" ला काय म्हणून घोषित केले?

A.बांधकाम-तंत्रज्ञान वर्ष

B.निर्माण-तंत्रज्ञान वर्ष

C.मुलभूत सुविधा-नव उपक्रम वर्ष

D.अन्न-उत्पादन वर्ष

Answer:

A.बांधकाम-तंत्रज्ञान वर्ष

Reference ID:(9909)

Choose the appropriate collective noun to complete the sentence:

A _____ is a group of dancers.

A.troop

B.troupe

C.team

D.committee

Answer:

B.troupe

Reference ID:(10218)

ऑल इंग्लंड ओपन बॅडमिंटन चॅम्पियनशिप 2019 मध्ये महिला एकेरी कोणी जिंकली?

A.चेन युफेइ

B.ताई तुझु यिंग

C.पी.व्ही. सिंधू

D.नाझोमी ओकुहारा

Answer:

A.चेन युफेइ

Reference ID:(10204)

1992 मध्ये खालीलपैकी कोणत्या उद्योगपतीने भारत रत्न पुरस्कार जिंकला होता?

A.जे.आर.डी.टाटा

B.धीरुभाई अंबानी

C.राहुल बजाज

D.अजीम प्रेमजी

Answer:

A.जे.आर.डी.टाटा

Reference ID:(10215)

खालीलपैकी कोणत्या संघाने आगा खान गोल्ड कप हॉकी टूर्नामेंट-2018 जिंकली?

A.भारतीय पोलाद प्राधिकरणाची हॉकी अकादमी

B.आर्मी XI दानापूर

C.मध्यप्रदेश हॉकी अकादमी

D.पंजाब पॅथर्स

Answer:

A.भारतीय पोलाद प्राधिकरणाची हॉकी अकादमी

Reference ID:(9925)

Choose the correct form of tense for the given sentence:

The coach asked Jennifer, " _____ your tennis yesterday during the time _____ to you?"

A. Did you practice , allotted

B. Did you practiced, allot

C. Have you practice, allotting

D. Are you practicing, allotted

Answer:

A. Did you practice , allotted

Reference ID:(10221)

सुरजागड डोंगर हे महाराष्ट्राच्या गडचिरोली जिल्ह्यामधील _____ तालुक्यात स्थित आहेत.

A.कोरची

B.अहेरी

C.एटापल्ली

D.धानोडा

Answer: C.एटापल्ली

Reference ID:(10240) 100 मीटर आणि 200 मीटर लांबी असलेल्या दोन रेल्वेना विरुद्ध दिशेने ताशी 100 किमी आणि 80 किमी वेगात परस्परांना ओलांडण्यास किती वेळ लागेल?

A.5 सेकंद

B.6 सेकंद

C.7 सेकंद

D.8 सेकंद

Answer: B.6 सेकंद

Reference ID:(10211) खालीलपैकी कोणता समुद्र किनारा हा महाराष्ट्राच्या रत्नागिरी जिल्ह्यामध्ये स्थित आहे?

A.जुहू

B.हरनाई आणि मुरूड

C.बोर्डी डहाणू

D.अलिबाग

Answer: B.हरनाई आणि मुरूड

Reference ID:(9918) Choose the appropriate prepositions for the given sentence:

_____ a man _____ his age, he is _____ very good shape.

A.From, to, for

B.From, of, from

C.For, of, in

D.To, at, in

Answer:

C.For, of, in

Reference ID:(10247)

अ विभागातील 75 विद्यार्थ्यांचे सरासरी वजन 60 किलो आहे तर त्याच वर्गातल्या ब विभागातील 25 विद्यार्थ्यांचे सरासरी वजन 52 किलो आहे. तर त्या वर्गातील सगळ्या 100 विद्यार्थ्यांचे अंदाजे सरासरी वजन काढा.

A.52

B.56

C.58

D.60

Answer:

C.58

Reference ID:(9926)

Choose the option that best expresses the meaning of the highlighted idiom/phrase:

The glass on the window **could be seen through easily** and everyone liked it.

A.Designer

B.Transparent

C.Opaque

D.Cloudy

Answer:

B.Transparent

Reference ID:(10244)

जर 5 जानेवारी 1991 ला शनिवार होता, तर मार्च 3, 1992 ला आठवड्याचा कोणता दिवस होता?

A.सोमवार

B.मंगळवार

C.बुधवार

D.गुरुवार

Answer:

B.मंगळवार

Reference ID:(9939)

अधोरेखित क्रियापदाचा योग्य प्रकार ओळखा.
काकूने दूध झाकून ठेवले.

A.भावे

B.कर्मणी

C.कर्तरी


D.साधित

Answer:


D.साधित

Reference ID:(10451)


खाली दिलेल्या क्रमामध्ये, पुढे कोणती आकृती येईल?



i




ii






iii




iv





Answer:



Reference ID:(9950)

पुढील वाक्यचारांच्या योग्य अर्थाचा पर्याय निवडा.
कंबर खचणे-

A. शारीरिक थकवा जाणवणे

B. खड्ड्यात पडणे

C. संकट कोसळणे

D. निराश होणे

Answer:

D. निराश होणे

Reference ID:(9937)

'पाऊस आला असता तर येणे झाले नसते' वाक्यातील आख्यात ओळखा.

A.प्रथम-ताख्यात

B.लाख्यात

C.द्वितीय-ताख्यात

D.वाख्यात

Answer:

C.द्वितीय-ताख्यात

Reference ID:(9913)

Choose the appropriate articles to complete the given sentence:

There has been _____ accident. _____ truck hit _____ boy who was cycling by _____ side of the road.

A.the, The, a, an

B.a, A, the, the

C.the, The, an, the

D.an, A, a, the

Answer:

D.an, A, a, the

Reference ID:(9922)

Choose the most appropriate usage to fill in the blank in the given sentence:

The parents asked the principal to _____ his decision about the Sports Day.

A.unconsider

B.reconsider

C.considered

D.consideration

Answer:

B.reconsider

Reference ID:(10220)

खालीलपैकी कोणत्या राज्यपालांनी 1 फेब्रुवारी 1818 रोजी ऐतिहासिक 'सातारा घोषणा' केली होती?

A.माऊंटस्टुअर्ट एल्फिन्स्टन

B.वेलस्ली

C.मिंटो

D.विल्यम बेंटीक

Answer:

A.माऊंटस्टुअर्ट एल्फिन्स्टन

Reference ID:(9930)

जोडशब्द नसलेला शब्द ओळखा.

A.बाजारहाट

B.भाजीपाला

C.विद्यापीठ

D.भाकरतुकडा

Answer:

C.विद्यापीठ

Reference ID:(10230)

एक नाणे उधळले जाते. छापा मिळण्याची संभाव्यता काय आहे?

A.1/2

B.1/3

C.1/4

D.1/5

Answer:

A.1/2

Reference ID:(9931)

जोडशब्द नसलेला शब्द निवडा.

A.भांडणतंटा

B.तंटाबखेडा

C.दानशूर

D.थांगपत्ता

Answer:

C.दानशूर

Reference ID:(9938)

योग्य पर्यायाची निवड करा.
झाड -----

A.पडतो

B.पडे

C.पडले

D.पडली

Answer:

C.पडले

Reference ID:(9934)

पुढील वाक्याचा प्रकार ओळखा.
तो दुःखद प्रसंग पाहिला आणि सर्वांच्या डोळ्यात पाणी उभे राहिले

A.प्रश्नार्थी

B.मिश्र वाक्य

C.संयुक्त वाक्य

D.केवल वाक्य

Answer:

C.संयुक्त वाक्य

Reference ID:(10236) जर A =1, CAT = 24, तर POLICE = ?

A.57

B.60

C.62

D.59

Answer: B.60

Reference ID:(10238) रिकाम्या जागी योग्य संख्या निवडून श्रृंखला पूर्ण करा:

1, 3, 7, 15, 31, _____

A.60

B.65

C.62

D.63

Answer: D.63

Reference ID:(10243) अशी सर्वात लहान संख्या कोणती असेल जिने 30375 ला भागले असता येणाऱ्या भागाकाराचे घनमूळ प्राप्त होऊ शकेल?

A.5

B.25

C.3

D.9

Answer: D.9

Reference ID:(9947)

पुढील पुढील वाक्यातील विरामचिन्ह ओळखा.
रवीन्द्र नाथांवर उपनिषदे-कबीर यांचा परिणाम झाला आहे.

A.संयोगचिन्ह

B.उद्गारचिन्ह

C.अवतरण चिन्ह

D.प्रश्नचिन्ह

Answer:

A.संयोगचिन्ह

Reference ID:(10233)

शिमलामध्ये सकाळचे तापमान 0°से. च्या वर 5°से. आहे आणि संध्याकाळाचे तापमान 0°से च्या खाली 3°से आहे. तापमानामध्ये किती बदल झाला?

A.5°C

B.7°C

C.8°C

D.2°C

Answer:

C.8°C

Reference ID:(9917)

Choose the correct form of modal auxiliary verb for the given sentence:

Walk carefully lest you _____ fall.

A.could

B.need

C.would

D.should

Answer:

D.should

Reference ID:(10242) खालीलपैकी कोणती संख्या एक पूर्ण वर्ग नाही?

A.2025

B.14641

C.4761

D.1152

Answer: D.1152

Reference ID:(10217) 8 वे थिएटर ऑलिंपिक चे भारताच्या 17 शहरांमध्ये 51 दिवसांच्या शानदार कामगिरीनंतर 6 एप्रिल 2018 रोजी _____ येथे समाप्त झाले.

A.बंगलोर

B.नवी दिल्ली

C.कोचीन

D.मुंबई

Answer: D.मुंबई

Reference ID:(10226) खालीलपैकी कोणता जैविक विघटन होणारा पदार्थ आहे?

A.लोकरीचा कपडा

B.नायलॉनचे कोव्याचे जाळे

C.प्लास्टिकची वस्तू

D.पीव्हीसी पाईप

Answer: A.लोकरीचा कपडा

Reference ID:(9924)

Out of the following options, identify a compound sentence.

A.We usually greet whenever we see our teachers.

B.The pen is mightier than the sword.

C.Mary's lamb followed the girl wherever she went.

D.The family had no provisions, nor did they have the money to buy them.

Answer:

D.The family had no provisions, nor did they have the money to buy them.

Reference ID:(9941)

पुढील वाक्यातील अव्ययाचा प्रकार ओळखा.
'अरे वा! छान जमून आलाय हां आजचा बेत!'

A.उभयान्वयी अव्यय

B.शब्दयोगी अव्यय

C.केवलप्रयोगी अव्यय

D.क्रियाविशेषण अव्यय

Answer:

C.केवलप्रयोगी अव्यय

Reference ID:(9908)

Fill in the blank with the correct noun for the given sentence:

Flashes of _____ happen in practically all areas of human life.

A.perception

B.inspiration

C.expiration

D.interaction

Answer:

B.inspiration

Reference ID:(10208)

17 जानेवारी 2019 रोजी 'दीनदयाल विकलांग पुनर्वसन योजने (डीडीआरएस)' ची प्रादेशिक परिषद कुठे आयोजित केली गेली होती?

A.मुंबई

B.दिल्ली

C.कोलकाता

D.पुणे

Answer:

A.मुंबई

Reference ID:(9945)

योग्य शब्द वापरा.
काल ----- पडल्या.

A.गारांनी

B.गारे

C.गारा

D.गारी

Answer:

C.गारा

Reference ID:(9923)

Choose the correct form of verb that is in agreement with the subject:
The cost of all these articles _____ risen.

A.has

B.had

C.are

D.were

Answer: A.has

Reference ID:(10207) _____ शासनाने 2019 वर्षापर्यंत राज्याला दुष्काळ-मुक्त करण्याच्या प्रस्तावासह "जलयुक्त शिवार अभियान" प्रकल्प सुरू केला.

A.पंजाब

B.मध्य प्रदेश

C.महाराष्ट्र

D.गुजरात

Answer: C.महाराष्ट्र

Reference ID:(10235) खाली दिलेल्या चार पत्त्यांपैकी कोणता पत्ता खाली दिलेल्या पत्त्याशी अचूकपणे जुळत नाही?

110-110/1 Sukhumvit Road, between (Soi 4-6) Bangkok 10110, Thailand
+66 2 656 8220

(i) 110-110/1 Sukhumvit Road, between (Soi 4-6) Bangkok 10110, Thailand
+66 2 656 8220

(ii) 110-110/1 Sukhumvit Road, between (Soi 4-6) Bangkok 10110, Thailand
+66 2 656 8220

(iii) 110-110-1 Sukhumvit Road, between (Soi 4_6) Bangkok 10110,
Thailand
+66 2 656 8220

(iv) 110-110/1 Sukhumvit Road, between (Soi 4-6) Bangkok 10110, Thailand
+66 2 656 8220

A.i

B.ii

C.iii

D.iv

Answer:

C.iii

Reference ID:(9907)

Choose the correct form of adjective for the given sentence:

The _____ candle flickered and went out.

A.burnt

B.bright

C.lighted

D.big

Answer:

C.lighted

Reference ID:(9948)

प्रथमा विभक्तीच्या प्रत्ययांचे इतर विभक्तीप्रत्ययांपेक्षा असणारे वेगळेपण कोणते?

A.प्रथमा विभक्तीत एकवचन व अनेकवचनात प्रत्यय नसतात.

B.प्रथमा विभक्तीचे प्रत्यय संबोधनासारखेच असतात.

C.प्रथमा विभक्तीचे प्रत्यय चा, ची, चे हे आहेत.

D.प्रथमा विभक्तीचे प्रत्यय इतर सर्व विभक्ती प्रत्ययांसारखे असतात.

Answer:

A.प्रथमा विभक्तीत एकवचन व अनेकवचनात प्रत्यय नसतात.

Reference ID:(9916)

Which of the following options best combines the two given sentences?

Sita has a pen. Sita has a pencil.

A.Sita has a pen but a pencil.

B.Having a pen, Sita has a pencil.

C.Sita has a pen and a pencil.

D.Sita has a pen, she has an pencil.

Answer:

C.Sita has a pen and a pencil.

Reference ID:(10214)

महाराष्ट्रामध्ये 2014 च्या लोकसभा निवडणूकीमध्ये एनडीएद्वारे किती जागा जिंकल्या होत्या?

A.35

B.38

C.40

D.41

Answer:

D.41

Reference ID:(9943)

गटात न बसणारा शब्द ओळखा.
धडा, धाड, धिप्पाड, धोका

A.धडा

B.धाड

C.धिप्पाड

D. धोका

Answer:

C.धिप्पाड

Reference ID:(10202)

2014 मध्ये तयार झालेल्या कोणत्या नवीन भारतीय राज्यासाठी, एका वेगळ्या उच्च न्यायालयाने कार्य करण्यास 1 जानेवारी, 2019 पासून सुरुवात केली?

A.तेलंगणा

B.उत्तराखंड

C.झारखंड

D.छत्तीसगड

Answer:

A.तेलंगणा

Reference ID:(9904)

Choose the appropriate option with the correct punctuation marks for the given sentence:

january and february are often cold wet and grey in Portugal

A.January and February are often cold wet and grey in portugal.

B.January and february are often cold wet, and grey in portugal.

C.January and february are often cold, wet and grey in portugal

D.January and February are often cold, wet, and grey in Portugal.

Answer:

D.January and February are often cold, wet, and grey in Portugal.

Reference ID:(9936)

पुढील वाक्यातील उद्देश्यविस्तार ओळखा.
भारतावरील इंग्रजांचे साम्राज्य संपुष्टात आले.

A.भारतावरील इंग्रजांचे

B.साम्राज्य

C.आले

D.संपुष्टात

Answer:

A.भारतावरील इंग्रजांचे

Reference ID:(10205)

निवडणूक आयोगाने तेलंगणाच्या कोणत्या संसदीय मतदार संघामध्ये मतपत्रिकांच्या वापराविरुद्ध निर्णय घेतला?

A.निझामाबाद

B.अदिलाबाद

C.नालगोंडा

D.वारंगल

Answer:

A.निझामाबाद

Reference ID:(9935)

पुढील वाक्य वाचून योग्य वाक्य ओळखा.

A.वेळूच्या घनदाट बनात वारा घुमते.

B.वेळूच्या घनदाट बनात वारा घुमातात.

C.वेळूच्या घनदाट बनात वारा घुमतो.

D.वेळूच्या घनदाट बनाला वारा घुमती.

Answer:

C.वेळूच्या घनदाट बनात वारा घुमतो.

Reference ID:(10209)

एलिस जी. वैद्यन यांनी 2019 मधील इटी प्राईम 'वर्षाची महिला सीइओ (वुमन सीइओ ऑफ दि इअर)' पुरस्कार जिंकला, ज्या खालीलपैकी कोणत्या विमा कंपनीच्या अध्यक्षा आणि व्यवस्थापकीय संचालिका आहेत?

A.भारतीय जीवन विमा निगम

B.युनायटेड इंडिया इन्शुरन्स कंपनी

C.जनरल इन्शुरन्स कॉर्पोरेशन ऑफ इंडिया

D.न्यू इंडिया एशुरन्स कंपनी

Answer:

C.जनरल इन्शुरन्स कॉर्पोरेशन ऑफ इंडिया

Reference ID:(9912)

Choose the appropriate articles for the given sentence.

It was dusk by _____ time we reached _____ Cape Town, one of _____ most beautiful cities in the world.

A.the, no article, the

B.a, no article, the

C.a, the, the

D.no article, the, the

Answer:

A.the, no article, the

Reference ID:(9903)

Choose the option that has the correct spelling for the missing word in the given sentence:

Thomas's _____ of stamps is magnificent.

A.culection

B.collection

C.colleccation

D.collection

Answer:

B.collection

D.collection
