

**Question Paper Title : TI\_25**

**Date of Exam : 20-07-2019 10:00 AM**

---

Reference ID:(19769) Out of the following options, identify a compound sentence.

---

A.I saw the pigs flying in the sky and wondered about those pigs.

---

B.I went home.

---

C.I told my mother about my flying pigs.

---

D.But she did not believe me telling me to stop dreaming about the stories which I had just read.

---

Answer: A.I saw the pigs flying in the sky and wondered about those pigs.

---

Reference ID:(19777) पुढील शब्दाचे लिंग ओळखा.  
बर्फ

---

A.पुल्लिंग

---

B.स्त्रीलिंग

---

C.नपुसकलिंग

---

D.उभयलिंग

---

Answer: D.उभयलिंग

---

Reference ID:(19759) Choose the correct form of verb for the given sentence:

Hinduism \_\_\_\_\_ the most practiced religion in India though many people \_\_\_\_\_ other religions as well.

---

A.is ... follow

---

B.are ... following

---

C.is ... follows

---

D.was ... follows

---

Answer: A.is ... follow

---

Reference ID:(19752)

Choose the correct form of adjective for the given sentence:

The mobile phone is a recent invention, \_\_\_\_\_ can be as annoying, as it is useful.

A.which

B.who

C.whom

D.that

Answer:

A.which

Reference ID:(20032)

खाली दिलेल्या श्रृंखलेमध्ये अंकांचा एक विशिष्ट क्रम दिलेला आहे. त्यानुसार चुकीचा क्रम ओळखा:

90, 135, 286, 750, 2160, 6405, 19155

A.90

B.750

C.6405

D.286

Answer:

D.286

Reference ID:(20037)

12, 15 आणि 18 ने अचूकपणे विभाज्य असेल अशी 6 अंकी संख्या कोणती आहे?

A.100080

B.100800

C.108000

D.180000

Answer:

A.100080

Reference ID:(20007)

रौनक साधवानी, याने 2018 या वर्षामध्ये 'आंतरराष्ट्रीय मास्टर' हे शिर्षक खालीलपैकी कोणत्या क्षेत्रामध्ये जिंकले?

A.बुद्धिबळ

B.टेनिस

C.बॅडमिंटन

D.क्रिकेट

Answer:

A.बुद्धिबळ

Reference ID:(20011)

रामसर पाणथळ जागा - हरिक तलाव हे भारतातील खालीलपैकी कोणत्या राज्यात आहे?

A.महाराष्ट्र

B.ओडिसा

C.पंजाब

D.केरळ

Answer:

C.पंजाब

Reference ID:(19796)

पुढील वाक्यात पर्यायातील अचूक वाक्प्रचार निवडा.  
बाईनी वर्गात सांगितलेल्या सूचना सगळ्यांनी व्यवस्थित ऐकल्या.

A.डंका पिटवणे

B.कान देऊन ऐकणे

C.पाठपुरावा करणे

D.आव्हान स्वीकारणे

Answer:

B.कान देऊन ऐकणे

Reference ID:(19775)

रिकाम्या जागी योग्य जोडशब्द लिहा.  
सणासाठी मुली \_\_\_\_\_ तयार होत्या.

A.नटूनथटून

B.मिळूनमिसळून

C.दमूनभागून

D.हसूनखेळून

Answer:

A.नटूनथटून

Reference ID:(19791) पुढील वाक्यांमध्ये योग्य ते अव्यय घाला.  
गरज सरो \_\_\_\_\_ वैद्य मरो.

A.कारण

B.नि

C.सबब

D.यास्तव

Answer: B.नि

Reference ID:(19779) पुढील वाक्याचा प्रकार ओळखा.  
इथे जन्माचा सोहळा नाही की मरणाचे दुःख नाही.

A.प्रश्नार्थी

B.मिश्र वाक्य

C.संयुक्त वाक्य

D.केवल वाक्य

Answer: C.संयुक्त वाक्य

Reference ID:(19773) दिलेल्या पर्यायांपैकी योग्य विरुद्धार्थी पर्याय शोधा.  
किरकोळ -

A.ठसठशीत

B.स्पष्ट

C.तुटपुंजे

D.घाऊक

Answer: D.घाऊक

Reference ID:(19751) Choose the correct form of adjective for the given sentence:

For centuries, Rome was the \_\_\_\_\_ power in the Mediterranean.

A.utmost

B.superlative

C.over ruling

D.supreme

Answer: D.supreme

Reference ID:(19789) पुढील वाक्यांमधील विशेषण ओळखा.  
चौकोन कधी वर्तुळाकार असू शकेल का?

A.चौकोन

B.वर्तुळाकार

C.शकेल

D.का

Answer: B.वर्तुळाकार

Reference ID:(19760) Choose the most suitable determiner for the given sentence:

There isn't \_\_\_\_\_ milk left in the jug.

A.few

B.a few

C.much

D.many

Answer: C.much

Reference ID:(20026) दोन चुलत भावांच्या वयांचे गुणोत्तर 7:3 आहे. त्यांच्या वयांचा गुणाकार 756 आहे. 4 वर्षांनंतर त्यांच्या वयांचे गुणोत्तर असेल?

A.25:13

B.23:11

C.47:23

D.43:25

Answer: B.23:11

Reference ID:(25018) A हा B या कामगारापेक्षा तिप्पट चांगला आहे आणि त्यामुळे त्याला काम पूर्ण करण्यासाठी B पेक्षा 60 दिवस कमी लागतात. एकत्र काम करून, ते हे काम किती दिवसांत पूर्ण करू शकतील:

20 दिवस

22  $\frac{1}{2}$  दिवस

25 दिवस

30 दिवस

Answer:

22  $\frac{1}{2}$  दिवस

Reference ID:(19772)

अकबराला 'ऊंची' अत्तरे आवडत. यातील ऊंची या शब्दाचा अर्थ-

A.उंचपणा

B.मौल्यवान

C.जड

D.सुगंधित

Answer:

B.मौल्यवान

Reference ID:(19549)

Choose the appropriate option with the correct punctuation marks for the given sentence:

You know I eat a lot of fruits Mango Apple and orange are my favourites

A.You know I eat a lot of fruits. Mango, Apple and orange are my favourites.

B.you know i eat a lot of fruits, mango, apple and orange are my favourites,

C.You know, I eat a lot of fruits; mango, apple and orange are my favourites.

D.You know I eat a lot of Fruits; and; mango, apple and orange are my favourites'

Answer:

C.You know, I eat a lot of fruits; mango, apple and orange are my favourites.

Reference ID:(19768)

Choose the correct form of verb that is in agreement with the subject:

Throughout the seminar, she kept quiet and did not \_\_\_\_\_ a word.

A.speaking

B.spoken

C.spoke

D.speak

Answer: D.speak

Reference ID:(20034) रिकाम्या जागी योग्य संख्या निवडून श्रृंखला पूर्ण करा:  
12, 15, 25, 42, 66, 97, \_\_\_\_\_

A.135

B.144

C.156

D.167

Answer: A.135

Reference ID:(19778) पुढील वाक्याचे नकारार्थी वाक्य करा.  
गरीब व्हावे असे कोणाला वाटते?

A.गरीब व्हावे असे एखाद्याला वाटत नाही.

B.गरीब व्हावे असे आम्हाला वाटत नाही.

C.गरीब व्हावे असेच सर्वांना वाटते.

D.गरीब व्हावे असे कोणालाही वाटत नाही.

Answer: D.गरीब व्हावे असे कोणालाही वाटत नाही.

Reference ID:(20014) जानेवारी 2019 मध्ये, पंत प्रधान नरेंद्र मोदी यांनी \_\_\_\_\_ येथे आयोजित न्यू इंडिया युथ कॉन्क्लेव्हला संबोधले.

A.बेंगलुरू

B.नवी दिल्ली

C.हैदराबाद

D.सूरत

Answer: D.सूरत

Reference ID:(19790) अनेकवचनांचे एक वचन करा.  
हिरवे हिरवे गार गालिचे | हरिततृणांच्या मखमालींचे |

A.हिरवा हिरवा गार गालिचा | हरिततृणांच्या मखमालीचा |

B.हिरवा हिरवा गार गालिचे | हरिततृणांच्या मखमालीचे |

C.हिरवे हिरवे गार गालिचा | हरिततृणांच्या मखमालीचे |

D.हिरवा हिरवा गार गालिचे | हरिततृणांच्या मखमालीचे |

Answer: A.हिरवा हिरवा गार गालिचा | हरिततृणांच्या मखमालीचा |

Reference ID:(20031) 100 वर्षांमध्ये किती लीपवर्ष असतात?

A.24 लीप वर्षे

B.23 लीप वर्षे

C.22 लीप वर्षे

D.21 लीप वर्षे

Answer: A.24 लीप वर्षे

Reference ID:(19761) Which of the following options best combines the two given sentences?

The new player was injured. He was called off the field.

A.The new player was injured, but he was called off the field.

B.Although the new player was injured, he was called off the field.

C.As the new player was injured, he was called off the field.

D.Although he was called off the field, the new player was injured.

Answer: C.As the new player was injured, he was called off the field.

Reference ID:(20010) महाराष्ट्रामधून कला-अभिनय-चित्रपट या क्षेत्रामध्ये पद्म श्री पुरस्कार 2019 साठी खालीलपैकी कोणाची निवड करण्यात आली?

A.मनोज वाजपेयी

B.रणबीर कपूर

C.आलिया भट्ट

D.नीना गुप्ता

Answer: A.मनोज वाजपेयी



Reference ID:(19786)

पुढील वाक्यातील अव्ययाचा प्रकार ओळखा.  
'अरेरे! किती दुःखद अंत झाला त्याचा!'

- A.शब्दयोगी अव्यय
- B.क्रियाविशेषण अव्यय
- C.केवलप्रयोगी अव्यय
- D.उभयान्वयी अव्यय

Answer:

C.केवलप्रयोगी अव्यय

Reference ID:(20003)

जगामधील सर्वात मोठ्या घुमटाचे उद्घाटन येथे केले गेले?

- A.पुणे
- B.नाशिक
- C.मुंबई
- D.नागपूर

Answer:

A.पुणे

Reference ID:(19770)

Choose the correct form of tense for the given sentence:

\_\_\_\_\_ denied the degree to his ward for personal reasons; the dean  
\_\_\_\_\_ not want to reveal it to the college.

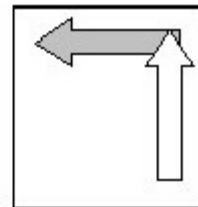
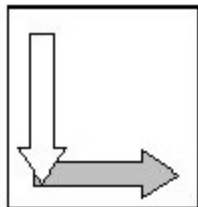
- A.Having , did
- B.To have, did
- C.Has, would
- D.Did, must

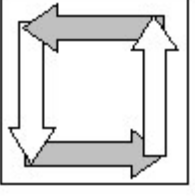
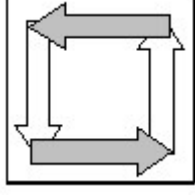
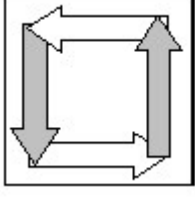
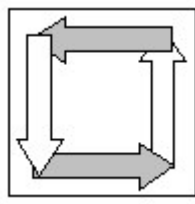
Answer:

A.Having , did

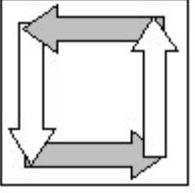
Reference ID:(20049)

जर खाली दिलेले दोन चौकोन एकमेकांवर आच्छादित होत असतील, तर खालीलपैकी कोणता  
एक विकल्प तयार होईल?





Answer:



Reference ID:(20025)

राजीवच्या तीन मुलांच्या सध्याच्या वयाचे गुणोत्तर 5:7:8 आहे. सात वर्षांपूर्वी त्यांच्या वयांची बेरीज 59 होती. त्यांचे वर्तमान वय काढा (वर्षामध्ये)?

A.8, 20, 28

B.16, 28, 36

C.20, 28, 32

D.22, 34, 47

Answer:

C.20, 28, 32

Reference ID:(25019)

X एक काम 40 दिवसांत पूर्ण करतो. तो 8 दिवस काम करतो आणि मग Y हा ते 16 दिवसांत पूर्ण करतो. काम पूर्ण करण्यासाठी त्यांनी किती वेळ लागेल?

$13\frac{1}{3}$  दिवस

$15\frac{1}{3}$  दिवस

$20\frac{1}{3}$  दिवस

26  $\frac{1}{3}$  दिवस

Answer:

13  $\frac{1}{3}$  दिवस

Reference ID:(20013)

महाराष्ट्राच्या विधानसभेचे हिवाळी सत्र खालीलपैकी कोणत्या शहरात आयोजित केले जाते?

A.नागपूर

B.पुणे

C.मुंबई

D.अहमदनगर

Answer:

A.नागपूर

Reference ID:(20036)

जर एक व्यक्ती 10 किमी/तास ऐवजी 14 किमी तासाने चालत असेल, तर तो 20 किमी अधिक चालला असेल. त्याच्याद्वारे कापलेले वास्तविक अंतर काय होते?

A.80 किमी

B.70 किमी

C.60 किमी

D.50 किमी

Answer:

D.50 किमी

Reference ID:(20016)

1881 चा कारखाना अधिनियम, भारताच्या खालीलपैकी कोणत्या व्हॉईसरॉयच्या कालावधीदरम्यान प्रस्तावित केला गेला?

A.लॉर्ड केनिंग

B.लॉर्ड रिपन

C.लॉर्ड लॉरेन्स

D.लॉर्ड मायो

Answer:

B.लॉर्ड रिपन

Reference ID:(20005)

महाराष्ट्रामधील चौगले दादू दत्तात्रेय यांनी 2018 चा ध्यान चंद पुरस्कार खालीलपैकी कोणत्या क्षेत्रामध्ये जिंकला?

A.मैदानी खेळ

B.कबड्डी

C.खो-खो

D.कुस्ती

Answer:

D.कुस्ती

Reference ID:(20001)

26 फेब्रुवारी 2019 रोजी 'सर्जिकल स्ट्राईक 2.0' म्हणून ज्ञात पाकिस्तानमधील \_\_\_\_\_ शहरामधील जैश ए मुहंमदच्या सर्वात मोठ्या प्रशिक्षण छावणीला भारताने नष्ट केले.

A.बालाकोट

B.पुलवामा

C.मानसेहरा

D.मुजफ्फराबाद

Answer:

A.बालाकोट

Reference ID:(19793)

गटात न बसणारा पर्याय निवडा.

A.स, ला, ते

B.नो

C.चे, च्या, ची

D.स, ला, ना, ते

Answer:

A.स, ला, ते

Reference ID:(20024)

एका बॉक्समध्ये 8 पांढरे, 7 काळे आणि 6 पिवळे चेंडू आहेत. यादृच्छिकपणे एक चेंडू उचलला. तो पांढरा किंवा पिवळा नसण्याची संभाव्यता काय आहे?

A.8/21

B.21/8

C.1/3

D.21/5

Answer:

C.1/3

Reference ID:(19756)

Choose the option with the appropriate suffix to complete the given sentence:

The auction\_\_\_\_\_ was shouting at the top of his voice.

A.-er

B.-eer

C.-ist

D.-ite

Answer:

B.-eer

Reference ID:(19548)

Choose the option that has the correct spelling for the missing word in the given sentence:

Mary \_\_\_\_\_ to the problem but did not mention it.

A.aluded

B.eludded

C.alluded

D.illuded

Answer:

C.alluded

Reference ID:(20004)

भारतीय संविधाचा अनुच्छेद 343 (1) कशाशी संबंधित आहे?

A.अधिकृत भाषा म्हणून हिंदी

B.केंद्र आणि राज्यांदरम्यानचे संबंध

C.पंचायती

D.आपत्कालीन तरतुदी

Answer:

A.अधिकृत भाषा म्हणून हिंदी

Reference ID:(19800)

इंटरनेट कनेक्शनशिवाय शहरामधील आसपासच्या लोकांशी वापरकर्त्यांना जोडण्यासाठी लिंकस इन्फ्राटेक या मुंबईमधील कंपनीद्वारे विकसित केलेल्या हायपर-लोकल कनेक्टीव्हीटी ॲपचे नाव सांगा.

A.भोंगा

B.कनेक्ट

C.लिक

D.लिकस

Answer:

A.भोगा

Reference ID:(19774)

दिलेल्या शब्दगटातून विरुद्धार्थी शब्द ओळखा.  
ऊन – रखरखीत X \_\_\_\_\_

A.तापते

B.सौम्य

C.भाजणारे

D.पोळणारे

Answer:

B.सौम्य

Reference ID:(19799)

खालीलपैकी कोण महाराष्ट्र ओपन 2019 चे विजेते होते?

A.केविन एन्डर्सन

B.इवो कार्लोविक

C.ल्यूक बॅम्ब्रिज

D.रोहन बोनप्पा

Answer:

A.केविन एन्डर्सन

Reference ID:(19782)

दिलेल्या काळात परिवर्तन करण्यासाठी योग्य पर्याय निवडा.  
परीक्षेत मला पहिला वर्ग मिळाला. (विध्यर्थ)

A.मिळवतो

B.मिळावा

C.मिळवतील

D.मिळवले

Answer:

B.मिळावा

Reference ID:(19787)

पुढील वाक्यातील अधोरेखित अव्ययाचा प्रकार ओळखा.

भारनियमनामुळे विद्युत पुरवठा खंडित होणे ही आजकाल नेहमीचीच बाब झाली आहे.

A.क्रियाविशेषण अव्यय

B.शब्दयोगी अव्यय

C.उभयान्वयी अव्यय

D.केवलप्रयोगी अव्यय

Answer:

A.क्रियाविशेषण अव्यय

Reference ID:(19798)

2019 मध्ये कौशल्य विकासासाठी तरूणाईला मदत करण्यासाठी खालीलपैकी कोणाला सामाजिक उपक्रम नेटवर्क शाश्वतता पुरस्कार देण्यात आला?

A.सोना युक्ति

B.कौशल्य भारत

C.दक्ष

D.स्मार्ट

Answer:

A.सोना युक्ति

Reference ID:(19788)

पुढील नामाला अयोग्य विशेषणाचा पर्याय निवडा.  
पुस्तक

A.फाटके

B.फाटलेले

C.फुटके

D.फाटकांचे

Answer:

C.फुटके

Reference ID:(20020)

ध्वनी आणि प्रकाश ह्यांबद्दल खालीलपैकी कोणते विधान असत्य आहे?

A.ध्वनी आणि प्रकाश हवेमधून जाऊ शकतात

B.ध्वनी आणि प्रकाश पाण्यामधून जाऊ शकतात

C.ध्वनी आणि प्रकाश एखाद्या धातुच्या जाड पत्र्यामधून जाऊ शकतात

D.ध्वनी एका अपारदर्शक वस्तुवरून वाकवला जाऊ शकतो पण प्रकाश नाही

Answer:

C.ध्वनी आणि प्रकाश एखाद्या धातुच्या जाड पत्र्यामधून जाऊ शकतात

Reference ID:(19764) Choose the option with the best prepositional phrase to complete the given sentence:

I love spending time \_\_\_\_\_ nature as it's so peaceful there.

A.on the grounds of

B.on the brink of

C.in accordance with

D.in the lap of

Answer: D.in the lap of

Reference ID:(19758) Choose the appropriate articles to complete the given sentence:

Sujana's father is \_\_\_ doctor. He treats all \_\_\_\_\_ types of disease and gives \_\_\_\_\_ proper medicine.

A.a, no article, the

B.an, the, the

C.the, an, a

D.no article, an, the

Answer: A.a, no article, the

Reference ID:(19780) पुढील वाक्य वाचून योग्य वाक्य ओळखा.

A.पृथ्वी सूर्याभोवती फिरतो.

B.पृथ्वी सूर्याभोवती फिरते.

C.पृथ्वी सूर्याभोवती फिरती.

D.पृथ्वी सूर्याभोवती फिरतात.

Answer: B.पृथ्वी सूर्याभोवती फिरते.

Reference ID:(19783) योग्य पर्यायाची निवड करा.  
तुम्ही रोज १० वाजता \_\_\_\_\_

A.येते



B.येतो

C.येता

D.येशील

Answer:

C.येता

Reference ID:(20021)

सायकलच्या ट्यूबमध्ये हवा भरल्यानंतर ती कशामुळे फुगते?

A.हवा दाब प्रयुक्त करते

B.हवेची हालचाल होते

C.ट्यूब ही कडक सामुग्रीने बनलेली आहे

D.हवा दाब प्रयुक्त करत नाही

Answer:

A.हवा दाब प्रयुक्त करते

Reference ID:(19792)

पुढील वाक्यातील विरामचिन्ह ओळखा.

काम झाल्यावर मी निघण्याच्या बेतात होतो; तेवढ्यात मला ताईने हाक मारली.

A.स्वल्पविराम

B.अर्धविराम

C.प्रश्नचिन्ह

D.उद्गारचिन्हा

Answer:

B.अर्धविराम

Reference ID:(20028)

खाली दिलेल्या चार पत्यांपैकी कोणता पत्ता खाली दिलेल्या पत्याशी अचूकपणे जुळत नाही?

Fatimah Farooq Travel and Tours Pvt Ltd Office 8, Mezzanine Floor, Asian Business Center, Main Entrance Rawalpindi Bahria 7,44000, +92 51 4917022

(i) Fatimah Farooq Travel and Tours Pvt Ltd Office 8, Mezzanine Floor, Asian Business Center, Main Entrance Rawalpindi Bahria 7,44000, +92 51 4917022

(ii) Fatimah Farooq Travel and Tours Pvt Ltd Office 8, Mezzanine Floor, Asian Business Center, Main Entrance Rawalpindi Bahria 7,44000, +92 51 4917022

(iii) Fatimah Farooq Travel and Tours Pvt Ltd Office 8, Mezzanine Floor, Asian Business Center, Main Entrance Rawalpindi Bahria 7,44000, +92 51 4917022

(iv) Fatimah Farooq Travel and Tours Pvt Ltd Office 8, Mezzanine Floor, Asian Business Center, Main Entrance Rawalpindi Bahria 7,44000, +92 51 4917022

A.i

B.ii

C.iii

D.iv

Answer:

C.iii

Reference ID:(20008)

क्रिकेटमध्ये एक दिवसीय आंतरराष्ट्रीय (ओडीआयज) मध्ये भारतासाठी सर्वाधिक संख्येने शतक कोणी मिळवले?

A.सचिन तेंडूलकर

B.रोहित शर्मा

C.विराट कोहली

D.सौरव गांगुली

Answer:

A.सचिन तेंडूलकर

Reference ID:(20035)

$2^3 \times 3^3 \times 5^3 \times k$  जर पूर्ण वर्ग असेल तर  $k$  ची सगळ्यात कमी किंमत \_\_\_\_\_ असेल.

A.7

B.30

C.25

D.15

Answer: B.30

Reference ID:(19766) Choose the appropriate conjunction for the given sentence:

He never returned to his constituency \_\_\_\_\_ he won the elections.

A.unless

B.when

C.because

D.after

Answer: D.after

Reference ID:(19785) कर्मानुसार क्रियापदाच्या योग्य रूपाची निवड करा.  
कविताने चित्रपट \_\_\_\_\_

A.पहाते

B.पाहिला

C.पाहिली

D.पाहिले

Answer: B.पाहिला

Reference ID:(19765) Choose the most suitable conjunction for the given sentence:

\_\_\_\_\_ my father is ill, can you take me on your scooter?

A.Unless

B.Though

C.Besides

D.Since

Answer: D.Since

Reference ID:(20043) जर मालाची किंमत 25% नी वाढवली तर त्याचा खर्च 15% नी वाढतो, त्या व्यक्तीला 4 किग्रॅ माल कमी मिळतो. मालाचे मूळ प्रमाण काढा (किग्रॅमध्ये).

A.50

B.54

C.45

D.40

Answer: A.50

Reference ID:(19781) योग्य उत्तराचा पर्याय निवडा.  
'आज खूप पाऊस पडला' या वाक्यात \_\_\_\_\_

A.'पाऊस' क्रियापद आहे.

B.'पाऊस' हे उद्देश्य आहे

C.'पाऊस' हे उद्देश्येपूरक आहे

D.'पाऊस' हे विधयविस्तार आहे

Answer: B.'पाऊस' हे उद्देश्य आहे

Reference ID:(19755) Choose the option with the appropriate suffix to complete the given sentence:

Don't trust him. He is quite danger\_\_\_\_\_.

A.-ous

B.-ful

C.-some

D.-less

Answer: A.-ous

Reference ID:(20042) अरुण नऊ दिवसांपूर्वी सिनेमाला गेला. तो फक्त गुरूवारी सिनेमा पाहायला जातो. आज आठवड्याचा कोणता दिवस आहे?

A.शनिवार

B.रविवार

C.सोमवार

D.मंगळवार

Answer:

A.शनिवार

Reference ID:(19550)

Choose the option that best punctuates and capitalizes the given sentence:

when you go to see your aunt radha in delhi find out if she ever shops at shoppers stop for designer bags

A.When you go to see your aunt Radha, in Delhi find out if she ever shops at shoppers stop for designer bags!

B.When you go to see your Aunt Radha in Delhi, find out if she ever shops at Shoppers Stop for designer bags.

C.When you go to see your Aunt Radha in delhi find out if she ever shops at Shoppers stop for Designer bags.

D.When you go, to see your aunt radha in delhi, find out if she ever shops? At Shoppers stop for designer bags.

Answer:

B.When you go to see your Aunt Radha in Delhi, find out if she ever shops at Shoppers Stop for designer bags.

Reference ID:(20033)

रिकाम्या जागी योग्य संख्या निवडून श्रृंखला पूर्ण करा:  
15, 15, 30, 10, 40, \_\_\_\_\_, 48

A.8

B.20

C.24

D.40

Answer:

A.8

Reference ID:(20022)

जर 'A' = 26, SUN = 27, तर CAT = ?

A.24

B.57

C.58

D.27

Answer: B.57

Reference ID:(19753) Fill in the blank with the correct noun for the given sentence:

Which Mediterranean \_\_\_\_\_ are the cleanest?

A.beach

B.beaches

C.beech

D.beeches

Answer: B.beaches

Reference ID:(20006) अलिकडे बॅडमिंटन असोसिएशन ऑफ इंडियाद्वारे येथे योनेक्स-सनराईज इंडिया ओपन 2019 \_\_\_\_\_ मध्ये आयोजित केली गेली होती.

A.पुणे

B.हैदराबाद

C.नवी दिल्ली

D.मुंबई

Answer: C.नवी दिल्ली

Reference ID:(20029) प्रश्न चिन्हाच्या जागी काय यायला हवे?  
BEF, DGH, FIJ, HKL,?

A.MPQ

B.JMN

C.JLM

D.LIM

Answer: B.JMN

Reference ID:(19794)

'प्रातःकाळ' या शब्दात किती जोडाक्षरे आली आहेत?

A.2

B.1

C.3

D.4

Answer:

B.1

Reference ID:(19762)

Choose the correct form of modal auxiliary verb for the given sentence:

We \_\_\_\_\_ hurry or we'll be late.

A.can

B.might

C.ought to

D.had

Answer:

C.ought to

Reference ID:(19776)

जसा भाजीपाला, कामधंदा तसे रहाट- \_\_\_\_\_

A.आड

B.मोट

C.गाडगे

D.विहीर

Answer:

C.गाडगे

Reference ID:(20009)

एमएचएसआर प्रकल्प गुजरातमधील साबरमती आणि महाराष्ट्रमधील \_\_\_\_\_ दरम्यान 508 किलोमीटर व्याप्त करणार आहे.

A.पुणे

B.नागपूर

C.मुंबई

D.मनमाड

Answer:

C.मुंबई

Reference ID:(20018)

आठव्या ते दहाव्या दरशकादरम्यान भारतावर कोणी शासन केले?

A.मौर्य राजवंश

B.चोला राजवंश

C.चालुक्य राजवंश

D.राष्ट्रकूट राजवंश

Answer:

D.राष्ट्रकूट राजवंश

Reference ID:(20023)

फासा दोन वेळा फेकल्यास बेरीज 8 मिळण्याची संभाव्यता काय आहे?

A.5/36

B.7/36

C.4/9

D.9/4

Answer:

A.5/36

Reference ID:(19757)

Choose the appropriate articles for the given sentence:

There is \_\_\_\_\_ pile of books on \_\_\_\_\_ center table, in \_\_\_\_\_ library.

A.a, the, the

B.the, an, no article

C.no article, the, an

D.an, a, the

Answer:

A.a, the, the

Reference ID:(20002)

महाराष्ट्रामधील खालीलपैकी कोणते शहर चादरींसाठी प्रसिध्द आहे?

A.नागपूर



B.सोलापूर

C.पुणे

D.मुंबई

Answer:

B.सोलापूर

Reference ID:(20017)

फेब्रुवारी 2019 मध्ये, \_\_\_\_\_ च्या शासनासह पेयजल आणि स्वच्छता मंत्रालयाने स्वच्छ शक्ती-2019 हा कार्यक्रम आयोजित केला होता.

A.हरियाणा

B.मध्यप्रदेश

C.बिहार

D.पश्चिम बंगाल

Answer:

A.हरियाणा

Reference ID:(20039)

सोडवा:  $2418 = (78 \times 30) + ?$

A.  $78 \times 2$

B.78

C.  $78 \times 3$

D.  $78 \times 30$

Answer:

B.78

Reference ID:(20015)

वयवर्षे 60 पेक्षा जास्त असलेल्या बांधकाम मजूरांसाठी रु. \_\_\_\_\_ निवृत्तीवेतन पुरवण्यासाठी महाराष्ट्र शासनाने श्रमेव जयते योजना सुरू केली.

A.रु. 3000

B.रु. 2500

C.रु. 2000

D.रु. 1000

Answer:

A.रु. 3000

Reference ID:(19795) पुढील वाक्प्रचारांच्या योग्य अर्थाचा पर्याय निवडा.  
द्राविडी प्राणायाम करणे-

- A.साध्या गोष्टीमसाठी अवघड प्रकारे प्रयत्न करणे
- B.व्यायाम करणे
- C.विशिष्ट पद्धतीचे आचरण करणे
- D.एखाद्याची फजिती करणे

Answer: A.साध्या गोष्टीमसाठी अवघड प्रकारे प्रयत्न करणे

Reference ID:(19547) Choose the option that has the correct spelling.

- A.Admirel
- B.Admiral
- C.Admeral
- D.Admirle

Answer: B.Admiral

Reference ID:(20012) भारताच्या संविधानाचे कोणते कलम राज्याच्या राज्यपालाद्वारे अध्यादेश जारी करण्याबाबत हातळणी करते?

- A.कलम 262
- B.कलम 213
- C.कलम 110
- D.कलम 68

Answer: B.कलम 213

Reference ID:(19784) अधोरेखित क्रियापदाचा प्रकार ओळखा.  
हा रुमाल आईला नेऊन दे.

- A.शयक
- B.संयुक्त
- C.शक्य
- D.द्विकर्मक

Answer: B.संयुक्त

Reference ID:(19763) Choose the appropriate preposition for the given sentence:

The ball fell \_\_\_\_\_ the pond as Amala missed flinging it \_\_\_\_\_ Shashi.

A.in, at

B.into, to

C.on, after

D.into, for

Answer: B.into, to

Reference ID:(19797) भारतीय घटनेच्या कोणत्या कलमाद्वारे जम्मू आणि काश्मीर राज्याला विशेष दर्जा दिला गेला आहे?

A.270

B.275

C.280

D.370

Answer: D.370

Reference ID:(20030) 21.40 रुपये प्रति किलोग्रॅमने मिश्रणाची विक्री करण्यासाठी, 18.20 रुपये प्रति किलोग्रॅम आणि 23.80 रुपये प्रति किलोग्रॅमच्या तांदळांना किती गुणोत्तरामध्ये मिसळले जावे?

A.3:7

B.3:4

C.2:5

D.4:7

Answer: B.3:4

Reference ID:(20038)

एक दुकानदार प्रत्येकी 35 रुपये या दराने मार्करची विक्री करतो आणि त्याला 10% कमिशन मिळते. तो प्रत्येकी 65 रुपयांच्या दराने जेल पेनचीही विक्री करतो आणि त्याला 20% नफा मिळतो. जर त्याने दिवसाला 12 मार्कर्स आणि 8 जेल पेन्सची विक्री केली तर 2 आठवड्यांमध्ये त्याला मिळणाऱ्या कमिशनची रक्कम काय असेल (रुपयांमध्ये)?

A.2100

B.1850

C.2044

D.2680

Answer:

C.2044

Reference ID:(20019)

खालीलपैकी कुणाला 2017-2018 वर्षासाठी खेळाडूंच्या श्रेणीमध्ये 'शिव छत्रपती राज्य क्रीडा पुरस्कार' ने सन्मानित करण्यात आले?

A.दिव्या देशमुख

B.स्मृति मंधाना

C.अजिंक्य रहाणे

D.रोहित शर्मा

Answer:

B.स्मृति मंधाना

Reference ID:(19771)

Choose the option that best expresses the meaning of the highlighted idiom/phrase:

The thief **took to his heels** as soon as he saw the police.

A.hurt him self

B.argued with policemen

C.stopped stealing

D.ran away

Answer:

D.ran away

Reference ID:(20040)

A हा B ला 25% नफ्याने वस्तूची विक्री करतो, B हा C ला 10% तोट्याने वस्तूची विक्री करतो आणि C हा D ला त्या वस्तूची 20% नफ्याने विक्री करतो. जर D ने 27 रुपये प्रदान केले असेल, तर A ने ही वस्तू खरेदी करायला किती प्रदान केले असेल?

A.20 रु.

B.15 रु.

C.12 रु.

D.9 रु.

Answer: A.20 रु.

Reference ID:(20041) परीक्षेमध्ये 30% विद्यार्थी विज्ञानामध्ये नापास झाले, 45% विद्यार्थी गणितामध्ये नापास झाले आणि 25% विद्यार्थी दोन्ही विषयांमध्ये नापास झाले. उत्तीर्ण झालेल्या विद्यार्थ्यांची % काढा.

A.60%

B.30%

C.45%

D.50%

Answer: D.50%

Reference ID:(20027) सरासरी काढा.  
44, 75, 38, 25, 24 & 58

A.74

B.85

C.55

D.44

Answer: D.44

Reference ID:(19767) Choose the most appropriate usage to fill in the blank in the given sentence:

If \_\_\_\_\_ is low, they will cancel the class.

A.enrolling

B.enrollee

C.enrollment

D.enrolled

Answer:

C.enrollment

---

Reference ID:(19754)

Choose the appropriate collective noun to complete the sentence:

During our marine tour, we happened to see \_\_\_\_\_ swimming colourfully in the warm waters.

---

A.a pair of sardines

B.a crowd of bass

C.a band of seahorses

D.a party of rainbow fish

---

Answer:

D.a party of rainbow fish

---