



GOVT. OF NCT OF DELHI
 Delhi Subordinate Services Selection Board
 FC-18, Institutional Area, Karkardooma, Delhi – 110092.
www.dsssb.delhigovt.nic.in

Test Date	19/11/2019
Test Time	12:30 PM - 2:30 PM
Subject	Assistant Teacher Nursery

Section : Mental Ability

Q.1 इस प्रश्न में, दो कथन I और II के दो निष्कर्ष दिए गए हैं। यह मानते हुए कि कथन में सभी जानकारी सत्य है, दो निष्कर्षों का एक साथ विश्लेषण करें और निर्धारित करें कि क्या उनमें से कोई भी तार्किक रूप से और निश्चित रूप से दी गई जानकारी का अनुसरण करता है।

कथन:

- I. सभी टेबल कुर्सियां हैं।
 II. सभी कुर्सियां अलमारियां हैं।

निष्कर्ष:

- I. कुछ अलमारियां कुर्सियां हैं।
 II. कुछ अलमारियां टेबल हैं।

- Ans
- 1. न तो I और ना ही II अनुसरण करता है
 - 2. केवल निष्कर्ष II अनुसरण करता है
 - 3. I और II दोनों अनुसरण करते हैं
 - 4. केवल निष्कर्ष I अनुसरण करता है

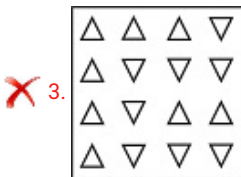
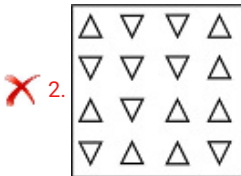
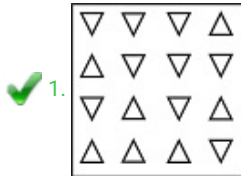
TEACHERS


adda247

Question ID : 71939920027

Q.2 दिए गए विकल्पों में से, तीन एक निश्चित तरीके से समान हैं। हालाँकि, एक विकल्प अन्य तीन की तरह नहीं है। उस विकल्प का चयन करें जो बाकी से अलग है।

Ans





Question ID : 71939920034

हर श्रृंखला में लुप्त पद को ज्ञात करें:

YA

Question ID : 71939920017

D की तुलना में महंगा है; D वस्तु A की तुलना में महंगा है; और B, C से महंगा है, इनमें से कौन है?

TEACHERS

Question ID : 71939920024

1. उत्तर की ओर जाती है, फिर वह पश्चिम की ओर मुड़ती है और 140 km की दूरी तय करती है, 1.1 और जाती है और 90 km की यात्रा करती है, फिर वह पूर्व की ओर मुड़ती है और 80 km की दूरी तय करती है, उसके बाद वह दाईं ओर मुड़ती है और 20 km की यात्रा करती है, उसके बाद वह दाईं ओर मुड़ती है दूरी तय करती है। वह अपने प्रारंभिक बिंदु के संबंध में अब कहाँ है?

km उत्तर

km उत्तर

km दक्षिण

km दक्षिण

Question ID : 71939920033

शा, वसीम, टीना और दीक्षा केंद्र की ओर देखते हुए घेरा बनाकर बैठे हैं। मनोज, ईशा के सामने के दाएं है और जो प्रणय या वसीम के बगल में नहीं है। ईशा, प्रणय और दीक्षा के बीच में बैठी है। वे कौन बैठा है?

न इशिका का जीजा है

न इशिका का पिता हैं

न इशिका का पति हैं

Question ID : 71939920023

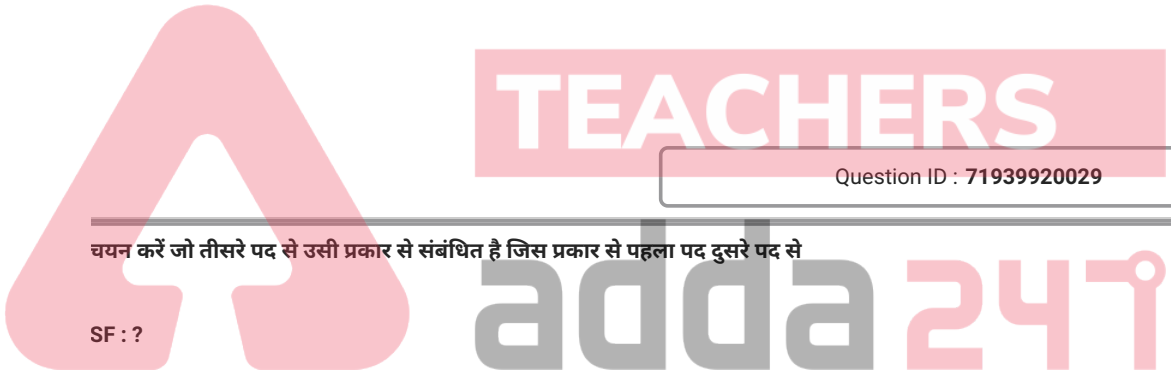
ब्या श्रृंखला को पूरा करें:

, 342, _____.

Question ID : 71939920028

ब्या श्रृंखला में लुप्त संख्या को ज्ञात करें।

__, 420, 540



Question ID : 71939920029

चयन करें जो तीसरे पद से उसी प्रकार से संबंधित है जिस प्रकार से पहला पद दूसरे पद से

SF : ?

Question ID : 71939920021

े यात्रा पूर्व की ओर शुरू की। 3 km चलने के बाद वह दाईं ओर मुड़ गई तथा 4 km तक चली ।
गाईं ओर मुड़कर 5 km तक चली। निशिता अभी जहाँ खड़ी है उसके संबंध में उसकी प्रारंभिक
में है?

।-पश्चिम

।-दक्षिण

।-पूर्व

।-उत्तर

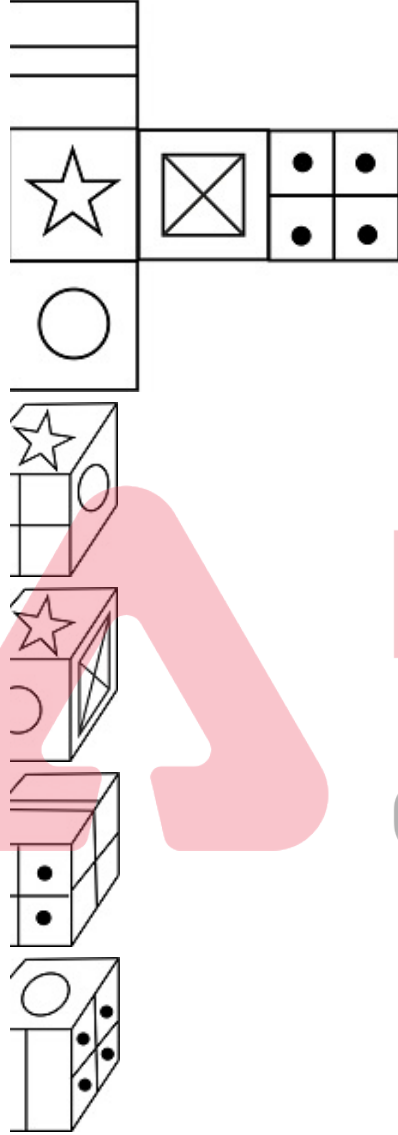
3A

HK

FZ

Question ID : 71939920019

किस घन को प्रश्न आकृति में प्रकट घन के आधार पर नहीं बनाया जा सकता है?




TEACHERS

adda247

Question ID : 71939920036

से कौन-सा वेन आरेख माताओं, महिलाओं और चिकित्सकों के बीच के संबंध को सबसे अच्छा





Question ID : 71939920030

कथन दिया गया है, उसके बाद दो तर्क I और II दिए गए हैं। दो तर्कों का एक साथ विश्लेषण करें
रें कि उनमें से कौन सा अनुसरण करता है।

f विकासशील देश है।

के लिए एक महत्वपूर्ण अभियान है।
ब स्वास्थ्य भारत में एक चुनौती है।

तर्क I अनुसरण करता है

I या II अनुसरण करता है

II दोनों अनुसरण करते हैं

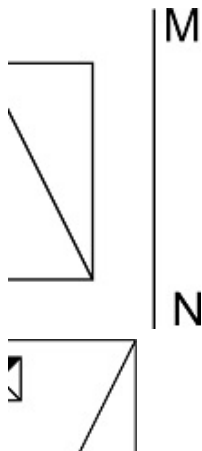
तर्क II अनुसरण करता है

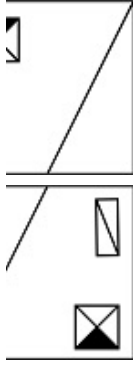
TEACHERS

adda247

Question ID : 71939920026

तो रेखा MN पर रखा गया है, तो कौन सी उत्तर आकृति दी गई आकृति का सही दर्पण प्रतिबिंब





Question ID : 71939920035

चयन करें जो तीसरे पद से उसी प्रकार से संबंधित है जिस प्रकार से पहला पद दूसरे पद से

:: न्यायाधीश : ?

लय

ई

र

धी

Question ID : 71939920020

21-22-7-3-15 के रूप में कोडित किया जाता है, तो JUNK को किस प्रकार कोडित किया

3-15-13

1-14-11

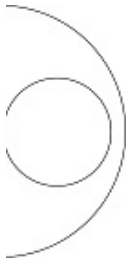
2-15-12

3-16-13

TEACHERS
adda247

Question ID : 71939920022

वेन आरेख निम्नलिखित में से किस विकल्प में दी गई वस्तुओं के बीच के संबंध को दर्शाता है?



साइकलें और वाहनों

गें, राजमिस्त्रीओं और महिलाओं

गिन और सल्लियां

Question ID : 71939920018

rareness

से कौन सा रेगिस्तानी मृदा के बारे में सच नहीं है?

और सेमी-एरीड स्थितियों के तहत देखा गया।

की कम मात्रा।

जन अपर्याप्त है और फॉस्फेट सामान्य है।

और धरण की कमी।

Question ID : 71939920045

गर में गर्त की सबसे बड़ी संख्या है।

द्वितीय

टिक

TEACHERS

Question ID : 71939920046

"बल मेमोरीज" _____ की आत्मकथा है।

तोदी

गांधी

द केजरीवाल

बनर्जी

Question ID : 71939920050

च्छेद 19 सभी नागरिकों को _____ अधिकारों की गारंटी देता है।

एटन डी. सी.

Question ID : 71939920051

नियम कहता है कि एक बंद सतह के माध्यम से एक विद्युत क्षेत्र का शुद्ध प्रवाह संलग्न विद्युत भ्रानुपातिक है।

।

Question ID : 71939920041

डे, गैर-प्रेरक (स्थिर) मादा गामेट और एक छोटे, अभिप्रेरित पुरुष गामेट के बीच संलयन को जाता है।

र

गेमस

स

गेमस

Question ID : 71939920042

एक लोक नृत्य है।

म

म

ष

डि

TEACHERS
adda247

Question ID : 71939920037

रु संशोधन ने भारतीय संघ में _____ को शामिल किया।

और नगर हवेली

और दीव

री

Question ID : 71939920053

रुत्व को 1915 में नाइटहुड से सम्मानित किया गया था लेकिन 1919 में जलियाँवाला बाग रोध के रूप में इसे वापस कर दिया। वह कौन था?

रा गांधी

र ब्रिटिश और _____ के बीच हस्ताक्षर किए गए थे।

जल्तान

नी महाराज

भालम II

भली

Question ID : 71939920047

ट टीम की कप्तानी करने वाले सबसे युवा भारतीय खिलाड़ी _____ हैं।

सेह धोनी

अली खान पटौदी

द्रविड़

तेंदुलकर

Question ID : 71939920056

से कौन सा तात्विक गैस का उदाहरण नहीं है?

डाईऑक्साइड

जन

ीजन

जन

TEACHERS

Question ID : 71939920043

विकास बैंक _____ स्तर पर संचालित होता है।

Question ID : 71939920039

गोषणा के अनुसार, एस्पिरेशनल डिस्ट्रिक्ट्स प्रोग्राम देश के _____ सबसे पिछड़े जिलों को
दान कर रहा है।

Question ID : 71939920040

ई 1927

Question ID : 71939920049

18थ एशियन फुटबॉल फेडरेशन U-18 चैम्पियनशिप 2019 जीता।

देश

Question ID : 71939920055

पानी _____ में निर्वहन करती है।

की खाड़ी

हासागर

न सागर

सागर

Question ID : 71939920044

_____ वंश के साथ जुड़ा हुआ है।

य
ने
।

TEACHERS

adda247

Question ID : 71939920048

नार का धार्मिक गीत है जिसे अक्सर एक नवविवाहित दुल्हन या एक अविवाहित लड़की के लिए नैसकी निकट भविष्य में शादी होने की उम्मीद है।

गाह

नेयाँ

Question ID : 71939920038

Ability

का मूल्य ज्ञात करें।

kmph की गति से चल रही है जबकि दूसरी रेलगाड़ी 30 m/s की गति से चल रही है। वे एक ही रू करती हैं। 1 मिनट के बाद उनके बीच की दूरी ज्ञात करें।

m

m

m

m

Question ID : 71939920069

r रेस में दौड़ना शुरू करती हैं। एक कार 180 kmph की रफ्तार से चलती है और दूसरी 40 m/s म्या होगा जिसमें कारें 90 kms की दौड़ को पूरी करती हैं?

सेकंड

सेकंड

सेकंड

सेकंड

Question ID : 71939920070

नेमत 3 बार बढ़ने के बाद बढ़कर 100000 रुपए हो जाती है। पहली वृद्धि 25%, दूसरी 12.50% 11% रही। बाइक का वास्तविक मूल्य ज्ञात करें।

10 रुपए

10 रुपए

10 रुपए

100 रुपए

TEACHERS

Question ID : 71939920064

तो मिलाकर उसके पास 3500 रुपए है। यदि A की $\frac{1}{2}$ राशि B की राशि के $\frac{2}{3}$ के बराबर है तो $\frac{A}{B}$ राशि है?

रुपए

1 रुपए

1 रुपए

1 रुपए

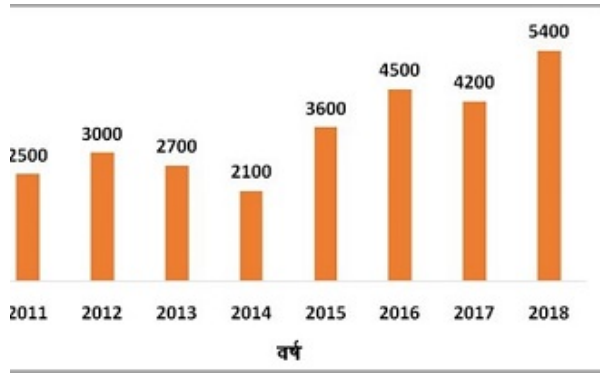
Question ID : 71939920067

क दंपति और उनके 4 बच्चे थे। 7 वर्ष पहले, परिवार की औसत आयु 25 वर्ष थी। एक वर्ष : बच्चों की औसत आयु 28 वर्ष थी। पति की वर्तमान आयु ज्ञात करें।

र्ष

र्ष

र्ष



। टन

। टन

। टन

। टन

Question ID : 71939920075

प्र 5 वर्ष में 30000 रुपए का मूलधन 36000 रुपए हो जाता है, 2 वर्ष के लिए उतने ही मूलधन ज क्या होगा?

। रुपए

। रुपए

। रुपए

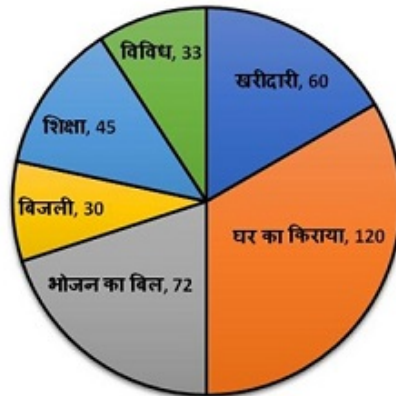
। रुपए

TEACHERS

Question ID : 71939920068

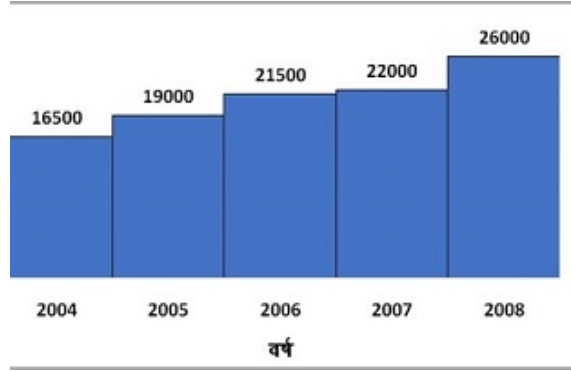
गिने के लिए किसी विशेष परिवार के विभिन्न प्रकार के खर्चों को दर्शाता है। महीने के लिए होने वाली राशि 4500 रुपए है। परिवार द्वारा खर्च की गई कुल राशि कितनी है?

एक विशेष परिवार के खर्च



।0 रुपए

खास समय की अवधि में कोयले (टन में) की आयात को दर्शाता है। इस अवधि के लिए आयात कितनी है?



10 टन

10 टन

10 टन

10 टन

Question ID : 71939920076

लागत पर 540% लाभ कमाता है। यदि लागत में 60% की वृद्धि होती है जबकि विक्रय मूल्य तो विक्रय मूल्य के नए लाभ का अनुपात ज्ञात करें।

TEACHERS

4

Question ID : 71939920065

ब के आकार का है। पार्क के समानांतर छोटे आकार को ज्ञात करें यदि इसका क्षेत्रफल 450 sq। रूप ऊंचाई 12 m है और समानांतर पक्षों में से एक 50% अन्य की तुलना में अधिक है?

|

|

|

|

Question ID : 71939920073

पर किस संख्या का वर्ग 30, 36 और 40 से पूरी तरह से विभाजित हो जाएगा?

Question ID : 71939920058

ने फार्म में मुर्गियों और घोड़ों को रखता है। कुल मिलाकर उसके पास 35 जानवर हैं, जबकि पैरों 100 हैं। उसके पास कितने घोड़े हैं?

Question ID : 71939920061

सभी पक्षों में 10% की वृद्धि होती है तो घन के आयतन में कितने प्रतिशत की वृद्धि होगी?

तिशत

तिशत

0 प्रतिशत

तिशत

Question ID : 71939920072

गुणित होने वाली संख्या को $\frac{5}{8}$ से गुणा किया जाए, तो त्रुटि प्रतिशत क्या है?

प्रतिशत

तिशत

प्रतिशत

प्रतिशत

Question ID : 71939920063

मुपात में A, B, C और D के बीच धनराशि वितरित की जानी है। यदि C, B से 500 रुपए अधिक है तो D कितना प्राप्त करता है?

। रुपए

। रुपए

। रुपए

। रुपए

Question ID : 71939920066

और $a-b = 30$ है, तो ab का मूल्य कितना है?

क काम कर सकता है और वह B से तीन गुना कुशल है। वे एक साथ कितने दिनों में काम पूरा
A हर तीसरे दिन B के साथ मिलकर काम करता है?

Question ID : 71939920071

glish

ion that best expresses the meaning of the idiom or phrase given below.

be in agreement with

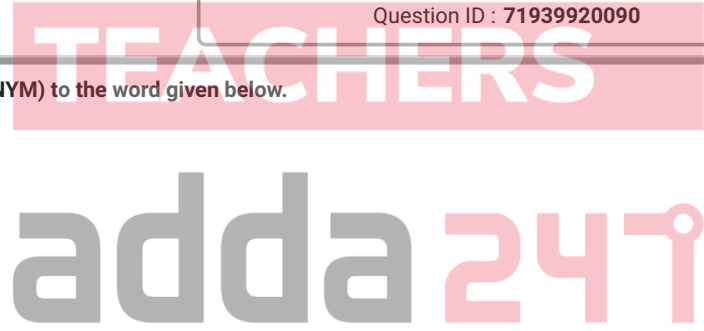
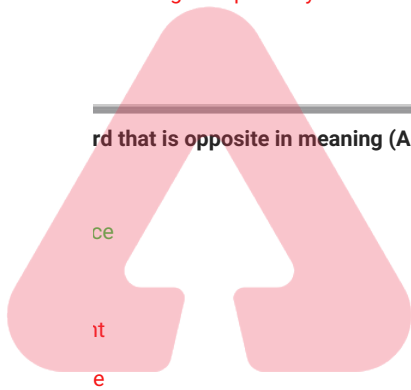
do something risky

admire someone very much

do something unexpectedly

Question ID : 71939920090

word that is opposite in meaning (ANTONYM) to the word given below.



Question ID : 71939920086

word that is closest in meaning (SYNONYM) to the word given below.

agree

disagree

oppose

concede

Question ID : 71939920085

word that fills in the blank correctly and completes the sentence meaningfully.

Question ID : 71939920082

Word that is spelled correctly.

whole

ophile

hile

ophile

Question ID : 71939920088

Word that is spelled correctly.

:

>

>

:

Question ID : 71939920087

Word that fills in the blank correctly and completes the sentence meaningfully.

Technical civilisation of the 20th Century is like a plane in flight, _____ by its
in.

ported

porting

ort

orting

TEACHERS
adda247

Question ID : 71939920081

Parts below consist of a set of labelled parts of a sentence. Out of four options
the most logical order of the parts which form a coherent sentence.

reference between
regenerated with
evolution and regular
typing is that a special
link is needed

Q

S

S

>

Question ID : 71939920084

er study and experimentation

ated that acids release

ogen ions to water solution

Question ID : 71939920078

tion that best expresses the meaning of the idiom or phrase given below.

time

ot have time

olve two problems at a time

e last moment

the beginning

Question ID : 71939920089

below has been divided into three parts. Select the part of the sentence that
f the sentence has no error, select the option 'No Error'.

is out of/ question because of their/ initial high capital cost.

tion because of their

rror

I high capital cost.

services is out of

TEACHERS

Question ID : 71939920077

st appropriate 'one word' for the expressions given below.

cult to please

ist

dious

site

enarian

Question ID : 71939920091

s below consist of a set of labelled parts of a sentence. Out of four options
the most logical order of the parts which form a coherent sentence.

ig armoury raid

empt to raid the armoury of

armoury in the Bengal

auxiliary forces from the

of British India

>

~

rd segment that substitutes (replaces) the bracketed word segment correctly s the sentence meaningfully. If there is no need to substitute it, select "No

have capture) the hearts of people from pre-historic times due to its unique

aptured

captured

orrection

apture

Question ID : 71939920080

rd segment that substitutes (replaces) the bracketed word segment correctly s the sentence meaningfully. If there is no need to substitute it, select "No

alists are the newest breed of entrepreneurs who are usually wealthy enough eir own business.

art

art

orrection

arted

Question ID : 71939920079

on:

wing passage carefully and choose the best answer to each question out of the es and click the button corresponding to it.

on the south-western coast of India within the region known as the Konkan, n the Deccan highlands of the state of Karnataka by the Western Ghats. It is laharashtra to the north and Karnataka to the east and south, with the Arabian s western coast. It is India's smallest state by area and the fourth-smallest by a has the highest GDP per capita among all Indian states, two and a half times ntry. It was ranked the best-placed state by the Eleventh Finance Commission icture and ranked on top for the best quality of life in India by the National on Population based on the 12 Indicators. Panaji is the state's capital, while ra is its largest city. The historic city of Margao still exhibits the cultural ie Portuguese, who first landed in the early 16th century as merchants and :oon thereafter. Goa is a former Portuguese province; the Portuguese overseas rtuguese India existed for about 450 years until it was annexed by India in 1961.

No : 16

ad by which state in the north?

ataka

ian Sea

arashtra

I Nadu

Question ID : 71939920094

Goa has the highest GDP per capita among all Indian states, two and a half times more than Kerala. It was ranked the best-placed state by the Eleventh Finance Commission structure and ranked on top for the best quality of life in India by the National Human Development Report on Population based on the 12 Indicators. Panaji is the state's capital, while Vasco da Gama is its largest city. The historic city of Margao still exhibits the cultural heritage of the Portuguese, who first landed in the early 16th century as merchants and missionaries. Goa is a former Portuguese province; the Portuguese overseas territories of Portuguese India existed for about 450 years until it was annexed by India in 1961.

No : 17

Which region is Goa located?

North

South

West

East

Question ID : 71939920093

Question:

Read the following passage carefully and choose the best answer to each question out of the four options and click the button corresponding to it.

Goa is located on the south-western coast of India within the region known as the Konkan, between the Deccan highlands of the state of Karnataka by the Western Ghats. It is bordered by Maharashtra to the north and Karnataka to the east and south, with the Arabian Sea to its western coast. It is India's smallest state by area and the fourth-smallest by population. Goa has the highest GDP per capita among all Indian states, two and a half times more than Kerala. It was ranked the best-placed state by the Eleventh Finance Commission structure and ranked on top for the best quality of life in India by the National Human Development Report on Population based on the 12 Indicators. Panaji is the state's capital, while Vasco da Gama is its largest city. The historic city of Margao still exhibits the cultural heritage of the Portuguese, who first landed in the early 16th century as merchants and missionaries. Goa is a former Portuguese province; the Portuguese overseas territories of Portuguese India existed for about 450 years until it was annexed by India in 1961.

No : 18

What is the capital of Goa?

Panaji

Goa

South

East

Question ID : 71939920096

Question:

Read the following passage carefully and choose the best answer to each question out of the four options and click the button corresponding to it.

Goa is located on the south-western coast of India within the region known as the Konkan, between the Deccan highlands of the state of Karnataka by the Western Ghats. It is bordered by Maharashtra to the north and Karnataka to the east and south, with the Arabian Sea to its western coast. It is India's smallest state by area and the fourth-smallest by population. Goa has the highest GDP per capita among all Indian states, two and a half times more than Kerala. It was ranked the best-placed state by the Eleventh Finance Commission structure and ranked on top for the best quality of life in India by the National Human Development Report on Population based on the 12 Indicators. Panaji is the state's capital, while Vasco da Gama is its largest city. The historic city of Margao still exhibits the cultural heritage of the Portuguese, who first landed in the early 16th century as merchants and missionaries. Goa is a former Portuguese province; the Portuguese overseas territories of Portuguese India existed for about 450 years until it was annexed by India in 1961.

re

ji

joa

Question ID : 71939920097

on:

wing passage carefully and choose the best answer to each question out of the es and click the button corresponding to it.

on the south-western coast of India within the region known as the Konkan, n the Deccan highlands of the state of Karnataka by the Western Ghats. It is laharashtra to the north and Karnataka to the east and south, with the Arabian s western coast. It is India's smallest state by area and the fourth-smallest by oa has the highest GDP per capita among all Indian states, two and a half times ntry. It was ranked the best-placed state by the Eleventh Finance Commission icture and ranked on top for the best quality of life in India by the National on Population based on the 12 Indicators. Panaji is the state's capital, while a is its largest city. The historic city of Margao still exhibits the cultural ie Portuguese, who first landed in the early 16th century as merchants and :oon thereafter. Goa is a former Portuguese province; the Portuguese overseas rtuguese India existed for about 450 years until it was annexed by India in 1961.

No : 20

ollowing statements about Goa is correct?

ounded by Maharashtra to the South

the largest state by area

he fourth smallest by population

of the above

TEACHERS

Question ID : 71939920095

ndi

adda247

र में, चार विकल्पों में से, उस विकल्प का चयन करें जो दिए गए मुहावरे का सही अर्थ वाला

ड़ा होना

सहारे अपना कार्य करना

माना

र सही होना

अलग रहना

Question ID : 71939920110

र में, चार विकल्पों में से, उस विकल्प का चयन करें जो दिए गए संधि-विच्छेद की संधि का सही

Question ID : 71939920100

। में, चार विकल्पों में से, उस विकल्प का चयन करें जो विराम चिह्न युक्त वाक्य का सही विकल्प

रता? क्या न करता? कुछ भी समझ में नहीं आ रहा था।

रता, क्या न करता, कुछ भी समझ में नहीं आ रहा था।

रता क्या न करता कुछ भी समझ में नहीं आ रहा था।

रता क्या न करता कुछ भी समझ में नहीं आ रहा था।

Question ID : 71939920112

। में, चार विकल्पों में से, उस विकल्प का चयन करें जो सही वाक्य भेद का विकल्प हो।

ए दान करते हैं, कि उनका नाम हो।

वाक्य

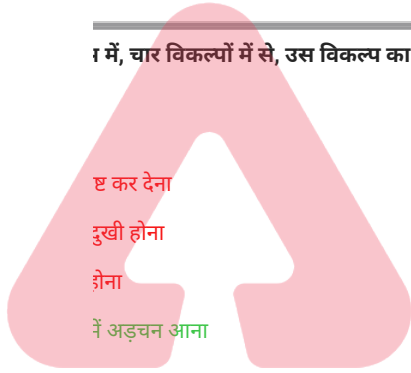
वाचक वाक्य

वाक्य

वाक्य

Question ID : 71939920108

। में, चार विकल्पों में से, उस विकल्प का चयन करें जो दिए गए मुहावरे का सही अर्थ वाला



TEACHERS
adda247

ष्ट कर देना

दुखी होना

शेना

में अड़चन आना

Question ID : 71939920109

। में, चार विकल्पों में से, उस विकल्प का चयन करें जो दिए गए शब्द के लिए बहुवचन शब्द का कल्प है।

ति

Question ID : 71939920106

। में, चार विकल्पों में से, उस विकल्प का चयन करें जो विलोम शब्द का सबसे अच्छा विकल्प है।

Question ID : 71939920102

से निर्देशानुसार वाच्य परिवर्तन का विकल्प चुनिए।

बेदालय गया। (कर्मवाच्य)

रा साइकिल से विद्यालय जाया गया।

हल से मैं विद्यालय गया।

तय मैं साइकिल से गया।

तय साइकिल से मेरे द्वारा जाया गया।

Question ID : 71939920107

में, चार विकल्पों में से, उस विकल्प का चयन करें जो दिए गए शब्द का सही स्त्रीलिंग वाला

नी

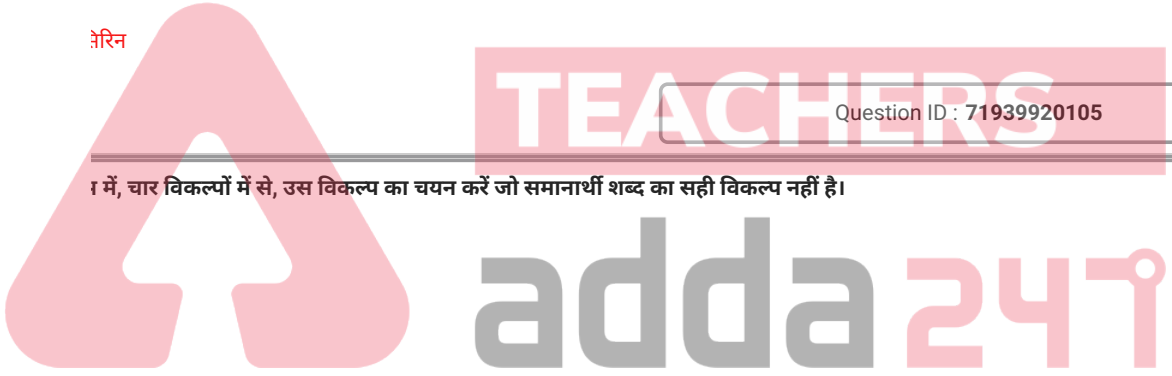
शेनी

सेनी

नेरिन

Question ID : 71939920105

में, चार विकल्पों में से, उस विकल्प का चयन करें जो समानार्थी शब्द का सही विकल्प नहीं है।



Question ID : 71939920103

में, चार विकल्पों में से, उस सही विकल्प का चयन करें जो वाक्यांशों के लिए एक शब्द का

वाला

ः

ठी

मी

Question ID : 71939920099

1 में, चार विकल्पों में से, उस विकल्प का चयन करें जो दिए गए वाक्यांश के लिए सही लोकोक्ति

कड़वी, नौ हाथ का बीज

नी बात

परिस्थिति से संतुष्ट रहना

बोलना

ग बताना

Question ID : 71939920111

1 में, चार विकल्पों में से, उस विकल्प का चयन करें जो उपसर्ग से बना है।

क

द

ई

जक

Question ID : 71939920098

1 में, चार विकल्पों में से, उस विकल्प का चयन करें जो रिक्त स्थान के लिए उपयुक्त शब्द का सही

र प्रत्येक व्यक्ति के लिए _____ है।

कर

गोगी

र

गोगी

Question ID : 71939920101

30n:

श को ध्यानपूर्वक पढ़ें और चार विकल्पों में से प्रत्येक प्रश्न का सर्वोत्तम उत्तर चुनें।

गे शुरुआत थी और टॉम कैनेडी भी अन्य अफसरों की तरह से शरदकालीन लम्बे दौरे पर विविध पुलिस ग हेतु बाहर था। सर्दी के दिनों में कैप का जीवन एक लम्बे पिकनिक के सामान हुआ करता था। भारत की के बाद इन दिनों की ताज़गी आनंदवर्धक होती थी, परंतु कर्त्तव्य की कभी अवहेलना नहीं होती थी, 1नस्थ पदाधिकारियों के कार्यों और गतिविधियों के निरिक्षण के अतिरिक्त सुपरिटेण्डेंट से अपेक्षा की जाती 1ने की स्थिति की वाकफियत हासिल करे, विशेषकर ग्रामीण क्षेत्रों में पनपने वाले क्राइम की। उसको इस र के उत्तम अवसर मिला करते थे। येलोपुर में चूँके कुछ अच्छे जंगल थे। अतः कैनेडी यहाँ बेहतर शिकार था।

111111

नः

श को ध्यानपूर्वक पढ़ें और चार विकल्पों में से प्रत्येक प्रश्न का सर्वोत्तम उत्तर चुनें।

ने शुरुआत थी और टॉम कैनेडी भी अन्य अफसरों की तरह से शरदकालीन लम्बे दौरे पर विविध पुलिस ग हेतु बाहर था। सर्दी के दिनों में कैप का जीवन एक लम्बे पिकनिक के सामान हुआ करता था। भारत की के बाद इन दिनों की ताज़गी आनंदवर्धक होती थी, परंतु कर्त्तव्य की कभी अवहेलना नहीं होती थी, इनस्थ पदाधिकारियों के कार्यों और गतिविधियों के निरीक्षण के अतिरिक्त सुपरिटेण्डेंट से अपेक्षा की जाती ने की स्थिति की वाकफियत हासिल करे, विशेषकर ग्रामीण क्षेत्रों में पनपने वाले क्राइम की। उसको इस र के उत्तम अवसर मिला करते थे। येलोपुर में चूँकि कुछ अच्छे जंगल थे। अतः कैनेडी यहाँ बेहतर शिकार था।

No : 17

फ़प टॉम कैनेडी को अच्छे व्यों लगा करते थे?

ी काम न होने के कारण

का आनंद मिलने के कारण

यक होने के कारण

क के समान होने के कारण

नः

श को ध्यानपूर्वक पढ़ें और चार विकल्पों में से प्रत्येक प्रश्न का सर्वोत्तम उत्तर चुनें।

ने शुरुआत थी और टॉम कैनेडी भी अन्य अफसरों की तरह से शरदकालीन लम्बे दौरे पर विविध पुलिस ग हेतु बाहर था। सर्दी के दिनों में कैप का जीवन एक लम्बे पिकनिक के सामान हुआ करता था। भारत की के बाद इन दिनों की ताज़गी आनंदवर्धक होती थी, परंतु कर्त्तव्य की कभी अवहेलना नहीं होती थी, इनस्थ पदाधिकारियों के कार्यों और गतिविधियों के निरीक्षण के अतिरिक्त सुपरिटेण्डेंट से अपेक्षा की जाती ने की स्थिति की वाकफियत हासिल करे, विशेषकर ग्रामीण क्षेत्रों में पनपने वाले क्राइम की। उसको इस र के उत्तम अवसर मिला करते थे। येलोपुर में चूँकि कुछ अच्छे जंगल थे। अतः कैनेडी यहाँ बेहतर शिकार था।

No : 18

क्यों था?

के मज़े के लिए

क के लिए

ण हेतु

गन हेतु

नः

श को ध्यानपूर्वक पढ़ें और चार विकल्पों में से प्रत्येक प्रश्न का सर्वोत्तम उत्तर चुनें।

ने शुरुआत थी और टॉम कैनेडी भी अन्य अफसरों की तरह से शरदकालीन लम्बे दौरे पर विविध पुलिस ग हेतु बाहर था। सर्दी के दिनों में कैप का जीवन एक लम्बे पिकनिक के सामान हुआ करता था। भारत की के बाद इन दिनों की ताज़गी आनंदवर्धक होती थी, परंतु कर्त्तव्य की कभी अवहेलना नहीं होती थी,

ण का कार्य

गलीन दौरे का मज़ा

र का आनंद

Question ID : 71939920118

ण:

श को ध्यानपूर्वक पढ़ें और चार विकल्पों में से प्रत्येक प्रश्न का सर्वोत्तम उत्तर चुनें।

ने शुरुआत थी और टॉम कैनेडी भी अन्य अफसरों की तरह से शरदकालीन लम्बे दौरे पर विविध पुलिस ग हेतु बाहर था। सर्दी के दिनों में कैप का जीवन एक लम्बे पिकनिक के सामान हुआ करता था। भारत की के बाद इन दिनों की ताज़गी आनंदवर्धक होती थी, परंतु कर्त्तव्य की कभी अवहेलना नहीं होती थी, इनस्थ पदाधिकारियों के कार्यों और गतिविधियों के निरिक्षण के अतिरिक्त सुपरिटेण्डेंट से अपेक्षा की जाती ने की स्थिति की वाकफियत हासिल करे, विशेषकर ग्रामीण क्षेत्रों में पनपने वाले क्राइम की। उसको इस र के उत्तम अवसर मिला करते थे। येलोपुर में चूँकि कुछ अच्छे जंगल थे। अतः कैनेडी यहाँ बेहतर शिकार था।

No : 20

गा में आए थे?

र के

काम के

शिकार की

क्राइम की

TEACHERS

Question ID : 71939920116

सा का अनुभव किया है वे स्वास्थ्य और व्यवहार संबंधी समस्याओं को _____ प्रदर्शित

नहीं

अधिक संभावना है कि वे

भावना कम है कि वे

Question ID : 71939920133

यान अवधि (3 से 6 वर्ष) है:

0 मिनट

0 मिनट

0 मिनट

0 मिनट

ग करना (प्रिंटेड) खेल

मक खेल

मक खेल

Question ID : 71939920134

5 बच्चे एक या दो विशेषताओं, क्रमबद्धता, पैटर्न की पहचान, पैटर्न बनाने, तर्क और समस्या सार सॉर्टिंग और वर्गीकरण में कौशल का विकास प्रदर्शित करते हैं?

से 3 वर्ष

से 4 वर्ष

से 6 वर्ष

से 4 वर्ष

Question ID : 71939920131

भालकर्ता (केयरगिवर) बच्चों को छोटी कहानी और छंद (राइम) सुनने और कल्पना करने, एक में लिप्त होने और सरल समस्या हल करने की गतिविधियों के लिए अवसर प्रदान करना

ने से 12 महीने

र्ष से 4 वर्ष

से 3 वर्ष

से 2 वर्ष

TEACHERS

Question ID : 71939920130

ही है?

1 भारत में शिक्षा के अधिकार द्वारा अनिवार्य प्रावधान के रूप में मान्यता प्राप्त नहीं है।

धेकार राज्यों से तीन वर्ष से ऊपर के बच्चों के लिए मुफ्त प्री-स्कूल शिक्षा प्रदान करने का आग्रह

कथन सही हैं।

कथन 2 सही है; कथन 1 गलत है।

कथन गलत हैं।

कथन 1 सही है; कथन 2 गलत है।

Question ID : 71939920120

केयर एंड एजुकेशन कार्यक्रम यह मानता है कि बच्चे खेल और _____ के माध्यम से सर्वश्रेष्ठ

से सीखने

कर सीखने

सीखने

3 वर्ष

3 वर्ष

3 वर्ष

3 वर्ष

Question ID : 71939920129

केयर एंड एजुकेशन (ECCE) पाठ्यचर्या फ्रेमवर्क के अनुसार, अर्ली चाइल्डहुड केयर एंड E) निम्नलिखित में से किस तत्व को एक सुरक्षात्मक और सक्षम वातावरण में धरता है?

ग

1, 3 और 4

1, 2, 3, 4 और 6

1, 2, 3 और 5

1, 2, 3, 5 और 6

Question ID : 71939920125

केयर एंड एजुकेशन (ECCE) के लिए कौन सा मंत्रालय नोडल विभाग है?

1 और बाल विकास मंत्रालय (MWCD)

1 कल्याण मंत्रालय (MSW)

मंत्रालय (MOE)

संसाधन मंत्रालय (HRM)

TEACHERS
adda247

Question ID : 71939920122

सार, प्रारंभिक बचपन को गर्भाधान से _____ वर्ष की आयु तक की अवधि के रूप में
1 गया है।

Question ID : 71939920119

क देखभालकर्ता (केयरगिवर) और बच्चे के बीच अद्वितीय और स्थायी बंधन को संदर्भित करता
न के बाकी समय के लिए एक दूसरे के लिए विशेष हैं।

न

5 बच्चों को अकेले और अन्य बच्चों के साथ खेलने के लिए अन्वेषण के लिए अवसरों की गति है?

से 3 महीने

ने से 1 वर्ष

से 2 वर्ष

ने से 6 महीने

Question ID : 71939920138

जन्म के बाद तीव्र गति से बढ़ता है और बच्चे के 2 वर्ष का होने तक उसके वयस्क वजन का 1 तक पहुंच जाता है।

Question ID : 71939920135

वि (VAD) अंधापन का कारण बनता है और बच्चों को आम बाल्यावस्था के घातक के लिए बनाता है: खसरा, दस्त, मलेरिया और निमोनिया।

यम

नेन A

नेन K

TEACHERS

Question ID : 71939920136

1 के सभी बच्चों के लिए इनमें से कौन प्रदान-कर्ता है और बचपन की शिक्षा की गुणवत्ता के लिए व के लिए प्रतिबद्ध है?

अर्ली चाइल्डहुड केयर एंड एजुकेशन (ECCE) नीति 2013

क एवं अनिवार्य शिक्षा विधेयक (RTE) अधिनियम 2010

पर राष्ट्रीय नीति

के लिए शिक्षा (EFA)

Question ID : 71939920123

1 हाथ और उंगलियों पर नियंत्रण हासिल करते हैं?

हीने से 18 महीने

से 2 वर्ष

ने से 12 महीने

से 3 वर्ष

करने की उम्र

एक उम्र

पूर्ण उम्र

Question ID : 71939920132

नेशन आंगनवाड़ी केंद्रों के नेटवर्क के माध्यम से 37 मिलियन से अधिक बच्चों को शामिल करते
प्रोग्राम एक केंद्र प्रायोजित और राज्य प्रशासित ECCE कार्यक्रम है?

एन बी सी बाल विकास सेवा (ICDS) कार्यक्रम

ए क्षेत्रों में महिलाओं और बच्चों का विकास (DWCRA)

शिक्षा अभियान (SSA)

सामाजिक सहायता कार्यक्रम (NSAP)

Question ID : 71939920124

बनने के लिए प्रोत्साहित किया जाना चाहिए:

मातृ भाषा - या तो उनकी मातृभाषा या औपचारिक विद्यालय भाषा लेकिन अंग्रेजी कभी नहीं

विद्यालय की भाषा या अंग्रेजी

औपचारिक विद्यालय की भाषा

अपनी मातृभाषा या घर की भाषा

Question ID : 71939920127

इंग्लिश (शिक्षक अपने छात्रों को दिशात्मक शब्दों के साथ अपनी भौतिक दुनिया का वर्णन
कर रही है: सामने, पीछे, इसके ऊपर, के पास, नीचे आदि। इस अभ्यास के माध्यम से कौन सी
प्रकारणा सिखाई जा रही है?

दि

गणित

प्रणाली

गैर डेटा व्याख्या

Question ID : 71939920147

संबंधित बच्चों को बड़बड़ाने की शुरुआत दिखानी चाहिए, यानी "बाबा" और "दीदी" जैसे
शब्दों की दोहराई गई श्रृंखला?

ने से 6 महीने

1 महीने

हीने से 24 महीने

हीने से 36 महीने

क अवधारणाएँ

की अवधारणाएँ

लेक अवधारणाएँ

Question ID : 71939920149

भाषा के विकास की इष्टतम अवधि है:

के पहले वर्ष के दौरान

के पहले तीन वर्षों में

3 वर्ष की आयु तक

5 वर्ष की आयु तक

Question ID : 71939920140

एहजन कर्मी सामाजिक कौशल किस अवधि में प्रभावी रूप से विकसित होते हैं?

के 1-2 वर्षों के दौरान

के 9-11 वर्षों के दौरान

के 3-5 वर्षों के दौरान

के 7-9 वर्षों के दौरान

Question ID : 71939920145

की एक प्रणाली है जिसका उपयोग संचार करने के लिए किया जाता है।

स्तक

TEACHERS
adda247

Question ID : 71939920155

भाषा की समझ और संज्ञानात्मक प्रसंस्करण को नियंत्रित करता है उसे निम्न के रूप में जाना

यन फिशर

न क्षेत्र

का एरिया

का एरिया

Question ID : 71939920157

भ्यास है जो डेटा व्याख्या के क्षेत्र में बच्चों के सीखने को सुदृढ़ करेगा।

वस्तुओं को छूना और ज़ोर से गिनना

र सीखने इसके द्वारा वर्णित है:

बच्चों में समान विकास

बच्चों के बीच सीखने की मानक गति

एक भिन्नता

और जातीय अंतर

Question ID : 71939920141

वर्ष की बेटी के साथ कौन सी गतिविधि करती है जिससे बच्चे को गणितीय अवधारणाओं को में मदद मिलेगी?

। की दुकान से खरीदी गई वस्तुओं की संख्या की गिनती करना

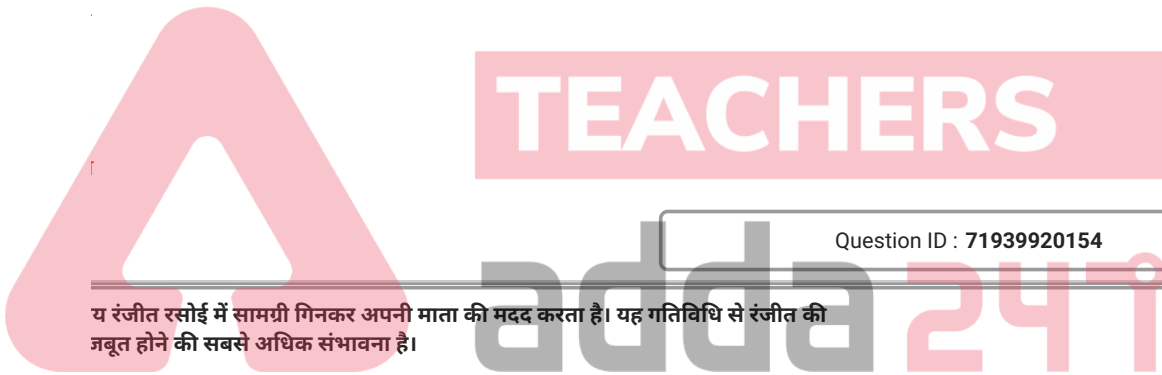
और सब्जियों के चित्र बनाना

गाटिका (किचन गार्डन) में बीज बोना

। स्तकें जोर से पढ़ना

Question ID : 71939920153

, सूचनाओं के आदान-प्रदान, पठन कौशल के विकास, समझ के साथ पढ़ने और बाद के वर्षों में लता के लिए महत्वपूर्ण भूमिका निभाता है।



Question ID : 71939920154

य रंजीत रसोई में सामग्री गिनकर अपनी माता की मदद करता है। यह गतिविधि से रंजीत की जबूत होने की सबसे अधिक संभावना है।

त्येक कौशल

लेक अवधारणाएँ

येय अवधारणाएँ

नैशल

Question ID : 71939920148

पाठ्यचर्या के एक सिद्धांत के अनुसार, एक डोमेन में परिवर्तन या विकास दूसरे डोमेन के _____ ।

या बाधित करता है

तर बाधित करता है लेकिन शायद ही कभी सुगम करे

बाधित करता है

तर सुगम करता है लेकिन शायद ही कभी बाधित करे

आत्मक या प्रतिनिधित्वात्मक ज्ञान

अंधी सीख

Question ID : 71939920144

ते हैं और सीखने की _____ इच्छा रखते हैं।

आत्मक

जेक

तिक

Question ID : 71939920142

निम्नलिखित में से किसको निर्माण नींव के रूप में माना जाता है - क्षमता:

1

1, 2, 3 और 4

2, 3, 4 और 5

1, 2, 3 और 5

1, 2, 4 और 5

TEACHERS

Question ID : 71939920156

से कौन सा एक अभ्यास है जो बच्चों के कार्डिनल और क्रमिक संख्याओं के सीखने को सुदृढ़

क्रम में रखी जाने वाली वस्तुओं के अग्र-भाग या साइड की संख्या

पेरी दौड़ में छात्रों की सापेक्ष स्थिति

गौर पांच मिनट पहले शाखा पर बैठे पक्षियों की संख्या

न के घर और विद्यालय से आने-जाने के लिए उसके द्वारा तय की गई दूरी और लिया गया समय

Question ID : 71939920152

चे विभिन्न सामग्रियों का उपयोग करना सीखते हैं, एक योजना के आधार पर चीजों को एक साथ
1। क्षय तक पहुंचने की रणनीतियों का विकास और उपयोग करते हैं।

आत्मक खेल

आ करना (प्रिंटेड) खेल

के साथ खेल

आत्मक खेल

े सुनाना

ज्ञान

Question ID : 71939920150

से कौन सा अर्ली चाइल्डहुड केयर एंड एजुकेशन कार्यक्रम का एक उद्देश्य है?

- ; बच्चे में प्रतिस्पर्धात्मकता, उत्कृष्टता और देशभक्ति का विकास करना
- ; बच्चे को उनकी पसंद की उच्च शिक्षा के लिए सक्षम करना
- ; बच्चे की क्षमता के अनुसार-प्रत्येक बच्चे की शारीरिक और मोटर विकास के लिए एक स्वस्थ नींव
- ; बच्चे को उसकी पसंद के प्रतिस्पर्धी खेल के लिए तैयार करना

Question ID : 71939920146

या जाना चाहिए कि 3 से 6 वर्ष की आयु के बच्चों के लिए अर्ली चाइल्डहुड पहल निम्न के लिए है:

ग्र के मूल्य
ेर सांस्कृतिक पृष्ठभूमि
लिक वातावरण
ेश्व के सामने आने वाली समस्याएं

- 1, 2 और 4
- 2, 3 और 4
- 1, 2 और 3
- 4

TEACHERS

adda247

Question ID : 71939920166

क और संस्थाएं, सामाजिक कानून, रीति-रिवाज जिनके द्वारा मानव व्यवहार को विनियमित नेमन को गठित करता है:

- क वातावरण
- लेक वातावरण
- ज्ञानिक वातावरण
- जेक वातावरण

Question ID : 71939920164

बच्चे के सामाजिक वातावरण का एक हिस्सा है?

रें

ना 3. लिखना 4. पढ़ना

1-पढ़ना-सुनना-लिखना

2-लिखना-सुनना-बोलना

3-बोलना-पढ़ना-लिखना

4-सुनना-लिखना-बोलना

Question ID : 71939920168

1 परेशानी होती है:

और काल का गलत उपयोग

वर्ण उत्पादन और चयन

और काल का गलत उपयोग, वाक्य बनाने में समस्याएं

गों और शब्दों का समय जो समग्र अबाध भाषण को प्रभावित करता है

Question ID : 71939920159

एक शिक्षक का अवलोकन करने वाला शिक्षक या शिक्षण अवलोकन का एक तरीका है?

क्षित शिक्षक और पर्यवेक्षक शिक्षकों को अपने अभ्यास को लगातार विकसित करने और बेहतर बनाने में

गठन में एक पदानुक्रम बनाता है जिसका उपयोग प्रबंधन द्वारा पदोन्नति से संबंधित निर्णयों के लिए किया

1 शिक्षकों पर अवलोकन के दौरान बेहतर प्रदर्शन करने का दबाव बनाता है इसलिए ध्यान बहुत कम विषयों

2 अवलोकन के माध्यम से एकत्र किया गया डेटा अक्सर अविश्वसनीय होता है।

Question ID : 71939920175

1 शिक्षक, अपने साथियों के साथ एक अवलोकन के बाद की चर्चा में हैं, जो केवल यह कह रहे हैं कि वी नहीं थी जितनी उन्होंने अपेक्षा की थी। वह अपने साथियों से रचनात्मक प्रतिक्रिया प्राप्त 2 कह सकता है?

1 न सी एक क्रिया है जो आपने मुझे करते देखा, या करने में असफल रहा, जिसने आपकी अपेक्षा के 'को 'उतना प्रभावी नहीं' बनाया?

2 मरे में हर कोई आपकी आलोचना करने लगे तो आपको कैसा लगेगा? बस मेरी बारी का इंतज़ार करो!

3 आप सब मेरी आलोचना करना बंद कर सकते हैं और देख सकते हैं कि आप सभी कैसे सिखाते हैं? क्या आपके छात्र आपके पीछे क्या कहते हैं?

4 च्चों को पढ़ाने के लिए एक रचनात्मक और परिवर्तनात्मक तरीके का उपयोग करने में आपकी समस्या

Question ID : 71939920178

वेकास के साथ-साथ अमूर्त विचार में _____ योगदान देता है।

1

भिन्न गतिविधियों के माध्यम से व्यक्तिगत बच्चों की सीखने और भावनात्मक जरूरतों को पूरा करता है।

क कार्यक्रम है जो अप्रत्यक्ष रूप से आत्म नियंत्रण को बढ़ावा देता है और इस तरह से बातचीत के आंतरिक अनुशासन बढ़ता है।

इने, लिखने और संख्या के काम के विकास की नींव रखता है।

नने के लिए परीक्षण आयोजित करने का कार्यक्रम है कि बच्चे कैसे सीख रहे हैं और विकसित हो रहे हैं।

Question ID : 71939920172

विधियों के लिए इनमें से कौन सी एक आदर्श सामग्री है?

र का खिलौना

ार में पत्थर

ालाब में बतख का तैरना

पर चार्ट की संख्या

Question ID : 71939920171

न देखभाल और शिक्षा केंद्र में खेलने के उपकरण और सामग्री की पर्याप्त और विविध आपूर्ति

पिता और समुदाय द्वारा दान दिया गया

मात्मक और आयु अनुरूप हो

में आसानी से उपलब्ध हो

और किफायती

TEACHERS

Question ID : 71939920174

न में भाग लेकर कक्षा प्रबंधन से संघर्ष करने वाला शिक्षक अपने कौशल में कैसे सुधार कर

क्षा की प्रगति में बाधा डालने के अवसर का उपयोग कर सकता है और यह दिखा सकता है कि वह है जो कक्षा प्रबंधन के साथ संघर्ष करता है।

क्षा प्रबंधन को बेहतर तरीके से संभालने के लिए इंटरनेट पर तरीकों को खोजने के लिए समय का है।

क सुरक्षित और समावेशी सीखने के माहौल में एक सहकर्मी का निरीक्षण कर सकता है और समझ में व्यवहार की समस्याओं, साथ ही अवसरों को कैसे संभालना है।

को बेहतर ढंग से प्रबंधित करने में मदद करने के लिए वह सीधे प्रधान अध्यापक को एक सह-शिक्षक नेए कह सकता है।

Question ID : 71939920177

न के दौरान पर्यवेक्षक शिक्षकों को क्या सावधानी बरतनी चाहिए?

पेक दृष्टिकोण के लिए खुले रहें।

क्षित शिक्षक आपकी राय में अच्छा काम नहीं कर रहा है तो विषय को स्वयं पढ़ाने का प्रस्ताव दें।

ी आपका प्रश्न हो, तब कक्षा को रोकना।

ए पदार्थ जिसे फेंकने की आवश्यकता है

रिसी (इनडोर) अध्ययन सामग्री

गोनीकरण सामग्री

खेल की सामग्री

Question ID : 71939920170

च्चों द्वारा प्रदर्शित भाषण विकास में कौन सी महत्वपूर्ण स्थिति हैं?

ज्ञाना, अर्थात्, अक्षरों की तरह बोली की दोहराए गई श्रृंखला

; भाषण ध्वनि उत्पादन

गइम) और शब्दों में तुकबंदी और ध्वनियों के बारे में जागरूकता

म्य बोली

Question ID : 71939920160

र बच्चे को उसकी पूरी क्षमता तक पहुँचने का अवसर प्रदान करके अच्छी तरह से विकसित

आय

पूंजी

ते

गे उत्पादकता

TEACHERS

Question ID : 71939920163

गेर) खेल गतिविधियों के लिए इनमें से कौन सी आदर्श सामग्री नहीं है?

ों की माला

कप

adda247

Question ID : 71939920169

कल्पनाशील खेल या नाटकीय खेल की सामग्री के लिए एक आदर्श सामग्री नहीं है?

पेट

र

चश्मे की फ्रेम

तली

Question ID : 71939920173

केयर का एक बुनियादी पहलू यह है कि शिशुओं और बच्चों को _____ की आवश्यकता होती

Question ID : 71939920162

5 बच्चों को पता लगाने, स्पर्श करने, स्वाद लेने, सूंघने और पर्यावरण के लिए प्रतिक्रिया देने के श्यकता होती है?

8 महीने

ने से 6 महीने

से 3 महीने

2 महीने

Question ID : 71939920167

जैसे नियमित रूप से बाहर रखा जाता है, छोड़ा जाता है, या एक ही उम्र या बड़े साथियों द्वारा तंग ह विकसित कर सकता है:

आत्मविश्वास

गुता तंत्र

आत्म सम्मान

आत्म सम्मान

Question ID : 71939920188

से कौन सा पाठ की प्रकृति को प्रभावित कर सकता है, जिससे पाठ शिक्षक की सीखने की अनभिज्ञ हो सकता है?

में एक शिक्षक की उपस्थिति

में भाग लेने वाले छात्रों की संख्या

न वह समय जब कक्षा आयोजित की जा रही हो

और पर्यवेक्षक शिक्षक की सापेक्ष वरिष्ठता

Question ID : 71939920181

ले प्रारंभिक बाल्यावस्था कार्यक्रमों और सेवाओं की पहचान करने के लिए समावेशी की जो गताओं का उपयोग किया जा सकता है, वह है:

त और इनाम

तौर अलगाव

भागीदारी और समर्थन

, विसर्जित और आत्मसात

Question ID : 71939920192

वहारिक सीखने के सिद्धांत का प्रस्ताव दिया।

Question ID : 71939920187

व्यक्तिगत विकास की पहली अवस्था के अनुसार:

परिकल्पना बनाकर तर्क कर सकता है

कल और खेल के माध्यम से सीखते हैं

सामान्य गुणों के अनुसार वस्तुओं को वर्गीकृत करने के लिए छोड़ देता है

सजगता और हाथ-आँख समन्वय विकसित करना शुरू करता है

Question ID : 71939920182

केयर एंड एजुकेशन (ECCE) कक्षा की व्यवस्था _____ होनी चाहिए, ताकि इसे पाठ गतिविधियों के लिए समायोजित किया जा सके, जैसे कि गाने, कहानी सुनाने के लिए बड़े समूह गतिविधियों के लिए छोटे समूह।

II

वर्तनशील

Question ID : 71939920196

_____ जन्म के समय शुरू होता है और यह किसी के लिंग के अनुसार सामाजिक-सांस्कृतिक की प्रक्रिया है।

जेक भेदभाव

समाजीकरण

जेक विभाजन

संवेदीकरण

TEACHERS

adda247

Question ID : 71939920191

सूच करते हैं कि पर्यवेक्षक शिक्षक अवलोकन की अपनी प्रतिक्रिया के साथ पूरी तरह से ईमानदार तो:

समक प्रतिक्रिया साझा करने से प्रेक्षित शिक्षक को विद्यालय में बेहतर समझ प्राप्त करने में मदद मिलेगी।

ह फीडबैक पर काम करता है तो प्रेक्षित शिक्षक उनसे आगे निकल जाएगा।

टिप्पणी एक सहयोगी के साथ उनके संबंध को नुकसान पहुंचा सकती है।

टिप्पणी से एक सहयोगी को अपने शिक्षण में सुधार करने में मदद मिल सकती है।

Question ID : 71939920180

_____ की विशेष शिक्षा आवश्यकताओं का _____ उन्हें बाद के जीवन में चुनौतियों का सामना करने के लिए महत्वपूर्ण है।

न

कन

कार्य के परीक्षणों पर अधिक खराब स्कोर करते हैं
मोटर विकास है
स्तर कम होता है
गण में अधिक बार बातचीत करते हैं
प्रकार कौशल हासिल करते हैं

2, 3 और 5

1, 2 और 4

1, 2 और 3

2, 3 और 4

Question ID : 71939920193

प्रकार, बच्चे एक "सामाजिक मुस्कान," दूसरों के लिए पहली सामाजिक प्रतिक्रिया देते हैं।

आह

आह

ने

ने

Question ID : 71939920185

इल्डहुड केयर एंड एजुकेशन (ECCE) शिक्षकों और देखभालकर्ता (केयरगिवर) को निम्न के
किया जाता है:

1. रूप से लैंगिक पूर्वाग्रह को कक्षा से बाहर रखना

में लैंगिक पूर्वाग्रह को सक्रिय रूप से बढ़ावा देना

में लैंगिक पूर्वाग्रह को अनदेखा करना

में लैंगिक पूर्वाग्रह को सहन करना

TEACHERS

adda247

Question ID : 71939920190

अर्थ है मानसिक प्रक्रियाएँ अर्थात् सीखना, याद रखना, विचार करना और समस्या का हल

कन

ति

नन

ण

Question ID : 71939920184

से कौन प्रस्तावित करता है कि बच्चे अपनी स्मृति में सूचना और ज्ञान को तीन अलग-अलग
बिंबित विधियों जैसे क्रिया-आधारित, छवि आधारित और भाषा/प्रतीक आधारित में प्रस्तुत

इन्फेनब्रेनर

डरगार्टन) की शिक्षाशास्त्र पुस्तक के लेखक कौन हैं?

1 मांटेसरी

111 आई बडेखा

क अगस्त प्रोबेल

111 जे

Question ID : 71939920197

चेतन और निर्जीव सभी बाहरी भौतिक परिवेश होते हैं जिन्हें भोजन, वस्त्र और आश्रय प्रदान फेर करना पड़ता है।

ज्ञानिक वातावरण

जेक वातावरण

तिक वातावरण

111 वातावरण

Question ID : 71939920194

के मनोसामाजिक विकास के चरणों के अनुसार, चरण के सफल समापन पर पूर्व-किशोरावस्था कौन से बुनियादी गुण प्राप्त किए जाते हैं?

तता

तता

TEACHERS

Question ID : 71939920183

सह-शिक्षक या पर्यवेक्षक द्वारा अवलोकन किए जा रहे हैं, तो ध्यान अक्सर निम्न पर होगा:

में कौन शोर मचा रहा था।

में उपस्थित अन्य शिक्षकों के साथ बच्चों ने किस तरह से प्रतिक्रिया व्यक्त की।

पाठ के विभिन्न पहलुओं को कितनी अच्छी तरह से किया है।

बच्चे उठे और कक्षा के दौरान बाथरूम जाने का ब्रेक मांगा।

Question ID : 71939920179

वश्यकताओं वाले बच्चे के _____ के क्षेत्रों की पहचान करना महत्वपूर्ण है, और उन पर लिए साधन प्रदान करना है।

ता

श

त

Question ID : 71939920198

ई "एक कक्षा का समूहीकरण है जिसमें विभिन्न आयु और पहचाने गए आयु स्तरों के छात्रों को ज्ञान करने के उद्देश्य से एक ही कक्षा में एक साथ रखा जाता है।"

आयु समूह

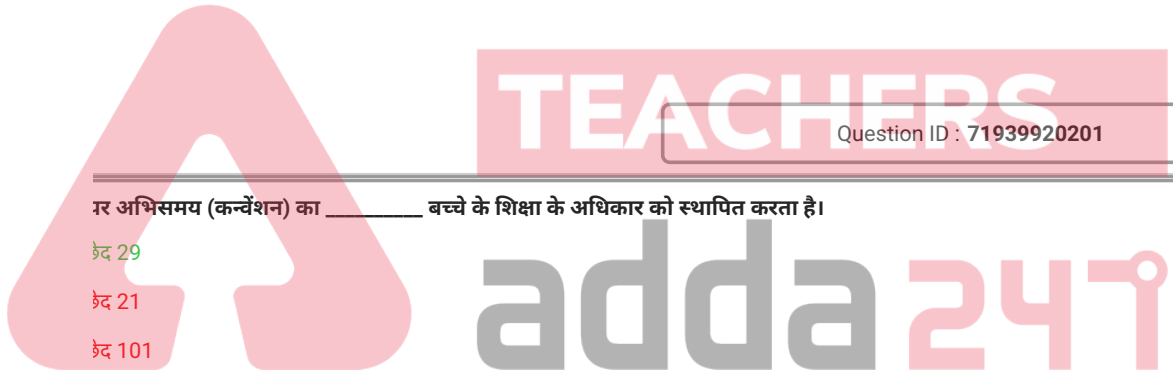
जेक शिक्षा

पी कक्षा

शी कक्षा

Question ID : 71939920202

केयर एंड एजुकेशन (ECCE) कार्यक्रम की अवधि होनी चाहिए:



Question ID : 71939920201

एर अभिसमय (कन्वेंशन) का _____ बच्चे के शिक्षा के अधिकार को स्थापित करता है।

अंद 29

अंद 21

अंद 101

अंद 3

Question ID : 71939920209

को एक उच्च स्तर की जिज्ञासा है, अच्छी तरह से विकसित कल्पना है, और अधिकतम जानकारी है और बनाए रख सकता है, वह:

आशाली बच्चे

य बच्चा

आंग बच्चा

द्वे बालक

Question ID : 71939920205

Question ID : 71939920204

कास योजना (ICDS) _____ और 6 वर्ष से कम उम्र के छोटे बच्चों को सेवा प्रदान करते है।

आवश्यकता वाले बच्चे

रें

और BPL परिवारों के बच्चे और महिलाएं

ी महिलाओं, माताओं

Question ID : 71939920216

पिता उचित और पोषण करते हैं, और उच्च, स्पष्ट अपेक्षाएं निर्धारित करते हैं।

कारिक

त

दी

ई

Question ID : 71939920217

की कलाकृति और परियोजनाओं का प्रदर्शन निम्नलिखित सभी कार्य करता है, सिवाय:

पिता भी अपने बच्चों पर गर्व महसूस करते हैं और विद्यालय की गतिविधियों में अधिक सक्रिय रुचि लेते

के बीच सीखने को पुष्ट करता है।

के आत्म-सम्मान को बढ़ावा देता है क्योंकि उन्हें लगता है कि उनके काम को महत्व दिया गया है।

रह की सामग्री की बिक्री विद्यालय के लिए आवश्यक धन कमा सकती है।

Question ID : 71939920213

से किसने देखा कि बच्चे सामाजिक और सांस्कृतिक अनुभवों में सक्रिय रूप से लगे हुए हैं और
गस की प्रक्रिया में बच्चों और अधिक अनुभवी अन्य लोगों के बीच सक्रिय बातचीत होती है?

ब्रूनर

ाइगोत्सकी

न्फेनब्रेनर

उजे

Question ID : 71939920212

म शैली में संचार अवसर होता है और बच्चे की समझ के स्तर के लिए उपयुक्त है, अपेक्षाएं और
किन स्पष्ट रूप से कहा गया है?

त

दी

ई

पाठ्यचर्या

पाठ्यचर्या

क्ष पाठ्यचर्या

ःल पाठ्यचर्या

Question ID : 71939920199

ज्ञ वातावरण के लिए प्रासंगिक स्थानीय और पारिवारिक संस्कृति लाने में मदद करता है, जो छोटे देखभाल की सेटिंग में परिवर्तनकाल में मदद करता है।

पिता को शामिल करना

जेक स्व-सहायता समूहों के साथ काम करना

अधिक कार्यकर्ताओं के साथ काम करना

य नेताओं को शामिल करना

Question ID : 71939920211

1 विकलांग छात्र यह सभी है, सिवाय:

1 अवधारणाओं को समझने में सक्षम है

2 म सहिष्णुता स्तर और एक उच्च निराशा स्तर है

3 नी से विचलित होता है

4 श्रवण स्मृति है - अल्पावधि और दीर्घावधि दोनों

TEACHERS

Question ID : 71939920208

ताओं वाले बच्चों के लिए इनमें से कौन सी उपयुक्त शिक्षण रणनीति नहीं है?

1 स्तुओं और घटनाओं को प्रदान करना

2 नियम और अवधारणाएं सिखाना

3 क निर्देश देना

4 सारी विशिष्ट प्रशंसा देना

adda247

Question ID : 71939920207

केयर एंड एजुकेशन (ECCE) कार्यक्रम की सिफारिश है कि माता-पिता को:

1. गारिक सीखने को प्रोत्साहित करना

2. शिक्षकों और देखभालकर्ता (केयरगिवर) के साथ उनके विकास को साझा करना और उनकी योजना

3. खोज और प्रयोग को हतोत्साहित करें

4. को प्रतियोगिता के लिए प्रेरित करना

Question ID : 71939920218

✗ 4. फैटम पाठ्यचर्या

Question ID : 71939920200

Q.17 _____ डायने बुमिंड द्वारा पहचानी जाने वाली परवरिश शैलियों में से एक है।

- Ans
- ✗ 1. दिशात्मक
 - ✓ 2. सत्तावादी
 - ✗ 3. सभ्य
 - ✗ 4. एकतंत्रीय

Question ID : 71939920210

Q.18 _____ का उद्देश्य बच्चों और उनके परिवारों को कार्यक्रम प्रदान करने वाले वयस्कों को बच्चों के सीखने और विकास के बारे में उपयोगी जानकारी देना है।

- Ans
- ✗ 1. शिक्षा
 - ✓ 2. आकलन
 - ✗ 3. पाठ्यचर्या
 - ✗ 4. सर्किल टाइम

Question ID : 71939920203

Q.19 बाल अधिकारों पर अभिसमय (कन्वेंशन) का अनुच्छेद 18 बताता है कि राज्यों को यह सुनिश्चित करने के लिए सभी उचित उपाय करने चाहिए कि बच्चे:

- Ans
- ✗ 1. गरीबी रेखा से नीचे के लोगों को मुफ्त भोजन या भोजन कूपन मिलता है।
 - ✗ 2. बच्चों को विद्यालय में मध्याह्न भोजन मिलता है।
 - ✗ 3. अल्पसंख्यक समुदायों को पर्याप्त देखभाल और सीखने के अवसर प्राप्त होते हैं।
 - ✓ 4. कामकाजी माता-पिता को बाल देखभाल सेवाओं और सुविधाओं से लाभ पाने का अधिकार है, जिसके लिए वे पात्र हैं।

Question ID : 71939920215

Q.20 ध्यानाभाव एवं अतिसक्रियता विकार (ADHD) बच्चा:

- Ans
- ✗ 1. अक्सर एक स्वतंत्र शिक्षार्थी होता है।
 - ✗ 2. विस्तारित समय के लिए किसी समस्या या मुद्दे पर ध्यान केंद्रित करने की क्षमता है।
 - ✗ 3. जटिल अवधारणाओं को समझने में सक्षम है।
 - ✓ 4. स्थिर बैठने में कठिनाई है, ध्यान देना और कक्षा के कार्य पर ध्यान केंद्रित करना।

Question ID : 71939920206