

DSSSB SEP 2018

Participant ID:	
Participant Name:	
Test Center Name:	
Test Date:	29/09/2018
Test Time:	4:30 PM - 6:30 PM
Subject:	DRAWING TEACHER

Section : Mental Ability

Q.1 जिस तरह से अपव्यय से उड़ाना संबंधित है उसी तरह से भगाना किससे संबंधित है?

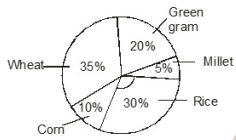
Question ID : 16794317556

- Ans**
- 1. त्रुटि/दोष
 - 2. अपहरण
 - 3. भ्रम
 - 4. आबंटन

Q.2 The following pie diagram shows information about the crop cultivation for the pulses & grains in "XYZ" state for the year of 2015-2016. Read the information and answer the questions.

Question ID : 16794317561

The total crop produced in "XYZ" state is 23,428 tonnes



How much crop of corn was cultivated in 'XYZ' during 2015-16?

- Ans**
- 1. 2361.8 tonnes
 - 2. 1171.4 tonnes
 - 3. 572.4 tonnes
 - 4. 2342.8 tonnes

TEACHERS
adda247

Q.3 श्रृंखला में समान चित्र चुनें।

Question ID : 16794317557

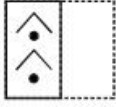
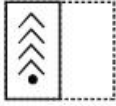
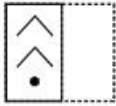
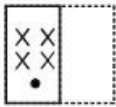


- Ans**
- 1.
 - 2.
 - 3.
 - 4.

Q.4 जब इस पारदर्शी शीट को बिन्दुकित रेखा पर मोड़ा जाता है जो कैसी आकृति दिखाई देगी?

Question ID : 16794317565



- Ans
1. 
 2. 
 3. 
 4. 

Q.5 यदि 'When' का अर्थ है 'x', 'you' का अर्थ है '+', 'come', का अर्थ है '-', and 'will' का अर्थ है '+', तो 7 when 4 will 15 you 3 come 2 का मान क्या होगा?

Question ID : 16794317569

- Ans
1. 31
 2. 43
 3. 35
 4. 30

Q.6 नायडु फिटनेस क्लब निम्नलिखित किसी भी श्रेणी से संबंधित व्यक्तियों को मासिक शुल्क में 30% छूट देता है:

Question ID : 16794317563

- (i) 19 से 26 वर्ष के आयु समूह के कॉलेज छात्र
- (ii) 25 से 40 वर्ष के आयु समूह के बेरोजगार युवक
- (iii) 50 वर्ष या इससे अधिक आयु के वरिष्ठ नागरिक
- (iv) पुलिस / रक्षा बलों के सैनिक / भूतपूर्व सैनिक
- (v) फिटनेस क्लब के दानदाताओं / संस्थापकों के पुत्र और पुत्रियां

पृथ्वी एक भूतपूर्व सैनिक हैं। वे ₹ 1200 के मासिक पैकेज पर नायडु फिटनेस क्लब में शामिल होना चाहते हैं। उन्हें रुपये में कितनी कितनी रियायत मिलती है?

- Ans
1. 180/-
 2. 72/-
 3. 100/-
 4. 360/-

TEACHERS
adda247

Q.7 दो व्यक्तियों की उम्र के बीच अंतर 8 वर्ष है। बारह वर्ष पहले, बड़े व्यक्ति की आयु छोटे व्यक्ति की आयु की दुगुनी थी। बड़े व्यक्ति की वर्तमान आयु कितनी है?

Question ID : 16794317571

- Ans
1. 28 वर्ष
 2. 30 वर्ष
 3. 35 वर्ष
 4. 24 वर्ष

Q.8 चमेरी के फूल में हमेशा होता है - कथन के लिए उपयुक्त सर्वोत्तम विकल्प की पहचान करें।

Question ID : 16794317566

- Ans
1. जड़
 2. सुगंध
 3. पानी की बूंदें
 4. सींग

Q.9 एक कॉलेज छात्र ने प्रवेश परीक्षा देते समय सही किए गए सवालों का चार गुना सवाल गलत किए। यदि उसने कुल 100 सवाल किए तो उसने कितने सवाल सही किए?

Question ID : 16794317570

- Ans
1. 20
 2. 50
 3. 30
 4. 25

Q.10 निम्नलिखित श्रृंखला में अगला पद क्या होगा?

Question ID : 16794317575

KR, NQ, QP, TO, ?

- Ans
- 1. ZC
 - 2. PG
 - 3. XE
 - 4. WN

Q.11 आपके दोस्त ने अपने जन्मदिन की पार्टी के लिए आपको आमंत्रित नहीं किया है। सर्वोत्तम प्रत्युत्तर क्या होगा?

Question ID : 16794317564

- Ans
- 1. उसकी अनदेखी करना
 - 2. पार्टी में शामिल होना
 - 3. पार्टी में आमंत्रित न करने के लिए उसे डांटना
 - 4. उसे शुभ कामनाएं भेजना

Q.12 शब्दों की विषम जोड़ी ज्ञात करें।

Question ID : 16794317572

- Ans
- 1. उधार देना : उधार लेना
 - 2. बनाना : नष्ट करना
 - 3. आक्रमण : सूचना
 - 4. लाभ : हानि

Q.13 निम्नलिखित श्रृंखला में अगला पद क्या होगा?

Question ID : 16794317574

25, 115, 215, 325, ?

- Ans
- 1. 445
 - 2. 370
 - 3. 450
 - 4. 510

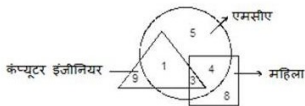
Q.14 संख्याओं की विषम जोड़ी ज्ञात करें।

Question ID : 16794317573

- Ans
- 1. 8,9 : 65
 - 2. 11,13 : 143
 - 3. 19,12 : 228
 - 4. 17,13 : 221

Q.15 निम्नलिखित को ध्यानपूर्वक पढ़ें और दिए गए प्रश्नों के उत्तर दें।

Question ID : 16794317567



कौन-सा क्षेत्र उन लोगों से संबंधित है जो कंप्यूटर इंजीनियर हैं लेकिन न तो एमसीए किया है और न ही महिलाएं हैं?

- Ans
- 1. 9
 - 2. 4
 - 3. 1
 - 4. 2

Q.16 सारथी, शरद की बहन है। सारथी के पिता की बहन का बेटा शरद से कैसे संबंधित है?

Question ID : 16794317568

- Ans
- 1. भाई

- 2. पिता
- 3. चचेरा / ममेरा भाई
- 4. चाचा

Q.17 श्रृंखला में अगला चित्र चुनें।

Question ID : 16794317558

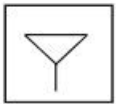
$\frac{M}{W}$	$\frac{P}{b}$	$\frac{L}{\Gamma}$?
---------------	---------------	--------------------	---

Ans

1. $\frac{T}{T}$
2. $\frac{Q}{Q}$
3. $\frac{U}{U}$
4. $\frac{N}{N}$

Q.18 विकल्पों से नीचे दिया गया सन्नहित चित्र ज्ञात करें।

Question ID : 16794317562



Ans

1.
2.
3.
4.

Q.19 श्रृंखला में अगला चित्र चुनें।

Question ID : 16794317560

A	D	B	E	C	D	D	G
J	G	K	H	F	E	M	J
A	B	C	D				

Ans

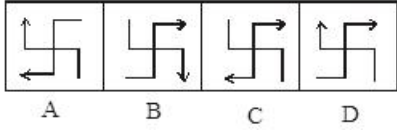
1. C
2. D

✗ 3. A

✗ 4. B

Q.20 श्रृंखला में विषम चित्र चुनें।

Question ID : 16794317559



Ans ✓ 1. C

✗ 2. B

✗ 3. A

✗ 4. D

Section : General Awareness

Q.1 आर्थिक सहयोग और विकास संगठन (ओईसीडी) का मुख्यालय कहां है?

Question ID : 16794317592

Ans ✗ 1. विएना

✓ 2. पेरिस

✗ 3. ब्रसेल्स

✗ 4. जेनेवा

Q.2 बौद्धों के प्रार्थना कक्ष को क्या कहते हैं?

Question ID : 16794317577

Ans ✗ 1. विहार

✗ 2. गुफां

✓ 3. चैत्या

✗ 4. स्तूप

TEACHERS
adda247

Q.3 "करीयाला" किस राज्य का सबसे दिलचस्प और लोकप्रिय लोक नाटक है?

Question ID : 16794317588

Ans ✗ 1. तमिलनाडू

✗ 2. हरियाणा

✓ 3. हिमाचल प्रदेश

✗ 4. केरला

Q.4 23 जुलाई 2018 को, 'सुकन्या समृद्धि योजना' खाते के लिए वार्षिक न्यूनतम जमा राशि को ₹ _____ की पूर्व राशि से घटाकर ₹ 250 कर दिया गया है।

Question ID : 16794317585

Ans ✗ 1. 500

✗ 2. 600

✓ 3. 1,000

✗ 4. 750

Q.5 सुदर्शन झील, एक कृत्रिम जलाशय, जूनागढ़ (गुजरात) में बाढ़ की जांच के लिए _____ समारोहों द्वारा बनाया गया था।

Question ID : 16794317578

Ans ✗ 1. गुप्ता

✗ 2. कुषाण

✓ 3. मौर्य

✗ 4. सातवाहन

Q.6

Question ID : 16794317578

यामिनी कृष्णमूर्ति किस नृत्य से सम्बंधित हैं?

- Ans
- 1. मणिपुरी और कथकली
 - 2. भरतनाट्यम और कुचीपुडी
 - 3. कुचीपुडी और मोहिनीट्टम
 - 4. कथक और भरतनाट्यम

Q.7 'फोरिट' किस देश की मुद्रा है?

Question ID : 16794317579

- Ans
- 1. बुल्गारिया
 - 2. बेल्जियम
 - 3. हंगरी
 - 4. मेक्सिको

Q.8 पहला दक्षिण एशियाई संघ क्षेत्रीय सहयोग (सार्क) कृषि सहकारी व्यापार फोरम के लिए _____ में आयोजित किया गया था।

Question ID : 16794317594

- Ans
- 1. काठमांडू
 - 2. नई दिल्ली
 - 3. ढाका
 - 4. कोलंबो

Q.9 निम्नलिखित में से कौन एक प्रसिद्ध 'तबला वादक' है?

Question ID : 16794317586

- Ans
- 1. अलाउद्दीन खान
 - 2. शाहिद परवेज़
 - 3. शिव कुमार शर्मा
 - 4. अल्लाह रखा खान

TEACHERS
adda247

Q.10 झारखंड राज्य कब गठित हुआ?

Question ID : 16794317583

- Ans
- 1. 20 नवंबर, 2000
 - 2. 15 नवंबर, 2000
 - 3. 8 नवंबर, 2000
 - 4. 1 नवंबर, 2000

Q.11 गंगा नदी को साफ करने के प्रयास में उत्तराखंड में सीवेज जल उपचार बुनियादी ढांचे को मजबूत करने के लिए किस देश ने 120 मिलियन यूरो (लगभग 990 करोड़ रुपये) का नरम ऋण प्रदान करने की घोषणा की है?

Question ID : 16794317593

- Ans
- 1. फ्रांस
 - 2. इंग्लैंड
 - 3. जर्मनी
 - 4. रूस

Q.12 पूर्व वैदिक लोगों द्वारा मवेशियों के देवता के रूप में किस की पूजा की जाती थी?

Question ID : 16794317576

- Ans
- 1. इंद्र
 - 2. पूषण
 - 3. वरुण
 - 4. पशुपति

Q.13 आइसोटोप एक समान _____ लेकिन अलग _____ के साथ वाला तत्व हैं।

Question ID : 16794317591

- Ans
- 1. अणु भार ; परमाणु क्रमांक
 - 2. परमाणु भार ; संयोजकता
 - 3. परमाणु क्रमांक ; परमाणु भार
 - 4. परमाणु भार ; परमाणु क्रमांक

Q.14 निम्नलिखित में से कौन सा 'गैसीय (जोवियन) ग्रह' नहीं है?

Question ID : 16794317580

- Ans
- 1. युरेनस
 - 2. शनि
 - 3. पृथ्वी
 - 4. बृहस्पति

Q.15 सुप्रीम से परामर्श करने के लिए भारतीय राष्ट्रपति की शक्ति किस अनुच्छेद के तहत अधिकृत है?

Question ID : 16794317582

- Ans
- 1. अनुच्छेद 123
 - 2. अनुच्छेद 151
 - 3. अनुच्छेद 143
 - 4. अनुच्छेद 131

Q.16 भारत इंडोनेशिया में 2018 जकार्ता पालम्बांग एशियाई खेलों में पुरुषों की 'सेपक टाकरो' (किक वॉलीबॉल) स्पर्धा में _____ स्थान पर आया।

Question ID : 16794317590

- Ans
- 1. चौथे
 - 2. तीसरे
 - 3. दूसरे
 - 4. पहले

Q.17 इंडियन स्पेस रिसर्च ऑर्गेनाइजेशन (इसरो) ने अपने पहले स्वदेशी मानव अंतरिक्ष मिशन 'गगनयान' के विवरण का अनावरण किया जिसे _____ में लॉन्च किया जाएगा।

Question ID : 16794317595

- Ans
- 1. 2021
 - 2. 2022
 - 3. 2024
 - 4. 2025

Q.18 भारतीय संविधान का भाग XIX _____ से संबंधित है।

Question ID : 16794317581

- Ans
- 1. चुनाव
 - 2. राज्यों
 - 3. आधिकारिक भाषायें
 - 4. विविध

Q.19 2018 एशियाई खेलों में भारत ने कितने स्वर्ण पदक जीते थे?

Question ID : 16794317589

- Ans
- 1. 12
 - 2. 14
 - 3. 18
 - 4. 15

Q.20 "साथ बढ़ने के लिए अच्छे लोग" कौन से बैंक की पंच लाइन है?

Question ID : 16794317584

- Ans
- 1. आईसीआईसीआई बैंक
 - 2. यूनियन बैंक ऑफ इंडिया
 - 3. सिंडिकेट बैंक
 - 4. इंडियन ओवरसीज बैंक

Section : Arithmetic Ability

Q.1 9 पुरुष या 5 महिलाएं एक काम को 57 घंटों में कर सकती हैं। 6 महिलाएं और 12 पुरुष उसी काम को कितने घंटों में पूरा करेंगे?

Question ID : 16794317611

- Ans
- 1. $\frac{49}{2}$
 - 2. $\frac{43}{2}$
 - 3. $\frac{47}{2}$
 - 4. $\frac{45}{2}$

Q.2 वह सबसे छोटी संख्या कौन सी है जिसे 26, 56 और 104 से विभाजित करने पर प्रत्येक स्थिति में शेषफल 5 प्राप्त होता है और 11 से विभाज्य है?

Question ID : 16794317598

- Ans
- 1. 2178
 - 2. 2189
 - 3. 1782
 - 4. 1584

Q.3 A, B और C अकेले किसी काम को क्रमशः 15, 20 और 30 दिन में पूरा कर सकते हैं। उन्होंने एक साथ काम शुरू किया लेकिन 3 दिन के बाद A ने काम छोड़ दिया और B ने काम शुरू होने के 4 दिन बाद काम छोड़ दिया। काम कितने दिन में पूरा हो जाएगा?

Question ID : 16794317612

- Ans
- 1. 22
 - 2. 25
 - 3. 21
 - 4. 18

Q.4 दो पात्र A और B में क्रमशः 5 : 7 और 1 : 3 के अनुपात में स्पिरिट और पानी है। उनकी सामग्रियों को 6 : 5 के अनुपात में मिश्रित किया जाता है। स्पिरिट और पानी के अनुपात को 3 : 7 के रूप में बनाने के लिए इस मिश्रण के 440 मिलीलीटर में, कितना पानी मिलाना होगा?

Question ID : 16794317601

- Ans
- 1. 65 मिलीलीटर
 - 2. 60 मिलीलीटर
 - 3. 70 मिलीलीटर
 - 4. 75 मिलीलीटर

Q.5 सबसे बड़ी चार अंकों की संख्या के अंकों का योग क्या है जिसे 14, 25, 35 और 40 द्वारा विभाजित करने पर क्रमशः 8, 19, 29 और 34 शेषफल के रूप में प्राप्त होता है?

Question ID : 16794317599

- Ans
- 1. 22
 - 2. 28
 - 3. 26
 - 4. 17

Q.6 यदि व्याज छमाही आधार पर चक्रवृद्धित 8% प्रति वर्ष है तो 16 महीने के लिए ₹ 12000 का व्याज क्या होगा?

Question ID : 16794317606

- Ans
- 1. ₹ 1325
 - 2. ₹ 1312

✗ 3. ₹ 1286

✗ 4. ₹ 1320

Q.7 एक वस्तु की अंकित कीमत ₹ 2070 है। दुकानदार 12% की छूट देता है और 10% लाभ प्राप्त करता है। यदि वह उसे अंकित मूल्य पर बेचता है, तो उसका लाभ प्रतिशत कितना है?

Question ID : 16794317602

Ans ✗ 1. 22%

✗ 2. 20%

✓ 3. 25%

✗ 4. 28%

Q.8 एक समचतुर्भुज की परिधि 80 सेंमी है। यदि इसका एक विकर्ण 32 सेंमी है, तो समचतुर्भुज का क्षेत्रफल कितना है?

Question ID : 16794317607

Ans ✗ 1. 320 सेंमी²

✗ 2. 768 सेंमी²

✗ 3. 360 सेंमी²

✓ 4. 384 सेंमी²

Q.9 चीनी की कीमत में 40% की वृद्धि हुई है। किसी व्यक्ति को अपनी खपत कितने प्रतिशत तक कम करनी चाहिए ताकि उसका व्यय केवल 10% बढ़े?

Question ID : 16794317604

Ans ✗ 1. $\frac{155}{7}\%$

✗ 2. $\frac{160}{7}\%$

✗ 3. 30%

✓ 4. $\frac{150}{7}\%$

Q.10
$$\left(\frac{2}{7}\right)^2 \div \left[\left(1\frac{1}{3} - \frac{5^2 - (-1)}{21}\right) \times 3\sqrt{8}\right]$$

$$\frac{4}{7} - \left(\frac{1}{2} \times \frac{2}{7}\right) + \left(\frac{5}{28} \div \frac{5}{6}\right)$$

Question ID : 16794317597

का मान इसके बराबर है:

Ans ✗ 1. $\frac{5}{9}$

✗ 2. $\frac{28}{45}$

✓ 3. $\frac{2}{3}$

✗ 4. $\frac{4}{35}$

Q.11 स्थिर पानी में एक नाव की गति 20 किमी/घंटा है। यह 3 घंटे 12 मिनट में 30 किमी अपस्ट्रीम जा सकती है और डाउनस्ट्रीम में मूल स्थान पर लौटा सकती है, धारा की गति किमी/घंटा में क्या है?

Question ID : 16794317610

Ans ✗ 1. 4.5

✓ 2. 5

✗ 3. 5.5

✗ 4. 4

Q.12
$$\frac{62 \times 62}{29 \times 33} - \frac{29 \times 29}{62 \times 33} - \frac{33 \times 33}{62 \times 29}$$
 का मान इसके बराबर है:

Question ID : 16794317596

Ans ✗ 1. 0

✗ 2. 2

✗ 3. 1

✓ 4. 3

Q.13 एक दुकानदार के पास 400 किलोग्राम चीनी है। इसका एक हिस्सा वह 8% लाभ पर बेचता है और बाकी 18% लाभ पर बेचता है। अगर वह समग्र रूप में 14% लाभ कमाता है, तो उसने 8% लाभ पर कितनी चीनी बेची?

Question ID : 16794317603

- Ans
- 1. 170 किलोग्राम
 - 2. 150 किलोग्राम
 - 3. 180 किलोग्राम
 - 4. 160 किलोग्राम

Q.14 मान लें $a : b = 1 : 3$, $b : c = 5 : 7$ और $c : d = 6 : 5$ । यदि $a : b : c : d$ के अनुपात में प्रत्येक पूर्ण संख्याओं का योग x है, तो x का न्यूनतम मान क्या है?

Question ID : 16794317600

- Ans
- 1. 124
 - 2. 136
 - 3. 112
 - 4. 117

Q.15 225 मी. लंबी एक ट्रेन को समानांतर पटरियों पर चलने वाली विपरीत दिशा से आने वाली 150 मी. लंबी दूसरी ट्रेन को पार करने में 15 सेकंड लगाता है। यदि पहली ट्रेन की गति 40 किमी/घंटा है, तो दूसरी ट्रेन की गति किमी/घंटा में कितनी है?

Question ID : 16794317609

- Ans
- 1. 45
 - 2. 48
 - 3. 50
 - 4. 44

Q.16 15 सेंमी ऊंचाई और 2.25 सेंमी आधार त्रिज्या वाले एक गोलाकार सिलेंडर को, 1.5 सेंमी व्यास और 0.2 सेंमी की मोटाई के गोलाकार सिक्के बनाने के लिए पिघलाया जाता है। इस तरह से कितने सिक्के बनाए जा सकते हैं?

Question ID : 16794317608

- Ans
- 1. 1150
 - 2. 575
 - 3. 675
 - 4. 1350

Q.17 एक व्यक्ति 3 साल के लिए 12% साधारण ब्याज पर ₹ 2000 और 3 साल के लिए 15% साधारण ब्याज पर ₹ 3000 निवेश करता है। 3 साल के अंत में उसकी आय में प्रतिशत वृद्धि क्या है?

Question ID : 16794317605

- Ans
- 1. 35.6%
 - 2. 41.8%
 - 3. 41.4%
 - 4. 38.2%

Comprehension:

निम्नलिखित तालिका उन व्यक्तियों की संख्या दर्शाती है जिनके पसंदीदा फल दिए गए हैं। तालिका पढ़ें और निम्नलिखित प्रश्नों का उत्तर दें।

पसंदीदा फल	सेब	नारंगी	अंगूर	आम	केला
पुरुषों की संख्या	88	100	56	128	108
महिलाओं की संख्या	115	120	60	90	85

SubQuestion No : 18

Q.18 कितने प्रतिशत पुरुषों का पसंदीदा फल आम है? (एक दशमलव स्थान तक सही)

Question ID : 16794317614

- Ans
- 1. 26.7%

✗^{2.} 24.6%

✗^{3.} 26.9%

✗^{4.} 27.1%

Comprehension:

निम्नलिखित तालिका उन व्यक्तियों की संख्या दर्शाती है जिनके पसंदीदा फल दिए गए हैं। तालिका पढ़ें और निम्नलिखित प्रश्नों का उत्तर दें।

पसंदीदा फल	सेब	नारंगी	अंगूर	आम	केला
पुरुषों की संख्या	88	100	56	128	108
महिलाओं की संख्या	115	120	60	90	85

SubQuestion No : 19

Q.19 कितनी प्रतिशत महिलाओं का पसंदीदा फल नारंगी या अंगूर है? (एक दशमलव स्थान तक सही)

Question ID : 16794317615

Ans ✗^{1.} 38.5%

✓^{2.} 38.3%

✗^{3.} 39.9%

✗^{4.} 38.8%

Comprehension:

निम्नलिखित तालिका उन व्यक्तियों की संख्या दर्शाती है जिनके पसंदीदा फल दिए गए हैं। तालिका पढ़ें और निम्नलिखित प्रश्नों का उत्तर दें।

पसंदीदा फल	सेब	नारंगी	अंगूर	आम	केला
पुरुषों की संख्या	88	100	56	128	108
महिलाओं की संख्या	115	120	60	90	85

SubQuestion No : 20

Q.20 यदि तालिका में कुल व्यक्तियों (पुरुष और महिला) और उनके पसंदीदा फल के बारे में दिए गए डेटा को पाई-चार्ट के रूप में दर्शाया जाता है, तो आम को दर्शाने वाले क्षेत्र का केंद्रीय कोण निकटतम डिग्री तक क्या होगा?

Question ID : 16794317616

Ans ✗^{1.} 85°

✗^{2.} 81°

✗^{3.} 78°

✓^{4.} 83°

Q.1 Arrange parts of the sentence in meaningful and grammatically correct order.

Question ID : 16794317630

- A. throughout the long summer days
- B. penguins are active
- C. with a very uncharacteristic polar problem -
- D. so they have to deal with a very
- E. sizzling heat

- Ans
- 1. BADCE
 - 2. BCADE
 - 3. BCDAE
 - 4. BDACE

Q.2 Select the most appropriate option to fill in the blank.

Question ID : 16794317617

To avoid long lines at the ticket office, it's easy to buy tickets _____ the ticket machines at the Metro station or have a Metro card.

- Ans
- 1. in
 - 2. from
 - 3. with
 - 4. For

Q.3 Select the most appropriate option to fill in the blank.

Question ID : 16794317620

If he _____ so fast, he wouldn't have skidded.

- Ans
- 1. hasn't driven
 - 2. does not drive
 - 3. is not driving
 - 4. hadn't been driving

Q.4 Select the synonym of the given word.

Question ID : 16794317625

ENDOWED

- Ans
- 1. gifted
 - 2. inspired
 - 3. finished
 - 4. attempted

Q.5 Select the most appropriate option to fill in the blank.

Question ID : 16794317622

We were stuck in Uttarkashi _____ there was a landslide on the way.

- Ans
- 1. whether
 - 2. though
 - 3. because
 - 4. in case

Q.6 In the following sentence four words/phrases have been underlined. One of them is incorrect. Choose the incorrect word/phrase from the given options.

Question ID : 16794317631

Meghalaya Tourism Department have formulated many plans and tourism policies, to attract more domestic and international tourists.

- Ans
- 1. have formulated
 - 2. more
 - 3. to attract
 - 4. many plans

Q.7 Select the antonym of the given word.

Question ID : 16794317627

NOVICE

Ans

- 1. expert
- 2. innovative
- 3. amateur
- 4. learner

Q.8 Select the antonym of the given word.

Question ID : 16794317628

ALTRUISTIC

- Ans
- 1. selfish
 - 2. generous
 - 3. humane
 - 4. modest

Q.9 Select the most appropriate option to fill in the blank.

Question ID : 16794317624

Some antisocial elements hatched a _____ against the popular leaders but were caught by the police.

- Ans
- 1. tension
 - 2. conspiracy
 - 3. trick
 - 4. suspense

Q.10 Select the synonym of the given word.

Question ID : 16794317626

GRIPE

- Ans
- 1. complain
 - 2. confront
 - 3. clutch
 - 4. control

Q.11 Select the most appropriate option to fill in the blank.

Question ID : 16794317623

He uses a razor blade for _____ the pencil.

- Ans
- 1. sharpening
 - 2. shredding
 - 3. peeling
 - 4. cutting

Q.12 Select the most appropriate option to fill in the blank.

Question ID : 16794317621

Are you coming with me _____ staying at a hotel?

- Ans
- 1. and
 - 2. or
 - 3. so
 - 4. but

Q.13 Select the most appropriate option to complete the sentence.

Question ID : 16794317618

I hadn't met my cousin _____ a long time so I stopped _____ chat with her for an hour or so.

- Ans
- 1. for ; to
 - 2. since ; to
 - 3. since ; for
 - 4. for ; for

Q.14

Question ID : 16794317619

Select the most appropriate option to fill in the blank.

Everybody who knows him _____ that he is a very quiet person.

- Ans
- 1. is agreeing
 - 2. was agreeing
 - 3. has been agreeing
 - 4. agrees

Q.15 Select the sentence structure that is meaningful and grammatically correct.

Question ID : 16794317629

- Ans
- 1. I intended to write to you but I forgot.
 - 2. To write to you I intended but I forgot.
 - 3. I forgot to write to you but I intended.
 - 4. I forgot to you I intended to write.

Comprehension:

Read the following passage and answer the questions given after it.

Since Saturday, this house in a slum in Mumbai has seen a constant flow of visitors, all wanting to meet Aditya Rafukiya (16), who is back home after being reported missing nearly three years ago. Aditya was found in Gujarat last week, after a social worker read an online report on how his father, Bansi Rafukiya, a mechanic, had undertaken a tireless search for him across India.

In January this year, it was reported that Rafukiya had launched a fight against child labour, helping children on the streets to locate their parents — a mission he adopted after his son went missing from their home. Aditya, then a Class VI

student aged 13, ran away from home in 2015, after being scolded by his parents for not studying.

Aditya was last spotted on CCTV cameras at Mumbai Central station's platform 4, wearing a red shirt and carrying his school bag. With no further leads, his father travelled to various destinations that the trains from Mumbai Central went to that day. "I went to all the stations those trains halted at to paste his posters," says Rafukiya.

Eventually, fearing that his son may have been trapped as a child labourer, Rafukiya became a social worker.

Last week, a call from Gujarat changed the mood in the Rafukiya household.

K S Ishrani, a social defence officer at a children's shelter in Jamnagar, called up Rafukiya and told him that his son had been living there for the last two years. "I didn't believe him at first, I asked them to send a photograph. I had already travelled to many cities on tip-offs that my son may be there," says Rafukiya. Ishrani sent him a photograph, and the family left for Jamnagar the same day. They returned with Aditya on Saturday.

Aditya narrated his story. "I had stolen Rs 1,100 from home before running away. I was scolded as I never

home before running away. I was scared, so I never returned. I even changed my name," he says. He first went to Ahmedabad, then Hyderabad, doing odd jobs to sustain himself. In 2016, he reached Jamnagar and found work in hotels and restaurants. Eventually, he was taken to a shelter home in Jamnagar. At the children's shelter. "He is a talented boy, but whenever we broached the subject of his family, he would get scared. We were afraid that if we pushed too hard, he may run away from here," Ishrani said.

Finally, last month, Aditya told about himself to a teacher. Another social worker searched online for reports of a missing boy named Aditya from Mumbai. He chanced upon an online report, which had Aditya's photograph and details of how his father was searching for him. "We called up his parents and asked them to come with his Aadhaar card," said Ishrani. When the social worker showed Aditya the report, he got emotional. "I cried all night. I thought they'd have forgotten me," he says. During his time at the children's shelter, Aditya won several sports competitions. Now in Class VIII, he plans to return to school immediately.

SubQuestion No : 16

Q.16 Which statement is NOT true according to the passage?

Question ID : 16794317636

- Ans
1. Aditya ran away because his father had scolded him for not studying.
 2. Aditya was scared to come back home as he had stolen ₹ 1100
 3. Aditya had won several sports competitions and now wants to pursue sports further.
 4. Aditya thought that his parents had forgotten him.

TEACHERS

adda247

Comprehension:

Read the following passage and answer the questions given after it.

Since Saturday, this house in a slum in Mumbai has seen a constant flow of visitors, all wanting to meet Aditya Rafukiya (16), who is back home after being reported missing nearly three years ago. Aditya was found in Gujarat last week, after a social worker read an online report on how his father, Bansi Rafukiya, a mechanic, had undertaken a tireless search for him across India.

In January this year, it was reported that Rafukiya had launched a fight against child labour, helping children on the streets to locate their parents — a mission he adopted after his son went missing from their home. Aditya, then a Class VI

student aged 13, ran away from home in 2015, after being scolded by his parents for not studying.

Aditya was last spotted on CCTV cameras at Mumbai Central station's platform 4, wearing a red shirt and carrying his school bag. With no further leads, his father

travelled to various destinations that the trains from Mumbai Central went to that day. "I went to all the stations those trains halted at to paste his posters," says Rafukiya.

Eventually, fearing that his son may have been trapped as a child labourer, Rafukiya became a social worker.

Last week, a call from Gujarat changed the mood in the Rafukiya household.

K S Ishrani, a social defence officer at a children's shelter in Jamnagar, called up Rafukiya and told him that his son had been living there for the last two years. "I didn't believe him at first, I asked them to send a photograph. I had already travelled to many cities on tip-offs that my son may be there," says Rafukiya. Ishrani sent him a photograph, and the family left for Jamnagar the same day. They returned with Aditya on Saturday.

Aditya narrated his story. "I had stolen Rs 1,100 from home before running away. I was scared, so I never returned. I even changed my name," he says. He first went to Ahmedabad, then Hyderabad, doing odd jobs to sustain himself. In 2016, he reached Jamnagar and found work in hotels and restaurants. Eventually, he was taken to a shelter home in Jamnagar. At the children's shelter. "He is a talented boy, but whenever we broached the subject of his family, he would get scared. We were afraid that if we pushed too hard, he may run away from here," Ishrani said.

Finally, last month, Aditya told about himself to a teacher. Another social worker searched online for reports of a missing boy named Aditya from Mumbai. He chanced upon an online report, which had Aditya's photograph and details of how his father was searching for him. "We called up his parents and asked them to come with his Aadhaar card," said Ishrani. When the social worker showed Aditya the report, he got emotional. "I cried all night. I thought they'd have forgotten me," he says. During his time at the children's shelter, Aditya won several sports competitions. Now in Class VIII, he plans to return to school immediately.

SubQuestion No : 17

Q.17 The text is:

Question ID : 16794317633

- Ans
- 1. a short story
 - 2. a case study
 - 3. a news item
 - 4. an article

Comprehension:

Read the following passage and answer the questions given after it.

Since Saturday, this house in a slum in Mumbai has seen a constant flow of visitors, all wanting to meet Aditya Rafukiya (16), who is back home after being reported missing nearly three years ago. Aditya was found in Gujarat last week, after a social worker read an online

report on how his father, Bansi Rafukiya, a mechanic, had undertaken a tireless search for him across India.

In January this year, it was reported that Rafukiya had launched a fight against child labour, helping children on the streets to locate their parents — a mission he adopted after his son went missing from their home. Aditya, then a Class VI

student aged 13, ran away from home in 2015, after being scolded by his parents for not studying.

Aditya was last spotted on CCTV cameras at Mumbai Central station's platform 4, wearing a red shirt and carrying his school bag. With no further leads, his father travelled to various destinations that the trains from Mumbai Central went to that day. "I went to all the stations those trains halted at to paste his posters," says Rafukiya.

Eventually, fearing that his son may have been trapped as a child labourer, Rafukiya became a social worker.

Last week, a call from Gujarat changed the mood in the Rafukiya household.

K S Ishrani, a social defence officer at a children's shelter in Jamnagar, called up Rafukiya and told him that his son had been living there for the last two years. "I didn't believe him at first, I asked them to send a photograph. I had already travelled to many cities on tip-offs that my son may be there," says Rafukiya. Ishrani sent him a photograph, and the family left for Jamnagar the same day. They returned with Aditya on Saturday.

Aditya narrated his story. "I had stolen Rs 1,100 from home before running away. I was scared, so I never returned. I even changed my name," he says. He first went to Ahmedabad, then Hyderabad, doing odd jobs to sustain himself. In 2016, he reached Jamnagar and found work in hotels and restaurants. Eventually, he was taken to a shelter home in Jamnagar. At the children's shelter. "He is a talented boy, but whenever we broached the subject of his family, he would get scared. We were afraid that if we pushed too hard, he may run away from here," Ishrani said.

Finally, last month, Aditya told about himself to a teacher. Another social worker searched online for reports of a missing boy named Aditya from Mumbai. He chanced upon an online report, which had Aditya's photograph and details of how his father was searching for him. "We called up his parents and asked them to come with his Aadhaar card," said Ishrani. When the social worker showed Aditya the report, he got emotional. "I cried all night. I thought they'd have forgotten me," he says. During his time at the children's shelter, Aditya won several sports competitions. Now in Class VIII, he plans to return to school immediately.

SubQuestion No : 18

Q.18 What was the original profession of Aditya's father?

Ans ✓ 1. Mechanic

Question ID : 16794317637

- ✗ 2. Social Worker
- ✗ 3. Electrician
- ✗ 4. Computer Programmer

Comprehension:

Read the following passage and answer the questions given after it.

Since Saturday, this house in a slum in Mumbai has seen a constant flow of visitors, all wanting to meet Aditya Rafukiya (16), who is back home after being reported missing nearly three years ago. Aditya was found in Gujarat last week, after a social worker read an online report on how his father, Bansi Rafukiya, a mechanic, had undertaken a tireless search for him across India.

In January this year, it was reported that Rafukiya had launched a fight against child labour, helping children on the streets to locate their parents — a mission he adopted after his son went missing from their home. Aditya, then a Class VI

student aged 13, ran away from home in 2015, after being scolded by his parents for not studying.

Aditya was last spotted on CCTV cameras at Mumbai Central station's platform 4, wearing a red shirt and carrying his school bag. With no further leads, his father travelled to various destinations that the trains from Mumbai Central went to that day. "I went to all the stations those trains halted at to paste his posters," says Rafukiya.

Eventually, fearing that his son may have been trapped as a child labourer, Rafukiya became a social worker.

Last week, a call from Gujarat changed the mood in the Rafukiya household.

K S Ishrani, a social defence officer at a children's shelter in Jamnagar, called up Rafukiya and told him that his son had been living there for the last two years. "I didn't believe him at first, I asked them to send a photograph. I had already travelled to many cities on tip-offs that my son may be there," says Rafukiya. Ishrani sent him a photograph, and the family left for Jamnagar the same day. They returned with Aditya on Saturday.

Aditya narrated his story. "I had stolen Rs 1,100 from home before running away. I was scared, so I never returned. I even changed my name," he says. He first went to Ahmedabad, then Hyderabad, doing odd jobs to sustain himself. In 2016, he reached Jamnagar and found work in hotels and restaurants. Eventually, he was taken to a shelter home in Jamnagar. At the children's shelter. "He is a talented boy, but whenever we broached the subject of his family, he would get scared. We were afraid that if we pushed too hard, he may run away from here," Ishrani said.

Finally, last month, Aditya told about himself to a teacher. Another social worker searched online for

reports of a missing boy named Aditya from Mumbai. He chanced upon an online report, which had Aditya's photograph and details of how his father was searching for him. "We called up his parents and asked them to come with his Aadhaar card," said Ishrani. When the social worker showed Aditya the report, he got emotional. "I cried all night. I thought they'd have forgotten me," he says. During his time at the children's shelter, Aditya won several sports competitions. Now in Class VIII, he plans to return to school immediately.

SubQuestion No : 19

Question ID : 16794317634

Q.19 Which of the following was not a mission that Aditya's father had adopted?

- Ans
- 1. searching for his son across India
 - 2. helping children on the streets to locate their parents
 - 3. fighting against child labour
 - 4. helping the police in locating missing children

Comprehension:

Read the following passage and answer the questions given after it.

Since Saturday, this house in a slum in Mumbai has seen a constant flow of visitors, all wanting to meet Aditya Rafukiya (16), who is back home after being reported missing nearly three years ago. Aditya was found in Gujarat last week, after a social worker read an online report on how his father, Bansi Rafukiya, a mechanic, had undertaken a tireless search for him across India.

In January this year, it was reported that Rafukiya had launched a fight against child labour, helping children on the streets to locate their parents — a mission he adopted after his son went missing from their home. Aditya, then a Class VI

student aged 13, ran away from home in 2015, after being scolded by his parents for not studying.

Aditya was last spotted on CCTV cameras at Mumbai Central station's platform 4, wearing a red shirt and carrying his school bag. With no further leads, his father travelled to various destinations that the trains from Mumbai Central went to that day. "I went to all the stations those trains halted at to paste his posters," says Rafukiya.

Eventually, fearing that his son may have been trapped as a child labourer, Rafukiya became a social worker.

Last week, a call from Gujarat changed the mood in the Rafukiya household.

K S Ishrani, a social defence officer at a children's shelter in Jamnagar, called up Rafukiya and told him that his son had been living there for the last two years. "I didn't believe him at first, I asked them to send a photograph. I had already travelled to many cities on tip-offs that my son may be there," says Rafukiya. Ishrani

One day my son may be there," says Rajkanya. Ishrani sent him a photograph, and the family left for Jamnagar the same day. They returned with Aditya on Saturday.

Aditya narrated his story. "I had stolen Rs 1,100 from home before running away. I was scared, so I never returned. I even changed my name," he says. He first went to Ahmedabad, then Hyderabad, doing odd jobs to sustain himself. In 2016, he reached Jamnagar and found work in hotels and restaurants. Eventually, he was taken to a shelter home in Jamnagar. At the children's shelter. "He is a talented boy, but whenever we broached the subject of his family, he would get scared. We were afraid that if we pushed too hard, he may run away from here," Ishrani said.

Finally, last month, Aditya told about himself to a teacher. Another social worker searched online for reports of a missing boy named Aditya from Mumbai. He chanced upon an online report, which had Aditya's photograph and details of how his father was searching for him. "We called up his parents and asked them to come with his Aadhaar card," said Ishrani. When the social worker showed Aditya the report, he got emotional. "I cried all night. I thought they'd have forgotten me," he says. During his time at the children's shelter, Aditya won several sports competitions. Now in Class VIII, he plans to return to school immediately.

SubQuestion No : 20

Q.20 Aditya finally returned home after 3 years. Which of the following is the most important factor without which it would not have been possible for his father to find him?

Question ID : 16794317635

- Ans
1. Police watching the CCTV footage of the Mumbai station.
 2. Aditya's father searching at all the stations and pasting his posters.
 3. Aditya telling a teacher about himself.
 4. An online report about Aditya being missing

TEACHERS

adda247

Section : General Hindi

Comprehension:

नीचे दिये गए गद्यांश को पढ़कर पूछे गये प्रश्नों के उत्तर दीजिए।

द्विवेदी जी की हिन्दी साहित्य की भूमिका शुक्ल जी के जीवन-काल में ही 1940 ई. में निकली। उनकी दूसरी प्रसिद्ध पुस्तक कबीर 1942 ई. में प्रकाशित हुई। दोनों में शुक्ल जी की मान्यताओं का तीव्र खंडन था। शुक्ल जी ने भक्ति के उद्भव को भारत पर इस्लाम की विजय से जोड़ा था। उनके अनुसार हिन्दू जाति निराशा के कारण भगवान की भक्ति करने लगी। द्विवेदी जी ने भक्ति का सामाजिक-ऐतिहासिक आधार प्रस्तुत करते हुए घोषणा की कि यदि इस्लाम न आया होता तो भी हिन्दी साहित्य का अधिकांश वैसा ही रहता।

SubQuestion No : 1

Q.1 'यदि इस्लाम न आया होता तो भी हिन्दी साहित्य का अधिकांश वैसा ही रहता' यह घोषणा किसने की?

Question ID : 16794317643

- Ans
1. रामचन्द्र शुक्ल
 2. रामविलास शर्मा
 3. हजारीप्रसाद द्विवेदी
 4. नामवर सिंह

Comprehension:

नीचे दिये गए गद्यांश को पढ़कर पूछे गये प्रश्नों के उत्तर दीजिए।

द्विवेदी जी की हिन्दी साहित्य की भूमिका शुक्ल जी के जीवन-काल में ही 1940 ई. में निकली। उनकी दूसरी प्रसिद्ध पुस्तक कबीर 1942 ई. में प्रकाशित हुई। दोनों में शुक्ल जी की मान्यताओं का तीव्र खंडन था। शुक्ल जी ने भक्ति के उद्भव को भारत पर इस्लाम की विजय से जोड़ा था। उनके अनुसार हिन्दू जाति निराशा के कारण भगवान की भक्ति करने लगी। द्विवेदी जी ने भक्ति का सामाजिक-ऐतिहासिक आधार प्रस्तुत करते हुए घोषणा की कि यदि इस्लाम न आया होता तो भी हिन्दी साहित्य का अधिकांश वैसा ही रहता।

SubQuestion No : 2

Q.2 द्विवेदी जी की उल्लिखित पुस्तकों में किसका तीव्र खंडन था?

Question ID : 16794317641

- Ans
1. डॉ. नगेंद्र
 2. रामविलास शर्मा
 3. रामचन्द्र शुक्ल
 4. नन्ददुलारे वाजपेयी

Comprehension:

नीचे दिये गए गद्यांश को पढ़कर पूछे गये प्रश्नों के उत्तर दीजिए।

द्विवेदी जी की हिन्दी साहित्य की भूमिका शुक्ल जी के जीवन-काल में ही 1940 ई. में निकली। उनकी दूसरी प्रसिद्ध पुस्तक कबीर 1942 ई. में प्रकाशित हुई। दोनों में शुक्ल जी की मान्यताओं का तीव्र खंडन था। शुक्ल जी ने भक्ति के उद्भव को भारत पर इस्लाम की विजय से जोड़ा था। उनके अनुसार हिन्दू जाति निराशा के कारण भगवान की भक्ति करने लगी। द्विवेदी जी ने भक्ति का सामाजिक-ऐतिहासिक आधार प्रस्तुत करते हुए घोषणा की कि यदि इस्लाम न आया होता तो भी हिन्दी साहित्य का अधिकांश वैसा ही रहता।

SubQuestion No : 3

Q.3 'हिन्दी साहित्य की भूमिका' के लेखक हैं:

Question ID : 16794317639

- Ans
1. रामचन्द्र शुक्ल
 2. रामविलास शर्मा
 3. हजारीप्रसाद द्विवेदी
 4. नन्ददुलारे वाजपेयी

Comprehension:

नीचे दिये गए गद्यांश को पढ़कर पूछे गये प्रश्नों के उत्तर दीजिए।

द्विवेदी जी की हिन्दी साहित्य की भूमिका शुक्ल जी के जीवन-काल में ही 1940 ई. में निकली। उनकी दूसरी प्रसिद्ध पुस्तक कबीर 1942 ई. में प्रकाशित हुई। दोनों में शुक्ल जी की मान्यताओं का तीव्र खंडन था। शुक्ल जी ने भक्ति के उद्भव को भारत पर इस्लाम की विजय से जोड़ा था। उनके अनुसार हिन्दू जाति निराशा के कारण भगवान की भक्ति करने लगी। द्विवेदी जी ने भक्ति का सामाजिक-ऐतिहासिक आधार प्रस्तुत करते हुए घोषणा की कि यदि इस्लाम न आया होता तो भी हिन्दी साहित्य का अधिकांश वैसा ही रहता।

SubQuestion No : 4

Q.4 शुक्ल जी ने भक्ति के उद्भव को किससे जोड़ा था?

Question ID : 16794317642

- Ans
1. भारत पर यूरोप की विजय
 2. भारत पर इस्लाम की विजय
 3. भारत पर यूनान की विजय
 4. भारतीय चिन्ताधारा का स्वाभाविक विकास

Comprehension:

नीचे दिये गए गद्यांश को पढ़कर पूछे गये प्रश्नों के उत्तर दीजिए।

द्विवेदी जी की हिन्दी साहित्य की भूमिका शुक्ल जी के जीवन-काल में ही 1940 ई. में निकली। उनकी दूसरी प्रसिद्ध पुस्तक कबीर 1942 ई. में प्रकाशित हुई। दोनों में शुक्ल जी की मान्यताओं का तीव्र खंडन था। शुक्ल जी ने भक्ति के उद्भव को भारत पर इस्लाम की विजय से जोड़ा था। उनके अनुसार हिन्दू जाति निराशा के कारण भगवान की भक्ति करने लगी। द्विवेदी जी ने भक्ति का सामाजिक-ऐतिहासिक आधार प्रस्तुत करते हुए घोषणा की कि यदि इस्लाम न आया होता तो भी हिन्दी साहित्य का अधिकांश वैसा ही रहता।

SubQuestion No : 5

Q.5 'कबीर' पुस्तक का प्रकाशन कब हुआ?

Question ID : 16794317640

- Ans
- 1. 1942 ई.
 - 2. 1941 ई.
 - 3. 1943 ई.
 - 4. 1940 ई.

Q.6 'अभिमान' में उपसर्ग है:

Question ID : 16794317652

- Ans
- 1. अभि
 - 2. अभ
 - 3. अ
 - 4. मान

Q.7 'स्वीकार' का विलोम होगा:

Question ID : 16794317655

- Ans
- 1. तिरस्कार
 - 2. अस्वीकार
 - 3. अंगीकार
 - 4. पुरस्कार

Q.8 निम्न में से कौन सा शब्द स्त्रीलिंग है?

Question ID : 16794317651

- Ans
- 1. अपयश
 - 2. अनुसंधान
 - 3. अनुदान
 - 4. आदत

Q.9 'रेतघड़ी' में कौन सा समास है?

Question ID : 16794317650

- Ans
- 1. अव्ययीभाव
 - 2. तत्पुरुष
 - 3. द्वंद्व
 - 4. द्विगु

Q.10 निम्न में कौन सी प्रेरणार्थक क्रिया है?

Question ID : 16794317648

- Ans
- 1. पीना
 - 2. खाना
 - 3. जीतना
 - 4. बुलाना

Q.11 निम्नलिखित में कौन सा शब्द तत्सम है?

Question ID : 16794317644

- Ans
- 1. शून्य
 - 2. सूरज
 - 3. सेज
 - 4. सूखा

Q.12 'राजा' का पर्यायवाची नहीं है:

Question ID : 16794317654

- Ans
- 1. नारायण
 - 2. भूप
 - 3. नृप
 - 4. महीप

Q.13 निम्न में से कौन सा शब्द अव्यय है?

Question ID : 16794317647

- Ans
- 1. बुरा
 - 2. वहाँ
 - 3. प्राचीन
 - 4. उचित

Q.14 निम्नलिखित में व्यक्तिवाचक संज्ञा कौन सी है?

Question ID : 16794317646

- Ans
- 1. गर्मी
 - 2. भारत
 - 3. लोहा
 - 4. बहन

Q.15 'कुलीन' में प्रत्यय है:

Question ID : 16794317653

- Ans
- 1. न
 - 2. ईन
 - 3. लीन
 - 4. कु

Q.16 निम्नलिखित में कौन सा शब्द तद्भव है?

Question ID : 16794317645

- Ans
- 1. सपना
 - 2. सुपुत्र
 - 3. श्वसुर
 - 4. स्वामी

Q.17 'सात दिनों की अवधि' के लिए एक शब्द है:

Question ID : 16794317656

- Ans
- 1. दिन
 - 2. पक्ष

3. मास
 4. सप्ताह

Q.18 'उसकी स्वर बहुत मीठा है।' वाक्य में अशुद्ध है:

Question ID : 16794317658

- Ans 1. है।
 2. बहुत
 3. मीठा
 4. उसकी स्वर

Q.19 निम्न में शुद्ध वर्तनी वाला शब्द है:

Question ID : 16794317657

- Ans 1. व्यवसायिक
 2. व्यावसायिक
 3. व्यावसायीक
 4. व्यवसायीक

Q.20 'निश्चल' का संधि विच्छेद होगा:

Question ID : 16794317649

- Ans 1. नी: + चल
 2. नि: + चल
 3. नि + चल
 4. नी + चल

TEACHERS

Section : Subject Related

Q.1 पत्थर की "मारा विजय" मूर्तिकला किस गुफा संख्या में स्थित है?

Question ID : 16794317678

- Ans 1. 10
 2. 26
 3. 15
 4. 20

Q.2 5 वी शताब्दी के ध्यानमग्न बुद्ध किससे सम्बंधित हैं?

Question ID : 16794317670

- Ans 1. मौर्य
 2. गुप्त
 3. गांधार
 4. शुंग

Q.3 सील में "पीपल वृक्ष पकड़ी हुई दो महिलाएं" किस स्थान से संबंधित हैं?

Question ID : 16794317661

- Ans 1. लोथल
 2. चान्हू-दारो
 3. कोटडिजी
 4. बनवाली

Q.4 डोमाबाद किस नदी के तट पर स्थित था?

Question ID : 16794317660

- Ans 1. गोदावरी
 2. मदार

✗ 3. रंगोई

✗ 4. भोगवा

Q.5 निम्नलिखित में से किस सम्राट ने धर्म और दर्शन पर अपने विचारों की व्याख्या करने के लिए पत्थर का उपयोग करना शुरू किया?

Question ID : 16794317667

Ans ✗ 1. देवावर्मन

✓ 2. अशोक

✗ 3. कुणाल

✗ 4. सम्प्रति

Q.6 गंगा के किनारे "मौर्य" द्वारा निर्मित विशाल लकड़ी का किला कहाँ स्थित है?

Question ID : 16794317666

Ans ✗ 1. पाटलिपुत्र

✗ 2. उत्तर प्रदेश

✗ 3. मध्य प्रदेश

✓ 4. बिहार

Q.7 हड़प्पा संस्कृति संदर्भ में रॉक कट आर्किटेक्चर किस जगह पर पाया गया है?

Question ID : 16794317663

Ans ✗ 1. माउंटगोमरी

✗ 2. लोथल

✓ 3. धोलावीरा

✗ 4. कालीबंगा

Q.8 गुप्त अवधि की मूर्तियों की निम्नलिखित विशेषताएं कौन सी हैं?

Question ID : 16794317671

Ans ✗ 1. बालकनी और छतरी के साथ स्तूप

✗ 2. उभरी हुई नक्काशी के मूर्तिकला और धर्म संघ

✓ 3. देवताओं के चारों ओर हालो की विस्तृत सजावट

✗ 4. ग्रीको-रोमन शैली और तकनीक

Q.9 पूर्वी भारत में शुंग साम्राज्य के संस्थापक और पहले शासक कौन थे?

Question ID : 16794317668

Ans ✓ 1. पुष्यमित्र

✗ 2. अगणिमित्र

✗ 3. अशोक

✗ 4. वासुजयषथ

Q.10 कुषाण काल से "बैठे हुए बुद्ध" कतरा माउंड कहाँ स्थित है?

Question ID : 16794317672

Ans ✗ 1. राष्ट्रीय संग्रहालय यूपी

✗ 2. पटना संग्रहालय

✓ 3. सरकार संग्रहालय, मथुरा

✗ 4. राष्ट्रीय संग्रहालय दिल्ली

Q.11 "पद्मपत्नी" चित्रकला में फूल धारण करने वाले बुद्ध का कौन सा रंग है?

Question ID : 16794317677

Ans ✗ 1. पीला कमल

- 2. लाल गुलाब
- 3. नीला कमल
- 4. गुलाबी कमल

Q.12 हरप्पन सील का उपयोग मुख्य रूप से किसलिए किया जाता है?

Question ID : 16794317659

- Ans
- 1. अधिकार को इंगित करने के लिए
 - 2. व्यापार
 - 3. रॉयल्टी को इंगित करने के लिए
 - 4. संपत्ति का स्वामित्व

Q.13 "विहार" गुफाओं का अर्थ क्या है?

Question ID : 16794317674

- Ans
- 1. निवास हॉल के साथ मठ
 - 2. ड्राइंग रूम के साथ मठ
 - 3. बुद्धिज्म की कहानी
 - 4. प्रार्थना हॉल के साथ मठ

Q.14 पद्मपनी चित्रकला का नाम पद्मपाणी है, क्योंकि:

Question ID : 16794317676

- Ans
- 1. हाथ में कमल
 - 2. सुशोभित ताज
 - 3. रंग और संरचना
 - 4. बंदर, पक्षियां और किन्नारा

TEACHERS

Q.15 कौन से स्कूली कलाकार बौद्ध विषयों पर केंद्रित थे?

Question ID : 16794317669

- Ans
- 1. कुषाण
 - 2. मथुरा
 - 3. गुप्त
 - 4. गांधार

adda247

Q.16 निम्नलिखित में से कौन सी सभ्यता आलमगिरपुर में दिखाई देती है?

Question ID : 16794317664

- Ans
- 1. चुहंजोदारो
 - 2. मेसोपोटामिया
 - 3. कालीबंगा
 - 4. हड़प्पा

Q.17 निम्नलिखित में से कौन सी गुफाएं "हिनायान" दृष्टिकोण को दर्शाती हैं?

Question ID : 16794317675

- Ans
- 1. 17, 19, और 26
 - 2. 8, 9, 10, 12, 13 और 15
 - 3. 8, 9
 - 4. 1, 2, और 16

Q.18 "देवी माँ (मदर गॉडैस)" की सबसे विशेष विशेषता क्या है?

Question ID : 16794317665

Ans

- 1. गोलाकार स्तन
- 2. पंखेनुमा आकार की टोपी
- 3. घुमावदार आँखें
- 4. हार

Q.19 जैन धर्म के 24 वीं तीर्थंकर की एक वर्ग पीठ पर बैठे हुए मूर्ति, के मुद्रा को क्या कहा जाता है?

Question ID : 16794317673

- Ans
- 1. योगपीठ मुद्रा
 - 2. वज्रपद्म मुद्रा
 - 3. सूर्यनमस्कर मुद्रा
 - 4. वज्रपर्यकासना मुद्रा

Q.20 सिंधुघाटी सभ्यता के किस साक्ष्य के कारण पूर्व-आर्य सभ्यता के रूप में जाना जाता है?

Question ID : 16794317662

- Ans
- 1. स्क्रिप्ट और तांबा
 - 2. कांस्य और लेख
 - 3. स्नान और घर
 - 4. मूर्तिकला और गहने

Section : Subject Related

Q.1 "सीयर-परदू" तकनीक किससे संबंधित है?

Question ID : 16794317690

- Ans
- 1. मिट्टी के बर्तन
 - 2. मूर्ति
 - 3. ग्राफिक
 - 4. सिरेमिक

TEACHERS
adda247

Q.2 इंडो-सरसेनिक वास्तुकला के रूप में कौन सी शैलियों को जाना जाता है?

Question ID : 16794317692

- Ans
- 1. इंडो
 - 2. इंडो-पश्चिमी
 - 3. इंडो-इस्लामिक
 - 4. इंडो-ग्रीको

Q.3 कौन सा मंदिर योजना एक तारा की तरह दिखता है और उसे तारामय योजना के रूप में जाना जाता है?

Question ID : 16794317688

- Ans
- 1. कैलासननाथ मंदिर
 - 2. होयासाला
 - 3. पापनाथा मंदिर
 - 4. विजयनगर

Q.4 प्रांतीय शैलियों का यह स्थान नहीं है?

Question ID : 16794317693

- Ans
- 1. दिल्ली
 - 2. बंगाल
 - 3. मांडू

✗ 4. गुजरात

Q.5 राजा गांडा से कौन सा मंदिर संबंधित है?

Question ID : 16794317687

- Ans
- ✗ 1. जगन्नाथ मंदिर
 - ✗ 2. सूर्य मंदिर, गुजरात
 - ✗ 3. कोणार्क मंदिर
 - ✓ 4. कंदारी महादेव मंदिर

Q.6 कौन सी गुफा सबसे उस उल्लेखनीय थीम को दिखाती है जिसमें रावण द्वारा माउंट कैलाश हिलाने के थीम को दिखाया गया है?

Question ID : 16794317684

- Ans
- ✗ 1. 20
 - ✓ 2. 16
 - ✗ 3. 14
 - ✗ 4. 19

Q.7 निम्नलिखित में से कौन सा चोल मंदिर वास्तुकला का हिस्सा नहीं है?

Question ID : 16794317685

- Ans
- ✓ 1. गर्भगृह
 - ✗ 2. निच
 - ✗ 3. देवाकुष्ठ
 - ✗ 4. कुदुस

Q.8 मंदिर की निम्नलिखित में से कौन सी नागरा शैली पूर्वी भारत में है?

Question ID : 16794317682

- Ans
- ✗ 1. विष्णु मंदिर
 - ✗ 2. खजुराहो
 - ✓ 3. जगन्नाथ
 - ✗ 4. सूर्य मंदिर, गुजरात

Q.9 सन 1921 में, भारतीय राष्ट्रीय कांग्रेस के अधिवेशन में झंडे का प्रस्ताव किसने रखा था?

Question ID : 16794317691

- Ans
- ✗ 1. नेहरु
 - ✓ 2. गाँधी
 - ✗ 3. वेंकय्या
 - ✗ 4. पिंगली वेंकय्या

Q.10 महामलीपुरम में पूर्व और पश्चिम में निम्नलिखित में से कौन सा मंदिर स्थापित है?

Question ID : 16794317683

- Ans
- ✗ 1. नंदी
 - ✗ 2. पार्वती
 - ✓ 3. शिव
 - ✗ 4. विष्णु

Q.11 निम्नलिखित में से कौन सा मंदिर वास्तुकला शब्द (फीचर) दिकपलास का उपयोग करता है

Question ID : 16794317686

- Ans
- ✗ 1. पल्लव
 - ✓ 2. चोल
 - ✗ 3. चालुक्य

✗ 4. राष्ट्रकुट

Q.12 कौन से इंडो-इस्लामिक वास्तुकला पारंपरिक रूप से वर्गीकृत नहीं है?

Question ID : 16794317694

- Ans
- ✗ 1. मुगल शैली
 - ✓ 2. ग्रीको शैली
 - ✗ 3. प्रांतीय शैली
 - ✗ 4. शाही शैली

Q.13 गोल गुम्बद बीजापुर में निम्नलिखित में से कौन सी सामग्री उपयोग की गई है?

Question ID : 16794317697

- Ans
- ✓ 1. गहरा भूरा बेसाल्ट
 - ✗ 2. मकराना
 - ✗ 3. बालू पत्थर
 - ✗ 4. लाल पत्थर

Q.14 कौन से स्कूल की विशेषता देवताओं और देवियों का चित्रण है?

Question ID : 16794317698

- Ans
- ✗ 1. बूंदी
 - ✗ 2. मुगल
 - ✓ 3. पहाड़ी
 - ✗ 4. राजस्थानी

Q.15 ताजमहल पर कौन सी किताब कैलिग्राफी पर तैयार की गई है?

Question ID : 16794317696

- Ans
- ✗ 1. गीता
 - ✗ 2. दास्ताने मुमताज
 - ✗ 3. तुजक ए शाहजहां
 - ✓ 4. कुरान

Q.16 भारतीय मंदिर के कुछ हिस्सों के सही अवरोही क्रम की पहचान करें।

Question ID : 16794317681

- Ans
- ✗ 1. उरुषिखारा, कलाशा, अधिस्थना
 - ✗ 2. अधिस्थना, कलाशा, उरुषिखारा
 - ✓ 3. कलाशा, उरुषिखारा, अधिस्थना
 - ✗ 4. कलाशा, अधिस्थना, उरुषिखारा

Q.17 "गर्भ-घर" का क्या अर्थ है?

Question ID : 16794317679

- Ans
- ✓ 1. गर्भगृह
 - ✗ 2. अमाल्का
 - ✗ 3. मंडप
 - ✗ 4. शिखर

Q.18 किस सम्राट ने कुतुब मीनार को पूरा किया और उसमें तीन कोषागार जोड़े?

Question ID : 16794317695

- Ans
- ✗ 1. कुतुब-उद-दीन एबक
 - ✓ 2. इल्तुतमिश
 - ✗ 3. बाबर

✗ 4. अकबर

Q.19 "ब्लैक पगोडा" में भारी पहियों के कितने जोड़े हैं?

Question ID : 16794317689

Ans ✗ 1. 10

✗ 2. 16

✗ 3. 14

✓ 4. 12

Q.20 इनमें से कौन सा भारतीय मंदिर का हिस्सा नहीं है?

Question ID : 16794317680

Ans ✗ 1. कलाशा

✗ 2. जगाती

✗ 3. विमाना

✓ 4. वेशारा

Section : Subject Related

Q.1 किस सम्राट ने "दरब नामा" को चालू किया?

Question ID : 16794317702

Ans ✓ 1. अकबर

✗ 2. शाहजहाँ

✗ 3. हुमायूँ

✗ 4. बाबर

Q.2 भारत में पहली सार्वजनिक आधुनिकतावादी मूर्तिकला किसकी है?

Question ID : 16794317718

Ans ✗ 1. कन्या पोर्ट्रेट

✗ 2. दांडी मार्च

✓ 3. संथाल परिवार

✗ 4. श्रम की जीत

Q.3 "कुल्लू" स्कूल का सबसे पुराना नाम क्या है?

Question ID : 16794317708

Ans ✗ 1. मेवाड़

✗ 2. बूंदी

✗ 3. रसाजनी

✓ 4. कुलंत पीठ

Q.4 निम्नलिखित में से कौन से कलाकार स्वतंत्रता से संबंधित दांडी मार्च को चित्रित करते हैं?

Question ID : 16794317714

Ans ✗ 1. गगेन्द्र नाथ

✗ 2. अभनींद्रनाथ

✗ 3. रवीन्द्रनाथ

✓ 4. नंदलाल बोस

Q.5 "राधा बानी थानी" किसने चित्रित किया?

Question ID : 16794317705

Ans ✗ 1. बासवंत

✓ 2. निहालचंद

✗ 3. मिस्कीं

✗ 4. नुरोददीन

Q.6 किस सम्राट ने अपने कोर्ट के लिए कलाकार बिचिटर को नियुक्त किया था?

Question ID : 16794317699

- Ans
- ✓ 1. शाहजहाँ
 - ✗ 2. अकबर
 - ✗ 3. बाबर
 - ✗ 4. हुमायूँ

Q.7 निम्नलिखित में से कौन सी पेंटिंग महाभारत की कहानी दिखाती है?

Question ID : 16794317710

- Ans
- ✗ 1. मगहनदा की विजय
 - ✗ 2. द हार्टब्रोकन
 - ✓ 3. शांतनु और मत्स्यगंध
 - ✗ 4. द ऑर्केस्ट्रा

Q.8 राजा रवि वर्मा के निम्नलिखित चित्रों में से कौन सा चित्र भारतीय अर्थशास्त्र की दयनीय अवस्था को दर्शाता है?

Question ID : 16794317709

- Ans
- ✓ 1. भिक्षुक परिवार
 - ✗ 2. अर्जुन और सुभद्रा
 - ✗ 3. एक स्वान से बात करते हुए दमयंती
 - ✗ 4. स्वर्णबट बजाने वाली महिला

Q.9 Who created the "Indian Society of Oriental Art"?

Question ID : 16794317711

- Ans
- ✗ 1. Gagendranath
 - ✗ 2. Shelendra nath
 - ✓ 3. Abnindranath
 - ✗ 4. Rabindranath

TEACHERS
adda247

Q.10 निम्नलिखित में से कौन सा स्कूल "विशुद्ध भारती शैली" कहलाता है?

Question ID : 16794317707

- Ans
- ✗ 1. बूंदी
 - ✓ 2. मेवाड़
 - ✗ 3. राजस्थानी
 - ✗ 4. मुगल

Q.11 उल्लेखनीय मूर्तियों "श्रम की जीत" कहाँ स्थित है?

Question ID : 16794317717

- Ans
- ✓ 1. मरीना बीच चेन्नई
 - ✗ 2. राष्ट्रीय संग्रहालय दिल्ली
 - ✗ 3. पटना संग्रहालय
 - ✗ 4. अक्का बीच बॉम्बे

Q.12 चोगन प्लेयर पेंटिंग किससे संबंधित?

Question ID : 16794317704

- Ans
- ✗ 1. निजल चंद-किशनगढ़
 - ✗ 2. सहिब्दीन-मेवाड़
 - ✗ 3. नुररुदीन-बीकानेर

✓ 4. दारा-जोधपुर

Q.13 निम्नलिखित में से कौन से कलाकार भारतीय लोक कला से संबंधित हैं?

Question ID : 16794317715

- Ans
- ✗ 1. अमृता शेरगिल
 - ✗ 2. नंदलाल बोस
 - ✓ 3. जामिनी राँय
 - ✗ 4. कृष्णा रेड्डी

Q.14 किस स्कूल ने प्रसिद्ध "हिंदुला राग" चित्रित किया?

Question ID : 16794317700

- Ans
- ✓ 1. अहमदनगर
 - ✗ 2. मुगल
 - ✗ 3. डेक्कन
 - ✗ 4. पहाड़ी

Q.15 मुगल स्कूल का फारसी चित्रकार कौन था?

Question ID : 16794317703

- Ans
- ✗ 1. मुशिफक
 - ✓ 2. मीर सय्यद अली
 - ✗ 3. कमल
 - ✗ 4. फजल

Q.16 नजुम-अल-उलम किस संग्रहालय में स्थित है?

Question ID : 16794317701

- Ans
- ✗ 1. राष्ट्रीय संग्रहालय
 - ✗ 2. एन.जी.एम.ए. (NGMA)
 - ✗ 3. पटना पुस्तकालय
 - ✓ 4. चेस्टर बीटी लाइब्रेरी, डबलिन

TEACHERS
adda247

Q.17 शाहजहाँ की मृत्यु की चित्रकारी किसके द्वारा की गई है?

Question ID : 16794317712

- Ans
- ✗ 1. गगेन्द्र नाथ
 - ✗ 2. राजा रवि वर्मा
 - ✓ 3. अभनींद्रनाथ
 - ✗ 4. ईवी हॉवेल

Q.18 निम्नलिखित में से कौन सी विशेषता बंगाल स्कूल के लघु चित्रों से संबंधित नहीं है?

Question ID : 16794317713

- Ans
- ✗ 1. सुंदर रंग योजना
 - ✓ 2. ग्रीस रोमन कला का प्रतिबिंब
 - ✗ 3. भारतीय परंपरा के आधार पर
 - ✗ 4. अजंता पेंटिंग्स का प्रभाव

Q.19 Which artist painted scenes from the lives of the aboriginals and also awardee Padma Bhushan?

Question ID : 16794317716

- Ans
- ✗ 1. Amrita Shergil
 - ✓ 2. Jamini Roy
 - ✗ 3. Jyoti Bhatt
 - ✗ 4. Nandalal Bose

Q.20 "कृष्ण लिफ्टिंग माउंट गोवर्धन" किसके द्वारा चित्रित किया गया?

Question ID : 16794317706

- Ans
- 1. मिस्कीं
 - 2. नुरोददीन
 - 3. कमल
 - 4. मीर सैयद अली

Section : Subject Related

Q.1 माउंट आबू (दिलवाड़ा मंदिर) में जैन मंदिरों का निर्माण किसने करवायाथा?

Question ID : 16794317727

- Ans
- 1. राजराज चोल
 - 2. पल्लव
 - 3. विमल शाह
 - 4. कुमारगुप्त

Q.2 "कलाकारों के संरक्षण का समय बीत चुका है। अब उन्हें अपने आप को प्रतिष्ठित करना चाहिए।" यह वाक्य किसने कहा है?

Question ID : 16794317720

- Ans
- 1. के.के. हिबर
 - 2. कृष्णा रेड्डी
 - 3. एस.एच. रजा
 - 4. जी.आर. संतोष

Q.3 अजंता गुफाओं में कितनी शैली मिल सकती है?

Question ID : 16794317737

- Ans
- 1. 12
 - 2. 15
 - 3. 5
 - 4. 20

Q.4 याजी क्या है?

Question ID : 16794317728

- Ans
- 1. गर्भगृह
 - 2.

आधारभूत मंदिर में पौराणिक गाथाओं से संबंधित जानवर

- 3. मंदिर विमाना
- 4. द्वारपाल

Q.5 नटराज के बाएं हाथ में भुजंगत्रसिता, उनके भाव मुद्रा का प्रतिनिधित्व करता है, इसका मतलब क्या है?

Question ID : 16794317726

- Ans
- 1. माया या भ्रम के पर्दे को दूर करना
 - 2. शैतान और भगवान के बीच लड़ाई
 - 3. भगवान का ध्यान
 - 4. शैतान की शक्ति

Q.6 Which of the following painter used wax & oil color mixing technique in paintings?

Question ID : 16794317719

- Ans
- 1. Jyoti Bhutt
 - 2. S H Raza
 - 3. M F Hussain
 - 4. G R Santosh

Q.7 गुजरात और महाराष्ट्र में रंगोली परंपरा का दस्तावेजीकरण किसने किया है?

Question ID : 16794317723

- Ans
- 1. राम चन्द्र नायर
 - 2. ज्योति भट्ट
 - 3. अनुपम सूड
 - 4. गगेंद्रनाथ टैगोर

Q.8 बाढ़ से मोहनजादारो कितनी बार नष्ट हुआ?

Question ID : 16794317730

- Ans
- 1. 6 से अधिक बार
 - 2. 4 से अधिक बार
 - 3. 7 से अधिक बार
 - 4. 2 से अधिक बार

Q.9 निम्नलिखित में से कौन सा मंदिर प्रारंभिक पाला शैली का एक उदाहरण है?

Question ID : 16794317734

- Ans
- 1. कोणार्क मंदिर
 - 2. सिद्धेश्वर महादेव मंदिर
 - 3. चौसंथ योगिनी मंदिर
 - 4. कैलाश मंदिर

Q.10 "जोगिमारा गुफा" की ऊंचाई कितनी है?

Question ID : 16794317736

- Ans
- 1. 6
 - 2. 8
 - 3. 4
 - 4. 12

Q.11 कौन सी साइट हॉर्स पैस्टर्न के पहले अवशेषों को दर्शाती है?

Question ID : 16794317732

- Ans
- 1. सुरकोटादा
 - 2. कालीभंगा
 - 3. लोथल
 - 4. वनवाली

Q.12 निम्नलिखित में से किस सामग्री का उपयोग जगन्नाथ की मूर्ति में किया गया?

Question ID : 16794317735

- Ans
- 1. धातु
 - 2. तांबा
 - 3. लकड़ी
 - 4. पत्थर

Q.13 Which Indian artist known for his paintings of figures set amidst diagonal shapes of color?

Question ID : 16794317721

- Ans
- 1. S Haider Raza
 - 2. Amrita Shergil
 - 3. M F Husain
 - 4. Tyeb Mehta

Q.14 22 अगस्त, 2018 में निम्नलिखित में से कौन से कलाकार का निधन हो गया और वह कलर विस्कोसिटी प्रोसेस के मास्टर था?

Question ID : 16794317722

- Ans
- 1. कृष्णा रेड्डी

- 2. अनुपम सूड
- 3. सोमेनाथ होरे
- 4. राम किंकर बैज

Q.15 जवाहरलाल नेहरू ने किस समूह की पहली प्रदर्शनी का उद्घाटन किया था?

Question ID : 16794317724

- Ans
- 1. आधुनिक समूह
 - 2. पी.ए.जी. समूह
 - 3. 1890 समूह
 - 4. बाँम्बे समूह

Q.16 किस शहर में सूती कपड़े का एक टुकड़ा मिला था?

Question ID : 16794317731

- Ans
- 1. रोपड़
 - 2. लोथल
 - 3. हड़प्पा
 - 4. रंगपुर

Q.17 निम्नलिखित में से कौन सी गुफा अजंता गुफा के समान हैं?

Question ID : 16794317738

- Ans
- 1. बादामी
 - 2. सित्तनवसाल
 - 3. सिगिरिया
 - 4. एलोरा

Q.18 Which of the following artist learnt Nepali metal casting on execute a war memorial?

Question ID : 16794317725

- Ans
- 1. Parbhudas Gupta
 - 2. Sankho Chaudhary
 - 3. D P Roy Chaudhary
 - 4. Ramakinkar Baij

Q.19 किस स्थान पर पक्षी का पिंजरा पाया गया था?

Question ID : 16794317733

- Ans
- 1. कालीबंगा
 - 2. हड़प्पा
 - 3. लोथल
 - 4. चान्हूदारो

Q.20 गुप्त सिक्कों का पहला संग्रह कहाँ पाया गया था?

Question ID : 16794317729

- Ans
- 1. महाराष्ट्र
 - 2. पटना
 - 3. मध्य प्रदेश
 - 4. कालीघाट

Section : Subject Related

Q.1 किस प्रसिद्ध मुगल सम्राट ने भारतीय कहानियों पर काम शुरू किया था?

Question ID : 16794317747

Ans

- 1. शाहजहाँ
- 2. बाबर
- 3. अकबर
- 4. जहांगीर

Q.2 रामकिंकर बैज मूर्तियां ज्यादातर किसकी बनाई गई हैं?

Question ID : 16794317745

- Ans
- 1. प्लास्टर ऑफ पेरिस
 - 2. टेराकोटा
 - 3. पीतल
 - 4. सीमेंट

Q.3 "भारत माता और संध्या दीप" किसने चित्रित किया है?

Question ID : 16794317743

- Ans
- 1. राजा रवि वर्मा
 - 2. रवीन्द्रनाथ
 - 3. नंदलाल बोस
 - 4. अभनींद्रनाथ टैगोर

Q.4 कुल्लू स्कूल का प्रसिद्ध चित्रकार कौन था?

Question ID : 16794317748

- Ans
- 1. पुरखू, ईश्वर
 - 2. सजनू, मांकू
 - 3. सजनू, भगवान
 - 4. पुरखू, फलू

TEACHERS

Q.5 शेलेन्द्र नाथ, असित कुमार हल्दर, डी.पी. चौधरी के मास्टर कौन थे?

Question ID : 16794317741

- Ans
- 1. नंदलाल बोस
 - 2. अभनींद्रनाथ
 - 3. राजा रवि वर्मा
 - 4. गगनेंद्र नाथ

Q.6 निम्नलिखित में से कौन सा विषय कोटा स्कूल ऑफ आर्ट में अधिकतर चित्रित किया गया था?

Question ID : 16794317746

- Ans
- 1. संगीत दृश्य
 - 2. ब्रह्मासा
 - 3. राग रागनी
 - 4. शिकार दृश्य

Q.7 हुसैन द्वारा उपयोग किए जाने वाले सबसे आम जानवर कौन सा है?

Question ID : 16794317744

- Ans
- 1. घोड़ा
 - 2. ऊंट
 - 3. हाथी
 - 4. गाय

Q.8 निम्नलिखित में से कौन सी कंपनी स्टाइल पेंटिंग का केंद्र है?

Question ID : 16794317739

- Ans
- 1. लाहौर

- 2. दिल्ली
- 3. पटना
- 4. मुर्शिदाबाद

Q.9 कंपनी शैली चित्रों में किस प्रकार का कैनवास इस्तेमाल किया जाता है?

Question ID : 16794317740

- Ans
- 1. कागज और लकड़ी
 - 2. कागज और धातु
 - 3. कागज और हाथी दांत
 - 4. कागज और कपड़े

Q.10 पेंटिंग कार्य के लिए निम्नलिखित में से किस कलाकार स्टूडियो का उपयोग जापानी कलाकार "योकोयामा ताइकन" द्वारा किया जाता है?

Question ID : 16794317742

- Ans
- 1. राजा रवि वर्मा
 - 2. रवीन्द्रनाथ
 - 3. अकबर
 - 4. अभनींद्रनाथ

Q.11 जब कोई भाषा संप्रेषण की बजाय एक विषय के रूप में सीखी जाती है, मूल्यांकन _____ के लिए होता है।
सही विकल्प चुनें।

Question ID : 16794317750

- Ans
- 1. भाषा की प्रक्रिया
 - 2. भाषा की अंतर्वस्तु
 - 3. भाषा के प्रयोजन
 - 4. भाषा के उत्पाद

TEACHERS

Q.12 निम्नलिखित में से कौन सा शुद्ध सामाजिक विज्ञान है?

Question ID : 16794317751

सही विकल्प चुनें।

- Ans
- 1. पुरातत्व विज्ञान
 - 2. मानव शास्त्र
 - 3. राजनीतिक विज्ञान
 - 4. नागरिक शास्त्र

Q.13 "शिक्षा का एक महत्वपूर्ण सामाजिक उद्देश्य अवसरों में समानता लाना और पिछड़े या वंचित वर्गों और व्यक्तियों को अपनी सामाजिक और आर्थिक स्थिति में सुधार के लिए एक साधन के रूप में शिक्षा का उपयोग करने में सक्षम बनाना है।" - कोठारी आयोग। यह हाल की पहलों में प्रतिबिम्बित होता है।

Question ID : 16794317750

नीचे दिए गए विकल्पों से चुनें ।

- Ans
- 1. सर्व शिक्षा
 - 2. एसएसए
 - 3. निःशुल्क तथा अनिवार्य शिक्षा

✓⁴. आरटीई नीति

Q.14 तत्काल भाषण वाक् कौशल सुधारने में सुस्पष्ट है:
क्योंकि यह _____ विकसित करता है।
सर्वाधिक उपयुक्त विकल्प चुनें।

Question ID : 16794317753

- Ans
- ✗¹. विचारों की स्वतः उत्पत्ति
 - ✗². भाषण में स्पष्टता
 - ✗³. बोलने में गति
 - ✓⁴. भाषण के जरिए विचारों का स्पष्ट उद्गार

Q.15 Choose the appropriate option:

Question ID : 16794317749

Cognitive development takes place through

- Ans
- ✓¹. Experiences, sensory organs and memory
 - ✗². Teaching, learning and memory
 - ✗³. Discussion, learning and understanding
 - ✗⁴. Reading, writing and speaking

Q.16 हम विषय को निम्न रूप में वर्णित कर सकते हैं:

Question ID : 16794317754

“विषय को कई _____ के अधीन पढ़ा जा सकता है।”

सर्वोत्तम विकल्प चुनें:

- Ans
- ✗¹. विषयों
 - ✗². विश्वविद्यालयों
 - ✗³. शिक्षकों
 - ✓⁴. शिक्षणों

TEACHERS
adda247

Q.17 कक्षा में परिचर्चा से पहले छात्रों को दिए गए पाठ को पढ़ने की अनुमति देने का एक फायदा यह है कि _____।
सर्वाधिक उपयुक्त विकल्प चुनिए।

Question ID : 16794317758

- Ans
- ✗¹. शिक्षक को कक्षा में नोट देने की जरूरत नहीं होगी
 - ✗². समय बचता है
 - ✓³. छात्रों की सहभागिता बढ़ती है और चर्चा लंबी चलती है
 - ✗⁴. शिक्षक का बोझ कम हो जाता है

Q.18 वाक्य पूरा करने के लिए विकल्पों में से चुनें।

Question ID : 16794317756

अंकगणितीय प्रतीक _____ होते हैं।

- Ans
- ✓¹. संक्षिप्त और शब्दाडम्बर से मुक्त
 - ✗². भ्रामक तथा जटिल
 - ✗³. यथार्थ तथा लम्बे
 - ✗⁴. लम्बे और भ्रामक

Q.19 _____ में माता-पिता की संपत्ति में हिस्सेदारी करने का समान जनसिद्ध अधिकार देते हुए बेटियों को बेटों के समतुल्य सहदायिक के रूप में रखा गया है।

Question ID : 16794317755

- Ans
- 1. हिंदू उत्तराधिकार अधिनियम 2005
 - 2. हिंदू उत्तराधिकार अधिनियम 2012
 - 3. हिंदू उत्तराधिकार अधिनियम 1956
 - 4. हिंदू उत्तराधिकार अधिनियम 2008

Q.20 नीचे दी गई सूची से सर्वोत्तम विकल्प चुनें:

Question ID : 16794317752

ज्ञान प्राप्त करने के लिए अनुभवजन्य दृष्टिकोण का एक उदाहरण है।

- Ans
- 1. शिक्षण
 - 2. कार्यकलाप
 - 3. अनुसंधान
 - 4. पठन



TEACHERS
adda247