



adda247



GOVT. OF NCT OF DELHI
Delhi Subordinate Services Selection Board
FC-18, Institutional Area, Karkardooma, Delhi – 110092.
www.dsssb.delhigovt.nic.in

Participant ID	
Participant Name	
Test Center Name	iON Digital Zone iDZ 2 Sector 62
Test Date	24/03/2022
Test Time	12:30 PM - 2:30 PM
Subject	ASSISTANT TEACHER PRIMARY

Section : Mental Ability

Q.1 A series is given, out of which one term is wrong. Choose the wrong term from the given alternatives.
5, 17, 37, 65, 99, 145

- Ans A. 99
 B. 145
 C. 65
 D. 37

Question ID : 1034357191

Q.2 In a certain code language, 'he is bad' is coded as '&#\$', 'is you bad girl' is coded as '@\$#+', 'girl is going' is coded as '#©*' goes. What is the code for 'you going' in this code language?

- Ans A. * +
 B. # +
 C. + ©
 D. * \$

Question ID : 1034357185

Q.3 Seven persons A, B, C, D, E, F and G live on seven different floors of the same building (not necessarily in the same order). The lowest floor is numbered 1, the floor above it is numbered 2 and so on. Two persons live between A and D. A lives above D. One person lives between B and G. Two persons live between G and F. C lives above E but not immediately above E. B lives on the third floor. Who lives on 6th floor?

- Ans A. G
 B. A
 C. E
 D. C

Question ID : 1034357187

Q.4 नीचे दिए गए प्रश्न में कुछ कथन और उनके बाद उन कथनों पर आधारित कुछ निष्कर्ष दिए गए हैं। दिए गए कथनों को सही माने, चाहे उनमें सामान्य ज्ञात तथ्यों से भिन्नता हो। सभी निष्कर्ष पढ़ें और फिर निर्धारित करें कि दिए गए कौन से निष्कर्ष, दिए गए कथनों के आधार पर युक्तिसंगत हैं।

कथन:

- I. सभी P, S हैं।
 - II. सभी P, Q हैं।
- निष्कर्ष:
- I. कुछ Q, S हैं।
 - II. सभी S, Q हैं।

- Ans A. कोई भी निष्कर्ष अनुसरण नहीं करता है
- B. केवल निष्कर्ष I अनुसरण करता है
- C. दोनों निष्कर्ष I तथा II अनुसरण करते हैं
- D. केवल निष्कर्ष II अनुसरण करता है

Question ID : 1034357189

Q.5 एक अनुक्रम दिया गया है, जिसमें से एक पद लुप्त है। दिए गए विकल्पों में से वह सही विकल्प चुनिए, जो अनुक्रम को पूरा करे।
Z49, D90, H131, L172, P213, ?

- Ans A. T244
- B. S244
- C. T254
- D. S254

Question ID : 1034357180

Q.6 नीचे दिए गए प्रश्न में कुछ कथन और उनके बाद उन कथनों पर आधारित कुछ निष्कर्ष दिए गए हैं। दिए गए कथनों को सही माने, चाहे उनमें सामान्य ज्ञात तथ्यों से भिन्नता हो। सभी निष्कर्ष पढ़ें और फिर निर्धारित करें कि दिए गए कौन से निष्कर्ष, दिए गए कथनों के आधार पर युक्तिसंगत हैं।

कथन:

- I. कुछ A, D हैं।
 - II. सभी A, F हैं।
 - III. कुछ F, G हैं।
- निष्कर्ष:
- I. कुछ A, G हैं।
 - II. कुछ D, F हैं।
 - III. कुछ G, D हैं।

- Ans A. कोई भी निष्कर्ष अनुसरण नहीं करता है
- B. केवल निष्कर्ष I अनुसरण करता है
- C. केवल निष्कर्ष III अनुसरण करता है
- D. केवल निष्कर्ष II अनुसरण करता है

Question ID : 1034357190

Q.7 निम्नलिखित प्रश्न में, अक्षरों का एक समूह दिया गया है। प्रत्येक समूह के अक्षर उसी समूह के अक्षरों के साथ किस तर्क/नियम/संबंध से संबंधित है। दिये गए विकल्पों में से अक्षरों को एक समूह को चुनिए जो समान तर्क/नियम/संबंध का अनुसरण करता हो।
(EP, FR, GT)

- Ans A. (JL, KM, LO)
- B. (AF, BH, CJ)
- C. (ZC, AE, BF)
- D. (QS, RU, SX)

Question ID : 1034357183

Q.8 छह व्यक्ति P1, P2, P3, P4, P5 तथा P6 का विभिन्न वेतन है। P2 का वेतन P4 तथा P6 के वेतन से अधिक है। P1 का वेतन P3 के वेतन से कम है। P4 का वेतन P5 के वेतन से अधिक है। P2 का वेतन P1 के वेतन से कम है। P5 का वेतन P6 के वेतन से अधिक है। चौथा सबसे कम वेतन किसका है?

- Ans
- A. P4
 - B. P1
 - C. P5
 - D. P2

Question ID : 1034357186

Q.9 एक अनुक्रम दिया गया है, जिसमें से एक पद गलत है। दिए गए विकल्पों में से उस गलत पद को चुनिए।
ZCM, EIT, JOA, OUH, TAP, YGV

- Ans
- A. EIT
 - B. YGV
 - C. OUH
 - D. TAP

Question ID : 1034357181

Q.10 आठ लड़कियाँ A, B, C, D, E, F, G तथा H एक पंक्ति में उत्तर की ओर मुख करके बैठती हैं (जरूरी नहीं की इसी क्रम में हो)। D तथा H के बीच में चार लड़कियाँ बैठती हैं। H तथा B के बीच में दो लड़कियाँ बैठती हैं। G, A के बायीं ओर तीसरे स्थान पर बैठती है। E, D की पड़ोसी है। F, C के दायीं ओर तीसरे स्थान पर बैठती है। B, A के तुरंत बायीं ओर बैठती है। निम्नलिखित में से कौन सा कथन सही है?
I. C तथा E अंतिम छोरों पर बैठती हैं।
II. B तथा C के बीच में दो लड़कियाँ बैठती हैं।

- Ans
- A. I तथा II दोनों
 - B. ना ही I ना ही II
 - C. केवल I
 - D. केवल II

Question ID : 1034357188

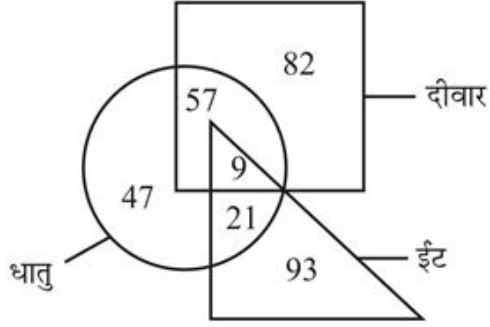
Q.11 निम्नलिखित प्रश्न में दिए गए विकल्पों में से विषम शब्द को चुनिए।

- Ans
- A. वर्ग
 - B. समलम्ब
 - C. वृत्त
 - D. आयत

Question ID : 1034357182

Q.12 दिए गए वेन आरेख के आधार पर, निम्नलिखित में से कौन सा/से कथन सही है/हैं?

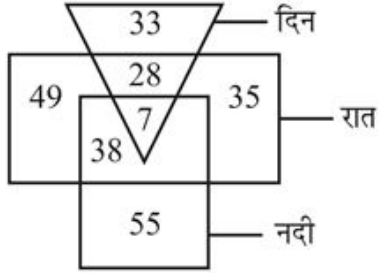
- I. वह धातुएँ जो ईट तथा दीवार दोनों हैं, की संख्या 9 है।
II. वह दीवार जो ईट नहीं हैं, की संख्या 129 है।



- Ans A. I तथा II दोनों
 B. ना ही I ना ही II
 C. केवल I
 D. केवल II

Question ID : 1034357194

Q.13 कितनी रातें दिन हैं, परंतु नदियाँ नहीं हैं?



- Ans A. 119
 B. 112
 C. 35
 D. 28

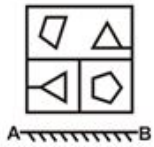
Question ID : 1034357193

Q.14 निम्नलिखित प्रश्न में, दिये गए विकल्पों में से संख्याओं के विषम समूह को चुनिए।

- Ans A. (67, 191, 339)
 B. (131, 255, 403)
 C. (73, 197, 345)
 D. (29, 153, 299)

Question ID : 1034357192

Q.15 यदि एक दर्पण को AB रेखा पर रखा जाए, तो दी गई उत्तर आकृतियों में से कौन सी आकृति प्रश्न आकृति की सही प्रतिबिंब होगी?

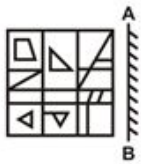


Ans

- A.
- B.
- C.
- D.

Question ID : 1034357198

Q.16 यदि एक दर्पण को AB रेखा पर रखा जाए, तो दी गई उत्तर आकृतियों में से कौन सी आकृति प्रश्न आकृति की सही प्रतिबिंब होगी?



Ans

- A.
- B.
- C.
- D.

Question ID : 1034357199

Q.17 बिंदु A से रमन तथा नमन विपरीत दिशा में चलना आरंभ करते हैं। रमन 4 कि.मी. चलता है तथा नमन 5 कि.मी. चलता है। रमन दायीं ओर मुड़ता है तथा 6 कि.मी. चलता है। जबकि नमन बायीं ओर मुड़ता है तथा 6 कि.मी. चलता है। रमन तथा नमन के बीच में अब कितनी दूरी है?

- Ans
- A. 5 कि.मी.
 - B. 23 कि.मी.
 - C. 9 कि.मी.
 - D. 12 कि.मी.

Question ID : 1034357195

Q.18 निम्नलिखित प्रश्न में दिए गए विकल्पों में से संबंधित शब्द युग्म को चुनिए।
कागज : गूदा :: ?

- Ans
- A. चमड़ा : जूते
 - B. धातु : अयस्क
 - C. सोना : आभूषण
 - D. फर्नीचर : ईट

Question ID : 1034357184

Q.19 रमन दक्षिण की ओर 25 मीटर चलता है। वह बायीं ओर मुड़ता है तथा 40 मीटर चलता है। वह बायीं ओर मुड़ता है तथा 60 मीटर चलता है। वह दायीं ओर मुड़ता है तथा 20 मीटर चलता है। वह दायीं ओर मुड़ता है तथा 35 मीटर चलता है। अंततः वह बायीं ओर मुड़ता है तथा 19 मीटर चलता है। निम्नलिखित में से कौन सा कथन सही है?

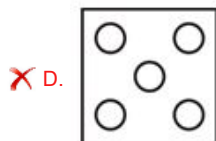
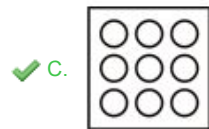
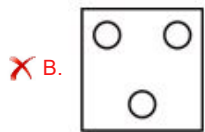
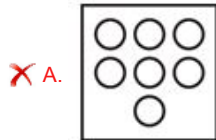
- I. आरंभिक बिंदु, अंतिम बिंदु से 79 मी. पश्चिम में है।
II. चौथे मोड़ के बाद, रमन दक्षिण की ओर मुख करेगा।

- Ans
- A. I तथा II दोनों
 - B. ना ही I ना ही II
 - C. केवल II
 - D. केवल I

Question ID : 1034357196

Q.20 निम्नलिखित प्रश्न में, दिए गए विकल्पों में से विषम आकृति को चुनिए।

Ans



Question ID : 1034357197

Q.1 निम्नलिखित में से कौन सा कथन सही है?
I. नादिरशाह ने 1739 में दिल्ली पर आक्रमण किया।
II. अहमद शाह अब्दाली एक अफगान शासक था।

- Ans
- A. केवल I
 - B. ना ही I ना ही II
 - C. केवल II
 - D. I तथा II दोनों

Question ID : 1034357212

Q.2 किसी सार्वजनिक क्षेत्रक के उद्यमों द्वारा जनसामान्य को इक्विटी की बिक्री के माध्यम से निजीकरण को _____ कहा जाता है।

- Ans
- A. विनिवेश
 - B. वैश्वीकरण
 - C. निवेश
 - D. उदारीकरण

Question ID : 1034357202

Q.3 आई.यु.सी.एन. का मुख्यालय _____ में स्थित है।

- Ans
- A. वियना
 - B. र्लैंड
 - C. नैरोबी
 - D. पेरिस

Question ID : 1034357214

Q.4 निज़ाम – उल – मुल्क आसफ जाह _____ राज्य के संस्थापक थे।

- Ans
- A. दिल्ली
 - B. अवध
 - C. हैदराबाद
 - D. बंगाल

Question ID : 1034357211

Q.5 निम्नलिखित में से कौन सा राज्य खेलो इंडिया यूथ गेम्स 2021 (फरवरी 2022 में खेले जाने वाले) की मेजबानी करेगा?

- Ans
- A. मणिपुर
 - B. हरियाणा
 - C. उड़ीसा
 - D. गोवा

Question ID : 1034357219

Q.6 स्मारक – राज्य का कौन सा युग सही है?

- Ans
- A. विक्टोरिया मेमोरियल – पंजाब
 - B. बहाई मंदिर – हिमाचल प्रदेश
 - C. जिंजी किला – कर्नाटक
 - D. मेहरानगढ़ किला – राजस्थान

Question ID : 1034357201

Q.7 महात्मा गांधी (नयी) श्रृंखला में 2000 रुपये के नये नोट का रंग _____ है।

- Ans A. हरा
 B. मेजेटा
 C. लाल
 D. स्टोन ग्रे

Question ID : 1034357203

Q.8 क्लोरोफॉर्म का गलनांक _____ होता है।

- Ans A. 509 K
 B. 209 K
 C. 409 K
 D. 309 K

Question ID : 1034357205

Q.9 निम्नलिखित में से कौन सा कथन सही है?

- I. रसोई घर के कचरे को कृमि अथवा लाल केंचुओं द्वारा से कंपोस्ट में परिवर्तित करना, वर्मीकंपोस्टिंग कहलाता है।
 II. कंपोस्टिंग द्वारा प्लास्टिक को कम हानिकारक पदार्थों में परिवर्तित करना संभव नहीं है।

- Ans A. केवल II
 B. केवल I
 C. I तथा II दोनों
 D. ना ही I ना ही II

Question ID : 1034357206

Q.10 अप्रैल 2021 में निम्नलिखित में से किसे ओ.पी.सी.डब्ल्यू. के लिए बाहरी लेखा परीक्षक के रूप में चुना गया है?

- Ans A. रलीश महाजन
 B. जी.सी. मुर्मू
 C. प्रगति सिंह
 D. श्री मनोज कुमार

Question ID : 1034357215

Q.11 भारतीय संविधान में अनुसूची – विषय का कौन सा युग्म सही है?

- I. पहली अनुसूची – राज्य
 II. आठवीं अनुसूची – भाषा

- Ans A. केवल I
 B. ना ही I ना ही II
 C. I तथा II दोनों
 D. केवल II

Question ID : 1034357217

Q.12 निम्नलिखित में से किस व्यक्ति को 'भारत का बर्डमैन' भी कहा जाता है?

- Ans A. सी.एफ. एंड्रयूज
 B. डॉ. सलीम अली
 C. डॉ. श्रीकृष्ण सिंह
 D. आशुतोष मुखर्जी

Question ID : 1034357213

Q.13 निम्नलिखित में से किस पुरातात्विक स्थल में 'बंदरगाह' पाया गया था?

- Ans A. कालीबंगा
 B. हड़प्पा
 C. मोहनजोदड़ो
 D. लोथल

Question ID : 1034357210

Q.14 निम्नलिखित में से कौन सा कथन सही है?

- I. एक स्थलीय भाग जो तीन ओर से समुद्र से घिरा हो उसे हम प्रायद्वीप कहते हैं।
II. पूर्वी घाट का सर्वोच्च शिखर अनाईमुडी है।

- Ans A. ना ही I ना ही II
 B. केवल II
 C. I तथा II दोनों
 D. केवल I

Question ID : 1034357209

Q.15 "लोटिया" किस राज्य का क्षेत्रीय संगीत है?

- Ans A. उत्तर प्रदेश
 B. छत्तीसगढ़
 C. गोवा
 D. राजस्थान

Question ID : 1034357200

Q.16 मनिका बतरा किस खेल से संबंधित हैं?

- Ans A. फुटबॉल
 B. टेबल टेनिस
 C. टेनिस
 D. क्रिकेट

Question ID : 1034357218

Q.17 आंतरिक हिमालय की औसत ऊँचाई _____ है।

- Ans A. 5000 मीटर
 B. 4000 मीटर
 C. 8000 मीटर
 D. 6000 मीटर

Question ID : 1034357207

Q.18 निम्नलिखित में से किस तत्व की परमाणु त्रिज्या अधिकतम है?

- Ans A. Li
 B. Na
 C. Cs
 D. Rb

Question ID : 1034357204

Q.19 जास्कर _____ की सहायक नदी है।

- Ans A. सिंधु
 B. कृष्णा
 C. गोदावरी
 D. ब्रह्मपुत्र

Question ID : 1034357208

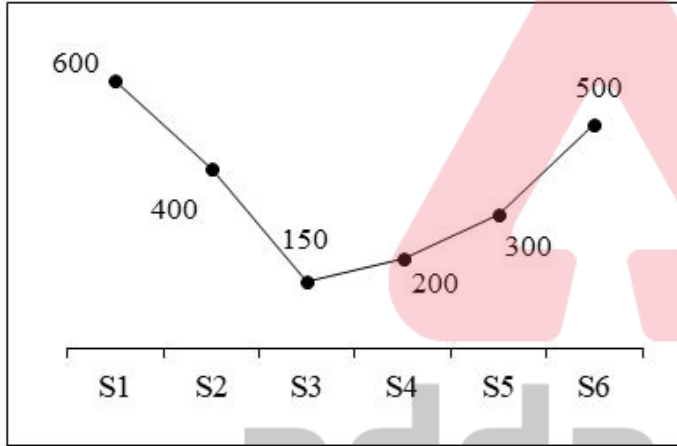
Q.20 निम्नलिखित में से कौन सा भारतीय संविधान में उल्लेखित एक मौलिक अधिकार नहीं है?

- Ans A. शोषण के विरुद्ध अधिकार
 B. स्वतंत्रता का अधिकार
 C. समानता का अधिकार
 D. संपत्ति का अधिकार

Question ID : 1034357216

Section : Arithmetic Ability

Q.1 नीचे दिया गया रेखा चित्र 6 विभिन्न स्कूलों में पुरुष शिक्षकों की संख्या को दर्शाता है।



S1 में पुरुष शिक्षकों की संख्या, S4 में पुरुष शिक्षकों की संख्या का कितना प्रतिशत है?

- Ans A. 33.33 प्रतिशत
 B. 300 प्रतिशत
 C. 66.66 प्रतिशत
 D. 30 प्रतिशत

Question ID : 1034357238

Q.2 एक जिले की जनसंख्या 150000 है। 60 प्रतिशत जनसंख्या शिक्षित है। जनसंख्या में से 75000 महिलाएँ हैं। यदि 80 प्रतिशत महिलाएँ शिक्षित हैं, तो कितने पुरुष शिक्षित हैं?

- Ans A. 50000
 B. 60000
 C. 30000
 D. 75000

Question ID : 1034357227

Q.3 एक पार्टी हॉल में, नीली तथा लाल रंग की पोशाक में लोग है। नीले रंग की पोशाक में पुरुषों की संख्या तथा लाल रंग की पोशाक में महिलाओं की संख्या का अनुपात 4 : 7 है। लाल रंग की पोशाक में पुरुषों की संख्या तथा नीले रंग की पोशाक में महिलाओं की संख्या का अनुपात 3 : 2 है। यदि नीले रंग में लोगों की संख्या का लाल रंग में लोगों की संख्या से अनुपात 106 : 176 है, तो पुरुषों की संख्या तथा महिलाओं की संख्या का अनुपात क्या है?

- Ans A. 125 : 157
 B. 112 : 125
 C. 125 : 149
 D. 132 : 91

Question ID : 1034357230

Q.4 कुछ लड़के एक कार्य को 46 दिन में पूरा कर सकते हैं। यदि 26 लड़के और होते, तो कार्य 26 दिन कम में पूरा हो सकता था। शुरुआत में लड़कों की संख्या क्या थी?

- Ans A. 20
 B. 18
 C. 10
 D. 17

Question ID : 1034357234

Q.5 $\frac{\sqrt{3}-\sqrt{2}}{\sqrt{3}+\sqrt{2}} + \frac{\sqrt{3}+\sqrt{2}}{\sqrt{3}-\sqrt{2}}$ का मान क्या है?

- Ans A. 5
 B. 18
 C. 9
 D. 10

Question ID : 1034357222

Q.6 120 में से क्या घटाया जाना चाहिए ताकि प्राप्त संख्या 70 के 50 प्रतिशत के बराबर हो जाए?

- Ans A. 94
 B. 85
 C. 65
 D. 75

Question ID : 1034357226

Q.7 10000 रुपये की एक राशि को साधारण ब्याज वाली एक योजना में निवेश किया गया है। इस योजना में ब्याज की दर 20 प्रतिशत प्रति वर्ष है। यदि 4000 रुपये ब्याज प्राप्त हुआ है, तो राशि को कितने महीनों के लिए निवेश किया गया है?

- Ans A. 30 महीने
 B. 18 महीने
 C. 28 महीने
 D. 24 महीने

Question ID : 1034357231

Q.8 एक व्यक्ति y कि.मी. की दूरी को 10 घंटे में तय कर सकता है। वह अपनी गति को 10 मी./से. से बढ़ाता है तथा समान दूरी को 4 घंटे में तय कर लेता है। निम्नलिखित में से कौन सा/से कथन सही है/हैं?
I. y का मान 240 है।
II. व्यक्ति की वास्तविक गति 24 कि.मी./घंटा है।

- Ans A. I तथा II दोनों
 B. केवल II
 C. केवल I
 D. ना ही I ना ही II

Question ID : 1034357233

Q.9 $88 \div 8 + 5 - 9 \div 3 \times 2$ का मान क्या है?

- Ans A. 8
 B. 12
 C. 10
 D. 11

Question ID : 1034357220

Q.10 $(11^{96} \times 33^{92} \times 55^{60})$ में इकाई स्थान पर कौन सा अंक है?

- Ans A. 5
 B. 6
 C. 8
 D. 0

Question ID : 1034357224

Q.11 यदि एक संख्या 9871Y, 9 से पूर्णतः विभाजित है, तो Y का मान क्या हो सकता है?

- Ans A. 4
 B. 2
 C. 3
 D. 5

Question ID : 1034357221

Q.12 एक वस्तु का विक्रय मूल्य 1452 रुपये है तथा 12 प्रतिशत की छूट दी गई है। वस्तु का अंकित मूल्य क्या है?

- Ans A. 1600 रुपये
 B. 1780 रुपये
 C. 1700 रुपये
 D. 1650 रुपये

Question ID : 1034357225

Q.13 70000 रुपये को P, Q तथा R में इस प्रकार बाँटा जाता है कि P का हिस्सा Q तथा R के कुल हिस्से का $\frac{2}{5}$ है, तथा Q का हिस्सा P तथा R के कुल हिस्से का $\frac{3}{7}$ है। R का हिस्सा क्या है?

- Ans A. 29000 रुपये
 B. 9000 रुपये
 C. 39000 रुपये
 D. 19000 रुपये

Question ID : 1034357229

Q.14 एक ठोस गोले की त्रिज्या 14 से.मी. है। इस गोले के आयतन का 6 गुना एक ठोस शंकु के आयतन के बराबर है। यदि शंकु के आधार की त्रिज्या 28 से.मी. है, तो शंकु की ऊँचाई क्या होगी?

- Ans A. 84 से.मी.
 B. 42 से.मी.
 C. 21 से.मी.
 D. 63 से.मी.

Question ID : 1034357236

Q.15 नीचे दी गई तालिका 6 वस्तुओं के क्रय मूल्य तथा लाभ प्रतिशत को दर्शाती है।

वस्तुएँ	क्रय मूल्य	लाभ प्रतिशत
P	600	20
Q	700	30
R	550	10
S	400	40
T	300	50
U	800	15

विक्रय मूल्य = क्रय मूल्य + (क्रय मूल्य × लाभ प्रतिशत)/100
 J_1 = सभी 6 वस्तुओं के क्रय मूल्य तथा विक्रय मूल्य के बीच का अंतर।
 J_2 = वस्तु P, Q, R, S तथा T के विक्रय मूल्य का औसत।
 $(J_1 - J_2)$ का मान क्या है?

- Ans A. 182
 B. 166
 C. 162
 D. 178

Question ID : 1034357237

Q.16 एक नियमित षट्भुज का क्षेत्रफल $150\sqrt{3}$ से.मी.²। इस नियमित षट्भुज की भुजा क्या है?

- Ans A. 15 से.मी.
 B. 12 से.मी.
 C. 10 से.मी.
 D. 16 से.मी.

Question ID : 1034357235

Q.17 एक रेलगाड़ी एक खम्बे को 17 सेकंड में तथा एक 440 मीटर लम्बाई वाले प्लेटफॉर्म को 37 सेकंड में पार करती है। रेलगाड़ी की गति क्या है?

- Ans A. 32 मी./से.
 B. 24 मी./से.
 C. 28 मी./से.
 D. 22 मी./से.

Question ID : 1034357232

Q.18 राम को अपनी साइकिल 7744 रुपये में बेचने पर 12 प्रतिशत की हानि हुई। यदि वह इसे 9000 रुपये में बेचता है, तो लाभ प्रतिशत क्या होगा?

- Ans A. 6.66 प्रतिशत
 B. 2.27 प्रतिशत
 C. 3.33 प्रतिशत
 D. 2.5 प्रतिशत

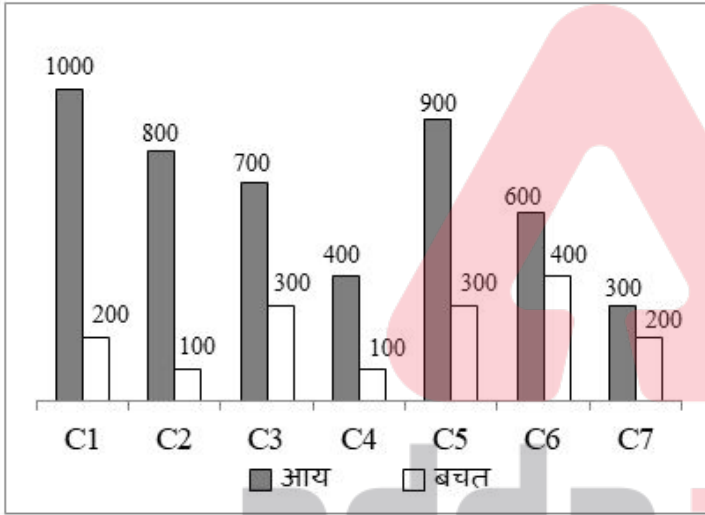
Question ID : 1034357228

Q.19 यदि एक संख्या को 5 से विभाजित किया जाता है, तो शेषफल 2 प्राप्त होता है, तो उसी संख्या के वर्ग को 5 से विभाजित करने पर शेषफल क्या होगा?

- Ans A. 3
 B. 4
 C. 2
 D. 1

Question ID : 1034357223

Q.20 नीचे दिया गया दण्ड चित्र 7 विभिन्न कंपनियों की आय और बचत को दर्शाता है।



व्यय = आय - बचत निम्नलिखित में से कौन सा कथन सही है?

- I. कंपनी C2, C3 तथा C6 की औसत आय 700 है।
 II. सभी 7 कंपनियों के लाभ का योग 3100 है।
 III. सभी 7 कंपनियों के कुल व्यय तथा कुल बचत के बीच का अंतर 1500 है।

- Ans A. II तथा III
 B. I, II तथा III
 C. I तथा II
 D. I तथा III

Question ID : 1034357239

Section : General English

Q.1 A sentence has been given with a blank to be filled with an appropriate word. Choose the correct alternative.

The room in hotel was so _____ that I have to shift to another hotel.

- Ans
- A. pact
 - B. adequate
 - C. compact
 - D. thin

Question ID : 1034357244

Q.2 In the following question, out of the given four alternatives, select the alternative which best expresses the meaning of the Idiom/Phrase.

Lion hearted

- Ans
- A. Emotional
 - B. Brave
 - C. Cunning
 - D. Fearful

Question ID : 1034357252

Q.3 Choose the word that is opposite in meaning to the given word.

Begrime

- Ans
- A. Doubling
 - B. Crank
 - C. Clean
 - D. Bedaubing

Question ID : 1034357249

Q.4 In the following question, out of the given four alternatives, select the alternative which best expresses the meaning of the Idiom/Phrase.

To have hollow legs

- Ans
- A. To have a large appetite
 - B. To lose weight
 - C. To deny one's mistake
 - D. Not fond of travelling

Question ID : 1034357253

Q.5 Select the most appropriate option to substitute the underlined segment in the given sentence. If no substitution is required, select 'No improvement' as your answer.

I have not been given the documents by Ramesh.

- Ans
- A. No improvement
 - B. have nor been given the documents via
 - C. has not been gave the documents by
 - D. have not been given the documents through

Question ID : 1034357243

Q.6 Choose the word that means the same as the given word.
Censure

- Ans A. Heed
 B. Rebuke
 C. Push
 D. Instruct

Question ID : 1034357248

Q.7 Rearrange the parts of the sentence in correct order.

P: A page can have multiple lines.

Q: A page is better measure of length of a book.

R: This is with respect to a line.

S: It is important to differentiate a line from a page.

- Ans A. QRPS
 B. RQPS
 C. SRPQ
 D. SPQR

Question ID : 1034357247

Q.8 A sentence has been given with a blank to be filled with an appropriate word. Choose the correct alternative.

The jury _____ deciding how they want to judge.

- Ans A. will
 B. has
 C. are
 D. was

Question ID : 1034357245

Q.9 In the given question, four words are given out of which one word is correctly spelt. Choose the correctly spelt word.

- Ans A. Vantriloquist
 B. Vantrilloquist
 C. Ventriloquist
 D. Ventrilloquist

Question ID : 1034357251

Q.10 Find the part of the given sentence that has an error in it. If there is no error, choose 'No error'.

It will be ludicrous not (1)/to acknowledge the real threats (2)/the world is facing right now (3)/.No error (4)

- Ans A. 4
 B. 1
 C. 3
 D. 2

Question ID : 1034357241

Q.11 Select the most appropriate option to substitute the underlined segment in the given sentence. If no substitution is required, select 'No improvement' as your answer.
He called to help if nobody came.

- Ans
- A. for help if
 - B. No improvement
 - C. to help untill
 - D. for help when

Question ID : 1034357242

Q.12 Choose the word that can substitute the given sentence.
Chemistry in ancient times

- Ans
- A. Taxonomy
 - B. Abysmal
 - C. Palaeology
 - D. Alchemy

Question ID : 1034357254

Q.13 Rearrange the parts of the sentence in correct order.

Here the rocks

P: So smooth that in places they

Q: Resemble rolls of silk

R: By Ice and water

S: Are carved and polished

- Ans
- A. SRPQ
 - B. QSRP
 - C. QRPS
 - D. PQRS

Question ID : 1034357246

Q.14 Find the part of the given sentence that has an error in it. If there is no error, choose 'No error'.

She said that (1)/ she had never (2)/tried that chocolate (3)/. No error (4)

- Ans
- A. 1
 - B. 2
 - C. 3
 - D. 4

Question ID : 1034357240

Q.15 In the given question, four words are given out of which one word is correctly spelt.
Choose the correctly spelt word.

- Ans
- A. Sollemn
 - B. Solemn
 - C. Sollemmn
 - D. Solem

Question ID : 1034357250

Comprehension:

Read the following information carefully and answer the given questions.

The glass artist Sam Herman, who has died aged 84, was an important contributor to the British craft renaissance of the 1960s and 70s. Studio ceramics (ceramics designed and made by the same person) had been established as a new art form in Britain since the 20s but it was not until the mid-60s that Herman brought the technology to work with hot glass in studio to the UK from the US, enabling individual creative engagement with this dangerous but alluring medium. His mature work was characterised by powerful flowing forms with occasional figurative references and by vibrant colour and iridescent effects. Herman appeared to work in an unpremeditated fashion, following his instincts, responding above all to the ductility of the medium. At the University of Wisconsin at Madison (1962-65) Herman had majored in sculpture under Leo Steppat and, more importantly, had taken glass courses with Harvey Littleton, a potter whose father had been head of research at the great Corning glass works, in upstate New York. But Littleton himself had seen small family-run workshops in Murano, Italy, and was attracted by the neoprimitive inter-war glass made by the French painter Maurice Marinot. With the technical help of Dominick Labino he set about creating a small tank furnace that made it possible for hot glass to be worked outside the factory environment. Herman arrived from Wisconsin on a Fulbright scholarship in 1965 to study cold glass techniques at Edinburgh College of Art, becoming an ambassador for hot glass made in studio. He organised a show of work by his fellow students and tutors from Wisconsin that toured from Edinburgh to Stourbridge College of Art, in the West Midlands, and to the Royal College of Art in London.

There it was seen by the head of the ceramics and glass department at the college, David Queensberry, who immediately recognised the potential of direct engagement with hot glass and invited Herman to become a research fellow. In 1966 Herman built a small tank furnace at the college and in 1967 became tutor in charge of a reconfigured glass department. The first degree show at the RCA that included student-made hot glass – by Pauline Solven, John Cook and Asa Brandt – took place in 1968.

SubQuestion No : 16

Q.16 Who invited Herman to become a research fellow?

- Ans
- A. Harvey Littleton
 - B. Maurice Marinot
 - C. John Cook
 - D. David Queensberry

Question ID : 1034357256

adda247

Comprehension:

Read the following information carefully and answer the given questions.

The glass artist Sam Herman, who has died aged 84, was an important contributor to the British craft renaissance of the 1960s and 70s. Studio ceramics (ceramics designed and made by the same person) had been established as a new art form in Britain since the 20s but it was not until the mid-60s that Herman brought the technology to work with hot glass in studio to the UK from the US, enabling individual creative engagement with this dangerous but alluring medium. His mature work was characterised by powerful flowing forms with occasional figurative references and by vibrant colour and iridescent effects. Herman appeared to work in an unpremeditated fashion, following his instincts, responding above all to the ductility of the medium. At the University of Wisconsin at Madison (1962-65) Herman had majored in sculpture under Leo Steppat and, more importantly, had taken glass courses with Harvey Littleton, a potter whose father had been head of research at the great Corning glass works, in upstate New York. But Littleton himself had seen small family-run workshops in Murano, Italy, and was attracted by the neoprimitive inter-war glass made by the French painter Maurice Marinot. With the technical help of Dominick Labino he set about creating a small tank furnace that made it possible for hot glass to be worked outside the factory environment. Herman arrived from Wisconsin on a Fulbright scholarship in 1965 to study cold glass techniques at Edinburgh College of Art, becoming an ambassador for hot glass made in studio. He organised a show of work by his fellow students and tutors from Wisconsin that toured from Edinburgh to Stourbridge College of Art, in the West Midlands, and to the Royal College of Art in London.

There it was seen by the head of the ceramics and glass department at the college, David Queensberry, who immediately recognised the potential of direct engagement with hot glass and invited Herman to become a research fellow. In 1966 Herman built a small tank furnace at the college and in 1967 became tutor in charge of a reconfigured glass department. The first degree show at the RCA that included student-made hot glass – by Pauline Solven, John Cook and Asa Brandt – took place in 1968.

SubQuestion No : 17

Q.17 According to the passage, all statements are correct EXCEPT:

- Ans** A. Occasional figurative references were seen in the work of Herman.
- B. In 1966, Herman became tutor in charge of a reconfigured glass department.
- C. Harvey Littleton's father was the head of research at the great Corning glass works in New York.
- D. Before mid-60s there was no technology to work with hot glass in studio in the UK.

Question ID : 1034357257

adda247

Comprehension:

Read the following information carefully and answer the given questions.

The glass artist Sam Herman, who has died aged 84, was an important contributor to the British craft renaissance of the 1960s and 70s. Studio ceramics (ceramics designed and made by the same person) had been established as a new art form in Britain since the 20s but it was not until the mid-60s that Herman brought the technology to work with hot glass in studio to the UK from the US, enabling individual creative engagement with this dangerous but alluring medium. His mature work was characterised by powerful flowing forms with occasional figurative references and by vibrant colour and iridescent effects. Herman appeared to work in an unpremeditated fashion, following his instincts, responding above all to the ductility of the medium. At the University of Wisconsin at Madison (1962-65) Herman had majored in sculpture under Leo Steppat and, more importantly, had taken glass courses with Harvey Littleton, a potter whose father had been head of research at the great Corning glass works, in upstate New York. But Littleton himself had seen small family-run workshops in Murano, Italy, and was attracted by the neoprimitive inter-war glass made by the French painter Maurice Marinot. With the technical help of Dominick Labino he set about creating a small tank furnace that made it possible for hot glass to be worked outside the factory environment. Herman arrived from Wisconsin on a Fulbright scholarship in 1965 to study cold glass techniques at Edinburgh College of Art, becoming an ambassador for hot glass made in studio. He organised a show of work by his fellow students and tutors from Wisconsin that toured from Edinburgh to Stourbridge College of Art, in the West Midlands, and to the Royal College of Art in London.

There it was seen by the head of the ceramics and glass department at the college, David Queensberry, who immediately recognised the potential of direct engagement with hot glass and invited Herman to become a research fellow. In 1966 Herman built a small tank furnace at the college and in 1967 became tutor in charge of a reconfigured glass department. The first degree show at the RCA that included student-made hot glass – by Pauline Solven, John Cook and Asa Brandt – took place in 1968.

SubQuestion No : 18

Q.18 As per the given information, which of the following pairs is incorrect?

- Ans**
- A. Dominick Labino- Technician
 - B. Maurice Marinot- French painter
 - C. Harvey Littleton- Potter
 - D. Asa Brandt- Head of Fashion Department

Question ID : 1034357260

adda247

Comprehension:

Read the following information carefully and answer the given questions.

The glass artist Sam Herman, who has died aged 84, was an important contributor to the British craft renaissance of the 1960s and 70s. Studio ceramics (ceramics designed and made by the same person) had been established as a new art form in Britain since the 20s but it was not until the mid-60s that Herman brought the technology to work with hot glass in studio to the UK from the US, enabling individual creative engagement with this dangerous but alluring medium. His mature work was characterised by powerful flowing forms with occasional figurative references and by vibrant colour and iridescent effects. Herman appeared to work in an unpremeditated fashion, following his instincts, responding above all to the ductility of the medium. At the University of Wisconsin at Madison (1962-65) Herman had majored in sculpture under Leo Steppat and, more importantly, had taken glass courses with Harvey Littleton, a potter whose father had been head of research at the great Corning glass works, in upstate New York. But Littleton himself had seen small family-run workshops in Murano, Italy, and was attracted by the neoprimitive inter-war glass made by the French painter Maurice Marinot. With the technical help of Dominick Labino he set about creating a small tank furnace that made it possible for hot glass to be worked outside the factory environment. Herman arrived from Wisconsin on a Fulbright scholarship in 1965 to study cold glass techniques at Edinburgh College of Art, becoming an ambassador for hot glass made in studio. He organised a show of work by his fellow students and tutors from Wisconsin that toured from Edinburgh to Stourbridge College of Art, in the West Midlands, and to the Royal College of Art in London.

There it was seen by the head of the ceramics and glass department at the college, David Queensberry, who immediately recognised the potential of direct engagement with hot glass and invited Herman to become a research fellow. In 1966 Herman built a small tank furnace at the college and in 1967 became tutor in charge of a reconfigured glass department. The first degree show at the RCA that included student-made hot glass – by Pauline Solven, John Cook and Asa Brandt – took place in 1968.

SubQuestion No : 19

Q.19 Which word can replace the word 'alluring' meaningfully in the passage?

- Ans
- A. Ponderous
 - B. Repelling
 - C. Enchanting
 - D. Abominable

Question ID : 1034357259

adda247

Comprehension:

Read the following information carefully and answer the given questions.

The glass artist Sam Herman, who has died aged 84, was an important contributor to the British craft renaissance of the 1960s and 70s. Studio ceramics (ceramics designed and made by the same person) had been established as a new art form in Britain since the 20s but it was not until the mid-60s that Herman brought the technology to work with hot glass in studio to the UK from the US, enabling individual creative engagement with this dangerous but alluring medium. His mature work was characterised by powerful flowing forms with occasional figurative references and by vibrant colour and iridescent effects. Herman appeared to work in an unpremeditated fashion, following his instincts, responding above all to the ductility of the medium. At the University of Wisconsin at Madison (1962-65) Herman had majored in sculpture under Leo Steppat and, more importantly, had taken glass courses with Harvey Littleton, a potter whose father had been head of research at the great Corning glass works, in upstate New York. But Littleton himself had seen small family-run workshops in Murano, Italy, and was attracted by the neoprimitive inter-war glass made by the French painter Maurice Marinot. With the technical help of Dominick Labino he set about creating a small tank furnace that made it possible for hot glass to be worked outside the factory environment. Herman arrived from Wisconsin on a Fulbright scholarship in 1965 to study cold glass techniques at Edinburgh College of Art, becoming an ambassador for hot glass made in studio. He organised a show of work by his fellow students and tutors from Wisconsin that toured from Edinburgh to Stourbridge College of Art, in the West Midlands, and to the Royal College of Art in London.

There it was seen by the head of the ceramics and glass department at the college, David Queensberry, who immediately recognised the potential of direct engagement with hot glass and invited Herman to become a research fellow. In 1966 Herman built a small tank furnace at the college and in 1967 became tutor in charge of a reconfigured glass department. The first degree show at the RCA that included student-made hot glass – by Pauline Solven, John Cook and Asa Brandt – took place in 1968.

SubQuestion No : 20

Q.20 Identify the correct statement about Sam Herman from the following.

- I. He was a glass artist.
- II. He studied sculpture at University of Wisconsin at Madison.
- III. He arrived at Edinburgh College of Art to study cold glass techniques.

- Ans**
- A. Only III
 - B. I, II and III
 - C. II and III
 - D. I and II

Question ID : 1034357258

Section : General Hindi

Q.1 दिए गए शब्दों का सही तत्सम-तद्भव ज्ञात कीजिए।

- Ans**
- A. घठ-धी
 - B. घट-घटा
 - C. घट-घड़ा
 - D. घट-घाट

Question ID : 1034357263

**Q.2 दिए गए शब्द का विलोम शब्द ज्ञात कीजिए।
सामिष**

- Ans**
- A. व्यास
 - B. वामिष
 - C. आमिष
 - D. निरामिष

Question ID : 1034357264

Q.3 निम्नलिखित प्रश्न में, दिए गए चार विकल्पों में से, उस विकल्प का चयन करें जो दिए गए मुहावरे के अर्थ को सर्वश्रेष्ठ रूप से व्यक्त करता है।
खीसैं निपोरना

- Ans A. भला-बुरा कहना
 B. दर-दर भटकना
 C. कड़ी मेहनत करना
 D. गिड़गिड़ाकर माफ़ी माँगना

Question ID : 1034357275

Q.4 दिए गए शब्दों में शुद्ध वर्तनी का चयन कीजिए।

- Ans A. अस्पृश्यता
 B. अस्पृष्यता
 C. अस्पस्यता
 D. अस्पृश्यता

Question ID : 1034357267

Q.5 दिए गए शब्द का प्रत्यय ज्ञात कीजिए।
डिबिया

- Ans A. इया
 B. डि
 C. अया
 D. बि

Question ID : 1034357261

Q.6 दिए गए शब्दों में शुद्ध वर्तनी का चयन कीजिए।

- Ans A. अहार
 B. आहर
 C. अहर
 D. आहार

Question ID : 1034357265

Q.7 निम्नलिखित वाक्यांश के लिए उचित शब्द का चयन कीजिए।
मन को मोह लेने वाला

- Ans A. मनमोहक
 B. मनमौजि
 C. मनसा
 D. मनोनीत

Question ID : 1034357266

Q.8 निम्नलिखित प्रश्न में, दिए गए चार विकल्पों में से, उस विकल्प का चयन करें जो दिए गए मुहावरे के अर्थ को सर्वश्रेष्ठ रूप से व्यक्त करता है।
घोड़े पर चढ़े आना

- Ans A. बहुत बड़ी आपत्ति आना
 B. उतावली में आना
 C. मन ही मन खुश होना
 D. असंभव-सा कार्य करना

Question ID : 1034357274

Q.9 निम्नलिखित वाक्यों में से सरल वाक्य ज्ञात कीजिए।

- Ans A. सुमिता पानी पीकर चली गई।
 B. जैसे ही सुमिता ने पानी पीया और वह चली गई।
 C. सुमिता ने पानी पीया और चली गई।
 D. जब सुमिता ने पानी पीया, तब वह चली गई।

Question ID : 1034357270

Q.10 दिए गए वाक्य का पुरुष ज्ञात कीजिए।
तुम कल कहाँ थे?

- Ans A. उत्तम
 B. प्रथम
 C. अन्य पुरुष
 D. मध्यम

Question ID : 1034357268

Q.11 दिए गए वाक्य में उपयुक्त विराम चिह्न का चयन कीजिए।
हम आकाश का वर्णन करते हैं पृथ्वी का वर्णन करते हैं पर कीचड़ का वर्णन कभी किसी ने किया है

- Ans A. ;!
 B. ^ I
 C. , ?
 D. ...

Question ID : 1034357272

Q.12 दिए गए वाक्य का काल ज्ञात कीजिए।
गाय घास चर कर चली गयी।

- Ans A. प्राचीन काल
 B. भविष्य काल
 C. वर्तमान
 D. भूतकाल

Question ID : 1034357271

Q.13 दिए गए शब्द की भाववाचक संज्ञा ज्ञात कीजिए।
सर्व

- Ans A. सर्वे
 B. सर्वस्व
 C. सर्वो
 D. सर्वत्र

Question ID : 1034357262

Q.14 निम्नलिखित वाक्यों में से मिश्र वाक्य ज्ञात कीजिए।

- Ans A. रूबी घर गई और काम में नहीं लगी।
 B. रूबी घर जाकर भी काम में नहीं लगी।
 C. यद्यपि रूबी घर गई तथापि काम में नहीं लगी।
 D. रूबी घर गई फिर भी काम में नहीं लगी।

Question ID : 1034357269

Q.15 दिए गए वाक्य में उपयुक्त विराम चिह्न का चयन कीजिए।
मोहन पुस्तक पढ़ रहा है

- Ans A. !
 B. " "
 C. ?
 D. |

Question ID : 1034357273

Comprehension:

एक गद्यांश दिया गया है। गद्यांश के आधार पर पाँच प्रश्न दिए गए हैं। गद्यांश को ध्यानपूर्वक पढ़ें तथा प्रत्येक प्रश्न के चार विकल्पों में से सही विकल्प चुने।

किसी भी राष्ट्र की राष्ट्रभाषा वह होती है, जिसे उसमें रहने वाले अधिकांश नागरिक बोलते, समझते और व्यवहार में लाते हैं। इसके साथ-साथ उस देश की अपनी राष्ट्रभाषा का होना भी अत्यंत आवश्यक होता है। भारत में हिंदी ही एकमात्र ऐसी भाषा है जिसे लेह-लद्दाख से लक्षदीप और अरुणाचल प्रदेश से जैसलमेर तक सभी लोग बोलते हैं। इसलिए हिंदी भारत की राष्ट्रभाषा है।

हिंदी को राष्ट्रभाषा का गौरव दिलाने में स्वतंत्रता सेनानियों ने अहम् भूमिका निभाई है। वस्तुतः हिंदी द्वारा ही स्वतंत्रता का संघर्ष लड़ा गया। इसके माध्यम से ही सभी नेता और क्रांतिकारी विचारों का आदान-प्रदान करते थे। हिंदी के लिए गौरव का विषय यह रहा कि इसे राष्ट्रभाषा का स्थान अहिंदीभाषियों ने दिलाया। महात्मा गाँधी, सुभाषचंद्र बोस, लोकमान्य तिलक आदि अहिंदीभाषी थे। उन्होंने स्वतंत्रता आंदोलन में हिंदी भाषा का ही प्रयोग किया। सामाजिक कुरीतियों से छुटकारा दिलाने के लिए जिन महापुरुषों ने महत्वपूर्ण भूमिका निभाई उनमें स्वामी विवेकानंद और स्वामी दयानंद प्रमुख थे। दोनों ने सामाजिक कुरीतियों को दूर करके जिस भाषा द्वारा भारत को नया आध्यात्मिक चिंतन दिया वह हिंदी ही थी। महात्मा गाँधी ने तो यहाँ तक कहा था- 'अंग्रेज़ी कभी राष्ट्रभाषा नहीं बन सकती।'

जो स्थान हिंदी को प्राप्त है, वह किसी दूसरी भाषा को नहीं मिल सकता।' पंडित जवाहरलाल नेहरू ने 16 मई सन् 1931 को सेठ गोविंददास को लिखा था- हिंदी ने अब पूर्णतः राष्ट्रभाषा की भूमिका ले ली है। नेता जी सुभाषचंद्र बोस ने 20 सितंबर 1928 को कहा था, 'यदि हमने तन, मन और धन से प्रयत्न किया तो वह दिन दूर नहीं जब भारत स्वाधीन होगा और उसकी राष्ट्रभाषा हिंदी होगी।'

SubQuestion No : 16

Q.16 "अंग्रेज़ी कभी राष्ट्रभाषा नहीं बन सकती" किसने कहा?

- Ans A. महात्मा गाँधी
 B. स्वामी विवेकानंद
 C. सुभाषचंद्र बोस
 D. जवाहरलाल नेहरू

Question ID : 1034357278

adda24

Comprehension:

एक गद्यांश दिया गया है। गद्यांश के आधार पर पाँच प्रश्न दिए गए हैं। गद्यांश को ध्यानपूर्वक पढ़ें तथा प्रत्येक प्रश्न के चार विकल्पों में से सही विकल्प चुने।

किसी भी राष्ट्र की राष्ट्रभाषा वह होती है, जिसे उसमें रहने वाले अधिकांश नागरिक बोलते, समझते और व्यवहार में लाते हैं। इसके साथ-साथ उस देश की अपनी राष्ट्रभाषा का होना भी अत्यंत आवश्यक होता है। भारत में हिंदी ही एकमात्र ऐसी भाषा है जिसे लेह-लद्दाख से लक्षदीप और अरुणाचल प्रदेश से जैसलमेर तक सभी लोग बोलते हैं। इसलिए हिंदी भारत की राष्ट्रभाषा है।

हिंदी को राष्ट्रभाषा का गौरव दिलाने में स्वतंत्रता सेनानियों ने अहम् भूमिका निभाई है। वस्तुतः हिंदी द्वारा ही स्वतंत्रता का संघर्ष लड़ा गया। इसके माध्यम से ही सभी नेता और क्रांतिकारी विचारों का आदान-प्रदान करते थे। हिंदी के लिए गौरव का विषय यह रहा कि इसे राष्ट्रभाषा का स्थान अहिंदीभाषियों ने दिलाया। महात्मा गाँधी, सुभाषचंद्र बोस, लोकमान्य तिलक आदि अहिंदीभाषी थे। उन्होंने स्वतंत्रता आंदोलन में हिंदी भाषा का ही प्रयोग किया। सामाजिक कुरीतियों से छुटकारा दिलाने के लिए जिन महापुरुषों ने महत्वपूर्ण भूमिका निभाई उनमें स्वामी विवेकानंद और स्वामी दयानंद प्रमुख थे। दोनों ने सामाजिक कुरीतियों को दूर करके जिस भाषा द्वारा भारत को नया आध्यात्मिक चिंतन दिया वह हिंदी ही थी। महात्मा गाँधी ने तो यहाँ तक कहा था- 'अंग्रेज़ी कभी राष्ट्रभाषा नहीं बन सकती।

जो स्थान हिंदी को प्राप्त है, वह किसी दूसरी भाषा को नहीं मिल सकता।' पंडित जवाहरलाल नेहरू ने 16 मई सन् 1931 को सेठ गोविंददास को लिखा था- हिंदी ने अब पूर्णतः राष्ट्रभाषा की भूमिका ले ली है। नेता जी सुभाषचंद्र बोस ने 20 सितंबर 1928 को कहा था, 'यदि हमने तन, मन और धन से प्रयत्न किया तो वह दिन दूर नहीं जब भारत स्वाधीन होगा और उसकी राष्ट्रभाषा हिंदी होगी।'

SubQuestion No : 17

Q.17 उपर्युक्त गद्यांश का शीर्षक होगा-

- Ans** A. लोगों की भाषा
 B. भारतमाता
 C. राष्ट्रभाषा हिन्दी
 D. हिन्दी

Question ID : 1034357277

Comprehension:

एक गद्यांश दिया गया है। गद्यांश के आधार पर पाँच प्रश्न दिए गए हैं। गद्यांश को ध्यानपूर्वक पढ़ें तथा प्रत्येक प्रश्न के चार विकल्पों में से सही विकल्प चुने।

किसी भी राष्ट्र की राष्ट्रभाषा वह होती है, जिसे उसमें रहने वाले अधिकांश नागरिक बोलते, समझते और व्यवहार में लाते हैं। इसके साथ-साथ उस देश की अपनी राष्ट्रभाषा का होना भी अत्यंत आवश्यक होता है। भारत में हिंदी ही एकमात्र ऐसी भाषा है जिसे लेह-लद्दाख से लक्षदीप और अरुणाचल प्रदेश से जैसलमेर तक सभी लोग बोलते हैं। इसलिए हिंदी भारत की राष्ट्रभाषा है।

हिंदी को राष्ट्रभाषा का गौरव दिलाने में स्वतंत्रता सेनानियों ने अहम् भूमिका निभाई है। वस्तुतः हिंदी द्वारा ही स्वतंत्रता का संघर्ष लड़ा गया। इसके माध्यम से ही सभी नेता और क्रांतिकारी विचारों का आदान-प्रदान करते थे। हिंदी के लिए गौरव का विषय यह रहा कि इसे राष्ट्रभाषा का स्थान अहिंदीभाषियों ने दिलाया। महात्मा गाँधी, सुभाषचंद्र बोस, लोकमान्य तिलक आदि अहिंदीभाषी थे। उन्होंने स्वतंत्रता आंदोलन में हिंदी भाषा का ही प्रयोग किया। सामाजिक कुरीतियों से छुटकारा दिलाने के लिए जिन महापुरुषों ने महत्वपूर्ण भूमिका निभाई उनमें स्वामी विवेकानंद और स्वामी दयानंद प्रमुख थे। दोनों ने सामाजिक कुरीतियों को दूर करके जिस भाषा द्वारा भारत को नया आध्यात्मिक चिंतन दिया वह हिंदी ही थी। महात्मा गाँधी ने तो यहाँ तक कहा था- 'अंग्रेज़ी कभी राष्ट्रभाषा नहीं बन सकती।

जो स्थान हिंदी को प्राप्त है, वह किसी दूसरी भाषा को नहीं मिल सकता।' पंडित जवाहरलाल नेहरू ने 16 मई सन् 1931 को सेठ गोविंददास को लिखा था- हिंदी ने अब पूर्णतः राष्ट्रभाषा की भूमिका ले ली है। नेता जी सुभाषचंद्र बोस ने 20 सितंबर 1928 को कहा था, 'यदि हमने तन, मन और धन से प्रयत्न किया तो वह दिन दूर नहीं जब भारत स्वाधीन होगा और उसकी राष्ट्रभाषा हिंदी होगी।'

SubQuestion No : 18

Q.18 किसने कहा "यदि हमने तन, मन और धन से प्रयत्न किया तो वह दिन दूर नहीं जब भारत स्वाधीन होगा और उसकी राष्ट्रभाषा हिंदी होगी"?

- Ans** A. सुभाषचंद्र बोस
 B. जवाहरलाल नेहरू
 C. महात्मा गाँधी
 D. स्वामी विवेकानंद

Question ID : 1034357281

Comprehension:

एक गद्यांश दिया गया है। गद्यांश के आधार पर पाँच प्रश्न दिए गए हैं। गद्यांश को ध्यानपूर्वक पढ़ें तथा प्रत्येक प्रश्न के चार विकल्पों में से सही विकल्प चुने।

किसी भी राष्ट्र की राष्ट्रभाषा वह होती है, जिसे उसमें रहने वाले अधिकांश नागरिक बोलते, समझते और व्यवहार में लाते हैं। इसके साथ-साथ उस देश की अपनी राष्ट्रभाषा का होना भी अत्यंत आवश्यक होता है। भारत में हिंदी ही एकमात्र ऐसी भाषा है जिसे लेह-लद्दाख से लक्षदीप और अरुणाचल प्रदेश से जैसलमेर तक सभी लोग बोलते हैं। इसलिए हिंदी भारत की राष्ट्रभाषा है।

हिंदी को राष्ट्रभाषा का गौरव दिलाने में स्वतंत्रता सेनानियों ने अहम भूमिका निभाई है। वस्तुतः हिंदी द्वारा ही स्वतंत्रता का संघर्ष लड़ा गया। इसके माध्यम से ही सभी नेता और क्रांतिकारी विचारों का आदान-प्रदान करते थे। हिंदी के लिए गौरव का विषय यह रहा कि इसे राष्ट्रभाषा का स्थान अहिंदीभाषियों ने दिलाया। महात्मा गाँधी, सुभाषचंद्र बोस, लोकमान्य तिलक आदि अहिंदीभाषी थे। उन्होंने स्वतंत्रता आंदोलन में हिंदी भाषा का ही प्रयोग किया। सामाजिक कुरीतियों से छुटकारा दिलाने के लिए जिन महापुरुषों ने महत्वपूर्ण भूमिका निभाई उनमें स्वामी विवेकानंद और स्वामी दयानंद प्रमुख थे। दोनों ने सामाजिक कुरीतियों को दूर करके जिस भाषा द्वारा भारत को नया आध्यात्मिक चिंतन दिया वह हिंदी ही थी। महात्मा गाँधी ने तो यहाँ तक कहा था- 'अंग्रेज़ी कभी राष्ट्रभाषा नहीं बन सकती।

जो स्थान हिंदी को प्राप्त है, वह किसी दूसरी भाषा को नहीं मिल सकता।' पंडित जवाहरलाल नेहरू ने 16 मई सन् 1931 को सेठ गोविंददास को लिखा था- हिंदी ने अब पूर्णतः राष्ट्रभाषा की भूमिका ले ली है। नेता जी सुभाषचंद्र बोस ने 20 सितंबर 1928 को कहा था, 'यदि हमने तन, मन और धन से प्रयत्न किया तो वह दिन दूर नहीं जब भारत स्वाधीन होगा और उसकी राष्ट्रभाषा हिंदी होगी।'

SubQuestion No : 19

Q.19 स्वतंत्रता आंदोलन में किस भाषा का प्रयोग किया।

- Ans** A. हिन्दी
 B. उर्दू
 C. अंग्रेज़ी
 D. संस्कृत

Question ID : 1034357280

Comprehension:

एक गद्यांश दिया गया है। गद्यांश के आधार पर पाँच प्रश्न दिए गए हैं। गद्यांश को ध्यानपूर्वक पढ़ें तथा प्रत्येक प्रश्न के चार विकल्पों में से सही विकल्प चुने।

किसी भी राष्ट्र की राष्ट्रभाषा वह होती है, जिसे उसमें रहने वाले अधिकांश नागरिक बोलते, समझते और व्यवहार में लाते हैं। इसके साथ-साथ उस देश की अपनी राष्ट्रभाषा का होना भी अत्यंत आवश्यक होता है। भारत में हिंदी ही एकमात्र ऐसी भाषा है जिसे लेह-लद्दाख से लक्षदीप और अरुणाचल प्रदेश से जैसलमेर तक सभी लोग बोलते हैं। इसलिए हिंदी भारत की राष्ट्रभाषा है।

हिंदी को राष्ट्रभाषा का गौरव दिलाने में स्वतंत्रता सेनानियों ने अहम भूमिका निभाई है। वस्तुतः हिंदी द्वारा ही स्वतंत्रता का संघर्ष लड़ा गया। इसके माध्यम से ही सभी नेता और क्रांतिकारी विचारों का आदान-प्रदान करते थे। हिंदी के लिए गौरव का विषय यह रहा कि इसे राष्ट्रभाषा का स्थान अहिंदीभाषियों ने दिलाया। महात्मा गाँधी, सुभाषचंद्र बोस, लोकमान्य तिलक आदि अहिंदीभाषी थे। उन्होंने स्वतंत्रता आंदोलन में हिंदी भाषा का ही प्रयोग किया। सामाजिक कुरीतियों से छुटकारा दिलाने के लिए जिन महापुरुषों ने महत्वपूर्ण भूमिका निभाई उनमें स्वामी विवेकानंद और स्वामी दयानंद प्रमुख थे। दोनों ने सामाजिक कुरीतियों को दूर करके जिस भाषा द्वारा भारत को नया आध्यात्मिक चिंतन दिया वह हिंदी ही थी। महात्मा गाँधी ने तो यहाँ तक कहा था- 'अंग्रेज़ी कभी राष्ट्रभाषा नहीं बन सकती।

जो स्थान हिंदी को प्राप्त है, वह किसी दूसरी भाषा को नहीं मिल सकता।' पंडित जवाहरलाल नेहरू ने 16 मई सन् 1931 को सेठ गोविंददास को लिखा था- हिंदी ने अब पूर्णतः राष्ट्रभाषा की भूमिका ले ली है। नेता जी सुभाषचंद्र बोस ने 20 सितंबर 1928 को कहा था, 'यदि हमने तन, मन और धन से प्रयत्न किया तो वह दिन दूर नहीं जब भारत स्वाधीन होगा और उसकी राष्ट्रभाषा हिंदी होगी।'

SubQuestion No : 20

Q.20 जवाहरलाल नेहरू ने कब लिखा कि "हिंदी ने अब पूर्णतः राष्ट्रभाषा की भूमिका ले ली है"।

- Ans** A. 16 मई सन् 1931
 B. 16 मई सन् 1932
 C. 20 सितंबर 1928
 D. 16 जून सन् 1931

Question ID : 1034357279

Section : Discipline1

Q.1 बच्चों का वेचस्टर इंटेलिजेंस पैमाना क्या है?

I. स्कूली बच्चों के लिए व्यक्तिगत बुद्धि परीक्षण।

II. यह मौखिक और प्रदर्शन स्कोर के साथ-साथ संयुक्त स्कोर भी देता है

- Ans
- A. केवल I
 - B. I तथा II दोनों
 - C. ना ही I ना ही II
 - D. केवल II

Question ID : 1034357291

Q.2 बच्चों के मन के सिद्धांत के संदर्भ में, निम्नलिखित में से कौन सा कथन सही है?

I. यह मानसिक प्रक्रियाओं की जागरूकता और समझ है।

II. ब्रेज़लटन इस सिद्धांत की जांच करने वाले पहले विद्वान थे।

- Ans
- A. I तथा II दोनों
 - B. ना ही I ना ही II
 - C. केवल II
 - D. केवल I

Question ID : 1034357292

Q.3 विकास के निम्नलिखित सिद्धांतों में से कौन सा सही है?

I. सेफ्लोकोर्डल सिद्धांत - विकास नीचे से ऊपर होता है।

II. प्रोक्सीमोडिस्टल सिद्धांत - विकास और मोटर विकास शरीर के केंद्र से बाहर की ओर बढ़ते हैं।

- Ans
- A. I तथा II दोनों
 - B. केवल II
 - C. ना ही I ना ही II
 - D. केवल I

Question ID : 1034357286

Q.4 सोशल फोबिया क्या है?

- Ans
- A. उड़ने का अत्यधिक भय
 - B. सामाजिक स्थितियों से बचना या अत्यधिक भय
 - C. ऊंचाई का अत्यधिक भय
 - D. गरज और रोशनी का अत्यधिक भय

Question ID : 1034357296

Q.5 एरिकसन के अनुसार _____ स्वयं की एक सुसंगत अवधारणा है, जो लक्ष्यों, मूल्यों और विश्वासों से बनी होती है, जिसके लिए एक व्यक्ति ठोस रूप से प्रतिबद्ध होता है।

- Ans
- A. उतार - चढ़ाव
 - B. संसोधन
 - C. पहचान
 - D. परिवर्तन

Question ID : 1034357294

- Q.6 भावनात्मक विकारों के संदर्भ में, बचपन का अवसाद क्या है?
 I. लंबे समय तक मित्रता और थकान की भावना के रूप में ऐसे लक्षणों से विशेषित मनोदशा संबंधी विकार।
 II. दोहराए जाने वाले, दखल देने वाले विचारों, छवियों या अनुष्ठान व्यवहारों से उत्पन्न चिंता।

Ans A. I तथा II दोनों
 B. केवल I
 C. केवल II
 D. ना ही I ना ही II

Question ID : 1034357297

- Q.7 In the context of cognitive advances, which of the following statement describe categorization?
 I. It helps children think logically.
 II. It includes such sophisticated abilities as seriation, transitive inference and class inclusion.
 III. Transitive inference is the ability to understand the relationship between a whole class and its parts.

Ans A. I and II
 B. I and III
 C. II and III
 D. I, II and III

Question ID : 1034357293

- Q.8 पियाजे के दृष्टिकोण के संदर्भ में पूर्व-संचालन चरण क्या है?
 I. संज्ञानात्मक विकास का दूसरा प्रमुख चरण।
 II. इस अवस्था में बच्चे प्रतीकात्मक विचारों के उपयोग में अधिक परिष्कृत हो जाते हैं लेकिन तर्क का उपयोग करने में सक्षम नहीं होते हैं।

Ans A. केवल I
 B. ना ही I ना ही II
 C. I तथा II दोनों
 D. केवल II

Question ID : 1034357289

- Q.9 नवजात पीलिया क्या है?
 I. कई नवजात शिशुओं में ये स्थिति जिगर की अपरिपक्वता के कारण होती है और पीले रंग की उपस्थिति से प्रमाणित होती है।
 II. अगर तुरंत इलाज न किया जाए तो यह मस्तिष्क को नुकसान पहुंचा सकता है।

Ans A. केवल I
 B. केवल II
 C. I तथा II दोनों
 D. ना ही I ना ही II

Question ID : 1034357285

- Q.10 निम्न में से कौन सा कथन मामूली बीमारी के संदर्भ में सही है?
 I. मामूली बीमारी आमतौर पर कुछ दिनों तक चलती है और शायद ही कभी इतनी गंभीर होती है कि डॉक्टर के ध्यान की आवश्यकता होती है।
 II. खाँसी, सिसकी और नाक बहना बचपन का एक हिस्सा है।

Ans A. केवल II
 B. ना ही I ना ही II
 C. केवल I
 D. I तथा II दोनों

Question ID : 1034357282

Q.11 _____ एक दीर्घकालिक सांस की बीमारी है जो अचानक खांसने, घरघराहट और सांस लेने में कठिनाई के हमलों की विशेषता है।

- Ans A. दमा
 B. जी. इ. आर. डी.
 C. सी. ओ. पी. डी.
 D. काली खाँसी

Question ID : 1034357284

Q.12 ब्रेन एंड रिफ्लेक्स बिहेवियर के संदर्भ में, निम्नलिखित में से कौन सा कथन सही है?
 I. गर्भाधान के लगभग दो सप्ताह बाद, मस्तिष्क धीरे-धीरे लंबी खोखली नली से कोशिकाओं के एक गोलाकार द्रव्यमान में विकसित होता है।
 II. सेरिबेलम जीवन के पहले वर्ष के दौरान सबसे तेजी से बढ़ता है।

- Ans A. केवल I
 B. I तथा II दोनों
 C. ना ही I ना ही II
 D. केवल II

Question ID : 1034357287

Q.13 स्मृति के संदर्भ में केन्द्रीय कार्यपालिका क्या है?
 I. बैडले के मॉडल में, कार्यशील स्मृति का तत्व जो सूचना के प्रसंस्करण को नियंत्रित करता है।
 II. सचेत पुनरावृत्ति के माध्यम से कार्यशील स्मृति का उपयोग करने वाली रणनीतियाँ।

- Ans A. I तथा II दोनों
 B. केवल II
 C. केवल I
 D. ना ही I ना ही II

Question ID : 1034357290

Q.14 निम्नलिखित में से कौन सा कथन बच्चों में देखने और सुनने की समस्याओं का वर्णन करता है?
 I. 18 वर्ष से कम आयु के लगभग 13 प्रतिशत बच्चों के अंधे होने या दृष्टि बाधित होने का अनुमान है।
 II. 3 साल की उम्र तक, बच्चे बेहतर ध्यान केंद्रित कर सकते हैं।

- Ans A. केवल I
 B. केवल II
 C. I तथा II दोनों
 D. ना ही I ना ही II

Question ID : 1034357288

Q.15 निम्नलिखित में से कौन सा सही नहीं है?
 I. आर्ट थेरेपी चिकित्सीय दृष्टिकोण है जो एक बच्चे को बिना शब्दों के परेशान भावनाओं को व्यक्त करने की अनुमति देता है।
 II. ड्रग थेरेपी भावनात्मक विकारों के इलाज के लिए दवाओं का प्रशासन है।

- Ans A. ना ही I ना ही II
 B. केवल II
 C. केवल I
 D. I तथा II दोनों

Question ID : 1034357299

Q.16 मोटर कौशल के संदर्भ में, सौम्यता क्या है?

- Ans A. बस के हैंडल को पकड़ने के लिए उपयोग करना
 B. किसी विशेष हाथ का उपयोग करने के लिए वरीयता
 C. कार के टूटे हुए हैंडल के लिए उपयोग किया जाता है
 D. किसी की मदद करने के लिए दयालुता का उपयोग करना

Question ID : 1034357283

Q.17 According to Marcia which of the following identity status is correctly matched?

- I. Identity achievement – Characterized by absence of commitment and lack of serious consideration of alternatives.
 II. Moratorium – A person is currently considering alternatives and seems headed for commitment.
 III. Foreclosure – A person who has not spent time considering alternatives is committed to other people's plan for his or her life.

- Ans A. II and III
 B. I and III
 C. I and II
 D. I, II and III

Question ID : 1034357301

Q.18 मनोसामाजिक विकास के संदर्भ में, मार्सिया ने निम्नलिखित में से कौन सी पहचान की स्थिति पाई?

- I. फोरक्लोजर
 II. अधिस्थगन

- Ans A. ना ही I ना ही II
 B. I तथा II दोनों
 C. केवल II
 D. केवल I

Question ID : 1034357295

Q.19 निम्नलिखित में से कौन सा सुरक्षात्मक कारक बच्चों और किशोरों को तनाव से उबरने और सामर्थ्य में योगदान करने में मदद कर सकता है?

- I. अच्छे पारिवारिक संबंध
 II. संज्ञानात्मक कार्य

- Ans A. ना ही I ना ही II
 B. I तथा II दोनों
 C. केवल II
 D. केवल I

Question ID : 1034357300

Q.20 निम्नलिखित में से कौन सा युग्म सही सुमेलित है?

- I. तनाव - शारीरिक या मनोवैज्ञानिक मांगों की प्रतिक्रिया।
 II. स्ट्रेसर्स-तनाव - अनुभव पैदा करना।

- Ans A. केवल II
 B. केवल I
 C. ना ही I ना ही II
 D. I तथा II दोनों

Question ID : 1034357298

Section : Discipline2

Q.1 'डेमोक्रेसी एंड एजुकेशन' पुस्तक _____ द्वारा लिखी गई है।

- Ans
- A. महात्मा गांधी
 - B. मारिया मोंटेसरी
 - C. रविद्रनाथ टैगोर
 - D. जॉन ड्यूई

Question ID : 1034357312

Q.2 1857 के विद्रोह के कारणों के बारे में निम्नलिखित में से कौन सा कथन सही है?

- I. धार्मिक हस्तक्षेप।
II. जातीय अहंकार।
III. समान वेतन।

- Ans
- A. I तथा II
 - B. केवल I
 - C. II तथा III
 - D. I तथा III

Question ID : 1034357305

Q.3 किस देश में विशेष शिक्षा प्रणाली का वर्णन करने के लिए समावेशी विशेष शिक्षा शब्द का प्रयोग किया गया है?

- Ans
- A. अफ़ग़ानिस्तान
 - B. चीन
 - C. नेपाल
 - D. फिनलैंड

Question ID : 1034357310

Q.4 बच्चों को मुफ्त और अनिवार्य शिक्षा के अधिकार अधिनियम, 2009 में कितने अध्याय हैं ?

- Ans
- A. सात
 - B. छह
 - C. आठ
 - D. पांच

Question ID : 1034357303

Q.5 निम्नलिखित कथन किस अधिगम शैली का उल्लेख कर रहे हैं?

'शिक्षार्थी तर्क के बजाय अंतर्ज्ञान पर निर्भर करता है। वे लक्ष्य निर्धारित करते हैं और एक उद्देश्य को प्राप्त करने के लिए विभिन्न तरीकों की कोशिश कर क्षेत्र में सक्रिय रूप से काम करते हैं?'

- Ans
- A. विचलन शैली
 - B. आत्मसात करने की शैली
 - C. अभिसरण शैली
 - D. मिलनसार शैली

Question ID : 1034357314

Q.6 सैलेंड विशेष शिक्षा को _____ की विशेषता के रूप में परिभाषित करता है।

- I. विशेष निर्देश
II. लक्ष्य-निर्देशित निर्देश

- Ans A. केवल I
 B. केवल II
 C. ना ही I ना ही II
 D. I तथा II दोनों

Question ID : 1034357311

Q.7 दी गई बैठक व्यवस्था स्कूल में किस प्रकार की गतिविधि के लिए प्रभावी है?
अर्धवृत्त में बैठे विद्यार्थी, अर्धवृत्त में बैठे विद्यार्थियों के दूसरे समूह की ओर मुख करके बैठे हैं और शिक्षक बीच का स्थान लेता है।

- Ans A. समूह प्रतियोगिता
 B. एक प्रयोग का प्रदर्शन
 C. कहानियाँ और कविताएँ सुनाना
 D. बोर्ड पर समस्याओं का समाधान

Question ID : 1034357315

Q.8 लोकतंत्र की चुनौती के बारे में निम्नलिखित में से कौन सा कथन सही है?

- I. देशों को पूरी तरह से लोकतांत्रिक बताया जा सकता है।
II. हमेशा समुदाय होते हैं और लोकतंत्र के विचार का विस्तार करने की कोशिश कर रहे व्यक्ति।

- Ans A. ना ही I ना ही II
 B. केवल II
 C. केवल I
 D. I तथा II दोनों

Question ID : 1034357307

Q.9 संविधान में समानता के प्रावधानों के बारे में निम्नलिखित में से कौन सा कथन सही है?

- I. कानून की नजर में हर व्यक्ति समान है।
II. सार्वजनिक स्थानों पर हर व्यक्ति का अभिगम है।

- Ans A. केवल II
 B. केवल I
 C. ना ही I ना ही II
 D. I तथा II दोनों

Question ID : 1034357306

Q.10 पंचायती राज प्रणाली में प्रणाली, वार्ड सदस्य और ग्राम पंचायत _____ द्वारा चुने जाते हैं।

- Ans A. पंचायत अध्यक्ष
 B. जिला अधिकारी
 C. ग्राम सभा के सचिव
 D. ग्राम सभा के सदस्य

Question ID : 1034357302

Q.11 _____ को प्रत्येक 1000 बच्चों में संभावित संख्या के रूप में परिभाषित किया जाता है जो जन्म के पहले वर्ष के भीतर जीवित रहने में विफल हो जाते हैं।

- Ans
- A. मातृ मृत्यु दर
 - B. आनुपातिक मृत्यु दर
 - C. कारण-विशिष्ट मृत्यु दर
 - D. शिशु मृत्यु दर

Question ID : 1034357308

Q.12 दी गई पंक्तियों को 'द अनस्कूल्ड माइंड' पुस्तक में पढ़ा जा सकता है। निम्नलिखित में से कौन सा मनोवैज्ञानिक इस पुस्तक के लेखक है?
'हमें अपने आप को अपने छात्रों के सिर के अंदर रखना चाहिए और जहां तक संभव हो उनकी धारणाओं के स्रोतों और शक्तियों को समझने की कोशिश करनी चाहिए'

- Ans
- A. जॉन रस्किन
 - B. थॉमस हेनरी हक्सले
 - C. मार्टिन बुबेर
 - D. हार्वर्ड गार्डनर

Question ID : 1034357320

Q.13 सहकारी अधिगम मॉडल के संबंध में निम्नलिखित में से कौन सा कथन सही है?
I. छात्र शैक्षिक सामग्री में महारत हासिल करने के लिए समूहों में काम करते हैं।
II. पुरस्कार प्रणालियाँ समूह-उन्मुख होने के बजाय व्यक्तिगत रूप से उन्मुख होती हैं।

- Ans
- A. केवल II
 - B. केवल I
 - C. ना ही I ना ही II
 - D. I तथा II दोनों

Question ID : 1034357319

Q.14 योग्यता आधारित उपागम की उपयोगिता के सन्दर्भ में निम्नलिखित में से कौन सा कथन सही है?

- Ans
- A. झुकाव के अनुकूलन के लिए सभी स्कूलों में सीखने का माहौल समान रूप से अनुकूल है
 - B. शिक्षक की दक्षता चिंता का विषय नहीं है
 - C. छात्रों को एक ही विषय को बार-बार सीखना पड़ता है
 - D. शिक्षण - सीखने की प्रक्रिया आनंदमय और रोचक है

Question ID : 1034357316

Q.15 निम्नलिखित में से कौन अनुशासन का शिक्षक जनित कारण है?

- I. छात्रों की समस्याओं के प्रति उदासीनता।
- II. घटिया शिक्षण।
- III. भेदभावपूर्ण उपचार।

- Ans
- A. I, II तथा III
 - B. I तथा II
 - C. केवल I
 - D. II तथा III

Question ID : 1034357318

Q.16 सीखने के किस दृष्टिकोण को स्व-नियामक शिक्षण (SRL) कहा जाता है?

- Ans A. सामुदायिक शिक्षण
 B. समूह शिक्षण
 C. व्यक्तिगत शिक्षण
 D. सामाजिक शिक्षण

Question ID : 1034357321

Q.17 पुराने साहित्य में स्त्री स्वतन्त्रता के योग्य नहीं होती किस धर्मग्रंथ में लिखा है?

- Ans A. महाभारत
 B. ऋग्वेद
 C. मनुस्मृति
 D. रामायण

Question ID : 1034357309

Q.18 एक शिक्षक की निम्नलिखित में से कौन सी भूमिका एक संगठन में प्रबंधक की भूमिकाओं और जिम्मेदारियों के समान है?

- I. कक्षा में अनुशासन बनाए रखने को प्राथमिकता देना।
 II. छात्रों को उनके प्रदर्शन के बारे में प्रतिक्रिया प्रदान करना।

- Ans A. ना ही I ना ही II
 B. केवल II
 C. I तथा II दोनों
 D. केवल I

Question ID : 1034357317

Q.19 अनुसूचित जाति और अनुसूचित जनजाति (अत्याचार निवारण) अधिनियम कब बनाया गया था ?

- Ans A. 1989
 B. 1980
 C. 1988
 D. 1990

Question ID : 1034357304

Q.20 जब भी कोई शिक्षक विफलता की सजा की धमकी देता है, तो वह _____ का उपयोग कर रहा है।

- I. सकारात्मक सुदृढीकरण।
 II. नकारात्मक सुदृढीकरण।

- Ans A. I तथा II दोनों
 B. ना ही I ना ही II
 C. केवल I
 D. केवल II

Question ID : 1034357313

Section : Discipline3

- Q.1 मानसिक योग्यताओं के सन्दर्भ में निम्न में से किस प्रकार की बुद्धि को सही सुमेलित किया गया है?
- भाषाई - व्यक्ति के लिए स्थानिक जानकारी की कल्पना, परिवर्तन और उपयोग करना संभव बनाता है।
 - तर्क गणित - व्यक्तियों को अमूर्त गणितीय संबंधों का उपयोग करने की अनुमति देता है।
 - अंतर-व्यक्तिगत - व्यक्तियों को दूसरों को और स्वयं को प्रतिबिंबित करने की क्षमता प्रदान करता है।

Ans A. II तथा III

B. I, II तथा III

C. I तथा II

D. I तथा III

Question ID : 1034357327

- Q.2 खोजें $a^2 \times a^2 = ?$; व्याख्या: सूचकांकों के नियम से यह ज्ञात होता है कि $a^m \times a^n = a^{m+n}$ । यहां एक $a^2 \times a^{10} = a^{2+10} = a^{12}$ । यह परिदृश्य गणित को पढ़ाने और सीखने की किस विधि का प्रतिनिधित्व करता है?

I. आगमनात्मक

II. वियोजक

Ans A. केवल II

B. ना ही I ना ही II

C. केवल I

D. I तथा II दोनों

Question ID : 1034357336

- Q.3 320 में 3 का स्थानीय मान और 2 का अंकित मान क्या है?

Ans A. 300, 20

B. 200, 3

C. 200, 30

D. 300, 2

Question ID : 1034357335

- Q.4 निम्नलिखित में से कौन-सी विषय-केंद्रित उपागम की विशेषता है?
- इन छात्रों की सीखने की जरूरतों को पाठ्य पुस्तक के माध्यम से पूरा किया जाना चाहिए।
 - शिक्षक ज्यादातर पाठ्यक्रम सामग्री को पूरा करने के लिए चिंतित होते हैं।

Ans A. केवल II

B. ना ही I ना ही II

C. केवल I

D. I तथा II दोनों

Question ID : 1034357326

- Q.5 निम्नलिखित में से किसके द्वारा एक श्रोता एक संवाद को समझ सकता है?

I. संवाद के शब्दों पर आधारित

II. अपने पूर्वज्ञान के आधार पर

Ans A. केवल I

B. ना ही I ना ही II

C. केवल II

D. I तथा II दोनों

Question ID : 1034357333

Q.6 निम्नलिखित में से कौन सी प्रक्रिया समस्या समाधान में शामिल है?

- I. संदर्भ
- II. तुलना
- III. अवलोकन

- Ans
- A. II तथा III
 - B. I तथा II
 - C. I, II तथा III
 - D. केवल II

Question ID : 1034357337

Q.7 शिक्षक-केंद्रित दृष्टिकोण क्या है?

- I. कक्षा में सब कुछ शिक्षक पर निर्भर करता है।
- II. छात्र किसी भी मामले में बहुत कम बोलते हैं।

- Ans
- A. ना ही I ना ही II
 - B. I तथा II दोनों
 - C. केवल II
 - D. केवल I

Question ID : 1034357325

Q.8 यदि बच्चों को शिक्षक द्वारा बातचीत करने का अवसर दिया जाता है, तो निम्न में से कौन सा परिणाम हो सकता है?

- Ans
- A. उन्हें और लिखने की आदत हो जाएगी
 - B. वे आलसी हो जाएंगे
 - C. वे एक खेल में विशेषज्ञता हासिल करेंगे
 - D. वे अपनी भावनाओं और विचारों को व्यक्त करने में सक्षम होंगे

Question ID : 1034357334

Q.9 सुनने और झूठ करने वाले, झाड़ंग गेम के संदर्भ में, यह मदद करता है।

- I. सभी को एक साथ काम करना है।
- II. बच्चों को सुनना होगा।

- Ans
- A. केवल I
 - B. ना ही I ना ही II
 - C. केवल II
 - D. I तथा II दोनों

Question ID : 1034357329

Q.10 _____ समान वस्तुओं को एक निश्चित क्रम में व्यवस्थित करने की क्षमता है।

- Ans
- A. ऊंचाई
 - B. अनुकरण
 - C. निष्कासन
 - D. क्रमबद्धता

Question ID : 1034357324

Q.11 प्राथमिक स्तर पर पर्यावरण अध्ययन में कुछ प्रमुख विशेषताएं होनी चाहिए। निम्नलिखित में से कौन-सी वह विशेषता नहीं है?

- Ans A. गतिविधियों के चयन के लिए बच्चे की उम्र, मानसिक स्तर, योग्यता, रुचि और क्षमताएं मुख्य मानदंड होने चाहिए
- B. इसे प्राकृतिक जिज्ञासा को नहीं बढ़ाना चाहिए
- C. इसे बच्चे को पर्यावरण के अनुकूल जीवन शैली अपनाने में सक्षम बनाना चाहिए
- D. इसे बच्चों में वांछित कौशल विकसित करना चाहिए

Question ID : 1034357340

Q.12 Which of the following is a variety of the English language?
I. British English
II. Australian English

- Ans A. Both I and II
- B. Only II
- C. Neither I nor II
- D. Only I

Question ID : 1034357331

Q.13 बच्चों को हर समय नई चीजें याद रखने में मदद करने के लिए शिक्षक किन विभिन्न तरीकों का उपयोग कर सकते हैं?

- I. अनुमान
II. वर्गीकरण
III. प्रतिकार

- Ans A. I, II तथा III
- B. I तथा III
- C. I तथा II
- D. II तथा III

Question ID : 1034357330

Q.14 निम्नलिखित में से कौन से गणित शिक्षा के व्यापक और संकुचित उद्देश्य हैं?

- I. अनुकूलन
II. ह्युरिस्टिक्स का उपयोग।
III. अनुमान और सन्निकटन
IV. प्रतिनिधित्व

- Ans A. II तथा III
- B. II, III तथा IV
- C. I, II तथा IV
- D. I, II, III तथा IV

Question ID : 1034357338

Q.15 एक शिक्षक केंद्रित दृष्टिकोण की मुख्य विशेषताएं क्या हैं?

- I. ज्ञान का स्रोत शिक्षक है
II. सक्रिय शिक्षक निष्क्रिय छात्रों को जानकारी देते हैं

- Ans A. I तथा II दोनों
- B. केवल I
- C. केवल II
- D. ना ही I ना ही II

Question ID : 1034357322

Q.16 एक पर्यावरण अध्ययन कक्षा में, निम्नलिखित में से किस विषय पर छोटे समूह चर्चा की व्यवस्था की जा सकती है?

- I. क्या सर्कस जानवरों के प्रति क्रूरता है?
- II. क्या स्कूल कैटीन में फास्ट फूड बेचना चाहिए?
- III. सड़कें या पार्क : हमारे शहर को किस चीज की सबसे ज्यादा जरूरत है?

- Ans
- A. II तथा III
 - B. केवल II
 - C. I, II तथा III
 - D. I तथा II

Question ID : 1034357341

Q.17 निम्नलिखित में से कौन सा युग्म कंप्यूटर के उनके अवयव के साथ सही सुमेलित है?

- I. इनपुट डिवाइस - कीबोर्ड, माउस, ROM
- II. स्टोरेज डिवाइस - ROM, CD-R, CD-RW

- Ans
- A. I तथा II दोनों
 - B. केवल II
 - C. ना ही I ना ही II
 - D. केवल I

Question ID : 1034357323

Q.18 निम्नलिखित में से कौन सी ध्वनि कूड़ंग या गूड़ंग की प्रक्रिया में शामिल है?

- I. उउउउ
- II. ईईईई

- Ans
- A. I तथा II दोनों
 - B. ना ही I ना ही II
 - C. केवल I
 - D. केवल II

Question ID : 1034357328

Q.19 निम्नलिखित में से कौन सी विषय संरचना हिंदी में सही है?

- Ans
- A. कर्ता + क्रिया
 - B. कर्म + कर्ता
 - C. क्रिया + कर्म
 - D. कर्ता + कर्म + क्रिया

Question ID : 1034357332

Q.20 फील्ड ट्रिप के दौरान की सीख को समेकित करने के लिए कक्षा की अवधि की आवश्यकता हो सकती है।

- ऐसे सत्र में निम्नलिखित में से क्या शामिल हो सकता है?
- I. यात्रा के बारे में लिखना या चित्र बनाना।
 - II. प्रश्न-उत्तर सत्र।
 - III. चर्चाएँ।

- Ans
- A. केवल III
 - B. I तथा III
 - C. केवल II
 - D. I, II तथा III

Question ID : 1034357339

Section : Discipline4

Q.1 देश-मतदान का अधिकार' का निम्नलिखित में से कौन-सा युग्म सही है?

- I. भारत - 18 वर्ष
II. ऑस्ट्रिया - 16 वर्ष

Ans A. I तथा II दोनों
 B. केवल I
 C. ना ही I ना ही II
 D. केवल II

Question ID : 1034357356

Q.2 जीवित मिट्टी स्कूल के बगीचों में बच्चों के बीच अंतहीन प्रश्नों को आमंत्रित करती है, निम्नलिखित में से कौन से प्रश्न हैं?

- I. वे जड़ें वहां कैसे उतरतीं?
II. बाग में पानी भर जाए तो कीड़ों का क्या होगा?

Ans A. केवल II
 B. I तथा II दोनों
 C. ना ही I ना ही II
 D. केवल I

Question ID : 1034357351

Q.3 उस शिक्षा आयोग का नाम बताइए जिसने लोकतंत्र के लिए प्रशिक्षण प्रदान करने की सिफारिश की?

Ans A. संशोधित राष्ट्रीय नीति (1992)
 B. विश्वविद्यालय शिक्षा आयोग (1948-49)
 C. शिक्षा पर राष्ट्रीय नीति (1986)
 D. भारतीय शिक्षा आयोग (1964-66)

Question ID : 1034357344

Q.4 एक जीवित जीव पर्यावरण के विभिन्न घटकों के साथ अंतःक्रिया करता है। इनमें से अधिकांश अंतःक्रियाएँ बहुत जटिल हैं। इन अंतःक्रियाओं के प्रकारों के संबंध में निम्नलिखित में से कौन सा संयोजन सही है?

- I. प्राकृतिक पर्यावरण और सामाजिक-सांस्कृतिक वातावरण के बीच अंतःक्रिया - जल चक्र, चट्टानें।
II. विविध जीवित जीवों के बीच अंतःक्रिया - खाद्य श्रृंखला, खाद्य जाल।
III. प्राकृतिक पर्यावरण के जीवित घटकों के बीच अंतःक्रिया - वनों की कटाई।

Ans A. I, II तथा III
 B. केवल II
 C. II तथा III
 D. I तथा III

Question ID : 1034357342

Q.5 परिपक्वता एक ऐसी स्थिति को संदर्भित करती है जिसमें एक व्यक्ति निम्नलिखित में से किस पहलू में विकसित होता है?

- I. आध्यात्मिक रूप से
II. सामाजिक रूप से
III. भावनात्मक रूप से

Ans A. I, II तथा III
 B. I तथा II
 C. II तथा III
 D. केवल I

Question ID : 1034357354

Q.6 मूल्यांकन के संदर्भ में निम्नलिखित में से कौन सा युग्म सही सुमेलित है?

- I. सतत मूल्यांकन - सत्र के अंत में अंतिम ग्रेड
- II. व्यापक मूल्यांकन - मूल्यांकन की नियमितता

- Ans
- A. केवल I
 - B. I तथा II दोनों
 - C. केवल II
 - D. ना ही I ना ही II

Question ID : 1034357347

Q.7 कौन से कारक इंटरम्यूरल को नियंत्रित करते हैं?

- I. भूगोल
- II. जलवायु
- III. समय उपलब्ध

- Ans
- A. केवल II
 - B. केवल III
 - C. II तथा III
 - D. I, II तथा III

Question ID : 1034357361

Q.8 स्कूल में गिरने से बचने के लिए कौन से कदम उठाने चाहिए?

- I. विशेष आवश्यकता वाले बच्चों के लिए रैप
- II. लंच ब्रेक के दौरान स्वयंसेवकों की नियुक्ति की जानी चाहिए
- III. सीढ़ियों में छोटे कदम होने चाहिए

- Ans
- A. केवल I
 - B. I, II तथा III
 - C. केवल III
 - D. II तथा III

Question ID : 1034357360

Q.9 यौवन _____ के दौरान होने वाले शारीरिक परिवर्तनों को संदर्भित करता है।

- I. किशोरावस्था के प्रारंभिक भाग।
- II. बचपन।

- Ans
- A. ना ही I ना ही II
 - B. I तथा II दोनों
 - C. केवल I
 - D. केवल II

Question ID : 1034357353

Q.10 निम्नलिखित में से कौन सा कथन सही है?

- I. उपलब्ध संसाधनों के आधार पर खेलों का चयन करना होता है।
- II. खेलों का चयन करते समय मौसम को ध्यान में रखना चाहिए।

- Ans
- A. I तथा II दोनों
 - B. केवल I
 - C. ना ही I ना ही II
 - D. केवल II

Question ID : 1034357349

Q.11 सामाजिक विज्ञान के मातहत परिप्रेक्ष्य के संदर्भ में, निम्नलिखित में से कौन सा कथन सही है?
I. मातहत स्कूल ऑफ थिंक ब्रिटिश साम्राज्य और उनकी शैक्षिक नीतियों का महिमामंडन नहीं करता है।

II. मातहत परिप्रेक्ष्य नीचे से अभिजात्य समूहों की आधिपत्य शक्ति की प्रतिक्रिया है।

- Ans A. केवल II
 B. केवल I
 C. ना ही I ना ही II
 D. I तथा II दोनों

Question ID : 1034357345

Q.12 किशोरों में संज्ञानात्मक और बौद्धिक विकास के संबंध में निम्नलिखित में से कौन सा कथन सही है?
I. संज्ञानात्मक क्षमताओं में लाभ 8 और 12 की उम्र के बीच जबरदस्त है।
II. सूचना प्रसंस्करण दृष्टिकोण उस संज्ञानात्मक रणनीति की व्याख्या करने का प्रयास करता है जिसके द्वारा मानव मस्तिष्क सूचनाओं को संसाधित करता है।

- Ans A. केवल II
 B. ना ही I ना ही II
 C. केवल I
 D. I तथा II दोनों

Question ID : 1034357358

Q.13 सूफी _____ की एक प्रदर्शन कला है।

- Ans A. क्षेत्रीय संगीत
 B. पाखंड
 C. शास्त्रीय नृत्य
 D. शास्त्रीय संगीत

Question ID : 1034357346

Q.14 मध्याह्न भोजन 'दिन के राशन' से बेहतर क्यों है?
I. मध्याह्न भोजन बच्चों को अपने माता-पिता से ज्यादा बहलाने या मानाने के बिना खुद स्कूल जाने के लिए प्रेरित करता है।
II. मध्याह्न भोजन लंच ब्रेक के बाद भी विद्यार्थियों को स्कूल में बनाए रखना भी आसान बनाता है।

- Ans A. ना ही I ना ही II
 B. केवल I
 C. I तथा II दोनों
 D. केवल II

Question ID : 1034357359

Q.15 किशोरावस्था _____ की उम्र के बीच समाप्त होती है।

- Ans A. 21 से 25 वर्ष
 B. 18 से 21 वर्ष
 C. 10 से 12 वर्ष
 D. 16 से 18 वर्ष

Question ID : 1034357355

Q.16 अभिभावक और वार्ड अधिनियम (GAWA), 1890, उस हिस्से को अभिभावक का दर्जा प्रदान करता है, जो बच्चे के _____ वर्ष की आयु पूरी होने के बाद समाप्त हो जाता है।

- Ans A. 21
 B. 15
 C. 18
 D. 25

Question ID : 1034357352

Q.17 किशोरावस्था के दौरान होने वाले शारीरिक परिवर्तनों के संबंध में निम्नलिखित में से कौन सा कथन सही है?

- I. ये परिवर्तन हाइपोथैलेमस और अंतःस्रावी ग्रंथियों द्वारा ट्रिगर होते हैं।
 II. किशोरावस्था में मुंहासों की समस्या से जुड़े हार्मोन के स्तर में वृद्धि पाई जाती है।

- Ans A. केवल II
 B. I तथा II दोनों
 C. केवल I
 D. ना ही I ना ही II

Question ID : 1034357357

Q.18 कौन सा विषय विद्यार्थियों में संपूर्ण विश्व से परिचित होने की भावना ला सकता है?

- I. विश्व इतिहास
 II. विश्व का भूगोल

- Ans A. I तथा II दोनों
 B. केवल II
 C. केवल I
 D. ना ही I ना ही II

Question ID : 1034357343

Q.19 रस के संदर्भ में निम्नलिखित में से कौन सा कथन सही है?

- I. भरत मुनि ने आठ रसों या भावनाओं की अवस्थाओं को रेखांकित किया।
 II. करुण रस का मुख्य अर्थ दुख होता है।
 III. लक्ष्मणगुप्त ने शांत रस का प्रस्ताव रखा था

- Ans A. I तथा III
 B. II तथा III
 C. I तथा II
 D. I, II तथा III

Question ID : 1034357348

Q.20 बॉक्सिंग का प्रत्येक राउंड _____ मिनट का होता है (अंतराल समय को छोड़कर)।

- Ans A. 2
 B. 5
 C. 4
 D. 3

Question ID : 1034357350

Section : Discipline5

- Q.1 ज्ञान के संदर्भ में, निम्नलिखित में से कौन सा कथन सही है?
 I. ज्ञान की तुलना बुद्धि से की जा सकती है, ज्ञान बुद्धिमानी है और बुद्धिमानी विपणन योग्य है।
 II. बुद्धिमानी अनंत है, इसमें ज्ञान और क्रिया का तरीका शामिल है।

Ans A. केवल I
 B. I तथा II दोनों
 C. ना ही I ना ही II
 D. केवल II

Question ID : 1034357372

- Q.2 शिक्षक कार्य के संदर्भ में निम्नलिखित में से कौन सा कथन सही है?
 I. शिक्षक स्कूल प्रणाली में सदस्य के मूल्य विचार को प्रभावित करता है।
 II. वह माता-पिता, छात्रों और सहकर्मियों को प्रेरित करता है।

Ans A. ना ही I ना ही II
 B. I तथा II दोनों
 C. केवल II
 D. केवल I

Question ID : 1034357381

- Q.3 उस व्यक्ति का नाम बताइए जिसने कहा था की "नेतृत्व अंततः लोगों के लिए कुछ अतिरिक्त सामान्य घटित करने में योगदान करने के लिए एक रास्ता बनाने के बारे में है"।

Ans A. केन ओबोनिया
 B. अब्राहम लिंकन
 C. एलन कीथ
 D. नेल्सन मंडेला

Question ID : 1034357375

- Q.4 भय के संदर्भ में, निम्नलिखित में से कौन सा कथन सही है?
 I. इसे अनुशासन, उच्च बनाने की क्रिया या इच्छा के किसी अन्य कार्य के माध्यम से समाप्त नहीं किया जा सकता है।
 II. यह मन और हृदय को सुस्त कर देता है जिससे हम जीवन के संपूर्ण महत्व के प्रति सचेत नहीं होते हैं।

Ans A. केवल I
 B. I तथा II दोनों
 C. ना ही I ना ही II
 D. केवल II

Question ID : 1034357371

- Q.5 छात्रों और माता पिता को उनकी प्रगति के बारे में सूचित करने के क्या कारण हैं?
 I. उपलब्धियों की जरूरतों और व्यवहार के बारे में बताने के लिए
 II. भय को अधिकतम करने के लिए
 III. छात्र और माता-पिता दोनों को हतोत्साहित करने के लिए
 IV. उनकी भविष्य की योजना बनाने में मदद करने के लिए

Ans A. I तथा II
 B. I, II, III तथा IV
 C. II तथा III
 D. I

Question ID : 1034357369

Q.6 किस आयोग ने शिक्षा के शैक्षणिक स्वरूप में बड़े बदलाव की आवश्यकता महसूस की थी?

- Ans
- A. विश्वविद्यालय शिक्षा आयोग (1948-49)
 - B. माध्यमिक शिक्षा आयोग (1952-53)
 - C. राष्ट्रीय ज्ञान आयोग (2009)
 - D. शिक्षा आयोग (1964-66)

Question ID : 1034357367

Q.7 उस व्यक्ति का नाम बताइए जिसने नेतृत्व के व्यापक भारतीय विवरण और स्पष्टीकरण प्रस्तुत किए।

- I. बर्न्स
- II. वाटसन
- III. रोस्ट

- Ans
- A. I तथा III
 - B. I, II तथा III
 - C. II तथा III
 - D. I तथा II

Question ID : 1034357376

Q.8 _____ हमारे विचारों और भावनाओं को कोमल उम्र से ढालता है।

- I. राय
- II. परंपरा

- Ans
- A. केवल II
 - B. ना ही I ना ही II
 - C. केवल I
 - D. I तथा II दोनों

Question ID : 1034357370

Q.9 निम्नलिखित में से कौन स्कूल प्रबंधन समिति का कार्य नहीं है?

- I. निर्माण गतिविधियों का पर्यवेक्षण करना।
- II. राष्ट्र की शिक्षा नीतियाँ बनाना।
- III. विभिन्न विषयों में बच्चों के विकास की निगरानी करना।

- Ans
- A. केवल I
 - B. केवल II
 - C. I, II तथा III
 - D. I तथा III

Question ID : 1034357373

Q.10 समुद्री ध्वनि या तरंगों की ध्वनि की नकल करने के बारे में कौन सा प्राणायाम है?

- Ans
- A. उज्जयी प्राणायाम
 - B. कपालभाति प्राणायाम
 - C. शीतली प्राणायाम
 - D. दिर्गया प्राणायाम

Question ID : 1034357362

Q.11 माँ-बेटी मेला किस राज्य में मनाया जाने वाला एक सामुदायिक पहल है?

- Ans A. आंध्र प्रदेश
 B. मध्य प्रदेश
 C. उत्तर प्रदेश
 D. केरल

Question ID : 1034357377

Q.12 मदर्स क्लब के संदर्भ में निम्नलिखित में से कौन सा कथन सही है?

- Ans A. पुराने नागरिकों का जमावड़ा
 B. यह अनार्थों के लिए एक स्वास्थ्य क्लब है
 C. एक पार्टी क्लब
 D. शिक्षा से जुड़े मामलों पर चर्चा

Question ID : 1034357368

Q.13 निम्नलिखित में से कौन-सा एक 'कॉर्पस फंड' है जो किसी व्यक्ति या परिवार द्वारा अच्छे सामाजिक उद्देश्य के लिए दिया जाता है?

- I. अक्षय निधि
 II. वेतन

- Ans A. केवल II
 B. ना ही I ना ही II
 C. केवल I
 D. I तथा II दोनों

Question ID : 1034357379

Q.14 शिक्षा के संदर्भ में निम्नलिखित में से कौन सा कथन सही है?

- I. शिक्षा समवर्ती सूची का हिस्सा है।
 II. केंद्र और राज्य सरकार दोनों ही शिक्षण संस्थानों के लिए कानून बनाती हैं।

- Ans A. केवल II
 B. केवल I
 C. I तथा II दोनों
 D. ना ही I ना ही II

Question ID : 1034357378

Q.15 धनुरासन के क्या फायदे हैं?

- I. यह गले को नई ऊर्जा देता है
 II. यह ट्यूमर को ठीक करता है।
 III. यह गैस्ट्रिक परेशानियों से छुटकारा दिलाता है

- Ans A. केवल I
 B. I, II तथा III
 C. केवल II
 D. I तथा II

Question ID : 1034357363

Q.16 निम्नलिखित में से कौन सी गतिविधियाँ सामाजिक विज्ञान अवधारणाओं का उदाहरण हैं?

- I. बढईगीरी
- II. मिट्टी के बर्तन
- III. परिवहन

- Ans
- A. I तथा III
 - B. II तथा III
 - C. I तथा II
 - D. I, II तथा III

Question ID : 1034357374

Q.17 स्वयं के लिए या सामाजिक कारण से उत्पादन की दिशा में किसी भी दिशा में किया गया शारीरिक श्रम _____ माना जाता है।

- Ans
- A. फुर्सत
 - B. कार्य
 - C. रोकना
 - D. विश्राम

Question ID : 1034357365

Q.18 _____ मीटर दौड़ को छोड़कर सभी मध्यम दूरी की दौड़ में एक स्थायी शुरुआत की जाती है।

- Ans
- A. 1500
 - B. 5000
 - C. 3000
 - D. 800

Question ID : 1034357364

Q.19 फीस के संदर्भ में निम्नलिखित में से कौन सा कथन सही है?

- I. सरकारी सहायता प्राप्त स्कूल में, सरकार या घाटे के आधार सिद्धांत द्वारा सहायता अनुदान दिया जाता है।
- II. गैर सहायता प्राप्त निजी स्कूलों में फीस हमेशा सरकारी सहायता प्राप्त स्कूलों से कम होती है।

- Ans
- A. केवल II
 - B. ना ही I ना ही II
 - C. I तथा II दोनों
 - D. केवल I

Question ID : 1034357380

Q.20 कार्य शिक्षा का निम्नलिखित में से कौन सा कारक सही है?

- I. यह हाथ और मस्तिष्क में समन्वय स्थापित करता है
- II. सीखने की प्रक्रियाओं में यह आवश्यक है

- Ans
- A. I तथा II दोनों
 - B. केवल I
 - C. ना ही I ना ही II
 - D. केवल II

Question ID : 1034357366