

Question Paper Name: 05 Sociology 5th Dec 2019 Shift 2
Subject Name: 05 Sociology
Creation Date: 2019-12-05 19:14:42
Duration: 180
Total Marks: 300
Display Marks: Yes

05 Sociology

Group Number : 1
Group Id : 61547556
Group Maximum Duration : 0
Group Minimum Duration : 180
Revisit allowed for view? : No
Revisit allowed for edit? : No
Break time: 0
Group Marks: 300

PART I General Paper

Section Id : 615475117
Section Number : 1
Section type : Online
Mandatory or Optional: Mandatory
Number of Questions: 42
Number of Questions to be attempted: 42
Section Marks: 100
Display Number Panel: Yes
Group All Questions: No

Sub-Section Number: 1
Sub-Section Id: 615475382
Question Shuffling Allowed : Yes

Question Id : 6154758747 **Question Type :** COMPREHENSION **Sub Question Shuffling Allowed :** Yes **Group Comprehension Questions :** No

Question Numbers : (1 to 5)

Question Label : Comprehension

The table below presents the percentage profit earned by two companies A and B during the period 2013 to 2018. Based on the data given in the table, answer five questions that follow

Yearwise percentage (%) profit

Year	% Profit Earned	
	A	B
2013	20 %	35 %
2014	32 %	30 %
2015	40 %	50 %
2016	25 %	40 %
2017	30 %	30 %
2018	15 %	40 %

$$\text{[Where profit \%} = \frac{\text{(Income} - \text{Expenditure)}}{\text{Expenditure}} \times 100\text{]}$$

Sub questions

Question Number : 1 Question Id : 6154758748 Question Type : MCQ Option Shuffling : No Display Question Number : Yes
Single Line Question Option : No Option Orientation : Vertical

Correct Marks : 2 Wrong Marks : 0

If the expenditure of company B in the year 2013 was ₹ 17 lakhs, then what was its income in that year?

- (1) ₹ 22.95 lakhs (2) ₹ 23.15 lakhs
(3) ₹ 24.50 lakhs (4) ₹ 25.65 lakhs

Options :

61547534101. 1
61547534102. 2
61547534103. 3
61547534104. 4

Question Number : 2 Question Id : 6154758749 Question Type : MCQ Option Shuffling : No Display Question Number : Yes
Single Line Question Option : No Option Orientation : Vertical

Correct Marks : 2 Wrong Marks : 0

If the income of company A in the year 2017 is ₹ 26 lakhs, then what is the expenditure of company A in that year?

- (1) ₹ 33.8 lakhs (2) ₹ 22.5 lakhs
(3) ₹ 21.6 lakhs (4) ₹ 20.0 lakhs

Options :

61547534105. 1
61547534106. 2
61547534107. 3
61547534108. 4

Question Number : 3 Question Id : 6154758750 Question Type : MCQ Option Shuffling : No Display Question Number : Yes
Single Line Question Option : No Option Orientation : Vertical

Correct Marks : 2 Wrong Marks : 0

If the sum of expenditure of company B in the years 2014 and 2017 together is ₹ 48 lakhs, then what is the total income of company B in these two years together?

- (1) ₹ 62.4 lakhs (2) ₹ 36.2 lakhs
(3) ₹ 64.0 lakhs (4) ₹ 65.5 lakhs

Options :

61547534109. 1
61547534110. 2
61547534111. 3
61547534112. 4

Question Number : 4 Question Id : 6154758751 Question Type : MCQ Option Shuffling : No Display Question Number : Yes
Single Line Question Option : No Option Orientation : Vertical

Correct Marks : 2 Wrong Marks : 0

In which year is the ratio of income to expenditure of company A the maximum?

- (1) 2013 (2) 2017
(3) 2015 (4) 2018

Options :

61547534113. 1
61547534114. 2
61547534115. 3
61547534116. 4

Question Number : 5 Question Id : 6154758752 Question Type : MCQ Option Shuffling : No Display Question Number : Yes
Single Line Question Option : No Option Orientation : Vertical

Correct Marks : 2 Wrong Marks : 0

If the expenditure of company A in the year 2013 and company B in the year 2018 are the same, and the income of company B in the year 2018 is ₹ 77 lakhs, then what is the income of company A in the year 2013?

- (1) ₹ 55 lakhs (2) ₹ 66 lakhs
(3) ₹ 56 lakhs (4) ₹ 64 lakhs

Options :

61547534117. 1
61547534118. 2
61547534119. 3
61547534120. 4

Question Id : 6154758747 Question Type : COMPREHENSION Sub Question Shuffling Allowed : Yes Group Comprehension
Questions : No

Question Numbers : (1 to 5)

Question Label : Comprehension

निम्नलिखित तालिका में वर्ष 2013 से 2018 तक की अवधि के दौरान A और B दो कंपनियों द्वारा अर्जित प्रतिशत लाभ प्रदत्त है। तालिका में दिये गये आंकड़ों के आधार पर अगले पांच प्रश्नों का उत्तर दीजिए :

वर्षवार प्रतिशत (%) लाभ

वर्ष	अर्जित % लाभ	
	A	B
2013	20 %	35 %
2014	32 %	30 %
2015	40 %	50 %
2016	25 %	40 %
2017	30 %	30 %
2018	15 %	40 %

$$\text{(जहाँ, लाभ \% = } \frac{\text{(आय - व्यय)}}{\text{व्यय}} \times 100$$

Sub questions

Question Number : 1 Question Id : 6154758748 Question Type : MCQ Option Shuffling : No Display Question Number : Yes Single Line Question Option : No Option Orientation : Vertical

Correct Marks : 2 Wrong Marks : 0

यदि वर्ष 2013 में कंपनी B का व्यय रु. 17 लाख था, तो उस वर्ष इसकी आय कितनी थी?

- (1) रु. 22.95 लाख (2) रु. 23.15 लाख
(3) रु. 24.50 लाख (4) रु. 25.65 लाख

Options :

61547534101. 1
61547534102. 2
61547534103. 3
61547534104. 4

Question Number : 2 Question Id : 6154758749 Question Type : MCQ Option Shuffling : No Display Question Number : Yes Single Line Question Option : No Option Orientation : Vertical

Correct Marks : 2 Wrong Marks : 0

यदि वर्ष 2017 में कंपनी A की आय रु. 26 लाख है, तो उस वर्ष कंपनी A का व्यय कितना है?

- (1) रु. 33.8 लाख (2) रु. 22.5 लाख
(3) रु. 21.6 लाख (4) रु. 20.0 लाख

Options :

61547534105. 1
61547534106. 2
61547534107. 3
61547534108. 4

Question Number : 3 Question Id : 6154758750 Question Type : MCQ Option Shuffling : No Display Question Number : Yes Single Line Question Option : No Option Orientation : Vertical

Correct Marks : 2 Wrong Marks : 0

यदि वर्ष 2014 और 2017 में कंपनी B के व्यय की कुल राशि रु. 48 लाख है, तो इन दोनों वर्षों में कंपनी B की कुल आय कितनी है?

- (1) रु. 62.4 लाख (2) रु. 36.2 लाख
(3) रु. 64.0 लाख (4) रु. 65.5 लाख

Options :

61547534109. 1
61547534110. 2
61547534111. 3
61547534112. 4

Question Number : 4 Question Id : 6154758751 Question Type : MCQ Option Shuffling : No Display Question Number : Yes
Single Line Question Option : No Option Orientation : Vertical

Correct Marks : 2 Wrong Marks : 0

किस वर्ष में कंपनी A की आय और व्यय का अनुपात सर्वाधिक है?

- (1) 2013 (2) 2017
(3) 2015 (4) 2018

Options :

61547534113. 1
61547534114. 2
61547534115. 3
61547534116. 4

Question Number : 5 Question Id : 6154758752 Question Type : MCQ Option Shuffling : No Display Question Number : Yes
Single Line Question Option : No Option Orientation : Vertical

Correct Marks : 2 Wrong Marks : 0

यदि वर्ष 2013 में कंपनी A का व्यय और वर्ष 2018 में कंपनी B का व्यय समान है, और वर्ष 2018 में कंपनी B की आय रु. 77 लाख है, तो वर्ष 2013 में कंपनी A की आय कितनी है?

- (1) रु. 55 लाख (2) रु. 66 लाख
(3) रु. 56 लाख (4) रु. 64 लाख

Options :

61547534117. 1
61547534118. 2
61547534119. 3
61547534120. 4

Sub-Section Number: 2
Sub-Section Id: 615475383
Question Shuffling Allowed : Yes

Question Number : 6 Question Id : 6154758753 Question Type : MCQ Option Shuffling : No Display Question Number : Yes
Single Line Question Option : No Option Orientation : Vertical

Correct Marks : 2 Wrong Marks : 0

Consider the example of anumāna given below :

- (a) The mountain is fiery
- (b) Because it has smoke
- (c) Wherever there is smoke, there is fire.

Which one of the following expresses Vyāpti (relation of invariable concomitance)?

- (1) The relation of invariable concomitance between mountain and fire
- (2) The relation of invariable concomitance between mountain and smoke
- (3) The relation of invariable concomitance between fire and smoke
- (4) The relation of invariable concomitance between perceiver and the smoke

Options :

- 61547534121. 1
- 61547534122. 2
- 61547534123. 3
- 61547534124. 4

Question Number : 6 Question Id : 6154758753 Question Type : MCQ Option Shuffling : No Display Question Number : Yes
Single Line Question Option : No Option Orientation : Vertical

Correct Marks : 2 Wrong Marks : 0

अनुमान के संदर्भ में नीचे दिए गए उदाहरण पर विचार कीजिए :

- (a) पर्वत अग्निमय है।
- (b) क्योंकि वहां धुआं है
- (c) जहां धुआं होता है, वहां आग होती है

निम्नलिखित में से कौन सा उदाहरण व्याप्ति (नियत साहचर्य के संबंध) को अभिव्यक्त करता है :

- (1) पर्वत और अग्नि के मध्य नियत साहचर्य का संबंध
- (2) पर्वत और धुएँ के मध्य नियत साहचर्य का संबंध
- (3) अग्नि और धुएँ के मध्य नियत साहचर्य का संबंध
- (4) अनुभवग्राही और धुएँ के मध्य नियत साहचर्य का संबंध

Options :

- 61547534121. 1
- 61547534122. 2
- 61547534123. 3
- 61547534124. 4

Question Number : 7 Question Id : 6154758754 Question Type : MCQ Option Shuffling : No Display Question Number : Yes
Single Line Question Option : No Option Orientation : Vertical

Correct Marks : 2 Wrong Marks : 0

If income of X is 20% more than that of Y and income of Y is 25% less than that of Z, then the total income of X, Y and Z are in which of the following ratios?

- (1) 18 : 15 : 20 (2) 18 : 15 : 10
(3) 18 : 10 : 15 (4) 18 : 12 : 15

Options :

61547534125. 1
61547534126. 2
61547534127. 3
61547534128. 4

Question Number : 7 Question Id : 6154758754 Question Type : MCQ Option Shuffling : No Display Question Number : Yes
Single Line Question Option : No Option Orientation : Vertical

Correct Marks : 2 Wrong Marks : 0

यदि X की आय Y की आय से 20% ज्यादा है और Y की आय Z की आय से 25% कम है, तो X, Y और Z की कुल आय का निम्नलिखित में से क्या अनुपात है?

- (1) 18 : 15 : 20 (2) 18 : 15 : 10
(3) 18 : 10 : 15 (4) 18 : 12 : 15

Options :

61547534125. 1
61547534126. 2
61547534127. 3
61547534128. 4

Question Number : 8 Question Id : 6154758755 Question Type : MCQ Option Shuffling : No Display Question Number : Yes
Single Line Question Option : No Option Orientation : Vertical

Correct Marks : 2 Wrong Marks : 0

In a class, there are 60% female students and the remaining are male. 40% of the female students and 70% of the male students have opted for the research methodology course. If in all, 60 students have not opted for the research methodology course, which of the following is the total number of students in the class?

- (1) 120 (2) 125
(3) 130 (4) 140

Options :

61547534129. 1
61547534130. 2
61547534131. 3
61547534132. 4

Question Number : 8 Question Id : 6154758755 Question Type : MCQ Option Shuffling : No Display Question Number : Yes
Single Line Question Option : No Option Orientation : Vertical

Correct Marks : 2 Wrong Marks : 0

एक कक्षा में 60% छात्राये हैं और शेष छात्र हैं। 40% छात्राओं और 70% छात्रों ने शोध प्रविधि पाठ्यक्रम का चयन किया है। यहि सभी में से 60 छात्रों ने शोध प्रविधि पाठ्यक्रम नहीं चुना है तो कक्षा में कुल छात्रों की संख्या निम्नलिखित में से कितनी है?

- (1) 120 (2) 125
(3) 130 (4) 140

Options :

61547534129. 1
61547534130. 2
61547534131. 3
61547534132. 4

Question Number : 9 Question Id : 6154758756 Question Type : MCQ Option Shuffling : No Display Question Number : Yes
Single Line Question Option : No Option Orientation : Vertical

Correct Marks : 2 Wrong Marks : 0

Three taps A, B and C can fill a tank in 8, 10 and 12 hours respectively. The tap A is open all the time continuously. But taps B and C are open for one hour each alternately. How long will it take the tank to be full?

- (1) 4 hours (2) $4\frac{16}{27}$ hours
(3) $4\frac{2}{3}$ hours (4) $4\frac{1}{3}$ hours

Options :

61547534133. 1
61547534134. 2
61547534135. 3
61547534136. 4

Question Number : 9 Question Id : 6154758756 Question Type : MCQ Option Shuffling : No Display Question Number : Yes
Single Line Question Option : No Option Orientation : Vertical

Correct Marks : 2 Wrong Marks : 0

तीन नल A, B और C एक टैंक को क्रमशः 8, 10 और 12 घंटे में भर सकते हैं। नल A हर समय सतत रूप से खुला हुआ है। लेकिन नल B और C विकल्पतः एक-एक घंटे के लिए खुलते हैं। टैंक को पूरी तरह भरने में कितना समय लगेगा?

- (1) 4 घंटे (2) $4\frac{16}{27}$ घंटे
(3) $4\frac{2}{3}$ घंटे (4) $4\frac{1}{3}$ घंटे

Options :

61547534133. 1
61547534134. 2
61547534135. 3
61547534136. 4

Question Number : 10 Question Id : 6154758757 Question Type : MCQ Option Shuffling : No Display Question Number : Yes
Single Line Question Option : No Option Orientation : Vertical

Correct Marks : 2 Wrong Marks : 0

Montreal protocol was signed in order to address which of the following environmental issues?

- (1) Tropospheric ozone pollution (2) Depletion of ozone in the stratosphere
(3) Global warming (4) Acid rain

Options :

61547534137. 1
61547534138. 2
61547534139. 3
61547534140. 4

Question Number : 10 Question Id : 6154758757 Question Type : MCQ Option Shuffling : No Display Question Number : Yes
Single Line Question Option : No Option Orientation : Vertical

Correct Marks : 2 Wrong Marks : 0

मॉन्ट्रियल प्रोटोकॉल में निम्नलिखित में से किन पर्यावरण संबंधी मुद्दों के समाधान के लिए हस्ताक्षर किये गये थे?

- (1) ट्रोपोस्फेरिक ओजोन प्रदूषण (2) स्ट्रेटोस्फियर में ओजोन का अवक्षय
(3) ग्लोबल वार्मिंग (4) एसिड रेन (अम्लीय वर्षा)

Options :

61547534137. 1
61547534138. 2
61547534139. 3
61547534140. 4

Question Number : 11 Question Id : 6154758758 Question Type : MCQ Option Shuffling : No Display Question Number : Yes
Single Line Question Option : No Option Orientation : Vertical

Correct Marks : 2 Wrong Marks : 0

Which one of the following factors is a deterrent for the students to do well in higher education?

- (1) Political orientation (2) Academic strategies
(3) Comprehension ability (4) Academic discourse

Options :

61547534141. 1
61547534142. 2
61547534143. 3
61547534144. 4

Question Number : 11 Question Id : 6154758758 Question Type : MCQ Option Shuffling : No Display Question Number : Yes
Single Line Question Option : No Option Orientation : Vertical

Correct Marks : 2 Wrong Marks : 0

विद्यार्थियों के बेहतर निष्पादन हेतु निम्नांकित में कौन सा निरोधक है??

- | | |
|-----------------------|-----------------------|
| (1) राजनैतिक उन्मुखता | (2) अकादमिक रणनीतियाँ |
| (3) अवबोध स्तर | (4) अकादमिक विमर्श |

Options :

61547534141. 1
61547534142. 2
61547534143. 3
61547534144. 4

Question Number : 12 Question Id : 6154758759 Question Type : MCQ Option Shuffling : No Display Question Number : Yes
Single Line Question Option : No Option Orientation : Vertical

Correct Marks : 2 Wrong Marks : 0

Schistosomiasis, a common water contact disease, is spread by which of the following?

- | | |
|--------------|------------|
| (1) Giardia | (2) E.Coli |
| (3) Cercaria | (4) Amoeba |

Options :

61547534145. 1
61547534146. 2
61547534147. 3
61547534148. 4

Question Number : 12 Question Id : 6154758759 Question Type : MCQ Option Shuffling : No Display Question Number : Yes
Single Line Question Option : No Option Orientation : Vertical

Correct Marks : 2 Wrong Marks : 0

सिस्टोस्मियासिस जो कि पानी के संपर्क में आने से होने वाली एक सामान्य बीमारी है, निम्नलिखित में से किससे फैलती है?

- | | |
|----------------|--------------|
| (1) गियार्डिया | (2) ई. कोलाई |
| (3) सरकेरिया | (4) अमीबा |

Options :

61547534145. 1
61547534146. 2
61547534147. 3
61547534148. 4

Question Number : 13 Question Id : 6154758760 Question Type : MCQ Option Shuffling : No Display Question Number : Yes
Single Line Question Option : No Option Orientation : Vertical

Correct Marks : 2 Wrong Marks : 0

Identify the technical term used to describe body language from the following

- | | |
|---------------|----------------|
| (1) Proxemics | (2) Chronemics |
| (3) Kinesics | (4) Haptics |

Options :

61547534149. 1

61547534150. 2
61547534151. 3
61547534152. 4

**Question Number : 13 Question Id : 6154758760 Question Type : MCQ Option Shuffling : No Display Question Number : Yes
Single Line Question Option : No Option Orientation : Vertical**

Correct Marks : 2 Wrong Marks : 0

निम्नलिखित में से आंगिक भाषा को वर्णित करने के लिए प्रयुक्त तकनीकी शब्द की पहचान कीजिए :

- | | |
|-------------------------|-----------------------|
| (1) सामीप्य संसूचकता | (2) समय सूचक संप्रेषण |
| (3) अंगविक्षेप संसूचकता | (4) स्पर्श संप्रेषण |

Options :

61547534149. 1
61547534150. 2
61547534151. 3
61547534152. 4

**Question Number : 14 Question Id : 6154758761 Question Type : MCQ Option Shuffling : No Display Question Number : Yes
Single Line Question Option : No Option Orientation : Vertical**

Correct Marks : 2 Wrong Marks : 0

Identify the correct sequence of one way process of communication, from the following sequences

- (1) Sender, Decoding, Message, Channel, Encoding, Receiver
- (2) Sender, Encoding, Message, Channel, Decoding, Receiver
- (3) Receiver, Encoding, Message, Channel, Decoding, Sender
- (4) Sender, Message, Decoding, Encoding, Channel, Receiver

Options :

61547534153. 1
61547534154. 2
61547534155. 3
61547534156. 4

**Question Number : 14 Question Id : 6154758761 Question Type : MCQ Option Shuffling : No Display Question Number : Yes
Single Line Question Option : No Option Orientation : Vertical**

Correct Marks : 2 Wrong Marks : 0

निम्नलिखित में से एक तरफा संप्रेषण प्रक्रिया के सही क्रम की पहचान कीजिए :

- (1) प्रेषक, विकोडन, संदेश, माध्यम, संकेतन, प्राप्तकर्ता
- (2) प्रेषक, संकेतन, संदेश, माध्यम, विकोडन, प्राप्तकर्ता
- (3) प्राप्तकर्ता, संकेतन, संदेश, माध्यम, विकोडन, प्रेषक
- (4) प्रेषक, संदेश, विकोडन, संकेतन, माध्यम, प्राप्तकर्ता

Options :

61547534153. 1
61547534154. 2
61547534155. 3
61547534156. 4

Question Number : 15 Question Id : 6154758762 Question Type : MCQ Option Shuffling : No Display Question Number : Yes
Single Line Question Option : No Option Orientation : Vertical

Correct Marks : 2 Wrong Marks : 0

Identify the form of education having high potential for providing optimism, self-esteem and commitment to personal fulfillment, ethical judgement and social responsibility from the following :

- | | |
|----------------------|-------------------------|
| (1) Formal education | (2) Technical education |
| (3) Moral education | (4) Value education |

Options :

61547534157. 1
61547534158. 2
61547534159. 3
61547534160. 4

Question Number : 15 Question Id : 6154758762 Question Type : MCQ Option Shuffling : No Display Question Number : Yes
Single Line Question Option : No Option Orientation : Vertical

Correct Marks : 2 Wrong Marks : 0

निम्नांकित में से उस शिक्षा के स्वरूप की पहचान कीजिए जिसमें आशवादिता, आत्म सम्मान तथा वैयक्तिक पूर्णता हेतु प्रतिबद्धता, नैतिक निर्णय तथा सामाजिक दायित्व के निर्वहन का अवसर देने की उच्च सम्मानता है?

- | | |
|--------------------|-------------------|
| (1) औपचारिक शिक्षा | (2) तकनीकी शिक्षा |
| (3) नैतिक शिक्षा | (4) मूल्य शिक्षा |

Options :

61547534157. 1
61547534158. 2
61547534159. 3
61547534160. 4

Question Number : 16 Question Id : 6154758763 Question Type : MCQ Option Shuffling : No Display Question Number : Yes
Single Line Question Option : No Option Orientation : Vertical

Correct Marks : 2 Wrong Marks : 0

“Fire is cold, because it is a substance” – is an instance of which one of the hetuābhāsas (fallacy of inference)

- (1) A siddha (unproved middle term)
- (2) Bādhita (non-inferential contradicted middle)
- (3) Virūdhā (contradictory middle)
- (4) Saryābhic'āra (irregular middle)

Options :

61547534161. 1
61547534162. 2
61547534163. 3
61547534164. 4

Question Number : 16 Question Id : 6154758763 Question Type : MCQ Option Shuffling : No Display Question Number : Yes
Single Line Question Option : No Option Orientation : Vertical

Correct Marks : 2 Wrong Marks : 0

“अग्नि शीतल है क्योंकि यह एक पदार्थ है” - निम्नलिखित में से क्या हेत्वाभास (निष्कर्ष दोष) का दृष्टान्त है?

- | | |
|-----------------------------|--------------------------------------|
| (1) असिद्ध (असिद्ध मध्य पद) | (2) बाधित (अनानुमानिक व्याघाती मध्य) |
| (3) विरुद्ध (व्याघाती मध्य) | (4) सव्याभिचार (अनियमित मध्य) |

Options :

61547534161. 1

61547534162. 2

61547534163. 3

61547534164. 4

Question Number : 17 Question Id : 6154758764 Question Type : MCQ Option Shuffling : No Display Question Number : Yes
Single Line Question Option : No Option Orientation : Vertical

Correct Marks : 2 Wrong Marks : 0

Which one of the following statements is correct with reference to a deductive argument?

- (1) The relation between premises and conclusion is one of matter of fact
- (2) The relation between premises and conclusion is one of logical necessity
- (3) The relation between premises and conclusion is that of empirical necessity
- (4) the relation between premises and conclusion is a matter of ascertainment of probability

Options :

61547534165. 1

61547534166. 2

61547534167. 3

61547534168. 4

Question Number : 17 Question Id : 6154758764 Question Type : MCQ Option Shuffling : No Display Question Number : Yes
Single Line Question Option : No Option Orientation : Vertical

Correct Marks : 2 Wrong Marks : 0

निम्नलिखित में से कौन सा कथन निगमनात्मक तर्क से संदर्भ में सही है?

- (1) आधार-वाक्य और निष्कर्ष के मध्य बताने वाला संबंध तथ्यात्मक है
- (2) आधार-वाक्य और निष्कर्ष के मध्य बताने वाला संबंध तार्किक अनिवार्यता का संबंध है
- (3) आधार-वाक्य और निष्कर्ष के मध्य बताने वाला संबंध आनुभविक अनिवार्यता का संबंध है
- (4) आधार-वाक्य और निष्कर्ष के मध्य का संबंध सम्भाव्यता के निर्धारण का मुद्दा है।

Options :

61547534165. 1

61547534166. 2
61547534167. 3
61547534168. 4

Question Number : 18 Question Id : 6154758765 Question Type : MCQ Option Shuffling : No Display Question Number : Yes
Single Line Question Option : No Option Orientation : Vertical
Correct Marks : 2 Wrong Marks : 0

If two propositions are related in such a way that they cannot both be true together, although both may be false together, then such a relation is considered to be

- (1) Contrary (2) Contradictory
(3) Subaltern (4) Sub-contrary

Options :

61547534169. 1
61547534170. 2
61547534171. 3
61547534172. 4

Question Number : 18 Question Id : 6154758765 Question Type : MCQ Option Shuffling : No Display Question Number : Yes
Single Line Question Option : No Option Orientation : Vertical
Correct Marks : 2 Wrong Marks : 0

यदि दो प्रस्थापनाएं एक-दूसरे से इस प्रकार संबंधित हों कि वे दोनों एक साथ सत्य नहीं हो सकतीं, यद्यपि दोनों एक साथ असत्य हो सकती हैं, तो ऐसे संबंध को माना जाता है :

- (1) विपरीतक (2) व्याघाती
(3) गौण/उपाश्रित (4) उप-विपरीतक

Options :

61547534169. 1
61547534170. 2
61547534171. 3
61547534172. 4

Question Number : 19 Question Id : 6154758766 Question Type : MCQ Option Shuffling : No Display Question Number : Yes
Single Line Question Option : No Option Orientation : Vertical
Correct Marks : 2 Wrong Marks : 0

Which one of the following is true with respect to the first figure of categorical syllogism?

- (1) The middle term is the subject of the major premise and the predicate of the minor premise
- (2) The middle term is the predicate of the major premise and subject of the minor premise
- (3) The middle term is the subject of the major premise and the predicate of the conclusion
- (4) The middle term is the subject of the minor premise and the predicate of the conclusion

Options :

61547534173. 1
61547534174. 2
61547534175. 3
61547534176. 4

Question Number : 19 Question Id : 6154758766 Question Type : MCQ Option Shuffling : No Display Question Number : Yes
Single Line Question Option : No Option Orientation : Vertical

Correct Marks : 2 Wrong Marks : 0

निम्नलिखित में से कौन सा कथन निरपेक्ष न्यायवाक्य के प्रथम लक्षण के संबंध में सत्य है ?

- (1) मध्य पद साध्य-आधारिका का उद्देश्य एवं पक्ष-आधारिका का विधेय है।
- (2) मध्य पद साध्य-आधारिका का विधेय एवं पक्ष-आधारिका का उद्देश्य है।
- (3) मध्य पद साध्य-आधारिका का उद्देश्य एवं निष्कर्ष का विधेय है।
- (4) मध्य पद पक्ष-आधारिका का उद्देश्य एवं निष्कर्ष का विधेय है।

Options :

61547534173. 1
61547534174. 2
61547534175. 3
61547534176. 4

Question Number : 20 Question Id : 6154758767 Question Type : MCQ Option Shuffling : No Display Question Number : Yes
Single Line Question Option : No Option Orientation : Vertical

Correct Marks : 2 Wrong Marks : 0

In a developing country like India which among the following statements is indicative of challenges in the context of computer based testing?

- (1) Many teachers do not have knowledge of computer
- (2) Computer will destroy guru-shishya relationship
- (3) Indian government can't afford to buy a large number of computers
- (4) In remote locations availability of computer and electricity is not feasible

Options :

61547534177. 1

61547534178. 2

61547534179. 3

61547534180. 4

Question Number : 20 Question Id : 6154758767 Question Type : MCQ Option Shuffling : No Display Question Number : Yes
Single Line Question Option : No Option Orientation : Vertical

Correct Marks : 2 Wrong Marks : 0

भारत जैसे विकासशील देश में निम्नलिखित में से कौन सा कथन कम्प्यूटर आधारित परिक्षण के सन्दर्भ में चुनौतियों का परिसूचक है?

- (1) कई शिक्षकों को कंप्यूटर का ज्ञान नहीं होता।
- (2) कंप्यूटर गुरु-शिष्य के रिश्तों को समाप्त कर देगा
- (3) भारत सरकार बड़ी संख्या में कंप्यूटर नहीं खरीद सकती
- (4) दूरस्थ स्थानों में कंप्यूटर और विद्युत की उपलब्धता संभव नहीं है।

Options :

61547534177. 1

61547534178. 2

61547534179. 3

61547534180. 4

Question Number : 21 Question Id : 6154758768 Question Type : MCQ Option Shuffling : No Display Question Number : Yes
Single Line Question Option : No Option Orientation : Vertical

Correct Marks : 2 Wrong Marks : 0

Which among the following is least important for the academic success of students?

- (1) Cognitive competence
- (2) Emotional competence
- (3) Legal competence
- (4) Social competence

Options :

61547534181. 1

61547534182. 2
61547534183. 3
61547534184. 4

Question Number : 21 Question Id : 6154758768 Question Type : MCQ Option Shuffling : No Display Question Number : Yes
Single Line Question Option : No Option Orientation : Vertical

Correct Marks : 2 Wrong Marks : 0

विद्यार्थियों की अकादमिक सफलता के लिए निम्नलिखित में से कौन न्यूनतम रूप में महत्वपूर्ण है?

- | | |
|--------------------------|-----------------------|
| (1) संज्ञानात्मक सक्षमता | (2) भावनात्मक सक्षमता |
| (3) विधिक सक्षमता | (4) सामाजिक सक्षमता |

Options :

61547534181. 1
61547534182. 2
61547534183. 3
61547534184. 4

Question Number : 22 Question Id : 6154758769 Question Type : MCQ Option Shuffling : No Display Question Number : Yes
Single Line Question Option : No Option Orientation : Vertical

Correct Marks : 2 Wrong Marks : 0

According to one paradigm of research, following sequence is followed by the researchers :

Theory → Generation of hypotheses → Data collection → Data analysis and results →
Hypotheses confirmed or rejected → Revision of theory

This way of conceptualizing research is based on which of the following :

- | | |
|--------------------------|-----------------------------|
| (1) Inductive approach | (2) Deductive approach |
| (3) Qualitative approach | (4) Interpretative approach |

Options :

61547534185. 1
61547534186. 2
61547534187. 3
61547534188. 4

Question Number : 22 Question Id : 6154758769 Question Type : MCQ Option Shuffling : No Display Question Number : Yes
Single Line Question Option : No Option Orientation : Vertical

Correct Marks : 2 Wrong Marks : 0

एक अनुसंधान प्रतिमान के अनुसार अनुसंधानकर्ताओं द्वारा निम्नलिखित क्रम को अपनाया जाता है :

सिद्धांत → परिकल्पना निर्माण → आंकड़ा संग्रहण → आंकड़ा विश्लेषण और परिणाम निर्धारण → परिकल्पना की
स्वीकृति या अस्वीकृति → सिद्धांत में संशोधन

इस ढंग से शोध का सम्प्रत्ययीकरण निम्नांकित में किस पर आधारित है?

- | | |
|---------------------|------------------------|
| (1) आगमनात्मक उपागम | (2) निगमनात्मक उपागम |
| (3) गुणात्मक उपागम | (4) निर्वचनात्मक उपागम |

Options :

- 61547534185. 1
- 61547534186. 2
- 61547534187. 3
- 61547534188. 4

Question Number : 23 Question Id : 6154758770 Question Type : MCQ Option Shuffling : No Display Question Number : Yes Single Line Question Option : No Option Orientation : Vertical

Correct Marks : 2 Wrong Marks : 0

Which of the following statements fails to indicate the intent of purposive sampling?

- (1) Purposive sampling is not the fundamental principle for selecting cases and individuals in qualitative research.
- (2) Purposive sampling places the investigator's research questions at the forefront of sampling considerations.
- (3) Theoretical saturation is a useful principle for making decision about sample size.
- (4) There is considerable disagreement about what is an acceptable minimum sample size in qualitative research.

Options :

- 61547534189. 1
- 61547534190. 2
- 61547534191. 3
- 61547534192. 4

Question Number : 23 Question Id : 6154758770 Question Type : MCQ Option Shuffling : No Display Question Number : Yes Single Line Question Option : No Option Orientation : Vertical

Correct Marks : 2 Wrong Marks : 0

सोद्देश्य प्रतिदर्श के बारे में इनमें से कौन सा कथन इसके आशय को संसूचित करने में असमर्थ है?

- (1) गुणात्मक शोध में व्यष्टियों एवं व्यक्तियों के चयन हेतु सोद्देश्य प्रतिदर्श एक आधारभूत सिद्धान्त नहीं है।
- (2) सोद्देश्य प्रतिदर्श, शोधकर्ता के प्रश्नों को प्रतिदर्श चयन में अहमियत देता है।
- (3) प्रतिदर्श के आकार के बारे में निर्णय लेने के लिए सैद्धांतिक संतुष्टिपरकता एक उपयोगी सिद्धांत है।
- (4) गुणात्मक अनुसंधान में न्यूनतम प्रतिदर्श आकार की स्वीकार्यता के बारे में काफी मतभेद हैं।

Options :

- 61547534189. 1
- 61547534190. 2
- 61547534191. 3
- 61547534192. 4

Question Number : 24 Question Id : 6154758771 Question Type : MCQ Option Shuffling : No Display Question Number : Yes Single Line Question Option : No Option Orientation : Vertical

Correct Marks : 2 Wrong Marks : 0

Identify the skills promoted by communication from the following :

- (a) Reading and Listening
- (b) Listening and helping
- (c) Helping and speaking
- (d) Speaking and writing

Choose the correct option :

- (1) (a) and (b) only
- (2) (b) and (c) only
- (3) (a) and (d) only
- (4) (c) and (d) only

Options :

61547534193. 1

61547534194. 2

61547534195. 3

61547534196. 4

Question Number : 24 Question Id : 6154758771 Question Type : MCQ Option Shuffling : No Display Question Number : Yes
Single Line Question Option : No Option Orientation : Vertical

Correct Marks : 2 Wrong Marks : 0

निम्नलिखित में से संप्रेषण द्वारा संवर्धित होने वाले कौशलों की पहचान कीजिए :

- (a) वाचन तथा श्रवण
- (b) श्रवण तथा सहायता
- (c) सहायता तथा संभाषण
- (d) संभाषण तथा लेखन

सही विकल्प का चयन करें :

- (1) केवल (a) और (b)
- (2) केवल (b) और (c)
- (3) केवल (a) और (d)
- (4) केवल (c) और (d)

Options :

61547534193. 1

61547534194. 2

61547534195. 3

61547534196. 4

**Question Number : 25 Question Id : 6154758772 Question Type : MCQ Option Shuffling : No Display Question Number : Yes
Single Line Question Option : No Option Orientation : Vertical**

Correct Marks : 2 Wrong Marks : 0

Choose the oriental learning institutes in India from the following :

- (a) Asiatic Society
- (b) Madras Sanskrit College
- (c) Tezpur University
- (d) Mythic Society

Choose the correct option :

- (1) (a), (b) and (d) only
- (2) (a), (b) and (c) only
- (3) (a), (c) and (d) only
- (4) (b), (c) and (d) only

Options :

61547534197. 1

61547534198. 2

61547534199. 3

61547534200. 4



**Question Number : 25 Question Id : 6154758772 Question Type : MCQ Option Shuffling : No Display Question Number : Yes
Single Line Question Option : No Option Orientation : Vertical**

Correct Marks : 2 Wrong Marks : 0

निम्नलिखित में से भारत में प्राच्य अधिगम संस्थानों का चयन कीजिए :

- (a) एशियाटिक सोसाइटी
- (b) मद्रास संस्कृत कॉलेज
- (c) तेजपुर विश्वविद्यालय
- (d) मिथिक सोसाइटी

सही विकल्प का चयन करें :

- (1) केवल (a), (b) और (d)
- (2) केवल (a), (b) और (c)
- (3) केवल (a), (c) और (d)
- (4) केवल (b), (c) और (d)

Options :

- 61547534197. 1
- 61547534198. 2
- 61547534199. 3
- 61547534200. 4

Question Number : 26 Question Id : 6154758773 Question Type : MCQ Option Shuffling : No Display Question Number : Yes
Single Line Question Option : No Option Orientation : Vertical
Correct Marks : 2 Wrong Marks : 0

With regard to "Digilocker", which of the following statements are correct?

- (a) It is a digital locker system offered by the Government under Digital India Programme
- (b) It provides financial and technical assistance to young start-up entrepreneurs
- (c) It allows users to access their e-documents irrespective of physical location

Choose the correct option :

- (1) (a) and (b) only
- (2) (a) and (c) only
- (3) (b) and (c) only
- (4) (a), (b) and (c)

Options :

- 61547534201. 1

61547534202. 2

61547534203. 3

61547534204. 4

Question Number : 26 Question Id : 6154758773 Question Type : MCQ Option Shuffling : No Display Question Number : Yes
Single Line Question Option : No Option Orientation : Vertical

Correct Marks : 2 Wrong Marks : 0

‘डिजिटल लॉकर’ के संबंध में निम्नलिखित में से कौन से कथन सही हैं?

- (a) यह डिजिटल इंडिया कार्यक्रम के अन्तर्गत सरकार द्वारा प्रस्तावित एक डिजिटल लॉकर प्रणाली है।
- (b) यह युवा स्टार्ट अप उद्यमियों को वित्तीय और तकनीकी सहायता प्रदान करता है।
- (b) चाहे भौतिक अवस्थिति कुछ भी हो, इसके माध्यम से उपयोगकर्ता का ई-प्रलेखों तक पहुँच संभव है।

सही विकल्प चुनिए :

- (1) केवल (a) और (b) (2) केवल (a) और (c)
- (3) केवल (b) और (c) (4) केवल (a), (b) और (c)

Options :

61547534201. 1

61547534202. 2

61547534203. 3

61547534204. 4

Question Number : 27 Question Id : 6154758774 Question Type : MCQ Option Shuffling : No Display Question Number : Yes
Single Line Question Option : No Option Orientation : Vertical

Correct Marks : 2 Wrong Marks : 0

Which of the following statements are correct?

- (a) Google's web browser is called 'Chrome'
- (b) Apple's web browser is called 'Safari'
- (c) "Mozilla firefox" is an open source web browsing software

Choose the correct option :

- (1) (a) and (b) only
- (2) (a) and (c) only
- (3) (b) and (c) only
- (4) (a), (b) and (c)

Options :

- 61547534205. 1
- 61547534206. 2
- 61547534207. 3
- 61547534208. 4

Question Number : 27 Question Id : 6154758774 Question Type : MCQ Option Shuffling : No Display Question Number : Yes
Single Line Question Option : No Option Orientation : Vertical

Correct Marks : 2 Wrong Marks : 0

निम्नलिखित में से कौन से कथन सही हैं?

- (a) गूगल का वेब ब्राउजर 'क्रोम' कहलाता है।
- (b) एप्पल का वेब ब्राउजर 'सफारी' कहलाता है।
- (b) 'मोजिला फायरफोक्स' एक ओपन सोर्स वेब ब्राउजिंग साफ्टवेयर है।

सही विकल्प चुनें :

- (1) केवल (a) और (b)
- (2) केवल (a) और (c)
- (3) केवल (b) और (c)
- (4) (a), (b) और (c)

Options :

- 61547534205. 1
- 61547534206. 2
- 61547534207. 3

Question Number : 28 Question Id : 6154758775 Question Type : MCQ Option Shuffling : No Display Question Number : Yes
Single Line Question Option : No Option Orientation : Vertical

Correct Marks : 2 Wrong Marks : 0

Which of the following statements is/are correct?

- (a) It is usually faster to access data stored in RAM than that in hard drive
- (b) The hexadecimal number 99 is the same as the decimal number 99

Choose the correct option :

- (1) (a) only
- (2) (b) only
- (3) Both (a) and (b)
- (4) Neither (a) nor (b)

Options :

61547534209. 1

61547534210. 2

61547534211. 3

61547534212. 4

Question Number : 28 Question Id : 6154758775 Question Type : MCQ Option Shuffling : No Display Question Number : Yes
Single Line Question Option : No Option Orientation : Vertical

Correct Marks : 2 Wrong Marks : 0

निम्नलिखित में से कौन कथन सही है/हैं?

- (a) रैम में भंडारित डाटा तक, हार्ड ड्राइव के डाटा की तुलना में ज्यादा तेजी से पहुँचा जा सकता है।
- (b) षट्दशमलवी संख्या 99 तथा दशमलवी संख्या 99 दोनों एक हैं।

सही विकल्प चुनें :

- (1) केवल (a)
- (2) केवल (b)
- (3) (a) और (b) दोनों
- (4) न तो (a) और न ही (b)

Options :

61547534209. 1

61547534210. 2

61547534211. 3

61547534212. 4

Question Number : 29 Question Id : 6154758776 Question Type : MCQ Option Shuffling : No Display Question Number : Yes
Single Line Question Option : No Option Orientation : Vertical

Correct Marks : 2 Wrong Marks : 0

Consider the following statements :

- (a) The Millennium Development Goals were to be achieved by 2015
- (b) The Sustainable Development Goals will guide United Nations Development Programme Policy until 2035
- (c) The Sustainable Development Goals came into effect in January 2016

Which of the above statements are correct?

- (1) (a) and (b) only
- (2) (b) and (c) only
- (3) (a) and (c) only
- (4) (a), (b) and (c)

Options :

61547534213. 1

61547534214. 2

61547534215. 3

61547534216. 4

Question Number : 29 Question Id : 6154758776 Question Type : MCQ Option Shuffling : No Display Question Number : Yes
Single Line Question Option : No Option Orientation : Vertical

Correct Marks : 2 Wrong Marks : 0

निम्नलिखित अभिकथनों पर विचार करें :

- (a) सहस्राब्दी विकास लक्ष्य सन् 2015 तक प्राप्त किये जाने थे।
- (b) संधारणीय विकास लक्ष्य संयुक्त राष्ट्र विकास कार्यक्रम नीति को 2035 तक गाइड करते रहेंगे।
- (c) संधारणीय विकास लक्ष्य जनवरी 2016 से प्रभावी है।

उक्त में से सही अभिकथन कौन हैं :

- (1) केवल (a) और (b)
- (2) केवल (b) और (c)
- (3) केवल (a) और (c)
- (4) (a), (b) और (c)

Options :

61547534213. 1
61547534214. 2
61547534215. 3
61547534216. 4

**Question Number : 30 Question Id : 6154758777 Question Type : MCQ Option Shuffling : No Display Question Number : Yes
Single Line Question Option : No Option Orientation : Vertical**

Correct Marks : 2 Wrong Marks : 0

Consider the following statements regarding noise pollution :

- (a) Noise levels decrease as we move away from the source of noise
- (b) Materials with high surface/mass density act as good noise barriers
- (c) Sound pressure of 2μ Pa corresponds to a noise of zero decibel

Choose the correct option from those given below :

- (1) (a) and (b) only
- (2) (b) and (c) only
- (3) (a) and (c) only
- (4) (a), (b) and (c)

Options :

61547534217. 1
61547534218. 2
61547534219. 3
61547534220. 4



**Question Number : 30 Question Id : 6154758777 Question Type : MCQ Option Shuffling : No Display Question Number : Yes
Single Line Question Option : No Option Orientation : Vertical**

Correct Marks : 2 Wrong Marks : 0

ध्वनि प्रदूषण के संदर्भ में निम्नलिखित अभिकथनों पर विचार कीजिए :

- (a) ध्वनि स्रोत से जैसे ही हम दूर जाते हैं वैसे ही ध्वनि का स्तर गिर जाता है।
- (b) उच्च पृष्ठ द्रव्यमान धनत्व वाली सामग्रियाँ उचित ध्वनि अवरोधक के रूप में कार्य करती हैं।
- (c) $2 \mu \text{pa}$ का ध्वनि दाब शून्य डेसिबल की ध्वनि के समतुल्य है।

निम्नलिखित में से सही विकल्प का चयन करें :

- (1) केवल (a) और (b)
- (2) केवल (b) और (c)
- (3) केवल (a) और (c)
- (4) (a), (b) और (c)

Options :

- 61547534217. 1
- 61547534218. 2
- 61547534219. 3
- 61547534220. 4

Question Number : 31 Question Id : 6154758778 Question Type : MCQ Option Shuffling : No Display Question Number : Yes
Single Line Question Option : No Option Orientation : Vertical

Correct Marks : 2 Wrong Marks : 0

Given below is a question followed by three statements.

Identify the statements, which is/are necessary to answer the question.

'What is the speed of the train?'

- (a) The train crosses another train running in opposite direction in 20 seconds
- (b) The train crosses a platform of length 300 m in 30 seconds
- (c) The train crosses a pole in 10 seconds

Choose the most appropriate option :

- (1) (a) and (b) only
- (2) (a) and (c) only
- (3) (b) and (c) only
- (4) (a), (b) and (c)

Options :

- 61547534221. 1

61547534222. 2

61547534223. 3

61547534224. 4

Question Number : 31 Question Id : 6154758778 Question Type : MCQ Option Shuffling : No Display Question Number : Yes Single Line Question Option : No Option Orientation : Vertical

Correct Marks : 2 Wrong Marks : 0

नीचे एक प्रश्न दिया गया है जिससे सम्बंधित दिए गए उन कथनों का चयन कीजिए जो प्रश्न के उत्तर के लिए आवश्यक हैं :

प्रश्न-ट्रेन की गति क्या है?

- (a) ट्रेन विपरीत दिशा से आने वाली ट्रेन को 20 सेकेंड में पार कर जाती है।
- (b) ट्रेन 300 मीटर लंबे प्लेटफार्म को 30 सेकेंड में पार कर जाती है।
- (c) ट्रेन एक खंबे को 10 सेकेंड में पार कर जाती है।

सर्वाधिक उपयुक्त विकल्प चुनें :

- (1) केवल (a) और (b)
- (2) केवल (a) और (c)
- (3) केवल (b) और (c)
- (4) (a), (b) और (c)

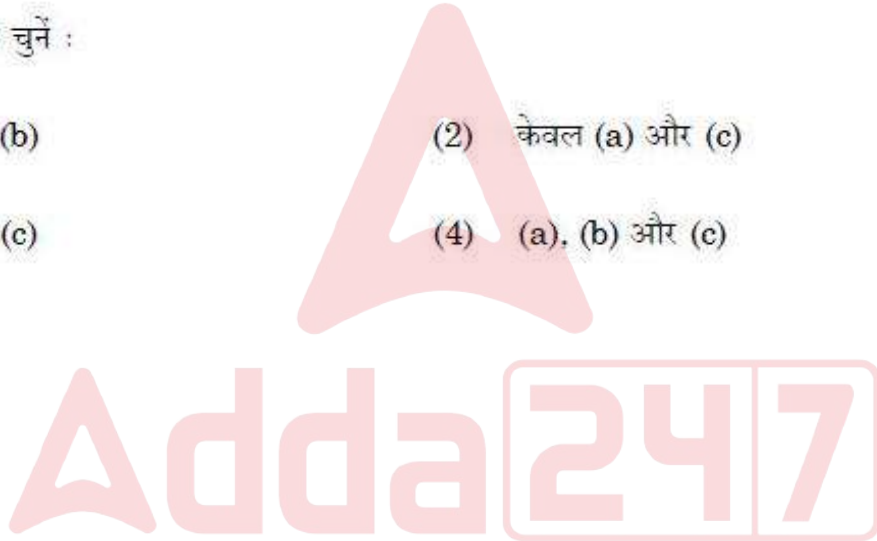
Options :

61547534221. 1

61547534222. 2

61547534223. 3

61547534224. 4



Question Number : 32 Question Id : 6154758779 Question Type : MCQ Option Shuffling : No Display Question Number : Yes Single Line Question Option : No Option Orientation : Vertical

Correct Marks : 2 Wrong Marks : 0

Consider the following statements :

- (a) Earth would be safer without greenhouse effect
- (b) Major contribution to the greenhouse effect comes from carbon dioxide
- (c) Earth's climate was changing even before man appeared on earth

Which of the above statements are correct?

- (1) (a) and (b) only
- (2) (b) and (c) only
- (3) (a) and (c) only
- (4) (a), (b) and (c)

Options :

- 61547534225. 1
- 61547534226. 2
- 61547534227. 3
- 61547534228. 4

Question Number : 32 Question Id : 6154758779 Question Type : MCQ Option Shuffling : No Display Question Number : Yes
Single Line Question Option : No Option Orientation : Vertical

Correct Marks : 2 Wrong Marks : 0

निम्नलिखित अभिकथनों पर विचार करें :

- (a) पृथ्वी हरित गृह (ग्रीन हाउस) प्रभाव के बिना सुरक्षित होगी।
- (b) हरित गृह (ग्रीनहाउस) प्रभाव का मुख्य अवदान कार्बन डायऑक्साइड से आता है।
- (c) पृथ्वी की जलवायु मानव के पृथ्वी पर आने के पूर्व भी बदलती रहती थी।

उक्त में से कौन से कथन सही हैं?

- (1) केवल (a) और (b)
- (2) केवल (b) और (c)
- (3) केवल (a) और (c)
- (4) (a), (b) और (c)

Options :

- 61547534225. 1
- 61547534226. 2
- 61547534227. 3
- 61547534228. 4

Correct Marks : 2 Wrong Marks : 0

In educational institutions, students usually have group journals/magazines and write in them on regular basis. Which of the following statements are correct about journaling as a method of informal assessment.

- (a) As a tool that provides opportunity to the students to express their thoughts and ideas
- (b) As an opportunity to showcase what they have learned
- (c) As a way to cope with the stress
- (d) As a tool to settle scores with the authority

Choose the correct option :

- (1) (a) and (c) only
- (2) (b) and (c) only
- (3) (a) and (b) only
- (4) (c) and (d) only

Options :

61547534229. 1

61547534230. 2

61547534231. 3

61547534232. 4

Correct Marks : 2 Wrong Marks : 0



शैक्षणिक संस्थानों में सामान्यतः विद्यार्थियों के पास समूह जर्नल्स/ पत्रिकाएँ होती हैं और वे उसमें नियमित रूप से लिखते रहते हैं। निम्नलिखित में से ऐसे कौन से कथन सही हैं जो जर्नल निकालने के लिए अनौपचारिक मूल्यांकन की पद्धति के रूप में होते हैं?

- (a) यह एक ऐसा उपकरण है जो विद्यार्थियों को अपने विचार और अभिमत प्रकट करने का अवसर प्रदान करता है।
- (b) अभी तक उन्होंने क्या सीखा है, उसे प्रदर्शित करने का एक अवसर है।
- (c) दबाव से उबरने का एक तरीका है।
- (d) यह प्राधिकारी से अपने विवादों को सुलझाने का उपकरण है।

सही विकल्प का चयन करें :

- (1) केवल (a) और (c)
- (2) केवल (b) और (c)
- (3) केवल (a) और (b)
- (4) केवल (c) और (d)

Options :

61547534229. 1

61547534230. 2

61547534231. 3

61547534232. 4

Question Number : 34 Question Id : 6154758781 Question Type : MCQ Option Shuffling : No Display Question Number : Yes
Single Line Question Option : No Option Orientation : Vertical

Correct Marks : 2 Wrong Marks : 0

Spotting gaps in the research literature is the chief way of identifying research questions. In this context, 'spotting gaps' in the research literature refers to :

- (a) Identifying under-researched areas
- (b) Recognizing the gap between two researchers' background
- (c) Identifying inconsistent findings in an area of research
- (d) Recognizing gap in the characteristics of sample and population

Select correct option :

- (1) (a) and (c) only
- (2) (b) and (d) only
- (3) (a) and (b) only
- (4) (c) and (d) only

Options :

61547534233. 1
61547534234. 2
61547534235. 3
61547534236. 4

**Question Number : 34 Question Id : 6154758781 Question Type : MCQ Option Shuffling : No Display Question Number : Yes
Single Line Question Option : No Option Orientation : Vertical**

Correct Marks : 2 Wrong Marks : 0

शोध साहित्य में कमियों की पहचान करना अनुसन्धान प्रश्नों की पहचान का एक प्रमुख तरीका है। इस संदर्भ में शोध साहित्य में 'कमियों की पहचान' का अर्थ है -

- (a) न्यूनतम रूप में कृत अनुसंधान/अनुक्षेत्र को चिन्हित करना।
(b) दो अनुसंधानों की पृष्ठभूमि में कमी की पहचान करना।
(c) अनुसंधान के क्षेत्र में असंगत निष्कर्षों की पहचान करना।
(d) प्रतिदर्श और समग्र की विशेषताओं में कमियों की पहचान करना।

उचित विकल्प की पहचान करें:

- (1) (a) और (c) (2) (b) और (d)
(3) (a) और (b) (4) (c) और (d)

Options :

61547534233. 1
61547534234. 2
61547534235. 3
61547534236. 4

**Question Number : 35 Question Id : 6154758782 Question Type : MCQ Option Shuffling : No Display Question Number : Yes
Single Line Question Option : No Option Orientation : Vertical**

Correct Marks : 2 Wrong Marks : 0



Match the List-I containing name of the Commissions with List-II containing the recommendation of that commission

List I (Commissions)	List II (Recommendation)
(a) Radhakrishnan Commission	(i) Introduction of 3 years of secondary and 4 years of higher education system
(b) Mudaliar Commission	(ii) Restructuring curriculum for multi-disciplinary professionals
(c) Kothari Commission	(iii) Integrating secondary and higher education
(d) Sam Pitroda Commission	(iv) Three years of degree and 4 years of honours degree courses

Choose the correct option from those given below :

- (1) (a)-(i), (b)-(ii), (c)-(iii), (d)-(iv)
- (2) (a)-(ii), (b)-(iv), (c)-(i), (d)-(iii)
- (3) (a)-(iii), (b)-(i), (c)-(iv), (d)-(ii)
- (4) (a)-(iv), (b)-(iii), (c)-(i), (d)-(ii)

Options :

61547534237. 1

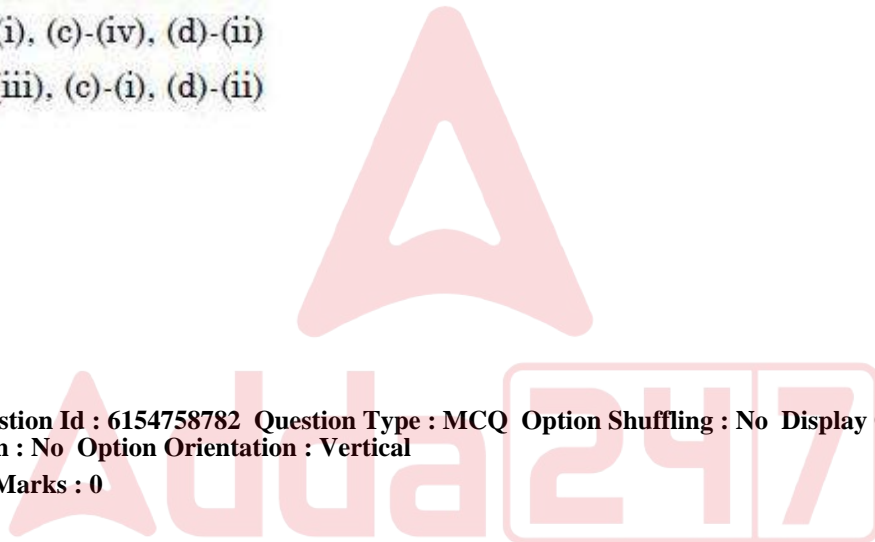
61547534238. 2

61547534239. 3

61547534240. 4

Question Number : 35 Question Id : 6154758782 Question Type : MCQ Option Shuffling : No Display Question Number : Yes
Single Line Question Option : No Option Orientation : Vertical

Correct Marks : 2 Wrong Marks : 0



सूची - I में दिये गये आयोगों और सूची- II में दिये गये उस आयोग की संस्तुतियों का सुमेलन कीजिए :

सूची - I (आयोग)	सूची II (संस्तुति)
(a) राधा कृष्णन आयोग	(i) तीन वर्षीय माध्यमिक और चार वर्षीय उच्चतर शिक्षा प्रणाली की शुरुआत से संबंधित
(b) मुदालियर आयोग	(ii) बहुत विद्याओं के व्यावसायिकों हेतु पाठ्यक्रम की पुनर्रचना
(c) कोठारी आयोग	(iii) माध्यमिक तथा उच्च शिक्षा का एकीकरण
(d) सैम पित्रोदा आयोग	(iv) तीन वर्षीय स्नातक तथा चार वर्षीय आनर्सडिग्री पाठ्यक्रम की अनुशंसा

निम्नलिखित में सही विकल्प का चयन करें :

- (1) (a)-(i), (b)-(ii), (c)-(iii), (d)-(iv)
- (2) (a)-(ii), (b)-(iv), (c)-(i), (d)-(iii)
- (3) (a)-(iii), (b)-(i), (c)-(iv), (d)-(ii)
- (4) (a)-(iv), (b)-(iii), (c)-(i), (d)-(ii)

Options :

61547534237. 1
61547534238. 2
61547534239. 3
61547534240. 4

Question Number : 36 Question Id : 6154758783 Question Type : MCQ Option Shuffling : No Display Question Number : Yes
Single Line Question Option : No Option Orientation : Vertical
Correct Marks : 2 Wrong Marks : 0

Match the following environmental disasters with the words or phrases associated with them.

List I

- (a) Bhopal gas tragedy
- (b) Chernobyl disaster
- (c) Love Canal tragedy
- (d) Los Angeles smog

List II

- (i) Dumping of Hazardous substances
- (ii) Peroxyacetyl Nitrates (PAN)
- (iii) Nuclear accident
- (iv) Methyl Isocyanide

Choose the correct option from those given below :

- (1) (a)-(ii), (b)-(iii), (c)-(iv), (d)-(i)
- (2) (a)-(iv), (b)-(iii), (c)-(i), (d)-(ii)
- (3) (a)-(ii), (b)-(i), (c)-(iv), (d)-(iii)
- (4) (a)-(iv), (b)-(i), (c)-(iii), (d)-(ii)

Options :

- 61547534241. 1
- 61547534242. 2
- 61547534243. 3
- 61547534244. 4

Question Number : 36 Question Id : 6154758783 Question Type : MCQ Option Shuffling : No Display Question Number : Yes
Single Line Question Option : No Option Orientation : Vertical

Correct Marks : 2 Wrong Marks : 0

निम्नलिखित पर्यावरणीय आपदाओं को उनके साथ संबंधित शब्दों और वाक्यांशों से सुमेलित करें :

सूची - I

- (a) भोपाल गैस त्रासदी
- (b) चेर्नोबिल आपदा
- (c) लव केनाल त्रासदी
- (d) लॉस एंजेलस स्मॉग

सूची - II

- (i) खतरनाक पदार्थों की डम्पिंग
- (ii) पेरोक्सीसीटील नाइट्रेट्स (पैन)
- (iii) नाभिकीय दुर्घटना
- (iv) मिथाइल आइसोसाइनेड

निम्नलिखित विकल्पों में से सही विकल्प चुनें :

- (1) (a)-(ii), (b)-(iii), (c)-(iv), (d)-(i)
- (2) (a)-(iv), (b)-(iii), (c)-(i), (d)-(ii)
- (3) (a)-(ii), (b)-(i), (c)-(iv), (d)-(iii)
- (4) (a)-(iv), (b)-(i), (c)-(iii), (d)-(ii)

Options :

61547534241. 1

61547534242. 2

61547534243. 3

61547534244. 4

**Question Number : 37 Question Id : 6154758784 Question Type : MCQ Option Shuffling : No Display Question Number : Yes
Single Line Question Option : No Option Orientation : Vertical**

Correct Marks : 2 Wrong Marks : 0

Match List-I with List-II

List I (Digital Initiatives)		List II (Purpose)	
(a) SWAYAM		(i) Integrated Library Management software	
(b) Spoken Tutorial		(ii) Robotics competition	
(c) e-Granthalaya		(iii) Promotes IT literacy through open source software	
(d) e-Yantra		(iv) Personalized and adaptive learning	

Choose the correct option :

- (1) (a)-(i), (b)-(iv), (c)-(ii), (d)-(iii)
- (2) (a)-(ii), (b)-(i), (c)-(iii), (d)-(iv)
- (3) (a)-(iii), (b)-(ii), (c)-(iv), (d)-(i)
- (4) (a)-(iv), (b)-(iii), (c)-(i), (d)-(ii)

Options :

61547534245. 1

61547534246. 2

61547534247. 3

61547534248. 4

**Question Number : 37 Question Id : 6154758784 Question Type : MCQ Option Shuffling : No Display Question Number : Yes
Single Line Question Option : No Option Orientation : Vertical**

Correct Marks : 2 Wrong Marks : 0



रसायनों की निम्नलिखित श्रेणियों को उनके वर्णन के अनुसार सुमेलित कीजिए :

सूची-I को सूची-II से सुमेलित करें :

सूची - I
(डिजिटल पहल)

सूची - II
(उद्देश्य)

- | | |
|-------------------|--|
| (a) स्वयम | (i) एकीकृत पुस्तकालय प्रबंधन साफ्टवेयर |
| (b) भाषित अनुदेशन | (ii) रोबोटिक्स प्रतिस्पर्धा |
| (c) ई. ग्रंथालय | (iii) ओपन सोर्स साफ्टवेयर के माध्यम से आई टी साक्षरता का संवर्धन |
| (d) ई. यंत्र | (iv) व्यक्तिपरक और अनुकूलक अधिगम |

सही विकल्प चुनें :

- (1) (a)-(i), (b)-(iv), (c)-(ii), (d)-(iii)
- (2) (a)-(ii), (b)-(i), (c)-(iii), (d)-(iv)
- (3) (a)-(iii), (b)-(ii), (c)-(iv), (d)-(i)
- (4) (a)-(iv), (b)-(iii), (c)-(i), (d)-(ii)

Options :

61547534245. 1
61547534246. 2
61547534247. 3
61547534248. 4

Question Number : 38 Question Id : 6154758785 Question Type : MCQ Option Shuffling : No Display Question Number : Yes
Single Line Question Option : No Option Orientation : Vertical
Correct Marks : 2 Wrong Marks : 0

Match the items given under Column II providing description with the items under Column I indicating the basis,

Column I (Basis)	Column II (Description)
(a) Cognitive	(i) Ability to relate to other
(b) Emotional	(ii) Ability to articulate the idea
(c) Social	(iii) Ability to read others' facial expression
(d) Verbal	(iv) Ability to solve abstract problem

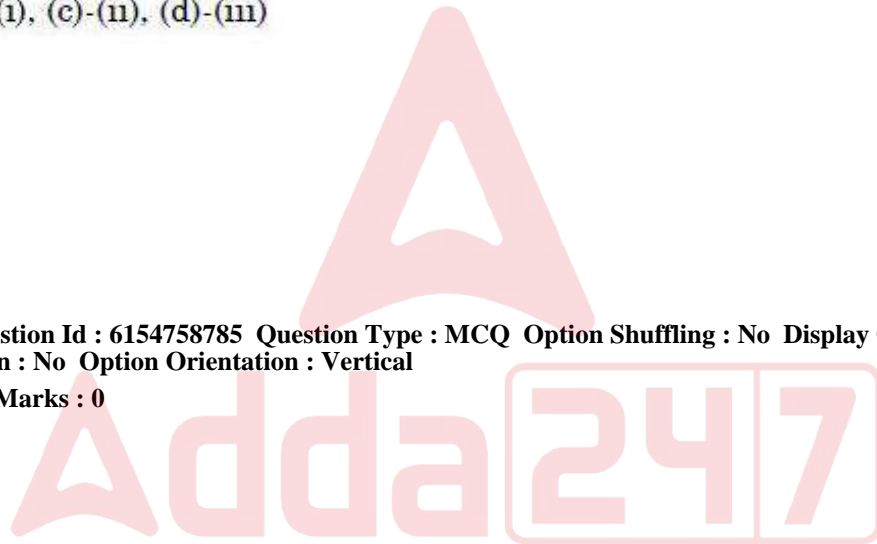
Choose the correct option :

- (1) (a)-(i), (b)-(iii), (c)-(iv), (d)-(ii)
- (2) (a)-(iv), (b)-(iii), (c)-(i), (d)-(ii)
- (3) (a)-(iv), (b)-(iii), (c)-(ii), (d)-(i)
- (4) (a)-(iv), (b)-(i), (c)-(ii), (d)-(iii)

Options :

- 61547534249. 1
- 61547534250. 2
- 61547534251. 3
- 61547534252. 4

Question Number : 38 Question Id : 6154758785 Question Type : MCQ Option Shuffling : No Display Question Number : Yes
Single Line Question Option : No Option Orientation : Vertical
Correct Marks : 2 Wrong Marks : 0



नीचे दिये गये कॉलम II का विवरण कॉलम I आधार के साथ सुमेलित कीजिए :

कॉलम - I (आधार)	कॉलम - II (विवरण)
(a) संज्ञानात्मक	(i) अन्य के हाथ संबंध जोड़ने की योग्यता
(b) भावनात्मक	(ii) विचारों को सुस्पष्ट करने की योग्यता
(c) सामाजिक	(iii) दूसरे के चेहरे के हाव-भाव को पढ़ने की योग्यता
(d) मौखिक	(iv) अर्मुत समस्या का समाधान निकालने की योग्यता

सही विकल्प का चयन करें :

- (1) (a)-(i), (b)-(iii), (c)-(iv), (d)-(ii)
- (2) (a)-(iv), (b)-(iii), (c)-(i), (d)-(ii)
- (3) (a)-(iv), (b)-(iii), (c)-(ii), (d)-(i)
- (4) (a)-(iv), (b)-(i), (c)-(ii), (d)-(iii)

Options :

61547534249. 1
61547534250. 2
61547534251. 3
61547534252. 4

Question Number : 39 Question Id : 6154758786 Question Type : MCQ Option Shuffling : No Display Question Number : Yes
Single Line Question Option : No Option Orientation : Vertical
Correct Marks : 2 Wrong Marks : 0

Adda247

Match the following national co-ordinators of SWAYAM (List I) with their distinguishing programmes (List II)

List I

- (a) NPTEL
- (b) CEC
- (c) NCERT and NIOS
- (d) NITTR

List II

- (i) School education
- (ii) Engineering programme
- (iii) Teacher training programme
- (iv) Under-graduate education

Choose the correct option from those given below :

- (1) (a)-(iii), (b)-(ii), (c)-(iv), (d)-(i)
- (2) (a)-(ii), (b)-(iv), (c)-(i), (d)-(iii)
- (3) (a)-(i), (b)-(iii), (c)-(ii), (d)-(iv)
- (4) (a)-(iv), (b)-(i), (c)-(iii), (d)-(ii)

Options :

- 61547534253. 1
- 61547534254. 2
- 61547534255. 3
- 61547534256. 4

Question Number : 39 Question Id : 6154758786 Question Type : MCQ Option Shuffling : No Display Question Number : Yes
Single Line Question Option : No Option Orientation : Vertical

Correct Marks : 2 Wrong Marks : 0

‘स्वयम’ के निम्नलिखित राष्ट्रीय समन्वयकों (सूची I) का उनके विशिष्ट कार्यक्रमों (सूची II) से सुमेलित कीजिए :

सूची - I

सूची - II

- | | |
|-----------------------------------|----------------------------------|
| (a) एन पी टी ई एल | (i) स्कूल शिक्षा |
| (b) सी ई सी | (ii) अभियांत्रिकी कार्यक्रम |
| (c) एन सी ई आर टी एण्ड एन आई ओ एस | (iii) शिक्षक प्रशिक्षण कार्यक्रम |
| (d) एन आई टी टी आर | (iv) पूर्व स्नातक शिक्षा |

निम्नलिखित में से सही विकल्प का चयन करें :

- (1) (a)-(iii), (b)-(ii), (c)-(iv), (d)-(i)
- (2) (a)-(ii), (b)-(iv), (c)-(i), (d)-(iii)
- (3) (a)-(i), (b)-(iii), (c)-(ii), (d)-(iv)
- (4) (a)-(iv), (b)-(i), (c)-(iii), (d)-(ii)

Options :

- 61547534253. 1
- 61547534254. 2
- 61547534255. 3
- 61547534256. 4

Question Number : 40 Question Id : 6154758787 Question Type : MCQ Option Shuffling : No Display Question Number : Yes Single Line Question Option : No Option Orientation : Vertical

Correct Marks : 2 Wrong Marks : 0

Select the option that contains only computer input devices

- (1) Keyboard, Mouse, Joystick, Printer
- (2) Mouse, Monitor, Joystick, Keyboard
- (3) Joystick, Keyboard, Digitiser, Monitor
- (4) Joystick, Keyboard, Mouse, Digitiser

Options :

- 61547534257. 1
- 61547534258. 2
- 61547534259. 3
- 61547534260. 4

Question Number : 40 Question Id : 6154758787 Question Type : MCQ Option Shuffling : No Display Question Number : Yes Single Line Question Option : No Option Orientation : Vertical

Correct Marks : 2 Wrong Marks : 0

निम्नलिखित में से उस विकल्प का चयन करें जिसमें केवल आदान युक्तियाँ (इनपुट डिवाइसेज) शामिल हैं :

- (1) कीबोर्ड, माउस, ज्वायस्टिक, प्रिंटर
- (2) माउस, मॉनीटर, ज्वायस्टिक, प्रिंटर
- (3) ज्वायस्टिक, कीबोर्ड, डिजिटाइजर, मॉनीटर
- (4) ज्वायस्टिक, कीबोर्ड, माउस, डिजिटाइजर

Options :

- 61547534257. 1
- 61547534258. 2
- 61547534259. 3
- 61547534260. 4

Question Number : 41 Question Id : 6154758788 Question Type : MCQ Option Shuffling : No Display Question Number : Yes Single Line Question Option : No Option Orientation : Vertical

Correct Marks : 2 Wrong Marks : 0

Which of the two following is the correct sequence of greenhouse gases according to their relative global warming potential in increasing order?

- (1) Nitrous oxide, Methane, Carbon dioxide, Chlorofluorocarbons
- (2) Carbon dioxide, Methane, Nitrous oxide, Chlorofluorocarbons
- (3) Methane, Nitrous oxide, Carbon dioxide, Chlorofluorocarbons
- (4) Carbon dioxide, Nitrous oxide, Methane, Chlorofluorocarbons

Options :

61547534261. 1
61547534262. 2
61547534263. 3
61547534264. 4

Question Number : 41 Question Id : 6154758788 Question Type : MCQ Option Shuffling : No Display Question Number : Yes
Single Line Question Option : No Option Orientation : Vertical

Correct Marks : 2 Wrong Marks : 0

निम्नलिखित में से ग्लोबल वार्मिंग की संभाव्यता के अनुसार हरितगृह (ग्रीन हाउस) से सम्बन्धित गैसों का वृद्धिमान क्रम में सही अनुक्रम क्या है?

- (1) नाइट्रस ऑक्साइड, मिथेन, कार्बनडाइऑक्साइड, क्लोरोफ्लूरोकार्बन
- (2) कार्बनडाइऑक्साइड, मिथेन, नाइट्रस ऑक्साइड, क्लोरोफ्लूरोकार्बन
- (3) मिथेन, नाइट्रस ऑक्साइड, कार्बनडाइऑक्साइड, क्लोरोफ्लूरोकार्बन
- (4) कार्बनडाइऑक्साइड, नाइट्रस ऑक्साइड, मिथेन, क्लोरोफ्लूरोकार्बन

Options :

61547534261. 1
61547534262. 2
61547534263. 3
61547534264. 4

Question Number : 42 Question Id : 6154758789 Question Type : MCQ Option Shuffling : No Display Question Number : Yes
Single Line Question Option : No Option Orientation : Vertical

Correct Marks : 2 Wrong Marks : 0

Given below are two statements - one is labelled as Assertion (A) and the other is labelled as Reason (R) :

Assertion (A) : A researcher can draw a definitive conclusion even if there is a little evidence to support it.

Reasons (R) : Statistical test of significances helps a researcher in drawing logically correct inferences from the data.

In the light of the above statements choose the correct option :

- (1) Both (A) and (R) are correct, and (R) is the correct explanation of (A)
- (2) Both (A) and (R) are correct, and (R) is not correct explanation of (A)
- (3) (A) is true, but (R) is false
- (4) (A) is false, but (R) is true

Options :

61547534265. 1

61547534266. 2

61547534267. 3

61547534268. 4

Question Number : 42 Question Id : 6154758789 Question Type : MCQ Option Shuffling : No Display Question Number : Yes
Single Line Question Option : No Option Orientation : Vertical

Correct Marks : 2 Wrong Marks : 0

Adda247

नीचे दो कथन दिए गए हैं, पहला अभिकथन (A) और दूसरा तर्क कथन (R) है :

अभिकथन (A) : कोई अनुसंधान कर्ता निश्चयात्मक निष्कर्ष निकाल सकता है भले ही इसके समर्थन हेतु साक्ष्य कम हों।

तर्क कथन (R) : महत्वपूर्ण सांख्यिकी परिक्षण अनुसंधान कर्ता को प्रदत्तों से तार्किक और सही अनुमान लगाने में मदद करता है।

उपर्युक्त कथनों को ध्यान में रखते हुए निम्नलिखित में से कौन सा विकल्प सही है :

- (1) (A) और (R) दोनों सही हैं और (R) (A) की सही व्याख्या है।
- (2) (A) और (R) दोनों सही हैं और (R) (A) की सही व्याख्या नहीं है।
- (3) (A) सही है किंतु (R) गलत है।
- (4) (A) गलत है किंतु (R) सही है।

Options :

61547534265. 1
61547534266. 2
61547534267. 3
61547534268. 4

Question Number : 43 Question Id : 6154758790 Question Type : MCQ Option Shuffling : No Display Question Number : Yes
Single Line Question Option : No Option Orientation : Vertical
Correct Marks : 2 Wrong Marks : 0

Given below are two statements - one is labelled as Assertion (A) and the other is labelled as Reason (R) :

Assertion (A) : No social activity is possible without communication.

Reasons (R) : Communication plays vital role in our daily life.

In the light of the above statements choose the correct option :

- (1) Both (A) and (R) are true and (R) is the correct explanation of (A)
- (2) Both (A) and (R) are true but (R) is not the correct explanation of (A)
- (3) (A) is true, but (R) is false
- (4) (A) is false, but (R) is true

Options :

61547534269. 1
61547534270. 2
61547534271. 3
61547534272. 4

**Question Number : 43 Question Id : 6154758790 Question Type : MCQ Option Shuffling : No Display Question Number : Yes
Single Line Question Option : No Option Orientation : Vertical**

Correct Marks : 2 Wrong Marks : 0

नीचे दो कथन दिए गए हैं पहला अभिकथन (A) और दूसरा तर्क कथन (R) के रूप में है :

अभिकथन (A) : बिना संप्रेषण के कोई सामाजिक गतिविधि संभव नहीं है।

तर्क कथन (R) : संप्रेषण हमारे दैनिक जीवन में महत्वपूर्ण भूमिका निभाता है।

उक्त दोनों कथनों को ध्यान में रखते हुए सही विकल्प का चयन करें :

- (1) (A) और (R) दोनों सही हैं और (R) (A) की सही व्याख्या है।
- (2) (A) और (R) दोनों सही हैं किंतु (R) (A) की सही व्याख्या नहीं है।
- (3) (A) सही है किन्तु (R) गलत है।
- (4) (A) गलत है किन्तु (R) सही है।

Options :

61547534269. 1
61547534270. 2
61547534271. 3
61547534272. 4

Adda247

**Question Number : 44 Question Id : 6154758791 Question Type : MCQ Option Shuffling : No Display Question Number : Yes
Single Line Question Option : No Option Orientation : Vertical**

Correct Marks : 2 Wrong Marks : 0

Given below are two statements - one is labelled as Assertion (A) and the other is labelled as Reason (R) :

Assertion (A) : Motivational aspects of learning and communication efficacy are not inter-related.

Reasons (R) : Communication as a social product has its own variables in a learning environment.

In the light of the above statements choose the correct option :

- (1) Both (A) and (R) are true and (R) is the correct explanation of (A)
- (2) Both (A) and (R) are true but (R) is not the correct explanation of (A)
- (3) (A) is true, but (R) is false
- (4) (A) is false, but (R) is true

Options :

61547534273. 1
61547534274. 2
61547534275. 3
61547534276. 4

Question Number : 44 Question Id : 6154758791 Question Type : MCQ Option Shuffling : No Display Question Number : Yes Single Line Question Option : No Option Orientation : Vertical

Correct Marks : 2 Wrong Marks : 0

नीचे दो कथन दिए गए हैं पहला अभिकथन (A) और दूसरा तर्क कथन (R) के रूप में है :

अभिकथन (A) : अधिगम और संप्रेषण क्षमता के अभिप्ररणात्मक पहलू परस्पर संबद्ध नहीं है।

तर्क कथन (R) : सामाजिक उत्पाद के रूप में संप्रेषण हेतु अधिगम परिवेश के अपने चर होते हैं।

सही विकल्प का चयन कीजिए :

- (1) (A) और (R) दोनों सही हैं और (R) (A) की सही व्याख्या है।
- (2) (A) और (R) दोनों सही हैं किन्तु, (R) (A) की सही व्याख्या नहीं है।
- (3) (A) सही है, किन्तु (R) गलत है।
- (4) (A) गलत है, किन्तु (R) सही है।

Options :

61547534273. 1
61547534274. 2

61547534275. 3

61547534276. 4

Question Number : 45 Question Id : 6154758792 Question Type : MCQ Option Shuffling : No Display Question Number : Yes
Single Line Question Option : No Option Orientation : Vertical

Correct Marks : 2 Wrong Marks : 0

Given below are two statements - one is labelled as Assertion (A) and the other is labelled as

Reason (R) :

Assertion (A) : Forests help in improving the air quality of a place.

Reasons (R) : Some tree species emit volatile organic compounds (VOCs) such as isoprene which may contribute to formation of tropospheric ozone.

In the light of the above statements choose the correct option :

- (1) Both (A) and (R) are true and (R) is the correct explanation of (A)
- (2) Both (A) and (R) are true but (R) is not the correct explanation of (A)
- (3) (A) is true, but (R) is false
- (4) (A) is false, but (R) is true

Options :

61547534277. 1

61547534278. 2

61547534279. 3

61547534280. 4

Question Number : 45 Question Id : 6154758792 Question Type : MCQ Option Shuffling : No Display Question Number : Yes
Single Line Question Option : No Option Orientation : Vertical

Correct Marks : 2 Wrong Marks : 0

नीचे दो कथन दिए गए हैं पहला अभिकथन (A) और दूसरा तर्क कथन (R) है :

अभिकथन (A) : वन किसी स्थान की वायु-गुणवत्ता के सुधार में सहायता पहुँचाते हैं।

तर्क कथन (R) : कुछ प्रजातियों के वृक्ष वाष्पीय कार्बनिक मिश्रण का उत्सर्जन करते हैं जैसे कि आइसोप्रीन जिससे क्षोभ ट्रायसोस्फियरिक ओजोन का निर्माण होता है।

उक्त दोनों कथनों को ध्यान में रखते हुए सही विकल्प का चयन करें :

- (1) (A) और (R) दोनों सही हैं और (R) (A) की सही व्याख्या है।
- (2) (A) और (R) दोनों सही हैं किन्तु, (R) (A) की सही व्याख्या नहीं है।
- (3) (A) सही है, किन्तु (R) गलत है।
- (4) (A) गलत है, किन्तु (R) सही है।

Options :

61547534277. 1

61547534278. 2

61547534279. 3

61547534280. 4

Sub-Section Number: 3
Sub-Section Id: 615475384
Question Shuffling Allowed : Yes

Question Id : 6154758793 Question Type : COMPREHENSION Sub Question Shuffling Allowed : Yes Group Comprehension Questions : No

Question Numbers : (46 to 50)

Question Label : Comprehension

Read the following passage and answer questions numbered 46 to 50 :

All art is a blend of form and content; and it is through certain excellences characterising either, that the artist succeeds in inducing in us the artistic attitude. In the case of poetry, for example, the content is constituted by the figurative ideas, and sentiments it expresses ; and the form, by the musical language through which they find expression. Of these, the form varies much from one art to another; and it is also technical. We shall not refer to it here at any length, and shall confine our attention mainly to the content. We shall only observe, in passing, that the legitimate function of form is to subserve the content; and if it assumes greater importance, the work in which it does so marks a lapse from the best type of art. The content of art may be defined generally as the meaning which it expresses. The excellences that may characterize it are many, and they have been classified in various ways.

Sub questions

Question Number : 46 Question Id : 6154758794 Question Type : MCQ Option Shuffling : No Display Question Number : Yes
Single Line Question Option : No Option Orientation : Vertical

Correct Marks : 2 Wrong Marks : 0

What constitutes the content of poetry according to the passage?

- (a) Figurative ideas
- (b) Musical language
- (c) Sentiments it expresses

Choose the correct code from below :

- (1) Only (a) and (b)
- (2) Only (a) and (c)
- (3) Only (b) and (c)
- (4) Only (b)

Options :

61547534281. 1

61547534282. 2

61547534283. 3

61547534284. 4

Question Number : 47 Question Id : 6154758795 Question Type : MCQ Option Shuffling : No Display Question Number : Yes
Single Line Question Option : No Option Orientation : Vertical

Correct Marks : 2 Wrong Marks : 0

Which of the following is correct with respect to the form of poetry as per the passage?

- (a) Form doesn't vary from one art to another
- (b) Form is technical
- (c) Form is figurative
- (d) Form constitutes musical language

Choose the correct option from below :

- (1) Only (a) and (b)
- (2) Only (b) and (d)
- (3) Only (b), (c) and (d)
- (4) Only (a), (c) and (d)

Options :

61547534285. 1

61547534286. 2

61547534287. 3

61547534288. 4

Question Number : 48 Question Id : 6154758796 Question Type : MCQ Option Shuffling : No Display Question Number : Yes
Single Line Question Option : No Option Orientation : Vertical

Correct Marks : 2 Wrong Marks : 0

What is legitimate function of form?

- (1) To observe the content (2) To reject the content
(3) To subserve the content (4) To subsume the content

Options :

61547534289. 1
61547534290. 2
61547534291. 3
61547534292. 4

Question Number : 49 Question Id : 6154758797 Question Type : MCQ Option Shuffling : No Display Question Number : Yes
Single Line Question Option : No Option Orientation : Vertical

Correct Marks : 2 Wrong Marks : 0

Content of the art is defined in the passage as

- (1) the form it exhibits (2) the language it uses
(3) the meaning it subsumes (4) the meaning it expresses

Options :

61547534293. 1
61547534294. 2
61547534295. 3
61547534296. 4

Question Number : 50 Question Id : 6154758798 Question Type : MCQ Option Shuffling : No Display Question Number : Yes
Single Line Question Option : No Option Orientation : Vertical

Correct Marks : 2 Wrong Marks : 0

What kind of art is the best type as per the passage?

- (a) The one which lends greater importance to content
(b) The one which lends greater importance to form
(c) The one in which form subserves the content
(d) The one in which content subserves the form

Options :

61547534297. 1
61547534298. 2
61547534299. 3
61547534300. 4

Question Id : 6154758793 Question Type : COMPREHENSION Sub Question Shuffling Allowed : Yes Group Comprehension
Questions : No

Question Numbers : (46 to 50)

Question Label : Comprehension

निम्नलिखित परिच्छेद को पढ़ें और प्रश्न 46 से 50 के उत्तर दें :

समस्त कलायें स्वरूप और विषय-वस्तु का मिश्रण होती हैं; और इन दोनों से संबंधित कतिपय उत्कृष्टताओं के माध्यम से कलाकार हमारे भीतर कलात्मक दृष्टिकोण विकसित करने में सफल होते हैं। उदाहरण के लिए कविता में विषय-वस्तु की निर्मिति आलंकारिक विचारों और इसके माध्यम से व्यक्त संवेदनाओं से होती है; और स्वरूप निर्धारण की अभिव्यक्ति के लिए इसमें प्रयुक्त संगीतमय भाषा है, इनमें से एक कला से दूसरी कला में स्वरूप में काफी बदलाव होता है और यह तकनीकी भी होता है। हम यहां इसकी ज्यादा चर्चा नहीं करेंगे और विषय-वस्तु पर ही अपना ध्यान केंद्रित रखेंगे। हम सिर्फ इस बात को ध्यान में रखेंगे कि स्वरूप वस्तुतः विषय-वस्तु अपेक्षित भूमिका में ही होता है; और यदि इसकी भूमिका ज्यादा प्रभावी हो तो संबंधित कृति को उत्कृष्ट कला प्रकारता का उदाहरण नहीं कहा जा सकता। कला की विषयवस्तु को सामान्यतः इसके द्वारा अभिव्यक्त अभिप्राय के संदर्भ में परिभाषित किया जा सकता है। इसमें अनेक उत्कृष्टतायें सन्निहित हो सकती हैं और उन्हें विविध प्रकार से वर्गीकृत भी किया गया है।

Sub questions

Question Number : 46 Question Id : 6154758794 Question Type : MCQ Option Shuffling : No Display Question Number : Yes Single Line Question Option : No Option Orientation : Vertical

Correct Marks : 2 Wrong Marks : 0

परिच्छेद के अनुसार कविता की विषय वस्तु में क्या सन्निहित है?

- (a) आलंकारिक विचार
- (b) संगीतमय भाषा
- (c) अभिव्यक्त संवेदनार्यें

निम्नलिखित में से सही विकल्प चुनें :

- (1) केवल (a) और (b)
- (2) केवल (a) और (c)
- (3) केवल (b) और (c)
- (4) केवल (b)

Options :

- 61547534281. 1
- 61547534282. 2
- 61547534283. 3
- 61547534284. 4

Adda247

Question Number : 47 Question Id : 6154758795 Question Type : MCQ Option Shuffling : No Display Question Number : Yes Single Line Question Option : No Option Orientation : Vertical

Correct Marks : 2 Wrong Marks : 0

परिच्छेद के अनुसार कविता के स्वरूप के बारे में निम्नलिखित में से कौन सही है?

- (a) एक कला से दूसरी कला में स्वरूप नहीं बदलता है
- (b) इसका स्वरूप तकनीकी है
- (c) स्वरूप आंलकारिक होता है
- (d) स्वरूप संगीतमय भाषा की रचना करता है

निम्नलिखित में से सही विकल्प चुनें :

- (1) केवल (a) और (b)
- (2) केवल (b) और (d)
- (3) केवल (b), (c) और (d)
- (4) केवल (a), (c) और (d)

Options :

- 61547534285. 1
- 61547534286. 2
- 61547534287. 3
- 61547534288. 4

Question Number : 48 Question Id : 6154758796 Question Type : MCQ Option Shuffling : No Display Question Number : Yes
Single Line Question Option : No Option Orientation : Vertical

Correct Marks : 2 Wrong Marks : 0

स्वरूप की वास्तविक भूमिका क्या है?

- (1) विषय-वस्तु विपर्यय
- (2) विषय-वस्तु की अस्वीकृति
- (3) विषय-वस्तु में सहायक होना
- (4) विषय-वस्तु को समाहित कर लेना

Options :

- 61547534289. 1
- 61547534290. 2
- 61547534291. 3
- 61547534292. 4

Question Number : 49 Question Id : 6154758797 Question Type : MCQ Option Shuffling : No Display Question Number : Yes
Single Line Question Option : No Option Orientation : Vertical

Correct Marks : 2 Wrong Marks : 0

कला की विषय-वस्तु को परिच्छेद में किस प्रकार परिभाषित किया गया है?

- (1) इसके द्वारा प्रदर्शित स्वरूप के तौर पर
- (2) इसके द्वारा प्रयुक्त भाषा के तौर पर
- (3) इसमें समाहित अर्थ के तौर पर
- (4) इसके द्वारा अभिव्यक्त अभिप्राय के तौर पर

Options :

- 61547534293. 1
- 61547534294. 2
- 61547534295. 3
- 61547534296. 4

Question Number : 50 Question Id : 6154758798 Question Type : MCQ Option Shuffling : No Display Question Number : Yes
Single Line Question Option : No Option Orientation : Vertical

Correct Marks : 2 Wrong Marks : 0

परिच्छेद के अनुसार किस प्रकार की कला सर्वोत्तम प्रकारता का उदाहरण है?

- (1) वह जिसमें विषय-वस्तु को ज्यादा महत्व दिया जाता है
- (2) वह जिस में स्वरूप को ज्यादा महत्व दिया जाता है
- (3) वह जिस में स्वरूप, विषय-वस्तु के लिए सहायक होता है
- (4) वह जिस में विषय-वस्तु स्वरूप के लिए सहायक होता है।

Options :

61547534297. 1
61547534298. 2
61547534299. 3
61547534300. 4

PART II Sociology

Section Id :	615475118
Section Number :	2
Section type :	Online
Mandatory or Optional:	Mandatory
Number of Questions:	92
Number of Questions to be attempted:	92
Section Marks:	200
Display Number Panel:	Yes
Group All Questions:	No

Sub-Section Number:	1
Sub-Section Id:	615475385
Question Shuffling Allowed :	Yes

Question Number : 51 Question Id : 6154758799 Question Type : MCQ Option Shuffling : No Display Question Number : Yes
Single Line Question Option : No Option Orientation : Vertical

Correct Marks : 2 Wrong Marks : 0

“Kula” exchange is associated with which tribe?

- (1) Krowe tribes
- (2) Azande tribes
- (3) Tikopians
- (4) Trobriand Islanders

Options :

61547534301. 1
61547534302. 2
61547534303. 3
61547534304. 4

Question Number : 51 Question Id : 6154758799 Question Type : MCQ Option Shuffling : No Display Question Number : Yes
Single Line Question Option : No Option Orientation : Vertical

Correct Marks : 2 Wrong Marks : 0

“कुला” विनिमय किस जनजाति के साथ सम्बद्ध है?

- | | |
|---------------------|---------------------------|
| (1) क्रोव जनजातियां | (2) एजान्दे जनजातियां |
| (3) टिकोपियन्स | (4) टरोब्रीएन्ड द्वीपवासी |

Options :

61547534301. 1
61547534302. 2
61547534303. 3
61547534304. 4

Question Number : 52 Question Id : 6154758800 Question Type : MCQ Option Shuffling : No Display Question Number : Yes
Single Line Question Option : No Option Orientation : Vertical

Correct Marks : 2 Wrong Marks : 0

The ability of workers to use muscles and brain to transform their environment is called

- | | |
|-------------------|---------------------|
| (1) labour union | (2) labour power |
| (3) labour unrest | (4) labour movement |

Options :

61547534305. 1
61547534306. 2
61547534307. 3
61547534308. 4

Adda247

Question Number : 52 Question Id : 6154758800 Question Type : MCQ Option Shuffling : No Display Question Number : Yes
Single Line Question Option : No Option Orientation : Vertical

Correct Marks : 2 Wrong Marks : 0

अपने पर्यावरण के बदलने के लिए कामगारों द्वारा शारीरिक व मानसिक क्षमता का प्रयोग करना क्या कहलाता है?

- | | |
|-------------------|--------------------|
| (1) श्रमिक संघ | (2) श्रमिक शक्ति |
| (3) श्रमिक असंतोष | (4) श्रमिक आन्दोलन |

Options :

61547534305. 1
61547534306. 2
61547534307. 3
61547534308. 4

Question Number : 53 Question Id : 6154758801 Question Type : MCQ Option Shuffling : No Display Question Number : Yes
Single Line Question Option : No Option Orientation : Vertical

Correct Marks : 2 Wrong Marks : 0

Who saw much in common between theoretical performance and the kind of 'acts'?

- (1) Erving Goffman
(3) Alfred Schultz

- (2) Harold Garfinkel
(4) G.H. Mead

Options :

61547534309. 1
61547534310. 2
61547534311. 3
61547534312. 4

Question Number : 53 Question Id : 6154758801 Question Type : MCQ Option Shuffling : No Display Question Number : Yes
Single Line Question Option : No Option Orientation : Vertical

Correct Marks : 2 Wrong Marks : 0

सैद्धान्तिक निष्पादन व क्रियाओं के प्रकार के मध्य किसने अधिक समानता को देखा है?

- (1) इरविंग गौफमैन
(3) अल्फ्रेड शुट्ज

- (2) हेरोल्ड गारफिंकल
(4) जी.एच. मीड

Options :

61547534309. 1
61547534310. 2
61547534311. 3
61547534312. 4

Question Number : 54 Question Id : 6154758802 Question Type : MCQ Option Shuffling : No Display Question Number : Yes
Single Line Question Option : No Option Orientation : Vertical

Correct Marks : 2 Wrong Marks : 0

The rationality that leads an actor to transcend daily realities to understand the world as a meaningful cosmos is :

- (1) Theoretical rationality
(3) Substantive rationality

- (2) Formal rationality
(4) Practical rationality

Options :

61547534313. 1
61547534314. 2
61547534315. 3
61547534316. 4

Question Number : 54 Question Id : 6154758802 Question Type : MCQ Option Shuffling : No Display Question Number : Yes
Single Line Question Option : No Option Orientation : Vertical

Correct Marks : 2 Wrong Marks : 0

तार्किकता जो एक कर्ता को दैनिक वास्तविकताओं से ऊपर उठा कर दुनिया को एक अर्थपूर्ण विश्वव्यवस्था समझने के लिए प्रेरित करता है, को कहते हैं -

- | | |
|---------------------------|-------------------------|
| (1) सैद्धान्तिक तार्किकता | (2) औपचारिक तार्किकता |
| (3) यथेष्ट तार्किकता | (4) व्यवहारिक तार्किकता |

Options :

61547534313. 1
61547534314. 2
61547534315. 3
61547534316. 4

**Question Number : 55 Question Id : 6154758803 Question Type : MCQ Option Shuffling : No Display Question Number : Yes
Single Line Question Option : No Option Orientation : Vertical
Correct Marks : 2 Wrong Marks : 0**

Who is the author of the book 'The Religion of Java'?

- | | |
|---------------------|-------------------------|
| (1) Erving Goffman | (2) Manuel Castells |
| (3) Clifford Geertz | (4) Claude Levi-Strauss |

Options :

61547534317. 1
61547534318. 2
61547534319. 3
61547534320. 4

**Question Number : 55 Question Id : 6154758803 Question Type : MCQ Option Shuffling : No Display Question Number : Yes
Single Line Question Option : No Option Orientation : Vertical
Correct Marks : 2 Wrong Marks : 0**

‘द रिलिजन ऑफ जावा’ पुस्तक के लेखक कौन हैं?

- | | |
|----------------------|------------------------|
| (1) इरविंग गॉफमैन | (2) मैनुअल कैसेल्स |
| (3) क्लिफर्ड गीर्ट्ज | (4) क्लॉड लेवी-स्ट्रास |

Options :

61547534317. 1
61547534318. 2
61547534319. 3
61547534320. 4

**Question Number : 56 Question Id : 6154758804 Question Type : MCQ Option Shuffling : No Display Question Number : Yes
Single Line Question Option : No Option Orientation : Vertical**

Correct Marks : 2 Wrong Marks : 0

Who among the following is considered as practitioner of 'Theoretical Pluralism'?

- (1) A.R. Desai (2) G.S. Ghurye
(3) M.N. Srinivas (4) R.K. Mukerjee

Options :

61547534321. 1
61547534322. 2
61547534323. 3
61547534324. 4

Question Number : 56 Question Id : 6154758804 Question Type : MCQ Option Shuffling : No Display Question Number : Yes
Single Line Question Option : No Option Orientation : Vertical

Correct Marks : 2 Wrong Marks : 0

निम्नलिखित में से किन्हें 'सैद्धांतिक बहुलवाद' का प्रयोक्ता (प्रैक्टिसनर) माना जाता है?

- (1) ए.आर. देसाई (2) जी.एस. घुर्ये
(3) एम.एन. श्रीनिवास (4) आर.के. मुखर्जी

Options :

61547534321. 1
61547534322. 2
61547534323. 3
61547534324. 4

Question Number : 57 Question Id : 6154758805 Question Type : MCQ Option Shuffling : No Display Question Number : Yes
Single Line Question Option : No Option Orientation : Vertical

Correct Marks : 2 Wrong Marks : 0

Who talks about structuration as the structuring of social relations across time and space?

- (1) Erving Goffman (2) Harold Garfinkel
(3) Manuel Castelle (4) Anthony Giddens

Options :

61547534325. 1
61547534326. 2
61547534327. 3
61547534328. 4

Question Number : 57 Question Id : 6154758805 Question Type : MCQ Option Shuffling : No Display Question Number : Yes
Single Line Question Option : No Option Orientation : Vertical

Correct Marks : 2 Wrong Marks : 0

किसने काल और स्थान के संदर्भ में सामाजिक संबंधों की संरचना के रूप में संरचना-निर्माण (Structuration) की बात की है?

- | | |
|--------------------|----------------------|
| (1) इर्विंग गॉफमैन | (2) हैरॉल्ड गारफिकेल |
| (3) मैनुअल कैसल्स | (4) एंथनी गिडेंस |

Options :

61547534325. 1
61547534326. 2
61547534327. 3
61547534328. 4

Question Number : 58 Question Id : 6154758806 Question Type : MCQ Option Shuffling : No Display Question Number : Yes Single Line Question Option : No Option Orientation : Vertical

Correct Marks : 2 Wrong Marks : 0

From among the following sociologists who has written on the 'Kinship Systems' in different regions of India?

- | | |
|-----------------|-------------------|
| (1) P.H. Prabhu | (2) Irawati Karve |
| (3) G.S. Ghurye | (4) K.M. Kapadia |

Options :

61547534329. 1
61547534330. 2
61547534331. 3
61547534332. 4

Question Number : 58 Question Id : 6154758806 Question Type : MCQ Option Shuffling : No Display Question Number : Yes Single Line Question Option : No Option Orientation : Vertical

Correct Marks : 2 Wrong Marks : 0

निम्नलिखित में से किस समाजशास्त्री ने भारत के विभिन्न क्षेत्रों के संदर्भ में 'नातेदारी प्रथा' के बारे में लिखा है?

- | | |
|-------------------|---------------------|
| (1) पी.एच. प्रभु | (2) इरावती कर्वे |
| (3) जी.एस. घुर्ये | (4) के.एम. कपाड़िया |

Options :

61547534329. 1
61547534330. 2
61547534331. 3
61547534332. 4

Question Number : 59 Question Id : 6154758807 Question Type : MCQ Option Shuffling : No Display Question Number : Yes Single Line Question Option : No Option Orientation : Vertical

Correct Marks : 2 Wrong Marks : 0

Who had given the name 'Harijan' to the "Untouchables"?

- (1) B.R. Ambedkar (2) M.K. Gandhi
(3) J.L. Nehru (4) Madan Mohan Malviya

Options :

61547534333. 1
61547534334. 2
61547534335. 3
61547534336. 4

Question Number : 59 Question Id : 6154758807 Question Type : MCQ Option Shuffling : No Display Question Number : Yes
Single Line Question Option : No Option Orientation : Vertical

Correct Marks : 2 Wrong Marks : 0

किसने 'अस्पृश्यों' को 'हरिजन' का नाम दिया था?

- (1) बी.आर. अम्बेडकर (2) एम.के. गाँधी
(3) जे.एल. नेहरु (4) मदन मोहन मालवीय

Options :

61547534333. 1
61547534334. 2
61547534335. 3
61547534336. 4

Question Number : 60 Question Id : 6154758808 Question Type : MCQ Option Shuffling : No Display Question Number : Yes
Single Line Question Option : No Option Orientation : Vertical

Correct Marks : 2 Wrong Marks : 0

Who said that globalization is the growing reciprocal interdependence and integration of various economies around the globe?

- (1) A. Giddens (2) Meghnad Desai
(3) Henderson Hazel (4) Martin Knor

Options :

61547534337. 1
61547534338. 2
61547534339. 3
61547534340. 4

Question Number : 60 Question Id : 6154758808 Question Type : MCQ Option Shuffling : No Display Question Number : Yes
Single Line Question Option : No Option Orientation : Vertical

Correct Marks : 2 Wrong Marks : 0

किसने कहा था कि - वैश्वीकरण बढ़ती हुई पारस्परिक अंतर्निर्भरता और विश्व की अनेक अर्थव्यवस्थाओं का एकीकरण है?

- | | |
|-------------------|------------------|
| (1) ए. गिड्डेन्स | (2) मेघनाद देसाई |
| (3) हैंडरसन हैजेल | (4) मार्टिन नौर |

Options :

61547534337. 1
61547534338. 2
61547534339. 3
61547534340. 4

Question Number : 61 Question Id : 6154758809 Question Type : MCQ Option Shuffling : No Display Question Number : Yes Single Line Question Option : No Option Orientation : Vertical

Correct Marks : 2 Wrong Marks : 0

Who has conceptualized social structure as a complex of principal groups and institutions which constitute societies?

- | | |
|----------------------------|----------------|
| (1) A.R. Radcliffe – Brown | (2) S.F. Nadel |
| (3) M. Ginsberg | (4) R. Firth |

Options :

61547534341. 1
61547534342. 2
61547534343. 3
61547534344. 4

Question Number : 61 Question Id : 6154758809 Question Type : MCQ Option Shuffling : No Display Question Number : Yes Single Line Question Option : No Option Orientation : Vertical

Correct Marks : 2 Wrong Marks : 0

किसने सामाजिक संरचना की मुख्य समूहों और संस्थाओं के रूप में संकल्पना की जो समाजों को संस्थापित करता है?

- | | |
|-----------------------------|------------------|
| (1) ए.आर. रेडक्लिफ - ब्राउन | (2) एस.एफ. नाडेल |
| (3) एम. जिन्सबर्ग | (4) आर. फर्थ |

Options :

61547534341. 1
61547534342. 2
61547534343. 3
61547534344. 4

Question Number : 62 Question Id : 6154758810 Question Type : MCQ Option Shuffling : No Display Question Number : Yes Single Line Question Option : No Option Orientation : Vertical

Correct Marks : 2 Wrong Marks : 0

Who among the following holds the view that an 'Indian Tribe' as converted to Indian caste when it loses a territorial meaning and social significance?

- (1) Max Weber (2) D.N. Majumdar
(3) T.N. Madan (4) J. Hutton

Options :

61547534345. 1
61547534346. 2
61547534347. 3
61547534348. 4

Question Number : 62 Question Id : 6154758810 Question Type : MCQ Option Shuffling : No Display Question Number : Yes Single Line Question Option : No Option Orientation : Vertical

Correct Marks : 2 Wrong Marks : 0

निम्नलिखित में से कौन इस विचार का अनुमोदन करता है कि "भारतीय जनजातियाँ" भारतीय जातियों में परिवर्तित होती हैं जब वे भूभागीय पहचान व सामाजिक महत्ता को खो देते हैं?

- (1) मैक्स वेबर (2) डी.एन. मजूमदार
(3) टी.एन. मदन (4) जे. हट्टन

Options :

61547534345. 1
61547534346. 2
61547534347. 3
61547534348. 4

Question Number : 63 Question Id : 6154758811 Question Type : MCQ Option Shuffling : No Display Question Number : Yes Single Line Question Option : No Option Orientation : Vertical

Correct Marks : 2 Wrong Marks : 0

Who among the following viewed status as an 'effective claim to social esteem'?

- (1) R. Linton (2) H. Maine
(3) M. Weber (4) R.K. Merton

Options :

61547534349. 1
61547534350. 2
61547534351. 3
61547534352. 4

Question Number : 63 Question Id : 6154758811 Question Type : MCQ Option Shuffling : No Display Question Number : Yes Single Line Question Option : No Option Orientation : Vertical

Correct Marks : 2 Wrong Marks : 0

निम्नलिखित में से किसने प्रस्थिति को सामाजिक प्रतिष्ठा के प्रभावशाली दावे के रूप में प्रस्तुत किया है?

(1) आर. लिंटन

(2) एच. मेन

(3) एम. वेबर

(4) आर.के. मर्टन

Options :

61547534349. 1

61547534350. 2

61547534351. 3

61547534352. 4

Question Number : 64 Question Id : 6154758812 Question Type : MCQ Option Shuffling : No Display Question Number : Yes
Single Line Question Option : No Option Orientation : Vertical

Correct Marks : 2 Wrong Marks : 0

Which one of the following is least inequitable metropolitan city of India?

(1) Meerut

(2) Mumbai

(3) Howrah

(4) Bengaluru

Options :

61547534353. 1

61547534354. 2

61547534355. 3

61547534356. 4

Question Number : 64 Question Id : 6154758812 Question Type : MCQ Option Shuffling : No Display Question Number : Yes
Single Line Question Option : No Option Orientation : Vertical

Correct Marks : 2 Wrong Marks : 0

निम्नलिखित में से कौन सा न्यूनतम साम्यहीन महानगरीय शहर है?

(1) मेरठ

(2) मुम्बई

(3) हावड़ा

(4) बंगलूरु

Options :

61547534353. 1

61547534354. 2

61547534355. 3

61547534356. 4

Question Number : 65 Question Id : 6154758813 Question Type : MCQ Option Shuffling : No Display Question Number : Yes
Single Line Question Option : No Option Orientation : Vertical

Correct Marks : 2 Wrong Marks : 0

Which one of the following is least inequitable metropolitan city of India?

- (1) Meerut (2) Mumbai
(3) Howrah (4) Bengaluru

Options :

61547534357. 1
61547534358. 2
61547534359. 3
61547534360. 4

Question Number : 65 Question Id : 6154758813 Question Type : MCQ Option Shuffling : No Display Question Number : Yes
Single Line Question Option : No Option Orientation : Vertical

Correct Marks : 2 Wrong Marks : 0

किस जनगणना वर्ष में भारत में मलिन बस्तियों से सम्बंधित आँकड़ों के एकत्रित किया गया था?

- (1) 2011 (2) 1961
(3) 1991 (4) 2001

Options :

61547534357. 1
61547534358. 2
61547534359. 3
61547534360. 4

Question Number : 66 Question Id : 6154758814 Question Type : MCQ Option Shuffling : No Display Question Number : Yes
Single Line Question Option : No Option Orientation : Vertical

Correct Marks : 2 Wrong Marks : 0

How many metropolises were there in India according to Census 2001?

- (1) 53 (2) 35
(3) 55 (4) 17

Options :

61547534361. 1
61547534362. 2
61547534363. 3
61547534364. 4

Question Number : 66 Question Id : 6154758814 Question Type : MCQ Option Shuffling : No Display Question Number : Yes
Single Line Question Option : No Option Orientation : Vertical

Correct Marks : 2 Wrong Marks : 0

2001 की जनगणना के अनुसार भारत में कितने महानगर थे?

- (1) 53
(3) 55

- (2) 35
(4) 17

Options :

61547534361. 1
61547534362. 2
61547534363. 3
61547534364. 4

Question Number : 67 Question Id : 6154758815 Question Type : MCQ Option Shuffling : No Display Question Number : Yes
Single Line Question Option : No Option Orientation : Vertical

Correct Marks : 2 Wrong Marks : 0

Bhil and Meena tribes are largely living in the state of –

- (1) Gujarat
(3) Rajasthan

- (2) Maharashtra
(4) Jharkhand

Options :

61547534365. 1
61547534366. 2
61547534367. 3
61547534368. 4

Question Number : 67 Question Id : 6154758815 Question Type : MCQ Option Shuffling : No Display Question Number : Yes
Single Line Question Option : No Option Orientation : Vertical

Correct Marks : 2 Wrong Marks : 0

भील और मीणा जनजातियाँ मुख्यतया किस राज्य में रहती हैं?

- (1) गुजरात
(3) राजस्थान

- (2) महाराष्ट्र
(4) झारखंड

Options :

61547534365. 1
61547534366. 2
61547534367. 3
61547534368. 4

Question Number : 68 Question Id : 6154758816 Question Type : MCQ Option Shuffling : No Display Question Number : Yes
Single Line Question Option : No Option Orientation : Vertical

Correct Marks : 2 Wrong Marks : 0

Who among the following has said that caste system has organic links with the tribal culture in India?

- (1) G.S. Ghurye (2) Verrier Elwin
(3) W.V. Gingson (4) T.B. Naik

Options :

61547534369. 1
61547534370. 2
61547534371. 3
61547534372. 4

Question Number : 68 Question Id : 6154758816 Question Type : MCQ Option Shuffling : No Display Question Number : Yes Single Line Question Option : No Option Orientation : Vertical

Correct Marks : 2 Wrong Marks : 0

निम्नलिखित में किसने कहा है कि जाति प्रथा का भारत की जनजातीय संस्कृति के साथ सावयवी संबंध है ?

- (1) जी.एस. घुर्ये (2) वेरियर एल्विन
(3) डब्ल्यू.वी. जिंसन (4) टी.बी. नाईक

Options :

61547534369. 1
61547534370. 2
61547534371. 3
61547534372. 4

Question Number : 69 Question Id : 6154758817 Question Type : MCQ Option Shuffling : No Display Question Number : Yes Single Line Question Option : No Option Orientation : Vertical

Correct Marks : 2 Wrong Marks : 0

Who has criticized the emerging political culture of corruption and criminality in his/her work on Indian Politics?

- (1) D.N. Dhanagare (2) Zoya Hasan
(3) Rajni Kothari (4) Anand Kumar

Options :

61547534373. 1
61547534374. 2
61547534375. 3
61547534376. 4

Question Number : 69 Question Id : 6154758817 Question Type : MCQ Option Shuffling : No Display Question Number : Yes Single Line Question Option : No Option Orientation : Vertical

Correct Marks : 2 Wrong Marks : 0

किसने भारतीय राजनीति पर लिखी गई उनकी पुस्तक में भ्रष्टाचार और अपराधिता की उभरती राजनीतिक संस्कृति की आलोचना की है?

- | | |
|-------------------|----------------|
| (1) डी.एन. धनागरे | (2) ज़ोया हसन |
| (3) रजनी कोठारी | (4) आनंद कुमार |

Options :

61547534373. 1
61547534374. 2
61547534375. 3
61547534376. 4

**Question Number : 70 Question Id : 6154758818 Question Type : MCQ Option Shuffling : No Display Question Number : Yes
Single Line Question Option : No Option Orientation : Vertical
Correct Marks : 2 Wrong Marks : 0**

Where was the largest and longest protest in 1980's organized by Bhartiya Kisan Union under the leadership of Mahendra Singh Tikait?

- | | |
|---------------|---------------|
| (1) Hyderabad | (2) Bengaluru |
| (3) Delhi | (4) Meerut |

Options :

61547534377. 1
61547534378. 2
61547534379. 3
61547534380. 4

**Question Number : 70 Question Id : 6154758818 Question Type : MCQ Option Shuffling : No Display Question Number : Yes
Single Line Question Option : No Option Orientation : Vertical
Correct Marks : 2 Wrong Marks : 0**

महेन्द्र सिंह टिकैत के नेतृत्व में भारतीय किसान संघ द्वारा कहाँ पर सबसे बड़ा और लंबा विरोध प्रदर्शन 1980 के दशक में आयोजित किया गया था?

- | | |
|--------------|-------------|
| (1) हैदराबाद | (2) बंगलूरु |
| (3) दिल्ली | (4) मेरठ |

Options :

61547534377. 1
61547534378. 2
61547534379. 3
61547534380. 4

**Question Number : 71 Question Id : 6154758819 Question Type : MCQ Option Shuffling : No Display Question Number : Yes
Single Line Question Option : No Option Orientation : Vertical**

Correct Marks : 2 Wrong Marks : 0

Who has written the book 'Social background of Indian Nationalism'?

(1) T.K. Oommen

(2) R.S. Misra

(3) A.R. Desai

(4) D.N. Dhanagare

Options :

61547534381. 1

61547534382. 2

61547534383. 3

61547534384. 4

Question Number : 71 Question Id : 6154758819 Question Type : MCQ Option Shuffling : No Display Question Number : Yes
Single Line Question Option : No Option Orientation : Vertical

Correct Marks : 2 Wrong Marks : 0

'सोशल बैक ग्राउन्ड ऑफ इन्डियन नैशनलिज्म' पुस्तक किसने लिखी है?

(1) टी.के. ऊम्मन

(2) आर.एस. मिश्रा

(3) ए.आर. देसाई

(4) डी.एन. धनागरे

Options :

61547534381. 1

61547534382. 2

61547534383. 3

61547534384. 4

Question Number : 72 Question Id : 6154758820 Question Type : MCQ Option Shuffling : No Display Question Number : Yes
Single Line Question Option : No Option Orientation : Vertical

Correct Marks : 2 Wrong Marks : 0

What term is used to describe a system of ceremonial exchange by certain groups of tribes in Trobriand Islands?

(1) Kula Ring

(2) Potlatch

(3) Connubium

(4) Jajmani

Options :

61547534385. 1

61547534386. 2

61547534387. 3

61547534388. 4

Question Number : 72 Question Id : 6154758820 Question Type : MCQ Option Shuffling : No Display Question Number : Yes
Single Line Question Option : No Option Orientation : Vertical

Correct Marks : 2 Wrong Marks : 0

ट्रोब्रियांड द्वीप में कतिपय समूहों द्वारा आनुष्ठानिक विनिमय की व्यवस्था का वर्णन करने के लिए किस पद (अवधारणा) का उपयोग किया जाता है?

- | | |
|-----------------|------------|
| (1) कूला रिंग | (2) पोटलेच |
| (3) कोन्नुबियम् | (4) जजमानी |

Options :

61547534385. 1
61547534386. 2
61547534387. 3
61547534388. 4

Question Number : 73 Question Id : 6154758821 Question Type : MCQ Option Shuffling : No Display Question Number : Yes Single Line Question Option : No Option Orientation : Vertical

Correct Marks : 2 Wrong Marks : 0

What term is best suited to describe an ideology based upon a rethinking and a reassertion of classical liberalism?

- | | |
|--------------------|-----------------------|
| (1) Welfarism | (2) Neo-functionalism |
| (3) Neo-liberalism | (4) Neo-marxism |

Options :

61547534389. 1
61547534390. 2
61547534391. 3
61547534392. 4

Question Number : 73 Question Id : 6154758821 Question Type : MCQ Option Shuffling : No Display Question Number : Yes Single Line Question Option : No Option Orientation : Vertical

Correct Marks : 2 Wrong Marks : 0

शास्त्रीय उदारवाद के पुर्नविचार व एक पुनर्कथन पर आधारित विचारधारा का वर्णन करने के लिए उपयुक्त पद (अवधारणा) क्या है?

- | | |
|----------------|--------------------|
| (1) कल्याणवाद | (2) नव-प्रकार्यवाद |
| (3) नव-उदारवाद | (4) नव-मार्क्सवाद |

Options :

61547534389. 1
61547534390. 2
61547534391. 3
61547534392. 4

Question Number : 74 Question Id : 6154758822 Question Type : MCQ Option Shuffling : No Display Question Number : Yes Single Line Question Option : No Option Orientation : Vertical

Correct Marks : 2 Wrong Marks : 0

The process of buying and selling produce by electronic means is known as

- | | |
|-----------------|------------------|
| (1) e-pathshala | (2) e-governance |
| (3) e-commerce | (4) e-tourism |

Options :

61547534393. 1
61547534394. 2
61547534395. 3
61547534396. 4

Question Number : 74 Question Id : 6154758822 Question Type : MCQ Option Shuffling : No Display Question Number : Yes
Single Line Question Option : No Option Orientation : Vertical

Correct Marks : 2 Wrong Marks : 0

इलेक्ट्रॉनिक साधनों के द्वारा उत्पादों के खरीदने और बेचने की प्रक्रिया को कहा जाता है

- | | |
|---------------|---------------|
| (1) ई-पाठशाला | (2) ई-अभिशासन |
| (3) ई-वाणिज्य | (4) ई-पर्यटन |

Options :

61547534393. 1
61547534394. 2
61547534395. 3
61547534396. 4

Question Number : 75 Question Id : 6154758823 Question Type : MCQ Option Shuffling : No Display Question Number : Yes
Single Line Question Option : No Option Orientation : Vertical

Correct Marks : 2 Wrong Marks : 0

The process by which technology lowers the cost of storing, sharing and analyzing data is known as :

- | | |
|-----------------------|--------------------|
| (1) Mechanization | (2) Digitalization |
| (3) Commercialization | (4) Globalization |

Options :

61547534397. 1
61547534398. 2
61547534399. 3
61547534400. 4

Question Number : 75 Question Id : 6154758823 Question Type : MCQ Option Shuffling : No Display Question Number : Yes
Single Line Question Option : No Option Orientation : Vertical

Correct Marks : 2 Wrong Marks : 0

जिस प्रक्रिया में प्रौद्योगिकी द्वारा आंकड़ों का संचयन करने, साझा करने व विश्लेषण करने की लागत को कम किया जाता है उसे जाना जाता है :

- | | |
|-----------------|----------------|
| (1) मशीनीकरण | (2) डिजिटलीकरण |
| (3) वाणिज्यीकरण | (4) वैश्वीकरण |

Options :

61547534397. 1
61547534398. 2
61547534399. 3
61547534400. 4

Question Number : 76 Question Id : 6154758824 Question Type : MCQ Option Shuffling : No Display Question Number : Yes Single Line Question Option : No Option Orientation : Vertical Correct Marks : 2 Wrong Marks : 0

Which one of the following is not objective of Green Peace Movement?

- | | |
|----------------------------|--------------------------------|
| (1) Protection of Oceans | (2) Elimination of toxic waste |
| (3) Eradication of poverty | (4) Safe and Sustainable trade |

Options :

61547534401. 1
61547534402. 2
61547534403. 3
61547534404. 4

Question Number : 76 Question Id : 6154758824 Question Type : MCQ Option Shuffling : No Display Question Number : Yes Single Line Question Option : No Option Orientation : Vertical Correct Marks : 2 Wrong Marks : 0

निम्नलिखित में से कौन सा हरित शांति आंदोलन (Green Peace Movement) का उद्देश्य नहीं है?

- | | |
|-------------------------|----------------------------------|
| (1) समुद्रों की संरक्षा | (2) जहरीले अपशिष्टों का निष्कासन |
| (3) गरीबी उन्मूलन | (4) सुरक्षित और सतत् व्यापार |

Options :

61547534401. 1
61547534402. 2
61547534403. 3
61547534404. 4

Question Number : 77 Question Id : 6154758825 Question Type : MCQ Option Shuffling : No Display Question Number : Yes Single Line Question Option : No Option Orientation : Vertical Correct Marks : 2 Wrong Marks : 0

In which year Government of India promulgated the National Rehabilitation policy for project displaced persons?

- (1) 2002 (2) 2004
(3) 2006 (4) 2001

Options :

61547534405. 1
61547534406. 2
61547534407. 3
61547534408. 4

**Question Number : 77 Question Id : 6154758825 Question Type : MCQ Option Shuffling : No Display Question Number : Yes
Single Line Question Option : No Option Orientation : Vertical
Correct Marks : 2 Wrong Marks : 0**

किस वर्ष में भारत सरकार ने परियोजनाओं से विस्थापित लोगों के लिए राष्ट्रीय पुनर्वास नीति की घोषणा की थी ?

- (1) 2002 (2) 2004
(3) 2006 (4) 2001

Options :

61547534405. 1
61547534406. 2
61547534407. 3
61547534408. 4

**Question Number : 78 Question Id : 6154758826 Question Type : MCQ Option Shuffling : No Display Question Number : Yes
Single Line Question Option : No Option Orientation : Vertical
Correct Marks : 2 Wrong Marks : 0**

Which among the following is the most common form of domestic violence in the world?

- (1) Wife battering (2) Child Abuse
(3) Elderly Abuse (4) Sibling violence

Options :

61547534409. 1
61547534410. 2
61547534411. 3
61547534412. 4

**Question Number : 78 Question Id : 6154758826 Question Type : MCQ Option Shuffling : No Display Question Number : Yes
Single Line Question Option : No Option Orientation : Vertical
Correct Marks : 2 Wrong Marks : 0**

निम्नलिखित में से कौनसा विश्व में सबसे सामान्य घरेलू हिंसा का स्वरूप है?

- | | |
|-----------------------|---------------------|
| (1) पत्नी को पीटना | (2) बाल दुर्व्यवहार |
| (3) वृद्ध दुर्व्यवहार | (4) सहोदर हिंसा |

Options :

61547534409. 1
61547534410. 2
61547534411. 3
61547534412. 4

Question Number : 79 Question Id : 6154758827 Question Type : MCQ Option Shuffling : No Display Question Number : Yes
Single Line Question Option : No Option Orientation : Vertical

Correct Marks : 2 Wrong Marks : 0

Which of the following family law in India was enacted in 1956?

- (1) Adoption and Maintenance Act
- (2) Dowry Prohibition Act
- (3) Hindu Marriage Act
- (4) Special Marriage Act

Options :

61547534413. 1
61547534414. 2
61547534415. 3
61547534416. 4

Question Number : 79 Question Id : 6154758827 Question Type : MCQ Option Shuffling : No Display Question Number : Yes
Single Line Question Option : No Option Orientation : Vertical

Correct Marks : 2 Wrong Marks : 0

निम्नलिखित में से भारत में कौन सा पारिवार कानून 1956 में अधिनियमित किया गया था?

- (1) अभिग्रहण तथा अनुरक्षण अधिनियम (Adoption and Maintenance Act)
- (2) दहेज निषेध अधिनियम (Dowry Prohibition Act)
- (3) हिन्दू विवाह अधिनियम
- (4) विशेष विवाह अधिनियम

Options :

61547534413. 1

61547534414. 2
61547534415. 3
61547534416. 4

**Question Number : 80 Question Id : 6154758828 Question Type : MCQ Option Shuffling : No Display Question Number : Yes
Single Line Question Option : No Option Orientation : Vertical
Correct Marks : 2 Wrong Marks : 0**

By which year the number of older persons is expected to be more than children aged less than 10 years?

- (1) 2030 (2) 2040
(3) 2050 (4) 2060

Options :

61547534417. 1
61547534418. 2
61547534419. 3
61547534420. 4

**Question Number : 80 Question Id : 6154758828 Question Type : MCQ Option Shuffling : No Display Question Number : Yes
Single Line Question Option : No Option Orientation : Vertical
Correct Marks : 2 Wrong Marks : 0**

किस वर्ष तक वृद्ध लोगों की संख्या 10 वर्ष से कम उम्र के बच्चों की संख्या से अधिक होने की संभावना है?

- (1) 2030 (2) 2040
(3) 2050 (4) 2060

Options :

61547534417. 1
61547534418. 2
61547534419. 3
61547534420. 4

**Question Number : 81 Question Id : 6154758829 Question Type : MCQ Option Shuffling : No Display Question Number : Yes
Single Line Question Option : No Option Orientation : Vertical
Correct Marks : 2 Wrong Marks : 0**

Which one of the following tribes is patrilineal?

- (1) Garo (2) Maliku
(3) Khasi (4) Toda

Options :

61547534421. 1
61547534422. 2
61547534423. 3
61547534424. 4

Question Number : 81 Question Id : 6154758829 Question Type : MCQ Option Shuffling : No Display Question Number : Yes
Single Line Question Option : No Option Orientation : Vertical

Correct Marks : 2 Wrong Marks : 0

निम्नलिखित जनजातियों में से कौन सी जनजाती पितृवंशीय है?

- | | |
|----------|-------------|
| (1) गारो | (2) मलिक्यु |
| (3) खासी | (4) टोड़ा |

Options :

61547534421. 1

61547534422. 2

61547534423. 3

61547534424. 4

Question Number : 82 Question Id : 6154758830 Question Type : MCQ Option Shuffling : No Display Question Number : Yes
Single Line Question Option : No Option Orientation : Vertical

Correct Marks : 2 Wrong Marks : 0

Who is the author of the book, 'The Virtual Community'?

- | | |
|-------------------|-----------------------|
| (1) Melvin Webber | (2) Howard Rheingold |
| (3) Barry Wellman | (4) Benedict Anderson |

Options :

61547534425. 1

61547534426. 2

61547534427. 3

61547534428. 4

Question Number : 82 Question Id : 6154758830 Question Type : MCQ Option Shuffling : No Display Question Number : Yes
Single Line Question Option : No Option Orientation : Vertical

Correct Marks : 2 Wrong Marks : 0

'द वर्चुअल कम्युनिटी' पुस्तक के लेखक कौन हैं?

- | | |
|------------------|----------------------|
| (1) मेल्विन वेबर | (2) हवर्ड रेनगोल्ड |
| (3) बैरी वेलमैन | (4) बनेडिक्ट एन्डरसन |

Options :

61547534425. 1

61547534426. 2

61547534427. 3

61547534428. 4

Question Number : 83 Question Id : 6154758831 Question Type : MCQ Option Shuffling : No Display Question Number : Yes
Single Line Question Option : No Option Orientation : Vertical

Correct Marks : 2 Wrong Marks : 0

Who among the following considered 'time' and 'space' as 'a priori'?

- | | |
|-------------------|-------------------|
| (1) Plato | (2) Aristotle |
| (3) St. Augustine | (4) Immanuel Kant |

Options :

61547534429. 1

61547534430. 2

61547534431. 3

61547534432. 4

Question Number : 83 Question Id : 6154758831 Question Type : MCQ Option Shuffling : No Display Question Number : Yes
Single Line Question Option : No Option Orientation : Vertical

Correct Marks : 2 Wrong Marks : 0

निम्नलिखित में से किसने 'समय' व 'स्थान' को 'विचार से पूर्व' (ए-प्राइअरी) के रूप में माना है?

- | | |
|--------------------|------------------|
| (1) प्लेटो | (2) अरस्तु |
| (3) सन्त. ऑगस्टाइन | (4) इम्युनल काँट |

Options :

61547534429. 1

61547534430. 2

61547534431. 3

61547534432. 4

Question Number : 84 Question Id : 6154758832 Question Type : MCQ Option Shuffling : No Display Question Number : Yes
Single Line Question Option : No Option Orientation : Vertical

Correct Marks : 2 Wrong Marks : 0

Who among the following have conceptualized media as a 'Cultural Industry'?

- | | |
|--------------------|----------------------------|
| (1) Functionalists | (2) Political – Economists |
| (3) Neo – Marxists | (4) Post Modernists |

Options :

61547534433. 1
61547534434. 2
61547534435. 3
61547534436. 4

Question Number : 84 Question Id : 6154758832 Question Type : MCQ Option Shuffling : No Display Question Number : Yes
Single Line Question Option : No Option Orientation : Vertical

Correct Marks : 2 Wrong Marks : 0

निम्नलिखित में किसने मीडिया की संकल्पना एक 'सांस्कृतिक उद्योग' के रूप में की है?

- (1) प्रकार्यवादी (2) राजनीतिक-अर्थशास्त्री
(3) नव-मार्क्सवादी (4) उत्तर आधुनिकतावादी

Options :

61547534433. 1
61547534434. 2
61547534435. 3
61547534436. 4

Question Number : 85 Question Id : 6154758833 Question Type : MCQ Option Shuffling : No Display Question Number : Yes
Single Line Question Option : No Option Orientation : Vertical

Correct Marks : 2 Wrong Marks : 0

Which one is the common element in the most conceptions of the piety?

- (1) Prideness (2) Wisdom
(3) Humility (4) Superstiousness

Options :

61547534437. 1
61547534438. 2
61547534439. 3
61547534440. 4

Question Number : 85 Question Id : 6154758833 Question Type : MCQ Option Shuffling : No Display Question Number : Yes
Single Line Question Option : No Option Orientation : Vertical

Correct Marks : 2 Wrong Marks : 0

धर्म निष्ठा की अधिकांश संकल्पनाओं में कौन सा तत्व समान है?

- (1) गौरव (2) प्रज्ञान (विवेक)
(3) विनम्रता (4) अंधविश्वास

Options :

- 61547534437. 1
- 61547534438. 2
- 61547534439. 3
- 61547534440. 4

Question Number : 86 Question Id : 6154758834 Question Type : MCQ Option Shuffling : No Display Question Number : Yes Single Line Question Option : No Option Orientation : Vertical

Correct Marks : 2 Wrong Marks : 0

Any signifier which signifies a concept or meaning – the signified, is called

- (1) Object
- (2) Image
- (3) Sign
- (4) Symbol

Options :

- 61547534441. 1
- 61547534442. 2
- 61547534443. 3
- 61547534444. 4

Question Number : 86 Question Id : 6154758834 Question Type : MCQ Option Shuffling : No Display Question Number : Yes Single Line Question Option : No Option Orientation : Vertical

Correct Marks : 2 Wrong Marks : 0

जब कोई संकेतक (Signifier) किसी संकल्पना अथवा अर्थ का महत्व बताता है, तो वह संकेतित (Signified) क्या कहलाता है?

- (1) वस्तु (Object)
- (2) बिम्ब (Image)
- (3) संकेत (Sign)
- (4) प्रतीक (Symbol)

Options :

- 61547534441. 1
- 61547534442. 2
- 61547534443. 3
- 61547534444. 4

Question Number : 87 Question Id : 6154758835 Question Type : MCQ Option Shuffling : No Display Question Number : Yes Single Line Question Option : No Option Orientation : Vertical

Correct Marks : 2 Wrong Marks : 0

While dicussing religion who has paid attention to development of moral ideas?

- (1) R.H. Lowie
- (2) A.R. Radcliffe – Brown
- (3) L.T. Hobhouse
- (4) Max Weber

Options :

- 61547534445. 1

61547534446. 2

61547534447. 3

61547534448. 4

Question Number : 87 Question Id : 6154758835 Question Type : MCQ Option Shuffling : No Display Question Number : Yes
Single Line Question Option : No Option Orientation : Vertical

Correct Marks : 2 Wrong Marks : 0

धर्म पर चर्चा करते हुए किसने नैतिक विचारों के संवर्धन पर ध्यान दिया है?

- | | |
|--------------------|---------------------------|
| (1) आर.एच. लोवी | (2) ए.आर. रैडक्लिफ-ब्राउन |
| (3) एल.टी. हॉबहाउस | (4) मैक्स वेबर |

Options :

61547534445. 1

61547534446. 2

61547534447. 3

61547534448. 4

Question Number : 88 Question Id : 6154758836 Question Type : MCQ Option Shuffling : No Display Question Number : Yes
Single Line Question Option : No Option Orientation : Vertical

Correct Marks : 2 Wrong Marks : 0

According to Durkheim, the unit of significance in ritual is :

- | | |
|-------------|------------|
| (1) Role | (2) Action |
| (3) Feeling | (4) Motive |

Options :

61547534449. 1

61547534450. 2

61547534451. 3

61547534452. 4

Question Number : 88 Question Id : 6154758836 Question Type : MCQ Option Shuffling : No Display Question Number : Yes
Single Line Question Option : No Option Orientation : Vertical

Correct Marks : 2 Wrong Marks : 0

दुर्खाईम के अनुसार धार्मिक अनुष्ठान (ritual) में महत्वपूर्ण इकाई है

- | | |
|-----------------------|----------------------|
| (1) भूमिका (Role) | (2) क्रिया (Action) |
| (3) संवेदना (Feeling) | (4) प्रयोजन (Motive) |

Options :

61547534449. 1
61547534450. 2
61547534451. 3
61547534452. 4

Question Number : 89 Question Id : 6154758837 Question Type : MCQ Option Shuffling : No Display Question Number : Yes
Single Line Question Option : No Option Orientation : Vertical
Correct Marks : 2 Wrong Marks : 0

The symbol deals with

- (1) Transmission of a message
- (2) Deviation of a message
- (3) Restriction of a message
- (4) Dilution of a message

Options :

61547534453. 1
61547534454. 2
61547534455. 3
61547534456. 4

Question Number : 89 Question Id : 6154758837 Question Type : MCQ Option Shuffling : No Display Question Number : Yes
Single Line Question Option : No Option Orientation : Vertical
Correct Marks : 2 Wrong Marks : 0

प्रतीक (Symbol) किससे संबंधित है?

- (1) किसी संदेश (message) के प्रेषण से
- (2) किसी संदेश के विचलन से
- (3) किसी संदेश के नियंत्रण से
- (4) किसी संदेश के अवमिश्रण (dilution) से

Options :

61547534453. 1
61547534454. 2
61547534455. 3
61547534456. 4

Question Number : 90 Question Id : 6154758838 Question Type : MCQ Option Shuffling : No Display Question Number : Yes
Single Line Question Option : No Option Orientation : Vertical

Correct Marks : 2 Wrong Marks : 0

Who views education as the action exercised by the older generations upon those who are not yet ready for social life?

- (1) Emile Durkheim (2) T.B. Bottomore
(3) R.H. Lowie (4) Lord William Bentinck

Options :

61547534457. 1

61547534458. 2

61547534459. 3

61547534460. 4

Question Number : 90 Question Id : 6154758838 Question Type : MCQ Option Shuffling : No Display Question Number : Yes
Single Line Question Option : No Option Orientation : Vertical

Correct Marks : 2 Wrong Marks : 0

किसने शिक्षा को जो सामाजिक जीवन के लिए तैयार नहीं हैं उस पीढ़ी पर पुरानी पीढ़ी के आचरण के प्रभावक के रूप में देखा है?

- (1) इमार्शल दुर्खाईम (2) टी.बी. बॉटोमोर
(3) आर.एच. लोवी (4) लार्ड विलियम बेंटिक

Options :

61547534457. 1

61547534458. 2

61547534459. 3

61547534460. 4

Question Number : 91 Question Id : 6154758839 Question Type : MCQ Option Shuffling : No Display Question Number : Yes
Single Line Question Option : No Option Orientation : Vertical

Correct Marks : 2 Wrong Marks : 0

Which two of the following principles explain the Alliance theory?

- (a) Principle of reciprocity
(b) Rules of Exogamy
(c) Rules of Endogamy
(d) Incest taboos

Choose the correct option :

- (1) (a) and (b) (2) (b) and (c)
(3) (c) and (d) (4) (a) and (d)

Options :

- 61547534461. 1
- 61547534462. 2
- 61547534463. 3
- 61547534464. 4

Question Number : 91 Question Id : 6154758839 Question Type : MCQ Option Shuffling : No Display Question Number : Yes Single Line Question Option : No Option Orientation : Vertical

Correct Marks : 2 Wrong Marks : 0

निम्नलिखित सिद्धांतों में से कौन-से दो सिद्धांत सहबंध सिद्धांत की व्याख्या करते हैं?

- | | |
|---|-------------------------------|
| (a) पारस्परिकता (reciprocity) का सिद्धांत | (b) बहिर्विवाह का नियम |
| (c) अंतर्विवाह का नियम | (d) कौटुम्बिक व्यभिचार वर्जना |

सही विकल्प चुनें :

- | | |
|---------------|---------------|
| (1) (a) व (b) | (2) (b) व (c) |
| (3) (c) व (d) | (4) (a) व (d) |

Options :

- 61547534461. 1
- 61547534462. 2
- 61547534463. 3
- 61547534464. 4

Question Number : 92 Question Id : 6154758840 Question Type : MCQ Option Shuffling : No Display Question Number : Yes Single Line Question Option : No Option Orientation : Vertical

Correct Marks : 2 Wrong Marks : 0

The stages in the development of property according to Marx can broadly be classified as

- (1) Classless society, primitive communism, class differentiation and inequality
- (2) Class differentiation and Inequality, classless society, primitive communism
- (3) Primitive communism, classless society, class differentiation and inequality
- (4) Primitive communism, class differentiation and inequality, classless society

Options :

- 61547534465. 1
- 61547534466. 2
- 61547534467. 3
- 61547534468. 4

Question Number : 92 Question Id : 6154758840 Question Type : MCQ Option Shuffling : No Display Question Number : Yes Single Line Question Option : No Option Orientation : Vertical

Correct Marks : 2 Wrong Marks : 0

मार्क्स के अनुसार संपत्ति के विकास के चरणों को मोटे तौर पर वर्गीकृत किया जा सकता है

- (1) वर्गविहीन समाज, आदिम साम्यवाद, वर्ग विभेदीकरण व असमानता
- (2) वर्गविभेदीकरण व असमानता, वर्ग विहीन समाज, आदिम साम्यवाद
- (3) आदिम साम्यवाद, वर्गविहीन समाज, वर्ग विभेदीकरण व असमानता
- (4) आदिम साम्यवाद, वर्ग विभेदीकरण व असमानता, वर्गविहीन समाज

Options :

61547534465. 1
61547534466. 2
61547534467. 3
61547534468. 4

Question Number : 93 Question Id : 6154758841 Question Type : MCQ Option Shuffling : No Display Question Number : Yes
Single Line Question Option : No Option Orientation : Vertical

Correct Marks : 2 Wrong Marks : 0

What are the two main factors that can help in bridging the digital divide?

- (a) Higher education and employment
- (b) Ownership of property and wealth
- (c) Access to Computer and Internet
- (d) Computer literacy and information

Choose the correct option :

- (1) (c) and (d)
- (2) (a) and (b)
- (3) (b) and (c)
- (4) (a) and (d)

Options :

61547534469. 1

61547534470. 2

61547534471. 3

61547534472. 4

Question Number : 93 Question Id : 6154758841 Question Type : MCQ Option Shuffling : No Display Question Number : Yes
Single Line Question Option : No Option Orientation : Vertical

Correct Marks : 2 Wrong Marks : 0

कौन से दो मुख्य घटक हैं जो अंकीय विभाजन अन्तर को पाटने में सहायता कर सकते हैं?

- (a) उच्च शिक्षा व रोजगार
- (b) संपत्ति व परिसंपत्ति का स्वामित्व
- (c) संगणक (कम्प्यूटर) व इन्टरनेट तक पहुँच
- (d) संगणक (कम्प्यूटर) साक्षरता व सूचना

सही विकल्प चुनें :

- (1) (c) व (d)
- (2) (a) व (b)
- (3) (b) व (c)
- (4) (a) व (d)

Options :

61547534469. 1

61547534470. 2

61547534471. 3

61547534472. 4

Question Number : 94 Question Id : 6154758842 Question Type : MCQ Option Shuffling : No Display Question Number : Yes
Single Line Question Option : No Option Orientation : Vertical

Correct Marks : 2 Wrong Marks : 0

Which of the following are examples of material culture?

- (a) Aspects of culture which govern the production and use of artefacts
- (b) Material production actually produced by society
- (c) Tools of governance in a community
- (d) Interaction of children with parents

Choose the correct option :

- (1) (b) and (c)
- (2) (c) and (d)
- (3) (d) and (a)
- (4) (a) and (b)

Options :

- 61547534473. 1
- 61547534474. 2
- 61547534475. 3
- 61547534476. 4

**Question Number : 94 Question Id : 6154758842 Question Type : MCQ Option Shuffling : No Display Question Number : Yes
Single Line Question Option : No Option Orientation : Vertical**

Correct Marks : 2 Wrong Marks : 0



निम्नलिखित में से कौन से भौतिक संस्कृति के उदाहरण है ?

- (a) संस्कृति के पहलू जो उत्पादन व मानव कृतियों के उपयोग को नियन्त्रित करते हैं।
- (b) भौतिक उत्पादन वास्तव में समाज द्वारा उत्पादित किया जाता है।
- (c) किसी समुदाय में अभिशासन के साधन।
- (d) बच्चों का माता पिता के साथ संवाद।

सही विकल्प चुनें :

- (1) (b) व (c)
- (2) (c) व (d)
- (3) (d) व (a)
- (4) (a) व (b)



Options :

- 61547534473. 1
- 61547534474. 2
- 61547534475. 3
- 61547534476. 4

Question Number : 95 Question Id : 6154758843 Question Type : MCQ Option Shuffling : No Display Question Number : Yes
Single Line Question Option : No Option Orientation : Vertical
Correct Marks : 2 Wrong Marks : 0

The studies of Indian rural society by the sociologists and social anthropologists largely focussed upon :

- (a) Categories of caste and community
- (b) The analysis of rural and agrarian social structures
- (c) Analysis of planned changes introduced by the state in the rural society
- (d) Finding cultural impediments to development of Indian rural society

Choose the correct option :

- (1) (a) and (b)
- (2) (b) and (c)
- (3) (c) and (d)
- (4) (d) and (a)

Options :

61547534477. 1

61547534478. 2

61547534479. 3

61547534480. 4

Question Number : 95 Question Id : 6154758843 Question Type : MCQ Option Shuffling : No Display Question Number : Yes

Single Line Question Option : No Option Orientation : Vertical

Correct Marks : 2 Wrong Marks : 0



समाजशास्त्रियों व सामाजिक मानववैज्ञानिक द्वारा भारतीय ग्रामीण समाज के अध्ययन को व्यापक रूप से (किस पर) केन्द्रित किया गया है?

- (a) जाति व समुदाय के वर्गीकरण पर
- (b) ग्रामीण व खेतीहर सामाजिक संरचना के विश्लेषण पर
- (c) राज्य द्वारा ग्रामीण समाज में आरंभ किए गए सुनियोजित परिवर्तनों के विश्लेषण पर
- (d) भारतीय ग्रामीण समाज के विकास में सांस्कृतिक अवरोधों को खोजने पर

सही विकल्प चुनें :

- (1) (a) व (b)
- (2) (b) व (c)
- (3) (c) व (d)
- (4) (d) व (a)

Options :

61547534477. 1

61547534478. 2

61547534479. 3

61547534480. 4

Question Number : 96 Question Id : 6154758844 Question Type : MCQ Option Shuffling : No Display Question Number : Yes
Single Line Question Option : No Option Orientation : Vertical
Correct Marks : 2 Wrong Marks : 0

The earlier popular studies of Indian rural society were largely based on the interest of sociologists to –

- (a) Understand Indian Village society
- (b) Document the structure of traditional Indian village society
- (c) Understand the dynamics and change in Indian Village society
- (d) Document the contribution of Britishers to the Indian Village society

Choose the correct option :

- (1) (a) and (b)
- (2) (b) and (c)
- (3) (c) and (d)
- (4) (d) and (a)

Options :

61547534481. 1

61547534482. 2

61547534483. 3

61547534484. 4

**Question Number : 96 Question Id : 6154758844 Question Type : MCQ Option Shuffling : No Display Question Number : Yes
Single Line Question Option : No Option Orientation : Vertical
Correct Marks : 2 Wrong Marks : 0**



भारतीय ग्रामीण समाज के पूर्व में कराए गए अध्ययनों का वृहत आधार समाजशास्त्रियों की किस रुचि से संबंधित थे

- (a) भारतीय ग्रामीण समाज को समझना
- (b) परम्परागत भारतीय ग्रामीण समाज की संरचना का प्रलेखन
- (c) भारतीय ग्रामीण समाज की गतिशीलता एवं परिवर्तन को समझना
- (d) भारतीय ग्रामीण समाज में अंग्रेजों के योगदान का प्रलेखन

सही विकल्प का चयन करें :

- (1) (a) और (b)
- (2) (b) और (c)
- (3) (c) और (d)
- (4) (d) और (a)

Options :

- 61547534481. 1
- 61547534482. 2
- 61547534483. 3
- 61547534484. 4

Question Number : 97 Question Id : 6154758845 Question Type : MCQ Option Shuffling : No Display Question Number : Yes
Single Line Question Option : No Option Orientation : Vertical
Correct Marks : 2 Wrong Marks : 0

Which of the following are examples of primary sources of data?

- (a) Interview
- (b) Diaries
- (c) Census reports
- (d) Observation

Choose the correct option :

- (1) (a) and (b) (2) (b) and (c)
- (3) (c) and (d) (4) (d) and (a)

Options :

61547534485. 1
61547534486. 2
61547534487. 3
61547534488. 4

Question Number : 97 Question Id : 6154758845 Question Type : MCQ Option Shuffling : No Display Question Number : Yes
Single Line Question Option : No Option Orientation : Vertical

Correct Marks : 2 Wrong Marks : 0

निम्नलिखित में से कौनसे आँकड़ों के प्राथमिक स्रोतों के उदाहरण हैं?

- (a) साक्षात्कार (b) डायरी
(c) जनगणना रिपोर्टें (d) अवलोकन

सही विकल्प चुनें :

- (1) (a) और (b) (2) (b) और (c)
(3) (c) और (d) (4) (d) और (a)

Options :

61547534485. 1
61547534486. 2
61547534487. 3
61547534488. 4

Question Number : 98 Question Id : 6154758846 Question Type : MCQ Option Shuffling : No Display Question Number : Yes
Single Line Question Option : No Option Orientation : Vertical

Correct Marks : 2 Wrong Marks : 0

Which of the following are elements of the ethics of social research?

- (a) Ideology
(b) Subjectivity
(c) Anonymity
(d) Confidentiality

Choose the correct option :

- (1) (a) and (b) (2) (b) and (c)
(3) (c) and (d) (4) (d) and (a)

Options :

61547534489. 1

61547534490. 2

61547534491. 3

61547534492. 4

Question Number : 98 Question Id : 6154758846 Question Type : MCQ Option Shuffling : No Display Question Number : Yes
Single Line Question Option : No Option Orientation : Vertical

Correct Marks : 2 Wrong Marks : 0

निम्नलिखित में से कौन से सामाजिक अनुसंधान नीति (ethics) के तत्त्व हैं?

- (a) विचारधारा
- (b) आत्मनिष्ठता
- (c) अनामता (Anonymity)
- (d) गोपनीयता

सही विकल्प चुनें :

- (1) (a) और (b)
- (2) (b) और (c)
- (3) (c) और (d)
- (4) (d) और (a)

Options :

61547534489. 1

61547534490. 2

61547534491. 3

61547534492. 4

Question Number : 99 Question Id : 6154758847 Question Type : MCQ Option Shuffling : No Display Question Number : Yes
Single Line Question Option : No Option Orientation : Vertical

Correct Marks : 2 Wrong Marks : 0

Sociology originated largely in a philosophical ambition to

- (a) Account for the course of human history
- (b) Explain the social crisis of the 19th Century Europe
- (c) Explain the origin of Industrialization
- (d) Account for the French revolution

Select the correct option :

- (1) (a) and (b)
- (2) (b) and (c)
- (3) (c) and (d)
- (4) (d) and (a)



Options :

- 61547534493. 1
- 61547534494. 2
- 61547534495. 3
- 61547534496. 4

**Question Number : 99 Question Id : 6154758847 Question Type : MCQ Option Shuffling : No Display Question Number : Yes
Single Line Question Option : No Option Orientation : Vertical**

Correct Marks : 2 Wrong Marks : 0

समाजशास्त्र का उद्भव मूलतः किसकी दार्शनिक अभिलाषा है ?

- (a) मानवीय इतिहास की प्रगति का लेखांकन
- (b) 19वीं शताब्दी में यूरोप के सामाजिक संकट की व्याख्या करना
- (c) औद्योगीकरण के मूल कारणों का व्याख्यान
- (d) फ्रांस की क्रांति का लेखांकन

सही विकल्प चुनें :

- (1) (a) और (b)
- (2) (b) और (c)
- (3) (c) और (d)
- (4) (d) और (a)



Options :

- 61547534493. 1
- 61547534494. 2
- 61547534495. 3
- 61547534496. 4

Question Number : 100 Question Id : 6154758848 Question Type : MCQ Option Shuffling : No Display Question Number : Yes
Single Line Question Option : No Option Orientation : Vertical

Correct Marks : 2 Wrong Marks : 0

Which one of the following metropolises have the highest percentage and lowest percentage of scheduled castes?

- (a) Bengaluru
- (b) Mumbai
- (c) Chennai
- (d) Delhi

Choose the correct option :

- (1) (a) and (b)
- (2) (b) and (c)
- (3) (c) and (b)
- (4) (d) and (a)

Options :

- 61547534497. 1
- 61547534498. 2
- 61547534499. 3
- 61547534500. 4

Question Number : 100 Question Id : 6154758848 Question Type : MCQ Option Shuffling : No Display Question Number : Yes Single Line Question Option : No Option Orientation : Vertical

Correct Marks : 2 Wrong Marks : 0

निम्नलिखित में से किस महानगर में अधिकतम तथा न्यूनतम अनुसूचित जातियों की प्रतिशतता है?

- (a) बंगलूरु
- (b) मुम्बई
- (c) चैन्नई
- (d) दिल्ली

सही विकल्प चुनें :

- (1) (a) और (b)
- (2) (b) और (c)
- (3) (c) और (b)
- (4) (d) और (a)

Options :

- 61547534497. 1
- 61547534498. 2
- 61547534499. 3
- 61547534500. 4

Question Number : 101 Question Id : 6154758849 Question Type : MCQ Option Shuffling : No Display Question Number : Yes Single Line Question Option : No Option Orientation : Vertical

Correct Marks : 2 Wrong Marks : 0

Who among the following are associated with the theory of “Urbanism as a way of life” and “Culture of Poverty”?

- (a) Oscar Lewis
- (b) William Foot Whyte
- (c) Louis Wirth
- (d) Homer Hyot

Choose the correct option :

- (1) (a) and (b)
- (2) (b) and (c)
- (3) (c) and (a)
- (4) (c) and (d)

Options :

- 61547534501. 1
- 61547534502. 2
- 61547534503. 3
- 61547534504. 4

Question Number : 101 Question Id : 6154758849 Question Type : MCQ Option Shuffling : No Display Question Number : Yes Single Line Question Option : No Option Orientation : Vertical

Correct Marks : 2 Wrong Marks : 0

निम्नलिखित में से कौन “शहरीकरण जीवन की एक शैली” व “निर्धनता की संस्कृति” से संबद्ध है?

- (a) ऑस्कर लेविस
- (b) विलियम फुट वाइट
- (c) लुइस विर्थ
- (d) होमर हायोट

सही विकल्प चुनें :

- (1) (a) व (b)
- (2) (b) व (c)
- (3) (c) व (a)
- (4) (c) व (d)

Options :

- 61547534501. 1
- 61547534502. 2
- 61547534503. 3
- 61547534504. 4

Question Number : 102 Question Id : 6154758850 Question Type : MCQ Option Shuffling : No Display Question Number : Yes Single Line Question Option : No Option Orientation : Vertical

Correct Marks : 2 Wrong Marks : 0

Which of the following were the slum populations in India in 2001 and 2011 Census Years?

- (a) 40.6 Millions
- (b) 42.6 Millions
- (c) 68.0 Millions
- (d) 72.0 Millions

Choose the correct option :

- (1) (a) and (b)
- (2) (b) and (c)
- (3) (c) and (d)
- (4) (a) and (d)

Options :

- 61547534505. 1
- 61547534506. 2
- 61547534507. 3
- 61547534508. 4

Question Number : 102 Question Id : 6154758850 Question Type : MCQ Option Shuffling : No Display Question Number : Yes Single Line Question Option : No Option Orientation : Vertical

Correct Marks : 2 Wrong Marks : 0

2001 व 2011 के जनगणना वर्षों में भारत की मलिन बस्तियों की जनसंख्या निम्नांकित में से कौन-सी है ?

- (a) 40.6 मिलियन
- (b) 42.6 मिलियन
- (c) 68.0 मिलियन
- (d) 72.0 मिलियन

सही विकल्प चुनें :

- (1) (a) व (b)
- (2) (b) व (c)
- (3) (c) व (d)
- (4) (a) व (d)

Options :

- 61547534505. 1
- 61547534506. 2
- 61547534507. 3
- 61547534508. 4

Question Number : 103 Question Id : 6154758851 Question Type : MCQ Option Shuffling : No Display Question Number : Yes Single Line Question Option : No Option Orientation : Vertical

Correct Marks : 2 Wrong Marks : 0

Which two of the following are associated with 'Right to City' and 'Slums' study?

- (a) M.N. Srinivas
- (b) H. Lefebvre
- (c) R. Neuwirth
- (d) I.P. Desai

Choose the correct option :

- (1) (a) and (d)
- (2) (b) and (c)
- (3) (c) and (d)
- (4) (b) and (d)

Options :

61547534509. 1

61547534510. 2

61547534511. 3

61547534512. 4

Question Number : 103 Question Id : 6154758851 Question Type : MCQ Option Shuffling : No Display Question Number : Yes Single Line Question Option : No Option Orientation : Vertical

Correct Marks : 2 Wrong Marks : 0

निम्नलिखित में से कौन दो 'राइट टू सिटी' व 'मलिन बस्तियों' के अध्ययन के साथ संबद्ध हैं?

- (a) एम.एन. श्रीनिवास
- (b) एच. लेफेब्रे
- (c) आर. न्युवर्थ
- (d) आई. पी. देसाई

सही विकल्प चुनें :

- (1) (a) व (d)
- (2) (b) व (c)
- (3) (c) व (d)
- (4) (b) व (d)

Options :

61547534509. 1

61547534510. 2

61547534511. 3

61547534512. 4

Question Number : 104 Question Id : 6154758852 Question Type : MCQ Option Shuffling : No Display Question Number : Yes Single Line Question Option : No Option Orientation : Vertical

Correct Marks : 2 Wrong Marks : 0

From among the classical sociologists, who have used comparative method but in different ways?

- (a) Emile Durkheim
- (b) Karl Marx
- (c) Max Weber
- (d) Auguste Comte

Choose the correct option :

- (1) (b) and (c)
- (2) (c) and (d)
- (3) (d) and (a)
- (4) (a) and (c)

Options :

61547534513. 1

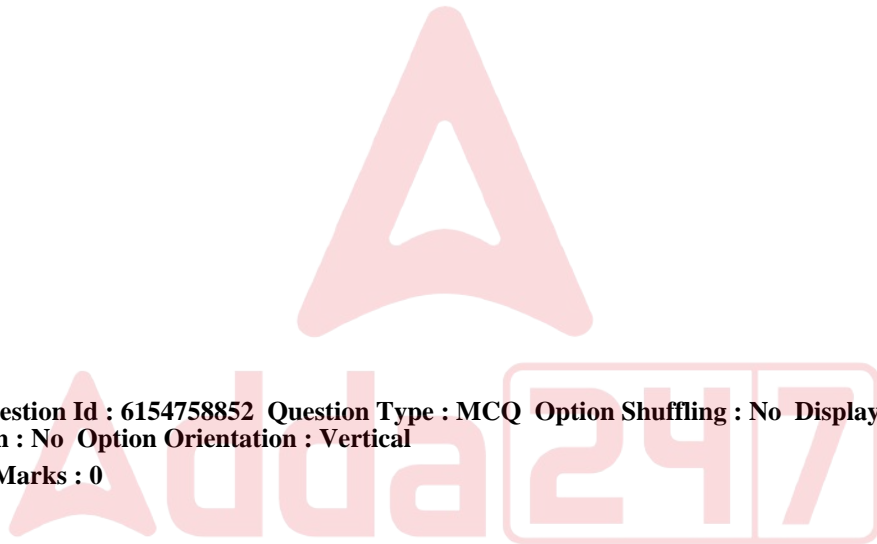
61547534514. 2

61547534515. 3

61547534516. 4

**Question Number : 104 Question Id : 6154758852 Question Type : MCQ Option Shuffling : No Display Question Number : Yes
Single Line Question Option : No Option Orientation : Vertical**

Correct Marks : 2 Wrong Marks : 0



शास्त्रीय समाजशास्त्रियों में से किसने भिन्न तरीके से तुलनात्मक विधि का प्रयोग किया है ?

- (a) इमार्शल दुर्खाईम
- (b) कार्ल मार्क्स
- (c) मैक्स वेबर
- (d) आगस्ट कॉम्ट

सही विकल्प चुनें :

- (1) (b) व (c)
- (2) (c) व (d)
- (3) (d) व (a)
- (4) (a) व (c)

Options :

- 61547534513. 1
- 61547534514. 2
- 61547534515. 3
- 61547534516. 4



Question Number : 105 Question Id : 6154758853 Question Type : MCQ Option Shuffling : No Display Question Number : Yes
Single Line Question Option : No Option Orientation : Vertical

Correct Marks : 2 Wrong Marks : 0

According to T.B.Bottomore, the historical approach in sociology has taken two principal forms which are influenced by :

- (a) Philosophy of History
- (b) Ethnographic descriptions
- (c) Systematic empirical research
- (d) Biological theory of evolution

Choose the correct option :

- (1) (a) and (b)
- (2) (b) and (c)
- (3) (c) and (d)
- (4) (d) and (a)

Options :

61547534517. 1

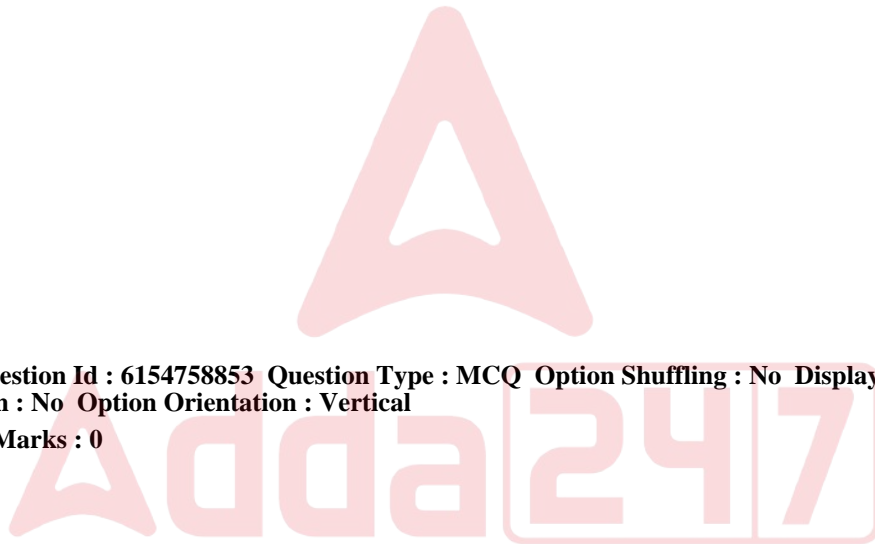
61547534518. 2

61547534519. 3

61547534520. 4

**Question Number : 105 Question Id : 6154758853 Question Type : MCQ Option Shuffling : No Display Question Number : Yes
Single Line Question Option : No Option Orientation : Vertical**

Correct Marks : 2 Wrong Marks : 0



टी.बी. बोटोमोर के अनुसार सामाजिक विज्ञान में ऐतिहासिक उपागम के दो सैद्धांतिक रूपों को लिया गया है जो किसके द्वारा प्रभावित है?

- (a) इतिहास का दर्शन
- (b) नृजातीय विवरण
- (c) व्यवस्थित आनुभाविक शोध
- (d) उद्विकास का जैविक सिद्धांत

सही विकल्प चुनें :

- (1) (a) व (b)
- (2) (b) व (c)
- (3) (c) व (d)
- (4) (d) व (a)

Options :

61547534517. 1

61547534518. 2

61547534519. 3

61547534520. 4

Question Number : 106 Question Id : 6154758854 Question Type : MCQ Option Shuffling : No Display Question Number : Yes
Single Line Question Option : No Option Orientation : Vertical
Correct Marks : 2 Wrong Marks : 0

Tamilian's movement in Srilanka is an example of :

- (a) An Ethnic movement
- (b) A Regional movement
- (c) A Religious movement
- (d) A social reform movement

Choose the correct option :

- (1) (a) and (b)
- (2) (b) and (c)
- (3) (c) and (d)
- (4) (d) and (a)

Options :

61547534521. 1

61547534522. 2

61547534523. 3

61547534524. 4



Question Number : 106 Question Id : 6154758854 Question Type : MCQ Option Shuffling : No Display Question Number : Yes
Single Line Question Option : No Option Orientation : Vertical

Correct Marks : 2 Wrong Marks : 0

श्रीलंका में तमिल आंदोलन किसका उदाहरण है :

- (a) संजातीय आंदोलन
- (b) क्षेत्रीय आंदोलन
- (c) धार्मिक आंदोलन
- (d) समाज सुधार आंदोलन

सही विकल्प चुनें :

- (1) (a) और (b)
- (2) (b) और (c)
- (3) (c) और (d)
- (4) (d) और (a)

Options :

61547534521. 1

61547534522. 2

61547534523. 3

61547534524. 4

Question Number : 107 Question Id : 6154758855 Question Type : MCQ Option Shuffling : No Display Question Number : Yes
Single Line Question Option : No Option Orientation : Vertical

Correct Marks : 2 Wrong Marks : 0

The question 'Why is it' about a social phenomenon is the key to which type of research design?

- (a) Exploratory
- (b) Descriptive
- (c) Explanatory
- (d) Experimental

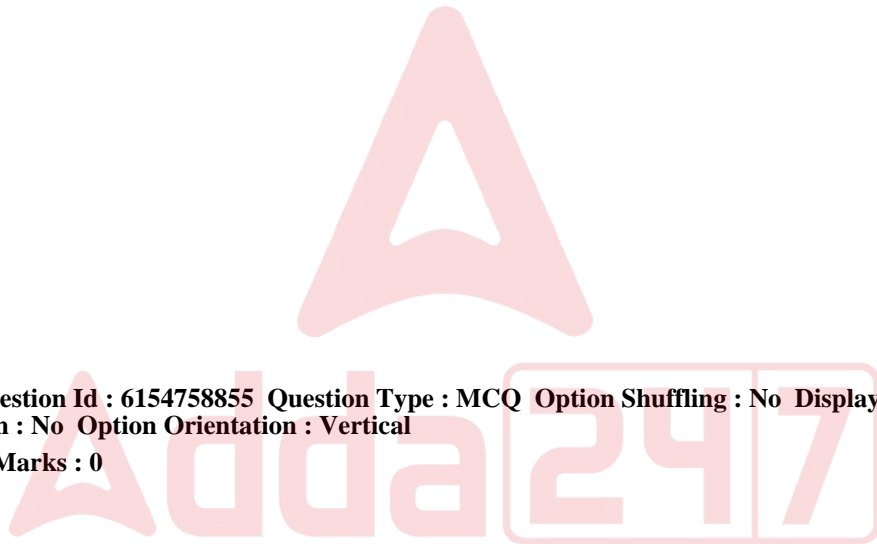
Choose the correct option :

- (1) (a) and (b)
- (2) (b) and (c)
- (3) (c) and (d)
- (4) (d) and (a)

Options :

- 61547534525. 1
- 61547534526. 2
- 61547534527. 3
- 61547534528. 4

**Question Number : 107 Question Id : 6154758855 Question Type : MCQ Option Shuffling : No Display Question Number : Yes
Single Line Question Option : No Option Orientation : Vertical
Correct Marks : 2 Wrong Marks : 0**



किसी सामाजिक घटना के संदर्भ में प्रश्न 'ऐसा क्यों है' किस प्रकार के अनुसंधान पद्धति के लिए महत्वपूर्ण है?

- (a) अन्वेषणात्मक
- (b) विवरणात्मक
- (c) व्याख्यात्मक
- (d) प्रयोगात्मक

सही विकल्प चुनें :

- (1) (a) और (b)
- (2) (b) और (c)
- (3) (c) और (d)
- (4) (d) और (a)

Options :

- 61547534525. 1
- 61547534526. 2
- 61547534527. 3
- 61547534528. 4



Question Number : 108 Question Id : 6154758856 Question Type : MCQ Option Shuffling : No Display Question Number : Yes
Single Line Question Option : No Option Orientation : Vertical

Correct Marks : 2 Wrong Marks : 0

Who has advocated the scientific method for the study of social phenomena?

- (a) A.R. Radcliffe – Brown
- (b) Emile Durkheim
- (c) Max Weber
- (d) B. Malinowski

Choose the correct option :

- (1) (a) and (c)
- (2) (a) and (b)
- (3) (b) and (c)
- (4) (c) and (d)

Options :

61547534529. 1

61547534530. 2

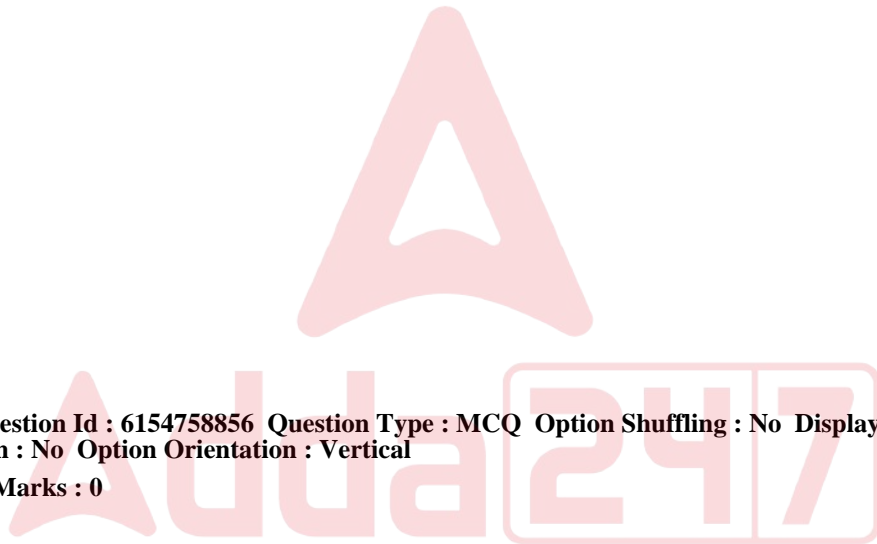
61547534531. 3

61547534532. 4

Question Number : 108 Question Id : 6154758856 Question Type : MCQ Option Shuffling : No Display Question Number : Yes

Single Line Question Option : No Option Orientation : Vertical

Correct Marks : 2 Wrong Marks : 0



सामाजिक घटनाओं के अध्ययन के लिए किसने वैज्ञानिक पद्धति का समर्थन किया है?

- (a) ए.आर. रैंडक्लिफ-ब्राउन
- (b) इमार्इल दुर्खाईम
- (c) मैक्स वेबर
- (d) बी. मैलिनोवस्की

सही विकल्प चुनें :

- (1) (a) और (c)
- (2) (a) और (b)
- (3) (b) और (c)
- (4) (c) और (d)

Options :

- 61547534529. 1
- 61547534530. 2
- 61547534531. 3
- 61547534532. 4



Question Number : 109 Question Id : 6154758857 Question Type : MCQ Option Shuffling : No Display Question Number : Yes
Single Line Question Option : No Option Orientation : Vertical

Correct Marks : 2 Wrong Marks : 0

Which of the following is correct about the informal education?

- (a) It helps to bring social equality
- (b) It helps to segregate people from the community
- (c) It focusses on social aspect of learning
- (d) It does not bridge gap between school and life

Choose the correct option :

- (1) (a) and (b)
- (2) (b) and (c)
- (3) (a) and (c)
- (4) (c) and (d)

Options :

61547534533. 1

61547534534. 2

61547534535. 3

61547534536. 4

Question Number : 109 Question Id : 6154758857 Question Type : MCQ Option Shuffling : No Display Question Number : Yes
Single Line Question Option : No Option Orientation : Vertical

Correct Marks : 2 Wrong Marks : 0

अनौपचारिक शिक्षा के संबंध में निम्नलिखित में से कौन सही है?

- (a) यह सामाजिक समानता लाने में सहायता करती है
- (b) यह लोगों को समुदाय से अलग करने में सहायता करती है
- (c) यह अधिगम के सामाजिक पक्ष पर बल देती है
- (d) यह स्कूल और जीवन के बीच की दूरी को नहीं पाटती

सही विकल्प चुनें :

- (1) (a) और (b)
- (2) (b) और (c)
- (3) (a) और (c)
- (4) (c) और (d)



Options :

- 61547534533. 1
- 61547534534. 2
- 61547534535. 3
- 61547534536. 4

Question Number : 110 Question Id : 6154758858 Question Type : MCQ Option Shuffling : No Display Question Number : Yes
Single Line Question Option : No Option Orientation : Vertical
Correct Marks : 2 Wrong Marks : 0

Which option is correct about the 'Social fact' according to Durkheim?

- (a) It is common in a given society
- (b) It is common in every individual
- (c) It is like thing
- (d) It does not provide any pressure on the individual

Choose the correct option :

- (1) (a) and (b)
- (2) (c) and (d)
- (3) (b) and (c)
- (4) (a) and (c)

Options :

61547534537. 1

61547534538. 2

61547534539. 3

61547534540. 4

**Question Number : 110 Question Id : 6154758858 Question Type : MCQ Option Shuffling : No Display Question Number : Yes
Single Line Question Option : No Option Orientation : Vertical**

Correct Marks : 2 Wrong Marks : 0



दुर्खाईम के अनुसार 'सामाजिक तथ्य' के संबंध में कौन सा विकल्प सही है?

- (a) यह किसी प्रदत्त समाज में सामान्य है
- (b) यह प्रत्येक व्यक्ति में सामान्य है
- (c) यह वस्तु के समान है
- (d) यह किसी व्यक्ति पर दबाव नहीं डालता है

सही विकल्प चुनें :

- (1) (a) और (b)
- (2) (c) और (d)
- (3) (b) और (c)
- (4) (a) और (c)



Options :

- 61547534537. 1
- 61547534538. 2
- 61547534539. 3
- 61547534540. 4

Question Number : 111 Question Id : 6154758859 Question Type : MCQ Option Shuffling : No Display Question Number : Yes
Single Line Question Option : No Option Orientation : Vertical

Correct Marks : 2 Wrong Marks : 0

Which are the essential characteristics of bureaucracy?

- (a) Hierarchy of power
- (b) Unlimited power
- (c) Channelling of communication
- (d) Informal relations between the officials

Choose the correct option :

- (1) (b) and (c)
- (2) (a) and (d)
- (3) (a) and (c)
- (4) (b) and (d)

Options :

- 61547534541. 1
- 61547534542. 2
- 61547534543. 3
- 61547534544. 4



Question Number : 111 Question Id : 6154758859 Question Type : MCQ Option Shuffling : No Display Question Number : Yes Single Line Question Option : No Option Orientation : Vertical

Correct Marks : 2 Wrong Marks : 0

नौकरशाही की आवश्यक विशेषताएँ क्या हैं?

- (a) शक्ति का पदानुक्रम
- (b) असीमित शक्ति
- (c) संचार की वाहिका
- (d) अधिकारियों के मध्य अनौपचारिक संबंध

सही विकल्प चुनें :

- (1) (b) और (c)
- (2) (a) और (d)
- (3) (a) और (c)
- (4) (b) और (d)

Options :

61547534541. 1

61547534542. 2

61547534543. 3

61547534544. 4

Question Number : 112 Question Id : 6154758860 Question Type : MCQ Option Shuffling : No Display Question Number : Yes
Single Line Question Option : No Option Orientation : Vertical

Correct Marks : 2 Wrong Marks : 0

In Indian weddings there is predominance of what is called “Conspicuous consumption”. This can be applied to indicate two things :

- (a) Reflection of the caste of a person
- (b) Display of wealth
- (c) Providing expensive food
- (d) Demonstration of one’s status

Choose the correct option :

- (1) (a) and (b)
- (2) (c) and (d)
- (3) (a) and (c)
- (4) (b) and (d)

Options :

- 61547534545. 1
- 61547534546. 2
- 61547534547. 3
- 61547534548. 4

**Question Number : 112 Question Id : 6154758860 Question Type : MCQ Option Shuffling : No Display Question Number : Yes
Single Line Question Option : No Option Orientation : Vertical
Correct Marks : 2 Wrong Marks : 0**



भारतीय शादी-ब्याह में “प्रदर्शनीय उपभोग” (Conspicuous consumption) का आधिक्य है। यह किन दो बातों के संबंध में प्रयोग किया जा सकता है?

- (a) किसी व्यक्ति की जाति का प्रदर्शन
- (b) धन का प्रदर्शन
- (c) मंहगे भोजन कराना
- (d) अपने सामाजिक स्थिति का प्रदर्शन करना

सही विकल्प चुनें :

- (1) (a) और (b)
- (2) (c) और (d)
- (3) (a) और (c)
- (4) (b) और (d)

Options :

- 61547534545. 1
- 61547534546. 2
- 61547534547. 3
- 61547534548. 4

Question Number : 113 Question Id : 6154758861 Question Type : MCQ Option Shuffling : No Display Question Number : Yes
Single Line Question Option : No Option Orientation : Vertical
Correct Marks : 2 Wrong Marks : 0

Epistemology for a division includes which of the following?

- (a) Objectivity
- (b) Subjectivity
- (c) Empiricism
- (d) Rationalism

Choose the correct option :

- (1) (a) and (b)
- (2) (b) and (c)
- (3) (c) and (d)
- (4) (d) and (a)

Options :

61547534549. 1

61547534550. 2

61547534551. 3

61547534552. 4



**Question Number : 113 Question Id : 6154758861 Question Type : MCQ Option Shuffling : No Display Question Number : Yes
Single Line Question Option : No Option Orientation : Vertical**

Correct Marks : 2 Wrong Marks : 0

ज्ञान-शास्त्र (Epistemology) जिस प्रकार के अंतर-भेद के लिए प्रयुक्त होता है, उसमें सम्मिलित हैं

- (a) वस्तुनिष्ठता
- (b) आत्मनिष्ठता
- (c) अनुभववाद
- (d) तार्किकतावाद

सही विकल्प का चयन करें :

- (1) (a) और (b)
- (2) (b) और (c)
- (3) (c) और (d)
- (4) (d) और (a)

Options :

61547534549. 1

61547534550. 2

61547534551. 3

61547534552. 4

Question Number : 114 Question Id : 6154758862 Question Type : MCQ Option Shuffling : No Display Question Number : Yes
Single Line Question Option : No Option Orientation : Vertical

Correct Marks : 2 Wrong Marks : 0

Which two of the following states are most urbanized and least urbanized in India?

- (a) Tamil Nadu
- (b) Kerala
- (c) Himachal Pradesh
- (d) Assam

Choose the correct option :

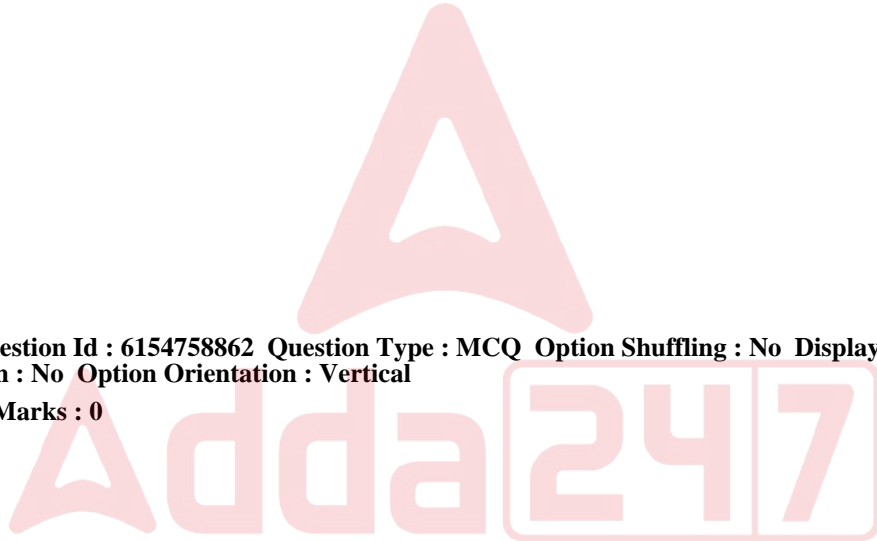
- (1) (a) and (d)
- (2) (a) and (c)
- (3) (b) and (c)
- (4) (c) and (d)

Options :

- 61547534553. 1
- 61547534554. 2
- 61547534555. 3
- 61547534556. 4

**Question Number : 114 Question Id : 6154758862 Question Type : MCQ Option Shuffling : No Display Question Number : Yes
Single Line Question Option : No Option Orientation : Vertical**

Correct Marks : 2 Wrong Marks : 0



भारत के निम्नलिखित कौन-से दो राज्य सर्वाधिक शहरीकृत तथा सबसे कम शहरीकृत हैं?

- (a) तमिलनाडु
- (b) केरल
- (c) हिमाचल प्रदेश
- (d) असम

सही विकल्प चुनें :

- (1) (a) और (d)
- (2) (a) और (c)
- (3) (b) और (c)
- (4) (c) और (d)

Options :

- 61547534553. 1
- 61547534554. 2
- 61547534555. 3
- 61547534556. 4

**Question Number : 115 Question Id : 6154758863 Question Type : MCQ Option Shuffling : No Display Question Number : Yes
Single Line Question Option : No Option Orientation : Vertical
Correct Marks : 2 Wrong Marks : 0**

Match List A with List B :

List A (Books)

List B (Authors/Editors)

- | | |
|---|---|
| (a) Family, Kinship and Marriage in India | (i) T.N. Madan |
| (b) Changing Kinship, Family and gender relations | (ii) Rajni Parliwala |
| (c) Family and Kinship | (iii) Patricia Uberoi |
| (d) Marrying in South Asia | (iv) Ravinder Kaur and Rajani Palriwala |

Choose the correct option :

- (1) (a)-(i), (b)-(iii), (c)-(iv), (d)-(ii)
- (2) (a)-(ii), (b)-(iv), (c)-(iii), (d)-(i)
- (3) (a)-(iv), (b)-(ii), (c)-(i), (d)-(iii)
- (4) (a)-(iii), (b)-(ii), (c)-(i), (d)-(iv)

Options :

61547534557. 1
61547534558. 2
61547534559. 3
61547534560. 4

Question Number : 115 Question Id : 6154758863 Question Type : MCQ Option Shuffling : No Display Question Number : Yes
Single Line Question Option : No Option Orientation : Vertical
Correct Marks : 2 Wrong Marks : 0

सूची-A का सूची-B के साथ मिलान करें :

सूची-A (पुस्तक)

सूची-B (लेखक/संपादक)

- (a) फैमिली, किनशिप एंड मैरिज इन इंडिया
- (b) चेंजिंग किनशिप, फैमिली एंड जेंडर रिलेशंस
- (c) फैमिली एंड किनशिप
- (d) मैरिंग इन साउथ एशिया

- (i) टी.एन. मदान
- (ii) रजनी पालरीवाला
- (iii) पैट्रीशिया ओबेरॉय
- (iv) रविन्दर कौर और रजनी पालरीवाला

सही विकल्प चुनें :

- (1) (a)-(i), (b)-(iii), (c)-(iv), (d)-(ii)
- (2) (a)-(ii), (b)-(iv), (c)-(iii), (d)-(i)
- (3) (a)-(iv), (b)-(ii), (c)-(i), (d)-(iii)
- (4) (a)-(iii), (b)-(ii), (c)-(i), (d)-(iv)

Options :

- 61547534557. 1
- 61547534558. 2
- 61547534559. 3
- 61547534560. 4

Question Number : 116 Question Id : 6154758864 Question Type : MCQ Option Shuffling : No Display Question Number : Yes
Single Line Question Option : No Option Orientation : Vertical
Correct Marks : 2 Wrong Marks : 0

Match the type of technology with the time period in which they broadly originated and evolved :

Type of Technology	Time period
(a) Electronic computing, nuclear power, genetic engineering	(i) Medieval period
(b) Textile, Mining, Metallurgy	(ii) 19 th Century
(c) Sugar mills, paper mills, wind mills	(iii) 18 th Century
(d) Transportation, construction, manufacturing	(iv) 20 th – 21 st Century

Choose the correct option :

- (1) (a)-(i), (b)-(ii), (c)-(iii), (d)-(iv)
- (2) (a)-(iv), (b)-(iii), (c)-(i), (d)-(ii)
- (3) (a)-(iii), (b)-(iv), (c)-(ii), (d)-(i)
- (4) (a)-(ii), (b)-(i), (c)-(iii), (d)-(iv)

Options :

61547534561. 1

61547534562. 2

61547534563. 3

61547534564. 4

Question Number : 116 Question Id : 6154758864 Question Type : MCQ Option Shuffling : No Display Question Number : Yes
Single Line Question Option : No Option Orientation : Vertical
Correct Marks : 2 Wrong Marks : 0

प्रौद्योगिकी के स्वरूप को उस समय-अवधि के साथ मिलायें जिसमें वे सामान्यतः प्रारम्भ एवं विकसित हुए :

प्रौद्योगिकी का स्वरूप	समय अवधि
(a) इलैक्ट्रॉनिक गणना, आण्विक शक्ति, जैविक अभियांत्रिकी	(i) मध्यकालीन अवधि
(b) टेक्साटाईल, खनन, धातु विज्ञान	(ii) 19वीं शताब्दी
(c) चीनी मिल, कागज मिल, विंड मिल	(iii) 18वीं शताब्दी
(d) परिवहन, सन्निर्माण, विनिर्माण	(iv) 20वीं-21वीं शताब्दी

सही विकल्प चुनें :

- (1) (a)-(i), (b)-(ii), (c)-(iii), (d)-(iv)
- (2) (a)-(iv), (b)-(iii), (c)-(i), (d)-(ii)
- (3) (a)-(iii), (b)-(iv), (c)-(ii), (d)-(i)
- (4) (a)-(ii), (b)-(i), (c)-(iii), (d)-(iv)

Options :

61547534561. 1
61547534562. 2
61547534563. 3
61547534564. 4

Question Number : 117 Question Id : 6154758865 Question Type : MCQ Option Shuffling : No Display Question Number : Yes
Single Line Question Option : No Option Orientation : Vertical
Correct Marks : 2 Wrong Marks : 0



Match List I with List II

List I

(Feminist Perspective)

- (a) Cultural
- (b) Liberal
- (c) Radical
- (d) Socialist

List II

(Gender Issues)

- (i) Gender Inequality
- (ii) Gender Oppression
- (iii) Structural Oppression
- (iv) Gender differences

Choose the correct option :

- (1) (a)-(iv), (b)-(i), (c)-(ii), (d)-(iii)
- (2) (a)-(i), (b)-(iii), (c)-(iv), (d)-(ii)
- (3) (a)-(ii), (b)-(iv), (c)-(iii), (d)-(i)
- (4) (a)-(iii), (b)-(ii), (c)-(i), (d)-(iv)

Options :

- 61547534565. 1
- 61547534566. 2
- 61547534567. 3
- 61547534568. 4

Question Number : 117 Question Id : 6154758865 Question Type : MCQ Option Shuffling : No Display Question Number : Yes
Single Line Question Option : No Option Orientation : Vertical
Correct Marks : 2 Wrong Marks : 0

सूची-I का सूची-II के साथ मिलान करें :

सूची-I नारीवादी (महिला परिप्रेक्ष्य)	सूची-II (लैंगिक मुद्दे)
(a) सांस्कृतिक	(i) लैंगिक समानता
(b) उदारवादी	(ii) लैंगिक दमन
(c) अतिवादी	(iii) संरचनात्मक दमन
(d) समाजवादी	(iv) लिंग भेद

सही विकल्प चुनें :

- (1) (a)-(iv), (b)-(i), (c)-(ii), (d)-(iii)
- (2) (a)-(i), (b)-(iii), (c)-(iv), (d)-(ii)
- (3) (a)-(ii), (b)-(iv), (c)-(iii), (d)-(i)
- (4) (a)-(iii), (b)-(ii), (c)-(i), (d)-(iv)

Options :

61547534565. 1
61547534566. 2
61547534567. 3
61547534568. 4

Question Number : 118 Question Id : 6154758866 Question Type : MCQ Option Shuffling : No Display Question Number : Yes
Single Line Question Option : No Option Orientation : Vertical

Correct Marks : 2 Wrong Marks : 0

Match List I with List II

List I

(Sociologist)

- (a) K.M. Kapadia
- (b) G.P. Murdock
- (c) Kingsley Davis
- (d) P.N. Prabhu

List II

(Book)

- (i) Human society
- (ii) Marriage and Family in India
- (iii) Social structure
- (iv) Hindu Social Organization

Choose the correct option :

- (1) (a)-(ii), (b)-(iii), (c)-(i), (d)-(iv)
- (2) (a)-(i), (b)-(ii), (c)-(iii), (d)-(iv)
- (3) (a)-(iv), (b)-(iii), (c)-(ii), (d)-(i)
- (4) (a)-(iii), (b)-(ii), (c)-(iv), (d)-(i)

Options :

61547534569. 1

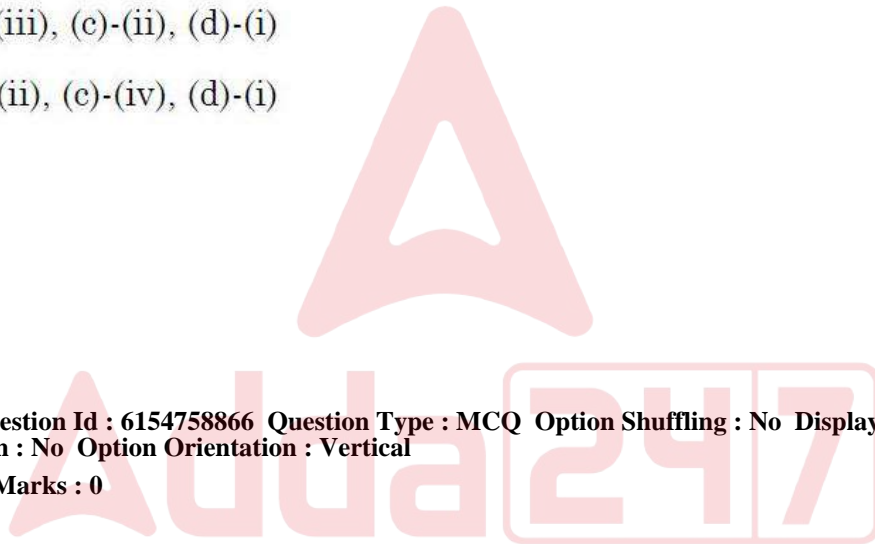
61547534570. 2

61547534571. 3

61547534572. 4

Question Number : 118 Question Id : 6154758866 Question Type : MCQ Option Shuffling : No Display Question Number : Yes
Single Line Question Option : No Option Orientation : Vertical

Correct Marks : 2 Wrong Marks : 0



सूची-I के साथ सूची-II का मिलान करें :

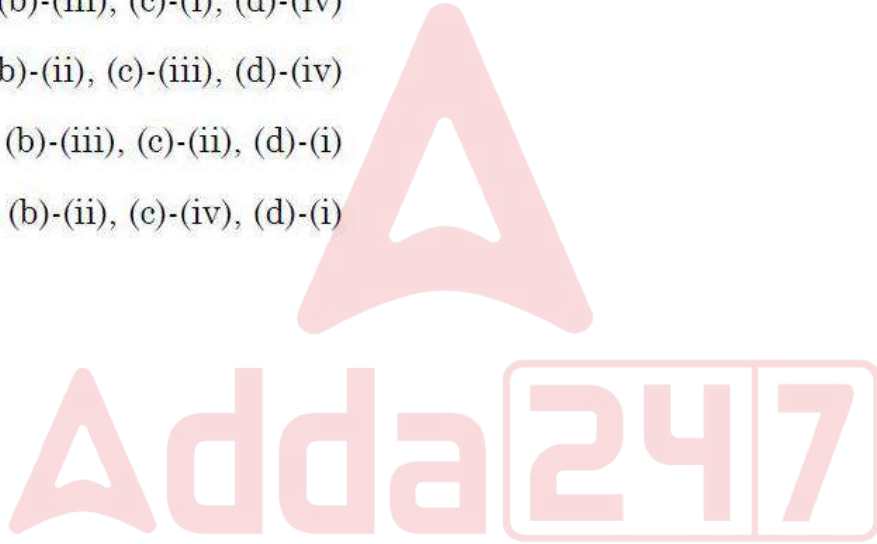
सूची-I (समाजशास्त्री)	सूची-II (पुस्तक)
(a) के.एम. कपाडिया	(i) ह्यूमन सोसायटी
(b) जी.पी. मर्डोक	(ii) मैरिज एंड फैमिली इन इंडिया
(c) किंग्सले डेविस	(iii) सोशल स्ट्रक्चर
(d) पी.एन. प्रभु	(iv) हिन्दू सोशल ऑर्गेनाइजेशन

सही विकल्प चुनें :

- (1) (a)-(ii), (b)-(iii), (c)-(i), (d)-(iv)
- (2) (a)-(i), (b)-(ii), (c)-(iii), (d)-(iv)
- (3) (a)-(iv), (b)-(iii), (c)-(ii), (d)-(i)
- (4) (a)-(iii), (b)-(ii), (c)-(iv), (d)-(i)

Options :

61547534569. 1
61547534570. 2
61547534571. 3
61547534572. 4



Question Number : 119 Question Id : 6154758867 Question Type : MCQ Option Shuffling : No Display Question Number : Yes
Single Line Question Option : No Option Orientation : Vertical

Correct Marks : 2 Wrong Marks : 0

Match List I with List II :

List I (Sociologist)	List II (Concepts)
(a) W.F. Ogburn	(i) Social evolution and social progress
(b) K. Marx	(ii) Civilization and culture
(c) A. Weber	(iii) Basic and superstructure
(d) L.T. Hobhouse	(iv) Material and Non material culture

Choose the correct option :

- (1) (a)-(ii), (b)-(iii), (c)-(iv), (d)-(i)
- (2) (a)-(iv), (b)-(iii), (c)-(ii), (d)-(i)
- (3) (a)-(iii), (b)-(iv), (c)-(ii), (d)-(i)
- (4) (a)-(i), (b)-(ii), (c)-(iii), (d)-(iv)

Options :

61547534573. 1

61547534574. 2

61547534575. 3

61547534576. 4

**Question Number : 119 Question Id : 6154758867 Question Type : MCQ Option Shuffling : No Display Question Number : Yes
Single Line Question Option : No Option Orientation : Vertical
Correct Marks : 2 Wrong Marks : 0**

सूची-I का सूची-II के साथ मिलान करें :

सूची-I (समाजशास्त्री)	सूची-II (संकल्पना)
(a) डब्ल्यू. एफ. ऑर्बर्न	(i) सामाजिक उद्विकास एवं सामाजिक प्रगति
(b) के. मार्क्स	(ii) सभ्यता एवं संस्कृति
(c) ए. वेबर	(iii) मूलभूत एवं अधिसंरचना
(d) एल.टी. हॉबहाउस	(iv) भौतिक तथा अभौतिक संस्कृति

सही विकल्प चुनें :

- (1) (a)-(ii), (b)-(iii), (c)-(iv), (d)-(i)
- (2) (a)-(iv), (b)-(iii), (c)-(ii), (d)-(i)
- (3) (a)-(iii), (b)-(iv), (c)-(ii), (d)-(i)
- (4) (a)-(i), (b)-(ii), (c)-(iii), (d)-(iv)

Options :

61547534573. 1
61547534574. 2
61547534575. 3
61547534576. 4

Question Number : 120 Question Id : 6154758868 Question Type : MCQ Option Shuffling : No Display Question Number : Yes
Single Line Question Option : No Option Orientation : Vertical
Correct Marks : 2 Wrong Marks : 0

Match the following authors with their books

Author	Books
(a) Pierre Bourdieu	(i) Legitimation Crisis
(b) Jurgen Habermas	(ii) The Constitution of Society
(c) Edward Said	(iii) Distinction
(d) Anthony Giddens	(iv) Orientalism

Choose the correct option :

- (1) (a)-(iii), (b)-(i), (c)-(iv), (d)-(ii)
- (2) (a)-(i), (b)-(ii), (c)-(iii), (d)-(iv)
- (3) (a)-(iii), (b)-(ii), (c)-(i), (d)-(iv)
- (4) (a)-(ii), (b)-(iv), (c)-(iii), (d)-(i)

Options :

- 61547534577. 1
- 61547534578. 2
- 61547534579. 3
- 61547534580. 4

Question Number : 120 Question Id : 6154758868 Question Type : MCQ Option Shuffling : No Display Question Number : Yes
Single Line Question Option : No Option Orientation : Vertical
Correct Marks : 2 Wrong Marks : 0

निम्नलिखित लेखकों का उनकी पुस्तकों के साथ मिलान करें :

लेखक	पुस्तक
(a) पीयरे बोर्दियू	(i) लोजिटीमेशन क्राइसिस
(b) जुर्गेन हेबरमॉस	(ii) द काँस्टीट्यूशन ऑफ सोसायटी
(c) एडवर्ड सइद	(iii) डिस्टिंक्शन
(d) एंथोनी गिड्डेंस	(iv) ओरिएंटलिज्म

सही विकल्प चुने :

- (1) (a)-(iii), (b)-(i), (c)-(iv), (d)-(ii)
- (2) (a)-(i), (b)-(ii), (c)-(iii), (d)-(iv)
- (3) (a)-(iii), (b)-(ii), (c)-(i), (d)-(iv)
- (4) (a)-(ii), (b)-(iv), (c)-(iii), (d)-(i)

Options :

61547534577. 1

61547534578. 2

61547534579. 3

61547534580. 4

Adda247

Question Number : 121 Question Id : 6154758869 Question Type : MCQ Option Shuffling : No Display Question Number : Yes
Single Line Question Option : No Option Orientation : Vertical

Correct Marks : 2 Wrong Marks : 0

Match List I with List II

List I (Peasant Movement)

- (a) Bardoli movement
- (b) Moplah rebellion
- (c) Peasant revolt in Telangana
- (d) Tibhaga movement

List II (Place)

- (i) Malabar
- (ii) Andhra Pradesh
- (iii) Bengal
- (iv) Gujarat

Choose the correct option :

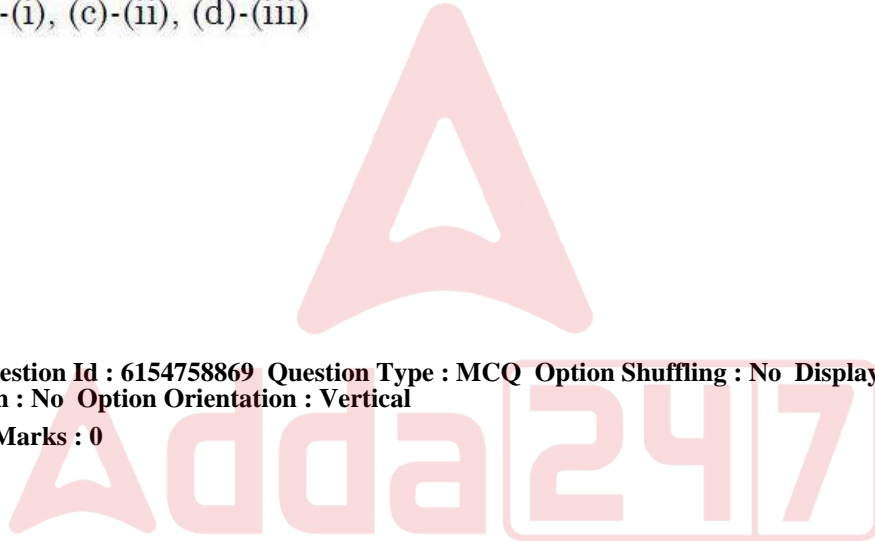
- (1) (a)-(i), (b)-(iii), (c)-(iv), (d)-(ii)
- (2) (a)-(ii), (b)-(iii), (c)-(iv), (d)-(i)
- (3) (a)-(i), (b)-(ii), (c)-(iii), (d)-(iv)
- (4) (a)-(iv), (b)-(i), (c)-(ii), (d)-(iii)

Options :

- 61547534581. 1
- 61547534582. 2
- 61547534583. 3
- 61547534584. 4

**Question Number : 121 Question Id : 6154758869 Question Type : MCQ Option Shuffling : No Display Question Number : Yes
Single Line Question Option : No Option Orientation : Vertical**

Correct Marks : 2 Wrong Marks : 0



सूची-I को सूची-II के साथ सुमेलित कीजिए :

सूची-I	सूची-II
(किसान आंदोलन)	(स्थान)
(a) बारदोली आन्दोलन	(i) मालाबार
(b) मोप्लाह विद्रोह	(ii) आन्ध्र प्रदेश
(c) तेलंगाना का किसान विद्रोह	(iii) बंगाल
(d) तिभागा आन्दोलन	(iv) गुजरात

सही विकल्प चुनें :

- (1) (a)-(i), (b)-(iii), (c)-(iv), (d)-(ii)
- (2) (a)-(ii), (b)-(iii), (c)-(iv), (d)-(i)
- (3) (a)-(i), (b)-(ii), (c)-(iii), (d)-(iv)
- (4) (a)-(iv), (b)-(i), (c)-(ii), (d)-(iii)

Options :

61547534581. 1
61547534582. 2
61547534583. 3
61547534584. 4

Adda247

Question Number : 122 Question Id : 6154758870 Question Type : MCQ Option Shuffling : No Display Question Number : Yes
Single Line Question Option : No Option Orientation : Vertical

Correct Marks : 2 Wrong Marks : 0

Match List I with List II

List I(Method)

List II (Sociologist)

- | | |
|----------------------------------|----------------------|
| (a) Indirect experiment | (i) A. Schultz |
| (b) Participant observation | (ii) W. Dilthey |
| (c) Phenomenology | (iii) Emile Durkheim |
| (d) Evolving typology of culture | (iv) B. Malinowski |

Choose the correct option :

- (1) (a)-(i), (b)-(ii), (c)-(iii), (d)-(iv)
- (2) (a)-(iii), (b)-(iv), (c)-(i), (d)-(ii)
- (3) (a)-(iv), (b)-(i), (c)-(ii), (d)-(iii)
- (4) (a)-(ii), (b)-(iii), (c)-(iv), (d)-(i)

Options :

61547534585. 1
61547534586. 2
61547534587. 3
61547534588. 4

Question Number : 122 Question Id : 6154758870 Question Type : MCQ Option Shuffling : No Display Question Number : Yes
Single Line Question Option : No Option Orientation : Vertical

Correct Marks : 2 Wrong Marks : 0



सूची-I को सूची-II के साथ सुमेलित कीजिए :

सूची-I (विधि)	सूची-II (समाजशास्त्री)
(a) अप्रत्यक्ष प्रयोग	(i) ए. शूल्ट्ज
(b) सहभागी अवलोकन	(ii) डब्ल्यू. डिल्थे
(c) घटना विज्ञान	(iii) इमार्शल दुर्खाईम
(d) संस्कृति के प्रारूपों का विकास	(iv) बी. मेलिनोवस्की

सही विकल्प चुनें :

- (1) (a)-(i), (b)-(ii), (c)-(iii), (d)-(iv)
- (2) (a)-(iii), (b)-(iv), (c)-(i), (d)-(ii)
- (3) (a)-(iv), (b)-(i), (c)-(ii), (d)-(iii)
- (4) (a)-(ii), (b)-(iii), (c)-(iv), (d)-(i)

Options :

61547534585. 1
61547534586. 2
61547534587. 3
61547534588. 4

Question Number : 123 Question Id : 6154758871 Question Type : MCQ Option Shuffling : No Display Question Number : Yes
Single Line Question Option : No Option Orientation : Vertical
Correct Marks : 2 Wrong Marks : 0

Match List I with List II

List I (Author)

List II (Book)

- | | |
|------------------|------------------------|
| (a) A. Bateson | (i) Nature's Economy |
| (b) F. Berkos | (ii) The Ascent of Man |
| (c) J. Bronowski | (iii) Sacred Ecology |
| (d) D. Worster | (iv) Steps to Ecology |

Choose the correct option :

- (1) (a)-(iv), (b)-(iii), (c)-(ii), (d)-(i)
- (2) (a)-(ii), (b)-(iii), (c)-(i), (d)-(iv)
- (3) (a)-(iii), (b)-(iv), (c)-(ii), (d)-(i)
- (4) (a)-(i), (b)-(ii), (c)-(iii), (d)-(iv)

Options :

61547534589. 1
61547534590. 2
61547534591. 3
61547534592. 4

Question Number : 123 Question Id : 6154758871 Question Type : MCQ Option Shuffling : No Display Question Number : Yes
Single Line Question Option : No Option Orientation : Vertical
Correct Marks : 2 Wrong Marks : 0

सूची-I को सूची-II के साथ सुमेलित कीजिए :

सूची-I (लेखक)	सूची-II (पुस्तक)
(a) ए. बेटेसन	(i) नेचरस् इकॉनॉमी
(b) एफ. बेरकॉस	(ii) द अंसेन्ट ऑफ मैन
(c) जे. ब्रोनोस्की	(iii) सैक्रेड ईकॉलॉजी
(d) डी. वॉरेस्टर	(iv) स्टेपस् टु ईकॉलॉजी

सही विकल्प चुने :

- (1) (a)-(iv), (b)-(iii), (c)-(ii), (d)-(i)
- (2) (a)-(ii), (b)-(iii), (c)-(i), (d)-(iv)
- (3) (a)-(iii), (b)-(iv), (c)-(ii), (d)-(i)
- (4) (a)-(i), (b)-(ii), (c)-(iii), (d)-(iv)

Options :

61547534589. 1
61547534590. 2
61547534591. 3
61547534592. 4

Adda247

Question Number : 124 Question Id : 6154758872 Question Type : MCQ Option Shuffling : No Display Question Number : Yes
Single Line Question Option : No Option Orientation : Vertical

Correct Marks : 2 Wrong Marks : 0

Match List I and List II

List I (Tribes)

- (a) Khasi
- (b) Toda
- (c) Munda
- (d) Khond

List II (State/Region)

- (i) Nilgiri Hills
- (ii) Meghalaya
- (iii) Odisha
- (iv) Chota Nagpur

Choose the correct option :

- (1) (a)-(ii), (b)-(i), (c)-(iv), (d)-(iii)
- (2) (a)-(i), (b)-(ii), (c)-(iv), (d)-(iii)
- (3) (a)-(iii), (b)-(i), (c)-(ii), (d)-(iv)
- (4) (a)-(iv), (b)-(iii), (c)-(i), (d)-(ii)

Options :

61547534593. 1

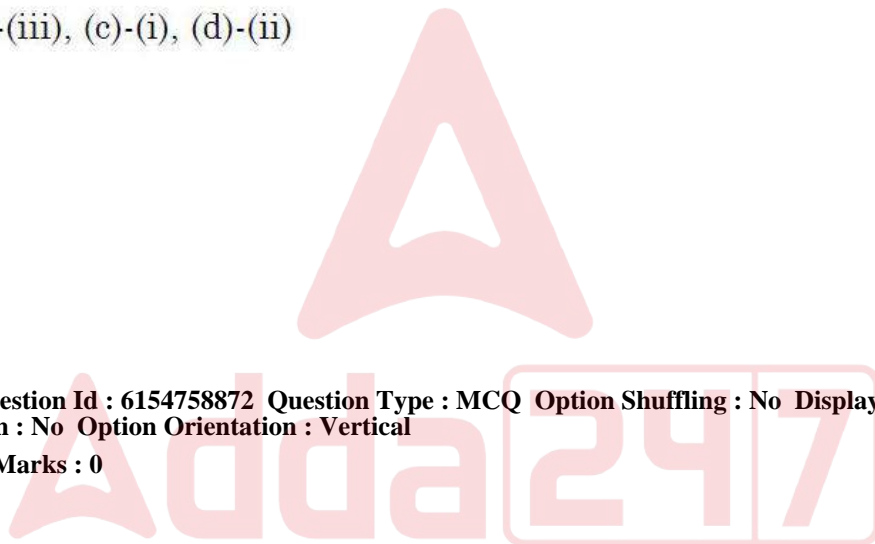
61547534594. 2

61547534595. 3

61547534596. 4

Question Number : 124 Question Id : 6154758872 Question Type : MCQ Option Shuffling : No Display Question Number : Yes
Single Line Question Option : No Option Orientation : Vertical

Correct Marks : 2 Wrong Marks : 0



सूची-I को सूची-II के साथ सुमेलित कीजिए :

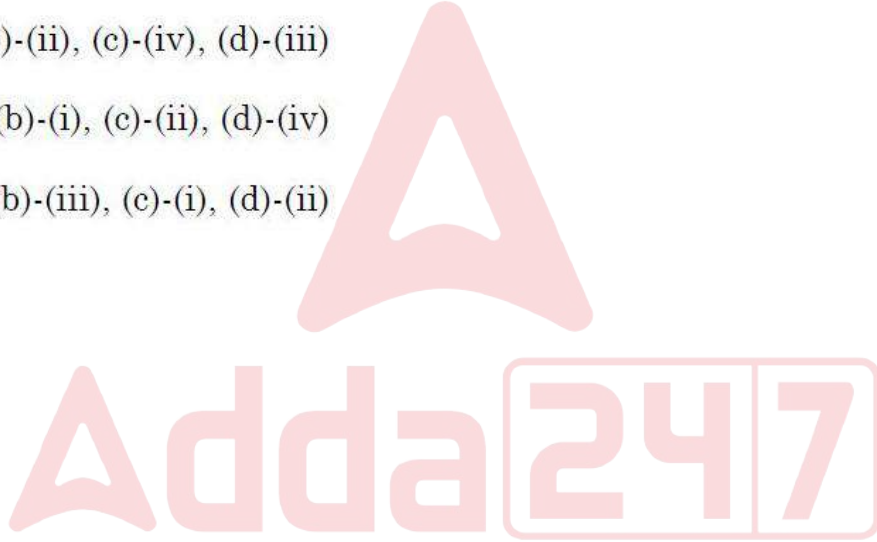
सूची-I (जनजाति)	सूची-II (राज्य/क्षेत्र)
(a) खासी	(i) नीलगीरी
(b) टोड़ा	(ii) मेघालय
(c) मुन्डा	(iii) ओड़ीसा
(d) खोण्ड	(iv) छोटा नागपुर

सही विकल्प चुनें :

- (1) (a)-(ii), (b)-(i), (c)-(iv), (d)-(iii)
- (2) (a)-(i), (b)-(ii), (c)-(iv), (d)-(iii)
- (3) (a)-(iii), (b)-(i), (c)-(ii), (d)-(iv)
- (4) (a)-(iv), (b)-(iii), (c)-(i), (d)-(ii)

Options :

61547534593. 1
61547534594. 2
61547534595. 3
61547534596. 4



Question Number : 125 Question Id : 6154758873 Question Type : MCQ Option Shuffling : No Display Question Number : Yes Single Line Question Option : No Option Orientation : Vertical

Correct Marks : 2 Wrong Marks : 0

Identify the correct sequence of different laws passed in India to improve women's status in society :

- (1) Protection of Women from Domestic Violence Act, Panchayati Raj Act, Hindu Succession Act
- (2) Panchayati Raj Act, Hindu Succession Act, Protection of Women from Domestic Violence Act
- (3) Hindu Succession Act, Protection of Women from Domestic Violence Act, Panchayati Raj Act
- (4) Hindu Succession Act, Panchayati Raj Act, Protection of Women from Domestic Violence Act

Options :

61547534597. 1
61547534598. 2

61547534599. 3

61547534600. 4

Question Number : 125 Question Id : 6154758873 Question Type : MCQ Option Shuffling : No Display Question Number : Yes Single Line Question Option : No Option Orientation : Vertical

Correct Marks : 2 Wrong Marks : 0

समाज में महिलाओं की स्थिति को सुधारने के लिए भारत में पारित विभिन्न कानूनों के सही क्रम को पहचानें।

- (1) घरेलू हिंसा से महिला संरक्षण अधिनियम, पंचायती राज अधिनियम, हिन्दू उत्तराधिकारी अधिनियम
- (2) पंचायती राज्य अधिनियम, हिन्दू उत्तराधिकारी अधिनियम, घरेलू हिंसा से महिला संरक्षण अधिनियम
- (3) हिन्दू उत्तराधिकारी अधिनियम, घरेलू हिंसा से महिला संरक्षण अधिनियम, पंचायती राज अधिनियम
- (4) हिन्दू उत्तराधिकारी अधिनियम, पंचायती राज अधिनियम, घरेलू हिंसा से महिला संरक्षण अधिनियम

Options :

61547534597. 1

61547534598. 2

61547534599. 3

61547534600. 4

Question Number : 126 Question Id : 6154758874 Question Type : MCQ Option Shuffling : No Display Question Number : Yes Single Line Question Option : No Option Orientation : Vertical

Correct Marks : 2 Wrong Marks : 0

Arrange the below given states according to their level of urbanization in descending order :

- (a) Tamil Nadu
- (b) Maharashtra
- (c) Kerala
- (d) Punjab

Choose the correct option :

- | | |
|------------------------|------------------------|
| (1) (a), (b), (d), (e) | (2) (a), (c), (b), (d) |
| (3) (c), (a), (b), (d) | (4) (a), (d), (b), (c) |

Options :

61547534601. 1

61547534602. 2

61547534603. 3

61547534604. 4

Question Number : 126 Question Id : 6154758874 Question Type : MCQ Option Shuffling : No Display Question Number : Yes Single Line Question Option : No Option Orientation : Vertical

Correct Marks : 2 Wrong Marks : 0

नीचे दिए गये हुए राज्यों को उनके घटते हुए शहरीकरण के स्तर के अनुसार व्यवस्थित करें :

- (a) तमिलनाडु
- (b) महाराष्ट्र
- (c) केरल
- (d) पंजाब

सही विकल्प को चुनें :

- (1) (a), (b), (d), (c)
- (2) (a), (c), (b), (d)
- (3) (c), (a), (b), (d)
- (4) (a), (d), (b), (c)

Options :

- 61547534601. 1
- 61547534602. 2
- 61547534603. 3
- 61547534604. 4

Question Number : 127 Question Id : 6154758875 Question Type : MCQ Option Shuffling : No Display Question Number : Yes Single Line Question Option : No Option Orientation : Vertical

Correct Marks : 2 Wrong Marks : 0

Which is the correct sequence of the following steps of social research?

- (1) Data collection, data analysis, review of literature, report writing
- (2) Data analysis, review of literature, report writing, data collection
- (3) Review of literature, report writing, data analysis, data collection
- (4) Review of literature, data collection, data analysis, report writing

Options :

- 61547534605. 1
- 61547534606. 2
- 61547534607. 3
- 61547534608. 4

Question Number : 127 Question Id : 6154758875 Question Type : MCQ Option Shuffling : No Display Question Number : Yes Single Line Question Option : No Option Orientation : Vertical

Correct Marks : 2 Wrong Marks : 0

सामाजिक शोध के निम्नलिखित चरणों का सही क्रम क्या है?

- (1) आँकड़ा संकलन, आंकड़ों का विश्लेषण, साहित्य की समीक्षा, रिपोर्ट लेखन
- (2) आंकड़ों का विश्लेषण, साहित्य की समीक्षा, रिपोर्ट लेखन, आँकड़ा संकलन
- (3) साहित्य की समीक्षा, रिपोर्ट लेखन, आंकड़ों का विश्लेषण, आँकड़ा संकलन
- (4) साहित्य की समीक्षा, आँकड़ा संकलन, आंकड़ों का विश्लेषण, रिपोर्ट लेखन

Options :

61547534605. 1

61547534606. 2

61547534607. 3

61547534608. 4

Question Number : 128 Question Id : 6154758876 Question Type : MCQ Option Shuffling : No Display Question Number : Yes
Single Line Question Option : No Option Orientation : Vertical

Correct Marks : 2 Wrong Marks : 0

What is the correct sequence of the elements/parts of a research report?

- (1) Area of study, data presentation, conclusion, rationale of the problem
- (2) Rationale of the problem, area of study, data presentation, conclusion
- (3) Data presentation, conclusion, area of study, rationale of the problem
- (4) Rationale of the problem, conclusion, area of study, data presentation

Options :

61547534609. 1

61547534610. 2

61547534611. 3

61547534612. 4

Question Number : 128 Question Id : 6154758876 Question Type : MCQ Option Shuffling : No Display Question Number : Yes
Single Line Question Option : No Option Orientation : Vertical

Correct Marks : 2 Wrong Marks : 0

शोध रिपोर्ट के तत्वों/भागों का सही क्रम क्या है?

- (1) अध्ययन का क्षेत्र, आंकड़ों का प्रस्तुतीकरण, निष्कर्ष, समस्या की तर्कसंगतता
- (2) समस्या की तर्कसंगतता, अध्ययन का क्षेत्र, आंकड़ों का प्रस्तुतीकरण, निष्कर्ष
- (3) आंकड़ों का प्रस्तुतीकरण, निष्कर्ष, अध्ययन का क्षेत्र, समस्या की तर्कसंगतता,
- (4) समस्या की तर्कसंगतता, निष्कर्ष, अध्ययन का क्षेत्र, आंकड़ों का प्रस्तुतीकरण

Options :

61547534609. 1

61547534610. 2

61547534611. 3

61547534612. 4

**Question Number : 129 Question Id : 6154758877 Question Type : MCQ Option Shuffling : No Display Question Number : Yes
Single Line Question Option : No Option Orientation : Vertical**

Correct Marks : 2 Wrong Marks : 0

Which set of International Development organizations work towards fighting against poverty?

- (1) ILO, UNICEF, WHO, UNHCR, The Red Cross
- (2) Oxfam, UNDP, UNICEF, The Red Cross, The Hunger Project
- (3) World Bank, WHO, IMF, UNDP, ILO
- (4) UNHCR, CEDAW, UNICEF, IMF, Oxfam

Options :

61547534613. 1

61547534614. 2

61547534615. 3

61547534616. 4

**Question Number : 129 Question Id : 6154758877 Question Type : MCQ Option Shuffling : No Display Question Number : Yes
Single Line Question Option : No Option Orientation : Vertical**

Correct Marks : 2 Wrong Marks : 0

अन्तरराष्ट्रीय विकास संगठनो का कौन सा समुच्चय निर्धनता के विरुद्ध संघर्ष करने के लिए काम करता है?

- (1) आई.एल.ओ, यू.एन.आई.सी.ई.एफ, डब्ल्यू.एच.ओ., यू.एन.एच.सी.आर, द रेड क्रॉस
- (2) ऑक्सफेम, यू.एन.डी.पी., यू.एन.आई.सी.ई.एफ, द रेड क्रॉस, द हंगर प्रोजेक्ट
- (3) वर्ल्ड बैंक, डब्ल्यू.एच.ओ., आई.एम.एफ., यू.एन.डी.पी., आई.एल.ओ.
- (4) यू.एन.एच.सी.आर., सी.इ.डी.ए.डब्ल्यू. यू.एन.आई.सी.ई.एफ., आई.एम.एफ., ऑक्सफेम

Options :

61547534613. 1

61547534614. 2

61547534615. 3

61547534616. 4

**Question Number : 130 Question Id : 6154758878 Question Type : MCQ Option Shuffling : No Display Question Number : Yes
Single Line Question Option : No Option Orientation : Vertical**

Correct Marks : 2 Wrong Marks : 0

Arrange the following technological revolutions in chronological order

- (a) Green revolution
- (b) Printing revolution
- (c) Industrial revolution
- (d) Bio-technological revolution

Choose the correct option :

- (1) (b), (a), (c), (d)
- (2) (b), (c), (a), (d)
- (3) (d), (c), (b), (a)
- (4) (a), (b), (c), (d)

Options :

61547534617. 1

61547534618. 2

61547534619. 3

61547534620. 4



Question Number : 130 Question Id : 6154758878 Question Type : MCQ Option Shuffling : No Display Question Number : Yes Single Line Question Option : No Option Orientation : Vertical

Correct Marks : 2 Wrong Marks : 0

निम्नलिखित प्रौद्योगिकीय क्रांतियों को काल क्रमानुसार व्यवस्थित करें :

- (a) हरित क्रांति
- (b) मुद्रण क्रांति (Printing revolution)
- (c) औद्योगिक क्रांति
- (d) जैव-प्रौद्योगिकी क्रांति

सही विकल्प चुनें :

- (1) (b), (a), (c), (d)
- (2) (b), (c), (a), (d)
- (3) (d), (c), (b), (a)
- (4) (a), (b), (c), (d)

Options :

61547534617. 1

61547534618. 2

61547534619. 3

61547534620. 4

**Question Number : 131 Question Id : 6154758879 Question Type : MCQ Option Shuffling : No Display Question Number : Yes
Single Line Question Option : No Option Orientation : Vertical**

Correct Marks : 2 Wrong Marks : 0

Arrange the following forms of urban areas in ascending order :

- (a) Megacity
- (b) Meta city
- (c) Metropolis
- (d) City

Choose the correct option :

- (1) (a), (c), (b), (d)
- (2) (d), (c), (a), (b)
- (3) (b), (c), (d), (a)
- (4) (a), (b), (c), (d)

Options :

61547534621. 1

61547534622. 2

61547534623. 3

61547534624. 4

Question Number : 131 Question Id : 6154758879 Question Type : MCQ Option Shuffling : No Display Question Number : Yes
Single Line Question Option : No Option Orientation : Vertical

Correct Marks : 2 Wrong Marks : 0

निम्नलिखित शहरी क्षेत्रों के स्वरूप को बढ़ते हुए क्रम में व्यवस्थित कीजिए :

- (a) मेगा सिटी (Mega city)
- (b) मेटासिटी (Meta city)
- (c) महानगर (Metropolis)
- (d) नगर (City)

सही विकल्प चुनें :

- (1) (a), (c), (b), (d)
- (2) (d), (c), (a), (b)
- (3) (b), (c), (d), (a)
- (4) (a), (b), (c), (d)

Options :

- 61547534621. 1
- 61547534622. 2
- 61547534623. 3
- 61547534624. 4

Question Number : 132 Question Id : 6154758880 Question Type : MCQ Option Shuffling : No Display Question Number : Yes
Single Line Question Option : No Option Orientation : Vertical

Correct Marks : 2 Wrong Marks : 0

Arrange the following mega cities in decending order according to their rate of growth during 2001 – 2011

- (a) Kolkata urban Agglomeration
- (b) Greater Mumbai Agglomeration
- (c) Delhi Urban Agglomeration

Choose the correct option :

- (1) (c), (a), (b)
- (2) (a), (c), (b)
- (3) (b), (c), (a)
- (4) (a), (b), (c)

Options :

61547534625. 1

61547534626. 2

61547534627. 3

61547534628. 4

Question Number : 132 Question Id : 6154758880 Question Type : MCQ Option Shuffling : No Display Question Number : Yes Single Line Question Option : No Option Orientation : Vertical

Correct Marks : 2 Wrong Marks : 0

निम्नलिखित मेगासिटी को 2001-2011 के अन्तराल में उनकी वृद्धि दर के घटते क्रम के अनुसार व्यवस्थित करें।

- (a) कोलकाता शहरी जन समूह
- (b) बृहत मुम्बई जन समूह
- (c) दिल्ली शहरी जन समूह

सही विकल्प चुनें :

- (1) (c), (a), (b)
- (2) (a), (c), (b)
- (3) (b), (c), (a)
- (4) (a), (b), (c)

Options :

61547534625. 1

61547534626. 2

61547534627. 3

61547534628. 4

Question Number : 133 Question Id : 6154758881 Question Type : MCQ Option Shuffling : No Display Question Number : Yes Single Line Question Option : No Option Orientation : Vertical

Correct Marks : 2 Wrong Marks : 0

Which of the following is the correct sequence of the steps in data analysis?

- (1) Rounding off, Categorization, Tabulation, Applying any test
- (2) Categorization, Tabulation, Applying any test Rounding off
- (3) Tabulation, Applying any test, Categorization, Rounding off
- (4) Applying any test, Rounding off, Categorization, Tabulation

Options :

61547534629. 1

61547534630. 2

61547534631. 3

61547534632. 4

**Question Number : 133 Question Id : 6154758881 Question Type : MCQ Option Shuffling : No Display Question Number : Yes
Single Line Question Option : No Option Orientation : Vertical**

Correct Marks : 2 Wrong Marks : 0

निम्न लिखित में से कौन सा आंकड़े विश्लेषण के चरणों का सही क्रम है?

- (1) पूर्णांकन, वर्गीकरण, सारणीकरण, किसी परीक्षण को प्रयोग में लाना
- (2) वर्गीकरण, सारणीकरण, किसी परीक्षण को प्रयोग में लाना, पूर्णांकन
- (3) सारणीकरण, किसी परीक्षण को प्रयोग में लाना, वर्गीकरण, पूर्णांकन
- (4) किसी परीक्षण को प्रयोग में लाना, पूर्णांकन, वर्गीकरण, सारणीकरण

Options :

61547534629. 1

61547534630. 2

61547534631. 3

61547534632. 4

**Question Number : 134 Question Id : 6154758882 Question Type : MCQ Option Shuffling : No Display Question Number : Yes
Single Line Question Option : No Option Orientation : Vertical**

Correct Marks : 2 Wrong Marks : 0

Adda247

What is the correct sequence of publication year of following books on Indian Rural Society?

- (a) An Indian Village
- (b) A Rajasthan Village
- (c) India's Changing Villages
- (d) The Remembered Village

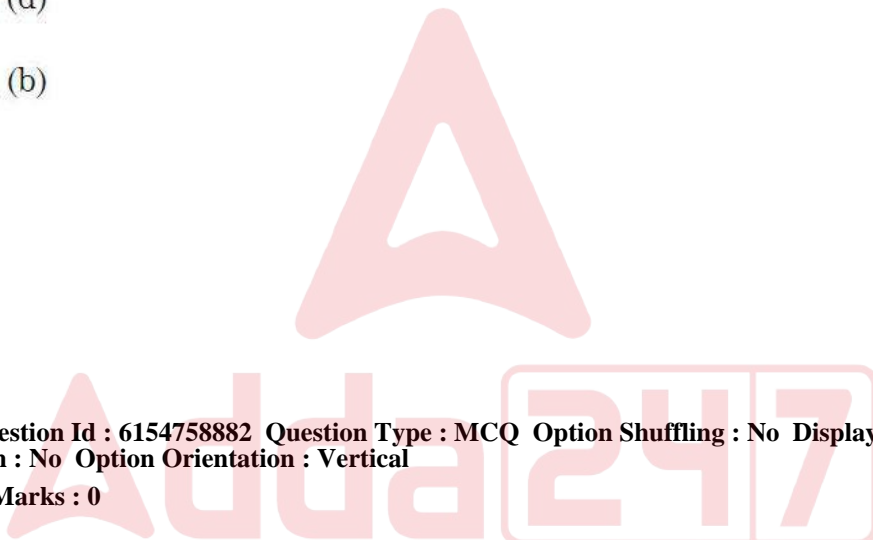
Choose the correct option :

- (1) (a), (b), (c), (d)
- (2) (b), (c), (d), (a)
- (3) (a), (c), (b), (d)
- (4) (c), (d), (a), (b)

Options :

- 61547534633. 1
- 61547534634. 2
- 61547534635. 3
- 61547534636. 4

**Question Number : 134 Question Id : 6154758882 Question Type : MCQ Option Shuffling : No Display Question Number : Yes
Single Line Question Option : No Option Orientation : Vertical
Correct Marks : 2 Wrong Marks : 0**



भारतीय ग्रामीण समाज पर लिखित निम्नलिखित पुस्तकों के प्रकाशन वर्ष का का सही क्रम क्या है?

- (a) एन इन्डियन विलेज
- (b) ए राजस्थान विलेज
- (c) इन्डियाज् चेन्जिंग विलेजस्
- (d) द रिमेम्बर्ड विलेज

सही विकल्प चुनें :

- (1) (a), (b), (c), (d)
- (2) (b), (c), (d), (a)
- (3) (a), (c), (b), (d)
- (4) (c), (d), (a), (b)

Options :

- 61547534633. 1
- 61547534634. 2
- 61547534635. 3
- 61547534636. 4



Question Number : 135 Question Id : 6154758883 Question Type : MCQ Option Shuffling : No Display Question Number : Yes
Single Line Question Option : No Option Orientation : Vertical
Correct Marks : 2 Wrong Marks : 0

Two statements are given below. One is labelled as Assertion (A) and the other as Reason (R).

Assertion (A) : After the green revolution of inter-caste relations have changed from Jajmani to contractual relationships.

Reasons (R) : The green revolution has given opportunities to service castes in diverse occupations

Choose the correct option :

- (1) Both (A) and (R) are true and (R) is the correct explanation of (A)
- (2) Both (A) and (R) are true but (R) is not the correct explanation of (A)
- (3) (A) is true but (R) is false
- (4) (A) is false but (R) is true

Options :

61547534637. 1
61547534638. 2
61547534639. 3
61547534640. 4

**Question Number : 135 Question Id : 6154758883 Question Type : MCQ Option Shuffling : No Display Question Number : Yes
Single Line Question Option : No Option Orientation : Vertical
Correct Marks : 2 Wrong Marks : 0**

नीचे दो कथन दिए गये हैं, जिनमें से एक अभिकथन (A) है दूसरा तर्क (R) है।

अभिकथन (A) : हरित क्रांति के बाद अंतरजातीय संबंध जजमानी से संविदात्मक संबंधों में रूपांतरित हो गए हैं।

तर्क (R) : हरित क्रांति ने सेवागत जातियों को विभिन्न प्रकार के व्यवसायों में जाने के अवसर प्रदान किए।

सही विकल्प चुनें :

- (1) (A) व (R) दोनों सही हैं और (R), (A) की सही व्याख्या है
- (2) (A) व (R) दोनों सही हैं लेकिन (R), (A) की सही व्याख्या नहीं है
- (3) (A) सही है, लेकिन (R) गलत है
- (4) (A) गलत है, लेकिन (R) सही है

Options :

61547534637. 1
61547534638. 2
61547534639. 3
61547534640. 4

Question Number : 136 Question Id : 6154758884 Question Type : MCQ Option Shuffling : No Display Question Number : Yes
Single Line Question Option : No Option Orientation : Vertical
Correct Marks : 2 Wrong Marks : 0

Given below are two statements one is labelled as Assertion (A) and the other as Reason (R)

Assertion (A) : Women's participation in the industrial work force has reduced over the years.

Reasons (R) : There has been expansion of the industry and increasing automation

Choose the correct option :

- (1) Both (A) and (R) are true and (R) is the correct explanation of (A)
- (2) Both (A) and (R) are true but (R) is not the correct explanation of (A)
- (3) (A) is true but (R) is false
- (4) (A) is false but (R) is true

Options :

61547534641. 1

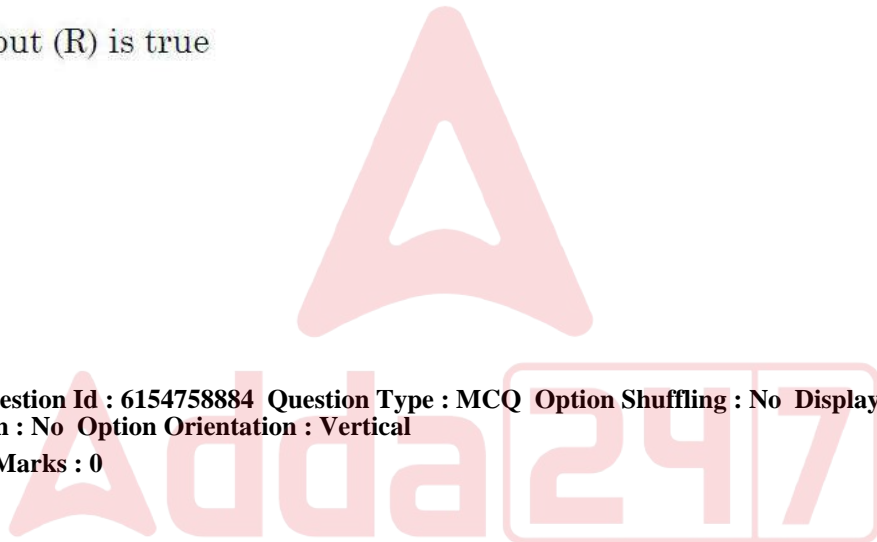
61547534642. 2

61547534643. 3

61547534644. 4

Question Number : 136 Question Id : 6154758884 Question Type : MCQ Option Shuffling : No Display Question Number : Yes
Single Line Question Option : No Option Orientation : Vertical

Correct Marks : 2 Wrong Marks : 0



नीचे दो कथन दिए गए हैं, जिनमें से एक अभिकथन (A) है और दूसरा तर्क (R) है।

अभिकथन (A) : विगत वर्षों में औद्योगिक कार्य बल में महिलाओं की भागेदारी घट गई है।

तर्क (R) : उद्योग का विस्तार हो रहा है और स्वचालिता (automation) में वृद्धि हो रही है।

सही विकल्प चुनें :

- (1) (A) व (R) दोनों सही हैं और (R), (A) की सही व्याख्या है
- (2) (A) व (R) दोनों सही हैं लेकिन (R), (A) की सही व्याख्या नहीं है
- (3) (A) सही है, लेकिन (R) गलत है
- (4) (A) गलत है, लेकिन (R) सही है

Options :

61547534641. 1

61547534642. 2

61547534643. 3

61547534644. 4

Question Number : 137 Question Id : 6154758885 Question Type : MCQ Option Shuffling : No Display Question Number : Yes
Single Line Question Option : No Option Orientation : Vertical

Correct Marks : 2 Wrong Marks : 0

Given below are two statements, one is labelled as Assertion (A) and the other is labelled as Reason (R) :

Assertion (A) : Social institution of marriage has undergone many changes in modern India

Reasons (R) : Indian youth are getting influenced by western ideas

Choose the correct option :

- (1) Both (A) and (R) are true and (R) is the correct explanation of (A)
- (2) Both (A) and (R) are true and (R) is not the correct explanation of (A)
- (3) (A) is true but (R) is false
- (4) (A) is false but (R) is true

Options :

61547534645. 1

61547534646. 2

61547534647. 3

61547534648. 4

Question Number : 137 Question Id : 6154758885 Question Type : MCQ Option Shuffling : No Display Question Number : Yes
Single Line Question Option : No Option Orientation : Vertical
Correct Marks : 2 Wrong Marks : 0

नीचे दो कथन दिए गए हैं, जिनमें से एक अभिकथन (A) है व दूसरा तर्क (R) है।

अभिकथन (A) : आधुनिक भारत में विवाह की सामाजिक संस्था बहुत से परिवर्तनों से निकली है।

तर्क (R) : भारतीय युवा पश्चिम के विचारों से प्रभावित हो रहे हैं।

सही विकल्प को चुनें :

- (1) (A) व (R) दोनों सही हैं (R), (A) की सही व्याख्या है
- (2) (A) व (R) दोनों सही हैं लेकिन (R), (A) की सही व्याख्या नहीं है
- (3) (A) सही है, लेकिन (R) गलत है
- (4) (A) गलत है, लेकिन (R) सही है

Options :

61547534645. 1
61547534646. 2
61547534647. 3
61547534648. 4

Question Number : 138 Question Id : 6154758886 Question Type : MCQ Option Shuffling : No Display Question Number : Yes
Single Line Question Option : No Option Orientation : Vertical

Correct Marks : 2 Wrong Marks : 0

Given below are two statements, one is labelled as Assertion (A) and the other as Reason (R) :

Assertion (A) : Green revolution in Punjab has resulted into many ecological problems.

Reasons (R) : It is due to over exploitation of land and underground water, and over use of pesticides and fertilizers for more production.

Choose the correct option :

- (1) Both (A) and (R) are true and (R) is the correct explanation of (A)
- (2) Both (A) and (R) are true, but (R) is not correct explanation of (A)
- (3) (A) is true, but (R) is false
- (4) (A) is false, but (R) is true

Options :

- 61547534649. 1
- 61547534650. 2
- 61547534651. 3
- 61547534652. 4

**Question Number : 138 Question Id : 6154758886 Question Type : MCQ Option Shuffling : No Display Question Number : Yes
Single Line Question Option : No Option Orientation : Vertical
Correct Marks : 2 Wrong Marks : 0**



नीचे दो कथन दिए गए हैं, जिसमें से एक अभिकथन (A) है दूसरा तर्क (R) है।

अभिकथन (A) : पंजाब में हरित क्रांति के कारण कई पारिस्थितिकीय समस्याओं उत्पन्न हुई।

तर्क (R) : अधिक उत्पादन के लिए भूमि, भूमिगत जल का अति दोहन और कीटनाशक व रासायनिक खादों का अति उपयोग के फलस्वरूप यह हुआ है।

सही विकल्प चुनें :

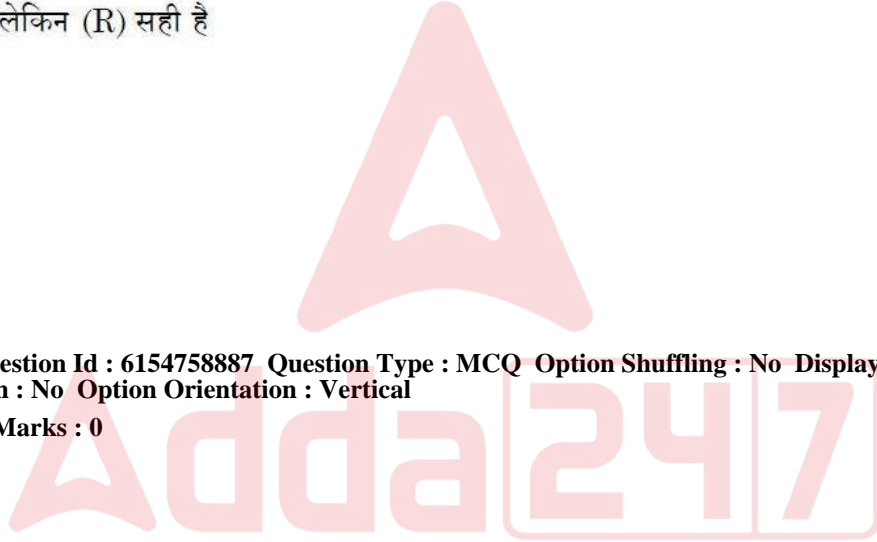
- (1) (A) व (R) दोनों सही हैं और (R), (A) की सही व्याख्या है
- (2) (A) व (R) दोनों सही हैं परन्तु (R), (A) की सही व्याख्या नहीं है
- (3) (A) सही है, लेकिन (R) गलत है
- (4) (A) गलत है, लेकिन (R) सही है

Options :

61547534649. 1
61547534650. 2
61547534651. 3
61547534652. 4

Question Number : 139 Question Id : 6154758887 Question Type : MCQ Option Shuffling : No Display Question Number : Yes
Single Line Question Option : No Option Orientation : Vertical

Correct Marks : 2 Wrong Marks : 0



Given below are two statements, one is labelled as Assertion (A) and the other as Reason (R) :

Assertion (A) : Representation of women by media reinforce the stereotype rather than challenging them.

Reasons (R) : Media serves the power elite.

Choose the correct option :

- (1) Both (A) and (R) are true and (R) is the correct explanation of (A)
- (2) Both (A) and (R) are true and (R) is not the correct explanation of (A)
- (3) (A) is true, but (R) is false
- (4) (A) is false, but (R) is true

Options :

- 61547534653. 1
- 61547534654. 2
- 61547534655. 3
- 61547534656. 4

**Question Number : 139 Question Id : 6154758887 Question Type : MCQ Option Shuffling : No Display Question Number : Yes
Single Line Question Option : No Option Orientation : Vertical
Correct Marks : 2 Wrong Marks : 0**

नीचे दो कथन दिए गए हैं, जिसमें से एक अभिकथन (A) के रूप में तथा दूसरा तर्क (R) के रूप में अंकित किया गया है

अभिकथन (A) : मीडिया द्वारा महिलाओं का प्रतिनिधित्व रूढ़िवादिता को बढ़ाता है न कि चुनौती प्रदान करता है।

तर्क (R) : मीडिया शक्ति संपन्न उच्च-वर्ग की हितार्थ कार्य करता है।

सही विकल्प चुनें :

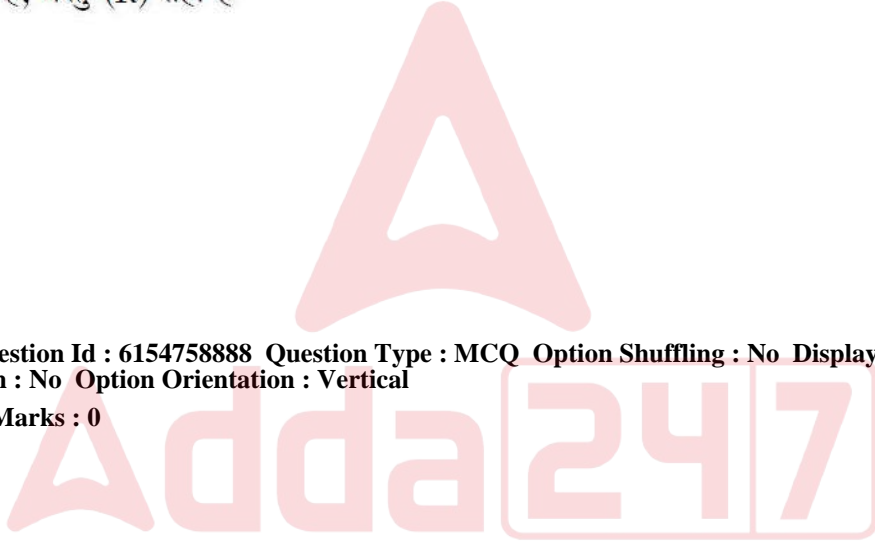
- (1) (A) और (R) दोनों सही हैं और (R), (A) की सही व्याख्या है
- (2) (A) और (R) दोनों सही हैं और (R), (A) की सही व्याख्या नहीं है
- (3) (A) सही है, लेकिन (R) सही नहीं है
- (4) (A) सही नहीं है, परंतु (R) सही है

Options :

61547534653. 1
61547534654. 2
61547534655. 3
61547534656. 4

**Question Number : 140 Question Id : 6154758888 Question Type : MCQ Option Shuffling : No Display Question Number : Yes
Single Line Question Option : No Option Orientation : Vertical**

Correct Marks : 2 Wrong Marks : 0



Given below are two statements, one is labelled as Assertion (A) and the other as Reason (R) :

Assertion (A) : The globalisation has intensified exclusion, marginalisation and disconnection among different classes of people and regions.

Reasons (R) : It is due to economic reforms.

Choose the correct option :

- (1) Both (A) and (R) are true and (R) is the correct explanation of (A)
- (2) Both (A) and (R) are true, but (R) is not the correct explanation of (A)
- (3) (A) is true, but (R) is false
- (4) (A) is false but (R) is true

Options :

61547534657. 1

61547534658. 2

61547534659. 3

61547534660. 4

**Question Number : 140 Question Id : 6154758888 Question Type : MCQ Option Shuffling : No Display Question Number : Yes
Single Line Question Option : No Option Orientation : Vertical
Correct Marks : 2 Wrong Marks : 0**

नीचे दो विवरण दिए गए हैं - एक कथन (A) तथा दूसरा तर्क (R) के रूप में अंकित है :

अभिकथन (A) : वैश्वीकरण ने लोगों तथा क्षेत्रों के विभिन्न वर्गों के बीच विभाजन सीमांकन तथा असम्बद्धीकरण को तीव्र किया है।

तर्क (R) : यह आर्थिक बदलावों के कारण हुआ है।

सही विकल्प चुनें :

- (1) (A) तथा (R) दोनों सही हैं, पर (R), (A) की सही व्याख्या है
- (2) (A) तथा (R) दोनों सही हैं, पर (R), (A) की सही व्याख्या नहीं है
- (3) (A) सही है, परंतु (R) सही नहीं है
- (4) (A) सही नहीं है, परंतु (R) सही है

Options :

61547534657. 1

61547534658. 2

61547534659. 3

61547534660. 4

Sub-Section Number: 2
Sub-Section Id: 615475386
Question Shuffling Allowed : Yes

Question Id : 6154758889 **Question Type :** COMPREHENSION **Sub Question Shuffling Allowed :** Yes **Group Comprehension Questions :** No

Question Numbers : (141 to 145)

Question Label : Comprehension

Read the following passage carefully :

In all regions of India, Villages are changing in respect of economic institutions, power structure, and inter-caste relationships. A major of economic change is land reform which has created great sociological impact on village social structure, even though its economic impact may be subject to controversies. Land reform in villages has been introduced through : (i) abolition of intermediaries, (ii) tenancy reforms, (iii) ceiling on land holdings and redistribution of land (iv) consolidation of holding and prevention of holdings from deteriorating to uneconomic size, (v) Emphasis on and development of cooperative farming and (vi) religio-economic movement for gift of surplus land by the rich to the poor as bhoodan. These measure have been implemented differently in different states but they have created uniform sociological consequence.

Answer the following of questions (91 – 95) on the basis of the above passage.

Sub questions

Question Number : 141 Question Id : 6154758890 Question Type : MCQ Option Shuffling : No Display Question Number : Yes
Single Line Question Option : No Option Orientation : Vertical

Correct Marks : 2 Wrong Marks : 0

In which respect (s) Indian villages are undergoing change?

- (a) Economic Institutions
- (b) Leadership style
- (c) Relationships among castes
- (d) Familial Relationships

Choose the correct option :

- (1) (a) and (b) (2) (b) and (c)
- (3) (a) and (c) (4) (b) and (d)

Options :

61547534661. 1

61547534662. 2

61547534663. 3

61547534664. 4

Question Number : 142 Question Id : 6154758891 Question Type : MCQ Option Shuffling : No Display Question Number : Yes
Single Line Question Option : No Option Orientation : Vertical

Correct Marks : 2 Wrong Marks : 0

Which has been the major source of economic change in Indian villages?

- (1) Law of Inheritance
- (2) Panchayati Raj
- (3) Land reforms
- (4) Rural development programmes

Options :

61547534665. 1

61547534666. 2

61547534667. 3

61547534668. 4

Question Number : 143 Question Id : 6154758892 Question Type : MCQ Option Shuffling : No Display Question Number : Yes
Single Line Question Option : No Option Orientation : Vertical

Correct Marks : 2 Wrong Marks : 0

Which of the following has had a great impact on the units of social structure in the villages of India?

- (1) Legislations
- (2) Land reforms
- (3) Education
- (4) Political processes

Options :

- 61547534669. 1
- 61547534670. 2
- 61547534671. 3
- 61547534672. 4

Question Number : 144 Question Id : 6154758893 Question Type : MCQ Option Shuffling : No Display Question Number : Yes Single Line Question Option : No Option Orientation : Vertical

Correct Marks : 2 Wrong Marks : 0

Which are the measures of land reforms that have been implements in the villages in India?

- (a) Ceiling on land holding
- (b) Panchayati Raj
- (c) Bhoodan
- (d) Law of Inheritance

Choose the correct option :

- (1) (a) and (b)
- (2) (b) and (c)
- (3) (a) and (c)
- (4) (b) and (d)

Options :

- 61547534673. 1
- 61547534674. 2
- 61547534675. 3
- 61547534676. 4

Question Number : 145 Question Id : 6154758894 Question Type : MCQ Option Shuffling : No Display Question Number : Yes Single Line Question Option : No Option Orientation : Vertical

Correct Marks : 2 Wrong Marks : 0

How land reforms in different regions of India have been implemented?

- (1) At the same time
- (2) In the same manner
- (3) Differently but at the same time
- (4) Differently in different states at varying times

Options :

61547534677. 1

61547534678. 2

61547534679. 3

61547534680. 4

Question Id : 6154758889 Question Type : COMPREHENSION Sub Question Shuffling Allowed : Yes Group Comprehension Questions : No

Question Numbers : (141 to 145)

Question Label : Comprehension

निम्नलिखित उद्धरण को ध्यानपूर्वक पढ़ें :

भारत के सभी क्षेत्रों के गाँवों में आर्थिक संस्थाओं, शक्ति संरचना एवं अन्तर जातीय संबंधों के परिप्रेक्ष्य में काफी बदलबू हो रहे हैं। इनमें प्रमुख आर्थिक बदलाव है - भूमि सुधार, जिस गाँवों की सामाजिक संरचना पर बड़ा सामाजिक प्रभाव डाला है, यद्यपि, इसके आर्थिक प्रभावों पर काफी विवाद है। गाँवों में भूमि सुधार निम्नलिखित के माध्यम से किए गए हैं - (i) मध्यस्कों का उत्सादन; (ii) बटाईदारी प्रथा में सुधार; (iii) जमीन के स्वामित्व सीमांकन तथा भूमि का पुनर्वितरण; (iv) जमीन की चकबन्दी तथा भूमि को गैर-आर्थिक आकार (अनुपयोगी स्तर) तक कम होने से रोकना; (v) सहकारी खेती पर बल देना और विकास करना; और (vi) भूदान के रूप में अमीरों द्वारा गरीबों को अधिशेष भूमि उपहार में देने के लिए धार्मिक-आर्थिक आंदोलन चलाना।

इन उपायों को विभिन्न राज्यों में अलग-अलग तरीकों से क्रियान्वित किया गया है, परन्तु इनके कुछ एक समान समाजशास्त्रीय परिणाम देखने को मिले हैं।

Sub questions

Question Number : 141 Question Id : 6154758890 Question Type : MCQ Option Shuffling : No Display Question Number : Yes Single Line Question Option : No Option Orientation : Vertical

Correct Marks : 2 Wrong Marks : 0

भारतीय गाँव इनमें से किसके संबंध में परिवर्तित हो रहे हैं?

- (a) आर्थिक संस्थाएँ
- (b) नेतृत्व कला
- (c) जातियों के बीच संबंध
- (d) पारिवारिक संबंध

सही विकल्प चुनें :

- | | |
|----------------|----------------|
| (1) (a) और (b) | (2) (b) और (c) |
| (3) (a) और (c) | (4) (b) और (d) |

Options :

61547534661. 1
61547534662. 2
61547534663. 3
61547534664. 4

Question Number : 142 Question Id : 6154758891 Question Type : MCQ Option Shuffling : No Display Question Number : Yes
Single Line Question Option : No Option Orientation : Vertical

Correct Marks : 2 Wrong Marks : 0

इनमें से कौन भारतीय गाँवों में आर्थिक-परिवर्तन के कौन से मुख्य स्रोत रहे हैं?

- (1) उत्तराधिकार कानून
(2) पंचायती राज
(3) भूमि सुधार
(4) ग्रामीण विकास के कार्यक्रम

Options :

61547534665. 1
61547534666. 2
61547534667. 3
61547534668. 4

Question Number : 143 Question Id : 6154758892 Question Type : MCQ Option Shuffling : No Display Question Number : Yes
Single Line Question Option : No Option Orientation : Vertical

Correct Marks : 2 Wrong Marks : 0

भारत के गाँवों की सामाजिक संरचना की इकाइयों पर निम्नलिखित में से किनका व्यापक प्रभाव रहा है?

- (1) विधानों
(2) भूमि सुधारों
(3) शिक्षा
(4) राजनीतिक प्रक्रियाएँ

Options :

61547534669. 1
61547534670. 2
61547534671. 3
61547534672. 4

Question Number : 144 Question Id : 6154758893 Question Type : MCQ Option Shuffling : No Display Question Number : Yes
Single Line Question Option : No Option Orientation : Vertical

Correct Marks : 2 Wrong Marks : 0

Read the following passage carefully :

According to the 2011 census, there are 7,935 towns in the country, an increase by 2,774 (or a whopping 53.75 per cent) since 2001. It is significant to note that the growth has been most noticeable in census towns (i.e. 185.90 percent). Many of the towns recorded by the census are part of urban agglomeration. The 2011 census identified 475 urban agglomeration with 981 outgrowths, as against 384 urban agglomerations with 962 outgrowths in the 2001 census. The total number of urban (Agglomerations/Town which, constitutes India's urban) frame is 6.166. However, the major surprise was the number of census towns/(CTs) which rose from 1,362 to 3,892, where as the number of statutory towns (STs) increased marginally from 3,799 to 4041.

The Census 2011 found that, in all 37% million (or 31.16 percent) of the country's population lives in urban areas. The census, classifies urban Agglomerations on the basis of their population. Urban Agglomerations/Towns which have a population of atleast 100,000 persons are categorised as class I urban Agglomerations/Towns. In 2011, there were 468 Urban Agglomerations/Towns, an 18.78% increased from the corresponding number (394) in 2001; a majority of 70% (or) 264.9 million of the total urban population lives in these Agglomerations and towns. The census notes "The proportion of this population has increased considerably over the last census". In the remaining classes of towns the growth has been minimal.

Answer the following questions (96 – 100) on the basis of the above passage :

Sub questions

Question Number : 146 Question Id : 6154758896 Question Type : MCQ Option Shuffling : No Display Question Number : Yes Single Line Question Option : No Option Orientation : Vertical

Correct Marks : 2 Wrong Marks : 0

What was the rate of increase of Census towns during 2001 to 2011?

- | | |
|-------------|-------------|
| (1) 180.00% | (2) 185.90% |
| (3) 170.60% | (4) 176.70% |

Options :

- 61547534681. 1
- 61547534682. 2
- 61547534683. 3
- 61547534684. 4

Question Number : 147 Question Id : 6154758897 Question Type : MCQ Option Shuffling : No Display Question Number : Yes Single Line Question Option : No Option Orientation : Vertical

Correct Marks : 2 Wrong Marks : 0

How many towns were in India in 2001?

- | | |
|----------|----------|
| (1) 5132 | (2) 5161 |
| (3) 6161 | (4) 6102 |

Options :

- 61547534685. 1
- 61547534686. 2
- 61547534687. 3
- 61547534688. 4

Question Number : 148 Question Id : 6154758898 Question Type : MCQ Option Shuffling : No Display Question Number : Yes Single Line Question Option : No Option Orientation : Vertical

Correct Marks : 2 Wrong Marks : 0

Class – I Agglomerations in India should have atleast the population of :

- (1) 50,000
- (2) 1,00,000
- (3) 10,000
- (4) 99,999

Options :

- 61547534689. 1
- 61547534690. 2
- 61547534691. 3
- 61547534692. 4

Question Number : 149 Question Id : 6154758899 Question Type : MCQ Option Shuffling : No Display Question Number : Yes Single Line Question Option : No Option Orientation : Vertical

Correct Marks : 2 Wrong Marks : 0

What is the percentage of population to the total urban population which lives in class-I urban Agglomerations and Towns as per 2011 Census?

- (1) 66.0%
- (2) 70.0%
- (3) 72.0%
- (4) 62.0%

Options :

- 61547534693. 1
- 61547534694. 2
- 61547534695. 3
- 61547534696. 4

Question Number : 150 Question Id : 6154758900 Question Type : MCQ Option Shuffling : No Display Question Number : Yes Single Line Question Option : No Option Orientation : Vertical

Correct Marks : 2 Wrong Marks : 0

How many urban agglomerations were added between year 2001 – 2011?

- (1) 115
- (2) 99
- (3) 111
- (4) 101

Options :

- 61547534697. 1
- 61547534698. 2
- 61547534699. 3
- 61547534700. 4

Question Id : 6154758895 Question Type : COMPREHENSION Sub Question Shuffling Allowed : Yes Group Comprehension Questions : No

Question Numbers : (146 to 150)

Question Label : Comprehension

निम्नलिखित उद्धरण को ध्यान से पढ़ें :

वर्ष 2011 की जनगणना के अनुसार, देश में 7,935 शहर हैं, जिनमें 2001 से 2,777 शहरों की वृद्धि (अथवा 53.75 प्रतिशत का उछाल) हुई है। यहाँ यह महत्वपूर्ण है कि वृद्धि प्रमुखतः जनगणना शहरों (सीटीज) (अर्थात् 185.90 प्रतिशत) में आंकी गई है। जनगणना में रिकार्ड किए गए शहरों में से कई शहरी जनसमूह (बस्ती) वाले भाग हैं। वर्ष 2001 की जनगणना में, 962 की अभिवृद्धि के साथ 384 शहरी जनसमूहों (Urban Agglomeration) की तुलना में वर्ष 2011 की जनगणना में, 981 की अभिवृद्धि के साथ 475 शहरी जनसमूह हैं। भारत की शहरी संरचना के अंतर्गत शहरी जनसमूहों (बस्तियों)/शहरों की संख्या 6166 है। तथापि, इनमें सबसे प्रमुख आश्चर्य जनक घटना जनगणना शहरों (सीटीज) की संख्या में वृद्धि है, जो बढ़कर 1362 से 3892 हो गई है, जबकि सांविधिक शहरों (एसटीज) की संख्या में 3,799 से 4041 की आंशिक वृद्धि हुई है।

वर्ष 2011 की जनगणना में पाया गया विदेश की कुल 37% मिलियन (अथवा 31.16 प्रतिशत) जनसंख्या शहरी क्षेत्रों में रहती है। जनगणना शहरी जनसमूहों को उनकी जनसंख्या के आधार पर वर्गीकृत करता है। शहरी जनसमूह/शहर जिनकी जनसंख्या कम से कम 1,00,000 लोगों की है, उन्हें वर्ग-I के शहर के रूप में वर्गीकृत किया गया है। वर्ष 2011 में 468 शहरी क्षेत्र/शहर थे, जो वर्ष 2001 की (394) तुलना में 18.78% की वृद्धि दर्शाता है ; कुल शहरी जनसंख्या का 70% (अथवा 264.9 मिलियन) इन शहरी जनसमूहों और शहरों में रहता है। जनगणना से यह पता चलता है कि जनसंख्या का अनुपात पिछली जनगणना से काफी बढ़ गया है। शेष शहरों की श्रेणियों में वृद्धि न्यून गति से हुई है।

Sub questions

Question Number : 146 Question Id : 6154758896 Question Type : MCQ Option Shuffling : No Display Question Number : Yes Single Line Question Option : No Option Orientation : Vertical

Correct Marks : 2 Wrong Marks : 0

वर्ष 2001 से 2011 के मध्य जनगणना शहरों (सीटीज) की वृद्धि-दर क्या थी?

- | | |
|-------------|-------------|
| (1) 180.00% | (2) 185.90% |
| (3) 170.60% | (4) 176.70% |

Options :

61547534681. 1

61547534682. 2

61547534683. 3

61547534684. 4

Question Number : 147 Question Id : 6154758897 Question Type : MCQ Option Shuffling : No Display Question Number : Yes Single Line Question Option : No Option Orientation : Vertical

Correct Marks : 2 Wrong Marks : 0

वर्ष 2001 में, भारत में कितने शहर थे?

- | | |
|----------|----------|
| (1) 5132 | (2) 5161 |
| (3) 6161 | (4) 6102 |

Options :

61547534685. 1
61547534686. 2
61547534687. 3
61547534688. 4

Question Number : 148 Question Id : 6154758898 Question Type : MCQ Option Shuffling : No Display Question Number : Yes
Single Line Question Option : No Option Orientation : Vertical

Correct Marks : 2 Wrong Marks : 0

भारत में, वर्ग-I के शहरों में कम से कम जनसंख्या कितनी होनी चाहिए?

- (1) 50,000 (2) 1,00,000
(3) 10,000 (4) 99,999

Options :

61547534689. 1
61547534690. 2
61547534691. 3
61547534692. 4

Question Number : 149 Question Id : 6154758899 Question Type : MCQ Option Shuffling : No Display Question Number : Yes
Single Line Question Option : No Option Orientation : Vertical

Correct Marks : 2 Wrong Marks : 0

वर्ष 2011 की जनगणना के अनुसार कुल शहरी जनसंख्या की तुलना में कितना प्रतिशत शहरी जनसंख्या है, जो वर्ग-I शहरी जनसमूहों/शहरों में रहता है?

- (1) 66.0% (2) 70.0%
(3) 72.0% (4) 62.0%

Options :

61547534693. 1
61547534694. 2
61547534695. 3
61547534696. 4

Question Number : 150 Question Id : 6154758900 Question Type : MCQ Option Shuffling : No Display Question Number : Yes
Single Line Question Option : No Option Orientation : Vertical

Correct Marks : 2 Wrong Marks : 0

वर्ष 2001 से 2011 के बीच कितने शहरी जनसमूहों की वृद्धि हुई?

- (1) 115 (2) 99
(3) 111 (4) 101

Options :

61547534697. 1
61547534698. 2

61547534699. 3

61547534700. 4

