

**National Testing Agency**

**Question Paper Name:** 07 Anthropology 24th June 2019 Shift2 Set2  
**Subject Name:** 07 Anthropology  
**Creation Date:** 2019-06-24 19:36:49  
**Duration:** 180  
**Total Marks:** 300  
**Display Marks:** Yes  
**Share Answer Key With Delivery Engine:** Yes  
**Actual Answer Key:** Yes

## 07 Anthropology

**Group Number :** 1  
**Group Id :** 646350245  
**Group Maximum Duration :** 0  
**Group Minimum Duration :** 180  
**Revisit allowed for view? :** No  
**Revisit allowed for edit? :** No  
**Break time:** 0  
**Group Marks:** 300

## PART I General Aptitude

**Section Id :** 646350475  
**Section Number :** 1  
**Section type :** Online  
**Mandatory or Optional:** Mandatory  
**Number of Questions:** 42  
**Number of Questions to be attempted:** 42  
**Section Marks:** 100  
**Display Number Panel:** Yes  
**Group All Questions:** No

**Sub-Section Number:** 1  
**Sub-Section Id:** 6463501133  
**Question Shuffling Allowed :** Yes

**Question Number : 1 Question Id : 64635022964 Question Type : MCQ Option Shuffling : No Display Question Number : Yes**  
**Single Line Question Option : No Option Orientation : Vertical**  
**Correct Marks : 2 Wrong Marks : 0**

Peer group interaction in a classroom helps in

- (1) Concept understanding
- (2) Realization of One's misunderstanding
- (3) Rapport Building
- (4) Questioning

Options :

64635090139. 1  
64635090140. 2  
64635090141. 3  
64635090142. 4

Question Number : 1 Question Id : 64635022964 Question Type : MCQ Option Shuffling : No Display Question Number : Yes  
Single Line Question Option : No Option Orientation : Vertical

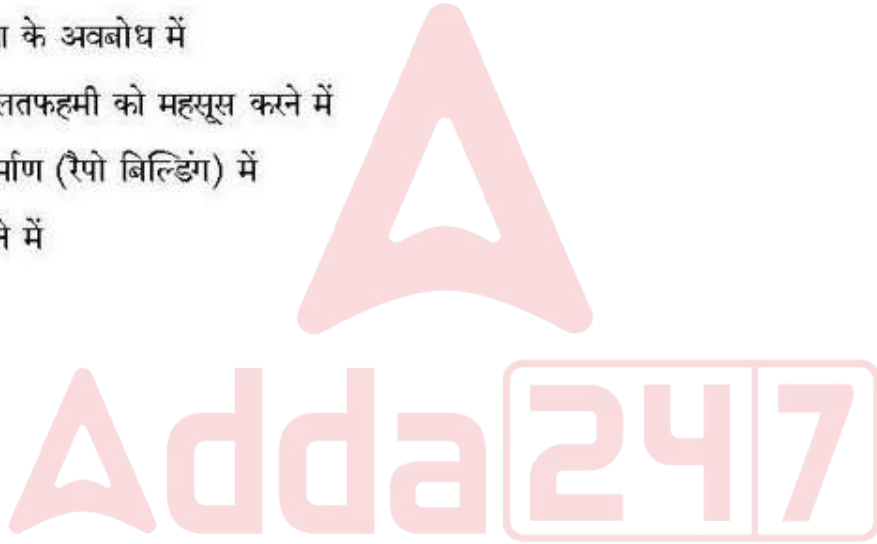
Correct Marks : 2 Wrong Marks : 0

कक्षा में साथी समूह अन्तःक्रिया (पीआर ग्रुप इन्टरएक्शन) से किसमें मदद मिलती है?

- (1) अवधारणा के अवबोध में
- (2) अपनी गलतफहमी को महसूस करने में
- (3) संपर्क निर्माण (रैपो बिल्डिंग) में
- (4) प्रश्न पूछने में

Options :

64635090139. 1  
64635090140. 2  
64635090141. 3  
64635090142. 4



Question Number : 2 Question Id : 64635022965 Question Type : MCQ Option Shuffling : No Display Question Number : Yes  
Single Line Question Option : No Option Orientation : Vertical

Correct Marks : 2 Wrong Marks : 0

When the learning outcomes of students are ensured with employment of less resources and effort on the part of a teacher and more initiative for self-learning is evident, which of the following expression will describe the teacher most appropriately?

- |                            |                          |
|----------------------------|--------------------------|
| (1) Teacher is successful  | (2) Teacher is effective |
| (3) Teacher is intelligent | (4) Teacher is practical |

Options :

64635090143. 1  
64635090144. 2  
64635090145. 3  
64635090146. 4

Question Number : 2 Question Id : 64635022965 Question Type : MCQ Option Shuffling : No Display Question Number : Yes  
Single Line Question Option : No Option Orientation : Vertical

Correct Marks : 2 Wrong Marks : 0

जब कम संसाधनों का प्रयोग कर और शिक्षक के प्रयास तथा स्व अधिगम पर अधिक जोर देकर विद्यार्थी के अधिगम परिणाम सुनिश्चित किये जाते हैं, तो इसमें निम्नलिखित में से कौन शिक्षक के बारे में सर्वाधिक उपयुक्त ढंग से वर्णन करता है?

- |                         |                          |
|-------------------------|--------------------------|
| (1) शिक्षक सफल है       | (2) शिक्षक प्रभावी है    |
| (3) शिक्षक बुद्धिमान है | (4) शिक्षक व्यावहारिक है |

Options :

64635090143. 1  
64635090144. 2  
64635090145. 3  
64635090146. 4

Question Number : 3 Question Id : 64635022966 Question Type : MCQ Option Shuffling : No Display Question Number : Yes  
Single Line Question Option : No Option Orientation : Vertical

Correct Marks : 2 Wrong Marks : 0

Reflective Practice implies use of one's

- |                                |                               |
|--------------------------------|-------------------------------|
| (1) Cognition                  | (2) Metacognition             |
| (3) Metacognition on cognition | (4) Reinforcement of learning |

Options :

64635090147. 1  
64635090148. 2  
64635090149. 3  
64635090150. 4

Question Number : 3 Question Id : 64635022966 Question Type : MCQ Option Shuffling : No Display Question Number : Yes  
Single Line Question Option : No Option Orientation : Vertical

Correct Marks : 2 Wrong Marks : 0

विमर्शी व्यवहार का अर्थ व्यक्ति द्वारा निम्नलिखित में से किसका उपयोग है?

- |                           |                                |
|---------------------------|--------------------------------|
| (1) संज्ञान (कग्निशन)     | (2) अधि संज्ञान (मेटाकॉग्निशन) |
| (3) संज्ञान पर अधिसंज्ञान | (4) अधिगम का प्रबलन            |

Options :

64635090147. 1  
64635090148. 2  
64635090149. 3  
64635090150. 4

Question Number : 4 Question Id : 64635022967 Question Type : MCQ Option Shuffling : No Display Question Number : Yes  
Single Line Question Option : No Option Orientation : Vertical

Correct Marks : 2 Wrong Marks : 0

Inclusive education implies

- (1) Ensuring learning outcome of every child to be the same
- (2) Including the disabled in the main stream
- (3) Provides compulsory education for children below 14 years
- (4) Ensuring that no child is left behind in education

Options :

- 64635090151. 1
- 64635090152. 2
- 64635090153. 3
- 64635090154. 4

Question Number : 4 Question Id : 64635022967 Question Type : MCQ Option Shuffling : No Display Question Number : Yes  
Single Line Question Option : No Option Orientation : Vertical

Correct Marks : 2 Wrong Marks : 0

समावेशी शिक्षा का अर्थ है

- (1) यह सुनिश्चित करना कि प्रत्येक बच्चे का अधिगम परिणाम एक हो।
- (2) निःशक्तों को मुख्य धारा में शामिल करना
- (3) 14 वर्ष से कम उम्र के बच्चों को अनिवार्य शिक्षा देना
- (4) यह सुनिश्चित करना कि कोई बच्चा शिक्षा में पीछे न रह जाय

Options :

- 64635090151. 1
- 64635090152. 2
- 64635090153. 3
- 64635090154. 4

Adda247

Question Number : 5 Question Id : 64635022968 Question Type : MCQ Option Shuffling : No Display Question Number : Yes  
Single Line Question Option : No Option Orientation : Vertical

Correct Marks : 2 Wrong Marks : 0

Listening is important for a teacher to

- (1) address the requirement of the learner
- (2) gain knowledge
- (3) keep the learner in good humour
- (4) evaluate the learner for the progress made

Options :

- 64635090155. 1
- 64635090156. 2
- 64635090157. 3
- 64635090158. 4

Question Number : 5 Question Id : 64635022968 Question Type : MCQ Option Shuffling : No Display Question Number : Yes  
Single Line Question Option : No Option Orientation : Vertical

Correct Marks : 2 Wrong Marks : 0

किसी शिक्षक के लिये सुनना महत्वपूर्ण है ताकि वह

- (1) अधिगमकर्ता की आवश्यकताएं पूरी कर सकें
- (2) ज्ञान प्राप्त कर सकें
- (3) अधिगमकर्ता को प्रसन्न रखा जा सके
- (4) अधिगमकर्ता द्वारा की गयी प्रगति का मूल्यांकन कर सकें

Options :

64635090155. 1  
64635090156. 2  
64635090157. 3  
64635090158. 4

Question Number : 6 Question Id : 64635022969 Question Type : MCQ Option Shuffling : No Display Question Number : Yes  
Single Line Question Option : No Option Orientation : Vertical

Correct Marks : 2 Wrong Marks : 0

A hypothesis should be conceptually

- (1) convoluted, complex and generic
- (2) complex, tough and general
- (3) simple, clear and specific
- (4) obscure, complicated and simple

Options :

64635090159. 1  
64635090160. 2  
64635090161. 3  
64635090162. 4

Question Number : 6 Question Id : 64635022969 Question Type : MCQ Option Shuffling : No Display Question Number : Yes  
Single Line Question Option : No Option Orientation : Vertical

Correct Marks : 2 Wrong Marks : 0

किसी परिकल्पना को संकल्पनात्मक रूप से होना चाहिए।

- (1) संवलित, जटिल और सामान्य
- (2) जटिल, दुःसाह्य और सामान्य
- (3) सरल, स्पष्ट और विशिष्ट
- (4) अस्पष्ट, पेचीदा और सरल

Options :

64635090159. 1  
64635090160. 2  
64635090161. 3  
64635090162. 4

Question Number : 7 Question Id : 64635022970 Question Type : MCQ Option Shuffling : No Display Question Number : Yes  
Single Line Question Option : No Option Orientation : Vertical

Correct Marks : 2 Wrong Marks : 0

During research, while recording observations if an observer rates an individual based on the rating given in another aspect of the interaction, this is termed as the

- |                       |                               |
|-----------------------|-------------------------------|
| (1) Evaluation effect | (2) Error of central tendency |
| (3) Halo effect       | (4) Categorical effect        |

Options :

64635090163. 1  
64635090164. 2  
64635090165. 3  
64635090166. 4

Question Number : 7 Question Id : 64635022970 Question Type : MCQ Option Shuffling : No Display Question Number : Yes  
Single Line Question Option : No Option Orientation : Vertical

Correct Marks : 2 Wrong Marks : 0

शोध के दौरान, अवलोकन दर्ज करते समय यदि कोई प्रेक्षक अन्तःक्रिया के दूसरे पहलू में दी गई रेटिंग के आधार पर व्यक्ति की रेटिंग करता है, तो यह पद कहलाता है:

- |                      |                                   |
|----------------------|-----------------------------------|
| (1) मूल्यांकन प्रभाव | (2) केन्द्रीय प्रवृत्ति की त्रुटि |
| (3) हेलो प्रभाव      | (4) कोटिगत प्रभाव                 |

Options :

64635090163. 1  
64635090164. 2  
64635090165. 3  
64635090166. 4

Question Number : 8 Question Id : 64635022971 Question Type : MCQ Option Shuffling : No Display Question Number : Yes  
Single Line Question Option : No Option Orientation : Vertical

Correct Marks : 2 Wrong Marks : 0

The study of 'why does stressful living result in heart attack'? Can be classified as

- |                            |                          |
|----------------------------|--------------------------|
| (1) Descriptive research   | (2) Explanatory research |
| (3) Correlational research | (4) Feasibility research |

Options :

64635090167. 1  
64635090168. 2  
64635090169. 3  
64635090170. 4

Question Number : 8 Question Id : 64635022971 Question Type : MCQ Option Shuffling : No Display Question Number : Yes  
Single Line Question Option : No Option Orientation : Vertical

Correct Marks : 2 Wrong Marks : 0

एक अध्ययन "तनावपूर्ण जीवन से दिल का दौरा पड़ता है" को किसमें श्रेणीबद्ध किया जा सकता है?

- |                      |                      |
|----------------------|----------------------|
| (1) विवरणात्मक शोध   | (2) व्याख्यात्मक शोध |
| (3) सहसंबंधात्मक शोध | (4) साध्यता शोध      |

Options :

64635090167. 1  
64635090168. 2  
64635090169. 3  
64635090170. 4

Question Number : 9 Question Id : 64635022972 Question Type : MCQ Option Shuffling : No Display Question Number : Yes  
Single Line Question Option : No Option Orientation : Vertical

Correct Marks : 2 Wrong Marks : 0

The formulation of a research problem can be compared to

- (1) Laying the foundation of a building (2) Building the walls of a home  
(3) Polishing the doors of a building (4) Constructing the ceiling of a house

Options :

64635090171. 1  
64635090172. 2  
64635090173. 3  
64635090174. 4

Question Number : 9 Question Id : 64635022972 Question Type : MCQ Option Shuffling : No Display Question Number : Yes  
Single Line Question Option : No Option Orientation : Vertical

Correct Marks : 2 Wrong Marks : 0

किसी शोध समस्या के निरूपण की तुलना किससे की जा सकती है?

- (1) भवन की नींव डालने से (2) घर की दीवारों के निर्माण से  
(3) भवन के दरवाजों में पॉलिश करने से (4) मकान की छत के निर्माण में

Options :

64635090171. 1  
64635090172. 2  
64635090173. 3  
64635090174. 4

Adda247

Question Number : 10 Question Id : 64635022973 Question Type : MCQ Option Shuffling : No Display Question Number : Yes  
Single Line Question Option : No Option Orientation : Vertical

Correct Marks : 2 Wrong Marks : 0

Mailed questionnaire, observation, interview and collective questionnaire are instances of

- (1) Secondary sources (2) Personal sources  
(3) Primary sources (4) Tertiary sources

Options :

64635090175. 1  
64635090176. 2  
64635090177. 3  
64635090178. 4

Question Number : 10 Question Id : 64635022973 Question Type : MCQ Option Shuffling : No Display Question Number : Yes  
Single Line Question Option : No Option Orientation : Vertical

Correct Marks : 2 Wrong Marks : 0

डाक से प्रेषित प्रश्नावली, अवलोकन, साक्षात्कार तथा सामूहिक प्रश्नावली किसके उदाहरण हैं?

- |                    |                    |
|--------------------|--------------------|
| (1) द्वितीयक स्रोत | (2) वैयक्तिक स्रोत |
| (3) प्राथमिक स्रोत | (4) तृतीयक स्रोत   |

**Options :**

64635090175. 1  
64635090176. 2  
64635090177. 3  
64635090178. 4

**Sub-Section Number:** 2  
**Sub-Section Id:** 6463501134  
**Question Shuffling Allowed :** Yes

**Question Id : 64635022974 Question Type : COMPREHENSION Sub Question Shuffling Allowed : Yes Group Comprehension Questions : No**

**Question Numbers : (11 to 15)**

**Question Label : Comprehension**

A business will usually go through a clear set of stages that will make up its organisational life cycle. These stages include introduction, early growth, continuous growth, maturity and decline. The first stage, the introduction stage, is the start-up phase where a business decides what its core strengths and capabilities are and starts selling its product or service. At this early stage, the founder or founders will be a part of every aspect of the daily process of the business. The main goal at this stage is to take off to a good start and make a place in the market.

The next stage, the early growth phase, aims at increased sales and more development. The focus at this stage remains on the original product or service but the effort is to increase the market share and venture into related products or services. The main goal is to move the founder to a more managerial role so more time is spent on managing and building the business. At this stage, documents and policies need to be developed so any member of the organisation can see the business any time.

The third stage, the continuous growth stage, requires a systematic structure and more formal relationships among its participants. At this stage, the resource requirements of the business need careful handling. The focus is on the expansion of the business, keeping in mind its core strength and capability. A formal organisational structure and a clear delegation plan are important at this stage.

At the fourth stage of maturity, a business often slows down as the level of innovative energy may have become weak and the formal structures may have become obstacles. A lot of care is required to prevent decline.

**Sub questions**

**Question Number : 11 Question Id : 64635022975 Question Type : MCQ Option Shuffling : No Display Question Number : Yes Single Line Question Option : No Option Orientation : Vertical**

**Correct Marks : 2 Wrong Marks : 0**



When will a business create its place in the market?

- (1) At maturity (2) At introduction  
(3) At early growth (4) At late growth

Options :

64635090179. 1  
64635090180. 2  
64635090181. 3  
64635090182. 4

Question Number : 12 Question Id : 64635022976 Question Type : MCQ Option Shuffling : No Display Question Number : Yes  
Single Line Question Option : No Option Orientation : Vertical

Correct Marks : 2 Wrong Marks : 0

The founder of a business does not move to a more managerial role at which stage?

- (1) Early growth stage (2) Maturity stage  
(3) Decline stage (4) Start up stage

Options :

64635090183. 1  
64635090184. 2  
64635090185. 3  
64635090186. 4

Question Number : 13 Question Id : 64635022977 Question Type : MCQ Option Shuffling : No Display Question Number : Yes  
Single Line Question Option : No Option Orientation : Vertical

Correct Marks : 2 Wrong Marks : 0

Venturing into related products and services does not mean that a business will

- (1) ignore the original product  
(2) move the founder to a more managerial role  
(3) delegate more responsibilities  
(4) ignore the related products and services

Options :

64635090187. 1  
64635090188. 2  
64635090189. 3  
64635090190. 4

Question Number : 14 Question Id : 64635022978 Question Type : MCQ Option Shuffling : No Display Question Number : Yes  
Single Line Question Option : No Option Orientation : Vertical

Correct Marks : 2 Wrong Marks : 0

The resource requirements of a business need careful handling at which stage?

- |            |            |
|------------|------------|
| (1) Fourth | (2) First  |
| (3) Third  | (4) Second |

Options :

- 64635090191. 1
- 64635090192. 2
- 64635090193. 3
- 64635090194. 4

Question Number : 15 Question Id : 64635022979 Question Type : MCQ Option Shuffling : No Display Question Number : Yes  
Single Line Question Option : No Option Orientation : Vertical

Correct Marks : 2 Wrong Marks : 0

The slowing down of a business can happen if,

- (1) there is a decline in the market share
- (2) the level of innovative energy weakens
- (3) the managerial roles are not clear
- (4) the level of investment declines

Options :

- 64635090195. 1
- 64635090196. 2
- 64635090197. 3
- 64635090198. 4

Question Id : 64635022974 Question Type : COMPREHENSION Sub Question Shuffling Allowed : Yes Group Comprehension  
Questions : No

Question Numbers : (11 to 15)

Question Label : Comprehension

किसी भी व्यवसाय को सामान्यतः चार स्पष्ट चरणों से गुजरना पड़ता है जिसमें उसके संगठनात्मक जीवन-चक्र का निर्माण होता है। ये चरण हैं आरंभ, आरंभिक विकास, सतत विकास, परिपक्वता और ह्रास। पहला चरण, प्रारंभिक चरण, स्टार्ट अप चरण होता है जहाँ व्यवसाय अपनी मुख्य शक्ति और क्षमता के संबंध में अभिनिश्चय करता है और अपने उत्पाद अथवा सेवाएं बेचना शुरू करता है। इस आरंभिक चरण में संस्थापक अथवा संस्थापक गण व्यवसाय की दैनिक प्रक्रिया के प्रत्येक पहलू का एक हिस्सा होता है। इस चरण में प्रमुख लक्ष्य है, एक अच्छी शुरुआत कर बाजार में स्थान बनाना।

दूसरे चरण अर्थात् आरंभिक विकास चरण का उद्देश्य बिक्री बढ़ाना तथा विकास में तेजी लाना। इस चरण में मूल उत्पाद अथवा सेवा पर बल दिया जाता है, परंतु इस मूल क्रम में बाजार के शेयर में वृद्धि लाने तथा संबंधित उत्पादों अथवा सेवाओं से सहबद्ध होने का प्रयास किया जाता है। मुख्य लक्ष्य संस्थापक को अधिक प्रबंधकीय भूमिका प्रदान करना रहता है। अतः प्रबंधन तथा व्यवसाय निर्माण में अधिक समय व्यतीत होता है। इस अवसर पर कागजातों एवं नीतियों के निर्माण की आवश्यकता होती है, ताकि संगठन का कोई भी सदस्य किसी भी समय व्यवसाय को देख सके।

तृतीय चरण, सतत विकास के प्रक्रम में एक व्यवस्थित संरचना और प्रतिभागियों के मध्य औपचारिक संबंध अपेक्षित होता है। इस चरण में व्यवसाय के संसाधन की आवश्यकताओं को सावधानीपूर्वक पूरा किया जाना चाहिए। यहां पर व्यवसाय की मुख्यशक्ति एवं क्षमता को ध्यान में रखते हुए व्यवसाय के विस्तार पर ध्यान केंद्रित किया जाता है। इस चरण में औपचारिक संगठनात्मक संरचना और स्पष्ट प्रत्यायोजन-योजना महत्वपूर्ण हैं।

परिपक्वता के चौथे चरण में व्यवसाय में प्रायःमंती आजाती है क्योंकि इसकी नवोन्मेषी ऊर्जा संभवतः क्षीण हो चुकी होती है और इसकी औपचारिक संरचना व्यवधान बन जाती है। इस प्रकार ह्रास रोकने हेतु काफी ध्यान देने की आवश्यकता होती है।

#### Sub questions

Question Number : 11 Question Id : 64635022975 Question Type : MCQ Option Shuffling : No Display Question Number : Yes  
Single Line Question Option : No Option Orientation : Vertical  
Correct Marks : 2 Wrong Marks : 0

कोई व्यवसाय बाजार में अपना स्थान कब बनाएगा?

- (1) परिपक्वता की अवस्था में (2) आरंभिक चरण में  
(3) आरंभिक विकास की अवस्था में (4) परवर्ती विकास के चरण में

#### Options :

64635090179. 1  
64635090180. 2  
64635090181. 3  
64635090182. 4

Question Number : 12 Question Id : 64635022976 Question Type : MCQ Option Shuffling : No Display Question Number : Yes  
Single Line Question Option : No Option Orientation : Vertical  
Correct Marks : 2 Wrong Marks : 0

व्यवसाय का संस्थापक किस चरण में अधिक प्रबंधकीय भूमिका की ओर अग्रसर नहीं होता है?

- (1) आरंभिक विकास चरण (2) परिपक्वता चरण  
(3) ह्रास चरण (4) स्टार्ट-अप चरण

**Options :**

- 64635090183. 1
- 64635090184. 2
- 64635090185. 3
- 64635090186. 4

**Question Number : 13 Question Id : 64635022977 Question Type : MCQ Option Shuffling : No Display Question Number : Yes Single Line Question Option : No Option Orientation : Vertical**

**Correct Marks : 2 Wrong Marks : 0**

संबंधित उत्पादों तथा सेवा से संबंधित व्यवसाय आरंभ करने का अभिप्राय यह नहीं है कि व्यवसाय में

- (1) मूल उत्पाद की अवहेलना की जाए
- (2) संस्थापक को अधिक प्रबंधकीय भूमिका का निर्वाह करना पड़े
- (3) अधिक उत्तरदायित्व प्रत्यायोजित हो
- (4) संबंधित उत्पादों एवं सेवाओं की अपेक्षा की जाए

**Options :**

- 64635090187. 1
- 64635090188. 2
- 64635090189. 3
- 64635090190. 4

**Question Number : 14 Question Id : 64635022978 Question Type : MCQ Option Shuffling : No Display Question Number : Yes Single Line Question Option : No Option Orientation : Vertical**

**Correct Marks : 2 Wrong Marks : 0**

किसी व्यवसाय के संसाधन की आवश्यकताओं की सावधानीपूर्वक पूर्ति किस चरण में की जाएगी:

- (1) चौथे
- (2) पहले
- (3) तीसरे
- (4) दूसरे

**Options :**

- 64635090191. 1
- 64635090192. 2
- 64635090193. 3
- 64635090194. 4

**Question Number : 15 Question Id : 64635022979 Question Type : MCQ Option Shuffling : No Display Question Number : Yes Single Line Question Option : No Option Orientation : Vertical**

**Correct Marks : 2 Wrong Marks : 0**

व्यवसाय में मंदी हो सकती है यदि

- (1) बाजार के शेयर में गिरावट हो
- (2) नवोन्मेषी उर्जा का स्तर कमजोर पड़ जाय
- (3) प्रबंधकीय भूमिकाएं स्पष्ट न हों।
- (4) निवेश का स्तर घट जाय।

Options :

64635090195. 1

64635090196. 2

64635090197. 3

64635090198. 4

Sub-Section Number: 3  
Sub-Section Id: 6463501135  
Question Shuffling Allowed : Yes

Question Number : 16 Question Id : 64635022980 Question Type : MCQ Option Shuffling : No Display Question Number : Yes  
Single Line Question Option : No Option Orientation : Vertical

Correct Marks : 2 Wrong Marks : 0

Semantic barrier of communication is implied when the

- (1) signal is lost before reaching the receiver
- (2) message transmitted by the source is unclear
- (3) receiver's attention is diverted
- (4) receiver does not understand the meaning of the message

Options :

64635090199. 1

64635090200. 2

64635090201. 3

64635090202. 4

Question Number : 16 Question Id : 64635022980 Question Type : MCQ Option Shuffling : No Display Question Number : Yes  
Single Line Question Option : No Option Orientation : Vertical

Correct Marks : 2 Wrong Marks : 0

संप्रेषण का अर्थ विषयक व्यवधान उस परिस्थिति में होता है जब,

- (1) प्रेषिती तक पहुँचने के पूर्व ही सिग्नल प्राप्त न हो सके
- (2) स्रोत से प्रेषित संवाद अस्पष्ट हो
- (3) प्रेषिती का ध्यान अन्यमनस्क हो
- (4) प्रेषिती संवाद का अर्थ नहीं समझता हो

**Options :**

64635090199. 1
64635090200. 2
64635090201. 3
64635090202. 4

**Question Number : 17 Question Id : 64635022981 Question Type : MCQ Option Shuffling : No Display Question Number : Yes Single Line Question Option : No Option Orientation : Vertical**

**Correct Marks : 2 Wrong Marks : 0**

Which of the following signifies non-verbal communication in an essential way?

- (1) Instructions written on a question paper
- (2) Learner attending an online class
- (3) The dress code followed by an individual
- (4) Yoga instructor teaching yoga poses to the pupils

**Options :**

64635090203. 1
64635090204. 2
64635090205. 3
64635090206. 4

Adda247

**Question Number : 17 Question Id : 64635022981 Question Type : MCQ Option Shuffling : No Display Question Number : Yes Single Line Question Option : No Option Orientation : Vertical**

**Correct Marks : 2 Wrong Marks : 0**

निम्नलिखित में से कौन सा अवाचिक संप्रेषण को अवश्यमेव द्योतित करता है?

- (1) प्रश्न पत्र पर लिखे अनुदेश
- (2) अधिगम कर्ता का ऑनलाइन कक्षा में शामिल होना
- (3) किसी व्यक्ति द्वारा अनुपालन किया जानेवाला ड्रेस कोड
- (4) योगा निदेशक द्वारा शिष्यों को योग के आसन की शिक्षा दिया जाना

**Options :**

64635090203. 1
64635090204. 2
64635090205. 3
64635090206. 4

Question Number : 18 Question Id : 64635022982 Question Type : MCQ Option Shuffling : No Display Question Number : Yes  
Single Line Question Option : No Option Orientation : Vertical

Correct Marks : 2 Wrong Marks : 0

Assertion (A) : Communication presupposes a shared, symbolic environment, a social relationship even among non-participants

Reason (R): It leads to social interaction, which in combination with other factors contributes to a sense of community.

Choose the correct option given below :

- (1) Both (A) and (R) are true and R is the correct explanation of A
- (2) Both (A) and (R) are true but R is not the correct explanation of A
- (3) (A) is true but (R) is false
- (4) (A) is false but (R) is true

Options :

64635090207. 1

64635090208. 2

64635090209. 3

64635090210. 4

Question Number : 18 Question Id : 64635022982 Question Type : MCQ Option Shuffling : No Display Question Number : Yes  
Single Line Question Option : No Option Orientation : Vertical

Correct Marks : 2 Wrong Marks : 0

अभिकथन (A) : सम्प्रेषण में प्रतिभागपरक सांकेतिक वातावरण तथा गैर-प्रतिभागियों में भी सामाजिक संबंध का पाया जाना पूर्वकल्पित होता है।

तर्क (R) : इससे सामाजिक अंतःक्रिया संभव होती है, जो अन्य कारकों के साथ मिलकर सामुदायिक भावना को बढ़ाती है।

नीचे दिए गए में से सही विकल्प चुनिए:

- (1) (A) और (R) दोनों सही हैं और (R), (A) की सही व्याख्या है।
- (2) (A) और (R) दोनों सही हैं लेकिन (R), (A) की सही व्याख्या नहीं है।
- (3) (A) सही है, लेकिन (R) गलत है।
- (4) (A) गलत है, लेकिन (R) सही है।

Options :

64635090207. 1

64635090208. 2

64635090209. 3

64635090210. 4

Question Number : 19 Question Id : 64635022983 Question Type : MCQ Option Shuffling : No Display Question Number : Yes  
Single Line Question Option : No Option Orientation : Vertical

Correct Marks : 2 Wrong Marks : 0

Which of the following is a stage of intrapersonal communication?

- (1) Phatic stage
- (2) Intimate stage
- (3) Personal stage
- (4) Transcendental communication

Options :

64635090211. 1
64635090212. 2
64635090213. 3
64635090214. 4

Question Number : 19 Question Id : 64635022983 Question Type : MCQ Option Shuffling : No Display Question Number : Yes  
Single Line Question Option : No Option Orientation : Vertical

Correct Marks : 2 Wrong Marks : 0

निम्नलिखित में से कौन अन्तरवैयक्तिक संप्रेषण का एक चरण है?

- (1) सामाजिक चरण
- (2) अन्तरंग चरण
- (3) वैयक्तिक चरण
- (4) प्रागनुभविक संप्रेषण

Options :

64635090211. 1
64635090212. 2
64635090213. 3
64635090214. 4

Question Number : 20 Question Id : 64635022984 Question Type : MCQ Option Shuffling : No Display Question Number : Yes  
Single Line Question Option : No Option Orientation : Vertical

Correct Marks : 2 Wrong Marks : 0

Which of the following is a characteristic of modern mass media?

- (1) Capital intensive
- (2) Labour intensive
- (3) Sustainable
- (4) Developmental

Options :

64635090215. 1
64635090216. 2
64635090217. 3
64635090218. 4



Question Number : 20 Question Id : 64635022984 Question Type : MCQ Option Shuffling : No Display Question Number : Yes  
Single Line Question Option : No Option Orientation : Vertical

Correct Marks : 2 Wrong Marks : 0

निम्नलिखित में से कौन आधुनिक संचार मीडिया की विशेषता है?

- |                  |                 |
|------------------|-----------------|
| (1) पूंजी प्रधान | (2) श्रम प्रधान |
| (3) संधारणीय     | (4) विकासात्मक  |

Options :

64635090215. 1  
64635090216. 2  
64635090217. 3  
64635090218. 4

Question Number : 21 Question Id : 64635022985 Question Type : MCQ Option Shuffling : No Display Question Number : Yes  
Single Line Question Option : No Option Orientation : Vertical

Correct Marks : 2 Wrong Marks : 0

If RED is coded as 6720, then how would GREEN be coded?

- |              |             |
|--------------|-------------|
| (1) 16717209 | (2) 1677209 |
| (3) 9207716  | (4) 1677199 |

Options :

64635090219. 1  
64635090220. 2  
64635090221. 3  
64635090222. 4

Question Number : 21 Question Id : 64635022985 Question Type : MCQ Option Shuffling : No Display Question Number : Yes  
Single Line Question Option : No Option Orientation : Vertical

Correct Marks : 2 Wrong Marks : 0

यदि RED को कूट भाषा में 6720 लिखा जाय, तो GREEN को किस प्रकार कूटबद्ध किया जाएगा?

- |              |             |
|--------------|-------------|
| (1) 16717209 | (2) 1677209 |
| (3) 9207716  | (4) 1677199 |

Options :

64635090219. 1  
64635090220. 2  
64635090221. 3  
64635090222. 4

Question Number : 22 Question Id : 64635022986 Question Type : MCQ Option Shuffling : No Display Question Number : Yes  
Single Line Question Option : No Option Orientation : Vertical

Correct Marks : 2 Wrong Marks : 0

If  $0.75x = 0.02y$ , then the value of  $\left(\frac{y-x}{y+x}\right)$  is

(1)  $\frac{73}{75}$

(2)  $\frac{75}{77}$

(3)  $\frac{73}{77}$

(4)  $\frac{730}{75}$

Options :

64635090223. 1

64635090224. 2

64635090225. 3

64635090226. 4

Question Number : 22 Question Id : 64635022986 Question Type : MCQ Option Shuffling : No Display Question Number : Yes  
Single Line Question Option : No Option Orientation : Vertical

Correct Marks : 2 Wrong Marks : 0

यदि  $0.75x = 0.02y$  हो, तो  $\frac{y-x}{y+x}$  का मान है:

(1)  $\frac{73}{75}$

(2)  $\frac{75}{77}$

(3)  $\frac{73}{77}$

(4)  $\frac{730}{75}$

Options :

64635090223. 1

64635090224. 2

64635090225. 3

64635090226. 4

Question Number : 23 Question Id : 64635022987 Question Type : MCQ Option Shuffling : No Display Question Number : Yes  
Single Line Question Option : No Option Orientation : Vertical

Correct Marks : 2 Wrong Marks : 0

If the average of five numbers is  $-20$  and the sum of three of the numbers is  $32$ , then what is the average of the other two numbers?

(1)  $-66$

(2)  $-33$

(3)  $-34$

(4)  $-132$

Options :

64635090227. 1

64635090228. 2

64635090229. 3

64635090230. 4

Question Number : 23 Question Id : 64635022987 Question Type : MCQ Option Shuffling : No Display Question Number : Yes  
Single Line Question Option : No Option Orientation : Vertical

Correct Marks : 2 Wrong Marks : 0

यदि पाँच संख्याओं का औसत  $-20$  हो, और उनमें से तीन संख्याओं का योग  $32$  हो, तो अन्य दो संख्याओं का औसत क्या है?

- (1)  $-66$   
(3)  $-34$

- (2)  $-33$   
(4)  $-132$

Options :

64635090227. 1  
64635090228. 2  
64635090229. 3  
64635090230. 4

Question Number : 24 Question Id : 64635022988 Question Type : MCQ Option Shuffling : No Display Question Number : Yes  
Single Line Question Option : No Option Orientation : Vertical

Correct Marks : 2 Wrong Marks : 0

A man travelled from the village to the railway station at the rate of  $20$  Kmph and walked back at the rate of  $5$  kmph. If the whole journey took  $5$  hours, find the distance of the railway station from the village.

- (1)  $10$  km  
(3)  $20$  km

- (2)  $15$  km  
(4)  $40$  km

Options :

64635090231. 1  
64635090232. 2  
64635090233. 3  
64635090234. 4

Adda247

Question Number : 24 Question Id : 64635022988 Question Type : MCQ Option Shuffling : No Display Question Number : Yes  
Single Line Question Option : No Option Orientation : Vertical

Correct Marks : 2 Wrong Marks : 0

कोई व्यक्ति गांव से रेलवे स्टेशन की यात्रा  $20$  kmph की दर से करता है तथा वापस  $5$  kmph की दर से आता है। यदि संपूर्ण यात्रा में उसे  $5$  घंटे लगते हैं, तो गांव से रेलवे स्टेशन की दूरी ज्ञात कीजिए।

- (1)  $10$  km  
(3)  $20$  km

- (2)  $15$  km  
(4)  $40$  km

Options :

64635090231. 1  
64635090232. 2  
64635090233. 3  
64635090234. 4

Question Number : 25 Question Id : 64635022989 Question Type : MCQ Option Shuffling : No Display Question Number : Yes  
Single Line Question Option : No Option Orientation : Vertical

Correct Marks : 2 Wrong Marks : 0

A trader mixes three varieties of refined oil costing Rs. 100, Rs. 40 and Rs. 60 per litre in the ratio 2 : 4 : 3 in terms of litre, and sells the mixture at Rs. 66 per litre. What percentage of profit does he make?

- (1) 12% (2) 10%  
(3) 9% (4) 8%

Options :

64635090235. 1  
64635090236. 2  
64635090237. 3  
64635090238. 4

Question Number : 25 Question Id : 64635022989 Question Type : MCQ Option Shuffling : No Display Question Number : Yes  
Single Line Question Option : No Option Orientation : Vertical

Correct Marks : 2 Wrong Marks : 0

कोई व्यापारी 100 रु., 40 रु. तथा 60 रु. प्रति लीटर की लागत वाले तीन प्रकार के रिफाइन्ड तेल को लीटर के पदों में 2 : 4 : 3 अनुपात में मिलाता है और इस मिश्रण को 66 रु. प्रति लीटर की दर से बेचता है। उसे कितने प्रतिशत का लाभ होता है?

- (1) 12% (2) 10%  
(3) 9% (4) 8%

Options :

64635090235. 1  
64635090236. 2  
64635090237. 3  
64635090238. 4

Question Number : 26 Question Id : 64635022990 Question Type : MCQ Option Shuffling : No Display Question Number : Yes  
Single Line Question Option : No Option Orientation : Vertical

Correct Marks : 2 Wrong Marks : 0

No Musicians are Japanese

All Barbers are Musicians

No Barbers are Japanese

Identify the Middle Term in the above syllogism

- (1) Subject in the first premise and predicate in the second premise  
(2) Predicate in the first premise and subject in the second premise  
(3) Predicate in the both premises  
(4) Subject in both the premises

Options :

64635090239. 1  
64635090240. 2  
64635090241. 3  
64635090242. 4

Question Number : 26 Question Id : 64635022990 Question Type : MCQ Option Shuffling : No Display Question Number : Yes  
Single Line Question Option : No Option Orientation : Vertical

Correct Marks : 2 Wrong Marks : 0

कोई संगीतकार जापान नहीं हैं।

सभी नाई संगीतकार हैं।

कोई नाई जापानी नहीं है।

उपर्युक्त न्यायवाक्य में मध्यपद की पहचान कीजिए:

- (1) पहले आधार वाक्य में कर्ता और दूसरे आधार वाक्य में विधेय
- (2) पहले आधार वाक्य में विधेय और दूसरे आधार वाक्य में कर्ता
- (3) दोनों आधार वाक्यों में विधेय
- (4) दोनों आधार वाक्यों में कर्ता

Options :

64635090239. 1  
64635090240. 2  
64635090241. 3  
64635090242. 4

Question Number : 27 Question Id : 64635022991 Question Type : MCQ Option Shuffling : No Display Question Number : Yes  
Single Line Question Option : No Option Orientation : Vertical

Correct Marks : 2 Wrong Marks : 0

Inductive argument proceeds from

- (1) Universal to Particular
- (2) Particular to Universal
- (3) Universal to Universal
- (4) Particular to Particular

Options :

64635090243. 1  
64635090244. 2  
64635090245. 3  
64635090246. 4

Question Number : 27 Question Id : 64635022991 Question Type : MCQ Option Shuffling : No Display Question Number : Yes  
Single Line Question Option : No Option Orientation : Vertical

Correct Marks : 2 Wrong Marks : 0

आगमनात्मक तर्क किस तरह उत्पन्न होता है?

- (1) सार्वभौमिक से विशिष्ट
- (2) विशिष्ट से सार्वभौमिक
- (3) सार्वभौमिक से सार्वभौमिक
- (4) विशिष्ट से विशिष्ट

Options :

64635090243. 1

64635090244. 2

64635090245. 3

64635090246. 4

Question Number : 28 Question Id : 64635022992 Question Type : MCQ Option Shuffling : No Display Question Number : Yes  
Single Line Question Option : No Option Orientation : Vertical

Correct Marks : 2 Wrong Marks : 0

Among the five friends, Vineet is taller than Monika, but not as tall as Ram. Jacob is taller than Dalip but shorter than Monika. Who is the tallest in their group?

- (1) Ram
- (2) Monika
- (3) Vineet
- (4) Jacob

Options :

64635090247. 1

64635090248. 2

64635090249. 3

64635090250. 4

Question Number : 28 Question Id : 64635022992 Question Type : MCQ Option Shuffling : No Display Question Number : Yes  
Single Line Question Option : No Option Orientation : Vertical

Correct Marks : 2 Wrong Marks : 0

पांच मित्रों में विनीत मोनिका से लम्बा है लेकिन राम जितना लंबा नहीं है। जैकब दलीप से लंबा है लेकिन मोनिका से छोटा है। हम समूह में सबसे लंबा कौन है?

- (1) राम
- (2) मोनिका
- (3) विनीत
- (4) जैकब

**Options :**

64635090247. 1  
64635090248. 2  
64635090249. 3  
64635090250. 4

**Question Number : 29 Question Id : 64635022993 Question Type : MCQ Option Shuffling : No Display Question Number : Yes Single Line Question Option : No Option Orientation : Vertical**

**Correct Marks : 2 Wrong Marks : 0**

Consider the example given below :

Devadatta is growing fat.

He does not eat food during the day.

Therefore, He must be eating food during the night, other things being equal.

Identify the logic involved in the example provided above by choosing the correct answer from options given below :

- |                |                |
|----------------|----------------|
| (1) Arthapatti | (2) Anupalabdi |
| (3) Anumāna    | (4) Sabdā      |

**Options :**

64635090251. 1  
64635090252. 2  
64635090253. 3  
64635090254. 4

**Question Number : 29 Question Id : 64635022993 Question Type : MCQ Option Shuffling : No Display Question Number : Yes Single Line Question Option : No Option Orientation : Vertical**

**Correct Marks : 2 Wrong Marks : 0**

नीचे दिए उदाहरण पर विचार कीजिए  
देवदत्त मोटा हो रहा है।  
वह दिन में खाना नहीं खाता है।

इसलिए :

वह रात को खाना खाता होगा,  
अन्य बातें समान रहते हुए।

नीचे दिए गए विकल्प की सहायता से उपर्युक्त उदाहरण में निहित तर्क की पहचान कीजिए।

- |                |               |
|----------------|---------------|
| (1) अर्थापत्ति | (2) अनुपलब्धि |
| (3) अनुमान     | (4) शब्द      |

**Options :**

64635090251. 1  
64635090252. 2  
64635090253. 3  
64635090254. 4

**Question Number : 30 Question Id : 64635022994 Question Type : MCQ Option Shuffling : No Display Question Number : Yes  
Single Line Question Option : No Option Orientation : Vertical**

**Correct Marks : 2 Wrong Marks : 0**

Consider the argument provided below :

“Sound is permanent because it is a product like the jar”.

Identify the fallacy involved in the above argument on the basis of Indian logic from the options given below.

- |                                     |                                |
|-------------------------------------|--------------------------------|
| (1) Fallacy of contradictory reason | (2) Fallacy of wrong assertion |
| (3) Fallacy of irrelevant reason    | (4) Fallacy of trivial reason  |

**Options :**

64635090255. 1  
64635090256. 2  
64635090257. 3  
64635090258. 4

**Question Number : 30 Question Id : 64635022994 Question Type : MCQ Option Shuffling : No Display Question Number : Yes  
Single Line Question Option : No Option Orientation : Vertical**

**Correct Marks : 2 Wrong Marks : 0**



नीचे दिए तर्क पर विचार कीजिए

ध्वनि स्थायी है क्योंकि यह जार की तरह की उत्पाद हैं,

नीचे दिए गए विकल्पों से भारतीय तर्क के आधार पर उपर्युक्त तर्क में निहित श्रामकता की पहचान कीजिए:

- |                                    |   |
|------------------------------------|---|
| (1) विरोधाभासी तर्क वाला हेत्वाभास | (2) असत्य अभिकथन से सम्बन्धित हेत्वाभास |
| (3) असंबद्ध तर्क का हेत्वाभास      | (4) तुच्छ तर्क का हेत्वाभास             |

Options :

64635090255. 1

64635090256. 2

64635090257. 3

64635090258. 4

Sub-Section Number: 4  
Sub-Section Id: 6463501136  
Question Shuffling Allowed : Yes

Question Id : 64635022995 Question Type : COMPREHENSION Sub Question Shuffling Allowed : Yes Group Comprehension Questions : No

Question Numbers : (31 to 35)

Question Label : Comprehension

Consider the following table that shows the production of fertilizers by a company (in 10000 tonnes) during the year 2011 to 2018.

Answer the questions based on the data contained in the table :

Year :	2011	2012	2013	2014	2015	2016	2017	2018
Production of Fertilizers :	35	50	70	55	75	60	85	90

Sub questions

Question Number : 31 Question Id : 64635022996 Question Type : MCQ Option Shuffling : No Display Question Number : Yes Single Line Question Option : No Option Orientation : Vertical

Correct Marks : 2 Wrong Marks : 0

In how many of the given years was the production of fertilizers more than the average production of the given years?

- |       |       |
|-------|-------|
| (1) 2 | (2) 3 |
| (3) 4 | (4) 5 |

Options :

64635090259. 1

64635090260. 2

64635090261. 3

64635090262. 4

Question Number : 32 Question Id : 64635022997 Question Type : MCQ Option Shuffling : No Display Question Number : Yes  
Single Line Question Option : No Option Orientation : Vertical

Correct Marks : 2 Wrong Marks : 0

What was the percentage decline in the production of fertilizers from 2013 to 2014?

(1) 20.4%

(2) 21.4%

(3) 22.6%

(4) 24.2%

Options :

64635090263. 1

64635090264. 2

64635090265. 3

64635090266. 4

Question Number : 33 Question Id : 64635022998 Question Type : MCQ Option Shuffling : No Display Question Number : Yes  
Single Line Question Option : No Option Orientation : Vertical

Correct Marks : 2 Wrong Marks : 0

What was the approximate percentage increase in production of fertilizers in 2018 compared to that in 2011?

(1) 157%

(2) 165%

(3) 177%

(4) 182%

Options :

64635090267. 1

64635090268. 2

64635090269. 3

64635090270. 4

Question Number : 34 Question Id : 64635022999 Question Type : MCQ Option Shuffling : No Display Question Number : Yes  
Single Line Question Option : No Option Orientation : Vertical

Correct Marks : 2 Wrong Marks : 0

In which year, the percentage increase in production as compared to the previous year was maximum?

(1) 2012

(2) 2013

(3) 2015

(4) 2018

Options :

64635090271. 1

64635090272. 2

64635090273. 3

64635090274. 4

Question Number : 35 Question Id : 64635023000 Question Type : MCQ Option Shuffling : No Display Question Number : Yes  
Single Line Question Option : No Option Orientation : Vertical

Correct Marks : 2 Wrong Marks : 0

The average production of 2012 and 2013 was exactly equal to the average production of which of the following pairs of years?

- (1) 2011 and 2012
- (2) 2011 and 2017
- (3) 2012 and 2014
- (4) 2015 and 2016

Options :

- 64635090275. 1
- 64635090276. 2
- 64635090277. 3
- 64635090278. 4

Question Id : 64635022995 Question Type : COMPREHENSION Sub Question Shuffling Allowed : Yes Group Comprehension Questions : No

Question Numbers : (31 to 35)

Question Label : Comprehension

निम्नलिखित तालिका पर विचार कीजिए जो वर्ष 2011 - 2018 के बीच कंपनी के उर्वरक उत्पादन (10000 टन) को दर्शाता है:

वर्ष	2011	2012	2013	2014	2015	2016	2017	2018
उर्वरकों का उत्पादन	35	50	70	55	75	60	85	90

Sub questions

Question Number : 31 Question Id : 64635022996 Question Type : MCQ Option Shuffling : No Display Question Number : Yes Single Line Question Option : No Option Orientation : Vertical

Correct Marks : 2 Wrong Marks : 0

दिए गए कितने वर्षों में उर्वरकों का उत्पादन दिए गए वर्षों के औसत उत्पादन से अधिक था?

- (1) 2
- (2) 3
- (3) 4
- (4) 5

Options :

- 64635090259. 1
- 64635090260. 2
- 64635090261. 3
- 64635090262. 4

Question Number : 32 Question Id : 64635022997 Question Type : MCQ Option Shuffling : No Display Question Number : Yes Single Line Question Option : No Option Orientation : Vertical

Correct Marks : 2 Wrong Marks : 0

2013 से 2014 तक उर्वरकों के उत्पादन में कितने प्रतिशत गिरावट आयी?

- |                  |                  |
|------------------|------------------|
| (1) 20.4 प्रतिशत | (2) 21.4 प्रतिशत |
| (3) 22.6 प्रतिशत | (4) 24.2 प्रतिशत |

Options :

64635090263. 1  
64635090264. 2  
64635090265. 3  
64635090266. 4

Question Number : 33 Question Id : 64635022998 Question Type : MCQ Option Shuffling : No Display Question Number : Yes  
Single Line Question Option : No Option Orientation : Vertical

Correct Marks : 2 Wrong Marks : 0

वर्ष 2018 की तुलना में वर्ष 2011 में उर्वरकों के उत्पादन में वृद्धि का प्रतिशत लगभग कितना था?

- |          |          |
|----------|----------|
| (1) 157% | (2) 165% |
| (3) 177% | (4) 182% |

Options :

64635090267. 1  
64635090268. 2  
64635090269. 3  
64635090270. 4

Question Number : 34 Question Id : 64635022999 Question Type : MCQ Option Shuffling : No Display Question Number : Yes  
Single Line Question Option : No Option Orientation : Vertical

Correct Marks : 2 Wrong Marks : 0

किस वर्ष में उत्पादन में वृद्धि का प्रतिशत पिछले साल की तुलना में अधिकतम था?

- |          |          |
|----------|----------|
| (1) 2012 | (2) 2013 |
| (3) 2015 | (4) 2018 |

Options :

64635090271. 1  
64635090272. 2  
64635090273. 3  
64635090274. 4

Question Number : 35 Question Id : 64635023000 Question Type : MCQ Option Shuffling : No Display Question Number : Yes  
Single Line Question Option : No Option Orientation : Vertical

Correct Marks : 2 Wrong Marks : 0

निम्नलिखित वर्षों के युग्म में से किसमें औसत उत्पादन स्तर 2012 और 2013 के औसत उत्पादन के बिल्कुल समान था?

- (1) 2011 और 2012
- (2) 2011 और 2017
- (3) 2012 और 2014
- (4) 2015 और 2016

**Options :**

- 64635090275. 1
- 64635090276. 2
- 64635090277. 3
- 64635090278. 4

**Sub-Section Number:** 5  
**Sub-Section Id:** 6463501137  
**Question Shuffling Allowed :** Yes

**Question Number : 36 Question Id : 64635023001 Question Type : MCQ Option Shuffling : No Display Question Number : Yes**  
**Single Line Question Option : No Option Orientation : Vertical**

**Correct Marks : 2 Wrong Marks : 0**

Match the following :

Set I

- (a) First Generation
- (b) Second Generation
- (c) Third Generation
- (d) Fourth Generation

Set II

- (i) Transistor
- (ii) VLSI microprocessor
- (iii) Vacuum tube
- (iv) Integrated circuit

Select the correct option from the following :

- |     | (a)   | (b)   | (c)  | (d)  |
|-----|-------|-------|------|------|
| (1) | (iii) | (iv)  | (i)  | (ii) |
| (2) | (iii) | (i)   | (iv) | (ii) |
| (3) | (iii) | (i)   | (ii) | (iv) |
| (4) | (i)   | (iii) | (iv) | (ii) |

**Options :**

- 64635090279. 1
- 64635090280. 2
- 64635090281. 3

Question Number : 36 Question Id : 64635023001 Question Type : MCQ Option Shuffling : No Display Question Number : Yes  
Single Line Question Option : No Option Orientation : Vertical

Correct Marks : 2 Wrong Marks : 0

निम्नलिखित को सुमेलित कीजिए।

सेट - I

सेट - II

(a) प्रथम पीढ़ी

(i) ट्रांजिस्टर

(b) द्वितीय पीढ़ी

(ii) वी एल एस आई माइक्रोप्रोसेसर

(c) तृतीय पीढ़ी

(iii) वेक्यूम ट्यूब

(d) चौथी पीढ़ी

(iv) इंटीग्रेटेड सर्किट

निम्नलिखित में से सही उत्तर का चयन कीजिए :

	(a)	(b)	(c)	(d)
(1)	(iii)	(iv)	(i)	(ii)
(2)	(iii)	(i)	(iv)	(ii)
(3)	(iii)	(i)	(ii)	(iv)
(4)	(i)	(iii)	(iv)	(ii)

Options :

64635090279. 1

64635090280. 2

64635090281. 3

64635090282. 4

Question Number : 37 Question Id : 64635023002 Question Type : MCQ Option Shuffling : No Display Question Number : Yes  
Single Line Question Option : No Option Orientation : Vertical

Correct Marks : 2 Wrong Marks : 0

One TeraByte (TB) of memory is equal to

- (1) 1024 KB
- (2)  $1024 \times 1024$  KB
- (3)  $1024 \times 1024 \times 1024$  KB
- (4)  $1024 \times 1024 \times 1024$  Bytes

Options :

64635090283. 1  
64635090284. 2  
64635090285. 3  
64635090286. 4

Question Number : 37 Question Id : 64635023002 Question Type : MCQ Option Shuffling : No Display Question Number : Yes  
Single Line Question Option : No Option Orientation : Vertical

Correct Marks : 2 Wrong Marks : 0

एक टेराबाइट (TB) मेमोरी किसके समान है?

- (1) 1024 KB  
(2)  $1024 \times 1024$  KB  
(3)  $1024 \times 1024 \times 1024$  KB  
(4)  $1024 \times 1024 \times 1024$  Bytes

Options :

64635090283. 1  
64635090284. 2  
64635090285. 3  
64635090286. 4

Question Number : 38 Question Id : 64635023003 Question Type : MCQ Option Shuffling : No Display Question Number : Yes  
Single Line Question Option : No Option Orientation : Vertical

Correct Marks : 2 Wrong Marks : 0

A/An \_\_\_\_\_ is a computer program that spreads by inserting copies of itself into other executable code or documents.

- (1) Operating System (2) Computer Virus  
(3) Firewall (4) Anti-virus

Options :

64635090287. 1  
64635090288. 2  
64635090289. 3  
64635090290. 4

Question Number : 38 Question Id : 64635023003 Question Type : MCQ Option Shuffling : No Display Question Number : Yes  
Single Line Question Option : No Option Orientation : Vertical

Correct Marks : 2 Wrong Marks : 0

\_\_\_\_\_ एक कंप्यूटर प्रोग्राम है जो अन्य प्रलेखों अथवा करणीय कोड में अपनी प्रतिलिपियाँ अतःस्थापित करने से फैलता है।

- (1) ऑपरेटिंग सिस्टम (2) कंप्यूटर वायरस  
(3) फायर बॉल (4) एंटी वायरस

**Options :**

- 64635090287. 1
- 64635090288. 2
- 64635090289. 3
- 64635090290. 4

**Question Number : 39 Question Id : 64635023004 Question Type : MCQ Option Shuffling : No Display Question Number : Yes Single Line Question Option : No Option Orientation : Vertical**

**Correct Marks : 2 Wrong Marks : 0**

In Audio and Video compression, the term RGB means

- (1) Red, Grey, Blue
- (2) Red, Green, Blue
- (3) Red, Green, Black
- (4) Red, Grey, Black

**Options :**

- 64635090291. 1
- 64635090292. 2
- 64635090293. 3
- 64635090294. 4

**Question Number : 39 Question Id : 64635023004 Question Type : MCQ Option Shuffling : No Display Question Number : Yes Single Line Question Option : No Option Orientation : Vertical**

**Correct Marks : 2 Wrong Marks : 0**

ऑडियो और वीडियो कंप्रेशन में RGB का अभिप्राय है

- (1) रेड, ग्रे, ब्लू
- (2) रेड, ग्रीन, ब्लू
- (3) रेड, ग्रीन, ब्लैक
- (4) रेड, ग्रे, ब्लैक

**Options :**

- 64635090291. 1
- 64635090292. 2
- 64635090293. 3
- 64635090294. 4

**Question Number : 40 Question Id : 64635023005 Question Type : MCQ Option Shuffling : No Display Question Number : Yes Single Line Question Option : No Option Orientation : Vertical**

**Correct Marks : 2 Wrong Marks : 0**

Which of the following is not a/an web browser?

- (1) Internet Explorer
- (2) Mozilla Firefox
- (3) Google chrome
- (4) Yahoo

**Options :**

- 64635090295. 1
- 64635090296. 2
- 64635090297. 3



64635090298. 4

Question Number : 40 Question Id : 64635023005 Question Type : MCQ Option Shuffling : No Display Question Number : Yes  
Single Line Question Option : No Option Orientation : Vertical

Correct Marks : 2 Wrong Marks : 0

निम्नलिखित में से कौनसा वेब ब्राउजर नहीं है?

- |                        |                       |
|------------------------|-----------------------|
| (1) इंटरनेट एक्सप्लोरर | (2) मोजिला फायर फॉक्स |
| (3) गूगल क्रोम         | (4) याहू              |

Options :

64635090295. 1

64635090296. 2

64635090297. 3

64635090298. 4

Question Number : 41 Question Id : 64635023006 Question Type : MCQ Option Shuffling : No Display Question Number : Yes  
Single Line Question Option : No Option Orientation : Vertical

Correct Marks : 2 Wrong Marks : 0

The target set by Indian government for generating power from wind energy by the year 2022 is

- |           |           |
|-----------|-----------|
| (1) 60 GW | (2) 50 GW |
| (3) 40 GW | (4) 15 GW |

Options :

64635090299. 1

64635090300. 2

64635090301. 3

64635090302. 4

Question Number : 41 Question Id : 64635023006 Question Type : MCQ Option Shuffling : No Display Question Number : Yes  
Single Line Question Option : No Option Orientation : Vertical

Correct Marks : 2 Wrong Marks : 0

वर्ष 2022 तक पवन ऊर्जा से बिजली उत्पन्न करने के लिए भारत सरकार ने क्या लक्ष्य निर्धारित किया है?

- |           |           |
|-----------|-----------|
| (1) 60 GW | (2) 50 GW |
| (3) 40 GW | (4) 15 GW |

Options :

64635090299. 1

64635090300. 2

64635090301. 3

64635090302. 4

Question Number : 42 Question Id : 64635023007 Question Type : MCQ Option Shuffling : No Display Question Number : Yes  
Single Line Question Option : No Option Orientation : Vertical

Correct Marks : 2 Wrong Marks : 0

Which pollutant is the major source of marine pollution?

- (1) Agricultural run-off
- (2) Oil spill
- (3) Industrial waste water
- (4) Sewage

Options :

64635090303. 1  
64635090304. 2  
64635090305. 3  
64635090306. 4

Question Number : 42 Question Id : 64635023007 Question Type : MCQ Option Shuffling : No Display Question Number : Yes  
Single Line Question Option : No Option Orientation : Vertical

Correct Marks : 2 Wrong Marks : 0

कौनसा प्रदूषक समुद्री प्रदूषण का सबसे बड़ा स्रोत है?

- (1) कृषि अपवाह
- (2) तेल रिसाव
- (3) औद्योगिक अकृष्ट जल
- (4) सीवेज

Options :

64635090303. 1  
64635090304. 2  
64635090305. 3  
64635090306. 4

Question Number : 43 Question Id : 64635023008 Question Type : MCQ Option Shuffling : No Display Question Number : Yes  
Single Line Question Option : No Option Orientation : Vertical

Correct Marks : 2 Wrong Marks : 0

Permafrost is defining characteristic of which biome?

- |               |            |
|---------------|------------|
| (1) Taiga     | (2) Tundra |
| (3) Grassland | (4) Desert |

Options :

64635090307. 1  
64635090308. 2  
64635090309. 3  
64635090310. 4

Question Number : 43 Question Id : 64635023008 Question Type : MCQ Option Shuffling : No Display Question Number : Yes  
Single Line Question Option : No Option Orientation : Vertical

Correct Marks : 2 Wrong Marks : 0

पर्माफ्रोस्ट किस बायोम की विशेषता को बताता है?

- |                  |              |
|------------------|--------------|
| (1) टैगा         | (2) तुन्ड्रा |
| (3) घास के मैदान | (4) मरुस्थल  |

Options :

64635090307. 1  
64635090308. 2  
64635090309. 3  
64635090310. 4

Question Number : 44 Question Id : 64635023009 Question Type : MCQ Option Shuffling : No Display Question Number : Yes  
Single Line Question Option : No Option Orientation : Vertical

Correct Marks : 2 Wrong Marks : 0

The mangroves exist in

- |                        |                     |
|------------------------|---------------------|
| (1) Fresh water system | (2) Temperate areas |
| (3) Semi-arid areas    | (4) Saline waters   |

Options :

64635090311. 1  
64635090312. 2  
64635090313. 3  
64635090314. 4

Question Number : 44 Question Id : 64635023009 Question Type : MCQ Option Shuffling : No Display Question Number : Yes  
Single Line Question Option : No Option Orientation : Vertical

Correct Marks : 2 Wrong Marks : 0

कच्छ वनस्पति कहाँ मिलती हैं?

- |                         |                  |
|-------------------------|------------------|
| (1) ताजा जल प्रणाली     | (2) संतापक्षेत्र |
| (3) अर्द्धशुष्क क्षेत्र | (4) खारा जल      |

Options :

64635090311. 1  
64635090312. 2  
64635090313. 3  
64635090314. 4

Question Number : 45 Question Id : 64635023010 Question Type : MCQ Option Shuffling : No Display Question Number : Yes  
Single Line Question Option : No Option Orientation : Vertical

Correct Marks : 2 Wrong Marks : 0

Chemical oxygen demand in eutrophic water is

- (1) Low
- (2) High
- (3) Medium
- (4) Extremely low

Options :

64635090315. 1  
64635090316. 2  
64635090317. 3  
64635090318. 4

Question Number : 45 Question Id : 64635023010 Question Type : MCQ Option Shuffling : No Display Question Number : Yes  
Single Line Question Option : No Option Orientation : Vertical

Correct Marks : 2 Wrong Marks : 0

यूट्राफिक जल में कैमिकल आक्सीजन की मांग होती है-

- (1) निम्न
- (2) उच्च
- (3) मध्यम
- (4) बिल्कुल निम्न

Options :

64635090315. 1  
64635090316. 2  
64635090317. 3  
64635090318. 4

Question Number : 46 Question Id : 64635023011 Question Type : MCQ Option Shuffling : No Display Question Number : Yes  
Single Line Question Option : No Option Orientation : Vertical

Correct Marks : 2 Wrong Marks : 0

In which era given below, higher education in India got a set back?

- |                 |                           |
|-----------------|---------------------------|
| (1) British Era | (2) Buddhist Era          |
| (3) Mughal Era  | (4) Post-Independence Era |

Options :

64635090319. 1  
64635090320. 2  
64635090321. 3  
64635090322. 4

Question Number : 46 Question Id : 64635023011 Question Type : MCQ Option Shuffling : No Display Question Number : Yes  
Single Line Question Option : No Option Orientation : Vertical

Correct Marks : 2 Wrong Marks : 0

नीचे दिए गए किस काल में भारत में शिक्षा को धक्का लगा?

- |                 |                          |
|-----------------|--------------------------|
| (1) ब्रिटिश काल | (2) बौद्ध काल            |
| (3) मुगल काल    | (4) स्वातंत्र्योत्तर काल |

Options :

64635090319. 1  
64635090320. 2  
64635090321. 3  
64635090322. 4

Question Number : 47 Question Id : 64635023012 Question Type : MCQ Option Shuffling : No Display Question Number : Yes  
Single Line Question Option : No Option Orientation : Vertical

Correct Marks : 2 Wrong Marks : 0

In which year the modern Indian University got established?

- |          |          |
|----------|----------|
| (1) 1957 | (2) 1857 |
| (3) 1947 | (4) 1964 |

Options :

64635090323. 1  
64635090324. 2  
64635090325. 3  
64635090326. 4

Question Number : 47 Question Id : 64635023012 Question Type : MCQ Option Shuffling : No Display Question Number : Yes  
Single Line Question Option : No Option Orientation : Vertical

Correct Marks : 2 Wrong Marks : 0

आधुनिक भारतीय विश्वविद्यालय की स्थापना किस वर्ष में हुई?

- |          |          |
|----------|----------|
| (1) 1957 | (2) 1857 |
| (3) 1947 | (4) 1964 |

Options :

64635090323. 1  
64635090324. 2  
64635090325. 3  
64635090326. 4

Question Number : 48 Question Id : 64635023013 Question Type : MCQ Option Shuffling : No Display Question Number : Yes  
Single Line Question Option : No Option Orientation : Vertical

Correct Marks : 2 Wrong Marks : 0

The report of which of the following Education Commissions carries the sub-title 'Education for National Development'?

- (1) Radhakrishnan Commission
- (2) Mudaliar Commission
- (3) Calcutta University Education Commission
- (4) Kothari Commission

Options :

64635090327. 1  
64635090328. 2  
64635090329. 3  
64635090330. 4

Question Number : 48 Question Id : 64635023013 Question Type : MCQ Option Shuffling : No Display Question Number : Yes  
Single Line Question Option : No Option Orientation : Vertical

Correct Marks : 2 Wrong Marks : 0

निम्नलिखित में से किस शिक्षा आयोग की रिपोर्ट में उपशीर्षक 'राष्ट्रीय विकास के लिए शिक्षा' दिए गया था ?

- (1) राधाकृष्णन आयोग
- (2) मुदलियार आयोग
- (3) कलकत्ता विश्वविद्यालय शिक्षा आयोग
- (4) कोठारी आयोग

Options :

64635090327. 1  
64635090328. 2  
64635090329. 3  
64635090330. 4

Question Number : 49 Question Id : 64635023014 Question Type : MCQ Option Shuffling : No Display Question Number : Yes  
Single Line Question Option : No Option Orientation : Vertical

Correct Marks : 2 Wrong Marks : 0

The expansion of SANKALP is,

- (1) Sanskrit Awareness and Knowledge Acquisition of Language Programme
- (2) Skills Acquisition and Karatae Awareness for Livelihood Promotion
- (3) Skills Acquisition and Knowledge Awareness for Livelihood Promotion
- (4) Sanskrit Awareness and Knowledge Acquisition for Livelihood Promotion

Options :

64635090331. 1  
64635090332. 2  
64635090333. 3  
64635090334. 4

Question Number : 49 Question Id : 64635023014 Question Type : MCQ Option Shuffling : No Display Question Number : Yes  
Single Line Question Option : No Option Orientation : Vertical

Correct Marks : 2 Wrong Marks : 0

SANKALP का विस्तार है

- (1) संस्कृत अवेयरनेस एण्ड नॉलिज एक्विजीशन ऑफ लेंग्वेज प्रोग्राम
- (2) स्किल्स, एक्विजीशन एण्ड कराटे अवेयरनेस फोर लाइवलीहुड प्रोमोशन
- (3) स्किल्स, एक्विजीशन एण्ड नोलेज अवेयरनेस फोर लाइवलीहुड प्रोमोशन
- (4) संस्कृत अवेयरनेस एण्ड नोलिज एक्विजीशन फोर लाइवलीहुड प्रोमोशन

Options :

64635090331. 1
64635090332. 2
64635090333. 3
64635090334. 4

Question Number : 50 Question Id : 64635023015 Question Type : MCQ Option Shuffling : No Display Question Number : Yes  
Single Line Question Option : No Option Orientation : Vertical

Correct Marks : 2 Wrong Marks : 0

Which of the following statements best explains the concept of sustainable development?

- (1) Use of natural resources minimally
- (2) Use of natural resources for our benefit
- (3) Use of natural resources judiciously so that they are available for future generations
- (4) Preserve our natural resources for our future generation

Options :

64635090335. 1
64635090336. 2
64635090337. 3
64635090338. 4

Question Number : 50 Question Id : 64635023015 Question Type : MCQ Option Shuffling : No Display Question Number : Yes  
Single Line Question Option : No Option Orientation : Vertical

Correct Marks : 2 Wrong Marks : 0

निम्नलिखित में से कौन-सा कथन सतत विकास को श्रेष्ठ रूप से व्याख्यायित करता है?

- (1) प्राकृतिक संसाधनों का न्यूनतम उपयोग
- (2) प्राकृतिक संसाधनों का अपने लाभ के लिए उपयोग
- (3) प्राकृतिक संसाधनों का न्यायपूर्ण उपयोग जिससे कि वे भविष्य की पीढ़ियों के लिए उपलब्ध रहें।
- (4) अपने प्राकृतिक संसाधनों को भविष्य की अपनी पीढ़ियों के लिए संरक्षित करना।

**Options :**

64635090335. 1

64635090336. 2

64635090337. 3

64635090338. 4

PART II Anthropology

<b>Section Id :</b>	646350476
<b>Section Number :</b>	2
<b>Section type :</b>	Online
<b>Mandatory or Optional:</b>	Mandatory
<b>Number of Questions:</b>	96
<b>Number of Questions to be attempted:</b>	96
<b>Section Marks:</b>	200
<b>Display Number Panel:</b>	Yes
<b>Group All Questions:</b>	No

<b>Sub-Section Number:</b>	1
<b>Sub-Section Id:</b>	6463501138
<b>Question Shuffling Allowed :</b>	Yes

Question Number : 51 Question Id : 64635023016 Question Type : MCQ Option Shuffling : No Display Question Number : Yes  
Single Line Question Option : No Option Orientation : Vertical  
Correct Marks : 2 Wrong Marks : 0



What is the major difference between schedule and questionnaire?

1. Schedule is a list of questions but questionnaire is not a list of questions
2. Schedule is filled-in by the researcher but questionnaire is filled-in by the informant
3. Questionnaire is filled-in by the researcher but schedule is filled-in by the informant
4. Both schedule and questionnaire are same and there is no difference between them

Options :

64635090339. 1  
64635090340. 2  
64635090341. 3  
64635090342. 4

Question Number : 51 Question Id : 64635023016 Question Type : MCQ Option Shuffling : No Display Question Number : Yes  
Single Line Question Option : No Option Orientation : Vertical

Correct Marks : 2 Wrong Marks : 0

अनुसूची (शेड्यूल) और प्रश्नावली में प्रमुख अंतर क्या है?

1. अनुसूची प्रश्नों की सूची है, परन्तु प्रश्नावली प्रश्नों की सूची नहीं है
2. अनुसूची शोधकर्ताओं द्वारा भरी जाती है, परन्तु प्रश्नावली सूचनादाता द्वारा भरी जाती है
3. प्रश्नावली शोधकर्ताओं द्वारा भरी जाती है, परन्तु अनुसूची सूचनादाता द्वारा भरी जाती है
4. अनुसूची (शेड्यूल) और प्रश्नावली एक ही है और उनमें कोई भेद नहीं है

Options :

64635090339. 1  
64635090340. 2  
64635090341. 3  
64635090342. 4

Question Number : 52 Question Id : 64635023017 Question Type : MCQ Option Shuffling : No Display Question Number : Yes  
Single Line Question Option : No Option Orientation : Vertical

Correct Marks : 2 Wrong Marks : 0

Chi-square test was originally developed by

1. W. S. Gossett
2. A. R. Fisher
3. B. Pascal
4. K. Pearson

Options :

64635090343. 1  
64635090344. 2  
64635090345. 3  
64635090346. 4

Question Number : 52 Question Id : 64635023017 Question Type : MCQ Option Shuffling : No Display Question Number : Yes  
Single Line Question Option : No Option Orientation : Vertical

Correct Marks : 2 Wrong Marks : 0

काई-स्केयर परीक्षण की संकल्पना मूलतः किसके द्वारा विकसित की गई थी?

1. डब्ल्यू एस गोसेट
2. ए. आर. फिशर
3. बी. पास्कल
4. के. पीयर्सन

Options :

64635090343. 1  
64635090344. 2  
64635090345. 3  
64635090346. 4

Question Number : 53 Question Id : 64635023018 Question Type : MCQ Option Shuffling : No Display Question Number : Yes  
Single Line Question Option : No Option Orientation : Vertical

Correct Marks : 2 Wrong Marks : 0



Which of the following are key indicators of archaeological sites?

- (a) Surface finds of artifacts
- (b) Accidental discoveries of sites while ploughing and road making
- (c) Soil discolourations and vegetational cover
- (d) Conspicuous earthworks, stone ruins or other surface features

Choose the correct answer using the options given below :

1. (a), (b), (c) and (d) are correct
2. (a), (b) and (c) are correct
3. (a), (c) and (d) are correct
4. (a), (b) and (d) are correct

**Options :**

64635090347. 1

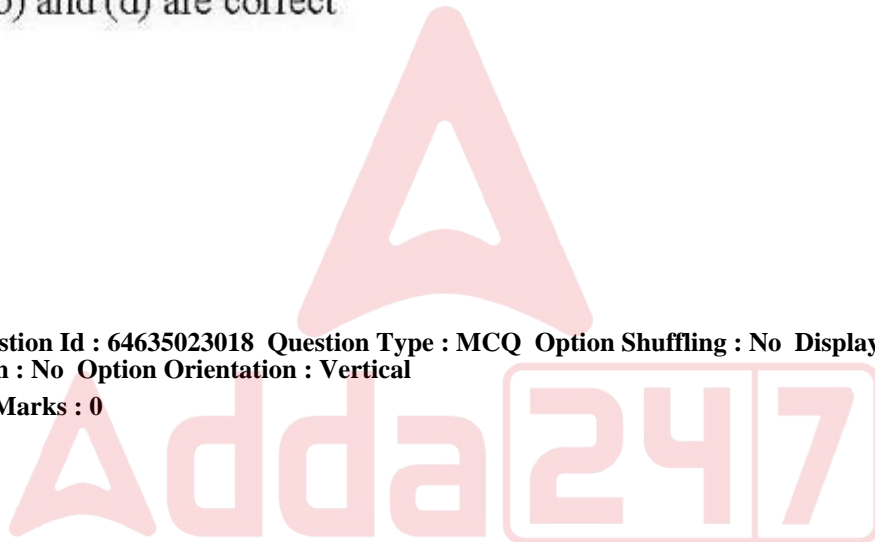
64635090348. 2

64635090349. 3

64635090350. 4

**Question Number : 53 Question Id : 64635023018 Question Type : MCQ Option Shuffling : No Display Question Number : Yes  
Single Line Question Option : No Option Orientation : Vertical**

**Correct Marks : 2 Wrong Marks : 0**



निम्नलिखित में से कौन-से पुरातात्विक स्थलों के मुख्य संकेतक हैं?

- (a) कलाकृतियों के सतह जाँच परिणाम
- (b) खेत जुताई और सड़क निर्माण के दौरान स्थलों का अचानक पता चलना
- (c) मृदा का विरंजन और वानस्पतिक आच्छादन
- (d) सहजदृश्य गढ़बंदी, प्रस्तर अवशेष अथवा अन्य सतह संबंधी विशेषताएँ

नीचे दिए गए विकल्पों का प्रयोग कर सही उत्तर दीजिए :

- 1. (a), (b), (c) और (d) सही हैं
- 2. (a), (b) और (c) सही हैं
- 3. (a), (c) और (d) सही हैं
- 4. (a), (b) और (d) सही हैं

Options :

- 64635090347. 1
- 64635090348. 2
- 64635090349. 3
- 64635090350. 4

Question Number : 54 Question Id : 64635023019 Question Type : MCQ Option Shuffling : No Display Question Number : Yes  
Single Line Question Option : No Option Orientation : Vertical

Correct Marks : 2 Wrong Marks : 0

Which of the following living apes is genetically closest to humans?

- 1. Gorilla
- 2. Chimpanzee
- 3. Gibbon
- 4. Orangutan

Options :

- 64635090351. 1
- 64635090352. 2
- 64635090353. 3
- 64635090354. 4

Question Number : 54 Question Id : 64635023019 Question Type : MCQ Option Shuffling : No Display Question Number : Yes  
Single Line Question Option : No Option Orientation : Vertical

Correct Marks : 2 Wrong Marks : 0

निम्नलिखित में से कौन-सा विद्यमान कपि आनुवंशिक रूप से मनुष्य के सर्वाधिक निकट है?

1. गोरिल्ला
2. चिम्पैंजी
3. ऊलक (गिब्वन)
4. ओरांगऊटन

Options :

64635090351. 1  
64635090352. 2  
64635090353. 3  
64635090354. 4

Question Number : 55 Question Id : 64635023020 Question Type : MCQ Option Shuffling : No Display Question Number : Yes  
Single Line Question Option : No Option Orientation : Vertical

Correct Marks : 2 Wrong Marks : 0

What is the term used for the opening in the base of the skull through which the spinal cord passes?

1. Foramen magnum
2. Mental foramen
3. Optical foramen
4. Orbital foramen

Options :

64635090355. 1  
64635090356. 2  
64635090357. 3  
64635090358. 4

Question Number : 55 Question Id : 64635023020 Question Type : MCQ Option Shuffling : No Display Question Number : Yes  
Single Line Question Option : No Option Orientation : Vertical

Correct Marks : 2 Wrong Marks : 0

खोपड़ी के आधार क्षेत्र का विवर जिससे होकर मेरूरज्जु (स्पाइनल कॉर्ड) गुजरती है, को क्या कहा जाता है?

1. रंध मेग्रम
2. मानसिक रंध
3. ऑप्टिकल रंध
4. नेत्रगुहा (ऑर्बिटल) रंध

Options :

64635090355. 1

64635090356. 2

64635090357. 3

64635090358. 4

Question Number : 56 Question Id : 64635023021 Question Type : MCQ Option Shuffling : No Display Question Number : Yes  
Single Line Question Option : No Option Orientation : Vertical

Correct Marks : 2 Wrong Marks : 0

Who among the following is called the 'Nutmacker Man'?

1. *Homo habilis*
2. *Australopithecus afarensis*
3. *Orrorin tugenensis*
4. *Paranthropus boisei*

Options :

64635090359. 1

64635090360. 2

64635090361. 3

64635090362. 4

Question Number : 56 Question Id : 64635023021 Question Type : MCQ Option Shuffling : No Display Question Number : Yes  
Single Line Question Option : No Option Orientation : Vertical

Correct Marks : 2 Wrong Marks : 0

निम्नलिखित में से किसे 'नटक्रैकर मैन' कहा जाता है?

1. होमो हेबिलिस
2. ऑस्ट्रालोपिथिकस अफेरेन्सिस
3. ओरोरिन ट्यूजेनेसिस
4. पेरेंथ्रोपस बोइस

Options :

64635090359. 1

64635090360. 2

64635090361. 3

64635090362. 4

Question Number : 57 Question Id : 64635023022 Question Type : MCQ Option Shuffling : No Display Question Number : Yes  
Single Line Question Option : No Option Orientation : Vertical

Correct Marks : 2 Wrong Marks : 0

A model, involving a recent origin of most human characteristics in Africa, but also inter-breeding with archaic populations inside or outside Africa is called

1. Wolpoff replacement model
2. Leaky replacement model
3. Chopra replacement model
4. Jurmain replacement model

Options :

64635090363. 1  
64635090364. 2  
64635090365. 3  
64635090366. 4

Question Number : 57 Question Id : 64635023022 Question Type : MCQ Option Shuffling : No Display Question Number : Yes  
Single Line Question Option : No Option Orientation : Vertical

Correct Marks : 2 Wrong Marks : 0

एक मॉडल जिसमें अफ्रीका में सर्वाधिक मानव विशेषताओं वाले हाल में हुआ मानव विकास सन्निहित है परन्तु जिसमें अफ्रीका के अंदर अथवा बाहर की पुरातन जनसंख्या के साथ संकरण भी हुआ, कहलाता है

1. वोल्पोफ़ प्रतिस्थापन मॉडल
2. लीके प्रतिस्थापन मॉडल
3. चोपड़ा प्रतिस्थापन मॉडल
4. जुरमेन प्रतिस्थापन मॉडल

Options :

64635090363. 1  
64635090364. 2  
64635090365. 3  
64635090366. 4

Question Number : 58 Question Id : 64635023023 Question Type : MCQ Option Shuffling : No Display Question Number : Yes  
Single Line Question Option : No Option Orientation : Vertical

Correct Marks : 2 Wrong Marks : 0

Which of the following African monkey has a sacculated stomach?

1. Colobus monkey
2. Langur
3. Leaf monkey
4. Macaque

**Options :**

- 64635090367. 1
- 64635090368. 2
- 64635090369. 3
- 64635090370. 4

**Question Number : 58 Question Id : 64635023023 Question Type : MCQ Option Shuffling : No Display Question Number : Yes Single Line Question Option : No Option Orientation : Vertical**

**Correct Marks : 2 Wrong Marks : 0**

निम्नलिखित में से किस अफ्रीकी बंदर का पेट थैलाकार (सेकुलेटेड) होता है?

- 1. कोलोबस मंकी
- 2. लंगूर
- 3. लीफ मंकी
- 4. मकाक

**Options :**

- 64635090367. 1
- 64635090368. 2
- 64635090369. 3
- 64635090370. 4

**Question Number : 59 Question Id : 64635023024 Question Type : MCQ Option Shuffling : No Display Question Number : Yes Single Line Question Option : No Option Orientation : Vertical**

**Correct Marks : 2 Wrong Marks : 0**

Who said 'nothing in biology makes sense except in the light of evolution'?

- 1. Wallace
- 2. Dobzhansky
- 3. Darwin
- 4. Bodmer

**Options :**

- 64635090371. 1
- 64635090372. 2
- 64635090373. 3
- 64635090374. 4

**Question Number : 59 Question Id : 64635023024 Question Type : MCQ Option Shuffling : No Display Question Number : Yes Single Line Question Option : No Option Orientation : Vertical**

**Correct Marks : 2 Wrong Marks : 0**



किसने कहा था, 'उद्भव के संदर्भ को छोड़कर जीवविज्ञान में किसी चीज का कोई अर्थ नहीं है'?

1. वालेस
2. डोबजेस्की
3. डार्विन
4. बोडमेर

Options :

64635090371. 1  
64635090372. 2  
64635090373. 3  
64635090374. 4

Question Number : 60 Question Id : 64635023025 Question Type : MCQ Option Shuffling : No Display Question Number : Yes  
Single Line Question Option : No Option Orientation : Vertical

Correct Marks : 2 Wrong Marks : 0

Who among the following has mentioned that Australoids are widely distributed in India in his ethnic classification of the Indian population?

1. S. S. Sarkar
2. A. C. Haddon
3. B. S. Guha
4. H. H. Risley

Options :

64635090375. 1  
64635090376. 2  
64635090377. 3  
64635090378. 4

Question Number : 60 Question Id : 64635023025 Question Type : MCQ Option Shuffling : No Display Question Number : Yes  
Single Line Question Option : No Option Orientation : Vertical

Correct Marks : 2 Wrong Marks : 0

इनमें से भारतीय जनसंख्या के अपने नृजातीय वर्गीकरण में किसने यह उल्लेख किया है कि 'ऑस्ट्रेलॉयड्स' भारत में व्यापक रूप से फैले हैं?

1. एस. एस. सरकार
2. ए. सी. हेडन
3. बी. एस. गुहा
4. एच. एच. रिस्ले

**Options :**

- 64635090375. 1
- 64635090376. 2
- 64635090377. 3
- 64635090378. 4

**Question Number : 61 Question Id : 64635023026 Question Type : MCQ Option Shuffling : No Display Question Number : Yes Single Line Question Option : No Option Orientation : Vertical**

**Correct Marks : 2 Wrong Marks : 0**

Which molecule serves to destabilize the DNA helix in order to open it up, creating a replication fork?

- 1. Helicase
- 2. Ligase
- 3. Polymerase
- 4. Gyrase

**Options :**

- 64635090379. 1
- 64635090380. 2
- 64635090381. 3
- 64635090382. 4

**Question Number : 61 Question Id : 64635023026 Question Type : MCQ Option Shuffling : No Display Question Number : Yes Single Line Question Option : No Option Orientation : Vertical**

**Correct Marks : 2 Wrong Marks : 0**

निम्नलिखित में से कौन-सा अणु डी. एन. ए. कुण्डली को खोलने के उद्देश्य से उसे अस्थिर करता है व एक प्रतिकृति द्विशाखन का निर्माण करता है?

- 1. हेलिकेस
- 2. लाइगेज
- 3. पॉलीमरेज
- 4. गाइरेज

**Options :**

- 64635090379. 1
- 64635090380. 2
- 64635090381. 3
- 64635090382. 4

**Question Number : 62 Question Id : 64635023027 Question Type : MCQ Option Shuffling : No Display Question Number : Yes Single Line Question Option : No Option Orientation : Vertical**

**Correct Marks : 2 Wrong Marks : 0**

The sequence of one strand of DNA is 5' AGC TAG 3'. The sequence of complementary strand would be

1. 5' TCG ATC 3'
2. 5' CTA GCT 3'
3. 5' TCC ATC 3'
4. 5' GAT CGA 3'

Options :

64635090383. 1  
64635090384. 2  
64635090385. 3  
64635090386. 4

Question Number : 62 Question Id : 64635023027 Question Type : MCQ Option Shuffling : No Display Question Number : Yes  
Single Line Question Option : No Option Orientation : Vertical

Correct Marks : 2 Wrong Marks : 0

डी. एन. ए. के एक तंतु का क्रम 5' AGC TAG 3' है। पूरक तंतु का क्रम होगा

1. 5' TCG ATC 3'
2. 5' CTA GCT 3'
3. 5' TCC ATC 3'
4. 5' GAT CGA 3'

Options :

64635090383. 1  
64635090384. 2  
64635090385. 3  
64635090386. 4

Question Number : 63 Question Id : 64635023028 Question Type : MCQ Option Shuffling : No Display Question Number : Yes  
Single Line Question Option : No Option Orientation : Vertical

Correct Marks : 2 Wrong Marks : 0

Which of the following is true for 'Tented Arch'?

1. It is a dermatoglyphic arch found only in the sole.
2. It is a form of arch found on the finger of some persons.
3. It is an arch of hypothenar region of hand.
4. It is an arch of thenar region of hand.

Options :

64635090387. 1  
64635090388. 2  
64635090389. 3  
64635090390. 4

Question Number : 63 Question Id : 64635023028 Question Type : MCQ Option Shuffling : No Display Question Number : Yes  
Single Line Question Option : No Option Orientation : Vertical

Correct Marks : 2 Wrong Marks : 0

‘शिविरनुमा चाप (टेटेड आर्क)’ के संदर्भ में निम्नलिखित में से कौन-सा सही है?

1. यह डर्मेटोग्लाफिक आर्क है जो सिर्फ तलवा में पाया जाता है।
2. यह आर्क का एक रूप है जो कुछ व्यक्तियों की उंगली पर पाया जाता है।
3. यह हाथ के हाइपोथिनार क्षेत्र में पाया जाने वाला आर्क है।
4. यह हाथ के थिनार क्षेत्र में पाया जाने वाला आर्क है।

Options :

64635090387. 1  
64635090388. 2  
64635090389. 3  
64635090390. 4

Question Number : 64 Question Id : 64635023029 Question Type : MCQ Option Shuffling : No Display Question Number : Yes  
Single Line Question Option : No Option Orientation : Vertical

Correct Marks : 2 Wrong Marks : 0

Chargaff's rules state that in typical DNA

1.  $A = G$
2.  $A = C$
3.  $A + T = G + C$
4.  $A + G = T + C$

Options :

64635090391. 1  
64635090392. 2  
64635090393. 3  
64635090394. 4

Question Number : 64 Question Id : 64635023029 Question Type : MCQ Option Shuffling : No Display Question Number : Yes  
Single Line Question Option : No Option Orientation : Vertical

Correct Marks : 2 Wrong Marks : 0

चारगुण नियम के अनुसार, विशिष्ट डी. एन. ए. में \_\_\_\_ होता है।

1.  $A = G$
2.  $A = C$
3.  $A + T = G + C$
4.  $A + G = T + C$

Options :

64635090391. 1  
64635090392. 2  
64635090393. 3  
64635090394. 4

Question Number : 65 Question Id : 64635023030 Question Type : MCQ Option Shuffling : No Display Question Number : Yes  
Single Line Question Option : No Option Orientation : Vertical

Correct Marks : 2 Wrong Marks : 0

Which of the following is an example of autosomal recessive disorder?

1. Huntington chorea
2. Achondroplasia
3. Cystic fibrosis
4. Myotonic dystrophy

Options :

64635090395. 1  
64635090396. 2  
64635090397. 3  
64635090398. 4

Question Number : 65 Question Id : 64635023030 Question Type : MCQ Option Shuffling : No Display Question Number : Yes  
Single Line Question Option : No Option Orientation : Vertical

Correct Marks : 2 Wrong Marks : 0

निम्नलिखित में से कौन-सा 'ऑटोसोमल रिसेसिव डिस्ऑर्डर' का एक उदाहरण है?

1. हंटिंग्टन कोरिआ
2. अकोण्ड्रोप्लासिया
3. सीस्टिक फाइब्रोसिस
4. मायोटोनिक डाइस्ट्रोफी

Options :

64635090395. 1

64635090396. 2

64635090397. 3

64635090398. 4

Question Number : 66 Question Id : 64635023031 Question Type : MCQ Option Shuffling : No Display Question Number : Yes  
Single Line Question Option : No Option Orientation : Vertical

Correct Marks : 2 Wrong Marks : 0

Which of the following disorders are caused due to recessive autosomal mutation?

1. Turner's syndrome and Sickle cell anaemia
2. Edward's syndrome and Patau syndrome
3. Cystic fibrosis and Phenylketonuria
4. Alzheimer's disease and Huntington chorea

Options :

64635090399. 1

64635090400. 2

64635090401. 3

64635090402. 4

Question Number : 66 Question Id : 64635023031 Question Type : MCQ Option Shuffling : No Display Question Number : Yes  
Single Line Question Option : No Option Orientation : Vertical

Correct Marks : 2 Wrong Marks : 0

‘रिसेसिव ऑटोसोमल म्युटेशन’ की वजह से निम्नलिखित में से कौन-सा विकार उत्पन्न होता है?

1. टर्नर का सिंड्रोम और सिकल सेल एनेमिया
2. एडवार्ड का सिंड्रोम और पटॉउ सिंड्रोम
3. सिस्टिक फाइब्रोसिस और फिनाइलकेटोनुरिया
4. अलजाइमर का रोग और हंटिंग्टन कोरिआ

Options :

64635090399. 1

64635090400. 2

64635090401. 3

64635090402. 4

Question Number : 67 Question Id : 64635023032 Question Type : MCQ Option Shuffling : No Display Question Number : Yes  
Single Line Question Option : No Option Orientation : Vertical

Correct Marks : 2 Wrong Marks : 0

Barr bodies are seen in

1. germ cell of normal human female
2. germ cell of normal human male
3. somatic cells of normal human female
4. somatic cells of normal human male

Options :

64635090403. 1  
64635090404. 2  
64635090405. 3  
64635090406. 4

Question Number : 67 Question Id : 64635023032 Question Type : MCQ Option Shuffling : No Display Question Number : Yes  
Single Line Question Option : No Option Orientation : Vertical

Correct Marks : 2 Wrong Marks : 0

‘बार बॉडीज’ निम्नलिखित में से किसमें पाए जाते हैं?

1. ‘नॉर्मल ह्यूमन फीमेल’ की जनन कोशिका में
2. ‘नॉर्मल ह्यूमन मेल’ की जनन कोशिका में
3. ‘नॉर्मल ह्यूमन फीमेल’ की कायिक कोशिका में
4. ‘नॉर्मल ह्यूमन मेल’ की कायिक कोशिका में

Options :

64635090403. 1  
64635090404. 2  
64635090405. 3  
64635090406. 4

Question Number : 68 Question Id : 64635023033 Question Type : MCQ Option Shuffling : No Display Question Number : Yes  
Single Line Question Option : No Option Orientation : Vertical

Correct Marks : 2 Wrong Marks : 0

When the human genome draft sequence was released, which of the following observations was least expected?

1. A larger amount of repetitive DNA
2. The size of individual chromosomes
3. A small number of protein coding genes
4. The size of total genome

Options :

64635090407. 1  
64635090408. 2  
64635090409. 3  
64635090410. 4

Question Number : 68 Question Id : 64635023033 Question Type : MCQ Option Shuffling : No Display Question Number : Yes  
Single Line Question Option : No Option Orientation : Vertical

Correct Marks : 2 Wrong Marks : 0

जब ह्यूमन जीनोम ड्राफ्ट सीक्वेंस निर्मुक्त हुआ तो निम्नलिखित में से किस प्रेक्षण की सर्वाधिक कम उम्मीद थी?

1. आवृत्तीय डी. एन. ए. की अधिक बड़ी मात्रा
2. क्रोमोजोम का आकार
3. प्रोटीन कोडिंग जीनों की कम संख्या
4. कुल जीनोम का आकार

Options :

64635090407. 1  
64635090408. 2  
64635090409. 3  
64635090410. 4

Question Number : 69 Question Id : 64635023034 Question Type : MCQ Option Shuffling : No Display Question Number : Yes  
Single Line Question Option : No Option Orientation : Vertical

Correct Marks : 2 Wrong Marks : 0

A mutation changing an amino acid codon into a termination codon is termed as :

1. Nonsense
2. Missense
3. Conservative
4. Nonconservative

Options :

64635090411. 1  
64635090412. 2  
64635090413. 3  
64635090414. 4

Question Number : 69 Question Id : 64635023034 Question Type : MCQ Option Shuffling : No Display Question Number : Yes  
Single Line Question Option : No Option Orientation : Vertical

Correct Marks : 2 Wrong Marks : 0



उत्परिवर्तन, जिसमें एक अमीनो एसिड कोडोन टर्मिनेशन कोडोन में परिवर्तित हो जाता है, कहलाता है :

1. नॉनसेंस
2. मिससेंस
3. कंजर्वेटिव
4. नॉनकंजर्वेटिव

Options :

64635090411. 1  
64635090412. 2  
64635090413. 3  
64635090414. 4

Question Number : 70 Question Id : 64635023035 Question Type : MCQ Option Shuffling : No Display Question Number : Yes  
Single Line Question Option : No Option Orientation : Vertical

Correct Marks : 2 Wrong Marks : 0

Most hormones of the endocrine system are regulated by which of the following?

1. Negative feedback mechanism
2. Positive feedback mechanism
3. Hormone-receptor complex
4. Hormone-gene complex

Options :

64635090415. 1  
64635090416. 2  
64635090417. 3  
64635090418. 4

Question Number : 70 Question Id : 64635023035 Question Type : MCQ Option Shuffling : No Display Question Number : Yes  
Single Line Question Option : No Option Orientation : Vertical

Correct Marks : 2 Wrong Marks : 0

अंतःस्रावी प्रणाली के सर्वाधिक हार्मोन निम्नलिखित में से किसके द्वारा विनियमित होते हैं ?

1. नकारात्मक फीडबैक तंत्र
2. सकारात्मक फीडबैक तंत्र
3. हॉर्मोन-रिसेप्टर कॉम्प्लेक्स
4. हॉर्मोन-जीन कॉम्प्लेक्स

Options :

64635090415. 1  
64635090416. 2  
64635090417. 3  
64635090418. 4

Question Number : 71 Question Id : 64635023036 Question Type : MCQ Option Shuffling : No Display Question Number : Yes  
Single Line Question Option : No Option Orientation : Vertical

Correct Marks : 2 Wrong Marks : 0

At what stage of human growth, the growth spurt is seen as a 'bump' in the height curve and a 'spike' in the height velocity curve?

1. Infancy
2. Juvenile
3. Adolescent
4. Adult

Options :

64635090419. 1  
64635090420. 2  
64635090421. 3  
64635090422. 4

Question Number : 71 Question Id : 64635023036 Question Type : MCQ Option Shuffling : No Display Question Number : Yes  
Single Line Question Option : No Option Orientation : Vertical

Correct Marks : 2 Wrong Marks : 0

मानव विकास के किस चरण में विकास के स्फुरण को ऊँचाई वक्र के 'उभार' के रूप में और ऊँचाई गति वक्र में 'उछाल' के रूप में देखा जाता है?

1. शैशव
2. किशोर
3. कैशोर्य
4. वयस्क

Options :

64635090419. 1  
64635090420. 2  
64635090421. 3  
64635090422. 4

Question Number : 72 Question Id : 64635023037 Question Type : MCQ Option Shuffling : No Display Question Number : Yes  
Single Line Question Option : No Option Orientation : Vertical

Correct Marks : 2 Wrong Marks : 0

Folic acid deficiency leads to :

1. Pernicious anaemia
2. Sickle-cell anaemia
3. Iron-deficiency anaemia
4. Megaloblastic anaemia

Options :

64635090423. 1  
64635090424. 2  
64635090425. 3  
64635090426. 4

Question Number : 72 Question Id : 64635023037 Question Type : MCQ Option Shuffling : No Display Question Number : Yes  
Single Line Question Option : No Option Orientation : Vertical

Correct Marks : 2 Wrong Marks : 0

फोलिक एसिड की कमी से क्या होता है?

1. घातक एनीमिया
2. हॉसिया-कोशिका एनीमिया
3. लौह-कमी वाला एनीमिया
4. मेगैलोब्लास्टिक एनीमिया

Options :

64635090423. 1  
64635090424. 2  
64635090425. 3  
64635090426. 4

Question Number : 73 Question Id : 64635023038 Question Type : MCQ Option Shuffling : No Display Question Number : Yes  
Single Line Question Option : No Option Orientation : Vertical

Correct Marks : 2 Wrong Marks : 0

Marasmus is due to :

1. Vitamin-A deficiency
2. Vitamin-C deficiency
3. Protein-energy malnutrition
4. Vitamin-D deficiency

**Options :**

- 64635090427. 1
- 64635090428. 2
- 64635090429. 3
- 64635090430. 4

**Question Number : 73 Question Id : 64635023038 Question Type : MCQ Option Shuffling : No Display Question Number : Yes Single Line Question Option : No Option Orientation : Vertical**

**Correct Marks : 2 Wrong Marks : 0**

मैरास्मस किस कारण से होता है?

1. विटामिन-A की कमी से
2. विटामिन-C की कमी से
3. प्रोटीन-ऊर्जा कुपोषण से
4. विटामिन-D की कमी से

**Options :**

- 64635090427. 1
- 64635090428. 2
- 64635090429. 3
- 64635090430. 4

**Question Number : 74 Question Id : 64635023039 Question Type : MCQ Option Shuffling : No Display Question Number : Yes Single Line Question Option : No Option Orientation : Vertical**

**Correct Marks : 2 Wrong Marks : 0**

Which one of the following does NOT include in 'somatotype'?

1. Relative degree of adiposity of the body
2. Relative mass of the body
3. Relative musculo-skeletal development of the body
4. Relative slenderness of the body

**Options :**

- 64635090431. 1
- 64635090432. 2
- 64635090433. 3
- 64635090434. 4

**Question Number : 74 Question Id : 64635023039 Question Type : MCQ Option Shuffling : No Display Question Number : Yes Single Line Question Option : No Option Orientation : Vertical**

**Correct Marks : 2 Wrong Marks : 0**

निम्नलिखित में से कौन-सा 'सोमेटोटाइप' में शामिल नहीं है?

1. शरीर की स्थूलकायिकता की सापेक्ष मात्रा
2. शरीर का सापेक्ष मास
3. शरीर का सापेक्ष विकास
4. शरीर का सापेक्ष छरहरापन

Options :

64635090431. 1
64635090432. 2
64635090433. 3
64635090434. 4

Question Number : 75 Question Id : 64635023040 Question Type : MCQ Option Shuffling : No Display Question Number : Yes  
Single Line Question Option : No Option Orientation : Vertical

Correct Marks : 2 Wrong Marks : 0

Which of the following refers to nuptiality?

1. Death
2. Birth
3. Marriage
4. Fertility

Options :

64635090435. 1
64635090436. 2
64635090437. 3
64635090438. 4

Question Number : 75 Question Id : 64635023040 Question Type : MCQ Option Shuffling : No Display Question Number : Yes  
Single Line Question Option : No Option Orientation : Vertical

Correct Marks : 2 Wrong Marks : 0

निम्न में से कौन-सा विवाह दर की ओर संकेत करता है?

1. मृत्यु
2. जन्म
3. विवाह
4. प्रजननता

Options :

64635090435. 1

64635090436. 2

64635090437. 3

64635090438. 4

Question Number : 76 Question Id : 64635023041 Question Type : MCQ Option Shuffling : No Display Question Number : Yes  
Single Line Question Option : No Option Orientation : Vertical

Correct Marks : 2 Wrong Marks : 0

Laurel and Willow leaf points are hallmarks of

1. Solutrean
2. Aurignacian
3. Perigordian
4. Acheulian

Options :

64635090439. 1

64635090440. 2

64635090441. 3

64635090442. 4

Question Number : 76 Question Id : 64635023041 Question Type : MCQ Option Shuffling : No Display Question Number : Yes  
Single Line Question Option : No Option Orientation : Vertical

Correct Marks : 2 Wrong Marks : 0

लॉरेल और विलो लीफ प्वाइंट किसके प्रामाणिकता चिह्न हैं?

1. सोलूट्रीयन
2. ऑरिगनेसियन
3. पेरीगॉरडियन
4. ऐक्यूलियन

Options :

64635090439. 1

64635090440. 2

64635090441. 3

64635090442. 4

Question Number : 77 Question Id : 64635023042 Question Type : MCQ Option Shuffling : No Display Question Number : Yes  
Single Line Question Option : No Option Orientation : Vertical

Correct Marks : 2 Wrong Marks : 0

Which of the following is a theoretical line to demonstrate a technological difference between the early prehistoric tool technologies of the East and the West of the old world?

1. Wallace line
2. Mac Mohan line
3. Nazca line
4. Movious line

**Options :**

64635090443. 1

64635090444. 2

64635090445. 3

64635090446. 4

**Question Number : 77 Question Id : 64635023042 Question Type : MCQ Option Shuffling : No Display Question Number : Yes Single Line Question Option : No Option Orientation : Vertical**

**Correct Marks : 2 Wrong Marks : 0**

प्राचीन विश्व के पूर्व और पश्चात्य की प्रारंभिक प्रागैतिहासिक साधन प्रौद्योगिकियों के मध्य प्रौद्योगिकीय अंतर को प्रदर्शित करने हेतु सैद्धांतिक लाइन कौन-सी है?

1. वॉलेस लाइन
2. मैकमोहन लाइन
3. नाज़का लाइन
4. मोवियस लाइन

**Options :**

64635090443. 1

64635090444. 2

64635090445. 3

64635090446. 4

**Question Number : 78 Question Id : 64635023043 Question Type : MCQ Option Shuffling : No Display Question Number : Yes Single Line Question Option : No Option Orientation : Vertical**

**Correct Marks : 2 Wrong Marks : 0**

Which of the following deposits is suitable for Potassium-Argon dating?

1. Volcanic
2. Glacial
3. Pluvial
4. Seismic

**Options :**

64635090447. 1  
64635090448. 2  
64635090449. 3  
64635090450. 4

**Question Number : 78 Question Id : 64635023043 Question Type : MCQ Option Shuffling : No Display Question Number : Yes  
Single Line Question Option : No Option Orientation : Vertical**

**Correct Marks : 2 Wrong Marks : 0**

निम्न में से कौन-सा भंडार पोटेशियम-आर्गन डेटिंग के लिए उपयुक्त है?

1. ज्वालामुखीय
2. ग्लेशियल
3. आर्द्रकल्प
4. भूकंपीय

**Options :**

64635090447. 1  
64635090448. 2  
64635090449. 3  
64635090450. 4

**Question Number : 79 Question Id : 64635023044 Question Type : MCQ Option Shuffling : No Display Question Number : Yes  
Single Line Question Option : No Option Orientation : Vertical**

**Correct Marks : 2 Wrong Marks : 0**

Adda247



Middle Range Theory in archaeology is derived from which of the following methodological streams?

- (a) Ethnoarchaeology
- (b) Experimental archaeology
- (c) Settlement archaeology
- (d) Underwater archaeology

Choose the correct answer using the options given below :

1. (a) and (b) are correct
2. (b) and (c) are correct
3. (c) and (d) are correct
4. (a) and (d) are correct

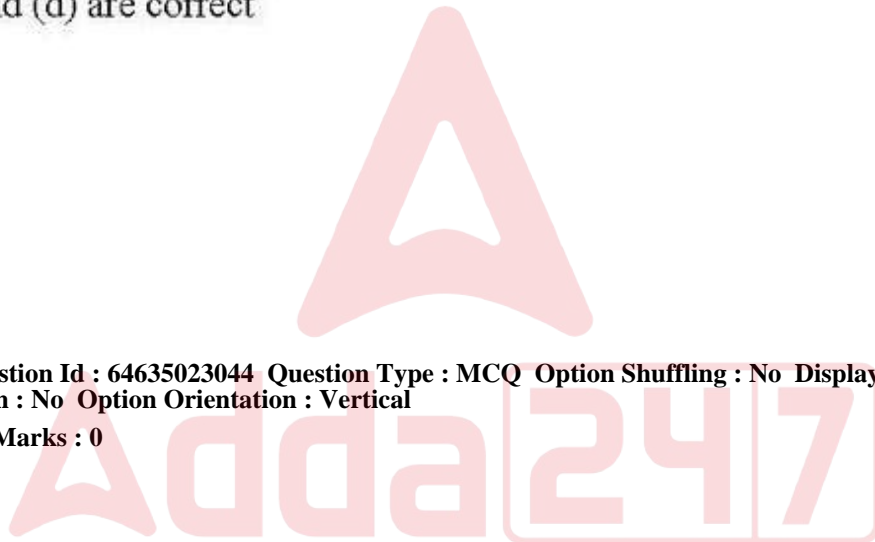
**Options :**

- 64635090451. 1
- 64635090452. 2
- 64635090453. 3
- 64635090454. 4

**Question Number : 79 Question Id : 64635023044 Question Type : MCQ Option Shuffling : No Display Question Number : Yes**

**Single Line Question Option : No Option Orientation : Vertical**

**Correct Marks : 2 Wrong Marks : 0**



पुरातत्त्वशास्त्र की मध्य परास अवधारणा निम्न में से किस प्रविधिपरक धाराओं से व्युत्पन्न है?

- (a) नृजातिपुरातत्त्वशास्त्र
- (b) प्रयोगात्मक पुरातत्त्वशास्त्र
- (c) स्थापन पुरातत्त्वशास्त्र
- (d) जलाधीन पुरातत्त्वशास्त्र

नीचे दिए गए विकल्पों का प्रयोग कर सही उत्तर दीजिए :

1. (a) और (b) सही हैं
2. (b) और (c) सही हैं
3. (c) और (d) सही हैं
4. (a) और (d) सही हैं

Options :

- 64635090451. 1
- 64635090452. 2
- 64635090453. 3
- 64635090454. 4

Question Number : 80 Question Id : 64635023045 Question Type : MCQ Option Shuffling : No Display Question Number : Yes  
Single Line Question Option : No Option Orientation : Vertical

Correct Marks : 2 Wrong Marks : 0

Kitchen midden culture is so named because

1. It is associated with huge deposits of food waste in the form of shell bins
2. It includes typical transverse-edge arrowheads and broad-end axes
3. It was found in Baltic and North Sea coasts in Europe
4. Absence of decorative art work

Options :

- 64635090455. 1
- 64635090456. 2
- 64635090457. 3
- 64635090458. 4

Question Number : 80 Question Id : 64635023045 Question Type : MCQ Option Shuffling : No Display Question Number : Yes  
Single Line Question Option : No Option Orientation : Vertical

Correct Marks : 2 Wrong Marks : 0

किचन मिडन कल्चर का यह नाम इसलिए दिया गया है क्योंकि

1. यह शेल डिब्बों के रूप में खाने के कूड़े के बहुत बड़े भंडारों से संबद्ध है
2. इसमें ठेठ आड़ी धार वाले बाणाग्र और चौड़ी मुँह वाले कुल्हाड़े शामिल हैं
3. यह यूरोप के बाल्टिक और उत्तरी समुद्र के तटों पर पाया जाता है
4. सजावटी कलाकारी की अनुपस्थिति

Options :

- 64635090455. 1
- 64635090456. 2
- 64635090457. 3
- 64635090458. 4

Question Number : 81 Question Id : 64635023046 Question Type : MCQ Option Shuffling : No Display Question Number : Yes  
Single Line Question Option : No Option Orientation : Vertical

Correct Marks : 2 Wrong Marks : 0

Who authored the book *A Study of Archaeology*, considered the foremost critique of archaeologists' preoccupation with chronology?

1. Walter W. Taylor
2. Richard A. Gould
3. John E. Yellen
4. James Deetz

Options :

- 64635090459. 1
- 64635090460. 2
- 64635090461. 3
- 64635090462. 4

Question Number : 81 Question Id : 64635023046 Question Type : MCQ Option Shuffling : No Display Question Number : Yes  
Single Line Question Option : No Option Orientation : Vertical

Correct Marks : 2 Wrong Marks : 0

कालक्रम के साथ पुरातत्त्ववेत्ताओं के आग्रह की सबसे महत्वपूर्ण मीमांसा समझी जाने वाली किताब, 'पुरातत्त्वशास्त्र का एक अध्ययन' को किसने लिखा है?

1. वॉल्टर डब्ल्यू टेलर
2. रिचर्ड ए. गोल्ड
3. जॉन ई. येलन
4. जेम्स डीडज़

**Options :**

- 64635090459. 1
- 64635090460. 2
- 64635090461. 3
- 64635090462. 4

**Question Number : 82 Question Id : 64635023047 Question Type : MCQ Option Shuffling : No Display Question Number : Yes Single Line Question Option : No Option Orientation : Vertical**

**Correct Marks : 2 Wrong Marks : 0**

Which of the following prehistoric sites is situated in the state of West Bengal?

- 1. Maski
- 2. Piklihal
- 3. Birbhanpur
- 4. Nevasa

**Options :**

- 64635090463. 1
- 64635090464. 2
- 64635090465. 3
- 64635090466. 4

**Question Number : 82 Question Id : 64635023047 Question Type : MCQ Option Shuffling : No Display Question Number : Yes Single Line Question Option : No Option Orientation : Vertical**

**Correct Marks : 2 Wrong Marks : 0**

निम्न में से कौन-सा प्रागैतिहासिक स्थल पश्चिम बंगाल राज्य में स्थित है?

- 1. मास्की
- 2. पिकलीहाल
- 3. बीरभानपुर
- 4. नेवासा

**Options :**

- 64635090463. 1
- 64635090464. 2
- 64635090465. 3
- 64635090466. 4

**Question Number : 83 Question Id : 64635023048 Question Type : MCQ Option Shuffling : No Display Question Number : Yes Single Line Question Option : No Option Orientation : Vertical**

**Correct Marks : 2 Wrong Marks : 0**

Which of the following evidences is associated particularly with Burzahom site?

1. Direct evidence of the cereals grown
2. Spinning and weaving
3. Pit dwelling
4. Wheel made pottery

Options :

64635090467. 1  
64635090468. 2  
64635090469. 3  
64635090470. 4

Question Number : 83 Question Id : 64635023048 Question Type : MCQ Option Shuffling : No Display Question Number : Yes  
Single Line Question Option : No Option Orientation : Vertical

Correct Marks : 2 Wrong Marks : 0

निम्न में से कौन-से साक्ष्य को विशेष रूप से बुरज़ाहम स्थल से जोड़ा जाता है?

1. उगाए गए खाद्यान्नों का प्रत्यक्ष साक्ष्य
2. कातना और बुनना
3. गह्वर निवास
4. चाक पर बनाए गए मिट्टी के बर्तन

Options :

64635090467. 1  
64635090468. 2  
64635090469. 3  
64635090470. 4

Question Number : 84 Question Id : 64635023049 Question Type : MCQ Option Shuffling : No Display Question Number : Yes  
Single Line Question Option : No Option Orientation : Vertical

Correct Marks : 2 Wrong Marks : 0

Who coined the term 'Proto-Neolithic' to refer to the culture of the regions where microliths occurred with potsherds?

1. R. B. Foote
2. S. Piggott
3. H. D. Sankalia
4. M. Wheeler

**Options :**

- 64635090471. 1
- 64635090472. 2
- 64635090473. 3
- 64635090474. 4

**Question Number : 84 Question Id : 64635023049 Question Type : MCQ Option Shuffling : No Display Question Number : Yes Single Line Question Option : No Option Orientation : Vertical**

**Correct Marks : 2 Wrong Marks : 0**

जिन स्थलों पर सूक्ष्माश्म के साथ भांडों के टुकड़े मिले हैं उनकी संस्कृति की बात करने के लिए 'प्रोटो-नियोलिथिक' पद किसने गढ़ा?

- 1. आर. बी. फुट
- 2. एस. पिगॉट
- 3. एच. डी. संकालिया
- 4. एम. ह्वीलर

**Options :**

- 64635090471. 1
- 64635090472. 2
- 64635090473. 3
- 64635090474. 4

**Question Number : 85 Question Id : 64635023050 Question Type : MCQ Option Shuffling : No Display Question Number : Yes Single Line Question Option : No Option Orientation : Vertical**

**Correct Marks : 2 Wrong Marks : 0**

The effectiveness in protecting archaeological sites depends on

- 1. Amount of available funds
- 2. Number of archaeologists working on the sites
- 3. Importance of the sites
- 4. Public attitudes towards the past

**Options :**

- 64635090475. 1
- 64635090476. 2
- 64635090477. 3
- 64635090478. 4

**Question Number : 85 Question Id : 64635023050 Question Type : MCQ Option Shuffling : No Display Question Number : Yes Single Line Question Option : No Option Orientation : Vertical**

**Correct Marks : 2 Wrong Marks : 0**

पुरातत्त्व से संबंधित स्थलों के संरक्षण की प्रभावोत्पादकता किस पर निर्भर करती है?

1. उपलब्ध धनराशि पर
2. स्थलों पर काम कर रहे पुरातत्त्ववेत्ताओं की संख्या पर
3. स्थलों के महत्त्व पर
4. विगत के प्रति जनता के रवैये पर

**Options :**

64635090475. 1  
64635090476. 2  
64635090477. 3  
64635090478. 4

Question Number : 86 Question Id : 64635023051 Question Type : MCQ Option Shuffling : No Display Question Number : Yes  
Single Line Question Option : No Option Orientation : Vertical

Correct Marks : 2 Wrong Marks : 0

Uniformity is taken to be the hallmark of Indus Valley Civilization. Which of the following features are correct?

- (a) Fabric, shape and decoration of pottery
- (b) Terracotta cakes, weights, measures and figurines
- (c) Fortified township with underground drains and individual houses
- (d) Seals with regional motifs and scripts

Choose the correct answer using the options given below :

1. (a), (b) and (c) are correct
2. (b), (c) and (d) are correct
3. (a), (c) and (d) are correct
4. (a), (b), (c) and (d) are correct

**Options :**

64635090479. 1  
64635090480. 2  
64635090481. 3  
64635090482. 4

Question Number : 86 Question Id : 64635023051 Question Type : MCQ Option Shuffling : No Display Question Number : Yes  
Single Line Question Option : No Option Orientation : Vertical

Correct Marks : 2 Wrong Marks : 0

समरूपता को सिंधु घाटी सभ्यता की सबसे बड़ी विशेषता माना जाता है। निम्न में से कौन-सी विशेषता सही है?

- (a) मृदभांडों के आकार तथा सज्जा और बनावट
- (b) टेराकोटा केक, वजन, नाप और मृणमूर्तियां
- (c) भूमिगत नालियों और व्यक्तिगत घरों से आरक्षित नगर
- (d) क्षेत्रीय अनुकल्प रूढ़ियों और लिपियों वाली मुद्राएँ

नीचे दिए गए विकल्पों का प्रयोग कर सही उत्तर दीजिए :

- 1. (a), (b) और (c) सही हैं
- 2. (b), (c) और (d) सही हैं
- 3. (a), (c) और (d) सही हैं
- 4. (a), (b), (c) और (d) सही हैं

Options :

- 64635090479. 1
- 64635090480. 2
- 64635090481. 3
- 64635090482. 4

Question Number : 87 Question Id : 64635023052 Question Type : MCQ Option Shuffling : No Display Question Number : Yes  
Single Line Question Option : No Option Orientation : Vertical  
Correct Marks : 2 Wrong Marks : 0

The second urbanization in the Indian subcontinent is connected to

- 1. Beginning of Iron Age
- 2. Coming of Aryans
- 3. Development of highly specialized society
- 4. Urban character of Harappan culture

Options :

- 64635090483. 1
- 64635090484. 2
- 64635090485. 3
- 64635090486. 4

Question Number : 87 Question Id : 64635023052 Question Type : MCQ Option Shuffling : No Display Question Number : Yes  
Single Line Question Option : No Option Orientation : Vertical  
Correct Marks : 2 Wrong Marks : 0



भारतीय उपमहाद्वीप में दूसरा शहरीकरण किससे संबद्ध है?

1. लौह युग के प्रारंभ से
2. आर्यों के आगमन से
3. अत्यंत विशेषीकृत समाज के विकास से
4. हड़प्पा संस्कृति के शहरी लक्षण से

Options :

64635090483. 1  
64635090484. 2  
64635090485. 3  
64635090486. 4

Question Number : 88 Question Id : 64635023053 Question Type : MCQ Option Shuffling : No Display Question Number : Yes  
Single Line Question Option : No Option Orientation : Vertical

Correct Marks : 2 Wrong Marks : 0

One of the most important characteristics of Anthropology is

1. Study of human society
2. Focus on past cultures
3. Insistence on participant fieldwork
4. Description of various ways of life

Options :

64635090487. 1  
64635090488. 2  
64635090489. 3  
64635090490. 4

Question Number : 88 Question Id : 64635023053 Question Type : MCQ Option Shuffling : No Display Question Number : Yes  
Single Line Question Option : No Option Orientation : Vertical

Correct Marks : 2 Wrong Marks : 0

मानवविज्ञान की सबसे महत्वपूर्ण विशेषताओं में से एक है :

1. मानव समाज का अध्ययन
2. विगत की संस्कृतियों पर ध्यान
3. प्रतिभागी क्षेत्र कार्य पर ज़ोर देना
4. जीवन की विभिन्न शैलियों का वर्णन

Options :

64635090487. 1  
64635090488. 2  
64635090489. 3  
64635090490. 4

Question Number : 89 Question Id : 64635023054 Question Type : MCQ Option Shuffling : No Display Question Number : Yes  
Single Line Question Option : No Option Orientation : Vertical

Correct Marks : 2 Wrong Marks : 0

Arrange the descent groups mentioned below in increasing order of complexity

1. phratry–lineage–moiety–clan
2. lineage–clan–phratry–moiety
3. clan–lineage–moiety–phratry
4. clan–phratry–lineage–moiety

Options :

64635090491. 1  
64635090492. 2  
64635090493. 3  
64635090494. 4

Question Number : 89 Question Id : 64635023054 Question Type : MCQ Option Shuffling : No Display Question Number : Yes  
Single Line Question Option : No Option Orientation : Vertical

Correct Marks : 2 Wrong Marks : 0

निम्नलिखित वंशानुक्रम समूहों को जटिलता के आरोही क्रम में लगाइए :

1. फ़ैटरी–वंश–मोइटी–कुल
2. वंश–कुल–फ़ैटरी–मोइटी
3. कुल–वंश–मोइटी–फ़ैटरी
4. कुल–फ़ैटरी–वंश–मोइटी

Options :

64635090491. 1  
64635090492. 2  
64635090493. 3  
64635090494. 4

Question Number : 90 Question Id : 64635023055 Question Type : MCQ Option Shuffling : No Display Question Number : Yes  
Single Line Question Option : No Option Orientation : Vertical

Correct Marks : 2 Wrong Marks : 0

A married woman died. Her kin group replaced her with her sister as spouse for the widower. This custom is known as

1. levirate
2. sororate
3. bride service
4. bride wealth

Options :

- 64635090495. 1
- 64635090496. 2
- 64635090497. 3
- 64635090498. 4

Question Number : 90 Question Id : 64635023055 Question Type : MCQ Option Shuffling : No Display Question Number : Yes  
Single Line Question Option : No Option Orientation : Vertical

Correct Marks : 2 Wrong Marks : 0

एक विवाहित औरत का निधन हो गया। उसके संबंधी समूह ने उसकी बहन का विवाह उसके विधुर पति से कराकर उसकी जगह भर दी। यह रस्म क्या कहलाती है?

1. देवर विवाह
2. साली विवाह
3. वधू सेवा
4. वधू धन

Options :

- 64635090495. 1
- 64635090496. 2
- 64635090497. 3
- 64635090498. 4

Question Number : 91 Question Id : 64635023056 Question Type : MCQ Option Shuffling : No Display Question Number : Yes  
Single Line Question Option : No Option Orientation : Vertical

Correct Marks : 2 Wrong Marks : 0

Which of the following is the best tool to study kinship system?

1. Controlled observation
2. Structural interview
3. Genealogical methods
4. Questionnaire

**Options :**

- 64635090499. 1
- 64635090500. 2
- 64635090501. 3
- 64635090502. 4

**Question Number : 91 Question Id : 64635023056 Question Type : MCQ Option Shuffling : No Display Question Number : Yes Single Line Question Option : No Option Orientation : Vertical**

**Correct Marks : 2 Wrong Marks : 0**

निम्नलिखित में से कौन-सा साधन नातेदारी व्यवस्था के अध्ययन के लिए सर्वश्रेष्ठ है?

1. नियंत्रित प्रेक्षण
2. संरचनात्मक साक्षात्कार
3. वंशावली प्रणाली
4. प्रश्नावली

**Options :**

- 64635090499. 1
- 64635090500. 2
- 64635090501. 3
- 64635090502. 4

**Question Number : 92 Question Id : 64635023057 Question Type : MCQ Option Shuffling : No Display Question Number : Yes Single Line Question Option : No Option Orientation : Vertical**

**Correct Marks : 2 Wrong Marks : 0**

Who said, "Primitive law is the rule which curbs human inclinations thereby equating law with social obligation and social control."?

1. Bronislaw Malinowski
2. Paul Bohannan
3. Leopold Pospisil
4. McLendon

**Options :**

- 64635090503. 1
- 64635090504. 2
- 64635090505. 3
- 64635090506. 4

**Question Number : 92 Question Id : 64635023057 Question Type : MCQ Option Shuffling : No Display Question Number : Yes Single Line Question Option : No Option Orientation : Vertical**

**Correct Marks : 2 Wrong Marks : 0**

किसने कहा है कि 'आदिम कानून ऐसा नियम है जो मानव प्रवृत्ति को नियंत्रित करता है, और इस प्रकार वह कानून को सामाजिक दायित्व और सामाजिक नियंत्रण के समकक्ष ला देता है'?

1. ब्राउनिसलॉव मलिनोवस्की
2. पॉल बोहान्नन
3. लियोपोल्ड पोस्पिसिल
4. मैकलिन्नॉन

**Options :**

64635090503. 1  
64635090504. 2  
64635090505. 3  
64635090506. 4

**Question Number : 93 Question Id : 64635023058 Question Type : MCQ Option Shuffling : No Display Question Number : Yes Single Line Question Option : No Option Orientation : Vertical**

**Correct Marks : 2 Wrong Marks : 0**

Which of the following statements best describes power?

1. The ability based on the legitimacy of a set of norms which are fixed and sacred.
2. The ability of a person or social unit to influence the conduct and decision-making of another.
3. The ability to invoke supernatural conflict.
4. The ability of a person or group to be healthy.

**Options :**

64635090507. 1  
64635090508. 2  
64635090509. 3  
64635090510. 4

**Question Number : 93 Question Id : 64635023058 Question Type : MCQ Option Shuffling : No Display Question Number : Yes Single Line Question Option : No Option Orientation : Vertical**

**Correct Marks : 2 Wrong Marks : 0**

निम्नलिखित में से कौन-सा कथन शक्ति को श्रेष्ठ रूप में व्याख्यायित करता है?

1. स्थायी एवं पवित्र प्रतिमानों की वैधता पर आधारित योग्यता।
2. किसी व्यक्ति अथवा सामाजिक इकाई की दूसरे के निर्णय लेने की क्षमता और आचरण को प्रभावित करने की योग्यता।
3. पराप्राकृतिक संघर्ष को उत्पन्न करने की योग्यता।
4. किसी व्यक्ति अथवा समूह के स्वस्थ रहने की योग्यता।

Options :

64635090507. 1

64635090508. 2

64635090509. 3

64635090510. 4

Question Number : 94 Question Id : 64635023059 Question Type : MCQ Option Shuffling : No Display Question Number : Yes  
Single Line Question Option : No Option Orientation : Vertical

Correct Marks : 2 Wrong Marks : 0

An interpersonal supernatural force which can manifest in persons or things and which is transferable is known as

1. Anima
2. Mana
3. Fetish
4. Ghost

Options :

64635090511. 1

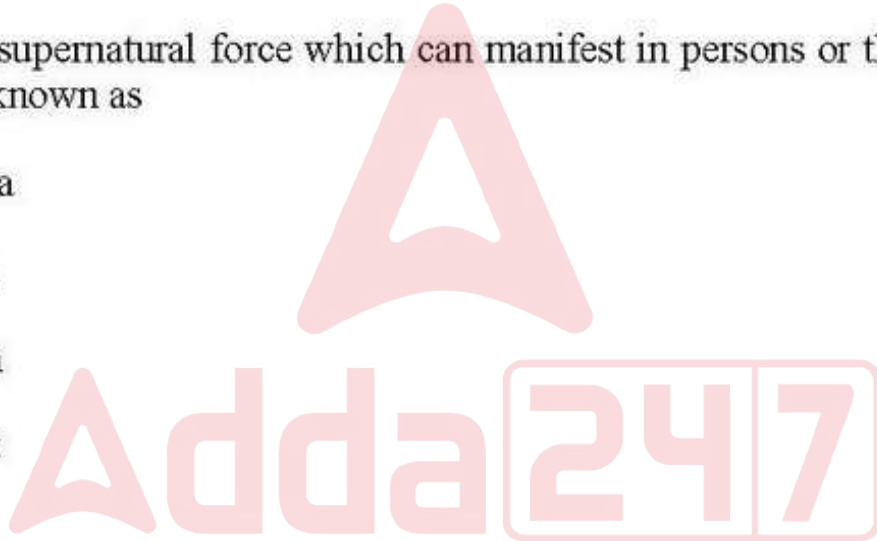
64635090512. 2

64635090513. 3

64635090514. 4

Question Number : 94 Question Id : 64635023059 Question Type : MCQ Option Shuffling : No Display Question Number : Yes  
Single Line Question Option : No Option Orientation : Vertical

Correct Marks : 2 Wrong Marks : 0



अलौकिक अन्तरवैयक्तिक शक्तियाँ जो व्यक्तियों और वस्तुओं में प्रकट होती हैं और जो अंतरणीय हैं, कहलाती हैं

1. प्राणतत्त्व
2. माना
3. फेटिश
4. भूत

**Options :**

64635090511. 1  
64635090512. 2  
64635090513. 3  
64635090514. 4

**Question Number : 95 Question Id : 64635023060 Question Type : MCQ Option Shuffling : No Display Question Number : Yes Single Line Question Option : No Option Orientation : Vertical**

**Correct Marks : 2 Wrong Marks : 0**

The practice whereby a man retires to rest after his wife has given birth, as if he himself has just gone through the labour of childbirth, is called

1. Couvade
2. Initiation rite
3. Birth taboo
4. Totemism

**Options :**

64635090515. 1  
64635090516. 2  
64635090517. 3  
64635090518. 4

**Question Number : 95 Question Id : 64635023060 Question Type : MCQ Option Shuffling : No Display Question Number : Yes Single Line Question Option : No Option Orientation : Vertical**

**Correct Marks : 2 Wrong Marks : 0**

ऐसी प्रथा जिसमें एक आदमी पत्नी द्वारा बच्चे को जन्म देने के पश्चात् स्वयं आराम करने चला जाता है जैसे कि उसने स्वयं बच्चे को जन्म दिया है, कहलाती है—

1. कुवाद
2. दीक्षा प्रथाएँ
3. जन्म वर्जना
4. टोटोमवाद

**Options :**

64635090515. 1  
64635090516. 2  
64635090517. 3  
64635090518. 4

**Question Number : 96 Question Id : 64635023061 Question Type : MCQ Option Shuffling : No Display Question Number : Yes Single Line Question Option : No Option Orientation : Vertical**

**Correct Marks : 2 Wrong Marks : 0**

Evolutionism was divided into general evolution and specific evolution by which of the following anthropologists?

1. Sahlins and Harris
2. Service and Steward
3. Sahlins and Service
4. Steward and White

**Options :**

64635090519. 1  
64635090520. 2  
64635090521. 3  
64635090522. 4

**Question Number : 96 Question Id : 64635023061 Question Type : MCQ Option Shuffling : No Display Question Number : Yes Single Line Question Option : No Option Orientation : Vertical**

**Correct Marks : 2 Wrong Marks : 0**



निम्नलिखित में से किस मानवविज्ञानी द्वारा विकासवाद को सामान्य विकास और विशिष्ट विकास में विभाजित किया गया था?

1. सेहलिंग और हैरिस
2. सर्विस और स्टेवार्ड
3. सेहलिंग और सर्विस
4. स्टेवार्ड और व्हाईट

Options :

64635090519. 1

64635090520. 2

64635090521. 3

64635090522. 4

Question Number : 97 Question Id : 64635023062 Question Type : MCQ Option Shuffling : No Display Question Number : Yes  
Single Line Question Option : No Option Orientation : Vertical

Correct Marks : 2 Wrong Marks : 0

What did M. Mead examine in her study among three New Guinea societies?

1. The impact of personality on culture
2. The impact of culture on personality
3. The environment and its impact on personality
4. The conditioning of the social personalities of the two sexes

Options :

64635090523. 1

64635090524. 2

64635090525. 3

64635090526. 4

Question Number : 97 Question Id : 64635023062 Question Type : MCQ Option Shuffling : No Display Question Number : Yes  
Single Line Question Option : No Option Orientation : Vertical

Correct Marks : 2 Wrong Marks : 0

अपने अध्ययन में एम. मीड ने न्यू गिनी के तीन समाजों में किसकी पड़ताल की?

1. संस्कृति पर व्यक्तित्व का प्रभाव
2. व्यक्तित्व पर संस्कृति का प्रभाव
3. पर्यावरण और व्यक्तित्व पर उसका प्रभाव
4. दोनों लिंगों के सामाजिक व्यक्तित्वों का अनुकूलन

**Options :**

- 64635090523. 1
- 64635090524. 2
- 64635090525. 3
- 64635090526. 4

**Question Number : 98 Question Id : 64635023063 Question Type : MCQ Option Shuffling : No Display Question Number : Yes Single Line Question Option : No Option Orientation : Vertical**

**Correct Marks : 2 Wrong Marks : 0**

Who among the following explained symbols as ‘means of social classification, which distinguish between various categories of objects, persons or actions and keep them separate’?

- 1. Clifford Geertz
- 2. Victor Turner
- 3. Raymond Firth
- 4. Mary Douglas

**Options :**

- 64635090527. 1
- 64635090528. 2
- 64635090529. 3
- 64635090530. 4

**Question Number : 98 Question Id : 64635023063 Question Type : MCQ Option Shuffling : No Display Question Number : Yes Single Line Question Option : No Option Orientation : Vertical**

**Correct Marks : 2 Wrong Marks : 0**

किसने प्रतीकों की ऐसी व्याख्या की है कि “प्रतीक ‘सामाजिक वर्गीकरण का माध्यम है जो वस्तुओं की विभिन्न श्रेणियों, व्यक्तियों अथवा अनुक्रियाओं के बीच अंतर करता है और उन्हें अलग रखता है”?

- 1. क्लिफोर्ड गीर्ज
- 2. विक्टर टर्नर
- 3. रेमंड फर्थ
- 4. मेरी डगलस

**Options :**

- 64635090527. 1
- 64635090528. 2
- 64635090529. 3
- 64635090530. 4

**Question Number : 99 Question Id : 64635023064 Question Type : MCQ Option Shuffling : No Display Question Number : Yes Single Line Question Option : No Option Orientation : Vertical**

**Correct Marks : 2 Wrong Marks : 0**

Who is the author of the path-breaking work in 1970, *Women in the Field : Anthropological Experiences*?

1. Laura Bohannan
2. Rosaline Wax
3. Louise Lamphere
4. Peggy Golde

**Options :**

64635090531. 1

64635090532. 2

64635090533. 3

64635090534. 4

**Question Number : 99 Question Id : 64635023064 Question Type : MCQ Option Shuffling : No Display Question Number : Yes Single Line Question Option : No Option Orientation : Vertical**

**Correct Marks : 2 Wrong Marks : 0**

1970 में पथप्रदर्शक कार्य 'वोमैन इन द फील्ड : एन्थ्रोपोलॉजिकल एक्सपेरीएन्सेस' के लेखक का नाम है

1. लौरा बोहान्न
2. रोजलीन वैक्स
3. लुईस लैम्फेयर
4. पैगी गोल्ड

**Options :**

64635090531. 1

64635090532. 2

64635090533. 3

64635090534. 4

**Question Number : 100 Question Id : 64635023065 Question Type : MCQ Option Shuffling : No Display Question Number : Yes Single Line Question Option : No Option Orientation : Vertical**

**Correct Marks : 2 Wrong Marks : 0**

Which of the following concepts has influenced L. P. Vidyarthi to formulate his concept of sacred complex?

1. Great and little tradition
2. Dominant caste
3. Sanskritization
4. Modernization

Options :

64635090535. 1  
64635090536. 2  
64635090537. 3  
64635090538. 4

Question Number : 100 Question Id : 64635023065 Question Type : MCQ Option Shuffling : No Display Question Number : Yes  
Single Line Question Option : No Option Orientation : Vertical

Correct Marks : 2 Wrong Marks : 0

एल. पी. विद्यार्थी की पवित्रता संकुल की निर्मिति निम्नलिखित में से किस अवधारणा से प्रभावित है?

1. महान और लघु परंपरा
2. प्रभुत्वशाली जाति
3. संस्कृतीकरण
4. आधुनिकीकरण

Options :

64635090535. 1  
64635090536. 2  
64635090537. 3  
64635090538. 4

Question Number : 101 Question Id : 64635023066 Question Type : MCQ Option Shuffling : No Display Question Number : Yes  
Single Line Question Option : No Option Orientation : Vertical

Correct Marks : 2 Wrong Marks : 0

Which kind of changes are associated with Sanskritization and Westernization?

1. Social structure
2. Culture
3. Economic
4. Political

**Options :**

- 64635090539. 1
- 64635090540. 2
- 64635090541. 3
- 64635090542. 4

**Question Number : 101 Question Id : 64635023066 Question Type : MCQ Option Shuffling : No Display Question Number : Yes Single Line Question Option : No Option Orientation : Vertical**

**Correct Marks : 2 Wrong Marks : 0**

किस प्रकार के परिवर्तनों का संबंध पश्चिमीकरण और संस्कृतीकरण से है?

- 1. सामाजिक संरचना
- 2. संस्कृति
- 3. आर्थिक
- 4. राजनीतिक

**Options :**

- 64635090539. 1
- 64635090540. 2
- 64635090541. 3
- 64635090542. 4

**Question Number : 102 Question Id : 64635023067 Question Type : MCQ Option Shuffling : No Display Question Number : Yes Single Line Question Option : No Option Orientation : Vertical**

**Correct Marks : 2 Wrong Marks : 0**

Who among the following has worked on 'tribe-caste continuum'?

- 1. T. C. Das
- 2. R. Redfield
- 3. S. Sinha
- 4. V. Elwin

**Options :**

- 64635090543. 1
- 64635090544. 2
- 64635090545. 3
- 64635090546. 4

**Question Number : 102 Question Id : 64635023067 Question Type : MCQ Option Shuffling : No Display Question Number : Yes Single Line Question Option : No Option Orientation : Vertical**

**Correct Marks : 2 Wrong Marks : 0**

इनमें से किसने 'जनजाति-जाति सांतत्यक' पर कार्य किया है?

1. टी. सी. दास
2. आर. रेडफील्ड
3. एस. सिन्हा
4. वी. एल्विन

Options :

64635090543. 1  
64635090544. 2  
64635090545. 3  
64635090546. 4

Question Number : 103 Question Id : 64635023068 Question Type : MCQ Option Shuffling : No Display Question Number : Yes  
Single Line Question Option : No Option Orientation : Vertical

Correct Marks : 2 Wrong Marks : 0

Who described tribal communities in India as 'Backward Hindus'?

1. G. S. Ghurye
2. Surajit C. Sinha
3. Nirmal Kumar Bose
4. Lalita Prasad Vidyarthi

Options :

64635090547. 1  
64635090548. 2  
64635090549. 3  
64635090550. 4

Question Number : 103 Question Id : 64635023068 Question Type : MCQ Option Shuffling : No Display Question Number : Yes  
Single Line Question Option : No Option Orientation : Vertical

Correct Marks : 2 Wrong Marks : 0

भारत में जनजातीय समुदायों को 'पिछड़े हुए हिन्दुओं' के रूप में किसने व्याख्यायित किया है?

1. जी. एस. घुर्ये
2. सुरजीत सी. सिन्हा
3. निर्मल कुमार बोस
4. ललिता प्रसाद विद्यार्थी

Options :

64635090547. 1

64635090548. 2

64635090549. 3

64635090550. 4

Question Number : 104 Question Id : 64635023069 Question Type : MCQ Option Shuffling : No Display Question Number : Yes  
Single Line Question Option : No Option Orientation : Vertical

Correct Marks : 2 Wrong Marks : 0

Schedule VI of the Constitution of India is applicable to

1. whole of India
2. only scheduled areas
3. only North-Eastern India
4. only coastal areas

Options :

64635090551. 1

64635090552. 2

64635090553. 3

64635090554. 4

Question Number : 104 Question Id : 64635023069 Question Type : MCQ Option Shuffling : No Display Question Number : Yes  
Single Line Question Option : No Option Orientation : Vertical

Correct Marks : 2 Wrong Marks : 0

भारत के संविधान की अनुसूची VI किस पर लागू होती है?

1. संपूर्ण भारत
2. केवल अनुसूचित क्षेत्र
3. केवल पूर्वोत्तर भारत
4. केवल तटीय क्षेत्र

Options :

64635090551. 1

64635090552. 2

64635090553. 3

64635090554. 4

Question Number : 105 Question Id : 64635023070 Question Type : MCQ Option Shuffling : No Display Question Number : Yes  
Single Line Question Option : No Option Orientation : Vertical

Correct Marks : 2 Wrong Marks : 0

Which one of the following is a cognitive element of Western culture?

1. Caste hierarchy
2. Traditionalism
3. Individualism
4. Segmentation

Options :

64635090555. 1  
64635090556. 2  
64635090557. 3  
64635090558. 4

Question Number : 105 Question Id : 64635023070 Question Type : MCQ Option Shuffling : No Display Question Number : Yes  
Single Line Question Option : No Option Orientation : Vertical

Correct Marks : 2 Wrong Marks : 0

निम्नलिखित में से कौन-सा पश्चिमी संस्कृति का संज्ञानात्मक तत्व है?

1. जाति सोपान तंत्र
2. परंपरावाद
3. व्यक्तिवाद
4. खंडीकरण

Options :

64635090555. 1  
64635090556. 2  
64635090557. 3  
64635090558. 4

Question Number : 106 Question Id : 64635023071 Question Type : MCQ Option Shuffling : No Display Question Number : Yes  
Single Line Question Option : No Option Orientation : Vertical

Correct Marks : 2 Wrong Marks : 0

The best skeletal indicators of determining sex in forensic investigation is the

1. scapula
2. ulna
3. pelvis
4. clavicle



**Options :**

- 64635090559. 1
- 64635090560. 2
- 64635090561. 3
- 64635090562. 4

**Question Number : 106 Question Id : 64635023071 Question Type : MCQ Option Shuffling : No Display Question Number : Yes Single Line Question Option : No Option Orientation : Vertical**

**Correct Marks : 2 Wrong Marks : 0**

फॉरेंसिक जाँच-पड़ताल में लिंग निर्धारण का सर्वोत्तम कंकालीय संकेतक है

- 1. अंसफलक
- 2. अंतःप्रकोष्ठिका
- 3. श्रोणी
- 4. हँसुली

**Options :**

- 64635090559. 1
- 64635090560. 2
- 64635090561. 3
- 64635090562. 4

**Question Number : 107 Question Id : 64635023072 Question Type : MCQ Option Shuffling : No Display Question Number : Yes Single Line Question Option : No Option Orientation : Vertical**

**Correct Marks : 2 Wrong Marks : 0**

Pre-industrial cities existed as

- (a) Centres of pilgrimage
- (b) Royal capitals
- (c) Industrial centres
- (d) Military encampments

Choose the correct answer from the codes options below :

- 1. (b) and (d) are correct
- 2. (a) and (b) are correct
- 3. (b), (c) and (d) are correct
- 4. (a), (b) and (d) are correct

**Options :**

- 64635090563. 1

64635090564. 2

64635090565. 3

64635090566. 4

Question Number : 107 Question Id : 64635023072 Question Type : MCQ Option Shuffling : No Display Question Number : Yes  
Single Line Question Option : No Option Orientation : Vertical

Correct Marks : 2 Wrong Marks : 0

पूर्व-औद्योगिक शहर किस रूप में विद्यमान थे?

- (a) तीर्थयात्रा के केन्द्र
- (b) शाही राजधानियाँ
- (c) औद्योगिक केन्द्र
- (d) सैन्य शिविर

नीचे दिए गए विकल्पों में से सही उत्तर का चयन कीजिए :

1. (b) और (d) सही हैं
2. (a) और (b) सही हैं
3. (b), (c) और (d) सही हैं
4. (a), (b) और (d) सही हैं

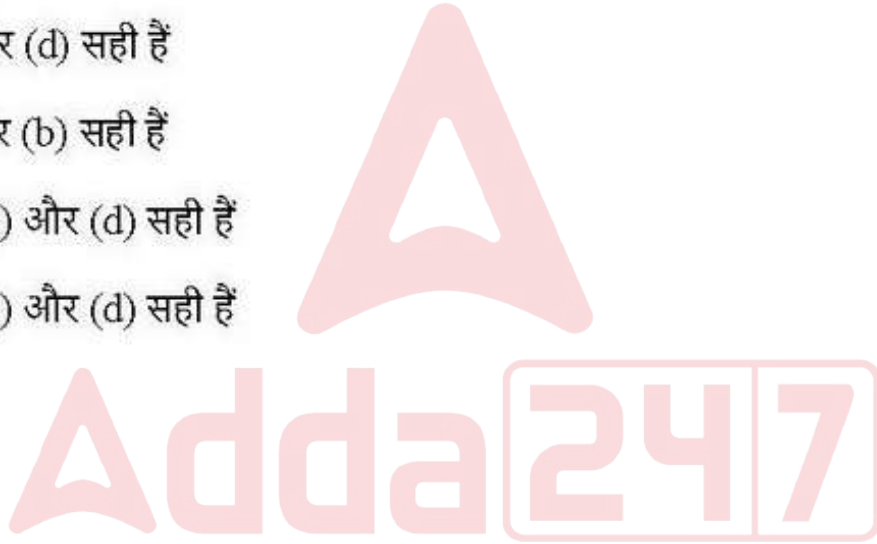
Options :

64635090563. 1

64635090564. 2

64635090565. 3

64635090566. 4



Question Number : 108 Question Id : 64635023073 Question Type : MCQ Option Shuffling : No Display Question Number : Yes  
Single Line Question Option : No Option Orientation : Vertical

Correct Marks : 2 Wrong Marks : 0

Which of the following is cultural approach in Medical Anthropology?

1. Critical Medical Anthropology
2. Human biology and variation
3. Evolution, health and medicine
4. Bioarchaeology and the history of health

Options :

64635090567. 1

64635090568. 2  
64635090569. 3  
64635090570. 4

Question Number : 108 Question Id : 64635023073 Question Type : MCQ Option Shuffling : No Display Question Number : Yes  
Single Line Question Option : No Option Orientation : Vertical  
Correct Marks : 2 Wrong Marks : 0

निम्नलिखित में से कौन-सी चिकित्सा मानव विज्ञान का सांस्कृतिक दृष्टिकोण है?

1. अति आवश्यक चिकित्सा मानव विज्ञान
2. मानव, जीवविज्ञान और विभेद
3. विकास, स्वास्थ्य और औषधि
4. जैव पुरातत्त्व और स्वास्थ्य का इतिहास

Options :

64635090567. 1  
64635090568. 2  
64635090569. 3  
64635090570. 4

Question Number : 109 Question Id : 64635023074 Question Type : MCQ Option Shuffling : No Display Question Number : Yes  
Single Line Question Option : No Option Orientation : Vertical  
Correct Marks : 2 Wrong Marks : 0

Which of the following statements about forensic analysis of DNA is NOT correct?

1. A DNA profile using short tandem repeats is unique to an individual.
2. Forensic analysis makes use of SNPs in coding sequences to distinguish between individuals.
3. PCR is used for DNA profiling.
4. DNA fingerprinting can be used for paternity testing.

Options :

64635090571. 1  
64635090572. 2  
64635090573. 3  
64635090574. 4

Question Number : 109 Question Id : 64635023074 Question Type : MCQ Option Shuffling : No Display Question Number : Yes  
Single Line Question Option : No Option Orientation : Vertical  
Correct Marks : 2 Wrong Marks : 0

निम्नलिखित में कौन-सा कथन डी. एन. ए. के फॉरेंसिक विश्लेषण में सही नहीं है?

1. शॉर्ट टेंडम रिपीट के उपयोग वाला डी. एन. ए. प्रोफाइल एक व्यक्ति के लिए विशिष्ट है।
2. फॉरेंसिक विश्लेषण व्यक्तियों के बीच अंतर करने के लिए कूट शृंखला में एस. एन. पी. का उपयोग करता है।
3. डी. एन. ए. प्रोफाइलिंग के लिए पी. सी. आर. का प्रयोग होता है।
4. डी. एन. ए. अंगुलियों के निशान पितृत्व परीक्षण में इस्तेमाल किया जा सकता है।

Options :

64635090571. 1

64635090572. 2

64635090573. 3

64635090574. 4

Question Number : 110 Question Id : 64635023075 Question Type : MCQ Option Shuffling : No Display Question Number : Yes  
Single Line Question Option : No Option Orientation : Vertical

Correct Marks : 2 Wrong Marks : 0

Milton Singer applies the concept of Great and Little tradition in his study of

1. Bombay
2. Bangalore
3. Calcutta
4. Madras

Options :

64635090575. 1

64635090576. 2

64635090577. 3

64635090578. 4

Question Number : 110 Question Id : 64635023075 Question Type : MCQ Option Shuffling : No Display Question Number : Yes  
Single Line Question Option : No Option Orientation : Vertical

Correct Marks : 2 Wrong Marks : 0

मिल्टन सिंगर ने अपने निम्नलिखित में से किसके अध्ययन में महान और लघु परंपरा की अवधारणा को लागू किया है?

1. बॉम्बे
2. बैंगलौर
3. कलकत्ता
4. मद्रास

**Options :**

64635090575. 1  
64635090576. 2  
64635090577. 3  
64635090578. 4

**Question Number : 111 Question Id : 64635023076 Question Type : MCQ Option Shuffling : No Display Question Number : Yes Single Line Question Option : No Option Orientation : Vertical**

**Correct Marks : 2 Wrong Marks : 0**

Who among the following proposed 'Arboreal hypothesis' of primate adaptation?

1. G. Elliott and M. Cartnill
2. F. Good-Jones and G. Elliot
3. L. Gerber and D. Creas
4. J. Neel and R. C. Punnel

**Options :**

64635090579. 1  
64635090580. 2  
64635090581. 3  
64635090582. 4

**Question Number : 111 Question Id : 64635023076 Question Type : MCQ Option Shuffling : No Display Question Number : Yes Single Line Question Option : No Option Orientation : Vertical**

**Correct Marks : 2 Wrong Marks : 0**

इनमें से किसने प्राइमेट अनुकूलन के 'वृक्षीय प्राक्कल्पना' प्रस्तावित की?

1. जी. एलियट और एम. कार्टनिल
2. एफ. गुड-जोन्स और जी. एलियट
3. एल. गर्बर और डी. क्रीस
4. जे. नील और आर. सी. पुत्रेल

Options :

64635090579. 1  
64635090580. 2  
64635090581. 3  
64635090582. 4

Question Number : 112 Question Id : 64635023077 Question Type : MCQ Option Shuffling : No Display Question Number : Yes  
Single Line Question Option : No Option Orientation : Vertical

Correct Marks : 2 Wrong Marks : 0

Which of the following is in correct cephalocaudal order?

1. Lumbar–Thoracic–Sacral–Cervical
2. Thoracic–Cervical–Lumbar–Sacral
3. Cervical–Lumbar–Thoracic–Sacral
4. Cervical–Thoracic–Lumbar–Sacral

Options :

64635090583. 1  
64635090584. 2  
64635090585. 3  
64635090586. 4

Question Number : 112 Question Id : 64635023077 Question Type : MCQ Option Shuffling : No Display Question Number : Yes  
Single Line Question Option : No Option Orientation : Vertical

Correct Marks : 2 Wrong Marks : 0

निम्न में से कौन-सा सही सेफालोकॉडल क्रम है?

1. लंबर–थोरेसिक–सैकरल–सरवाइकल
2. थोरेसिक–सरवाइकल–लंबर–सैकरल
3. सरवाइकल–लंबर–थोरेसिक–सैकरल
4. सरवाइकल–थोरेसिक–लंबर–सैकरल

Options :

64635090583. 1  
64635090584. 2  
64635090585. 3  
64635090586. 4

**Question Number : 113 Question Id : 64635023078 Question Type : MCQ Option Shuffling : No Display Question Number : Yes  
Single Line Question Option : No Option Orientation : Vertical**

**Correct Marks : 2 Wrong Marks : 0**

Which of the following features best describe B. S. Guha's classification of the people of India?

- (a) He traced six major racial strains and nine sub-types among the Indian population.
- (b) Identification of Negrito elements is one of the highlights of his classification.
- (c) He mentioned that the Australoids are widely distributed throughout India.
- (d) He has shown the people of India as Mongoloid and Brachycephalic.

Choose the correct answer from the options given below :

- 1. (a), (b) and (c) are correct
- 2. (a), (b) and (d) are correct
- 3. (b), (c) and (d) are correct
- 4. (a), (c) and (d) are correct

**Options :**

64635090587. 1  
64635090588. 2  
64635090589. 3  
64635090590. 4

**Question Number : 113 Question Id : 64635023078 Question Type : MCQ Option Shuffling : No Display Question Number : Yes  
Single Line Question Option : No Option Orientation : Vertical**

**Correct Marks : 2 Wrong Marks : 0**

भारत की जनता के बी. एस. गुहा द्वारा किए वर्गीकरण को निम्न में से कौन-सी विशेषता सबसे बढ़िया ढंग से बताती है ?

- (a) उन्होंने भारतीय जनसंख्या में छः प्रमुख नस्ली स्ट्रेन और नौ उप-प्रकारों का पता लगाया।
- (b) उनके वर्गीकरण की एक बड़ी विशेषता नीग्रिटो तत्वों की पहचान है।
- (c) उन्होंने लिखा है कि ऑस्ट्रेलॉयड भारत भर में फैले हुए हैं।
- (d) उन्होंने भारत के लोगों को मॉन्गोलॉयड और ब्रैकीसेफैलिक के रूप में दिखाया है।

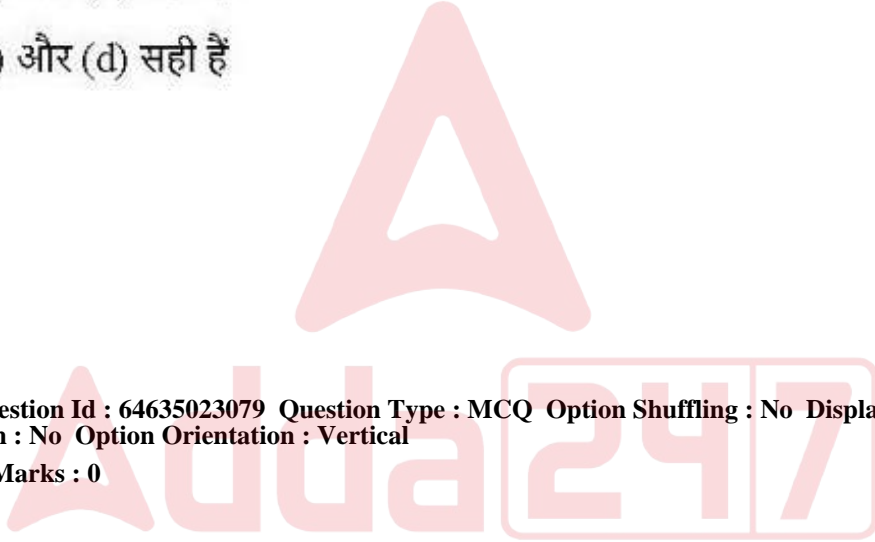
नीचे दिए गए विकल्पों में से सही उत्तर चुनिए :

- 1. (a), (b) और (c) सही हैं
- 2. (a), (b) और (d) सही हैं
- 3. (b), (c) और (d) सही हैं
- 4. (a), (c) और (d) सही हैं

Options :

- 64635090587. 1
- 64635090588. 2
- 64635090589. 3
- 64635090590. 4

Question Number : 114 Question Id : 64635023079 Question Type : MCQ Option Shuffling : No Display Question Number : Yes  
Single Line Question Option : No Option Orientation : Vertical  
Correct Marks : 2 Wrong Marks : 0





Which of the following are true of the high altitude adaptation process?

- (a) Breath rapidly
- (b) Heart beats faster
- (c) Suffer from hypoxia
- (d) Vitamin C level rises

Choose the correct answer from the options given below :

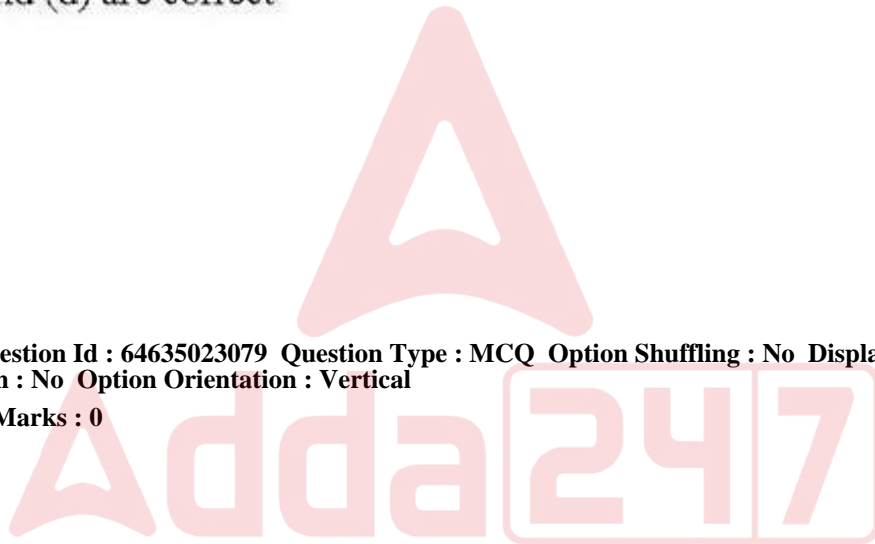
1. (a), (b) and (d) are correct
2. (a), (b) and (c) are correct
3. (b), (c) and (d) are correct
4. (c) and (d) are correct

**Options :**

- 64635090591. 1
- 64635090592. 2
- 64635090593. 3
- 64635090594. 4

Question Number : 114 Question Id : 64635023079 Question Type : MCQ Option Shuffling : No Display Question Number : Yes  
Single Line Question Option : No Option Orientation : Vertical

Correct Marks : 2 Wrong Marks : 0



निम्न में से कौन-से उच्च ऐल्टीट्यूड अनुकूलन प्रक्रिया के संबंध में सत्य हैं ?

- (a) त्वरित श्वसन
- (b) हृदय की धड़कन तेज होना
- (c) हाईपोक्सिया से पीड़ित होना
- (d) विटामिन 'C' का स्तर बढ़ जाता है

नीचे दिए गए विकल्पों में से सही उत्तर चुनिए :

- 1. (a), (b) और (d) सही हैं
- 2. (a), (b) और (c) सही हैं
- 3. (b), (c) और (d) सही हैं
- 4. (c) और (d) सही हैं

**Options :**

- 64635090591. 1
- 64635090592. 2
- 64635090593. 3
- 64635090594. 4

Question Number : 115 Question Id : 64635023080 Question Type : MCQ Option Shuffling : No Display Question Number : Yes  
Single Line Question Option : No Option Orientation : Vertical  
Correct Marks : 2 Wrong Marks : 0

Adda247

Which of the following statements about Experimental Archaeology are true?

- (a) Materials used in the experiment must be those available locally to the prehistoric society one is studying.
- (b) Method must conform with the society's technological abilities.
- (c) The experiment must lead to suggested conclusion.
- (d) The result of the experiment must be unique and cannot be replicable.

Choose the correct answer from the options given below :

- 1. (a), (b), (c) and (d) are correct
- 2. (a), (b) and (c) are correct
- 3. (b), (c) and (d) are correct
- 4. (a), (b) and (d) are correct

**Options :**

- 64635090595. 1
- 64635090596. 2
- 64635090597. 3
- 64635090598. 4

Question Number : 115 Question Id : 64635023080 Question Type : MCQ Option Shuffling : No Display Question Number : Yes  
Single Line Question Option : No Option Orientation : Vertical  
Correct Marks : 2 Wrong Marks : 0

प्रयोगात्मक पुरातत्त्वशास्त्र के बारे में निम्न अभिकथनों में से कौन-सा सही है?

- (a) जिन सामग्रियों का प्रयोग परीक्षण में किया जाए वे जिस प्रागैतिहासिक समाज का कोई अध्ययन कर रहा है वे स्थानीय रूप से उपलब्ध होनी चाहिए।
- (b) प्रविधि को अनिवार्य रूप से समाज की प्रौद्योगिकीय क्षमताओं के अनुकूल होना चाहिए।
- (c) प्रयोग को सुझाए गए समाधान के निकट ले जाना चाहिए।
- (d) प्रयोग के निष्कर्ष को अनूठा होना चाहिए और पुनरावृत्तियोग्य नहीं होना चाहिए।

नीचे दिए गए विकल्पों में से सही उत्तर चुनिए :

- 1. (a), (b), (c) और (d) सही हैं
- 2. (a), (b) और (c) सही हैं
- 3. (b), (c) और (d) सही हैं
- 4. (a), (b) और (d) सही हैं

Options :

- 64635090595. 1
- 64635090596. 2
- 64635090597. 3
- 64635090598. 4

Question Number : 116 Question Id : 64635023081 Question Type : MCQ Option Shuffling : No Display Question Number : Yes  
Single Line Question Option : No Option Orientation : Vertical  
Correct Marks : 2 Wrong Marks : 0



Which of the following groups of crops were cultivated by the megalithic builders of South India?

- 1. Rice, ragi, black gram, green gram
- 2. Rice, wheat, black gram, green gram
- 3. Ragi, wheat, black gram, green gram
- 4. Rice, ragi, wheat, black gram

Options :

- 64635090599. 1
- 64635090600. 2
- 64635090601. 3
- 64635090602. 4

Correct Marks : 2 Wrong Marks : 0

निम्न में से कौन-से फसल समूह दक्षिण भारत के महापाषाण निर्माताओं द्वारा उगाए गए?

1. चावल, रागी, काला चना, हरा चना
2. चावल, गेहूँ, काला चना, हरा चना
3. रागी, गेहूँ, काला चना, हरा चना
4. चावल, रागी, गेहूँ, काला चना

Options :

64635090599. 1

64635090600. 2

64635090601. 3

64635090602. 4

Question Number : 117 Question Id : 64635023082 Question Type : MCQ Option Shuffling : No Display Question Number : Yes  
Single Line Question Option : No Option Orientation : Vertical

Correct Marks : 2 Wrong Marks : 0

Anthropological studies of law have explored the social organizational correlates of different forms of dispute settlement, such as

- (a) Avoidance and Divination
- (b) Ordeals, Mediation and Negotiation
- (c) Arbitration and Adjudication
- (d) Imposition and Compensation

Choose the correct answer from the options given below :

1. (a), (c) and (d) are correct
2. (a), (b) and (d) are correct
3. (b), (c) and (d) are correct
4. (a), (b) and (c) are correct

Options :

64635090603. 1

64635090604. 2

64635090605. 3

64635090606. 4

Correct Marks : 2 Wrong Marks : 0

कानून के मानवशास्त्रीय अध्ययनों ने विवाद निपटाने के भिन्न-भिन्न रूपों के सामाजिक संगठनात्मक सहसंबंधों की खोज की है, जैसे कि

- (a) परिहार और प्राक्ख्यान
- (b) कृच्छ्रपरीक्षा, मध्यस्थता एवं वार्ता-समझौता
- (c) विवाचन और न्यायनिर्णयन
- (d) अधिरोपण और मुआवजा

नीचे दिए गए विकल्पों में से सही उत्तर चुनिए :

1. (a), (c) और (d) सही हैं
2. (a), (b) और (d) सही हैं
3. (b), (c) और (d) सही हैं
4. (a), (b) और (c) सही हैं

Options :

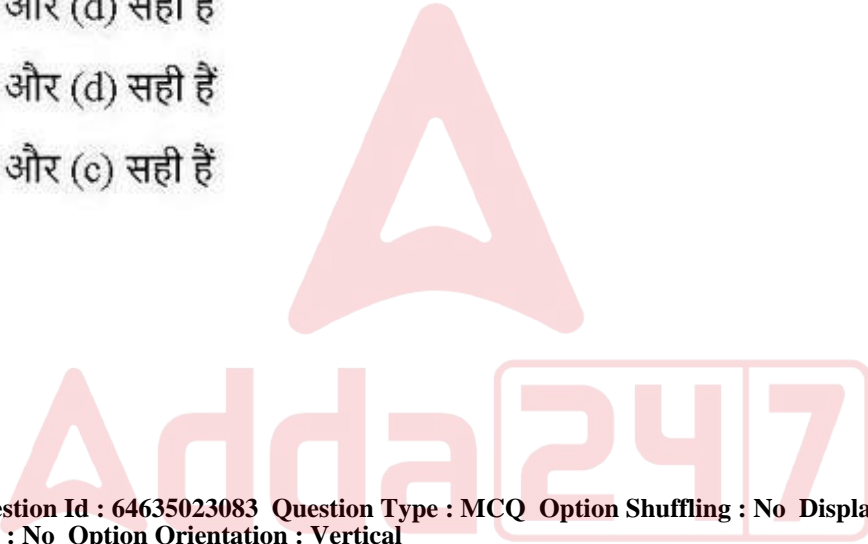
64635090603. 1

64635090604. 2

64635090605. 3

64635090606. 4

Correct Marks : 2 Wrong Marks : 0



Which of the following Anthropologists conducted ethnicity studies?

- (a) M. G. Smith
- (b) A. Cohen
- (c) A. Giddens
- (d) F. Barth

Choose the correct answer from the options given below :

1. (a), (b) and (d) are correct
2. (c), (d) and (b) are correct
3. (a), (b) and (c) are correct
4. (b), (c) and (d) are correct

**Options :**

- 64635090607. 1
- 64635090608. 2
- 64635090609. 3
- 64635090610. 4

Question Number : 118 Question Id : 64635023083 Question Type : MCQ Option Shuffling : No Display Question Number : Yes  
Single Line Question Option : No Option Orientation : Vertical

Correct Marks : 2 Wrong Marks : 0



इनमें से किस मानवशास्त्री ने नृजातीयता का अध्ययन किया है?

- (a) एम. जी. स्मिथ
- (b) ए. कोहेन
- (c) ए. गिडेन्स
- (d) एफ. बार्थ

नीचे दिए गए विकल्पों में से सही उत्तर चुनिए :


1. (a), (b) और (d) सही हैं
2. (c), (d) और (b) सही हैं
3. (a), (b) और (c) सही हैं
4. (b), (c) और (d) सही हैं

**Options :**

- 64635090607. 1
- 64635090608. 2
- 64635090609. 3
- 64635090610. 4

Question Number : 119 Question Id : 64635023084 Question Type : MCQ Option Shuffling : No Display Question Number : Yes  
Single Line Question Option : No Option Orientation : Vertical

Correct Marks : 2 Wrong Marks : 0





According to the Constitution of India, which of the following are socially and educationally Backward Classes?

- (a) Scheduled Tribes
- (b) Other Backward Classes
- (c) Depressed Classes
- (d) Scheduled Castes

Choose the correct answer from the options given below :

1. (a), (c) and (d) are correct
2. (b), (c) and (d) are correct
3. (a), (b) and (d) are correct
4. (a), (b) and (c) are correct

**Options :**

- 64635090611. 1
- 64635090612. 2
- 64635090613. 3
- 64635090614. 4

**Question Number : 119 Question Id : 64635023084 Question Type : MCQ Option Shuffling : No Display Question Number : Yes**

**Single Line Question Option : No Option Orientation : Vertical**

**Correct Marks : 2 Wrong Marks : 0**



भारत के संविधान के अनुसार निम्न में से कौन-से सामाजिक और शैक्षणिक रूप से पिछड़े वर्ग हैं?

- (a) अनुसूचित जनजातियाँ
- (b) अन्य पिछड़ा वर्ग
- (c) शोषित वर्ग
- (d) अनुसूचित जातियाँ

नीचे दिए गए विकल्पों में से सही उत्तर चुनिए :

1. (a), (c) और (d) सही हैं
2. (b), (c) और (d) सही हैं
3. (a), (b) और (d) सही हैं
4. (a), (b) और (c) सही हैं

Options :

64635090611. 1


64635090612. 2

64635090613. 3

64635090614. 4

Question Number : 120 Question Id : 64635023085 Question Type : MCQ Option Shuffling : No Display Question Number : Yes  
Single Line Question Option : No Option Orientation : Vertical

Correct Marks : 2 Wrong Marks : 0



The applied research in Medical Anthropology includes

- (a) Therapeutic care in clinical settings
- (b) Issues of health and healing system
- (c) Solving specific human problems
- (d) Public health programme in community setting

Choose the correct answer from the options given below :

- 1. (b), (c), (d) are correct
- 2. (a), (b), (d) are correct
- 3. (b), (c) are correct
- 4. (a), (b) are correct

**Options :**

64635090615. 1

64635090616. 2

64635090617. 3

64635090618. 4

Question Number : 120 Question Id : 64635023085 Question Type : MCQ Option Shuffling : No Display Question Number : Yes  
Single Line Question Option : No Option Orientation : Vertical  
Correct Marks : 2 Wrong Marks : 0

चिकित्सीय मानवशास्त्र में अनुप्रयुक्त शोध कार्य में शामिल हैं

- (a) क्लिनिकल सेटिंग में उपचारात्मक देख-रेख
- (b) स्वास्थ्य और चिकित्सा प्रणाली के मुद्दे
- (c) विशिष्ट मानव समस्याओं को सुलझाना
- (d) सामुदायिक सेटिंग में जन स्वास्थ्य कार्यक्रम

नीचे दिए गए विकल्पों में से सही उत्तर चुनिए :

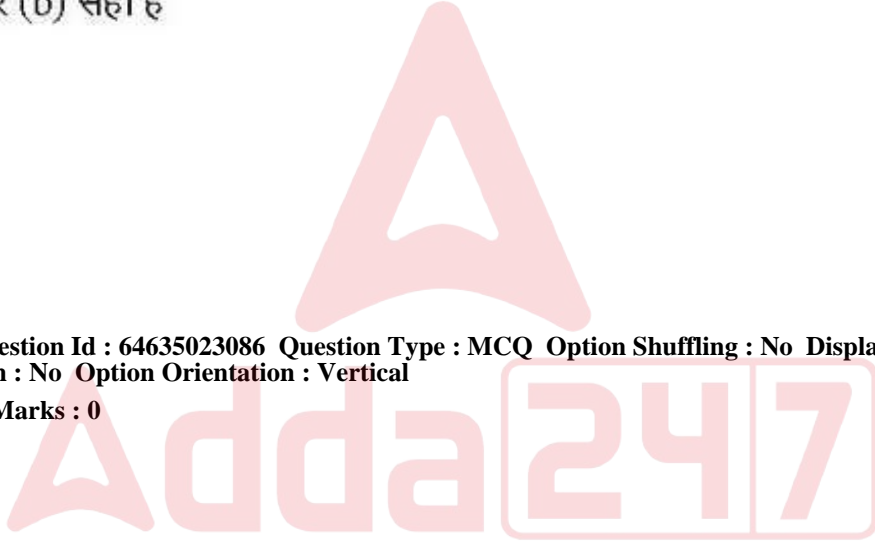
- 1. (b), (c) और (d) सही हैं
- 2. (a), (b) और (d) सही हैं
- 3. (b) और (c) सही हैं
- 4. (a) और (b) सही हैं

Options :

- 64635090615. 1
- 64635090616. 2
- 64635090617. 3
- 64635090618. 4

Question Number : 121 Question Id : 64635023086 Question Type : MCQ Option Shuffling : No Display Question Number : Yes  
Single Line Question Option : No Option Orientation : Vertical

Correct Marks : 2 Wrong Marks : 0



Match the name of the books given in List-I with the name of the authors given in List-II :

List-I

- (a) *Systema Naturae*
- (b) *On the Origin of Species*
- (c) *Principles of Geology*
- (d) *The Fossil Evidences for Human Evolution*

List-II

- (i) Charles Lyell
- (ii) WEL Clark
- (iii) Carl Linnaeus
- (iv) Charles Darwin

Choose the correct option from those given below :

- 1. (a)–(iii); (b)–(iv); (c)–(ii); (d)–(i)
- 2. (a)–(iii); (b)–(iv); (c)–(i); (d)–(ii)
- 3. (a)–(i); (b)–(iii); (c)–(ii); (d)–(iv)
- 4. (a)–(ii); (b)–(iv); (c)–(iii); (d)–(i)

Options :

64635090619. 1

64635090620. 2

64635090621. 3

64635090622. 4

Question Number : 121 Question Id : 64635023086 Question Type : MCQ Option Shuffling : No Display Question Number : Yes  
Single Line Question Option : No Option Orientation : Vertical

Correct Marks : 2 Wrong Marks : 0



सूची-I में दी गई पुस्तकों की सूची को सूची-II में दिए गए लेखकों की सूची से सुमेलित कीजिए :

सूची-I	सूची-II
(a) सिस्टमा नैचुरे	(i) चार्ल्स लियेले
(b) ऑन द ऑरिजिन ऑफ स्पिसीज़	(ii) डब्ल्यू. ई. एल. क्लार्क
(c) प्रीसिपल्स ऑफ ज्यूलोजी	(iii) कार्ल लिनेइस
(d) दि फॉसिल एविडेन्सेस फॉर ह्यूमन इभोल्युसन	(iv) चार्ल्स डारविन

दिए गए विकल्पों में से सही उत्तर का चयन कीजिए :

1. (a)-(iii); (b)-(iv); (c)-(ii); (d)-(i)
2. (a)-(iii); (b)-(iv); (c)-(i); (d)-(ii)
3. (a)-(i); (b)-(iii); (c)-(ii); (d)-(iv)
4. (a)-(ii); (b)-(iv); (c)-(iii); (d)-(i)

Options :

64635090619. 1  
64635090620. 2  
64635090621. 3  
64635090622. 4

Question Number : 122 Question Id : 64635023087 Question Type : MCQ Option Shuffling : No Display Question Number : Yes  
Single Line Question Option : No Option Orientation : Vertical

Correct Marks : 2 Wrong Marks : 0

Adda247

Match the fossils in List-I with the countries where they were first discovered in List-II :

List-I	List-II
(a) <i>Australopithecus bahrelghazali</i>	(i) South Africa
(b) <i>Ardipithecus ramidus</i>	(ii) Indonesia
(c) <i>Homo floresiensis</i>	(iii) Tchad
(d) <i>Australopithecus robustus</i>	(iv) Ethiopia

Choose the correct option from those given below :

- (a)–(iii); (b)–(iv); (c)–(ii); (d)–(i)
- (a)–(iv); (b)–(ii); (c)–(i); (d)–(iii)
- (a)–(i); (b)–(iii); (c)–(iv); (d)–(ii)
- (a)–(ii); (b)–(i); (c)–(iv); (d)–(iii)

Options :

64635090623. 1

64635090624. 2

64635090625. 3

64635090626. 4

Question Number : 122 Question Id : 64635023087 Question Type : MCQ Option Shuffling : No Display Question Number : Yes  
Single Line Question Option : No Option Orientation : Vertical

Correct Marks : 2 Wrong Marks : 0

Adda247

सूची-I में दिए गए जीवाश्मों को सूची-II में दिए गए उन देशों से सुमेलित कीजिए जिनमें वे पहली बार पाए गए :

सूची-I	सूची-II
(a) ऑस्ट्रेलोपिथिकस बहरेलगजाली	(i) दक्षिण अफ्रीका
(b) आर्डीपिथिकस रेमिडस	(ii) इंडोनेशिया
(c) होमो फ्लोरेसियनसिस	(iii) टेहाद
(d) ऑस्ट्रेलोपिथिकस रोबस्टस	(iv) इथियोपिया

दिए गए विकल्पों में से सही उत्तर का चयन कीजिए :

1. (a)-(iii); (b)-(iv); (c)-(ii); (d)-(i)
2. (a)-(iv); (b)-(ii); (c)-(i); (d)-(iii)
3. (a)-(i); (b)-(iii); (c)-(iv); (d)-(ii)
4. (a)-(ii); (b)-(i); (c)-(iv); (d)-(iii)

Options :

64635090623. 1

64635090624. 2

64635090625. 3

64635090626. 4

Question Number : 123 Question Id : 64635023088 Question Type : MCQ Option Shuffling : No Display Question Number : Yes  
Single Line Question Option : No Option Orientation : Vertical

Correct Marks : 2 Wrong Marks : 0

Adda247



Match the type of chromosomal aberrations given in List-I with the explanation given in List-II :

List-I	List-II
(a) Duplication	(i) The amount of chromosomal material remains unchanged when the arrangement is altered
(b) Translocation	(ii) Involves the loss of a piece of genetic information
(c) Inversion	(iii) An extra copy of a piece of chromosomal material is present
(d) Deletion	(iv) Genetic material is rearranged between non-homologous chromosomes

Choose the correct option from those given below :

- (a)–(i); (b)–(iii); (c)–(ii); (d)–(iv)
- (a)–(ii); (b)–(iv); (c)–(i); (d)–(iii)
- (a)–(ii); (b)–(i); (c)–(iii); (d)–(iv)
- (a)–(iii); (b)–(iv); (c)–(i); (d)–(ii)

Options :

64635090627. 1  
64635090628. 2  
64635090629. 3  
64635090630. 4

Question Number : 123 Question Id : 64635023088 Question Type : MCQ Option Shuffling : No Display Question Number : Yes  
Single Line Question Option : No Option Orientation : Vertical

Correct Marks : 2 Wrong Marks : 0

सूची-I में दिए गए क्रोमोज़ोम संबंधी विपथन को सूची-II में दी गई व्याख्या से सुमेलित कीजिए :

सूची-I	सूची-II
(a) द्विगुणन	(i) जब विन्यास को बदला जाता है तो क्रोमोज़ोम सामग्री की राशि परिवर्तित नहीं होती
(b) स्थानांतर	(ii) इसमें आनुवंशिक सूचना का एक भाग खो जाता है
(c) विलोयन	(iii) क्रोमोज़ोम संबंधी सामग्री की एक अतिरिक्त प्रति मौजूद रहती है
(d) लोप	(iv) गैर-होमोलोगस क्रोमोज़ोम के बीच में आनुवंशिक सामग्री का पुनर्विन्यास होता है

दिए गए विकल्पों में से सही उत्तर का चयन कीजिए :

1. (a)-(i); (b)-(iii); (c)-(ii); (d)-(iv)
2. (a)-(ii); (b)-(iv); (c)-(i); (d)-(iii)
3. (a)-(ii); (b)-(i); (c)-(iii); (d)-(iv)
4. (a)-(iii); (b)-(iv); (c)-(i); (d)-(ii)

Options :

64635090627. 1

64635090628. 2

64635090629. 3

64635090630. 4

Question Number : 124 Question Id : 64635023089 Question Type : MCQ Option Shuffling : No Display Question Number : Yes  
Single Line Question Option : No Option Orientation : Vertical

Correct Marks : 2 Wrong Marks : 0

Match the terms in List-I with the names of the Scientists in List-II :

List-I	List-II
(a) Genome	(i) William Bateson
(b) Genomics	(ii) H. W. G. von Waldeyer-Martz
(c) Chromosome	(iii) H. Winkler
(d) Genetics	(iv) T. H. Roderick

Choose the correct option from those given below :

- (a)–(iii); (b)–(iv); (c)–(ii); (d)–(i)
- (a)–(i); (b)–(ii); (c)–(iv); (d)–(iii)
- (a)–(ii); (b)–(iii); (c)–(iv); (d)–(i)
- (a)–(iv); (b)–(ii); (c)–(i); (d)–(iii)

Options :

64635090631. 1  
64635090632. 2  
64635090633. 3  
64635090634. 4



Question Number : 124 Question Id : 64635023089 Question Type : MCQ Option Shuffling : No Display Question Number : Yes  
Single Line Question Option : No Option Orientation : Vertical

Correct Marks : 2 Wrong Marks : 0

सूची-I में दिए गए वैज्ञानिकों के नामों को उनके द्वारा दिए गए पदों (सूची-II) से सुमेलित कीजिए :

सूची-I	सूची-II
(a) जीनोम	(i) विलियम बेटसन
(b) जीनोमीज़	(ii) एच. डब्ल्यू जी. वॉन वॉलडेयर-मार्ज़
(c) क्रोमोज़ोम	(iii) एच. विकलर
(d) आनुवंशिकी	(iv) टी. एच. रॉडरिक

दिए गए विकल्पों में से सही उत्तर का चयन कीजिए :

1. (a)–(iii); (b)–(iv); (c)–(ii); (d)–(i)
2. (a)–(i); (b)–(ii); (c)–(iv); (d)–(iii)
3. (a)–(ii); (b)–(iii); (c)–(iv); (d)–(i)
4. (a)–(iv); (b)–(ii); (c)–(i); (d)–(iii)

Options :

64635090631. 1
64635090632. 2
64635090633. 3
64635090634. 4

Question Number : 125 Question Id : 64635023090 Question Type : MCQ Option Shuffling : No Display Question Number : Yes  
Single Line Question Option : No Option Orientation : Vertical

Correct Marks : 2 Wrong Marks : 0

Adda247

Match the following ethnoarchaeologists in List-I with the societies they worked given in List-II :

List-I	List-II
(a) Richard Lee	(i) Nunamiut Eskimo of Alaska
(b) Lewis Binford	(ii) Kungsan of Kalahari
(c) James O'Connell	(iii) Stone tool makers of Highland Maya
(d) Brian Hayden	(iv) Hadza hunters of East Africa

Choose the correct option from those given below :

1. (a)–(iii); (b)–(iv); (c)–(i); (d)–(ii)
2. (a)–(ii); (b)–(i); (c)–(iv); (d)–(iii)
3. (a)–(i); (b)–(iii); (c)–(ii); (d)–(iv)
4. (a)–(iv); (b)–(i); (c)–(iii); (d)–(ii)

Options :

64635090635. 1

64635090636. 2

64635090637. 3

64635090638. 4

Question Number : 125 Question Id : 64635023090 Question Type : MCQ Option Shuffling : No Display Question Number : Yes  
Single Line Question Option : No Option Orientation : Vertical  
Correct Marks : 2 Wrong Marks : 0

सूची-I में दिए गए निम्न नृजाति-पुरातत्त्व वैज्ञानिक को उन सोसाइटियों से सुमेलित कीजिए जिन्हें सूची-II में दिया गया है :

सूची-I	सूची-II
(a) रिचर्ड ली	(i) अलास्का के नूनामुइत एस्कीमो
(b) लुईस बिनफोर्ड	(ii) कालाहारी के इकुंगसान
(c) जेम्स ओ'कॉनल	(iii) हाईलैंड माया के प्रस्तर
(d) ब्रायन हेडेन	(iv) पूर्वी अफ्रीका के हाद्जे शिकारी

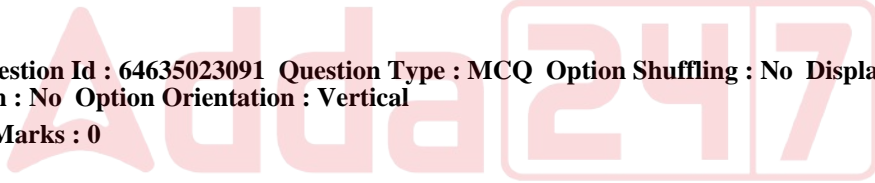
दिए गए विकल्पों में से सही उत्तर का चयन कीजिए :

1. (a)-(iii); (b)-(iv); (c)-(i); (d)-(ii)
2. (a)-(ii); (b)-(i); (c)-(iv); (d)-(iii)
3. (a)-(i); (b)-(iii); (c)-(ii); (d)-(iv)
4. (a)-(iv); (b)-(i); (c)-(iii); (d)-(ii)

Options :

64635090635. 1
64635090636. 2
64635090637. 3
64635090638. 4

Question Number : 126 Question Id : 64635023091 Question Type : MCQ Option Shuffling : No Display Question Number : Yes  
Single Line Question Option : No Option Orientation : Vertical  
Correct Marks : 2 Wrong Marks : 0



Match an item in List-I with item in List-II :

List-I (Name the Sites)	List-II (Discovered/Studied by)
(a) Soan	(i) B. B. Lal
(b) Tinnevalley	(ii) M. Wheeler
(c) Brahmagiri	(iii) De Terra and Paterson
(d) Birbhanpur	(iv) Zeuner and Allchin

Choose the correct option from those given below :

1. (a)–(iii); (b)–(iv); (c)–(ii); (d)–(i)
2. (a)–(iv); (b)–(ii); (c)–(i); (d)–(iii)
3. (a)–(ii); (b)–(i); (c)–(iii); (d)–(iv)
4. (a)–(i); (b)–(iv); (c)–(ii); (d)–(iii)

Options :

64635090639. 1  
64635090640. 2  
64635090641. 3  
64635090642. 4

Question Number : 126 Question Id : 64635023091 Question Type : MCQ Option Shuffling : No Display Question Number : Yes  
Single Line Question Option : No Option Orientation : Vertical  
Correct Marks : 2 Wrong Marks : 0

सूची-I में दिए गए मदों को सूची-II में दिए गए मदों से सुमेलित कीजिए :

सूची-I (स्थलों के नाम)	सूची-II (अन्वेषक / अध्ययनकर्ता)
(a) सोअन	(i) बी. बी. लाल
(b) टिन्ने घाटी	(ii) एम. ह्वीलर
(c) ब्रह्मगिरि	(iii) द टैरा और पैटर्सन
(d) बीरभानपुर	(iv) जूनर और ऑलचिन

दिए गए विकल्पों में से सही उत्तर का चयन कीजिए :

1. (a)-(iii); (b)-(iv); (c)-(ii); (d)-(i)
2. (a)-(iv); (b)-(ii); (c)-(i); (d)-(iii)
3. (a)-(ii); (b)-(i); (c)-(iii); (d)-(iv)
4. (a)-(i); (b)-(iv); (c)-(ii); (d)-(iii)

Options :

64635090639. 1
64635090640. 2
64635090641. 3
64635090642. 4

Question Number : 127 Question Id : 64635023092 Question Type : MCQ Option Shuffling : No Display Question Number : Yes  
Single Line Question Option : No Option Orientation : Vertical  
Correct Marks : 2 Wrong Marks : 0





Match the items in List-I with the items in List-II :

List-I	List-II
(a) Margaret Mead	(i) Marquesa
(b) Ruth Benedict	(ii) Samoa
(c) Cora Du Bois	(iii) Luni
(d) Ralph Linton	(iv) Alor

Choose the correct option from those given below :

1. (a)–(i); (b)–(ii); (c)–(iii); (d)–(iv)
2. (a)–(iv); (b)–(iii); (c)–(ii); (d)–(i)
3. (a)–(ii); (b)–(iii); (c)–(iv); (d)–(i)
4. (a)–(iii); (b)–(iv); (c)–(i); (d)–(ii)

**Options :**

- 64635090643. 1
- 64635090644. 2
- 64635090645. 3
- 64635090646. 4

Question Number : 127 Question Id : 64635023092 Question Type : MCQ Option Shuffling : No Display Question Number : Yes  
Single Line Question Option : No Option Orientation : Vertical  
Correct Marks : 2 Wrong Marks : 0

सूची-I में दिए गए मदों को सूची-II में दिए गए मदों से सुमेलित कीजिए :

सूची-I		सूची-II
(a) मार्गरेट मीड	(i)	मार्केसा
(b) रुथ बेनेडिक्ट	(ii)	समोआ
(c) कोरा ड्यूबोइस	(iii)	लूनी
(d) रैल्फ़ लिंटन	(iv)	एलोर

दिए गए विकल्पों में से सही उत्तर का चयन कीजिए :

1. (a)-(i); (b)-(ii); (c)-(iii); (d)-(iv)
2. (a)-(iv); (b)-(iii); (c)-(ii); (d)-(i)
3. (a)-(ii); (b)-(iii); (c)-(iv); (d)-(i)
4. (a)-(iii); (b)-(iv); (c)-(i); (d)-(ii)

Options :

64635090643. 1
64635090644. 2
64635090645. 3
64635090646. 4

Question Number : 128 Question Id : 64635023093 Question Type : MCQ Option Shuffling : No Display Question Number : Yes  
Single Line Question Option : No Option Orientation : Vertical  
Correct Marks : 2 Wrong Marks : 0

Adda247

Match the items in List-I with the items in List-II :

List-I	List-II
(a) Classical Evolutionism	(i) Claude Levi-Strauss
(b) Historical Particularism	(ii) Marvin Harris
(c) Cultural Materialism	(iii) Franz Boas
(d) Structuralism	(iv) Adolf Bastian

Choose the correct option from those given below :

- (a)–(i); (b)–(ii); (c)–(iii); (d)–(iv)
- (a)–(iv); (b)–(iii); (c)–(ii); (d)–(i)
- (a)–(iv); (b)–(i); (c)–(ii); (d)–(iii)
- (a)–(ii); (b)–(iii); (c)–(i); (d)–(iv)

**Options :**

64635090647. 1  
64635090648. 2  
64635090649. 3  
64635090650. 4

Question Number : 128 Question Id : 64635023093 Question Type : MCQ Option Shuffling : No Display Question Number : Yes  
Single Line Question Option : No Option Orientation : Vertical  
Correct Marks : 2 Wrong Marks : 0

सूची-I में दिए गए मदों को सूची-II में दिए गए मदों से सुमेलित कीजिए :

सूची-I	सूची-II
(a) शास्त्रीय विकासवाद	(i) क्लॉड लेवी स्ट्रॉस
(b) ऐतिहासिक विशिष्टकारणवाद	(ii) मार्विन हैरिस
(c) सांस्कृतिक भौतिकतावाद	(iii) फ्रैंज़ बोआस
(d) संरचनावाद	(iv) एडॉल्फ बैस्टियन

दिए गए विकल्पों में से सही उत्तर का चयन कीजिए :

1. (a)-(i); (b)-(ii); (c)-(iii); (d)-(iv)
2. (a)-(iv); (b)-(iii); (c)-(ii); (d)-(i)
3. (a)-(iv); (b)-(i); (c)-(ii); (d)-(iii)
4. (a)-(ii); (b)-(iii); (c)-(i); (d)-(iv)

Options :

64635090647. 1  
64635090648. 2  
64635090649. 3  
64635090650. 4

Question Number : 129 Question Id : 64635023094 Question Type : MCQ Option Shuffling : No Display Question Number : Yes  
Single Line Question Option : No Option Orientation : Vertical

Correct Marks : 2 Wrong Marks : 0

Adda247

Match the authors in List-I with the publications in List-II :

List-I	List-II
(a) M. N. Srinivas	(i) <i>Village India</i>
(b) McKim Marriott	(ii) <i>Indian Village</i>
(c) D. N. Majumdar	(iii) <i>India's Village</i>
(d) S. C. Dube	(iv) <i>Rural Profiles</i>

Choose the correct option from those given below :

- (a)–(iii); (b)–(i); (c)–(iv); (d)–(ii)
- (a)–(ii); (b)–(iv); (c)–(iii); (d)–(i)
- (a)–(iv); (b)–(i); (c)–(ii); (d)–(iii)
- (a)–(i); (b)–(ii); (c)–(iii); (d)–(iv)

Options :

64635090651. 1

64635090652. 2

64635090653. 3

64635090654. 4

Question Number : 129 Question Id : 64635023094 Question Type : MCQ Option Shuffling : No Display Question Number : Yes  
Single Line Question Option : No Option Orientation : Vertical

Correct Marks : 2 Wrong Marks : 0

सूची-I में दिए गए लेखकों को सूची-II में दी गई उनकी पुस्तकों से सुमेलित कीजिए :

सूची-I	सूची-II
(a) एम. एस. श्रीनिवास	(i) विलेज इंडिया
(b) मैककिम मैरियट	(ii) इंडियन विलेज
(c) डी. एन. मजूमदार	(iii) इंडिआज़ विलेज
(d) एस. सी. दूबे	(iv) रुरल प्रोफाइल

दिए गए विकल्पों में से सही उत्तर का चयन कीजिए :

1. (a)-(iii); (b)-(i); (c)-(iv); (d)-(ii)
2. (a)-(ii); (b)-(iv); (c)-(iii); (d)-(i)
3. (a)-(iv); (b)-(i); (c)-(ii); (d)-(iii)
4. (a)-(i); (b)-(ii); (c)-(iii); (d)-(iv)

Options :

64635090651. 1
64635090652. 2
64635090653. 3
64635090654. 4

Question Number : 130 Question Id : 64635023095 Question Type : MCQ Option Shuffling : No Display Question Number : Yes  
Single Line Question Option : No Option Orientation : Vertical

Correct Marks : 2 Wrong Marks : 0



Match the method of genetic screening given in List-I with the items given in List-II :

List-I

- (a) Maternal serum screening
- (b) A newborn genetic screening
- (c) Adult screening
- (d) Gene therapy

List-II

- (i) Phenylketonuria
- (ii) Adenosine deaminase deficiency
- (iii) Prenatal diagnostic technique
- (iv) Cervical cancer of women

Choose the correct option from those given below :

1. (a)–(iii); (b)–(i); (c)–(iv); (d)–(ii)
2. (a)–(iii); (b)–(iv); (c)–(i); (d)–(ii)
3. (a)–(ii); (b)–(i); (c)–(iii); (d)–(iv)
4. (a)–(iv); (b)–(i); (c)–(ii); (d)–(iii)

Options :

- 64635090655. 1
- 64635090656. 2
- 64635090657. 3
- 64635090658. 4

Question Number : 130 Question Id : 64635023095 Question Type : MCQ Option Shuffling : No Display Question Number : Yes  
Single Line Question Option : No Option Orientation : Vertical  
Correct Marks : 2 Wrong Marks : 0



सूची-I में दी गई आनुवंशिक स्क्रीनिंग प्रविधियों को सूची-II में दिए गए मर्दों से सुमेलित कीजिए :

सूची-I	सूची-II
(a) मातृ सीरम स्क्रीनिंग	(i) फेनलिकडुन्यूरिया
(b) नवजात शिशु आनुवंशिक स्क्रीनिंग	(ii) एडेनोसिन डियरनिनेस की कमी
(c) वयस्क स्क्रीनिंग	(iii) प्रसवपूर्व नैदानिक तकनीक
(d) जीन थेरेपी	(iv) महिलाओं में सर्वाङ्कल कैंसर

दिए गए विकल्पों में से सही उत्तर का चयन कीजिए :

1. (a)-(iii); (b)-(i); (c)-(iv); (d)-(ii)
2. (a)-(iii); (b)-(iv); (c)-(i); (d)-(ii)
3. (a)-(ii); (b)-(i); (c)-(iii); (d)-(iv)
4. (a)-(iv); (b)-(i); (c)-(ii); (d)-(iii)

Options :

64635090655. 1
64635090656. 2
64635090657. 3
64635090658. 4

Question Number : 131 Question Id : 64635023096 Question Type : MCQ Option Shuffling : No Display Question Number : Yes  
Single Line Question Option : No Option Orientation : Vertical

Correct Marks : 2 Wrong Marks : 0

adda247



Arrange the stages of population genetics research using examples of ABO blood group system :

- (a) Selection of Mendelian population
- (b) Testing of genetic equilibrium
- (c) Calculation of allele frequency
- (d) Collection of ABO blood samples

Choose the correct answer from the codes given below :

- 1. (d), (a), (b), (c)
- 2. (a), (d), (c), (b)
- 3. (d), (c), (b), (a)
- 4. (a), (c), (b), (d)

**Options :**

64635090659. 1

64635090660. 2

64635090661. 3

64635090662. 4

Question Number : 131 Question Id : 64635023096 Question Type : MCQ Option Shuffling : No Display Question Number : Yes  
Single Line Question Option : No Option Orientation : Vertical

Correct Marks : 2 Wrong Marks : 0



ABO रक्त समूह प्रणाली के उदाहरण का प्रयोग करते हुए जनसंख्या आनुवंशिक अनुसंधान के विभिन्न चरणों को क्रमबद्ध श्रेणी में लगाएँ :

- (a) मेन्डेलियन जनसंख्या का चयन
- (b) आनुवंशिक साम्यता का परीक्षण
- (c) एलेली (allele) बारंबारता की गणना
- (d) ABO रक्त सैम्पल का संग्रहण

नीचे दिए गए कूटों में से सही उत्तर चुनिए :

- 1. (d), (a), (b), (c)
- 2. (a), (d), (c), (b)
- 3. (d), (c), (b), (a)
- 4. (a), (c), (b), (d)

Options :

- 64635090659. 1
- 64635090660. 2
- 64635090661. 3
- 64635090662. 4

Question Number : 132 Question Id : 64635023097 Question Type : MCQ Option Shuffling : No Display Question Number : Yes  
Single Line Question Option : No Option Orientation : Vertical  
Correct Marks : 2 Wrong Marks : 0

Arrange the following pioneers in an ascending order on the basis of their contributions :

- 1. Hardy-Weinberg–Watson and Crick–Kary Mullis–G. Mendel
- 2. Watson and Crick–Hardy-Weinberg–G. Mendel–Kary Mullis
- 3. Kary Mullis–Watson and Crick–Hardy-Weinberg–G. Mendel
- 4. G. Mendel–Hardy-Weinberg–Watson and Crick–Kary Mullis

Options :

- 64635090663. 1
- 64635090664. 2
- 64635090665. 3
- 64635090666. 4

Correct Marks : 2 Wrong Marks : 0

निम्नलिखित पथ प्रदर्शकों को उनके योगदान के आधार पर आरोही क्रम में सुव्यवस्थित करें :

1. हार्डी-वीनबर्ग-वाटसन और क्रिक-कैरी मुलिस-जी. मेन्डेल
2. वाटसन और क्रिक-हार्डी-वीनबर्ग-जी. मेन्डेल-कैरी मुलिस
3. कैरी मुलिस-वाटसन और क्रिक-हार्डी-वीनबर्ग-जी. मेन्डेल
4. जी. मेन्डेल-हार्डी-वीनबर्ग-वाटसन और क्रिक-कैरी मुलिस

Options :

64635090663. 1  
64635090664. 2  
64635090665. 3  
64635090666. 4

Correct Marks : 2 Wrong Marks : 0

Arrange the following sites in order of their occupation from the earliest to the latest :

- (a) Renigunta
- (b) Chirki-Nevasa
- (c) Chopanimando
- (d) Burzahom

Choose the correct answer from the codes given below :

1. (a), (b), (c), (d)
2. (b), (a), (c), (d)
3. (a), (b), (d), (c)
4. (b), (a), (d), (c)

Options :

64635090667. 1  
64635090668. 2  
64635090669. 3  
64635090670. 4

Correct Marks : 2 Wrong Marks : 0

निम्नलिखित स्थलों को उनके व्यवसाय के अनुसार प्राचीनतम से नवीनतम के सही क्रम में सुव्यवस्थित करें :

- (a) रेनीगुन्टा
- (b) चिरकी-नेवासा
- (c) चोपानीमाण्डो
- (d) बुर्जाहम

नीचे दिए गए कूटों में से सही उत्तर चुनिए :

- 1. (a), (b), (c), (d)
- 2. (b), (a), (c), (d)
- 3. (a), (b), (d), (c)
- 4. (b), (a), (d), (c)

Options :

64635090667. 1

64635090668. 2

64635090669. 3

64635090670. 4

Question Number : 134 Question Id : 64635023099 Question Type : MCQ Option Shuffling : No Display Question Number : Yes  
Single Line Question Option : No Option Orientation : Vertical

Correct Marks : 2 Wrong Marks : 0



Which among the following are anthropological analyses of globalization?

- (a) Arjun Appadurai's *Modernity at Large*
- (b) John Barnes's *Models and Interpretations*
- (c) Jonathan Friedman's *Cultural Identity and Global Process*
- (d) Ulf Hannerz's *Cultural Complexity*

Choose the correct answer from the codes given below :

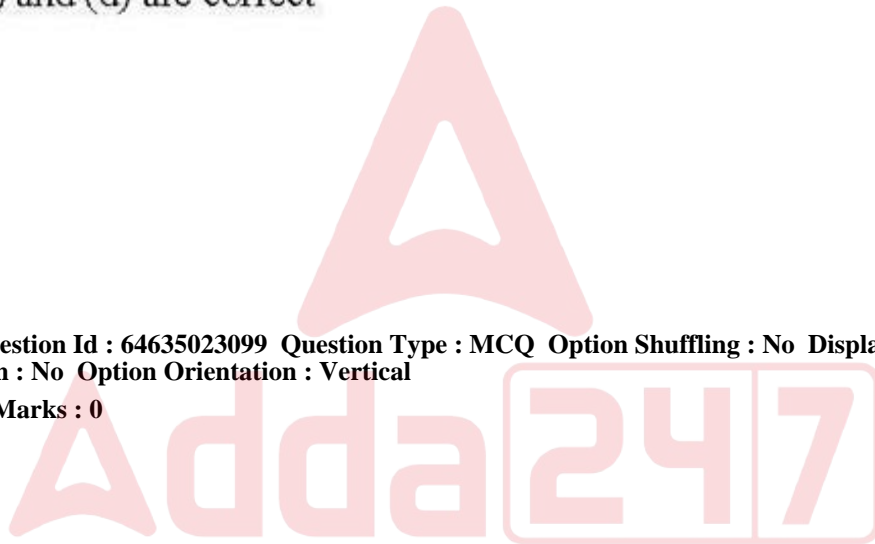
- 1. (a), (c) and (d) are correct
- 2. (a), (b) and (c) are correct
- 3. (b), (c) and (d) are correct
- 4. (a), (b) and (d) are correct

Options :

- 64635090671. 1
- 64635090672. 2
- 64635090673. 3
- 64635090674. 4

Question Number : 134 Question Id : 64635023099 Question Type : MCQ Option Shuffling : No Display Question Number : Yes  
Single Line Question Option : No Option Orientation : Vertical

Correct Marks : 2 Wrong Marks : 0



निम्नलिखित में से कौन-से वैश्वीकरण के मानव वैज्ञानिक विश्लेषण हैं?

- (a) अर्जुन अप्पादुरई का 'मॉडर्निटी एट लार्ज'
- (b) जॉन बार्निज़ का 'मॉडल्स ऐंड इंटरप्रेटेशन्स'
- (c) जोनाथन फ्रायडमैन का 'कल्चरल आइडेंटिटी ऐंड ग्लोबल प्रॉसेस'
- (d) उल्फ हैनरीज़ का 'कल्चरल कॉम्प्लेक्सिटी'

नीचे दिए गए कूटों में से सही उत्तर चुनिए :

- 1. (a), (c) और (d) सही हैं
- 2. (a), (b) और (c) सही हैं
- 3. (b), (c) और (d) सही हैं
- 4. (a), (b) और (d) सही हैं

Options :

- 64635090671. 1
- 64635090672. 2
- 64635090673. 3
- 64635090674. 4

Question Number : 135 Question Id : 64635023100 Question Type : MCQ Option Shuffling : No Display Question Number : Yes  
Single Line Question Option : No Option Orientation : Vertical

Correct Marks : 2 Wrong Marks : 0

Arrange the following classifications of mankind in the ascending order in which they were proposed :

- 1. Hooton-Blumenbach-Garn-Deniker
- 2. Blumenbach-Hooton-Garn-Deniker
- 3. Deniker-Hooton-Garn-Blumenbach
- 4. Blumenbach-Deniker-Hooton-Garn

Options :

- 64635090675. 1
- 64635090676. 2
- 64635090677. 3
- 64635090678. 4

Question Number : 135 Question Id : 64635023100 Question Type : MCQ Option Shuffling : No Display Question Number : Yes  
Single Line Question Option : No Option Orientation : Vertical

Correct Marks : 2 Wrong Marks : 0

मानवता के निम्नलिखित वर्गीकरणों को, जिनमें वे प्रस्तावित किए गए, उसके अनुसार आरोही क्रम में सुव्यवस्थित करें :

1. हूटॉन-ब्लूमेनबैक-गर्न-डेनिकर
2. ब्लूमेनबैक-हूटॉन-गर्न-डेनिकर
3. डेनिकर-हूटॉन-गर्न-ब्लूमेनबैक
4. ब्लूमेनबैक-डेनिकर-हूटॉन-गर्न

Options :

64635090675. 1

64635090676. 2

64635090677. 3

64635090678. 4

Question Number : 136 Question Id : 64635023101 Question Type : MCQ Option Shuffling : No Display Question Number : Yes  
Single Line Question Option : No Option Orientation : Vertical

Correct Marks : 2 Wrong Marks : 0

Given below are two statements, one is labelled as Assertion (A) and the other is labelled as Reason (R) :

Assertion (A) : Tribal society is considered as egalitarian, non-hierarchic and homogenous as against caste society.

Reason (R) : We observe social inequality among tribes at present.

In the context of the above two statements, which one of the following codes is correct?

1. (A) is true and (R) is not true
2. (A) is false and (R) is true
3. (A) is false and (R) is also false
4. (A) is true and (R) is also true

Options :

64635090679. 1

64635090680. 2

64635090681. 3

64635090682. 4

Question Number : 136 Question Id : 64635023101 Question Type : MCQ Option Shuffling : No Display Question Number : Yes  
Single Line Question Option : No Option Orientation : Vertical

Correct Marks : 2 Wrong Marks : 0

नीचे दो कथन दिए गए हैं, एक अभिकथन (A) है और दूसरा तर्क (R) है :

अभिकथन (A) : जनजातीय समाजों को जाति आधारित समाजों के विपरीत समतावादी, गैर-अधिक्रमिक और सजातीय माना जाता है।

तर्क (R) : वर्तमान समय में हम जनजातियों में सामाजिक असमानताएँ देखते हैं।

उपरोक्त दो कथनों के संदर्भ में निम्नलिखित कूटों में से कौन-सा सही है?

1. (A) सही है और (R) सही नहीं है
2. (A) गलत है और (R) सही है
3. (A) गलत है और (R) भी गलत है
4. (A) सही है और (R) भी सही है

Options :

64635090679. 1  
64635090680. 2  
64635090681. 3  
64635090682. 4

Question Number : 137 Question Id : 64635023102 Question Type : MCQ Option Shuffling : No Display Question Number : Yes  
Single Line Question Option : No Option Orientation : Vertical

Correct Marks : 2 Wrong Marks : 0

Given below are two statements, one is labelled as Assertion (A) and the other is labelled as Reason (R) :

Assertion (A) : A schedule is a set of questions sent by mail to be filled up by the informants themselves.

Reason (R) : A schedule can only be administered among the literates.

In the context of the above two statements, which one of the following option is correct?

1. (A) is true and (R) is not true
2. (A) is false and (R) is true
3. (A) is false and (R) is also false
4. (A) is true and (R) is also true

Options :



64635090683. 1  
64635090684. 2  
64635090685. 3  
64635090686. 4

Question Number : 137 Question Id : 64635023102 Question Type : MCQ Option Shuffling : No Display Question Number : Yes  
Single Line Question Option : No Option Orientation : Vertical

Correct Marks : 2 Wrong Marks : 0

नीचे दो कथन दिए गए हैं, एक अभिकथन (A) है और दूसरा तर्क (R) है :

अभिकथन (A) : शेड्यूल प्रश्नों का सम्मुख है जो कि सूचना देने वालों को ई-मेल के माध्यम से स्वयं भरने के लिए भेजा जाता है।

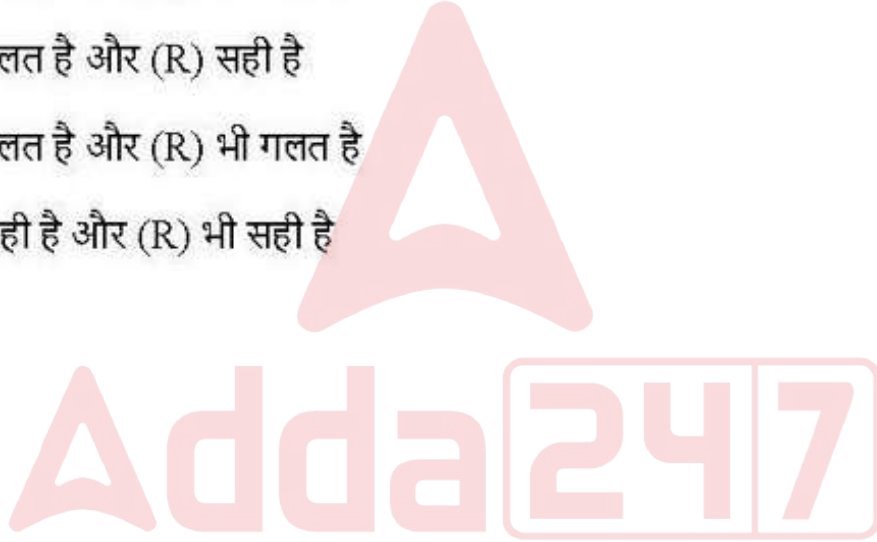
तर्क (R) : शेड्यूल को केवल शिक्षित लोगों को ही दिया जा सकता है।

उपरोक्त दो कथनों के संदर्भ में निम्नलिखित विकल्पों में से कौन-सा सही है?

1. (A) सही है और (R) सही नहीं है
2. (A) गलत है और (R) सही है
3. (A) गलत है और (R) भी गलत है
4. (A) सही है और (R) भी सही है

Options :

64635090683. 1  
64635090684. 2  
64635090685. 3  
64635090686. 4



Question Number : 138 Question Id : 64635023103 Question Type : MCQ Option Shuffling : No Display Question Number : Yes  
Single Line Question Option : No Option Orientation : Vertical

Correct Marks : 2 Wrong Marks : 0

Given below are two statements, one is labelled as Assertion (A) and the other is labelled as Reason (R) :

Assertion (A) : Hand axes are primarily for digging rather than cutting and scraping.

Reason (R) : Hand axe is also known as rostrocarinate.

In the given context of the above two statements, which one of the following option is correct?

1. (A) is true and (R) is not true
2. (A) is false and (R) is true
3. (A) is false and (R) is also false
4. (A) is true and (R) is also true

Options :

64635090687. 1
64635090688. 2
64635090689. 3
64635090690. 4

Question Number : 138 Question Id : 64635023103 Question Type : MCQ Option Shuffling : No Display Question Number : Yes  
Single Line Question Option : No Option Orientation : Vertical

Correct Marks : 2 Wrong Marks : 0

नीचे दो कथन दिए गए हैं, एक अभिकथन (A) है और दूसरा तर्क (R) है :

अभिकथन (A) : हाथ की कुल्हाड़ी पहले खुदाई करने के लिए होती थी न कि कटाई और छंटाई करने के लिए।

तर्क (R) : हाथ की कुल्हाड़ी को टुंडी के नाम से भी जाना जाता है।

उपरोक्त दो कथनों के संदर्भ में निम्नलिखित विकल्पों में से कौन-सा सही है?

1. (A) सही है और (R) सही नहीं है
2. (A) गलत है और (R) सही है
3. (A) गलत है और (R) भी गलत है
4. (A) सही है और (R) भी सही है

Options :

64635090687. 1

64635090688. 2

64635090689. 3

64635090690. 4

**Question Number : 139 Question Id : 64635023104 Question Type : MCQ Option Shuffling : No Display Question Number : Yes Single Line Question Option : No Option Orientation : Vertical**

**Correct Marks : 2 Wrong Marks : 0**

Given below are two statements, one is labelled as Assertion (A) and the other is labelled as Reason (R) :

Assertion (A) : Sickle cell trait provides resistance against malaria.

Reason (R) : HbS high frequency in malaria endemic regions is an example of balanced polymorphism.

In the context of the above two statements, which one of the following option is correct?

1. Both (A) and (R) are wrong
2. (A) is correct but (R) is wrong
3. Both (A) and (R) are correct
4. (A) is wrong but (R) is correct

**Options :**

64635090691. 1

64635090692. 2

64635090693. 3

64635090694. 4

**Question Number : 139 Question Id : 64635023104 Question Type : MCQ Option Shuffling : No Display Question Number : Yes Single Line Question Option : No Option Orientation : Vertical**

**Correct Marks : 2 Wrong Marks : 0**



नीचे दो कथन दिए गए हैं, एक अभिकथन (A) है और दूसरा तर्क (R) है :

अभिकथन (A) : सिकल सेल लक्षण मलेरिया से बचाव करते हैं।

तर्क (R) : मलेरिया स्थानिक क्षेत्र में HbS उच्च बारंबारता संतुलित बहुरूपवाद का उदाहरण है।

उपरोक्त दो कथनों के संदर्भ में निम्नलिखित विकल्पों में से कौन-सा सही है?

1. (A) और (R) दोनों गलत हैं
2. (A) सही है परन्तु (R) गलत है
3. (A) और (R) दोनों सही हैं
4. (A) गलत है परन्तु (R) सही है

Options :

64635090691. 1

64635090692. 2

64635090693. 3

64635090694. 4

Question Number : 140 Question Id : 64635023105 Question Type : MCQ Option Shuffling : No Display Question Number : Yes  
Single Line Question Option : No Option Orientation : Vertical

Correct Marks : 2 Wrong Marks : 0

Given below are two statements, one is labelled as Assertion (A) and the other is labelled as Reason (R) :

Assertion (A) : Francois Bordes believed that the Mousterian traditions reflect four groups who visited the same locations but lived in complete isolation.

Reason (R) : The Neanderthals and their contemporaries developed tools for different activities.

In the context of the above two statements, which one of the following option is correct?

1. (A) is correct but (R) is wrong
2. Both (A) and (R) are correct
3. (A) is wrong, but (R) is correct
4. Both (A) and (R) are wrong

Options :

64635090695. 1

64635090696. 2

64635090697. 3

64635090698. 4

Question Number : 140 Question Id : 64635023105 Question Type : MCQ Option Shuffling : No Display Question Number : Yes  
Single Line Question Option : No Option Orientation : Vertical

Correct Marks : 2 Wrong Marks : 0

नीचे दो कथन दिए गए हैं, एक अभिकथन (A) है और दूसरा तर्क (R) है :

अभिकथन (A) : फ्रानकोइस बॉर्डर्स यह मानते थे कि मॉसटेरियन परंपराएँ चार समूहों को प्रतिबिंबित करती हैं, जो समान क्षेत्रों में थीं परंतु पूरी तरह पृथक-पृथक निवास कीं।

तर्क (R) : नियन्डरथल्स और उनके समकालीनों ने विभिन्न गतिविधियों के लिए औजारों को विकसित किया।

उपरोक्त दो कथनों के संदर्भ में निम्नलिखित विकल्पों में से कौन-सा सही है?

1. (A) सही है परन्तु (R) गलत है
2. (A) और (R) दोनों सही हैं
3. (A) गलत है परन्तु (R) सही है
4. (A) और (R) दोनों गलत हैं

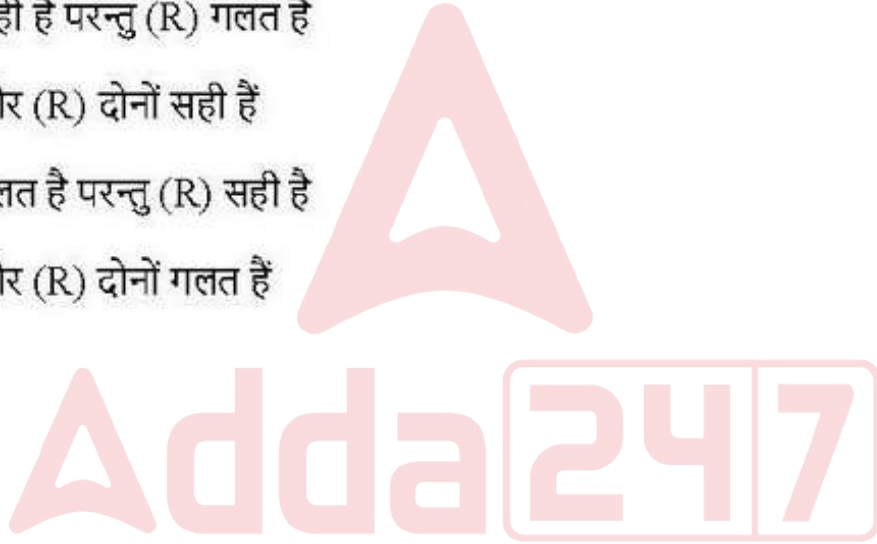
Options :

64635090695. 1

64635090696. 2

64635090697. 3

64635090698. 4



Question Number : 141 Question Id : 64635023106 Question Type : MCQ Option Shuffling : No Display Question Number : Yes  
Single Line Question Option : No Option Orientation : Vertical

Correct Marks : 2 Wrong Marks : 0

Given below are two statements, one is labelled as Assertion (A) and the other is labelled as Reason (R) :

Assertion (A) : The out of Africa model suggests that modern humans evolved in Africa.

Reason (R) : Widely depressed populations of *H. erectus* exhibited regional anatomical variation.

In the context of the above two statements, which one of the following option is correct?

1. Both (A) and (R) are true and (R) is the correct explanation of (A)
2. Both (A) and (R) are true but (R) is not the correct explanation of (A)
3. (A) is true, but (R) is false
4. (A) is false, but (R) true

Options :

64635090699. 1

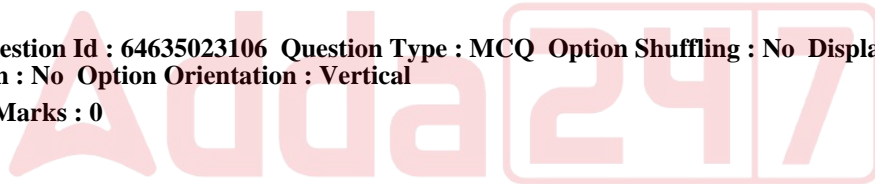
64635090700. 2

64635090701. 3

64635090702. 4

Question Number : 141 Question Id : 64635023106 Question Type : MCQ Option Shuffling : No Display Question Number : Yes  
Single Line Question Option : No Option Orientation : Vertical

Correct Marks : 2 Wrong Marks : 0



नीचे दो कथन दिए गए हैं, एक अभिकथन (A) है और दूसरा तर्क (R) है :

अभिकथन (A) : अफ्रीका से बाहर का मॉडल यह जताता है कि आधुनिक मानव का विकास अफ्रीका में हुआ।

तर्क (R) : एच. इरेक्टस की विस्तृत क्षेत्र में प्रसारित जनसंख्या ने क्षेत्रीय शारीरिक भिन्नताओं को प्रदर्शित किया।

उपरोक्त दो कथनों के संदर्भ में निम्नलिखित विकल्पों में से कौन-सा सही है?

1. (A) और (R) दोनों सत्य हैं और (R), (A) की सही व्याख्या है
2. (A) और (R) दोनों सत्य हैं परंतु (R), (A) की सही व्याख्या नहीं है
3. (A) सत्य है परन्तु (R) गलत है
4. (A) गलत है परंतु (R) सत्य है

**Options :**

64635090699. 1

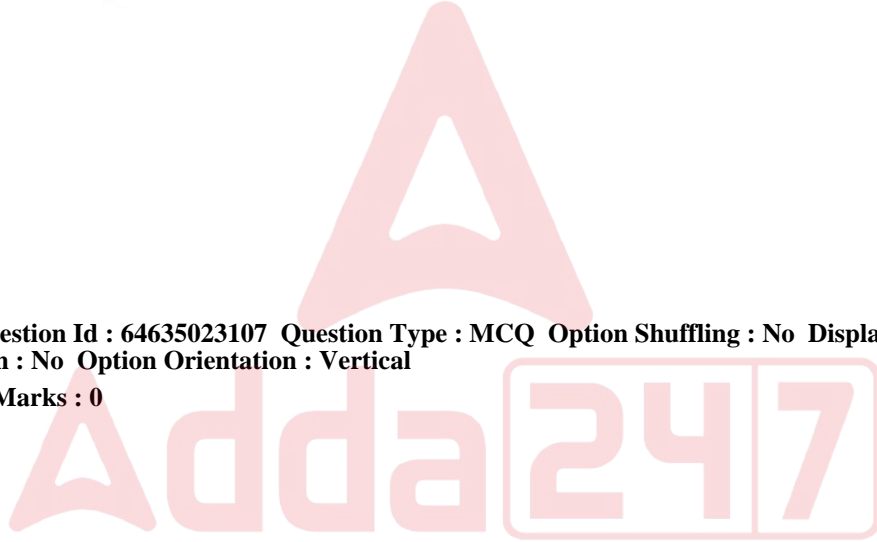
64635090700. 2

64635090701. 3

64635090702. 4

Question Number : 142 Question Id : 64635023107 Question Type : MCQ Option Shuffling : No Display Question Number : Yes  
Single Line Question Option : No Option Orientation : Vertical

Correct Marks : 2 Wrong Marks : 0



Given below are two statements, one is labelled as Assertion (A) and the other is labelled as Reason (R) :

Assertion (A) : All Central Indian rock shelters inhabited in prehistoric times such as those of Bhimbetka and Adamgarh present rock art.

Reason (R) : During the Mesolithic period, scenes of hunting predominate amongst a multiplicity of other themes of art.

In the context of the above two statements, which one of the following option is correct?

1. (A) is true and (R) is not true
2. (A) is false and (R) is true
3. (A) is false and (R) is also false
4. (A) is true and (R) is also true

Options :

64635090703. 1  
64635090704. 2  
64635090705. 3  
64635090706. 4

Question Number : 142 Question Id : 64635023107 Question Type : MCQ Option Shuffling : No Display Question Number : Yes  
Single Line Question Option : No Option Orientation : Vertical

Correct Marks : 2 Wrong Marks : 0

नीचे दो कथन दिए गए हैं, एक अभिकथन (A) है और दूसरा तर्क (R) है :

अभिकथन (A) : पूर्व-ऐतिहासिक काल में सभी मध्य भारतीय रॉक-शेल्टर्स जैसे भीमबेटका और आदमगढ़ में प्रस्तर-कला पाई जाती है।

तर्क (R) : मध्य पाषाण अवधि के दौरान कला के दूसरे विभिन्न प्रकारों में शिकार करना प्रमुख था।

उपरोक्त दो कथनों के संदर्भ में निम्नलिखित विकल्पों में से कौन-सा सही है?

1. (A) सही है और (R) सही नहीं है
2. (A) गलत है और (R) सही है
3. (A) गलत है और (R) भी गलत है
4. (A) सही है और (R) भी सही है

Options :



64635090703. 1  
64635090704. 2  
64635090705. 3  
64635090706. 4

**Question Number : 143 Question Id : 64635023108 Question Type : MCQ Option Shuffling : No Display Question Number : Yes  
Single Line Question Option : No Option Orientation : Vertical**

**Correct Marks : 2 Wrong Marks : 0**

Given below are two statements, one is labelled as Assertion (A) and the other is labelled as Reason (R) :

**Assertion (A) :** M. N. Srinivasan proposed the process of Sanskritization to explain social mobility in caste society.

**Reason (R) :** Sanskritization term was coined after studying Coorg tribe in South India.

In the context of the above two statements, which one of the following option is correct?

1. (A) is true and (R) is not true
2. (A) is false and (R) is true
3. (A) is false and (R) is also false
4. (A) is true and (R) is also true

**Options :**

64635090707. 1  
64635090708. 2  
64635090709. 3  
64635090710. 4

**Question Number : 143 Question Id : 64635023108 Question Type : MCQ Option Shuffling : No Display Question Number : Yes  
Single Line Question Option : No Option Orientation : Vertical**

**Correct Marks : 2 Wrong Marks : 0**

नीचे दो कथन दिए गए हैं, एक अभिकथन (A) है और दूसरा तर्क (R) है :

अभिकथन (A) : एम. एन. श्रीनिवासन ने संस्कृतीकरण की प्रक्रिया को जातीय समाज में सामाजिक गतिशीलता की व्याख्या करने के लिए सुझाया।

तर्क (R) : दक्षिण भारत में कूर्ग जनजाति के अध्ययन के उपरांत संस्कृतीकरण की अवधारणा को गढ़ा गया।

उपरोक्त दो कथनों के संदर्भ में निम्नलिखित विकल्पों में से कौन-सा सही है?

1. (A) सही है और (R) सही नहीं है
2. (A) गलत है और (R) सही है
3. (A) गलत है और (R) भी गलत है
4. (A) सही है और (R) भी सही है

Options :

64635090707. 1

64635090708. 2

64635090709. 3

64635090710. 4

Question Number : 144 Question Id : 64635023109 Question Type : MCQ Option Shuffling : No Display Question Number : Yes  
Single Line Question Option : No Option Orientation : Vertical

Correct Marks : 2 Wrong Marks : 0

Given below are two statements, one is labelled as Assertion (A) and the other is labelled as Reason (R) :

Assertion (A) : Gene flow is an exchange of genetic material.

Reason (R) : Gene flow is a cause of the formation of genetic isolates.

In the context of the above two statements, which one of the following option is correct?

1. (A) is correct and (R) is also correct
2. (A) is correct and (R) is wrong
3. (A) is wrong and (R) is correct
4. (A) is wrong and (R) is also wrong

Options :

64635090711. 1

64635090712. 2

64635090713. 3

Question Number : 144 Question Id : 64635023109 Question Type : MCQ Option Shuffling : No Display Question Number : Yes  
Single Line Question Option : No Option Orientation : Vertical

Correct Marks : 2 Wrong Marks : 0

नीचे दो कथन दिए गए हैं, एक अभिकथन (A) है और दूसरा तर्क (R) है :

अभिकथन (A) : जीन का प्रवाह जीनीशील पदार्थ का विनिमय है।

तर्क (R) : जीन प्रवाह जीनीशील पृथक तत्त्वों के निर्माण का कारण है।

उपरोक्त दो कथनों के संदर्भ में निम्नलिखित विकल्पों में से कौन-सा सही है?

1. (A) सही है और (R) भी सही है
2. (A) सही है और (R) गलत है
3. (A) गलत है और (R) सही है
4. (A) गलत है और (R) भी गलत है

Options :

64635090711. 1

64635090712. 2

64635090713. 3

64635090714. 4

Question Number : 145 Question Id : 64635023110 Question Type : MCQ Option Shuffling : No Display Question Number : Yes  
Single Line Question Option : No Option Orientation : Vertical

Correct Marks : 2 Wrong Marks : 0



Given below are two statements, one is labelled as Assertion (A) and the other is labelled as Reason (R) :

Assertion (A) : Medical anthropologists are being called on to consult with international and domestic health agencies in an effort to formulate health programmes that are culturally sensitive and applicable to local needs and effective in obtaining community support.

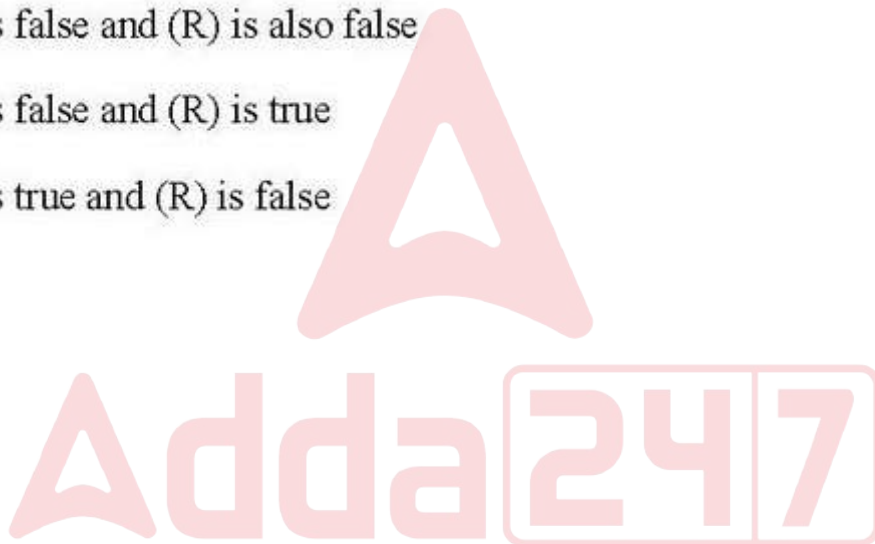
Reason (R) : Anthropological perspectives are not relevant at all levels of public health process, from inception of disease trends to the design, implementation and evaluation of progress.

In the context of the above two statements, which one of the following option is correct?

1. (A) is true and (R) is also true
2. (A) is false and (R) is also false
3. (A) is false and (R) is true
4. (A) is true and (R) is false

Options :

- 64635090715. 1
- 64635090716. 2
- 64635090717. 3
- 64635090718. 4



Question Number : 145 Question Id : 64635023110 Question Type : MCQ Option Shuffling : No Display Question Number : Yes  
Single Line Question Option : No Option Orientation : Vertical

Correct Marks : 2 Wrong Marks : 0

नीचे दो कथन दिए गए हैं, एक अभिकथन (A) है और दूसरा तर्क (R) है :

अभिकथन (A) : ऐसे स्वास्थ्य कार्यक्रमों के निर्माण के लिए चिकित्सीय मानव शास्त्रियों को अन्तर्राष्ट्रीय और अन्तर्देशीय स्वास्थ्य एजेंसियों से परामर्श करने के लिए बुलाया जा रहा है जो सांस्कृतिक दृष्टि से संवेदनशील होते हैं और स्थानीय आवश्यकताओं के लिए प्रयोज्य होने के साथ-साथ सामुदायिक सहयोग प्राप्त करने में प्रभावी हैं।

तर्क (R) : मानव विज्ञानी दृष्टिकोण रोग के उद्भव से रोग के रुझान से लेकर इसके अभिकल्प और प्रगति के कार्यान्वयन और मूल्यांकन तक लोक स्वास्थ्य प्रक्रिया के सभी स्तरों पर संगत नहीं हैं।

उपरोक्त दो कथनों के संदर्भ में निम्नलिखित विकल्पों में से कौन-सा सही है?

1. (A) सही है और (R) भी सही है
2. (A) गलत है और (R) भी गलत है
3. (A) गलत है और (R) सही है
4. (A) सही है और (R) गलत है

Options :

64635090715. 1

64635090716. 2

64635090717. 3

64635090718. 4

Sub-Section Number: 2  
Sub-Section Id: 6463501139  
Question Shuffling Allowed : Yes

Question Id : 64635023111 Question Type : COMPREHENSION Sub Question Shuffling Allowed : Yes Group Comprehension Questions : No

Question Numbers : (146 to 150)

Question Label : Comprehension

Books and articles often report research in a straightforward manner : Here's the problem, here's the answer—that kind of thing. But many researchers know from experience that knowledge does not always come in a straightforward manner. Now a professor at Rhode Island College, Terence E. Hays has reflected on the twists and turns in his fieldwork among the Ndumba in the Eastern Highlands province of Papua New Guinea. He first started studying whether different types of people (e.g., women and men) had different types of plant knowledge and whether they classified plants differently. In the course of his fieldwork, in 1972, he witnessed an initiation ceremony for 10 to 12-year-old males—a dramatic and traumatic rite of passage ceremony that included the physical trauma of nose-bleeding as well as the social traumas of 'attacks' by women and seclusion in the forest. The ceremony was full of symbolism of why the sexes needed to avoid each other. And while he collected stories and myths about plants for his research on ethnobiology, he kept uncovering themes in the stories about the danger of men associated with women.

Hays' curiosity was aroused about these ceremonies and myths. How important are myths in perpetuating cultural themes? Do other societies that have separate men's houses have similar myths? He realized when he returned home from the field that many societies have similar stories. Are these stories generally linked to initiation rites and physical segregation of the sexes? Answering these questions required comparison, so he embarked on collecting myths and folk-tales from colleagues who worked in other New Guinea Highland societies. In the course of collecting these comparative materials, he realized he didn't have all the ethnographic information he needed, so he went back to field to get it. As Hays remarked "as an ethnographer I was continually faced with questions, how do you know it's true? But even when I could reach a (hard-won) conviction that something was true for the Ndumba, the second question awaited : how do you know it's generally true, which you can't know about comparison?"

#### Sub questions

Question Number : 146 Question Id : 64635023112 Question Type : MCQ Option Shuffling : No Display Question Number : Yes  
Single Line Question Option : No Option Orientation : Vertical  
Correct Marks : 2 Wrong Marks : 0

Terence E. Hays conducted his fieldwork among which of the following communities?

1. Tsembaga Maring
2. Ndumba
3. Papua New Guinea
4. Rhode Island

**Options :**

- 64635090719. 1
- 64635090720. 2
- 64635090721. 3
- 64635090722. 4

**Question Number : 147 Question Id : 64635023113 Question Type : MCQ Option Shuffling : No Display Question Number : Yes Single Line Question Option : No Option Orientation : Vertical**

**Correct Marks : 2 Wrong Marks : 0**

Professor Hays witnessed the initiation ceremony of which of the following?


1. Boys
2. Girls
3. Men
4. Women

**Options :**

- 64635090723. 1
- 64635090724. 2
- 64635090725. 3
- 64635090726. 4

**Question Number : 148 Question Id : 64635023114 Question Type : MCQ Option Shuffling : No Display Question Number : Yes Single Line Question Option : No Option Orientation : Vertical**

**Correct Marks : 2 Wrong Marks : 0**



Why were the body secluded in the forest?

1. They were afraid of people
2. They were afraid of women
3. It was a part of initiation rite ceremony
4. Their noses were bleeding

**Options :**

64635090727. 1

64635090728. 2

64635090729. 3

64635090730. 4

**Question Number : 149 Question Id : 64635023115 Question Type : MCQ Option Shuffling : No Display Question Number : Yes Single Line Question Option : No Option Orientation : Vertical**

**Correct Marks : 2 Wrong Marks : 0**

In societies with traumatic initiation rites, usually :

1. Men have separate houses
2. Men and women live together
3. Boys and girls are allowed to be together
4. Boys and girls are sent to their relatives' house

**Options :**

64635090731. 1

64635090732. 2

64635090733. 3

64635090734. 4

**Question Number : 150 Question Id : 64635023116 Question Type : MCQ Option Shuffling : No Display Question Number : Yes Single Line Question Option : No Option Orientation : Vertical**

**Correct Marks : 2 Wrong Marks : 0**



Why did Professor Hays go back to the field?

1. He liked the people of Papua New Guinea
2. He did not have all the ethnographic information
3. The people invited him to visit again
4. He was transferred to that area

**Options :**

64635090735. 1

64635090736. 2

64635090737. 3

64635090738. 4

**Question Id : 64635023111 Question Type : COMPREHENSION Sub Question Shuffling Allowed : Yes Group Comprehension Questions : No**

**Question Numbers : (146 to 150)**

Question Label : Comprehension



पुस्तकों और आलेखों में शोध की रिपोर्ट अक्सर प्रत्यक्ष रूप से प्रकाशित की जाती है : यहाँ समस्या है, यहाँ उत्तर है-इस तरह की चीज। किन्तु बहुत से शोधार्थियों को अनुभव से ज्ञात हुआ है कि ज्ञान सदैव प्रत्यक्ष रूप से नहीं उपलब्ध होता है। अब रोड आइलैंड कॉलेज के एक प्रोफेसर, टेरेस ई. हेज ने पपुआ न्यू गिनी के इस्टर्न हाइलैंड प्रोविंस में डुम्बा के मध्य अपने फील्डवर्क में विविध आयामों पर अपना चिंतन प्रस्तुत किया है। सर्वप्रथम उन्होंने इस तथ्य का अध्ययन करना आरंभ किया कि क्या विभिन्न प्रकार के लोगों (उदाहरणार्थ महिलाएँ और पुरुष) को विभिन्न प्रकार के पादप का ज्ञान था और क्या वे पादप का अलग-अलग वर्गीकरण करते हैं अथवा नहीं। अपने फील्डवर्क (क्षेत्र-परक कार्य) के क्रम में उन्होंने वर्ष 1972 में 10 से 12 वर्ष के पुरुष वर्ग के लिए आयोजित एक दीक्षा संस्कार समारोह देखा-एक नाटकीय और अवसादपूर्ण नाइट ऑफ पैसेज समारोह जिसमें नाक से रक्त बहने का शारीरिक अवसाद होने के साथ-साथ वन में महिलाओं द्वारा 'आक्रमण' का सामाजिक अपघात और एकांतवास शामिल था। यह समारोह इस संकेतवाद से परिपूर्ण था कि नर-नारी द्वारा एक दूसरे का परिहार करने की आवश्यकता क्यों पड़ती है? और जब उन्होंने मानव जीव विज्ञान संबंधी अपने शोधकार्य के लिए पादप के बारे में कहानियों और मिथकों का संकलन किया तो उन्होंने महिलाओं से संबद्ध पुरुष के खतरे के बारे में लिखी गई कहानियों में भाव का रहस्योद्घाटन करना जारी रखा।

इन समारोहों और मिथकों के बारे में हेज की उत्सुकता बढ़ गई। सांस्कृतिक भावों को निरंतर जारी रखने में मिथक कितने महत्वपूर्ण हैं? क्या उन समाजों में जहाँ पुरुषों के गृह पृथक हैं, वहाँ भी इसी तरह के मिथक हैं? जब वे फील्ड से वापस आए तो उन्होंने महसूस किया कि बहुत से समाजों में एक जैसी कथाएँ हैं। क्या ये कथाएँ सामान्यतया दीक्षा संस्कार और नर-नारी के शारीरिक पृथक्करण से संबद्ध हैं? इन प्रश्नों के उत्तर के लिए तुलनात्मक अध्ययन अपेक्षित था, इसलिए उन्होंने उन सहकर्मियों से लोक-कथाओं और मिथकों का संकलन करने का निर्णय लिया जिन्होंने अन्य न्यू गिनी हाइलैंड सोसाइटियों में कार्य किया था। इन तुलनात्मक सामग्रियों के संकलन के क्रम में उन्होंने महसूस किया कि उनके पास अपेक्षित सभी नृजातीय जानकारी उपलब्ध नहीं थी इसलिए वे यह जानकारी एकत्र करने के लिए क्षेत्र में वापस गए। हेज ने नृवैज्ञानिक के रूप में टिप्पणी की कि 'नृवैज्ञानिक के रूप में निरंतर मेरे समक्ष प्रश्न उपस्थित होते रहे' आपको कैसे पता कि यह सत्य है? लेकिन यहाँ तक कि जब मैं किसी दृढ़ विश्वास (कठिनाई से अर्जित) और दृष्टिकोण पर पहुँचा कि डुम्बा के लिए कोई तथ्य सही है, दूसरा प्रश्न सामने खड़ा था: आपको कैसे विदित है कि यह सामान्यतः सही है जिसकी तुलना के बारे में आप जानकारी प्राप्त करने में विफल हैं?

#### Sub questions

Question Number : 146 Question Id : 64635023112 Question Type : MCQ Option Shuffling : No Display Question Number : Yes  
Single Line Question Option : No Option Orientation : Vertical  
Correct Marks : 2 Wrong Marks : 0

टेरेंस ई. हेज ने निम्नलिखित में से किस समुदाय में अपना फील्डवर्क किया था?

1. सेम्बागा मेरिंग
2. डुम्बा
3. पपुआ न्यू गिनी
4. रोड आयलैंड

Options :

64635090719. 1  
64635090720. 2  
64635090721. 3  
64635090722. 4

Question Number : 147 Question Id : 64635023113 Question Type : MCQ Option Shuffling : No Display Question Number : Yes  
Single Line Question Option : No Option Orientation : Vertical

Correct Marks : 2 Wrong Marks : 0

प्रोफेसर हेज ने निम्नलिखित में से किसका दीक्षा समारोह देखा?

1. बालक
2. बालिका
3. पुरुष
4. महिला

Options :

64635090723. 1  
64635090724. 2  
64635090725. 3  
64635090726. 4

Question Number : 148 Question Id : 64635023114 Question Type : MCQ Option Shuffling : No Display Question Number : Yes  
Single Line Question Option : No Option Orientation : Vertical

Correct Marks : 2 Wrong Marks : 0

बालक क्यों वन में एकांतवाद में थे?

1. वे लोगों से भयभीत थे।
2. वे महिलाओं से भयभीत थे।
3. यह दीक्षा संस्कार समारोह का भाग था।
4. उनके नाक से रक्त बह रहा था।

Options :

64635090727. 1  
64635090728. 2  
64635090729. 3  
64635090730. 4

Question Number : 149 Question Id : 64635023115 Question Type : MCQ Option Shuffling : No Display Question Number : Yes  
Single Line Question Option : No Option Orientation : Vertical

Correct Marks : 2 Wrong Marks : 0

ऐसे समाज में जहाँ अवसादपूर्ण दीक्षा संस्कार होता है, वहाँ सामान्यतया

1. पुरुषों के गृह अलग होते हैं।
2. पुरुष और महिलाएँ एकसाथ रहती हैं।
3. बालक और बालिकाओं को एक साथ रहने की अनुमति दी जाती है।
4. बालक और बालिकाओं को उनके रिश्तेदारों के घर भेजा जाता है।

Options :

64635090731. 1  
64635090732. 2  
64635090733. 3  
64635090734. 4

Question Number : 150 Question Id : 64635023116 Question Type : MCQ Option Shuffling : No Display Question Number : Yes  
Single Line Question Option : No Option Orientation : Vertical

Correct Marks : 2 Wrong Marks : 0

प्रोफेसर हेज क्यों फील्ड में वापस चले गए?

1. उन्हें पपुआ न्यू गिनी के लोग पसंद थे
2. उनके पास सभी नृवैज्ञानिक जानकारियों उपलब्ध नहीं थी
3. लोगों ने उन्हें पुनःयात्रा करने का आमंत्रण दिया
4. उनका उस क्षेत्र में स्थानान्तरण हो गया

Options :

64635090735. 1  
64635090736. 2  
64635090737. 3  
64635090738. 4