

Government Job = Adda247

क्यूंकी Job है तो Raub है

Adda247

**WELCOME
TO Adda247**

APP FEATURES



Download Now
Adda247 APP



Premium Study Material



Current Affairs



Job Alerts



Daily Quizzes



Subject-wise Quizzes



Magazines



Power Capsule



Notes & Articles

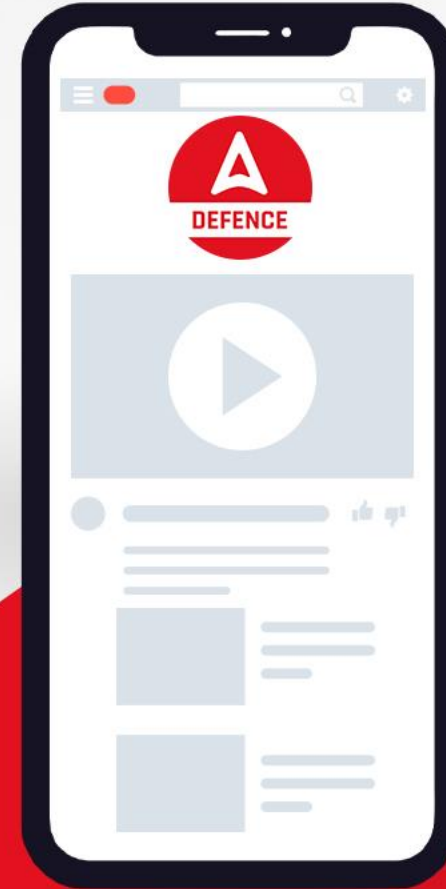


Videos



SUBSCRIBE NOW

Defence Adda247
YouTube Channel



1.

Select the number that can replace the question mark (?) in the following series.

उस संख्या का चयन करें जो निम्नलिखित श्रृंखला में प्रश्नवाचक चिन्ह (?) को प्रतिस्थापित कर सकती है।





25, 26, 53, 160, 641, ?

- a) 3403
- b) 2908
- c) 3206
- d) 3202

C

2.

Select the correct mirror image of the given figure when a mirror is placed on the right side of the figure. दी गई आकृति की सही दर्पण छवि का चयन करें जब दर्पण को आकृति के दाईं ओर रखा जाता है।

- a) 
- b) 
- c) 
- d) 



D

3.

In a certain code language, 'FROZEN' is coded as '504' and 'TONSILS' is coded as '756'. How will 'MARINE' be coded in that language? एक निश्चित कूट भाषा में, 'FROZEN' को '504' और 'TONSILS' को '756' के रूप में कोडित किया जाता है। उसी भाषा में 'MARINE' को किस प्रकार कोडित किया जाएगा?

- a) 652
- b) 456
- c) 520
- d) 360

D

4.

Select the option that is related to the third letter-cluster in the same way as the second letter-cluster is related to the first letter-cluster. उस विकल्प का चयन करें जो तीसरे अक्षर-समूह से उसी प्रकार संबंधित है जैसे दूसरा अक्षर-समूह पहले अक्षर-समूह से संबंधित है।

AZW : GFC :: LSM : ?

- a) DMT
- b) QOS
- c) RYS
- d) RXY

C

5.

In a code language, TOUCH is written as UTOHC. How will PLANT be written in that language? एक कूट भाषा में TOUCH को UTOHC लिखा जाता है। उसी भाषा में PLANT को कैसे लिखा जाएगा?

- a) TPANM
- b) TPNLA
- c) QMBOU
- d) ALRPT

B

6.

Select the correct combination of mathematical signs to sequentially replace the * signs to balance the following equation. निम्नलिखित समीकरण को संतुलित करने के लिए * चिह्नों को क्रमिक रूप से बदलने के लिए गणितीय चिह्नों के सही संयोजन का चयन करें।

$$40 * 15 * 3 * 72 * 9 = 77$$

- a) +, ÷, -, ×, =
- b) ×, ÷, +, -, =
- c) +, ×, ÷, -, =
- d) +, ×, -, ÷, =

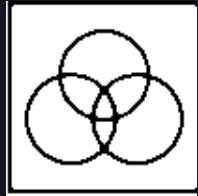
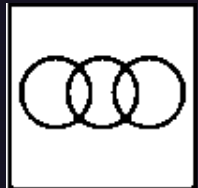
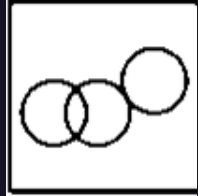
D

7.

Which of the following Venn diagrams correctly represents the classes given below.

clothes, flowers, red

कपड़े, फूल, लाल



C

BILINGUA



FOUNDATION IAF
AGNIVEER VAYU 2023
Complete Batch

Complete Batch

BILINGUA



MISSION INDIAN NAVY
MR/SSR 2023
Complete Batch

सभी विषयों की Live Classes मिलेंगी।
सभी Classes Recorded Form में आपके पास रहेंगी।
सभी Classes के PDF Notes भी मिलेंगे।
आप Teachers को देख पाओगे, Teachers आपको देख पाएंगे
आप Teachers से बोल पाओगे, Teachers आपसे बोल पाएंगे

कीमत 7999 रुपये
पर खरीदने पर
कोड लगाएँ Y274
और पाएँ मात्र **1100** रुपये में।

8.

Four number-pairs have been given, out of which three are alike in some manner and one is different. Select the number-pair that is different. चार संख्या-जोड़े दिए गए हैं, जिनमें से तीन किसी न किसी रूप में एक जैसे हैं और एक भिन्न है। उस संख्या-युग्म का चयन करें जो भिन्न है।

- a) 19 : 324
- b) 5 : 35
- c) 7 : 63
- d) 13 : 195

A

9.

Introducing a woman, Sanjay said, "She is the daughter of the woman who is the mother of my mother's husband." How is the woman related to Sanjay? एक महिला का परिचय देते हुए, संजय ने कहा, "वह उस महिला की बेटी है जो मेरी मां के पति की मां है।" महिला का संजय से क्या संबंध है?

- a) Sister
- b) Mother
- c) Sister-in-law
- d) Aunt

D

10.

Select the option that is related to the fourth number in the same way as the first number is related to the second number and the fifth number is related to the sixth number.

उस विकल्प का चयन करें जो चौथी संख्या से उसी प्रकार संबंधित है जैसे पहली संख्या दूसरी संख्या से संबंधित है और पांचवीं संख्या छठी संख्या से संबंधित है।

127 : 11 :: ? : 16 :: 367 : 19

- a) 280
- b) 248
- c) 216
- d) 262

D

11.

Select the option in which the words share the same relationship as that shared by the given pair of words. उस विकल्प का चयन करें जिसमें शब्द वही संबंध साझा करते हैं जो दिए गए शब्दों के जोड़े द्वारा साझा किए गए हैं।

Astronomy : Stars

खगोल विज्ञान: सितारे

a) Philology : Texture

भाषाशास्त्र: बनावट

b) Seismology : Theatre

भूकंप विज्ञान : रंगमंच

c) Numismatics : Coins

मुद्राशास्त्र : सिक्के

d) Psychology : Cells

मनोविज्ञान : कोशिकाएं

C

12.

Four letter-clusters have been given, out of which three are alike in some manner and one is different. Select the letter-cluster that is different. चार अक्षर-समूह दिए गए हैं, जिनमें से तीन किसी न किसी रूप में एक जैसे हैं और एक भिन्न है। उस अक्षर-समूह का चयन करें जो भिन्न हो।

- a) HNTZ
- b) IPVA
- c) VBHN
- d) AGMS

B

13.

If 'A & B' means 'A is the father of B' and 'A @ B' means 'A is the sister of B', then which of the following expressions means 'H is the father of M'? यदि 'A & B' का अर्थ 'A, B का पिता है' और 'A @ B' का अर्थ 'A, B की बहन है', तो निम्नलिखित में से किस भाव का अर्थ 'H, M का पिता है'?

- a) H @ K @ P & M
- b) K & H @ P @ M
- c) M & K @ P @ H
- d) H & K @ P @ M

D

14.

Statements:

No field is a house.

All fields are parks.

कोई फील्ड हाउस नहीं है।

सभी फील्ड पार्क हैं।

Conclusions:

No house is a field.

Some parks are fields.

Some houses are fields

कोई हाउस फील्ड नहीं है।

कुछ पार्क फील्ड हैं।

कुछ हाउस फील्ड हैं।

- a) Only conclusion II follows
- b) Only conclusions I and II follow
- c) Only conclusions II and III follow
- d) All the conclusions follow

B

BILINGUA



WARRIOR CISF
Constable Fireman 2022
Complete Batch

BILINGUA



MISSION CISF
ASI & HC 2022
Complete Batch

सभी विषयों की Live Classes मिलेंगी।
सभी Classes Recorded Form में आपके पास रहेंगी।
सभी Classes के PDF Notes भी मिलेंगे।
आप Teachers को देख पाओगे, Teachers आपको देख पाएंगे
आप Teachers से बोल पाओगे, Teachers आपसे बोल पाएंगे

कीमत 7999 रुपये
पर खरीदने पर
कोड लगाएँ Y274
और पाएँ मात्र 1800 रुपये में।

15.

‘East’ is related to ‘Direction’ in the same way as ‘Summer’ is related to ‘_____’.

‘पूर्व’ का संबंध ‘दिशा’ से उसी प्रकार है जैसे ‘ग्रीष्म’ का संबंध ‘_____’ से है।

- a) Room Cooler
- b) Temperature
- c) Heat
- d) Season

D

16.

Three of the following four words are alike in a certain way and one is different. Select the odd one. निम्नलिखित चार शब्दों में से तीन एक निश्चित तरीके से एक जैसे हैं और एक अलग है। विषम का चयन करें।

- a) Lungs
- b) Heart
- c) Liver
- d) Nose

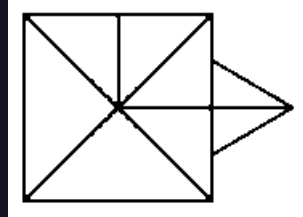
D

17.

How many triangles are there in the given figure?

दी गई आकृति में कितने त्रिभुज हैं?

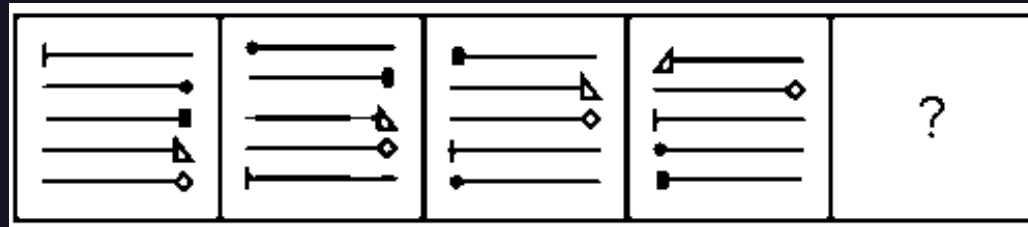
- a) 17
- b) 15
- c) 16
- d) 14




B

18.

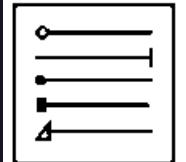
Select the figure from among the given options that can replace the question mark (?) in the following series. दिए गए विकल्पों में से उस आकृति का चयन करें जो निम्नलिखित श्रृंखला में प्रश्नवाचक चिन्ह (?) को प्रतिस्थापित कर सकता है।



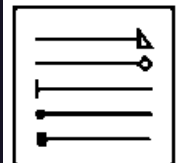
a)



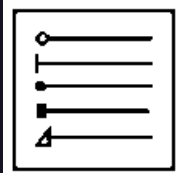
b)



c)



d)



D

19.

Six friends, A, B, C, D, E and F, are sitting opposite to each other in a circle, facing towards the centre. C and D are adjacent to each other. Also, B and F are adjacent to each other. E is sitting opposite to B. F is sitting to the left of B. Who is sitting between E and F? छह मित्र, A, B, C, D, E और F एक वृत्त में एक दूसरे के विपरीत केंद्र की ओर मुख करके बैठे हैं। C और D एक दूसरे के आसन्न हैं। साथ ही, B और F एक दूसरे के आसन्न हैं। E, B के विपरीत बैठा है। F, B के बाईं ओर बैठा है। E और F के बीच में कौन बैठा है?

- a) A
- b) F
- c) E
- d) B

A

20.

Select the number from among the given options that can replace the question mark (?) in the following series. दिए गए विकल्पों में से वह संख्या चुनिए जो निम्नलिखित श्रृंखला में प्रश्नवाचक चिन्ह (?) को प्रतिस्थापित कर सके।

38, 42, 58, 94, ?, 258

- a) 164
- b) 108
- c) 152
- d) 158

D

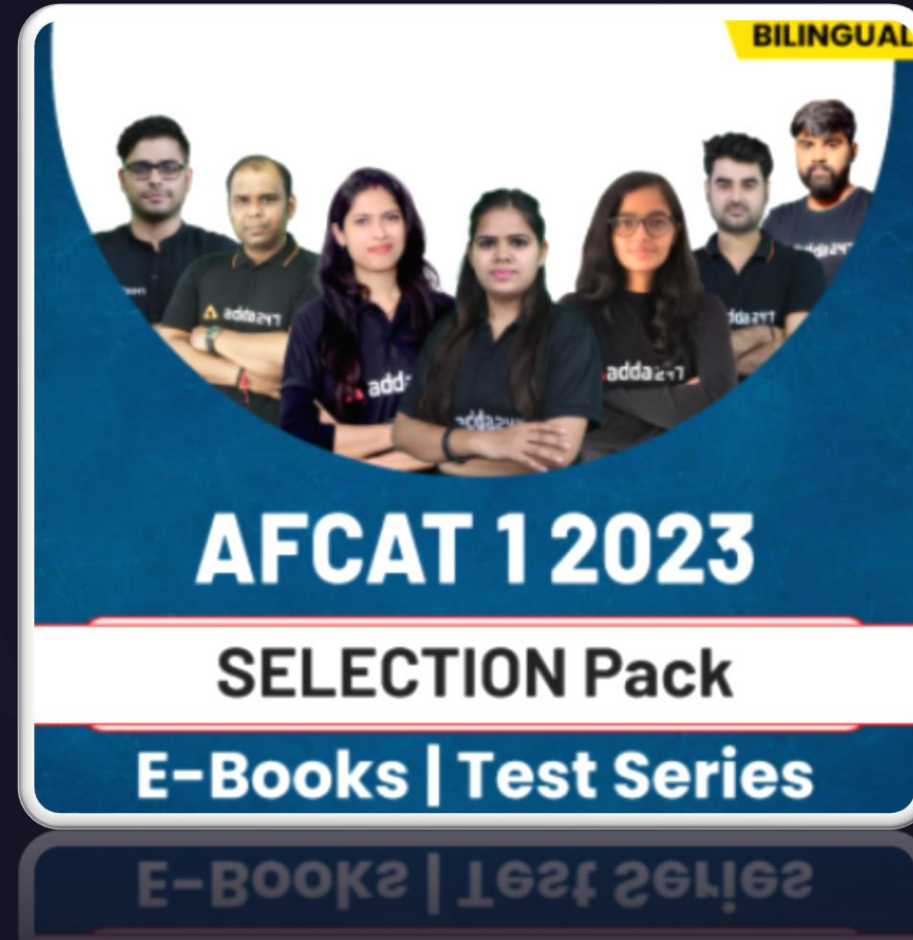
21.

Which two numbers (NOT digits) should be interchanged to make the given equation correct? दिए गए समीकरण को सही बनाने के लिए किन दो संख्याओं (अंकों को नहीं) को आपस में बदला जाना चाहिए?

$$5 \times 40 \div 8 + 3 - 14 = 53$$

- a) 8 and 14
- b) 5 and 3
- c) 5 and 8
- d) 8 and 3

C



200 Hours
Online Live Classes



214
Test Series

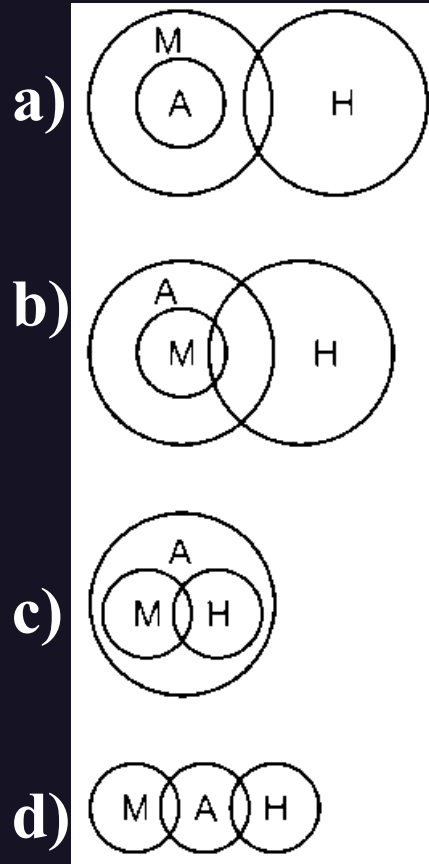


110
E-books

22.

Select the Venn diagram that best represents the relationship between the following classes. Human, Male, Animal (H: Human; M: Male; A: Animal)

मानव, नर, पशु



C

23.

Choose the number from the given alternatives which can be placed in place of the question mark (?) in the series given below. दिए गए विकल्पों में से वह संख्या चुनिए जिसे नीचे दी गई श्रृंखला में प्रश्नवाचक चिन्ह (?) के स्थान पर रखा जा सकता है।

9, 14, 34, 114, ?, 1714

- a) 524
- b) 914
- c) 654
- d) 434

D

24.

If, $5 + 7 = 47$, $3 + 8 = 35$, $9 + 2 = 29$ then $7 + 4 = ?$

यदि, $5 + 7 = 47$, $3 + 8 = 35$, $9 + 2 = 29$ तो $7 + 4 = ?$

- a) 42
- b) 45
- c) 37
- d) 39

D

25.

Study the given pattern carefully and select the number that can replace the question mark (?) in it. दिए गए पैटर्न का ध्यानपूर्वक अध्ययन करें और उस संख्या का चयन करें जो उसमें प्रश्नवाचक चिह्न (?) को प्रतिस्थापित कर सके।

7 343 3

5 ? 4

2 256 8

a) 625

b) 250

c) 525

d) 225

A

BILINGUA



WARRIOR CISF
Constable Fireman 2022
Complete Batch
Starts Sept 22, 2022 9 AM to 6 PM

BILINGUA



FOUNDATION IAF
AFCAT I 2023
Complete Batch
Starts Sept 9, 2022 3 PM to 6 PM

BILINGUA



MISSION CISF
ASI & HC 2022
Complete Batch
Starts Sept 22, 2022 9 AM to 6 PM

BILINGUA



LAKSHYA BSF
Head Constable 2022
Complete Batch
Starts Sept 22, 2022 9 AM to 6 PM

NRA CET Ready

**DEFENCE
KA MAHA PACK**

For All Defence Exams
(AFCAT, CDS, CAPF, CISF, TA,
Agniveer & Other Defence Exams)

Live Classes, Video Courses,
Test Series, eBooks

Bilingual (with eBooks)

BILINGUA



MISSION BSF
Head Constable (RO & RM)
2022 Complete Batch
Starts Sept 13, 2022 3 PM to 7 PM

THANKS FOR

Watching

Adda247

LIKE



SHARE



COMMENT



SUBSCRIBE

