

National Testing Agency

Question Paper Name :	General Hin 24th June 2023 Shift 2
Subject Name :	General Hin
Creation Date :	2023-06-24 20:22:17
Duration :	120
Total Marks :	400
Display Marks:	Yes

General

Group Number :	1
Group Id :	920906225
Group Maximum Duration :	0
Group Minimum Duration :	120
Show Attended Group? :	No
Edit Attended Group? :	No
Break time :	0
Group Marks :	400
Is this Group for Examiner? :	No
Examiner permission :	Cant View
Show Progress Bar? :	No

Part A

Section Id :	920906449
Section Number :	1
Section type :	Online
Mandatory or Optional :	Mandatory
Number of Questions :	16
Number of Questions to be attempted :	16
Section Marks :	80
Enable Mark as Answered Mark for Review and Clear Response :	Yes
Maximum Instruction Time :	0
Sub-Section Number :	1
Sub-Section Id :	920906725
Question Shuffling Allowed :	No
Is Section Default? :	null

Question Id : 92090622671 Question Type : COMPREHENSION Sub Question Shuffling Allowed : Yes Group Comprehension Questions : No Question Pattern Type : NonMatrix Calculator : None Response Time : N.A Think Time : N.A Minimum Instruction Time : 0

Question Numbers : (1 to 5)

Question Label : Comprehension

रात में दो बजे होंगे अकस्मात् सूरदास की झोंपड़ी से ज्वाला उठी। लोग अपने-अपने द्वारों पर सो रहे थे। निद्रावस्था में भी उपचेतना जागती रहती है। दम के दम सैंकड़ों आदमी जमा हो गए। आसमान पर लाली छाई हुई थी, ज्वालाएँ लपक-लपक कर आकाश की ओर दौड़ने लगीं। कभी उनका आकार किसी मंदिर के स्वर्ण-कलश का-सा हो जाता था, कभी वे वायु के झोंकों से यों कंपित होने लगती थीं, मानो जल में चाँद का प्रतिबिम्ब है। आग बुझाने का प्रयत्न किया जा रहा था पर झोंपड़े की आग ईर्ष्या की आग की भांति कभी नहीं बुझती।

Sub questions

Question Number : 1 Question Id : 92090622672 Question Type : MCQ Option Shuffling : No Is Question Mandatory : No Calculator : None Response Time : N.A Think Time : N.A Minimum Instruction Time : 0

Correct Marks : 4 Wrong Marks : 1

अकस्मात् क्या हुआ?

- | | |
|-------------------|---------------------------|
| (1) दो बजे होंगे | (2) ज्वाला उठी |
| (3) लोग सो रहे थे | (4) झोंपड़ी से ज्वाला उठी |

Options :

92090689601. 1
92090689602. 2
92090689603. 3
92090689604. 4

Question Number : 2 Question Id : 92090622673 Question Type : MCQ Option Shuffling : No Is Question Mandatory : No Calculator : None Response Time : N.A Think Time : N.A Minimum Instruction Time : 0

Correct Marks : 4 Wrong Marks : 1

'ईर्ष्या' का तद्भव रूप है -

- | | |
|-------------|-----------|
| (1) जलन | (2) ईर्षा |
| (3) ईर्क्षा | (4) इष्ट |

Options :

92090689605. 1

92090689606. 2

92090689607. 3

92090689608. 4

Question Number : 3 Question Id : 92090622674 Question Type : MCQ Option Shuffling : No Is Question Mandatory : No Calculator : None Response Time : N.A Think Time : N.A Minimum Instruction Time : 0

Correct Marks : 4 Wrong Marks : 1

ज्वाला का आकार कैसा हो गया था?

- | | |
|----------------------------|-----------------------|
| (1) लालिमा युक्त | (2) चाँद का प्रतिबिंब |
| (3) मंदिर के स्वर्ण कलश सा | (4) कंपन जैसा |

Options :

92090689609. 1

92090689610. 2

92090689611. 3

92090689612. 4

Question Number : 4 Question Id : 92090622675 Question Type : MCQ Option Shuffling : No Is Question Mandatory : No Calculator : None Response Time : N.A Think Time : N.A Minimum Instruction Time : 0

Correct Marks : 4 Wrong Marks : 1

निद्रावस्था में क्या होती है?

- | | |
|-------------|-----------|
| (1) अवचेतना | (2) शांति |
| (3) उपचेतना | (4) चेतना |

Options :

92090689613. 1

92090689614. 2

92090689615. 3

92090689616. 4

Question Number : 5 Question Id : 92090622676 Question Type : MCQ Option Shuffling : No Is Question Mandatory : No Calculator : None Response Time : N.A Think Time : N.A Minimum Instruction Time : 0

Correct Marks : 4 Wrong Marks : 1

कौन सी आग कभी नहीं बुझती?

- | | |
|-------------------|-------------------|
| (1) चूल्हे की आग | (2) जंगल की आग |
| (3) झोंपड़े की आग | (4) ईर्ष्या की आग |

Options :

92090689617. 1
92090689618. 2
92090689619. 3
92090689620. 4

Question Id : 92090622671 Question Type : COMPREHENSION Sub Question Shuffling Allowed : Yes Group Comprehension Questions : No Question Pattern Type : NonMatrix Calculator : None Response Time : N.A Think Time : N.A Minimum Instruction Time : 0

Question Numbers : (1 to 5)

Question Label : Comprehension

रात में दो बजे होंगे अकस्मात् सूरदास की झोंपड़ी से ज्वाला उठी। लोग अपने-अपने द्वारों पर सो रहे थे। निद्रावस्था में भी उपचेतना जागती रहती है। दम के दम सैंकड़ों आदमी जमा हो गए। आसमान पर लाली छाई हुई थी, ज्वालाएँ लपक-लपक कर आकाश की ओर दौड़ने लगीं। कभी उनका आकार किसी मंदिर के स्वर्ण-कलश का-सा हो जाता था, कभी वे वायु के झोंकों से यों कंपित होने लगती थीं, मानो जल में चाँद का प्रतिबिम्ब है। आग बुझाने का प्रयत्न किया जा रहा था पर झोंपड़े की आग ईर्ष्या की आग की भांति कभी नहीं बुझती।

Sub questions

Question Number : 1 Question Id : 92090622672 Question Type : MCQ Option Shuffling : No Is Question Mandatory : No Calculator : None Response Time : N.A Think Time : N.A Minimum Instruction Time : 0

Correct Marks : 4 Wrong Marks : 1

अकस्मात् क्या हुआ?

- | | |
|-------------------|---------------------------|
| (1) दो बजे होंगे | (2) ज्वाला उठी |
| (3) लोग सो रहे थे | (4) झोंपड़ी से ज्वाला उठी |

Options :

92090689601. 1
92090689602. 2
92090689603. 3
92090689604. 4

Question Number : 2 Question Id : 92090622673 Question Type : MCQ Option Shuffling : No Is Question Mandatory : No Calculator : None Response Time : N.A Think Time : N.A Minimum Instruction Time : 0

Correct Marks : 4 Wrong Marks : 1

‘ईर्ष्या’ का तद्भव रूप है –

- | | |
|-------------|-----------|
| (1) जलन | (2) ईर्षा |
| (3) ईर्क्षा | (4) इष्ट |

Options :

92090689605. 1
92090689606. 2
92090689607. 3
92090689608. 4

Question Number : 3 Question Id : 92090622674 Question Type : MCQ Option Shuffling : No Is Question Mandatory : No Calculator : None Response Time : N.A Think Time : N.A Minimum Instruction Time : 0

Correct Marks : 4 Wrong Marks : 1

ज्वाला का आकार कैसा हो गया था?

- | | |
|----------------------------|-----------------------|
| (1) लालिमा युक्त | (2) चाँद का प्रतिबिंब |
| (3) मंदिर के स्वर्ण कलश सा | (4) कंपन जैसा |

Options :

92090689609. 1
92090689610. 2
92090689611. 3
92090689612. 4

Question Number : 4 Question Id : 92090622675 Question Type : MCQ Option Shuffling : No Is Question Mandatory : No Calculator : None Response Time : N.A Think Time : N.A Minimum Instruction Time : 0

Correct Marks : 4 Wrong Marks : 1

निद्रावस्था में क्या होती है?

- | | |
|-------------|-----------|
| (1) अवचेतना | (2) शांति |
| (3) उपचेतना | (4) चेतना |

Options :

92090689613. 1

92090689614. 2

92090689615. 3

92090689616. 4

Question Number : 5 Question Id : 92090622676 Question Type : MCQ Option Shuffling : No Is Question Mandatory : No Calculator : None Response Time : N.A Think Time : N.A Minimum Instruction Time : 0

Correct Marks : 4 Wrong Marks : 1

कौन सी आग कभी नहीं बुझती?

(1) चूल्हे की आग

(2) जंगल की आग

(3) झोंपड़े की आग

(4) ईर्ष्या की आग

Options :

92090689617. 1

92090689618. 2

92090689619. 3

92090689620. 4

Sub-Section Number :

2

Sub-Section Id :

920906726

Question Shuffling Allowed :

Yes

Is Section Default? :

null

Question Number : 6 Question Id : 92090622677 Question Type : MCQ Option Shuffling : No Is Question Mandatory : No Calculator : None Response Time : N.A Think Time : N.A Minimum Instruction Time : 0

Correct Marks : 4 Wrong Marks : 1

सूची I के साथ सूची II का मिलान कीजिए

सूची-I	सूची-II
(A) लोहा	(I) देशज
(B) मयूर	(II) तद्भव
(C) लकड़ी	(III) तत्सम
(D) कॉलेज	(IV) विदेशज

नीचे दिए गए विकल्पों में से सही उत्तर का चयन कीजिए:

- (1) (A)-(II), (B)-(III), (C)-(I), (D)-(IV)
- (2) (A)-(I), (B)-(II), (C)-(IV), (D)-(III)
- (3) (A)-(III), (B)-(IV), (C)-(I), (D)-(II)
- (4) (A)-(IV), (B)-(I), (C)-(III), (D)-(II)

Options :

92090689621. 1
92090689622. 2
92090689623. 3
92090689624. 4

Question Number : 6 Question Id : 92090622677 Question Type : MCQ Option Shuffling : No Is Question Mandatory : No Calculator : None Response Time : N.A Think Time : N.A Minimum Instruction Time : 0

Correct Marks : 4 Wrong Marks : 1

सूची I के साथ सूची II का मिलान कीजिए

सूची-I	सूची-II
(A) लोहा	(I) देशज
(B) मयूर	(II) तद्भव
(C) लकड़ी	(III) तत्सम
(D) कॉलेज	(IV) विदेशज

नीचे दिए गए विकल्पों में से सही उत्तर का चयन कीजिए:

- (1) (A)-(II), (B)-(III), (C)-(I), (D)-(IV)
- (2) (A)-(I), (B)-(II), (C)-(IV), (D)-(III)
- (3) (A)-(III), (B)-(IV), (C)-(I), (D)-(II)
- (4) (A)-(IV), (B)-(I), (C)-(III), (D)-(II)

Options :

92090689621. 1
92090689622. 2
92090689623. 3
92090689624. 4

Question Number : 7 Question Id : 92090622678 Question Type : MCQ Option Shuffling : No Is Question Mandatory : No Calculator : None Response Time : N.A Think Time : N.A Minimum Instruction Time : 0

Correct Marks : 4 Wrong Marks : 1

सूची I के साथ सूची II का मिलान कीजिए

सूची-I	सूची -II
(A) अर्थ	(I) पृथ्वी
(B) अहि	(II) निमित्त
(C) अज	(III) जल
(D) अमृत	(IV) ब्रह्मा

नीचे दिए गए विकल्पों में से सही उत्तर का चयन कीजिए:

- (1) (A)-(IV), (B)-(III), (C)-(II), (D)-(I)
- (2) (A)-(II), (B)-(I), (C)-(IV), (D)-(III)
- (3) (A)-(I), (B)-(II), (C)-(III), (D)-(IV)
- (4) (A)-(III), (B)-(I), (C)-(IV), (D)-(II)

Options :

92090689625. 1
92090689626. 2
92090689627. 3
92090689628. 4

Question Number : 7 Question Id : 92090622678 Question Type : MCQ Option Shuffling : No Is Question Mandatory : No Calculator : None Response Time : N.A Think Time : N.A Minimum Instruction Time : 0

Correct Marks : 4 Wrong Marks : 1

सूची I के साथ सूची II का मिलान कीजिए

सूची-I	सूची -II
(A) अर्थ	(I) पृथ्वी
(B) अहि	(II) निमित्त
(C) अज	(III) जल
(D) अमृत	(IV) ब्रह्मा

नीचे दिए गए विकल्पों में से सही उत्तर का चयन कीजिए:

- (1) (A)-(IV), (B)-(III), (C)-(II), (D)-(I)
- (2) (A)-(II), (B)-(I), (C)-(IV), (D)-(III)
- (3) (A)-(I), (B)-(II), (C)-(III), (D)-(IV)
- (4) (A)-(III), (B)-(I), (C)-(IV), (D)-(II)

Options :

92090689625. 1
92090689626. 2
92090689627. 3
92090689628. 4

Question Number : 8 Question Id : 92090622679 Question Type : MCQ Option Shuffling : No Is Question Mandatory : No Calculator : None Response Time : N.A Think Time : N.A Minimum Instruction Time : 0

Correct Marks : 4 Wrong Marks : 1

सूची I के साथ सूची II का मिलान कीजिए

सूची-I	सूची -II
(A) रात्रि	(I) केशरी
(B) स्त्री	(II) मृग
(C) हिरण	(III) यामिनी
(D) सिंह	(IV) वनिता

नीचे दिए गए विकल्पों में से सही उत्तर का चयन कीजिए:

- (1) (A)-(IV), (B)-(III), (C)-(I), (D)-(II)
- (2) (A)-(I), (B)-(II), (C)-(III), (D)-(IV)
- (3) (A)-(III), (B)-(IV), (C)-(II), (D)-(I)
- (4) (A)-(IV), (B)-(I), (C)-(III), (D)-(II)

Options :

92090689629. 1
92090689630. 2
92090689631. 3
92090689632. 4

**Question Number : 8 Question Id : 92090622679 Question Type : MCQ Option Shuffling : No Is
Question Mandatory : No Calculator : None Response Time : N.A Think Time : N.A Minimum
Instruction Time : 0
Correct Marks : 4 Wrong Marks : 1**

सूची I के साथ सूची II का मिलान कीजिए

सूची-I	सूची -II
(A) रात्रि	(I) केशरी
(B) स्त्री	(II) मृग
(C) हिरण	(III) यामिनी
(D) सिंह	(IV) वनिता

नीचे दिए गए विकल्पों में से सही उत्तर का चयन कीजिए:

- (1) (A)-(IV), (B)-(III), (C)-(I), (D)-(II)
- (2) (A)-(I), (B)-(II), (C)-(III), (D)-(IV)
- (3) (A)-(III), (B)-(IV), (C)-(II), (D)-(I)
- (4) (A)-(IV), (B)-(I), (C)-(III), (D)-(II)

Options :

92090689629. 1
92090689630. 2
92090689631. 3
92090689632. 4

Question Number : 9 Question Id : 92090622680 Question Type : MCQ Option Shuffling : No Is Question Mandatory : No Calculator : None Response Time : N.A Think Time : N.A Minimum Instruction Time : 0

Correct Marks : 4 Wrong Marks : 1

निम्नलिखित शब्दों में से शुद्ध शब्द का चयन कीजिए –

- | | |
|-----------|--------------|
| (1) नुपुर | (2) साधू |
| (3) सूई | (4) बाल्मीकी |

Options :

92090689633. 1
92090689634. 2
92090689635. 3
92090689636. 4

Question Number : 9 Question Id : 92090622680 Question Type : MCQ Option Shuffling : No Is Question Mandatory : No Calculator : None Response Time : N.A Think Time : N.A Minimum Instruction Time : 0

Correct Marks : 4 Wrong Marks : 1

निम्नलिखित शब्दों में से शुद्ध शब्द का चयन कीजिए -

- | | |
|-----------|--------------|
| (1) नुपुर | (2) साधू |
| (3) सूई | (4) बाल्मीकी |

Options :

- 92090689633. 1
- 92090689634. 2
- 92090689635. 3
- 92090689636. 4

Question Number : 10 Question Id : 92090622681 Question Type : MCQ Option Shuffling : No Is Question Mandatory : No Calculator : None Response Time : N.A Think Time : N.A Minimum Instruction Time : 0

Correct Marks : 4 Wrong Marks : 1

नीचे दिए गए शब्दों में अशुद्ध वर्तनी वाला शब्द है -

- | | |
|------------|------------|
| (1) उभ-चुभ | (2) उन्नति |
| (3) उँचाई | (4) उभय |

Options :

- 92090689637. 1
- 92090689638. 2
- 92090689639. 3
- 92090689640. 4

Question Number : 10 Question Id : 92090622681 Question Type : MCQ Option Shuffling : No Is Question Mandatory : No Calculator : None Response Time : N.A Think Time : N.A Minimum Instruction Time : 0

Correct Marks : 4 Wrong Marks : 1

नीचे दिए गए शब्दों में अशुद्ध वर्तनी वाला शब्द है -

- | | |
|------------|------------|
| (1) उभ-चुभ | (2) उन्नति |
| (3) उँचाई | (4) उभय |

Options :

- 92090689637. 1
- 92090689638. 2
- 92090689639. 3

92090689640. 4

Question Number : 11 Question Id : 92090622682 Question Type : MCQ Option Shuffling : No Is Question Mandatory : No Calculator : None Response Time : N.A Think Time : N.A Minimum Instruction Time : 0

Correct Marks : 4 Wrong Marks : 1

शुद्ध वाक्य का चयन कीजिए –

- | | |
|-------------------------------|-------------------------------|
| (1) बैल और बकरी घास चरती हैं। | (2) बैल और बकरी घास चरते हैं। |
| (3) बैल और बकरी घास चरता है। | (4) बैल और बकरी घास चरती है। |

Options :

- 92090689641. 1
- 92090689642. 2
- 92090689643. 3
- 92090689644. 4

Question Number : 11 Question Id : 92090622682 Question Type : MCQ Option Shuffling : No Is Question Mandatory : No Calculator : None Response Time : N.A Think Time : N.A Minimum Instruction Time : 0

Correct Marks : 4 Wrong Marks : 1

शुद्ध वाक्य का चयन कीजिए –

- | | |
|-------------------------------|-------------------------------|
| (1) बैल और बकरी घास चरती हैं। | (2) बैल और बकरी घास चरते हैं। |
| (3) बैल और बकरी घास चरता है। | (4) बैल और बकरी घास चरती है। |

Options :

- 92090689641. 1
- 92090689642. 2
- 92090689643. 3
- 92090689644. 4

Question Number : 12 Question Id : 92090622683 Question Type : MCQ Option Shuffling : No Is Question Mandatory : No Calculator : None Response Time : N.A Think Time : N.A Minimum Instruction Time : 0

Correct Marks : 4 Wrong Marks : 1

शुद्ध वाक्य का चयन कीजिए –

- | | |
|-------------------------------|--|
| (1) यह मेरा पुस्तक है। | (2) श्रीकृष्ण के अनेक नाम हैं। |
| (3) बंदूक एक उपयोग शस्त्र है। | (4) बाघ और बकरी एक घाट पर पानी पीती हैं। |

Options :

- 92090689645. 1
- 92090689646. 2
- 92090689647. 3
- 92090689648. 4

Question Number : 12 Question Id : 92090622683 Question Type : MCQ Option Shuffling : No Is Question Mandatory : No Calculator : None Response Time : N.A Think Time : N.A Minimum Instruction Time : 0

Correct Marks : 4 Wrong Marks : 1

शुद्ध वाक्य का चयन कीजिए –

- | | |
|-------------------------------|--|
| (1) यह मेरा पुस्तक है। | (2) श्रीकृष्ण के अनेक नाम हैं। |
| (3) बंदूक एक उपयोग शस्त्र है। | (4) बाघ और बकरी एक घाट पर पानी पीती हैं। |

Options :

- 92090689645. 1
- 92090689646. 2
- 92090689647. 3
- 92090689648. 4

Question Number : 13 Question Id : 92090622684 Question Type : MCQ Option Shuffling : No Is Question Mandatory : No Calculator : None Response Time : N.A Think Time : N.A Minimum Instruction Time : 0

Correct Marks : 4 Wrong Marks : 1

ऐसे वाक्य का चयन कीजिए जो परिष्कृत नहीं है :-

- | | |
|-----------------------------|-----------------------------------|
| (1) मुझे केवल दस रुपये मिले | (2) मुझे दस रुपये मात्र मिले |
| (3) मुझे दस रुपये ही मिले | (4) मुझे केवल दस रुपये मात्र मिले |

Options :

- 92090689649. 1
- 92090689650. 2
- 92090689651. 3
- 92090689652. 4

Question Number : 13 Question Id : 92090622684 Question Type : MCQ Option Shuffling : No Is Question Mandatory : No Calculator : None Response Time : N.A Think Time : N.A Minimum Instruction Time : 0

Correct Marks : 4 Wrong Marks : 1

ऐसे वाक्य का चयन कीजिए जो परिष्कृत नहीं है :-

- | | |
|-----------------------------|-----------------------------------|
| (1) मुझे केवल दस रुपये मिले | (2) मुझे दस रुपये मात्र मिले |
| (3) मुझे दस रुपये ही मिले | (4) मुझे केवल दस रुपये मात्र मिले |

Options :

92090689649. 1
92090689650. 2
92090689651. 3
92090689652. 4

Question Number : 14 Question Id : 92090622685 Question Type : MCQ Option Shuffling : No Is Question Mandatory : No Calculator : None Response Time : N.A Think Time : N.A Minimum Instruction Time : 0

Correct Marks : 4 Wrong Marks : 1

निम्नलिखित में से सही वाक्य का चयन कीजिए :-

- | | |
|------------------------------|----------------------------------|
| (1) हम अपने संस्थान जायेंगे। | (2) हम अपने संस्थान में जायेंगे। |
| (3) हम हमें संस्थान जायेंगे। | (4) हम मेरे संस्थान जायेंगे। |

Options :

92090689653. 1
92090689654. 2
92090689655. 3
92090689656. 4

Question Number : 14 Question Id : 92090622685 Question Type : MCQ Option Shuffling : No Is Question Mandatory : No Calculator : None Response Time : N.A Think Time : N.A Minimum Instruction Time : 0

Correct Marks : 4 Wrong Marks : 1

निम्नलिखित में से सही वाक्य का चयन कीजिए :-

- | | |
|------------------------------|----------------------------------|
| (1) हम अपने संस्थान जायेंगे। | (2) हम अपने संस्थान में जायेंगे। |
| (3) हम हमें संस्थान जायेंगे। | (4) हम मेरे संस्थान जायेंगे। |

Options :

92090689653. 1

92090689654. 2

92090689655. 3

92090689656. 4

Question Number : 15 Question Id : 92090622686 Question Type : MCQ Option Shuffling : No Is Question Mandatory : No Calculator : None Response Time : N.A Think Time : N.A Minimum Instruction Time : 0

Correct Marks : 4 Wrong Marks : 1

वाक्य में रिक्त स्थान की पूर्ति कीजिए :-
सब पुस्तकें _____ बिखरी पड़ी थीं।

(1) तत्रेव

(2) सर्वत्र

(3) यत्र – तत्र

(4) अन्यत्र

Options :

92090689657. 1

92090689658. 2

92090689659. 3

92090689660. 4

Question Number : 15 Question Id : 92090622686 Question Type : MCQ Option Shuffling : No Is Question Mandatory : No Calculator : None Response Time : N.A Think Time : N.A Minimum Instruction Time : 0

Correct Marks : 4 Wrong Marks : 1

वाक्य में रिक्त स्थान की पूर्ति कीजिए :-
सब पुस्तकें _____ बिखरी पड़ी थीं।

(1) तत्रेव

(2) सर्वत्र

(3) यत्र – तत्र

(4) अन्यत्र

Options :

92090689657. 1

92090689658. 2

92090689659. 3

92090689660. 4

Question Number : 16 Question Id : 92090622687 Question Type : MCQ Option Shuffling : No Is Question Mandatory : No Calculator : None Response Time : N.A Think Time : N.A Minimum Instruction Time : 0

Correct Marks : 4 Wrong Marks : 1

‘जो दिखाई न दे’ के लिए सबसे सही शब्द है।

- | | |
|---------------|--------------|
| (1) अदूरदर्शी | (2) अदृश्य |
| (3) नभचर | (4) जन्मान्ध |

Options :

- 92090689661. 1
- 92090689662. 2
- 92090689663. 3
- 92090689664. 4

Question Number : 16 Question Id : 92090622687 Question Type : MCQ Option Shuffling : No Is Question Mandatory : No Calculator : None Response Time : N.A Think Time : N.A Minimum Instruction Time : 0

Correct Marks : 4 Wrong Marks : 1

‘जो दिखाई न दे’ के लिए सबसे सही शब्द है।

- | | |
|---------------|--------------|
| (1) अदूरदर्शी | (2) अदृश्य |
| (3) नभचर | (4) जन्मान्ध |

Options :

- 92090689661. 1
- 92090689662. 2
- 92090689663. 3
- 92090689664. 4

Question Number : 17 Question Id : 92090622688 Question Type : MCQ Option Shuffling : No Is Question Mandatory : No Calculator : None Response Time : N.A Think Time : N.A Minimum Instruction Time : 0

Correct Marks : 4 Wrong Marks : 1

आकाश शब्द का समानार्थी शब्द नहीं है -

- | | |
|-----------|------------|
| (1) अम्बर | (2) पुष्कर |
| (3) खगचर | (4) शून्य |

Options :

- 92090689665. 1
- 92090689666. 2
- 92090689667. 3

92090689668. 4

Question Number : 17 Question Id : 92090622688 Question Type : MCQ Option Shuffling : No Is Question Mandatory : No Calculator : None Response Time : N.A Think Time : N.A Minimum Instruction Time : 0

Correct Marks : 4 Wrong Marks : 1

आकाश शब्द का समानार्थी शब्द नहीं है -

- | | |
|-----------|------------|
| (1) अम्बर | (2) पुष्कर |
| (3) खगचर | (4) शून्य |

Options :

92090689665. 1

92090689666. 2

92090689667. 3

92090689668. 4

Question Number : 18 Question Id : 92090622689 Question Type : MCQ Option Shuffling : No Is Question Mandatory : No Calculator : None Response Time : N.A Think Time : N.A Minimum Instruction Time : 0

Correct Marks : 4 Wrong Marks : 1

'जय' शब्द का विलोम शब्द होगा -

- | | |
|-----------|-------------|
| (1) अजय | (2) विजय |
| (3) पराजय | (4) जन्मोजय |

Options :

92090689669. 1

92090689670. 2

92090689671. 3

92090689672. 4

Question Number : 18 Question Id : 92090622689 Question Type : MCQ Option Shuffling : No Is Question Mandatory : No Calculator : None Response Time : N.A Think Time : N.A Minimum Instruction Time : 0

Correct Marks : 4 Wrong Marks : 1

'जय' शब्द का विलोम शब्द होगा -

- | | |
|-----------|-------------|
| (1) अजय | (2) विजय |
| (3) पराजय | (4) जन्मोजय |

Options :

- 92090689669. 1
- 92090689670. 2
- 92090689671. 3
- 92090689672. 4

Question Number : 19 Question Id : 92090622690 Question Type : MCQ Option Shuffling : No Is Question Mandatory : No Calculator : None Response Time : N.A Think Time : N.A Minimum Instruction Time : 0

Correct Marks : 4 Wrong Marks : 1

'गगरी फूटी बैल प्यासा' का सही अर्थ है -

- | | |
|-------------------------|-------------------------------|
| (1) समय पर काम न होना | (2) बूँद बूँद को मोहताज होना |
| (3) बैल को पानी न मिलना | (4) बैल के कारण गगरी का फूटना |

Options :

- 92090689673. 1
- 92090689674. 2
- 92090689675. 3
- 92090689676. 4

Question Number : 19 Question Id : 92090622690 Question Type : MCQ Option Shuffling : No Is Question Mandatory : No Calculator : None Response Time : N.A Think Time : N.A Minimum Instruction Time : 0

Correct Marks : 4 Wrong Marks : 1

'गगरी फूटी बैल प्यासा' का सही अर्थ है -

- | | |
|-------------------------|-------------------------------|
| (1) समय पर काम न होना | (2) बूँद बूँद को मोहताज होना |
| (3) बैल को पानी न मिलना | (4) बैल के कारण गगरी का फूटना |

Options :

- 92090689673. 1
- 92090689674. 2
- 92090689675. 3
- 92090689676. 4

Question Number : 20 Question Id : 92090622691 Question Type : MCQ Option Shuffling : No Is Question Mandatory : No Calculator : None Response Time : N.A Think Time : N.A Minimum Instruction Time : 0

Correct Marks : 4 Wrong Marks : 1

'बगलें झांकना' लोकोक्ति का अर्थ है –

- | | |
|--------------------|-------------------------|
| (1) बगल में झांकना | (2) पड़ोसी के घर झांकना |
| (3) बगुले को देखना | (4) निरुत्तर होना |

Options :

92090689677. 1
92090689678. 2
92090689679. 3
92090689680. 4

Question Number : 20 Question Id : 92090622691 Question Type : MCQ Option Shuffling : No Is Question Mandatory : No Calculator : None Response Time : N.A Think Time : N.A Minimum Instruction Time : 0

Correct Marks : 4 Wrong Marks : 1

'बगलें झांकना' लोकोक्ति का अर्थ है –

- | | |
|--------------------|-------------------------|
| (1) बगल में झांकना | (2) पड़ोसी के घर झांकना |
| (3) बगुले को देखना | (4) निरुत्तर होना |

Options :

92090689677. 1
92090689678. 2
92090689679. 3
92090689680. 4

Part B

Section Id :	920906450
Section Number :	2
Section type :	Online
Mandatory or Optional :	Mandatory
Number of Questions :	80
Number of Questions to be attempted :	80
Section Marks :	320

Enable Mark as Answered Mark for Review and Clear Response : Yes
Maximum Instruction Time : 0
Sub-Section Number : 1
Sub-Section Id : 920906727
Question Shuffling Allowed : Yes
Is Section Default? : null

Question Number : 21 Question Id : 92090622692 Question Type : MCQ Option Shuffling : No Is Question Mandatory : No Calculator : None Response Time : N.A Think Time : N.A Minimum Instruction Time : 0
Correct Marks : 4 Wrong Marks : 1

First Hindi Novel to win International Booker prize is Tomb of sand which is English Translation of 'Ret Samadh', written by

- (1) Arundhati Roy (2) Rupri Kaur
(3) Geentanjali Shree (4) Kiran Desai

Options :

92090689681. 1
92090689682. 2
92090689683. 3
92090689684. 4

Question Number : 21 Question Id : 92090622692 Question Type : MCQ Option Shuffling : No Is Question Mandatory : No Calculator : None Response Time : N.A Think Time : N.A Minimum Instruction Time : 0
Correct Marks : 4 Wrong Marks : 1

अंतराष्ट्रीय बुकर पुरस्कार जीतने वाला प्रथम हिंदी उपन्यास "टॉम्ब आफ सेंड" का लेखक कौन है, जिसका 'रेत समाधि' से अंग्रेजी में अनुवाद किया गया है ?

- (1) अरुंधती राय (2) रूपी कुमार
(3) गीतांजलि श्री (4) किरण देसाई

Options :

92090689681. 1
92090689682. 2
92090689683. 3
92090689684. 4

Question Number : 22 Question Id : 92090622693 Question Type : MCQ Option Shuffling : No Is Question Mandatory : No Calculator : None Response Time : N.A Think Time : N.A Minimum

Instruction Time : 0

Correct Marks : 4 Wrong Marks : 1

Who is the first Indian origin British army officer to trek solo to south pole:

- | | |
|-------------------|---------------------|
| (1) Bachendri Pal | (2) Harpreet Chandi |
| (3) Sangeeta Bahl | (4) Jyoti Amge |

Options :

- 92090689685. 1
- 92090689686. 2
- 92090689687. 3
- 92090689688. 4

Question Number : 22 Question Id : 92090622693 Question Type : MCQ Option Shuffling : No Is Question Mandatory : No Calculator : None Response Time : N.A Think Time : N.A Minimum Instruction Time : 0

Correct Marks : 4 Wrong Marks : 1

निम्नलिखित में से कौन भारतीय मूल का/की सैनिक अधिकारी है, जो अकेले दक्षिण ध्रुव पर पहुंचा / पहुंची थी ?

- | | |
|------------------|------------------|
| (1) बचेंद्री पाल | (2) हरप्रीत चंडी |
| (3) संगीता बहल | (4) ज्योति आमो |

Options :

- 92090689685. 1
- 92090689686. 2
- 92090689687. 3
- 92090689688. 4

Question Number : 23 Question Id : 92090622694 Question Type : MCQ Option Shuffling : No Is Question Mandatory : No Calculator : None Response Time : N.A Think Time : N.A Minimum Instruction Time : 0

Correct Marks : 4 Wrong Marks : 1

The empire in India responsible for laying the foundation of Nalanda University?

- | | |
|------------------|--------------------|
| (1) Nanda empire | (2) Mauryan empire |
| (3) Gupta empire | (4) Magadhe empire |

Options :

- 92090689689. 1
- 92090689690. 2
- 92090689691. 3

92090689692. 4

Question Number : 23 Question Id : 92090622694 Question Type : MCQ Option Shuffling : No Is Question Mandatory : No Calculator : None Response Time : N.A Think Time : N.A Minimum Instruction Time : 0

Correct Marks : 4 Wrong Marks : 1

भारत में किस साम्राज्य ने नालंदा विश्वविद्यालय की आधार – शिला रखी थी?

- | | |
|---------------------|---------------------|
| (1) नँद साम्राज्य | (2) मौर्य साम्राज्य |
| (3) गुप्त साम्राज्य | (4) मगध साम्राज्य |

Options :

92090689689. 1
92090689690. 2
92090689691. 3
92090689692. 4

Question Number : 24 Question Id : 92090622695 Question Type : MCQ Option Shuffling : No Is Question Mandatory : No Calculator : None Response Time : N.A Think Time : N.A Minimum Instruction Time : 0

Correct Marks : 4 Wrong Marks : 1

After approval the copies of constitution were photolithographed by:

- | | |
|------------------------------------|--------------------------------|
| (1) The Asiatic Society | (2) National archives of India |
| (3) Archaeological survey of India | (4) Survey of India |

Options :

92090689693. 1
92090689694. 2
92090689695. 3
92090689696. 4

Question Number : 24 Question Id : 92090622695 Question Type : MCQ Option Shuffling : No Is Question Mandatory : No Calculator : None Response Time : N.A Think Time : N.A Minimum Instruction Time : 0

Correct Marks : 4 Wrong Marks : 1

अनुमोदन के बाद संविधान की प्रतियों को निम्नलिखित में से किसने चित्र – अश्वमुद्रित किया था ?

- | | |
|-------------------------------|----------------------------------|
| (1) द एशियाटिक सोसायटी | (2) भारत का राष्ट्रीय अभिलेखागार |
| (3) भारतीय पुरातत्व सर्वेक्षण | (4) भारतीय सर्वेक्षण |

Options :

- 92090689693. 1
- 92090689694. 2
- 92090689695. 3
- 92090689696. 4

Question Number : 25 Question Id : 92090622696 Question Type : MCQ Option Shuffling : No Is Question Mandatory : No Calculator : None Response Time : N.A Think Time : N.A Minimum Instruction Time : 0

Correct Marks : 4 Wrong Marks : 1

44th Constitutional Amendment Act 1978 deals with:

- | | |
|-----------------------|---------------------|
| (1) Right to freedom | (2) Right to speech |
| (3) Right to property | (4) Right to voting |

Options :

- 92090689697. 1
- 92090689698. 2
- 92090689699. 3
- 92090689700. 4

Question Number : 25 Question Id : 92090622696 Question Type : MCQ Option Shuffling : No Is Question Mandatory : No Calculator : None Response Time : N.A Think Time : N.A Minimum Instruction Time : 0

Correct Marks : 4 Wrong Marks : 1

44-वां संविधान संशोधन अधिनियम 1978 किससे संबंधित है?

- | | |
|--------------------------|---------------------|
| (1) स्वतंत्रता का अधिकार | (2) भाषण का अधिकार |
| (3) सम्पत्ति का अधिकार | (4) मतदान का अधिकार |

Options :

- 92090689697. 1
- 92090689698. 2
- 92090689699. 3
- 92090689700. 4

Question Number : 26 Question Id : 92090622697 Question Type : MCQ Option Shuffling : No Is Question Mandatory : No Calculator : None Response Time : N.A Think Time : N.A Minimum Instruction Time : 0

Correct Marks : 4 Wrong Marks : 1

In 2005 Arundhati Roy was awarded for which collection of essays that were later translated into Hindi under the Title "Nyaay ka Ganit".

- (1) The Algebra of Justice (2) The Algebra of finite Justice
(3) The Algebra of Infinite justice (4) God of small things

Options :

92090689701. 1
92090689702. 2
92090689703. 3
92090689704. 4

Question Number : 26 Question Id : 92090622697 Question Type : MCQ Option Shuffling : No Is Question Mandatory : No Calculator : None Response Time : N.A Think Time : N.A Minimum Instruction Time : 0

Correct Marks : 4 Wrong Marks : 1

अरुंधती रॉय को 2005 में किस निबंध संग्रह के लिए पुरस्कार दिया गया था, जिसका बाद में 'न्याय का गणित' शीर्षक से हिंदी में अनुवाद किया गया?

- (1) द एलजेब्रा ऑफ जस्टिस (2) द एलजेब्रा ऑफ फाइनाइट जस्टिस
(3) द एलजेब्रा ऑफ इन्फाइनाइट जस्टिस (4) गॉड ऑफ स्माल थिंग्स

Options :

92090689701. 1
92090689702. 2
92090689703. 3
92090689704. 4

Question Number : 27 Question Id : 92090622698 Question Type : MCQ Option Shuffling : No Is Question Mandatory : No Calculator : None Response Time : N.A Think Time : N.A Minimum Instruction Time : 0

Correct Marks : 4 Wrong Marks : 1

Who is the first Indian to cross English channel twice?

- (1) Arati Saha (2) Mihir Sen
(3) Bula Choudhry (4) Preethi Srinivasan

Options :

92090689705. 1
92090689706. 2
92090689707. 3
92090689708. 4

Question Number : 27 Question Id : 92090622698 Question Type : MCQ Option Shuffling : No Is Question Mandatory : No Calculator : None Response Time : N.A Think Time : N.A Minimum Instruction Time : 0

Correct Marks : 4 Wrong Marks : 1

निम्नलिखित में से कौन 'इंग्लिश चैनल' को दो बार पार करने वाला प्रथम भारतीय है?

- | | |
|----------------|-----------------------|
| (1) आरती साहा | (2) मिहिर सेन |
| (3) बुला चौधरी | (4) प्रिथी श्रीनिवासन |

Options :

- 92090689705. 1
- 92090689706. 2
- 92090689707. 3
- 92090689708. 4

Question Number : 28 Question Id : 92090622699 Question Type : MCQ Option Shuffling : No Is Question Mandatory : No Calculator : None Response Time : N.A Think Time : N.A Minimum Instruction Time : 0

Correct Marks : 4 Wrong Marks : 1

Match List I with List II :

List I (Books)	List II (Authors)
(A) Wings of Fire	(I) Annie Besant
(B) Wake up India	(II) A.P.J. Abdul Kalam
(C) Train to Pakistan	(III) Chetan Bhagat
(D) The three mistakes in my life	(IV) Khushwant Singh

Choose the correct answer from the options given below :

- (1) (A)-(IV), (B)-(III), (C)-(II), (D)-(I)
- (2) (A)-(II), (B)-(I), (C)-(III), (D)-(IV)
- (3) (A)-(I), (B)-(II), (C)-(IV), (D)-(III)
- (4) (A)-(II), (B)-(I), (C)-(IV), (D)-(III)

Options :

- 92090689709. 1
- 92090689710. 2
- 92090689711. 3
- 92090689712. 4

Question Number : 28 Question Id : 92090622699 Question Type : MCQ Option Shuffling : No Is Question Mandatory : No Calculator : None Response Time : N.A Think Time : N.A Minimum Instruction Time : 0

Correct Marks : 4 Wrong Marks : 1

सूची I के साथ सूची II का मिलान कीजिए

सूची-I	सूची -II
(A) 'विंग्स ऑफ फायर'	(I) एनी बिसन्ट
(B) 'वेक अप इंडिया'	(II) ए.पी.जे. अब्दुल कलाम
(C) 'ट्रेन टू पाकिस्तान'	(III) चेतन भगत
(D) 'द श्री मिस्टेक्स इन माई लाइफ़'	(IV) खुशवंत सिंह

नीचे दिए गए विकल्पों में से सही उत्तर का चयन कीजिए:

- (1) (A)-(IV), (B)-(III), (C)-(II), (D)-(I)
- (2) (A)-(II), (B)-(I), (C)-(III), (D)-(IV)
- (3) (A)-(I), (B)-(II), (C)-(IV), (D)-(III)
- (4) (A)-(II), (B)-(I), (C)-(IV), (D)-(III)

Options :

92090689709. 1
92090689710. 2
92090689711. 3
92090689712. 4

Question Number : 29 Question Id : 92090622700 Question Type : MCQ Option Shuffling : No Is Question Mandatory : No Calculator : None Response Time : N.A Think Time : N.A Minimum Instruction Time : 0

Correct Marks : 4 Wrong Marks : 1

The first recipient of Jnanpith award is:

- | | |
|----------------------|-------------------|
| (1) G. Shankar Kurup | (2) Damoder Mauzo |
| (3) Nilmani Phookan | (4) Krishna Sobti |

Options :

92090689713. 1
92090689714. 2
92090689715. 3
92090689716. 4

Question Number : 29 Question Id : 92090622700 Question Type : MCQ Option Shuffling : No Is Question Mandatory : No Calculator : None Response Time : N.A Think Time : N.A Minimum Instruction Time : 0

Correct Marks : 4 Wrong Marks : 1

ज्ञानपीठ पुरस्कार सर्वप्रथम किसे दिया गया था?

- | | |
|--------------------|------------------|
| (1) जी. शंकर कुरूप | (2) दामोदर मन्टो |
| (3) नीलमणि फूकन | (4) कृष्णा सोबती |

Options :

- 92090689713. 1
- 92090689714. 2
- 92090689715. 3
- 92090689716. 4

Question Number : 30 Question Id : 92090622701 Question Type : MCQ Option Shuffling : No Is Question Mandatory : No Calculator : None Response Time : N.A Think Time : N.A Minimum Instruction Time : 0

Correct Marks : 4 Wrong Marks : 1

The G20 or Group of 20 is an inter governmental forum comprising 19 countries and European Union. It works mainly to address _____ .

- (1) International financial stability
- (2) Terrorism and territorial disputes
- (3) Peace Prosperity and stability
- (4) Common interests and to cooperate on international forums

Options :

- 92090689717. 1
- 92090689718. 2
- 92090689719. 3
- 92090689720. 4

Question Number : 30 Question Id : 92090622701 Question Type : MCQ Option Shuffling : No Is Question Mandatory : No Calculator : None Response Time : N.A Think Time : N.A Minimum Instruction Time : 0

Correct Marks : 4 Wrong Marks : 1

जी-20 या ग्रुप ऑफ 20 एक अंतर-सरकारी मंच है, जिसमें 19 देश और यूरोपियन यूनियन सम्मिलित है। यह मुख्यतः किस पर ध्यान देता है?

- (1) अंतर्राष्ट्रीय वित्तीय स्थायित्व
- (2) आतंकवाद और राज्य – क्षेत्रीय विवाद (टेरिटरियल डिसप्यूट्स)
- (3) शांति, समृद्धि और स्थायित्व
- (4) सामान्य हित और अंतर्राष्ट्रीय मंचों पर सहयोग

Options :

92090689717. 1
92090689718. 2
92090689719. 3
92090689720. 4

Question Number : 31 Question Id : 92090622702 Question Type : MCQ Option Shuffling : No Is Question Mandatory : No Calculator : None Response Time : N.A Think Time : N.A Minimum Instruction Time : 0

Correct Marks : 4 Wrong Marks : 1

According to 2011 census, the only Indian state that had decline in population compared to 2001 census is:

- | | |
|--------------|-------------|
| (1) Nagaland | (2) Manipur |
| (3) Kerala | (4) Sikkim |

Options :

92090689721. 1
92090689722. 2
92090689723. 3
92090689724. 4

Question Number : 31 Question Id : 92090622702 Question Type : MCQ Option Shuffling : No Is Question Mandatory : No Calculator : None Response Time : N.A Think Time : N.A Minimum Instruction Time : 0

Correct Marks : 4 Wrong Marks : 1

2011 की जनगणना के अनुसार भारत का वह एकमात्र राज्य कौनसा है, जिसमें 2001 की जनगणना की तुलना में जनसंख्या में गिरावट आई है?

- | | |
|-------------|-------------|
| (1) नगालैंड | (2) मणिपुर |
| (3) केरल | (4) सिक्किम |

Options :

92090689721. 1
92090689722. 2
92090689723. 3
92090689724. 4

Question Number : 32 Question Id : 92090622703 Question Type : MCQ Option Shuffling : No Is Question Mandatory : No Calculator : None Response Time : N.A Think Time : N.A Minimum Instruction Time : 0

Correct Marks : 4 Wrong Marks : 1

The only gland in the human body that can regenerate it self if part of it is removed is called:

- (1) Adrenal (2) Thyroid
(3) Liver (4) Pancreas

Options :

92090689725. 1
92090689726. 2
92090689727. 3
92090689728. 4

Question Number : 32 Question Id : 92090622703 Question Type : MCQ Option Shuffling : No Is Question Mandatory : No Calculator : None Response Time : N.A Think Time : N.A Minimum Instruction Time : 0

Correct Marks : 4 Wrong Marks : 1

मानव शरीर में उस एकमात्र ग्रन्थि को क्या कहा जाता है, जिसके एक भाग को हटाने पर वह अपने को पुनर्जीवित (पुनः उत्पन्न होना) कर सकती है?

- (1) अधिवृक्क (एड्रिनल) (2) अवटूग्रन्थि (थाइरॉयड)
(3) यकृत (लीवर) (4) अग्राशय (पैन्क्रियाज)

Options :

92090689725. 1
92090689726. 2
92090689727. 3
92090689728. 4

Question Number : 33 Question Id : 92090622704 Question Type : MCQ Option Shuffling : No Is Question Mandatory : No Calculator : None Response Time : N.A Think Time : N.A Minimum Instruction Time : 0

Correct Marks : 4 Wrong Marks : 1

Wilted flower revive in fresh water, plants can absorb water from the soil. These are examples of which phenomenon:

- | | |
|---------------------|----------------------|
| (1) Surface Tension | (2) Capillary action |
| (3) Viscosity | (4) Osmosis |

Options :

- 92090689729. 1
- 92090689730. 2
- 92090689731. 3
- 92090689732. 4

Question Number : 33 Question Id : 92090622704 Question Type : MCQ Option Shuffling : No Is Question Mandatory : No Calculator : None Response Time : N.A Think Time : N.A Minimum Instruction Time : 0

Correct Marks : 4 Wrong Marks : 1

मुरझाए फूल ताजा जल में पुनर्जीवित होते हैं, पादप मृदा से जल सोख सकते हैं। ये किस परिघटना के उदाहरण हैं ?

- | | |
|---------------------------------|----------------------|
| (1) पृष्ठ – तनाव (सर्फेस टेंशन) | (2) केशिका क्रिया |
| (3) श्यानता (विस्कोसिटी) | (4) परासरण (ओसमोसिस) |

Options :

- 92090689729. 1
- 92090689730. 2
- 92090689731. 3
- 92090689732. 4

Question Number : 34 Question Id : 92090622705 Question Type : MCQ Option Shuffling : No Is Question Mandatory : No Calculator : None Response Time : N.A Think Time : N.A Minimum Instruction Time : 0

Correct Marks : 4 Wrong Marks : 1

Match List I with List II :

List I	List II
(A) World's first space station	(I) Pioneer 10
(B) First Satellite launched by America.	(II) Salyut 1
(C) First spacecraft to fly-past mars	(III) Explorer 1
(D) First spacecraft to fly-past Jupiter	(IV) Mariner 4

Choose the correct answer from the options given below :

- (1) (A)-(II), (B)-(III), (C)-(IV), (D)-(I)
- (2) (A)-(III), (B)-(II), (C)-(IV), (D)-(I)
- (3) (A)-(II), (B)-(III), (C)-(I), (D)-(IV)
- (4) (A)-(IV), (B)-(III), (C)-(II), (D)-(I)

Options :

- 92090689733. 1
- 92090689734. 2
- 92090689735. 3
- 92090689736. 4

Question Number : 34 Question Id : 92090622705 Question Type : MCQ Option Shuffling : No Is Question Mandatory : No Calculator : None Response Time : N.A Think Time : N.A Minimum Instruction Time : 0

Correct Marks : 4 Wrong Marks : 1

सूची I के साथ सूची II का मिलान कीजिए

सूची-I	सूची -II
(A) विश्व का प्रथम अंतरिक्ष स्टेशन	(I) पायोनियर 10
(B) अमेरिका द्वारा प्रक्षेपित उपग्रह	(II) सैल्यूट 1
(C) मंगल ग्रह की ओर उड़ान भरने वाला प्रथम अंतरिक्ष यान	(III) एक्सप्लोरर 1
(D) उड़ान भरने वाला प्रथम अंतरिक्ष यान	(IV) मैरिनर 4

नीचे दिए गए विकल्पों में से सही उत्तर का चयन कीजिए:

- (1) (A)-(II), (B)-(III), (C)-(IV), (D)-(I)
- (2) (A)-(III), (B)-(II), (C)-(IV), (D)-(I)
- (3) (A)-(II), (B)-(III), (C)-(I), (D)-(IV)
- (4) (A)-(IV), (B)-(III), (C)-(II), (D)-(I)

Options :

92090689733. 1
92090689734. 2
92090689735. 3
92090689736. 4

Question Number : 35 Question Id : 92090622706 Question Type : MCQ Option Shuffling : No Is Question Mandatory : No Calculator : None Response Time : N.A Think Time : N.A Minimum Instruction Time : 0

Correct Marks : 4 Wrong Marks : 1

The NATO headquarters are situated on which city of Europe?

- | | |
|--------------|-----------------|
| (1) London | (2) Paris |
| (3) Brussels | (4) Switzerland |

Options :

92090689737. 1
92090689738. 2
92090689739. 3
92090689740. 4

Question Number : 35 Question Id : 92090622706 Question Type : MCQ Option Shuffling : No Is Question Mandatory : No Calculator : None Response Time : N.A Think Time : N.A Minimum Instruction Time : 0

Correct Marks : 4 Wrong Marks : 1

नाटो (NATO) का मुख्यालय यूरोप के किस शहर में स्थित है?

- | | |
|---------------|------------------|
| (1) लंदन | (2) पेरिस |
| (3) ब्रुसेल्स | (4) स्विट्जरलैंड |

Options :

- 92090689737. 1
- 92090689738. 2
- 92090689739. 3
- 92090689740. 4

Question Number : 36 Question Id : 92090622707 Question Type : MCQ Option Shuffling : No Is Question Mandatory : No Calculator : None Response Time : N.A Think Time : N.A Minimum Instruction Time : 0

Correct Marks : 4 Wrong Marks : 1

Nephology is a branch of meteorology that deals with the study in the atmosphere.

- | | |
|-------------------|----------------|
| (1) Water vapours | (2) Pollutants |
| (3) Clouds | (4) Germs |

Options :

- 92090689741. 1
- 92090689742. 2
- 92090689743. 3
- 92090689744. 4

Question Number : 36 Question Id : 92090622707 Question Type : MCQ Option Shuffling : No Is Question Mandatory : No Calculator : None Response Time : N.A Think Time : N.A Minimum Instruction Time : 0

Correct Marks : 4 Wrong Marks : 1

मेघविज्ञान मौसम-विज्ञान की एक शाखा है, जो वायुमंडल में किसके अध्ययन से सम्बंधित है?

- | | |
|-------------|---------------------|
| (1) जलवाष्प | (2) प्रदूषक |
| (3) मेघ | (4) जीवाणु (जर्म्स) |

Options :

- 92090689741. 1
- 92090689742. 2
- 92090689743. 3
- 92090689744. 4

Question Number : 37 Question Id : 92090622708 Question Type : MCQ Option Shuffling : No Is Question Mandatory : No Calculator : None Response Time : N.A Think Time : N.A Minimum Instruction Time : 0

Correct Marks : 4 Wrong Marks : 1

Match List I with List II :

List I	List II
(A) Vishakhapatnam Port	(I) Is a natural harbour situated at the head of queen of Arabian sea
(B) Paradwip Port	(II) Is a land locked harbour
(C) Kandla Port	(III) Has deepest harbour and is situated in Mahanadi delta
(D) Kochchi Port	(IV) Situated at the head of Gulf of Kuchchh

Choose the correct answer from the options given below :

- (1) (A)-(IV), (B)-(I), (C)-(II), (D)-(III)
- (2) (A)-(III), (B)-(II), (C)-(IV), (D)-(I)
- (3) (A)-(II), (B)-(III), (C)-(IV), (D)-(I)
- (4) (A)-(II), (B)-(III), (C)-(I), (D)-(IV)

Options :

- 92090689745. 1
- 92090689746. 2
- 92090689747. 3
- 92090689748. 4

Question Number : 37 Question Id : 92090622708 Question Type : MCQ Option Shuffling : No Is Question Mandatory : No Calculator : None Response Time : N.A Think Time : N.A Minimum Instruction Time : 0

Correct Marks : 4 Wrong Marks : 1

सूची I के साथ सूची II का मिलान कीजिए

सूची-I	सूची -II
(A) विशाखापट्टनम	(I) एक प्राकृतिक पोताश्रय है, जो अरब सागर की क्वीन के शीर्ष पर स्थित है।
(B) पाराद्वीप बंदरगाह	(II) एक भू-आबद्ध पोताश्रय है।
(C) कांडला बंदरगाह	(III) अधिकतम गहरा पोताश्रय है और महानदी डेल्टा में स्थित है।
(D) कोच्चिन बंदरगाह	(IV) कच्छ की खाड़ी के शीर्ष पर स्थित है।

नीचे दिए गए विकल्पों में से सही उत्तर का चयन कीजिए:

- (1) (A)-(IV), (B)-(I), (C)-(II), (D)-(III)
- (2) (A)-(III), (B)-(II), (C)-(IV), (D)-(I)
- (3) (A)-(II), (B)-(III), (C)-(IV), (D)-(I)
- (4) (A)-(II), (B)-(III), (C)-(I), (D)-(IV)

Options :

92090689745. 1
92090689746. 2
92090689747. 3
92090689748. 4

Question Number : 38 Question Id : 92090622709 Question Type : MCQ Option Shuffling : No Is Question Mandatory : No Calculator : None Response Time : N.A Think Time : N.A Minimum Instruction Time : 0

Correct Marks : 4 Wrong Marks : 1

Match List I with List II :

List I	List II
(A) Speedy increase in the milk production	(I) Green Revolution
(B) Increase in oil-seeds production	(II) White Revolution
(C) Increase in the fish production	(III) Yellow Revolution
(D) Increase in agricultural production by use of technology	(IV) Blue Revolution

Choose the correct answer from the options given below :

- (1) (A)-(IV), (B)-(III), (C)-(II), (D)-(I)
- (2) (A)-(II), (B)-(III), (C)-(IV), (D)-(I)
- (3) (A)-(III), (B)-(II), (C)-(IV), (D)-(I)
- (4) (A)-(II), (B)-(III), (C)-(I), (D)-(IV)

Options :

92090689749. 1

92090689750. 2

92090689751. 3

92090689752. 4

Question Number : 38 Question Id : 92090622709 Question Type : MCQ Option Shuffling : No Is Question Mandatory : No Calculator : None Response Time : N.A Think Time : N.A Minimum Instruction Time : 0

Correct Marks : 4 Wrong Marks : 1

सूची I के साथ सूची II का मिलान कीजिए

सूची-I

- (A) दुग्ध उत्पादन में तेजी से वृद्धि
- (B) तिलहन उत्पादन में वृद्धि
- (C) मछली उत्पादन में वृद्धि
- (D) प्रौद्योगिकी के उपयोग द्वारा कृषि - पैदावार में वृद्धि

सूची -II

- (I) हरित क्रांति
- (II) श्वेत क्रांति
- (III) पीत क्रांति
- (IV) नीली क्रांति

नीचे दिए गए विकल्पों में से सही उत्तर का चयन कीजिए:

- (1) (A)-(IV), (B)-(III), (C)-(II), (D)-(I)
- (2) (A)-(II), (B)-(III), (C)-(IV), (D)-(I)
- (3) (A)-(III), (B)-(II), (C)-(IV), (D)-(I)
- (4) (A)-(II), (B)-(III), (C)-(I), (D)-(IV)

Options :

- 92090689749. 1
- 92090689750. 2
- 92090689751. 3
- 92090689752. 4

Question Number : 39 Question Id : 92090622710 Question Type : MCQ Option Shuffling : No Is Question Mandatory : No Calculator : None Response Time : N.A Think Time : N.A Minimum Instruction Time : 0 Correct Marks : 4 Wrong Marks : 1

Given below are two statements :

Statement I : Konkan Railway is a 760 km long rail route which connects Roha in Maharashtra to Mangalore in Karnataka.

Statement II : The state of Maharashtra, Karnataka, Gujrat and Tamil Nadu are partners in the above undertaking

In the light of the above statements, choose the correct answer from the options given below :

- (1) Both Statement I and Statement II are true
- (2) Both Statement I and Statement II are false
- (3) Statement I is true but Statement II is false
- (4) Statement I is false but Statement II is true

Options :

92090689753. 1

92090689754. 2

92090689755. 3

92090689756. 4

Question Number : 39 Question Id : 92090622710 Question Type : MCQ Option Shuffling : No Is Question Mandatory : No Calculator : None Response Time : N.A Think Time : N.A Minimum Instruction Time : 0

Correct Marks : 4 Wrong Marks : 1

नीचे दो कथन दिए गए हैं:

कथन I : कोंकण रेलवे 760 किलोमीटर लंबा एक मार्ग है, जो महाराष्ट्र के रोहा से लेकर कर्नाटक के मैंगलोर तक को जोड़ता है।

कथन II : उपर्युक्त उपक्रम में महाराष्ट्र, कर्नाटक, गुजरात और तमिलनाडु साझेदार हैं।

उपरोक्त कथन के आलोक में, नीचे दिए गए विकल्पों में से सही उत्तर का चयन कीजिए

- (1) कथन I और II दोनों सत्य हैं
- (2) कथन I और II दोनों असत्य हैं
- (3) कथन I सत्य है, लेकिन कथन II असत्य है
- (4) कथन I असत्य है, लेकिन कथन II सत्य है

Options :

92090689753. 1
92090689754. 2
92090689755. 3
92090689756. 4

Question Number : 40 Question Id : 92090622711 Question Type : MCQ Option Shuffling : No Is Question Mandatory : No Calculator : None Response Time : N.A Think Time : N.A Minimum Instruction Time : 0

Correct Marks : 4 Wrong Marks : 1

The most expensive Indian painting sold in 1961 was painted by:

- | | |
|-------------------|---------------------|
| (1) M.F. Hussain | (2) S.H. Raja |
| (3) V.S. Gaitonde | (4) Raja Ravi Verma |

Options :

92090689757. 1
92090689758. 2
92090689759. 3
92090689760. 4

Question Number : 40 Question Id : 92090622711 Question Type : MCQ Option Shuffling : No Is Question Mandatory : No Calculator : None Response Time : N.A Think Time : N.A Minimum Instruction Time : 0

Correct Marks : 4 Wrong Marks : 1

1961 में बिकी भारत की सर्वाधिक महंगी पेंटिंग को किसने चित्रित किया था?

- | | |
|-----------------------|--------------------|
| (1) एम. एफ. हुसैन | (2) एस. एच. राजा |
| (3) वी. एस. गैतोंद्रे | (4) राजा रवि वर्मा |

Options :

92090689757. 1
92090689758. 2
92090689759. 3
92090689760. 4

Question Number : 41 Question Id : 92090622712 Question Type : MCQ Option Shuffling : No Is Question Mandatory : No Calculator : None Response Time : N.A Think Time : N.A Minimum Instruction Time : 0

Correct Marks : 4 Wrong Marks : 1

Japan's former longest serving prime minister who was shot dead while giving a campaign speech. His name was_____.

- | | |
|--------------------|------------------|
| (1) Yoshihide Suga | (2) Fumio Kshida |
| (3) Shinzo Abe | (4) Naruhito |

Options :

92090689761. 1
92090689762. 2
92090689763. 3
92090689764. 4

Question Number : 41 Question Id : 92090622712 Question Type : MCQ Option Shuffling : No Is Question Mandatory : No Calculator : None Response Time : N.A Think Time : N.A Minimum Instruction Time : 0

Correct Marks : 4 Wrong Marks : 1

जापान में सबसे लम्बे समय तक पदासीन रहे प्रधान मंत्री की तब गोली मार कर हत्या कर दी गयी, जब वह एक चुनावी अभियान में भाषण दे रहे थे। इनका क्या नाम था?

- | | |
|-------------------|--------------------|
| (1) योशिहिडे सुगा | (2) फ्यूमिओ क्षिदा |
| (3) शिन्जो अबे | (4) नारूहितो |

Options :

92090689761. 1
92090689762. 2
92090689763. 3
92090689764. 4

Question Number : 42 Question Id : 92090622713 Question Type : MCQ Option Shuffling : No Is Question Mandatory : No Calculator : None Response Time : N.A Think Time : N.A Minimum Instruction Time : 0

Correct Marks : 4 Wrong Marks : 1

Who received the latest 57th Jnanpith Award in 2022.

- | | |
|--------------------|-------------------|
| (1) Krishna Sabti | (2) Damodar Mauzo |
| (3) Mulk Raj Anand | (4) Shankar Ghosh |

Options :

92090689765. 1
92090689766. 2
92090689767. 3
92090689768. 4

Question Number : 42 Question Id : 92090622713 Question Type : MCQ Option Shuffling : No Is Question Mandatory : No Calculator : None Response Time : N.A Think Time : N.A Minimum Instruction Time : 0

Correct Marks : 4 Wrong Marks : 1

निम्नलिखित में से किसको 2022 में नवीनतम 57 वां ज्ञानपीठ पुरस्कार प्राप्त हुआ था?

- | | |
|--------------------|-----------------|
| (1) कृष्णा सोबती | (2) दामोदर मैजो |
| (3) मुल्क राज आनंद | (4) शंकर घोष |

Options :

- 92090689765. 1
- 92090689766. 2
- 92090689767. 3
- 92090689768. 4

Question Number : 43 Question Id : 92090622714 Question Type : MCQ Option Shuffling : No Is Question Mandatory : No Calculator : None Response Time : N.A Think Time : N.A Minimum Instruction Time : 0

Correct Marks : 4 Wrong Marks : 1

India's first bullet train will connect which two cities?

- | | |
|----------------------|------------------|
| (1) Delhi-Agra | (2) Delhi-Jaipur |
| (3) Mumbai-Ahmedabad | (4) Mumbai-Pune |

Options :

- 92090689769. 1
- 92090689770. 2
- 92090689771. 3
- 92090689772. 4

Question Number : 43 Question Id : 92090622714 Question Type : MCQ Option Shuffling : No Is Question Mandatory : No Calculator : None Response Time : N.A Think Time : N.A Minimum Instruction Time : 0

Correct Marks : 4 Wrong Marks : 1

भारत की प्रथम बुलेट ट्रेन किन दो शहरों को जोड़ेगी?

- | | |
|----------------------|--------------------|
| (1) दिल्ली – आगरा | (2) दिल्ली – जयपुर |
| (3) मुंबई – अहमदाबाद | (4) मुंबई – पुणे |

Options :

92090689769. 1
92090689770. 2
92090689771. 3
92090689772. 4

Question Number : 44 Question Id : 92090622715 Question Type : MCQ Option Shuffling : No Is Question Mandatory : No Calculator : None Response Time : N.A Think Time : N.A Minimum Instruction Time : 0
Correct Marks : 4 Wrong Marks : 1

'Golden Quadrilateral' is a major project taken up by NHAI. It comprises construction of long 4/6 lane high density traffic corridor which connects

- (1) New Delhi with Amritsar (Golden Temple)
- (2) Golden temple with four big cities of Punjab
- (3) India's four big metro cities of Delhi-Mumbai-Chennai-Kolkata
- (4) India's four extreme states Jammu and Kashmir, Tamilnadu, Assam and Gujarat

Options :

92090689773. 1
92090689774. 2
92090689775. 3
92090689776. 4

Question Number : 44 Question Id : 92090622715 Question Type : MCQ Option Shuffling : No Is Question Mandatory : No Calculator : None Response Time : N.A Think Time : N.A Minimum Instruction Time : 0
Correct Marks : 4 Wrong Marks : 1

'स्वर्ण चतुर्भुज' एक प्रमुख परियोजना है, जो एन. एच. ए. आई. द्वारा प्रारम्भ की गयी। इसमें 4/6 लेन वाला उच्च घनत्व यातायात कॉरिडोर का निर्माण सम्मिलित है, जो किनको जोड़ता है?

- (1) नई दिल्ली को अमृतसर (स्वर्ण मंदिर) के साथ
- (2) स्वर्ण मंदिर को पंजाब के चार बड़े शहरों के साथ
- (3) भारत के चार बड़े मेट्रो शहरों – दिल्ली-मुंबई-चैन्नई-कोलकाता को
- (4) भारत के चार दूरस्थ राज्यों – जम्मू एवं कश्मीर, तमिलनाडु, असम और गुजरात को

Options :

92090689773. 1
92090689774. 2
92090689775. 3
92090689776. 4

Question Number : 45 Question Id : 92090622716 Question Type : MCQ Option Shuffling : No Is Question Mandatory : No Calculator : None Response Time : N.A Think Time : N.A Minimum Instruction Time : 0

Correct Marks : 4 Wrong Marks : 1

Who is the new youngest President of Chile?

- | | |
|-----------------------|----------------------|
| (1) Jose Antanio Kast | (2) Salvador Allende |
| (3) Gabriel Boric | (4) Olaf Scholz |

Options :

- 92090689777. 1
- 92090689778. 2
- 92090689779. 3
- 92090689780. 4

Question Number : 45 Question Id : 92090622716 Question Type : MCQ Option Shuffling : No Is Question Mandatory : No Calculator : None Response Time : N.A Think Time : N.A Minimum Instruction Time : 0

Correct Marks : 4 Wrong Marks : 1

चिली के सबसे युवा नए राष्ट्रपति कौन हैं?

- | | |
|------------------------|--------------------|
| (1) जोस एंटोनियो कास्ट | (2) सल्वाडोर आलंदे |
| (3) गैब्रियल बोरिक | (4) ओलाफ शोल्ट |

Options :

- 92090689777. 1
- 92090689778. 2
- 92090689779. 3
- 92090689780. 4

Question Number : 46 Question Id : 92090622717 Question Type : MCQ Option Shuffling : No Is Question Mandatory : No Calculator : None Response Time : N.A Think Time : N.A Minimum Instruction Time : 0

Correct Marks : 4 Wrong Marks : 1

How many number of layers are in the open system interconnection (OSI) model?

- | | |
|-------|-------|
| (1) 5 | (2) 6 |
| (3) 8 | (4) 7 |

Options :

- 92090689781. 1
- 92090689782. 2
- 92090689783. 3

92090689784. 4

Question Number : 46 Question Id : 92090622717 Question Type : MCQ Option Shuffling : No Is Question Mandatory : No Calculator : None Response Time : N.A Think Time : N.A Minimum Instruction Time : 0

Correct Marks : 4 Wrong Marks : 1

ओपन सिस्टम इंटरकनेक्शन (ओ. एस. आई) मॉडल में परतें कितनी संख्या में हैं?

- | | |
|-------|-------|
| (1) 5 | (2) 6 |
| (3) 8 | (4) 7 |

Options :

- 92090689781. 1
- 92090689782. 2
- 92090689783. 3
- 92090689784. 4

Question Number : 47 Question Id : 92090622718 Question Type : MCQ Option Shuffling : No Is Question Mandatory : No Calculator : None Response Time : N.A Think Time : N.A Minimum Instruction Time : 0

Correct Marks : 4 Wrong Marks : 1

Workbook is a collection of:

- | | |
|----------------|-------------|
| (1) Page setup | (2) Buttons |
| (3) Worksheets | (4) Charts |

Options :

- 92090689785. 1
- 92090689786. 2
- 92090689787. 3
- 92090689788. 4

Question Number : 47 Question Id : 92090622718 Question Type : MCQ Option Shuffling : No Is Question Mandatory : No Calculator : None Response Time : N.A Think Time : N.A Minimum Instruction Time : 0

Correct Marks : 4 Wrong Marks : 1

वर्कबुक किनका एक संग्रह है?

- | | |
|----------------|-------------|
| (1) पेज सेट-अप | (2) बटन |
| (3) वर्कशीट्स | (4) चार्ट्स |

Options :

- 92090689785. 1
- 92090689786. 2
- 92090689787. 3
- 92090689788. 4

Question Number : 48 Question Id : 92090622719 Question Type : MCQ Option Shuffling : No Is Question Mandatory : No Calculator : None Response Time : N.A Think Time : N.A Minimum Instruction Time : 0

Correct Marks : 4 Wrong Marks : 1

The default file format of MS Access is:

- | | |
|----------|----------|
| (1) .doc | (2) .ppt |
| (3) .xls | (4) .mdb |

Options :

- 92090689789. 1
- 92090689790. 2
- 92090689791. 3
- 92090689792. 4

Question Number : 48 Question Id : 92090622719 Question Type : MCQ Option Shuffling : No Is Question Mandatory : No Calculator : None Response Time : N.A Think Time : N.A Minimum Instruction Time : 0

Correct Marks : 4 Wrong Marks : 1

एम. एस. एक्सेस का डिफॉल्ट फाईल फार्मेट कौनसा है?

- | | |
|----------|----------|
| (1) .doc | (2) .ppt |
| (3) .xls | (4) .mdb |

Options :

- 92090689789. 1
- 92090689790. 2
- 92090689791. 3
- 92090689792. 4

Question Number : 49 Question Id : 92090622720 Question Type : MCQ Option Shuffling : No Is Question Mandatory : No Calculator : None Response Time : N.A Think Time : N.A Minimum Instruction Time : 0

Correct Marks : 4 Wrong Marks : 1

The data-storage capacity of DVD is:

- | | |
|------------|------------|
| (1) 2.5 GB | (2) 700 MB |
| (3) 1.3 GB | (4) 4.7 GB |

Options :

- 92090689793. 1
- 92090689794. 2
- 92090689795. 3
- 92090689796. 4

Question Number : 49 Question Id : 92090622720 Question Type : MCQ Option Shuffling : No Is Question Mandatory : No Calculator : None Response Time : N.A Think Time : N.A Minimum Instruction Time : 0

Correct Marks : 4 Wrong Marks : 1

डी. वी. डी. की डेटा स्टोरेज क्षमता कितनी है?

- | | |
|------------|------------|
| (1) 2.5 GB | (2) 700 GB |
| (3) 13 GB | (4) 4.7 GB |

Options :

- 92090689793. 1
- 92090689794. 2
- 92090689795. 3
- 92090689796. 4

Question Number : 50 Question Id : 92090622721 Question Type : MCQ Option Shuffling : No Is Question Mandatory : No Calculator : None Response Time : N.A Think Time : N.A Minimum Instruction Time : 0

Correct Marks : 4 Wrong Marks : 1

The contents written in _____ requires continuous power supply to retain it into the memory.

- | | |
|----------------------------|-------------------------------|
| (1) Read Only Memory (ROM) | (2) Random Access Drive (RAM) |
| (3) Hard Disk Drive (HDD) | (4) Pen Drive |

Options :

- 92090689797. 1
- 92090689798. 2
- 92090689799. 3
- 92090689800. 4

Question Number : 50 Question Id : 92090622721 Question Type : MCQ Option Shuffling : No Is Question Mandatory : No Calculator : None Response Time : N.A Think Time : N.A Minimum Instruction Time : 0

Correct Marks : 4 Wrong Marks : 1

_____ में लिखित विषयवस्तु को बनाए रखने के लिए निरंतर बिजली आपूर्ति आवश्यक है।

- | | |
|------------------------------|-------------------------------|
| (1) रीड ओनली मेमोरी (ROM) | (2) रेंडम एक्सेस मेमोरी (RAM) |
| (3) हार्ड डिस्क ड्राइव (HDD) | (4) पेनड्राइव (Pen Drive) |

Options :

- 92090689797. 1
- 92090689798. 2
- 92090689799. 3
- 92090689800. 4

Question Number : 51 Question Id : 92090622722 Question Type : MCQ Option Shuffling : No Is Question Mandatory : No Calculator : None Response Time : N.A Think Time : N.A Minimum Instruction Time : 0

Correct Marks : 4 Wrong Marks : 1

The shortcut key used to close a tab is:

- | | |
|------------|------------|
| (1) Ctrl+q | (2) Ctrl+k |
| (3) Ctrl+w | (4) Ctrl+r |

Options :

- 92090689801. 1
- 92090689802. 2
- 92090689803. 3
- 92090689804. 4

Question Number : 51 Question Id : 92090622722 Question Type : MCQ Option Shuffling : No Is Question Mandatory : No Calculator : None Response Time : N.A Think Time : N.A Minimum Instruction Time : 0

Correct Marks : 4 Wrong Marks : 1

किसी टेब को क्लोज करने में प्रयोग की जाने वाली कौनसी शॉर्ट-कट की है?

- | | |
|------------|------------|
| (1) Ctrl+q | (2) Ctrl+k |
| (3) Ctrl+w | (4) Ctrl+r |

Options :

- 92090689801. 1
- 92090689802. 2

92090689803. 3

92090689804. 4

Question Number : 52 Question Id : 92090622723 Question Type : MCQ Option Shuffling : No Is Question Mandatory : No Calculator : None Response Time : N.A Think Time : N.A Minimum Instruction Time : 0

Correct Marks : 4 Wrong Marks : 1

Which one of the following parameters is used to measure the performance of super computer?

- | | |
|-----------|----------|
| (1) GHz | (2) MIPS |
| (3) FLOPS | (4) Hz |

Options :

92090689805. 1

92090689806. 2

92090689807. 3

92090689808. 4

Question Number : 52 Question Id : 92090622723 Question Type : MCQ Option Shuffling : No Is Question Mandatory : No Calculator : None Response Time : N.A Think Time : N.A Minimum Instruction Time : 0

Correct Marks : 4 Wrong Marks : 1

सुपर कम्प्यूटर के निष्पादन को मापने के लिए निम्नलिखित में से किस मानदंड को प्रयोग किया जाता है?

- | | |
|-----------|----------|
| (1) GHz | (2) MIPS |
| (3) FLOPS | (4) Hz |

Options :

92090689805. 1

92090689806. 2

92090689807. 3

92090689808. 4

Question Number : 53 Question Id : 92090622724 Question Type : MCQ Option Shuffling : No Is Question Mandatory : No Calculator : None Response Time : N.A Think Time : N.A Minimum Instruction Time : 0

Correct Marks : 4 Wrong Marks : 1

Webpages that are linked to form a website share a_____.

- | | |
|----------------------------|---------------------------|
| (1) Uniform Domain Address | (2) Unique Domain Address |
| (3) Uniform Domain Name | (4) Unique Domain Name |

Options :

- 92090689809. 1
- 92090689810. 2
- 92090689811. 3
- 92090689812. 4

Question Number : 53 Question Id : 92090622724 Question Type : MCQ Option Shuffling : No Is Question Mandatory : No Calculator : None Response Time : N.A Think Time : N.A Minimum Instruction Time : 0

Correct Marks : 4 Wrong Marks : 1

एक वेबसाइट के निर्माण के लिए जिन वेबपेजेज़ को अतःस्थापित किया जाता है, वे क्या साझा करते हैं?

- | | |
|----------------------------|------------------------|
| (1) यूनिफॉर्म डोमेन एड्रेस | (2) यूनिक डोमेन एड्रेस |
| (3) यूनिफॉर्म डोमेन नेम | (4) यूनिक डोमेन नेम |

Options :

- 92090689809. 1
- 92090689810. 2
- 92090689811. 3
- 92090689812. 4

Question Number : 54 Question Id : 92090622725 Question Type : MCQ Option Shuffling : No Is Question Mandatory : No Calculator : None Response Time : N.A Think Time : N.A Minimum Instruction Time : 0

Correct Marks : 4 Wrong Marks : 1

MS Word provider the functionality of correction in grammer and spelling of words. This functionality is known as:

- | | |
|-----------------|--------------------|
| (1) Grammerly | (2) Auto Correct |
| (3) Spell Check | (4) High Fineation |

Options :

- 92090689813. 1
- 92090689814. 2
- 92090689815. 3
- 92090689816. 4

Question Number : 54 Question Id : 92090622725 Question Type : MCQ Option Shuffling : No Is Question Mandatory : No Calculator : None Response Time : N.A Think Time : N.A Minimum Instruction Time : 0

Correct Marks : 4 Wrong Marks : 1

एम. एस. वर्ड व्याकरण और वर्तनी में सुधार की कार्यात्मकता प्रदान करता है। इस कार्यात्मकता को किस नाम से जाना जाता है?

- | | |
|---------------|-------------------|
| (1) ग्रामरली | (2) ऑटो करेक्ट |
| (3) स्पेल चेक | (4) हाई फ़ाइनिएशन |

Options :

- 92090689813. 1
- 92090689814. 2
- 92090689815. 3
- 92090689816. 4

Question Number : 55 Question Id : 92090622726 Question Type : MCQ Option Shuffling : No Is Question Mandatory : No Calculator : None Response Time : N.A Think Time : N.A Minimum Instruction Time : 0

Correct Marks : 4 Wrong Marks : 1

Software that manages and coordinates the entire activities of a computer system is known as:

- | | |
|----------------------|----------------------|
| (1) Utility Software | (2) Operating system |
| (3) System Software | (4) Device driver |

Options :

- 92090689817. 1
- 92090689818. 2
- 92090689819. 3
- 92090689820. 4

Question Number : 55 Question Id : 92090622726 Question Type : MCQ Option Shuffling : No Is Question Mandatory : No Calculator : None Response Time : N.A Think Time : N.A Minimum Instruction Time : 0

Correct Marks : 4 Wrong Marks : 1

एक कम्प्यूटर के संपूर्ण कार्यकलापों का प्रबंधन और समन्वयन करने वाले सॉफ्टवेयर को किस नाम से जाना जाता है?

- | | |
|------------------------|---------------------|
| (1) यूटिलिटी सॉफ्टवेयर | (2) ऑपरेटिंग सिस्टम |
| (3) सिस्टम सॉफ्टवेयर | (4) डिवाइस ड्राइवर |

Options :

92090689817. 1
92090689818. 2
92090689819. 3
92090689820. 4

Question Number : 56 Question Id : 92090622727 Question Type : MCQ Option Shuffling : No Is Question Mandatory : No Calculator : None Response Time : N.A Think Time : N.A Minimum Instruction Time : 0

Correct Marks : 4 Wrong Marks : 1

At what time between 9'o clock and 10'o clock will the hour hand and the minute hand of a clock be in the same straight line but not together?

- | | |
|---------------------------------|---------------------------------|
| (1) 9:15 o'clock | (2) 9:16 o'clock |
| (3) $9:16 \frac{4}{11}$ o'clock | (4) $9:16 \frac{9}{11}$ o'clock |

Options :

92090689821. 1
92090689822. 2
92090689823. 3
92090689824. 4

Question Number : 56 Question Id : 92090622727 Question Type : MCQ Option Shuffling : No Is Question Mandatory : No Calculator : None Response Time : N.A Think Time : N.A Minimum Instruction Time : 0

Correct Marks : 4 Wrong Marks : 1

9 बजे और 10 बजे के बीच किस समय घड़ी की घंटे की सुई तथा मिनट की सुई एक सरल रेखा में होंगी परन्तु एक साथ नहीं?

- | | |
|-----------------------------|-----------------------------|
| (1) 9:15 बजे | (2) 9:16 बजे |
| (3) $9:16 \frac{4}{11}$ बजे | (4) $9:16 \frac{9}{11}$ बजे |

Options :

92090689821. 1

92090689822. 2

92090689823. 3

92090689824. 4

Question Number : 57 Question Id : 92090622728 Question Type : MCQ Option Shuffling : No Is Question Mandatory : No Calculator : None Response Time : N.A Think Time : N.A Minimum Instruction Time : 0

Correct Marks : 4 Wrong Marks : 1

What day of the week was on April 15, 1954?

(1) Wednesday

(2) Thursday

(3) Friday

(4) Sunday

Options :

92090689825. 1

92090689826. 2

92090689827. 3

92090689828. 4

Question Number : 57 Question Id : 92090622728 Question Type : MCQ Option Shuffling : No Is Question Mandatory : No Calculator : None Response Time : N.A Think Time : N.A Minimum Instruction Time : 0

Correct Marks : 4 Wrong Marks : 1

अप्रैल 15, 1954 को सप्ताह का कौन सा दिन था?

(1) बुधवार

(2) बृहस्पतिवार

(3) शुक्रवार

(4) रविवार

Options :

92090689825. 1

92090689826. 2

92090689827. 3

92090689828. 4

Question Number : 58 Question Id : 92090622729 Question Type : MCQ Option Shuffling : No Is Question Mandatory : No Calculator : None Response Time : N.A Think Time : N.A Minimum Instruction Time : 0

Correct Marks : 4 Wrong Marks : 1

The average of nine consecutive natural numbers is 25. Find the smallest number.

- (1) 20 (2) 21
(3) 22 (4) 24

Options :

92090689829. 1
92090689830. 2
92090689831. 3
92090689832. 4

Question Number : 58 Question Id : 92090622729 Question Type : MCQ Option Shuffling : No Is Question Mandatory : No Calculator : None Response Time : N.A Think Time : N.A Minimum Instruction Time : 0

Correct Marks : 4 Wrong Marks : 1

9 क्रमागत प्राकृत संख्याओं का औसत 25 है | सबसे छोटी संख्या ज्ञात कीजिए |

- (1) 20 (2) 21
(3) 22 (4) 24

Options :

92090689829. 1
92090689830. 2
92090689831. 3
92090689832. 4

Question Number : 59 Question Id : 92090622730 Question Type : MCQ Option Shuffling : No Is Question Mandatory : No Calculator : None Response Time : N.A Think Time : N.A Minimum Instruction Time : 0

Correct Marks : 4 Wrong Marks : 1

Simplify $\frac{\frac{3}{4} + \frac{1}{5} - \frac{1}{10} - 1}{\frac{1}{8} + \frac{1}{2} - \frac{3}{4}}$

- (1) $\frac{1}{16}$ (2) $\frac{6}{5}$
(3) 12 (4) $\frac{3}{20}$

Options :

92090689833. 1
92090689834. 2
92090689835. 3
92090689836. 4

Question Number : 59 Question Id : 92090622730 Question Type : MCQ Option Shuffling : No Is Question Mandatory : No Calculator : None Response Time : N.A Think Time : N.A Minimum Instruction Time : 0

Correct Marks : 4 Wrong Marks : 1

सरल करें $\frac{\frac{3}{4} + \frac{1}{5} - \frac{1}{10} - 1}{\frac{1}{8} + \frac{1}{2} - \frac{3}{4}}$

(1) $\frac{1}{16}$

(2) $\frac{6}{5}$

(3) 12

(4) $\frac{3}{20}$

Options :

92090689833. 1
92090689834. 2
92090689835. 3
92090689836. 4

Question Number : 60 Question Id : 92090622731 Question Type : MCQ Option Shuffling : No Is Question Mandatory : No Calculator : None Response Time : N.A Think Time : N.A Minimum Instruction Time : 0

Correct Marks : 4 Wrong Marks : 1

B is three times as old as A. After 5 years the ratio in the ages of A and B will be 1 : 2. After how many years from now will the ratio in the ages of A and B become 2 : 3 ?

(1) 16

(2) 15

(3) 13

(4) 12

Options :

92090689837. 1
92090689838. 2
92090689839. 3
92090689840. 4

Question Number : 60 Question Id : 92090622731 Question Type : MCQ Option Shuffling : No Is Question Mandatory : No Calculator : None Response Time : N.A Think Time : N.A Minimum Instruction Time : 0

Correct Marks : 4 Wrong Marks : 1

B, A से तीन गुना बड़ा है | 5 वर्ष पश्चात, A तथा B की आयु में अनुपात 1:2 होगा | अब से कितने वर्ष पश्चात A तथा B की आयु में अनुपात 2:3 हो जाएगा?

- | | |
|--------|--------|
| (1) 16 | (2) 15 |
| (3) 13 | (4) 12 |

Options :

92090689837. 1
92090689838. 2
92090689839. 3
92090689840. 4

Question Number : 61 Question Id : 92090622732 Question Type : MCQ Option Shuffling : No Is Question Mandatory : No Calculator : None Response Time : N.A Think Time : N.A Minimum Instruction Time : 0

Correct Marks : 4 Wrong Marks : 1

The product of two numbers is 4840. If the first number is two fifth of the second number, then what is the first number?

- | | |
|---------|---------|
| (1) 110 | (2) 38 |
| (3) 44 | (4) 154 |

Options :

92090689841. 1
92090689842. 2
92090689843. 3
92090689844. 4

Question Number : 61 Question Id : 92090622732 Question Type : MCQ Option Shuffling : No Is Question Mandatory : No Calculator : None Response Time : N.A Think Time : N.A Minimum Instruction Time : 0

Correct Marks : 4 Wrong Marks : 1

दो संख्याओं का गुणन 4840 है | यदि पहली संख्या दूसरी संख्या का $\frac{2}{5}$ भाग है तो पहली संख्या क्या है?

- | | |
|---------|---------|
| (1) 110 | (2) 38 |
| (3) 44 | (4) 154 |

Options :

92090689841. 1
92090689842. 2
92090689843. 3
92090689844. 4

Question Number : 62 Question Id : 92090622733 Question Type : MCQ Option Shuffling : No Is Question Mandatory : No Calculator : None Response Time : N.A Think Time : N.A Minimum Instruction Time : 0

Correct Marks : 4 Wrong Marks : 1

In what time will a 640m long train cross an electric pole if its speed is 96km/h?

- (1) 24 sec (2) 54 sec
(3) 5.4 sec (4) 12.5 sec

Options :

92090689845. 1
92090689846. 2
92090689847. 3
92090689848. 4

Question Number : 62 Question Id : 92090622733 Question Type : MCQ Option Shuffling : No Is Question Mandatory : No Calculator : None Response Time : N.A Think Time : N.A Minimum Instruction Time : 0

Correct Marks : 4 Wrong Marks : 1

640 m लम्बी ट्रेन, 96 km/h की गति से चलते हुए बिजली के एक खम्भे को कितने समय में पार कर लेगी?

- (1) 24 sec (2) 54 sec
(3) 5.4 sec (4) 12.5 sec

Options :

92090689845. 1
92090689846. 2
92090689847. 3
92090689848. 4

Question Number : 63 Question Id : 92090622734 Question Type : MCQ Option Shuffling : No Is Question Mandatory : No Calculator : None Response Time : N.A Think Time : N.A Minimum Instruction Time : 0

Correct Marks : 4 Wrong Marks : 1

The sum of two numbers is 40 and their HCF is 8. How many pairs of numbers satisfy both the conditions?

- (1) 1 (2) 2
(3) 3 (4) 4

Options :

92090689849. 1
92090689850. 2
92090689851. 3
92090689852. 4

Question Number : 63 Question Id : 92090622734 Question Type : MCQ Option Shuffling : No Is Question Mandatory : No Calculator : None Response Time : N.A Think Time : N.A Minimum Instruction Time : 0

Correct Marks : 4 Wrong Marks : 1

दो संख्याओं का योग 40 है तथा उनका HCF 8 है | ऐसे कितने संख्या युग्म हैं जो दिए हुए दोनों प्रतिबंधों को संतुष्ट करते हैं ?

- (1) 1 (2) 2
(3) 3 (4) 4

Options :

92090689849. 1
92090689850. 2
92090689851. 3
92090689852. 4

Question Number : 64 Question Id : 92090622735 Question Type : MCQ Option Shuffling : No Is Question Mandatory : No Calculator : None Response Time : N.A Think Time : N.A Minimum Instruction Time : 0

Correct Marks : 4 Wrong Marks : 1

Two numbers are 26% and 40% respectively of a third number what percentage is the first number of the second number?

- (1) 60% (2) 65%
(3) 66% (4) 68%

Options :

92090689853. 1
92090689854. 2
92090689855. 3

92090689856. 4

Question Number : 64 Question Id : 92090622735 Question Type : MCQ Option Shuffling : No Is Question Mandatory : No Calculator : None Response Time : N.A Think Time : N.A Minimum Instruction Time : 0

Correct Marks : 4 Wrong Marks : 1

दो संख्याएं, तीसरी संख्या की क्रमशः 26% तथा 40% हैं | पहली संख्या दूसरी संख्या की कितने प्रतिशत है ?

- | | |
|---------|---------|
| (1) 60% | (2) 65% |
| (3) 66% | (4) 68% |

Options :

- 92090689853. 1
- 92090689854. 2
- 92090689855. 3
- 92090689856. 4

Question Number : 65 Question Id : 92090622736 Question Type : MCQ Option Shuffling : No Is Question Mandatory : No Calculator : None Response Time : N.A Think Time : N.A Minimum Instruction Time : 0

Correct Marks : 4 Wrong Marks : 1

A trader sold an article at a gain of 20% Had he purchased it for 40% more and sold for ₹ 24 less, he would have incurred a loss of 20%. What is the cost price of the article?

- | | |
|-----------|-----------|
| (1) ₹ 150 | (2) ₹ 300 |
| (3) ₹ 450 | (4) ₹ 600 |

Options :

- 92090689857. 1
- 92090689858. 2
- 92090689859. 3
- 92090689860. 4

Question Number : 65 Question Id : 92090622736 Question Type : MCQ Option Shuffling : No Is Question Mandatory : No Calculator : None Response Time : N.A Think Time : N.A Minimum Instruction Time : 0

Correct Marks : 4 Wrong Marks : 1

एक व्यापारी ने एक वस्तु 20% लाभ पर बेची। यदि उसने उसे 40% अधिक पर खरीदा होता और ₹24 कम पर बेचा होता तो उसे 20% हानि हुई होती। उस वस्तु का क्रय मूल्य क्या है?

- (1) ₹ 150 (2) ₹ 300
(3) ₹ 450 (4) ₹ 600

Options :

92090689857. 1
92090689858. 2
92090689859. 3
92090689860. 4

Question Number : 66 Question Id : 92090622737 Question Type : MCQ Option Shuffling : No Is Question Mandatory : No Calculator : None Response Time : N.A Think Time : N.A Minimum Instruction Time : 0

Correct Marks : 4 Wrong Marks : 1

Akhilesh and Javed started a business by investing ₹ 50,000 and ₹ 60,000 respectively. Akhilesh being an active partner receives 12.5% of the profit in addition to his share of profit. How much Akhilesh gets out of a profit of ₹ 8800?

- (1) ₹ 4,600 (2) ₹ 4,500
(3) ₹ 4,000 (4) ₹ 5,100

Options :

92090689861. 1
92090689862. 2
92090689863. 3
92090689864. 4

Question Number : 66 Question Id : 92090622737 Question Type : MCQ Option Shuffling : No Is Question Mandatory : No Calculator : None Response Time : N.A Think Time : N.A Minimum Instruction Time : 0

Correct Marks : 4 Wrong Marks : 1

अखिलेश तथा जावेद ने क्रमशः ₹50,000 तथा ₹60,000 के निवेश के साथ व्यापार शुरू किया | अखिलेश सक्रिय साझेदार होने के कारण लाभ में अपने हिस्से के साथ कुल लाभ का 12.5% अतिरिक्त भी पाता है | ₹8,800 के लाभ में अखिलेश कितना प्राप्त करता है?

- (1) ₹ 4600 (2) ₹ 4500
(3) ₹ 4000 (4) ₹ 5100

Options :

92090689861. 1

92090689862. 2

92090689863. 3

92090689864. 4

Question Number : 67 Question Id : 92090622738 Question Type : MCQ Option Shuffling : No Is Question Mandatory : No Calculator : None Response Time : N.A Think Time : N.A Minimum Instruction Time : 0

Correct Marks : 4 Wrong Marks : 1

A certain sum of money on simple interest amounts to ₹ 1,278 in 3 years and to ₹ 1,593 in $5\frac{1}{2}$ years. Find the rate of interest per annum.

- | | |
|-----------|---------|
| (1) 13% | (2) 14% |
| (3) 15.5% | (4) 16% |

Options :

92090689865. 1

92090689866. 2

92090689867. 3

92090689868. 4

Question Number : 67 Question Id : 92090622738 Question Type : MCQ Option Shuffling : No Is Question Mandatory : No Calculator : None Response Time : N.A Think Time : N.A Minimum Instruction Time : 0

Correct Marks : 4 Wrong Marks : 1

साधारण ब्याज पर कुछ धनराशि 3 वर्ष में ₹1278 तथा $5\frac{1}{2}$ वर्ष में ₹1593 हो जाती है | वार्षिक ब्याज दर ज्ञात कीजिए |

- | | |
|-----------|---------|
| (1) 13% | (2) 14% |
| (3) 15.5% | (4) 16% |

Options :

92090689865. 1

92090689866. 2

92090689867. 3

92090689868. 4

Question Number : 68 Question Id : 92090622739 Question Type : MCQ Option Shuffling : No Is Question Mandatory : No Calculator : None Response Time : N.A Think Time : N.A Minimum Instruction Time : 0

Correct Marks : 4 Wrong Marks : 1

Find the sum of the fourth proportional of 60, 24, 15 and the mean proportional of 5 and 20.

- (1) 47.5 (2) 16
(3) 106 (4) 116

Options :

92090689869. 1
92090689870. 2
92090689871. 3
92090689872. 4

Question Number : 68 Question Id : 92090622739 Question Type : MCQ Option Shuffling : No Is Question Mandatory : No Calculator : None Response Time : N.A Think Time : N.A Minimum Instruction Time : 0

Correct Marks : 4 Wrong Marks : 1

60, 24, 15 का चतुर्थानुपाती तथा 5 और 20 के मध्यानुपाती का योग ज्ञात कीजिए।

- (1) 47.5 (2) 16
(3) 106 (4) 116

Options :

92090689869. 1
92090689870. 2
92090689871. 3
92090689872. 4

Question Number : 69 Question Id : 92090622740 Question Type : MCQ Option Shuffling : No Is Question Mandatory : No Calculator : None Response Time : N.A Think Time : N.A Minimum Instruction Time : 0

Correct Marks : 4 Wrong Marks : 1

Akhil is two times as efficient as Vinod and Kamal is three times as efficient as Vinod. They worked together and received ₹ 5,700 for doing the work. Find the share of Kamal in the money received.

- (1) ₹ 1800 (2) ₹ 1900
(3) ₹ 2580 (4) ₹ 2850

Options :

92090689873. 1
92090689874. 2
92090689875. 3
92090689876. 4

Question Number : 69 Question Id : 92090622740 Question Type : MCQ Option Shuffling : No Is Question Mandatory : No Calculator : None Response Time : N.A Think Time : N.A Minimum Instruction Time : 0

Correct Marks : 4 Wrong Marks : 1

अखिल की क्षमता विनोद की क्षमता की दुगुनी है तथा कमल की क्षमता विनोद की क्षमता की तीन गुनी है। उन्होंने एक साथ काम किया और काम करने के ₹5700 प्राप्त किए। प्राप्त धनराशि में कमल का हिस्सा ज्ञात कीजिए?

- | | |
|------------|------------|
| (1) ₹ 1800 | (2) ₹ 1900 |
| (3) ₹ 2580 | (4) ₹ 2850 |

Options :

- 92090689873. 1
- 92090689874. 2
- 92090689875. 3
- 92090689876. 4

Question Number : 70 Question Id : 92090622741 Question Type : MCQ Option Shuffling : No Is Question Mandatory : No Calculator : None Response Time : N.A Think Time : N.A Minimum Instruction Time : 0

Correct Marks : 4 Wrong Marks : 1

Pipes A and B can fill a tank in 25 hours and 10 hours respectively. Pipe A was opened and after half an hour pipe B was also opened. In how much time the tank got filled?

- | | |
|------------------------|------------------------|
| (1) 7 hours 10 minutes | (2) 7 hours 15 minutes |
| (3) 7 hours 30 minutes | (4) 7 hours 45 minutes |

Options :

- 92090689877. 1
- 92090689878. 2
- 92090689879. 3
- 92090689880. 4

Question Number : 70 Question Id : 92090622741 Question Type : MCQ Option Shuffling : No Is Question Mandatory : No Calculator : None Response Time : N.A Think Time : N.A Minimum Instruction Time : 0

Correct Marks : 4 Wrong Marks : 1

पाइपें A तथा B एक टंकी को क्रमशः 25 घंटे तथा 10 घंटे में भर सकती हैं | पाइप A को खोला गया और उसके आधे घंटे बाद पाइप B भी खोल दी गई | कितने समय में टंकी भर गई ?

- (1) 7 घंटे 10 मिनट (2) 7 घंटे 15 मिनट
(3) 7 घंटे 30 मिनट (4) 7 घंटे 45 मिनट

Options :

92090689877. 1
92090689878. 2
92090689879. 3
92090689880. 4

Question Number : 71 Question Id : 92090622742 Question Type : MCQ Option Shuffling : No Is Question Mandatory : No Calculator : None Response Time : N.A Think Time : N.A Minimum Instruction Time : 0

Correct Marks : 4 Wrong Marks : 1

Three boys A, B and C are running with speeds 40 m/s, 2500 m/minute and 144 km/h respectively, then

- (1) A and C have same speed which is less than the speed of B
(2) Speed of B is the highest
(3) Speed of C is more than the speed of B
(4) All the boys A, B, and C have equal speeds

Choose the correct answer from the options given below :

- (1) (A) & (C) Only
(2) (A) & (B) Only
(3) (D) Only
(4) (A), (B) & (C) Only

Options :

92090689881. 1
92090689882. 2
92090689883. 3
92090689884. 4

Question Number : 71 Question Id : 92090622742 Question Type : MCQ Option Shuffling : No Is Question Mandatory : No Calculator : None Response Time : N.A Think Time : N.A Minimum Instruction Time : 0

Correct Marks : 4 Wrong Marks : 1

तीन लड़के A, B तथा C क्रमशः 40 m/s, 2500 m/मिनट तथा 144 km/h की गति से दौड़ रहे हैं, तो

- A. A तथा C की गति बराबर है जो कि B की गति से कम है
- B. B की गति अधिकतम है
- C. C की गति, B की गति से अधिक है
- D. सभी लड़कों A, B तथा C की गति बराबर है

नीचे दिए गए विकल्पों में से सही उत्तर का चयन कीजिए :

- (1) केवल A तथा C
- (2) केवल A तथा B
- (3) केवल D
- (4) केवल A, B, तथा C

Options :

- 92090689881. 1
- 92090689882. 2
- 92090689883. 3
- 92090689884. 4

Question Number : 72 Question Id : 92090622743 Question Type : MCQ Option Shuffling : No Is Question Mandatory : No Calculator : None Response Time : N.A Think Time : N.A Minimum Instruction Time : 0

Correct Marks : 4 Wrong Marks : 1

A man invests some money partly in 8% stock at 105 and partly in 12%, stock at 90. In what ratio should he invest the money to have equal dividends?

- (1) 3:2
- (2) 9:7
- (3) 7:4
- (4) 2:3

Options :

- 92090689885. 1
- 92090689886. 2
- 92090689887. 3
- 92090689888. 4

Question Number : 72 Question Id : 92090622743 Question Type : MCQ Option Shuffling : No Is Question Mandatory : No Calculator : None Response Time : N.A Think Time : N.A Minimum Instruction Time : 0

Correct Marks : 4 Wrong Marks : 1

एक व्यक्ति धनराशि का कुछ अंश 8% स्टॉक 105 पर तथा कुछ अंश 12% स्टॉक 90 पर निवेश करता है। उसे धनराशि को किस अनुपात में निवेशित करना चाहिए कि उसे बराबर लाभांश मिले?

- (1) 3:2 (2) 9:7
(3) 7:4 (4) 2:3

Options :

92090689885. 1
92090689886. 2
92090689887. 3
92090689888. 4

Question Number : 73 Question Id : 92090622744 Question Type : MCQ Option Shuffling : No Is Question Mandatory : No Calculator : None Response Time : N.A Think Time : N.A Minimum Instruction Time : 0

Correct Marks : 4 Wrong Marks : 1

A dealer marked an item with cost price Rs.600 at 50% above the cost price and offered 20% discount. Find the selling price.

- (1) Rs.480 (2) Rs.600
(3) Rs.720 (4) Rs.800

Options :

92090689889. 1
92090689890. 2
92090689891. 3
92090689892. 4

Question Number : 73 Question Id : 92090622744 Question Type : MCQ Option Shuffling : No Is Question Mandatory : No Calculator : None Response Time : N.A Think Time : N.A Minimum Instruction Time : 0

Correct Marks : 4 Wrong Marks : 1

एक विक्रेता एक वस्तु जिसका क्रय मूल्य ₹ 600 है को क्रय मूल्य से 50% अधिक पर अंकित करता है और 20% बढ़ा देता है। विक्रय मूल्य ज्ञात कीजिये।

- (1) ₹ 480 (2) ₹ 600
(3) ₹ 720 (4) ₹ 800

Options :

92090689889. 1
92090689890. 2

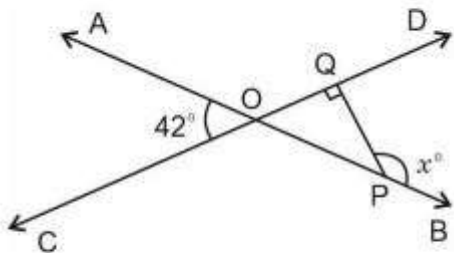
92090689891. 3

92090689892. 4

Question Number : 74 Question Id : 92090622745 Question Type : MCQ Option Shuffling : No Is Question Mandatory : No Calculator : None Response Time : N.A Think Time : N.A Minimum Instruction Time : 0

Correct Marks : 4 Wrong Marks : 1

In the figure, $\angle AOC = 42^\circ$ and PQ is perpendicular to CD. Find the value of x .



(1) 158

(2) 138

(3) 132

(4) 118

Options :

92090689893. 1

92090689894. 2

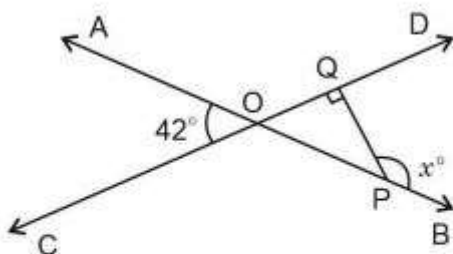
92090689895. 3

92090689896. 4

Question Number : 74 Question Id : 92090622745 Question Type : MCQ Option Shuffling : No Is Question Mandatory : No Calculator : None Response Time : N.A Think Time : N.A Minimum Instruction Time : 0

Correct Marks : 4 Wrong Marks : 1

आकृति में, $\angle AOC = 42^\circ$ तथा PQ, CD पर लम्ब है। x का मान ज्ञात कीजिए।



(1) 158

(2) 138

(3) 132

(4) 118

Options :

92090689893. 1

92090689894. 2

92090689895. 3

92090689896. 4

Question Number : 75 Question Id : 92090622746 Question Type : MCQ Option Shuffling : No Is Question Mandatory : No Calculator : None Response Time : N.A Think Time : N.A Minimum Instruction Time : 0

Correct Marks : 4 Wrong Marks : 1

The value of $\frac{1 + \tan^2 \theta}{1 + \cot^2 \theta} \times (1 - \sin^2 \theta)$ is

(1) $\frac{1}{\sec^2 \theta}$

(2) $\frac{1}{\operatorname{cosec}^2 \theta}$

(3) $\tan^2 \theta$

(4) $\cot^2 \theta$

Options :

92090689897. 1

92090689898. 2

92090689899. 3

92090689900. 4

Question Number : 75 Question Id : 92090622746 Question Type : MCQ Option Shuffling : No Is Question Mandatory : No Calculator : None Response Time : N.A Think Time : N.A Minimum Instruction Time : 0

Correct Marks : 4 Wrong Marks : 1

$\frac{1 + \tan^2 \theta}{1 + \cot^2 \theta} \times (1 - \sin^2 \theta)$ का मान है

(1) $\frac{1}{\sec^2 \theta}$

(2) $\frac{1}{\operatorname{cosec}^2 \theta}$

(3) $\tan^2 \theta$

(4) $\cot^2 \theta$

Options :

92090689897. 1

92090689898. 2

92090689899. 3

92090689900. 4

Question Number : 76 Question Id : 92090622747 Question Type : MCQ Option Shuffling : No Is Question Mandatory : No Calculator : None Response Time : N.A Think Time : N.A Minimum Instruction Time : 0

Correct Marks : 4 Wrong Marks : 1

If $A = \{ 2, 3, 6 \}$ and $B = \{ 2, 3, 4, 5, 6 \}$ are two sets, then

- (A) $A \subset B$ (B) $A \cup B = B$
(C) $A \cap B = \phi$ (D) $A \cap B = A$

Choose the correct answer from the options given below :

- (1) (A) & (B) Only
(2) (B) & (C) Only
(3) (A), (B) & (D) Only
(4) (B) & (D) Only

Options :

92090689901. 1
92090689902. 2
92090689903. 3
92090689904. 4

Question Number : 76 Question Id : 92090622747 Question Type : MCQ Option Shuffling : No Is Question Mandatory : No Calculator : None Response Time : N.A Think Time : N.A Minimum Instruction Time : 0

Correct Marks : 4 Wrong Marks : 1

यदि $A = \{ 2, 3, 6 \}$ तथा $B = \{ 2, 3, 4, 5, 6 \}$ दो समुच्चय हैं, तो

- (A) $A \subset B$ (B) $A \cup B = B$
(C) $A \cap B = \phi$ (D) $A \cap B = A$

Choose the correct answer from the options given below :

- (1) केवल A तथा B
(2) केवल B तथा C
(3) केवल A, B तथा D
(4) केवल B तथा D

Options :

92090689901. 1
92090689902. 2
92090689903. 3
92090689904. 4

Question Number : 77 Question Id : 92090622748 Question Type : MCQ Option Shuffling : No Is Question Mandatory : No Calculator : None Response Time : N.A Think Time : N.A Minimum Instruction Time : 0

Correct Marks : 4 Wrong Marks : 1

If mean of 7, 2, 9, 4 and K is 5, then find the median of 12, 6, K, 9, 15

- | | |
|--------|--------|
| (1) 6 | (2) 9 |
| (3) 10 | (4) 12 |

Options :

- 92090689905. 1
- 92090689906. 2
- 92090689907. 3
- 92090689908. 4

Question Number : 77 Question Id : 92090622748 Question Type : MCQ Option Shuffling : No Is Question Mandatory : No Calculator : None Response Time : N.A Think Time : N.A Minimum Instruction Time : 0

Correct Marks : 4 Wrong Marks : 1

यदि 7, 2, 9, 4 तथा K का माध्य 5 है, तो 12, 6, K, 9, 15 का माध्यक ज्ञात कीजिए।

- | | |
|--------|--------|
| (1) 6 | (2) 9 |
| (3) 10 | (4) 12 |

Options :

- 92090689905. 1
- 92090689906. 2
- 92090689907. 3
- 92090689908. 4

Question Number : 78 Question Id : 92090622749 Question Type : MCQ Option Shuffling : No Is Question Mandatory : No Calculator : None Response Time : N.A Think Time : N.A Minimum Instruction Time : 0

Correct Marks : 4 Wrong Marks : 1

Solution A Contains 12% water and the remaining is milk. Solution B contains 30% water and the remaining is milk. In what ratio should solutions A and B be mixed to obtain a mixture with 84% milk?

- | | |
|---------|---------|
| (1) 2:7 | (2) 7:2 |
| (3) 3:8 | (4) 8:3 |

Options :

92090689909. 1
92090689910. 2
92090689911. 3
92090689912. 4

Question Number : 78 Question Id : 92090622749 Question Type : MCQ Option Shuffling : No Is Question Mandatory : No Calculator : None Response Time : N.A Think Time : N.A Minimum Instruction Time : 0

Correct Marks : 4 Wrong Marks : 1

घोल A में 12% पानी तथा शेष दूध है | घोल B में 30% पानी तथा शेष दूध है | घोल A तथा B को किस अनुपात में मिलाया जाए कि मिश्रण में 84% दूध हो?

- (1) 2:7 (2) 7:2
(3) 3:8 (4) 8:3

Options :

92090689909. 1
92090689910. 2
92090689911. 3
92090689912. 4

Question Number : 79 Question Id : 92090622750 Question Type : MCQ Option Shuffling : No Is Question Mandatory : No Calculator : None Response Time : N.A Think Time : N.A Minimum Instruction Time : 0

Correct Marks : 4 Wrong Marks : 1

A quadrilateral ABCD has diagonal AC of length 28 cm. If the perpendiculars drawn from vertices B and D to AC are 30 cm and 21 cm respectively, then find its area.

- (1) 1428 cm² (2) 357.5 cm²
(3) 710.5 cm² (4) 714 cm²

Options :

92090689913. 1
92090689914. 2
92090689915. 3
92090689916. 4

Question Number : 79 Question Id : 92090622750 Question Type : MCQ Option Shuffling : No Is Question Mandatory : No Calculator : None Response Time : N.A Think Time : N.A Minimum Instruction Time : 0

Correct Marks : 4 Wrong Marks : 1

एक चतुर्भुज ABCD के विकर्ण AC की लम्बाई 28 cm है | यदि शीर्षों B तथा D से AC पर डाले गए लम्ब क्रमशः 30 cm तथा 21 cm हैं, तो इसका क्षेत्रफल ज्ञात कीजिए |

- (1) 1428 cm² (2) 357.5 cm²
(3) 710.5 cm² (4) 714 cm²

Options :

92090689913. 1
92090689914. 2
92090689915. 3
92090689916. 4

Question Number : 80 Question Id : 92090622751 Question Type : MCQ Option Shuffling : No Is Question Mandatory : No Calculator : None Response Time : N.A Think Time : N.A Minimum Instruction Time : 0

Correct Marks : 4 Wrong Marks : 1

A vessel is in the form of a hemispherical bowl surmounted by a hollow cylinder. The diameter of the sphere is 42 cm and the height of the vessel is 27 cm. Find its capacity in cm³. (Use $\pi = \frac{22}{7}$)

- (1) 18849.6 (2) 56826
(3) 27720 (4) 56286

Options :

92090689917. 1
92090689918. 2
92090689919. 3
92090689920. 4

Question Number : 80 Question Id : 92090622751 Question Type : MCQ Option Shuffling : No Is Question Mandatory : No Calculator : None Response Time : N.A Think Time : N.A Minimum Instruction Time : 0

Correct Marks : 4 Wrong Marks : 1

एक बर्तन जो अर्द्धगोलाकार कटोरे के आकार का है, के ऊपर एक खोखला बेलन खड़ा है | गोले का व्यास 42 cm है तथा बर्तन की ऊंचाई 27 cm है। इसकी धरिता cm³ में ज्ञात कीजिए। ($\pi = \frac{22}{7}$)

- (1) 18849.6 (2) 56826
(3) 27720 (4) 56286

Options :

92090689917. 1
92090689918. 2
92090689919. 3
92090689920. 4

Question Number : 81 Question Id : 92090622752 Question Type : MCQ Option Shuffling : No Is Question Mandatory : No Calculator : None Response Time : N.A Think Time : N.A Minimum Instruction Time : 0

Correct Marks : 4 Wrong Marks : 1

Find the next term of the given series : 2, 12, 36, 80, 150

- (1) 250 (2) 252
(3) 239 (4) 159

Options :

92090689921. 1
92090689922. 2
92090689923. 3
92090689924. 4

Question Number : 81 Question Id : 92090622752 Question Type : MCQ Option Shuffling : No Is Question Mandatory : No Calculator : None Response Time : N.A Think Time : N.A Minimum Instruction Time : 0

Correct Marks : 4 Wrong Marks : 1

नीचे दी गई श्रृंखला का अगला पद ज्ञात कीजिए :

2, 12, 36, 80, 150.....

- (1) 250 (2) 252
(3) 239 (4) 159

Options :

92090689921. 1
92090689922. 2
92090689923. 3
92090689924. 4

Question Number : 82 Question Id : 92090622753 Question Type : MCQ Option Shuffling : No Is Question Mandatory : No Calculator : None Response Time : N.A Think Time : N.A Minimum Instruction Time : 0

Correct Marks : 4 Wrong Marks : 1

In a competition Alka ranks 11th from the top and 27th from the bottom while Anamika ranks 14th from the top. How many candidates have their names listed below Anamika's in that competition's result?

- (1) 25 (2) 29
(3) 26 (4) 23

Options :

92090689925. 1
92090689926. 2
92090689927. 3
92090689928. 4

Question Number : 82 Question Id : 92090622753 Question Type : MCQ Option Shuffling : No Is Question Mandatory : No Calculator : None Response Time : N.A Think Time : N.A Minimum Instruction Time : 0

Correct Marks : 4 Wrong Marks : 1

एक प्रतियोगिता में अलका की रैंक शीर्ष से 11 वें स्थान और नीचे से 27 वें स्थान पर थी, जबकि अनामिका की रैंक शीर्ष से 14 वें स्थान पर थी | इस प्रतियोगिता के परिणामों में अनामिका के नीचे कितने उम्मीदवारों के नाम सूचीबद्ध हैं |

- (1) 25 (2) 29
(3) 26 (4) 23

Options :

92090689925. 1
92090689926. 2
92090689927. 3
92090689928. 4

Question Number : 83 Question Id : 92090622754 Question Type : MCQ Option Shuffling : No Is Question Mandatory : No Calculator : None Response Time : N.A Think Time : N.A Minimum Instruction Time : 0

Correct Marks : 4 Wrong Marks : 1

Six friends A, B, C, D, E and F are sitting in a row facing towards North. C is sitting between A and E . D is not at the end. B is sitting immediate right to E. F is not at the right end. How many persons are there to the right of D?

- (1) 2 (2) 3
(3) 1 (4) 4

Options :

92090689929. 1
92090689930. 2
92090689931. 3
92090689932. 4

Question Number : 83 Question Id : 92090622754 Question Type : MCQ Option Shuffling : No Is Question Mandatory : No Calculator : None Response Time : N.A Think Time : N.A Minimum Instruction Time : 0

Correct Marks : 4 Wrong Marks : 1

छह मित्र A, B, C, D, E और F एक पंक्ति में उत्तर दिशा के सामने बैठे हुए हैं। C, A और E के बीच बैठा हुआ है। D अंत में नहीं है। B, E के सन्निकट दाएं में बैठा है। F दायें से अंत में नहीं है। तो D के दायें में कितने व्यक्ति हैं?

- (1) 2 (2) 3
(3) 1 (4) 4

Options :

92090689929. 1
92090689930. 2
92090689931. 3
92090689932. 4

Question Number : 84 Question Id : 92090622755 Question Type : MCQ Option Shuffling : No Is Question Mandatory : No Calculator : None Response Time : N.A Think Time : N.A Minimum Instruction Time : 0

Correct Marks : 4 Wrong Marks : 1

Bharti travelled 19 km to the East. She turned left and went 15 km. She again turned left and went 19 km. How far she is from the initial position?

- (1) 14 km (2) 15 km
(3) 19 km (4) 18 km

Options :

92090689933. 1
92090689934. 2
92090689935. 3
92090689936. 4

Question Number : 84 Question Id : 92090622755 Question Type : MCQ Option Shuffling : No Is Question Mandatory : No Calculator : None Response Time : N.A Think Time : N.A Minimum Instruction Time : 0

Correct Marks : 4 Wrong Marks : 1

भारती उत्तर की ओर 19 किमी. की यात्रा करती है | वह बाईं ओर मुड़ती है और 15 किमी. तक जाती है। वह पुनः बाईं ओर मुड़ती है और 19 कि.मी. जाती है। अब वह आरम्भिक स्थान से कितनी दूर है?

- (1) 14 किमी. (2) 15 किमी.
 (3) 19 किमी. (4) 18 किमी.


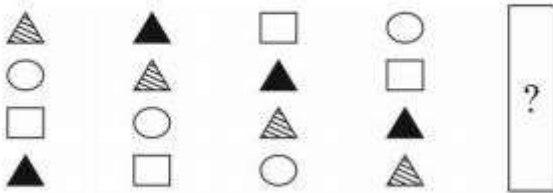
Options :

92090689933. 1
 92090689934. 2
 92090689935. 3
 92090689936. 4

Question Number : 85 Question Id : 92090622756 Question Type : MCQ Option Shuffling : No Is Question Mandatory : No Calculator : None Response Time : N.A Think Time : N.A Minimum Instruction Time : 0

Correct Marks : 4 Wrong Marks : 1

Which of the images A to D is next in the sequence (in place of?)?



- (1) A (2) B
 (3) C (4) D


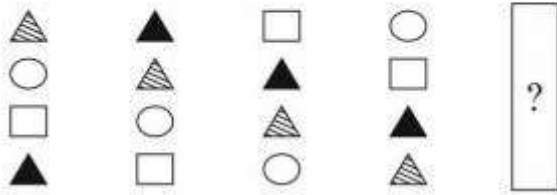
Options :

92090689937. 1
 92090689938. 2
 92090689939. 3
 92090689940. 4

Question Number : 85 Question Id : 92090622756 Question Type : MCQ Option Shuffling : No Is Question Mandatory : No Calculator : None Response Time : N.A Think Time : N.A Minimum Instruction Time : 0

Correct Marks : 4 Wrong Marks : 1

A से D तक की कौनसी छवियाँ अनुक्रम में नहीं हैं?



- (1) A (2) B
(3) C (4) D

Options :

92090689937. 1
92090689938. 2
92090689939. 3
92090689940. 4

Question Number : 86 Question Id : 92090622757 Question Type : MCQ Option Shuffling : No Is Question Mandatory : No Calculator : None Response Time : N.A Think Time : N.A Minimum Instruction Time : 0

Correct Marks : 4 Wrong Marks : 1

Study the following five numbers and answer the question given below : 617 425 739 941 892. What will be the first digit of the second highest number after the positions of only the second and the third digits within each number are interchanged?

- (1) 6 (2) 2
(3) 9 (4) 8

Options :

92090689941. 1
92090689942. 2
92090689943. 3
92090689944. 4

Question Number : 86 Question Id : 92090622757 Question Type : MCQ Option Shuffling : No Is Question Mandatory : No Calculator : None Response Time : N.A Think Time : N.A Minimum Instruction Time : 0

Correct Marks : 4 Wrong Marks : 1

निम्नलिखित संख्याओं का अध्ययन करें और नीचे दिए गए प्रश्न का उत्तर दीजिए:

617 425 739 941 892

प्रत्येक संख्या में केवल द्वितीय अंक और तृतीय अंक की स्थितियों को परस्पर – बदलने के बाद द्वितीय उच्चतम संख्या का प्रथम अंक क्या होगा?

- (1) 6 (2) 2
(3) 9 (4) 8

Options :

92090689941. 1
92090689942. 2
92090689943. 3
92090689944. 4

Question Number : 87 Question Id : 92090622758 Question Type : MCQ Option Shuffling : No Is Question Mandatory : No Calculator : None Response Time : N.A Think Time : N.A Minimum Instruction Time : 0

Correct Marks : 4 Wrong Marks : 1

Select the related number from the given alternative : 14 : 8 : 24 : ?

- (1) 12 (2) 13
(3) 14 (4) 15

Options :

92090689945. 1
92090689946. 2
92090689947. 3
92090689948. 4

Question Number : 87 Question Id : 92090622758 Question Type : MCQ Option Shuffling : No Is Question Mandatory : No Calculator : None Response Time : N.A Think Time : N.A Minimum Instruction Time : 0

Correct Marks : 4 Wrong Marks : 1

लुप्त संख्या ज्ञात कीजिए।

14 : 8 : 24 : ?

- (1) 12 (2) 13
(3) 14 (4) 15

Options :

92090689945. 1
92090689946. 2
92090689947. 3
92090689948. 4

Question Number : 88 Question Id : 92090622759 Question Type : MCQ Option Shuffling : No Is Question Mandatory : No Calculator : None Response Time : N.A Think Time : N.A Minimum Instruction Time : 0

Correct Marks : 4 Wrong Marks : 1

In a certain code 'I work hard' is coded as 'kom pe seet', 'work is worship' is coded as 'pun te seet' and 'I workshp God' is coded as 'pun pan pe'. What is the code of 'hard'?

- (1) pe (2) kom
(3) seet (4) pun

Options :

92090689949. 1
92090689950. 2
92090689951. 3
92090689952. 4

Question Number : 88 Question Id : 92090622759 Question Type : MCQ Option Shuffling : No Is Question Mandatory : No Calculator : None Response Time : N.A Think Time : N.A Minimum Instruction Time : 0

Correct Marks : 4 Wrong Marks : 1

एक कतिपय कूट में 'I work hard को - kom pe seet' के रूप में कूटबद्ध किया गया है, 'work is worship' को 'pun te seet' के रूप में कूटबद्ध किया गया है और 'I workshp God' को 'pun pan pe' के रूप में कूटबद्ध किया गया है। 'hard' का क्या कूट है?

- (1) pe (2) kom
(3) seet (4) pun

Options :

92090689949. 1
92090689950. 2

92090689951. 3

92090689952. 4

Question Number : 89 Question Id : 92090622760 Question Type : MCQ Option Shuffling : No Is Question Mandatory : No Calculator : None Response Time : N.A Think Time : N.A Minimum Instruction Time : 0

Correct Marks : 4 Wrong Marks : 1

Pointing towards Ram, Sita says that he is the son of my husband's father-in-law's wife. How is Ram related to Sita?

- | | |
|-------------|--------------------|
| (1) Brother | (2) Brother-in-law |
| (3) Son | (4) Son-in-law |

Options :

92090689953. 1

92090689954. 2

92090689955. 3

92090689956. 4

Question Number : 89 Question Id : 92090622760 Question Type : MCQ Option Shuffling : No Is Question Mandatory : No Calculator : None Response Time : N.A Think Time : N.A Minimum Instruction Time : 0

Correct Marks : 4 Wrong Marks : 1

राम की ओर संकेत करते हुए सीता ने कहा कि वह मेरे पति के फादर-इन-लॉ की पत्नी का पुत्र है। राम सीता से कैसे सम्बंधित है?

- | | |
|-----------|-----------------|
| (1) भाई | (2) ब्रदर-इन-लॉ |
| (3) पुत्र | (4) सन-इन-लॉ |

Options :

92090689953. 1

92090689954. 2

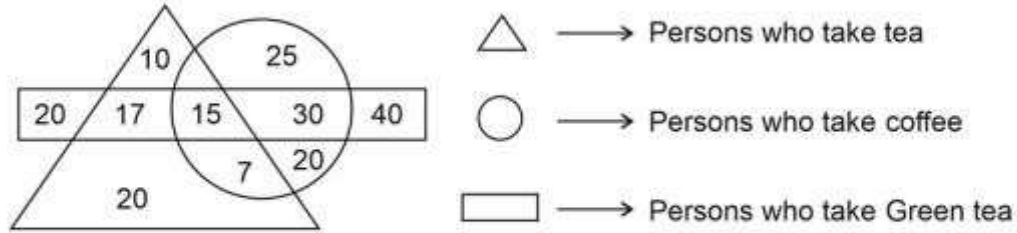
92090689955. 3

92090689956. 4

Question Number : 90 Question Id : 92090622761 Question Type : MCQ Option Shuffling : No Is Question Mandatory : No Calculator : None Response Time : N.A Think Time : N.A Minimum Instruction Time : 0

Correct Marks : 4 Wrong Marks : 1

How many persons do not take tea and coffee but take green tea?



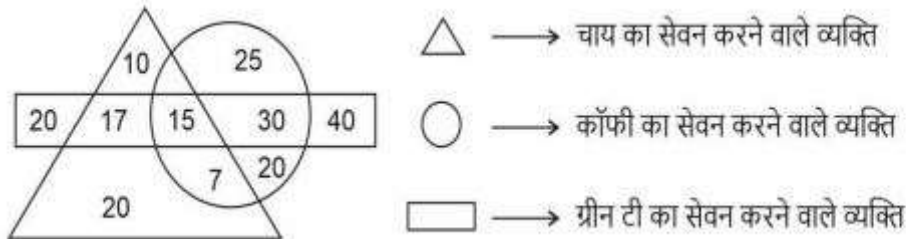
- (1) 20 (2) 60
(3) 70 (4) 90

Options :

92090689957. 1
92090689958. 2
92090689959. 3
92090689960. 4

Question Number : 90 Question Id : 92090622761 Question Type : MCQ Option Shuffling : No Is Question Mandatory : No Calculator : None Response Time : N.A Think Time : N.A Minimum Instruction Time : 0

Correct Marks : 4 Wrong Marks : 1



कितने व्यक्ति चाय और कॉफी का सेवन नहीं करते हैं, लेकिन ग्रीन टी का सेवन करते हैं?

- (1) 20 (2) 60
(3) 70 (4) 90

Options :

92090689957. 1
92090689958. 2
92090689959. 3
92090689960. 4

Question Number : 91 Question Id : 92090622762 Question Type : MCQ Option Shuffling : No Is Question Mandatory : No Calculator : None Response Time : N.A Think Time : N.A Minimum

Instruction Time : 0

Correct Marks : 4 Wrong Marks : 1

In a certain code, TEACHER is written as WHDFKHU. In the same system of coding, what should be the code for the word STATEMENT?

- | | |
|---------------|---------------|
| (1) VWDWHPHQW | (2) VWEWHPHQW |
| (3) WVWDHPHQV | (4) VWWDHPQHW |

Options :

- 92090689961. 1
- 92090689962. 2
- 92090689963. 3
- 92090689964. 4

Question Number : 91 Question Id : 92090622762 Question Type : MCQ Option Shuffling : No Is Question Mandatory : No Calculator : None Response Time : N.A Think Time : N.A Minimum Instruction Time : 0

Correct Marks : 4 Wrong Marks : 1

एक कतिपय कूट में TEACHER को WHDFKHU के रूप में लिखा जाता है। कूटबद्धता की इसी प्रणाली में शब्द – STATEMENT का क्या कूट होना चाहिए?

- | | |
|---------------|---------------|
| (1) VWDWHPHQW | (2) VWEWHPHQW |
| (3) WVWDHPHQV | (4) VWWDHPQHW |

Options :

- 92090689961. 1
- 92090689962. 2
- 92090689963. 3
- 92090689964. 4

Question Number : 92 Question Id : 92090622763 Question Type : MCQ Option Shuffling : No Is Question Mandatory : No Calculator : None Response Time : N.A Think Time : N.A Minimum Instruction Time : 0

Correct Marks : 4 Wrong Marks : 1

Birds : Ornithology :: Fish : _____.

- | | |
|-------------------|-----------------|
| (1) Ichthyology | (2) Hermitology |
| (3) Helminthology | (4) Kalology |

Options :

- 92090689965. 1
- 92090689966. 2

92090689967. 3

92090689968. 4

Question Number : 92 Question Id : 92090622763 Question Type : MCQ Option Shuffling : No Is Question Mandatory : No Calculator : None Response Time : N.A Think Time : N.A Minimum Instruction Time : 0

Correct Marks : 4 Wrong Marks : 1

पक्षी: ओर्निथोलॉजी (Ornithology) : : मछली _____

- | | |
|------------------------------------|-------------------------------|
| (1) मत्स्य विज्ञान(Ichthyology) | (2) हर्मिटोलॉजी (Hermitology) |
| (3) हेल्मिन्थोलॉजी (Helminthology) | (4) कैलोलॉजी (Kalology) |

Options :

92090689965. 1

92090689966. 2

92090689967. 3

92090689968. 4

Question Number : 93 Question Id : 92090622764 Question Type : MCQ Option Shuffling : No Is Question Mandatory : No Calculator : None Response Time : N.A Think Time : N.A Minimum Instruction Time : 0

Correct Marks : 4 Wrong Marks : 1

If \$ means 'plus (+)', # means 'minus (-)', @ means 'multiplied (x)' and * means 'divided (÷)', then the value of $46\$4@5\#72*8$ is :

- | | |
|--------|--------|
| (1) 59 | (2) 55 |
| (3) 57 | (4) 66 |

Options :

92090689969. 1

92090689970. 2

92090689971. 3

92090689972. 4

Question Number : 93 Question Id : 92090622764 Question Type : MCQ Option Shuffling : No Is Question Mandatory : No Calculator : None Response Time : N.A Think Time : N.A Minimum Instruction Time : 0

Correct Marks : 4 Wrong Marks : 1

यदि \$ का अर्थ 'योग' (+), # का अर्थ घटा (-), @ का अर्थ गुणन (x) और * का अर्थ विभाजन (÷) है तो
46 \$ 4 @ 5 # 72 * 8 का मान क्या है?

- (1) 59 (2) 55
(3) 57 (4) 66

Options :

92090689969. 1
92090689970. 2
92090689971. 3
92090689972. 4

**Question Number : 94 Question Id : 92090622765 Question Type : MCQ Option Shuffling : No Is
Question Mandatory : No Calculator : None Response Time : N.A Think Time : N.A Minimum
Instruction Time : 0**

Correct Marks : 4 Wrong Marks : 1

Funk : Vitamin : Curie:?

- (1) Uranium (2) Radium
(3) Radioactivity (4) Photography

Options :

92090689973. 1
92090689974. 2
92090689975. 3
92090689976. 4

**Question Number : 94 Question Id : 92090622765 Question Type : MCQ Option Shuffling : No Is
Question Mandatory : No Calculator : None Response Time : N.A Think Time : N.A Minimum
Instruction Time : 0**

Correct Marks : 4 Wrong Marks : 1

तीखी गंध : विटामिन :: सी क्यूरी : _____?

- (1) यूरेनियम (2) रेडियम
(3) रेडियोधर्मिता (4) फोटोग्राफी

Options :

92090689973. 1
92090689974. 2
92090689975. 3
92090689976. 4

Question Number : 95 Question Id : 92090622766 Question Type : MCQ Option Shuffling : No Is Question Mandatory : No Calculator : None Response Time : N.A Think Time : N.A Minimum Instruction Time : 0

Correct Marks : 4 Wrong Marks : 1

If January 1, 2005 was Monday, what was the day on January 1, 2009?

- | | |
|------------|--------------|
| (1) Friday | (2) Saturday |
| (3) Sunday | (4) Monday |

Options :

- 92090689977. 1
- 92090689978. 2
- 92090689979. 3
- 92090689980. 4

Question Number : 95 Question Id : 92090622766 Question Type : MCQ Option Shuffling : No Is Question Mandatory : No Calculator : None Response Time : N.A Think Time : N.A Minimum Instruction Time : 0

Correct Marks : 4 Wrong Marks : 1

यदि 1 जनवरी, 2005 को सोमवार था तो 1 जनवरी, 2009 को कौनसा दिन था?

- | | |
|--------------|------------|
| (1) शुक्रवार | (2) शनिवार |
| (3) रविवार | (4) सोमवार |

Options :

- 92090689977. 1
- 92090689978. 2
- 92090689979. 3
- 92090689980. 4

Question Number : 96 Question Id : 92090622767 Question Type : MCQ Option Shuffling : No Is Question Mandatory : No Calculator : None Response Time : N.A Think Time : N.A Minimum Instruction Time : 0

Correct Marks : 4 Wrong Marks : 1

Trace out the Figure which contains fig (x) as its part.

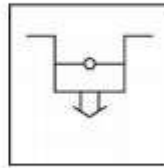
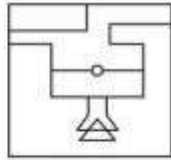
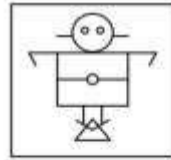


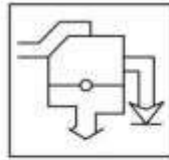
fig (x)



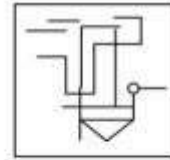
(1)



(2)



(3)



(4)

- (1) 1
(3) 3

- (2) 2
(4) 4

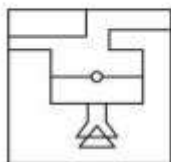
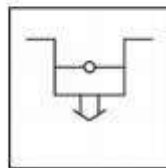
Options :

92090689981. 1
92090689982. 2
92090689983. 3
92090689984. 4

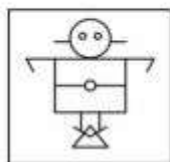
Question Number : 96 Question Id : 92090622767 Question Type : MCQ Option Shuffling : No Is Question Mandatory : No Calculator : None Response Time : N.A Think Time : N.A Minimum Instruction Time : 0

Correct Marks : 4 Wrong Marks : 1

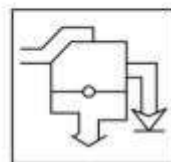
निम्नलिखित में से उस आकृति का पता लगाइए, जिसमें उसके अंग के रूप में आकृति (x) सम्मिलित है?



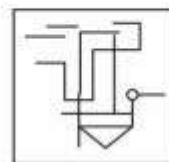
(1)



(2)



(3)



(4)

- (1) 1
(3) 3

- (2) 2
(4) 4

Options :

92090689981. 1
92090689982. 2
92090689983. 3
92090689984. 4

Question Number : 97 Question Id : 92090622768 Question Type : MCQ Option Shuffling : No Is Question Mandatory : No Calculator : None Response Time : N.A Think Time : N.A Minimum Instruction Time : 0

Correct Marks : 4 Wrong Marks : 1

What will be the next term of the given number series : 0, 2, 5, 7, 14, 26, 47, ?

- (1) 83 (2) 85
(3) 87 (4) 89

Options :

92090689985. 1
92090689986. 2
92090689987. 3
92090689988. 4

Question Number : 97 Question Id : 92090622768 Question Type : MCQ Option Shuffling : No Is Question Mandatory : No Calculator : None Response Time : N.A Think Time : N.A Minimum Instruction Time : 0

Correct Marks : 4 Wrong Marks : 1

नीच दी गई अंक श्रृंखला का अगला पद क्या है?

0, 2, 5, 7, 14, 26, 47

- (1) 83 (2) 85
(3) 87 (4) 89

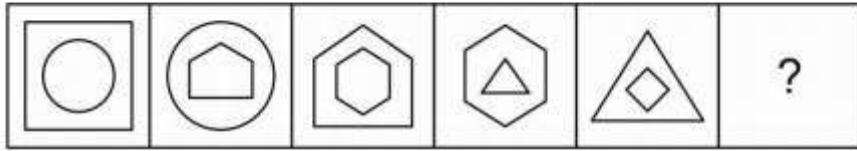
Options :

92090689985. 1
92090689986. 2
92090689987. 3
92090689988. 4

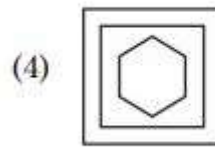
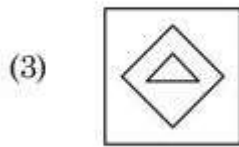
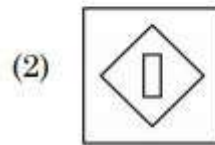
Question Number : 98 Question Id : 92090622769 Question Type : MCQ Option Shuffling : No Is Question Mandatory : No Calculator : None Response Time : N.A Think Time : N.A Minimum Instruction Time : 0

Correct Marks : 4 Wrong Marks : 1

Which one from the four answer figures should come at the right of the problem figures to complete the series logically?



Problem figures



Options :

92090689989. 1

92090689990. 2

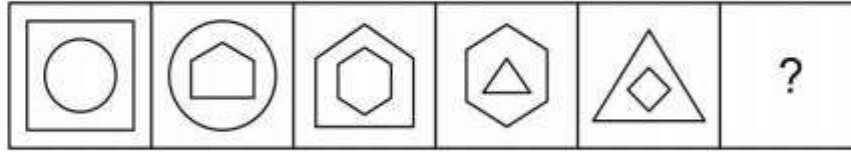
92090689991. 3

92090689992. 4

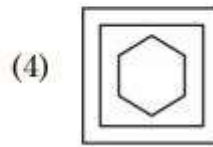
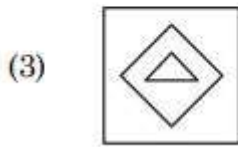
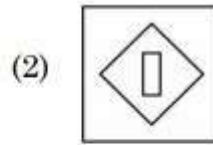
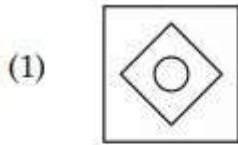
Question Number : 98 Question Id : 92090622769 Question Type : MCQ Option Shuffling : No Is Question Mandatory : No Calculator : None Response Time : N.A Think Time : N.A Minimum Instruction Time : 0

Correct Marks : 4 Wrong Marks : 1

इस श्रृंखला को तार्किक रूप से पूरा करने के लिए निम्नलिखित में से कौनसी उत्तर-आकृति, समस्या-आकृति के दाईं ओर आनी चाहिए?



समस्या आकृति



Options :

- 92090689989. 1
- 92090689990. 2
- 92090689991. 3
- 92090689992. 4

Question Number : 99 Question Id : 92090622770 Question Type : MCQ Option Shuffling : No Is Question Mandatory : No Calculator : None Response Time : N.A Think Time : N.A Minimum Instruction Time : 0

Correct Marks : 4 Wrong Marks : 1

Which Conclusion follows on the basis of given statement :

Statement : The ABC Engineering College has started a cell which will conduct counselling workshops in the field of stress management to students and faculties.

- Conclusions :**
- I. The college has needed resources to start such activity.
 - II. Students and faculties feel a need to have such cell in the college.

- (1) If only Conclusion I follows
- (2) If only Conclusion II follows
- (3) If both I and II follows
- (4) If either I or II follows

Options :

- 92090689993. 1
- 92090689994. 2
- 92090689995. 3
- 92090689996. 4

Question Number : 99 Question Id : 92090622770 Question Type : MCQ Option Shuffling : No Is Question Mandatory : No Calculator : None Response Time : N.A Think Time : N.A Minimum Instruction Time : 0

Correct Marks : 4 Wrong Marks : 1

कौनसा निष्कर्ष नीचे दिए गए आधार पर पालन करता है?

कथन : ABC इंजीनियरिंग कॉलेज ने प्रकोष्ठ शुरू किया है, जो विद्यार्थियों और शिक्षक-वर्ग (फैकल्टीज़) के तनाव प्रबंधन के क्षेत्र में परामर्श देने के लिए कार्यशालाएं आयोजित करेगा।

निष्कर्ष I : इस कॉलेज के पास उपरोक्त कार्यकलाप शुरू करने के लिए संसाधन आवश्यक हैं।

निष्कर्ष II : विद्यार्थी और फैकल्टीज कालेज में इस प्रकार के प्रकोष्ठ की आवश्यकता महसूस करते हैं।

1. केवल निष्कर्ष I निकलता है।
2. केवल निष्कर्ष II निकलता है।
3. निष्कर्ष I और II दोनों निकलते हैं।
4. निष्कर्ष I और II दोनों में से कोई भी निष्कर्ष निकलता है।

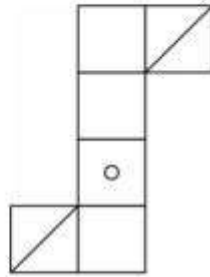
Options :

- 92090689993. 1
- 92090689994. 2
- 92090689995. 3
- 92090689996. 4

Question Number : 100 Question Id : 92090622771 Question Type : MCQ Option Shuffling : No Is Question Mandatory : No Calculator : None Response Time : N.A Think Time : N.A Minimum Instruction Time : 0

Correct Marks : 4 Wrong Marks : 1

Choose the Cube which will be formed on folding the question figure:



(X)



(A)



(B)



(C)



(D)

- (1) (A) & (C) Only
- (2) (A) & (B) Only
- (3) (C) & (D) Only
- (4) (B) & (D) Only

Options :

92090689997. 1

92090689998. 2

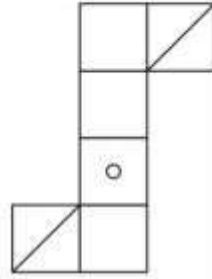
92090689999. 3

92090690000. 4

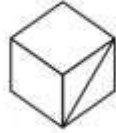
Question Number : 100 Question Id : 92090622771 Question Type : MCQ Option Shuffling : No Is Question Mandatory : No Calculator : None Response Time : N.A Think Time : N.A Minimum Instruction Time : 0

Correct Marks : 4 Wrong Marks : 1

विकल्पों में से घन का चयन करें जो प्रश्न आकृति को मोड़ने से प्राप्त होगा।



(X)



(A)



(B)



(C)



(D)

- (1) केवल A और C
- (2) केवल A और B
- (3) केवल C और D
- (4) केवल B और D

Options :

92090689997. 1
92090689998. 2
92090689999. 3
92090690000. 4