

National Testing Agency

Question Paper Name : 03 17062023
Subject Name : 17Jun2023 Shift3 Subject Combination 1
Creation Date : 2023-06-18 15:00:12
Duration : 510
Total Marks : 2000
Display Marks: Yes

Hindi

Group Number : 1
Group Id : 212807622
Group Maximum Duration : 45
Group Minimum Duration : 45
Show Attended Group? : No
Edit Attended Group? : No
Break time : 0
Group Marks : 200
Is this Group for Examiner? : No
Examiner permission : Cant View
Show Progress Bar? : No

Hindi

Section Id : 212807726
Section Number : 1
Section type : Online
Mandatory or Optional : Mandatory
Number of Questions : 50
Number of Questions to be attempted : 40
Section Marks : 200
Enable Mark as Answered Mark for Review and Clear Response : Yes
Maximum Instruction Time : 0
Sub-Section Number : 1
Sub-Section Id : 2128072078
Question Shuffling Allowed : No
Is Section Default? : null

Question Number : 1 Question Id : 21280728826 Question Type : MCQ Option Shuffling : No Is Question Mandatory : No Calculator : None Response Time : N.A Think Time : N.A Minimum Instruction Time : 0

Correct Marks : 5 Wrong Marks : 1

Question Key Details :

Key	Value
Comprehension	Comp1

निम्नलिखित गद्यांश को पढ़कर उससे संबंधित प्रश्न का उत्तर दीजिए -

विज्ञापन एक कला है। विज्ञापन का मूल तत्व यह माना जाता है कि जिस वस्तु का विज्ञापन किया जा रहा है, उसे लोग पहचान जाएँ और उसको अपना लें। शुरू-शुरू में घंटियाँ बजाते, टोपियाँ पहनकर या रंग-बिरंगे कपड़े पहनकर विज्ञापन करने वालों द्वारा निर्माता अपनी वस्तुओं के बारे में जानकारी घर-घर पहुँचा देते थे। विज्ञापन की उन्नति के साथ समाचार-पत्र, रेडियो और टेलीविजन का आविष्कार हुआ। इसी के साथ विज्ञापन ने अपना साम्राज्य फैलाना शुरू कर दिया। नगरों में सड़कों के किनारे, चौराहों और गलियों के सिरों पर विज्ञापन लटकने लगे। समाचार-पत्र, रेडियो-स्टेशन, सिनेमा के पट व दूरदर्शन अब इनका माध्यम बन गए। विज्ञापन के लिए भी विज्ञापन गृह एवं विज्ञापन संस्थाएँ स्थापित हो गईं। इस प्रकार इसका क्षेत्र विस्तृत होता चला गया। आज विज्ञापन को यदि हम व्यापार की आत्मा कहें तो अत्युक्ति न होगी। विज्ञापन व्यापार व बिक्री बढ़ाने का एकमात्र साधन है। देखा गया है कि अनेक व्यापारिक संस्थाएँ केवल विज्ञापन के बल पर ही अपना माल बेचती हैं। कुल मिलाकर विज्ञापन कला ने आज व्यापार के क्षेत्र में अपना महत्त्वपूर्ण स्थान बना लिया है और इसलिए ही इस युग को विज्ञापन युग कहा जाने लगा है। विज्ञापन के इस युग में लोगों ने इसका गलत उपयोग करना भी शुरू कर दिया है। सच्चाई एवं ईमानदारी के अभाव में लोगों तक गलत विज्ञापन पहुँचाए जाने की प्रथा चल पड़ी है। अतएव सरकार को चाहिए कि ऐसे लोगों के प्रति कड़े-से-कड़ा व्यवहार कर इस कला को सुरक्षित रखने का प्रयास करे।

उक्त अनुच्छेद के लिए उचित शीर्षक का चयन कीजिए।

- (1) विज्ञापन की उपयोगिता
- (2) विज्ञापन कला
- (3) विज्ञापन का महत्त्व
- (4) विज्ञापन और विकास

Options :

212807115301. 1
212807115302. 2
212807115303. 3
212807115304. 4

Question Number : 2 Question Id : 21280728827 Question Type : MCQ Option Shuffling : No Is Question Mandatory : No Calculator : None Response Time : N.A Think Time : N.A Minimum Instruction Time : 0

Correct Marks : 5 Wrong Marks : 1

Question Key Details :

Key	Value
Comprehension	Compl

निम्नलिखित गद्यांश को पढ़कर उससे संबंधित प्रश्न का उत्तर दीजिए -

विज्ञापन एक कला है। विज्ञापन का मूल तत्व यह माना जाता है कि जिस वस्तु का विज्ञापन किया जा रहा है, उसे लोग पहचान जाएँ और उसको अपना लें। शुरू-शुरू में घंटियाँ बजाते, टोपियाँ पहनकर या रंग-बिरंगे कपड़े पहनकर विज्ञापन करने वालों द्वारा निर्माता अपनी वस्तुओं के बारे में जानकारी घर-घर पहुँचा देते थे। विज्ञापन की उन्नति के साथ समाचार-पत्र, रेडियो और टेलीविजन का आविष्कार हुआ। इसी के साथ विज्ञापन ने अपना साम्राज्य फैलाना शुरू कर दिया। नगरों में सड़कों के किनारे, चौराहों और गलियों के सिरों पर विज्ञापन लटकने लगे। समाचार-पत्र, रेडियो-स्टेशन, सिनेमा के पट व दूरदर्शन अब इनका माध्यम बन गए। विज्ञापन के लिए भी विज्ञापन गृह एवं विज्ञापन संस्थाएँ स्थापित हो गईं। इस प्रकार इसका क्षेत्र विस्तृत होता चला गया। आज विज्ञापन को यदि हम व्यापार की आत्मा कहें तो अत्युक्ति न होगी। विज्ञापन व्यापार व बिक्री बढ़ाने का एकमात्र साधन है। देखा गया है कि अनेक व्यापारिक संस्थाएँ केवल विज्ञापन के बल पर ही अपना माल बेचती हैं। कुल मिलाकर विज्ञापन कला ने आज व्यापार के क्षेत्र में अपना महत्त्वपूर्ण स्थान बना लिया है और इसलिए ही इस युग को विज्ञापन युग कहा जाने लगा है। विज्ञापन के इस युग में लोगों ने इसका गलत उपयोग करना भी शुरू कर दिया है। सच्चाई एवं ईमानदारी के अभाव में लोगों तक गलत विज्ञापन पहुँचाए जाने की प्रथा चल पड़ी है। अतएव सरकार को चाहिए कि ऐसे लोगों के प्रति कड़े-से-कड़ा व्यवहार कर इस कला को सुरक्षित रखने का प्रयास करे।

विज्ञापन के कारण निम्न में से किन माध्यमों का महत्व बढ़ा है?

- (1) समाचार पत्र
- (2) रेडियो
- (3) टेलीविजन
- (4) उपरोक्त सभी

Options :

212807115305. 1
212807115306. 2
212807115307. 3
212807115308. 4

Question Number : 3 Question Id : 21280728828 Question Type : MCQ Option Shuffling : No Is Question Mandatory : No Calculator : None Response Time : N.A Think Time : N.A Minimum Instruction Time : 0

Correct Marks : 5 Wrong Marks : 1

Question Key Details :

Key	Value
Comprehension	Compl

निम्नलिखित गद्यांश को पढ़कर उससे संबंधित प्रश्न का उत्तर दीजिए -

विज्ञापन एक कला है। विज्ञापन का मूल तत्व यह माना जाता है कि जिस वस्तु का विज्ञापन किया जा रहा है, उसे लोग पहचान जाएँ और उसको अपना लें। शुरू-शुरू में घंटियाँ बजाते, टोपियाँ पहनकर या रंग-बिरंगे कपड़े पहनकर विज्ञापन करने वालों द्वारा निर्माता अपनी वस्तुओं के बारे में जानकारी घर-घर पहुँचा देते थे। विज्ञापन की उन्नति के साथ समाचार-पत्र, रेडियो और टेलीविजन का आविष्कार हुआ। इसी के साथ विज्ञापन ने अपना साम्राज्य फैलाना शुरू कर दिया। नगरों में सड़कों के किनारे, चौराहों और गलियों के सिरों पर विज्ञापन लटकने लगे। समाचार-पत्र, रेडियो-स्टेशन, सिनेमा के पट व दूरदर्शन अब इनका माध्यम बन गए। विज्ञापन के लिए भी विज्ञापन गृह एवं विज्ञापन संस्थाएँ स्थापित हो गईं। इस प्रकार इसका क्षेत्र विस्तृत होता चला गया। आज विज्ञापन को यदि हम व्यापार की आत्मा कहें तो अत्युक्ति न होगी। विज्ञापन व्यापार व बिक्री बढ़ाने का एकमात्र साधन है। देखा गया है कि अनेक व्यापारिक संस्थाएँ केवल विज्ञापन के बल पर ही अपना माल बेचती हैं। कुल मिलाकर विज्ञापन कला ने आज व्यापार के क्षेत्र में अपना महत्त्वपूर्ण स्थान बना लिया है और इसलिए ही इस युग को विज्ञापन युग कहा जाने लगा है। विज्ञापन के इस युग में लोगों ने इसका गलत उपयोग करना भी शुरू कर दिया है। सच्चाई एवं ईमानदारी के अभाव में लोगों तक गलत विज्ञापन पहुँचाए जाने की प्रथा चल पड़ी है। अतएव सरकार को चाहिए कि ऐसे लोगों के प्रति कड़े-से-कड़ा व्यवहार कर इस कला को सुरक्षित रखने का प्रयास करे।

विज्ञापन का मुख्य कार्य है -

- (1) वस्तु की पहचान कराना
- (2) नव उत्पाद से लोगों को अवगत कराना
- (3) वस्तु के प्रति विश्वसनीयता बढ़ाना
- (4) उपरोक्त सभी

Options :

212807115309. 1
212807115310. 2
212807115311. 3
212807115312. 4

Question Number : 4 Question Id : 21280728829 Question Type : MCQ Option Shuffling : No Is Question Mandatory : No Calculator : None
Response Time : N.A Think Time : N.A Minimum Instruction Time : 0

Correct Marks : 5 Wrong Marks : 1

Question Key Details :

Key	Value
Comprehension	Compl

निम्नलिखित गद्यांश को पढ़कर उससे संबंधित प्रश्न का उत्तर दीजिए -

विज्ञापन एक कला है। विज्ञापन का मूल तत्व यह माना जाता है कि जिस वस्तु का विज्ञापन किया जा रहा है, उसे लोग पहचान जाएँ और उसको अपना लें। शुरू-शुरू में घंटियाँ बजाते, टोपियाँ पहनकर या रंग-बिरंगे कपड़े पहनकर विज्ञापन करने वालों द्वारा निर्माता अपनी वस्तुओं के बारे में जानकारी घर-घर पहुँचा देते थे। विज्ञापन की उन्नति के साथ समाचार-पत्र, रेडियो और टेलीविजन का आविष्कार हुआ। इसी के साथ विज्ञापन ने अपना साम्राज्य फैलाना शुरू कर दिया। नगरों में सड़कों के किनारे, चौराहों और गलियों के सिरों पर विज्ञापन लटकने लगे। समाचार-पत्र, रेडियो-स्टेशन, सिनेमा के पट व दूरदर्शन अब इनका माध्यम बन गए। विज्ञापन के लिए भी विज्ञापन गृह एवं विज्ञापन संस्थाएँ स्थापित हो गईं। इस प्रकार इसका क्षेत्र विस्तृत होता चला गया। आज विज्ञापन को यदि हम व्यापार की आत्मा कहें तो अत्युक्ति न होगी। विज्ञापन व्यापार व बिक्री बढ़ाने का एकमात्र साधन है। देखा गया है कि अनेक व्यापारिक संस्थाएँ केवल विज्ञापन के बल पर ही अपना माल बेचती हैं। कुल मिलाकर विज्ञापन कला ने आज व्यापार के क्षेत्र में अपना महत्त्वपूर्ण स्थान बना लिया है और इसलिए ही इस युग को विज्ञापन युग कहा जाने लगा है। विज्ञापन के इस युग में लोगों ने इसका गलत उपयोग करना भी शुरू कर दिया है। सच्चाई एवं ईमानदारी के अभाव में लोगों तक गलत विज्ञापन पहुँचाए जाने की प्रथा चल पड़ी है। अतएव सरकार को चाहिए कि ऐसे लोगों के प्रति कड़े-से-कड़ा व्यवहार कर इस कला को सुरक्षित रखने का प्रयास करे।

विज्ञापन निर्माण का प्रशिक्षण किसके द्वारा दिया जाता है?

- (1) विज्ञापन संस्था द्वारा
- (2) अखबारों द्वारा
- (3) सामाजिक संस्था द्वारा
- (4) प्रशासन द्वारा

Options :

212807115313. 1
212807115314. 2
212807115315. 3
212807115316. 4

Question Number : 5 Question Id : 21280728830 Question Type : MCQ Option Shuffling : No Is Question Mandatory : No Calculator : None
Response Time : N.A Think Time : N.A Minimum Instruction Time : 0

Correct Marks : 5 Wrong Marks : 1

Question Key Details :

Key	Value
Comprehension	Compl

निम्नलिखित गद्यांश को पढ़कर उससे संबंधित प्रश्न का उत्तर दीजिए -

विज्ञापन एक कला है। विज्ञापन का मूल तत्व यह माना जाता है कि जिस वस्तु का विज्ञापन किया जा रहा है, उसे लोग पहचान जाएँ और उसको अपना लें। शुरू-शुरू में घंटियाँ बजाते, टोपियाँ पहनकर या रंग-बिरंगे कपड़े पहनकर विज्ञापन करने वालों द्वारा निर्माता अपनी वस्तुओं के बारे में जानकारी घर-घर पहुँचा देते थे। विज्ञापन की उन्नति के साथ समाचार-पत्र, रेडियो और टेलीविजन का आविष्कार हुआ। इसी के साथ विज्ञापन ने अपना साम्राज्य फैलाना शुरू कर दिया। नगरों में सड़कों के किनारे, चौराहों और गलियों के सिरोँ पर विज्ञापन लटकने लगे। समाचार-पत्र, रेडियो-स्टेशन, सिनेमा के पट व दूरदर्शन अब इनका माध्यम बन गए। विज्ञापन के लिए भी विज्ञापन गृह एवं विज्ञापन संस्थाएँ स्थापित हो गईं। इस प्रकार इसका क्षेत्र विस्तृत होता चला गया। आज विज्ञापन को यदि हम व्यापार की आत्मा कहें तो अत्युक्ति न होगी। विज्ञापन व्यापार व बिक्री बढ़ाने का एकमात्र साधन है। देखा गया है कि अनेक व्यापारिक संस्थाएँ केवल विज्ञापन के बल पर ही अपना माल बेचती हैं। कुल मिलाकर विज्ञापन कला ने आज व्यापार के क्षेत्र में अपना महत्त्वपूर्ण स्थान बना लिया है और इसलिए ही इस युग को विज्ञापन युग कहा जाने लगा है। विज्ञापन के इस युग में लोगों ने इसका गलत उपयोग करना भी शुरू कर दिया है। सच्चाई एवं ईमानदारी के अभाव में लोगों तक गलत विज्ञापन पहुँचाए जाने की प्रथा चल पड़ी है। अतएव सरकार को चाहिए कि ऐसे लोगों के प्रति कड़े-से-कड़ा व्यवहार कर इस कला को सुरक्षित रखने का प्रयास करे।

विज्ञापन का विशेष महत्व है -

- (1) व्यापार क्षेत्र में
- (2) शिक्षा क्षेत्र में
- (3) कृषि क्षेत्र में
- (4) समाज क्षेत्र

Options :

212807115317. 1
212807115318. 2
212807115319. 3
212807115320. 4

Sub-Section Number : 2
Sub-Section Id : 2128072079
Question Shuffling Allowed : No
Is Section Default? : null

Question Number : 6 Question Id : 21280728831 Question Type : MCQ Option Shuffling : No Is Question Mandatory : No Calculator : None
Response Time : N.A Think Time : N.A Minimum Instruction Time : 0

Correct Marks : 5 Wrong Marks : 1

Question Key Details :

Key	Value
Comprehension	Comp2

निम्नलिखित अनुच्छेद को पढ़कर उससे संबंधित प्रश्न का उत्तर दीजिए -

'तारसप्तक' के प्रकाशन से हिंदी साहित्य में आधुनिक संवेदना का सूत्रपात माना जाता है। आधुनिकता की अवधारणा मूल्यबोधी होने पर भी मूलतः तो कालबोधी है। इतिहास की प्रक्रिया को समझ कर उसकी गति को द्रुततर करने का सजग मानवीय प्रयास यदि आधुनिकता का मुख्य लक्षण है तो साम्यवादी विचारधारा ने इस क्षेत्र में सैद्धांतिक ढंग से पहल की, इसमें संदेह नहीं, यों पश्चिम के देश औद्योगिक क्रांति और तत्संबंधी अन्वेषणों से यह कार्य व्यावहारिक रूप में पहले से करते आ रहे थे। 'तारसप्तक' का आयोजन और संपादन अज्ञेय करते हैं और उसमें सबसे अधिक बलपूर्वक वे कवि शामिल होते हैं, जिन्होंने अपने को साम्यवादी घोषित किया। स्वाधीन पश्चिम और साम्यवादी रूस दोनों की विचार-धाराएँ हिंदी साहित्य के सजग रूप में नियोजित आधुनिक काव्यांदोलन में परस्पर टकराती हैं, जिनके बीच ये सात कवि अपने निजी व्यक्तित्व की तलाश में गतिशील दिखते हैं। इस दृष्टि से 'तारसप्तक' की भूमिका में उन्हें 'राहों का अन्वेषी' ठीक ही कहा गया है। यहाँ संकलित सात कवि हैं- गजानन माधव मुक्तिबोध, नेमिचन्द्र जैन, भारतभूषण अग्रवाल, प्रभाकर माचवे, गिरिजाकुमार माधुर, रामविलास शर्मा, 'अज्ञेय'। वैचारिक मतभेद के बावजूद इन कवियों को एक साथ लाने वाला मुख्य तत्व उनका प्रयोग पर आग्रह है। समाज के हित में जैसे क्रांति की सतत प्रक्रिया काम्य है, वैसे ही, रचना के हित में प्रयोग की। 'प्रयोगवाद' नामकरण को अनुपयुक्त मानते हुए 'दूसरा सप्तक' (1951) की भूमिका में अज्ञेय को स्पष्ट करना पड़ा कि "प्रयोग का कोई बाद नहीं है... प्रयोग अपने आप में इष्ट नहीं है, वह साधन है। और दोहरा साधन है। क्योंकि एक तो वह उस सत्य को जानने का साधन है, जिसे कवि प्रेषित करता है, दूसरे वह उस प्रेषण की क्रिया को और उसके साधनों को जानने का भी साधन है। अर्थात् प्रयोग द्वारा कवि अपने सत्य को अधिक अच्छी तरह जान सकता है और अधिक अच्छी तरह अभिव्यक्त कर सकता है।"

आधुनिकता की अवधारणा मूल्यबोधी होने पर मूलतः कैसी है?

- (1) समस्याबोधी
- (2) कालबोधी
- (3) आधुनिकताबोधी
- (4) इनमें से कोई नहीं

Options :

212807115321. 1
212807115322. 2
212807115323. 3
212807115324. 4

Question Number : 7 Question Id : 21280728832 Question Type : MCQ Option Shuffling : No Is Question Mandatory : No Calculator : None
Response Time : N.A Think Time : N.A Minimum Instruction Time : 0

Correct Marks : 5 Wrong Marks : 1

Question Key Details :

Key	Value
Comprehension	Comp2

निम्नलिखित अनुच्छेद को पढ़कर उससे संबंधित प्रश्न का उत्तर दीजिए -

'तारसप्तक' के प्रकाशन से हिंदी साहित्य में आधुनिक संवेदना का सूत्रपात माना जाता है। आधुनिकता की अवधारणा मूल्यबोध होने पर भी मूलतः तो कालबोध है। इतिहास की प्रक्रिया को समझ कर उसकी गति को द्रुततर करने का सजग मानवीय प्रयास यदि आधुनिकता का मुख्य लक्षण है तो साम्यवादी विचारधारा ने इस क्षेत्र में सैद्धांतिक ढंग से पहल की, इसमें संदेह नहीं, यों पश्चिम के देश औद्योगिक क्रांति और तत्संबंधी अन्वेषणों से यह कार्य व्यावहारिक रूप में पहले से करते आ रहे थे। 'तारसप्तक' का आयोजन और संपादन अज्ञेय करते हैं और उसमें सबसे अधिक बलपूर्वक वे कवि शामिल होते हैं, जिन्होंने अपने को साम्यवादी घोषित किया। स्वाधीन पश्चिम और साम्यवादी रूस दोनों की विचार-धाराएँ हिंदी साहित्य के सजग रूप में नियोजित आधुनिक काव्यांदोलन में परस्पर टकराती हैं, जिनके बीच ये सात कवि अपने निजी व्यक्तित्व की तलाश में गतिशील दिखते हैं। इस दृष्टि से 'तारसप्तक' की भूमिका में उन्हें 'राहों का अन्वेषी' ठीक ही कहा गया है। यहाँ संकलित सात कवि हैं- गजानन माधव मुक्तिबोध, नेमिचन्द्र जैन, भारतभूषण अग्रवाल, प्रभाकर माचवे, गिरिजाकुमार माधुर, रामविलास शर्मा, 'अज्ञेय'। वैचारिक मतभेद के बावजूद इन कवियों को एक साथ लाने वाला मुख्य तत्व उनका प्रयोग पर आग्रह है। समाज के हित में जैसे क्रांति को सतत प्रक्रिया का म्य है, वैसे ही, रचना के हित में प्रयोग की। 'प्रयोगवाद' नामकरण को अनुपयुक्त मानते हुए 'दूसरा सप्तक' (1951) की भूमिका में अज्ञेय को स्पष्ट करना पड़ा कि "प्रयोग का कोई बाद नहीं है... प्रयोग अपने आप में इष्ट नहीं है, वह साधन है। और दोहरा साधन है। क्योंकि एक तो वह उस सत्य को जानने का साधन है, जिसे कवि प्रेषित करता है, दूसरे वह उस प्रेषण की क्रिया को और उसके साधनों को जानने का भी साधन है। अर्थात् प्रयोग द्वारा कवि अपने सत्य को अधिक अच्छी तरह जान सकता है और अधिक अच्छी तरह अभिव्यक्त कर सकता है।"

'तारसप्तक' का आयोजन और संपादन किसने किया ?

- (1) केदारनाथ सिंह
- (2) प्रभाकर माचवे
- (3) अज्ञेय
- (4) मुक्तिबोध

Options :

212807115325. 1

212807115326. 2

212807115327. 3

212807115328. 4

Question Number : 8 Question Id : 21280728833 Question Type : MCQ Option Shuffling : No Is Question Mandatory : No Calculator : None Response Time : N.A Think Time : N.A Minimum Instruction Time : 0

Correct Marks : 5 Wrong Marks : 1

Question Key Details :

Key	Value
Comprehension	Comp2

निम्नलिखित अनुच्छेद को पढ़कर उससे संबंधित प्रश्न का उत्तर दीजिए -

'तारसप्तक' के प्रकाशन से हिंदी साहित्य में आधुनिक संवेदना का सूत्रपात माना जाता है। आधुनिकता की अवधारणा मूल्यबोधो होने पर भी मूलतः तो कालबोधो है। इतिहास की प्रक्रिया को समझ कर उसकी गति को द्रुततर करने का सजग मानवीय प्रयास यदि आधुनिकता का मुख्य लक्षण है तो साम्यवादी विचारधारा ने इस क्षेत्र में सैद्धांतिक ढंग से पहल की, इसमें संदेह नहीं, यों पश्चिम के देश औद्योगिक क्रांति और तत्संबंधी अन्वेषणों से यह कार्य व्यावहारिक रूप में पहले से करते आ रहे थे। 'तारसप्तक' का आयोजन और संपादन अज्ञेय करते हैं और उसमें सबसे अधिक बलपूर्वक वे कवि शामिल होते हैं, जिन्होंने अपने को साम्यवादी घोषित किया। स्वाधीन पश्चिम और साम्यवादी रूस दोनों की विचार-धाराएँ हिंदी साहित्य के सजग रूप में नियोजित आधुनिक काव्यांदोलन में परस्पर टकराती हैं, जिनके बीच ये सात कवि अपने निजी व्यक्तित्व की तलाश में गतिशील दिखते हैं। इस दृष्टि से 'तारसप्तक' की भूमिका में उन्हें 'राहों का अन्वेषी' ठीक ही कहा गया है। यहाँ संकलित सात कवि हैं- गजानन माधव मुक्तिबोध, नेमिचन्द्र जैन, भारतभूषण अग्रवाल, प्रभाकर माचवे, गिरिजाकुमार माधुर, रामविलास शर्मा, 'अज्ञेय'। वैचारिक मतभेद के बावजूद इन कवियों को एक साथ लाने वाला मुख्य तत्व उनका प्रयोग पर आग्रह है। समाज के हित में जैसे क्रांति की सतत प्रक्रिया काम्य है, वैसे ही, रचना के हित में प्रयोग की। 'प्रयोगवाद' नामकरण को अनुपयुक्त मानते हुए 'दूसरा सप्तक' (1951) की भूमिका में अज्ञेय को स्पष्ट करना पड़ा कि "प्रयोग का कोई वाद नहीं है... प्रयोग अपने आप में इष्ट नहीं है, वह साधन है। और दोहरा साधन है। क्योंकि एक तो वह उस सत्य को जानने का साधन है, जिसे कवि प्रेषित करता है, दूसरे वह उस प्रेषण की क्रिया को और उसके साधनों को जानने का भी साधन है। अर्थात् प्रयोग द्वारा कवि अपने सत्य को अधिक अच्छी तरह जान सकता है और अधिक अच्छी तरह अभिव्यक्त कर सकता है।"

'दूसरा सप्तक' का प्रकाशन कब हुआ था?

- (1) 1950
- (2) 1951
- (3) 1952
- (4) 1953

Options :

212807115329. 1
212807115330. 2
212807115331. 3
212807115332. 4

Question Number : 9 Question Id : 21280728834 Question Type : MCQ Option Shuffling : No Is Question Mandatory : No Calculator : None
Response Time : N.A Think Time : N.A Minimum Instruction Time : 0

Correct Marks : 5 Wrong Marks : 1

Question Key Details :

Key	Value
Comprehension	Comp2

निम्नलिखित अनुच्छेद को पढ़कर उससे संबंधित प्रश्न का उत्तर दीजिए -

'तारसप्तक' के प्रकाशन से हिंदी साहित्य में आधुनिक संवेदना का सूत्रपात माना जाता है। आधुनिकता की अवधारणा मूल्यबोधो होने पर भी मूलतः तो कालबोधो है। इतिहास की प्रक्रिया को समझ कर उसकी गति को द्रुततर करने का सजग मानवीय प्रयास यदि आधुनिकता का मुख्य लक्षण है तो साम्यवादी विचारधारा ने इस क्षेत्र में सैद्धांतिक ढंग से पहल की, इसमें संदेह नहीं, यों पश्चिम के देश औद्योगिक क्रांति और तत्संबंधी अन्वेषणों से यह कार्य व्यावहारिक रूप में पहले से करते आ रहे थे। 'तारसप्तक' का आयोजन और संपादन अज्ञेय करते हैं और उसमें सबसे अधिक बलपूर्वक वे कवि शामिल होते हैं, जिन्होंने अपने को साम्यवादी घोषित किया। स्वाधीन पश्चिम और साम्यवादी रूस दोनों की विचार-धाराएँ हिंदी साहित्य के सजग रूप में नियोजित आधुनिक काव्यांदोलन में परस्पर टकराती हैं, जिनके बीच ये सात कवि अपने निजी व्यक्तित्व की तलाश में गतिशील दिखते हैं। इस दृष्टि से 'तारसप्तक' की भूमिका में उन्हें 'राहों का अन्वेषी' ठीक ही कहा गया है। यहाँ संकलित सात कवि हैं- गजानन माधव मुक्तिबोध, नेमिचन्द्र जैन, भारतभूषण अग्रवाल, प्रभाकर माचवे, गिरिजाकुमार माधुर, रामविलास शर्मा, 'अज्ञेय'। वैचारिक मतभेद के बावजूद इन कवियों को एक साथ लाने वाला मुख्य तत्व उनका प्रयोग पर आग्रह है। समाज के हित में जैसे क्रांति की सतत प्रक्रिया काम्य है, वैसे ही, रचना के हित में प्रयोग की। 'प्रयोगवाद' नामकरण को अनुपयुक्त मानते हुए 'दूसरा सप्तक' (1951) की भूमिका में अज्ञेय को स्पष्ट करना पड़ा कि "प्रयोग का कोई वाद नहीं है... प्रयोग अपने आप में इष्ट नहीं है, वह साधन है। और दोहरा साधन है। क्योंकि एक तो वह उस सत्य को जानने का साधन है, जिसे कवि प्रेषित करता है, दूसरे वह उस प्रेषण की क्रिया को और उसके साधनों को जानने का भी साधन है। अर्थात् प्रयोग द्वारा कवि अपने सत्य को अधिक अच्छी तरह जान सकता है और अधिक अच्छी तरह अभिव्यक्त कर सकता है।"

'तारसप्तक' कितने कवियों का संकलन है?

- (1) 5
- (2) 6
- (3) 7
- (4) 8

Options :

212807115333. 1
212807115334. 2
212807115335. 3
212807115336. 4

Question Number : 10 Question Id : 21280728835 Question Type : MCQ Option Shuffling : No Is Question Mandatory : No Calculator : None
Response Time : N.A Think Time : N.A Minimum Instruction Time : 0

Correct Marks : 5 Wrong Marks : 1

Question Key Details :

Key	Value
Comprehension	Comp2

निम्नलिखित अनुच्छेद को पढ़कर उससे संबंधित प्रश्न का उत्तर दीजिए -

'तारसप्तक' के प्रकाशन से हिंदी साहित्य में आधुनिक संवेदना का सूत्रपात माना जाता है। आधुनिकता की अवधारणा मूल्यबोधी होने पर भी मूलतः तो कालबोधी है। इतिहास की प्रक्रिया को समझ कर उसकी गति को द्रुततर करने का सजग मानवीय प्रयास यदि आधुनिकता का मुख्य लक्षण है तो साम्यवादी विचारधारा ने इस क्षेत्र में सैद्धांतिक ढंग से पहल की, इसमें संदेह नहीं, यों पश्चिम के देश औद्योगिक क्रांति और तत्संबंधी अन्वेषणों से यह कार्य व्यावहारिक रूप में पहले से करते आ रहे थे। 'तारसप्तक' का आयोजन और संपादन अज्ञेय करते हैं और उसमें सबसे अधिक बलपूर्वक वे कवि शामिल होते हैं, जिन्होंने अपने को साम्यवादी घोषित किया। स्वाधीन पश्चिम और साम्यवादी रूस दोनों की विचार-धाराएँ हिंदी साहित्य के सजग रूप में नियोजित आधुनिक काव्यांदोलन में परस्पर टकराती हैं, जिनके बीच ये सात कवि अपने निजी व्यक्तित्व की तलाश में गतिशील दिखते हैं। इस दृष्टि से 'तारसप्तक' की भूमिका में उन्हें 'राहों का अन्वेषी' ठीक ही कहा गया है। यहाँ संकलित सात कवि हैं- गजानन माधव मुक्तिबोध, नेमिचन्द्र जैन, भारतभूषण अग्रवाल, प्रभाकर माचवे, गिरिजाकुमार माधुर, रामविलास शर्मा, 'अज्ञेय'। वैचारिक मतभेद के बावजूद इन कवियों को एक साथ लाने वाला मुख्य तत्व उनका प्रयोग पर आग्रह है। समाज के हित में जैसे क्रांति की सतत प्रक्रिया काम्य है, वैसे ही, रचना के हित में प्रयोग की। 'प्रयोगवाद' नामकरण को अनुपयुक्त मानते हुए 'दूसरा सप्तक' (1951) की भूमिका में अज्ञेय को स्पष्ट करना पड़ा कि "प्रयोग का कोई बाद नहीं है... प्रयोग अपने आप में इष्ट नहीं है, वह साधन है। और दोहरा साधन है। क्योंकि एक तो वह उस सत्य को जानने का साधन है, जिसे कवि प्रेषित करता है, दूसरे वह उस प्रेषण की क्रिया को और उसके साधनों को जानने का भी साधन है। अर्थात् प्रयोग द्वारा कवि अपने सत्य को अधिक अच्छी तरह जान सकता है और अधिक अच्छी तरह अभिव्यक्त कर सकता है।"

निम्नलिखित में कौन कवि पहले 'तारसप्तक' में शामिल नहीं है?

- (1) भारतभूषण अग्रवाल
- (2) प्रभाकर माचवे
- (3) रामविलास शर्मा
- (4) केदारनाथ अग्रवाल

Options :

212807115337. 1
212807115338. 2
212807115339. 3
212807115340. 4

Sub-Section Number :	3
Sub-Section Id :	2128072080
Question Shuffling Allowed :	No
Is Section Default? :	null

Question Number : 11 Question Id : 21280728836 Question Type : MCQ Option Shuffling : No Is Question Mandatory : No Calculator : None
Response Time : N.A Think Time : N.A Minimum Instruction Time : 0

Correct Marks : 5 Wrong Marks : 1

Question Key Details :

Key	Value
Comprehension	Comp3

निम्नलिखित गद्यांश को ध्यानपूर्वक पढ़कर पूछे गए प्रश्न का सही विकल्प का चयन कीजिए।

श्रद्धा एक सामाजिक भाव है, इससे अपनी श्रद्धा के बदले में हम श्रद्धेय से अपने लिए कोई बात नहीं चाहते। श्रद्धा धारण करते हुए हम अपने को उस समाज में समझाते हैं जिसके किसी अंश पर-चाहे हम व्यक्ति रूप में उनके अंतर्गत न भी हों-जान-बूझकर उसने कोई शुभ प्रभाव डाला। श्रद्धा स्वयं ऐसे कर्मों के प्रतिकार में होती है जिसका शुभ प्रभाव अकेले हम पर नहीं बल्कि सारे मनुष्य समाज पर पड़ सकता है। श्रद्धा एक ऐसी आनंदपूर्ण कृतज्ञता है जिसे हम केवल समाज के प्रतिनिधिरूप में प्रकट करते हैं। सदाचार पर श्रद्धा और अत्याचार पर क्रोध या घृणा प्रकट करने के लिए समाज ने प्रत्येक व्यक्ति को प्रतिनिधित्व प्रदान कर रखा है। यह काम उसने इतना भारी समझा है कि उसका भार सारे मनुष्यों को बाँट दिया है, दो-चार माननीय लोगों के ही सिर पर नहीं छोड़ रखा है। जिस समाज में सदाचार श्रद्धा और अत्याचार पर क्रोध प्रकट करने के लिए जितने ही अधिक लोग तत्पर पाये जायेंगे उतना ही वह समाज जाग्रत समझा जायेगा। श्रद्धा की सामाजिक विशेषता एक इसी बात से समझ लीजिए कि जिस पर हम श्रद्धा रखते हैं उस पर चाहते हैं कि और लोग भी श्रद्धा रखें - जिस पर हमारा प्रेम होता है उससे और दस-पाँच आदमी प्रेम रखें - इसकी हमें परवा क्या, इच्छा ही नहीं होती; क्योंकि हम प्रिय पर लोभवश एक प्रकार का अनन्य अधिकार या इजारा चाहते हैं। श्रद्धालु अपने भाव में संसार को भी सम्मिलित करना चाहता है, पर प्रेमी नहीं।

श्रद्धा और प्रेम में क्या अंतर है?

- (1) श्रद्धा सामाजिक है और प्रेम व्यक्तिगत है।
- (2) श्रद्धा के मूल में व्यक्तिगत कारण होते हैं।
- (3) प्रेम में दुनियादारी का भाव होता है।
- (4) प्रेम और श्रद्धा का एक ही धरातल होता है।

Options :

212807115341. 1
212807115342. 2
212807115343. 3
212807115344. 4

Question Number : 12 Question Id : 21280728837 Question Type : MCQ Option Shuffling : No Is Question Mandatory : No Calculator : None
Response Time : N.A Think Time : N.A Minimum Instruction Time : 0

Correct Marks : 5 Wrong Marks : 1

Question Key Details :

Key	Value
Comprehension	Comp3

निम्नलिखित गद्यांश को ध्यानपूर्वक पढ़कर पूछे गए प्रश्न का सही विकल्प का चयन कीजिए।

श्रद्धा एक सामाजिक भाव है, इससे अपनी श्रद्धा के बदले में हम श्रद्धेय से अपने लिए कोई बात नहीं चाहते। श्रद्धा धारण करते हुए हम अपने को उस समाज में समझाते हैं जिसके किसी अंश पर-चाहे हम व्यक्ति रूप में उनके अंतर्गत न भी हों-जान-बूझकर उसने कोई शुभ प्रभाव डाला। श्रद्धा स्वयं ऐसे कर्मों के प्रतिकार में होती है जिसका शुभ प्रभाव अकेले हम पर नहीं बल्कि सारे मनुष्य समाज पर पड़ सकता है। श्रद्धा एक ऐसी आनंदपूर्ण कृतज्ञता है जिसे हम केवल समाज के प्रतिनिधिरूप में प्रकट करते हैं। सदाचार पर श्रद्धा और अत्याचार पर क्रोध या घृणा प्रकट करने के लिए समाज ने प्रत्येक व्यक्ति को प्रतिनिधित्व प्रदान कर रखा है। यह काम उसने इतना भारी समझा है कि उसका भार सारे मनुष्यों को बाँट दिया है, दो-चार माननीय लोगों के ही सिर पर नहीं छोड़ रखा है। जिस समाज में सदाचार श्रद्धा और अत्याचार पर क्रोध प्रकट करने के लिए जितने ही अधिक लोग तत्पर पाये जायेंगे उतना ही वह समाज जाग्रत समझा जायेगा। श्रद्धा की सामाजिक विशेषता एक इसी बात से समझ लीजिए कि जिस पर हम श्रद्धा रखते हैं उस पर चाहते हैं कि और लोग भी श्रद्धा रखें - जिस पर हमारा प्रेम होता है उससे और दस-पाँच आदमी प्रेम रखें - इसकी हमें परवा क्या, इच्छा ही नहीं होती; क्योंकि हम प्रिय पर लोभवश एक प्रकार का अनन्य अधिकार या इजारा चाहते हैं। श्रद्धालु अपने भाव में संसार को भी सम्मिलित करना चाहता है, पर प्रेमी नहीं।

श्रद्धा एक आनंदपूर्ण कृतज्ञता है क्योंकि -

- (1) इससे हमारा स्वार्थ सिद्ध होता है।
- (2) इससे श्रद्धेय की भलाई होती है।
- (3) हम व्यक्तिगत रूप से श्रद्धा प्रकट करते हैं।
- (4) हम समाज के प्रतिनिधि के रूप में इसे प्रकट करते हैं।

Options :

212807115345. 1
212807115346. 2
212807115347. 3
212807115348. 4

Question Number : 13 Question Id : 21280728838 Question Type : MCQ Option Shuffling : No Is Question Mandatory : No Calculator : None Response Time : N.A Think Time : N.A Minimum Instruction Time : 0

Correct Marks : 5 Wrong Marks : 1

Question Key Details :

Key	Value
Comprehension	Comp3

निम्नलिखित गद्यांश को ध्यानपूर्वक पढ़कर पूछे गए प्रश्न का सही विकल्प का चयन कीजिए।

श्रद्धा एक सामाजिक भाव है, इससे अपनी श्रद्धा के बदले में हम श्रद्धेय से अपने लिए कोई बात नहीं चाहते। श्रद्धा धारण करते हुए हम अपने को उस समाज में समझाते हैं जिसके किसी अंश पर-चाहे हम व्यक्ति रूप में उनके अंतर्गत न भी हों-जान-बूझकर उसने कोई शुभ प्रभाव डाला। श्रद्धा स्वयं ऐसे कर्मों के प्रतिकार में होती है जिसका शुभ प्रभाव अकेले हम पर नहीं बल्कि सारे मनुष्य समाज पर पड़ सकता है। श्रद्धा एक ऐसी आनंदपूर्ण कृतज्ञता है जिसे हम केवल समाज के प्रतिनिधिरूप में प्रकट करते हैं। सदाचार पर श्रद्धा और अत्याचार पर क्रोध या घृणा प्रकट करने के लिए समाज ने प्रत्येक व्यक्ति को प्रतिनिधित्व प्रदान कर रखा है। यह काम उसने इतना भारी समझा है कि उसका भार सारे मनुष्यों को बाँट दिया है, दो-चार माननीय लोगों के ही सिर पर नहीं छोड़ रखा है। जिस समाज में सदाचार श्रद्धा और अत्याचार पर क्रोध प्रकट करने के लिए जितने ही अधिक लोग तत्पर पाये जायेंगे उतना ही वह समाज जाग्रत समझा जायेगा। श्रद्धा की सामाजिक विशेषता एक इसी बात से समझ लीजिए कि जिस पर हम श्रद्धा रखते हैं उस पर चाहते हैं कि और लोग भी श्रद्धा रखें - जिस पर हमारा प्रेम होता है उससे और दस-पाँच आदमी प्रेम रखें - इसकी हमें परवा क्या, इच्छा ही नहीं होती; क्योंकि हम प्रिय पर लोभवश एक प्रकार का अनन्य अधिकार या इजारा चाहते हैं। श्रद्धालु अपने भाव में संसार को भी सम्मिलित करना चाहता है, पर प्रेमी नहीं।

जाग्रत समाज का क्या लक्षण है?

- (1) केवल सदाचार पर श्रद्धा करना।
- (2) केवल अत्याचार पर श्रद्धा करना।
- (3) सदाचार और अत्याचार पर चुप रहना।
- (4) सदाचार पर श्रद्धा और अत्याचार पर क्रोध करना।

Options :

212807115349. 1
212807115350. 2
212807115351. 3
212807115352. 4

Question Number : 14 Question Id : 21280728839 Question Type : MCQ Option Shuffling : No Is Question Mandatory : No Calculator : None
Response Time : N.A Think Time : N.A Minimum Instruction Time : 0

Correct Marks : 5 Wrong Marks : 1

Question Key Details :

Key	Value
Comprehension	Comp3

निम्नलिखित गद्यांश को ध्यानपूर्वक पढ़कर पूछे गए प्रश्न का सही विकल्प का चयन कीजिए।

श्रद्धा एक सामाजिक भाव है, इससे अपनी श्रद्धा के बदले में हम श्रद्धेय से अपने लिए कोई बात नहीं चाहते। श्रद्धा धारण करते हुए हम अपने को उस समाज में समझाते हैं जिसके किसी अंश पर-चाहे हम व्यक्ति रूप में उनके अंतर्गत न भी हों-जान-बूझकर उसने कोई शुभ प्रभाव डाला। श्रद्धा स्वयं ऐसे कर्मों के प्रतिकार में होती है जिसका शुभ प्रभाव अकेले हम पर नहीं बल्कि सारे मनुष्य समाज पर पड़ सकता है। श्रद्धा एक ऐसी आनंदपूर्ण कृतज्ञता है जिसे हम केवल समाज के प्रतिनिधिरूप में प्रकट करते हैं। सदाचार पर श्रद्धा और अत्याचार पर क्रोध या घृणा प्रकट करने के लिए समाज ने प्रत्येक व्यक्ति को प्रतिनिधित्व प्रदान कर रखा है। यह काम उसने इतना भारी समझा है कि उसका भार सारे मनुष्यों को बाँट दिया है, दो-चार माननीय लोगों के ही सिर पर नहीं छोड़ रखा है। जिस समाज में सदाचार श्रद्धा और अत्याचार पर क्रोध प्रकट करने के लिए जितने ही अधिक लोग तत्पर पाये जायेंगे उतना ही वह समाज जाग्रत समझा जायेगा। श्रद्धा की सामाजिक विशेषता एक इसी बात से समझ लीजिए कि जिस पर हम श्रद्धा रखते हैं उस पर चाहते हैं कि और लोग भी श्रद्धा रखें - जिस पर हमारा प्रेम होता है उससे और दस-पाँच आदमी प्रेम रखें - इसकी हमें परवा क्या, इच्छा ही नहीं होती; क्योंकि हम प्रिय पर लोभवश एक प्रकार का अनन्य अधिकार या इजारा चाहते हैं। श्रद्धालु अपने भाव में संसार को भी सम्मिलित करना चाहता है, पर प्रेमी नहीं।

श्रद्धालु अपने भाव में किसे सम्मिलित करना चाहते हैं ?

- (1) व्यक्ति को
- (2) संसार को
- (3) आत्मा को
- (4) निजी प्रेम-भाव को

Options :

212807115353. 1
212807115354. 2
212807115355. 3
212807115356. 4

Question Number : 15 Question Id : 21280728840 Question Type : MCQ Option Shuffling : No Is Question Mandatory : No Calculator : None
Response Time : N.A Think Time : N.A Minimum Instruction Time : 0

Correct Marks : 5 Wrong Marks : 1

Question Key Details :

Key	Value
Comprehension	Comp3

निम्नलिखित गद्यांश को ध्यानपूर्वक पढ़कर पूछे गए प्रश्न का सही विकल्प का चयन कीजिए।

श्रद्धा एक सामाजिक भाव है, इससे अपनी श्रद्धा के बदले में हम श्रद्धेय से अपने लिए कोई बात नहीं चाहते। श्रद्धा धारण करते हुए हम अपने को उस समाज में समझाते हैं जिसके किसी अंश पर-चाहे हम व्यक्ति रूप में उनके अंतर्गत न भी हों-जान-बूझकर उसने कोई शुभ प्रभाव डाला। श्रद्धा स्वयं ऐसे कर्मों के प्रतिकार में होती है जिसका शुभ प्रभाव अकेले हम पर नहीं बल्कि सारे मनुष्य समाज पर पड़ सकता है। श्रद्धा एक ऐसी आनंदपूर्ण कृतज्ञता है जिसे हम केवल समाज के प्रतिनिधिरूप में प्रकट करते हैं। सदाचार पर श्रद्धा और अत्याचार पर क्रोध या घृणा प्रकट करने के लिए समाज ने प्रत्येक व्यक्ति को प्रतिनिधित्व प्रदान कर रखा है। यह काम उसने इतना भारी समझा है कि उसका भार सारे मनुष्यों को बाँट दिया है, दो-चार माननीय लोगों के ही सिर पर नहीं छोड़ रखा है। जिस समाज में सदाचार श्रद्धा और अत्याचार पर क्रोध प्रकट करने के लिए जितने ही अधिक लोग तत्पर पाये जायेंगे उतना ही वह समाज जाग्रत समझा जायेगा। श्रद्धा की सामाजिक विशेषता एक इसी बात से समझ लीजिए कि जिस पर हम श्रद्धा रखते हैं उस पर चाहते हैं कि और लोग भी श्रद्धा रखें - जिस पर हमारा प्रेम होता है उससे और दस-पाँच आदमी प्रेम रखें - इसकी हमें परवा क्या, इच्छा ही नहीं होती; क्योंकि हम प्रिय पर लोभवश एक प्रकार का अनन्य अधिकार या इजारा चाहते हैं। श्रद्धालु अपने भाव में संसार को भी सम्मिलित करना चाहता है, पर प्रेमी नहीं।

उपर्युक्त गद्यांश का निष्कर्ष है:

- (1) श्रद्धा एक वैयक्तिक भाव है।
- (2) श्रद्धा एक सामाजिक भाव है।
- (3) श्रद्धा से श्रद्धेय का महत्त्व घटता है।
- (4) श्रद्धा भाव केवल श्रद्धालु तक सीमित है।

Options :

212807115357. 1
212807115358. 2
212807115359. 3
212807115360. 4

Sub-Section Number : 4
Sub-Section Id : 2128072081
Question Shuffling Allowed : Yes
Is Section Default? : null

Question Number : 16 Question Id : 21280728791 Question Type : MCQ Option Shuffling : No Is Question Mandatory : No Calculator : None
Response Time : N.A Think Time : N.A Minimum Instruction Time : 0

Correct Marks : 5 Wrong Marks : 1

Question Key Details :

Key	Value
Comprehension	MCQ

सूची-I से सूची-II का मिलान कीजिए:

सूची-I	सूची-II
मुहावरे	अर्थ
(A) गाल फुलाना	(I) डोंग मारना
(B) गाल बजाना	(II) अधिक डर जाना
(C) खून सूखना	(III) रूठना
(D) उड़ती खबर	(IV) बेसिर पैर की बात

नीचे दिए गए विकल्पों में से सही उत्तर का चयन कीजिए :

- (1) (A)-(I), (B)-(III), (C)-(IV), (D)-(II)
- (2) (A)-(I), (B)-(II), (C)-(III), (D)-(IV)
- (3) (A)-(IV), (B)-(III), (C)-(II), (D)-(I)
- (4) (A)-(III), (B)-(I), (C)-(II), (D)-(IV)

Options :

212807115161. 1
212807115162. 2
212807115163. 3
212807115164. 4

Question Number : 17 Question Id : 21280728792 Question Type : MCQ Option Shuffling : No Is Question Mandatory : No Calculator : None
Response Time : N.A Think Time : N.A Minimum Instruction Time : 0

Correct Marks : 5 Wrong Marks : 1

Question Key Details :

Key	Value
Comprehension	MCQ

रेखांकित अंश के लिए कौन-सी लोकोक्ति सर्वाधिक उपयुक्त है?

उसे बहुत बड़ा जादूगर माना जाता है किंतु उसकी जादूगरी के खेल में आकर्षण बिल्कुल नहीं है। मैं समझ गई यह ऊपरी दिखावा है वास्तविकता कम है।

- (1) अधजल गगरी छलकत जाए
- (2) ऊँची दुकान फीका पकवान
- (3) अंधे के हाथ बटेर लगना
- (4) दूर के ढोल सुहावने होते हैं

Options :

212807115165. 1
212807115166. 2
212807115167. 3
212807115168. 4

Question Number : 18 Question Id : 21280728793 Question Type : MCQ Option Shuffling : No Is Question Mandatory : No Calculator : None
Response Time : N.A Think Time : N.A Minimum Instruction Time : 0

Correct Marks : 5 Wrong Marks : 1

Question Key Details :

Key	Value
Comprehension	MCQ

'स्पृश्य' शब्द का विलोम बनाने के लिए किस उपसर्ग का प्रयोग करते हैं?

- (1) नि
- (2) अनु
- (3) अ
- (4) कु

Options :

212807115169. 1
212807115170. 2
212807115171. 3
212807115172. 4

Question Number : 19 Question Id : 21280728794 Question Type : MCQ Option Shuffling : No Is Question Mandatory : No Calculator : None Response Time : N.A Think Time : N.A Minimum Instruction Time : 0

Correct Marks : 5 Wrong Marks : 1

Question Key Details :

Key	Value
Comprehension	MCQ

'अँगूठी' शब्द में कौन-सा प्रत्यय है ?

- (1) ई
- (2) अँ
- (3) गू
- (4) अँग

Options :

212807115173. 1
212807115174. 2
212807115175. 3
212807115176. 4

Question Number : 20 Question Id : 21280728795 Question Type : MCQ Option Shuffling : No Is Question Mandatory : No Calculator : None Response Time : N.A Think Time : N.A Minimum Instruction Time : 0

Correct Marks : 5 Wrong Marks : 1

Question Key Details :

Key	Value
Comprehension	MCQ

'मुझे कोई भी पुस्तक दे दो।' वाक्य में विशेषण का कौन-सा भेद है ?

- (1) गुणवाचक विशेषण
- (2) निश्चित संख्यावाचक
- (3) सार्वनामिक विशेषण
- (4) परिमाण वाचक विशेषण

Options :

212807115177. 1
212807115178. 2
212807115179. 3
212807115180. 4

Question Number : 21 Question Id : 21280728796 Question Type : MCQ Option Shuffling : No Is Question Mandatory : No Calculator : None Response Time : N.A Think Time : N.A Minimum Instruction Time : 0

Correct Marks : 5 Wrong Marks : 1

Question Key Details :

Key	Value
Comprehension	MCQ

'वह श्रेष्ठ उपासक है' में विशेष्य है -

- (1) है
- (2) श्रेष्ठ
- (3) वह
- (4) उपासक

Options :

212807115181. 1
212807115182. 2
212807115183. 3
212807115184. 4

Question Number : 22 Question Id : 21280728797 Question Type : MCQ Option Shuffling : No Is Question Mandatory : No Calculator : None Response Time : N.A Think Time : N.A Minimum Instruction Time : 0

Correct Marks : 5 Wrong Marks : 1

Question Key Details :

Key	Value
Comprehension	MCQ

संबंध बताने का काम कौन करता है ?

- (1) संज्ञा
- (2) सर्वनाम
- (3) कारक
- (4) समुच्चय

Options :

212807115185. 1
212807115186. 2
212807115187. 3
212807115188. 4

Question Number : 23 Question Id : 21280728798 Question Type : MCQ Option Shuffling : No Is Question Mandatory : No Calculator : None Response Time : N.A Think Time : N.A Minimum Instruction Time : 0

Correct Marks : 5 Wrong Marks : 1

Question Key Details :

Key	Value
Comprehension	MCQ

'बह पढ़ने के लिए विद्यालय जाता है' वाक्य में कौन-सा कारक है ?

- (A) कर्म
- (B) करण
- (C) सम्प्रदान
- (D) अपादान
- (E) अधिकरण

नीचे दिए गए विकल्पों में से सही उत्तर का चयन कीजिए:

- (1) केवल (A), (B) और (C)
- (2) केवल (A) और (C)
- (3) केवल (B) और (D)
- (4) केवल (E)

Options :

- 212807115189. 1
- 212807115190. 2
- 212807115191. 3
- 212807115192. 4

Question Number : 24 Question Id : 21280728799 Question Type : MCQ Option Shuffling : No Is Question Mandatory : No Calculator : None Response Time : N.A Think Time : N.A Minimum Instruction Time : 0

Correct Marks : 5 Wrong Marks : 1

Question Key Details :

Key	Value
Comprehension	MCQ

क्रिया के कितने मूल भेद होते हैं ?

- (1) दो
- (2) तीन
- (3) चार
- (4) पाँच

Options :

- 212807115193. 1
- 212807115194. 2
- 212807115195. 3
- 212807115196. 4

Question Number : 25 Question Id : 21280728800 Question Type : MCQ Option Shuffling : No Is Question Mandatory : No Calculator : None Response Time : N.A Think Time : N.A Minimum Instruction Time : 0

Correct Marks : 5 Wrong Marks : 1

Question Key Details :

Key	Value
Comprehension	MCQ

'नर्स रोहन को दवा पिलाती है।' इस वाक्य में से कौन-सी क्रिया है ?

- (1) सकर्मक क्रिया
- (2) अकर्मक क्रिया
- (3) सहायक क्रिया
- (4) संयुक्त क्रिया

Options :

212807115197. 1
212807115198. 2
212807115199. 3
212807115200. 4

Question Number : 26 Question Id : 21280728801 Question Type : MCQ Option Shuffling : No Is Question Mandatory : No Calculator : None
Response Time : N.A Think Time : N.A Minimum Instruction Time : 0

Correct Marks : 5 Wrong Marks : 1

Question Key Details :

Key	Value
Comprehension	MCQ

‘पंखा धीरे-धीरे चलता है।’ इस वाक्य में कौन-सा शब्द अव्यय है ?

- (1) पंखा
(2) धीरे-धीरे
(3) चलता
(4) चलता है

Options :

212807115201. 1
212807115202. 2
212807115203. 3
212807115204. 4

Question Number : 27 Question Id : 21280728802 Question Type : MCQ Option Shuffling : No Is Question Mandatory : No Calculator : None
Response Time : N.A Think Time : N.A Minimum Instruction Time : 0

Correct Marks : 5 Wrong Marks : 1

Question Key Details :

Key	Value
Comprehension	MCQ

सूची-I से सूची-II का मिलान कीजिए:

- | सूची-I | सूची-II |
|-----------------|------------------|
| (A) विसर्ग संधि | (I) सुरेश |
| (B) गुण संधि | (II) यद्यपि |
| (C) यण संधि | (III) निः + सदेह |
| (D) दीर्घ संधि | (IV) वेदांत |

नीचे दिए गए विकल्पों में से सही उत्तर का चयन कीजिए:

- (1) (A)-(III), (B)-(I), (C)-(II), (D)-(IV)
(2) (A)-(II), (B)-(I), (C)-(III), (D)-(IV)
(3) (A)-(IV), (B)-(I), (C)-(II), (D)-(III)
(4) (A)-(III), (B)-(IV), (C)-(I), (D)-(III)

Options :

212807115205. 1
212807115206. 2
212807115207. 3
212807115208. 4

Question Number : 28 Question Id : 21280728803 Question Type : MCQ Option Shuffling : No Is Question Mandatory : No Calculator : None
Response Time : N.A Think Time : N.A Minimum Instruction Time : 0

Correct Marks : 5 Wrong Marks : 1

Question Key Details :

Key	Value
Comprehension	MCQ

दो स्वरों के पास आने से जो संधि होती है वह कहलाती है -

- (1) व्यंजन संधि
- (2) स्वर संधि
- (3) विसर्ग संधि
- (4) शब्द संधि

Options :

212807115209. 1
212807115210. 2
212807115211. 3
212807115212. 4

Question Number : 29 Question Id : 21280728804 Question Type : MCQ Option Shuffling : No Is Question Mandatory : No Calculator : None Response Time : N.A Think Time : N.A Minimum Instruction Time : 0

Correct Marks : 5 Wrong Marks : 1

Question Key Details :

Key	Value
Comprehension	MCQ

छन्द को पढ़ते समय प्रत्येक चरण के मध्य या अन्त में ठहरने को क्या कहते हैं ?

- (1) गति
- (2) तुक
- (3) गण
- (4) यति

Options :

212807115213. 1
212807115214. 2
212807115215. 3
212807115216. 4

Question Number : 30 Question Id : 21280728805 Question Type : MCQ Option Shuffling : No Is Question Mandatory : No Calculator : None Response Time : N.A Think Time : N.A Minimum Instruction Time : 0

Correct Marks : 5 Wrong Marks : 1

Question Key Details :

Key	Value
Comprehension	MCQ

'यथासंभव' में कौन-सा समास है।

- (1) तत्पुरुष समास
- (2) द्विगु समास
- (3) अव्ययीभाव समास
- (4) द्वन्द्व समास

Options :

212807115217. 1
212807115218. 2
212807115219. 3
212807115220. 4

Question Number : 31 Question Id : 21280728806 Question Type : MCQ Option Shuffling : No Is Question Mandatory : No Calculator : None Response Time : N.A Think Time : N.A Minimum Instruction Time : 0

Correct Marks : 5 Wrong Marks : 1

Question Key Details :

Key	Value
Comprehension	MCQ

सूची-I से सूची-II का मिलान कीजिए:

सूची-I	सूची-II
शब्द	समास
(A) चौंरहा	(I) द्वन्द्व समास
(B) माता-पिता	(II) बहुव्रीहि समास
(C) पंचानन	(III) द्विगु समास
(D) परोक्ष	(IV) अव्ययीभाव

नीचे दिए गए विकल्पों में से सही उत्तर का चयन कीजिए:

- (1) (A)-(II), (B)-(I), (C)-(III), (D)-(IV)
- (2) (A)-(III), (B)-(I), (C)-(II), (D)-(IV)
- (3) (A)-(I), (B)-(II), (C)-(III), (D)-(IV)
- (4) (A)-(III), (B)-(II), (C)-(I), (D)-(IV)

Options :

212807115221. 1
212807115222. 2
212807115223. 3
212807115224. 4

Question Number : 32 Question Id : 21280728807 Question Type : MCQ Option Shuffling : No Is Question Mandatory : No Calculator : None
Response Time : N.A Think Time : N.A Minimum Instruction Time : 0

Correct Marks : 5 Wrong Marks : 1

Question Key Details :

Key	Value
Comprehension	MCQ

'सठ सुधरहिं सत संगति पाई।

पारस परस कुधात सुहाई।।'

इस चौपाई में कौन-सा अलंकार है ?

- (1) निदर्शना
- (2) विभावना
- (3) दृष्टांत
- (4) उत्प्रेक्षा

Options :

212807115225. 1
212807115226. 2
212807115227. 3
212807115228. 4

Question Number : 33 Question Id : 21280728808 Question Type : MCQ Option Shuffling : No Is Question Mandatory : No Calculator : None
Response Time : N.A Think Time : N.A Minimum Instruction Time : 0

Correct Marks : 5 Wrong Marks : 1

Question Key Details :

Key	Value
Comprehension	MCQ

'काली घटा का घमंड घटा' में कौन-सा अलंकार है ?

- (1) श्लेष अलंकार
- (2) अनुप्रास अलंकार
- (3) यमक अलंकार
- (4) रूपक अलंकार

Options :

212807115229. 1
212807115230. 2
212807115231. 3
212807115232. 4

Question Number : 34 Question Id : 21280728809 Question Type : MCQ Option Shuffling : No Is Question Mandatory : No Calculator : None
Response Time : N.A Think Time : N.A Minimum Instruction Time : 0

Correct Marks : 5 Wrong Marks : 1

Question Key Details :

Key	Value
Comprehension	MCQ

सूची-I से सूची-II का मिलान कीजिए:

सूची-I	सूची-II
स्थायी भाव	रस
(A) जुगुप्सा	(I) शृंगार
(B) निर्वेद	(II) रौद्र
(C) क्रोध	(III) शांत
(D) रति	(IV) वीभत्स

नीचे दिए गए विकल्पों में से सही उत्तर का चयन कीजिए :

- (1) (A)-(I), (B)-(II), (C)-(III), (D)-(IV)
- (2) (A)-(II), (B)-(III), (C)-(IV), (D)-(I)
- (3) (A)-(I), (B)-(IV), (C)-(III), (D)-(II)
- (4) (A)-(IV), (B)-(III), (C)-(II), (D)-(I)

Options :

212807115233. 1
212807115234. 2
212807115235. 3
212807115236. 4

Question Number : 35 Question Id : 21280728810 Question Type : MCQ Option Shuffling : No Is Question Mandatory : No Calculator : None
Response Time : N.A Think Time : N.A Minimum Instruction Time : 0

Correct Marks : 5 Wrong Marks : 1

Question Key Details :

Key	Value
Comprehension	MCQ

सूची-I से सूची-II का मिलान कीजिए:

सूची-I	सूची-II
शब्द	विलोम
(A) चल	(I) अचल
(B) निराशा	(II) विराग
(C) अनुराग	(III) आगत
(D) विगत	(IV) आशा

नीचे दिए गए विकल्पों में से सही उत्तर का चयन कीजिए :

- (1) (A)-(I), (B)-(IV), (C)-(II), (D)-(III)
- (2) (A)-(I), (B)-(II), (C)-(III), (D)-(IV)
- (3) (A)-(IV), (B)-(III), (C)-(II), (D)-(I)
- (4) (A)-(I), (B)-(III), (C)-(II), (D)-(IV)

Options :

212807115237. 1
212807115238. 2
212807115239. 3
212807115240. 4

Question Number : 36 Question Id : 21280728811 Question Type : MCQ Option Shuffling : No Is Question Mandatory : No Calculator : None
Response Time : N.A Think Time : N.A Minimum Instruction Time : 0

Correct Marks : 5 Wrong Marks : 1

Question Key Details :

Key	Value
Comprehension	MCQ

'आस्तिक' का विलोम शब्द है -

- (1) आस्ति
- (2) अचानक
- (3) नास्तिक
- (4) आसि

Options :

212807115241. 1
212807115242. 2
212807115243. 3
212807115244. 4

Question Number : 37 Question Id : 21280728812 Question Type : MCQ Option Shuffling : No Is Question Mandatory : No Calculator : None
Response Time : N.A Think Time : N.A Minimum Instruction Time : 0

Correct Marks : 5 Wrong Marks : 1

Question Key Details :

Key	Value
Comprehension	MCQ

'नर' शब्द का स्त्रीलिंग शब्द है -

- (1) कम
- (2) याचना
- (3) मादा
- (4) रचना

Options :

212807115245. 1
212807115246. 2
212807115247. 3
212807115248. 4

Question Number : 38 Question Id : 21280728813 Question Type : MCQ Option Shuffling : No Is Question Mandatory : No Calculator : None
Response Time : N.A Think Time : N.A Minimum Instruction Time : 0

Correct Marks : 5 Wrong Marks : 1

Question Key Details :

Key	Value
Comprehension	MCQ

'निधि' शब्द का बहुवचन है -

- (1) सम्पत्ति
- (2) धन
- (3) ऐश्वर्य
- (4) निधियाँ

Options :

212807115249. 1
212807115250. 2
212807115251. 3
212807115252. 4

Question Number : 39 Question Id : 21280728814 Question Type : MCQ Option Shuffling : No Is Question Mandatory : No Calculator : None
Response Time : N.A Think Time : N.A Minimum Instruction Time : 0

Correct Marks : 5 Wrong Marks : 1

Question Key Details :

Key	Value
Comprehension	MCQ

'कपड़ा' शब्द के पर्यायवाची शब्द हैं -

- (A) दुकूल
- (B) शिवासुत
- (C) वस्त्र
- (D) चौर
- (E) अतनु

नीचे दिए गए विकल्पों में से सही उत्तर का चयन कीजिए:

- (1) केवल (B), (C) और (A)
- (2) केवल (D), (A) और (E)
- (3) केवल (A), (C) और (D)
- (4) केवल (E), (A) और (D)

Options :

212807115253. 1
212807115254. 2
212807115255. 3
212807115256. 4

Question Number : 40 Question Id : 21280728815 Question Type : MCQ Option Shuffling : No Is Question Mandatory : No Calculator : None
Response Time : N.A Think Time : N.A Minimum Instruction Time : 0

Correct Marks : 5 Wrong Marks : 1

Question Key Details :

Key	Value
Comprehension	MCQ

'घोड़ा' शब्द का पर्यायवाची नहीं है -

- (A) अश्व
(B) सोम
(C) तुरंग
(D) अम्ब
(E) मदन

नीचे दिए गए विकल्पों में से सही उत्तर का चयन कीजिए:

- (1) केवल (A), (B) और (C)
(2) केवल (B), (C) और (D)
(3) केवल (B), (D) और (E)
(4) केवल (D), (E) और (A)

Options :

212807115257. 1
212807115258. 2
212807115259. 3
212807115260. 4

Question Number : 41 Question Id : 21280728816 Question Type : MCQ Option Shuffling : No Is Question Mandatory : No Calculator : None
Response Time : N.A Think Time : N.A Minimum Instruction Time : 0

Correct Marks : 5 Wrong Marks : 1

Question Key Details :

Key	Value
Comprehension	MCQ

'जो जानने योग्य हो' समान अर्थ की दृष्टि से इस वाक्यांश के स्थान पर निम्नलिखित में से कौन-सा शब्द प्रयुक्त होगा-

- (1) विज्ञ
(2) ज्ञेय
(3) ज्ञानपिपासु
(4) अज्ञेय

Options :

212807115261. 1
212807115262. 2
212807115263. 3
212807115264. 4

Question Number : 42 Question Id : 21280728817 Question Type : MCQ Option Shuffling : No Is Question Mandatory : No Calculator : None
Response Time : N.A Think Time : N.A Minimum Instruction Time : 0

Correct Marks : 5 Wrong Marks : 1

Question Key Details :

Key	Value
Comprehension	MCQ

संध्या और रात्रि के बीच के समय को कहते हैं -

- (1) रात
- (2) दोपहर
- (3) गोधूलि
- (4) निशीथ

Options :

212807115265. 1
212807115266. 2
212807115267. 3
212807115268. 4

Question Number : 43 Question Id : 21280728818 Question Type : MCQ Option Shuffling : No Is Question Mandatory : No Calculator : None Response Time : N.A Think Time : N.A Minimum Instruction Time : 0

Correct Marks : 5 Wrong Marks : 1

Question Key Details :

Key	Value
Comprehension	MCQ

'उदासीन' के लिए उपयुक्त शब्द हैं :

- (A) उत्साह
- (B) नीयत
- (C) नैराश्य
- (D) विरक्त
- (E) तटस्थ

नीचे दिए गए विकल्पों में से सही उत्तर का चयन कीजिए :

- (1) केवल (A), (B) और (C)
- (2) केवल (A), (C) और (B)
- (3) केवल (C) और (D)
- (4) केवल (A), (D) और (E)

Options :

212807115269. 1
212807115270. 2
212807115271. 3
212807115272. 4

Question Number : 44 Question Id : 21280728819 Question Type : MCQ Option Shuffling : No Is Question Mandatory : No Calculator : None Response Time : N.A Think Time : N.A Minimum Instruction Time : 0

Correct Marks : 5 Wrong Marks : 1

Question Key Details :

Key	Value
Comprehension	MCQ

'आँख' शब्द का अर्थ नहीं है -

- (1) नेत्र
- (2) लोचन
- (3) आँच
- (4) दृष्टि

Options :

212807115273. 1
212807115274. 2
212807115275. 3
212807115276. 4

Question Number : 45 Question Id : 21280728820 Question Type : MCQ Option Shuffling : No Is Question Mandatory : No Calculator : None
Response Time : N.A Think Time : N.A Minimum Instruction Time : 0

Correct Marks : 5 Wrong Marks : 1

Question Key Details :

Key	Value
Comprehension	MCQ

कौन-से शब्द अशुद्ध हैं ?

- (A) वीकट
- (B) प्रनाली
- (C) चेष्टा
- (D) वनराज
- (E) व्रत

नीचे दिए गए विकल्पों में से सही उत्तर का चयन कीजिए:

- (1) केवल (A), (D) और (E)
- (2) केवल (A), (B) और (D)
- (3) केवल (A), (B) और (C)
- (4) केवल (D) और (E)

Options :

212807115277. 1
212807115278. 2
212807115279. 3
212807115280. 4

Question Number : 46 Question Id : 21280728821 Question Type : MCQ Option Shuffling : No Is Question Mandatory : No Calculator : None
Response Time : N.A Think Time : N.A Minimum Instruction Time : 0

Correct Marks : 5 Wrong Marks : 1

Question Key Details :

Key	Value
Comprehension	MCQ

निम्नलिखित में से तत्सम शब्द हैं -

- (A) आँख
- (B) अश्रु
- (C) अग्नि
- (D) आठ
- (E) आलस्य

नीचे दिए गए विकल्पों में से सही उत्तर का चयन कीजिए :

- (1) केवल (A), (B) और (D)
- (2) केवल (B), (C) और (D)
- (3) केवल (A), (C) और (E)
- (4) केवल (B), (C) और (E)

Options :

- 212807115281. 1
- 212807115282. 2
- 212807115283. 3
- 212807115284. 4

Question Number : 47 Question Id : 21280728822 Question Type : MCQ Option Shuffling : No Is Question Mandatory : No Calculator : None Response Time : N.A Think Time : N.A Minimum Instruction Time : 0

Correct Marks : 5 Wrong Marks : 1

Question Key Details :

Key	Value
Comprehension	MCQ

सूची-I से सूची-II का मिलान कीजिए:

सूची-I	सूची-II
(A) स्वप्न	(I) विदेशज
(B) मामा	(II) देशज
(C) बिस्तर	(III) तत्सम
(D) लोटा	(IV) तद्भव

नीचे दिए गए विकल्पों में से सही उत्तर का चयन कीजिए :

- (1) (A)-(I), (B)-(II), (C)-(III), (D)-(IV)
- (2) (A)-(III), (B)-(IV), (C)-(I), (D)-(II)
- (3) (A)-(II), (B)-(III), (C)-(IV), (D)-(I)
- (4) (A)-(I), (B)-(IV), (C)-(II), (D)-(III)

Options :

- 212807115285. 1
- 212807115286. 2
- 212807115287. 3
- 212807115288. 4

Question Number : 48 Question Id : 21280728823 Question Type : MCQ Option Shuffling : No Is Question Mandatory : No Calculator : None Response Time : N.A Think Time : N.A Minimum Instruction Time : 0

Correct Marks : 5 Wrong Marks : 1

Question Key Details :

Key	Value
Comprehension	MCQ

कालक्रम की दृष्टि से निम्नलिखित साहित्यकारों का सही अनुक्रम है :

- (A) बिहारी
- (B) भारतेन्दु
- (C) कबीर
- (D) नागार्जुन
- (E) मैथिलीशरण गुप्त

नीचे दिए गए विकल्पों में से सही उत्तर का चयन कीजिए :

- (1) (D), (A), (C), (B), (E)
- (2) (C), (A), (B), (E), (D)
- (3) (A), (C), (B), (D), (E)
- (4) (B), (C), (A), (D), (E)

Options :

- 212807115289. 1
- 212807115290. 2
- 212807115291. 3
- 212807115292. 4

Question Number : 49 Question Id : 21280728824 Question Type : MCQ Option Shuffling : No Is Question Mandatory : No Calculator : None Response Time : N.A Think Time : N.A Minimum Instruction Time : 0

Correct Marks : 5 Wrong Marks : 1

Question Key Details :

Key	Value
Comprehension	MCQ

सूची-I से सूची-II का मिलान कीजिए :

सूची-I	सूची-II
रचना	लेखक
(A) मेरी असफलताएँ	(I) रघुवीर सहाय
(B) कुछ पते कुछ चिट्ठियाँ	(II) हजारीप्रसाद द्विवेदी
(C) चिंतामणि - भाग I	(III) गुलाबराय
(D) कुटज	(IV) रामचन्द्र शुक्ल

नीचे दिए गए विकल्पों में से सही उत्तर का चयन कीजिए :

- (1) (A)-(III), (B)-(I), (C)-(IV), (D)-(II)
- (2) (A)-(II), (B)-(III), (C)-(IV), (D)-(I)
- (3) (A)-(III), (B)-(II), (C)-(I), (D)-(IV)
- (4) (A)-(IV), (B)-(I), (C)-(II), (D)-(III)

Options :

- 212807115293. 1
- 212807115294. 2
- 212807115295. 3
- 212807115296. 4

Question Number : 50 Question Id : 21280728825 Question Type : MCQ Option Shuffling : No Is Question Mandatory : No Calculator : None Response Time : N.A Think Time : N.A Minimum Instruction Time : 0

Correct Marks : 5 Wrong Marks : 1

Question Key Details :

Key	Value
Comprehension	MCQ

हिन्दी निबन्ध विधा का उदय किस युग में हुआ ?

- (1) द्विवेदी युग
- (2) भारतेन्दु युग
- (3) छायावाद युग
- (4) प्रगतिवाद

Options :

212807115297. 1
212807115298. 2
212807115299. 3
212807115300. 4

Accountancy

Group Number :	2
Group Id :	212807623
Group Maximum Duration :	60
Group Minimum Duration :	60
Show Attended Group? :	No
Edit Attended Group? :	No
Break time :	0
Group Marks :	200
Is this Group for Examiner? :	No
Examiner permission :	Cant View
Show Progress Bar? :	No

Accountancy

Section Id :	212807727
Section Number :	1
Section type :	Online
Mandatory or Optional :	Mandatory
Number of Questions :	50
Number of Questions to be attempted :	40
Section Marks :	200
Enable Mark as Answered Mark for Review and Clear Response :	Yes
Maximum Instruction Time :	0
Sub-Section Number :	1
Sub-Section Id :	2128072082
Question Shuffling Allowed :	Yes
Is Section Default? :	null

Question Number : 51 Question Id : 21280728556 Question Type : MCQ Option Shuffling : No Is Question Mandatory : No Calculator : None
Response Time : N.A Think Time : N.A Minimum Instruction Time : 0

Correct Marks : 5 Wrong Marks : 1

Question Key Details :

Key	Value
Comprehension	MCQ

The common fields used in a relationship between tables are called :

- (1) Joint fields
- (2) Main fields
- (3) Key fields
- (4) Table fields

Options :

- 212807114221. 1
- 212807114222. 2
- 212807114223. 3
- 212807114224. 4

Question Number : 51 Question Id : 21280728556 Question Type : MCQ Option Shuffling : No Is Question Mandatory : No Calculator : None Response Time : N.A Think Time : N.A Minimum Instruction Time : 0

Correct Marks : 5 Wrong Marks : 1

Question Key Details :

Key	Value
Comprehension	MCQ

तालिकाओं के मध्य संबंध में प्रयुक्त सामान्य क्षेत्र (Common fields) _____ कहलाता है ?

- (1) संयुक्त क्षेत्र (Joint fields)
- (2) मुख्य क्षेत्र (Main fields)
- (3) कुंजी क्षेत्र (Key fields)
- (4) तालिका क्षेत्र (Table fields)

Options :

- 212807114221. 1
- 212807114222. 2
- 212807114223. 3
- 212807114224. 4

Question Number : 52 Question Id : 21280728557 Question Type : MCQ Option Shuffling : No Is Question Mandatory : No Calculator : None Response Time : N.A Think Time : N.A Minimum Instruction Time : 0

Correct Marks : 5 Wrong Marks : 1

Question Key Details :

Key	Value
Comprehension	MCQ

In order to retrieve select data meeting a specified criteria from two different tables of Access database, we may make use of :

- (1) Table
- (2) Query
- (3) Form
- (4) Report

Options :

- 212807114225. 1
- 212807114226. 2
- 212807114227. 3
- 212807114228. 4

Question Number : 52 Question Id : 21280728557 Question Type : MCQ Option Shuffling : No Is Question Mandatory : No Calculator : None Response Time : N.A Think Time : N.A Minimum Instruction Time : 0

Correct Marks : 5 Wrong Marks : 1

Question Key Details :

Key	Value
Comprehension	MCQ

एक्सेस ऑकड़ा आधार के दो विभिन्न तालिकाओ से आकड़े आधार (data base) से एक विशिष्ट कसौटी को पूरा करते हुए चयन आकड़े के पुनः प्राप्ति के क्रम में _____ का हम प्रयोग कर सकते हैं :

- (1) टेबल
- (2) क्वेरी
- (3) फॉर्म
- (4) रिपोर्ट

Options :

212807114225. 1
212807114226. 2
212807114227. 3
212807114228. 4

Question Number : 53 Question Id : 21280728558 Question Type : MCQ Option Shuffling : No Is Question Mandatory : No Calculator : None Response Time : N.A Think Time : N.A Minimum Instruction Time : 0

Correct Marks : 5 Wrong Marks : 1

Question Key Details :

Key	Value
Comprehension	MCQ

In which function results can be displayed in Autocalculator ?

- (1) MAX and LOOK
- (2) SUM and AVERAGE
- (3) LABEL and AVERAGE
- (4) MIN and BLANK

Options :

212807114229. 1
212807114230. 2
212807114231. 3
212807114232. 4

Question Number : 53 Question Id : 21280728558 Question Type : MCQ Option Shuffling : No Is Question Mandatory : No Calculator : None Response Time : N.A Think Time : N.A Minimum Instruction Time : 0

Correct Marks : 5 Wrong Marks : 1

Question Key Details :

Key	Value
Comprehension	MCQ

किस कार्य (Function) मे परिणाम ऑटोकैलकुलेटर में प्रदर्शित किया जा सकता है ?

- (1) मैक्स तथा लुक (MAX and LOOK)
- (2) सम तथा एवरेज (SUM and AVERAGE)
- (3) लेबेल तथा एवरेज (LABEL and AVERAGE)
- (4) मिन तथा ब्लैंक (MIN and BLANK)

Options :

212807114229. 1
212807114230. 2
212807114231. 3
212807114232. 4

Question Number : 54 Question Id : 21280728559 Question Type : MCQ Option Shuffling : No Is Question Mandatory : No Calculator : None Response Time : N.A Think Time : N.A Minimum Instruction Time : 0

Correct Marks : 5 Wrong Marks : 1

Question Key Details :

Key	Value
Comprehension	MCQ

As you type a number in a cell, what mode appears in status bar ?

- (1) Enter mode
- (2) Ready mode
- (3) Edit mode
- (4) Record mode

Options :

212807114233. 1
212807114234. 2
212807114235. 3
212807114236. 4

Question Number : 54 Question Id : 21280728559 Question Type : MCQ Option Shuffling : No Is Question Mandatory : No Calculator : None Response Time : N.A Think Time : N.A Minimum Instruction Time : 0

Correct Marks : 5 Wrong Marks : 1

Question Key Details :

Key	Value
Comprehension	MCQ

जैसे ही आप एक सेल में एक संख्या अंकित करते हैं, स्टेटस बार में कौन-सा रूप (Mode) दिखाई देता है ?

- (1) एंटर मोड
- (2) रेडी मोड
- (3) एडिट मोड
- (4) रिकार्ड मोड

Options :

212807114233. 1
212807114234. 2
212807114235. 3
212807114236. 4

Question Number : 55 Question Id : 21280728560 Question Type : MCQ Option Shuffling : No Is Question Mandatory : No Calculator : None Response Time : N.A Think Time : N.A Minimum Instruction Time : 0

Correct Marks : 5 Wrong Marks : 1

Question Key Details :

Key	Value
Comprehension	MCQ

Life membership fee is :

- (1) Credited to Receipt and Payment A/c
- (2) Debited to Income and Expenditure A/c
- (3) Taken as liability in Balance sheet
- (4) Taken as asset in Balance sheet

Options :

212807114237. 1
212807114238. 2
212807114239. 3
212807114240. 4

Question Number : 55 Question Id : 21280728560 Question Type : MCQ Option Shuffling : No Is Question Mandatory : No Calculator : None
Response Time : N.A Think Time : N.A Minimum Instruction Time : 0

Correct Marks : 5 Wrong Marks : 1

Question Key Details :

Key	Value
Comprehension	MCQ

आजीवन सदस्यता शुल्क होता है

- (1) प्राप्ति एवं भुगतान खाता में जमा
- (2) आय तथा व्यय खाता में ऋणी
- (3) तुलन पत्र में देयता के रूप में लिया जाता है
- (4) तुलन पत्र में परिसंपत्ति के रूप में लिया जाता है

Options :

212807114237. 1

212807114238. 2

212807114239. 3

212807114240. 4

Question Number : 56 Question Id : 21280728561 Question Type : MCQ Option Shuffling : No Is Question Mandatory : No Calculator : None
Response Time : N.A Think Time : N.A Minimum Instruction Time : 0

Correct Marks : 5 Wrong Marks : 1

Question Key Details :

Key	Value
Comprehension	MCQ

Calculate the amount of sports material consumed for the year ended 31st March 2016.

	₹
Stock of sports material on 1.4.2015	- 7,500
Creditor for sports material on 1.4.2015	- 2,000
Stock of sports material on 31.3.2016	- 6,200
Amount paid for sports material during the year 2015-16	- 17,000
Advance paid for sports material as on 31.3.2016	- 3,500
Creditor for sports material on 31.3.2016	- 1,200

- (1) ₹ 17,000
- (2) ₹ 15,000
- (3) ₹ 16,200
- (4) ₹ 14,000

Options :

212807114241. 1

212807114242. 2

212807114243. 3

212807114244. 4

Question Number : 56 Question Id : 21280728561 Question Type : MCQ Option Shuffling : No Is Question Mandatory : No Calculator : None
Response Time : N.A Think Time : N.A Minimum Instruction Time : 0

Correct Marks : 5 Wrong Marks : 1

Question Key Details :

Key	Value
Comprehension	MCQ

31 मार्च 2016 को समाप्त वर्ष में उपयोग हुई खेल सामाग्री की राशि की गणना कीजिये।

	₹
1.4.2015 को खेल सामाग्री का रहतिया	- 7,500
1.4.2015 को खेल सामाग्री हेतु लेनदार	- 2,000
31.3.2016 को खेल सामाग्री का रहतिया	- 6,200
2015-16 के दौरान खेल सामाग्री हेतु भुगतान की गई राशि	- 17,000
31.3.2016 को खेल सामाग्री हेतु अग्रिम भुगतान	- 3,500
31.3.2016 को खेल सामाग्री हेतु लेनदार	- 1,200

- (1) ₹ 17,000
(2) ₹ 15,000
(3) ₹ 16,200
(4) ₹ 14,000

Options :

212807114241. 1
212807114242. 2
212807114243. 3
212807114244. 4

Question Number : 57 Question Id : 21280728562 Question Type : MCQ Option Shuffling : No Is Question Mandatory : No Calculator : None Response Time : N.A Think Time : N.A Minimum Instruction Time : 0

Correct Marks : 5 Wrong Marks : 1

Question Key Details :

Key	Value
Comprehension	MCQ

During the year 2015-16, subscription received by a sports club were ₹ 80,000. These included ₹ 3,000 for the year 2014-15 and ₹ 6,000 for the year 2016-17. On 31st March 2016, the amount of subscription due but not received was ₹ 12,000. Calculate the amount of subscription to be shown in Income and Expenditure A/c.

- (1) ₹ 80,000
(2) ₹ 83,000
(3) ₹ 77,000
(4) ₹ 71,000

Options :

212807114245. 1
212807114246. 2
212807114247. 3
212807114248. 4

Question Number : 57 Question Id : 21280728562 Question Type : MCQ Option Shuffling : No Is Question Mandatory : No Calculator : None Response Time : N.A Think Time : N.A Minimum Instruction Time : 0

Correct Marks : 5 Wrong Marks : 1

Question Key Details :

Key	Value
Comprehension	MCQ

वर्ष 2015-16 के दौरान एक स्पोर्ट्स क्लब द्वारा प्राप्त अभिदान ₹ 80,000 था। इसमें ₹ 3000 वर्ष 2014-15 हेतु तथा ₹ 6,000 वर्ष 2016-17 से सम्मिलित है। 31 मार्च 2016 को 'अभिदान देय परंतु प्राप्त नहीं' था ₹ 12,000। आय तथा व्यय खाते में दर्शाई जाने वाली अभिदान की राशि की गणना कीजिये।

- (1) ₹ 80,000
- (2) ₹ 83,000
- (3) ₹ 77,000
- (4) ₹ 71,000

Options :

212807114245. 1
212807114246. 2
212807114247. 3
212807114248. 4

Question Number : 58 Question Id : 21280728563 Question Type : MCQ Option Shuffling : No Is Question Mandatory : No Calculator : None Response Time : N.A Think Time : N.A Minimum Instruction Time : 0

Correct Marks : 5 Wrong Marks : 1

Question Key Details :

Key	Value
Comprehension	MCQ

Savage Ltd. Purchased for cancellation its own 12,00,000, 9% debentures of ₹ 100 each at ₹ 85 each. The profit on cancellation of own debentures will be :

- (1) ₹ 1,80,00,000
- (2) ₹ 18,00,000
- (3) ₹ 1,08,00,000
- (4) ₹ 10,80,000

Options :

212807114249. 1
212807114250. 2
212807114251. 3
212807114252. 4

Question Number : 58 Question Id : 21280728563 Question Type : MCQ Option Shuffling : No Is Question Mandatory : No Calculator : None Response Time : N.A Think Time : N.A Minimum Instruction Time : 0

Correct Marks : 5 Wrong Marks : 1

Question Key Details :

Key	Value
Comprehension	MCQ

सेवेज़ लि. ने ₹ 100 प्रत्येक वाले अपने 12,00,000, 9% ऋणपत्रों का शोधन हेतु ₹ 85 प्रत्येक की दर से क्रय किया। उसे अपने ऋणपत्रों को निरस्त करने पर लाभ होगा :

- (1) ₹ 1,80,00,000
- (2) ₹ 18,00,000
- (3) ₹ 1,08,00,000
- (4) ₹ 10,80,000

Options :

212807114249. 1
212807114250. 2
212807114251. 3
212807114252. 4

Question Number : 59 Question Id : 21280728564 Question Type : MCQ Option Shuffling : No Is Question Mandatory : No Calculator : None
Response Time : N.A Think Time : N.A Minimum Instruction Time : 0

Correct Marks : 5 Wrong Marks : 1

Question Key Details :

Key	Value
Comprehension	MCQ

Dividend Tax paid by a company is :

- (1) Operating Activity
- (2) Investing Activity
- (3) Financing Activity
- (4) No flow

Options :

212807114253. 1
212807114254. 2
212807114255. 3
212807114256. 4

Question Number : 59 Question Id : 21280728564 Question Type : MCQ Option Shuffling : No Is Question Mandatory : No Calculator : None
Response Time : N.A Think Time : N.A Minimum Instruction Time : 0

Correct Marks : 5 Wrong Marks : 1

Question Key Details :

Key	Value
Comprehension	MCQ

एक कंपनी द्वारा लाभांश कर का भुगतान है -

- (1) प्रचालन क्रियाकलाप
- (2) निवेश क्रियाकलाप
- (3) वित्तीय क्रियाकलाप
- (4) कोई प्रवाह नहीं

Options :

212807114253. 1
212807114254. 2
212807114255. 3
212807114256. 4

Question Number : 60 Question Id : 21280728565 Question Type : MCQ Option Shuffling : No Is Question Mandatory : No Calculator : None
Response Time : N.A Think Time : N.A Minimum Instruction Time : 0

Correct Marks : 5 Wrong Marks : 1

Question Key Details :

Key	Value
Comprehension	MCQ

Balance sheet provides information about financial position of the enterprise :

- (1) At a point of time
- (2) Over a period of time
- (3) For a period of time
- (4) For a period of quarter

Options :

212807114257. 1
212807114258. 2
212807114259. 3
212807114260. 4

Question Number : 60 Question Id : 21280728565 Question Type : MCQ Option Shuffling : No Is Question Mandatory : No Calculator : None
Response Time : N.A Think Time : N.A Minimum Instruction Time : 0

Correct Marks : 5 Wrong Marks : 1

Question Key Details :

Key	Value
Comprehension	MCQ

तुलन-पत्र एक उद्यम की वित्तीय स्थिति के बारे में सूचना प्रदान करता है -

- (1) एक समय पर
- (2) एक समय अवधि से अधिक
- (3) एक समय अवधि हेतु
- (4) एक त्रैमासिक अवधि हेतु

Options :

212807114257. 1
212807114258. 2
212807114259. 3
212807114260. 4

Question Number : 61 Question Id : 21280728566 Question Type : MCQ Option Shuffling : No Is Question Mandatory : No Calculator : None
Response Time : N.A Think Time : N.A Minimum Instruction Time : 0

Correct Marks : 5 Wrong Marks : 1

Question Key Details :

Key	Value
Comprehension	MCQ

Share of profit of a deceased partner's will be debited to :

- (1) Profit and Loss Appropriation A/c
- (2) Partner's Capital A/c
- (3) Revaluation A/c
- (4) Profit and Loss Suspense A/c

Options :

212807114261. 1
212807114262. 2
212807114263. 3
212807114264. 4

Question Number : 61 Question Id : 21280728566 Question Type : MCQ Option Shuffling : No Is Question Mandatory : No Calculator : None
Response Time : N.A Think Time : N.A Minimum Instruction Time : 0

Correct Marks : 5 Wrong Marks : 1

Question Key Details :

Key	Value
Comprehension	MCQ

मृत साझेदार के लाभ का भाग ऋणी होगा -

- (1) लाभ एवं हानि विनियोजन खाते में
- (2) साझेदार के पूंजी खाते में
- (3) पुनर्मूल्यांकन खाते में
- (4) लाभ एवं हानि सस्पेंस खाते में

Options :

212807114261. 1

212807114262. 2
212807114263. 3
212807114264. 4

Question Number : 62 Question Id : 21280728567 Question Type : MCQ Option Shuffling : No Is Question Mandatory : No Calculator : None
Response Time : N.A Think Time : N.A Minimum Instruction Time : 0

Correct Marks : 5 Wrong Marks : 1

Question Key Details :

Key	Value
Comprehension	MCQ

State the Journal entry when sacrificing partner Radha withdraws her Share of goodwill in cash ?

- (1) Radha's Capital A/c Dr.
 To Cash A/c
- (2) Bank A/c Dr.
 To Radha's Capital A/c
- (3) Radha's Capital A/c Dr.
 To Goodwill A/c
- (4) Premium for Goodwill A/c Dr.
 To Radha's capital A/c

Options :

212807114265. 1
212807114266. 2
212807114267. 3
212807114268. 4

Question Number : 62 Question Id : 21280728567 Question Type : MCQ Option Shuffling : No Is Question Mandatory : No Calculator : None
Response Time : N.A Think Time : N.A Minimum Instruction Time : 0

Correct Marks : 5 Wrong Marks : 1

Question Key Details :

Key	Value
Comprehension	MCQ

जब त्याग करने वाली साझेदार राधा अपने ख्याति की राशि का आहरण रोकड़ में करती है तो रोचनामचा प्रविष्टि बतायें ?

- (1) राधा का पूँजी खाता ऋणी
 रोकड़ खाते में
- (2) बैंक खाता ऋणी
 राधा के पूँजी खाते में
- (3) राधा का पूँजी खाता ऋणी
 सुनाम खाते में
- (4) प्रीमियम खाता ऋणी
 राधा के पूँजी खाते में

Options :

212807114265. 1
212807114266. 2
212807114267. 3
212807114268. 4

Question Number : 63 Question Id : 21280728568 Question Type : MCQ Option Shuffling : No Is Question Mandatory : No Calculator : None
Response Time : N.A Think Time : N.A Minimum Instruction Time : 0

Correct Marks : 5 Wrong Marks : 1

Question Key Details :

Key	Value
Comprehension	MCQ

Book value of stock ₹ 40,000. However the stock is found overvalued by ₹ 4,000/-. The amount ₹ 4,000 will be :

- (1) Debited to Revaluation A/c
- (2) Credited to Revaluation A/c
- (3) Debited to Partner's capital A/c
- (4) Credited to Partner's capital A/c

Options :

212807114269. 1

212807114270. 2

212807114271. 3

212807114272. 4

Question Number : 63 Question Id : 21280728568 Question Type : MCQ Option Shuffling : No Is Question Mandatory : No Calculator : None
Response Time : N.A Think Time : N.A Minimum Instruction Time : 0

Correct Marks : 5 Wrong Marks : 1

Question Key Details :

Key	Value
Comprehension	MCQ

संबंध का पूसत्क मूल्य ₹ 40,000 किसो प्रकार संबंध ₹ 4,000/- से अधिक मूल्यांकित पाया गया। ₹ 4,000 को राशि होगी-

- (1) पुनर्मूल्यांकन खाते में ऋणी
- (2) पुनर्मूल्यांकन खाते में जमा
- (3) साझेदार के पूँजी खाते में ऋणी
- (4) साझेदार के पूँजी खाते में जमा

Options :

212807114269. 1

212807114270. 2

212807114271. 3

212807114272. 4

Question Number : 64 Question Id : 21280728569 Question Type : MCQ Option Shuffling : No Is Question Mandatory : No Calculator : None
Response Time : N.A Think Time : N.A Minimum Instruction Time : 0

Correct Marks : 5 Wrong Marks : 1

Question Key Details :

Key	Value
Comprehension	MCQ

P and Q are partners sharing profits in the ratio of 2 : 1. They admitted R into partnership giving him $\frac{1}{5}$ share which he acquired from P and Q in 1 : 2 ratio. Calculate the new profit sharing ratio.

- (1) 2 : 1 : 2
 (2) 1 : 1 : 3
 (3) 3 : 1 : 1
 (4) 20 : 5 : 9

Options :

212807114273. 1
 212807114274. 2
 212807114275. 3
 212807114276. 4

Question Number : 64 Question Id : 21280728569 Question Type : MCQ Option Shuffling : No Is Question Mandatory : No Calculator : None Response Time : N.A Think Time : N.A Minimum Instruction Time : 0

Correct Marks : 5 Wrong Marks : 1

Question Key Details :

Key	Value
Comprehension	MCQ

P तथा Q साझेदार हैं जो लाभ का विभाजन 2 : 1 के अनुपात में करते हैं। उन्होंने साझेदारी में R को $\frac{1}{5}$ भाग हेतु शामिल किया जिसे वह P तथा Q से 1 : 2 के अनुपात में प्राप्त करता है। नये लाभ-विभाजन अनुपात की गणना कीजिये :

- (1) 2 : 1 : 2
 (2) 1 : 1 : 3
 (3) 3 : 1 : 1
 (4) 20 : 5 : 9

Options :

212807114273. 1
 212807114274. 2
 212807114275. 3
 212807114276. 4

Question Number : 65 Question Id : 21280728570 Question Type : MCQ Option Shuffling : No Is Question Mandatory : No Calculator : None Response Time : N.A Think Time : N.A Minimum Instruction Time : 0

Correct Marks : 5 Wrong Marks : 1

Question Key Details :

Key	Value
Comprehension	MCQ

P, Q, and R are partners in a firm sharing profits and losses in the ratio of 3 : 2 : 1. R retires and the balance in his capital A/c after making necessary adjustments works out to be ₹ 60,000. However P and Q agreed to pay him ₹ 75,000 in full settlement of his claim. Then the amount to be debited to P's capital A/c would be :

- (1) ₹ 9,000
 (2) ₹ 6,000
 (3) ₹ 15,000
 (4) ₹ 7,500

Options :

212807114277. 1
 212807114278. 2
 212807114279. 3
 212807114280. 4

Question Number : 65 Question Id : 21280728570 Question Type : MCQ Option Shuffling : No Is Question Mandatory : No Calculator : None Response Time : N.A Think Time : N.A Minimum Instruction Time : 0

Correct Marks : 5 Wrong Marks : 1

Question Key Details :

Key	Value
Comprehension	MCQ

यदि P, Q, तथा R एक फर्म में साझेदार हैं जो लाभ व हानि का विभाजन 3 : 2 : 1 के अनुपात में करते हैं। R सेवानिवृत्त होता है तथा सभी समायोजनों के पश्चात् उसके पूँजी खाते का शेष ₹ 60,000 होता है। तथापि P तथा Q उसके दावे के पूर्ण निपटान में ₹ 75,000 देने के लिये सहमत हुए। तब P के पूँजी खाते में ऋणी होने वाली राशि होगी-

- (1) ₹ 9,000
 (2) ₹ 6,000
 (3) ₹ 15,000
 (4) ₹ 7,500

Options :

212807114277. 1
 212807114278. 2
 212807114279. 3
 212807114280. 4

Question Number : 66 Question Id : 21280728571 Question Type : MCQ Option Shuffling : No Is Question Mandatory : No Calculator : None Response Time : N.A Think Time : N.A Minimum Instruction Time : 0

Correct Marks : 5 Wrong Marks : 1

Question Key Details :

Key	Value
Comprehension	MCQ

Super profit refers to :

- (1) Abnormal profits earned by the partnership firm.
 (2) Difference between Normal profit and profit as shown by Profit and Loss A/c
 (3) Difference between Average adjusted profit and Normal profit
 (4) Capital multiplied by Normal Rate of Return

Options :

212807114281. 1
 212807114282. 2
 212807114283. 3
 212807114284. 4

Question Number : 66 Question Id : 21280728571 Question Type : MCQ Option Shuffling : No Is Question Mandatory : No Calculator : None Response Time : N.A Think Time : N.A Minimum Instruction Time : 0

Correct Marks : 5 Wrong Marks : 1

Question Key Details :

Key	Value
Comprehension	MCQ

अधिलाभ का तात्पर्य है :

- (1) साझेदारी द्वारा अर्जित असाधारण लाभ
- (2) सामान्य लाभ तथा लाभ व हानि खाते द्वारा दर्शाये जाने वाले लाभ के मध्य का अंतर
- (3) औसत समायोजित लाभ तथा सामान्य लाभ के मध्य का अंतर
- (4) सामान्य प्रत्याय की दर से पूंजी का गुणनफल

Options :

212807114281. 1
212807114282. 2
212807114283. 3
212807114284. 4

Question Number : 67 Question Id : 21280728572 Question Type : MCQ Option Shuffling : No Is Question Mandatory : No Calculator : None
Response Time : N.A Think Time : N.A Minimum Instruction Time : 0

Correct Marks : 5 Wrong Marks : 1

Question Key Details :

Key	Value
Comprehension	MCQ

Minimum Subscription of capital :

- (1) Can be less than 90% of the Issued capital
- (2) Should be equal to at least 50% of Authorised Capital
- (3) Should be in the range of 80% to 90% of the Issued capital
- (4) Can not be less than 90% of the Issued amount

Options :

212807114285. 1
212807114286. 2
212807114287. 3
212807114288. 4

Question Number : 67 Question Id : 21280728572 Question Type : MCQ Option Shuffling : No Is Question Mandatory : No Calculator : None
Response Time : N.A Think Time : N.A Minimum Instruction Time : 0

Correct Marks : 5 Wrong Marks : 1

Question Key Details :

Key	Value
Comprehension	MCQ

पूंजी का न्यूनतम अधिदान

- (1) निर्गमित राशि का 90% से कम हो सकता है
- (2) कम से कम अधिकृत पूंजी का 50% के बराबर होना चाहिए
- (3) निर्गमित पूंजी का 80% से 90% तक की श्रेणी में होना चाहिए
- (4) निर्गमित राशि का 90% से कम नहीं हो सकता है

Options :

212807114285. 1
212807114286. 2
212807114287. 3
212807114288. 4

Question Number : 68 Question Id : 21280728573 Question Type : MCQ Option Shuffling : No Is Question Mandatory : No Calculator : None
Response Time : N.A Think Time : N.A Minimum Instruction Time : 0

Correct Marks : 5 Wrong Marks : 1

Question Key Details :

Key	Value
Comprehension	MCQ

Which of the following is NOT a way to redeem the debentures ?

- (1) Payment in Instalments
- (2) Payment in Lumpsum
- (3) Purchase in open Market
- (4) Conversion into shares only NOT in new debentures

Options :

212807114289. 1
212807114290. 2
212807114291. 3
212807114292. 4

Question Number : 68 Question Id : 21280728573 Question Type : MCQ Option Shuffling : No Is Question Mandatory : No Calculator : None Response Time : N.A Think Time : N.A Minimum Instruction Time : 0

Correct Marks : 5 Wrong Marks : 1

Question Key Details :

Key	Value
Comprehension	MCQ

निम्नलिखित में से कौन-सा ऋणपत्रों के मोचन की विधि नहीं है ?

- (1) किस्तों में भुगतान
- (2) एकमुश्त भुगतान
- (3) खुले बाजार में क्रय
- (4) केवल अंशों में विनियम नये ऋणपत्रों में नहीं।

Options :

212807114289. 1
212807114290. 2
212807114291. 3
212807114292. 4

Question Number : 69 Question Id : 21280728574 Question Type : MCQ Option Shuffling : No Is Question Mandatory : No Calculator : None Response Time : N.A Think Time : N.A Minimum Instruction Time : 0

Correct Marks : 5 Wrong Marks : 1

Question Key Details :

Key	Value
Comprehension	MCQ

Z Ltd. invited application for issue of 10,000, 9% Debentures of ₹ 100 each. Application were received for 14,000 Debentures. Company allotted debentures to all the applicants on pro-rata basis. Calculate the number of 9% Debentures that would be issued to Mr Ravi who had applied for 700 debentures.

- (1) 700 Debentures
- (2) 500 Debentures
- (3) 10,000 Debentures
- (4) 4,000 Debentures

Options :

212807114293. 1
212807114294. 2
212807114295. 3

Question Number : 69 Question Id : 21280728574 Question Type : MCQ Option Shuffling : No Is Question Mandatory : No Calculator : None
Response Time : N.A Think Time : N.A Minimum Instruction Time : 0

Correct Marks : 5 Wrong Marks : 1

Question Key Details :

Key	Value
Comprehension	MCQ

Z लि. ने 10,000 इश्यू के लिए 9% ऋणपत्रों के निर्गमन हेतु आवेदन पत्र आमंत्रित किए। 14,000 ऋणपत्रों हेतु आवेदन प्राप्त हुए। कंपनी ने सभी आवेदकों को अनुपातिक आवंटन के आधार पर ऋणपत्रों का आवंटन किया। श्रीमान रवि जिन्होंने 700 ऋणपत्रों हेतु आवेदन किया था उन्हें निर्गमित होने वाले 9% ऋणपत्रों की संख्या की गणना कीजिए।

- (1) 700 ऋणपत्र
- (2) 500 ऋणपत्र
- (3) 10,000 ऋणपत्र
- (4) 4,000 ऋणपत्र

Options :

212807114293. 1
212807114294. 2
212807114295. 3
212807114296. 4

Question Number : 70 Question Id : 21280728575 Question Type : MCQ Option Shuffling : No Is Question Mandatory : No Calculator : None
Response Time : N.A Think Time : N.A Minimum Instruction Time : 0

Correct Marks : 5 Wrong Marks : 1

Question Key Details :

Key	Value
Comprehension	MCQ

_____ can be used to write off preliminary expenses of the company.

- (1) Capital Reserve
- (2) Revaluation Reserve
- (3) General Reserve
- (4) Securities Premium Reserve

Options :

212807114297. 1
212807114298. 2
212807114299. 3
212807114300. 4

Question Number : 70 Question Id : 21280728575 Question Type : MCQ Option Shuffling : No Is Question Mandatory : No Calculator : None
Response Time : N.A Think Time : N.A Minimum Instruction Time : 0

Correct Marks : 5 Wrong Marks : 1

Question Key Details :

Key	Value
Comprehension	MCQ

_____ का प्रयोग कंपनी प्रारंभिक व्ययों को अपलिखित करने हेतु किया जा सकता है।

- (1) पूंजीगत संचय
- (2) पुनर्मूल्यांकन संचय
- (3) सामान्य संचय
- (4) प्रतिभूति प्रिमियम संचय

Options :

212807114297. 1
212807114298. 2
212807114299. 3
212807114300. 4

Question Number : 71 Question Id : 21280728576 Question Type : MCQ Option Shuffling : No Is Question Mandatory : No Calculator : None Response Time : N.A Think Time : N.A Minimum Instruction Time : 0

Correct Marks : 5 Wrong Marks : 1

Question Key Details :

Key	Value
Comprehension	MCQ

Arrange the following steps in correct order.

- (A) Calls in Arrears
- (B) Reissue of shares
- (C) Making calls
- (D) Gain on Reissue transferred to Capital Reserve
- (E) Forfeiture of shares

Choose the **correct** answer from the options given below :

- (1) (C), (A), (E), (B), (D)
- (2) (A), (E), (C), (B), (D)
- (3) (C), (B), (E), (A), (D)
- (4) (C), (A), (B), (E), (D)

Options :

212807114301. 1
212807114302. 2
212807114303. 3
212807114304. 4

Question Number : 71 Question Id : 21280728576 Question Type : MCQ Option Shuffling : No Is Question Mandatory : No Calculator : None Response Time : N.A Think Time : N.A Minimum Instruction Time : 0

Correct Marks : 5 Wrong Marks : 1

Question Key Details :

Key	Value
Comprehension	MCQ

निम्नलिखित चरणों को सही क्रम में व्यवस्थित कीजिए

- (A) बकाया मांग
- (B) अंशों का पुनः निर्गमन
- (C) याचना माँगना
- (D) पुनः निर्गमन पर लाभ का पूंजीगत संचय में अंतरण
- (E) अंशों का हरण

नीचे दिये गए विकल्पों से सही उत्तर का चयन कीजिए :

- (1) (C), (A), (E), (B), (D)
- (2) (A), (E), (C), (B), (D)
- (3) (C), (B), (E), (A), (D)
- (4) (C), (A), (B), (E), (D)

Options :

- 212807114301. 1
- 212807114302. 2
- 212807114303. 3
- 212807114304. 4

Question Number : 72 Question Id : 21280728577 Question Type : MCQ Option Shuffling : No Is Question Mandatory : No Calculator : None Response Time : N.A Think Time : N.A Minimum Instruction Time : 0

Correct Marks : 5 Wrong Marks : 1

Question Key Details :

Key	Value
Comprehension	MCQ

Match List - I with List - II.

List - I

- (A) Gain on sale of sports material
- (B) Donation for Library
- (C) Grass seeds purchased
- (D) Accrued Subscription

List - II

- (I) Liability side of Balance Sheet
- (II) Income side of Income and Expenditure A/c
- (III) Assets side of Balance Sheet
- (IV) Expenditure side of Income and Expenditure A/c

Choose the correct answer from the options given below :

- (1) (A)-(II), (B)-(I), (C)-(IV), (D)-(III)
- (2) (A)-(I), (B)-(II), (C)-(III), (D)-(IV)
- (3) (A)-(II), (B)-(III), (C)-(I), (D)-(IV)
- (4) (A)-(I), (B)-(II), (C)-(IV), (D)-(III)

Options :

- 212807114305. 1
- 212807114306. 2
- 212807114307. 3
- 212807114308. 4

Question Number : 72 Question Id : 21280728577 Question Type : MCQ Option Shuffling : No Is Question Mandatory : No Calculator : None Response Time : N.A Think Time : N.A Minimum Instruction Time : 0

Correct Marks : 5 Wrong Marks : 1

Question Key Details :

Key	Value
Comprehension	MCQ

सूची- I का सूची- II से मिलान कीजिए :

सूची - I

सूची - II

- | | |
|----------------------------------|------------------------------------|
| (A) खेल सामग्री के विक्रय पर लाभ | (I) तुलन-पत्र देयता पक्ष |
| (B) पुस्तकालय हेतु दान | (II) आय तथा व्यय खाते का आय पक्ष |
| (C) घास के बीजों का क्रय | (III) तुलन-पत्र का परिसंपत्ति पक्ष |
| (D) उपार्जित चंदा | (IV) आय तथा व्यय खाते का व्यय पक्ष |

नीचे दिये गए विकल्पों से सही उत्तर का चयन कीजिए :

- (1) (A)-(II), (B)-(I), (C)-(IV), (D)-(III)
- (2) (A)-(I), (B)-(II), (C)-(III), (D)-(IV)
- (3) (A)-(II), (B)-(III), (C)-(I), (D)-(IV)
- (4) (A)-(I), (B)-(II), (C)-(IV), (D)-(III)

Options :

212807114305. 1
212807114306. 2
212807114307. 3
212807114308. 4

Question Number : 73 Question Id : 21280728578 Question Type : MCQ Option Shuffling : No Is Question Mandatory : No Calculator : None
Response Time : N.A Think Time : N.A Minimum Instruction Time : 0

Correct Marks : 5 Wrong Marks : 1

Question Key Details :

Key	Value
Comprehension	MCQ

Debit side of partner's current Account shows :

- (A) Drawings made out of Capital
- (B) Interest on Drawings
- (C) Share of Loss on Revaluation
- (D) Additional Capital Introduced
- (E) Adjustment of Goodwill already appearing in Balance Sheet

Choose the **correct** answer from the options given below :

- (1) (A), (B) and (C) Only
- (2) (B), (C) and (E) Only
- (3) (B), (D) and (E) Only
- (4) (A), (C) and (D) Only

Options :

212807114309. 1
212807114310. 2
212807114311. 3
212807114312. 4

Question Number : 73 Question Id : 21280728578 Question Type : MCQ Option Shuffling : No Is Question Mandatory : No Calculator : None
Response Time : N.A Think Time : N.A Minimum Instruction Time : 0

Correct Marks : 5 Wrong Marks : 1

Question Key Details :

Key	Value
Comprehension	MCQ

साझेदार के चालू खाते का ऋणी पक्ष दर्शाता है:

- (A) पूंजी से आहरण
- (B) आहरण पर ब्याज
- (C) पुनर्मुल्यांकन पर हानि का अंश
- (D) प्रवेशित अतिरिक्त पूंजी
- (E) तुलन-पत्र में पहले से विद्यमान ख्याति का समायोजन

नीचे दिये गए विकल्पों से सही उत्तर का चयन कीजिए :

- (1) केवल (A), (B) तथा (C)
- (2) केवल (B), (C) तथा (E)
- (3) केवल (B), (D) तथा (E)
- (4) केवल (A), (C) तथा (D)

Options :

- 212807114309. 1
- 212807114310. 2
- 212807114311. 3
- 212807114312. 4

Question Number : 74 Question Id : 21280728579 Question Type : MCQ Option Shuffling : No Is Question Mandatory : No Calculator : None Response Time : N.A Think Time : N.A Minimum Instruction Time : 0

Correct Marks : 5 Wrong Marks : 1

Question Key Details :

Key	Value
Comprehension	MCQ

Arrange the following steps in correct sequence.

- (A) Appropriation of profit like Interest on capital
- (B) Charge against profit
- (C) Distribution of profits among the partners
- (D) Transfer to General Reserve as a part of Divisible profits
- (E) Calculation of Net profit

Choose the correct answer from the options given below :

- (1) (B), (E), (A), (D), (C)
- (2) (B), (A), (C), (D), (E)
- (3) (B), (D), (E), (A), (C)
- (4) (B), (A), (D), (E), (C)

Options :

- 212807114313. 1
- 212807114314. 2
- 212807114315. 3
- 212807114316. 4

Question Number : 74 Question Id : 21280728579 Question Type : MCQ Option Shuffling : No Is Question Mandatory : No Calculator : None Response Time : N.A Think Time : N.A Minimum Instruction Time : 0

Correct Marks : 5 Wrong Marks : 1

Question Key Details :

Key	Value
Comprehension	MCQ

निम्नलिखित चरणों को सही क्रम में व्यवस्थित कीजिए

- (A) लाभ का विनियोजन जैसे पूंजी पर ब्याज
- (B) लाभ के विरुद्ध प्रभार
- (C) साझेदारों के मध्य लाभ का विभाजन
- (D) विभाज्य लाभ के भाग के रूप में सामान्य संचय को अंतरण
- (E) शुद्ध लाभ की गणना करना

नीचे दिये गए विकल्पों से सही उत्तर का चयन कीजिए :

- (1) (B), (E), (A), (D), (C)
- (2) (B), (A), (C), (D), (E)
- (3) (B), (D), (E), (A), (C)
- (4) (B), (A), (D), (E), (C)

Options :

- 212807114313. 1
- 212807114314. 2
- 212807114315. 3
- 212807114316. 4

Question Number : 75 Question Id : 21280728580 Question Type : MCQ Option Shuffling : No Is Question Mandatory : No Calculator : None Response Time : N.A Think Time : N.A Minimum Instruction Time : 0

Correct Marks : 5 Wrong Marks : 1

Question Key Details :

Key	Value
Comprehension	MCQ

Match List - I with List - II.

List - I

- (A) Profit sharing Ratio
- (B) Interest on partner's Loan
- (C) Admission of a Partner
- (D) Interest on Capital

List - II

- (I) No payment
- (II) With consent of all existing partners
- (III) 6% p.a.
- (IV) Equal

Choose the **correct** answer from the options given below :

- (1) (A)-(IV), (B)-(III), (C)-(I), (D)-(II)
- (2) (A)-(III), (B)-(IV), (C)-(I), (D)-(II)
- (3) (A)-(III), (B)-(IV), (C)-(II), (D)-(I)
- (4) (A)-(IV), (B)-(III), (C)-(II), (D)-(I)

Options :

- 212807114317. 1
- 212807114318. 2
- 212807114319. 3
- 212807114320. 4

Question Number : 75 Question Id : 21280728580 Question Type : MCQ Option Shuffling : No Is Question Mandatory : No Calculator : None Response Time : N.A Think Time : N.A Minimum Instruction Time : 0

Correct Marks : 5 Wrong Marks : 1

Question Key Details :

Key	Value
Comprehension	MCQ

सूची- I का सूची- II से मिलान कीजिए :

सूची - I

सूची - II

- | | |
|----------------------------|---|
| (A) लाभ-विभाजन अनुपात | (I) कोई भुगतान नहीं |
| (B) साझेदार के ऋण पर ब्याज | (II) सभी विद्यमान साझेदारों की सहमति से |
| (C) एक साझेदार का प्रवेश | (III) 6% वार्षिक |
| (D) पूंजी पर ब्याज | (IV) समान |

नीचे दिये गए विकल्पों से सही उत्तर का चयन कीजिए :

- (1) (A)-(IV), (B)-(III), (C)-(I), (D)-(II)
- (2) (A)-(III), (B)-(IV), (C)-(I), (D)-(II)
- (3) (A)-(III), (B)-(IV), (C)-(II), (D)-(I)
- (4) (A)-(IV), (B)-(III), (C)-(II), (D)-(I)

Options :

212807114317. 1
212807114318. 2
212807114319. 3
212807114320. 4

Question Number : 76 Question Id : 21280728581 Question Type : MCQ Option Shuffling : No Is Question Mandatory : No Calculator : None Response Time : N.A Think Time : N.A Minimum Instruction Time : 0

Correct Marks : 5 Wrong Marks : 1

Question Key Details :

Key	Value
Comprehension	MCQ

Match List - I with List - II.

List - I

List - II

- | | |
|--------------------------|---|
| (A) Goodwill written off | (I) Credit side of Profit and Loss A/c |
| (B) Partner's Salary | (II) Debit side of Partner's Capital A/c |
| (C) Bad Debts Recovered | (III) Debit side of Profit and Loss A/c |
| (D) Manager's Commission | (IV) Credit side of Partner's Capital A/c |

Choose the correct answer from the options given below :

- (1) (A)-(I), (B)-(II), (C)-(III), (D)-(IV)
- (2) (A)-(II), (B)-(IV), (C)-(III), (D)-(I)
- (3) (A)-(II), (B)-(III), (C)-(IV), (D)-(I)
- (4) (A)-(II), (B)-(IV), (C)-(I), (D)-(III)

Options :

212807114321. 1
212807114322. 2
212807114323. 3
212807114324. 4

Question Number : 76 Question Id : 21280728581 Question Type : MCQ Option Shuffling : No Is Question Mandatory : No Calculator : None Response Time : N.A Think Time : N.A Minimum Instruction Time : 0

Correct Marks : 5 Wrong Marks : 1

Question Key Details :

Key	Value
Comprehension	MCQ

सूची- I का सूची- II से मिलान कीजिए :

सूची - I

सूची - II

- | | |
|------------------------------|--|
| (A) अपलिखित ख्याति | (I) लाभ व हानि खाते का धनी पक्ष |
| (B) साझेदार का वेतन | (II) साझेदार के पूंजी खाते का ऋणी पक्ष |
| (C) डूबत ऋण की पुनः प्राप्ति | (III) लाभ व हानि खाते का ऋणी पक्ष |
| (D) प्रबंधक का कमीशन | (IV) साझेदार के पूंजी खाते का धनी पक्ष |

नीचे दिये गए विकल्पों से सही उत्तर का चयन कीजिए :

- (1) (A)-(I), (B)-(II), (C)-(III), (D)-(IV)
- (2) (A)-(II), (B)-(IV), (C)-(III), (D)-(I)
- (3) (A)-(II), (B)-(III), (C)-(IV), (D)-(I)
- (4) (A)-(II), (B)-(IV), (C)-(I), (D)-(III)

Options :

212807114321. 1
212807114322. 2
212807114323. 3
212807114324. 4

Question Number : 77 Question Id : 21280728582 Question Type : MCQ Option Shuffling : No Is Question Mandatory : No Calculator : None
Response Time : N.A Think Time : N.A Minimum Instruction Time : 0

Correct Marks : 5 Wrong Marks : 1

Question Key Details :

Key	Value
Comprehension	MCQ

Cash flow from Financing Activities includes :

- (A) Issue of Equity shares to promoters
- (B) Redemption of Preference shares at premium
- (C) Interest on debenture paid
- (D) Raising funds by issuing 9% Debentures
- (E) Payment for purchase of Equity shares

Choose the **correct** answer from the options given below :

- (1) (A), (C) and (E) Only
- (2) (B), (C) and (D) Only
- (3) (A), (B) and (E) Only
- (4) (B), (C) and (E) Only

Options :

212807114325. 1
212807114326. 2
212807114327. 3
212807114328. 4

Question Number : 77 Question Id : 21280728582 Question Type : MCQ Option Shuffling : No Is Question Mandatory : No Calculator : None
Response Time : N.A Think Time : N.A Minimum Instruction Time : 0

Correct Marks : 5 Wrong Marks : 1

Question Key Details :

Key	Value
Comprehension	MCQ

वित्तीय क्रियाकलापों से रोकड़ प्रवाह में सम्मिलित है-

- (A) प्रवक्तों को समता अंशो का निर्गमन
- (B) पूर्वाधिकार अंशो का प्रीमियम पर शोधन
- (C) ऋणपत्रों पर ब्याज का भुगतान
- (D) 9% ऋणपत्रों के निर्गमन द्वारा कोष एकत्रित करना
- (E) समता अंशो के क्रय हेतु भुगतान

नीचे दिये गए विकल्पों से सही उत्तर का चयन कीजिए :

- (1) केवल (A), (C) तथा (E)
- (2) केवल (B), (C) तथा (D)
- (3) केवल (A), (B) तथा (E)
- (4) केवल (B), (C) तथा (E)

Options :

- 212807114325. 1
- 212807114326. 2
- 212807114327. 3
- 212807114328. 4

Question Number : 78 Question Id : 21280728583 Question Type : MCQ Option Shuffling : No Is Question Mandatory : No Calculator : None Response Time : N.A Think Time : N.A Minimum Instruction Time : 0

Correct Marks : 5 Wrong Marks : 1

Question Key Details :

Key	Value
Comprehension	MCQ

The correct order of items in the Cash Flow Statement should be :

- (A) Calculate Net Profit before Tax and Extraordinary items
- (B) Cash generated from operation
- (C) Net profit as per Balance sheet
- (D) Cash flow from Operating Activities
- (E) Calculating Operating Profit before working Capital Changes

Choose the correct answer from the options given below :

- (1) (A), (B), (C), (D), (E)
- (2) (D), (A), (E), (B), (C)
- (3) (B), (C), (D), (E), (A)
- (4) (C), (A), (E), (B), (D)

Options :

- 212807114329. 1
- 212807114330. 2
- 212807114331. 3
- 212807114332. 4

Question Number : 78 Question Id : 21280728583 Question Type : MCQ Option Shuffling : No Is Question Mandatory : No Calculator : None Response Time : N.A Think Time : N.A Minimum Instruction Time : 0

Correct Marks : 5 Wrong Marks : 1

Question Key Details :

Key	Value
Comprehension	MCQ

रोकड़ प्रवाह विवरण में मदों का सही क्रम होना चाहिए

- (A) कर पूर्व शुद्ध और असाधारण मदों की गणना
- (B) प्रचालन क्रियाकलापों से सुजित रोकड़
- (C) तुलन-पत्र के अनुसार शुद्ध लाभ
- (D) प्रचालन क्रियाकलापों से रोकड़ प्रवाह
- (E) कार्य पूंजी परिवर्तनों से पहले प्रचालन शुद्ध लाभ की गणना करना

नीचे दिये गए विकल्पों से सही उत्तर का चयन कीजिए :

- (1) (A), (B), (C), (D), (E)
- (2) (D), (A), (E), (B), (C)
- (3) (B), (C), (D), (E), (A)
- (4) (C), (A), (E), (B), (D)

Options :

- 212807114329. 1
- 212807114330. 2
- 212807114331. 3
- 212807114332. 4

Question Number : 79 Question Id : 21280728584 Question Type : MCQ Option Shuffling : No Is Question Mandatory : No Calculator : None Response Time : N.A Think Time : N.A Minimum Instruction Time : 0

Correct Marks : 5 Wrong Marks : 1

Question Key Details :

Key	Value
Comprehension	MCQ

Match List - I with List - II.

List - I

- (A) Proceeds from Long term borrowings
- (B) Purchase of Raw Materials
- (C) Purchase of New Equipments
- (D) Marketable Securities

List - II

- (I) Investing Activities
- (II) Operating Activities
- (III) Cash and Cash Equivalent
- (IV) Financing Activities

Choose the **correct** answer from the options given below :

- (1) (A)-(II), (B)-(I), (C)-(IV), (D)-(III)
- (2) (A)-(IV), (B)-(II), (C)-(I), (D)-(III)
- (3) (A)-(I), (B)-(II), (C)-(IV), (D)-(III)
- (4) (A)-(IV), (B)-(I), (C)-(II), (D)-(III)

Options :

- 212807114333. 1
- 212807114334. 2
- 212807114335. 3
- 212807114336. 4

Question Number : 79 Question Id : 21280728584 Question Type : MCQ Option Shuffling : No Is Question Mandatory : No Calculator : None Response Time : N.A Think Time : N.A Minimum Instruction Time : 0

Correct Marks : 5 Wrong Marks : 1

Question Key Details :

Key	Value
Comprehension	MCQ

सूची- I का सूची- II से मिलान कीजिए :

सूची - I

- (A) दीर्घकालिक ऋणों से प्राप्ति
- (B) कच्चा माल सामग्री का क्रय
- (C) नये उपकरणों का क्रय
- (D) विपणन योग्य प्रतिभूतियाँ

सूची - II

- (I) निवेश क्रियाकलाप
- (II) प्रचालन क्रियाकलाप
- (III) रोकड़ तथा रोकड़ तुल्यांक
- (IV) वित्तीय क्रियाकलाप

नीचे दिये गए विकल्पों से सही उत्तर का चयन कीजिए :

- (1) (A)-(II), (B)-(I), (C)-(IV), (D)-(III)
- (2) (A)-(IV), (B)-(II), (C)-(I), (D)-(III)
- (3) (A)-(I), (B)-(II), (C)-(IV), (D)-(III)
- (4) (A)-(IV), (B)-(I), (C)-(II), (D)-(III)

Options :

- 212807114333. 1
- 212807114334. 2
- 212807114335. 3
- 212807114336. 4

Question Number : 80 Question Id : 21280728585 Question Type : MCQ Option Shuffling : No Is Question Mandatory : No Calculator : None Response Time : N.A Think Time : N.A Minimum Instruction Time : 0

Correct Marks : 5 Wrong Marks : 1

Question Key Details :

Key	Value
Comprehension	MCQ

Reserves and Surplus includes :

- (A) Statement of Profits and Loss (Credit Balance)
- (B) Reserve Capital
- (C) Securities Premium Reserve
- (D) Capital Redemption Reserve
- (E) Share Application Money Pending Allotment

Choose the **correct** answer from the options given below :

- (1) (A), (B), and (E) Only
- (2) (B), (C), and (D) Only
- (3) (A), (C), and (D) Only
- (4) (A), (B), and (D) Only

Options :

- 212807114337. 1
- 212807114338. 2
- 212807114339. 3
- 212807114340. 4

Question Number : 80 Question Id : 21280728585 Question Type : MCQ Option Shuffling : No Is Question Mandatory : No Calculator : None Response Time : N.A Think Time : N.A Minimum Instruction Time : 0

Correct Marks : 5 Wrong Marks : 1

Question Key Details :

Key	Value
Comprehension	MCQ

आरक्षितिया तथा अधिशेष में सम्मिलित है-

- (A) लाभ व हानि का विवरण (धनी शेष)
 - (B) आरक्षित पूंजी
 - (C) प्रतिभूति प्रीमियम संचय
 - (D) पूंजी शोधन संचय
 - (E) आबंटन लंबित रहने के दौरान अंश आवेदन धन
- नीचे दिये गए विकल्पों से सही उत्तर का चयन कीजिए :

- (1) केवल (A), (B), तथा (E)
- (2) केवल (B), (C), तथा (D)
- (3) केवल (A), (C), तथा (D)
- (4) केवल (A), (B), तथा (D)

Options :

- 212807114337. 1
- 212807114338. 2
- 212807114339. 3
- 212807114340. 4

Question Number : 81 Question Id : 21280728586 Question Type : MCQ Option Shuffling : No Is Question Mandatory : No Calculator : None
Response Time : N.A Think Time : N.A Minimum Instruction Time : 0

Correct Marks : 5 Wrong Marks : 1

Question Key Details :

Key	Value
Comprehension	MCQ

Solvency Ratios include :

- (A) Proprietary Ratio
- (B) Interest Coverage Ratio
- (C) Fixed Assets Turnover
- (D) Debt to Capital Employed Ratio
- (E) Operating Ratio

Choose the **correct** answer from the options given below :

- (1) (A), (C) and (D) Only
- (2) (A), (D) and (E) Only
- (3) (A), (B) and (C) Only
- (4) (A), (B) and (D) Only

Options :

- 212807114341. 1
- 212807114342. 2
- 212807114343. 3
- 212807114344. 4

Question Number : 81 Question Id : 21280728586 Question Type : MCQ Option Shuffling : No Is Question Mandatory : No Calculator : None
Response Time : N.A Think Time : N.A Minimum Instruction Time : 0

Correct Marks : 5 Wrong Marks : 1

Question Key Details :

Key	Value
Comprehension	MCQ

ऋण शोधन क्षमता अनुपात में सम्मिलित है:-

- (A) स्वामित्व अनुपात
- (B) ब्याज आवृत्त अनुपात
- (C) अचल परिसंपत्ति पण्यवर्त (टर्नओवर)
- (D) ऋण पर नियोजित पूंजी अनुपात
- (E) प्रचालन अनुपात

नीचे दिये गए विकल्पों से सही उत्तर का चयन कीजिए :

- (1) केवल (A), (C) तथा (D)
- (2) केवल (A), (D) तथा (E)
- (3) केवल (A), (B) तथा (C)
- (4) केवल (A), (B) तथा (D)

Options :

- 212807114341. 1
- 212807114342. 2
- 212807114343. 3
- 212807114344. 4

Question Number : 82 Question Id : 21280728587 Question Type : MCQ Option Shuffling : No Is Question Mandatory : No Calculator : None Response Time : N.A Think Time : N.A Minimum Instruction Time : 0

Correct Marks : 5 Wrong Marks : 1

Question Key Details :

Key	Value
Comprehension	MCQ

Arrange the following items in Correct order as per the Statement of Profit and Loss of a Company.

- (A) Employee Benefit Expenses
- (B) Finance Costs
- (C) Depreciation and Amortisation
- (D) Purchase of Stock in Trade
- (E) Exceptional Items

Choose the correct answer from the options given below :

- (1) (A), (C), (B), (D), (E)
- (2) (B), (C), (A), (E), (D)
- (3) (D), (A), (B), (C), (E)
- (4) (A), (B), (C), (D), (E)

Options :

- 212807114345. 1
- 212807114346. 2
- 212807114347. 3
- 212807114348. 4

Question Number : 82 Question Id : 21280728587 Question Type : MCQ Option Shuffling : No Is Question Mandatory : No Calculator : None Response Time : N.A Think Time : N.A Minimum Instruction Time : 0

Correct Marks : 5 Wrong Marks : 1

Question Key Details :

Key	Value
-----	-------

निम्नलिखित मदों को कंपनी के लाभ व हानि विवरण के अनुसार सही क्रम में व्यवस्थित कीजिए

- (A) कर्मचारी हित व्यय
- (B) वित्तीय लागत
- (C) ह्रास तथा अपलेखन
- (D) व्यापारिक रहतिए का क्रय
- (E) अपवादिक मदें

नीचे दिये गए विकल्पों से सही उत्तर का चयन कीजिए :

- (1) (A), (C), (B), (D), (E)
- (2) (B), (C), (A), (E), (D)
- (3) (D), (A), (B), (C), (E)
- (4) (A), (B), (C), (D), (E)

Options :

- 212807114345. 1
- 212807114346. 2
- 212807114347. 3
- 212807114348. 4

Question Number : 83 Question Id : 21280728588 Question Type : MCQ Option Shuffling : No Is Question Mandatory : No Calculator : None Response Time : N.A Think Time : N.A Minimum Instruction Time : 0

Correct Marks : 5 Wrong Marks : 1

Question Key Details :

Key	Value
Comprehension	MCQ

Match List - I with List - II.

List - I

- (A) Liquidity Ratio
- (B) Solvency Ratio
- (C) Activity Ratio
- (D) Profitability Ratio

List - II

- (I) To check ability to meet long term contractual obligations
- (II) To analyse the earning capacity of Business
- (III) To measure the short term Solvency
- (IV) To measure the speed at which the activities of the business are being performed

Choose the **correct** answer from the options given below :

- (1) (A)-(I), (B)-(II), (C)-(III), (D)-(IV)
- (2) (A)-(III), (B)-(I), (C)-(IV), (D)-(II)
- (3) (A)-(II), (B)-(I), (C)-(III), (D)-(IV)
- (4) (A)-(IV), (B)-(I), (C)-(III), (D)-(II)

Options :

- 212807114349. 1
- 212807114350. 2
- 212807114351. 3
- 212807114352. 4

Question Number : 83 Question Id : 21280728588 Question Type : MCQ Option Shuffling : No Is Question Mandatory : No Calculator : None Response Time : N.A Think Time : N.A Minimum Instruction Time : 0

Correct Marks : 5 Wrong Marks : 1

Question Key Details :

Key	Value
Comprehension	MCQ

सूची- I का सूची- II से मिलान कीजिए :

सूची - I

सूची - II

- | | |
|---------------------------|---|
| (A) द्रवता अनुपात | (I) सांविदात्मक दायित्वों को पूरा करने की क्षमता को जाँचना |
| (B) ऋण शोधन क्षमता अनुपात | (II) व्यवसाय की अर्जन क्षमता का विश्लेषण |
| (C) सक्रियता अनुपात | (III) अल्पकालिक ऋण शोधन क्षमता को मापने के लिए इनकी गणना की जाती है |
| (D) लाभप्रदता अनुपात | (IV) व्यवसाय की क्रियान्वित गतिविधियों की गति को मापने के लिए |

नीचे दिये गए विकल्पों से सही उत्तर का चयन कीजिए :

- (1) (A)-(I), (B)-(II), (C)-(III), (D)-(IV)
- (2) (A)-(III), (B)-(I), (C)-(IV), (D)-(II)
- (3) (A)-(II), (B)-(I), (C)-(III), (D)-(IV)
- (4) (A)-(IV), (B)-(I), (C)-(III), (D)-(II)

Options :

212807114349. 1
212807114350. 2
212807114351. 3
212807114352. 4

Question Number : 84 Question Id : 21280728589 Question Type : MCQ Option Shuffling : No Is Question Mandatory : No Calculator : None Response Time : N.A Think Time : N.A Minimum Instruction Time : 0

Correct Marks : 5 Wrong Marks : 1

Question Key Details :

Key	Value
Comprehension	MCQ

Which of the following items will be recorded in Revaluation A/c.

- (A) Capital brought in by New partner
- (B) Plant is to depreciated by 20%
- (C) ₹ 60,000 brought in by new Partner for Goodwill
- (D) Stock overvalued by ₹ 5,000
- (E) Unrecorded creditors to the extent of ₹ 1,500

Choose the correct answer from the options given below :

- (1) (A), (C) and (E) Only
- (2) (B), (D) and (A) Only
- (3) (B), (C) and (D) Only
- (4) (B), (D) and (E) Only

Options :

212807114353. 1
212807114354. 2
212807114355. 3
212807114356. 4

Question Number : 84 Question Id : 21280728589 Question Type : MCQ Option Shuffling : No Is Question Mandatory : No Calculator : None Response Time : N.A Think Time : N.A Minimum Instruction Time : 0

Correct Marks : 5 Wrong Marks : 1

Question Key Details :

Key	Value
Comprehension	MCQ

पुनर्मूल्यांकन खाते में किन निम्नलिखित मदों को दर्शाया जाएगा

- (A) नये साझेदार द्वारा लाई गई पूंजी
- (B) संयंत्र का 20% से अवमूल्यन
- (C) नए साझेदार द्वारा ख्याति हेतु लाये गये ₹ 60,000
- (D) रहतिया ₹ 5,000 से अधिमूल्यांकित
- (E) ₹ 1,500 के गैर अभिलेखित लेनदार

नीचे दिये गए विकल्पों से सही उत्तर का चयन कीजिए :

- (1) केवल (A), (C) तथा (E)
- (2) केवल (B), (D) तथा (A)
- (3) केवल (B), (C) तथा (D)
- (4) केवल (B), (D) तथा (E)

Options :

- 212807114353. 1
- 212807114354. 2
- 212807114355. 3
- 212807114356. 4

Question Number : 85 Question Id : 21280728590 Question Type : MCQ Option Shuffling : No Is Question Mandatory : No Calculator : None
Response Time : N.A Think Time : N.A Minimum Instruction Time : 0

Correct Marks : 5 Wrong Marks : 1

Question Key Details :

Key	Value
Comprehension	MCQ

Arrange the following steps in correct order for calculation of Proportionate Capital of New Partner.

- (A) Balancing the capital account of old partners
- (B) Calculation of Gain/Loss on Revaluation and transferring to Capital Account
- (C) Transferring Accumulated Profit to Capital account
- (D) Calculation of Proportionate Capital for New Partner
- (E) Adjustment for Goodwill in Partner's capital account

Choose the correct answer from the options given below :

- (1) (D), (C), (A), (E), (B)
- (2) (D), (A), (C), (E), (B)
- (3) (B), (E), (C), (A), (D)
- (4) (D), (C), (A), (B), (E)

Options :

- 212807114357. 1
- 212807114358. 2
- 212807114359. 3
- 212807114360. 4

Question Number : 85 Question Id : 21280728590 Question Type : MCQ Option Shuffling : No Is Question Mandatory : No Calculator : None Response Time : N.A Think Time : N.A Minimum Instruction Time : 0

Correct Marks : 5 Wrong Marks : 1

Question Key Details :

Key	Value
Comprehension	MCQ

नए साझेदार आनुपातिक पूंजी के गणना के लिए निम्नलिखित चरणों को सही क्रम में व्यवस्थित कीजिए

- (A) पुराने साझेदारों के पूंजी खातों का अधिशेष निकालना
- (B) पुनर्मूल्यांकन पर लाभ/हानि की गणना, तथा पूंजी खातों में हस्तांतरण
- (C) संचयी लाभों का पूंजी खाते में हस्तांतरण
- (D) नए साझेदार के लिए आनुपातिक पूंजी की गणना करना
- (E) साझेदारों के पूंजी खाते में ख्याति का समायोजन

नीचे दिये गए विकल्पों से सही उत्तर का चयन कीजिए :

- (1) (D), (C), (A), (E), (B)
- (2) (D), (A), (C), (E), (B)
- (3) (B), (E), (C), (A), (D)
- (4) (D), (C), (A), (B), (E)

Options :

- 212807114357. 1
- 212807114358. 2
- 212807114359. 3
- 212807114360. 4

Question Number : 86 Question Id : 21280728591 Question Type : MCQ Option Shuffling : No Is Question Mandatory : No Calculator : None Response Time : N.A Think Time : N.A Minimum Instruction Time : 0

Correct Marks : 5 Wrong Marks : 1

Question Key Details :

Key	Value
Comprehension	MCQ

Hem and Nem are partners in a firm Sharing Profits in the ratio of 3 : 2. Their Capitals were ₹ 80,000 and ₹ 50,000 respectively. They admitted Sam for 1/5 share and he brought ₹ 60,000 as his Capital. Goodwill of the firm will be :

- (1) ₹ 1,90,000
- (2) ₹ 22,000
- (3) ₹ 1,10,000
- (4) ₹ 80,000

Options :

- 212807114361. 1
- 212807114362. 2
- 212807114363. 3
- 212807114364. 4

Question Number : 86 Question Id : 21280728591 Question Type : MCQ Option Shuffling : No Is Question Mandatory : No Calculator : None Response Time : N.A Think Time : N.A Minimum Instruction Time : 0

Correct Marks : 5 Wrong Marks : 1

Question Key Details :

Key	Value
Comprehension	MCQ

हेम तथा नेम एक फर्म में साझेदार हैं जो लाभ का विभाजन 3 : 2 के अनुपात में करते हैं। उनकी पूंजियां क्रमशः ₹ 80,000 तथा ₹ 50,000 थी। उन्होंने 1/5 भाग हेतु सेम को प्रवेश दिया वह पूंजी के रूप में ₹ 60,000 लाया। फर्म के ख्याति का मूल्य होगा-

- (1) ₹ 1,90,000
- (2) ₹ 22,000
- (3) ₹ 1,10,000
- (4) ₹ 80,000

Options :

- 212807114361. 1
- 212807114362. 2
- 212807114363. 3
- 212807114364. 4

Question Number : 87 Question Id : 21280728592 Question Type : MCQ Option Shuffling : No Is Question Mandatory : No Calculator : None Response Time : N.A Think Time : N.A Minimum Instruction Time : 0

Correct Marks : 5 Wrong Marks : 1

Question Key Details :

Key	Value
Comprehension	MCQ

Ninza Ltd. forfeited 1,200 shares of ₹ 10 each, on which ₹ 8 per share as called up and ₹ 6 per share was paid up. The amount with which share Capital Account will be debited at the time of forfeiture of Share will be :

- (1) ₹ 12,000
- (2) ₹ 7,200
- (3) ₹ 9,600
- (4) ₹ 4,800

Options :

- 212807114365. 1
- 212807114366. 2
- 212807114367. 3
- 212807114368. 4

Question Number : 87 Question Id : 21280728592 Question Type : MCQ Option Shuffling : No Is Question Mandatory : No Calculator : None Response Time : N.A Think Time : N.A Minimum Instruction Time : 0

Correct Marks : 5 Wrong Marks : 1

Question Key Details :

Key	Value
Comprehension	MCQ

निंजा लि. ने रु. 10 प्रत्येक वाले 1,200 अंश का समपहरण किया जिन पर ₹ 8 प्रति अंश याचित तथा 6 प्रति अंश दत्त था। अंश हरण के समय अंश पूंजी खाता किस राशि से ऋणी होगा।

- (1) ₹ 12,000
- (2) ₹ 7,200
- (3) ₹ 9,600
- (4) ₹ 4,800

Options :

- 212807114365. 1
- 212807114366. 2
- 212807114367. 3
- 212807114368. 4

Question Number : 88 Question Id : 21280728593 Question Type : MCQ Option Shuffling : No Is Question Mandatory : No Calculator : None Response Time : N.A Think Time : N.A Minimum Instruction Time : 0

Correct Marks : 5 Wrong Marks : 1

Question Key Details :

Key	Value
Comprehension	MCQ

Y and Z are partners in a firm. If W is admitted as a new partner, what will happen ?

- (1) Old firm is dissolved
- (2) Old partnership is reconstituted
- (3) Old firm and Old partnership is dissolved
- (4) Old firm assets realised

Options :

212807114369. 1
212807114370. 2
212807114371. 3
212807114372. 4

Question Number : 88 Question Id : 21280728593 Question Type : MCQ Option Shuffling : No Is Question Mandatory : No Calculator : None Response Time : N.A Think Time : N.A Minimum Instruction Time : 0

Correct Marks : 5 Wrong Marks : 1

Question Key Details :

Key	Value
Comprehension	MCQ

Y तथा Z एक फर्म में साझेदार हैं, यदि W एक नए साझेदार के रूप में शामिल होता है तो

- (1) पुरानी फर्म विघटित हो जाती है
- (2) पुरानी साझेदारी पुनर्गठित हो जाती है
- (3) पुरानी फर्म तथा पुरानी साझेदारी विघटित हो जाती है
- (4) पुरानी फर्म की परिसंपत्तियां वसूल होती हैं

Options :

212807114369. 1
212807114370. 2
212807114371. 3
212807114372. 4

Question Number : 89 Question Id : 21280728594 Question Type : MCQ Option Shuffling : No Is Question Mandatory : No Calculator : None Response Time : N.A Think Time : N.A Minimum Instruction Time : 0

Correct Marks : 5 Wrong Marks : 1

Question Key Details :

Key	Value
Comprehension	MCQ

At the time of admission of a new partner, general reserve appearing in the old Balance Sheet is transferred to :

- (1) old partners in old Profit Sharing Ratio
- (2) old partners in new Profit Sharing Ratio
- (3) all partners in the new Profit Sharing Ratio
- (4) all partners in Gaining Ratio

Options :

212807114373. 1
212807114374. 2
212807114375. 3
212807114376. 4

Question Number : 89 Question Id : 21280728594 Question Type : MCQ Option Shuffling : No Is Question Mandatory : No Calculator : None Response Time : N.A Think Time : N.A Minimum Instruction Time : 0

Correct Marks : 5 Wrong Marks : 1

Question Key Details :

Key	Value
Comprehension	MCQ

एक नए साझेदार के प्रवेश के समय पुराने तुलन पत्र में विद्यमान सामान्य संचय हस्तांतरित होता है-

- (1) पुराने साझेदारों में पुराने लाभ विभाजन अनुपात में
- (2) पुराने साझेदारों में नए लाभ विभाजन अनुपात में
- (3) सभी साझेदारों में नए लाभ विभाजन अनुपात में
- (4) सभी साझेदारों में अधिलाभ अनुपात में

Options :

212807114373. 1
 212807114374. 2
 212807114375. 3
 212807114376. 4

Question Number : 90 Question Id : 21280728595 Question Type : MCQ Option Shuffling : No Is Question Mandatory : No Calculator : None Response Time : N.A Think Time : N.A Minimum Instruction Time : 0

Correct Marks : 5 Wrong Marks : 1

Question Key Details :

Key	Value
Comprehension	MCQ

Calculate Debt equity Ratio :

13% Debentures ₹ 6,00,000

Shareholders fund ₹ 8,00,000

Net Profit before tax ₹ 3,51,000

Current Liabilities ₹ 1,60,000

- (1) 1.33 : 1
- (2) 0.75 : 1
- (3) 0.95 : 1
- (4) 0.52 : 1

Options :

212807114377. 1
 212807114378. 2
 212807114379. 3
 212807114380. 4

Question Number : 90 Question Id : 21280728595 Question Type : MCQ Option Shuffling : No Is Question Mandatory : No Calculator : None Response Time : N.A Think Time : N.A Minimum Instruction Time : 0

Correct Marks : 5 Wrong Marks : 1

Question Key Details :

Key	Value
Comprehension	MCQ

ऋण-क्षमता अनुपात की गणना कीजिए

13% ऋणपत्र	₹ 6,00,000
अंशधारकों की निधि	₹ 8,00,000
कर पूर्व शुद्ध लाभ	₹ 3,51,000
चालू देयता	₹ 1,60,000

- (1) 1.33 : 1
(2) 0.75 : 1
(3) 0.95 : 1
(4) 0.52 : 1

Options :

212807114377. 1
212807114378. 2
212807114379. 3
212807114380. 4

Sub-Section Number :

2

Sub-Section Id :

2128072083

Question Shuffling Allowed :

No

Is Section Default? :

null

Question Number : 91 Question Id : 21280728596 Question Type : MCQ Option Shuffling : No Is Question Mandatory : No Calculator : None
Response Time : N.A Think Time : N.A Minimum Instruction Time : 0

Correct Marks : 5 Wrong Marks : 1

Question Key Details :

Key	Value
Comprehension	Compl

Read the following case study, answer the question :

Raja Pvt Ltd. has been operating in the field of Oils and Food items for last 10 years. Established in South India, has started its operations in some parts of Gujarat as well. Looking at growing demand and production the company wants to raise its Capital through an IPO to expand its operations in North India as well. The company was started in the year 2009 with only 3 members and now had 5 members and 20,000 employees. It was decided to convert the company into Public Ltd. Company. The Memorandum of Association of the company provides for ₹ 60,00,000 of Capital out of which the company issues ₹ 40,00,000 of share capital (40,000 equity shares of ₹ 100 each). The shares were issued at a premium of ₹ 20 but the company was able to get subscription of only 38,000 shares. Amount is payable as follows ₹ 10 on application, ₹ 50 on allotment and Two calls of ₹ 20 each. Premium amount is to be received on allotment. The company was able to receive all money on all the shares except on 200 shares on 1st call and 300 share final call was not received. The company forfeited the shares of those who did not pay 1st call.

Raja Pvt Ltd. is a private limited company operating since 2009. Initially with 3 members now has 5 members. In order to become Public Ltd. Company what should be the minimum number of members required according to Companies Act 2013 ?

- (1) 5
(2) 7
(3) 10
(4) 20

Options :

212807114381. 1
212807114382. 2

212807114383. 3
212807114384. 4

Question Number : 91 Question Id : 21280728596 Question Type : MCQ Option Shuffling : No Is Question Mandatory : No Calculator : None
Response Time : N.A Think Time : N.A Minimum Instruction Time : 0
Correct Marks : 5 Wrong Marks : 1

Question Key Details :

Key	Value
Comprehension	Comp1

निम्नलिखित प्रकरण अध्यायन को पढ़िए और प्रश्न का उत्तर दीजिए :

राजा प्राइवेट लि. गत 10 वर्षों से तेल तथा खाद्य मदों के क्षेत्र में कार्य कर रही है। दक्षिण भारत में स्थापित यह कंपनी गुजरात के कुछ क्षेत्रों में भी कार्य प्रारंभ कर चुकी है। बढ़ती मांग और उत्पादन को ध्यान में रखते हुए कंपनी उत्तर भारत में भी अपने कार्यों का विस्तार करने के लिए IPO द्वारा पूंजी जुटाना चाहती है। कंपनी का शुभारंभ मात्र 3 सदस्यों से 2009 में हुआ था तथा अब कंपनी के पांच सदस्य हैं और 20,000 कर्मचारी हैं। कंपनी को पब्लिक लिमिटेड कंपनी में तबदील करने का निर्णय लिया गया था। कंपनी के निगम ज्ञापन में ₹ 60,00,000 की पूंजी का प्रावधान किया गया है जिसमें कंपनी ₹ 40,00,000 की अंश पूंजी ₹ 100 के 40,000 इक्विटी अंश को निर्गत किए। ये अंश (शेयर) ₹ 20 की प्रीमियम पर निर्गत किए गए थे। यह राशि निम्नलिखित के रूप में देय है : ₹ 10 आवेदन पर 50 आवंटन पर और ₹ 20 प्रत्येक दो मांगों पर प्रीमियम राशि आवंटन पर प्राप्त होनी है। कंपनी सभी अंशों पर धन जुटाने में सफल रही सिवाय 200 अंश के जिस पर प्रथम मांग और 300 अंश जिस पर अंतिम मांग पर प्राप्त नहीं हुए। जिन लोगों ने प्रथम मांग पर भुगतान नहीं किया, कंपनी ने उनके अंशों (शेयरों) को समपह्त कर लिया।

राजा प्राइवेट लि. एक प्राइवेट लिमिटेड कंपनी है जो 2009 से कार्य कर रही है। शुरुआत में इसके 3 सदस्य थे अब 5 हो गए हैं। प्राइवेट लिमिटेड कंपनी बनाने के लिए कंपनी अधिनियम, 2013 के अनुसार न्यूनतम कितने सदस्य अपेक्षित हैं।

- (1) 5
- (2) 7
- (3) 10
- (4) 20

Options :

212807114381. 1
212807114382. 2
212807114383. 3
212807114384. 4

Question Number : 92 Question Id : 21280728597 Question Type : MCQ Option Shuffling : No Is Question Mandatory : No Calculator : None
Response Time : N.A Think Time : N.A Minimum Instruction Time : 0
Correct Marks : 5 Wrong Marks : 1

Question Key Details :

Key	Value
Comprehension	Comp1

Read the following case study, answer the question :

Raja Pvt Ltd. has been operating in the field of Oils and Food items for last 10 years. Established in South India, has started its operations in some parts of Gujarat as well. Looking at growing demand and production the company wants to raise its Capital through an IPO to expand its operations in North India as well. The company was started in the year 2009 with only 3 members and now had 5 members and 20,000 employees. It was decided to convert the company into Public Ltd. Company. The Memorandum of Association of the company provides for ₹ 60,00,000 of Capital out of which the company issues ₹ 40,00,000 of share capital (40,000 equity shares of ₹ 100 each). The shares were issued at a premium of ₹ 20 but the company was able to get subscription of only 38,000 shares. Amount is payable as follows ₹ 10 on application, ₹ 50 on allotment and Two calls of ₹ 20 each. Premium amount is to be received on allotment. The company was able to receive all money on all the shares except on 200 shares on 1st call and 300 share final call was not received. The company forfeited the shares of those who did not pay 1st call.

The Memorandum of Association of the company provides for ₹ 60,00,000 as a Capital required during the lifetime of the Company. Which type of Capital is this ?

- (1) Subscribed Capital
- (2) Issued Capital
- (3) Called up Capital
- (4) Authorised Capital

Options :

212807114385. 1

212807114386. 2

212807114387. 3

212807114388. 4

Question Number : 92 Question Id : 21280728597 Question Type : MCQ Option Shuffling : No Is Question Mandatory : No Calculator : None Response Time : N.A Think Time : N.A Minimum Instruction Time : 0

Correct Marks : 5 Wrong Marks : 1

Question Key Details :

Key	Value
Comprehension	Compl

निम्नलिखित प्रकरण अध्यायन को पढ़िए और प्रश्न का उत्तर दीजिए :

राजा प्राइवेट लि. गत 10 वर्षों से तेल तथा खाद्य मर्दों के क्षेत्र में कार्य कर रही है। दक्षिण भारत में स्थापित यह कंपनी गुजरात के कुछ क्षेत्रों में भी कार्य प्रारंभ कर चुकी है। बढ़ती मांग और उत्पादन को ध्यान में रखते हुए कंपनी उत्तर भारत में भी अपने कार्यों का विस्तार करने के लिए IPO द्वारा पूंजी जुटाना चाहती है। कंपनी का शुभारंभ मात्र 3 सदस्यों से 2009 में हुआ था तथा अब कंपनी के पांच सदस्य हैं और 20,000 कर्मचारी हैं। कंपनी को पब्लिक लिमिटेड कंपनी में तबदील करने का निर्णय लिया गया था। कंपनी के निगम ज्ञापन में ₹ 60,00,000 की पूंजी का प्रावधान किया गया है जिसमें कंपनी ₹ 40,00,000 की अंश पूंजी ₹ 100 के 40,000 इक्विटी अंश को निर्गत किए। ये अंश (शेयर) ₹ 20 की प्रीमियम पर निर्गत किए गए थे। यह राशि निम्नलिखित के रूप में देय है : ₹ 10 आवेदन पर 50 आवंटन पर और ₹ 20 प्रत्येक दो मांगों पर प्रीमियम राशि आवंटन पर प्राप्त होनी है। कंपनी सभी अंशों पर धन जुटाने में सफल रही सिवाय 200 अंश के जिस पर प्रथम मांग और 300 अंश जिस पर अंतिम मांग पर प्राप्त नहीं हुए। जिन लोगों ने प्रथम मांग पर भुगतान नहीं किया, कंपनी ने उनके अंशों (शेयरों) को समपह्त कर लिया।

कंपनी के सीमा पार्षद नियम के अंतर्गत ₹ 60,00,000 पूंजी के रूप में प्रदान करता है जो कंपनी के जीवन अवधि के दौरान आवश्यक है यह किस प्रकार की पूंजी है?

- (1) अभिदत्त पूंजी
- (2) निर्गमित पूंजी
- (3) याचित पूंजी
- (4) अधिकृत पूंजी

Options :

212807114385. 1
212807114386. 2
212807114387. 3
212807114388. 4

Question Number : 93 Question Id : 21280728598 Question Type : MCQ Option Shuffling : No Is Question Mandatory : No Calculator : None
Response Time : N.A Think Time : N.A Minimum Instruction Time : 0

Correct Marks : 5 Wrong Marks : 1

Question Key Details :

Key	Value
Comprehension	Compl

Read the following case study, answer the question :

Raja Pvt Ltd. has been operating in the field of Oils and Food items for last 10 years. Established in South India, has started its operations in some parts of Gujarat as well. Looking at growing demand and production the company wants to raise its Capital through an IPO to expand its operations in North India as well. The company was started in the year 2009 with only 3 members and now had 5 members and 20,000 employees. It was decided to convert the company into Public Ltd. Company. The Memorandum of Association of the company provides for ₹ 60,00,000 of Capital out of which the company issues ₹ 40,00,000 of share capital (40,000 equity shares of ₹ 100 each). The shares were issued at a premium of ₹ 20 but the company was able to get subscription of only 38,000 shares. Amount is payable as follows ₹ 10 on application, ₹ 50 on allotment and Two calls of ₹ 20 each. Premium amount is to be received on allotment. The company was able to receive all money on all the shares except on 200 shares on 1st call and 300 share final call was not received. The company forfeited the shares of those who did not pay 1st call.

The capital of ₹ 40,00,000 that the company is raising through IPO is _____ ?

- (1) Issued Capital
- (2) Paid up Capital
- (3) Subscribed Capital
- (4) Called up Capital

Options :

- 212807114389. 1
- 212807114390. 2
- 212807114391. 3
- 212807114392. 4

Question Number : 93 Question Id : 21280728598 Question Type : MCQ Option Shuffling : No Is Question Mandatory : No Calculator : None Response Time : N.A Think Time : N.A Minimum Instruction Time : 0

Correct Marks : 5 Wrong Marks : 1

Question Key Details :

Key	Value
Comprehension	Compl

निम्नलिखित प्रकरण अध्यायन को पढ़िए और प्रश्न का उत्तर दीजिए :

राजा प्राइवेट लि. गत 10 वर्षों से तेल तथा खाद्य मदों के क्षेत्र में कार्य कर रही है। दक्षिण भारत में स्थापित यह कंपनी गुजरात के कुछ क्षेत्रों में भी कार्य प्रारंभ कर चुकी है। बढ़ती मांग और उत्पादन को ध्यान में रखते हुए कंपनी उत्तर भारत में भी अपने कार्यों का विस्तार करने के लिए IPO द्वारा पूंजी जुटाना चाहती है। कंपनी का शुभारंभ मात्र 3 सदस्यों से 2009 में हुआ था तथा अब कंपनी के पांच सदस्य हैं और 20,000 कर्मचारी हैं। कंपनी को पब्लिक लिमिटेड कंपनी में तबदील करने का निर्णय लिया गया था। कंपनी के निगम ज्ञापन में ₹ 60,00,000 की पूंजी का प्रावधान किया गया है जिसमें कंपनी ₹ 40,00,000 की अंश पूंजी ₹ 100 के 40,000 इक्विटी अंश को निर्गत किए। ये अंश (शेयर) ₹ 20 की प्रीमियम पर निर्गत किए गए थे। यह राशि निम्नलिखित के रूप में देय है : ₹ 10 आवेदन पर 50 आवंटन पर और ₹ 20 प्रत्येक दो मांगों पर प्रीमियम राशि आवंटन पर प्राप्त होनी है। कंपनी सभी अंशों पर धन जुटाने में सफल रही सिवाय 200 अंश के जिस पर प्रथम मांग और 300 अंश जिस पर अंतिम मांग पर प्राप्त नहीं हुए। जिन लोगों ने प्रथम मांग पर भुगतान नहीं किया, कंपनी ने उनके अंशों (शेयरों) को समपद्धत कर लिया।

₹ 40,00,000 की पूंजी जो कि एक कंपनी इसे अपने प्रथम चरण (IPO) में एकत्रित कर रही है कहलाती है

- (1) निर्गमित पूंजी
- (2) प्रदत्त पूंजी
- (3) अभिदत्त पूंजी
- (4) याचित पूंजी

Options :

212807114389. 1
212807114390. 2
212807114391. 3
212807114392. 4

Question Number : 94 Question Id : 21280728599 Question Type : MCQ Option Shuffling : No Is Question Mandatory : No Calculator : None
Response Time : N.A Think Time : N.A Minimum Instruction Time : 0

Correct Marks : 5 Wrong Marks : 1

Question Key Details :

Key	Value
Comprehension	Compl

Read the following case study, answer the question :

Raja Pvt Ltd. has been operating in the field of Oils and Food items for last 10 years. Established in South India, has started its operations in some parts of Gujarat as well. Looking at growing demand and production the company wants to raise its Capital through an IPO to expand its operations in North India as well. The company was started in the year 2009 with only 3 members and now had 5 members and 20,000 employees. It was decided to convert the company into Public Ltd. Company. The Memorandum of Association of the company provides for ₹ 60,00,000 of Capital out of which the company issues ₹ 40,00,000 of share capital (40,000 equity shares of ₹ 100 each). The shares were issued at a premium of ₹ 20 but the company was able to get subscription of only 38,000 shares. Amount is payable as follows ₹ 10 on application, ₹ 50 on allotment and Two calls of ₹ 20 each. Premium amount is to be received on allotment. The company was able to receive all money on all the shares except on 200 shares on 1st call and 300 share final call was not received. The company forfeited the shares of those who did not pay 1st call.

Raja Ltd. did not issue a part of Authorised capital i.e ₹ 20,00,000. Which type of Capital is this called, according to Companies Act 2013 ?

- (1) Unauthorised Capital
- (2) Unsubscribed Capital
- (3) Unissued Capital
- (4) Uncalled Capital

Options :

212807114393. 1

212807114394. 2

212807114395. 3

212807114396. 4

Question Number : 94 Question Id : 21280728599 Question Type : MCQ Option Shuffling : No Is Question Mandatory : No Calculator : None Response Time : N.A Think Time : N.A Minimum Instruction Time : 0

Correct Marks : 5 Wrong Marks : 1

Question Key Details :

Key	Value
Comprehension	Compl

निम्नलिखित प्रकरण अध्यायन को पढ़िए और प्रश्न का उत्तर दीजिए :

राजा प्राइवेट लि. गत 10 वर्षों से तेल तथा खाद्य मदों के क्षेत्र में कार्य कर रही है। दक्षिण भारत में स्थापित यह कंपनी गुजरात के कुछ क्षेत्रों में भी कार्य प्रारंभ कर चुकी है। बढ़ती मांग और उत्पादन को ध्यान में रखते हुए कंपनी उत्तर भारत में भी अपने कार्यों का विस्तार करने के लिए IPO द्वारा पूंजी जुटाना चाहती है। कंपनी का शुभारंभ मात्र 3 सदस्यों से 2009 में हुआ था तथा अब कंपनी के पांच सदस्य हैं और 20,000 कर्मचारी हैं। कंपनी को पब्लिक लिमिटेड कंपनी में तबदील करने का निर्णय लिया गया था। कंपनी के निगम ज्ञापन में ₹ 60,00,000 की पूंजी का प्रावधान किया गया है जिसमें कंपनी ₹ 40,00,000 की अंश पूंजी ₹ 100 के 40,000 इक्विटी अंश को निर्गत किए। ये अंश (शेयर) ₹ 20 की प्रीमियम पर निर्गत किए गए थे। यह राशि निम्नलिखित के रूप में देय है : ₹ 10 आवेदन पर 50 आवंटन पर और ₹ 20 प्रत्येक दो मांगों पर प्रीमियम राशि आवंटन पर प्राप्त होनी है। कंपनी सभी अंशों पर धन जुटाने में सफल रही सिवाय 200 अंश के जिस पर प्रथम मांग और 300 अंश जिस पर अंतिम मांग पर प्राप्त नहीं हुए। जिन लोगों ने प्रथम मांग पर भुगतान नहीं किया, कंपनी ने उनके अंशों (शेयरों) को समपह्त कर लिया।

राजा प्राइवेट लि. ने आधिकृत पूंजी का एक भाग जैसे कि ₹ 20,00,000 का निर्गमन नहीं किया, कंपनी अधिनियम 2013 के अनुसार यह किस प्रकार की पूंजी कहलाती है ?

- (1) गैर अधिकृत पूंजी
- (2) गैर अभिदत्त पूंजी
- (3) अनिर्गमित पूंजी
- (4) अयाचित पूंजी

Options :

212807114393. 1
212807114394. 2
212807114395. 3
212807114396. 4

Question Number : 95 Question Id : 21280728600 Question Type : MCQ Option Shuffling : No Is Question Mandatory : No Calculator : None
Response Time : N.A Think Time : N.A Minimum Instruction Time : 0

Correct Marks : 5 Wrong Marks : 1

Question Key Details :

Key	Value
Comprehension	Compl

Read the following case study, answer the question :

Raja Pvt Ltd. has been operating in the field of Oils and Food items for last 10 years. Established in South India, has started its operations in some parts of Gujarat as well. Looking at growing demand and production the company wants to raise its Capital through an IPO to expand its operations in North India as well. The company was started in the year 2009 with only 3 members and now had 5 members and 20,000 employees. It was decided to convert the company into Public Ltd. Company. The Memorandum of Association of the company provides for ₹ 60,00,000 of Capital out of which the company issues ₹ 40,00,000 of share capital (40,000 equity shares of ₹ 100 each). The shares were issued at a premium of ₹ 20 but the company was able to get subscription of only 38,000 shares. Amount is payable as follows ₹ 10 on application, ₹ 50 on allotment and Two calls of ₹ 20 each. Premium amount is to be received on allotment. The company was able to receive all money on all the shares except on 200 shares on 1st call and 300 share final call was not received. The company forfeited the shares of those who did not pay 1st call.

Amount received on Final call is :

- (1) ₹ 76,00,000
- (2) ₹ 7,60,000
- (3) ₹ 7,58,000
- (4) ₹ 7,54,000

Options :

- 212807114397. 1
- 212807114398. 2
- 212807114399. 3
- 212807114400. 4

Question Number : 95 Question Id : 21280728600 Question Type : MCQ Option Shuffling : No Is Question Mandatory : No Calculator : None Response Time : N.A Think Time : N.A Minimum Instruction Time : 0

Correct Marks : 5 Wrong Marks : 1

Question Key Details :

Key	Value
Comprehension	Comp1

निम्नलिखित प्रकरण अध्यायन को पढ़िए और प्रश्न का उत्तर दीजिए :

राजा प्राइवेट लि. गत 10 वर्षों से तेल तथा खाद्य मदों के क्षेत्र में कार्य कर रही है। दक्षिण भारत में स्थापित यह कंपनी गुजरात के कुछ क्षेत्रों में भी कार्य प्रारंभ कर चुकी है। बढ़ती मांग और उत्पादन को ध्यान में रखते हुए कंपनी उत्तर भारत में भी अपने कार्यों का विस्तार करने के लिए IPO द्वारा पूंजी जुटाना चाहती है। कंपनी का शुभारंभ मात्र 3 सदस्यों से 2009 में हुआ था तथा अब कंपनी के पांच सदस्य हैं और 20,000 कर्मचारी हैं। कंपनी को पब्लिक लिमिटेड कंपनी में तबदील करने का निर्णय लिया गया था। कंपनी के निगम ज्ञापन में ₹ 60,00,000 की पूंजी का प्रावधान किया गया है जिसमें कंपनी ₹ 40,00,000 की अंश पूंजी ₹ 100 के 40,000 इक्विटी अंश को निर्गत किए। ये अंश (शेयर) ₹ 20 की प्रीमियम पर निर्गत किए गए थे। यह राशि निम्नलिखित के रूप में देय है : ₹ 10 आवेदन पर 50 आवंटन पर और ₹ 20 प्रत्येक दो मांगों पर प्रीमियम राशि आवंटन पर प्राप्त होनी है। कंपनी सभी अंशों पर धन जुटाने में सफल रही सिवाय 200 अंश के जिस पर प्रथम मांग और 300 अंश जिस पर अंतिम मांग पर प्राप्त नहीं हुए। जिन लोगों ने प्रथम मांग पर भुगतान नहीं किया, कंपनी ने उनके अंशों (शेयरों) को समपहल कर लिया।

अंतिम याचना पर प्राप्त राशि है:-

- (1) ₹ 76,00,000
- (2) ₹ 7,60,000
- (3) ₹ 7,58,000
- (4) ₹ 7,54,000

Options :

212807114397. 1

212807114398. 2

212807114399. 3

212807114400. 4

Sub-Section Number :

3

Sub-Section Id :

2128072084

Question Shuffling Allowed :

No

Is Section Default? :

null

Question Number : 96 Question Id : 21280728601 Question Type : MCQ Option Shuffling : No Is Question Mandatory : No Calculator : None
Response Time : N.A Think Time : N.A Minimum Instruction Time : 0

Correct Marks : 5 Wrong Marks : 1

Question Key Details :

Key	Value
Comprehension	Comp2

Read the following case study and answer the question :

Naina and Nayantara are Partners in a firm, sharing profits in ratio 3 : 2. They decided to dissolve their firm on 31, March 2021 when their Balance-Sheet was as follows :

Liabilities	Amt. (₹)	Assets	Amt. (₹)
Capital :		Machinery	80,000
Naina 1,00,000		Investment	50,000
Nayantara 80,000	1,80,000	Stock	22,000
Creditors	60,000	Debtors	1,03,000
Bills payable	20,000	Cash at Bank	5,000
	2,60,000		2,60,000

The Assets and liabilities were disposed off as follows :

- Machinery was given to creditors in full settlement of their amount and stock was given to Bills Payable in full settlement.
- Investment were taken over by Nayantara at book value.
- Debtors of book value ₹ 50,000 taken over by Naina at 10% less and remaining debtors realised ₹ 51,000.
- Realisation expenses amounted to ₹ 5,000.

Amount of Debtors to be shown in Naina's capital A/c.

- Cr. ₹ 45,000
- Cr. ₹ 50,000
- Dr. ₹ 45,000
- Dr. ₹ 50,000

Options :

212807114401. 1
212807114402. 2
212807114403. 3
212807114404. 4

Question Number : 96 Question Id : 21280728601 Question Type : MCQ Option Shuffling : No Is Question Mandatory : No Calculator : None Response Time : N.A Think Time : N.A Minimum Instruction Time : 0

Correct Marks : 5 Wrong Marks : 1

Question Key Details :

Key	Value
Comprehension	Comp2

निम्नलिखित प्रकरण अध्यायन को पढ़िए और प्रश्न का उत्तर दीजिए :

नैना तथा नयनतारा एक फर्म में साझेदार हैं जो लाभ का विभाजन 3 : 2 के अनुपात में करते हैं। 31 मार्च 2021 को उन्होंने अपनी फर्म का विघटन करने का निर्णय लिया तब उनका तुलन पत्र इस प्रकार था :-

दाहिना	राशि (₹)	परिसंपत्तियाँ	राशि (₹)
पूंजी :		मशीनरी	80,000
नैना	1,00,000	निवेश	50,000
नयनतारा	80,000	रहतिवा	22,000
लेनदार		देनदार	1,03,000
देय विपत्रों		रोकड़ बैंक में	5,000
	2,60,000		2,60,000

परिसंपत्तियों तथा देयताओं का निपटान निम्न प्रकार हुआ :

- मशीनरी लेनदारों की राशि के पूर्ण भुगतान में दे दी गई तथा रहतिवा देय विपत्रों पूर्ण निपटान दे दिए गए
- निवेश नयनतारा द्वारा पुस्तक मूल्य पर ले लिए गए
- ₹ 50,000 पुस्तक मूल्य के देनदार नैना द्वारा 10% कम पर लिए गए तथा शेष देनदारों से ₹ 51,000 वसूल हुए
- वसूली व्यय ₹ 5,000.

नैना के पूंजी खाते में दर्शाई जाने वाली देनदारों की राशि है:-

- ₹ 45,000 धनी
- ₹ 50,000 धनी
- ₹ 45,000 ऋणी
- ₹ 50,000 ऋणी

Options :

212807114401. 1
212807114402. 2
212807114403. 3
212807114404. 4

Question Number : 97 Question Id : 21280728602 Question Type : MCQ Option Shuffling : No Is Question Mandatory : No Calculator : None Response Time : N.A Think Time : N.A Minimum Instruction Time : 0

Correct Marks : 5 Wrong Marks : 1

Question Key Details :

Key	Value
Comprehension	Comp2

Read the following case study and answer the question :

Naina and Nayantara are Partners in a firm, sharing profits in ratio 3 : 2. They decided to dissolve their firm on 31, March 2021 when their Balance-Sheet was as follows :

Liabilities	Amt. (₹)	Assets	Amt. (₹)
Capital :		Machinery	80,000
Naina 1,00,000		Investment	50,000
Nayantara 80,000	1,80,000	Stock	22,000
Creditors	60,000	Debtors	1,03,000
Bills payable	20,000	Cash at Bank	5,000
	2,60,000		2,60,000

The Assets and liabilities were disposed off as follows :

- Machinery was given to creditors in full settlement of their amount and stock was given to Bills Payable in full settlement.
- Investment were taken over by Nayantara at book value.
- Debtors of book value ₹ 50,000 taken over by Naina at 10% less and remaining debtors realised ₹ 51,000.
- Realisation expenses amounted to ₹ 5,000.

Amount of Profit/Loss on Realisation is :

- ₹ 20,400 Loss
- ₹ 13,600 Profit
- ₹ 34,000 Loss
- ₹ 24,000 Loss

Options :

212807114405. 1
212807114406. 2
212807114407. 3
212807114408. 4

Question Number : 97 Question Id : 21280728602 Question Type : MCQ Option Shuffling : No Is Question Mandatory : No Calculator : None Response Time : N.A Think Time : N.A Minimum Instruction Time : 0

Correct Marks : 5 Wrong Marks : 1

Question Key Details :

Key	Value
Comprehension	Comp2

निम्नलिखित प्रकरण अध्यायन को पढ़िए और प्रश्न का उत्तर दीजिए :

नैना तथा नयनतारा एक फर्म में साझेदार हैं जो लाभ का विभाजन 3 : 2 के अनुपात में करते हैं। 31 मार्च 2021 को उन्होंने अपनी फर्म का विघटन करने का निर्णय लिया तब उनका तुलन पत्र इस प्रकार था :-

दाहित्व	राशि (₹)	परिसंपत्तियाँ	राशि (₹)
पूँजी :		मशीनरी	80,000
नैना	1,00,000	निवेश	50,000
नयनतारा	80,000	रहतिया	22,000
लेनदार		देनदार	1,03,000
देय विपत्रों		रोकड़ बैंक में	5,000
	2,60,000		2,60,000

परिसंपत्तियों तथा देयताओं का निपटान निम्न प्रकार हुआ :

- मशीनरी लेनदारों की राशि के पूर्ण भुगतान में दे दी गई तथा रहतिया देय विपत्रों पूर्ण निपटन दे दिए गए
- निवेश नयनतारा द्वारा पुस्तक मूल्य पर ले लिए गए
- ₹ 50,000 पुस्तक मूल्य के देनदार नैना द्वारा 10% कम पर लिए गए तथा शेष देनदारों से ₹ 51,000 वसूल हुए
- वसूली व्यय ₹ 5,000.

वसूली पर लाभ/हानि की राशि है:-

- 20,400 हानि
- 13,600 लाभ
- 34,000 हानि
- 24,000 हानि

Options :

212807114405. 1
212807114406. 2
212807114407. 3
212807114408. 4

Question Number : 98 Question Id : 21280728603 Question Type : MCQ Option Shuffling : No Is Question Mandatory : No Calculator : None Response Time : N.A Think Time : N.A Minimum Instruction Time : 0

Correct Marks : 5 Wrong Marks : 1

Question Key Details :

Key	Value
Comprehension	Comp2

Read the following case study and answer the question :

Naina and Nayantara are Partners in a firm, sharing profits in ratio 3 : 2. They decided to dissolve their firm on 31, March 2021 when their Balance-Sheet was as follows :

Liabilities	Amt. (₹)	Assets	Amt. (₹)
Capital :		Machinery	80,000
Naina 1,00,000		Investment	50,000
Nayantara 80,000	1,80,000	Stock	22,000
Creditors	60,000	Debtors	1,03,000
Bills payable	20,000	Cash at Bank	5,000
	2,60,000		2,60,000

The Assets and liabilities were disposed off as follows :

- Machinery was given to creditors in full settlement of their amount and stock was given to Bills Payable in full settlement.
- Investment were taken over by Nayantara at book value.
- Debtors of book value ₹ 50,000 taken over by Naina at 10% less and remaining debtors realised ₹ 51,000.
- Realisation expenses amounted to ₹ 5,000.

Journal entry for payment of realisation expense will be :

(1)	Bank/Cash A/c	Dr.	5,000	
	To Realisation A/c			5,000
(2)	Realisation A/c	Dr.	5,000	
	To Naina's Capital A/c			3,000
	To Nayantara's Capital A/c			2,000
(3)	Naina's Capital A/c	Dr.	3,000	
	Nayantara's Capital A/c	Dr.	2,000	
	To Realisation A/c			5,000
(4)	Realisation A/c	Dr.	5,000	
	To Cash/Bank A/c.			5,000

Options :

212807114409. 1
212807114410. 2
212807114411. 3
212807114412. 4

Question Number : 98 Question Id : 21280728603 Question Type : MCQ Option Shuffling : No Is Question Mandatory : No Calculator : None Response Time : N.A Think Time : N.A Minimum Instruction Time : 0

Correct Marks : 5 Wrong Marks : 1

Question Key Details :

Key	Value
Comprehension	Comp2

निम्नलिखित प्रकरण अध्यायन को पढ़िए और प्रश्न का उत्तर दीजिए :

नैना तथा नयनतारा एक फर्म में साझेदार हैं जो लाभ का विभाजन 3 : 2 के अनुपात में करते हैं। 31 मार्च 2021 को उन्होंने अपनी फर्म का विघटन करने का निर्णय लिया तब उनका तुलन पत्र इस प्रकार था :-

दाहिना	राशि (₹)	परिसंपत्तियाँ	राशि (₹)
पूंजी :		मशीनरी	80,000
नैना	1,00,000	निवेश	50,000
नयनतारा	80,000	रहतिया	22,000
लेनदार		देनदार	1,03,000
देय विपत्रों		रोकड़ बैंक में	5,000
	2,60,000		2,60,000

परिसंपत्तियों तथा देयताओं का निपटान निम्न प्रकार हुआ :

- मशीनरी लेनदारों की राशि के पूर्ण भुगतान में दे दी गई तथा रहतिया देय विपत्रों पूर्ण निपटन दे दिए गए
- निवेश नयनतारा द्वारा पुस्तक मूल्य पर ले लिए गए
- ₹ 50,000 पुस्तक मूल्य के देनदार नैना द्वारा 10% कम पर लिए गए तथा शेष देनदारों से ₹ 51,000 वसूल हुए
- वसूली व्यय ₹ 5,000.

वसूली व्यय के भुगतान के लिए योजनामचा प्रविष्टि होगी:

(1)	बैंक/रोकड़ खाता	ऋणी	5,000
	वसूली खाते में		5,000
(2)	वसूली खाता	ऋणी	5,000
	नैना के पूंजी खाते में		3,000
	नयनतारा के पूंजी खाते में		2,000
(3)	नैना का पूंजी खाता	ऋणी	3,000
	नयनतारा का पूंजी खाता	ऋणी	2,000
	वसूली खाते में		5,000
(4)	वसूली खाता	ऋणी	5,000
	बैंक/रोकड़ खाते में		5,000

Options :

212807114409. 1
212807114410. 2
212807114411. 3
212807114412. 4

Question Number : 99 Question Id : 21280728604 Question Type : MCQ Option Shuffling : No Is Question Mandatory : No Calculator : None Response Time : N.A Think Time : N.A Minimum Instruction Time : 0

Correct Marks : 5 Wrong Marks : 1

Question Key Details :

Key	Value
Comprehension	Comp2

Read the following case study and answer the question :

Naina and Nayantara are Partners in a firm, sharing profits in ratio 3 : 2. They decided to dissolve their firm on 31, March 2021 when their Balance-Sheet was as follows :

Liabilities	Amt. (₹)	Assets	Amt. (₹)
Capital :		Machinery	80,000
Naina 1,00,000		Investment	50,000
Nayantara 80,000	1,80,000	Stock	22,000
Creditors	60,000	Debtors	1,03,000
Bills payable	20,000	Cash at Bank	5,000
	2,60,000		2,60,000

The Assets and liabilities were disposed off as follows :

- Machinery was given to creditors in full settlement of their amount and stock was given to Bills Payable in full settlement.
- Investment were taken over by Nayantara at book value.
- Debtors of book value ₹ 50,000 taken over by Naina at 10% less and remaining debtors realised ₹ 51,000.
- Realisation expenses amounted to ₹ 5,000.

Net amount payable to Naina is :

- ₹ 34,600
- ₹ 16,400
- ₹ 20,400
- ₹ 13,600

Options :

212807114413. 1
212807114414. 2
212807114415. 3
212807114416. 4

Question Number : 99 Question Id : 21280728604 Question Type : MCQ Option Shuffling : No Is Question Mandatory : No Calculator : None Response Time : N.A Think Time : N.A Minimum Instruction Time : 0

Correct Marks : 5 Wrong Marks : 1

Question Key Details :

Key	Value
Comprehension	Comp2

निम्नलिखित प्रकरण अध्यायन को पढ़िए और प्रश्न का उत्तर दीजिए :

नैना तथा नयनतारा एक फर्म में साझेदार हैं जो लाभ का विभाजन 3 : 2 के अनुपात में करते हैं। 31 मार्च 2021 को उन्होंने अपनी फर्म का विघटन करने का निर्णय लिया तब उनका तुलन पत्र इस प्रकार था :-

दाहिन्व	राशि (₹)	परिसंपत्तियाँ	राशि (₹)
पूँजी :		मशीनरी	80,000
नैना	1,00,000	निवेश	50,000
नयनतारा	80,000	रहतिवा	22,000
लेनदार		देनदार	1,03,000
देय विपत्रों		रोकड़ बैंक में	5,000
	2,60,000		2,60,000

परिसंपत्तियों तथा देयताओं का निपटान निम्न प्रकार हुआ :

- मशीनरी लेनदारों की राशि के पूर्ण भुगतान में दे दी गई तथा रहतिवा देय विपत्रों पूर्ण निपटन दे दिए गए
- निवेश नयनतारा द्वारा पुस्तक मूल्य पर ले लिए गए
- ₹ 50,000 पुस्तक मूल्य के देनदार नैना द्वारा 10% कम पर लिए गए तथा शेष देनदारों से ₹ 51,000 वसूल हुए
- वसूली व्यय ₹ 5,000.

नैना को देय शुद्ध राशि है

- ₹ 34,600
- ₹ 16,400
- ₹ 20,400
- ₹ 13,600

Options :

212807114413. 1
212807114414. 2
212807114415. 3
212807114416. 4

Question Number : 100 Question Id : 21280728605 Question Type : MCQ Option Shuffling : No Is Question Mandatory : No Calculator : None Response Time : N.A Think Time : N.A Minimum Instruction Time : 0

Correct Marks : 5 Wrong Marks : 1

Question Key Details :

Key	Value
Comprehension	Comp2

Read the following case study and answer the question :

Naina and Nayantara are Partners in a firm, sharing profits in ratio 3 : 2. They decided to dissolve their firm on 31, March 2021 when their Balance-Sheet was as follows :

Liabilities	Amt. (₹)	Assets	Amt. (₹)
Capital :		Machinery	80,000
Naina 1,00,000		Investment	50,000
Nayantara 80,000	1,80,000	Stock	22,000
Creditors	60,000	Debtors	1,03,000
Bills payable	20,000	Cash at Bank	5,000
	2,60,000		2,60,000

The Assets and liabilities were disposed off as follows :

- Machinery was given to creditors in full settlement of their amount and stock was given to Bills Payable in full settlement.
- Investment were taken over by Nayantara at book value.
- Debtors of book value ₹ 50,000 taken over by Naina at 10% less and remaining debtors realised ₹ 51,000.
- Realisation expenses amounted to ₹ 5,000.

Net amount payable to Nayantara is _____.

- ₹ 34,600
- ₹ 16,400
- ₹ 20,400
- ₹ 13,600

Options :

212807114417. 1
212807114418. 2
212807114419. 3
212807114420. 4

Question Number : 100 Question Id : 21280728605 Question Type : MCQ Option Shuffling : No Is Question Mandatory : No Calculator : None Response Time : N.A Think Time : N.A Minimum Instruction Time : 0

Correct Marks : 5 Wrong Marks : 1

Question Key Details :

Key	Value
Comprehension	Comp2

निम्नलिखित प्रकरण अध्यायन को पढ़िए और प्रश्न का उत्तर दीजिए :

नैना तथा नयनतारा एक फर्म में साझेदार हैं जो लाभ का विभाजन 3 : 2 के अनुपात में करते हैं। 31 मार्च 2021 को उन्होंने अपनी फर्म का विघटन करने का निर्णय लिया तब उनका तुलन पत्र इस प्रकार था :-

दाहिना	राशि (₹)	परिसंपत्तियाँ	राशि (₹)
पूँजी :		मशीनरी	80,000
नैना	1,00,000	निवेश	50,000
नयनतारा	80,000	रहतिवा	22,000
लेनदार		देनदार	1,03,000
देय विपत्रों		रोकड़ बैंक में	5,000
	2,60,000		2,60,000

परिसंपत्तियों तथा देयताओं का निपटान निम्न प्रकार हुआ :

- मशीनरी लेनदारों की राशि के पूर्ण भुगतान में दे दी गई तथा रहतिवा देय विपत्रों पूर्ण निपटान दे दिए गए
- निवेश नयनतारा द्वारा पुस्तक मूल्य पर ले लिए गए
- ₹ 50,000 पुस्तक मूल्य के देनदार नैना द्वारा 10% कम पर लिए गए तथा शेष देनदारों से ₹ 51,000 वसूल हुए
- वसूली व्यय ₹ 5,000.

नयनतारा को देय शुद्ध राशि है:-

- ₹ 34,600
- ₹ 16,400
- ₹ 20,400
- ₹ 13,600

Options :

212807114417. 1
212807114418. 2
212807114419. 3
212807114420. 4

Business Studies

Group Number :	3
Group Id :	212807624
Group Maximum Duration :	45
Group Minimum Duration :	45
Show Attended Group? :	No
Edit Attended Group? :	No
Break time :	0
Group Marks :	200
Is this Group for Examiner? :	No
Examiner permission :	Cant View
Show Progress Bar? :	No

Business Studies

Section Id : 212807728
Section Number : 1
Section type : Online
Mandatory or Optional : Mandatory
Number of Questions : 50
Number of Questions to be attempted : 40
Section Marks : 200
Enable Mark as Answered Mark for Review and Clear Response : Yes
Maximum Instruction Time : 0
Sub-Section Number : 1
Sub-Section Id : 2128072085
Question Shuffling Allowed : Yes
Is Section Default? : null

**Question Number : 101 Question Id : 21280728606 Question Type : MCQ Option Shuffling : No Is Question Mandatory : No Calculator : None
 Response Time : N.A Think Time : N.A Minimum Instruction Time : 0**

Correct Marks : 5 Wrong Marks : 1

Question Key Details :

Key	Value
Comprehension	MCQ

Match List - I with List - II.

List - I

(Means)

- (A) Availability and affordability of product
- (B) Product improvement
- (C) Selling and promoting
- (D) Profit through integrated marketing

List - II

(Marketing Philosophies)

- (I) Marketing Concept
- (II) Production Concept
- (III) Product Concept
- (IV) Selling Concept

Choose the **correct** answer from the options given below :

- (1) (A)-(II), (B)-(III), (C)-(IV), (D)-(I)
- (2) (A)-(III), (B)-(II), (C)-(I), (D)-(IV)
- (3) (A)-(II), (B)-(III), (C)-(I), (D)-(IV)
- (4) (A)-(II), (B)-(IV), (C)-(III), (D)-(I)

Options :

- 212807114421. 1
- 212807114422. 2
- 212807114423. 3
- 212807114424. 4

**Question Number : 101 Question Id : 21280728606 Question Type : MCQ Option Shuffling : No Is Question Mandatory : No Calculator : None
 Response Time : N.A Think Time : N.A Minimum Instruction Time : 0**

Correct Marks : 5 Wrong Marks : 1

Question Key Details :

Key	Value
Comprehension	MCQ

सूची - I को सूची - II से सुमेलित करें।

सूची - I

(अर्थ)

- (A) उत्पाद की उपलब्धता और वहनीयता
- (B) उत्पादन संकल्पना
- (C) बिक्री और प्रोत्साहन
- (D) एकीकृत विपणन द्वारा लाभ

सूची - II

(विपणन दर्शन)

- (I) विपणन संकल्पना
- (II) उत्पादन संकल्पना
- (III) उत्पाद संकल्पना
- (IV) बिक्री संकल्पना

नीचे दिए गए विकल्पों में से सही उत्तर का चयन कीजिए :

- (1) (A)-(II), (B)-(III), (C)-(IV), (D)-(I)
- (2) (A)-(III), (B)-(II), (C)-(I), (D)-(IV)
- (3) (A)-(II), (B)-(III), (C)-(I), (D)-(IV)
- (4) (A)-(II), (B)-(IV), (C)-(III), (D)-(I)

Options :

- 212807114421. 1
- 212807114422. 2
- 212807114423. 3
- 212807114424. 4

Question Number : 102 Question Id : 21280728607 Question Type : MCQ Option Shuffling : No Is Question Mandatory : No Calculator : None Response Time : N.A Think Time : N.A Minimum Instruction Time : 0

Correct Marks : 5 Wrong Marks : 1

Question Key Details :

Key	Value
Comprehension	MCQ

Match List - I with List - II.

List - I

(Elements of Directing)

- (A) Supervision
- (B) Motivation
- (C) Leadership
- (D) Communication

List - II

(Indicators)

- (I) Process of making subordinates work in a desired manner to achieve organisational goals
- (II) Process of exchange of ideas, views etc.
- (III) Process of guiding the efforts of employees
- (IV) Process of influencing the behaviour of people

Choose the correct answer from the options given below :

- (1) (A)-(II), (B)-(III), (C)-(I), (D)-(IV)
- (2) (A)-(IV), (B)-(II), (C)-(III), (D)-(I)
- (3) (A)-(I), (B)-(IV), (C)-(II), (D)-(III)
- (4) (A)-(III), (B)-(I), (C)-(IV), (D)-(II)

Options :

- 212807114425. 1
- 212807114426. 2
- 212807114427. 3
- 212807114428. 4

Question Number : 102 Question Id : 21280728607 Question Type : MCQ Option Shuffling : No Is Question Mandatory : No Calculator : None Response Time : N.A Think Time : N.A Minimum Instruction Time : 0

Correct Marks : 5 Wrong Marks : 1

Question Key Details :

Key	Value
Comprehension	MCQ

सूची - I को सूची - II से सुमेलित करें।

सूची - I

(निर्देशक के तत्व)

(A) पर्यवेक्षण

(B) अभिप्रेरणा

(C) नेतृत्व

(D) संप्रेषण

सूची - II

(सूचक)

(I) सांगठनिक लक्ष्यों के प्राप्त करने के लिए विहित रीति में अधीनस्थों से कार्य कराने की प्रक्रिया

(II) विचार, मत आदि विनिमय की प्रक्रिया

(III) कर्मचारियों के प्रयासों का मार्गदर्शन करने की प्रक्रिया

(IV) लोगों का व्यवहार प्रभावित करने की प्रक्रिया

नीचे दिए गए विकल्पों में से सही उत्तर का चयन कीजिए :

(1) (A)-(II), (B)-(III), (C)-(I), (D)-(IV)

(2) (A)-(IV), (B)-(II), (C)-(III), (D)-(I)

(3) (A)-(I), (B)-(IV), (C)-(II), (D)-(III)

(4) (A)-(III), (B)-(I), (C)-(IV), (D)-(II)

Options :

212807114425. 1

212807114426. 2

212807114427. 3

212807114428. 4

Question Number : 103 Question Id : 21280728608 Question Type : MCQ Option Shuffling : No Is Question Mandatory : No Calculator : None Response Time : N.A Think Time : N.A Minimum Instruction Time : 0

Correct Marks : 5 Wrong Marks : 1

Question Key Details :

Key	Value
Comprehension	MCQ

Match List - I with List - II.

List - I

(Foreman as per functional Foremanship)

(A) Speed Boss

(B) Route Clerk

(C) Gang Boss

(D) Repair Boss

List - II

(Functions of Foreman)

(I) Keeping machines and tools ready for operation

(II) Ensure proper working conditions of machines and tools

(III) Timely and accurate completion of job

(IV) Specify the path of production

Choose the correct answer from the options given below :

(1) (A)-(III), (B)-(IV), (C)-(II), (D)-(I)

(2) (A)-(IV), (B)-(III), (C)-(I), (D)-(II)

(3) (A)-(III), (B)-(IV), (C)-(I), (D)-(II)

(4) (A)-(III), (B)-(I), (C)-(II), (D)-(IV)

Options :

212807114429. 1

212807114430. 2

212807114431. 3

Question Number : 103 Question Id : 21280728608 Question Type : MCQ Option Shuffling : No Is Question Mandatory : No Calculator : None
Response Time : N.A Think Time : N.A Minimum Instruction Time : 0

Correct Marks : 5 Wrong Marks : 1

Question Key Details :

Key	Value
Comprehension	MCQ

सूची - I को सूची - II से सुमेलित करें।

सूची - I

(कार्यात्मक फोरमैनशिप के
अनुसार फोरमैन)

- (A) गति बॉस
(B) रूट क्लिक
(C) गैंग बॉस
(D) मरम्मत बॉस

सूची - II

(फोरमैन के प्रकार्य)

- (I) उपकरणों को प्रचालन हेतु वर्ग में तैयार रखना
(II) मशीनों और उपकरणों की उचित कार्य स्थिति सुनिश्चित करना
(III) कार्य को सही रूप से समय पर पूरा करना
(IV) उत्पादन पथ विनिर्दिष्ट करना

नीचे दिए गए विकल्पों में से सही उत्तर का चयन कीजिए :

- (1) (A)-(III), (B)-(IV), (C)-(II), (D)-(I)
(2) (A)-(IV), (B)-(III), (C)-(I), (D)-(II)
(3) (A)-(III), (B)-(IV), (C)-(I), (D)-(II)
(4) (A)-(III), (B)-(I), (C)-(II), (D)-(IV)

Options :

212807114429. 1

212807114430. 2

212807114431. 3

212807114432. 4

Question Number : 104 Question Id : 21280728609 Question Type : MCQ Option Shuffling : No Is Question Mandatory : No Calculator : None
Response Time : N.A Think Time : N.A Minimum Instruction Time : 0

Correct Marks : 5 Wrong Marks : 1

Question Key Details :

Key	Value
Comprehension	MCQ

Match List - I with List - II.

List - I

(Training Methods)

- (A) Vestibule Training
(B) Internship Training
(C) Induction Training
(D) Apprenticeship Training

List - II

(Indicators)

- (I) Familiarising the employee with the rules and policies of the organisation
(II) Training conducted away from actual workplace
(III) Putting the trainee under the guidance of a master worker
(IV) Working in office or factory to acquire practical knowledge of the theory learnt

Choose the correct answer from the options given below :

- (1) (A)-(II), (B)-(I), (C)-(IV), (D)-(III)
(2) (A)-(I), (B)-(III), (C)-(II), (D)-(IV)
(3) (A)-(II), (B)-(IV), (C)-(III), (D)-(I)
(4) (A)-(II), (B)-(IV), (C)-(I), (D)-(III)

Options :

212807114433. 1
212807114434. 2
212807114435. 3
212807114436. 4

Question Number : 104 Question Id : 21280728609 Question Type : MCQ Option Shuffling : No Is Question Mandatory : No Calculator : None Response Time : N.A Think Time : N.A Minimum Instruction Time : 0

Correct Marks : 5 Wrong Marks : 1

Question Key Details :

Key	Value
Comprehension	MCQ

सूची - I को सूची - II से सुमेलित करें।

सूची - I

(प्रशिक्षण विधि)

- (A) प्रकोष्ठीय प्रशिक्षण
(B) प्रशिक्षुता प्रशिक्षण
(C) प्रवेश आरंभ प्रशिक्षण
(D) कार्यस्थल प्रशिक्षुता

सूची - II

(सूचक)

- (I) कर्मचारी को संगठन की नीतियों और नियमों से परिचित कराना
(II) वास्तविक कार्यस्थल से दूर प्रशिक्षण संचालन
(III) प्रशिक्षु को दक्ष कामगार के मार्गदर्शन के अंतर्गत रखना
(IV) सीखे गए सिद्धांत का व्याहारिक ज्ञान अर्जित करने के लिए किसी कार्यालय या कारखाने में कार्य करना

नीचे दिए गए विकल्पों में से सही उत्तर का चयन कीजिए :

- (1) (A)-(II), (B)-(I), (C)-(IV), (D)-(III)
(2) (A)-(I), (B)-(III), (C)-(II), (D)-(IV)
(3) (A)-(II), (B)-(IV), (C)-(III), (D)-(I)
(4) (A)-(II), (B)-(IV), (C)-(I), (D)-(III)

Options :

212807114433. 1
212807114434. 2
212807114435. 3
212807114436. 4

Question Number : 105 Question Id : 21280728610 Question Type : MCQ Option Shuffling : No Is Question Mandatory : No Calculator : None Response Time : N.A Think Time : N.A Minimum Instruction Time : 0

Correct Marks : 5 Wrong Marks : 1

Question Key Details :

Key	Value
Comprehension	MCQ

Match List - I with List - II.

List - I

(Dimensions of Business Environment)

- (A) Legal Environment
- (B) Political Environment
- (C) Economic Environment

(D) Technological Environment

List - II

(Factors)

- (I) Rate of savings and investment
- (II) Innovations and Inventions
- (III) Statutory warning such as "cigarette smoking is injurious to health"
- (IV) Practices of the ruling party

Choose the **correct** answer from the options given below :

- (1) (A)-(III), (B)-(IV), (C)-(I), (D)-(II)
- (2) (A)-(III), (B)-(I), (C)-(II), (D)-(IV)
- (3) (A)-(II), (B)-(IV), (C)-(III), (D)-(I)
- (4) (A)-(IV), (B)-(II), (C)-(III), (D)-(I)

Options :

212807114437. 1

212807114438. 2

212807114439. 3

212807114440. 4

Question Number : 105 Question Id : 21280728610 Question Type : MCQ Option Shuffling : No Is Question Mandatory : No Calculator : None Response Time : N.A Think Time : N.A Minimum Instruction Time : 0

Correct Marks : 5 Wrong Marks : 1

Question Key Details :

Key	Value
Comprehension	MCQ

सूची - I को सूची - II से सुमेलित करें।

सूची - I

(व्यवसाय पर्यावरण के आयाम)

- (A) विधिक पर्यावरण
- (B) राजनीतिक पर्यावरण
- (C) आर्थिक पर्यावरण

(D) तकनीकी पर्यावरण

सूची - II

(कारण)

- (I) बचत और निवेश दर
- (II) नवोन्मेष और अविष्कार
- (III) सिगरेट पीना स्वास्थ्य के लिए हानिकारक है जैसी सांविधिक चेतावनियां
- (IV) सत्तारूढ़ दल की प्रथाएं

नीचे दिए गए विकल्पों में से **सही** उत्तर का चयन कीजिए :

- (1) (A)-(III), (B)-(IV), (C)-(I), (D)-(II)
- (2) (A)-(III), (B)-(I), (C)-(II), (D)-(IV)
- (3) (A)-(II), (B)-(IV), (C)-(III), (D)-(I)
- (4) (A)-(IV), (B)-(II), (C)-(III), (D)-(I)

Options :

212807114437. 1

212807114438. 2
212807114439. 3
212807114440. 4

Question Number : 106 Question Id : 21280728611 Question Type : MCQ Option Shuffling : No Is Question Mandatory : No Calculator : None
Response Time : N.A Think Time : N.A Minimum Instruction Time : 0

Correct Marks : 5 Wrong Marks : 1

Question Key Details :

Key	Value
Comprehension	MCQ

Match List - I with List - II.

List - I

(Money Market Instruments)

(A) Treasury Bill

(B) Call Money

(C) Commercial Bill

(D) Commercial paper

List - II

(Explanation)

(I) Used for inter-bank transactions

(II) Used for bridge financing

(III) Zero coupon Bonds used by Central Government

(IV) When trade bill is discounted with commercial bank

Choose the correct answer from the options given below :

(1) (A)-(III), (B)-(I), (C)-(IV), (D)-(II)

(2) (A)-(II), (B)-(I), (C)-(III), (D)-(IV)

(3) (A)-(I), (B)-(II), (C)-(III), (D)-(IV)

(4) (A)-(IV), (B)-(III), (C)-(II), (D)-(I)

Options :

212807114441. 1
212807114442. 2
212807114443. 3
212807114444. 4

Question Number : 106 Question Id : 21280728611 Question Type : MCQ Option Shuffling : No Is Question Mandatory : No Calculator : None
Response Time : N.A Think Time : N.A Minimum Instruction Time : 0

Correct Marks : 5 Wrong Marks : 1

Question Key Details :

Key	Value
Comprehension	MCQ

सूची - I को सूची - II से सुमेलित करें।

सूची - I

(मुद्रा बाजार उपकरण)

(A) ट्रेजरी बिल

(B) शीघ्रावधि द्रव्य (Call money)

(C) वाणिज्यिक बिल

(D) वाणिज्यिक पत्र

सूची - II

(व्याख्या)

(I) अंतर-बैंक अंतरागों के लिए प्रयुक्त

(II) सेतु वित्तीयन के लिए प्रयुक्त

(III) केन्द्रीय सरकार द्वारा प्रयुक्त शून्य कूपन बंधपत्र

(IV) जब ट्रेड बिल की वाणिज्यिक बैंक से डिस्काउंट किया जाता है।

नीचे दिए गए विकल्पों में से सही उत्तर का चयन कीजिए :

(1) (A)-(III), (B)-(I), (C)-(IV), (D)-(II)

(2) (A)-(II), (B)-(I), (C)-(III), (D)-(IV)

(3) (A)-(I), (B)-(II), (C)-(III), (D)-(IV)

(4) (A)-(IV), (B)-(III), (C)-(II), (D)-(I)

Options :

- 212807114441. 1
- 212807114442. 2
- 212807114443. 3
- 212807114444. 4

Question Number : 107 Question Id : 21280728612 Question Type : MCQ Option Shuffling : No Is Question Mandatory : No Calculator : None Response Time : N.A Think Time : N.A Minimum Instruction Time : 0

Correct Marks : 5 Wrong Marks : 1

Question Key Details :

Key	Value
Comprehension	MCQ

From the following, identify the combination of steps which are NOT a part of organising process:

- (A) Identification and division of work
- (B) Departmentalisation
- (C) Estimating the manpower requirement
- (D) Placement and Orientation
- (E) Establishing Reporting Relationships

Choose the correct answer from the options given below :

- (1) (C), (D) and (E) Only
- (2) (D) and (E) Only
- (3) (C) and (D) Only
- (4) (C) and (E) Only

Options :

- 212807114445. 1
- 212807114446. 2
- 212807114447. 3
- 212807114448. 4

Question Number : 107 Question Id : 21280728612 Question Type : MCQ Option Shuffling : No Is Question Mandatory : No Calculator : None Response Time : N.A Think Time : N.A Minimum Instruction Time : 0

Correct Marks : 5 Wrong Marks : 1

Question Key Details :

Key	Value
Comprehension	MCQ

निम्नखिलित में से उस सोपान युग्म की पहचान करें, जो संगठन प्रक्रिया का भाग नहीं है।

- (A) कार्य की पहचान और प्रभाग
- (B) विभागीकरण
- (C) मानवशक्ति आवश्यकता का निर्धारण
- (D) नियोजन और उन्मुखीकरण
- (E) रिपोर्टिंग संबंध स्थापित करना

नीचे दिए गए विकल्पों में से सही उत्तर का चयन कीजिए :

- (1) केवल (C), (D) और (E)
- (2) केवल (D) और (E)
- (3) केवल (C) और (D)
- (4) केवल (C) और (E)

Options :

212807114445. 1
212807114446. 2
212807114447. 3
212807114448. 4

Question Number : 108 Question Id : 21280728613 Question Type : MCQ Option Shuffling : No Is Question Mandatory : No Calculator : None
Response Time : N.A Think Time : N.A Minimum Instruction Time : 0

Correct Marks : 5 Wrong Marks : 1

Question Key Details :

Key	Value
Comprehension	MCQ

From the following, identify a combination of training methods which are 'off the job' in nature.

- (A) Computer Modelling
- (B) Coaching
- (C) Internship Training
- (D) Vestibule Training
- (E) Programmed Instruction

Choose the **correct** answer from the options given below :

- (1) (A), (D) and (E) Only
- (2) (B), (C) and (E) Only
- (3) (A) and (E) Only
- (4) (B), (C) and (D) Only

Options :

212807114449. 1
212807114450. 2
212807114451. 3
212807114452. 4

Question Number : 108 Question Id : 21280728613 Question Type : MCQ Option Shuffling : No Is Question Mandatory : No Calculator : None
Response Time : N.A Think Time : N.A Minimum Instruction Time : 0

Correct Marks : 5 Wrong Marks : 1

Question Key Details :

Key	Value
Comprehension	MCQ

निम्नलिखित में से उस प्रशिक्षण विधि समुच्चय की पहचान करें, जो कार्य स्थल से दूर प्रकृति वाले है।

- (A) कंप्यूटर प्रतिरूपण
- (B) कोचिंग
- (C) प्रशिक्षुता प्रशिक्षण
- (D) प्रकोष्ठीय प्रशिक्षण
- (E) कार्यक्रमित अनुदेश

नीचे दिए गए विकल्पों में से सही उत्तर का चयन कीजिए :

- (1) केवल (A), (D) और (E)
- (2) केवल (B), (C) और (E)
- (3) केवल (A) और (E)
- (4) केवल (B), (C) व (D)

Options :

212807114449. 1

212807114450. 2
212807114451. 3
212807114452. 4

Question Number : 109 Question Id : 21280728614 Question Type : MCQ Option Shuffling : No Is Question Mandatory : No Calculator : None
Response Time : N.A Think Time : N.A Minimum Instruction Time : 0

Correct Marks : 5 Wrong Marks : 1

Question Key Details :

Key	Value
Comprehension	MCQ

From the following, identify a combination of incentives which mainly focus on satisfaction of psychological, social and emotional needs.

- (A) Organisational climate
- (B) Productivity linked wage incentive
- (C) Job Security
- (D) Stock option
- (E) Job Enrichment

Choose the **correct** answer from the options given below :

- (1) (B), (C) and (D) Only
- (2) (A), (C) and (E) Only
- (3) (C), (D) and (E) Only
- (4) (B), (D) and (E) Only

Options :

212807114453. 1
212807114454. 2
212807114455. 3
212807114456. 4

Question Number : 109 Question Id : 21280728614 Question Type : MCQ Option Shuffling : No Is Question Mandatory : No Calculator : None
Response Time : N.A Think Time : N.A Minimum Instruction Time : 0

Correct Marks : 5 Wrong Marks : 1

Question Key Details :

Key	Value
Comprehension	MCQ

निम्नलिखित में उस प्रोत्साहन समुच्चय की पहचान करे जो मुख्यतया मनोवैज्ञानिक, सामाजिक और भावनात्मक आवश्यकताओं की संतुष्टि पर केन्द्रित है।

- (A) सांगठनिक परिवेश
- (B) उत्पादकता संयोजित मजूदरी प्रोत्साहन
- (C) नौकरी सुरक्षा
- (D) स्टॉक विकल्प
- (E) नौकरी संवर्धन

नीचे दिए गए विकल्पों में से सही उत्तर का चयन कीजिए :

- (1) केवल (B), (C) और (D)
- (2) केवल (A), (C) और (E)
- (3) केवल (C), (D) और (E)
- (4) केवल (B), (D) और (E)

Options :

- 212807114453. 1
- 212807114454. 2
- 212807114455. 3
- 212807114456. 4

Question Number : 110 Question Id : 21280728615 Question Type : MCQ Option Shuffling : No Is Question Mandatory : No Calculator : None Response Time : N.A Think Time : N.A Minimum Instruction Time : 0

Correct Marks : 5 Wrong Marks : 1

Question Key Details :

Key	Value
Comprehension	MCQ

From the following, identify combination of instruments which are used to raise long term funds with period of maturity over one year.

- (A) Treasury bill
- (B) Certificate of deposit
- (C) Shares
- (D) Debentures having maturity of 5 years
- (E) Commercial Paper

Choose the **correct** answer from the options given below :

- (1) (A), (B) and (E) Only
- (2) (B), (C) and (D) Only
- (3) (A), (C) and (D) Only
- (4) (C) and (D) Only

Options :

- 212807114457. 1
- 212807114458. 2
- 212807114459. 3
- 212807114460. 4

Question Number : 110 Question Id : 21280728615 Question Type : MCQ Option Shuffling : No Is Question Mandatory : No Calculator : None Response Time : N.A Think Time : N.A Minimum Instruction Time : 0

Correct Marks : 5 Wrong Marks : 1

Question Key Details :

Key	Value
Comprehension	MCQ

निम्नलिखित में से उस उपकरण समुच्चय की पहचान करें जिसका उपयोग एक वर्ष से अधिक की परिपक्वता अवधि वाले दीर्घावधि ऋणों को उगाहने में किया जाता है।

- (A) ट्रेजरी बिल
- (B) जमा पत्र
- (C) शेयर
- (D) 5 वर्ष परिपक्वता वाले ऋणपत्र
- (E) वाणिज्यिक पत्र

नीचे दिए गए विकल्पों में से सही उत्तर का चयन कीजिए :

- (1) केवल (A), (B) और (E)
- (2) केवल (B), (C) और (D)
- (3) केवल (A), (C) और (D)
- (4) केवल (C) और (D)

Options :

- 212807114457. 1
- 212807114458. 2
- 212807114459. 3
- 212807114460. 4

Question Number : 111 Question Id : 21280728616 Question Type : MCQ Option Shuffling : No Is Question Mandatory : No Calculator : None Response Time : N.A Think Time : N.A Minimum Instruction Time : 0

Correct Marks : 5 Wrong Marks : 1

Question Key Details :

Key	Value
Comprehension	MCQ

From the following principles of management which combination has been given by the Father of General Management.

- (A) Cooperation not Individualism
- (B) Authority and Responsibility
- (C) Subordination of individual interest to general interest
- (D) Science not rule of thumb
- (E) Discipline

Choose the correct answer from the options given below :

- (1) (A), (B) And (E) Only
- (2) (B), (C) And (D) Only
- (3) (A) And (D) Only
- (4) (B), (C) And (E) Only

Options :

- 212807114461. 1
- 212807114462. 2
- 212807114463. 3
- 212807114464. 4

Question Number : 111 Question Id : 21280728616 Question Type : MCQ Option Shuffling : No Is Question Mandatory : No Calculator : None Response Time : N.A Think Time : N.A Minimum Instruction Time : 0

Correct Marks : 5 Wrong Marks : 1

Question Key Details :

Key	Value
Comprehension	MCQ

प्रबंधन के निम्नलिखित सिद्धांतों में से कौन सा समुच्चय सामान्य प्रबंधन के पिता द्वारा दिया गया था।

- (A) सहयोग, व्यक्तिगत नहीं
- (B) प्राधिकार और उत्तरदायित्व
- (C) सामान्य हित के प्रति व्यक्तिगत हित की अधीनस्थता
- (D) विज्ञान अगूठा टेक नियम नहीं
- (E) अनुशासन

नीचे दिए गए विकल्पों में से सही उत्तर का चयन कीजिए :

- (1) केवल (A), (B) और (E)
- (2) केवल (B), (C) और (D)
- (3) केवल (A) और (D)
- (4) केवल (B), (C) और (E)

Options :

- 212807114461. 1
- 212807114462. 2
- 212807114463. 3
- 212807114464. 4

Question Number : 112 Question Id : 21280728617 Question Type : MCQ Option Shuffling : No Is Question Mandatory : No Calculator : None Response Time : N.A Think Time : N.A Minimum Instruction Time : 0

Correct Marks : 5 Wrong Marks : 1

Question Key Details :

Key	Value
Comprehension	MCQ

Arrange the following steps in the process of planning after the objectives have been identified.

- (A) Evaluating alternative courses
- (B) Implementing the plan
- (C) Selecting an alternative
- (D) Identifying alternative courses of action
- (E) Developing premises

Choose the correct answer from the options given below :

- (1) (B), (C), (A), (E), (D)
- (2) (E), (A), (C), (D), (B)
- (3) (E), (D), (A), (C), (B)
- (4) (B), (A), (C), (E), (D)

Options :

- 212807114465. 1
- 212807114466. 2
- 212807114467. 3
- 212807114468. 4

Question Number : 112 Question Id : 21280728617 Question Type : MCQ Option Shuffling : No Is Question Mandatory : No Calculator : None Response Time : N.A Think Time : N.A Minimum Instruction Time : 0

Correct Marks : 5 Wrong Marks : 1

Question Key Details :

Key	Value
Comprehension	MCQ

उद्देश्यों को पहचान किए जाने के पश्चात् नियोजन की प्रक्रिया में निम्नलिखित सोपानों को व्यवस्थित करें:

- (A) वैकल्पिक पथों का मूल्यांकन
- (B) योजना का क्रियान्वयन
- (C) विकल्प का चयन
- (D) वैकल्पिक कार्यवाही पथ की पहचान
- (E) आधार-वाक्यों का निर्माण

नीचे दिए गए विकल्पों में से **सही** उत्तर का चयन कीजिए :

- (1) (B), (C), (A), (E), (D)
- (2) (E), (A), (C), (D), (B)
- (3) (E), (D), (A), (C), (B)
- (4) (B), (A), (C), (E), (D)

Options :

- 212807114465. 1
- 212807114466. 2
- 212807114467. 3
- 212807114468. 4

Question Number : 113 Question Id : 21280728618 Question Type : MCQ Option Shuffling : No Is Question Mandatory : No Calculator : None Response Time : N.A Think Time : N.A Minimum Instruction Time : 0

Correct Marks : 5 Wrong Marks : 1

Question Key Details :

Key	Value
Comprehension	MCQ

From the below description, arrange the organising process in a sequential order :

- (A) Assignment of duties
- (B) Establishing reporting relationships
- (C) Identification and division of work
- (D) Departmentalisation

Choose the **correct** answer from the options given below :

- (1) (D), (C), (B), (A)
- (2) (C), (D), (A), (B)
- (3) (A), (C), (B), (D)
- (4) (B), (D), (C), (A)

Options :

- 212807114469. 1
- 212807114470. 2
- 212807114471. 3
- 212807114472. 4

Question Number : 113 Question Id : 21280728618 Question Type : MCQ Option Shuffling : No Is Question Mandatory : No Calculator : None Response Time : N.A Think Time : N.A Minimum Instruction Time : 0

Correct Marks : 5 Wrong Marks : 1

Question Key Details :

Key	Value
Comprehension	MCQ

निम्नलिखित विवरण से संगठन प्रक्रिया को अनुक्रम से व्यवस्थित करें ?

- (A) कर्तव्यों का आवंटन
- (B) रिपोर्टिंग संबंध स्थापित करना
- (C) कार्य की पहचान और प्रभाग
- (D) विभागीकरण

नीचे दिए गए विकल्पों में से सही उत्तर का चयन कीजिए :

- (1) (D), (C), (B), (A)
- (2) (C), (D), (A), (B)
- (3) (A), (C), (B), (D)
- (4) (B), (D), (C), (A)

Options :

- 212807114469. 1
- 212807114470. 2
- 212807114471. 3
- 212807114472. 4

Question Number : 114 Question Id : 21280728619 Question Type : MCQ Option Shuffling : No Is Question Mandatory : No Calculator : None Response Time : N.A Think Time : N.A Minimum Instruction Time : 0

Correct Marks : 5 Wrong Marks : 1

Question Key Details :

Key	Value
Comprehension	MCQ

Arrange the selection process in correct sequence.

- (A) Employment Interview
- (B) Selection Tests
- (C) Selection Decision
- (D) Reference and Background checks
- (E) Preliminary Screening

Choose the correct answer from the options given below :

- (1) (B), (E), (D), (A), (C)
- (2) (E), (D), (B), (A), (C)
- (3) (A), (C), (B), (D), (E)
- (4) (E), (B), (A), (D), (C)

Options :

- 212807114473. 1
- 212807114474. 2
- 212807114475. 3
- 212807114476. 4

Question Number : 114 Question Id : 21280728619 Question Type : MCQ Option Shuffling : No Is Question Mandatory : No Calculator : None Response Time : N.A Think Time : N.A Minimum Instruction Time : 0

Correct Marks : 5 Wrong Marks : 1

Question Key Details :

Key	Value
Comprehension	MCQ

चयन प्रक्रिया को सही अनुक्रम में व्यवस्थित करें।

- (A) रोजगार साक्षात्कार
- (B) चयन परीक्षण
- (C) चयन निर्णय
- (D) संदर्भ और पृष्ठभूमि जाँच
- (E) प्रारंभिक छंटनी

नीचे दिए गए विकल्पों में से सही उत्तर का चयन कीजिए :

- (1) (B), (E), (D), (A), (C)
- (2) (E), (D), (B), (A), (C)
- (3) (A), (C), (B), (D), (E)
- (4) (E), (B), (A), (D), (C)

Options :

- 212807114473. 1
- 212807114474. 2
- 212807114475. 3
- 212807114476. 4

Question Number : 115 Question Id : 21280728620 Question Type : MCQ Option Shuffling : No Is Question Mandatory : No Calculator : None Response Time : N.A Think Time : N.A Minimum Instruction Time : 0

Correct Marks : 5 Wrong Marks : 1

Question Key Details :

Key	Value
Comprehension	MCQ

Arrange the correct sequence of steps involved in the process of Communication.

- (A) Encoding
- (B) Message
- (C) Decoding
- (D) Media
- (E) Receiver

Choose the correct answer from the options given below :

- (1) (D), (B), (A), (E), (C)
- (2) (B), (A), (D), (C), (E)
- (3) (A), (B), (D), (E), (C)
- (4) (D), (B), (E), (A), (C)

Options :

- 212807114477. 1
- 212807114478. 2
- 212807114479. 3
- 212807114480. 4

Question Number : 115 Question Id : 21280728620 Question Type : MCQ Option Shuffling : No Is Question Mandatory : No Calculator : None Response Time : N.A Think Time : N.A Minimum Instruction Time : 0

Correct Marks : 5 Wrong Marks : 1

Question Key Details :

Key	Value
Comprehension	MCQ

संप्रेषण की प्रक्रिया में सम्मिलित सोपानों को सही अनुक्रम में व्यवस्थित करें।

- (A) कूटलेखन
- (B) संदेश
- (C) विकूटलेखन
- (D) माध्यम
- (E) प्राप्तकर्ता

नीचे दिए गए विकल्पों में से सही उत्तर का चयन कीजिए :

- (1) (D), (B), (A), (E), (C)
- (2) (B), (A), (D), (C), (E)
- (3) (A), (B), (D), (E), (C)
- (4) (D), (B), (E), (A), (C)

Options :

- 212807114477. 1
- 212807114478. 2
- 212807114479. 3
- 212807114480. 4

Question Number : 116 Question Id : 21280728621 Question Type : MCQ Option Shuffling : No Is Question Mandatory : No Calculator : None Response Time : N.A Think Time : N.A Minimum Instruction Time : 0

Correct Marks : 5 Wrong Marks : 1

Question Key Details :

Key	Value
Comprehension	MCQ

Arrange the following first five steps involved in the screen-based trading for buying and selling of securities on a stock exchange.

- (A) An investor has to open a 'demat' account
- (B) Broker issues a trade Continuation slip
- (C) An investor places an order with the broker
- (D) Broker will go online to match the share
- (E) Investor approaches a registered broker

Choose the **correct** answer from the options given below :

- (1) (E), (A), (C), (D), (B)
- (2) (C), (A), (D), (B), (E)
- (3) (E), (A), (C), (B), (D)
- (4) (D), (E), (B), (A), (C)

Options :

- 212807114481. 1
- 212807114482. 2
- 212807114483. 3
- 212807114484. 4

Question Number : 116 Question Id : 21280728621 Question Type : MCQ Option Shuffling : No Is Question Mandatory : No Calculator : None Response Time : N.A Think Time : N.A Minimum Instruction Time : 0

Correct Marks : 5 Wrong Marks : 1

Question Key Details :

Key	Value
Comprehension	MCQ

शेयर बाजार में प्रतिभूतियों के क्रय विक्रय के लिए स्क्रीन आधारित करोबार में अंतर्निहित निम्नलिखित पाँच चरणों को व्यवस्थित करें।

- (A) निवेशक को एक "डी-मैट" खाता खोलना होता है।
- (B) दलाल करोबार निरन्तरता पर्ची जारी करता है।
- (C) निवेशक, दलाल के पास आदेश प्रस्तुत करता है।
- (D) दलाल, शेयर से संगतता के लिए ऑनलाइन होगा।
- (E) निवेशक किसी पंजीकृत दलाल से संपर्क करता है।

नीचे दिए गए विकल्पों में से सही उत्तर का चयन कीजिए :

- (1) (E), (A), (C), (D), (B)
- (2) (C), (A), (D), (B), (E)
- (3) (E), (A), (C), (B), (D)
- (4) (D), (E), (B), (A), (C)

Options :

- 212807114481. 1
- 212807114482. 2
- 212807114483. 3
- 212807114484. 4

Question Number : 117 Question Id : 21280728622 Question Type : MCQ Option Shuffling : No Is Question Mandatory : No Calculator : None Response Time : N.A Think Time : N.A Minimum Instruction Time : 0

Correct Marks : 5 Wrong Marks : 1

Question Key Details :

Key	Value
Comprehension	MCQ

Paras Ltd. has been facing the problem of decline in the level of production over last 15 days. On analysing the reason it was observed that the work station got smoky due to burning of fuel and the workers were uncomfortable and not able to focus.

Which is the next step in the process of the managerial function undertaken by the manager in this given statement ?

- (1) Analysis deviation
- (2) Measuring actual performance
- (3) Taking corrective action
- (4) Comparison of actual performance with standards

Options :

- 212807114485. 1
- 212807114486. 2
- 212807114487. 3
- 212807114488. 4

Question Number : 117 Question Id : 21280728622 Question Type : MCQ Option Shuffling : No Is Question Mandatory : No Calculator : None Response Time : N.A Think Time : N.A Minimum Instruction Time : 0

Correct Marks : 5 Wrong Marks : 1

Question Key Details :

Key	Value
Comprehension	MCQ

पारस लिमिटेड पिछले 15 दिन से उत्पादन के स्तर में कमी की समस्या से जूझ रही है। कारण का विश्लेषण करने पर यह देखा गया कि ईंधन दहन के कारण कार्यस्थल धुएँ से भर जाता है और कामगार असह्य होने के कारण कार्य पर ध्यान केंद्रित नहीं कर पाते थे।

इस दिए गए कथन में प्रबंधक द्वारा लिया गया प्रबंधकीय प्रकार्य की प्रक्रिया का अगला चरण क्या होगा ?

- (1) विचलन विश्लेषण
- (2) वास्तविक प्रदर्शन मापन
- (3) सुधारात्मक कार्रवाई करना
- (4) मानदंड से वास्तविक प्रदर्शन की तुलना

Options :

212807114485. 1
212807114486. 2
212807114487. 3
212807114488. 4

Question Number : 118 Question Id : 21280728623 Question Type : MCQ Option Shuffling : No Is Question Mandatory : No Calculator : None Response Time : N.A Think Time : N.A Minimum Instruction Time : 0

Correct Marks : 5 Wrong Marks : 1

Question Key Details :

Key	Value
Comprehension	MCQ

Which of the following is **not** a limitation of controlling ?

- (1) Costly affair
- (2) Restriction in Managerial development
- (3) Little control on external factors
- (4) Difficulty in setting qualitative standards

Options :

212807114489. 1
212807114490. 2
212807114491. 3
212807114492. 4

Question Number : 118 Question Id : 21280728623 Question Type : MCQ Option Shuffling : No Is Question Mandatory : No Calculator : None Response Time : N.A Think Time : N.A Minimum Instruction Time : 0

Correct Marks : 5 Wrong Marks : 1

Question Key Details :

Key	Value
Comprehension	MCQ

निम्नलिखित में से कौन सा नियंत्रण की सीमा नहीं है ?

- (1) खर्चीली प्रक्रिया
- (2) प्रबंधकीय विकास में प्रतिबंध
- (3) बाहरी कारणों पर अल्प नियंत्रण
- (4) गुणवत्तापरक मानदण्डों की स्थापना में कठिनाई

Options :

212807114489. 1
212807114490. 2
212807114491. 3

Question Number : 119 Question Id : 21280728624 Question Type : MCQ Option Shuffling : No Is Question Mandatory : No Calculator : None
Response Time : N.A Think Time : N.A Minimum Instruction Time : 0

Correct Marks : 5 Wrong Marks : 1

Question Key Details :

Key	Value
Comprehension	MCQ

Which of the following is a modern technique of controlling ?

- (1) Personal Observation
- (2) Statistical Reports
- (3) PERT and CPM
- (4) Breakeven Analysis

Options :

212807114493. 1
212807114494. 2
212807114495. 3
212807114496. 4

Question Number : 119 Question Id : 21280728624 Question Type : MCQ Option Shuffling : No Is Question Mandatory : No Calculator : None
Response Time : N.A Think Time : N.A Minimum Instruction Time : 0

Correct Marks : 5 Wrong Marks : 1

Question Key Details :

Key	Value
Comprehension	MCQ

निम्नलिखित में से कौन सी नियंत्रण की आधुनिक तकनीक है ?

- (1) व्यक्तिगत प्रेक्षण
- (2) सांख्यिकीय प्रतिवेदन
- (3) पीईआरटी और सीपीएम
- (4) लाभ-अलाभ विश्लेषण

Options :

212807114493. 1
212807114494. 2
212807114495. 3
212807114496. 4

Question Number : 120 Question Id : 21280728625 Question Type : MCQ Option Shuffling : No Is Question Mandatory : No Calculator : None
Response Time : N.A Think Time : N.A Minimum Instruction Time : 0

Correct Marks : 5 Wrong Marks : 1

Question Key Details :

Key	Value
Comprehension	MCQ

Identify the channel of distribution from following in case the producer sell the products himself to customers.

- (1) One Level
- (2) Zero Level
- (3) Three Level
- (4) Two Level

Options :

212807114497. 1

212807114498. 2
212807114499. 3
212807114500. 4

Question Number : 120 Question Id : 21280728625 Question Type : MCQ Option Shuffling : No Is Question Mandatory : No Calculator : None
Response Time : N.A Think Time : N.A Minimum Instruction Time : 0

Correct Marks : 5 Wrong Marks : 1

Question Key Details :

Key	Value
Comprehension	MCQ

निम्नलिखित में से उस संबंध में वितरण के माध्यम की पहचान कीजिए जब उत्पादक उत्पादों को स्वयं ग्राहकों को बेचता हो।

- (1) एक स्तर
- (2) शून्य स्तर
- (3) तीन स्तर
- (4) दो स्तर

Options :

212807114497. 1
212807114498. 2
212807114499. 3
212807114500. 4

Question Number : 121 Question Id : 21280728626 Question Type : MCQ Option Shuffling : No Is Question Mandatory : No Calculator : None
Response Time : N.A Think Time : N.A Minimum Instruction Time : 0

Correct Marks : 5 Wrong Marks : 1

Question Key Details :

Key	Value
Comprehension	MCQ

Which of the following statement about Marketing is Correct ?

- (1) It works through Exchange Mechanism
- (2) Market offering only refers to price of the product
- (3) Ideas cannot be marketed
- (4) The job of marketing is just to sell the product

Options :

212807114501. 1
212807114502. 2
212807114503. 3
212807114504. 4

Question Number : 121 Question Id : 21280728626 Question Type : MCQ Option Shuffling : No Is Question Mandatory : No Calculator : None
Response Time : N.A Think Time : N.A Minimum Instruction Time : 0

Correct Marks : 5 Wrong Marks : 1

Question Key Details :

Key	Value
Comprehension	MCQ

विपणन (मार्केटिंग) के संबंध में निम्नलिखित में से कौन-सा कथन सही है?

- (1) यह विनिमय क्रियाविधि द्वारा कार्य करता है।
- (2) प्रदान करने वाले बाजार केवल उत्पाद के मूल्य से संदर्भित होते हैं।
- (3) विचारों के विपणनीकृत नहीं किया जा सकता है।
- (4) विपणन का कार्य मात्र उत्पाद की बिक्री करना है।

Options :

212807114501. 1
212807114502. 2
212807114503. 3
212807114504. 4

Question Number : 122 Question Id : 21280728627 Question Type : MCQ Option Shuffling : No Is Question Mandatory : No Calculator : None Response Time : N.A Think Time : N.A Minimum Instruction Time : 0

Correct Marks : 5 Wrong Marks : 1

Question Key Details :

Key	Value
Comprehension	MCQ

Which type of communication flows through the official channels designed in the organisation chart ?

- (1) Grapevine Communication
- (2) Formal Communication
- (3) Informal Communication
- (4) Indirect Communication

Options :

212807114505. 1
212807114506. 2
212807114507. 3
212807114508. 4

Question Number : 122 Question Id : 21280728627 Question Type : MCQ Option Shuffling : No Is Question Mandatory : No Calculator : None Response Time : N.A Think Time : N.A Minimum Instruction Time : 0

Correct Marks : 5 Wrong Marks : 1

Question Key Details :

Key	Value
Comprehension	MCQ

किस प्रकार का संप्रेषण संगठन तालिका में अभिविहित कार्यालयी माध्यमों द्वारा प्रवाहित होता है ?

- (1) ग्रेपवाइन संप्रेषण (Grapevine)
- (2) अपचारिक संप्रेषण
- (3) अनौपचारिक संप्रेषण
- (4) अप्रत्यक्ष संप्रेषण

Options :

212807114505. 1
212807114506. 2
212807114507. 3
212807114508. 4

Question Number : 123 Question Id : 21280728628 Question Type : MCQ Option Shuffling : No Is Question Mandatory : No Calculator : None Response Time : N.A Think Time : N.A Minimum Instruction Time : 0

Correct Marks : 5 Wrong Marks : 1

Question Key Details :

Key	Value
Comprehension	MCQ

'Through proper feedback, the managers should ensure that a subordinate understands his instructions clearly'. Which principle of directing states this ?

- (1) Harmony of objectives
- (2) Use of informal organisation
- (3) Maximum individual contribution
- (4) Managerial communication

Options :

- 212807114509. 1
- 212807114510. 2
- 212807114511. 3
- 212807114512. 4

Question Number : 123 Question Id : 21280728628 Question Type : MCQ Option Shuffling : No Is Question Mandatory : No Calculator : None Response Time : N.A Think Time : N.A Minimum Instruction Time : 0

Correct Marks : 5 Wrong Marks : 1

Question Key Details :

Key	Value
Comprehension	MCQ

“उचित प्रतिपुष्टि द्वारा, प्रबंधकों को सुनिश्चित करना चाहिए कि अधीनस्थ उनके अनुदेशों को स्पष्ट रूप से समझे”। निर्देशन कौन सा सिद्धांत यह परिलक्षित करता है ?

- (1) उद्देश्यों की सुसंगतता
- (2) अनौपचारिक संगठन का उपयोग
- (3) अधिकतम व्यक्तिगत योगदान
- (4) प्रबंधकीय संप्रेषण

Options :

- 212807114509. 1
- 212807114510. 2
- 212807114511. 3
- 212807114512. 4

Question Number : 124 Question Id : 21280728629 Question Type : MCQ Option Shuffling : No Is Question Mandatory : No Calculator : None Response Time : N.A Think Time : N.A Minimum Instruction Time : 0

Correct Marks : 5 Wrong Marks : 1

Question Key Details :

Key	Value
Comprehension	MCQ

Which statement is not correct with respect to filing of complaints before the appropriate consumer forum ?

- (1) Any consumer can file a complaint on his or her own
- (2) The seller can file a complaint on behalf of aggrieved consumer
- (3) The legal representative of the deceased consumer can file complaint
- (4) Any registered consumer association can file complaint

Options :

- 212807114513. 1
- 212807114514. 2

212807114515.3
212807114516.4

Question Number : 124 Question Id : 21280728629 Question Type : MCQ Option Shuffling : No Is Question Mandatory : No Calculator : None
Response Time : N.A Think Time : N.A Minimum Instruction Time : 0
Correct Marks : 5 Wrong Marks : 1

Question Key Details :

Key	Value
Comprehension	MCQ

उचित उपभोक्ता मंच के समक्ष शिकायत दायर करने के संबंध निम्नलिखित में से असत्य कथन है ?

- (1) कोई भी उपभोक्ता स्वयं शिकायत दायर कर सकता है।
- (2) विक्रेता किसी अंसतुष्ट उपभोक्ता की ओर से शिकायत दायर कर सकता है।
- (3) मृत उपभोक्ता का विधिक प्रतिनिधि शिकायत दायर कर सकता है।
- (4) कोई भी पंजीकृत उपभोक्ता संघ शिकायत दायर कर सकता है।

Options :

212807114513.1
212807114514.2
212807114515.3
212807114516.4

Question Number : 125 Question Id : 21280728630 Question Type : MCQ Option Shuffling : No Is Question Mandatory : No Calculator : None
Response Time : N.A Think Time : N.A Minimum Instruction Time : 0
Correct Marks : 5 Wrong Marks : 1

Question Key Details :

Key	Value
Comprehension	MCQ

Name the Redressal Agency under Consumer Protection Act, 2019 when the compensation claimed does not exceed ₹ 1 crore ?

- (1) District Commission
- (2) State Commission
- (3) National Commission
- (4) Supreme Court

Options :

212807114517.1
212807114518.2
212807114519.3
212807114520.4

Question Number : 125 Question Id : 21280728630 Question Type : MCQ Option Shuffling : No Is Question Mandatory : No Calculator : None
Response Time : N.A Think Time : N.A Minimum Instruction Time : 0
Correct Marks : 5 Wrong Marks : 1

Question Key Details :

Key	Value
Comprehension	MCQ

जब दावा किया गया मुआवजा एक करोड़ रुपये से अधिक नहीं हो तो उपभोक्ता संरक्षण अधिनियम, 2019 के अंतर्गत किस शिकायत समाधान निकाय से संपर्क किया जाना चाहिए?

- (1) जिला आयोग
- (2) राज्य आयोग
- (3) राष्ट्रीय आयोग
- (4) उच्चतम न्यायालय

Options :

212807114517. 1
212807114518. 2
212807114519. 3
212807114520. 4

Question Number : 126 Question Id : 21280728631 Question Type : MCQ Option Shuffling : No Is Question Mandatory : No Calculator : None Response Time : N.A Think Time : N.A Minimum Instruction Time : 0

Correct Marks : 5 Wrong Marks : 1

Question Key Details :

Key	Value
Comprehension	MCQ

If this principle of management is violated then, authority is undermined, discipline is in jeopardy, order disturbed and stability is threatened. Identify the principle of management.

- (1) Order
- (2) Discipline
- (3) Unity of Command
- (4) Unity of Direction

Options :

212807114521. 1
212807114522. 2
212807114523. 3
212807114524. 4

Question Number : 126 Question Id : 21280728631 Question Type : MCQ Option Shuffling : No Is Question Mandatory : No Calculator : None Response Time : N.A Think Time : N.A Minimum Instruction Time : 0

Correct Marks : 5 Wrong Marks : 1

Question Key Details :

Key	Value
Comprehension	MCQ

यदि इस प्रबंध के सिद्धांत का उल्लंघन होता है तब अधिकार प्रभावहीन हो जाता है, अनुशासन संकट में आ जाता है। आदेश में व्यावधान पड़ जाता है तथा स्थायित्व को खतरा हो जाता है। प्रबंध के सिद्धांत की पहचान कीजिए।

- (1) व्यवस्था
- (2) अनुशासन
- (3) आदेश की एकता
- (4) निर्देश की एकता

Options :

212807114521. 1
212807114522. 2
212807114523. 3
212807114524. 4

Question Number : 127 Question Id : 21280728632 Question Type : MCQ Option Shuffling : No Is Question Mandatory : No Calculator : None
Response Time : N.A Think Time : N.A Minimum Instruction Time : 0

Correct Marks : 5 Wrong Marks : 1

Question Key Details :

Key	Value
Comprehension	MCQ

XY Ltd. wanted to launch a new product line. For this, they invested huge amounts of money on research and development programme. Identify type of financial decision highlighted above.

- (1) Financing decision
- (2) Working Capital decision
- (3) Capital budgeting decision
- (4) Dividend decision

Options :

- 212807114525. 1
- 212807114526. 2
- 212807114527. 3
- 212807114528. 4

Question Number : 127 Question Id : 21280728632 Question Type : MCQ Option Shuffling : No Is Question Mandatory : No Calculator : None
Response Time : N.A Think Time : N.A Minimum Instruction Time : 0

Correct Marks : 5 Wrong Marks : 1

Question Key Details :

Key	Value
Comprehension	MCQ

एसवाई लिमिटेड एक नई उत्पाद पंक्ति शुरू करना चाहती थी। इस प्रयोजनार्थ, उन्होंने शोध और विकास कार्यक्रम में विशाल धनराशि का निवेश किया। उपरोक्त में परिलक्षित वित्तीय निर्णय के प्रकार की पहचान करें।

- (1) वित्तीय निर्णय
- (2) कार्यशील पूंजी निर्णय
- (3) पूंजी बजटीय निर्णय
- (4) लाभांश निर्णय

Options :

- 212807114525. 1
- 212807114526. 2
- 212807114527. 3
- 212807114528. 4

Question Number : 128 Question Id : 21280728633 Question Type : MCQ Option Shuffling : No Is Question Mandatory : No Calculator : None
Response Time : N.A Think Time : N.A Minimum Instruction Time : 0

Correct Marks : 5 Wrong Marks : 1

Question Key Details :

Key	Value
Comprehension	MCQ

The Consumer has a right to acquire knowledge and information regarding the consumer rights and responsibilities and reliefs available under the Consumer Protection Act, 2019. Identify the consumer right highlighted in the above statement ?

- (1) Right to be Heard
- (2) Right to Consumer Education/ Awareness
- (3) Right to be Informed
- (4) Right to Safety

Options :

212807114529. 1
212807114530. 2
212807114531. 3
212807114532. 4

Question Number : 128 Question Id : 21280728633 Question Type : MCQ Option Shuffling : No Is Question Mandatory : No Calculator : None Response Time : N.A Think Time : N.A Minimum Instruction Time : 0

Correct Marks : 5 Wrong Marks : 1

Question Key Details :

Key	Value
Comprehension	MCQ

उपभोक्ता संरक्षण अधिनियम, 2019 क अंतर्गत उपलब्ध उपभोक्ता अधिकारों और उत्तरदायित्वों तथा राहतों के संबंध में उपभोक्ता को ज्ञान और सूचना अर्जित करने के अधिकार है। उपरोक्त कथन है परिलक्षित उपभोक्ता अधिकार की पहचान करें।

- (1) सुनवाई का अधिकार
- (2) उपभोक्ता शिक्षा का अधिकार
- (3) सूचना का अधिकार
- (4) सुरक्षा का अधिकार

Options :

212807114529. 1
212807114530. 2
212807114531. 3
212807114532. 4

Question Number : 129 Question Id : 21280728634 Question Type : MCQ Option Shuffling : No Is Question Mandatory : No Calculator : None Response Time : N.A Think Time : N.A Minimum Instruction Time : 0

Correct Marks : 5 Wrong Marks : 1

Question Key Details :

Key	Value
Comprehension	MCQ

Which of the following information is generally not available on the label of a consumer durable product ?

- (1) Promotional message as tag line of the product
- (2) Statutory Warning
- (3) Detailed manufacturing process, step by step
- (4) Manufacturing and expiry date of the product

Options :

212807114533. 1
212807114534. 2
212807114535. 3
212807114536. 4

Question Number : 129 Question Id : 21280728634 Question Type : MCQ Option Shuffling : No Is Question Mandatory : No Calculator : None
Response Time : N.A Think Time : N.A Minimum Instruction Time : 0

Correct Marks : 5 Wrong Marks : 1

Question Key Details :

Key	Value
Comprehension	MCQ

निम्नलिखित में से कौनसी सूचना टिक्कड़ उपभोक्ता वस्तुओं के लेबल पर सामान्यतया उपलब्ध नहीं होती है ?

- (1) वस्तु की टैग लाइन के रूप में प्रचार संदेश
- (2) सांविधिक चेतावनी
- (3) चरण दर-चरण विस्तृत निर्माण प्रक्रिया
- (4) उत्पाद की निर्माण और समाप्ति तिथि

Options :

212807114533. 1

212807114534. 2

212807114535. 3

212807114536. 4

Question Number : 130 Question Id : 21280728635 Question Type : MCQ Option Shuffling : No Is Question Mandatory : No Calculator : None
Response Time : N.A Think Time : N.A Minimum Instruction Time : 0

Correct Marks : 5 Wrong Marks : 1

Question Key Details :

Key	Value
Comprehension	MCQ

Mr. Yash started a pen manufacturing unit. On the basis of several observations, it is determined that standard time taken by the worker to make one pen is 10 minutes. So the standard production of 6 pens was determined per hour for a worker. Identify which of the following type of study helped Yash to arrive at standard production per hour.

- (1) Motion Study
- (2) Time Study
- (3) Fatigue Study
- (4) Method Study

Options :

212807114537. 1

212807114538. 2

212807114539. 3

212807114540. 4

Question Number : 130 Question Id : 21280728635 Question Type : MCQ Option Shuffling : No Is Question Mandatory : No Calculator : None
Response Time : N.A Think Time : N.A Minimum Instruction Time : 0

Correct Marks : 5 Wrong Marks : 1

Question Key Details :

Key	Value
Comprehension	MCQ

श्रीमान यश ने कलम बनाने वाली एक इकाई की शुरुआत की। कई प्रेक्षणों के आधार पर यह निर्धारित किया गया कि श्रमिक द्वारा एक कलम को बनाने में लगने वाला समय दस मिनट है। अतः एक श्रमिक के लिए 6 कलमों का मानक उत्पादन प्रति घंटा निर्धारित किया गया।

पहचान कीजिए कि निम्नलिखित में से अध्ययन का कौन-सा प्रकार प्रति घंटा मानक उत्पादन प्राप्त करने के लिए यश की सहायता करेगा ?

- (1) गति अध्ययन
- (2) समय अध्ययन
- (3) श्रमकान अध्ययन
- (4) कार्य पद्धति अध्ययन

Options :

212807114537. 1
212807114538. 2
212807114539. 3
212807114540. 4

Question Number : 131 Question Id : 21280728636 Question Type : MCQ Option Shuffling : No Is Question Mandatory : No Calculator : None Response Time : N.A Think Time : N.A Minimum Instruction Time : 0

Correct Marks : 5 Wrong Marks : 1

Question Key Details :

Key	Value
Comprehension	MCQ

Which tax is payable by companies when dividends are declared by them ?

- (1) Dividend declaration tax
- (2) Dividend distribution tax
- (3) Income tax
- (4) Capital Gains tax

Options :

212807114541. 1
212807114542. 2
212807114543. 3
212807114544. 4

Question Number : 131 Question Id : 21280728636 Question Type : MCQ Option Shuffling : No Is Question Mandatory : No Calculator : None Response Time : N.A Think Time : N.A Minimum Instruction Time : 0

Correct Marks : 5 Wrong Marks : 1

Question Key Details :

Key	Value
Comprehension	MCQ

जब लाभांशों की घोषणा की जाती है, तब कंपनियों द्वारा कौनसा कर देय होता है ?

- (1) लाभांश घोषणा कर
- (2) लाभांश वितरण कर
- (3) आयकर
- (4) पूंजीगत लाभ कर

Options :

212807114541. 1
212807114542. 2

212807114543. 3
212807114544. 4

Question Number : 132 Question Id : 21280728637 Question Type : MCQ Option Shuffling : No Is Question Mandatory : No Calculator : None
Response Time : N.A Think Time : N.A Minimum Instruction Time : 0
Correct Marks : 5 Wrong Marks : 1

Question Key Details :

Key	Value
Comprehension	MCQ

“A plan which provides the prescribed ways or manner in which a task has to be performed”.
Identify the type of plan explained in the above statement.

- (1) Procedure
- (2) Programme
- (3) Method
- (4) Rule

Options :

212807114545. 1
212807114546. 2
212807114547. 3
212807114548. 4

Question Number : 132 Question Id : 21280728637 Question Type : MCQ Option Shuffling : No Is Question Mandatory : No Calculator : None
Response Time : N.A Think Time : N.A Minimum Instruction Time : 0
Correct Marks : 5 Wrong Marks : 1

Question Key Details :

Key	Value
Comprehension	MCQ

“कोई योजना जो ऐसे निर्धारित उपाय या तरीके प्रदान करती है जिसमें किसी कार्य का निष्पादन किया जाना होता है।”
उपर्युक्त कथन में वर्णित योजना के प्रकार को पहचान कीजिए।

- (1) प्रक्रिया
- (2) कार्यक्रम
- (3) विधि
- (4) नियम

Options :

212807114545. 1
212807114546. 2
212807114547. 3
212807114548. 4

Question Number : 133 Question Id : 21280728638 Question Type : MCQ Option Shuffling : No Is Question Mandatory : No Calculator : None
Response Time : N.A Think Time : N.A Minimum Instruction Time : 0
Correct Marks : 5 Wrong Marks : 1

Question Key Details :

Key	Value
Comprehension	MCQ

Neerja Confectioneries Ltd. provides its customers world class services along with their authentic home made cookies and cakes, made after taking into consideration the tastes and preferences of customers. It also pack its products in environment friendly disposables.

Identify the marketing philosophy adopted by Neerja Confectioneries Ltd.

- (1) Product Concept
- (2) Selling Concept
- (3) Societal Marketing Concept
- (4) Production Concept

Options :

212807114549. 1
212807114550. 2
212807114551. 3
212807114552. 4

Question Number : 133 Question Id : 21280728638 Question Type : MCQ Option Shuffling : No Is Question Mandatory : No Calculator : None Response Time : N.A Think Time : N.A Minimum Instruction Time : 0

Correct Marks : 5 Wrong Marks : 1

Question Key Details :

Key	Value
Comprehension	MCQ

नीरजा कॉन्फेक्शनरीज़ लिमिटेड अपने ग्राहकों को विश्वस्तरीय सेवाएं प्रदान करने के साथ-साथ ग्राहकों के स्वाद तथा वरीयता पर विचार-विमर्श करने के बाद अपनी विश्वसनीय गृह निर्मित कुकीज़ और केक बनाता है।

यह अपने उत्पादों को पर्यावरण मैत्रीपूर्ण निस्तारणीय डिब्बों में पैक करती है।

नीरजा कॉन्फेक्शनरीज़ लिमिटेड द्वारा स्वीकृत विपणन दर्शन की पहचान कीजिए।

- (1) उत्पाद अवधारणा
- (2) विक्रय अवधारणा
- (3) समाज विपणन अवधारणा
- (4) उत्पादन अवधारणा

Options :

212807114549. 1
212807114550. 2
212807114551. 3
212807114552. 4

Question Number : 134 Question Id : 21280728639 Question Type : MCQ Option Shuffling : No Is Question Mandatory : No Calculator : None Response Time : N.A Think Time : N.A Minimum Instruction Time : 0

Correct Marks : 5 Wrong Marks : 1

Question Key Details :

Key	Value
Comprehension	MCQ

This step of staffing process requires the organisation to encourage woman and persons with special abilities to assume responsible positions in the organisations.

- (1) Estimating manpower requirement
- (2) Placement
- (3) Selection
- (4) Promotion and Career Planning

Options :

212807114553. 1
 212807114554. 2
 212807114555. 3
 212807114556. 4

Question Number : 134 Question Id : 21280728639 Question Type : MCQ Option Shuffling : No Is Question Mandatory : No Calculator : None Response Time : N.A Think Time : N.A Minimum Instruction Time : 0

Correct Marks : 5 Wrong Marks : 1

Question Key Details :

Key	Value
Comprehension	MCQ

नियुक्तिकरण प्रक्रिया के इस चरण में संगठनों में उत्तरदायी पदों पर जिम्मेदारी संभालने के लिए महिलाओं और विशेष योग्यजनों को प्रोत्साहित करना आवश्यक है, पहचान करें।

- (1) मानवशक्ति आवश्यकता आकलन
- (2) नियोजन
- (3) चयन
- (4) पदोन्नति और कैरियर नियोजन

Options :

212807114553. 1
 212807114554. 2
 212807114555. 3
 212807114556. 4

Question Number : 135 Question Id : 21280728640 Question Type : MCQ Option Shuffling : No Is Question Mandatory : No Calculator : None Response Time : N.A Think Time : N.A Minimum Instruction Time : 0

Correct Marks : 5 Wrong Marks : 1

Question Key Details :

Key	Value
Comprehension	MCQ

Rakesh is a conductor of a truck. The driver of the truck is Rohan. While transporting goods Rohan tells Rakesh to drive the truck at night as the traffic and traffic police are less. This helps Rakesh to learn driving so that one day Rakesh can also become a truck driver. Identify the method of training received by Rakesh ?

- (1) Internship Training
- (2) Vestibule Training
- (3) Apprenticeship Training
- (4) Induction Training

Options :

212807114557. 1
 212807114558. 2
 212807114559. 3
 212807114560. 4

Question Number : 135 Question Id : 21280728640 Question Type : MCQ Option Shuffling : No Is Question Mandatory : No Calculator : None Response Time : N.A Think Time : N.A Minimum Instruction Time : 0

Correct Marks : 5 Wrong Marks : 1

Question Key Details :

Key	Value
Comprehension	MCQ

राकेश किसी ट्रक का परिचालक है। ट्रक का ड्राइवर रोहन है। वस्तुओं का परिवहन करते समय रोहन, रात में राकेश से ट्रक चलाने को कहता है क्योंकि रात में यातायात और यातायात पुलिस कम होती है। इससे राकेश को ट्रक चलाना सीखने में सहायता मिलेगी और एक दिन राकेश भी ट्रक ड्राइवर बन सकेगा। राकेश द्वारा प्राप्त प्रशिक्षण का प्रकार चिन्हित करें ?

- (1) प्रशिक्षुता प्रशिक्षण
- (2) प्रकोष्ठीय प्रशिक्षण
- (3) कार्यस्थलीय प्रशिक्षुता प्रशिक्षण
- (4) प्रवेश प्रशिक्षण

Options :

212807114557. 1
212807114558. 2
212807114559. 3
212807114560. 4

Question Number : 136 Question Id : 21280728641 Question Type : MCQ Option Shuffling : No Is Question Mandatory : No Calculator : None Response Time : N.A Think Time : N.A Minimum Instruction Time : 0

Correct Marks : 5 Wrong Marks : 1

Question Key Details :

Key	Value
Comprehension	MCQ

Identify the element which is not a part of Social environment ?

- (1) Life expectancy
- (2) Constitution of the Country
- (3) Birth and death rate
- (4) Population Shift

Options :

212807114561. 1
212807114562. 2
212807114563. 3
212807114564. 4

Question Number : 136 Question Id : 21280728641 Question Type : MCQ Option Shuffling : No Is Question Mandatory : No Calculator : None Response Time : N.A Think Time : N.A Minimum Instruction Time : 0

Correct Marks : 5 Wrong Marks : 1

Question Key Details :

Key	Value
Comprehension	MCQ

उस तत्व को पहचान करें जो सामाजिक पर्यावरण का भाग नहीं है।

- (1) जीवन प्रत्याशा
- (2) देश का संविधान
- (3) जन्म और मृत्यु दर
- (4) जनसंख्या हस्तांतरण

Options :

212807114561. 1
212807114562. 2
212807114563. 3
212807114564. 4

Question Number : 137 Question Id : 21280728642 Question Type : MCQ Option Shuffling : No Is Question Mandatory : No Calculator : None
Response Time : N.A Think Time : N.A Minimum Instruction Time : 0

Correct Marks : 5 Wrong Marks : 1

Question Key Details :

Key	Value
Comprehension	MCQ

'He is responsible for timely and accurate completion of job'. Identify the specialist as per one of Taylor's Technique of Scientific Management, stated above.

- (1) Gang Boss
- (2) Time and Cost Clerk
- (3) Inspector
- (4) Speed Boss

Options :

- 212807114565. 1
- 212807114566. 2
- 212807114567. 3
- 212807114568. 4

Question Number : 137 Question Id : 21280728642 Question Type : MCQ Option Shuffling : No Is Question Mandatory : No Calculator : None
Response Time : N.A Think Time : N.A Minimum Instruction Time : 0

Correct Marks : 5 Wrong Marks : 1

Question Key Details :

Key	Value
Comprehension	MCQ

'वह कार्य को समय पर पूर्ण करने के लिए उत्तरदायी है।' उपरोक्त में व्यक्त विशेषता की टेलर की वैज्ञानिक प्रबंधन तकनीक के अनुसार पहचान करें।

- (1) टोली नायक
- (2) समय और लागत क्लर्क
- (3) निरीक्षक
- (4) गति नायक

Options :

- 212807114565. 1
- 212807114566. 2
- 212807114567. 3
- 212807114568. 4

Question Number : 138 Question Id : 21280728643 Question Type : MCQ Option Shuffling : No Is Question Mandatory : No Calculator : None
Response Time : N.A Think Time : N.A Minimum Instruction Time : 0

Correct Marks : 5 Wrong Marks : 1

Question Key Details :

Key	Value
Comprehension	MCQ

As a result of delegation, employees get more opportunities to utilize their talent and this may give rise to latent abilities in them. Identify the importance of delegation highlighted in the above statement.

- (1) Effective Management
- (2) Facilitation of growth
- (3) Motivation of employees
- (4) Employee development

Options :

212807114569. 1
 212807114570. 2
 212807114571. 3
 212807114572. 4

Question Number : 138 Question Id : 21280728643 Question Type : MCQ Option Shuffling : No Is Question Mandatory : No Calculator : None Response Time : N.A Think Time : N.A Minimum Instruction Time : 0

Correct Marks : 5 Wrong Marks : 1

Question Key Details :

Key	Value
Comprehension	MCQ

प्रत्यायोजन के परिणामस्वरूप, कर्मचारियों को अपनी प्रतिभा का उपयोग करने के लिए अधिक अवसर मिलते हैं और इससे उनकी सुषुप्त प्रतिभाओं का उदय हो सकता है। उपरोक्त कथन में परिलक्षित प्रत्यायोजन की महत्व की पहचान करें।

- (1) प्रभावशील प्रबंधन
- (2) संवृद्धि का सुगमीकरण
- (3) कर्मचारियों को अभिप्रेरणा
- (4) कर्मचारी विकास

Options :

212807114569. 1
 212807114570. 2
 212807114571. 3
 212807114572. 4

Question Number : 139 Question Id : 21280728644 Question Type : MCQ Option Shuffling : No Is Question Mandatory : No Calculator : None Response Time : N.A Think Time : N.A Minimum Instruction Time : 0

Correct Marks : 5 Wrong Marks : 1

Question Key Details :

Key	Value
Comprehension	MCQ

Kanan is working in StarPro Ltd. He ensures that his department has necessary workforce and he co-operates with other departments for smooth functioning of the organisation. At which level Kanan is working ?

- (1) Top
- (2) Supervisory
- (3) Middle
- (4) Operational

Options :

212807114573. 1
 212807114574. 2
 212807114575. 3
 212807114576. 4

Question Number : 139 Question Id : 21280728644 Question Type : MCQ Option Shuffling : No Is Question Mandatory : No Calculator : None Response Time : N.A Think Time : N.A Minimum Instruction Time : 0

Correct Marks : 5 Wrong Marks : 1

Question Key Details :

Key	Value
Comprehension	MCQ

कानन स्टारप्रो लिमिटेड में कार्यरत है। वह सुनिश्चित करता है कि उसके विभाग में जरूरी कार्यबल हो और वह संगठन में सुगम कार्यकरण के लिए अन्य विभागों से सहयोग करता है। कानन किस स्तर पर कार्यरत है ?

- (1) उच्च
- (2) पर्यवेक्षण
- (3) मध्यम
- (4) प्रचालन

Options :

212807114573. 1
212807114574. 2
212807114575. 3
212807114576. 4

Question Number : 140 Question Id : 21280728645 Question Type : MCQ Option Shuffling : No Is Question Mandatory : No Calculator : None Response Time : N.A Think Time : N.A Minimum Instruction Time : 0

Correct Marks : 5 Wrong Marks : 1

Question Key Details :

Key	Value
Comprehension	MCQ

Identify the characteristic of entrepreneurship from the following ?

- (1) Risk taking
- (2) Relative
- (3) Interrelatedness
- (4) Contingent

Options :

212807114577. 1
212807114578. 2
212807114579. 3
212807114580. 4

Question Number : 140 Question Id : 21280728645 Question Type : MCQ Option Shuffling : No Is Question Mandatory : No Calculator : None Response Time : N.A Think Time : N.A Minimum Instruction Time : 0

Correct Marks : 5 Wrong Marks : 1

Question Key Details :

Key	Value
Comprehension	MCQ

निम्नलिखित में से उद्यमशीलता की विशेषता की पहचान करें ?

- (1) जोखिम लेना
- (2) सापेक्षिक
- (3) अंतरसंबंधता
- (4) आपातिक

Options :

212807114577. 1
212807114578. 2
212807114579. 3
212807114580. 4

Sub-Section Number :

2

Sub-Section Id :

2128072086

Question Shuffling Allowed :

No

Is Section Default? :

null

Question Number : 141 Question Id : 21280728646 Question Type : MCQ Option Shuffling : No Is Question Mandatory : No Calculator : None
Response Time : N.A Think Time : N.A Minimum Instruction Time : 0

Correct Marks : 5 Wrong Marks : 1

Question Key Details :

Key	Value
Comprehension	Compl

Read the following Case Study and answer, question

Aryan is a CEO of RS Infotech Ltd., which is a company working in the technology sector for the last 55 years. The company is doing very well in this sector and now has a growth plan of entering into cosmetics market.

Keeping in view the changing tastes and preferences of customers, it is planning to enter organic products market.

The company targets to achieve 20% of market share in the first 2 years of its entry.

For financial issues, Aryan consulted his chief finance officer, Raj and found that it requires 50 crores of additional capital for setting up a separate cosmetics division.

The Company plans to arrange this money by issuing equity shares in the market but it lacks sufficient cash to bear the floatation cost and hence planned to approach the financial market for the same.

Identify the type of organisation structure required by RS Infotech.

- (1) Informal Organisation
- (2) Formal Organisation
- (3) Functional Organisation Structure
- (4) Divisional Organisation Structure

Options :

212807114581. 1

212807114582. 2

212807114583. 3

212807114584. 4

Question Number : 141 Question Id : 21280728646 Question Type : MCQ Option Shuffling : No Is Question Mandatory : No Calculator : None
Response Time : N.A Think Time : N.A Minimum Instruction Time : 0

Correct Marks : 5 Wrong Marks : 1

Question Key Details :

Key	Value
Comprehension	Compl

प्रकरण अध्ययन केस स्टडी

आर्यन आरएस इंफोटेक लिमिटेड के सीईओ हैं, जो पिछले 55 वर्षों से तकनीकी क्षेत्र में कार्यरत कंपनी है। कंपनी इस क्षेत्र में बहुत अच्छा कार्य कर रहा है और अब प्रसाधन बाजार में प्रवेश करने की विकास योजना पर कार्यरत है।

ग्राहकों के बदलते स्वाद और प्राथमिकताओं को ध्यान में रखते हुए यह जैविक उत्पाद बाजार में प्रवेश की योजना बना रही है।

कंपनी अपने प्रवेश के बाद पहले दो वर्षों 20% बाजार हिस्सा प्राप्त करने का लक्ष्य रख रही है।

वित्तीय मामलों के लिए आर्यन ने अपने प्रमुख वित्त अधिकारी राज से परामर्श किया और पाया कि इसे अलग प्रसाधन इकाई स्थापित करने के लिए 50 करोड़ रुपये की अतिरिक्त पूंजी की आवश्यकता है।

कंपनी बाजार में इक्विटी शेयर जारी करके धन जुटाने की योजना बना रही है किन्तु प्लवन लागत वहन करने के लिए इसके पास पर्याप्त नकदी नहीं है और इसलिए इसने इस हेतु वित्तीय बाजार को एप्रोच करने का निर्णय लिया है।

आरएस इंफोटेक को किस प्रकार की संगठन संरचना की आवश्यकता है, पहचान करें।

- (1) अनौपचारिक संगठन
- (2) औपचारिक संगठन
- (3) कार्यात्मक संगठन संरचना
- (4) प्रभागीय संगठन संरचना

Options :

212807114581. 1
212807114582. 2
212807114583. 3
212807114584. 4

Question Number : 142 Question Id : 21280728647 Question Type : MCQ Option Shuffling : No Is Question Mandatory : No Calculator : None
Response Time : N.A Think Time : N.A Minimum Instruction Time : 0

Correct Marks : 5 Wrong Marks : 1

Question Key Details :

Key	Value
Comprehension	Compl

Read the following Case Study and answer, question

Aryan is a CEO of RS Infotech Ltd., which is a company working in the technology sector for the last 55 years. The company is doing very well in this sector and now has a growth plan of entering into cosmetics market.

Keeping in view the changing tastes and preferences of customers, it is planning to enter organic products market.

The company targets to achieve 20% of market share in the first 2 years of its entry.

For financial issues, Aryan consulted his chief finance officer, Raj and found that it requires 50 crores of additional capital for setting up a separate cosmetics division.

The Company plans to arrange this money by issuing equity shares in the market but it lacks sufficient cash to bear the floatation cost and hence planned to approach the financial market for the same.

To which level of management, Aryan and Raj belongs to ?

- (1) Top level
- (2) Middle level
- (3) Lower level
- (4) Operational level

Options :

- 212807114585. 1
- 212807114586. 2
- 212807114587. 3
- 212807114588. 4

Question Number : 142 Question Id : 21280728647 Question Type : MCQ Option Shuffling : No Is Question Mandatory : No Calculator : None Response Time : N.A Think Time : N.A Minimum Instruction Time : 0

Correct Marks : 5 Wrong Marks : 1

Question Key Details :

Key	Value
Comprehension	Compl

प्रकरण अध्ययन केस स्टडी

आर्यन आरएस इंफोटेक लिमिटेड के सीईओ हैं, जो पिछले 55 वर्षों से तकनीकी क्षेत्र में कार्यरत कंपनी है। कंपनी इस क्षेत्र में बहुत अच्छा कार्य कर रहा है और अब प्रसाधन बाजार में प्रवेश करने की विकास योजना पर कार्यरत है।

ग्राहकों के बदलते स्वाद और प्राथमिकताओं को ध्यान में रखते हुए यह जैविक उत्पाद बाजार में प्रवेश की योजना बना रही है।

कंपनी अपने प्रवेश के बाद पहले दो वर्षों 20% बाजार हिस्सा प्राप्त करने का लक्ष्य रख रही है।

वित्तीय मामलों के लिए आर्यन ने अपने प्रमुख वित्त अधिकारी राज से परामर्श किया और पाया कि इसे अलग प्रसाधन इकाई स्थापित करने के लिए 50 करोड़ रुपये की अतिरिक्त पूंजी की आवश्यकता है।

कंपनी बाजार में इक्विटी शेयर जारी करके धन जुटाने की योजना बना रही है किन्तु प्लवन लागत वहन करने के लिए इसके पास पर्याप्त नकदी नहीं है और इसलिए इसने इस हेतु वित्तीय बाजार को एप्रोच करने का निर्णय लिया है।

आर्यन और राज, प्रबंधन के किस स्तर से संबंधित हैं?

- (1) उच्च स्तर
- (2) मध्य स्तर
- (3) निम्न स्तर
- (4) प्रचालन स्तर

Options :

212807114585. 1
212807114586. 2
212807114587. 3
212807114588. 4

Question Number : 143 Question Id : 21280728648 Question Type : MCQ Option Shuffling : No Is Question Mandatory : No Calculator : None
Response Time : N.A Think Time : N.A Minimum Instruction Time : 0

Correct Marks : 5 Wrong Marks : 1

Question Key Details :

Key	Value
Comprehension	Compl

Read the following Case Study and answer, question

Aryan is a CEO of RS Infotech Ltd., which is a company working in the technology sector for the last 55 years. The company is doing very well in this sector and now has a growth plan of entering into cosmetics market.

Keeping in view the changing tastes and preferences of customers, it is planning to enter organic products market.

The company targets to achieve 20% of market share in the first 2 years of its entry.

For financial issues, Aryan consulted his chief finance officer, Raj and found that it requires 50 crores of additional capital for setting up a separate cosmetics division.

The Company plans to arrange this money by issuing equity shares in the market but it lacks sufficient cash to bear the floatation cost and hence planned to approach the financial market for the same.

Identify the feature of business environment that is highlighted in the case.

- (1) Complexity
- (2) Dynamic
- (3) Relativity
- (4) Interrelatedness

Options :

- 212807114589. 1
- 212807114590. 2
- 212807114591. 3
- 212807114592. 4

Question Number : 143 Question Id : 21280728648 Question Type : MCQ Option Shuffling : No Is Question Mandatory : No Calculator : None Response Time : N.A Think Time : N.A Minimum Instruction Time : 0

Correct Marks : 5 Wrong Marks : 1

Question Key Details :

Key	Value
Comprehension	Compl

प्रकरण अध्ययन केस स्टडी

आर्यन आरएस इंफोटेक लिमिटेड के सीईओ हैं, जो पिछले 55 वर्षों से तकनीकी क्षेत्र में कार्यरत कंपनी है। कंपनी इस क्षेत्र में बहुत अच्छा कार्य कर रहा है और अब प्रसाधन बाजार में प्रवेश करने की विकास योजना पर कार्यरत है।

ग्राहकों के बदलते स्वाद और प्राथमिकताओं को ध्यान में रखते हुए यह जैविक उत्पाद बाजार में प्रवेश की योजना बना रही है।

कंपनी अपने प्रवेश के बाद पहले दो वर्षों 20% बाजार हिस्सा प्राप्त करने का लक्ष्य रख रही है।

वित्तीय मामलों के लिए आर्यन ने अपने प्रमुख वित्त अधिकारी राज से परामर्श किया और पाया कि इसे अलग प्रसाधन इकाई स्थापित करने के लिए 50 करोड़ रुपये की अतिरिक्त पूंजी की आवश्यकता है।

कंपनी बाजार में इक्विटी शेयर जारी करके धन जुटाने की योजना बना रही है किन्तु प्लवन लागत वहन करने के लिए इसके पास पर्याप्त नकदी नहीं है और इसलिए इसने इस हेतु वित्तीय बाजार को एप्रोच करने का निर्णय लिया है।

उपरोक्त मामले में रेखांकित की गई व्यवसाय पर्यावरण की विशेषता की पहचान करें :

- (1) जटिलता
- (2) गतिशील
- (3) सापेक्षिक
- (4) अंतर्संबंधता

Options :

212807114589. 1
212807114590. 2
212807114591. 3
212807114592. 4

Question Number : 144 Question Id : 21280728649 Question Type : MCQ Option Shuffling : No Is Question Mandatory : No Calculator : None
Response Time : N.A Think Time : N.A Minimum Instruction Time : 0

Correct Marks : 5 Wrong Marks : 1

Question Key Details :

Key	Value
Comprehension	Compl

Read the following Case Study and answer, question

Aryan is a CEO of RS Infotech Ltd., which is a company working in the technology sector for the last 55 years. The company is doing very well in this sector and now has a growth plan of entering into cosmetics market.

Keeping in view the changing tastes and preferences of customers, it is planning to enter organic products market.

The company targets to achieve 20% of market share in the first 2 years of its entry.

For financial issues, Aryan consulted his chief finance officer, Raj and found that it requires 50 crores of additional capital for setting up a separate cosmetics division.

The Company plans to arrange this money by issuing equity shares in the market but it lacks sufficient cash to bear the floatation cost and hence planned to approach the financial market for the same.

Identify the step of planning process mentioned in the case.

- (1) Developing Premises
- (2) Follow up action
- (3) Identifying alternatives
- (4) Setting objectives

Options :

- 212807114593. 1
- 212807114594. 2
- 212807114595. 3
- 212807114596. 4

Question Number : 144 Question Id : 21280728649 Question Type : MCQ Option Shuffling : No Is Question Mandatory : No Calculator : None Response Time : N.A Think Time : N.A Minimum Instruction Time : 0

Correct Marks : 5 Wrong Marks : 1

Question Key Details :

Key	Value
Comprehension	Compl

प्रकरण अध्ययन केस स्टडी

आर्यन आरएस इंफोटेक लिमिटेड के सीईओ हैं, जो पिछले 55 वर्षों से तकनीकी क्षेत्र में कार्यरत कंपनी है। कंपनी इस क्षेत्र में बहुत अच्छा कार्य कर रहा है और अब प्रसाधन बाजार में प्रवेश करने की विकास योजना पर कार्यरत है।

ग्राहकों के बदलते स्वाद और प्राथमिकताओं को ध्यान में रखते हुए यह जैविक उत्पाद बाजार में प्रवेश की योजना बना रही है।

कंपनी अपने प्रवेश के बाद पहले दो वर्षों 20% बाजार हिस्सा प्राप्त करने का लक्ष्य रख रही है।

वित्तीय मामलों के लिए आर्यन ने अपने प्रमुख वित्त अधिकारी राज से परामर्श किया और पाया कि इसे अलग प्रसाधन इकाई स्थापित करने के लिए 50 करोड़ रुपये की अतिरिक्त पूंजी की आवश्यकता है।

कंपनी बाजार में इक्विटी शेयर जारी करके धन जुटाने की योजना बना रही है किन्तु प्लवन लागत वहन करने के लिए इसके पास पर्याप्त नकदी नहीं है और इसलिए इसने इस हेतु वित्तीय बाजार को एप्रोच करने का निर्णय लिया है।

उपरोक्त मामले में परिलक्षित नियोजन की प्रक्रिया के सोपान की पहचान करें :

- (1) आधार-वाम्स निर्माण
- (2) पश्चातवर्ती कार्रवाई
- (3) विकल्पों की पहचान
- (4) उद्देश्यों का निर्धारण

Options :

212807114593. 1
212807114594. 2
212807114595. 3
212807114596. 4

Question Number : 145 Question Id : 21280728650 Question Type : MCQ Option Shuffling : No Is Question Mandatory : No Calculator : None
Response Time : N.A Think Time : N.A Minimum Instruction Time : 0

Correct Marks : 5 Wrong Marks : 1

Question Key Details :

Key	Value
Comprehension	Compl

Read the following Case Study and answer, question

Aryan is a CEO of RS Infotech Ltd., which is a company working in the technology sector for the last 55 years. The company is doing very well in this sector and now has a growth plan of entering into cosmetics market.

Keeping in view the changing tastes and preferences of customers, it is planning to enter organic products market.

The company targets to achieve 20% of market share in the first 2 years of its entry.

For financial issues, Aryan consulted his chief finance officer, Raj and found that it requires 50 crores of additional capital for setting up a separate cosmetics division.

The Company plans to arrange this money by issuing equity shares in the market but it lacks sufficient cash to bear the floatation cost and hence planned to approach the financial market for the same.

When the company wants to issue new shares, which financial market it is going to approach ?

- (1) Capital Market
- (2) Money Market
- (3) Primary Market
- (4) Secondary Market

Options :

- 212807114597. 1
- 212807114598. 2
- 212807114599. 3
- 212807114600. 4

Question Number : 145 Question Id : 21280728650 Question Type : MCQ Option Shuffling : No Is Question Mandatory : No Calculator : None Response Time : N.A Think Time : N.A Minimum Instruction Time : 0

Correct Marks : 5 Wrong Marks : 1

Question Key Details :

Key	Value
Comprehension	Compl

प्रकरण अध्ययन केस स्टडी

आर्यन आरएस इंफोटेक लिमिटेड के सीईओ हैं, जो पिछले 55 वर्षों से तकनीकी क्षेत्र में कार्यरत कंपनी है। कंपनी इस क्षेत्र में बहुत अच्छा कार्य कर रहा है और अब प्रसाधन बाजार में प्रवेश करने की विकास योजना पर कार्यरत है।

ग्राहकों के बदलते स्वाद और प्राथमिकताओं को ध्यान में रखते हुए यह जैविक उत्पाद बाजार में प्रवेश की योजना बना रही है।

कंपनी अपने प्रवेश के बाद पहले दो वर्षों 20% बाजार हिस्सा प्राप्त करने का लक्ष्य रख रही है।

वित्तीय मामलों के लिए आर्यन ने अपने प्रमुख वित्त अधिकारी राज से परामर्श किया और पाया कि इसे अलग प्रसाधन इकाई स्थापित करने के लिए 50 करोड़ रुपये की अतिरिक्त पूंजी की आवश्यकता है।

कंपनी बाजार में इक्विटी शेयर जारी करके धन जुटाने की योजना बना रही है किन्तु प्लवन लागत वहन करने के लिए इसके पास पर्याप्त नकदी नहीं है और इसलिए इसने इस हेतु वित्तीय बाजार को एप्रोच करने का निर्णय लिया है।

जब कंपनी नए शेयर जारी करना चाहती है, तो यह किस वित्तीय बाजार को संपर्क करेगी ?

- (1) पूंजी बाजार
- (2) मुद्रा बाजार
- (3) प्राथमिक बाजार
- (4) द्वितीय बाजार

Options :

212807114597. 1
212807114598. 2
212807114599. 3
212807114600. 4

Sub-Section Number :

3

Sub-Section Id :

2128072087

Question Shuffling Allowed :

No

Is Section Default? :

null

Question Number : 146 Question Id : 21280728651 Question Type : MCQ Option Shuffling : No Is Question Mandatory : No Calculator : None
Response Time : N.A Think Time : N.A Minimum Instruction Time : 0

Correct Marks : 5 Wrong Marks : 1

Question Key Details :

Key	Value
Comprehension	Comp2

Read the following Case Study and answer, question

Aryan is a CEO of RS Infotech Ltd., which is a company working in the technology sector for the last 55 years. The company is doing very well in this sector and now has a growth plan of entering into cosmetics market.

Keeping in view the changing tastes and preferences of customers, it is planning to enter organic products market.

The company targets to achieve 20% of market share in the first 2 years of its entry.

For financial issues, Aryan consulted his chief finance officer, Raj and found that it requires 50 crores of additional capital for setting up a separate cosmetics division.

The Company plans to arrange this money by issuing equity shares in the market but it lacks sufficient cash to bear the floatation cost and hence planned to approach the financial market for the same.

Identify the Money Market Instrument the company is going to use.

- (1) Call Money
- (2) Commercial Paper
- (3) Treasury Bills
- (4) Commercial Bill

Options :

- 212807114601. 1
- 212807114602. 2
- 212807114603. 3
- 212807114604. 4

Question Number : 146 Question Id : 21280728651 Question Type : MCQ Option Shuffling : No Is Question Mandatory : No Calculator : None Response Time : N.A Think Time : N.A Minimum Instruction Time : 0

Correct Marks : 5 Wrong Marks : 1

Question Key Details :

Key	Value
Comprehension	Comp2

प्रकरण अध्ययन केस स्टडी

आर्यन आरएस इंफोटेक लिमिटेड के सीईओ हैं, जो पिछले 55 वर्षों से तकनीकी क्षेत्र में कार्यरत कंपनी है। कंपनी इस क्षेत्र में बहुत अच्छा कार्य कर रहा है और अब प्रसाधन बाजार में प्रवेश करने की विकास योजना पर कार्यरत है।

ग्राहकों के बदलते स्वाद और प्राथमिकताओं को ध्यान में रखते हुए यह जैविक उत्पाद बाजार में प्रवेश की योजना बना रही है।

कंपनी अपने प्रवेश के बाद पहले दो वर्षों 20% बाजार हिस्सा प्राप्त करने का लक्ष्य रख रही है।

वित्तीय मामलों के लिए आर्यन ने अपने प्रमुख वित्त अधिकारी राज से परामर्श किया और पाया कि इसे अलग प्रसाधन इकाई स्थापित करने के लिए 50 करोड़ रुपये की अतिरिक्त पूंजी की आवश्यकता है।

कंपनी बाजार में इक्विटी शेयर जारी करके धन जुटाने की योजना बना रही है किन्तु प्लवन लागत वहन करने के लिए इसके पास पर्याप्त नकदी नहीं है और इसलिए इसने इस हेतु वित्तीय बाजार को एप्रोच करने का निर्णय लिया है।

कंपनी द्वारा जारी किए जाने वाले मुद्रा बाजार उपकरण की पहचान करें:

- (1) शीघ्रावधि द्रव्य (Call money)
- (2) वाणिज्यिक दत्र
- (3) ट्रेजरी बिल
- (4) वाणिज्यिक बिल

Options :

- 212807114601. 1
- 212807114602. 2
- 212807114603. 3
- 212807114604. 4

Question Number : 147 Question Id : 21280728652 Question Type : MCQ Option Shuffling : No Is Question Mandatory : No Calculator : None Response Time : N.A Think Time : N.A Minimum Instruction Time : 0

Correct Marks : 5 Wrong Marks : 1

Question Key Details :

Key	Value
Comprehension	Comp2

Read the following Case Study and answer, question

Aryan is a CEO of RS Infotech Ltd., which is a company working in the technology sector for the last 55 years. The company is doing very well in this sector and now has a growth plan of entering into cosmetics market.

Keeping in view the changing tastes and preferences of customers, it is planning to enter organic products market.

The company targets to achieve 20% of market share in the first 2 years of its entry.

For financial issues, Aryan consulted his chief finance officer, Raj and found that it requires 50 crores of additional capital for setting up a separate cosmetics division.

The Company plans to arrange this money by issuing equity shares in the market but it lacks sufficient cash to bear the floatation cost and hence planned to approach the financial market for the same.

When the company approaches Money Market to meet the requirement of floatation cost of equity shares, the process is known as _____.

- (1) Dematerialisation
- (2) Demutualisation
- (3) Bridge Financing
- (4) Issue of Shares

Options :

- 212807114605. 1
- 212807114606. 2
- 212807114607. 3
- 212807114608. 4

Question Number : 147 Question Id : 21280728652 Question Type : MCQ Option Shuffling : No Is Question Mandatory : No Calculator : None Response Time : N.A Think Time : N.A Minimum Instruction Time : 0

Correct Marks : 5 Wrong Marks : 1

Question Key Details :

Key	Value
Comprehension	Comp2

प्रकरण अध्ययन केस स्टडी

आर्यन आरएस इंफोटेक लिमिटेड के सीईओ हैं, जो पिछले 55 वर्षों से तकनीकी क्षेत्र में कार्यरत कंपनी है। कंपनी इस क्षेत्र में बहुत अच्छा कार्य कर रहा है और अब प्रसाधन बाजार में प्रवेश करने की विकास योजना पर कार्यरत है।

ग्राहकों के बदलते स्वाद और प्राथमिकताओं को ध्यान में रखते हुए यह जैविक उत्पाद बाजार में प्रवेश की योजना बना रही है।

कंपनी अपने प्रवेश के बाद पहले दो वर्षों 20% बाजार हिस्सा प्राप्त करने का लक्ष्य रख रही है।

वित्तीय मामलों के लिए आर्यन ने अपने प्रमुख वित्त अधिकारी राज से परामर्श किया और पाया कि इसे अलग प्रसाधन इकाई स्थापित करने के लिए 50 करोड़ रुपये की अतिरिक्त पूंजी की आवश्यकता है।

कंपनी बाजार में इक्विटी शेयर जारी करके धन जुटाने की योजना बना रही है किन्तु प्लवन लागत वहन करने के लिए इसके पास पर्याप्त नकदी नहीं है और इसलिए इसने इस हेतु वित्तीय बाजार को एप्रोच करने का निर्णय लिया है।

जब कंपनी इक्विटी शेयर की प्लवन लागत की आवश्यकता पूर्ण करने के लिए मुद्रा बाजार को एप्रोच करती है, तो इस प्रक्रिया को कहा जाता है _____.

- (1) डी-मैटेरियलाइजेशन
- (2) डिम्युचुअलाइजेशन
- (3) सेतु वित्तीयन
- (4) शेयरों का निर्गम

Options :

212807114605. 1
212807114606. 2
212807114607. 3
212807114608. 4

Question Number : 148 Question Id : 21280728653 Question Type : MCQ Option Shuffling : No Is Question Mandatory : No Calculator : None
Response Time : N.A Think Time : N.A Minimum Instruction Time : 0

Correct Marks : 5 Wrong Marks : 1

Question Key Details :

Key	Value
Comprehension	Comp2

Read the following Case Study and answer, question

Aryan is a CEO of RS Infotech Ltd., which is a company working in the technology sector for the last 55 years. The company is doing very well in this sector and now has a growth plan of entering into cosmetics market.

Keeping in view the changing tastes and preferences of customers, it is planning to enter organic products market.

The company targets to achieve 20% of market share in the first 2 years of its entry.

For financial issues, Aryan consulted his chief finance officer, Raj and found that it requires 50 crores of additional capital for setting up a separate cosmetics division.

The Company plans to arrange this money by issuing equity shares in the market but it lacks sufficient cash to bear the floatation cost and hence planned to approach the financial market for the same.

State the financial decision involved when the company needs additional capital for growth in different assets of the business.

- (1) Investment decision
- (2) Working capital decision
- (3) Capital structure
- (4) Dividend decision

Options :

212807114609. 1

212807114610. 2

212807114611. 3

212807114612. 4

Question Number : 148 Question Id : 21280728653 Question Type : MCQ Option Shuffling : No Is Question Mandatory : No Calculator : None Response Time : N.A Think Time : N.A Minimum Instruction Time : 0

Correct Marks : 5 Wrong Marks : 1

Question Key Details :

Key	Value
Comprehension	Comp2

प्रकरण अध्ययन केस स्टडी

आर्यन आरएस इंफोटेक लिमिटेड के सीईओ हैं, जो पिछले 55 वर्षों से तकनीकी क्षेत्र में कार्यरत कंपनी है। कंपनी इस क्षेत्र में बहुत अच्छा कार्य कर रहा है और अब प्रसाधन बाजार में प्रवेश करने की विकास योजना पर कार्यरत है।

ग्राहकों के बदलते स्वाद और प्राथमिकताओं को ध्यान में रखते हुए यह जैविक उत्पाद बाजार में प्रवेश की योजना बना रही है।

कंपनी अपने प्रवेश के बाद पहले दो वर्षों 20% बाजार हिस्सा प्राप्त करने का लक्ष्य रख रही है।

वित्तीय मामलों के लिए आर्यन ने अपने प्रमुख वित्त अधिकारी राज से परामर्श किया और पाया कि इसे अलग प्रसाधन इकाई स्थापित करने के लिए 50 करोड़ रुपये की अतिरिक्त पूंजी की आवश्यकता है।

कंपनी बाजार में इक्विटी शेयर जारी करके धन जुटाने की योजना बना रही है किन्तु प्लवन लागत वहन करने के लिए इसके पास पर्याप्त नकदी नहीं है और इसलिए इसने इस हेतु वित्तीय बाजार को एप्रोच करने का निर्णय लिया है।

जब कंपनी को व्यवसाय की विभिन्न आस्तियों में संवृद्धि के लिए अतिरिक्त पूंजी की आवश्यकता होती है, तो इसमें अंतर्निहित वित्तीय निर्णय की पहचान करें।

- (1) निवेश निर्णय
- (2) कार्यशील पूंजी निर्णय
- (3) पूंजी संरचना
- (4) लाभांश निर्णय

Options :

- 212807114609. 1
- 212807114610. 2
- 212807114611. 3
- 212807114612. 4

Question Number : 149 Question Id : 21280728654 Question Type : MCQ Option Shuffling : No Is Question Mandatory : No Calculator : None Response Time : N.A Think Time : N.A Minimum Instruction Time : 0

Correct Marks : 5 Wrong Marks : 1

Question Key Details :

Key	Value
Comprehension	Comp2

Read the following Case Study and answer, question

Aryan is a CEO of RS Infotech Ltd., which is a company working in the technology sector for the last 55 years. The company is doing very well in this sector and now has a growth plan of entering into cosmetics market.

Keeping in view the changing tastes and preferences of customers, it is planning to enter organic products market.

The company targets to achieve 20% of market share in the first 2 years of its entry.

For financial issues, Aryan consulted his chief finance officer, Raj and found that it requires 50 crores of additional capital for setting up a separate cosmetics division.

The Company plans to arrange this money by issuing equity shares in the market but it lacks sufficient cash to bear the floatation cost and hence planned to approach the financial market for the same.

Name the financial decision which the company is going to make while arranging the source for required funds.

- (1) Investment decision
- (2) Financing decision
- (3) Capital structure
- (4) Dividend decision

Options :

- 212807114613. 1
- 212807114614. 2
- 212807114615. 3
- 212807114616. 4

Question Number : 149 Question Id : 21280728654 Question Type : MCQ Option Shuffling : No Is Question Mandatory : No Calculator : None
Response Time : N.A Think Time : N.A Minimum Instruction Time : 0

Correct Marks : 5 Wrong Marks : 1

Question Key Details :

Key	Value
Comprehension	Comp2

प्रकरण अध्ययन केस स्टडी

आर्यन आरएस इंफोटेक लिमिटेड के सीईओ हैं, जो पिछले 55 वर्षों से तकनीकी क्षेत्र में कार्यरत कंपनी है। कंपनी इस क्षेत्र में बहुत अच्छा कार्य कर रहा है और अब प्रसाधन बाजार में प्रवेश करने की विकास योजना पर कार्यरत है।

ग्राहकों के बदलते स्वाद और प्राथमिकताओं को ध्यान में रखते हुए यह जैविक उत्पाद बाजार में प्रवेश की योजना बना रही है।

कंपनी अपने प्रवेश के बाद पहले दो वर्षों 20% बाजार हिस्सा प्राप्त करने का लक्ष्य रख रही है।

वित्तीय मामलों के लिए आर्यन ने अपने प्रमुख वित्त अधिकारी राज से परामर्श किया और पाया कि इसे अलग प्रसाधन इकाई स्थापित करने के लिए 50 करोड़ रुपये की अतिरिक्त पूंजी की आवश्यकता है।

कंपनी बाजार में इक्विटी शेयर जारी करके धन जुटाने की योजना बना रही है किन्तु प्लवन लागत वहन करने के लिए इसके पास पर्याप्त नकदी नहीं है और इसलिए इसने इस हेतु वित्तीय बाजार को एप्रोच करने का निर्णय लिया है।

आवश्यक विधियों के लिए स्रोत की व्यवस्था करते समय कंपनी द्वारा लिए जाने वाले वित्तीय निर्णय का नाम बताएं।

- (1) निवेश निर्णय
- (2) वित्तीय निर्णय
- (3) पूंजी संरचना
- (4) लाभांश निर्णय

Options :

- 212807114613. 1
- 212807114614. 2
- 212807114615. 3
- 212807114616. 4

Question Number : 150 Question Id : 21280728655 Question Type : MCQ Option Shuffling : No Is Question Mandatory : No Calculator : None Response Time : N.A Think Time : N.A Minimum Instruction Time : 0

Correct Marks : 5 Wrong Marks : 1

Question Key Details :

Key	Value
Comprehension	Comp2

Read the following Case Study and answer, question

Aryan is a CEO of RS Infotech Ltd., which is a company working in the technology sector for the last 55 years. The company is doing very well in this sector and now has a growth plan of entering into cosmetics market.

Keeping in view the changing tastes and preferences of customers, it is planning to enter organic products market.

The company targets to achieve 20% of market share in the first 2 years of its entry.

For financial issues, Aryan consulted his chief finance officer, Raj and found that it requires 50 crores of additional capital for setting up a separate cosmetics division.

The Company plans to arrange this money by issuing equity shares in the market but it lacks sufficient cash to bear the floatation cost and hence planned to approach the financial market for the same.

State the type of fixed capital requirement by RS Infotech.

- (1) Low
- (2) Very low
- (3) Moderate
- (4) High

Options :

- 212807114617. 1
- 212807114618. 2
- 212807114619. 3
- 212807114620. 4

Question Number : 150 Question Id : 21280728655 Question Type : MCQ Option Shuffling : No Is Question Mandatory : No Calculator : None Response Time : N.A Think Time : N.A Minimum Instruction Time : 0

Correct Marks : 5 Wrong Marks : 1

Question Key Details :

Key	Value
Comprehension	Comp2

प्रकरण अध्ययन केस स्टडी

आर्यन आरएस इंफोटेक लिमिटेड के सीईओ हैं, जो पिछले 55 वर्षों से तकनीकी क्षेत्र में कार्यरत कंपनी है। कंपनी इस क्षेत्र में बहुत अच्छा कार्य कर रहा है और अब प्रसाधन बाजार में प्रवेश करने की विकास योजना पर कार्यरत है।

ग्राहकों के बदलते स्वाद और प्राथमिकताओं को ध्यान में रखते हुए यह जैविक उत्पाद बाजार में प्रवेश की योजना बना रही है।

कंपनी अपने प्रवेश के बाद पहले दो वर्षों 20% बाजार हिस्सा प्राप्त करने का लक्ष्य रख रही है।

वित्तीय मामलों के लिए आर्यन ने अपने प्रमुख वित्त अधिकारी राज से परामर्श किया और पाया कि इसे अलग प्रसाधन इकाई स्थापित करने के लिए 50 करोड़ रुपये की अतिरिक्त पूंजी की आवश्यकता है।

कंपनी बाजार में इक्विटी शेयर जारी करके धन जुटाने की योजना बना रही है किन्तु प्लवन लागत वहन करने के लिए इसके पास पर्याप्त नकदी नहीं है और इसलिए इसने इस हेतु वित्तीय बाजार को एप्रोच करने का निर्णय लिया है।

आरएस इंफोटेक की निम्न पूंजी आवश्यकता प्रकार की पहचान करें।

- (1) निम्न
- (2) बहुत निम्न
- (3) मध्यम
- (4) उच्च

Options :

212807114617. 1
212807114618. 2
212807114619. 3
212807114620. 4

Comp Sci or IP

Group Number :	4
Group Id :	212807625
Group Maximum Duration :	60
Group Minimum Duration :	60
Show Attended Group? :	No
Edit Attended Group? :	No
Break time :	0
Group Marks :	200
Is this Group for Examiner? :	No
Examiner permission :	Can't View
Show Progress Bar? :	No

Compulsory

Section Id :	212807729
Section Number :	1
Section type :	Online
Mandatory or Optional :	Mandatory
Number of Questions :	15
Number of Questions to be attempted :	15
Section Marks :	75
Enable Mark as Answered Mark for Review and Clear Response :	Yes
Maximum Instruction Time :	0
Sub-Section Number :	1
Sub-Section Id :	2128072088

Question Shuffling Allowed :
Is Section Default? :

Yes
null

Question Number : 151 Question Id : 21280728656 Question Type : MCQ Option Shuffling : No Is Question Mandatory : No Calculator : None
Response Time : N.A Think Time : N.A Minimum Instruction Time : 0

Correct Marks : 5 Wrong Marks : 1

Question Key Details :

Key	Value
Comprehension	MCQ1

The file pointer is at beginning of the file in :

- (A) r
- (B) r+
- (C) a+
- (D) w+
- (E) a

Choose the correct answer from the options given below :

- (1) (A), (B) and (E) only
- (2) (A), (B) and (D) only
- (3) (B), (C) and (D) only
- (4) (B), (D) and (E) only

Options :

- 212807114621. 1
- 212807114622. 2
- 212807114623. 3
- 212807114624. 4

Question Number : 151 Question Id : 21280728656 Question Type : MCQ Option Shuffling : No Is Question Mandatory : No Calculator : None
Response Time : N.A Think Time : N.A Minimum Instruction Time : 0

Correct Marks : 5 Wrong Marks : 1

Question Key Details :

Key	Value
Comprehension	MCQ1

फाइल प्वाइंटर _____ में फाइल के प्रारम्भ में है।

- (A) r
- (B) r+
- (C) a+
- (D) w+
- (E) a

नीचे दिए गए विकल्पों में से सही उत्तर का चयन कीजिए :

- (1) केवल (A), (B) और (E)
- (2) केवल (A), (B) और (D)
- (3) केवल (B), (C) और (D)
- (4) केवल (B), (D) और (E)

Options :

- 212807114621. 1
- 212807114622. 2
- 212807114623. 3
- 212807114624. 4

Question Number : 152 Question Id : 21280728657 Question Type : MCQ Option Shuffling : No Is Question Mandatory : No Calculator : None
Response Time : N.A Think Time : N.A Minimum Instruction Time : 0

Correct Marks : 5 Wrong Marks : 1

Question Key Details :

Key	Value
Comprehension	MCQ1

If an error encountered in a method, then what would be one of the correct sequence of the following steps in the exception handling process :

- (A) Exception is raised
- (B) Create exception object
- (C) Searches for method in call stack in reverse sequence
- (D) An error encountered in a method
- (E) Runtime system searches for exception handler in the current method

Choose the correct answer from the options given below :

- (1) (A), (B), (C), (E), (D)
- (2) (D), (B), (A), (E), (C)
- (3) (A), (C), (B), (D), (E)
- (4) (C), (A), (B), (E), (D)

Options :

- 212807114625. 1
- 212807114626. 2
- 212807114627. 3
- 212807114628. 4

Question Number : 152 Question Id : 21280728657 Question Type : MCQ Option Shuffling : No Is Question Mandatory : No Calculator : None
Response Time : N.A Think Time : N.A Minimum Instruction Time : 0

Correct Marks : 5 Wrong Marks : 1

Question Key Details :

Key	Value
Comprehension	MCQ1

यदि एक विधि में किसी त्रुटि से सामना होता है तो अपवाद निस्तारण प्रक्रिया में निम्न चरणों का कौन सा एक सही क्रम होगा ?

- (A) अपवाद उत्पन्न हुआ
- (B) अपवाद वस्तु बनाना
- (C) कॉल स्टैक में विधि के लिए विपरीत क्रम में खोजना
- (D) एक विधि में त्रुटि से सामना
- (E) वर्तमान विधि में रनटाइम सिस्टम अपवाद सम्भालने वाले को तलाशता है।

नीचे दिए गए विकल्पों में से सही उत्तर का चयन कीजिए :

- (1) (A), (B), (C), (E), (D)
- (2) (D), (B), (A), (E), (C)
- (3) (A), (C), (B), (D), (E)
- (4) (C), (A), (B), (E), (D)

Options :

- 212807114625. 1
- 212807114626. 2
- 212807114627. 3
- 212807114628. 4

Question Number : 153 Question Id : 21280728658 Question Type : MCQ Option Shuffling : No Is Question Mandatory : No Calculator : None Response Time : N.A Think Time : N.A Minimum Instruction Time : 0

Correct Marks : 5 Wrong Marks : 1

Question Key Details :

Key	Value
Comprehension	MCQ1

Yash wrote a program for inserting and deleting data in a file, using Python. One of the functions, he used is incorrect. Identify the incorrect function.

- (1) writelines()
- (2) readlines()
- (3) writeline()
- (4) readline()

Options :

- 212807114629. 1
- 212807114630. 2
- 212807114631. 3
- 212807114632. 4

Question Number : 153 Question Id : 21280728658 Question Type : MCQ Option Shuffling : No Is Question Mandatory : No Calculator : None Response Time : N.A Think Time : N.A Minimum Instruction Time : 0

Correct Marks : 5 Wrong Marks : 1

Question Key Details :

Key	Value
Comprehension	MCQ1

यश ने किसी फाइल में डेटा डालने और हटाने के लिए पाइथन का प्रयोग करके एक प्रोग्राम लिखा। उसके द्वारा उपयोग किये गये फंक्शन में से एक गलत है। गलत फंक्शन की पहचानिए।

- (1) writelines()
- (2) readlines()
- (3) writeline()
- (4) readline()

Options :

- 212807114629. 1
- 212807114630. 2
- 212807114631. 3
- 212807114632. 4

Question Number : 154 Question Id : 21280728659 Question Type : MCQ Option Shuffling : No Is Question Mandatory : No Calculator : None Response Time : N.A Think Time : N.A Minimum Instruction Time : 0

Correct Marks : 5 Wrong Marks : 1

Question Key Details :

Key	Value
Comprehension	MCQ1

If a statement `int('Hello')` is written in python, then what kind of exception will it give ?

- (1) NameError
- (2) ValueError
- (3) OSError
- (4) TypeError

Options :

- 212807114633. 1
- 212807114634. 2
- 212807114635. 3
- 212807114636. 4

Question Number : 154 Question Id : 21280728659 Question Type : MCQ Option Shuffling : No Is Question Mandatory : No Calculator : None
Response Time : N.A Think Time : N.A Minimum Instruction Time : 0

Correct Marks : 5 Wrong Marks : 1

Question Key Details :

Key	Value
Comprehension	MCQ1

यदि एक कथन `int ('Hello')` पाइथन में लिखा है, तो यह किस प्रकार का अपवाद देगा ?

- (1) NameError
- (2) ValueError
- (3) OSError
- (4) TypeError

Options :

- 212807114633. 1
- 212807114634. 2
- 212807114635. 3
- 212807114636. 4

Question Number : 155 Question Id : 21280728660 Question Type : MCQ Option Shuffling : No Is Question Mandatory : No Calculator : None
Response Time : N.A Think Time : N.A Minimum Instruction Time : 0

Correct Marks : 5 Wrong Marks : 1

Question Key Details :

Key	Value
Comprehension	MCQ1

Match List - I with List - II.

List - I

- (A) UNIQUE
- (B) Primary key
- (C) Default
- (D) Foreign key

List - II

- (I) The column which refers to value of an attributes defined primary key in another table
- (II) A value specified for the column if no value is specified
- (III) The column which can uniquely identify each row/record in a table
- (IV) Ensures that all the values in a column are distinct

Choose the correct answer from the options given below :

- (1) (A)-(III), (B)-(IV), (C)-(II), (D)-(I)
- (2) (A)-(IV), (B)-(III), (C)-(II), (D)-(I)
- (3) (A)-(II), (B)-(III), (C)-(I), (D)-(IV)
- (4) (A)-(IV), (B)-(I), (C)-(II), (D)-(III)

Options :

- 212807114637. 1
- 212807114638. 2
- 212807114639. 3
- 212807114640. 4

Question Number : 155 Question Id : 21280728660 Question Type : MCQ Option Shuffling : No Is Question Mandatory : No Calculator : None
Response Time : N.A Think Time : N.A Minimum Instruction Time : 0

Correct Marks : 5 Wrong Marks : 1

Question Key Details :

Key	Value
Comprehension	MCQ1

सूची-I से सूची-II का मिलान कीजिए :

सूची-I	सूची-II
(A) UNIQUE	(I) वह स्तंभ जो किसी एट्रीब्यूट का मान बताता है, अन्य तालिका में प्राइमरी कुंजी के रूप में परिभाषित है।
(B) प्राइमरी कुंजी	(II) जब कोई मान निर्दिष्ट ना हो तब एक स्तंभ के लिए निर्दिष्ट मान।
(C) डिफॉल्ट	(III) वह स्तंभ जो अद्वितीय रूप से तालिका के प्रत्येक पंक्ति/रिकॉर्ड की पहचान कर सकता है।
(D) फॉरेन कुंजी	(IV) सुनिश्चित करता है कि स्तंभ के सभी मान पृथक/भिन्न है।

नीचे दिए गए विकल्पों में से सही उत्तर का चयन कीजिए :

- (1) (A)-(III), (B)-(IV), (C)-(II), (D)-(I)
- (2) (A)-(IV), (B)-(III), (C)-(II), (D)-(I)
- (3) (A)-(II), (B)-(III), (C)-(I), (D)-(IV)
- (4) (A)-(IV), (B)-(I), (C)-(II), (D)-(III)

Options :

212807114637. 1
212807114638. 2
212807114639. 3
212807114640. 4

Question Number : 156 Question Id : 21280728661 Question Type : MCQ Option Shuffling : No Is Question Mandatory : No Calculator : None Response Time : N.A Think Time : N.A Minimum Instruction Time : 0

Correct Marks : 5 Wrong Marks : 1

Question Key Details :

Key	Value
Comprehension	MCQ1

In relational database management system (RDBMS), a 'tuple' is defined as :

- (1) Another name for a table
- (2) Another name for primary key
- (3) A row or record in a database table
- (4) An attribute attached to a record

Options :

212807114641. 1
212807114642. 2
212807114643. 3
212807114644. 4

Question Number : 156 Question Id : 21280728661 Question Type : MCQ Option Shuffling : No Is Question Mandatory : No Calculator : None Response Time : N.A Think Time : N.A Minimum Instruction Time : 0

Correct Marks : 5 Wrong Marks : 1

Question Key Details :

Key	Value
Comprehension	MCQ1

रिलेशनल डेटाबेस प्रबन्धन सिस्टम (RDBMS) में एक टपल परिभाषित है :

- (1) एक तालिका के लिए दूसरा नाम
- (2) प्राइमरी कुंजी के लिए दूसरा नाम
- (3) एक डेटाबेस तालिका में एक पंक्ति या रिकॉर्ड
- (4) एक रिकॉर्ड से जुड़ा ऐट्रीब्यूट

Options :

212807114641. 1
212807114642. 2
212807114643. 3
212807114644. 4

Question Number : 157 Question Id : 21280728662 Question Type : MCQ Option Shuffling : No Is Question Mandatory : No Calculator : None Response Time : N.A Think Time : N.A Minimum Instruction Time : 0

Correct Marks : 5 Wrong Marks : 1

Question Key Details :

Key	Value
Comprehension	MCQ1

A _____ key is used to represent the relationship between two relations.

- (1) Primary key
- (2) Foreign key
- (3) Candidate key
- (4) Super key

Options :

212807114645. 1
212807114646. 2
212807114647. 3
212807114648. 4

Question Number : 157 Question Id : 21280728662 Question Type : MCQ Option Shuffling : No Is Question Mandatory : No Calculator : None Response Time : N.A Think Time : N.A Minimum Instruction Time : 0

Correct Marks : 5 Wrong Marks : 1

Question Key Details :

Key	Value
Comprehension	MCQ1

दो रिलेशन के बीच सम्बन्ध को निरूपित करने के लिए एक _____ का उपयोग किया जाता है।

- (1) प्राइमरी कुंजी
- (2) फॉरिन कुंजी
- (3) कैंडिडेट कुंजी
- (4) सुपर कुंजी

Options :

212807114645. 1
212807114646. 2
212807114647. 3
212807114648. 4

Question Number : 158 Question Id : 21280728663 Question Type : MCQ Option Shuffling : No Is Question Mandatory : No Calculator : None Response Time : N.A Think Time : N.A Minimum Instruction Time : 0

Correct Marks : 5 Wrong Marks : 1

Question Key Details :

Key	Value
-----	-------

How many join operation are needed to combine N tables on equality condition.

- (1) $N - 2$
- (2) N
- (3) $N - 1$
- (4) $\text{Log}(N)$

Options :

- 212807114649. 1
- 212807114650. 2
- 212807114651. 3
- 212807114652. 4

Question Number : 158 Question Id : 21280728663 Question Type : MCQ Option Shuffling : No Is Question Mandatory : No Calculator : None Response Time : N.A Think Time : N.A Minimum Instruction Time : 0

Correct Marks : 5 Wrong Marks : 1

Question Key Details :

Key	Value
Comprehension	MCQ1

समानता की शर्त पर N तालिकाओं को एक साथ जोड़ने के लिए कितने join ऑपरेशन की आवश्यकता है।

- (1) $N - 2$
- (2) N
- (3) $N - 1$
- (4) $\text{Log}(N)$

Options :

- 212807114649. 1
- 212807114650. 2
- 212807114651. 3
- 212807114652. 4

Question Number : 159 Question Id : 21280728664 Question Type : MCQ Option Shuffling : No Is Question Mandatory : No Calculator : None Response Time : N.A Think Time : N.A Minimum Instruction Time : 0

Correct Marks : 5 Wrong Marks : 1

Question Key Details :

Key	Value
Comprehension	MCQ1

Consider the tables A and B given below. How many tuples will be in the output after apply $A \cap B$ operation.

A	S NO	Name	Class
	1	Meena	8
	2	Meena	6
	3	Leena	7
	4	Vijaya	7
	5	Sujata	8

B	S NO	Name	Class
	1	Asha	7
	2	Meena	6
	3	Mohit	7
	4	Vijaya	7

- (1) 5
- (2) 3
- (3) 2
- (4) 9

Options :

212807114653. 1
212807114654. 2
212807114655. 3
212807114656. 4

Question Number : 159 Question Id : 21280728664 Question Type : MCQ Option Shuffling : No Is Question Mandatory : No Calculator : None
Response Time : N.A Think Time : N.A Minimum Instruction Time : 0

Correct Marks : 5 Wrong Marks : 1

Question Key Details :

Key	Value
Comprehension	MCQ1

नीचे दी गई तालिकाओं A और B पर विचार करें। $A \cap B$ ऑपरेशन को लागू करने के पश्चात आउटपुट में कितने टपल होंगे ?

A	S NO	Name	Class
	1	Meena	8
	2	Meena	6
	3	Leena	7
	4	Vijaya	7
	5	Sujata	8

B	S NO	Name	Class
	1	Asha	7
	2	Meena	6
	3	Mohit	7
	4	Vijaya	7

- (1) 5
- (2) 3
- (3) 2
- (4) 9

Options :

212807114653. 1
212807114654. 2
212807114655. 3
212807114656. 4

Question Number : 160 Question Id : 21280728665 Question Type : MCQ Option Shuffling : No Is Question Mandatory : No Calculator : None
Response Time : N.A Think Time : N.A Minimum Instruction Time : 0

Correct Marks : 5 Wrong Marks : 1

Question Key Details :

Key	Value
Comprehension	MCQ1

Arrange the following commands in the correct order of execution :

- (A) SELECT
- (B) ORDER BY
- (C) GROUP BY
- (D) WHERE
- (E) FROM

Choose the correct answer from the options given below :

- (1) (E), (A), (B), (C), (D)
- (2) (A), (E), (C), (D), (B)
- (3) (A), (E), (D), (C), (B)
- (4) (A), (B), (C), (D), (E)

Options :

212807114657. 1

212807114658. 2
212807114659. 3
212807114660. 4

Question Number : 160 Question Id : 21280728665 Question Type : MCQ Option Shuffling : No Is Question Mandatory : No Calculator : None
Response Time : N.A Think Time : N.A Minimum Instruction Time : 0

Correct Marks : 5 Wrong Marks : 1

Question Key Details :

Key	Value
Comprehension	MCQ1

निम्नलिखित निर्देशों को किर्यान्वयन के सही क्रम में व्यवस्थित कीजिए :

- (A) SELECT
- (B) ORDER BY
- (C) GROUP BY
- (D) WHERE
- (E) FROM

नीचे दिए गए विकल्पों में से सही उत्तर का चयन कीजिए :

- (1) (E), (A), (B), (C), (D)
- (2) (A), (E), (C), (D), (B)
- (3) (A), (E), (D), (C), (B)
- (4) (A), (B), (C), (D), (E)

Options :

212807114657. 1
212807114658. 2
212807114659. 3
212807114660. 4

Question Number : 161 Question Id : 21280728666 Question Type : MCQ Option Shuffling : No Is Question Mandatory : No Calculator : None
Response Time : N.A Think Time : N.A Minimum Instruction Time : 0

Correct Marks : 5 Wrong Marks : 1

Question Key Details :

Key	Value
Comprehension	MCQ1

Which is not correct about string function ?

- (1) UCASE("String") ;
- (2) LCASE("String") ;
- (3) MIN(Column) ;
- (4) LTRIM("String") ;

Options :

212807114661. 1
212807114662. 2
212807114663. 3
212807114664. 4

Question Number : 161 Question Id : 21280728666 Question Type : MCQ Option Shuffling : No Is Question Mandatory : No Calculator : None
Response Time : N.A Think Time : N.A Minimum Instruction Time : 0

Correct Marks : 5 Wrong Marks : 1

Question Key Details :

Key	Value
Comprehension	MCQ1

स्ट्रिंग फंक्शन के विषय में कौन सा सही नहीं है ?

- (1) UCASE("String") ;
- (2) LCASE("String") ;
- (3) MIN(Column) ;
- (4) LTRIM("String") ;

Options :

212807114661. 1
212807114662. 2
212807114663. 3
212807114664. 4

Question Number : 162 Question Id : 21280728667 Question Type : MCQ Option Shuffling : No Is Question Mandatory : No Calculator : None
Response Time : N.A Think Time : N.A Minimum Instruction Time : 0

Correct Marks : 5 Wrong Marks : 1

Question Key Details :

Key	Value
Comprehension	MCQ1

Which device is used to send the signals to only selected device instead of sending to all :

- (1) Hub
- (2) Switch
- (3) RJ45
- (4) Modem

Options :

212807114665. 1
212807114666. 2
212807114667. 3
212807114668. 4

Question Number : 162 Question Id : 21280728667 Question Type : MCQ Option Shuffling : No Is Question Mandatory : No Calculator : None
Response Time : N.A Think Time : N.A Minimum Instruction Time : 0

Correct Marks : 5 Wrong Marks : 1

Question Key Details :

Key	Value
Comprehension	MCQ1

सभी उपकरणों के बजाय केवल चयनित उपकरणों को संकेत भेजने के लिए किस उपकरण का उपयोग होता है :

- (1) हब
- (2) स्विच
- (3) RJ45
- (4) मोडेम

Options :

212807114665. 1
212807114666. 2
212807114667. 3
212807114668. 4

Question Number : 163 Question Id : 21280728668 Question Type : MCQ Option Shuffling : No Is Question Mandatory : No Calculator : None
Response Time : N.A Think Time : N.A Minimum Instruction Time : 0

Correct Marks : 5 Wrong Marks : 1

Question Key Details :

Key	Value
Comprehension	MCQ1

_____ is a combination of hardware and software which fulfill request by the web browser.

- (1) Website
- (2) Client
- (3) Web server
- (4) Url

Options :

212807114669. 1
212807114670. 2
212807114671. 3
212807114672. 4

Question Number : 163 Question Id : 21280728668 Question Type : MCQ Option Shuffling : No Is Question Mandatory : No Calculator : None Response Time : N.A Think Time : N.A Minimum Instruction Time : 0

Correct Marks : 5 Wrong Marks : 1

Question Key Details :

Key	Value
Comprehension	MCQ1

_____ हार्डवेयर और सॉफ्टवेयर का एक युग्म है जो कि वेब ब्राउजर के रिक्वेस्ट को पूरा करता है।

- (1) वेबसाइट
- (2) क्लाइंट
- (3) वेब सर्वर
- (4) यूआरएल

Options :

212807114669. 1
212807114670. 2
212807114671. 3
212807114672. 4

Question Number : 164 Question Id : 21280728669 Question Type : MCQ Option Shuffling : No Is Question Mandatory : No Calculator : None Response Time : N.A Think Time : N.A Minimum Instruction Time : 0

Correct Marks : 5 Wrong Marks : 1

Question Key Details :

Key	Value
Comprehension	MCQ1

Nisha wants to install a computer network in her office at minimum cost. Help her to choose a topology in which less wire is used :

- (1) Hybrid
- (2) Mesh
- (3) Tree
- (4) Bus

Options :

212807114673. 1
212807114674. 2
212807114675. 3
212807114676. 4

Question Number : 164 Question Id : 21280728669 Question Type : MCQ Option Shuffling : No Is Question Mandatory : No Calculator : None Response Time : N.A Think Time : N.A Minimum Instruction Time : 0

Correct Marks : 5 Wrong Marks : 1

Question Key Details :

Key	Value
Comprehension	MCQ1

निशा न्यूनतम लागत पर अपने कार्यालय में कम्प्यूटर नेटवर्क इंस्टॉल करना चाहती है। ऐसी टोपोलॉजी के चयन में उसकी सहायता कीजिए जिसमें क्रम तार का उपयोग हो।

- (1) हाइब्रिड
- (2) मेस
- (3) ट्री
- (4) बस

Options :

212807114673. 1
212807114674. 2
212807114675. 3
212807114676. 4

Question Number : 165 Question Id : 21280728670 Question Type : MCQ Option Shuffling : No Is Question Mandatory : No Calculator : None Response Time : N.A Think Time : N.A Minimum Instruction Time : 0

Correct Marks : 5 Wrong Marks : 1

Question Key Details :

Key	Value
Comprehension	MCQ1

Which of the following are true about cookies.

- (A) A cookie is a text file containing a string of information which is transferred by the website to the Browser when we browse it.
- (B) The information stored is retransmitted to the server.
- (C) It helps in customizing the information that will be displayed.
- (D) Cookies are always harmless.
- (E) First cookie software was created in 1994 at Netscape.

Choose the correct answer from the options given below :

- (1) (A), (B), (C) and (D) only
- (2) (A), (B), (C) and (E) only
- (3) (A), (B), (D) and (E) only
- (4) (A), (C), (D) and (E) only

Options :

212807114677. 1
212807114678. 2
212807114679. 3
212807114680. 4

Question Number : 165 Question Id : 21280728670 Question Type : MCQ Option Shuffling : No Is Question Mandatory : No Calculator : None Response Time : N.A Think Time : N.A Minimum Instruction Time : 0

Correct Marks : 5 Wrong Marks : 1

Question Key Details :

Key	Value
Comprehension	MCQ1

निम्नलिखित में से कौन कुकीज के विषय में सही है।

- (A) एक कुकी ऐसी टेक्स्ट फाइल है जिस में जानकारी की एक स्ट्रिंग होती है जो वेब ब्राउजर करते समय वेबसाइट द्वारा ब्राउजर में स्थानांतरित की जाती है।
- (B) स्टोर की गई सूचना सर्वर को दुबारा संचारित होती है।
- (C) यह प्रदर्शित की जाने वाली सूचना को अपने हिसाब से फेरबदल करने में सहायता करती है।
- (D) कुकीज सदैव हानिरहित होती है।
- (E) पहला कुकी सॉफ्टवेयर 1994 नेटस्केप पर बनाया गया था।

नीचे दिए गए विकल्पों में से सही उत्तर का चयन कीजिए :

- (1) केवल (A), (B), (C) और (D)
- (2) केवल (A), (B), (C) और (E)
- (3) केवल (A), (B), (D) और (E)
- (4) केवल (A), (C), (D) और (E)

Options :

- 212807114677. 1
- 212807114678. 2
- 212807114679. 3
- 212807114680. 4

Computer Science

Section Id :	212807730
Section Number :	2
Section type :	Online
Mandatory or Optional :	Optional
Number of Questions :	35
Number of Questions to be attempted :	25
Section Marks :	125
Enable Mark as Answered Mark for Review and Clear Response :	Yes
Maximum Instruction Time :	0
Sub-Section Number :	1
Sub-Section Id :	2128072089
Question Shuffling Allowed :	Yes
Is Section Default? :	null

Question Number : 166 Question Id : 21280728671 Question Type : MCQ Option Shuffling : No Is Question Mandatory : No Calculator : None Response Time : N.A Think Time : N.A Minimum Instruction Time : 0

Correct Marks : 5 Wrong Marks : 1

Question Key Details :

Key	Value
Comprehension	MCQ2

Given an infix expression $((X+Y)*Z)/(5+W)$ write its postfix notation :

- (1) XY+Z5W*+ /
- (2) XYZ5+W*+ /
- (3) XY+Z*5W+ /
- (4) XYZ+*5W+ /

Options :

- 212807114681. 1
- 212807114682. 2
- 212807114683. 3

Question Number : 166 Question Id : 21280728671 Question Type : MCQ Option Shuffling : No Is Question Mandatory : No Calculator : None
Response Time : N.A Think Time : N.A Minimum Instruction Time : 0

Correct Marks : 5 Wrong Marks : 1

Question Key Details :

Key	Value
Comprehension	MCQ2

दिये गये इनफिक्स एक्सप्रेशन $((X+Y)+Z)/(5+W)$ के लिए पोस्टफिक्स नोटेशन लिखिए :

- (1) $XY+Z5W*+ /$
- (2) $XYZ5+W*+ /$
- (3) $XY+Z*5W+ /$
- (4) $XYZ+*5W+ /$

Options :

212807114681. 1

212807114682. 2

212807114683. 3

212807114684. 4

Question Number : 167 Question Id : 21280728672 Question Type : MCQ Option Shuffling : No Is Question Mandatory : No Calculator : None
Response Time : N.A Think Time : N.A Minimum Instruction Time : 0

Correct Marks : 5 Wrong Marks : 1

Question Key Details :

Key	Value
Comprehension	MCQ2

if len(Stack) ==0 :

print("error")

The above statement is handling the situation called :

- (1) Underflow error
- (2) Overflow error
- (3) Empty stack
- (4) Stack length zero

Options :

212807114685. 1

212807114686. 2

212807114687. 3

212807114688. 4

Question Number : 167 Question Id : 21280728672 Question Type : MCQ Option Shuffling : No Is Question Mandatory : No Calculator : None
Response Time : N.A Think Time : N.A Minimum Instruction Time : 0

Correct Marks : 5 Wrong Marks : 1

Question Key Details :

Key	Value
Comprehension	MCQ2


```
if len(Stack) ==0 :  
print("error")
```

उपरोक्त कथन जो परिस्थिति को सम्भाल रहा है, कहलाता है :

- (1) अण्डरफ्लो एरर
- (2) ओवरफ्लो एरर
- (3) एम्प्टी स्टैक
- (4) स्टैक लेंथ ज़ीरो

Options :

- 212807114685. 1
- 212807114686. 2
- 212807114687. 3
- 212807114688. 4

Question Number : 168 Question Id : 21280728673 Question Type : MCQ Option Shuffling : No Is Question Mandatory : No Calculator : None Response Time : N.A Think Time : N.A Minimum Instruction Time : 0

Correct Marks : 5 Wrong Marks : 1

Question Key Details :

Key	Value
Comprehension	MCQ2

Identify the stack in given example :

- (1) Standing in a line to deposit electricity bill
- (2) Jobs in a processor are lined up for access
- (3) Arrangement of plates in a food counter in Buffet
- (4) Waiting for the turn in a singing talent show

Options :

- 212807114689. 1
- 212807114690. 2
- 212807114691. 3
- 212807114692. 4

Question Number : 168 Question Id : 21280728673 Question Type : MCQ Option Shuffling : No Is Question Mandatory : No Calculator : None Response Time : N.A Think Time : N.A Minimum Instruction Time : 0

Correct Marks : 5 Wrong Marks : 1

Question Key Details :

Key	Value
Comprehension	MCQ2

दिये गये उदाहरण में स्टैक को पहचानिए :

- (1) बिजली का बिल जमा करने के लिए लाइन में खड़े होना
- (2) किसी प्रोसेसर में कार्य एक्सेस के लिए पंक्ति बढ़ है
- (3) बुफे में खाने के काउन्टर पर थालियों की व्यवस्था
- (4) गायकों के प्रतिभा शो में अपनी बारी की प्रतीक्षा करना

Options :

- 212807114689. 1
- 212807114690. 2
- 212807114691. 3
- 212807114692. 4

Question Number : 169 Question Id : 21280728674 Question Type : MCQ Option Shuffling : No Is Question Mandatory : No Calculator : None Response Time : N.A Think Time : N.A Minimum Instruction Time : 0

Correct Marks : 5 Wrong Marks : 1

Question Key Details :

Key	Value
Comprehension	MCQ2

Which one of the following statement is wrong for Queue and stack data structures ?

- (1) Queue is an ordered linear data structure, following FIFO strategy
- (2) Insertion in a queue happens at the rear end, deletion happens at the front
- (3) Deque is a version of queue, which allows insertion and deletion at both ends
- (4) A deque supports only queue operations it does not support stack operations

Options :

212807114693. 1

212807114694. 2

212807114695. 3

212807114696. 4

Question Number : 169 Question Id : 21280728674 Question Type : MCQ Option Shuffling : No Is Question Mandatory : No Calculator : None
Response Time : N.A Think Time : N.A Minimum Instruction Time : 0

Correct Marks : 5 Wrong Marks : 1

Question Key Details :

Key	Value
Comprehension	MCQ2

क्यू एवं स्टैक के आंकड़े की संरचना के लिए निम्नलिखित में से कौन सा कथन गलत है ?

- (1) क्यू एक व्यवस्थित रेखिक आंकड़ा संरचना है, FIFO रणनीति का पालन करता हुआ।
- (2) किसी क्यू में शामिल करना पिछले छोर/भाग पर होता है और मिटाना अगले छोर/भाग पर।
- (3) डीक्यू क्यू का ही एक प्रकार है जो अंतःस्थापन और मिटाने को दोनों छोरों पर स्वीकृत करता है।
- (4) एक डीक्यू केवल क्यू ऑपरेशंस को ही सपोर्ट करता है, यह स्टैक ऑपरेशन को सपोर्ट नहीं करता है।

Options :

212807114693. 1

212807114694. 2

212807114695. 3

212807114696. 4

Question Number : 170 Question Id : 21280728675 Question Type : MCQ Option Shuffling : No Is Question Mandatory : No Calculator : None
Response Time : N.A Think Time : N.A Minimum Instruction Time : 0

Correct Marks : 5 Wrong Marks : 1

Question Key Details :

Key	Value
Comprehension	MCQ2

There are five statements listed below. Each statement having some information related to data structure. Identify the correct statement(s).

- (A) A stack is an example of a FIFO data structure
- (B) The function top() removes the value from the top of a stack
- (C) The term deque stands for double ended queue
- (D) A queue is a data structure in which items can be added or removed from either end
- (E) PEEK is an operation used to view elements at the front of the queue, without removing it from the queue

Choose the correct answer from the options given below :

- (1) (A), (C) and (E) only
- (2) (B), (C) and (D) only
- (3) (B) and (E) only
- (4) (C) and (E) only

Options :

- 212807114697. 1
- 212807114698. 2
- 212807114699. 3
- 212807114700. 4

Question Number : 170 Question Id : 21280728675 Question Type : MCQ Option Shuffling : No Is Question Mandatory : No Calculator : None Response Time : N.A Think Time : N.A Minimum Instruction Time : 0

Correct Marks : 5 Wrong Marks : 1

Question Key Details :

Key	Value
Comprehension	MCQ2

नीचे पाँच कथन सुचीबद्ध हैं। प्रत्येक कथन में आँकड़ा संरचना सम्बन्धी सूचनाएं शामिल हैं। सही कथन/कथनों को पहचानिए ?

- (A) एक स्टैक फिफो (FIFO) आँकड़ा संरचना का एक उदाहरण है।
- (B) top() फंक्शन स्टैक के टॉप से मान/मूल्य को हटाता है।
- (C) डीक्यू पद का अर्थ है डबल एण्डेड क्यू
- (D) क्यू एक आँकड़ा संरचना है जिसमें घटकों को किसी भी छोर से जोड़ा या हटाया जा सकता है।
- (E) PEEK क्यू से हटाये बिना घटकों को क्यू के आगे देखने का एक ऑपरेशन है।

नीचे दिए गए विकल्पों में से सही उत्तर का चयन कीजिए :

- (1) केवल (A), (C) और (E)
- (2) केवल (B), (C) और (D)
- (3) केवल (B) और (E)
- (4) केवल (C) और (E)

Options :

- 212807114697. 1
- 212807114698. 2
- 212807114699. 3
- 212807114700. 4

Question Number : 171 Question Id : 21280728676 Question Type : MCQ Option Shuffling : No Is Question Mandatory : No Calculator : None Response Time : N.A Think Time : N.A Minimum Instruction Time : 0

Correct Marks : 5 Wrong Marks : 1

Question Key Details :

Key	Value
Comprehension	MCQ2

Which of the following is(are) true for hashing ?

- (A) The time required to compute the index value is independent of the number of items in the list
- (B) The time required to compute the index value depend on the number of items in the list
- (C) The cost of computing a hash function does not affect the performance of hashing based searching
- (D) The time taken by different hash functions may be different
- (E) There is no problem of collision in hashing

Choose the **correct** answer from the options given below :

- (1) (B), (C) and (E) only
- (2) (A), (D) and (E) only
- (3) (B) and (C) only
- (4) (A) and (D) only

Options :

- 212807114701. 1
- 212807114702. 2
- 212807114703. 3
- 212807114704. 4

Question Number : 171 Question Id : 21280728676 Question Type : MCQ Option Shuffling : No Is Question Mandatory : No Calculator : None Response Time : N.A Think Time : N.A Minimum Instruction Time : 0

Correct Marks : 5 Wrong Marks : 1

Question Key Details :

Key	Value
Comprehension	MCQ2

हैशिंग के लिए निम्नलिखित में से कौन सा सही है ?

- (A) इंडेक्स मान की गणना के लिए आवश्यक समय सूची में घटकों की संख्या पर निर्भर नहीं करता है।
- (B) इंडेक्स मान की गणना के लिए आवश्यक समय सूची में मदों/घटकों की संख्या पर निर्भर करता है।
- (C) हैश फंक्शन के गणना को लागत हैशिंग आधारित खोज के निष्पादन को प्रभावित नहीं करती है।
- (D) अलग हैश फंक्शन द्वारा लिया गया समय भिन्न हो सकता है।
- (E) हैशिंग में कोलिजन की समस्या नहीं होती।

नीचे दिए गए विकल्पों में से **सही** उत्तर का चयन कीजिए :

- (1) केवल (B), (C) और (E)
- (2) केवल (A), (D) और (E)
- (3) केवल (B) और (C)
- (4) केवल (A) और (D)

Options :

- 212807114701. 1
- 212807114702. 2
- 212807114703. 3
- 212807114704. 4

Question Number : 172 Question Id : 21280728677 Question Type : MCQ Option Shuffling : No Is Question Mandatory : No Calculator : None Response Time : N.A Think Time : N.A Minimum Instruction Time : 0

Correct Marks : 5 Wrong Marks : 1

Question Key Details :

Key	Value
Comprehension	MCQ2

Which statement is incorrect in relation to searching an element in a list :

- (1) Linear search checks the elements of a list, one at a time, without skipping any element
- (2) Binary search divides the list into two and check the element accordingly
- (3) Binary search always works on sorted list either ascending or descending
- (4) Linear search can be performed only if the list is sorted either ascending or descending

Options :

- 212807114705. 1
- 212807114706. 2
- 212807114707. 3
- 212807114708. 4

Question Number : 172 Question Id : 21280728677 Question Type : MCQ Option Shuffling : No Is Question Mandatory : No Calculator : None Response Time : N.A Think Time : N.A Minimum Instruction Time : 0

Correct Marks : 5 Wrong Marks : 1

Question Key Details :

Key	Value
Comprehension	MCQ2

किसी सूची में कोई घटक खोजने सम्बन्धी कौन सा कथन गलत है ?

- (1) रैखिक सर्च सूची के सभी घटकों को, एक बार में एक कोई घटक छोड़े बिना जाँचता है।
- (2) बाइनरी सर्च सूची को दो भागों में विभाजित करता है और तदानुसार घटकों को जाँचता है।
- (3) बाइनरी सर्च हमेशा सुव्यवस्थित सूची, या तो आरोही या अवरोही पर कार्य करता है।
- (4) लीनियर सर्च केवल तभी निष्पादित की जा सकती है जब सूची या तो आरोही या अवरोही क्रम में सुव्यवस्थित हो।

Options :

- 212807114705. 1
- 212807114706. 2
- 212807114707. 3
- 212807114708. 4

Question Number : 173 Question Id : 21280728678 Question Type : MCQ Option Shuffling : No Is Question Mandatory : No Calculator : None Response Time : N.A Think Time : N.A Minimum Instruction Time : 0

Correct Marks : 5 Wrong Marks : 1

Question Key Details :

Key	Value
Comprehension	MCQ2

Consider the algorithm :

NameSearch (numList, key,n)

Step1: SET index = 0

Step2: WHILE index < n, REPEAT step3

Step3: IF numlist [index] = key THEN

PRINT "Element found at position", index + 1

STOP

ELSE

index = index + 1

Step4: PRINT "Search unsuccessful"

The algorithm performs

- (1) Random search
- (2) Search by hashing
- (3) Binary search
- (4) Linear search

Options :

212807114709. 1

212807114710. 2

212807114711. 3

212807114712. 4

Question Number : 173 Question Id : 21280728678 Question Type : MCQ Option Shuffling : No Is Question Mandatory : No Calculator : None Response Time : N.A Think Time : N.A Minimum Instruction Time : 0

Correct Marks : 5 Wrong Marks : 1

Question Key Details :

Key	Value
Comprehension	MCQ2

निम्न एल्गोरिथम पर विचार करें :

NameSearch (numList, key,n)

Step1: SET index = 0

Step2: WHILE index < n, REPEAT step3

Step3: IF numlist [index] = key THEN

PRINT "Element found at position", index + 1

STOP

ELSE

index = index + 1

Step4: PRINT "Search unsuccessful"

एल्गोरिथम निष्पादन करता है

- (1) यादृच्छिक खोज
- (2) हैशिंग द्वारा खोज
- (3) बाइनरी खोज
- (4) रैखिक खोज

Options :

212807114709. 1

212807114710. 2

212807114711. 3

212807114712. 4

Question Number : 174 Question Id : 21280728679 Question Type : MCQ Option Shuffling : No Is Question Mandatory : No Calculator : None
Response Time : N.A Think Time : N.A Minimum Instruction Time : 0

Correct Marks : 5 Wrong Marks : 1

Question Key Details :

Key	Value
Comprehension	MCQ2

Consider the following number list [8, 7, 13, 1, -9, 4]

After applying selection sort, which of the list is correct after Pass 3 ?

- (1) [-9, 8, 7, 13, 1, 4]
- (2) [-9, 1, 4, 13, 8, 7]
- (3) [-9, 1, 7, 13, 8, 4]
- (4) [-9, 1, 4, 7, 8, 13]

Options :

212807114713. 1

212807114714. 2

212807114715. 3

212807114716. 4

Question Number : 174 Question Id : 21280728679 Question Type : MCQ Option Shuffling : No Is Question Mandatory : No Calculator : None
Response Time : N.A Think Time : N.A Minimum Instruction Time : 0

Correct Marks : 5 Wrong Marks : 1

Question Key Details :

Key	Value
Comprehension	MCQ2

निम्नलिखित संख्या सूची पर विचार करें [8, 7, 13, 1, -9, 4]

सेलेक्शन सॉर्ट लागू करने के बाद, पास 3 के बाद कौन सी सूची सही है ?

- (1) [-9, 8, 7, 13, 1, 4]
- (2) [-9, 1, 4, 13, 8, 7]
- (3) [-9, 1, 7, 13, 8, 4]
- (4) [-9, 1, 4, 7, 8, 13]

Options :

212807114713. 1

212807114714. 2

212807114715. 3

212807114716. 4

Question Number : 175 Question Id : 21280728680 Question Type : MCQ Option Shuffling : No Is Question Mandatory : No Calculator : None
Response Time : N.A Think Time : N.A Minimum Instruction Time : 0

Correct Marks : 5 Wrong Marks : 1

Question Key Details :

Key	Value
Comprehension	MCQ2

Consider that :

a = [20, 30, 40]

b = a

b[0] = 72

print (a)

The output will be :

(1) [72, 30, 40]

(2) [20, 30, 40]

(3) Error

(4) [72, 72, 72]

Options :

212807114717. 1

212807114718. 2

212807114719. 3

212807114720. 4

Question Number : 175 Question Id : 21280728680 Question Type : MCQ Option Shuffling : No Is Question Mandatory : No Calculator : None
Response Time : N.A Think Time : N.A Minimum Instruction Time : 0

Correct Marks : 5 Wrong Marks : 1

Question Key Details :

Key	Value
Comprehension	MCQ2

विचार कीजिए कि :

a = [20, 30, 40]

b = a

b[0] = 72

print (a)

परिणाम/आउटपुट होगा :

(1) [72, 30, 40]

(2) [20, 30, 40]

(3) त्रुटि

(4) [72, 72, 72]

Options :

212807114717. 1

212807114718. 2

212807114719. 3

212807114720. 4

Question Number : 176 Question Id : 21280728681 Question Type : MCQ Option Shuffling : No Is Question Mandatory : No Calculator : None
Response Time : N.A Think Time : N.A Minimum Instruction Time : 0

Correct Marks : 5 Wrong Marks : 1

Question Key Details :

Key	Value
Comprehension	MCQ2

What is the number of passes made by bubble sort for a list containing n elements ?

(1) n

(2) (n-1)

(3) (n+1)

(4) (n+2)

Options :

212807114721. 1
 212807114722. 2
 212807114723. 3
 212807114724. 4

Question Number : 176 Question Id : 21280728681 Question Type : MCQ Option Shuffling : No Is Question Mandatory : No Calculator : None Response Time : N.A Think Time : N.A Minimum Instruction Time : 0

Correct Marks : 5 Wrong Marks : 1

Question Key Details :

Key	Value
Comprehension	MCQ2

n घटकों वाली सूची के लिए बबल सॉर्ट द्वारा किये गये पासों की संख्या क्या है ?

- (1) n
 (2) (n-1)
 (3) (n+1)
 (4) (n+2)

Options :

212807114721. 1
 212807114722. 2
 212807114723. 3
 212807114724. 4

Question Number : 177 Question Id : 21280728682 Question Type : MCQ Option Shuffling : No Is Question Mandatory : No Calculator : None Response Time : N.A Think Time : N.A Minimum Instruction Time : 0

Correct Marks : 5 Wrong Marks : 1

Question Key Details :

Key	Value
Comprehension	MCQ2

In data processing cycle after generating output, data is summarized using some statistical techniques. Choose the technique that is not used for Data summarization from the options given below :

- (A) Mean
 (B) Matplotlib
 (C) Mode
 (D) Rank
 (E) Numpy

Choose the correct answer from the options given below :

- (1) (A) and (C) only
 (2) (B) and (E) only
 (3) (C) and (D) only
 (4) (A) and (D) only

Options :

212807114725. 1
 212807114726. 2
 212807114727. 3
 212807114728. 4

Question Number : 177 Question Id : 21280728682 Question Type : MCQ Option Shuffling : No Is Question Mandatory : No Calculator : None Response Time : N.A Think Time : N.A Minimum Instruction Time : 0

Correct Marks : 5 Wrong Marks : 1

Question Key Details :

Key	Value
Comprehension	MCQ2

आंकड़ा संसाधन चक्र में आउटपुट निष्पादन के पश्चात, कुछ सांख्यिकीय तकनीकों का उपयोग करके आंकड़े को संक्षिप्त किया जाता है। नीचे दिये गये विकल्पों में से उस तकनीक का चयन करें जिसका उपयोग आंकड़ा संक्षेपण में नहीं किया जाता है :

- (A) माध्य
- (B) मेटप्लॉटलिब
- (C) बहुलक
- (D) रैंक
- (E) नम्पी

नीचे दिए गए विकल्पों में से सही उत्तर का चयन कीजिए :

- (1) केवल (A) और (C)
- (2) केवल (B) और (E)
- (3) केवल (C) और (D)
- (4) केवल (A) और (D)

Options :

- 212807114725. 1
- 212807114726. 2
- 212807114727. 3
- 212807114728. 4

Question Number : 178 Question Id : 21280728683 Question Type : MCQ Option Shuffling : No Is Question Mandatory : No Calculator : None Response Time : N.A Think Time : N.A Minimum Instruction Time : 0

Correct Marks : 5 Wrong Marks : 1

Question Key Details :

Key	Value
Comprehension	MCQ2

Which of the following is correct for standard deviation, where \bar{X} = mean

- (1) $\sigma = \frac{\sqrt{\sum_{i=1}^n (X_i - \bar{X})^2}}{n}$
- (2) $\sigma = \sqrt{\frac{\sum_{i=1}^n (X_i - \bar{X})^2}{n}}$
- (3) $\sigma = \sqrt{\sum_{i=1}^n \left(\frac{(X_i - \bar{X})}{n} \right)^2}$
- (4) $\sigma = \sqrt{\sum_{i=1}^n \left(\frac{X_i - \bar{X}}{n} \right)}$

Options :

- 212807114729. 1

212807114730. 2
212807114731. 3
212807114732. 4

Question Number : 178 Question Id : 21280728683 Question Type : MCQ Option Shuffling : No Is Question Mandatory : No Calculator : None
Response Time : N.A Think Time : N.A Minimum Instruction Time : 0

Correct Marks : 5 Wrong Marks : 1

Question Key Details :

Key	Value
Comprehension	MCQ2

मानक विचलन के लिए निम्नलिखित में से कौन सा सही है, जहाँ \bar{X} = माध्य

$$(1) \quad \sigma = \frac{\sqrt{\sum_{i=1}^n (X_i - \bar{X})^2}}{n}$$

$$(2) \quad \sigma = \sqrt{\frac{\sum_{i=1}^n (X_i - \bar{X})^2}{n}}$$

$$(3) \quad \sigma = \sqrt{\sum_{i=1}^n \left(\frac{X_i - \bar{X}}{n} \right)^2}$$

$$(4) \quad \sigma = \sqrt{\sum_{i=1}^n \left(\frac{X_i - \bar{X}}{n} \right)}$$

Options :

212807114729. 1
212807114730. 2
212807114731. 3
212807114732. 4

Question Number : 179 Question Id : 21280728684 Question Type : MCQ Option Shuffling : No Is Question Mandatory : No Calculator : None
Response Time : N.A Think Time : N.A Minimum Instruction Time : 0

Correct Marks : 5 Wrong Marks : 1

Question Key Details :

Key	Value
Comprehension	MCQ2

Unstructured data are sometimes described with the help of some other data is called _____.

- (1) List
- (2) Values
- (3) Key
- (4) Metadata

Options :

212807114733. 1
212807114734. 2
212807114735. 3
212807114736. 4

Question Number : 179 Question Id : 21280728684 Question Type : MCQ Option Shuffling : No Is Question Mandatory : No Calculator : None
Response Time : N.A Think Time : N.A Minimum Instruction Time : 0

Correct Marks : 5 Wrong Marks : 1

Question Key Details :

Key	Value
Comprehension	MCQ2

अव्यवस्थित आंकड़े का वर्णन कभी-कभी कुछ अन्य आंकड़ों की सहायता से करते हैं _____ ।

- (1) सूची
- (2) मान/मूल्य
- (3) कुंजी
- (4) मेटा डेटा

Options :

212807114733. 1
212807114734. 2
212807114735. 3
212807114736. 4

Question Number : 180 Question Id : 21280728685 Question Type : MCQ Option Shuffling : No Is Question Mandatory : No Calculator : None
Response Time : N.A Think Time : N.A Minimum Instruction Time : 0

Correct Marks : 5 Wrong Marks : 1

Question Key Details :

Key	Value
Comprehension	MCQ2

Match List - I with List - II.

List - I

- (A) Relation
- (B) Tuple
- (C) Degree
- (D) Cardinality

List - II

- (I) Number of rows
- (II) Logically related data organised in a table
- (III) Number of columns
- (IV) Row in a table

Choose the **correct** answer from the options given below :

- (1) (A)-(II), (B)-(I), (C)-(IV), (D)-(III)
- (2) (A)-(II), (B)-(III), (C)-(I), (D)-(IV)
- (3) (A)-(III), (B)-(IV), (C)-(II), (D)-(I)
- (4) (A)-(II), (B)-(IV), (C)-(III), (D)-(I)

Options :

212807114737. 1
212807114738. 2
212807114739. 3
212807114740. 4

Question Number : 180 Question Id : 21280728685 Question Type : MCQ Option Shuffling : No Is Question Mandatory : No Calculator : None
Response Time : N.A Think Time : N.A Minimum Instruction Time : 0

Correct Marks : 5 Wrong Marks : 1

Question Key Details :

Key	Value
Comprehension	MCQ2

सूची-I से सूची-II का मिलान कीजिए :

सूची-I	सूची-II
(A) रिलेशन	(I) पंक्तियों की संख्या
(B) टपल	(II) किसी तालिका में तार्किक रूप से संबंधित आंकड़ों की व्यवस्था
(C) डिग्री	(III) स्तंभों की संख्या
(D) कार्डिनैलिटी	(IV) किसी तालिका में पंक्त

नीचे दिए गए विकल्पों में से सही उत्तर का चयन कीजिए :

- (1) (A)-(II), (B)-(I), (C)-(IV), (D)-(III)
- (2) (A)-(II), (B)-(III), (C)-(I), (D)-(IV)
- (3) (A)-(III), (B)-(IV), (C)-(II), (D)-(I)
- (4) (A)-(II), (B)-(IV), (C)-(III), (D)-(I)

Options :

212807114737. 1
212807114738. 2
212807114739. 3
212807114740. 4

Question Number : 181 Question Id : 21280728686 Question Type : MCQ Option Shuffling : No Is Question Mandatory : No Calculator : None
Response Time : N.A Think Time : N.A Minimum Instruction Time : 0

Correct Marks : 5 Wrong Marks : 1

Question Key Details :

Key	Value
Comprehension	MCQ2

Which of the following are true about DBMS ?

- (A) Each attribute should have unique name
- (B) Order of attribute is immaterial
- (C) Each tuple should be unique
- (D) The values of attributes do not belong to same domain
- (E) An attribute can have multiple values in tuple

Choose the correct answer from the options given below :

- (1) (A), (B) and (E) only
- (2) (A), (B), (C) and (D) only
- (3) (A), (B) and (C) only
- (4) (A), (B) and (D) only

Options :

212807114741. 1
212807114742. 2
212807114743. 3
212807114744. 4

Question Number : 181 Question Id : 21280728686 Question Type : MCQ Option Shuffling : No Is Question Mandatory : No Calculator : None
Response Time : N.A Think Time : N.A Minimum Instruction Time : 0

Correct Marks : 5 Wrong Marks : 1

Question Key Details :

Key	Value
Comprehension	MCQ2

निम्नलिखित में से कौन से DBMS के बारे में सही हैं ?

- (A) प्रत्येक गुण का अद्वितीय नाम होना चाहिए
- (B) गुण का क्रम अनावश्यक है
- (C) प्रत्येक टपल अद्वितीय होना चाहिए
- (D) गुणों के मान एक डोमेन से नहीं सम्बन्धित होते हैं
- (E) टपल में एक गुण के कई मान हो सकते हैं

नीचे दिए गए विकल्पों में से सही उत्तर का चयन कीजिए :

- (1) केवल (A), (B) और (E)
- (2) केवल (A), (B), (C) और (D)
- (3) केवल (A), (B) और (C)
- (4) केवल (A), (B) और (D)

Options :

- 212807114741. 1
- 212807114742. 2
- 212807114743. 3
- 212807114744. 4

Question Number : 182 Question Id : 21280728687 Question Type : MCQ Option Shuffling : No Is Question Mandatory : No Calculator : None Response Time : N.A Think Time : N.A Minimum Instruction Time : 0

Correct Marks : 5 Wrong Marks : 1

Question Key Details :

Key	Value
Comprehension	MCQ2

What will be the output of the given SQL Query

```
SELECT DAY("2023-03-01");
```

- (1) Thursday
- (2) 1
- (3) 2023-03-01
- (4) 3

Options :

- 212807114745. 1
- 212807114746. 2
- 212807114747. 3
- 212807114748. 4

Question Number : 182 Question Id : 21280728687 Question Type : MCQ Option Shuffling : No Is Question Mandatory : No Calculator : None Response Time : N.A Think Time : N.A Minimum Instruction Time : 0

Correct Marks : 5 Wrong Marks : 1

Question Key Details :

Key	Value
Comprehension	MCQ2

दी गई SQL क्वेरी का आउटपुट/परिणाम क्या होगा

```
SELECT DAY("2023-03-01");
```

- (1) Thursday
- (2) 1
- (3) 2023-03-01
- (4) 3

Options :

212807114745. 1
212807114746. 2
212807114747. 3
212807114748. 4

Question Number : 183 Question Id : 21280728688 Question Type : MCQ Option Shuffling : No Is Question Mandatory : No Calculator : None Response Time : N.A Think Time : N.A Minimum Instruction Time : 0

Correct Marks : 5 Wrong Marks : 1

Question Key Details :

Key	Value
Comprehension	MCQ2

Consider a table P with 4 rows and 5 columns and table S with 6 rows and 3 columns. What will be the size of resultant table if we apply Cartesian product ?

- (1) No. of rows = 6, No. of columns = 5
- (2) No. of rows = 4, No. of columns = 3
- (3) No. of rows = 8, No. of columns = 24
- (4) No. of rows = 24, No. of columns = 8

Options :

212807114749. 1
212807114750. 2
212807114751. 3
212807114752. 4

Question Number : 183 Question Id : 21280728688 Question Type : MCQ Option Shuffling : No Is Question Mandatory : No Calculator : None Response Time : N.A Think Time : N.A Minimum Instruction Time : 0

Correct Marks : 5 Wrong Marks : 1

Question Key Details :

Key	Value
Comprehension	MCQ2

4 पंक्तियों और 5 स्तंभों वाली तालिका P और 6 पंक्ति और 3 स्तंभ वाली तालिका S पर विचार करें। यदि हम कार्टेशियन प्रोडक्ट लागू करते हैं तो परिणामी तालिका का आकार क्या होगा ?

- (1) पंक्तियाँ = 6, स्तंभ = 5
- (2) पंक्तियाँ = 4, स्तंभ = 3
- (3) पंक्तियाँ = 8, स्तंभ = 24
- (4) पंक्तियाँ = 24, स्तंभ = 8

Options :

212807114749. 1
212807114750. 2
212807114751. 3
212807114752. 4

Question Number : 184 Question Id : 21280728689 Question Type : MCQ Option Shuffling : No Is Question Mandatory : No Calculator : None Response Time : N.A Think Time : N.A Minimum Instruction Time : 0

Correct Marks : 5 Wrong Marks : 1

Question Key Details :

Key	Value
Comprehension	MCQ2

Match List - I with List - II.

List - I

- (A) Round()
- (B) Rtrim()
- (C) Count()
- (D) Monthname()

List - II

- (I) Date function
- (II) Aggregate function
- (III) Math function
- (IV) String function

Choose the correct answer from the options given below :

- (1) (A)-(IV), (B)-(III), (C)-(II), (D)-(I)
- (2) (A)-(III), (B)-(IV), (C)-(II), (D)-(I)
- (3) (A)-(III), (B)-(II), (C)-(I), (D)-(IV)
- (4) (A)-(IV), (B)-(II), (C)-(I), (D)-(III)

Options :

- 212807114753. 1
- 212807114754. 2
- 212807114755. 3
- 212807114756. 4

Question Number : 184 Question Id : 21280728689 Question Type : MCQ Option Shuffling : No Is Question Mandatory : No Calculator : None Response Time : N.A Think Time : N.A Minimum Instruction Time : 0

Correct Marks : 5 Wrong Marks : 1

Question Key Details :

Key	Value
Comprehension	MCQ2

सूची-I से सूची-II का मिलान कीजिए :

सूची-I

- (A) Round()
- (B) Rtrim()
- (C) Count()
- (D) Monthname()

सूची-II

- (I) डेट फंक्शन
- (II) एग्रीगेट फंक्शन
- (III) मैथ फंक्शन
- (IV) स्ट्रिंग फंक्शन

नीचे दिए गए विकल्पों में से सही उत्तर का चयन कीजिए :

- (1) (A)-(IV), (B)-(III), (C)-(II), (D)-(I)
- (2) (A)-(III), (B)-(IV), (C)-(II), (D)-(I)
- (3) (A)-(III), (B)-(II), (C)-(I), (D)-(IV)
- (4) (A)-(IV), (B)-(II), (C)-(I), (D)-(III)

Options :

- 212807114753. 1
- 212807114754. 2
- 212807114755. 3
- 212807114756. 4

Question Number : 185 Question Id : 21280728690 Question Type : MCQ Option Shuffling : No Is Question Mandatory : No Calculator : None Response Time : N.A Think Time : N.A Minimum Instruction Time : 0

Correct Marks : 5 Wrong Marks : 1

Question Key Details :

Key	Value
Comprehension	MCQ2

Which operator is used to match a pattern or string in SQL ?

- (1) In
- (2) Between
- (3) Join
- (4) Like

Options :

- 212807114757. 1
- 212807114758. 2
- 212807114759. 3
- 212807114760. 4

Question Number : 185 Question Id : 21280728690 Question Type : MCQ Option Shuffling : No Is Question Mandatory : No Calculator : None Response Time : N.A Think Time : N.A Minimum Instruction Time : 0

Correct Marks : 5 Wrong Marks : 1

Question Key Details :

Key	Value
Comprehension	MCQ2

SQL में एक पैटर्न या स्ट्रिंग को मिलाने के लिए किस ऑपरेटर का उपयोग होता है ?

- (1) In
- (2) Between
- (3) Join
- (4) Like

Options :

- 212807114757. 1
- 212807114758. 2
- 212807114759. 3
- 212807114760. 4

Sub-Section Number : 2
Sub-Section Id : 2128072090
Question Shuffling Allowed : No
Is Section Default? : null

Question Number : 186 Question Id : 21280728691 Question Type : MCQ Option Shuffling : No Is Question Mandatory : No Calculator : None Response Time : N.A Think Time : N.A Minimum Instruction Time : 0

Correct Marks : 5 Wrong Marks : 1

Question Key Details :

Key	Value
Comprehension	Comp1

Arjun has been given following incomplete code, which takes a student details (name, marks) and writes into a binary file student.dat.

```
import pickle
sname = input("enter name")
smarks = int(input("enter marks"))
stdict = {"Name" : sname, "Marks" : smarks}
_____ : # line 1
_____ : # line 2
_____ : # line 3
_____ : # line 4

print (r)
if r["marks"] >= 85 :
    print("eligible for scholarship")
else :
    print("not eligible for scholarship")
```

Complete code for line 1 to open the given binary file in f object using with statement :

- (1) with open(student.dat, "w") as f :
- (2) with open("student.dat ","wb") as f :
- (3) with open("student.dat ",w) as f :
- (4) with open("student.dat","wb") in f :

Options :

- 212807114761. 1
- 212807114762. 2
- 212807114763. 3
- 212807114764. 4

Question Number : 186 Question Id : 21280728691 Question Type : MCQ Option Shuffling : No Is Question Mandatory : No Calculator : None Response Time : N.A Think Time : N.A Minimum Instruction Time : 0

Correct Marks : 5 Wrong Marks : 1

Question Key Details :

Key	Value
Comprehension	Comp1

अर्जुन को निम्नलिखित अधूरा कोड दिया गया जोकि छात्रों के विवरण (नाम, अंक) की तालिका है और बाइनरी फाइल student.dat. में लिखता है।

```
import pickle
sname = input("enter name")
smarks = int(input("enter marks"))
stdict = {"Name" : sname, "Marks" : smarks}
_____ : # line 1
_____ : # line 2
_____ : # line 3
_____ : # line 4

print (r)
if r["marks"] >= 85 :
    print("eligible for scholarship")
else :
    print("not eligible for scholarship")
```

With स्टेटमेंट/कथन का उपयोग करके दी गई बाइनरी फाइल को f ऑब्जेक्ट में खोलने के लिए लाइन 1 के लिए पूर्ण कोड :

- (1) with open(student.dat, "w") as f :
- (2) with open("student.dat ","wb") as f :
- (3) with open("student.dat ",w) as f :
- (4) with open("student.dat","wb") in f :

Options :

- 212807114761. 1
- 212807114762. 2
- 212807114763. 3
- 212807114764. 4

Question Number : 187 Question Id : 21280728692 Question Type : MCQ Option Shuffling : No Is Question Mandatory : No Calculator : None Response Time : N.A Think Time : N.A Minimum Instruction Time : 0

Correct Marks : 5 Wrong Marks : 1

Question Key Details :

Key	Value
Comprehension	Comp1

Arjun has been given following incomplete code, which takes a student details (name, marks) and writes into a binary file student.dat.

```
import pickle
sname = input("enter name")
smarks = int(input("enter marks"))
stdict = {"Name" : sname, "Marks" : smarks}
_____ : # line 1
_____ : # line 2
_____ : # line 3
_____ : # line 4

print (r)
if r["marks"] >= 85 :
    print("eligible for scholarship")
else :
    print("not eligible for scholarship")
```

Identify correct code for line 2 to write the contents in the file :

- (1) f.dump()
- (2) pickle.dump()
- (3) pickle.dump(stdict)
- (4) pickle.dump(stdict,f)

Options :

- 212807114765. 1
- 212807114766. 2
- 212807114767. 3
- 212807114768. 4

Question Number : 187 Question Id : 21280728692 Question Type : MCQ Option Shuffling : No Is Question Mandatory : No Calculator : None Response Time : N.A Think Time : N.A Minimum Instruction Time : 0

Correct Marks : 5 Wrong Marks : 1

Question Key Details :

Key	Value
Comprehension	Comp1

अर्जुन को निम्नलिखित अधूरा कोड दिया गया जो कि छात्रों के विवरण (नाम, अंक) को तेला है और बाइनरी फाइल student.dat. में लिखता है।

```
import pickle
sname = input("enter name")
smarks = int(input("enter marks"))
stdict = {"Name" : sname, "Marks" : smarks}
_____ : # line 1
_____ : # line 2
_____ : # line 3
_____ : # line 4

print (r)
if r["marks"] >= 85 :
    print("eligible for scholarship")
else :
    print("not eligible for scholarship")
```

फाइल में विषय वस्तु को लिखने के लिए पंक्ति/लाइन 2 के लिए सही कोड को पहचानिए :

- (1) f.dump()
- (2) pickle.dump()
- (3) pickle.dump(stdict)
- (4) pickle.dump(stdict,f)

Options :

- 212807114765. 1
- 212807114766. 2
- 212807114767. 3
- 212807114768. 4

Question Number : 188 Question Id : 21280728693 Question Type : MCQ Option Shuffling : No Is Question Mandatory : No Calculator : None Response Time : N.A Think Time : N.A Minimum Instruction Time : 0

Correct Marks : 5 Wrong Marks : 1

Question Key Details :

Key	Value
Comprehension	Comp1

Arjun has been given following incomplete code, which takes a student details (name, marks) and writes into a binary file student.dat.

```
import pickle
sname = input("enter name")
smarks = int(input("enter marks"))
stdict = {"Name" : sname, "Marks" : smarks}
_____ : # line 1
_____ : # line 2
_____ : # line 3
_____ : # line 4

print (r)
if r["marks"] >= 85 :
    print("eligible for scholarship")
else :
    print("not eligible for scholarship")
```

Use with statement and identify correct code to open the created file for reading in f1 for line 3.

- (1) with open("student.dat","rb") as f1 :
- (2) with open("student.dat") as f1 :
- (3) with open("student") as f1 :
- (4) with open("student.txt") as f1 :

Options :

- 212807114769. 1
- 212807114770. 2
- 212807114771. 3
- 212807114772. 4

Question Number : 188 Question Id : 21280728693 Question Type : MCQ Option Shuffling : No Is Question Mandatory : No Calculator : None Response Time : N.A Think Time : N.A Minimum Instruction Time : 0

Correct Marks : 5 Wrong Marks : 1

Question Key Details :

Key	Value
Comprehension	Comp1

अर्जुन को निम्नलिखित अधूरा कोड दिया गया जो कि छात्रों के विवरण (नाम, अंक) को तेला है और बाइनरी फाइल student.dat. में लिखता है।

```
import pickle
sname = input("enter name")
smarks = int(input("enter marks"))
stdict = {"Name" : sname, "Marks" : smarks}
_____ : # line 1
_____ : # line 2
_____ : # line 3
_____ : # line 4

print (r)
if r["marks"] >= 85 :
    print("eligible for scholarship")
else :
    print("not eligible for scholarship")
```

With कथन का प्रयोग कर और f1 में पंक्ति 3 के लिए बनाई गई फाइल को पढ़ने के लिए खोलने के सही कोड को पहचानिए :

- (1) with open("student.dat","rb") as f1 :
- (2) with open("student.dat") as f1 :
- (3) with open("student") as f1 :
- (4) with open("student.txt") as f1 :

Options :

- 212807114769. 1
- 212807114770. 2
- 212807114771. 3
- 212807114772. 4

Question Number : 189 Question Id : 21280728694 Question Type : MCQ Option Shuffling : No Is Question Mandatory : No Calculator : None Response Time : N.A Think Time : N.A Minimum Instruction Time : 0

Correct Marks : 5 Wrong Marks : 1

Question Key Details :

Key	Value
Comprehension	Comp1

Arjun has been given following incomplete code, which takes a student details (name, marks) and writes into a binary file student.dat.

```
import pickle
sname = input("enter name")
smarks = int(input("enter marks"))
stdict = {"Name" : sname, "Marks" : smarks}
_____ : # line 1
_____ : # line 2
_____ : # line 3
_____ : # line 4

print (r)
if r["marks"] >= 85 :
    print("eligible for scholarship")
else :
    print("not eligible for scholarship")
```

Complete code for line 4 to read the contents into a dictionary r :

- (1) r = pickle.load(f1)
- (2) pickle.load(f1) = r
- (3) f1 = pickle.load(r)
- (4) pickle.load(r) = f1

Options :

- 212807114773. 1
- 212807114774. 2
- 212807114775. 3
- 212807114776. 4

Question Number : 189 Question Id : 21280728694 Question Type : MCQ Option Shuffling : No Is Question Mandatory : No Calculator : None Response Time : N.A Think Time : N.A Minimum Instruction Time : 0

Correct Marks : 5 Wrong Marks : 1

Question Key Details :

Key	Value
Comprehension	Comp1

अर्जुन को निम्नलिखित अधूरा कोड दिया गया जो कि छात्रों के विवरण (नाम, अंक) को तेला है और बाइनरी फाइल student.dat. में लिखता है।

```
import pickle
sname = input("enter name")
smarks = int(input("enter marks"))
stdict = {"Name" : sname, "Marks" : smarks}
_____ : # line 1
_____ : # line 2
_____ : # line 3
_____ : # line 4

print (r)
if r["marks"] >= 85 :
    print("eligible for scholarship")
else :
    print("not eligible for scholarship")
```

शब्दकोश r के विषयवस्तु को पढ़ने के लिए पंक्ति 4 के लिए पूर्ण कोड :

- (1) r = pickle.load(f1)
- (2) pickle.load(f1) = r
- (3) f1 = pickle.load(r)
- (4) pickle.load(r) = f1

Options :

- 212807114773. 1
- 212807114774. 2
- 212807114775. 3
- 212807114776. 4

Question Number : 190 Question Id : 21280728695 Question Type : MCQ Option Shuffling : No Is Question Mandatory : No Calculator : None Response Time : N.A Think Time : N.A Minimum Instruction Time : 0

Correct Marks : 5 Wrong Marks : 1

Question Key Details :

Key	Value
Comprehension	Comp1

Arjun has been given following incomplete code, which takes a student details (name, marks) and writes into a binary file student.dat.

```
import pickle
sname = input("enter name")
smarks = int(input("enter marks"))
stdict = {"Name" : sname, "Marks" : smarks}
_____ : # line 1
_____ : # line 2
_____ : # line 3
_____ : # line 4

print (r)
if r["marks"] >= 85 :
    print("eligible for scholarship")
else :
    print("not eligible for scholarship")
```

If we give value of name as Arun and marks as 86 then the output is :

- (1) {'Name':'Arun','Marks'=86}
- (2) {[Name:Arun],[Marks:86]}
eligible for scholarship
- (3) {'Name':'Arun','Marks':86}
eligible for scholarship
- (4) eligible for scholarship

Options :

- 212807114777. 1
- 212807114778. 2
- 212807114779. 3
- 212807114780. 4

Question Number : 190 Question Id : 21280728695 Question Type : MCQ Option Shuffling : No Is Question Mandatory : No Calculator : None Response Time : N.A Think Time : N.A Minimum Instruction Time : 0

Correct Marks : 5 Wrong Marks : 1

Question Key Details :

Key	Value
Comprehension	Compl

अर्जुन को निम्नलिखित अधूरा कोड दिया गया जो कि छात्रों के विवरण (नाम, अंक) को तेला है और बाइनरी फाइल student.dat. में लिखता है।

```
import pickle
sname = input("enter name")
smarks = int(input("enter marks"))
stdict = {"Name" : sname, "Marks" : smarks}
_____ : # line 1
_____ : # line 2
_____ : # line 3
_____ : # line 4

print (r)
if r["marks"] >= 85 :
    print("eligible for scholarship")
else :
    print("not eligible for scholarship")
```

यदि हम नाम को Arun और marks को 86 मान प्रदान करें तो आउटपुट होगा :

- (1) {'Name': 'Arun', 'Marks': 86}
- (2) {[Name:Arun],[Marks:86]}
eligible for scholarship
- (3) {'Name': 'Arun', 'Marks': 86}
eligible for scholarship
- (4) eligible for scholarship

Options :

- 212807114777. 1
- 212807114778. 2
- 212807114779. 3
- 212807114780. 4

Sub-Section Number : 3
Sub-Section Id : 2128072091
Question Shuffling Allowed : No
Is Section Default? : null

Question Number : 191 Question Id : 21280728696 Question Type : MCQ Option Shuffling : No Is Question Mandatory : No Calculator : None
Response Time : N.A Think Time : N.A Minimum Instruction Time : 0

Correct Marks : 5 Wrong Marks : 1

Question Key Details :

Key	Value
Comprehension	Comp2

St. Angles school at Mumbai is setting up the network between its different wings of school campus. There are 4 buildings named Senior(S), Junior(J), Admin(A) and Hostel(H).

Senior (S)

Junior (J)

Admin (A)

Hostel (H)

Distance between various wings

A to S	100m
A to J	110m
A to H	400m
S to J	300m
S to H	170m
J to H	80m

No. of computers in each wing

wing A	20
wing S	150
wing J	50
wing H	25

Suggest the most suitable place to house the server :

- (1) Hostel
- (2) Junior
- (3) Admin
- (4) Senior

Options :

- 212807114781. 1
- 212807114782. 2
- 212807114783. 3
- 212807114784. 4

Question Number : 191 Question Id : 21280728696 Question Type : MCQ Option Shuffling : No Is Question Mandatory : No Calculator : None Response Time : N.A Think Time : N.A Minimum Instruction Time : 0

Correct Marks : 5 Wrong Marks : 1

Question Key Details :

Key	Value
Comprehension	Comp2

मुम्बई का सेंट एंजल्स स्कूल अपने स्कूल प्रांगण के विभिन्न विंग्स के बीच नेटवर्क स्थापित कर रहा है। प्रांगण में सीनियर (S), जूनियर (J), एडमिन (A) और हॉस्टल (H) नाम की 4 इमारतें हैं।

Senior (S)

Junior (J)

Admin (A)

Hostel (H)

विभिन्न विंग्स के मध्य दूरी

A to S	100m
A to J	110m
A to H	400m
S to J	300m
S to H	170m
J to H	80m

प्रत्येक विंग में कंप्यूटर की संख्या

wing A	20
wing S	150
wing J	50
wing H	25

सर्वर को स्थापित करने के लिए सबसे उपयुक्त स्थान का सुझाव दें :

- (1) हॉस्टल
- (2) जूनियर
- (3) एडमिन
- (4) सीनियर

Options :

212807114781. 1
212807114782. 2
212807114783. 3
212807114784. 4

Question Number : 192 Question Id : 21280728697 Question Type : MCQ Option Shuffling : No Is Question Mandatory : No Calculator : None Response Time : N.A Think Time : N.A Minimum Instruction Time : 0

Correct Marks : 5 Wrong Marks : 1

Question Key Details :

Key	Value
Comprehension	Comp2

St. Angles school at Mumbai is setting up the network between its different wings of school campus. There are 4 buildings named Senior(S), Junior(J), Admin(A) and Hostel(H).

Senior (S)

Junior (J)

Admin (A)

Hostel (H)

Distance between various wings

A to S	100m
A to J	110m
A to H	400m
S to J	300m
S to H	170m
J to H	80m

No. of computers in each wing

wing A	20
wing S	150
wing J	50
wing H	25

Select the device that should be installed so that the signals when transmitted between the wings get regenerated.

- (1) Repeater
- (2) Switch
- (3) Modem
- (4) Firewall

Options :

- 212807114785. 1
- 212807114786. 2
- 212807114787. 3
- 212807114788. 4

Question Number : 192 Question Id : 21280728697 Question Type : MCQ Option Shuffling : No Is Question Mandatory : No Calculator : None Response Time : N.A Think Time : N.A Minimum Instruction Time : 0

Correct Marks : 5 Wrong Marks : 1

Question Key Details :

Key	Value
Comprehension	Comp2

मुम्बई का सेंट एंजल्स स्कूल अपने स्कूल प्रांगण के विभिन्न विंग्स के बीच नेटवर्क स्थापित कर रहा है। प्रांगण में सीनियर (S), जूनियर (J), एडमिन (A) और हॉस्टल (H) नाम की 4 इमारतें हैं।

Senior (S)

Junior (J)

Admin (A)

Hostel (H)

विभिन्न विंग्स के मध्य दूरी

A to S	100m
A to J	110m
A to H	400m
S to J	300m
S to H	170m
J to H	80m

प्रत्येक विंग में कंप्यूटर की संख्या

wing A	20
wing S	150
wing J	50
wing H	25

उस उपकरण का चयन कीजिए जिसे इंस्टॉल किया जाना चाहिए ताकि विंग्स के मध्य संकेतों/सिग्नल्स का संचरण हो तो उनका पुनर् उत्पादन हो सके :

- (1) रिपीटर
- (2) स्विच
- (3) मोडेम
- (4) फायरवॉल

Options :

212807114785. 1
212807114786. 2
212807114787. 3
212807114788. 4

Question Number : 193 Question Id : 21280728698 Question Type : MCQ Option Shuffling : No Is Question Mandatory : No Calculator : None Response Time : N.A Think Time : N.A Minimum Instruction Time : 0

Correct Marks : 5 Wrong Marks : 1

Question Key Details :

Key	Value
Comprehension	Comp2

St. Angles school at Mumbai is setting up the network between its different wings of school campus. There are 4 buildings named Senior(S), Junior(J), Admin(A) and Hostel(H).

Senior (S)

Junior (J)

Admin (A)

Hostel (H)

Distance between various wings

A to S	100m
A to J	110m
A to H	400m
S to J	300m
S to H	170m
J to H	80m

No. of computers in each wing

wing A	20
wing S	150
wing J	50
wing H	25

_____ Should be installed in wing S in order to ensure data security for the entire network.

- (1) Router
- (2) Gateway
- (3) Firewall
- (4) Modem

Options :

- 212807114789. 1
- 212807114790. 2
- 212807114791. 3
- 212807114792. 4

Question Number : 193 Question Id : 21280728698 Question Type : MCQ Option Shuffling : No Is Question Mandatory : No Calculator : None Response Time : N.A Think Time : N.A Minimum Instruction Time : 0

Correct Marks : 5 Wrong Marks : 1

Question Key Details :

Key	Value
Comprehension	Comp2

मुम्बई का सेंट एंजल्स स्कूल अपने स्कूल प्रांगण के विभिन्न विंग्स के बीच नेटवर्क स्थापित कर रहा है। प्रांगण में सीनियर (S), जूनियर (J), एडमिन (A) और हॉस्टल (H) नाम की 4 इमारतें हैं।

Senior (S)

Junior (J)

Admin (A)

Hostel (H)

विभिन्न विंग्स के मध्य दूरी

A to S	100m
A to J	110m
A to H	400m
S to J	300m
S to H	170m
J to H	80m

प्रत्येक विंग में कंप्यूटर की संख्या

wing A	20
wing S	150
wing J	50
wing H	25

सम्पूर्ण नेटवर्क के लिए आंकड़ों सुरक्षा/डेटा सेक्योरिटी सुनिश्चित करने के लिए विंग S में _____ इंस्टॉल किया जाना चाहिए।

- (1) राउटर
- (2) गेटवे
- (3) फ़ायरवॉल
- (4) मोडेम

Options :

212807114789. 1
212807114790. 2
212807114791. 3
212807114792. 4

Question Number : 194 Question Id : 21280728699 Question Type : MCQ Option Shuffling : No Is Question Mandatory : No Calculator : None Response Time : N.A Think Time : N.A Minimum Instruction Time : 0

Correct Marks : 5 Wrong Marks : 1

Question Key Details :

Key	Value
Comprehension	Comp2

St. Angles school at Mumbai is setting up the network between its different wings of school campus. There are 4 buildings named Senior(S), Junior(J), Admin(A) and Hostel(H).

Senior (S)

Junior (J)

Admin (A)

Hostel (H)

Distance between various wings

A to S	100m
A to J	110m
A to H	400m
S to J	300m
S to H	170m
J to H	80m

No. of computers in each wing

wing A	20
wing S	150
wing J	50
wing H	25

Name the type of network if all the wings are connected ?

- (1) STAR
- (2) LAN
- (3) BUS
- (4) MAN

Options :

- 212807114793. 1
- 212807114794. 2
- 212807114795. 3
- 212807114796. 4

Question Number : 194 Question Id : 21280728699 Question Type : MCQ Option Shuffling : No Is Question Mandatory : No Calculator : None
Response Time : N.A Think Time : N.A Minimum Instruction Time : 0

Correct Marks : 5 Wrong Marks : 1

Question Key Details :

Key	Value
Comprehension	Comp2

मुम्बई का सेंट एंजल्स स्कूल अपने स्कूल प्रांगण के विभिन्न विंग्स के बीच नेटवर्क स्थापित कर रहा है। प्रांगण में सीनियर (S), जूनियर (J), एडमिन (A) और हॉस्टल (H) नाम की 4 इमारतें हैं।

Senior (S)

Junior (J)

Admin (A)

Hostel (H)

विभिन्न विंग्स के मध्य दूरी

A to S	100m
A to J	110m
A to H	400m
S to J	300m
S to H	170m
J to H	80m

प्रत्येक विंग में कंप्यूटर की संख्या

wing A	20
wing S	150
wing J	50
wing H	25

यदि सभी विंग जुड़े हुए हैं नेटवर्क के प्रकार का नाम बताइए :

- (1) स्टार
- (2) लैन
- (3) बस
- (4) मैन

Options :

212807114793. 1
212807114794. 2
212807114795. 3
212807114796. 4

Question Number : 195 Question Id : 21280728700 Question Type : MCQ Option Shuffling : No Is Question Mandatory : No Calculator : None Response Time : N.A Think Time : N.A Minimum Instruction Time : 0

Correct Marks : 5 Wrong Marks : 1

Question Key Details :

Key	Value
Comprehension	Comp2

St. Angles school at Mumbai is setting up the network between its different wings of school campus. There are 4 buildings named Senior(S), Junior(J), Admin(A) and Hostel(H).

Senior (S)

Junior (J)

Admin (A)

Hostel (H)

Distance between various wings

A to S	100m
A to J	110m
A to H	400m
S to J	300m
S to H	170m
J to H	80m

No. of computers in each wing

wing A	20
wing S	150
wing J	50
wing H	25

Choose the device used to form multiple devices/computers together for communication in each of the wings :

- (A) Switch
- (B) Hub
- (C) Modem
- (D) Repeater

Choose the **correct** answer from the options given below :

- (1) (A) and (B) only
- (2) (C) and (D) only
- (3) (A), (B), (C) and (D) only
- (4) (C) only

Options :

- 212807114797. 1
- 212807114798. 2
- 212807114799. 3
- 212807114800. 4

Question Number : 195 Question Id : 21280728700 Question Type : MCQ Option Shuffling : No Is Question Mandatory : No Calculator : None Response Time : N.A Think Time : N.A Minimum Instruction Time : 0

Correct Marks : 5 Wrong Marks : 1

Question Key Details :

Key	Value
Comprehension	Comp2

मुम्बई का सेंट एंजल्स स्कूल अपने स्कूल प्रांगण के विभिन्न विंग्स के बीच नेटवर्क स्थापित कर रहा है। प्रांगण में सीनियर (S), जूनियर (J), एडमिन (A) और हॉस्टल (H) नाम की 4 इमारतें हैं।

Senior (S)

Junior (J)

Admin (A)

Hostel (H)

विभिन्न विंग्स के मध्य दूरी

A to S	100m
A to J	110m
A to H	400m
S to J	300m
S to H	170m
J to H	80m

प्रत्येक विंग में कंप्यूटर की संख्या

wing A	20
wing S	150
wing J	50
wing H	25

उस उपकरण का चयन कीजिए जिसका उपयोग प्रत्येक विंग में संचार के लिए कई उपकरणों/कम्प्यूटरों को एक साथ जोड़ने में होता है।

- (A) स्विच
- (B) हब
- (C) मोडेम
- (D) रिपीटर

नीचे दिए गए विकल्पों में से सही उत्तर का चयन कीजिए :

- (1) केवल (A) और (B)
- (2) केवल (C) और (D)
- (3) केवल (A), (B), (C) और (D)
- (4) केवल (C)

Options :

212807114797. 1

212807114798. 2

212807114799. 3

212807114800. 4

Sub-Section Number :

4

Sub-Section Id :

2128072092

Question Shuffling Allowed :

Yes

Is Section Default? :

null

Question Number : 196 Question Id : 21280728701 Question Type : MCQ Option Shuffling : No Is Question Mandatory : No Calculator : None Response Time : N.A Think Time : N.A Minimum Instruction Time : 0

Correct Marks : 5 Wrong Marks : 1

Question Key Details :

Key	Value
-----	-------

Match List - I with List - II.

List - I

- (A) Piles of books in the library
 (B) Interactive voice response system
 (C) Checking a given string is palindrome or not
 (D) Non-linear data structure

List - II

- (I) DEQUE
 (II) TREE
 (III) STACK
 (IV) QUEUE

Choose the **correct** answer from the options given below :

- (1) (A)-(II), (B)-(I), (C)-(III), (D)-(IV)
 (2) (A)-(III), (B)-(I), (C)-(II), (D)-(IV)
 (3) (A)-(III), (B)-(IV), (C)-(II), (D)-(I)
 (4) (A)-(III), (B)-(IV), (C)-(I), (D)-(II)

Options :

212807114801. 1
 212807114802. 2
 212807114803. 3
 212807114804. 4

Question Number : 196 Question Id : 21280728701 Question Type : MCQ Option Shuffling : No Is Question Mandatory : No Calculator : None
 Response Time : N.A Think Time : N.A Minimum Instruction Time : 0

Correct Marks : 5 Wrong Marks : 1

Question Key Details :

Key	Value
Comprehension	MCQ3

सूची-I से सूची-II का मिलान कीजिए :

सूची-I

- (A) पुस्तकालय में पुस्तकों का ढेर
 (B) पारस्परिक ध्वनि प्रतिक्रिया प्रणाली
 (C) कोई स्ट्रिंग बिलोमपद है या नहीं इसकी जाँच करना
 (D) अ-रैखीय आंकड़ा संरचना

सूची-II

- (I) डेक
 (II) ट्री
 (III) स्टैक
 (IV) क्यू

नीचे दिए गए विकल्पों में से **सही** उत्तर का चयन कीजिए :

- (1) (A)-(II), (B)-(I), (C)-(III), (D)-(IV)
 (2) (A)-(III), (B)-(I), (C)-(II), (D)-(IV)
 (3) (A)-(III), (B)-(IV), (C)-(II), (D)-(I)
 (4) (A)-(III), (B)-(IV), (C)-(I), (D)-(II)

Options :

212807114801. 1
 212807114802. 2
 212807114803. 3
 212807114804. 4

Question Number : 197 Question Id : 21280728702 Question Type : MCQ Option Shuffling : No Is Question Mandatory : No Calculator : None
 Response Time : N.A Think Time : N.A Minimum Instruction Time : 0

Correct Marks : 5 Wrong Marks : 1

Question Key Details :

Key	Value
Comprehension	MCQ3

Match List - I with List - II.

List - I	List - II
(A) Where	(I) Create table
(B) DDL	(II) Pattern matching
(C) Multirow function	(III) Clause
(D) %	(IV) Max()

Choose the correct answer from the options given below :

- (1) (A)-(III), (B)-(I), (C)-(IV), (D)-(II)
- (2) (A)-(II), (B)-(I), (C)-(III), (D)-(IV)
- (3) (A)-(IV), (B)-(III), (C)-(I), (D)-(II)
- (4) (A)-(I), (B)-(II), (C)-(IV), (D)-(III)

Options :

212807114805. 1
212807114806. 2
212807114807. 3
212807114808. 4

Question Number : 197 Question Id : 21280728702 Question Type : MCQ Option Shuffling : No Is Question Mandatory : No Calculator : None Response Time : N.A Think Time : N.A Minimum Instruction Time : 0

Correct Marks : 5 Wrong Marks : 1

Question Key Details :

Key	Value
Comprehension	MCQ3

सूची-I से सूची-II का मिलान कीजिए :

सूची-I	सूची-II
(A) Where	(I) तालिका बनाना
(B) DDL	(II) प्रतिरूप मिलाना
(C) मल्टी रो फंक्शन	(III) वाक्यांश
(D) %	(IV) Max()

नीचे दिए गए विकल्पों में से सही उत्तर का चयन कीजिए :

- (1) (A)-(III), (B)-(I), (C)-(IV), (D)-(II)
- (2) (A)-(II), (B)-(I), (C)-(III), (D)-(IV)
- (3) (A)-(IV), (B)-(III), (C)-(I), (D)-(II)
- (4) (A)-(I), (B)-(II), (C)-(IV), (D)-(III)

Options :

212807114805. 1
212807114806. 2
212807114807. 3
212807114808. 4

Question Number : 198 Question Id : 21280728703 Question Type : MCQ Option Shuffling : No Is Question Mandatory : No Calculator : None Response Time : N.A Think Time : N.A Minimum Instruction Time : 0

Correct Marks : 5 Wrong Marks : 1

Question Key Details :

Key	Value
Comprehension	MCQ3

Which is the source of a recorded data in a well defined format ?

- (1) Audio/Video files
- (2) Social media messages
- (3) News paper
- (4) Depositing fee in a school

Options :

212807114809. 1
212807114810. 2
212807114811. 3
212807114812. 4

Question Number : 198 Question Id : 21280728703 Question Type : MCQ Option Shuffling : No Is Question Mandatory : No Calculator : None
Response Time : N.A Think Time : N.A Minimum Instruction Time : 0

Correct Marks : 5 Wrong Marks : 1

Question Key Details :

Key	Value
Comprehension	MCQ3

एक स्पष्ट रूप से परिभाषित फॉरमैट में संग्रहित आंकड़ों का स्रोत कौन सा है ?

- (1) ऑडियो/वीडियो फाइल्स
- (2) सोशल मीडिया संदेश
- (3) समाचार पत्र
- (4) किसी विद्यालय में शुल्क जमा करना

Options :

212807114809. 1
212807114810. 2
212807114811. 3
212807114812. 4

Question Number : 199 Question Id : 21280728704 Question Type : MCQ Option Shuffling : No Is Question Mandatory : No Calculator : None
Response Time : N.A Think Time : N.A Minimum Instruction Time : 0

Correct Marks : 5 Wrong Marks : 1

Question Key Details :

Key	Value
Comprehension	MCQ3

In the given list

10	9	4	21	5	7	8
----	---	---	----	---	---	---

 what do you think is the best technique to

search an element :

- (1) Linear search
- (2) Binary search
- (3) Bubble sort
- (4) Collision

Options :

212807114813. 1
212807114814. 2
212807114815. 3
212807114816. 4

Question Number : 199 Question Id : 21280728704 Question Type : MCQ Option Shuffling : No Is Question Mandatory : No Calculator : None
Response Time : N.A Think Time : N.A Minimum Instruction Time : 0

Correct Marks : 5 Wrong Marks : 1

Question Key Details :

Key	Value
-----	-------

दी गई सूची,

10	9	4	21	5	7	8
----	---	---	----	---	---	---

 में कोई तत्व खोजने की सर्वोत्तम तकनीक है :

- (1) रेखीय खोज
- (2) बाइनरी खोज
- (3) बबल सॉर्ट
- (4) कोलिज़न

Options :

212807114813. 1
212807114814. 2
212807114815. 3
212807114816. 4

Question Number : 200 Question Id : 21280728705 Question Type : MCQ Option Shuffling : No Is Question Mandatory : No Calculator : None Response Time : N.A Think Time : N.A Minimum Instruction Time : 0

Correct Marks : 5 Wrong Marks : 1

Question Key Details :

Key	Value
Comprehension	MCQ3

_____ used to avoid underflow exception while performing dequeue operation.

- (1) ISFULL
- (2) ISEMPY
- (3) LIFO
- (4) FIFO

Options :

212807114817. 1
212807114818. 2
212807114819. 3
212807114820. 4

Question Number : 200 Question Id : 21280728705 Question Type : MCQ Option Shuffling : No Is Question Mandatory : No Calculator : None Response Time : N.A Think Time : N.A Minimum Instruction Time : 0

Correct Marks : 5 Wrong Marks : 1

Question Key Details :

Key	Value
Comprehension	MCQ3

डिक्यू ऑपरेशन के क्रियान्वयन के दौरान अण्डरफ्लो अपवाद से बचने के लिए _____ का उपयोग करते हैं।

- (1) ISFULL
- (2) ISEMPY
- (3) LIFO
- (4) FIFO

Options :

212807114817. 1
212807114818. 2
212807114819. 3
212807114820. 4

Informatics Practices

Section type : Online
Mandatory or Optional : Optional
Number of Questions : 35
Number of Questions to be attempted : 25
Section Marks : 125
Enable Mark as Answered Mark for Review and Clear Response : Yes
Maximum Instruction Time : 0
Sub-Section Number : 1
Sub-Section Id : 2128072093
Question Shuffling Allowed : Yes
Is Section Default? : null

Question Number : 201 Question Id : 21280728706 Question Type : MCQ Option Shuffling : No Is Question Mandatory : No Calculator : None
Response Time : N.A Think Time : N.A Minimum Instruction Time : 0
Correct Marks : 5 Wrong Marks : 1

Question Key Details :

Key	Value
Comprehension	MCQ4

Match List - I with List - II.

- | List - I | List - II |
|----------------|-------------------|
| (A) Constraint | (I) Clause |
| (B) DDL | (II) Operator |
| (C) Where | (III) Alter table |
| (D) Like | (IV) Default |

Choose the **correct** answer from the options given below :

- (A)-(IV), (B)-(II), (C)-(I), (D)-(III)
- (A)-(IV), (B)-(III), (C)-(I), (D)-(II)
- (A)-(I), (B)-(II), (C)-(IV), (D)-(III)
- (A)-(III), (B)-(IV), (C)-(I), (D)-(II)

Options :

212807114821. 1
212807114822. 2
212807114823. 3
212807114824. 4

Question Number : 201 Question Id : 21280728706 Question Type : MCQ Option Shuffling : No Is Question Mandatory : No Calculator : None
Response Time : N.A Think Time : N.A Minimum Instruction Time : 0

Correct Marks : 5 Wrong Marks : 1

Question Key Details :

Key	Value
Comprehension	MCQ4

सूची-I से सूची-II का मिलान कीजिए :

सूची-I	सूची-II
(A) Constraint	(I) वाक्यांश
(B) DDL	(II) ऑपरेटर
(C) Where	(III) अल्टर तालिका
(D) Like	(IV) डिफॉल्ट

नीचे दिए गए विकल्पों में से सही उत्तर का चयन कीजिए :

- (1) (A)-(IV), (B)-(II), (C)-(I), (D)-(III)
- (2) (A)-(IV), (B)-(III), (C)-(I), (D)-(II)
- (3) (A)-(I), (B)-(II), (C)-(IV), (D)-(III)
- (4) (A)-(III), (B)-(IV), (C)-(I), (D)-(II)

Options :

212807114821. 1
212807114822. 2
212807114823. 3
212807114824. 4

Question Number : 202 Question Id : 21280728707 Question Type : MCQ Option Shuffling : No Is Question Mandatory : No Calculator : None Response Time : N.A Think Time : N.A Minimum Instruction Time : 0

Correct Marks : 5 Wrong Marks : 1

Question Key Details :

Key	Value
Comprehension	MCQ4

All aggregate functions ignore Null's except for _____ function.

- (1) max()
- (2) Count(*)
- (3) Avg()
- (4) Sum()

Options :

212807114825. 1
212807114826. 2
212807114827. 3
212807114828. 4

Question Number : 202 Question Id : 21280728707 Question Type : MCQ Option Shuffling : No Is Question Mandatory : No Calculator : None Response Time : N.A Think Time : N.A Minimum Instruction Time : 0

Correct Marks : 5 Wrong Marks : 1

Question Key Details :

Key	Value
Comprehension	MCQ4

_____ फंक्शन के अतिरिक्त सभी एग्रीगेट फंक्शन नल (Null) को नज़रंदाज़ करते हैं।

- (1) max()
- (2) Count(*)
- (3) Avg()
- (4) Sum()

Options :

212807114825. 1
212807114826. 2

212807114827. 3
212807114828. 4

Question Number : 203 Question Id : 21280728708 Question Type : MCQ Option Shuffling : No Is Question Mandatory : No Calculator : None
Response Time : N.A Think Time : N.A Minimum Instruction Time : 0

Correct Marks : 5 Wrong Marks : 1

Question Key Details :

Key	Value
Comprehension	MCQ4

In SQL, which of the following constraint means that no two values in any column should be the same ?

- (1) DISTINCT
- (2) UNIQUE
- (3) ORDER BY
- (4) GROUP BY

Options :

212807114829. 1
212807114830. 2
212807114831. 3
212807114832. 4

Question Number : 203 Question Id : 21280728708 Question Type : MCQ Option Shuffling : No Is Question Mandatory : No Calculator : None
Response Time : N.A Think Time : N.A Minimum Instruction Time : 0

Correct Marks : 5 Wrong Marks : 1

Question Key Details :

Key	Value
Comprehension	MCQ4

SQL में, निम्न में से किस कांस्ट्रेंट का अर्थ यह है कि किसी स्तंभ में कोई दो मान एक समान नहीं हैं ?

- (1) DISTINCT
- (2) UNIQUE
- (3) ORDER BY
- (4) GROUP BY

Options :

212807114829. 1
212807114830. 2
212807114831. 3
212807114832. 4

Question Number : 204 Question Id : 21280728709 Question Type : MCQ Option Shuffling : No Is Question Mandatory : No Calculator : None
Response Time : N.A Think Time : N.A Minimum Instruction Time : 0

Correct Marks : 5 Wrong Marks : 1

Question Key Details :

Key	Value
Comprehension	MCQ4

Pandas provide a function _____ to check whether any value is missing or not in the Dataframe :

- (1) df.isNan()
- (2) df.IsNaN()
- (3) df.IsNull()
- (4) df.isnull()

Options :

212807114833. 1
212807114834. 2
212807114835. 3

212807114836.4

Question Number : 204 Question Id : 21280728709 Question Type : MCQ Option Shuffling : No Is Question Mandatory : No Calculator : None
Response Time : N.A Think Time : N.A Minimum Instruction Time : 0

Correct Marks : 5 Wrong Marks : 1

Question Key Details :

Key	Value
Comprehension	MCQ4

डेटाफ्रेम में कोई मान लुप्त है या नहीं यह ज्ञात करने के लिए पांडास एक फंक्शन _____ उपलब्ध कराता है।

- (1) df.isNan()
- (2) df.IsNaN()
- (3) df.IsNull()
- (4) df.isnull()

Options :

212807114833.1

212807114834.2

212807114835.3

212807114836.4

Question Number : 205 Question Id : 21280728710 Question Type : MCQ Option Shuffling : No Is Question Mandatory : No Calculator : None
Response Time : N.A Think Time : N.A Minimum Instruction Time : 0

Correct Marks : 5 Wrong Marks : 1

Question Key Details :

Key	Value
Comprehension	MCQ4

_____ refers to the process of changing the shape of the data set to make it suitable for analysis.

- (1) Handle missing values
- (2) Importing and Exporting data
- (3) Reshaping Data
- (4) Ndim data

Options :

212807114837.1

212807114838.2

212807114839.3

212807114840.4

Question Number : 205 Question Id : 21280728710 Question Type : MCQ Option Shuffling : No Is Question Mandatory : No Calculator : None
Response Time : N.A Think Time : N.A Minimum Instruction Time : 0

Correct Marks : 5 Wrong Marks : 1

Question Key Details :

Key	Value
Comprehension	MCQ4

_____ का कार्य है किसी डेटासेट के स्वरूप/आधार को बदलकर विश्लेषण योग्य बनाना है।

- (1) लुप्त मानों का प्रबन्धन
- (2) आंकड़ों का आयात और निर्यात
- (3) आंकड़ों को पुनः आकार देना
- (4) Ndim आंकड़ें

Options :

212807114837.1

212807114838.2

212807114839. 3
212807114840. 4

Question Number : 206 Question Id : 21280728711 Question Type : MCQ Option Shuffling : No Is Question Mandatory : No Calculator : None
Response Time : N.A Think Time : N.A Minimum Instruction Time : 0

Correct Marks : 5 Wrong Marks : 1

Question Key Details :

Key	Value
Comprehension	MCQ4

Library used to interact with MYSQL database by providing the required credentials.

- (1) pysql
- (2) pandas
- (3) sqlalchemy
- (4) dataframes

Options :

212807114841. 1
212807114842. 2
212807114843. 3
212807114844. 4

Question Number : 206 Question Id : 21280728711 Question Type : MCQ Option Shuffling : No Is Question Mandatory : No Calculator : None
Response Time : N.A Think Time : N.A Minimum Instruction Time : 0

Correct Marks : 5 Wrong Marks : 1

Question Key Details :

Key	Value
Comprehension	MCQ4

आवश्यक शर्तों/प्रमाणों को उपलब्ध कराकर MYSQL डेटाबेस से जोड़ने के लिए प्रयुक्त/लाइब्रेरी।

- (1) pysql
- (2) pandas
- (3) sqlalchemy
- (4) dataframes

Options :

212807114841. 1
212807114842. 2
212807114843. 3
212807114844. 4

Question Number : 207 Question Id : 21280728712 Question Type : MCQ Option Shuffling : No Is Question Mandatory : No Calculator : None
Response Time : N.A Think Time : N.A Minimum Instruction Time : 0

Correct Marks : 5 Wrong Marks : 1

Question Key Details :

Key	Value
Comprehension	MCQ4

The max() function of Pandas descriptive statistics axis = 1 gives,

- (1) Row wise output
- (2) Column wise output
- (3) Both column and row wise output
- (4) Axis is an invalid parameter

Options :

212807114845. 1
212807114846. 2
212807114847. 3
212807114848. 4

Question Number : 207 Question Id : 21280728712 Question Type : MCQ Option Shuffling : No Is Question Mandatory : No Calculator : None
Response Time : N.A Think Time : N.A Minimum Instruction Time : 0

Correct Marks : 5 Wrong Marks : 1

Question Key Details :

Key	Value
Comprehension	MCQ4

पांडास डिस्क्रिप्टिव सांख्यिकी अक्षर 1 का $\max()$ फंक्शन प्रदान करता है :

- (1) पंक्तिबद्ध आउटपुट
- (2) स्तंभबद्ध आउटपुट
- (3) पंक्तिबद्ध और स्तंभबद्ध दोनों आउटपुट
- (4) अक्ष एक अवैधानिक मानक है

Options :

- 212807114845. 1
- 212807114846. 2
- 212807114847. 3
- 212807114848. 4

Question Number : 208 Question Id : 21280728713 Question Type : MCQ Option Shuffling : No Is Question Mandatory : No Calculator : None
Response Time : N.A Think Time : N.A Minimum Instruction Time : 0

Correct Marks : 5 Wrong Marks : 1

Question Key Details :

Key	Value
Comprehension	MCQ4

Which of the following commands is used to install Matplotlib for coding ?

- (1) `import plt.matplotlib as plot`
- (2) `import plot.matplotlib as pt`
- (3) `import matplotlib.pyplot as plot`
- (4) `import matplotlib.pyplot as plt`

Options :

- 212807114849. 1
- 212807114850. 2
- 212807114851. 3
- 212807114852. 4

Question Number : 208 Question Id : 21280728713 Question Type : MCQ Option Shuffling : No Is Question Mandatory : No Calculator : None
Response Time : N.A Think Time : N.A Minimum Instruction Time : 0

Correct Marks : 5 Wrong Marks : 1

Question Key Details :

Key	Value
Comprehension	MCQ4

निम्नलिखित में से किस निर्देश का उपयोग कोडिंग के लिए Matplotlib इंस्टॉल करने के लिए किया जाता है ?

- (1) `import plt.matplotlib as plot`
- (2) `import plot.matplotlib as pt`
- (3) `import matplotlib.pyplot as plot`
- (4) `import matplotlib.pyplot as plt`

Options :

- 212807114849. 1
- 212807114850. 2
- 212807114851. 3
- 212807114852. 4

Question Number : 209 Question Id : 21280728714 Question Type : MCQ Option Shuffling : No Is Question Mandatory : No Calculator : None
Response Time : N.A Think Time : N.A Minimum Instruction Time : 0

Correct Marks : 5 Wrong Marks : 1

Question Key Details :

Key	Value
Comprehension	MCQ4

Which graph is called 'correlation plots' also :

- (1) Scatter chart
- (2) Histogram
- (3) Pie chart
- (4) Box plot

Options :

212807114853. 1

212807114854. 2

212807114855. 3

212807114856. 4

Question Number : 209 Question Id : 21280728714 Question Type : MCQ Option Shuffling : No Is Question Mandatory : No Calculator : None
Response Time : N.A Think Time : N.A Minimum Instruction Time : 0

Correct Marks : 5 Wrong Marks : 1

Question Key Details :

Key	Value
Comprehension	MCQ4

किस ग्राफ को कोरिलेशन प्लॉट भी कहते हैं ?

- (1) स्कैटर चार्ट
- (2) हिस्टोग्राम
- (3) पाई चार्ट
- (4) बॉक्स प्लॉट

Options :

212807114853. 1

212807114854. 2

212807114855. 3

212807114856. 4

Question Number : 210 Question Id : 21280728715 Question Type : MCQ Option Shuffling : No Is Question Mandatory : No Calculator : None
Response Time : N.A Think Time : N.A Minimum Instruction Time : 0

Correct Marks : 5 Wrong Marks : 1

Question Key Details :

Key	Value
Comprehension	MCQ4

Data Visualization helps in :

- (A) Understanding results of analysis
- (B) Connect to database
- (C) Perform operations on file
- (D) Visualize variation
- (E) Show relation between variables

Choose the correct answer from the options given below :

- (1) (A), (B) and (E) only
- (2) (A), (D) and (E) only
- (3) (C), (D) and (E) only
- (4) (B), (D) and (E) only

Options :

- 212807114857. 1
- 212807114858. 2
- 212807114859. 3
- 212807114860. 4

Question Number : 210 Question Id : 21280728715 Question Type : MCQ Option Shuffling : No Is Question Mandatory : No Calculator : None Response Time : N.A Think Time : N.A Minimum Instruction Time : 0

Correct Marks : 5 Wrong Marks : 1

Question Key Details :

Key	Value
Comprehension	MCQ4

आंकड़ा दृश्यीकरण सहायता करता है :

- (A) विश्लेषण के परिणाम को समझने में
- (B) डेटाबेस से जुड़ने में
- (C) फाइल पर ऑपरेशन के प्रदर्शन के लिए
- (D) विविधता को देखने/पहचानने में
- (E) चरों के बीच सम्बन्ध को दिखाने में

नीचे दिए गए विकल्पों में से सही उत्तर का चयन कीजिए :

- (1) केवल (A), (B) और (E)
- (2) केवल (A), (D) और (E)
- (3) केवल (C), (D) और (E)
- (4) केवल (B), (D) और (E)

Options :

- 212807114857. 1
- 212807114858. 2
- 212807114859. 3
- 212807114860. 4

Question Number : 211 Question Id : 21280728716 Question Type : MCQ Option Shuffling : No Is Question Mandatory : No Calculator : None Response Time : N.A Think Time : N.A Minimum Instruction Time : 0

Correct Marks : 5 Wrong Marks : 1

Question Key Details :

Key	Value
Comprehension	MCQ4

Presenting someone else's idea or work as one's own idea or work is called :

- (1) Copyright Infringement
- (2) Trademark Infringement
- (3) Plagiarism
- (4) Patent

Options :

212807114861. 1
212807114862. 2
212807114863. 3
212807114864. 4

Question Number : 211 Question Id : 21280728716 Question Type : MCQ Option Shuffling : No Is Question Mandatory : No Calculator : None
Response Time : N.A Think Time : N.A Minimum Instruction Time : 0

Correct Marks : 5 Wrong Marks : 1

Question Key Details :

Key	Value
Comprehension	MCQ4

अन्य के विचार या कार्य को अपना कार्य या विचार कहकर प्रदर्शित करना कहलाता है :

- (1) कॉपीराइट का उल्लंघन
- (2) ट्रेडमार्क का उल्लंघन
- (3) प्लेगियरिज्म
- (4) पेटेंट

Options :

212807114861. 1
212807114862. 2
212807114863. 3
212807114864. 4

Question Number : 212 Question Id : 21280728717 Question Type : MCQ Option Shuffling : No Is Question Mandatory : No Calculator : None
Response Time : N.A Think Time : N.A Minimum Instruction Time : 0

Correct Marks : 5 Wrong Marks : 1

Question Key Details :

Key	Value
Comprehension	MCQ4

Which of the following lets others distribute, remix, tweak and build upon your work even commercially, as long as they credit you for original creation :

- (1) Attribution - Non commercial
- (2) Attribution - Share alike
- (3) Attribution
- (4) Attribution - No Drivers

Options :

212807114865. 1
212807114866. 2
212807114867. 3
212807114868. 4

Question Number : 212 Question Id : 21280728717 Question Type : MCQ Option Shuffling : No Is Question Mandatory : No Calculator : None
Response Time : N.A Think Time : N.A Minimum Instruction Time : 0

Correct Marks : 5 Wrong Marks : 1

Question Key Details :

Key	Value
-----	-------

निम्नलिखित में से कौन सा अन्य को आपके काम के वितरण, पुनःमिश्रण, फेर-बदल और उसके आधार पर नये निर्माण की अनुमति देता है, यहाँ तक कि वाणिज्यिक रूप से भी प्रयोग की जब तक कि वे आपको असली रचना का श्रेय देते हैं।

- (1) एट्रीब्यूशन - गैर वाणिज्यिक
- (2) एट्रीब्यूशन - शेयर अलाइक
- (3) एट्रीब्यूशन
- (4) एट्रीब्यूशन - नो ड्राइवर्स

Options :

212807114865. 1
212807114866. 2
212807114867. 3
212807114868. 4

Question Number : 213 Question Id : 21280728718 Question Type : MCQ Option Shuffling : No Is Question Mandatory : No Calculator : None Response Time : N.A Think Time : N.A Minimum Instruction Time : 0

Correct Marks : 5 Wrong Marks : 1

Question Key Details :

Key	Value
Comprehension	MCQ4

Which of the following is not an example of social media ?

- (1) Youtube
- (2) Twitter
- (3) Linux
- (4) Facebook

Options :

212807114869. 1
212807114870. 2
212807114871. 3
212807114872. 4

Question Number : 213 Question Id : 21280728718 Question Type : MCQ Option Shuffling : No Is Question Mandatory : No Calculator : None Response Time : N.A Think Time : N.A Minimum Instruction Time : 0

Correct Marks : 5 Wrong Marks : 1

Question Key Details :

Key	Value
Comprehension	MCQ4

निम्न में से कौन सा सोशल मीडिया का एक उदाहरण नहीं है ?

- (1) यूट्यूब
- (2) ट्विटर
- (3) लाइनक्स
- (4) फेसबुक

Options :

212807114869. 1
212807114870. 2
212807114871. 3
212807114872. 4

Question Number : 214 Question Id : 21280728719 Question Type : MCQ Option Shuffling : No Is Question Mandatory : No Calculator : None Response Time : N.A Think Time : N.A Minimum Instruction Time : 0

Correct Marks : 5 Wrong Marks : 1

Question Key Details :

Key	Value
Comprehension	MCQ4

Today E-waste become a major concern to the environment. To save the environment we should avoid this practise :

- (1) Dispose the E-waste to right place
- (2) We should try Reduce, Reuse, Recycle
- (3) Dispose E-waste anywhere
- (4) Always give waste to right recycler

Options :

212807114873. 1

212807114874. 2

212807114875. 3

212807114876. 4

Question Number : 214 Question Id : 21280728719 Question Type : MCQ Option Shuffling : No Is Question Mandatory : No Calculator : None Response Time : N.A Think Time : N.A Minimum Instruction Time : 0

Correct Marks : 5 Wrong Marks : 1

Question Key Details :

Key	Value
Comprehension	MCQ4

आज ई-अपशिष्ट पर्यावरण के लिए एक बड़ी समस्या है। पर्यावरण संरक्षण के लिए हमें इन अभ्यासों से बचना चाहिए :

- (1) ई-अपशिष्ट को सही जगह फेंकना
- (2) हमें पुनःप्रयोग, क्रम प्रयोग और पुनर्चक्रण करना चाहिए
- (3) ई-अपशिष्ट को कहीं भी फेक देना चाहिए
- (4) हमेशा अपशिष्ट को सही पुनर्चक्रक को देना

Options :

212807114873. 1

212807114874. 2

212807114875. 3

212807114876. 4

Question Number : 215 Question Id : 21280728720 Question Type : MCQ Option Shuffling : No Is Question Mandatory : No Calculator : None Response Time : N.A Think Time : N.A Minimum Instruction Time : 0

Correct Marks : 5 Wrong Marks : 1

Question Key Details :

Key	Value
Comprehension	MCQ4

In a noisy environment, the best transmission medium would be.

- (1) Coaxial cable
- (2) Twisted pair cable
- (3) Optical fibre cable
- (4) Shielded co-axial cable

Options :

212807114877. 1

212807114878. 2

212807114879. 3

212807114880. 4

Question Number : 215 Question Id : 21280728720 Question Type : MCQ Option Shuffling : No Is Question Mandatory : No Calculator : None
Response Time : N.A Think Time : N.A Minimum Instruction Time : 0

Correct Marks : 5 Wrong Marks : 1

Question Key Details :

Key	Value
Comprehension	MCQ4

एक शोरयुक्त वातावरण में संचारण का सर्वोत्तम माध्यम होगा।

- (1) कोएक्सियल केबल
- (2) ट्विस्टेड पेयर केबल
- (3) ऑप्टिकल फाइबर केबल
- (4) शील्डेड कोएक्सियल केबल

Options :

212807114877. 1
212807114878. 2
212807114879. 3
212807114880. 4

Question Number : 216 Question Id : 21280728721 Question Type : MCQ Option Shuffling : No Is Question Mandatory : No Calculator : None
Response Time : N.A Think Time : N.A Minimum Instruction Time : 0

Correct Marks : 5 Wrong Marks : 1

Question Key Details :

Key	Value
Comprehension	MCQ4

Gagan wants to upload a text document at the rate of 20 pages per 10 seconds. What will be the required data rate of the channel ? (Assume the 1 page contains 1500 characters and each character is of 8 bit).

- (1) 23.44 Kbps
- (2) 22.25 Kbps
- (3) 25.50 Kbps
- (4) 24.34 Kbps

Options :

212807114881. 1
212807114882. 2
212807114883. 3
212807114884. 4

Question Number : 216 Question Id : 21280728721 Question Type : MCQ Option Shuffling : No Is Question Mandatory : No Calculator : None
Response Time : N.A Think Time : N.A Minimum Instruction Time : 0

Correct Marks : 5 Wrong Marks : 1

Question Key Details :

Key	Value
Comprehension	MCQ4

गगन एक टेक्स्ट डॉक्यूमेंट को 20 पेज प्रति 10 सेकण्ड की गति से अपलोड करना चाहता है। चैनल की आवश्यक आंकड़ा दर क्या होगा ? (मान लीजिए 1 पेज पर 1500 शब्द है और प्रत्येक शब्द 8 बिट का है)

- (1) 23.44 Kbps
- (2) 22.25 Kbps
- (3) 25.50 Kbps
- (4) 24.34 Kbps

Options :

212807114881. 1

212807114882. 2
212807114883. 3
212807114884. 4

Question Number : 217 Question Id : 21280728722 Question Type : MCQ Option Shuffling : No Is Question Mandatory : No Calculator : None
Response Time : N.A Think Time : N.A Minimum Instruction Time : 0

Correct Marks : 5 Wrong Marks : 1

Question Key Details :

Key	Value
Comprehension	MCQ4

Physical address of a machine is a ?

- (1) IP address
- (2) NIC (Network Interface card)
- (3) MAC address (Medium Access Control)
- (4) DNS (Domain Name System)

Options :

212807114885. 1
212807114886. 2
212807114887. 3
212807114888. 4

Question Number : 217 Question Id : 21280728722 Question Type : MCQ Option Shuffling : No Is Question Mandatory : No Calculator : None
Response Time : N.A Think Time : N.A Minimum Instruction Time : 0

Correct Marks : 5 Wrong Marks : 1

Question Key Details :

Key	Value
Comprehension	MCQ4

किसी मशीन/यंत्र का भौतिक पता है ?

- (1) आईपी एड्रेस
- (2) एनआईसी (नेटवर्क इंटरफेस कार्ड)
- (3) मैक एड्रेस (मीडियम एक्सेस कंट्रोल)
- (4) डीएनएस (डोमेन नेम सिस्टम)

Options :

212807114885. 1
212807114886. 2
212807114887. 3
212807114888. 4

Question Number : 218 Question Id : 21280728723 Question Type : MCQ Option Shuffling : No Is Question Mandatory : No Calculator : None
Response Time : N.A Think Time : N.A Minimum Instruction Time : 0

Correct Marks : 5 Wrong Marks : 1

Question Key Details :

Key	Value
Comprehension	MCQ4

Which of the following is the type of software that has self-replicating software that cause damage to files and system ?

- (1) Viruses
- (2) Trojan horses
- (3) Spam
- (4) Worms

Options :

212807114889. 1
212807114890. 2
212807114891. 3
212807114892. 4

Question Number : 218 Question Id : 21280728723 Question Type : MCQ Option Shuffling : No Is Question Mandatory : No Calculator : None Response Time : N.A Think Time : N.A Minimum Instruction Time : 0

Correct Marks : 5 Wrong Marks : 1

Question Key Details :

Key	Value
Comprehension	MCQ4

निम्नलिखित में से कौन सा ऐसे सॉफ्टवेयर का प्रकार है जो खुद को प्रतिकरित करने का सॉफ्टवेयर रखता है जो कि फाइलों और सिस्टम को गति पहुँचाता है ?

- (1) वायरस
- (2) ट्रोजन हॉर्स
- (3) स्पैम
- (4) बॉम्स

Options :

212807114889. 1
212807114890. 2
212807114891. 3
212807114892. 4

Question Number : 219 Question Id : 21280728724 Question Type : MCQ Option Shuffling : No Is Question Mandatory : No Calculator : None Response Time : N.A Think Time : N.A Minimum Instruction Time : 0

Correct Marks : 5 Wrong Marks : 1

Question Key Details :

Key	Value
Comprehension	MCQ4

Identify the virus from the following :

- (1) Sasser
- (2) So big
- (3) Keylogger
- (4) Code Red

Options :

212807114893. 1
212807114894. 2
212807114895. 3
212807114896. 4

Question Number : 219 Question Id : 21280728724 Question Type : MCQ Option Shuffling : No Is Question Mandatory : No Calculator : None Response Time : N.A Think Time : N.A Minimum Instruction Time : 0

Correct Marks : 5 Wrong Marks : 1

Question Key Details :

Key	Value
Comprehension	MCQ4

निम्न में से वायरस को पहचानिए :

- (1) Sasser
- (2) So big
- (3) Keylogger
- (4) Code Red

Options :

- 212807114893. 1
- 212807114894. 2
- 212807114895. 3
- 212807114896. 4

Question Number : 220 Question Id : 21280728725 Question Type : MCQ Option Shuffling : No Is Question Mandatory : No Calculator : None Response Time : N.A Think Time : N.A Minimum Instruction Time : 0

Correct Marks : 5 Wrong Marks : 1

Question Key Details :

Key	Value
Comprehension	MCQ4

Which of the following is/are false ?

- (A) Computer viruses are healthy codes written to test the security health of a system
- (B) A worm is self replication of a program
- (C) Trojan horse is a utility program that does harm when its date is expired
- (D) Spyware is a healthy software which keeps an eye on activities happening on your computer

Choose the **correct** answer from the options given below :

- (1) (A), (B) and (C) only
- (2) (B) and (C) only
- (3) (B), (C) and (D) only
- (4) (A), (C) and (D) only

Options :

- 212807114897. 1
- 212807114898. 2
- 212807114899. 3
- 212807114900. 4

Question Number : 220 Question Id : 21280728725 Question Type : MCQ Option Shuffling : No Is Question Mandatory : No Calculator : None Response Time : N.A Think Time : N.A Minimum Instruction Time : 0

Correct Marks : 5 Wrong Marks : 1

Question Key Details :

Key	Value
Comprehension	MCQ4

निम्न में से कौन सा/से गलत है/हैं ?

- (A) कम्प्यूटर वायरस सिस्टम के सुरक्षा स्वास्थ्य की जाँच करने के लिए लिखे स्वास्थ्य कोड हैं।
- (B) वॉर्म किसी प्रोग्राम का आत्म प्रतिरूपण है।
- (C) ट्रोजन हॉर्स एक उपयोगिता प्रोग्राम है जो अपनी वैधता समाप्त होने के बाद क्षति पहुँचाता है।
- (D) स्पाईवेयर एक स्वास्थ्य सॉफ्टवेयर है जो आपके कम्प्यूटर पर घटने वाली क्रियाओं पर नज़र रखता है।

नीचे दिए गए विकल्पों में से **सही** उत्तर का चयन कीजिए :

- (1) केवल (A), (B) और (C)
- (2) केवल (B) और (C)
- (3) केवल (B), (C) और (D)
- (4) केवल (A), (C) और (D)

Options :

- 212807114897. 1
- 212807114898. 2
- 212807114899. 3

212807114900.4

Sub-Section Number : 2
Sub-Section Id : 2128072094
Question Shuffling Allowed : No
Is Section Default? : null

Question Number : 221 Question Id : 21280728726 Question Type : MCQ Option Shuffling : No Is Question Mandatory : No Calculator : None
Response Time : N.A Think Time : N.A Minimum Instruction Time : 0

Correct Marks : 5 Wrong Marks : 1

Question Key Details :

Key	Value
Comprehension	Comp3

Given Dataframe, df :

	State	Geographical_Area	Area_under_dense_forest
1	Manipur	78438	2797
2	Delhi	1483	6.72
3	Kerala	38852	1663
4	Tamil Nadu	40699	1904

Based on the above data, solve questions :

Identify the meaning of the given python code with respect to the given dataframe, df

```
df = df.drop(['State '], axis = 1)
```

- (1) The given code statement has an error
- (2) The given code statement is able to delete the State column and shows the rest dataframe
- (3) The given code statement makes the empty dataframe
- (4) The given code remove duplicate rows from the dataframe

Options :

212807114901.1
212807114902.2
212807114903.3
212807114904.4

Question Number : 221 Question Id : 21280728726 Question Type : MCQ Option Shuffling : No Is Question Mandatory : No Calculator : None
Response Time : N.A Think Time : N.A Minimum Instruction Time : 0

Correct Marks : 5 Wrong Marks : 1

Question Key Details :

Key	Value
Comprehension	Comp3

डेटाफ्रेम दिया गया है df :

	State	Geographical_Area	Area_under_dense_forest
1	Manipur	78438	2797
2	Delhi	1483	6.72
3	Kerala	38852	1663
4	Tamil Nadu	40699	1904

उपरोक्त आंकड़ों के आधार पर प्रश्नों को हल करें :

दिये गये डेटाफ्रेम के सन्दर्भ में दिये गये पाइथन कोड के अर्थ को पहचानिए - df

df = df.drop(['State'], axis = 1)

- (1) दिये गये कोड कथन में त्रुटि है।
- (2) दिया गया कोड कथन State स्तंभ को डिलीट करने और शेष डेटाफ्रेम को दिखाने में सक्षम है।
- (3) दिया गया कोड कथन खाली/रिक्त डेटाफ्रेम बनाता है।
- (4) दिया गया कोड प्रतिरूपित पंक्तियों को डेटाफ्रेम से हटाता है।

Options :

212807114901. 1
212807114902. 2
212807114903. 3
212807114904. 4

Question Number : 222 Question Id : 21280728727 Question Type : MCQ Option Shuffling : No Is Question Mandatory : No Calculator : None Response Time : N.A Think Time : N.A Minimum Instruction Time : 0

Correct Marks : 5 Wrong Marks : 1

Question Key Details :

Key	Value
Comprehension	Comp3

Given Dataframe, df :

	State	Geographical_Area	Area_under_dense_forest
1	Manipur	78438	2797
2	Delhi	1483	6.72
3	Kerala	38852	1663
4	Tamil Nadu	40699	1904

Based on the above data, solve questions :

Identify the correct code to set the Geographical area of all states to 70000 :

- (1) df.loc[State] = 70000
- (2) df['State',:] = 70000
- (3) df['State'] = 70000
- (4) df['Geographical_Area'] = 70000

Options :

212807114905. 1
212807114906. 2

212807114907.3
212807114908.4

Question Number : 222 Question Id : 21280728727 Question Type : MCQ Option Shuffling : No Is Question Mandatory : No Calculator : None
Response Time : N.A Think Time : N.A Minimum Instruction Time : 0

Correct Marks : 5 Wrong Marks : 1

Question Key Details :

Key	Value
Comprehension	Comp3

डेटाफ्रेम दिया गया है df :

	State	Geographical_Area	Area_under_dense_forest
1	Manipur	78438	2797
2	Delhi	1483	6.72
3	Kerala	38852	1663
4	Tamil Nadu	40699	1904

उपरोक्त आकड़ों के आधार पर प्रश्नों को हल करें :

सभी States के Geographical_Area को 70000 पर सेट करने के लिए सही कोड को पहचानें।

- (1) `df.loc[State] = 70000`
- (2) `df['State',:] = 70000`
- (3) `df['State'] = 70000`
- (4) `df['Geographical_Area'] = 70000`

Options :

212807114905.1
212807114906.2
212807114907.3
212807114908.4

Question Number : 223 Question Id : 21280728728 Question Type : MCQ Option Shuffling : No Is Question Mandatory : No Calculator : None
Response Time : N.A Think Time : N.A Minimum Instruction Time : 0

Correct Marks : 5 Wrong Marks : 1

Question Key Details :

Key	Value
Comprehension	Comp3

Given Dataframe, df :

	State	Geographical_Area	Area_under_dense_forest
1	Manipur	78438	2797
2	Delhi	1483	6.72
3	Kerala	38852	1663
4	Tamil Nadu	40699	1904

Based on the above data, solve questions :

Identify the error that shows on the screen while executing the given code :

```
df.loc[5] = ['Meghalaya', 70000]
```

- (1) Value Error : Length of values does not match length of index
- (2) Value Error : Cannot set a row with mismatched columns
- (3) Value Error : Too few parameters
- (4) Value Error : Enough values

Options :

- 212807114909. 1
- 212807114910. 2
- 212807114911. 3
- 212807114912. 4

Question Number : 223 Question Id : 21280728728 Question Type : MCQ Option Shuffling : No Is Question Mandatory : No Calculator : None Response Time : N.A Think Time : N.A Minimum Instruction Time : 0

Correct Marks : 5 Wrong Marks : 1

Question Key Details :

Key	Value
Comprehension	Comp3

डेटाफ्रेम दिया गया है df :

	State	Geographical_Area	Area_under_dense_forest
1	Manipur	78438	2797
2	Delhi	1483	6.72
3	Kerala	38852	1663
4	Tamil Nadu	40699	1904

उपरोक्त आकड़ों के आधार पर प्रश्नों को हल करें :

दिये गये कोड के क्रियान्वयन के समय स्क्रीन पर प्रदर्शित त्रुटि की पहचान करें :

```
df.loc[5] = ['Meghalaya', 70000]
```

- (1) Value Error : Length of values does not match length of index
- (2) Value Error : Cannot set a row with mismatched columns
- (3) Value Error : Too few parameters
- (4) Value Error : Enough values

Options :

- 212807114909. 1

212807114910. 2
212807114911. 3
212807114912. 4

Question Number : 224 Question Id : 21280728729 Question Type : MCQ Option Shuffling : No Is Question Mandatory : No Calculator : None
Response Time : N.A Think Time : N.A Minimum Instruction Time : 0

Correct Marks : 5 Wrong Marks : 1

Question Key Details :

Key	Value
Comprehension	Comp3

Given Dataframe, df :

	State	Geographical_Area	Area_under_dense_forest
1	Manipur	78438	2797
2	Delhi	1483	6.72
3	Kerala	38852	1663
4	Tamil Nadu	40699	1904

Based on the above data, solve questions :

Identify the correct code to display Area_under_dense_forest column.

- (1) `df.loc[:, 'Area_under_dense_forest']`
- (2) `df.loc[2]`
- (3) `df.loc['Area_under_dense_forest']`
- (4) `df[Area_under_dense_forest]`

Options :

212807114913. 1
212807114914. 2
212807114915. 3
212807114916. 4

Question Number : 224 Question Id : 21280728729 Question Type : MCQ Option Shuffling : No Is Question Mandatory : No Calculator : None
Response Time : N.A Think Time : N.A Minimum Instruction Time : 0

Correct Marks : 5 Wrong Marks : 1

Question Key Details :

Key	Value
Comprehension	Comp3

डेटाफ्रेम दिया गया है df :

	State	Geographical_Area	Area_under_dense_forest
1	Manipur	78438	2797
2	Delhi	1483	6.72
3	Kerala	38852	1663
4	Tamil Nadu	40699	1904

उपरोक्त आकड़ों के आधार पर प्रश्नों को हल करें :

Area_under_dense_forest स्तंभ को प्रदर्शित करने के लिए सही कोड को पहचानिये

- (1) df.loc[:, 'Area_under_dense_forest']
- (2) df.loc[2]
- (3) df.loc['Area_under_dense_forest']
- (4) df[Area_under_dense_forest]

Options :

212807114913. 1
212807114914. 2
212807114915. 3
212807114916. 4

Question Number : 225 Question Id : 21280728730 Question Type : MCQ Option Shuffling : No Is Question Mandatory : No Calculator : None Response Time : N.A Think Time : N.A Minimum Instruction Time : 0

Correct Marks : 5 Wrong Marks : 1

Question Key Details :

Key	Value
Comprehension	Comp3

Given Dataframe, df :

	State	Geographical_Area	Area_under_dense_forest
1	Manipur	78438	2797
2	Delhi	1483	6.72
3	Kerala	38852	1663
4	Tamil Nadu	40699	1904

Based on the above data, solve questions :

Find the output for : df.loc['Kerala']>30000 :

- (1) Geographical_Area 38852
- (2) Geographical_Area 38852
Area_under_dense_forest 1663
- (3) Geographical_Area True
Area_under_dense_forest False
- (4) Kerala 38852

Options :

212807114917. 1

212807114918. 2
212807114919. 3
212807114920. 4

Question Number : 225 Question Id : 21280728730 Question Type : MCQ Option Shuffling : No Is Question Mandatory : No Calculator : None
Response Time : N.A Think Time : N.A Minimum Instruction Time : 0

Correct Marks : 5 Wrong Marks : 1

Question Key Details :

Key	Value
Comprehension	Comp3

डेटाफ्रेम दिया गया है df :

	State	Geographical_Area	Area_under_dense_forest
1	Manipur	78438	2797
2	Delhi	1483	6.72
3	Kerala	38852	1663
4	Tamil Nadu	40699	1904

उपरोक्त आकड़ों के आधार पर प्रश्नों को हल करें :

df.loc['Kerala']>30000 का आउटपुट होगा ?

- (1) Geographical_Area 38852
- (2) Geographical_Area 38852
Area_under_dense_forest 1663
- (3) Geographical_Area True
Area_under_dense_forest False
- (4) Kerala 38852

Options :

212807114917. 1
212807114918. 2
212807114919. 3
212807114920. 4

Sub-Section Number : 3
Sub-Section Id : 2128072095
Question Shuffling Allowed : No
Is Section Default? : null

Question Number : 226 Question Id : 21280728731 Question Type : MCQ Option Shuffling : No Is Question Mandatory : No Calculator : None
Response Time : N.A Think Time : N.A Minimum Instruction Time : 0

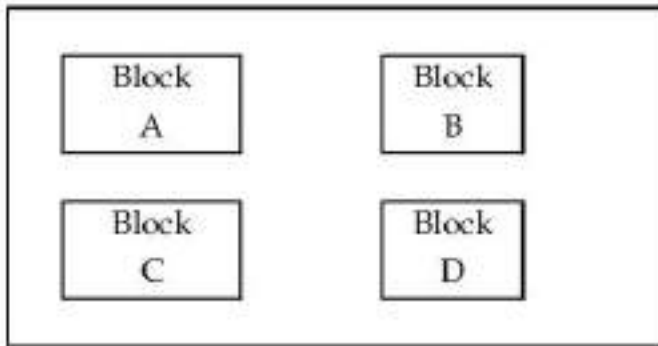
Correct Marks : 5 Wrong Marks : 1

Question Key Details :

Key	Value
Comprehension	Comp4

Vrinda enterprises is planning to setup a secure network in Delhi for its web based activities. It is having 4 buildings. Answer the questions that follows based on the information given below.

Delhi Office



Distance between buildings	
A to B	40 m
B to C	60 m
C to D	125 m
A to D	102 m
B to D	190 m
A to C	162 m

No. of Computers	
Block	Computers
A	25
B	80
C	150
D	35

As a computer expert suggest the best place to house the server.

- (1) Block A
- (2) Block B
- (3) Block C
- (4) Block D

Options :

- 212807114921. 1
- 212807114922. 2
- 212807114923. 3
- 212807114924. 4

Question Number : 226 Question Id : 21280728731 Question Type : MCQ Option Shuffling : No Is Question Mandatory : No Calculator : None Response Time : N.A Think Time : N.A Minimum Instruction Time : 0

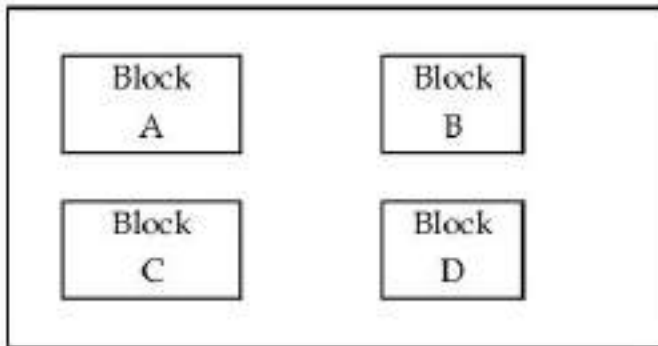
Correct Marks : 5 Wrong Marks : 1

Question Key Details :

Key	Value
Comprehension	Comp4

वृंदा एण्टरप्राइजेज अपने वेब आधारित क्रियाओं के लिए दिल्ली में एक सुरक्षित नेटवर्क स्थापित करने की योजना बना रहा है। इस में 4 इमारते हैं। नीचे दी गई सूचनाओं के आधार पर आगे के प्रश्नों का उत्तर दीजिए :

Delhi Office



Distance between buildings	
A to B	40 m
B to C	60 m
C to D	125 m
A to D	102 m
B to D	190 m
A to C	162 m

No. of Computers	
Block	Computers
A	25
B	80
C	150
D	35

एक कम्प्यूटर विशेषज्ञ के तौर पर सर्वर को लगाने के लिए सर्वोपयुक्त स्थान की सलाह दीजिए :

- (1) ब्लॉक A
- (2) ब्लॉक B
- (3) ब्लॉक C
- (4) ब्लॉक D

Options :

212807114921. 1
 212807114922. 2
 212807114923. 3
 212807114924. 4

Question Number : 227 Question Id : 21280728732 Question Type : MCQ Option Shuffling : No Is Question Mandatory : No Calculator : None Response Time : N.A Think Time : N.A Minimum Instruction Time : 0

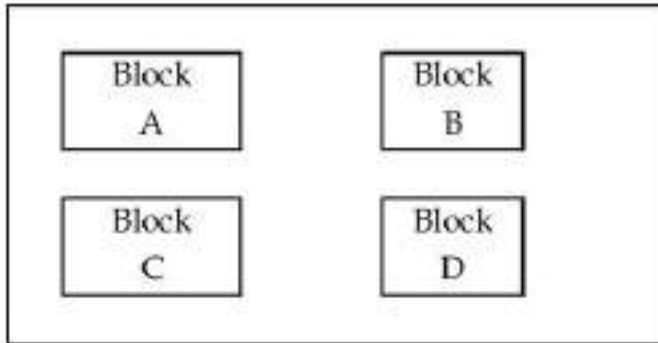
Correct Marks : 5 Wrong Marks : 1

Question Key Details :

Key	Value
Comprehension	Comp4

Vrinda enterprises is planning to setup a secure network in Delhi for its web based activities. It is having 4 buildings. Answer the questions that follows based on the information given below.

Delhi Office



Distance between buildings	
A to B	40 m
B to C	60 m
C to D	125 m
A to D	102 m
B to D	190 m
A to C	162 m

No. of Computers	
Block	Computers
A	25
B	80
C	150
D	35

Which network security system should be installed that monitors and controls incoming and outgoing network traffic based on predetermined security rules.

- (1) Spyware
- (2) Cookie
- (3) Spam
- (4) Firewall

Options :

- 212807114925. 1
- 212807114926. 2
- 212807114927. 3
- 212807114928. 4

Question Number : 227 Question Id : 21280728732 Question Type : MCQ Option Shuffling : No Is Question Mandatory : No Calculator : None Response Time : N.A Think Time : N.A Minimum Instruction Time : 0

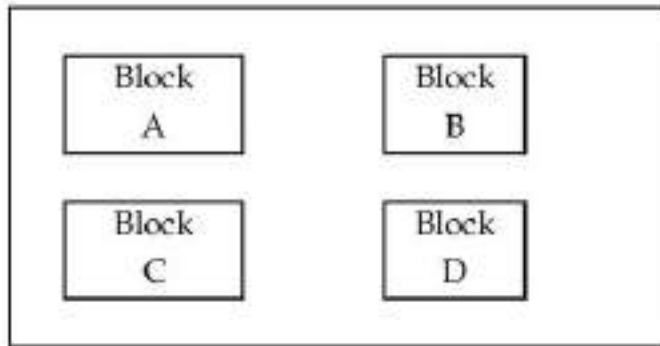
Correct Marks : 5 Wrong Marks : 1

Question Key Details :

Key	Value
Comprehension	Comp4

वृंदा एण्टरप्राइजेज अपने वेब आधारित क्रियाओं के लिए दिल्ली में एक सुरक्षित नेटवर्क स्थापित करने की योजना बना रहा है। इस में 4 इमारते हैं। नीचे दी गई सूचनाओं के आधार पर आगे के प्रश्नों का उत्तर दीजिए :

Delhi Office



Distance between buildings	
A to B	40 m
B to C	60 m
C to D	125 m
A to D	102 m
B to D	190 m
A to C	162 m

No. of Computers	
Block	Computers
A	25
B	80
C	150
D	35

पूर्व निर्धारित सुरक्षा नियमों पर आधारित किस नेटवर्क सुरक्षा तंत्र को इंस्टॉल किया जाना चाहिए जो कि आनेवाले और जानेवाले नेटवर्क यातायात को नियंत्रित और निगरानी करता है।

- (1) स्पाईवेयर
- (2) कुकी
- (3) स्पैम
- (4) फायरवॉल

Options :

212807114925. 1
 212807114926. 2
 212807114927. 3
 212807114928. 4

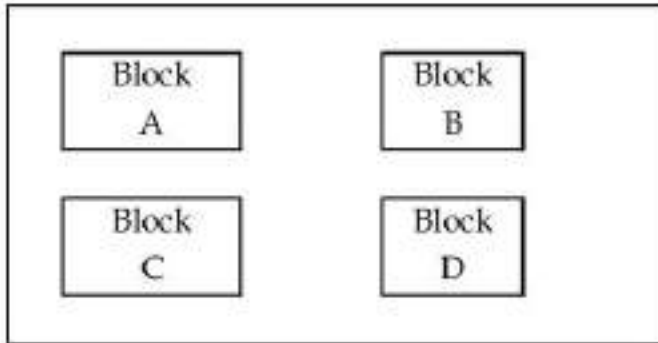
Question Number : 228 Question Id : 21280728733 Question Type : MCQ Option Shuffling : No Is Question Mandatory : No Calculator : None
 Response Time : N.A Think Time : N.A Minimum Instruction Time : 0
 Correct Marks : 5 Wrong Marks : 1

Question Key Details :

Key	Value
Comprehension	Comp4

Vrinda enterprises is planning to setup a secure network in Delhi for its web based activities. It is having 4 buildings. Answer the questions that follows based on the information given below.

Delhi Office



Distance between buildings	
A to B	40 m
B to C	60 m
C to D	125 m
A to D	102 m
B to D	190 m
A to C	162 m

No. of Computers	
Block	Computers
A	25
B	80
C	150
D	35

The company is planning to open an office in London, which network will be established if the London based office is connected with Delhi office.

- (1) LAN
- (2) MAN
- (3) PAN
- (4) WAN

Options :

- 212807114929. 1
- 212807114930. 2
- 212807114931. 3
- 212807114932. 4

Question Number : 228 Question Id : 21280728733 Question Type : MCQ Option Shuffling : No Is Question Mandatory : No Calculator : None Response Time : N.A Think Time : N.A Minimum Instruction Time : 0

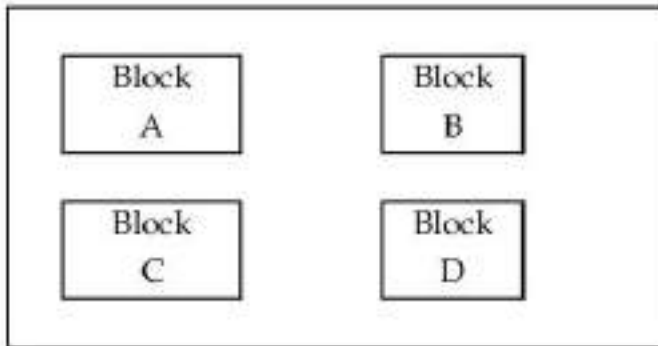
Correct Marks : 5 Wrong Marks : 1

Question Key Details :

Key	Value
Comprehension	Comp4

वृंदा एण्टरप्राइजेज अपने वेब आधारित क्रियाओं के लिए दिल्ली में एक सुरक्षित नेटवर्क स्थापित करने की योजना बना रहा है। इस में 4 इमारते हैं। नीचे दी गई सूचनाओं के आधार पर आगे के प्रश्नों का उत्तर दीजिए :

Delhi Office



Distance between buildings	
A to B	40 m
B to C	60 m
C to D	125 m
A to D	102 m
B to D	190 m
A to C	162 m

No. of Computers	
Block	Computers
A	25
B	80
C	150
D	35

कम्पनी लंदन में एक कार्यालय खोलने की योजना बना रही है, यदि लंदन स्थित कार्यालय दिल्ली के कार्यालय से जुड़ा है तो कौन सा नेटवर्क स्थापित होगा ?

- (1) LAN
- (2) MAN
- (3) PAN
- (4) WAN

Options :

212807114929. 1
 212807114930. 2
 212807114931. 3
 212807114932. 4

Question Number : 229 Question Id : 21280728734 Question Type : MCQ Option Shuffling : No Is Question Mandatory : No Calculator : None Response Time : N.A Think Time : N.A Minimum Instruction Time : 0

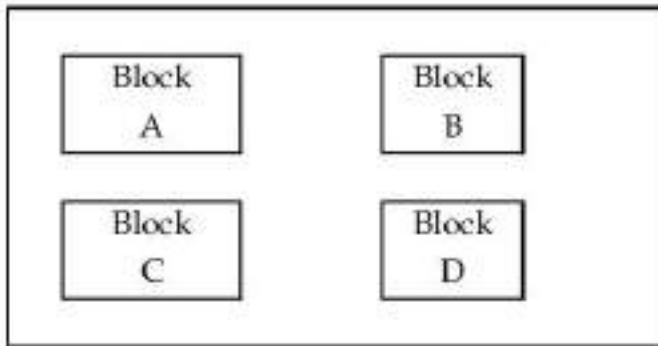
Correct Marks : 5 Wrong Marks : 1

Question Key Details :

Key	Value
Comprehension	Comp4

Vrinda enterprises is planning to setup a secure network in Delhi for its web based activities. It is having 4 buildings. Answer the questions that follows based on the information given below.

Delhi Office



Distance between buildings	
A to B	40 m
B to C	60 m
C to D	125 m
A to D	102 m
B to D	190 m
A to C	162 m

No. of Computers	
Block	Computers
A	25
B	80
C	150
D	35

The device which is mounted on the motherboard of computer and used to set up a wired network. It acts an interface between computer and network. The best option for the above defined network device will be :

- (1) Repeater
- (2) Router
- (3) Ethernet card
- (4) Modem

Options :

- 212807114933. 1
- 212807114934. 2
- 212807114935. 3
- 212807114936. 4

Question Number : 229 Question Id : 21280728734 Question Type : MCQ Option Shuffling : No Is Question Mandatory : No Calculator : None Response Time : N.A Think Time : N.A Minimum Instruction Time : 0

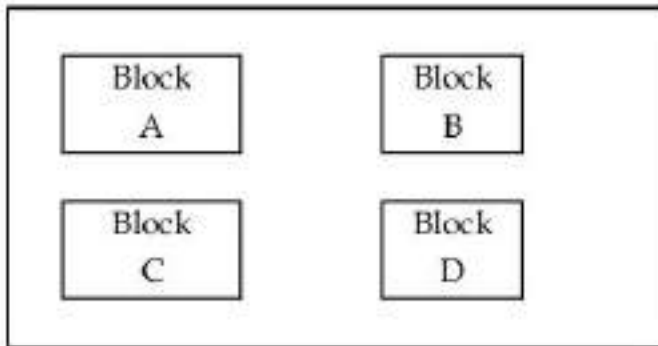
Correct Marks : 5 Wrong Marks : 1

Question Key Details :

Key	Value
Comprehension	Comp4

वृंदा एण्टरप्राइजेज अपने वेब आधारित क्रियाओं के लिए दिल्ली में एक सुरक्षित नेटवर्क स्थापित करने की योजना बना रहा है। इस में 4 इमारते हैं। नीचे दी गई सूचनाओं के आधार पर आगे के प्रश्नों का उत्तर दीजिए :

Delhi Office



Distance between buildings	
A to B	40 m
B to C	60 m
C to D	125 m
A to D	102 m
B to D	190 m
A to C	162 m

No. of Computers	
Block	Computers
A	25
B	80
C	150
D	35

वह डिवाइस/यंत्र जो कि कम्प्यूटर के मदरबोर्ड पर स्थित होती है और तारवाले नेटवर्क को स्थापित करने के लिए प्रयुक्त होता है। यह कम्प्यूटर और नेटवर्क के मध्य इंटरफेस के रूप में कार्य करता है। उपरोक्त परिभाषित नेटवर्क डिवाइस के लिए सर्वोत्तम विकल्प होगा :

- (1) रिपीटर
- (2) राउटर
- (3) इथरनेट कार्ड
- (4) मोडेम

Options :

212807114933. 1
 212807114934. 2
 212807114935. 3
 212807114936. 4

Question Number : 230 Question Id : 21280728735 Question Type : MCQ Option Shuffling : No Is Question Mandatory : No Calculator : None Response Time : N.A Think Time : N.A Minimum Instruction Time : 0

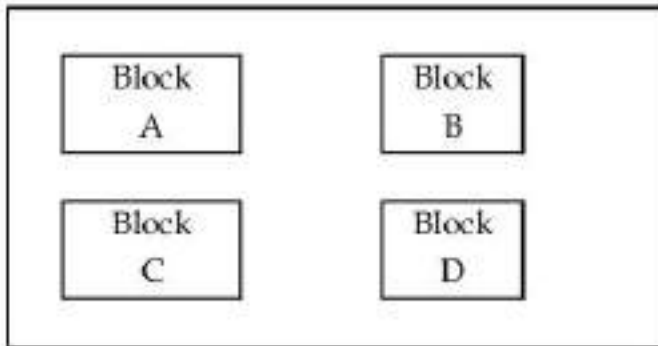
Correct Marks : 5 Wrong Marks : 1

Question Key Details :

Key	Value
Comprehension	Comp4

Vrinda enterprises is planning to setup a secure network in Delhi for its web based activities. It is having 4 buildings. Answer the questions that follows based on the information given below.

Delhi Office



Distance between buildings	
A to B	40 m
B to C	60 m
C to D	125 m
A to D	102 m
B to D	190 m
A to C	162 m

No. of Computers	
Block	Computers
A	25
B	80
C	150
D	35

Suggest the placement of Repeater between which two Blocks.

- (A) A and B
- (B) C and D
- (C) A and D
- (D) B and C

Choose the correct answer from the options given below :

- (1) (A), (B) and (C) only
- (2) (A), (B), (C) and (D)
- (3) (B) and (C) only
- (4) (A) and (B) only

Options :

- 212807114937. 1
- 212807114938. 2
- 212807114939. 3
- 212807114940. 4

Question Number : 230 Question Id : 21280728735 Question Type : MCQ Option Shuffling : No Is Question Mandatory : No Calculator : None Response Time : N.A Think Time : N.A Minimum Instruction Time : 0

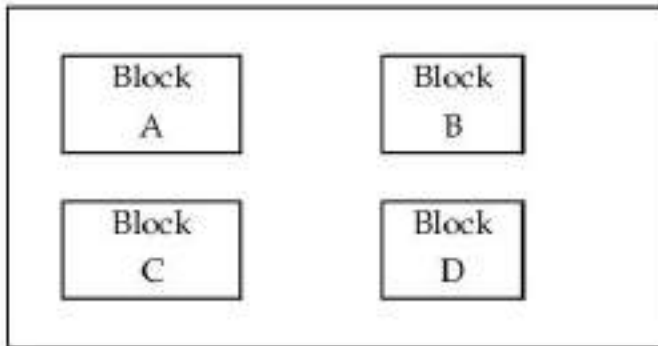
Correct Marks : 5 Wrong Marks : 1

Question Key Details :

Key	Value
Comprehension	Comp4

वृंदा एण्टरप्राइजेज अपने वेब आधारित क्रियाओं के लिए दिल्ली में एक सुरक्षित नेटवर्क स्थापित करने की योजना बना रहा है। इस में 4 इमारते हैं। नीचे दी गई सूचनाओं के आधार पर आगे के प्रश्नों का उत्तर दीजिए :

Delhi Office



Distance between buildings	
A to B	40 m
B to C	60 m
C to D	125 m
A to D	102 m
B to D	190 m
A to C	162 m

No. of Computers	
Block	Computers
A	25
B	80
C	150
D	35

किन दो ब्लॉकों के बीच रिपीटर को रखने की सलाह देंगे ?

- (A) A और B
- (B) C और D
- (C) A और D
- (D) B और C

नीचे दिए गए विकल्पों में से सही उत्तर का चयन कीजिए :

- (1) केवल (A), (B) और (C)
- (2) (A), (B), (C) और (D)
- (3) केवल (B) और (C)
- (4) केवल (A) और (B)

Options :

- 212807114937. 1
- 212807114938. 2
- 212807114939. 3
- 212807114940. 4

Sub-Section Number :

Sub-Section Id :

Question Shuffling Allowed :

4

2128072096

Yes

Is Section Default? :

null

Question Number : 231 Question Id : 21280728736 Question Type : MCQ Option Shuffling : No Is Question Mandatory : No Calculator : None
Response Time : N.A Think Time : N.A Minimum Instruction Time : 0

Correct Marks : 5 Wrong Marks : 1

Question Key Details :

Key	Value
Comprehension	MCQ5

Mohan wants to display all the attributes and all the tuples of the table 'Teacher', help him to choose the correct SQL statement :

- (A) Select % from teacher ;
- (B) Select from teacher ;
- (C) Select all from teacher ;
- (D) Select * from teacher ;

Choose the **correct** answer from the options given below :

- (1) (D) only
- (2) (A) and (B) only
- (3) (B), (C) and (D) only
- (4) (A), (B) and (D) only

Options :

- 212807114941. 1
- 212807114942. 2
- 212807114943. 3
- 212807114944. 4

Question Number : 231 Question Id : 21280728736 Question Type : MCQ Option Shuffling : No Is Question Mandatory : No Calculator : None
Response Time : N.A Think Time : N.A Minimum Instruction Time : 0

Correct Marks : 5 Wrong Marks : 1

Question Key Details :

Key	Value
Comprehension	MCQ5

मोहन 'Teacher', नामक तालिका के सभी एट्रीब्यूट्स और टपल्स को प्रदर्शित करना चाहता है, सही SQL कथन चुनने में उसकी सहायता करें :

- (A) Select % from teacher ;
- (B) Select from teacher ;
- (C) Select all from teacher ;
- (D) Select * from teacher ;

नीचे दिए गए विकल्पों में से **सही** उत्तर का चयन कीजिए :

- (1) केवल (D)
- (2) केवल (A) और (B)
- (3) केवल (B), (C) और (D)
- (4) केवल (A), (B) और (D)

Options :

- 212807114941. 1
- 212807114942. 2
- 212807114943. 3
- 212807114944. 4

Question Number : 232 Question Id : 21280728737 Question Type : MCQ Option Shuffling : No Is Question Mandatory : No Calculator : None
Response Time : N.A Think Time : N.A Minimum Instruction Time : 0

Correct Marks : 5 Wrong Marks : 1

Question Key Details :

Key	Value
Comprehension	MCQ5

Match List - I with List - II.

List - I

- (A) Exploits a website to discover loopholes and vulnerabilities
- (B) Forging email addresses
- (C) Insulting, degrading or intimidating someone online
- (D) Using other's work and not giving enough citations

List - II

- (I) Spoofing
- (II) Plagiarism
- (III) Cyberbullying
- (IV) White hat hacker

Choose the correct answer from the options given below :

- (1) (A)-(II), (B)-(III), (C)-(IV), (D)-(I)
- (2) (A)-(IV), (B)-(III), (C)-(I), (D)-(II)
- (3) (A)-(IV), (B)-(I), (C)-(III), (D)-(II)
- (4) (A)-(III), (B)-(IV), (C)-(I), (D)-(II)

Options :

- 212807114945. 1
- 212807114946. 2
- 212807114947. 3
- 212807114948. 4

Question Number : 232 Question Id : 21280728737 Question Type : MCQ Option Shuffling : No Is Question Mandatory : No Calculator : None
Response Time : N.A Think Time : N.A Minimum Instruction Time : 0

Correct Marks : 5 Wrong Marks : 1

Question Key Details :

Key	Value
Comprehension	MCQ5

सूची-I से सूची-II का मिलान कीजिए :

सूची-I

- (A) त्रुटियों और कमियों को खोजने के लिए वेबसाइट का दोहन
- (B) ईमेल पत्तों की जालसाजी करना
- (C) किसी की ऑनलाइन अनादर करना, नीचा दिखाना या परेशान करना
- (D) दूसरे के कार्यों का उपयोग करना और संदर्भ ना देना

सूची-II

- (I) स्पूफिंग
- (II) प्लेगियरिज्म
- (III) साइबर बुलिंग
- (IV) व्हाइट हैट हैकर

नीचे दिए गए विकल्पों में से सही उत्तर का चयन कीजिए :

- (1) (A)-(II), (B)-(III), (C)-(IV), (D)-(I)
- (2) (A)-(IV), (B)-(III), (C)-(I), (D)-(II)
- (3) (A)-(IV), (B)-(I), (C)-(III), (D)-(II)
- (4) (A)-(III), (B)-(IV), (C)-(I), (D)-(II)

Options :

- 212807114945. 1
- 212807114946. 2
- 212807114947. 3
- 212807114948. 4

Question Number : 233 Question Id : 21280728738 Question Type : MCQ Option Shuffling : No Is Question Mandatory : No Calculator : None
Response Time : N.A Think Time : N.A Minimum Instruction Time : 0

Correct Marks : 5 Wrong Marks : 1

Question Key Details :

Key	Value
Comprehension	MCQ5

Which malware usually tracks internet usage data and sells them to advertisers ?

- (1) Adware
- (2) Trojan
- (3) Ransomware
- (4) Spyware

Options :

212807114949. 1
212807114950. 2
212807114951. 3
212807114952. 4

Question Number : 233 Question Id : 21280728738 Question Type : MCQ Option Shuffling : No Is Question Mandatory : No Calculator : None Response Time : N.A Think Time : N.A Minimum Instruction Time : 0

Correct Marks : 5 Wrong Marks : 1

Question Key Details :

Key	Value
Comprehension	MCQ5

कौन सा मालवेयर सामान्यतः इंटरनेट उपयोग के आंकड़ों को ट्रैक करता है और उन विज्ञापनों को बेचता है ?

- (1) ऐडवेयर
- (2) ट्रोजन
- (3) रैनसमवेयर
- (4) स्पाईवेयर

Options :

212807114949. 1
212807114950. 2
212807114951. 3
212807114952. 4

Question Number : 234 Question Id : 21280728739 Question Type : MCQ Option Shuffling : No Is Question Mandatory : No Calculator : None Response Time : N.A Think Time : N.A Minimum Instruction Time : 0

Correct Marks : 5 Wrong Marks : 1

Question Key Details :

Key	Value
Comprehension	MCQ5

Match List - I with List - II.

List - I

- (A) Controlling TV channels through remote
- (B) Moving elevators up/down
- (C) Communication between two computers
- (D) Communication through telephone call

List - II

- (I) Circuit switching
- (II) Simplex communication
- (III) Half-duplex communication
- (IV) Full-duplex communication

Choose the **correct** answer from the options given below :

- (1) (A)-(II), (B)-(III), (C)-(I), (D)-(IV)
- (2) (A)-(IV), (B)-(II), (C)-(I), (D)-(III)
- (3) (A)-(II), (B)-(III), (C)-(IV), (D)-(I)
- (4) (A)-(III), (B)-(II), (C)-(IV), (D)-(I)

Options :

- 212807114953. 1
- 212807114954. 2
- 212807114955. 3
- 212807114956. 4

Question Number : 234 Question Id : 21280728739 Question Type : MCQ Option Shuffling : No Is Question Mandatory : No Calculator : None
Response Time : N.A Think Time : N.A Minimum Instruction Time : 0

Correct Marks : 5 Wrong Marks : 1

Question Key Details :

Key	Value
Comprehension	MCQ5

सूची-I से सूची-II का मिलान कीजिए :

सूची-I

- (A) रिमोट द्वारा टीवी चैनलों का नियंत्रण
- (B) एलिवेटर का ऊपर-नीचे गति करना
- (C) दो कम्प्यूटरों के बीच संचार
- (D) टेलीफोन कॉल द्वारा संचार

सूची-II

- (I) सर्किट स्विचिंग
- (II) सिम्प्लेक्स संचार
- (III) हाफ-ड्यूप्लेक्स संचार
- (IV) फुल-ड्यूप्लेक्स संचार

नीचे दिए गए विकल्पों में से सही उत्तर का चयन कीजिए :

- (1) (A)-(II), (B)-(III), (C)-(I), (D)-(IV)
- (2) (A)-(IV), (B)-(II), (C)-(I), (D)-(III)
- (3) (A)-(II), (B)-(III), (C)-(IV), (D)-(I)
- (4) (A)-(III), (B)-(II), (C)-(IV), (D)-(I)

Options :

- 212807114953. 1
- 212807114954. 2
- 212807114955. 3
- 212807114956. 4

Question Number : 235 Question Id : 21280728740 Question Type : MCQ Option Shuffling : No Is Question Mandatory : No Calculator : None
Response Time : N.A Think Time : N.A Minimum Instruction Time : 0

Correct Marks : 5 Wrong Marks : 1

Question Key Details :

Key	Value
Comprehension	MCQ5

Which method is used to display row labels of a dataframe ?

- (1) iterrows()
- (2) index()
- (3) columns()
- (4) median()

Options :

- 212807114957. 1
- 212807114958. 2
- 212807114959. 3
- 212807114960. 4

Question Number : 235 Question Id : 21280728740 Question Type : MCQ Option Shuffling : No Is Question Mandatory : No Calculator : None
Response Time : N.A Think Time : N.A Minimum Instruction Time : 0

Correct Marks : 5 Wrong Marks : 1

Question Key Details :

Key	Value
-----	-------

किसी डेटाफ्रेम के पंक्ति शीर्षक को प्रदर्शित करने के लिए कौन सी विधि का प्रयोग करते हैं ?

- (1) iterrows()
- (2) index()
- (3) columns()
- (4) median()

Options :

212807114957. 1
212807114958. 2
212807114959. 3
212807114960. 4

Economics

Group Number :	5
Group Id :	212807626
Group Maximum Duration :	60
Group Minimum Duration :	60
Show Attended Group? :	No
Edit Attended Group? :	No
Break time :	0
Group Marks :	200
Is this Group for Examiner? :	No
Examiner permission :	Cant View
Show Progress Bar? :	No

Economics

Section Id :	212807732
Section Number :	1
Section type :	Online
Mandatory or Optional :	Mandatory
Number of Questions :	50
Number of Questions to be attempted :	40
Section Marks :	200
Enable Mark as Answered Mark for Review and Clear Response :	Yes
Maximum Instruction Time :	0
Sub-Section Number :	1
Sub-Section Id :	2128072097
Question Shuffling Allowed :	Yes
Is Section Default? :	null

Question Number : 236 Question Id : 21280728741 Question Type : MCQ Option Shuffling : No Is Question Mandatory : No Calculator : None
Response Time : N.A Think Time : N.A Minimum Instruction Time : 0

Correct Marks : 5 Wrong Marks : 1

Question Key Details :

Key	Value
Comprehension	MCQ

Which of the following will be included while estimating Gross Domestic Product at market price (GDP_{MP}) ?

- (A) Profit earned by American express Bank from its Branch in India
- (B) Dividends paid to shareholders of firm situated in Kerala
- (C) Donations made to a religious institution
- (D) Salary paid to an Indian working in Japanese Embassy
- (E) Purchase of taxi by Travel Services company

Choose the correct answer from the options given below :

- (1) (A), (B) and (C) only
- (2) (A), (B) and (D) only
- (3) (B), (C) and (D) only
- (4) (A), (B) and (E) only

Options :

212807114961. 1

212807114962. 2

212807114963. 3

212807114964. 4

Question Number : 236 Question Id : 21280728741 Question Type : MCQ Option Shuffling : No Is Question Mandatory : No Calculator : None Response Time : N.A Think Time : N.A Minimum Instruction Time : 0

Correct Marks : 5 Wrong Marks : 1

Question Key Details :

Key	Value
Comprehension	MCQ

बाजार कीमतों पर सकल घरेलू उत्पाद (GDP_{MP}) की गणना करते समय निम्न में से किसको शामिल किया जाएगा ?

- (A) भारत में अमेरिकन एक्सप्रेस बैंक की शाखाओं द्वारा अर्जित लाभ
- (B) केरल में स्थित फर्म द्वारा अंशधारकों को लाभांश का भुगतान
- (C) धार्मिक संस्थानों को दिया गया दान
- (D) जापान के दूतावास में कार्यरत भारतीय को वेतन का भुगतान
- (E) ट्रेवल (Travel) सेवा कंपनी द्वारा कार की खरीद

नीचे दिए गए विकल्पों में से सही उत्तर का चयन कीजिए :

- (1) केवल (A), (B) और (C)
- (2) केवल (A), (B) और (D)
- (3) केवल (B), (C) और (D)
- (4) केवल (A), (B) और (E)

Options :

212807114961. 1

212807114962. 2

212807114963. 3

212807114964. 4

Question Number : 237 Question Id : 21280728742 Question Type : MCQ Option Shuffling : No Is Question Mandatory : No Calculator : None Response Time : N.A Think Time : N.A Minimum Instruction Time : 0

Correct Marks : 5 Wrong Marks : 1

Question Key Details :

Key	Value
Comprehension	MCQ

Brundtland Commission relates to :

- (1) Poverty alleviation
- (2) Employment generation
- (3) Rural development
- (4) Sustainable development

Options :

212807114965. 1
212807114966. 2
212807114967. 3
212807114968. 4

Question Number : 237 Question Id : 21280728742 Question Type : MCQ Option Shuffling : No Is Question Mandatory : No Calculator : None Response Time : N.A Think Time : N.A Minimum Instruction Time : 0

Correct Marks : 5 Wrong Marks : 1

Question Key Details :

Key	Value
Comprehension	MCQ

ब्रुंटलैंड कमीशन का संबंध है :

- (1) गरीबी उन्मूलन
- (2) रोजगार सृजन
- (3) ग्रामीण विकास
- (4) धारणीय विकास

Options :

212807114965. 1
212807114966. 2
212807114967. 3
212807114968. 4

Question Number : 238 Question Id : 21280728743 Question Type : MCQ Option Shuffling : No Is Question Mandatory : No Calculator : None Response Time : N.A Think Time : N.A Minimum Instruction Time : 0

Correct Marks : 5 Wrong Marks : 1

Question Key Details :

Key	Value
Comprehension	MCQ

Arrange the following statements relating to India in the sequence of their occurrence :

- (A) Setting up of National Bank for Agriculture and Rural credit
- (B) Saansad Adarsh Gram Yojana Scheme introduce by Government
- (C) Social banking and multi agency approach adopted to meet rural credit needs
- (D) 'Kudumbashree' was started as a small savings bank for poor women in Kerala

Choose the **correct** answer from the options given below :

- (1) (A), (B), (C), (D)
- (2) (D), (C), (B), (A)
- (3) (C), (A), (D), (B)
- (4) (D), (B), (A), (C)

Options :

- 212807114969. 1
- 212807114970. 2
- 212807114971. 3
- 212807114972. 4

Question Number : 238 Question Id : 21280728743 Question Type : MCQ Option Shuffling : No Is Question Mandatory : No Calculator : None Response Time : N.A Think Time : N.A Minimum Instruction Time : 0

Correct Marks : 5 Wrong Marks : 1

Question Key Details :

Key	Value
Comprehension	MCQ

भारत के संदर्भ में निम्न कथनों को उनके घटित होने की श्रृंखला के अनुसार व्यवस्थित कीजिए :

- (A) राष्ट्रीय कृषि और ग्रामीण विकास बैंक की स्थापना
- (B) सरकार द्वारा आरंभ की गई सांसद आदर्श ग्राम योजना
- (C) ग्रामीण वित्त की आवश्यकताओं को पूरा करने के लिए सामाजिक बैंकिंग और बहु-एजेंसी विधियों का स्वीकरण
- (D) केरल की गरीब महिलाओं के लिए लघु बचत बैंक के रूप में आरंभ किया गया 'कुटुंब श्री'

नीचे दिए गए विकल्पों में से **सही** उत्तर का चयन कीजिए :

- (1) (A), (B), (C), (D)
- (2) (D), (C), (B), (A)
- (3) (C), (A), (D), (B)
- (4) (D), (B), (A), (C)

Options :

- 212807114969. 1
- 212807114970. 2
- 212807114971. 3
- 212807114972. 4

Question Number : 239 Question Id : 21280728744 Question Type : MCQ Option Shuffling : No Is Question Mandatory : No Calculator : None Response Time : N.A Think Time : N.A Minimum Instruction Time : 0

Correct Marks : 5 Wrong Marks : 1

Question Key Details :

Key	Value
Comprehension	MCQ

Match List - I with List - II.

List - I

- (A) Quotas
(B) Import substitution
(C) Tariffs
(D) Subsidy

List - II

- (I) Monetary assistance given by government for production activities
(II) Government protects domestic industries from foreign competition
(III) Tax on imported goods
(IV) Specify the quantity of goods which can be imported

Choose the **correct** answer from the options given below :

- (1) (A)-(IV), (B)-(II), (C)-(III), (D)-(I)
(2) (A)-(I), (B)-(II), (C)-(IV), (D)-(III)
(3) (A)-(IV), (B)-(III), (C)-(I), (D)-(II)
(4) (A)-(I), (B)-(II), (C)-(III), (D)-(IV)

Options :

212807114973. 1
212807114974. 2
212807114975. 3
212807114976. 4

Question Number : 239 Question Id : 21280728744 Question Type : MCQ Option Shuffling : No Is Question Mandatory : No Calculator : None
Response Time : N.A Think Time : N.A Minimum Instruction Time : 0

Correct Marks : 5 Wrong Marks : 1

Question Key Details :

Key	Value
Comprehension	MCQ

सूची-I से सूची-II का मिलान कीजिए :

सूची-I

- (A) कोटा
(B) आयात प्रतिस्थापन
(C) प्रशुल्क
(D) अनुदान

सूची-II

- (I) उत्पादन क्रियाओं के लिए सरकार द्वारा प्रदान की गई वित्तीय सहायता
(II) घरेलू उद्योगों को विदेशी प्रतिस्पर्धा से सरकारी संरक्षण
(III) आयातित वस्तुओं पर कर
(IV) आयात की जा सकने वाली वस्तुओं के परिमाण का विशेष ब्यौरा देना

नीचे दिए गए विकल्पों में से **सही** उत्तर का चयन कीजिए :

- (1) (A)-(IV), (B)-(II), (C)-(III), (D)-(I)
(2) (A)-(I), (B)-(II), (C)-(IV), (D)-(III)
(3) (A)-(IV), (B)-(III), (C)-(I), (D)-(II)
(4) (A)-(I), (B)-(II), (C)-(III), (D)-(IV)

Options :

212807114973. 1
212807114974. 2
212807114975. 3
212807114976. 4

Question Number : 240 Question Id : 21280728745 Question Type : MCQ Option Shuffling : No Is Question Mandatory : No Calculator : None
Response Time : N.A Think Time : N.A Minimum Instruction Time : 0

Correct Marks : 5 Wrong Marks : 1

Question Key Details :

Key	Value
Comprehension	MCQ

Identify the programme that the government has adopted to help the elderly people and poor and destitute women ?

- (1) Pradhan Mantri Gram Sadak Yojana
- (2) Integrated Child Development Scheme
- (3) National Social Assistance Programme
- (4) Valmiki Ambedkar Awas Yojana

Options :

212807114977. 1
212807114978. 2
212807114979. 3
212807114980. 4

Question Number : 240 Question Id : 21280728745 Question Type : MCQ Option Shuffling : No Is Question Mandatory : No Calculator : None Response Time : N.A Think Time : N.A Minimum Instruction Time : 0

Correct Marks : 5 Wrong Marks : 1

Question Key Details :

Key	Value
Comprehension	MCQ

सरकार द्वारा अपनाये गए उस कार्यक्रम की पहचान कीजिए जिसमें वृद्धजनों और अकेली महिलाओं की सहायता की जाती है ?

- (1) प्रधानमंत्री ग्राम सड़क योजना
- (2) समाकलित बालक विकास योजना
- (3) राष्ट्रीय सामाजिक सहायता कार्यक्रम
- (4) वाल्मीकी अम्बेडकर आवास योजना

Options :

212807114977. 1
212807114978. 2
212807114979. 3
212807114980. 4

Question Number : 241 Question Id : 21280728746 Question Type : MCQ Option Shuffling : No Is Question Mandatory : No Calculator : None Response Time : N.A Think Time : N.A Minimum Instruction Time : 0

Correct Marks : 5 Wrong Marks : 1

Question Key Details :

Key	Value
Comprehension	MCQ

Match List - I with List - II.

List - I

- (A) Ex-ante saving
(B) Multiplier
(C) Aggregate supply
(D) Marginal Propensity to consume

List - II

- (I) Planned output
(II) $\frac{\Delta Y}{\Delta I}$
(III) Direct relationship with investment multiplier
(IV) Desired saving

Choose the correct answer from the options given below :

- (1) (A)-(III), (B)-(II), (C)-(IV), (D)-(I)
(2) (A)-(IV), (B)-(II), (C)-(I), (D)-(III)
(3) (A)-(IV), (B)-(I), (C)-(II), (D)-(III)
(4) (A)-(II), (B)-(IV), (C)-(I), (D)-(III)

Options :

212807114981. 1
212807114982. 2
212807114983. 3
212807114984. 4

Question Number : 241 Question Id : 21280728746 Question Type : MCQ Option Shuffling : No Is Question Mandatory : No Calculator : None Response Time : N.A Think Time : N.A Minimum Instruction Time : 0

Correct Marks : 5 Wrong Marks : 1

Question Key Details :

Key	Value
Comprehension	MCQ

सूची-I से सूची-II का मिलान कीजिए:

सूची-I

- (A) प्रत्याशित बचत
(B) गुणक
(C) समग्र पूर्ति
(D) सीमांत उपयोग प्रवृत्ति

सूची-II

- (I) नियोजित उत्पादन
(II) $\frac{\Delta Y}{\Delta I}$
(III) निवेश गुणक से प्रत्यक्ष संबंध
(IV) नियोजित बचत

नीचे दिए गए विकल्पों में से सही उत्तर का चयन कीजिए :

- (1) (A)-(III), (B)-(II), (C)-(IV), (D)-(I)
(2) (A)-(IV), (B)-(II), (C)-(I), (D)-(III)
(3) (A)-(IV), (B)-(I), (C)-(II), (D)-(III)
(4) (A)-(II), (B)-(IV), (C)-(I), (D)-(III)

Options :

212807114981. 1
212807114982. 2
212807114983. 3
212807114984. 4

Question Number : 242 Question Id : 21280728747 Question Type : MCQ Option Shuffling : No Is Question Mandatory : No Calculator : None Response Time : N.A Think Time : N.A Minimum Instruction Time : 0

Correct Marks : 5 Wrong Marks : 1

Question Key Details :

Key	Value
Comprehension	MCQ

Arrange the elasticity (e_d) as we move upwards along a linear demand curve.

- (A) $e_d = 1$
- (B) $e_d = 0$
- (C) $e_d = \infty$
- (D) $e_d > 1$
- (E) $e_d < 1$

Choose the **correct** answer from the options given below :

- (1) (B), (E), (A), (D), (C)
- (2) (A), (B), (C), (D), (E)
- (3) (D), (C), (B), (A), (E)
- (4) (B), (C), (A), (D), (E)

Options :

- 212807114985. 1
- 212807114986. 2
- 212807114987. 3
- 212807114988. 4

Question Number : 242 Question Id : 21280728747 Question Type : MCQ Option Shuffling : No Is Question Mandatory : No Calculator : None Response Time : N.A Think Time : N.A Minimum Instruction Time : 0

Correct Marks : 5 Wrong Marks : 1

Question Key Details :

Key	Value
Comprehension	MCQ

एक रेखिक मांग वक्र पर ऊपर की ओर जाते हुए मांग की लोच (e_d) को व्यवस्थित कीजिए।

- (A) $e_d = 1$
- (B) $e_d = 0$
- (C) $e_d = \infty$
- (D) $e_d > 1$
- (E) $e_d < 1$

नीचे दिए गए विकल्पों में से **सही** उत्तर का चयन कीजिए :

- (1) (B), (E), (A), (D), (C)
- (2) (A), (B), (C), (D), (E)
- (3) (D), (C), (B), (A), (E)
- (4) (B), (C), (A), (D), (E)

Options :

- 212807114985. 1
- 212807114986. 2
- 212807114987. 3
- 212807114988. 4

Question Number : 243 Question Id : 21280728748 Question Type : MCQ Option Shuffling : No Is Question Mandatory : No Calculator : None Response Time : N.A Think Time : N.A Minimum Instruction Time : 0

Correct Marks : 5 Wrong Marks : 1

Question Key Details :

Key	Value
Comprehension	MCQ

“Cooperative marketing have received a set back during the recent past”.

Choose the option that is not true for the above statement.

- (1) Distribution of food grains and sugar through public distribution system
- (2) Inadequate coverage of farmers
- (3) Inefficient financial management
- (4) Lack of appropriate link between marketing and processing cooperations

Options :

212807114989. 1

212807114990. 2

212807114991. 3

212807114992. 4

Question Number : 243 Question Id : 21280728748 Question Type : MCQ Option Shuffling : No Is Question Mandatory : No Calculator : None Response Time : N.A Think Time : N.A Minimum Instruction Time : 0

Correct Marks : 5 Wrong Marks : 1

Question Key Details :

Key	Value
Comprehension	MCQ

“हाल ही में सहकारी विपणन को धक्का लगा”।

उपरोक्त कथन के लिए उस विकल्प का चयन कीजिए जो सही नहीं है।

- (1) सार्वजनिक वितरण प्रणाली द्वारा खाद्यानों और चीनी का वितरण
- (2) किसानों की अपर्याप्त पहुंच
- (3) अप्रभावी वित्तीय प्रबंध
- (4) विपणन और प्रसंस्करण सहकारी समितियों के बीच संबंध सूत्रों की कमी

Options :

212807114989. 1

212807114990. 2

212807114991. 3

212807114992. 4

Question Number : 244 Question Id : 21280728749 Question Type : MCQ Option Shuffling : No Is Question Mandatory : No Calculator : None Response Time : N.A Think Time : N.A Minimum Instruction Time : 0

Correct Marks : 5 Wrong Marks : 1

Question Key Details :

Key	Value
Comprehension	MCQ

Suppose the GDP at market price of a country in a particular year was ₹ 2,100 crores. Net Factor Income from abroad was ₹ 200 crores. The value of Indirect Taxes net of subsidies was ₹ 100 crores and national income was ₹ 1,900 crores. The aggregate value of depreciation in the economy will be :

- (1) ₹ 100 crores
- (2) ₹ 400 crores
- (3) ₹ 200 crores
- (4) ₹ 300 crores

Options :

212807114993. 1
212807114994. 2
212807114995. 3
212807114996. 4

Question Number : 244 Question Id : 21280728749 Question Type : MCQ Option Shuffling : No Is Question Mandatory : No Calculator : None Response Time : N.A Think Time : N.A Minimum Instruction Time : 0

Correct Marks : 5 Wrong Marks : 1

Question Key Details :

Key	Value
Comprehension	MCQ

मान लीजिए किसी विशेष वर्ष में किसी देश में बाजार कीमतों पर GDP ₹ 2,100 करोड़ था। विदेशों से प्राप्त शुद्ध साधन आय ₹ 200 करोड़ थी। आर्थिक सहायता घटाने के बाद अप्रत्यक्ष करों का मान ₹ 100 करोड़ तथा राष्ट्रीय आय ₹ 1,900 करोड़ थी। अर्थव्यवस्था में मूल्य ह्रास का समग्र मान होगा :

- (1) ₹ 100 करोड़
- (2) ₹ 400 करोड़
- (3) ₹ 200 करोड़
- (4) ₹ 300 करोड़

Options :

212807114993. 1
212807114994. 2
212807114995. 3
212807114996. 4

Question Number : 245 Question Id : 21280728750 Question Type : MCQ Option Shuffling : No Is Question Mandatory : No Calculator : None Response Time : N.A Think Time : N.A Minimum Instruction Time : 0

Correct Marks : 5 Wrong Marks : 1

Question Key Details :

Key	Value
Comprehension	MCQ

Which of the following are the examples of complementary goods ?

- (A) pen and ink
- (B) tea and sugar
- (C) tea and coffee
- (D) ball pen and gel pen
- (E) shoes and socks

Choose the correct answer from the options given below :

- (1) (A), (C) and (D) only
- (2) (A), (B), and (E) only
- (3) (B), (C) and (D) only
- (4) (C) and (E) only

Options :

212807114997. 1

212807114998. 2

212807114999. 3

212807115000. 4

Question Number : 245 Question Id : 21280728750 Question Type : MCQ Option Shuffling : No Is Question Mandatory : No Calculator : None Response Time : N.A Think Time : N.A Minimum Instruction Time : 0

Correct Marks : 5 Wrong Marks : 1

Question Key Details :

Key	Value
Comprehension	MCQ

निम्न में से पूरक वस्तुओं के उदाहरण कौन से हैं ?

- (A) पेन और स्याही
- (B) चाय और चीनी
- (C) चाय और कॉफी
- (D) बॉल पेन और जेल पेन
- (E) जूते और जुराबें

नीचे दिए गए विकल्पों में से सही उत्तर का चयन कीजिए :

- (1) केवल (A), (C) और (D)
- (2) केवल (A), (B) और (E)
- (3) केवल (B), (C) और (D)
- (4) केवल (C) और (E)

Options :

212807114997. 1

212807114998. 2

212807114999. 3

212807115000. 4

Question Number : 246 Question Id : 21280728751 Question Type : MCQ Option Shuffling : No Is Question Mandatory : No Calculator : None Response Time : N.A Think Time : N.A Minimum Instruction Time : 0

Correct Marks : 5 Wrong Marks : 1

Question Key Details :

Key	Value
Comprehension	MCQ

Which of the following statements is true, if other things remaining the same, the exchange rate changes from $1\$ = ₹ 80$ to $1\$ = ₹ 75$

- (A) Import will fall
- (B) Imports will rise
- (C) Exports will rise
- (D) National income will rise
- (E) National income will fall

Choose the **correct** answer from the options given below :

- (1) (E), (B) and (A) only
- (2) (B) and (E) only
- (3) (C), (D) and (E) only
- (4) (B), (E) and (D) only

Options :

- 212807115001. 1
- 212807115002. 2
- 212807115003. 3
- 212807115004. 4

Question Number : 246 Question Id : 21280728751 Question Type : MCQ Option Shuffling : No Is Question Mandatory : No Calculator : None Response Time : N.A Think Time : N.A Minimum Instruction Time : 0

Correct Marks : 5 Wrong Marks : 1

Question Key Details :

Key	Value
Comprehension	MCQ

निम्न में से कौन-सा कथन सही है, यदि अन्य बातें समान रहने पर, विनिमय दर $1\$ = ₹ 80$ से $1\$ = ₹ 75$ हो जाती है

- (A) आयात कम हो जाएंगे
- (B) आयात बढ़ जाएंगे
- (C) निर्यात बढ़ जाएंगे
- (D) राष्ट्रीय आय बढ़ जाएगी
- (E) राष्ट्रीय आय कम हो जाएगी

नीचे दिए गए विकल्पों में से **सही** उत्तर का चयन कीजिए :

- (1) केवल (E), (B) और (A)
- (2) केवल (B) और (E)
- (3) केवल (C), (D) और (E)
- (4) केवल (B), (E) और (D)

Options :

- 212807115001. 1
- 212807115002. 2
- 212807115003. 3
- 212807115004. 4

Question Number : 247 Question Id : 21280728752 Question Type : MCQ Option Shuffling : No Is Question Mandatory : No Calculator : None
Response Time : N.A Think Time : N.A Minimum Instruction Time : 0

Correct Marks : 5 Wrong Marks : 1

Question Key Details :

Key	Value
Comprehension	MCQ

Which of the following does **not** constitute the central problems of an economy ?

- (1) Whether to have more agricultural goods or to have more industrial products
- (2) Whether to use more labour or more machines
- (3) Whether to consume more of leisure or more of work related activity
- (4) Who gets how much of the goods that are produced in the economy ?

Options :

212807115005. 1

212807115006. 2

212807115007. 3

212807115008. 4

Question Number : 247 Question Id : 21280728752 Question Type : MCQ Option Shuffling : No Is Question Mandatory : No Calculator : None
Response Time : N.A Think Time : N.A Minimum Instruction Time : 0

Correct Marks : 5 Wrong Marks : 1

Question Key Details :

Key	Value
Comprehension	MCQ

निम्न में से कौन-सा एक अर्थव्यवस्था की केन्द्रीय समस्याओं का संघटक नहीं है ?

- (1) ज्यादा कृषि वस्तुओं की प्राप्ति या ज्यादा औद्योगिक वस्तुओं की प्राप्ति
- (2) ज्यादा श्रम का प्रयोग या ज्यादा मशीनों का प्रयोग
- (3) ज्यादा विलासी वस्तुओं का उपयोग या ज्यादा कार्य से संबंधित क्रियाएं
- (4) अर्थव्यवस्था में उत्पादित वस्तुओं को कौन कितनी मात्रा में प्राप्त करेगा ?

Options :

212807115005. 1

212807115006. 2

212807115007. 3

212807115008. 4

Question Number : 248 Question Id : 21280728753 Question Type : MCQ Option Shuffling : No Is Question Mandatory : No Calculator : None
Response Time : N.A Think Time : N.A Minimum Instruction Time : 0

Correct Marks : 5 Wrong Marks : 1

Question Key Details :

Key	Value
Comprehension	MCQ

Which of the following is true about Indian demography on the eve of independence ?

- (A) Water and air-borne diseases were under control
- (B) Infant mortality rate was 24 per thousand Live births only
- (C) Overall literacy rate was less than 16 percent
- (D) Life expectancy was 44 years

Choose the correct answer from the options given below :

- (1) (A) and (B) only
- (2) (C) only
- (3) (B) and (D) only
- (4) (C) and (D) only

Options :

- 212807115009. 1
- 212807115010. 2
- 212807115011. 3
- 212807115012. 4

Question Number : 248 Question Id : 21280728753 Question Type : MCQ Option Shuffling : No Is Question Mandatory : No Calculator : None Response Time : N.A Think Time : N.A Minimum Instruction Time : 0

Correct Marks : 5 Wrong Marks : 1

Question Key Details :

Key	Value
Comprehension	MCQ

स्वतंत्रता के समय भारतीय जनॉकिकी के संदर्भ में निम्न में क्या सही है ?

- (A) जल और वायुजनित बिमारियाँ नियंत्रण में थी
- (B) प्रति हजार जीवितों में से शिशु मृत्यु दर 24 थी
- (C) कुल मिलाकर साक्षरता दर 16 प्रतिशत से कम थी
- (D) जीवन प्रत्याशा 44 वर्ष थी

नीचे दिए गए विकल्पों में से सही उत्तर का चयन कीजिए :

- (1) केवल (A) और (B)
- (2) केवल (C)
- (3) केवल (B) और (D)
- (4) केवल (C) और (D)

Options :

- 212807115009. 1
- 212807115010. 2
- 212807115011. 3
- 212807115012. 4

Question Number : 249 Question Id : 21280728754 Question Type : MCQ Option Shuffling : No Is Question Mandatory : No Calculator : None Response Time : N.A Think Time : N.A Minimum Instruction Time : 0

Correct Marks : 5 Wrong Marks : 1

Question Key Details :

Key	Value
Comprehension	MCQ

Identify the capital account transaction from the following :

- (1) Export of goods
- (2) Import of goods
- (3) Net Invisibles
- (4) External commercial borrowings

Options :

212807115013. 1
212807115014. 2
212807115015. 3
212807115016. 4

Question Number : 249 Question Id : 21280728754 Question Type : MCQ Option Shuffling : No Is Question Mandatory : No Calculator : None Response Time : N.A Think Time : N.A Minimum Instruction Time : 0

Correct Marks : 5 Wrong Marks : 1

Question Key Details :

Key	Value
Comprehension	MCQ

निम्न में से पूंजी खाते के लेन-देन की पहचान कीजिए :

- (1) वस्तुओं का निर्यात
- (2) वस्तुओं का आयात
- (3) शुद्ध अदृश्य मर्दे
- (4) बाहरी व्यवसायिक ऋण

Options :

212807115013. 1
212807115014. 2
212807115015. 3
212807115016. 4

Question Number : 250 Question Id : 21280728755 Question Type : MCQ Option Shuffling : No Is Question Mandatory : No Calculator : None Response Time : N.A Think Time : N.A Minimum Instruction Time : 0

Correct Marks : 5 Wrong Marks : 1

Question Key Details :

Key	Value
Comprehension	MCQ

“A theory of international exchange which holds that the price of similar goods in different countries is the same” is the concept of :

- (1) Real exchange rate
- (2) Present value
- (3) Purchasing power parity
- (4) Nominal exchange rate

Options :

212807115017. 1
212807115018. 2
212807115019. 3
212807115020. 4

Question Number : 250 Question Id : 21280728755 Question Type : MCQ Option Shuffling : No Is Question Mandatory : No Calculator : None Response Time : N.A Think Time : N.A Minimum Instruction Time : 0

Correct Marks : 5 Wrong Marks : 1

Question Key Details :

Key	Value
Comprehension	MCQ

किस अवधारणा के तहत अंतराष्ट्रीय विनिमय के सिद्धांत के रूप में यह माना जाता है कि समरूप वस्तुओं की कीमतें विभिन्न देशों में एक जैसी होती हैं ?

- (1) वास्तविक विनिमय दर
- (2) वर्तमान कीमत
- (3) समता क्रय शक्ति
- (4) मौद्रिक विनिमय दर

Options :

212807115017. 1
212807115018. 2
212807115019. 3
212807115020. 4

Question Number : 251 Question Id : 21280728756 Question Type : MCQ Option Shuffling : No Is Question Mandatory : No Calculator : None Response Time : N.A Think Time : N.A Minimum Instruction Time : 0

Correct Marks : 5 Wrong Marks : 1

Question Key Details :

Key	Value
Comprehension	MCQ

Choose the correct facts related to development experience of India, Pakistan and China.

- (A) Reforms in China were introduced in 1978.
- (B) India adopted the mixed economy model for development
- (C) In 1965, the Great leap forward campaign was initiated
- (D) China has announced its first five year plan in 1956
- (E) Reforms were initiated in Pakistan in 1978

Choose the **correct** answer from the options given below :

- (1) (A), (C) and (D) only
- (2) (A) and (B) only
- (3) (C) and (D) only
- (4) (C), (D), and (E) only

Options :

212807115021. 1
212807115022. 2
212807115023. 3
212807115024. 4

Question Number : 251 Question Id : 21280728756 Question Type : MCQ Option Shuffling : No Is Question Mandatory : No Calculator : None Response Time : N.A Think Time : N.A Minimum Instruction Time : 0

Correct Marks : 5 Wrong Marks : 1

Question Key Details :

Key	Value
Comprehension	MCQ

भारत, पाकिस्तान और चीन के विकास अनुभवों के संदर्भ में सही तथ्य का चयन कीजिए।

- (A) चीन में सुधार 1978 में आरंभ किए गए
- (B) भारत ने विकास के लिए मिश्रित अर्थव्यवस्था मॉडल को अपनाया
- (C) 'ग्रेट लीप फॉरवर्ड' अभियान 1965 में शुरू किया गया
- (D) चीन ने प्रथम पंचवर्षीय योजना 1956 में घोषित किया गया
- (E) पाकिस्तान में सुधार 1978 में लागू किए गये

नीचे दिए गए विकल्पों में से सही उत्तर का चयन कीजिए :

- (1) केवल (A), (C) और (D)
- (2) केवल (A) और (B)
- (3) केवल (C) और (D)
- (4) केवल (C), (D) और (E)

Options :

- 212807115021. 1
- 212807115022. 2
- 212807115023. 3
- 212807115024. 4

Question Number : 252 Question Id : 21280728757 Question Type : MCQ Option Shuffling : No Is Question Mandatory : No Calculator : None Response Time : N.A Think Time : N.A Minimum Instruction Time : 0

Correct Marks : 5 Wrong Marks : 1

Question Key Details :

Key	Value
Comprehension	MCQ

Development that meets the need of the present generation without compromising the ability of the future generation to meet their own needs was emphasized by :

- (1) United Nations Conference on Environment and Development (UNCED)
- (2) Central Pollution Control Board (CPCB)
- (3) Ministry of Environment
- (4) Herman Daly

Options :

- 212807115025. 1
- 212807115026. 2
- 212807115027. 3
- 212807115028. 4

Question Number : 252 Question Id : 21280728757 Question Type : MCQ Option Shuffling : No Is Question Mandatory : No Calculator : None Response Time : N.A Think Time : N.A Minimum Instruction Time : 0

Correct Marks : 5 Wrong Marks : 1

Question Key Details :

Key	Value
Comprehension	MCQ

'ऐसा विकास जो वर्तमान पीढ़ी की आवश्यकताओं को भावी पीढ़ियों की आवश्यकताओं की पूर्ति क्षमता का समझौता किये बिना पूरा करना' को प्रबल ढंग से प्रस्तुत किया गया :

- (1) संयुक्त राष्ट्र पर्यावरण और विकास सम्मेलन (UNCED)
- (2) केन्द्रीय प्रदूषण नियंत्रण बोर्ड (CPCB)
- (3) पर्यावरण मंत्रालय
- (4) हरमन डाले

Options :

212807115025. 1
212807115026. 2
212807115027. 3
212807115028. 4

Question Number : 253 Question Id : 21280728758 Question Type : MCQ Option Shuffling : No Is Question Mandatory : No Calculator : None Response Time : N.A Think Time : N.A Minimum Instruction Time : 0

Correct Marks : 5 Wrong Marks : 1

Question Key Details :

Key	Value
Comprehension	MCQ

_____ have emerged to fill the gap in the formal credit system because the formal credit delivery mechanism has not only proven inadequate but has also not been fully integrated into the overall rural social and community development.

- (1) Commercial Banks
- (2) Regional rural Banks
- (3) Self help groups
- (4) Land development banks

Options :

212807115029. 1
212807115030. 2
212807115031. 3
212807115032. 4

Question Number : 253 Question Id : 21280728758 Question Type : MCQ Option Shuffling : No Is Question Mandatory : No Calculator : None Response Time : N.A Think Time : N.A Minimum Instruction Time : 0

Correct Marks : 5 Wrong Marks : 1

Question Key Details :

Key	Value
Comprehension	MCQ

_____ का प्रादुर्भाव औपचारिक साख व्यवस्था में रह गई कमियों को दूर करने के लिए हुआ क्योंकि औपचारिक साख व्यवस्था न केवल अपर्याप्त थी, बल्कि ग्रामीण सामाजिक तथा सामुदायिक विकास में पूरी तरह समन्वित साबित हुई है।

- (1) वाणिज्यिक बैंक
- (2) क्षेत्रीय ग्रामीण बैंक
- (3) स्वयं सहायता समूह
- (4) भूमि विकास बैंक

Options :

212807115029. 1
212807115030. 2
212807115031. 3

Question Number : 254 Question Id : 21280728759 Question Type : MCQ Option Shuffling : No Is Question Mandatory : No Calculator : None
Response Time : N.A Think Time : N.A Minimum Instruction Time : 0

Correct Marks : 5 Wrong Marks : 1

Question Key Details :

Key	Value
Comprehension	MCQ

A factory can increase its output by using a new type of machine. Adoption of this new technology is called _____

- (1) Privatization
- (2) Equity
- (3) Modernization
- (4) Liberalization

Options :

212807115033. 1
212807115034. 2
212807115035. 3
212807115036. 4

Question Number : 254 Question Id : 21280728759 Question Type : MCQ Option Shuffling : No Is Question Mandatory : No Calculator : None
Response Time : N.A Think Time : N.A Minimum Instruction Time : 0

Correct Marks : 5 Wrong Marks : 1

Question Key Details :

Key	Value
Comprehension	MCQ

एक फैक्ट्री अपना उत्पाद नई मशीन के प्रयोग से बढ़ा सकती है। नई तकनीक के प्रयोग को कहते हैं _____

- (1) निजीकरण
- (2) समता
- (3) आधुनिकीकरण
- (4) उदारीकरण

Options :

212807115033. 1
212807115034. 2
212807115035. 3
212807115036. 4

Question Number : 255 Question Id : 21280728760 Question Type : MCQ Option Shuffling : No Is Question Mandatory : No Calculator : None
Response Time : N.A Think Time : N.A Minimum Instruction Time : 0

Correct Marks : 5 Wrong Marks : 1

Question Key Details :

Key	Value
Comprehension	MCQ

From the following transactions which transaction will be recorded in the current account of the balance of payments :

- (1) Indian buys French car company
- (2) Indian buys French made car from France
- (3) Sale of shares of Indian company to French customers
- (4) Purchase of shares of French company by Indian customers

Options :

212807115037. 1
 212807115038. 2
 212807115039. 3
 212807115040. 4

Question Number : 255 Question Id : 21280728760 Question Type : MCQ Option Shuffling : No Is Question Mandatory : No Calculator : None Response Time : N.A Think Time : N.A Minimum Instruction Time : 0

Correct Marks : 5 Wrong Marks : 1

Question Key Details :

Key	Value
Comprehension	MCQ

निम्न में से लेन देनों में से कौन सा लेन देन भुगतान शेष के चालू खाते में रिकॉर्ड किया जाएगा ?

- (1) भारतीय द्वारा फ्रांस की कार कंपनी को खरीदना
- (2) भारतीय द्वारा फ्रांस में निर्मित कार को फ्रांस से खरीदना
- (3) फ्रांस के ग्राहकों को भारतीय कंपनी के अंशपत्रों का विक्रय
- (4) भारतीय ग्राहकों के द्वारा फ्रांस की कंपनी के अंशपत्रों का क्रय

Options :

212807115037. 1
 212807115038. 2
 212807115039. 3
 212807115040. 4

Question Number : 256 Question Id : 21280728761 Question Type : MCQ Option Shuffling : No Is Question Mandatory : No Calculator : None Response Time : N.A Think Time : N.A Minimum Instruction Time : 0

Correct Marks : 5 Wrong Marks : 1

Question Key Details :

Key	Value
Comprehension	MCQ

Which of the following function is not performed by the Central bank ?

- (1) Issues currency
- (2) Controls money supply
- (3) Money creation
- (4) Bank to the government

Options :

212807115041. 1
 212807115042. 2
 212807115043. 3
 212807115044. 4

Question Number : 256 Question Id : 21280728761 Question Type : MCQ Option Shuffling : No Is Question Mandatory : No Calculator : None Response Time : N.A Think Time : N.A Minimum Instruction Time : 0

Correct Marks : 5 Wrong Marks : 1

Question Key Details :

Key	Value
Comprehension	MCQ

निम्न में से कौन-सा कार्य केन्द्रीय बैंक द्वारा नहीं किया जाता है ?

- (1) मुद्रा का निर्गमन
- (2) मुद्रा पूर्ति का नियंत्रण
- (3) मुद्रा (साख) सृजन
- (4) सरकार के लिए बैंक

Options :

212807115041. 1
212807115042. 2
212807115043. 3
212807115044. 4

Question Number : 257 Question Id : 21280728762 Question Type : MCQ Option Shuffling : No Is Question Mandatory : No Calculator : None Response Time : N.A Think Time : N.A Minimum Instruction Time : 0

Correct Marks : 5 Wrong Marks : 1

Question Key Details :

Key	Value
Comprehension	MCQ

Arrange the following in their establishment from early to recent :

- (A) Introduction of GST
- (B) World Trade Organisation was founded
- (C) Establishment of Planning Commission
- (D) First Phase of Green Revolution

Choose the **correct** answer from the options given below :

- (1) (A), (B), (C), (D)
- (2) (D), (C), (B), (A)
- (3) (C), (D), (B), (A)
- (4) (B), (A), (C), (D)

Options :

212807115045. 1
212807115046. 2
212807115047. 3
212807115048. 4

Question Number : 257 Question Id : 21280728762 Question Type : MCQ Option Shuffling : No Is Question Mandatory : No Calculator : None Response Time : N.A Think Time : N.A Minimum Instruction Time : 0

Correct Marks : 5 Wrong Marks : 1

Question Key Details :

Key	Value
Comprehension	MCQ

निम्नलिखित में से पहले से लेकर हाल ही में, स्थापना को लेकर व्यवस्थित कीजिए :

- (A) GST का प्रारंभ
- (B) विश्व व्यापार संगठन की स्थापना
- (C) योजना आयोग की स्थापना
- (D) हरित क्रांति का प्रथम चरण

नीचे दिए गए विकल्पों में से सही उत्तर का चयन कीजिए :

- (1) (A), (B), (C), (D)
- (2) (D), (C), (B), (A)
- (3) (C), (D), (B), (A)
- (4) (B), (A), (C), (D)

Options :

- 212807115045. 1
- 212807115046. 2
- 212807115047. 3
- 212807115048. 4

Question Number : 258 Question Id : 21280728763 Question Type : MCQ Option Shuffling : No Is Question Mandatory : No Calculator : None
Response Time : N.A Think Time : N.A Minimum Instruction Time : 0

Correct Marks : 5 Wrong Marks : 1

Question Key Details :

Key	Value
Comprehension	MCQ

Exchange rate determined by the market forces of demand and supply is known as :

- (1) Fixed exchange rate
- (2) Current exchange rate
- (3) Constant exchange rate
- (4) Floating exchange rate

Options :

- 212807115049. 1
- 212807115050. 2
- 212807115051. 3
- 212807115052. 4

Question Number : 258 Question Id : 21280728763 Question Type : MCQ Option Shuffling : No Is Question Mandatory : No Calculator : None
Response Time : N.A Think Time : N.A Minimum Instruction Time : 0

Correct Marks : 5 Wrong Marks : 1

Question Key Details :

Key	Value
Comprehension	MCQ

विनिमय दर, जिसका निर्धारण मांग और पूर्ति की बाजार शक्तियों द्वारा निर्धारण होता है :

- (1) स्थिर विनिमय दर
- (2) चालू विनिमय दर
- (3) स्थायि विनिमय दर
- (4) तिरती विनिमय दर

Options :

212807115049. 1
212807115050. 2
212807115051. 3
212807115052. 4

Question Number : 259 Question Id : 21280728764 Question Type : MCQ Option Shuffling : No Is Question Mandatory : No Calculator : None
Response Time : N.A Think Time : N.A Minimum Instruction Time : 0

Correct Marks : 5 Wrong Marks : 1

Question Key Details :

Key	Value
Comprehension	MCQ

Which of the following is not true about currency notes and coins in circulation in an economy ?

- (1) They are legal tenders
- (2) They are called fiat money
- (3) They have intrinsic value
- (4) They do not have intrinsic value

Options :

212807115053. 1
212807115054. 2
212807115055. 3
212807115056. 4

Question Number : 259 Question Id : 21280728764 Question Type : MCQ Option Shuffling : No Is Question Mandatory : No Calculator : None
Response Time : N.A Think Time : N.A Minimum Instruction Time : 0

Correct Marks : 5 Wrong Marks : 1

Question Key Details :

Key	Value
Comprehension	MCQ

किसी अर्थव्यवस्था में प्रचलन में करेंसी नोट और सिक्कों के बारे में निम्न में से क्या सही नहीं है ?

- (1) ये दोनों कानूनी निविदा होते हैं
- (2) ये दोनों को वैध मुद्रा कहा जाता है
- (3) इन दोनों का आन्तरिक मूल्य होता है
- (4) इन दोनों का आन्तरिक मूल्य नहीं होता है

Options :

212807115053. 1
212807115054. 2
212807115055. 3
212807115056. 4

Question Number : 260 Question Id : 21280728765 Question Type : MCQ Option Shuffling : No Is Question Mandatory : No Calculator : None
Response Time : N.A Think Time : N.A Minimum Instruction Time : 0

Correct Marks : 5 Wrong Marks : 1

Question Key Details :

Key	Value
Comprehension	MCQ

Karve committee was set up for :

- (1) Heavy industries
- (2) Medium scale industries
- (3) Agriculture sector
- (4) Small scale industries

Options :

- 212807115057. 1
- 212807115058. 2
- 212807115059. 3
- 212807115060. 4

Question Number : 260 Question Id : 21280728765 Question Type : MCQ Option Shuffling : No Is Question Mandatory : No Calculator : None Response Time : N.A Think Time : N.A Minimum Instruction Time : 0

Correct Marks : 5 Wrong Marks : 1

Question Key Details :

Key	Value
Comprehension	MCQ

कर्चे (Karve) कमेटी का गठन किसके लिए किया गया:

- (1) भारी उद्योगों के लिए
- (2) मध्यम स्तर के उद्योगों के लिए
- (3) कृषि क्षेत्र के लिए
- (4) छोटे उद्योगों के लिए

Options :

- 212807115057. 1
- 212807115058. 2
- 212807115059. 3
- 212807115060. 4

Question Number : 261 Question Id : 21280728766 Question Type : MCQ Option Shuffling : No Is Question Mandatory : No Calculator : None Response Time : N.A Think Time : N.A Minimum Instruction Time : 0

Correct Marks : 5 Wrong Marks : 1

Question Key Details :

Key	Value
Comprehension	MCQ

Bank Rate is :

- (1) The rate of interest at which RBI gives loans to industries
- (2) The rate at which RBI gives loans to the commercial banks
- (3) The rate of interest at which Agricultural Banks give loans to the farmers
- (4) The rate of interest at which Co-operative banks give loans to the customers

Options :

- 212807115061. 1
- 212807115062. 2
- 212807115063. 3
- 212807115064. 4

Question Number : 261 Question Id : 21280728766 Question Type : MCQ Option Shuffling : No Is Question Mandatory : No Calculator : None Response Time : N.A Think Time : N.A Minimum Instruction Time : 0

Correct Marks : 5 Wrong Marks : 1

Question Key Details :

Key	Value
Comprehension	MCQ

बैंक दर है :

- (1) ब्याज दर जिस पर RBI उद्योगों को ऋण प्रदान करता है
- (2) ब्याज दर जिस पर RBI व्यापारिक बैंकों को ऋण प्रदान करता है
- (3) ब्याज दर जिस पर कृषि बैंक किसानों को ऋण प्रदान करते हैं
- (4) ब्याज दर जिस पर सहकारी बैंक अपने ग्राहकों को ऋण प्रदान करते हैं

Options :

212807115061. 1
212807115062. 2
212807115063. 3
212807115064. 4

Question Number : 262 Question Id : 21280728767 Question Type : MCQ Option Shuffling : No Is Question Mandatory : No Calculator : None
Response Time : N.A Think Time : N.A Minimum Instruction Time : 0

Correct Marks : 5 Wrong Marks : 1

Question Key Details :

Key	Value
Comprehension	MCQ

The problem of choice arises from :

- (1) Abundance
- (2) Scarcity
- (3) Competing usages
- (4) Economic activities

Options :

212807115065. 1
212807115066. 2
212807115067. 3
212807115068. 4

Question Number : 262 Question Id : 21280728767 Question Type : MCQ Option Shuffling : No Is Question Mandatory : No Calculator : None
Response Time : N.A Think Time : N.A Minimum Instruction Time : 0

Correct Marks : 5 Wrong Marks : 1

Question Key Details :

Key	Value
Comprehension	MCQ

चयन की समस्या का जन्म किससे होता है ?

- (1) अधिकता
- (2) दुर्लभता
- (3) प्रतिस्पर्धात्मक प्रयोग
- (4) आर्थिक क्रियाएं

Options :

212807115065. 1
212807115066. 2
212807115067. 3
212807115068. 4

Question Number : 263 Question Id : 21280728768 Question Type : MCQ Option Shuffling : No Is Question Mandatory : No Calculator : None
Response Time : N.A Think Time : N.A Minimum Instruction Time : 0

Correct Marks : 5 Wrong Marks : 1

Question Key Details :

Key	Value
Comprehension	MCQ

A change in investment in an economy by ₹ 2,000 crores leads to an increase in its national income by ₹ 8,000 crores. What will be the change in consumption ?

- (1) ₹ 6,400 crores
- (2) ₹ 6,600 crores
- (3) ₹ 6,000 crores
- (4) ₹ 6,200 crores

Options :

212807115069. 1
212807115070. 2
212807115071. 3
212807115072. 4

Question Number : 263 Question Id : 21280728768 Question Type : MCQ Option Shuffling : No Is Question Mandatory : No Calculator : None Response Time : N.A Think Time : N.A Minimum Instruction Time : 0

Correct Marks : 5 Wrong Marks : 1

Question Key Details :

Key	Value
Comprehension	MCQ

एक अर्थव्यवस्था में ₹ 2,000 करोड़ रुपये की वृद्धि से राष्ट्रीय आय में ₹ 8,000 करोड़ रुपये की वृद्धि होती है। उपभोग में परिवर्तन ज्ञात कीजिए ?

- (1) ₹ 6,400 करोड़
- (2) ₹ 6,600 करोड़
- (3) ₹ 6,000 करोड़
- (4) ₹ 6,200 करोड़

Options :

212807115069. 1
212807115070. 2
212807115071. 3
212807115072. 4

Question Number : 264 Question Id : 21280728769 Question Type : MCQ Option Shuffling : No Is Question Mandatory : No Calculator : None Response Time : N.A Think Time : N.A Minimum Instruction Time : 0

Correct Marks : 5 Wrong Marks : 1

Question Key Details :

Key	Value
Comprehension	MCQ

This goal of Indian five year plans has emphasized on women empowerment and equal opportunity for women as for men in the society. Identify the Goal.

- (1) Growth
- (2) Equity
- (3) Self-Reliance
- (4) Modernization

Options :

212807115073. 1
212807115074. 2
212807115075. 3

Question Number : 264 Question Id : 21280728769 Question Type : MCQ Option Shuffling : No Is Question Mandatory : No Calculator : None
Response Time : N.A Think Time : N.A Minimum Instruction Time : 0

Correct Marks : 5 Wrong Marks : 1

Question Key Details :

Key	Value
Comprehension	MCQ

भारतीय पंचवर्षीय योजना के उस उद्देश्य की पहचान कीजिए जिसमें महिला सशक्तिकरण और समाज में महिलाओं के लिए पुरुषों के समान अवसर पर बल दिया जाता है ?

- (1) संवृद्धि
- (2) समानता
- (3) आत्म निर्भरता
- (4) आधुनिकीकरण

Options :

212807115073. 1

212807115074. 2

212807115075. 3

212807115076. 4

Question Number : 265 Question Id : 21280728770 Question Type : MCQ Option Shuffling : No Is Question Mandatory : No Calculator : None
Response Time : N.A Think Time : N.A Minimum Instruction Time : 0

Correct Marks : 5 Wrong Marks : 1

Question Key Details :

Key	Value
Comprehension	MCQ

With an increase in marginal propensity to consume the value of investment multiplier will :

- (1) Increase
- (2) Decrease
- (3) Remain unaffected
- (4) Investment multiplier has no relationship with marginal propensity to consume

Options :

212807115077. 1

212807115078. 2

212807115079. 3

212807115080. 4

Question Number : 265 Question Id : 21280728770 Question Type : MCQ Option Shuffling : No Is Question Mandatory : No Calculator : None
Response Time : N.A Think Time : N.A Minimum Instruction Time : 0

Correct Marks : 5 Wrong Marks : 1

Question Key Details :

Key	Value
Comprehension	MCQ

सीमांत उपभोग प्रवृत्ति में वृद्धि होने पर निवेश गुणक के मान पर क्या प्रभाव पड़ेगा ?

- (1) बढ़ोतरी
- (2) कमी
- (3) कोई प्रभाव नहीं
- (4) निवेश गुणक का सीमांत उपभोग प्रवृत्ति से कोई संबंध नहीं होता है

Options :

- 212807115077. 1
- 212807115078. 2
- 212807115079. 3
- 212807115080. 4

Question Number : 266 Question Id : 21280728771 Question Type : MCQ Option Shuffling : No Is Question Mandatory : No Calculator : None Response Time : N.A Think Time : N.A Minimum Instruction Time : 0

Correct Marks : 5 Wrong Marks : 1

Question Key Details :

Key	Value
Comprehension	MCQ

Select the correct sequence that lead to the need for the introduction of New Economic policy 1991 in India :

- (A) Foreign exchange reserves dropped
- (B) World Bank gave loan to manage crisis
- (C) New economic policy 1991 announced
- (D) India met with an economic crisis related external debt

Choose the **correct** answer from the options given below :

- (1) (A), (D), (B), (C)
- (2) (D), (A), (B), (C)
- (3) (A), (B), (D), (C)
- (4) (B), (A), (D), (C)

Options :

- 212807115081. 1
- 212807115082. 2
- 212807115083. 3
- 212807115084. 4

Question Number : 266 Question Id : 21280728771 Question Type : MCQ Option Shuffling : No Is Question Mandatory : No Calculator : None Response Time : N.A Think Time : N.A Minimum Instruction Time : 0

Correct Marks : 5 Wrong Marks : 1

Question Key Details :

Key	Value
Comprehension	MCQ

भारत में 1991 की नई आर्थिक नीति को लागू करने की आवश्यकता के लिए सही क्रम का चयन कीजिए।

- (A) विदेशी विनिमय कोषों का गिर जाना
- (B) विश्व बैंक ने ऋण वित्तीय संकट हेतु प्रदान किया
- (C) 1991 की नई आर्थिक नीति की उद्घोषणा
- (D) भारत में बाहरी ऋणों के संदर्भ में आर्थिक संकट का आना

नीचे दिए गए विकल्पों में से सही उत्तर का चयन कीजिए :

- (1) (A), (D), (B), (C)
- (2) (D), (A), (B), (C)
- (3) (A), (B), (D), (C)
- (4) (B), (A), (D), (C)

Options :

212807115081. 1
212807115082. 2
212807115083. 3
212807115084. 4

Question Number : 267 Question Id : 21280728772 Question Type : MCQ Option Shuffling : No Is Question Mandatory : No Calculator : None Response Time : N.A Think Time : N.A Minimum Instruction Time : 0

Correct Marks : 5 Wrong Marks : 1

Question Key Details :

Key	Value
Comprehension	MCQ

Sum of MPC and MPS is equal to :

- (1) 1
- (2) 0
- (3) - 1
- (4) ∞

Options :

212807115085. 1
212807115086. 2
212807115087. 3
212807115088. 4

Question Number : 267 Question Id : 21280728772 Question Type : MCQ Option Shuffling : No Is Question Mandatory : No Calculator : None Response Time : N.A Think Time : N.A Minimum Instruction Time : 0

Correct Marks : 5 Wrong Marks : 1

Question Key Details :

Key	Value
Comprehension	MCQ

MPC और MPS का जोड़ बराबर होता है :

- (1) 1
- (2) 0
- (3) - 1
- (4) ∞

Options :

212807115085. 1
212807115086. 2
212807115087. 3
212807115088. 4

Question Number : 268 Question Id : 21280728773 Question Type : MCQ Option Shuffling : No Is Question Mandatory : No Calculator : None Response Time : N.A Think Time : N.A Minimum Instruction Time : 0

Correct Marks : 5 Wrong Marks : 1

Question Key Details :

Key	Value
Comprehension	MCQ

Suppose the price elasticity of demand for a good is $(-)$ 1. At a price of ₹ 4 per unit, demand for the good is 40 units. Suppose the price of the good increases to ₹ 6 per unit, and as a result, the demand for the good will be _____.

- (1) 10 units
- (2) 20 units
- (3) 30 units
- (4) 40 units

Options :

- 212807115089. 1
- 212807115090. 2
- 212807115091. 3
- 212807115092. 4

Question Number : 268 Question Id : 21280728773 Question Type : MCQ Option Shuffling : No Is Question Mandatory : No Calculator : None Response Time : N.A Think Time : N.A Minimum Instruction Time : 0

Correct Marks : 5 Wrong Marks : 1

Question Key Details :

Key	Value
Comprehension	MCQ

मान लीजिए किसी वस्तु की मांग की लोच $(-)$ 1 है। वस्तु की कीमत के 4 रुपये पर वस्तु की 40 इकाइयाँ मांगी जाती हैं। वस्तु की मांग कितनी इकाइयाँ हो जाएंगी यदि वस्तु की कीमत बढ़कर 6 रुपये प्रति इकाई हो जाती है।

- (1) 10 इकाइयाँ
- (2) 20 इकाइयाँ
- (3) 30 इकाइयाँ
- (4) 40 इकाइयाँ

Options :

- 212807115089. 1
- 212807115090. 2
- 212807115091. 3
- 212807115092. 4

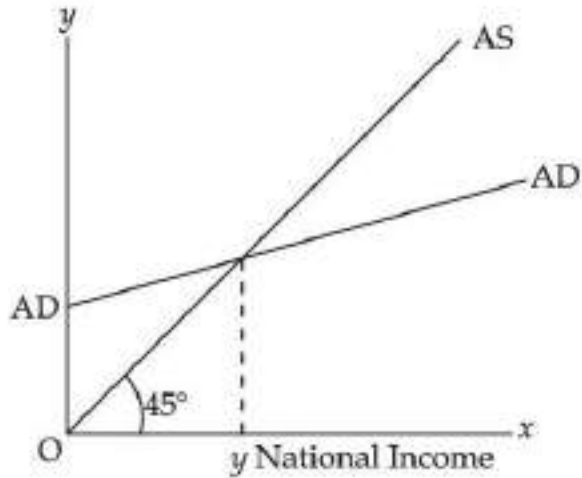
Question Number : 269 Question Id : 21280728774 Question Type : MCQ Option Shuffling : No Is Question Mandatory : No Calculator : None Response Time : N.A Think Time : N.A Minimum Instruction Time : 0

Correct Marks : 5 Wrong Marks : 1

Question Key Details :

Key	Value
Comprehension	MCQ

In the given figure what will happen to aggregate demand curve (AD) when autonomous investment increases.



- (1) AD curve shifts in parallel downwards
- (2) AD curve does not shift
- (3) AD curve shifts in parallel upwards
- (4) AD curve shifts not in parallel upwards

Options :

- 212807115093. 1
- 212807115094. 2
- 212807115095. 3
- 212807115096. 4

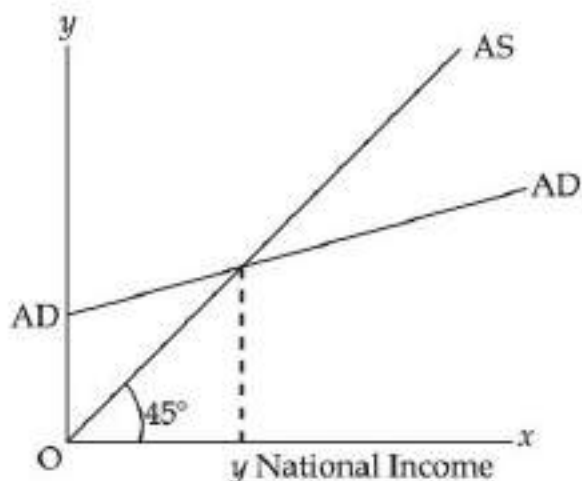
Question Number : 269 Question Id : 21280728774 Question Type : MCQ Option Shuffling : No Is Question Mandatory : No Calculator : None Response Time : N.A Think Time : N.A Minimum Instruction Time : 0

Correct Marks : 5 Wrong Marks : 1

Question Key Details :

Key	Value
Comprehension	MCQ

निम्न चित्र में सामूहिक मांग (AD) वक्र का क्या होगा यदि स्वायत्त निवेश में वृद्धि होती है।



- (1) AD वक्र समांतर रूप से नीचे की ओर खिसकेगा
- (2) AD वक्र में कोई खिसकाव नहीं होगा
- (3) AD वक्र समांतर रूप से ऊपर की ओर खिसकेगा
- (4) AD वक्र समांतर रूप से ऊपर की ओर नहीं खिसकेगा

Options :

212807115093. 1
212807115094. 2
212807115095. 3
212807115096. 4

Question Number : 270 Question Id : 21280728775 Question Type : MCQ Option Shuffling : No Is Question Mandatory : No Calculator : None Response Time : N.A Think Time : N.A Minimum Instruction Time : 0

Correct Marks : 5 Wrong Marks : 1

Question Key Details :

Key	Value
Comprehension	MCQ

A consumer wants to consume two goods X and Y. The price of the goods are ₹ 2 per unit and ₹ 5 per unit respectively and his income is ₹ 30. What will be the slope of the budget line ?

- (1) - 0.5
- (2) - 0.4
- (3) - 5
- (4) - 2

Options :

212807115097. 1
212807115098. 2
212807115099. 3
212807115100. 4

Question Number : 270 Question Id : 21280728775 Question Type : MCQ Option Shuffling : No Is Question Mandatory : No Calculator : None Response Time : N.A Think Time : N.A Minimum Instruction Time : 0

Correct Marks : 5 Wrong Marks : 1

Question Key Details :

Key	Value
Comprehension	MCQ

एक उपभोक्ता दो वस्तुओं X और Y का उपभोग करना चाहता है। वस्तु X और Y की कीमत क्रमशः 2 रुपये और 5 रुपये प्रति इकाई है। उपभोक्ता की आय 30 रुपये है। बजट रेखा का ढाल क्या होगा ?

- (1) - 0.5
 (2) - 0.4
 (3) - 5
 (4) - 2

Options :

212807115097. 1
 212807115098. 2
 212807115099. 3
 212807115100. 4

Question Number : 271 Question Id : 21280728776 Question Type : MCQ Option Shuffling : No Is Question Mandatory : No Calculator : None Response Time : N.A Think Time : N.A Minimum Instruction Time : 0

Correct Marks : 5 Wrong Marks : 1

Question Key Details :

Key	Value
Comprehension	MCQ

Match List - I with List - II.

List - I

List - II

- | | |
|------------------------|---|
| (A) High powered money | (I) $\frac{1}{\text{Cash Reserve Ratio}}$ |
| (B) Central Bank | (II) Fixed by the RBI |
| (C) Money multiplier | (III) An apex bank of the country |
| (D) Cash Reserve Ratio | (IV) Currency issued by central bank |

Choose the correct answer from the options given below :

- (1) (A)-(II), (B)-(III), (C)-(IV), (D)-(I)
 (2) (A)-(II), (B)-(III), (C)-(I), (D)-(IV)
 (3) (A)-(III), (B)-(II), (C)-(IV), (D)-(I)
 (4) (A)-(IV), (B)-(III), (C)-(I), (D)-(II)

Options :

212807115101. 1
 212807115102. 2
 212807115103. 3
 212807115104. 4

Question Number : 271 Question Id : 21280728776 Question Type : MCQ Option Shuffling : No Is Question Mandatory : No Calculator : None Response Time : N.A Think Time : N.A Minimum Instruction Time : 0

Correct Marks : 5 Wrong Marks : 1

Question Key Details :

Key	Value
Comprehension	MCQ

सूची-I से सूची-II का मिलान कीजिए:

सूची-I

सूची-II

- | | |
|------------------------|---|
| (A) उच्च शक्ति द्रव्य | (I) $\frac{1}{\text{नकद आरक्षित अनुपात}}$ |
| (B) केन्द्रीय बैंक | (II) RBI के द्वारा निर्धारित |
| (C) मुद्रा गुणक | (III) देश का सर्वोच्च बैंक |
| (D) नकद आरक्षित अनुपात | (IV) केन्द्रीय बैंक द्वारा मुद्रा जारी करना |

नीचे दिए गए विकल्पों में से सही उत्तर का चयन कीजिए :

- (1) (A)-(II), (B)-(III), (C)-(IV), (D)-(I)
- (2) (A)-(II), (B)-(III), (C)-(I), (D)-(IV)
- (3) (A)-(III), (B)-(II), (C)-(IV), (D)-(I)
- (4) (A)-(IV), (B)-(III), (C)-(I), (D)-(II)

Options :

212807115101. 1
212807115102. 2
212807115103. 3
212807115104. 4

Question Number : 272 Question Id : 21280728777 Question Type : MCQ Option Shuffling : No Is Question Mandatory : No Calculator : None
Response Time : N.A Think Time : N.A Minimum Instruction Time : 0

Correct Marks : 5 Wrong Marks : 1

Question Key Details :

Key	Value
Comprehension	MCQ

The ratio of total deposits that a commercial bank has to keep with RBI is called :

- (1) Cash Reserve Ratio
- (2) Statutory liquidity Ratio
- (3) Deposit Ratio
- (4) Margin Ratio

Options :

212807115105. 1
212807115106. 2
212807115107. 3
212807115108. 4

Question Number : 272 Question Id : 21280728777 Question Type : MCQ Option Shuffling : No Is Question Mandatory : No Calculator : None
Response Time : N.A Think Time : N.A Minimum Instruction Time : 0

Correct Marks : 5 Wrong Marks : 1

Question Key Details :

Key	Value
Comprehension	MCQ

वाणिज्यिक बैंकों के द्वारा अपनी कुल जमाओं का एक निश्चित अनुपात जो RBI के पास रखना होता है :

- (1) नकद आरक्षित अनुपात
- (2) वैधानिक तरलता अनुपात
- (3) जमा अनुपात
- (4) सीमांत अनुपात

Options :

212807115105. 1
212807115106. 2
212807115107. 3
212807115108. 4

Question Number : 273 Question Id : 21280728778 Question Type : MCQ Option Shuffling : No Is Question Mandatory : No Calculator : None Response Time : N.A Think Time : N.A Minimum Instruction Time : 0

Correct Marks : 5 Wrong Marks : 1

Question Key Details :

Key	Value
Comprehension	MCQ

Choose the correct pair of statements from given Column I and column II

Match Column - I with Column - II.

Column - I

Column - II

- | | |
|-------------------------|--|
| (A) Human development | (I) Treats human beings as means to increase productivity |
| (B) Human capital | (II) Education and health are integral to human well-being |
| (C) On the job training | (III) Source of human capital |
| (D) Physical Capital | (IV) Tangible and can be easily sold in the market |

Choose the correct answer from the options given below :

- (1) (A)-(I), (B)-(II), (C)-(III), (D)-(IV)
- (2) (A)-(II), (B)-(I), (C)-(III), (D)-(IV)
- (3) (A)-(III), (B)-(IV), (C)-(I), (D)-(II)
- (4) (A)-(IV), (B)-(III), (C)-(II), (D)-(I)

Options :

212807115109. 1
212807115110. 2
212807115111. 3
212807115112. 4

Question Number : 273 Question Id : 21280728778 Question Type : MCQ Option Shuffling : No Is Question Mandatory : No Calculator : None Response Time : N.A Think Time : N.A Minimum Instruction Time : 0

Correct Marks : 5 Wrong Marks : 1

Question Key Details :

Key	Value
Comprehension	MCQ

स्तंभ I और स्तंभ II के सही जोड़े का चुनाव कीजिए

स्तंभ - I

स्तंभ - II

- | | |
|------------------------|---|
| (A) मानव विकास | (I) इसमें मानव जाति को उत्पादकता बढ़ाने हेतु समझा जाता है |
| (B) मानव पूंजी | (II) मानव कल्याण के शिक्षा और स्वास्थ्य समाकलित होते हैं। |
| (C) कार्य पर प्रशिक्षण | (III) मानव पूंजी का स्रोत |
| (D) भौतिक पूंजी | (IV) दृश्यवान और बाज़ार में आसानी से बेचा जा सकता है |

नीचे दिए गए विकल्पों में से सही उत्तर का चयन कीजिए :

- (1) (A)-(I), (B)-(II), (C)-(III), (D)-(IV)
- (2) (A)-(II), (B)-(I), (C)-(III), (D)-(IV)
- (3) (A)-(III), (B)-(IV), (C)-(I), (D)-(II)
- (4) (A)-(IV), (B)-(III), (C)-(II), (D)-(I)

Options :

212807115109. 1
212807115110. 2
212807115111. 3
212807115112. 4

Question Number : 274 Question Id : 21280728779 Question Type : MCQ Option Shuffling : No Is Question Mandatory : No Calculator : None Response Time : N.A Think Time : N.A Minimum Instruction Time : 0

Correct Marks : 5 Wrong Marks : 1

Question Key Details :

Key	Value
Comprehension	MCQ

Chronologically arrange the development path of china.

- (A) Great Proletarian Cultural Revolution
- (B) Establishment of People's Republic of China
- (C) Introduction of reforms
- (D) Announcement of first Five Year Plan
- (E) Great Leap Forward campaign

Choose the correct answer from the options given below :

- (1) (B), (E), (C), (D), (A)
- (2) (B), (A), (C), (D), (E)
- (3) (B), (C), (D), (A), (E)
- (4) (B), (D), (E), (A), (C)

Options :

212807115113. 1
212807115114. 2
212807115115. 3
212807115116. 4

Question Number : 274 Question Id : 21280728779 Question Type : MCQ Option Shuffling : No Is Question Mandatory : No Calculator : None Response Time : N.A Think Time : N.A Minimum Instruction Time : 0

Correct Marks : 5 Wrong Marks : 1

Question Key Details :

Key	Value
-----	-------

चीन की विकास यात्रा को तिथिवार व्यवस्थित कीजिए।

- (A) महान सर्वहारा सांस्कृतिक क्रांति
- (B) चीन गणराज्य की स्थापना
- (C) सुधारों का लागू होना
- (D) प्रथम पंचवर्षीय योजना की घोषणा
- (E) ग्रेट लीप फॉरवर्ड अभियान

नीचे दिए गए विकल्पों में से सही उत्तर का चयन कीजिए :

- (1) (B), (E), (C), (D), (A)
- (2) (B), (A), (C), (D), (E)
- (3) (B), (C), (D), (A), (E)
- (4) (B), (D), (E), (A), (C)

Options :

- 212807115113. 1
- 212807115114. 2
- 212807115115. 3
- 212807115116. 4

Question Number : 275 Question Id : 21280728780 Question Type : MCQ Option Shuffling : No Is Question Mandatory : No Calculator : None Response Time : N.A Think Time : N.A Minimum Instruction Time : 0

Correct Marks : 5 Wrong Marks : 1

Question Key Details :

Key	Value
Comprehension	MCQ

Match List - I with List - II.

List - I

- (A) Tea and Coffee
- (B) Car and Fuel
- (C) Low grade cereal food
- (D) Good quality wheat

List - II

- (I) Complementary goods
- (II) Inferior goods
- (III) Substitute goods
- (IV) Normal good

Choose the correct answer from the options given below :

- (1) (A)-(I), (B)-(II), (C)-(III), (D)-(IV)
- (2) (A)-(III), (B)-(I), (C)-(II), (D)-(IV)
- (3) (A)-(II), (B)-(III), (C)-(IV), (D)-(I)
- (4) (A)-(IV), (B)-(III), (C)-(II), (D)-(I)

Options :

- 212807115117. 1
- 212807115118. 2
- 212807115119. 3
- 212807115120. 4

Question Number : 275 Question Id : 21280728780 Question Type : MCQ Option Shuffling : No Is Question Mandatory : No Calculator : None Response Time : N.A Think Time : N.A Minimum Instruction Time : 0

Correct Marks : 5 Wrong Marks : 1

Question Key Details :

Key	Value
Comprehension	MCQ

सूची-I से सूची-II का मिलान कीजिए:

सूची-I	सूची-II
(A) चाय और कॉफी	(I) पूरक वस्तुएँ
(B) कार और ईंधन	(II) घटिया वस्तुएँ
(C) निम्न स्तरीय अनाज	(III) प्रतिस्थापन वस्तुएँ
(D) उच्च स्तरीय गेहूँ	(IV) सामान्य वस्तु

नीचे दिए गए विकल्पों में से सही उत्तर का चयन कीजिए :

- (1) (A)-(I), (B)-(II), (C)-(III), (D)-(IV)
- (2) (A)-(III), (B)-(I), (C)-(II), (D)-(IV)
- (3) (A)-(II), (B)-(III), (C)-(IV), (D)-(I)
- (4) (A)-(IV), (B)-(III), (C)-(II), (D)-(I)

Options :

212807115117. 1

212807115118. 2

212807115119. 3

212807115120. 4

Sub-Section Number :

2

Sub-Section Id :

2128072098

Question Shuffling Allowed :

No

Is Section Default? :

null

Question Number : 276 Question Id : 21280728781 Question Type : MCQ Option Shuffling : No Is Question Mandatory : No Calculator : None
Response Time : N.A Think Time : N.A Minimum Instruction Time : 0

Correct Marks : 5 Wrong Marks : 1

Question Key Details :

Key	Value
Comprehension	Compl

Based on following paragraph answer the question :

Goods and service tax is the single comprehensive indirect tax implemented on July 1, 2017. It is a destination based tax that has Input Tax Credit in the supply chain. GST is applicable throughout the country.

GST is considered the biggest tax reform since independence. It is implemented through 101th Constitutional Amendment Act.

The aim of GST is to reduce the cost of business operations and cascading effect of various taxes. By implementing GST it is expected that GDP will rise by about 2%. Compliance will also be easier as all tax payment related services are available online through a common portal. GST has expanded the tax base and introduced higher transparency in the taxation system.

GST is destination based tax because :

- (1) Tax calculated at final consumption
- (2) It has input tax credit system
- (3) It is levied on final consumer
- (4) It is having more transparency

Options :

212807115121. 1
212807115122. 2
212807115123. 3
212807115124. 4

Question Number : 276 Question Id : 21280728781 Question Type : MCQ Option Shuffling : No Is Question Mandatory : No Calculator : None
Response Time : N.A Think Time : N.A Minimum Instruction Time : 0

Correct Marks : 5 Wrong Marks : 1

Question Key Details :

Key	Value
Comprehension	Compl

प्रश्न का उत्तर निम्न अनुच्छेद के आधार पर दीजिए :

वस्तु एवम् सेवा कर एक व्यापक अप्रत्यक्ष कर है जिसे 1 जुलाई, 2017 को लागू किया गया। यह एक गन्तव्य आधारित कर है जिसे पूर्ति श्रृंखला में आगत जमा (Input Credit) होता है। GST पूरे देश में लागू होता है।

स्वतंत्रता के पश्चात् सबसे बड़ा कर सुधार GST है। इसे 101 वें संविधान संशोधन अधिनियम के तहत लागू किया गया।

GST का उद्देश्य व्यापार संचालन को लागत और सोपानी (cascading) प्रभाव को कम करना है। GST के लागू होने पर GDP में 2% की वृद्धि प्रत्याक्षित है। सभी कर भुगतान सेवाओं के समान पोर्टल पर होने के कारण ऑनलाइन उपलब्धता से कार्य/प्रक्रियाएँ सुगमतापूर्वक सम्पन्न किए जा सकेंगे। GST के द्वारा कराधार प्रक्रियाओं में विस्तार हुआ है और कर प्रणाली में उच्च स्तरीय पारदर्शिता का आरंभ हो चुका है।

GST गन्तव्य आधारित कर है क्योंकि :

- (1) कर को गणना अन्तिम उपभोग पर की जाती है
- (2) इसमें आगत कर जमा प्रणाली है
- (3) यह अन्तिम उपभोक्ता पर लगाया जाता है
- (4) यह ज्यादा पारदर्शी है

Options :

212807115121. 1
212807115122. 2
212807115123. 3
212807115124. 4

Question Number : 277 Question Id : 21280728782 Question Type : MCQ Option Shuffling : No Is Question Mandatory : No Calculator : None
Response Time : N.A Think Time : N.A Minimum Instruction Time : 0

Correct Marks : 5 Wrong Marks : 1

Question Key Details :

Key	Value
Comprehension	Compl

Based on following paragraph answer the question :

Goods and service tax is the single comprehensive indirect tax implemented on July 1, 2017. It is a destination based tax that has Input Tax Credit in the supply chain. GST is applicable throughout the country.

GST is considered the biggest tax reform since independence. It is implemented through 101th Constitutional Amendment Act.

The aim of GST is to reduce the cost of business operations and cascading effect of various taxes. By implementing GST it is expected that GDP will rise by about 2%. Compliance will also be easier as all tax payment related services are available online through a common portal. GST has expanded the tax base and introduced higher transparency in the taxation system.

By which constitutional Amendment GST was introduced :

- (1) 105
- (2) 101
- (3) 104
- (4) 102

Options :

212807115125. 1
212807115126. 2
212807115127. 3
212807115128. 4

Question Number : 277 Question Id : 21280728782 Question Type : MCQ Option Shuffling : No Is Question Mandatory : No Calculator : None
Response Time : N.A Think Time : N.A Minimum Instruction Time : 0

Correct Marks : 5 Wrong Marks : 1

Question Key Details :

Key	Value
Comprehension	Compl

प्रश्न का उत्तर निम्न अनुच्छेद के आधार पर दीजिए :

वस्तु एवम् सेवा कर एक व्यापक अप्रत्यक्ष कर है जिसे 1 जुलाई, 2017 को लागू किया गया। यह एक गन्तव्य आधारित कर है जिसमें पूर्ति श्रृंखला में आगत जमा (Input Credit) होता है। GST पूरे देश में लागू होता है।

स्वतंत्रता के पश्चात् सबसे बड़ा कर सुधार GST है। इसे 101 वें संविधान संशोधन अधिनियम के तहत लागू किया गया।

GST का उद्देश्य व्यापार संचालन को लागत और सोपानी (cascading) प्रभाव को कम करना है। GST के लागू होने पर GDP में 2% की वृद्धि प्रत्याक्षित है। सभी कर भुगतान सेवाओं के समान पोर्टल पर होने के कारण ऑनलाइन उपलब्धता से कार्य/प्रक्रियाएँ सुगमतापूर्वक सम्पन्न किए जा सकेंगे। GST के द्वारा कराधार प्रक्रियाओं में विस्तार हुआ है और कर प्रणाली में उच्च स्तरीय पारदर्शिता का आरंभ हो चुका है।

किस संविधान संशोधन के द्वारा GST लागू किया गया :

- (1) 105
- (2) 101
- (3) 104
- (4) 102

Options :

212807115125. 1
212807115126. 2

212807115127. 3
212807115128. 4

Question Number : 278 Question Id : 21280728783 Question Type : MCQ Option Shuffling : No Is Question Mandatory : No Calculator : None
Response Time : N.A Think Time : N.A Minimum Instruction Time : 0

Correct Marks : 5 Wrong Marks : 1

Question Key Details :

Key	Value
Comprehension	Comp1

Based on following paragraph answer the question :

Goods and service tax is the single comprehensive indirect tax implemented on July 1, 2017. It is a destination based tax that has Input Tax Credit in the supply chain. GST is applicable throughout the country.

GST is considered the biggest tax reform since independence. It is implemented through 101th Constitutional Amendment Act.

The aim of GST is to reduce the cost of business operations and cascading effect of various taxes. By implementing GST it is expected that GDP will rise by about 2%. Compliance will also be easier as all tax payment related services are available online through a common portal. GST has expanded the tax base and introduced higher transparency in the taxation system.

By implementing GST what expectation was made for GDP :

- (1) It will remain constant
- (2) It will increase by 10%
- (3) It will fall by 2%
- (4) It will increase by 2%

Options :

212807115129. 1
212807115130. 2
212807115131. 3
212807115132. 4

Question Number : 278 Question Id : 21280728783 Question Type : MCQ Option Shuffling : No Is Question Mandatory : No Calculator : None
Response Time : N.A Think Time : N.A Minimum Instruction Time : 0

Correct Marks : 5 Wrong Marks : 1

Question Key Details :

Key	Value
Comprehension	Comp1

प्रश्न का उत्तर निम्न अनुच्छेद के आधार पर दीजिए :

वस्तु एवम् सेवा कर एक व्यापक अप्रत्यक्ष कर है जिसे 1 जुलाई, 2017 को लागू किया गया। यह एक गन्तव्य आधारित कर है जिसे पूर्ति श्रृंखला में आगत जमा (Input Credit) होता है। GST पूरे देश में लागू होता है।

स्वतंत्रता के पश्चात् सबसे बड़ा कर सुधार GST है। इसे 101 वें संविधान संशोधन अधिनियम के तहत लागू किया गया।

GST का उद्देश्य व्यापार संचालन को लागत और सोपानी (cascading) प्रभाव को कम करना है। GST के लागू होने पर GDP में 2% की वृद्धि प्रत्याक्षित है। सभी कर भुगतान सेवाओं के समान पोर्टल पर होने के कारण ऑनलाइन उपलब्धता से कार्य/प्रक्रियाएँ सुगमतापूर्वक सम्पन्न किए जा सकेंगे। GST के द्वारा कराधार प्रक्रियाओं में विस्तार हुआ है और कर प्रणाली में उच्च स्तरीय पारदर्शिता का आरंभ हो चुका है।

GST लागू होने पर GDP के बारे में क्या अनुमान लगाए गए :

- (1) यह स्थिर रहेगा
- (2) यह 10% से बढ़ जाएगा
- (3) यह 2% से कम हो जाएगा
- (4) यह 2% से बढ़ जाएगा

Options :

212807115129. 1

212807115130. 2

212807115131. 3

212807115132. 4

Question Number : 279 Question Id : 21280728784 Question Type : MCQ Option Shuffling : No Is Question Mandatory : No Calculator : None Response Time : N.A Think Time : N.A Minimum Instruction Time : 0

Correct Marks : 5 Wrong Marks : 1

Question Key Details :

Key	Value
Comprehension	Compl

Based on following paragraph answer the question :

Goods and service tax is the single comprehensive indirect tax implemented on July 1, 2017. It is a destination based tax that has Input Tax Credit in the supply chain. GST is applicable throughout the country.

GST is considered the biggest tax reform since independence. It is implemented through 101th Constitutional Amendment Act.

The aim of GST is to reduce the cost of business operations and cascading effect of various taxes. By implementing GST it is expected that GDP will rise by about 2%. Compliance will also be easier as all tax payment related services are available online through a common portal. GST has expanded the tax base and introduced higher transparency in the taxation system.

How GST will made compliance easier ?

- (1) By imposing more taxes
- (2) By liberating tax rates
- (3) Tax payment related services are available online
- (4) By putting multi level taxes

Options :

212807115133. 1

212807115134. 2
212807115135. 3
212807115136. 4

Question Number : 279 Question Id : 21280728784 Question Type : MCQ Option Shuffling : No Is Question Mandatory : No Calculator : None
Response Time : N.A Think Time : N.A Minimum Instruction Time : 0

Correct Marks : 5 Wrong Marks : 1

Question Key Details :

Key	Value
Comprehension	Comp1

प्रश्न का उत्तर निम्न अनुच्छेद के आधार पर दीजिए :

वस्तु एवम् सेवा कर एक व्यापक अप्रत्यक्ष कर है जिसे 1 जुलाई, 2017 को लागू किया गया। यह एक गन्तव्य आधारित कर है जिसे पूर्ति श्रृंखला में आगत जमा (Input Credit) होता है। GST पूरे देश में लागू होता है।

स्वतंत्रता के पश्चात् सबसे बड़ा कर सुधार GST है। इसे 101 वें संविधान संशोधन अधिनियम के तहत लागू किया गया।

GST का उद्देश्य व्यापार संचालन को लागत और सोपानी (cascading) प्रभाव को कम करना है। GST के लागू होने पर GDP में 2% की वृद्धि प्रत्याक्षित है। सभी कर भुगतान सेवाओं के समान पोर्टल पर होने के कारण ऑनलाइन उपलब्धता से कार्य/प्रक्रियाएँ सुगमतापूर्वक सम्पन्न किए जा सकेंगे। GST के द्वारा कराधार प्रक्रियाओं में विस्तार हुआ है और कर प्रणाली में उच्च स्तरीय पारदर्शिता का आरंभ हो चुका है।

GST द्वारा किस प्रकार अनेक प्रक्रियाओं को सरल बना दिया गया है ?

- (1) नये करों को लगाकर
- (2) कर की दरों को उदार बनाकर
- (3) कर भुगतान संबंधी सेवाओं के ऑनलाइन उपलब्ध होने के कारण से
- (4) विभिन्न प्रकार के करों को लगाकर

Options :

212807115133. 1
212807115134. 2
212807115135. 3
212807115136. 4

Question Number : 280 Question Id : 21280728785 Question Type : MCQ Option Shuffling : No Is Question Mandatory : No Calculator : None
Response Time : N.A Think Time : N.A Minimum Instruction Time : 0

Correct Marks : 5 Wrong Marks : 1

Question Key Details :

Key	Value
Comprehension	Comp1

Based on following paragraph answer the question :

Goods and service tax is the single comprehensive indirect tax implemented on July 1, 2017. It is a destination based tax that has Input Tax Credit in the supply chain. GST is applicable throughout the country.

GST is considered the biggest tax reform since independence. It is implemented through 101th Constitutional Amendment Act.

The aim of GST is to reduce the cost of business operations and cascading effect of various taxes. By implementing GST it is expected that GDP will rise by about 2%. Compliance will also be easier as all tax payment related services are available online through a common portal. GST has expanded the tax base and introduced higher transparency in the taxation system.

Which of the following taxes has been subsumed in GST ?

- (1) Income tax
- (2) Sales tax
- (3) Corporate tax
- (4) Property tax

Options :

212807115137. 1
212807115138. 2
212807115139. 3
212807115140. 4

Question Number : 280 Question Id : 21280728785 Question Type : MCQ Option Shuffling : No Is Question Mandatory : No Calculator : None Response Time : N.A Think Time : N.A Minimum Instruction Time : 0

Correct Marks : 5 Wrong Marks : 1

Question Key Details :

Key	Value
Comprehension	Compl

प्रश्न का उत्तर निम्न अनुच्छेद के आधार पर दीजिए :

वस्तु एवम् सेवा कर एक व्यापक अप्रत्यक्ष कर है जिसे 1 जुलाई, 2017 को लागू किया गया। यह एक गन्तव्य आधारित कर है जिसे पूर्ति श्रृंखला में आगत जमा (Input Credit) होता है। GST पूरे देश में लागू होता है।

स्वतंत्रता के पश्चात् सबसे बड़ा कर सुधार GST है। इसे 101 वें संविधान संशोधन अधिनियम के तहत लागू किया गया।

GST का उद्देश्य व्यापार संचालन को लागत और सोपानी (cascading) प्रभाव को कम करना है। GST के लागू होने पर GDP में 2% की वृद्धि प्रत्याक्षित है। सभी कर भुगतान सेवाओं के समान पोर्टल पर होने के कारण ऑनलाइन उपलब्धता से कार्य/प्रक्रियाएँ सुगमतापूर्वक सम्पन्न किए जा सकेंगे। GST के द्वारा कराधार प्रक्रियाओं में विस्तार हुआ है और कर प्रणाली में उच्च स्तरीय पारदर्शिता का आरंभ हो चुका है।

किस प्रकार के कर को GST में शामिल किया गया है?

- (1) आय कर
- (2) विक्री कर
- (3) निगम कर
- (4) सम्पत्ति कर

Options :

212807115137. 1

212807115138. 2
212807115139. 3
212807115140. 4

Sub-Section Number : 3
Sub-Section Id : 2128072099
Question Shuffling Allowed : No
Is Section Default? : null

Question Number : 281 Question Id : 21280728786 Question Type : MCQ Option Shuffling : No Is Question Mandatory : No Calculator : None
Response Time : N.A Think Time : N.A Minimum Instruction Time : 0

Correct Marks : 5 Wrong Marks : 1

Question Key Details :

Key	Value
Comprehension	Comp2

Based on following case study answer the question :

Wages and salaries in cash	₹ 5,000/-
Mixed Income of self employed	₹ 3,500/-
Rent	₹ 4,000/-
Corporate Profit Tax	₹ 2,000/-
Dividend	₹ 1,000/-
Employees contribution to provident fund	₹ 500/-
Wages and salaries in kind	₹ 2,000/-
Employer's contribution to social security schemes	₹ 3,000/-
Corporate savings	₹ 1,500/-
Net factor income from Aboard	(-) ₹ 200

What will be compensation of employees ?

- (1) Wages and salaries in cash + Rent + Dividend
- (2) Wages and salaries in cash + Wages and salaries in kind + Employees contribution to provident fund
- (3) Wages and salaries in cash + Wages and salaries in kind + Employer's contribution to social security schemes
- (4) Mixed Income + Rent + Corporate Profit tax

Options :

212807115141. 1
212807115142. 2
212807115143. 3
212807115144. 4

Question Number : 281 Question Id : 21280728786 Question Type : MCQ Option Shuffling : No Is Question Mandatory : No Calculator : None
Response Time : N.A Think Time : N.A Minimum Instruction Time : 0

Correct Marks : 5 Wrong Marks : 1

Question Key Details :

Key	Value
Comprehension	Comp2

प्रश्न का उत्तर निम्न अनुच्छेद के आधार पर दीजिए :

नगद मजदूरी और वेतन	₹ 5,000/-
स्वनियोजितों की मिश्रित आय	₹ 3,500/-
किराया	₹ 4,000/-
निगमित/कंपनी लाभ कर	₹ 2,000/-
लाभांश	₹ 1,000/-
प्रोविडेंट फंड में कर्मचारियों का अंशदान	₹ 500/-
किस्म के रूप में मजदूरी एवम् वेतन	₹ 2,000/-
सामाजिक सुरक्षा योजना में मालिकों का योगदान	₹ 3,000/-
निगमित बचतें	₹ 1,500/-
विदेशों से शुद्ध साधन आय	(-)₹ 200

कर्मचारियों का पारिश्रमिक क्या होगा ?

- (1) नगद में मजदूरी एवम् वेतन + किराया + लाभांश
- (2) नगद में मजदूरी एवम् वेतन + किस्म के रूप में मजदूरी एवम् वेतन + कर्मचारियों का प्रोविडेंट में योगदान
- (3) नगद में मजदूरी एवम् वेतन + किस्म के रूप में मजदूरी एवम् वेतन + सामाजिक सुरक्षा योजना में मालिकों का योगदान
- (4) मिश्रित आय + किराया + निगमित लाभ कर

Options :

212807115141. 1
212807115142. 2
212807115143. 3
212807115144. 4

Question Number : 282 Question Id : 21280728787 Question Type : MCQ Option Shuffling : No Is Question Mandatory : No Calculator : None
Response Time : N.A Think Time : N.A Minimum Instruction Time : 0

Correct Marks : 5 Wrong Marks : 1

Question Key Details :

Key	Value
Comprehension	Comp2

Based on following case study answer the question :

Wages and salaries in cash	₹ 5,000/-
Mixed Income of self employed	₹ 3,500/-
Rent	₹ 4,000/-
Corporate Profit Tax	₹ 2,000/-
Dividend	₹ 1,000/-
Employees contribution to provident fund	₹ 500/-
Wages and salaries in kind	₹ 2,000/-
Employer's contribution to social security schemes	₹ 3,000/-
Corporate savings	₹ 1,500/-
Net factor income from Aboard	(-)₹ 200

The components of operating Surplus :

- (1) Rent + Dividend + Corporate savings
- (2) Mixed Income + Dividend + Rent
- (3) Rent + Dividend + Corporate savings + Corporate profit Tax
- (4) Rent + Dividend + Corporate profit tax

Options :

- 212807115145. 1
- 212807115146. 2
- 212807115147. 3
- 212807115148. 4

Question Number : 282 Question Id : 21280728787 Question Type : MCQ Option Shuffling : No Is Question Mandatory : No Calculator : None
Response Time : N.A Think Time : N.A Minimum Instruction Time : 0

Correct Marks : 5 Wrong Marks : 1

Question Key Details :

Key	Value
Comprehension	Comp2

प्रश्न का उत्तर निम्न अनुच्छेद के आधार पर दीजिए :

नगद मजदूरी और वेतन	₹ 5,000/-
स्वनियोजितों की मिश्रित आय	₹ 3,500/-
किराया	₹ 4,000/-
निगमित/कंपनी लाभ कर	₹ 2,000/-
लाभांश	₹ 1,000/-
प्रोविडेंट फंड में कर्मचारियों का अंशदान	₹ 500/-
किस्म के रूप में मजदूरी एवम् वेतन	₹ 2,000/-
सामाजिक सुरक्षा योजना में मालिकों का योगदान	₹ 3,000/-
निगमित बचतें	₹ 1,500/-
विदेशों से शुद्ध साधन आय	(-)₹ 200

परिचालन अधिशेष के घटक :

- (1) किराया + लाभांश + निगमित बचतें
- (2) मिश्रित आय + लाभांश + किराया
- (3) किराया + लाभांश + निगमित बचतें + निगमित लाभ कर
- (4) किराया + लाभांश + निगमित लाभ कर

Options :

212807115145. 1
212807115146. 2
212807115147. 3
212807115148. 4

Question Number : 283 Question Id : 21280728788 Question Type : MCQ Option Shuffling : No Is Question Mandatory : No Calculator : None
Response Time : N.A Think Time : N.A Minimum Instruction Time : 0

Correct Marks : 5 Wrong Marks : 1

Question Key Details :

Key	Value
Comprehension	Comp2

Based on following case study answer the question :

Wages and salaries in cash	₹ 5,000/-
Mixed Income of self employed	₹ 3,500/-
Rent	₹ 4,000/-
Corporate Profit Tax	₹ 2,000/-
Dividend	₹ 1,000/-
Employees contribution to provident fund	₹ 500/-
Wages and salaries in kind	₹ 2,000/-
Employer's contribution to social security schemes	₹ 3,000/-
Corporate savings	₹ 1,500/-
Net factor income from Aboard	(-)₹ 200

The components of profit are :

- (1) Mixed income + Rent + Corporate saving
- (2) Dividend + Corporate saving + Rent
- (3) Dividend + Corporate saving + Corporate profit tax
- (4) Dividend + Corporate saving + Mixed income

Options :

212807115149. 1

212807115150. 2

212807115151. 3

212807115152. 4

Question Number : 283 Question Id : 21280728788 Question Type : MCQ Option Shuffling : No Is Question Mandatory : No Calculator : None
Response Time : N.A Think Time : N.A Minimum Instruction Time : 0

Correct Marks : 5 Wrong Marks : 1

Question Key Details :

Key	Value
Comprehension	Comp2

प्रश्न का उत्तर निम्न अनुच्छेद के आधार पर दीजिए :

नगद मजदूरी और वेतन	₹ 5,000/-
स्वनियोजितों की मिश्रित आय	₹ 3,500/-
किराया	₹ 4,000/-
निगमित/कंपनी लाभ कर	₹ 2,000/-
लाभांश	₹ 1,000/-
प्रोविडेंट फंड में कर्मचारियों का अंशदान	₹ 500/-
किस्म के रूप में मजदूरी एवम् वेतन	₹ 2,000/-
सामाजिक सुरक्षा योजना में मालिकों का योगदान	₹ 3,000/-
निगमित बचतें	₹ 1,500/-
विदेशों से शुद्ध साधन आय	(-) ₹ 200

लाभ के घटक हैं :

- (1) मिश्रित आय + किराया + निगमित बचतें
- (2) लाभांश + निगमित बचतें + किराया
- (3) लाभांश + निगमित बचतें + निगमित लाभ कर
- (4) लाभांश + निगमित बचतें + मिश्रित आय

Options :

212807115149. 1
212807115150. 2
212807115151. 3
212807115152. 4

Question Number : 284 Question Id : 21280728789 Question Type : MCQ Option Shuffling : No Is Question Mandatory : No Calculator : None
Response Time : N.A Think Time : N.A Minimum Instruction Time : 0

Correct Marks : 5 Wrong Marks : 1

Question Key Details :

Key	Value
Comprehension	Comp2

Based on following case study answer the question :

Wages and salaries in cash	₹ 5,000/-
Mixed Income of self employed	₹ 3,500/-
Rent	₹ 4,000/-
Corporate Profit Tax	₹ 2,000/-
Dividend	₹ 1,000/-
Employees contribution to provident fund	₹ 500/-
Wages and salaries in kind	₹ 2,000/-
Employer's contribution to social security schemes	₹ 3,000/-
Corporate savings	₹ 1,500/-
Net factor income from Aboard	(-)₹ 200

Calculate the value of Domestic Income :

- (1) ₹ 18,500/-
- (2) ₹ 22,000/-
- (3) ₹ 22,500/-
- (4) ₹ 21,800/-

Options :

- 212807115153. 1
- 212807115154. 2
- 212807115155. 3
- 212807115156. 4

Question Number : 284 Question Id : 21280728789 Question Type : MCQ Option Shuffling : No Is Question Mandatory : No Calculator : None
Response Time : N.A Think Time : N.A Minimum Instruction Time : 0

Correct Marks : 5 Wrong Marks : 1

Question Key Details :

Key	Value
Comprehension	Comp2

प्रश्न का उत्तर निम्न अनुच्छेद के आधार पर दीजिए :

नगद मजदूरी और वेतन	₹ 5,000/-
स्वनियोजितों की मिश्रित आय	₹ 3,500/-
किराया	₹ 4,000/-
निगमित/कंपनी लाभ कर	₹ 2,000/-
लाभांश	₹ 1,000/-
प्रोविडेंट फंड में कर्मचारियों का अंशदान	₹ 500/-
किस्म के रूप में मजदूरी एवम् वेतन	₹ 2,000/-
सामाजिक सुरक्षा योजना में मालिकों का योगदान	₹ 3,000/-
निगमित बचतें	₹ 1,500/-
विदेशों से शुद्ध साधन आय	(-)₹ 200

घरेलू आय का मान ज्ञात कीजिए :

- (1) ₹ 18,500/-
- (2) ₹ 22,000/-
- (3) ₹ 22,500/-
- (4) ₹ 21,800/-

Options :

212807115153. 1
212807115154. 2
212807115155. 3
212807115156. 4

Question Number : 285 Question Id : 21280728790 Question Type : MCQ Option Shuffling : No Is Question Mandatory : No Calculator : None
Response Time : N.A Think Time : N.A Minimum Instruction Time : 0

Correct Marks : 5 Wrong Marks : 1

Question Key Details :

Key	Value
Comprehension	Comp2

Based on following case study answer the question :

Wages and salaries in cash	₹ 5,000/-
Mixed Income of self employed	₹ 3,500/-
Rent	₹ 4,000/-
Corporate Profit Tax	₹ 2,000/-
Dividend	₹ 1,000/-
Employees contribution to provident fund	₹ 500/-
Wages and salaries in kind	₹ 2,000/-
Employer's contribution to social security schemes	₹ 3,000/-
Corporate savings	₹ 1,500/-
Net factor income from Aboard	(-)₹ 200

Calculate the value of National Income :

- (1) ₹ 18,500
- (2) ₹ 22,000
- (3) ₹ 22,200
- (4) ₹ 21,800

Options :

212807115157. 1

212807115158. 2

212807115159. 3

212807115160. 4

Question Number : 285 Question Id : 21280728790 Question Type : MCQ Option Shuffling : No Is Question Mandatory : No Calculator : None
Response Time : N.A Think Time : N.A Minimum Instruction Time : 0

Correct Marks : 5 Wrong Marks : 1

Question Key Details :

Key	Value
Comprehension	Comp2

प्रश्न का उत्तर निम्न अनुच्छेद के आधार पर दीजिए :

नगद मजदूरी और वेतन	₹ 5,000/-
स्वनियोजितों की मिश्रित आय	₹ 3,500/-
किराया	₹ 4,000/-
निगमित/कंपनी लाभ कर	₹ 2,000/-
लाभांश	₹ 1,000/-
प्रोविडेंट फंड में कर्मचारियों का अंशदान	₹ 500/-
किस्म के रूप में मजदूरी एवम् वेतन	₹ 2,000/-
सामाजिक सुरक्षा योजना में मालिकों का योगदान	₹ 3,000/-
निगमित बचतें	₹ 1,500/-
विदेशों से शुद्ध साधन आय	(-)₹ 200

राष्ट्रीय आय ज्ञात कीजिए :

- (1) ₹ 18,500
- (2) ₹ 22,000
- (3) ₹ 22,200
- (4) ₹ 21,800

Options :

212807115157. 1
212807115158. 2
212807115159. 3
212807115160. 4

History

Group Number :	6
Group Id :	212807627
Group Maximum Duration :	45
Group Minimum Duration :	45
Show Attended Group? :	No
Edit Attended Group? :	No
Break time :	0
Group Marks :	200
Is this Group for Examiner? :	No
Examiner permission :	Cant View
Show Progress Bar? :	No

History

Section Id :	212807733
Section Number :	1
Section type :	Online
Mandatory or Optional :	Mandatory
Number of Questions :	50
Number of Questions to be attempted :	40
Section Marks :	200
Enable Mark as Answered Mark for Review and Clear Response :	Yes

Maximum Instruction Time : 0
Sub-Section Number : 1
Sub-Section Id : 2128072100
Question Shuffling Allowed : Yes
Is Section Default? : null

Question Number : 286 Question Id : 21280728841 Question Type : MCQ Option Shuffling : No Is Question Mandatory : No Calculator : None
Response Time : N.A Think Time : N.A Minimum Instruction Time : 0

Correct Marks : 5 Wrong Marks : 1

Question Key Details :

Key	Value
Comprehension	MCQ

In 1930's which party accepted that 'Hindustani' should be the National language of India ?

- (1) Muslim League
- (2) Indian National Congress
- (3) Hindu Mahasabha
- (4) Krishak Praja Party

Options :

212807115361. 1
212807115362. 2
212807115363. 3
212807115364. 4

Question Number : 286 Question Id : 21280728841 Question Type : MCQ Option Shuffling : No Is Question Mandatory : No Calculator : None
Response Time : N.A Think Time : N.A Minimum Instruction Time : 0

Correct Marks : 5 Wrong Marks : 1

Question Key Details :

Key	Value
Comprehension	MCQ

वर्ष 1930 में किस दल ने स्वीकार किया कि 'हिन्दुस्तानी' भारत की राष्ट्र भाषा होनी चाहिए ?

- (1) मुस्लिम लीग
- (2) भारतीय राष्ट्रीय काँग्रेस
- (3) हिन्दू महासभा
- (4) कृषक प्रजा पार्टी

Options :

212807115361. 1
212807115362. 2
212807115363. 3
212807115364. 4

Question Number : 287 Question Id : 21280728842 Question Type : MCQ Option Shuffling : No Is Question Mandatory : No Calculator : None
Response Time : N.A Think Time : N.A Minimum Instruction Time : 0

Correct Marks : 5 Wrong Marks : 1

Question Key Details :

Key	Value
Comprehension	MCQ

Who amongst the following were civil servants in the Constituent Assembly in 1946 ?

- (1) B.N. Rau and S.N. Mukherjee
- (2) Rajendra Prasad and Jawaharlal Nehru
- (3) R.V. Dhulekar and B. Pocker Bahadur
- (4) Baldev Singh and Pethick Lawrence

Options :

212807115365. 1
212807115366. 2
212807115367. 3
212807115368. 4

Question Number : 287 Question Id : 21280728842 Question Type : MCQ Option Shuffling : No Is Question Mandatory : No Calculator : None
Response Time : N.A Think Time : N.A Minimum Instruction Time : 0

Correct Marks : 5 Wrong Marks : 1

Question Key Details :

Key	Value
Comprehension	MCQ

वर्ष 1946 में इन में से कौन-से लोक सेवक संविधान सभा के सदस्य थे ?

- (1) बी.एन. राव और एस.एन. मुखर्जी
- (2) राजेन्द्र प्रसाद और जवाहरलाल नेहरू
- (3) आर.वी. धुलेकर और बी. पोकर बहादुर
- (4) बलदेव सिंह और पैथिक लॉरेन्स

Options :

212807115365. 1
212807115366. 2
212807115367. 3
212807115368. 4

Question Number : 288 Question Id : 21280728843 Question Type : MCQ Option Shuffling : No Is Question Mandatory : No Calculator : None
Response Time : N.A Think Time : N.A Minimum Instruction Time : 0

Correct Marks : 5 Wrong Marks : 1

Question Key Details :

Key	Value
Comprehension	MCQ

Which of following is NOT True of the discussions held within the Constituent Assembly ?

- (1) These discussions were not influenced by the opinions expressed by the public.
- (2) Discussions were reported in the newspapers.
- (3) Criticism and counter-criticism in the press shaped the nature of consensus.
- (4) Issues of 'cultural rights' and 'social justice' were debated on the floor of the Assembly.

Options :

212807115369. 1
212807115370. 2
212807115371. 3
212807115372. 4

Question Number : 288 Question Id : 21280728843 Question Type : MCQ Option Shuffling : No Is Question Mandatory : No Calculator : None
Response Time : N.A Think Time : N.A Minimum Instruction Time : 0

Correct Marks : 5 Wrong Marks : 1

Question Key Details :

Key	Value
Comprehension	MCQ

संविधान सभा में हुई परिचर्चाओं में, निम्न में से कौन-सा कथन सत्य नहीं है ?

- (1) ये परिचर्चाएँ जनता द्वारा अभिव्यक्त किए गए मत से प्रभावित नहीं थीं।
- (2) परिचर्चाएँ समाचारों में रिपोर्ट की गई थीं।
- (3) प्रैस में छपी आलोचनाओं और प्रति-आलोचनाओं ने सर्वसम्मति की प्रकृति निर्मित की।
- (4) 'सांस्कृतिक अधिकार' और 'सामाजिक न्याय' विषय पर सभा में वाद-विवाद हुए।

Options :

- 212807115369. 1
- 212807115370. 2
- 212807115371. 3
- 212807115372. 4

Question Number : 289 Question Id : 21280728844 Question Type : MCQ Option Shuffling : No Is Question Mandatory : No Calculator : None Response Time : N.A Think Time : N.A Minimum Instruction Time : 0

Correct Marks : 5 Wrong Marks : 1

Question Key Details :

Key	Value
Comprehension	MCQ

Which of the following hill station was founded during the 1815-16 Gurkha war ?

- (1) Simla
- (2) Mount Abu
- (3) Sikkim
- (4) Darjeeling

Options :

- 212807115373. 1
- 212807115374. 2
- 212807115375. 3
- 212807115376. 4

Question Number : 289 Question Id : 21280728844 Question Type : MCQ Option Shuffling : No Is Question Mandatory : No Calculator : None Response Time : N.A Think Time : N.A Minimum Instruction Time : 0

Correct Marks : 5 Wrong Marks : 1

Question Key Details :

Key	Value
Comprehension	MCQ

1815-16 के गोरखा युद्ध के दौरान किस हिल स्टेशन को स्थापित किया गया ?

- (1) शिमला
- (2) माउण्ट आबू
- (3) सिक्किम
- (4) दार्जीलिंग

Options :

- 212807115373. 1
- 212807115374. 2
- 212807115375. 3
- 212807115376. 4

Question Number : 290 Question Id : 21280728845 Question Type : MCQ Option Shuffling : No Is Question Mandatory : No Calculator : None Response Time : N.A Think Time : N.A Minimum Instruction Time : 0

Correct Marks : 5 Wrong Marks : 1

Question Key Details :

Key	Value
Comprehension	MCQ

During the Revolt of 1857, where did Henry Lawrence collect the Christian population and took refuge ?

- (1) Secundrah Bagh
- (2) Alam Bagh
- (3) Baradari
- (4) Residency

Options :

212807115377. 1
212807115378. 2
212807115379. 3
212807115380. 4

Question Number : 290 Question Id : 21280728845 Question Type : MCQ Option Shuffling : No Is Question Mandatory : No Calculator : None
Response Time : N.A Think Time : N.A Minimum Instruction Time : 0

Correct Marks : 5 Wrong Marks : 1

Question Key Details :

Key	Value
Comprehension	MCQ

1857 के विद्रोह के दौरान हेनरी लॉरेन्स ने ईसाई आबादी को कहाँ इकट्ठा करके शरण ली थी ?

- (1) सिकन्दरा बाग
- (2) आलम बाग
- (3) बारादरी
- (4) रेजीडेन्सी

Options :

212807115377. 1
212807115378. 2
212807115379. 3
212807115380. 4

Question Number : 291 Question Id : 21280728846 Question Type : MCQ Option Shuffling : No Is Question Mandatory : No Calculator : None
Response Time : N.A Think Time : N.A Minimum Instruction Time : 0

Correct Marks : 5 Wrong Marks : 1

Question Key Details :

Key	Value
Comprehension	MCQ

Who painted the painting titled "In Memoriam" ?

- (1) Thomas Jones Barker
- (2) Joseph Noel Paton
- (3) Francis Grant
- (4) William Hodges

Options :

212807115381. 1
212807115382. 2
212807115383. 3
212807115384. 4

Question Number : 291 Question Id : 21280728846 Question Type : MCQ Option Shuffling : No Is Question Mandatory : No Calculator : None
Response Time : N.A Think Time : N.A Minimum Instruction Time : 0

Correct Marks : 5 Wrong Marks : 1

Question Key Details :

Key	Value
-----	-------

'इन मैमोरियम' शीर्षक वाली पेंटिंग किस ने बनाई ?

- (1) थॉमस जॉन्स बार्कर
- (2) जोज़फ़ नोएल पेटन
- (3) फ्रांसिस ग्रांट
- (4) विलियम हॉजस

Options :

212807115381. 1
212807115382. 2
212807115383. 3
212807115384. 4

Question Number : 292 Question Id : 21280728847 Question Type : MCQ Option Shuffling : No Is Question Mandatory : No Calculator : None Response Time : N.A Think Time : N.A Minimum Instruction Time : 0

Correct Marks : 5 Wrong Marks : 1

Question Key Details :

Key	Value
Comprehension	MCQ

What was the land associated with Santhals called in nineteenth-century India ?

- (1) Diku
- (2) Damin-i-Koh
- (3) Paharia
- (4) Jangal

Options :

212807115385. 1
212807115386. 2
212807115387. 3
212807115388. 4

Question Number : 292 Question Id : 21280728847 Question Type : MCQ Option Shuffling : No Is Question Mandatory : No Calculator : None Response Time : N.A Think Time : N.A Minimum Instruction Time : 0

Correct Marks : 5 Wrong Marks : 1

Question Key Details :

Key	Value
Comprehension	MCQ

उन्नीसवीं शताब्दी के भारत में कौन-सी भूमि संथालों से संबद्ध थी ?

- (1) दिक्कू
- (2) दामिन-इ-कोह
- (3) पहाड़िया
- (4) जंगल

Options :

212807115385. 1
212807115386. 2
212807115387. 3
212807115388. 4

Question Number : 293 Question Id : 21280728848 Question Type : MCQ Option Shuffling : No Is Question Mandatory : No Calculator : None Response Time : N.A Think Time : N.A Minimum Instruction Time : 0

Correct Marks : 5 Wrong Marks : 1

Question Key Details :

Key	Value
Comprehension	MCQ

William Hodges who painted several landscape art works in eighteenth and nineteenth century India was inspired by which ideas ?

- (1) Cubism
- (2) Abstract Art
- (3) Romanticism
- (4) Surrealism

Options :

- 212807115389. 1
- 212807115390. 2
- 212807115391. 3
- 212807115392. 4

Question Number : 293 Question Id : 21280728848 Question Type : MCQ Option Shuffling : No Is Question Mandatory : No Calculator : None Response Time : N.A Think Time : N.A Minimum Instruction Time : 0

Correct Marks : 5 Wrong Marks : 1

Question Key Details :

Key	Value
Comprehension	MCQ

विलियम होजेज जिसे अठारवहीं और उनीसवीं शताब्दी के भारत के अनेक भूदृश्य पेंटिंग बनाई, निम्न में से किन विचारों से प्रेरित था ?

- (1) क्यूबावाद (क्यूबिज़्म)
- (2) अमूर्त कला
- (3) स्वच्छंदतावाद/रूमानीवाद (रोमांटिज़्म)
- (4) सूरीनामवाद (सुरेलिज़्म)

Options :

- 212807115389. 1
- 212807115390. 2
- 212807115391. 3
- 212807115392. 4

Question Number : 294 Question Id : 21280728849 Question Type : MCQ Option Shuffling : No Is Question Mandatory : No Calculator : None Response Time : N.A Think Time : N.A Minimum Instruction Time : 0

Correct Marks : 5 Wrong Marks : 1

Question Key Details :

Key	Value
Comprehension	MCQ

Which of the following is **NOT** True of the reasons for extension of agriculture by the British ?

- (1) It was a necessity to enlarge sources of land revenue.
- (2) To produce crops for export.
- (3) To establish a settled and ordered society.
- (4) To view forest people as easy to govern.

Options :

- 212807115393. 1
- 212807115394. 2
- 212807115395. 3
- 212807115396. 4

Question Number : 294 Question Id : 21280728849 Question Type : MCQ Option Shuffling : No Is Question Mandatory : No Calculator : None Response Time : N.A Think Time : N.A Minimum Instruction Time : 0

Correct Marks : 5 Wrong Marks : 1

Question Key Details :

Key	Value
Comprehension	MCQ

ब्रिटिश के द्वारा कृषि-विस्तार के कारणों में से, निम्नलिखित में से कौन-सा कथन सही नहीं है ?

- (1) भू राजस्व के संसाधनों को बढ़ाने के लिए, यह आवश्यक था।
- (2) निर्यात करने के लिए फसलों का उत्पादन करना।
- (3) एक सुव्यवस्थित श्रेणी बद्ध समाज की स्थापना करना।
- (4) वन में रहने वाले लोगों को शासित करने में सुकरता की दृष्टि से।

Options :

212807115393. 1
212807115394. 2
212807115395. 3
212807115396. 4

Question Number : 295 Question Id : 21280728850 Question Type : MCQ Option Shuffling : No Is Question Mandatory : No Calculator : None
Response Time : N.A Think Time : N.A Minimum Instruction Time : 0

Correct Marks : 5 Wrong Marks : 1

Question Key Details :

Key	Value
Comprehension	MCQ

Districts of 'Birbhum' and 'Bhagalpur' were related to which uprising in Indian history in late nineteenth century ?

- (1) Rampa Rebellion
- (2) Deccan Revolt
- (3) Tarabhaght Revolt
- (4) Santhal Rebellion

Options :

212807115397. 1
212807115398. 2
212807115399. 3
212807115400. 4

Question Number : 295 Question Id : 21280728850 Question Type : MCQ Option Shuffling : No Is Question Mandatory : No Calculator : None
Response Time : N.A Think Time : N.A Minimum Instruction Time : 0

Correct Marks : 5 Wrong Marks : 1

Question Key Details :

Key	Value
Comprehension	MCQ

भारतीय इतिहास में उन्नीसवीं के उत्तरार्द्ध में 'बीर भूम' और 'भागलपुर' जिले निम्न में से किस से सम्बन्धित थे ?

- (1) रम्पा विद्रोही
- (2) दक्कन विद्रोह
- (3) तारा भगत विद्रोह
- (4) संथाल विद्रोही

Options :

212807115397. 1
212807115398. 2
212807115399. 3
212807115400. 4

Question Number : 296 Question Id : 21280728851 Question Type : MCQ Option Shuffling : No Is Question Mandatory : No Calculator : None
Response Time : N.A Think Time : N.A Minimum Instruction Time : 0

Correct Marks : 5 Wrong Marks : 1

Question Key Details :

Key	Value
Comprehension	MCQ

Who inspired Abu'l Fazl when he placed the Mughal Kingship as the highest station receiving light emanating from God (farr-i izadi).

- (1) Shihabuddin Suhrawardi
- (2) Lal Shahbaz Qalandar
- (3) Sharafuddin Yahya Maneri
- (4) Muhammad Shah Alam

Options :

- 212807115401. 1
- 212807115402. 2
- 212807115403. 3
- 212807115404. 4

Question Number : 296 Question Id : 21280728851 Question Type : MCQ Option Shuffling : No Is Question Mandatory : No Calculator : None
Response Time : N.A Think Time : N.A Minimum Instruction Time : 0

Correct Marks : 5 Wrong Marks : 1

Question Key Details :

Key	Value
Comprehension	MCQ

मुगल राजशाही को ईश्वर से प्राप्त होने वाले प्रकाश (फर-ए-इजादी) को प्रहार करने वाले सबसे ऊँचे स्थान के रूप में स्थापित करने के लिए, अबुल फज्ल को किसने प्रेरित किया?

- (1) शिहाबुद्दीन सुहरावर्दी
- (2) लाल शाहबाज कलन्दर
- (3) शराफुद्दीन याह्या मनेरी
- (4) मुहम्मद शाह आलम

Options :

- 212807115401. 1
- 212807115402. 2
- 212807115403. 3
- 212807115404. 4

Question Number : 297 Question Id : 21280728852 Question Type : MCQ Option Shuffling : No Is Question Mandatory : No Calculator : None
Response Time : N.A Think Time : N.A Minimum Instruction Time : 0

Correct Marks : 5 Wrong Marks : 1

Question Key Details :

Key	Value
Comprehension	MCQ

Mughal Kings commissioned court historians to write _____.

- (1) Assessment Reports
- (2) Settlement Books
- (3) Travelogues
- (4) Chronicles

Options :

- 212807115405. 1
- 212807115406. 2

212807115407.3
212807115408.4

Question Number : 297 Question Id : 21280728852 Question Type : MCQ Option Shuffling : No Is Question Mandatory : No Calculator : None
Response Time : N.A Think Time : N.A Minimum Instruction Time : 0
Correct Marks : 5 Wrong Marks : 1

Question Key Details :

Key	Value
Comprehension	MCQ

मुगल बादशाहों ने दरबारी इतिहास कारों को _____ लिखने के लिए नियुक्त किया ?

- (1) मूल्यांकन रिपोर्ट
- (2) सेंटलमेंट बुक
- (3) यात्रा-वृत्तान्त
- (4) इतिहास-वृत्त (क्रॉनिकल्स)

Options :

212807115405.1
212807115406.2
212807115407.3
212807115408.4

Question Number : 298 Question Id : 21280728853 Question Type : MCQ Option Shuffling : No Is Question Mandatory : No Calculator : None
Response Time : N.A Think Time : N.A Minimum Instruction Time : 0

Correct Marks : 5 Wrong Marks : 1

Question Key Details :

Key	Value
Comprehension	MCQ

Prince Salim hatched a conspiracy to kill which well-known figure in Mughal Era ?

- (1) Abu'l Fazl
- (2) Bir Singh Bundela
- (3) Nadia
- (4) Abu'l Hasan

Options :

212807115409.1
212807115410.2
212807115411.3
212807115412.4

Question Number : 298 Question Id : 21280728853 Question Type : MCQ Option Shuffling : No Is Question Mandatory : No Calculator : None
Response Time : N.A Think Time : N.A Minimum Instruction Time : 0

Correct Marks : 5 Wrong Marks : 1

Question Key Details :

Key	Value
Comprehension	MCQ

मुगल युग में शहजादे सलिम ने किस प्रसिद्ध व्यक्ति को मारने का षडयंत्र किया ?

- (1) अबुल फजल
- (2) बीर सिंह बुन्देला
- (3) नादिया
- (4) अबुल हसन

Options :

212807115409.1

212807115410. 2
212807115411. 3
212807115412. 4

Question Number : 299 Question Id : 21280728854 Question Type : MCQ Option Shuffling : No Is Question Mandatory : No Calculator : None
Response Time : N.A Think Time : N.A Minimum Instruction Time : 0

Correct Marks : 5 Wrong Marks : 1

Question Key Details :

Key	Value
Comprehension	MCQ

Who were the 'Nayakas' in the Vijayanagara Empire ?

- (1) Peasants
- (2) Ambassadors
- (3) Artisans
- (4) Military chiefs

Options :

212807115413. 1
212807115414. 2
212807115415. 3
212807115416. 4

Question Number : 299 Question Id : 21280728854 Question Type : MCQ Option Shuffling : No Is Question Mandatory : No Calculator : None
Response Time : N.A Think Time : N.A Minimum Instruction Time : 0

Correct Marks : 5 Wrong Marks : 1

Question Key Details :

Key	Value
Comprehension	MCQ

विजयनगर साम्रज्या में 'नायक' कौन थे ?

- (1) किसान
- (2) राजदूत
- (3) शिल्पकार
- (4) सेना प्रमुख

Options :

212807115413. 1
212807115414. 2
212807115415. 3
212807115416. 4

Question Number : 300 Question Id : 21280728855 Question Type : MCQ Option Shuffling : No Is Question Mandatory : No Calculator : None
Response Time : N.A Think Time : N.A Minimum Instruction Time : 0

Correct Marks : 5 Wrong Marks : 1

Question Key Details :

Key	Value
Comprehension	MCQ

Who were 'Kudirai Chettis' ?

- (1) Grain-Merchants
- (2) Textile-Merchants
- (3) Horse Merchants
- (4) Precious Stone Merchants

Options :

212807115417. 1
212807115418. 2

212807115419. 3
212807115420. 4

Question Number : 300 Question Id : 21280728855 Question Type : MCQ Option Shuffling : No Is Question Mandatory : No Calculator : None
Response Time : N.A Think Time : N.A Minimum Instruction Time : 0
Correct Marks : 5 Wrong Marks : 1

Question Key Details :

Key	Value
Comprehension	MCQ

'कुदिखई चेट्टी' कौन थे ?

- (1) अनाज-व्यापारी
- (2) कपड़ा-व्यापारी
- (3) घोड़ों के व्यापारी
- (4) कौमती-पत्थरों के व्यापारी (हीरे जवाहरात के व्यापारी)

Options :

212807115417. 1
212807115418. 2
212807115419. 3
212807115420. 4

Question Number : 301 Question Id : 21280728856 Question Type : MCQ Option Shuffling : No Is Question Mandatory : No Calculator : None
Response Time : N.A Think Time : N.A Minimum Instruction Time : 0

Correct Marks : 5 Wrong Marks : 1

Question Key Details :

Key	Value
Comprehension	MCQ

'Raichur' Doab is the land situated between which two rivers ?

- (1) Tungabhadra and Krishna
- (2) Tungabhadra and Kaveri
- (3) Kaveri and Narmada
- (4) Ganga and Narmada

Options :

212807115421. 1
212807115422. 2
212807115423. 3
212807115424. 4

Question Number : 301 Question Id : 21280728856 Question Type : MCQ Option Shuffling : No Is Question Mandatory : No Calculator : None
Response Time : N.A Think Time : N.A Minimum Instruction Time : 0

Correct Marks : 5 Wrong Marks : 1

Question Key Details :

Key	Value
Comprehension	MCQ

'रायचूर' दोआब किन दो नदियों के बीच स्थित भूमि है ?

- (1) तुंगभद्रा और कृष्णा
- (2) तुंगभद्रा और कावेरी
- (3) कावेरी और नर्मदा
- (4) गंगा और नर्मदा

Options :

212807115421. 1

212807115422. 2
212807115423. 3
212807115424. 4

Question Number : 302 Question Id : 21280728857 Question Type : MCQ Option Shuffling : No Is Question Mandatory : No Calculator : None
Response Time : N.A Think Time : N.A Minimum Instruction Time : 0

Correct Marks : 5 Wrong Marks : 1

Question Key Details :

Key	Value
Comprehension	MCQ

The anthology 'Nalayira Divyaprabandham' or 'Four Thousand Sacred Compositions' is composed by how many Alvar Saints ?

- (1) 10
- (2) 12
- (3) 16
- (4) 14

Options :

212807115425. 1
212807115426. 2
212807115427. 3
212807115428. 4

Question Number : 302 Question Id : 21280728857 Question Type : MCQ Option Shuffling : No Is Question Mandatory : No Calculator : None
Response Time : N.A Think Time : N.A Minimum Instruction Time : 0

Correct Marks : 5 Wrong Marks : 1

Question Key Details :

Key	Value
Comprehension	MCQ

'नलयिरादिव्यप्रबंधम्' या 'चार हजार पावन रचनाएँ' की कितने अलवार संतो ने रचना की थी ?

- (1) 10
- (2) 12
- (3) 16
- (4) 14

Options :

212807115425. 1
212807115426. 2
212807115427. 3
212807115428. 4

Question Number : 303 Question Id : 21280728858 Question Type : MCQ Option Shuffling : No Is Question Mandatory : No Calculator : None
Response Time : N.A Think Time : N.A Minimum Instruction Time : 0

Correct Marks : 5 Wrong Marks : 1

Question Key Details :

Key	Value
Comprehension	MCQ

What is the title of 'Shaikh Muinuddin Chishti's' biography written by Jahanara ?

- (1) Munis-al-Arwah
- (2) Kashf-ut-Mahjub
- (3) Maktubat-i-Rabbani
- (4) Siyar-ul-Auliya

Options :

212807115429. 1
212807115430. 2

212807115431. 3
212807115432. 4

Question Number : 303 Question Id : 21280728858 Question Type : MCQ Option Shuffling : No Is Question Mandatory : No Calculator : None
Response Time : N.A Think Time : N.A Minimum Instruction Time : 0

Correct Marks : 5 Wrong Marks : 1

Question Key Details :

Key	Value
Comprehension	MCQ

जहाँ आरा द्वारा लिखी गई 'शेख मुइनुद्दीन चिश्ती' की जीवनी का शीर्षक क्या है ?

- (1) मुनिस-अल-अखाह
- (2) कश्फ उत महजूब
- (3) मक्तुबत-ए-रब्बानी
- (4) सियार-उल-औलिया

Options :

212807115429. 1
212807115430. 2
212807115431. 3
212807115432. 4

Question Number : 304 Question Id : 21280728859 Question Type : MCQ Option Shuffling : No Is Question Mandatory : No Calculator : None
Response Time : N.A Think Time : N.A Minimum Instruction Time : 0

Correct Marks : 5 Wrong Marks : 1

Question Key Details :

Key	Value
Comprehension	MCQ

Which of the following rulers gave patronage to be 'Gangaikondacholapuram' ?

- (1) Chola Rulers
- (2) Pandya Rulers
- (3) Chera Rulers
- (4) Pallava Rulers

Options :

212807115433. 1
212807115434. 2
212807115435. 3
212807115436. 4

Question Number : 304 Question Id : 21280728859 Question Type : MCQ Option Shuffling : No Is Question Mandatory : No Calculator : None
Response Time : N.A Think Time : N.A Minimum Instruction Time : 0

Correct Marks : 5 Wrong Marks : 1

Question Key Details :

Key	Value
Comprehension	MCQ

निम्न में से किन शासकों ने 'गंगैकोंडचोलपुरम' को संरक्षण दिया ?

- (1) चोल शासक
- (2) पाण्ड्य शासक
- (3) चेर शासक
- (4) पल्लव शासक

Options :

212807115433. 1

212807115434. 2
212807115435. 3
212807115436. 4

Question Number : 305 Question Id : 21280728860 Question Type : MCQ Option Shuffling : No Is Question Mandatory : No Calculator : None
Response Time : N.A Think Time : N.A Minimum Instruction Time : 0

Correct Marks : 5 Wrong Marks : 1

Question Key Details :

Key	Value
Comprehension	MCQ

The Chinese port 'Quanzhou' was known by _____ name in medieval times.

- (1) Sumatra
- (2) Oman
- (3) Malabar
- (4) Zaytun

Options :

212807115437. 1
212807115438. 2
212807115439. 3
212807115440. 4

Question Number : 305 Question Id : 21280728860 Question Type : MCQ Option Shuffling : No Is Question Mandatory : No Calculator : None
Response Time : N.A Think Time : N.A Minimum Instruction Time : 0

Correct Marks : 5 Wrong Marks : 1

Question Key Details :

Key	Value
Comprehension	MCQ

चीन का 'क्वानझू' बंदरगाह मध्यकाल में _____ नाम से जाना जाता था।

- (1) सुमात्रा
- (2) ओमान
- (3) मालाबार
- (4) जायतुन

Options :

212807115437. 1
212807115438. 2
212807115439. 3
212807115440. 4

Question Number : 306 Question Id : 21280728861 Question Type : MCQ Option Shuffling : No Is Question Mandatory : No Calculator : None
Response Time : N.A Think Time : N.A Minimum Instruction Time : 0

Correct Marks : 5 Wrong Marks : 1

Question Key Details :

Key	Value
Comprehension	MCQ

Francois Bernier was a physican for whom of the following :

- (1) Shah Jahan
- (2) Aurangzeb
- (3) Dara Shukoh
- (4) Danial

Options :

212807115441. 1
212807115442. 2

212807115443. 3
212807115444. 4

Question Number : 306 Question Id : 21280728861 Question Type : MCQ Option Shuffling : No Is Question Mandatory : No Calculator : None
Response Time : N.A Think Time : N.A Minimum Instruction Time : 0
Correct Marks : 5 Wrong Marks : 1

Question Key Details :

Key	Value
Comprehension	MCQ

फ्रांस्वा बर्नियर निम्न में से किसका चिकित्सक था ?

- (1) शाहजहाँ
- (2) औरंगजेब
- (3) दारा शिकोह
- (4) डैनियल

Options :

212807115441. 1
212807115442. 2
212807115443. 3
212807115444. 4

Question Number : 307 Question Id : 21280728862 Question Type : MCQ Option Shuffling : No Is Question Mandatory : No Calculator : None
Response Time : N.A Think Time : N.A Minimum Instruction Time : 0
Correct Marks : 5 Wrong Marks : 1

Question Key Details :

Key	Value
Comprehension	MCQ

"The city, bursting like the ocean, packed with hundreds of mansions, displayed with its gateways, arches and turrets like massing clouds, the splendour of Great Indra's City". In what text is the above description is found for Hastinapura ?

- (1) Rigveda
- (2) Adi Parvan
- (3) Uttara Parvan
- (4) Puranaruru

Options :

212807115445. 1
212807115446. 2
212807115447. 3
212807115448. 4

Question Number : 307 Question Id : 21280728862 Question Type : MCQ Option Shuffling : No Is Question Mandatory : No Calculator : None
Response Time : N.A Think Time : N.A Minimum Instruction Time : 0
Correct Marks : 5 Wrong Marks : 1

Question Key Details :

Key	Value
Comprehension	MCQ

“यह नगर जो समुद्र को भाँति भरा हुआ था, जो सैंकड़ों प्रसादों से संतुलित था। इसके सिंहद्वार, तोरण और कंगूरे सधन बादलों की तरह घुमड़ रहे थे। यह इन्द्र की नगरी के समान शोभायमान था”

हस्तिनापुर के विषय में उपरोक्त विवरण निम्न में से किस ग्रंथ में पाया जाता है ?

- (1) ऋग्वेद
- (2) आदिपर्वन
- (3) उत्तर पर्व
- (4) पुराण

Options :

212807115445. 1
212807115446. 2
212807115447. 3
212807115448. 4

Question Number : 308 Question Id : 21280728863 Question Type : MCQ Option Shuffling : No Is Question Mandatory : No Calculator : None Response Time : N.A Think Time : N.A Minimum Instruction Time : 0

Correct Marks : 5 Wrong Marks : 1

Question Key Details :

Key	Value
Comprehension	MCQ

What does the Greek work “Erthraean” denote ?

- (1) Persian Gulf
- (2) Red Sea
- (3) Arabian Sea
- (4) Indian Ocean

Options :

212807115449. 1
212807115450. 2
212807115451. 3
212807115452. 4

Question Number : 308 Question Id : 21280728863 Question Type : MCQ Option Shuffling : No Is Question Mandatory : No Calculator : None Response Time : N.A Think Time : N.A Minimum Instruction Time : 0

Correct Marks : 5 Wrong Marks : 1

Question Key Details :

Key	Value
Comprehension	MCQ

ग्रीक शब्द “एरीथ्रियन” क्या अर्थ संकेत करता है ?

- (1) फारस की खाड़ी
- (2) लाल सागर
- (3) अरब सागर
- (4) हिन्द महासागर

Options :

212807115449. 1
212807115450. 2
212807115451. 3
212807115452. 4

Question Number : 309 Question Id : 21280728864 Question Type : MCQ Option Shuffling : No Is Question Mandatory : No Calculator : None Response Time : N.A Think Time : N.A Minimum Instruction Time : 0

Correct Marks : 5 Wrong Marks : 1

Question Key Details :

Key	Value
Comprehension	MCQ

What do archaeologists term a group of objects, distinctive in style, that are usually found together within a specific geographical area and period of time ?

- (1) Industry
- (2) Assemblage
- (3) Culture
- (4) Factory

Options :

212807115453. 1
212807115454. 2
212807115455. 3
212807115456. 4

Question Number : 309 Question Id : 21280728864 Question Type : MCQ Option Shuffling : No Is Question Mandatory : No Calculator : None
Response Time : N.A Think Time : N.A Minimum Instruction Time : 0

Correct Marks : 5 Wrong Marks : 1

Question Key Details :

Key	Value
Comprehension	MCQ

वस्तुओं के समूह को, जो विशिष्ट शैली वाले हैं और विशेष भौगोलिक क्षेत्र और कालावधि में एक साथ पाया जाते हैं, पुरा तत्व विद क्या नाम देते हैं ?

- (1) उद्योग
- (2) समुच्चय
- (3) संस्कृति
- (4) फैक्टरी

Options :

212807115453. 1
212807115454. 2
212807115455. 3
212807115456. 4

Question Number : 310 Question Id : 21280728865 Question Type : MCQ Option Shuffling : No Is Question Mandatory : No Calculator : None
Response Time : N.A Think Time : N.A Minimum Instruction Time : 0

Correct Marks : 5 Wrong Marks : 1

Question Key Details :

Key	Value
Comprehension	MCQ

Which of the following town was NOT a part of Harappan civilization ?

- (1) Dholavira
- (2) Mohenjodaro
- (3) Chanhudaro
- (4) Dilmun

Options :

212807115457. 1
212807115458. 2
212807115459. 3
212807115460. 4

Question Number : 310 Question Id : 21280728865 Question Type : MCQ Option Shuffling : No Is Question Mandatory : No Calculator : None
Response Time : N.A Think Time : N.A Minimum Instruction Time : 0

Correct Marks : 5 Wrong Marks : 1

Question Key Details :

Key	Value
Comprehension	MCQ

निम्न शहरों में कौन 'हड़प्पा सभ्यता' का भाग नहीं है ?

- (1) धौलावीरा
- (2) मोहनजोदड़ो
- (3) चन्दुदड़ो
- (4) दिलमुन

Options :

212807115457. 1
212807115458. 2
212807115459. 3
212807115460. 4

Question Number : 311 Question Id : 21280728866 Question Type : MCQ Option Shuffling : No Is Question Mandatory : No Calculator : None
Response Time : N.A Think Time : N.A Minimum Instruction Time : 0

Correct Marks : 5 Wrong Marks : 1

Question Key Details :

Key	Value
Comprehension	MCQ

Water reservoirs have been discovered in which of the following site ?

- (1) Lothal
- (2) Kalibangan
- (3) Dholavira
- (4) Cholistan

Options :

212807115461. 1
212807115462. 2
212807115463. 3
212807115464. 4

Question Number : 311 Question Id : 21280728866 Question Type : MCQ Option Shuffling : No Is Question Mandatory : No Calculator : None
Response Time : N.A Think Time : N.A Minimum Instruction Time : 0

Correct Marks : 5 Wrong Marks : 1

Question Key Details :

Key	Value
Comprehension	MCQ

निम्न में से किस साइट पर जलाशय खोजे गए हैं ?

- (1) लोथल
- (2) कालीबंगन
- (3) धौलावीरा
- (4) चोलिस्तान

Options :

212807115461. 1
212807115462. 2
212807115463. 3
212807115464. 4

Question Number : 312 Question Id : 21280728867 Question Type : MCQ Option Shuffling : No Is Question Mandatory : No Calculator : None
Response Time : N.A Think Time : N.A Minimum Instruction Time : 0

Correct Marks : 5 Wrong Marks : 1

Question Key Details :

Key	Value
Comprehension	MCQ

Match List - I with List - II :

List - I	List - II
(A) Begum Hazrat Mahal	(I) Barout
(B) Kunwar Singh	(II) Kanpur
(C) Nana Sahib	(III) Arrah
(D) Shah Mal	(IV) Lucknow

Choose the correct answer from the options given below :

- (1) (A)-(I), (B)-(II), (C)-(III), (D)-(IV)
- (2) (A)-(IV), (B)-(I), (C)-(II), (D)-(III)
- (3) (A)-(IV), (B)-(III), (C)-(II), (D)-(I)
- (4) (A)-(I), (B)-(III), (C)-(II), (D)-(IV)

Options :

212807115465. 1
212807115466. 2
212807115467. 3
212807115468. 4

Question Number : 312 Question Id : 21280728867 Question Type : MCQ Option Shuffling : No Is Question Mandatory : No Calculator : None
Response Time : N.A Think Time : N.A Minimum Instruction Time : 0

Correct Marks : 5 Wrong Marks : 1

Question Key Details :

Key	Value
Comprehension	MCQ

सूची - I का सूची - II से मिलान करें :

सूची - I	सूची - II
(A) बेगम हजरत महल	(I) बड़ौत
(B) कुँअर सिंह	(II) कानपुर
(C) नाना साहिब	(III) आरा
(D) शाह मल	(IV) लखनऊ

दिए गए विकल्पों में से सही उत्तर का चुनाव करें :

- (1) (A)-(I), (B)-(II), (C)-(III), (D)-(IV)
- (2) (A)-(IV), (B)-(I), (C)-(II), (D)-(III)
- (3) (A)-(IV), (B)-(III), (C)-(II), (D)-(I)
- (4) (A)-(I), (B)-(III), (C)-(II), (D)-(IV)

Options :

212807115465. 1
212807115466. 2
212807115467. 3
212807115468. 4

Question Number : 313 Question Id : 21280728868 Question Type : MCQ Option Shuffling : No Is Question Mandatory : No Calculator : None
Response Time : N.A Think Time : N.A Minimum Instruction Time : 0

Correct Marks : 5 Wrong Marks : 1

Question Key Details :

Key	Value
Comprehension	MCQ

Which statement is correct in the context of revenue from customs duties as mandated by the Constitution ?

- (1) It is collected by States completely.
- (2) It is retained by the Centre completely.
- (3) It is shared between Centre and State.
- (4) Customs duties was abolished by the Constitution.

Options :

212807115469. 1

212807115470. 2

212807115471. 3

212807115472. 4

Question Number : 313 Question Id : 21280728868 Question Type : MCQ Option Shuffling : No Is Question Mandatory : No Calculator : None
Response Time : N.A Think Time : N.A Minimum Instruction Time : 0

Correct Marks : 5 Wrong Marks : 1

Question Key Details :

Key	Value
Comprehension	MCQ

सीमा शुल्क से प्राप्त राज्यस्व के संबंध में संविधान के आदेश के सम्बन्ध में निम्न में से कौन-सा कथन सत्य है ?

- (1) यह पूर्व रूप से राज्य द्वारा संग्रहीत किया जाता है।
- (2) यह पूर्व रूप से केन्द्र सरकार द्वारा अपने पास रखा जाता है।
- (3) यह केन्द्र और राज्यों द्वारा साझा किया जाता है।
- (4) संविधान द्वारा सीमा-शुल्क समाप्त कर दिया गया था।

Options :

212807115469. 1

212807115470. 2

212807115471. 3

212807115472. 4

Question Number : 314 Question Id : 21280728869 Question Type : MCQ Option Shuffling : No Is Question Mandatory : No Calculator : None
Response Time : N.A Think Time : N.A Minimum Instruction Time : 0

Correct Marks : 5 Wrong Marks : 1

Question Key Details :

Key	Value
Comprehension	MCQ

Match List - I with List - II :

List - I

- (A) Ashvapati
(B) Narapati
(C) Karnataka Samrajyamu
(D) Gajapati

List - II

- (I) Rayas
(II) Ruling lineage of Orissa
(III) Deccan Sultans
(IV) Vijayanagara Empire

Choose the correct answer from the options given below :

- (1) (A)-(I), (B)-(II), (C)-(III), (D)-(IV)
(2) (A)-(IV), (B)-(I), (C)-(III), (D)-(II)
(3) (A)-(IV), (B)-(III), (C)-(II), (D)-(I)
(4) (A)-(III), (B)-(I), (C)-(IV), (D)-(II)

Options :

212807115473. 1
212807115474. 2
212807115475. 3
212807115476. 4

Question Number : 314 Question Id : 21280728869 Question Type : MCQ Option Shuffling : No Is Question Mandatory : No Calculator : None
Response Time : N.A Think Time : N.A Minimum Instruction Time : 0

Correct Marks : 5 Wrong Marks : 1

Question Key Details :

Key	Value
Comprehension	MCQ

सूची - I का सूची - II से मिलान करें :

सूची - I

- (A) अश्वपति
(B) नरपति
(C) कर्नाटक साम्राज्यमु
(D) गजपति

सूची - II

- (I) राय
(II) उड़ीसा की शाही वंश परम्परा
(III) दक्कन सुल्तान
(IV) विजयनगर साम्राज्य

दिए गए विकल्पों में से सही उत्तर का चुनाव करें :

- (1) (A)-(I), (B)-(II), (C)-(III), (D)-(IV)
(2) (A)-(IV), (B)-(I), (C)-(III), (D)-(II)
(3) (A)-(IV), (B)-(III), (C)-(II), (D)-(I)
(4) (A)-(III), (B)-(I), (C)-(IV), (D)-(II)

Options :

212807115473. 1
212807115474. 2
212807115475. 3
212807115476. 4

Question Number : 315 Question Id : 21280728870 Question Type : MCQ Option Shuffling : No Is Question Mandatory : No Calculator : None
Response Time : N.A Think Time : N.A Minimum Instruction Time : 0

Correct Marks : 5 Wrong Marks : 1

Question Key Details :

Key	Value
Comprehension	MCQ

Match List - I with List - II :

List - I

- (A) Jyotiba Phule
- (B) Socialists
- (C) Vivekananda
- (D) Government of India Act, 1919

List - II

- (I) Economic and Social Justice
- (II) Constitutional reforms
- (III) Suffering of depressed castes
- (IV) Reform of Hinduism

Choose the correct answer from the options given below :

- (1) (A)-(I), (B)-(II), (C)-(III), (D)-(IV)
- (2) (A)-(III), (B)-(IV), (C)-(II), (D)-(I)
- (3) (A)-(III), (B)-(I), (C)-(IV), (D)-(II)
- (4) (A)-(IV), (B)-(II), (C)-(III), (D)-(I)

Options :

- 212807115477. 1
- 212807115478. 2
- 212807115479. 3
- 212807115480. 4

Question Number : 315 Question Id : 21280728870 Question Type : MCQ Option Shuffling : No Is Question Mandatory : No Calculator : None Response Time : N.A Think Time : N.A Minimum Instruction Time : 0

Correct Marks : 5 Wrong Marks : 1

Question Key Details :

Key	Value
Comprehension	MCQ

सूची - I का सूची - II से मिलान करें :

सूची - I

- (A) ज्योतिबा फुले
- (B) समाजवादी
- (C) विवेकानन्द
- (D) गर्वनमेंट ऑफ इंडिया एक्ट, 1919

सूची - II

- (I) आर्थिक और सामाजिक न्याय
- (II) संवैधानिक सुधार
- (III) दमित वर्ग के कष्ट (पीड़ा)
- (IV) हिन्दुत्व के सुधार

दिए गए विकल्पों में से सही उत्तर का चुनाव करें :

- (1) (A)-(I), (B)-(II), (C)-(III), (D)-(IV)
- (2) (A)-(III), (B)-(IV), (C)-(II), (D)-(I)
- (3) (A)-(III), (B)-(I), (C)-(IV), (D)-(II)
- (4) (A)-(IV), (B)-(II), (C)-(III), (D)-(I)

Options :

- 212807115477. 1
- 212807115478. 2
- 212807115479. 3
- 212807115480. 4

Question Number : 316 Question Id : 21280728871 Question Type : MCQ Option Shuffling : No Is Question Mandatory : No Calculator : None Response Time : N.A Think Time : N.A Minimum Instruction Time : 0

Correct Marks : 5 Wrong Marks : 1

Question Key Details :

Key	Value
Comprehension	MCQ

Match List - I with List - II :

List - I	List - II
(A) Gahapati	(I) Large landowner
(B) Vellalar	(II) Ploughmen
(C) Uzhavar	(III) Slaves
(D) Adimai	(IV) Owner/head of household

Choose the correct answer from the options given below :

- (1) (A)-(III), (B)-(I), (C)-(IV), (D)-(II)
- (2) (A)-(IV), (B)-(I), (C)-(II), (D)-(III)
- (3) (A)-(III), (B)-(IV), (C)-(I), (D)-(II)
- (4) (A)-(II), (B)-(IV), (C)-(III), (D)-(I)

Options :

212807115481. 1
212807115482. 2
212807115483. 3
212807115484. 4

Question Number : 316 Question Id : 21280728871 Question Type : MCQ Option Shuffling : No Is Question Mandatory : No Calculator : None
Response Time : N.A Think Time : N.A Minimum Instruction Time : 0

Correct Marks : 5 Wrong Marks : 1

Question Key Details :

Key	Value
Comprehension	MCQ

सूची - I का सूची - II से मिलान करें :

सूची - I	सूची - II
(A) गहपति	(I) बड़े ज़मींदार
(B) वेल्लालर	(II) हलवाहा
(C) उल्वर	(III) दास
(D) अणिमई	(IV) स्वामी/घर का मुखिया

दिए गए विकल्पों में से सही उत्तर का चुनाव करें :

- (1) (A)-(III), (B)-(I), (C)-(IV), (D)-(II)
- (2) (A)-(IV), (B)-(I), (C)-(II), (D)-(III)
- (3) (A)-(III), (B)-(IV), (C)-(I), (D)-(II)
- (4) (A)-(II), (B)-(IV), (C)-(III), (D)-(I)

Options :

212807115481. 1
212807115482. 2
212807115483. 3
212807115484. 4

Question Number : 317 Question Id : 21280728872 Question Type : MCQ Option Shuffling : No Is Question Mandatory : No Calculator : None
Response Time : N.A Think Time : N.A Minimum Instruction Time : 0

Correct Marks : 5 Wrong Marks : 1

Question Key Details :

Key	Value
Comprehension	MCQ

Which of the following rivers were part of Harappan Civilization's geographical area :

- (A) Indus
- (B) Ravi
- (C) Krishna
- (D) Kaveri

Choose the correct answer from the options given below :

- (1) (A), (B) only
- (2) (B), (C) only
- (3) (C), (A) only
- (4) (C), (D) only

Options :

- 212807115485. 1
- 212807115486. 2
- 212807115487. 3
- 212807115488. 4

Question Number : 317 Question Id : 21280728872 Question Type : MCQ Option Shuffling : No Is Question Mandatory : No Calculator : None Response Time : N.A Think Time : N.A Minimum Instruction Time : 0

Correct Marks : 5 Wrong Marks : 1

Question Key Details :

Key	Value
Comprehension	MCQ

निम्न नदियों में से कौन-सी नदियाँ हड़प्पा सभ्यता के भौगोलिक क्षेत्र में थी ?

- (A) सिंधु
- (B) रावी
- (C) कृष्णा
- (D) कावेरी

दिए गए विकल्पों में से सही उत्तर का चुनाव करें :

- (1) केवल (A), (B)
- (2) केवल (B), (C)
- (3) केवल (C), (A)
- (4) केवल (C), (D)

Options :

- 212807115485. 1
- 212807115486. 2
- 212807115487. 3
- 212807115488. 4

Question Number : 318 Question Id : 21280728873 Question Type : MCQ Option Shuffling : No Is Question Mandatory : No Calculator : None Response Time : N.A Think Time : N.A Minimum Instruction Time : 0

Correct Marks : 5 Wrong Marks : 1

Question Key Details :

Key	Value
Comprehension	MCQ

Which of the following modern states were part of 'Tamilakam' country ?

- (A) Kerala
- (B) Andhra-Pradesh
- (C) Maharashtra
- (D) Madhya-Pradesh

Choose the correct answer from the options given below :

- (1) (A), (B) only
- (2) (B), (C) only
- (3) (A), (D) only
- (4) (B), (D) only

Options :

- 212807115489. 1
- 212807115490. 2
- 212807115491. 3
- 212807115492. 4

Question Number : 318 Question Id : 21280728873 Question Type : MCQ Option Shuffling : No Is Question Mandatory : No Calculator : None Response Time : N.A Think Time : N.A Minimum Instruction Time : 0

Correct Marks : 5 Wrong Marks : 1

Question Key Details :

Key	Value
Comprehension	MCQ

निम्न में से कौन सा आधुनिक राज्य 'तमिलकम' राज्य का भाग था ?

- (A) केरल
- (B) आन्ध्रप्रदेश
- (C) महाराष्ट्र
- (D) मध्यप्रदेश

दिए गए विकल्पों में से सही उत्तर का चुनाव करें :

- (1) केवल (A), (B)
- (2) केवल (B), (C)
- (3) केवल (A), (D)
- (4) केवल (B), (D)

Options :

- 212807115489. 1
- 212807115490. 2
- 212807115491. 3
- 212807115492. 4

Question Number : 319 Question Id : 21280728874 Question Type : MCQ Option Shuffling : No Is Question Mandatory : No Calculator : None Response Time : N.A Think Time : N.A Minimum Instruction Time : 0

Correct Marks : 5 Wrong Marks : 1

Question Key Details :

Key	Value
Comprehension	MCQ

Which of the following was referred to by Domingo Paes as the "House of Victory",

- (A) Audience Hall
- (B) Mahanavami Dibba
- (C) Lotus Mahal
- (D) Hazara Rama Temple

Choose the correct answer from the options given below :

- (1) (A), (B) only
- (2) (B), (C) only
- (3) (C), (D) only
- (4) (A), (D) only

Options :

- 212807115493. 1
- 212807115494. 2
- 212807115495. 3
- 212807115496. 4

Question Number : 319 Question Id : 21280728874 Question Type : MCQ Option Shuffling : No Is Question Mandatory : No Calculator : None Response Time : N.A Think Time : N.A Minimum Instruction Time : 0

Correct Marks : 5 Wrong Marks : 1

Question Key Details :

Key	Value
Comprehension	MCQ

डोमिंगो पेस ने निम्न में से किसे 'विजय का भवन' उल्लेखित किया है ?

- (A) सभा मंडप
- (B) महानवमी डिब्बा
- (C) कमल महल
- (D) हजारा राम मन्दिर

दिए गए विकल्पों में से सही उत्तर का चुनाव करें :

- (1) केवल (A), (B)
- (2) केवल (B), (C)
- (3) केवल (C), (D)
- (4) केवल (A), (D)

Options :

- 212807115493. 1
- 212807115494. 2
- 212807115495. 3
- 212807115496. 4

Question Number : 320 Question Id : 21280728875 Question Type : MCQ Option Shuffling : No Is Question Mandatory : No Calculator : None Response Time : N.A Think Time : N.A Minimum Instruction Time : 0

Correct Marks : 5 Wrong Marks : 1

Question Key Details :

Key	Value
Comprehension	MCQ

Which of the following is True for the painting title of "Relief of Lucknow".

- (A) British Heros stand on the ground that is well lit in the centre.
- (B) At the centre of the canvas are English women and children huddled in a circle.
- (C) The dead and injured in foreground are testimony to the suffering.
- (D) In the background, British rescue forces arrive as saviours.

Choose the correct answer from the options given below :

- (1) (A), (B) only
- (2) (A), (C) only
- (3) (A), (D) only
- (4) (B), (C) only

Options :

- 212807115497. 1
- 212807115498. 2
- 212807115499. 3
- 212807115500. 4

Question Number : 320 Question Id : 21280728875 Question Type : MCQ Option Shuffling : No Is Question Mandatory : No Calculator : None Response Time : N.A Think Time : N.A Minimum Instruction Time : 0

Correct Marks : 5 Wrong Marks : 1

Question Key Details :

Key	Value
Comprehension	MCQ

'रिलीफ ऑफ लखनऊ' शीर्षक वाली पेंटिंग के विषय में, निम्न में से कौन-सा कथन सत्य है ?

- (A) ब्रिटिश हीरो ज़मीन पर खड़े हैं और केन्द्र में पर्याप्त प्रकाश है।
- (B) कॅन्वास के केन्द्र में अंग्रेज महिलाएँ और बच्चे एक घेरे में इकट्ठे हैं।
- (C) सामने जमीन पर पड़े मृत और घायल दी गई पीड़ा (कष्ट) के गवाह हैं।
- (D) पृष्ठ भूमि में ब्रिटिश बचाव बल उद्धारकों के रूप में पहुँच गए हैं।

दिए गए विकल्पों में से सही उत्तर का चुनाव करें :

- (1) केवल (A), (B)
- (2) केवल (A), (C)
- (3) केवल (A), (D)
- (4) केवल (B), (C)

Options :

- 212807115497. 1
- 212807115498. 2
- 212807115499. 3
- 212807115500. 4

Question Number : 321 Question Id : 21280728876 Question Type : MCQ Option Shuffling : No Is Question Mandatory : No Calculator : None Response Time : N.A Think Time : N.A Minimum Instruction Time : 0

Correct Marks : 5 Wrong Marks : 1

Question Key Details :

Key	Value
Comprehension	MCQ

Sequentially arrange the following events leading to the Partition of India.

- (A) Direct Action Day.
- (B) Coining of the name 'Pakistan' by Rehmat Ali.
- (C) Pakistan Resolution by Muslim League.
- (D) Mohammad Iqbal's address to the Muslim League on the need for a 'North West India Muslim State.'

Choose the correct answer from the options given below :

- (1) (D), (B), (C), (A)
- (2) (A), (B), (C), (D)
- (3) (C), (D), (A), (B)
- (4) (C), (B), (A), (D)

Options :

- 212807115501. 1
- 212807115502. 2
- 212807115503. 3
- 212807115504. 4

Question Number : 321 Question Id : 21280728876 Question Type : MCQ Option Shuffling : No Is Question Mandatory : No Calculator : None Response Time : N.A Think Time : N.A Minimum Instruction Time : 0

Correct Marks : 5 Wrong Marks : 1

Question Key Details :

Key	Value
Comprehension	MCQ

भारत के विभाजन की ओर ले जाने वाली निम्न घटनाओं को क्रमानुसार व्यवस्थित करें।

- (A) प्रत्यक्ष कार्यवाही दिवस।
- (B) रहमत अली द्वारा 'पाकिस्तान' नाम गढ़ा जाना।
- (C) मुस्लिम लीग का 'पाकिस्तान प्रस्ताव'।
- (D) 'उत्तर पश्चिमी मुस्लिम राज्य' के लिए मुहम्मद इक़बाल का मुस्लिम लीग को किया गया सम्बोधन (भाषण)।

दिए गए विकल्पों में से सही उत्तर का चुनाव करें :

- (1) (D), (B), (C), (A)
- (2) (A), (B), (C), (D)
- (3) (C), (D), (A), (B)
- (4) (C), (B), (A), (D)

Options :

- 212807115501. 1
- 212807115502. 2
- 212807115503. 3
- 212807115504. 4

Question Number : 322 Question Id : 21280728877 Question Type : MCQ Option Shuffling : No Is Question Mandatory : No Calculator : None Response Time : N.A Think Time : N.A Minimum Instruction Time : 0

Correct Marks : 5 Wrong Marks : 1

Question Key Details :

Key	Value
Comprehension	MCQ

Arrange the following events in a chronological order.

- (A) Third Battle of Panipat.
- (B) Invasion of Nadir Shah on India.
- (C) Rule of Aurangzeb.
- (D) Transfer of 'Diwani' of Bengal to the English East India Company.

Choose the correct answer from the options given below :

- (1) (B), (A), (C), (D)
- (2) (D), (C), (A), (B)
- (3) (C), (B), (A), (D)
- (4) (A), (B), (C), (D)

Options :

- 212807115505. 1
- 212807115506. 2
- 212807115507. 3
- 212807115508. 4

Question Number : 322 Question Id : 21280728877 Question Type : MCQ Option Shuffling : No Is Question Mandatory : No Calculator : None Response Time : N.A Think Time : N.A Minimum Instruction Time : 0

Correct Marks : 5 Wrong Marks : 1

Question Key Details :

Key	Value
Comprehension	MCQ

निम्नलिखित घटनाओं को कालक्रमानुसार व्यवस्थित करें।

- (A) पानीपत का तीसरा युद्ध।
- (B) नादिरशाह का भारत आक्रमण।
- (C) औरंगजेब का शासनकाल।
- (D) बंगाल की 'दीवानी' का इंग्लिश ईस्ट इंडिया कम्पनी को हस्तान्तरण।

दिए गए विकल्पों में से सही उत्तर का चुनाव करें :

- (1) (B), (A), (C), (D)
- (2) (D), (C), (A), (B)
- (3) (C), (B), (A), (D)
- (4) (A), (B), (C), (D)

Options :

- 212807115505. 1
- 212807115506. 2
- 212807115507. 3
- 212807115508. 4

Question Number : 323 Question Id : 21280728878 Question Type : MCQ Option Shuffling : No Is Question Mandatory : No Calculator : None Response Time : N.A Think Time : N.A Minimum Instruction Time : 0

Correct Marks : 5 Wrong Marks : 1

Question Key Details :

Key	Value
Comprehension	MCQ

Arrange the following sequentially in order of their occurrence.

- (A) Summary Settlement
- (B) Subsidiary Alliance
- (C) Sati Abolished
- (D) Azamgarh Proclamation

Choose the correct answer from the options given below :

- (1) (A), (B), (D), (C)
- (2) (B), (C), (A), (D)
- (3) (B), (A), (C), (D)
- (4) (C), (B), (A), (D)

Options :

- 212807115509. 1
- 212807115510. 2
- 212807115511. 3
- 212807115512. 4

Question Number : 323 Question Id : 21280728878 Question Type : MCQ Option Shuffling : No Is Question Mandatory : No Calculator : None Response Time : N.A Think Time : N.A Minimum Instruction Time : 0

Correct Marks : 5 Wrong Marks : 1

Question Key Details :

Key	Value
Comprehension	MCQ

निम्नलिखित को उनके घटने के क्रम में व्यवस्थित करें।

- (A) एकमुश्त बन्दोबस्त
- (B) सहायक सन्धि
- (C) सती प्रथा निर्मूलन
- (D) आजमगढ़ घोषणा

दिए गए विकल्पों में से सही उत्तर का चुनाव करें :

- (1) (A), (B), (D), (C)
- (2) (B), (C), (A), (D)
- (3) (B), (A), (C), (D)
- (4) (C), (B), (A), (D)

Options :

- 212807115509. 1
- 212807115510. 2
- 212807115511. 3
- 212807115512. 4

Question Number : 324 Question Id : 21280728879 Question Type : MCQ Option Shuffling : No Is Question Mandatory : No Calculator : None Response Time : N.A Think Time : N.A Minimum Instruction Time : 0

Correct Marks : 5 Wrong Marks : 1

Question Key Details :

Key	Value
Comprehension	MCQ

Arrange the following Director Generals of Archaeological Survey of India sequentially.

- (A) John Marshall
- (B) Alexander Cunningham
- (C) R.E.M. Wheeler
- (D) B.B. Lal

Choose the correct answer from the options given below :

- (1) (A), (B), (D), (C)
- (2) (B), (A), (C), (D)
- (3) (B), (C), (A), (D)
- (4) (C), (B), (A), (D)

Options :

- 212807115513. 1
- 212807115514. 2
- 212807115515. 3
- 212807115516. 4

Question Number : 324 Question Id : 21280728879 Question Type : MCQ Option Shuffling : No Is Question Mandatory : No Calculator : None Response Time : N.A Think Time : N.A Minimum Instruction Time : 0

Correct Marks : 5 Wrong Marks : 1

Question Key Details :

Key	Value
Comprehension	MCQ

भारतीय पुरातत्व सर्वेक्षण के निम्न महानिदेशकों को काल क्रमानुसार व्यवस्थित करें।

- (A) जॉन मार्शल
- (B) अलेक्जेंडर कनिंघम
- (C) आर. ई. एम. व्हीलर
- (D) बी. बी. लाल

दिए गए विकल्पों में से सही उत्तर का चुनाव करें :

- (1) (A), (B), (D), (C)
- (2) (B), (A), (C), (D)
- (3) (B), (C), (A), (D)
- (4) (C), (B), (A), (D)

Options :

- 212807115513. 1
- 212807115514. 2
- 212807115515. 3
- 212807115516. 4

Question Number : 325 Question Id : 21280728880 Question Type : MCQ Option Shuffling : No Is Question Mandatory : No Calculator : None Response Time : N.A Think Time : N.A Minimum Instruction Time : 0

Correct Marks : 5 Wrong Marks : 1

Question Key Details :

Key	Value
Comprehension	MCQ

Arrange the following in their order of heirarchy.

- (A) Jotedar
- (B) Zamindar
- (C) Company
- (D) Ryot

Choose the correct answer from the options given below :

- (1) (B), (A), (C), (D)
- (2) (C), (B), (A), (D)
- (3) (C), (A), (B), (D)
- (4) (C), (B), (D), (A)

Options :

- 212807115517. 1
- 212807115518. 2
- 212807115519. 3
- 212807115520. 4

Question Number : 325 Question Id : 21280728880 Question Type : MCQ Option Shuffling : No Is Question Mandatory : No Calculator : None Response Time : N.A Think Time : N.A Minimum Instruction Time : 0

Correct Marks : 5 Wrong Marks : 1

Question Key Details :

Key	Value
Comprehension	MCQ

निम्न को उनके उत्तराधिकार के क्रम में व्यवस्थित करें।

- (A) जोतदार
- (B) जर्मीदार
- (C) कम्पनी
- (D) रैयत

दिए गए विकल्पों में से सही उत्तर का चुनाव करें :

- (1) (B), (A), (C), (D)
- (2) (C), (B), (A), (D)
- (3) (C), (A), (B), (D)
- (4) (C), (B), (D), (A)

Options :

- 212807115517. 1
- 212807115518. 2
- 212807115519. 3
- 212807115520. 4

Sub-Section Number :

2

Sub-Section Id :

2128072101

Question Shuffling Allowed :

No

Is Section Default? :

null

Question Number : 326 Question Id : 21280728881 Question Type : MCQ Option Shuffling : No Is Question Mandatory : No Calculator : None Response Time : N.A Think Time : N.A Minimum Instruction Time : 0

Correct Marks : 5 Wrong Marks : 1

Question Key Details :

Key	Value
Comprehension	Compl

Read the passage and answer the question :

“Though the wise should hope, by this virtue ... by this penance I will gain karma ... and the fool should by the same means hope to gradually rid himself of his karma, neither of them can do it. Pleasure and pain measured out as it were, cannot be altered in the course of *samsara* (transmigration). It can neither be lessened or increased ... just as a ball of string will when thrown unwind to its full length, so fool and wise alike will take their course and make an end of sorrow”.

Who amongst the following described these teachings to Buddha ?

- (1) Bimbisara
- (2) Ajatasattu
- (3) Upala
- (4) Ananda

Options :

212807115521. 1
212807115522. 2
212807115523. 3
212807115524. 4

Question Number : 326 Question Id : 21280728881 Question Type : MCQ Option Shuffling : No Is Question Mandatory : No Calculator : None
Response Time : N.A Think Time : N.A Minimum Instruction Time : 0

Correct Marks : 5 Wrong Marks : 1

Question Key Details :

Key	Value
Comprehension	Compl

निम्नलिखित अनुच्छेद को पढ़कर, प्रश्न का उत्तर दीजिए :

“हालाँकि बुद्धिमान लोग यह विश्वास करते हैं कि इस सद्गुण से इस तपस्या से मैं कर्मप्राप्ति करूँगा मुख उन्हीं कार्यों को करके धीरे-धीरे कर्म-मुक्ति की उम्मीद करेगा। दोनों में से कोई कुछ नहीं कर सकता। सुख और दुख मानो पूर्व-निर्धारित मात्रा में मापकर दिए गए हैं। इसे संसार में बदला नहीं जा सकता। इसे बढ़ाया था घटाया नहीं जा सकता। जैसे धागे का गोला फेंक देने पर लुढ़कते-लुढ़कते अपनी पूरी लंबाई तक खुल जाता है, उसी तरह मूर्ख और विद्वान दोनों ही पूर्व-निर्धारित रास्ते से होते हुए दुःखों का निदान करेंगे।”

इनमें से किसने इन शिक्षाओं का वर्णन बुद्ध के सामने किया।

- (1) बिम्बिसार
- (2) अजातसत्तु
- (3) उपाला
- (4) आनन्द

Options :

212807115521. 1
212807115522. 2
212807115523. 3
212807115524. 4

Question Number : 327 Question Id : 21280728882 Question Type : MCQ Option Shuffling : No Is Question Mandatory : No Calculator : None
Response Time : N.A Think Time : N.A Minimum Instruction Time : 0

Correct Marks : 5 Wrong Marks : 1

Question Key Details :

Key	Value
Comprehension	Compl

Read the passage and answer the question :

“Though the wise should hope, by this virtue ... by this penance I will gain karma ... and the fool should by the same means hope to gradually rid himself of his karma, neither of them can do it. Pleasure and pain measured out as it were, cannot be altered in the course of *samsara* (transmigration). It can neither be lessened or increased ... just as a ball of string will when thrown unwind to its full length, so fool and wise alike will take their course and make an end of sorrow”.

Whose teachings are described in the passage ?

- (1) Vardhamana
- (2) Siddhartha
- (3) Makkhali Gosala
- (4) Ajita Kesambalin

Options :

212807115525. 1
212807115526. 2
212807115527. 3
212807115528. 4

Question Number : 327 Question Id : 21280728882 Question Type : MCQ Option Shuffling : No Is Question Mandatory : No Calculator : None
Response Time : N.A Think Time : N.A Minimum Instruction Time : 0

Correct Marks : 5 Wrong Marks : 1

Question Key Details :

Key	Value
Comprehension	Compl

निम्नलिखित अनुच्छेद को पढ़कर, प्रश्न का उत्तर दीजिए :

“हालाँकि बुद्धिमान लोग यह विश्वास करते हैं कि इस सद्गुण से इस तपस्या से मैं कर्मप्राप्ति करूँगा मुर्ख उन्हीं कार्यों को करके धीरे-धीरे कर्म-मुक्ति की उम्मीद करेगा। दोनों में से कोई कुछ नहीं कर सकता। सुख और दुख मानो पूर्व-निर्धारित मात्रा में मापकर दिए गए हैं। इसे संसार में बदला नहीं जा सकता। इसे बढ़ाया था घटाया नहीं जा सकता। जैसे धागे का गोला फेंक देने पर लुढ़कते-लुढ़कते अपनी पूरी लंबाई तक खुल जाता है, उसी तरह मूर्ख और विद्वान दोनों ही पूर्व-निर्धारित रास्ते से होते हुए दुःखों का निदान करेंगे।”

अनुच्छेद में किसकी शिक्षाओं को वर्णित किया गया है ?

- (1) वर्धमान
- (2) सिद्धार्थ
- (3) मक्खलि गोसाल
- (4) अजिता केसकंबलिन

Options :

212807115525. 1
212807115526. 2
212807115527. 3
212807115528. 4

Question Number : 328 Question Id : 21280728883 Question Type : MCQ Option Shuffling : No Is Question Mandatory : No Calculator : None
Response Time : N.A Think Time : N.A Minimum Instruction Time : 0

Correct Marks : 5 Wrong Marks : 1

Question Key Details :

Key	Value
Comprehension	Compl

Read the passage and answer the question :

“Though the wise should hope, by this virtue ... by this penance I will gain karma ... and the fool should by the same means hope to gradually rid himself of his karma, neither of them can do it. Pleasure and pain measured out as it were, cannot be altered in the course of *samsara* (transmigration). It can neither be lessened or increased ... just as a ball of string will when thrown unwind to its full length, so fool and wise alike will take their course and make an end of sorrow”.

Who amongst the following have been described as ‘fatalists’ ?

- (1) Lokayata
- (2) Lingayata
- (3) Buddhist
- (4) Ajivikas

Options :

212807115529. 1
212807115530. 2
212807115531. 3
212807115532. 4

Question Number : 328 Question Id : 21280728883 Question Type : MCQ Option Shuffling : No Is Question Mandatory : No Calculator : None
Response Time : N.A Think Time : N.A Minimum Instruction Time : 0

Correct Marks : 5 Wrong Marks : 1

Question Key Details :

Key	Value
Comprehension	Compl

निम्नलिखित अनुच्छेद को पढ़कर, प्रश्न का उत्तर दीजिए :

“हालाँकि बुद्धिमान लोग यह विश्वास करते हैं कि इस सद्गुण से इस तपस्या से मैं कर्मप्राप्ति करूँगा मुख उन्हीं कार्यों को करके धीरे-धीरे कर्म-मुक्ति की उम्मीद करेगा। दोनों में से कोई कुछ नहीं कर सकता। सुख और दुख मानो पूर्व-निर्धारित मात्रा में मापकर दिए गए हैं। इसे संसार में बदला नहीं जा सकता। इसे बढ़ाया था घटाया नहीं जा सकता। जैसे धागे का गोला फेंक देने पर लुढ़कते-लुढ़कते अपनी पूरी लंबाई तक खुल जाता है, उसी तरह मुख और विद्वान दोनों ही पूर्व-निर्धारित रास्ते से होते हुए दुःखों का निदान करेंगे।”

इनमें से किसे ‘नियतिवादी’ वर्णित किया गया है ?

- (1) लोकायत
- (2) लिंगायत
- (3) बौद्ध
- (4) आजीविक

Options :

212807115529. 1
212807115530. 2
212807115531. 3
212807115532. 4

Question Number : 329 Question Id : 21280728884 Question Type : MCQ Option Shuffling : No Is Question Mandatory : No Calculator : None
Response Time : N.A Think Time : N.A Minimum Instruction Time : 0

Correct Marks : 5 Wrong Marks : 1

Question Key Details :

Key	Value
Comprehension	Compl

Read the passage and answer the question :

“Though the wise should hope, by this virtue ... by this penance I will gain karma ... and the fool should by the same means hope to gradually rid himself of his karma, neither of them can do it. Pleasure and pain measured out as it were, cannot be altered in the course of *samsara* (transmigration). It can neither be lessened or increased ... just as a ball of string will when thrown unwind to its full length, so fool and wise alike will take their course and make an end of sorrow”.

Who amongst the following are described as ‘materialists’ ?

- (1) Lokayatas
- (2) Jains
- (3) Buddhists
- (4) Ajivikas

Options :

212807115533. 1
212807115534. 2
212807115535. 3
212807115536. 4

Question Number : 329 Question Id : 21280728884 Question Type : MCQ Option Shuffling : No Is Question Mandatory : No Calculator : None
Response Time : N.A Think Time : N.A Minimum Instruction Time : 0

Correct Marks : 5 Wrong Marks : 1

Question Key Details :

Key	Value
Comprehension	Compl

निम्नलिखित अनुच्छेद को पढ़कर, प्रश्न का उत्तर दीजिए :

“हालाँकि बुद्धिमान लोग यह विश्वास करते हैं कि इस सद्गुण से इस तपस्या से मैं कर्मप्राप्ति करूँगा मुख उन्हीं कार्यों को करके धीरे-धीरे कर्म-मुक्ति की उम्मीद करेगा। दोनों में से कोई कुछ नहीं कर सकता। सुख और दुख मानो पूर्व-निर्धारित मात्रा में मापकर दिए गए हैं। इसे संसार में बदला नहीं जा सकता। इसे बढ़ाया था घटाया नहीं जा सकता। जैसे धागे का गोला फेंक देने पर लुढ़कते-लुढ़कते अपनी पूरी लंबाई तक खुल जाता है, उसी तरह मूर्ख और विद्वान दोनों ही पूर्व-निर्धारित रास्ते से होते हुए दुःखों का निदान करेंगे।”

इनमें से किसे ‘भौतिकवादी’ वर्णीत किया गया है ?

- (1) लोकायत
- (2) जैन
- (3) बौद्ध
- (4) आजीविक

Options :

212807115533. 1
212807115534. 2
212807115535. 3
212807115536. 4

Question Number : 330 Question Id : 21280728885 Question Type : MCQ Option Shuffling : No Is Question Mandatory : No Calculator : None
Response Time : N.A Think Time : N.A Minimum Instruction Time : 0

Correct Marks : 5 Wrong Marks : 1

Question Key Details :

Key	Value
Comprehension	Compl

Read the passage and answer the question :

“Though the wise should hope, by this virtue ... by this penance I will gain karma ... and the fool should by the same means hope to gradually rid himself of his karma, neither of them can do it. Pleasure and pain measured out as it were, cannot be altered in the course of *samsara* (transmigration). It can neither be lessened or increased ... just as a ball of string will when thrown unwind to its full length, so fool and wise alike will take their course and make an end of sorrow”.

This excerpt has been taken from which of the following texts :

- (1) Ashokavadana
- (2) Dipavamsa
- (3) Sutta Pitaka
- (4) Abhidhamma Pitaka

Options :

212807115537. 1
212807115538. 2
212807115539. 3
212807115540. 4

Question Number : 330 Question Id : 21280728885 Question Type : MCQ Option Shuffling : No Is Question Mandatory : No Calculator : None
Response Time : N.A Think Time : N.A Minimum Instruction Time : 0

Correct Marks : 5 Wrong Marks : 1

Question Key Details :

Key	Value
Comprehension	Compl

निम्नलिखित अनुच्छेद को पढ़कर, प्रश्न का उत्तर दीजिए :

“हालाँकि बुद्धिमान लोग यह विश्वास करते हैं कि इस सदगुण से इस तपस्या से मैं कर्मप्राप्ति करूँगा मुख उन्हीं कार्यों को करके धीरे-धीरे कर्म-मुक्ति की उम्मीद करेगा। दोनों में से कोई कुछ नहीं कर सकता। सुख और दुख मानो पूर्व-निर्धारित मात्रा में मापकर दिए गए हैं। इसे संसार में बदला नहीं जा सकता। इसे बढ़ाया या घटाया नहीं जा सकता। जैसे धागे का गोला फेंक देने पर लुढ़कते-लुढ़कते अपनी पूरी लंबाई तक खुल जाता है, उसी तरह मूर्ख और विद्वान दोनों ही पूर्व-निर्धारित रास्ते से होते हुए दुःखों का निदान करेंगे।”

यह उद्धरण निम्न में से किस ग्रंथ से लिया गया है?

- (1) अशोकावदान
- (2) दीपवंश
- (3) सुत्त पिटक
- (4) अभिधम्म पिटक

Options :

212807115537. 1
212807115538. 2
212807115539. 3
212807115540. 4

Sub-Section Number :

3

Sub-Section Id :

2128072102

Question Shuffling Allowed :

No

Is Section Default? :

null

Question Number : 331 Question Id : 21280728886 Question Type : MCQ Option Shuffling : No Is Question Mandatory : No Calculator : None
Response Time : N.A Think Time : N.A Minimum Instruction Time : 0

Correct Marks : 5 Wrong Marks : 1

Question Key Details :

Key	Value
Comprehension	Comp2

Read the passage and answer the question :

The volume of information being gained daily shows how wickedly the salt tax has been designed. In order to prevent the use of salt that has not paid the tax which is at times even fourteen times its value, the Government destroys the salt it cannot sell profitably. Thus it taxes the nation's vital necessity; it prevents the public from manufacturing it and destroys what nature manufactures without effort. No adjective is strong enough for characterising this wicked dog-in-the-manger policy. From various sources I hear tales of such wanton destruction of the nation's property in all parts of India. Maunds if not tons of salt are said to be destroyed on the Konkan coast. The same tale comes from Dandi. Wherever there is likelihood of natural salt being taken away by the people living in the neighbourhood of such areas for their personal use, salt officers are posted for the sole purpose of carrying on destruction. Thus valuable national property is destroyed at national expense and salt taken out of the mouths of the people.

According to Gandhi the salt monopoly is a fourfold curse, of the following is **NOT True** of this 'fourfold curse' :

- (1) It deprives people of a valuable easy village industry.
- (2) It involves wanton destruction of property that nature produces in abundance.
- (3) Destruction itself means more National Expenditure.
- (4) A Tax of more than 2000 percent is exacted from starving people.

Options :

- 212807115541. 1
- 212807115542. 2
- 212807115543. 3
- 212807115544. 4

Question Number : 331 Question Id : 21280728886 Question Type : MCQ Option Shuffling : No Is Question Mandatory : No Calculator : None Response Time : N.A Think Time : N.A Minimum Instruction Time : 0

Correct Marks : 5 Wrong Marks : 1

Question Key Details :

Key	Value
Comprehension	Comp2

निम्नलिखित अनुच्छेद को पढ़कर, प्रश्न का उत्तर दीजिए :

प्रतिदिन प्राप्त होने वाली सूचनाओं से पता चलता है कि कैसे अन्यापूर्ण तरीके से नमक के को तैयार किया गया है। बिना कर (जो कभी-कभी नमक के मूल्य का चौदाह गुना तक होता था) अदा किए गए नमक के प्रयोग को रोकने के लिए सरकार उस नमक को, जिससे वह लाभ पर नहीं बेच पाती थी, नष्ट कर देती थी। अतः यह राष्ट्र की अत्यधिक महत्वपूर्ण आवश्यकता पर कर लगाती है ; यह जनता को इसके उत्पादन से रोकती है और प्रकृति ने जिसे बिना किसी श्रम के उत्पादित किया है उसे नष्ट कर देती है। अतः किसी भी वजह से किसी चीज़ को स्वयं प्रयोग न कर पाने तथा अन्य को भी उसका प्रयोग न करने देने तथा ऐसे में उस चीज़ को नष्ट कर देने की इस अन्यायपूर्ण नीति को किसी भी विशेषण द्वारा नहीं बताया जा सकता है। विभिन्न स्रोतों से मैं भारत के सभी भागों में इस राष्ट्र संपत्ति को बेलगम ढंग से नष्ट किए जाने की कहानियाँ सुन रहा हूँ। टनों न सही पर कई मन नमक कोंकण तट पर नष्ट कर दिया गया बताया गया है। दाण्डी से भी इस तरह की बातें पता चली हैं। जहाँ कहीं भी ऐसे क्षेत्रों के आस-पास रहने वाले लोगों द्वारा अपने व्यक्तिगत प्रयोग हेतु प्राकृतिक नमक उठा ले जाने की संभावना दिखती है वहाँ तुरंत अधिकारी नयुक्त के दिए जाते हैं जिनका एकमात्र कार्य विनाश करना होता है। इस प्रकार बहुमूल्य राष्ट्रीय संपदा को राष्ट्रीय खर्च से ही नष्ट किया जाता है और लोगों के मुँह से नमक छीन लिया जाता है।

गाँधी के अनुसार नमक एकाधिकार चौतरफा श्राप है। निम्न में से कौन-सा कथन इस 'चौतरफा श्राप' के विषय में सही नहीं है?

- (1) यह एक सुकर, मूल्यवान ग्राम उद्योग का अपहरण करता है (छीन लेता है)।
- (2) यह उस सम्पत्ति के विनाश की प्रथा बनाता है, जिसे प्रकृति बहुतायत में उत्पन्न करती है।
- (3) इसे नष्ट करने का अर्थ है ; और अधिक राष्ट्रीय व्यय।
- (4) भूख से पीड़ित लोगों से 2000 प्रतिशत कर बलपूर्वक वसूल करना।

Options :

212807115541. 1
212807115542. 2
212807115543. 3
212807115544. 4

Question Number : 332 Question Id : 21280728887 Question Type : MCQ Option Shuffling : No Is Question Mandatory : No Calculator : None
Response Time : N.A Think Time : N.A Minimum Instruction Time : 0

Correct Marks : 5 Wrong Marks : 1

Question Key Details :

Key	Value
Comprehension	Comp2

Read the passage and answer the question :

The volume of information being gained daily shows how wickedly the salt tax has been designed. In order to prevent the use of salt that has not paid the tax which is at times even fourteen times its value, the Government destroys the salt it cannot sell profitably. Thus it taxes the nation's vital necessity; it prevents the public from manufacturing it and destroys what nature manufactures without effort. No adjective is strong enough for characterising this wicked dog-in-the-manger policy. From various sources I hear tales of such wanton destruction of the nation's property in all parts of India. Maunds if not tons of salt are said to be destroyed on the Konkan coast. The same tale comes from Dandi. Wherever there is likelihood of natural salt being taken away by the people living in the neighbourhood of such areas for their personal use, salt officers are posted for the sole purpose of carrying on destruction. Thus valuable national property is destroyed at national expense and salt taken out of the mouths of the people.

Progress of Gandhi's March to the seashore can be traced from which of the following documents.

- (A) Secret reports filed by the police
- (B) 'Time' News Magazine
- (C) Kesari
- (D) Vividh Vritt

Choose the **correct** answer from the options given below :

- (1) (A), (D) only
- (2) (A), (B) only
- (3) (B), (C) only
- (4) (C), (D) only

Options :

- 212807115545. 1
- 212807115546. 2
- 212807115547. 3
- 212807115548. 4

Question Number : 332 Question Id : 21280728887 Question Type : MCQ Option Shuffling : No Is Question Mandatory : No Calculator : None Response Time : N.A Think Time : N.A Minimum Instruction Time : 0

Correct Marks : 5 Wrong Marks : 1

Question Key Details :

Key	Value
Comprehension	Comp2

निम्नलिखित अनुच्छेद को पढ़कर, प्रश्न का उत्तर दीजिए :

प्रतिदिन प्राप्त होने वाली सूचनाओं से पता चलता है कि कैसे अन्यापूर्ण तरीके से नमक के को तैयार किया गया है। बिना कर (जो कभी-कभी नमक के मूल्य का चौदाह गुना तक होता था) अदा किए गए नमक के प्रयोग को रोकने के लिए सरकार उस नमक को, जिससे वह लाभ पर नहीं बेच पाती थी, नष्ट कर देती थी। अतः यह राष्ट्र की अत्यधिक महत्वपूर्ण आवश्यकता पर कर लगाती है ; यह जनता को इसके उत्पादन से रोकती है और प्रकृति ने जिसे बिना किसी श्रम के उत्पादित किया है उसे नष्ट कर देती है। अतः किसी भी वजह से किसी चीज़ को स्वयं प्रयोग न कर पाने तथा अन्य को भी उसका प्रयोग न करने देने तथा ऐसे में उस चीज़ को नष्ट कर देने की इस अन्यायपूर्ण नीति को किसी भी विशेषण द्वारा नहीं बताया जा सकता है। विभिन्न स्रोतों से मैं भारत के सभी भागों में इस राष्ट्र संपत्ति को बेलगम ढंग से नष्ट किए जाने की कहानियाँ सुन रहा हूँ। टनों न सही पर कई मन नमक कोंकण तट पर नष्ट कर दिया गया बताया गया है। दाण्डी से भी इस तरह की बातें पता चली हैं। जहाँ कहीं भी ऐसे क्षेत्रों के आस-पास रहने वाले लोगों द्वारा अपने व्यक्तिगत प्रयोग हेतु प्राकृतिक नमक उठा ले जाने की संभावना दिखती है वहाँ तुरंत अधिकारी नयुक्त के दिए जाते हैं जिनका एकमात्र कार्य विनाश करना होता है। इस प्रकार बहुमूल्य राष्ट्रीय संपदा को राष्ट्रीय खर्च से ही नष्ट किया जाता है और लोगों के मुँह से नमक छीन लिया जाता है।

गाँधी के मार्च की प्रगति निम्न में से किस दस्तावेज से ढूँढी जा सकती है ?

- (A) पुलिस की गुप्त रिपोर्टों से।
- (B) (Time) 'टाइम' समाचार पत्रिका से।
- (C) केसरी
- (D) विविध वृत्त

दिए गए विकल्पों में से सही उत्तर का चुनाव करें :

- (1) केवल (A), (D)
- (2) केवल (A), (B)
- (3) केवल (B), (C)
- (4) केवल (C), (D)

Options :

- 212807115545. 1
- 212807115546. 2
- 212807115547. 3
- 212807115548. 4

Question Number : 333 Question Id : 21280728888 Question Type : MCQ Option Shuffling : No Is Question Mandatory : No Calculator : None Response Time : N.A Think Time : N.A Minimum Instruction Time : 0

Correct Marks : 5 Wrong Marks : 1

Question Key Details :

Key	Value
Comprehension	Comp2

Read the passage and answer the question :

The volume of information being gained daily shows how wickedly the salt tax has been designed. In order to prevent the use of salt that has not paid the tax which is at times even fourteen times its value, the Government destroys the salt it cannot sell profitably. Thus it taxes the nation's vital necessity; it prevents the public from manufacturing it and destroys what nature manufactures without effort. No adjective is strong enough for characterising this wicked dog-in-the-manger policy. From various sources I hear tales of such wanton destruction of the nation's property in all parts of India. Maunds if not tons of salt are said to be destroyed on the Konkan coast. The same tale comes from Dandi. Wherever there is likelihood of natural salt being taken away by the people living in the neighbourhood of such areas for their personal use, salt officers are posted for the sole purpose of carrying on destruction. Thus valuable national property is destroyed at national expense and salt taken out of the mouths of the people.

Which of the following is **NOT True** of the speeches given by Gandhi on this March to the seashore ?

- (1) He called upon officials to renounce government employment.
- (2) If you are out for 'Swaraj', you must serve untouchables.
- (3) For 'Swaraj', Hindus, Muslims, Parsis and Sikhs will have to unite.
- (4) You will attain 'Swaraj' merely by repealing of the salt taxes and other taxes.

Options :

- 212807115549. 1
- 212807115550. 2
- 212807115551. 3
- 212807115552. 4

Question Number : 333 Question Id : 21280728888 Question Type : MCQ Option Shuffling : No Is Question Mandatory : No Calculator : None Response Time : N.A Think Time : N.A Minimum Instruction Time : 0 Correct Marks : 5 Wrong Marks : 1

Question Key Details :

Key	Value
Comprehension	Comp2

निम्नलिखित अनुच्छेद को पढ़कर, प्रश्न का उत्तर दीजिए :

प्रतिदिन प्राप्त होने वाली सूचनाओं से पता चलता है कि कैसे अन्यापूर्ण तरीके से नमक के को तैयार किया गया है। बिना कर (जो कभी-कभी नमक के मूल्य का चौदाह गुना तक होता था) अदा किए गए नमक के प्रयोग को रोकने के लिए सरकार उस नमक को, जिससे वह लाभ पर नहीं बेच पाती थी, नष्ट कर देती थी। अतः यह राष्ट्र की अत्यधिक महत्वपूर्ण आवश्यकता पर कर लगाती है ; यह जनता को इसके उत्पादन से रोकती है और प्रकृति ने जिसे बिना किसी श्रम के उत्पादित किया है उसे नष्ट कर देती है। अतः किसी भी वजह से किसी चीज़ को स्वयं प्रयोग न कर पाने तथा अन्य को भी उसका प्रयोग न करने देने तथा ऐसे में उस चीज़ को नष्ट कर देने की इस अन्यायपूर्ण नीति को किसी भी विशेषण द्वारा नहीं बताया जा सकता है। विभिन्न स्रोतों से मैं भारत के सभी भागों में इस राष्ट्र संपत्ति को बेलगम ढंग से नष्ट किए जाने की कहानियाँ सुन रहा हूँ। टनों न सही पर कई मन नमक कोंकण तट पर नष्ट कर दिया गया बताया गया है। दाण्डी से भी इस तरह की बातें पता चली हैं। जहाँ कहीं भी ऐसे क्षेत्रों के आस-पास रहने वाले लोगों द्वारा अपने व्यक्तिगत प्रयोग हेतु प्राकृतिक नमक उठा ले जाने की संभावना दिखती है वहाँ तुरंत अधिकारी नयुक्त के दिए जाते हैं जिनका एकमात्र कार्य विनाश करना होता है। इस प्रकार बहुमूल्य राष्ट्रीय संपदा को राष्ट्रीय खर्च से ही नष्ट किया जाता है और लोगों के मुँह से नमक छीन लिया जाता है।

इस मार्च में समुद्र तट पर गाँधी द्वारा दिए गए भाषण के विषय कौन-सा कथन सत्य नहीं है ?

- (1) उन्होंने अधिकारियों को सरकारी रोजगार की उद्धोषण करने के लिए बुलाया।
- (2) यदि आप 'स्वराज' के लिए जाते हैं, तो आपको अछूतों की सेवा करनी होगी।
- (3) 'स्वराज' के लिए, हिन्दू, मुसलमान, पारसी और सिखों को 'एक' होना होगा।
- (4) केवल नमक कर और करों को हटा देने से तुम 'स्वराज' प्राप्त करोगें।

Options :

212807115549. 1
212807115550. 2
212807115551. 3
212807115552. 4

Question Number : 334 Question Id : 21280728889 Question Type : MCQ Option Shuffling : No Is Question Mandatory : No Calculator : None
Response Time : N.A Think Time : N.A Minimum Instruction Time : 0

Correct Marks : 5 Wrong Marks : 1

Question Key Details :

Key	Value
Comprehension	Comp2

Read the passage and answer the question :

The volume of information being gained daily shows how wickedly the salt tax has been designed. In order to prevent the use of salt that has not paid the tax which is at times even fourteen times its value, the Government destroys the salt it cannot sell profitably. Thus it taxes the nation's vital necessity; it prevents the public from manufacturing it and destroys what nature manufactures without effort. No adjective is strong enough for characterising this wicked dog-in-the-manger policy. From various sources I hear tales of such wanton destruction of the nation's property in all parts of India. Maunds if not tons of salt are said to be destroyed on the Konkan coast. The same tale comes from Dandi. Wherever there is likelihood of natural salt being taken away by the people living in the neighbourhood of such areas for their personal use, salt officers are posted for the sole purpose of carrying on destruction. Thus valuable national property is destroyed at national expense and salt taken out of the mouths of the people.

Which of the following allowed salt manufacture along the coast ?

- (1) First Round Table Conference
- (2) Second Round Table Conference
- (3) Gandhi - Irwin Pact
- (4) Government of India Act, 1935

Options :

212807115553. 1
212807115554. 2
212807115555. 3
212807115556. 4

Question Number : 334 Question Id : 21280728889 Question Type : MCQ Option Shuffling : No Is Question Mandatory : No Calculator : None Response Time : N.A Think Time : N.A Minimum Instruction Time : 0

Correct Marks : 5 Wrong Marks : 1

Question Key Details :

Key	Value
Comprehension	Comp2

निम्नलिखित अनुच्छेद को पढ़कर, प्रश्न का उत्तर दीजिए :

प्रतिदिन प्राप्त होने वाली सूचनाओं से पता चलता है कि कैसे अन्यापूर्ण तरीके से नमक के को तैयार किया गया है। बिना कर (जो कभी-कभी नमक के मूल्य का चौदाह गुना तक होता था) अदा किए गए नमक के प्रयोग को रोकने के लिए सरकार उस नमक को, जिससे वह लाभ पर नहीं बेच पाती थी, नष्ट कर देती थी। अतः यह राष्ट्र की अत्यधिक महत्वपूर्ण आवश्यकता पर कर लगाती है ; यह जनता को इसके उत्पादन से रोकती है और प्रकृति ने जिसे बिना किसी श्रम के उत्पादित किया है उसे नष्ट कर देती है। अतः किसी भी वजह से किसी चीज़ को स्वयं प्रयोग न कर पाने तथा अन्य को भी उसका प्रयोग न करने देने तथा ऐसे में उस चीज़ को नष्ट कर देने की इस अन्यायपूर्ण नीति को किसी भी विशेषण द्वारा नहीं बताया जा सकता है। विभिन्न स्रोतों से मैं भारत के सभी भागों में इस राष्ट्र संपत्ति को बेलगम ढंग से नष्ट किए जाने की कहानियाँ सुन रहा हूँ। टनों न सही पर कई मन नमक कोंकण तट पर नष्ट कर दिया गया बताया गया है। दाण्डी से भी इस तरह की बातें पता चली हैं। जहाँ कहीं भी ऐसे क्षेत्रों के आस-पास रहने वाले लोगों द्वारा अपने व्यक्तिगत प्रयोग हेतु प्राकृतिक नमक उठा ले जाने की संभावना दिखती है वहाँ तुरंत अधिकारी नयुक्त के दिए जाते हैं जिनका एकमात्र कार्य विनाश करना होता है। इस प्रकार बहुमूल्य राष्ट्रीय संपदा को राष्ट्रीय खर्च से ही नष्ट किया जाता है और लोगों के मुँह से नमक छीन लिया जाता है।

निम्न में से किसने समुद्र तट पर नमक उत्पादन को अनुमति दी थी ?

- (1) प्रथम गोल मेज सम्मेलन
- (2) द्वितीय गोल मेज सम्मेलन
- (3) गाँधी-इरविन समझौता
- (4) गवर्नमेंट ऑफ इंडिया एक्ट, 1935

Options :

212807115553. 1
212807115554. 2
212807115555. 3
212807115556. 4

Question Number : 335 Question Id : 21280728890 Question Type : MCQ Option Shuffling : No Is Question Mandatory : No Calculator : None
Response Time : N.A Think Time : N.A Minimum Instruction Time : 0

Correct Marks : 5 Wrong Marks : 1

Question Key Details :

Key	Value
Comprehension	Comp2

Read the passage and answer the question :

The volume of information being gained daily shows how wickedly the salt tax has been designed. In order to prevent the use of salt that has not paid the tax which is at times even fourteen times its value, the Government destroys the salt it cannot sell profitably. Thus it taxes the nation's vital necessity; it prevents the public from manufacturing it and destroys what nature manufactures without effort. No adjective is strong enough for characterising this wicked dog-in-the-manger policy. From various sources I hear tales of such wanton destruction of the nation's property in all parts of India. Maunds if not tons of salt are said to be destroyed on the Konkan coast. The same tale comes from Dandi. Wherever there is likelihood of natural salt being taken away by the people living in the neighbourhood of such areas for their personal use, salt officers are posted for the sole purpose of carrying on destruction. Thus valuable national property is destroyed at national expense and salt taken out of the mouths of the people.

Gandhi had given an advance notice of his "Salt March" to _____.

- (1) Lord Willingdon
- (2) Lord Mountbatten
- (3) Lord Irwin
- (4) Lord Canning

Options :

- 212807115557. 1
- 212807115558. 2
- 212807115559. 3
- 212807115560. 4

Question Number : 335 Question Id : 21280728890 Question Type : MCQ Option Shuffling : No Is Question Mandatory : No Calculator : None Response Time : N.A Think Time : N.A Minimum Instruction Time : 0

Correct Marks : 5 Wrong Marks : 1

Question Key Details :

Key	Value
Comprehension	Comp2

निम्नलिखित अनुच्छेद को पढ़कर, प्रश्न का उत्तर दीजिए :

प्रतिदिन प्राप्त होने वाली सूचनाओं से पता चलता है कि कैसे अन्यापूर्ण तरीके से नमक के को तैयार किया गया है। बिना कर (जो कभी-कभी नमक के मूल्य का चौदाह गुना तक होता था) अदा किए गए नमक के प्रयोग को रोकने के लिए सरकार उस नमक को, जिससे वह लाभ पर नहीं बेच पाती थी, नष्ट कर देती थी। अतः यह राष्ट्र की अत्यधिक महत्वपूर्ण आवश्यकता पर कर लगाती है ; यह जनता को इसके उत्पादन से रोकती है और प्रकृति ने जिसे बिना किसी श्रम के उत्पादित किया है उसे नष्ट कर देती है। अतः किसी भी वजह से किसी चीज़ को स्वयं प्रयोग न कर पाने तथा अन्य को भी उसका प्रयोग न करने देने तथा ऐसे में उस चीज़ को नष्ट कर देने की इस अन्यायपूर्ण नीति को किसी भी विशेषण द्वारा नहीं बताया जा सकता है। विभिन्न स्रोतों से मैं भारत के सभी भागों में इस राष्ट्र संपत्ति को बेलगम ढंग से नष्ट किए जाने की कहानियाँ सुन रहा हूँ। टनों न सही पर कई मन नमक कोंकण तट पर नष्ट कर दिया गया बताया गया है। दाण्डी से भी इस तरह की बातें पता चली हैं। जहाँ कहीं भी ऐसे क्षेत्रों के आस-पास रहने वाले लोगों द्वारा अपने व्यक्तिगत प्रयोग हेतु प्राकृतिक नमक उठा ले जाने की संभावना दिखती है वहाँ तुरंत अधिकारी नयुक्त के दिए जाते हैं जिनका एकमात्र कार्य विनाश करना होता है। इस प्रकार बहुमूल्य राष्ट्रीय संपदा को राष्ट्रीय खर्च से ही नष्ट किया जाता है और लोगों के मुँह से नमक छीन लिया जाता है।

गाँधी ने अपने 'नमक मार्च' की अग्रिम सूचना _____ को दी थी।

- (1) लॉर्ड विलिंगडन
- (2) लॉर्ड माउण्टबैटन
- (3) लॉर्ड इरविन
- (4) लॉर्ड केनिंग

Options :

212807115557. 1
212807115558. 2
212807115559. 3
212807115560. 4

Mass Media

Group Number :	7
Group Id :	212807628
Group Maximum Duration :	45
Group Minimum Duration :	45
Show Attended Group? :	No
Edit Attended Group? :	No
Break time :	0
Group Marks :	200
Is this Group for Examiner? :	No
Examiner permission :	Cant View
Show Progress Bar? :	No

Mass Media

Section Id :	212807734
Section Number :	1
Section type :	Online
Mandatory or Optional :	Mandatory
Number of Questions :	50
Number of Questions to be attempted :	40
Section Marks :	200
Enable Mark as Answered Mark for Review and Clear Response :	Yes
Maximum Instruction Time :	0

Sub-Section Number : 1
Sub-Section Id : 2128072103
Question Shuffling Allowed : Yes
Is Section Default? : null

Question Number : 336 Question Id : 21280728891 Question Type : MCQ Option Shuffling : No Is Question Mandatory : No Calculator : None
Response Time : N.A Think Time : N.A Minimum Instruction Time : 0

Correct Marks : 5 Wrong Marks : 1

Question Key Details :

Key	Value
Comprehension	MCQ

Paper was invented by which country ?

- (1) Germany
- (2) Japan
- (3) China
- (4) Britain

Options :

212807115561. 1
212807115562. 2
212807115563. 3
212807115564. 4

Question Number : 336 Question Id : 21280728891 Question Type : MCQ Option Shuffling : No Is Question Mandatory : No Calculator : None
Response Time : N.A Think Time : N.A Minimum Instruction Time : 0

Correct Marks : 5 Wrong Marks : 1

Question Key Details :

Key	Value
Comprehension	MCQ

किस देश के द्वारा कागज का अविष्कार किया गया ?

- (1) जर्मनी
- (2) जापान
- (3) चीन
- (4) ब्रिटेन

Options :

212807115561. 1
212807115562. 2
212807115563. 3
212807115564. 4

Question Number : 337 Question Id : 21280728892 Question Type : MCQ Option Shuffling : No Is Question Mandatory : No Calculator : None
Response Time : N.A Think Time : N.A Minimum Instruction Time : 0

Correct Marks : 5 Wrong Marks : 1

Question Key Details :

Key	Value
Comprehension	MCQ

SMS Stands for :

- (1) Satellite Message Service
- (2) Short Message Sharing
- (3) Satellite Message Sharing
- (4) Short Message Service

Options :

212807115565. 1
212807115566. 2

212807115567.3
212807115568.4

Question Number : 337 Question Id : 21280728892 Question Type : MCQ Option Shuffling : No Is Question Mandatory : No Calculator : None
Response Time : N.A Think Time : N.A Minimum Instruction Time : 0
Correct Marks : 5 Wrong Marks : 1

Question Key Details :

Key	Value
Comprehension	MCQ

एस. एम. एस. का अर्थ है :

- (1) सेटलाइट मैसेज सर्विस
- (2) शार्ट मैसेज शेयरिंग
- (3) सेटलाइट मैसेज शेयरिंग
- (4) शार्ट मैसेज सर्विस

Options :

212807115565.1
212807115566.2
212807115567.3
212807115568.4

Question Number : 338 Question Id : 21280728893 Question Type : MCQ Option Shuffling : No Is Question Mandatory : No Calculator : None
Response Time : N.A Think Time : N.A Minimum Instruction Time : 0
Correct Marks : 5 Wrong Marks : 1

Question Key Details :

Key	Value
Comprehension	MCQ

The technique used to develop audience flow by grouping together programs with similar appeals is called ?

- (1) Theming
- (2) Stripping
- (3) Bridging
- (4) Stacking

Options :

212807115569.1
212807115570.2
212807115571.3
212807115572.4

Question Number : 338 Question Id : 21280728893 Question Type : MCQ Option Shuffling : No Is Question Mandatory : No Calculator : None
Response Time : N.A Think Time : N.A Minimum Instruction Time : 0
Correct Marks : 5 Wrong Marks : 1

Question Key Details :

Key	Value
Comprehension	MCQ

समरूप अपील वाले कार्यक्रमों को एक साथ समूहीकृत कर के दर्शकों के प्रवाह को विकसित करने के लिए उपयोग की जाने वाली तकनीक कहलाती है :

- (1) रूपरंग
- (2) विपट्टन
- (3) सेतु
- (4) चितीयन

Options :

- 212807115569. 1
- 212807115570. 2
- 212807115571. 3
- 212807115572. 4

Question Number : 339 Question Id : 21280728894 Question Type : MCQ Option Shuffling : No Is Question Mandatory : No Calculator : None Response Time : N.A Think Time : N.A Minimum Instruction Time : 0

Correct Marks : 5 Wrong Marks : 1

Question Key Details :

Key	Value
Comprehension	MCQ

Which of the following statements are correct about Music and Cinema :

- (A) Music can move the story forward through narrative song sequence
- (B) Music adds a diluted aesthetic sense to the scene
- (C) Music can create and sustain a mood
- (D) Music uses sound and silence in a fixed pattern
- (E) Music is an aural and temporal art

Choose the **correct** answer from the options given below :

- (1) (B), (C) and (D) Only
- (2) (A), (D) and (E) Only
- (3) (A), (C) and (E) Only
- (4) (C), (D) and (E) Only

Options :

- 212807115573. 1
- 212807115574. 2
- 212807115575. 3
- 212807115576. 4

Question Number : 339 Question Id : 21280728894 Question Type : MCQ Option Shuffling : No Is Question Mandatory : No Calculator : None Response Time : N.A Think Time : N.A Minimum Instruction Time : 0

Correct Marks : 5 Wrong Marks : 1

Question Key Details :

Key	Value
Comprehension	MCQ

निम्नलिखित में से संगीत और सिनेमा के बारे में कौन सा कथन सही है :

- (A) संगीत कथात्मक गीत क्रम के माध्यम से कहानी को अग्रसर कर सकती है।
- (B) संगीत दृश्य में एक कमजोर सौंदर्य बोध जोड़ती है।
- (C) संगीत भाव को जारी रखता तथा निर्माण कर सकता है।
- (D) संगीत एक निश्चित प्रतिरूप में ध्वनि और शांति का उपयोग करता है।
- (E) संगीत एक श्रव्य और लौकिक कला है।

नीचे दिए गये विकल्पों में से **सही** उत्तर का चयन कीजिए। ?

- (1) केवल (B), (C) और (D)
- (2) केवल (A), (D) और (E)
- (3) केवल (A), (C) और (E)
- (4) केवल (C), (D) और (E)

Options :

212807115573. 1
212807115574. 2
212807115575. 3
212807115576. 4

Question Number : 340 Question Id : 21280728895 Question Type : MCQ Option Shuffling : No Is Question Mandatory : No Calculator : None
Response Time : N.A Think Time : N.A Minimum Instruction Time : 0

Correct Marks : 5 Wrong Marks : 1

Question Key Details :

Key	Value
Comprehension	MCQ

The first soap opera 'Humlog' on Doordarshan was launched by :

- (1) Two-Minute Noodles
- (2) Pepsi
- (3) Surf
- (4) Coke

Options :

212807115577. 1
212807115578. 2
212807115579. 3
212807115580. 4

Question Number : 340 Question Id : 21280728895 Question Type : MCQ Option Shuffling : No Is Question Mandatory : No Calculator : None
Response Time : N.A Think Time : N.A Minimum Instruction Time : 0

Correct Marks : 5 Wrong Marks : 1

Question Key Details :

Key	Value
Comprehension	MCQ

दूरदर्शन पर 'हमलोग' पहला सोप-ओपेरा किसके द्वारा शुरू किया गया ?

- (1) टू-मिनट नूडल्स
- (2) पेप्सी
- (3) सर्फ
- (4) कोक

Options :

212807115577. 1
212807115578. 2
212807115579. 3
212807115580. 4

Question Number : 341 Question Id : 21280728896 Question Type : MCQ Option Shuffling : No Is Question Mandatory : No Calculator : None
Response Time : N.A Think Time : N.A Minimum Instruction Time : 0

Correct Marks : 5 Wrong Marks : 1

Question Key Details :

Key	Value
Comprehension	MCQ

The Internet's primary transmission method is referred to as ?

- (1) Telecast
- (2) Multicast
- (3) Unicast
- (4) Broadcast

Options :

212807115581. 1

212807115582. 2
212807115583. 3
212807115584. 4

Question Number : 341 Question Id : 21280728896 Question Type : MCQ Option Shuffling : No Is Question Mandatory : No Calculator : None
Response Time : N.A Think Time : N.A Minimum Instruction Time : 0

Correct Marks : 5 Wrong Marks : 1

Question Key Details :

Key	Value
Comprehension	MCQ

इंटरनेट की प्राथमिक प्रसारण विधि को किस रूप में संदर्भित किया जाता है ?

- (1) टेलिकास्ट
- (2) मल्टीकास्ट
- (3) युनिकास्ट
- (4) ब्राडकास्ट

Options :

212807115581. 1
212807115582. 2
212807115583. 3
212807115584. 4

Question Number : 342 Question Id : 21280728897 Question Type : MCQ Option Shuffling : No Is Question Mandatory : No Calculator : None
Response Time : N.A Think Time : N.A Minimum Instruction Time : 0

Correct Marks : 5 Wrong Marks : 1

Question Key Details :

Key	Value
Comprehension	MCQ

The full form of SITE is

- (1) Satellite Instruction and Training Experiment
- (2) Satellite Internet Television Experience
- (3) Satellite Instruction and Training for Education
- (4) Satellite Instructional Television Experiment

Options :

212807115585. 1
212807115586. 2
212807115587. 3
212807115588. 4

Question Number : 342 Question Id : 21280728897 Question Type : MCQ Option Shuffling : No Is Question Mandatory : No Calculator : None
Response Time : N.A Think Time : N.A Minimum Instruction Time : 0

Correct Marks : 5 Wrong Marks : 1

Question Key Details :

Key	Value
Comprehension	MCQ

साइट का पूर्ण अर्थ क्या है ?

- (1) सेटेलाइट इंस्ट्रक्शन एंड ट्रेनिंग एक्सपेरिमेंट
- (2) सेटेलाइट इंटरनेट टेलीविजन एक्सपेरिमेंट
- (3) सेटेलाइट इंस्ट्रक्शन एंड ट्रेनिंग फॉर एजुकेशन
- (4) सेटेलाइट इंस्ट्रक्शनल टेलीविजन एक्सपेरिमेंट

Options :

212807115585. 1
212807115586. 2
212807115587. 3
212807115588. 4

Question Number : 343 Question Id : 21280728898 Question Type : MCQ Option Shuffling : No Is Question Mandatory : No Calculator : None
Response Time : N.A Think Time : N.A Minimum Instruction Time : 0

Correct Marks : 5 Wrong Marks : 1

Question Key Details :

Key	Value
Comprehension	MCQ

Match List - I with List - II.

List - I

- (A) Reuters
(B) Eyewitness
(C) Today
(D) The Asian Age

List - II

- (I) Tabloid
(II) News Agency
(III) Broadsheet
(IV) Video News Magazine

Choose the **correct** answer from the options given below :

- (1) (A)-(I), (B)-(II), (C)-(IV), (D)-(III)
(2) (A)-(III), (B)-(II), (C)-(I), (D)-(IV)
(3) (A)-(IV), (B)-(II), (C)-(III), (D)-(I)
(4) (A)-(II), (B)-(IV), (C)-(I), (D)-(III)

Options :

212807115589. 1
212807115590. 2
212807115591. 3
212807115592. 4

Question Number : 343 Question Id : 21280728898 Question Type : MCQ Option Shuffling : No Is Question Mandatory : No Calculator : None
Response Time : N.A Think Time : N.A Minimum Instruction Time : 0

Correct Marks : 5 Wrong Marks : 1

Question Key Details :

Key	Value
Comprehension	MCQ

सूची - I का सूची - II से मिलान किजिए।

सूची - I

- (A) रॉयटर्स
(B) आईवितनेस
(C) टूडे
(D) द एशियन एज

सूची - II

- (I) टैब्लाइड
(II) न्यूज़ एंजेसी
(III) ब्राडशीट
(IV) वीडियो न्यूज़ मैगज़ीन

नीचे दिए गये विकल्पों में से **सही** उत्तर का चयन किजिए :

- (1) (A)-(I), (B)-(II), (C)-(IV), (D)-(III)
(2) (A)-(III), (B)-(II), (C)-(I), (D)-(IV)
(3) (A)-(IV), (B)-(II), (C)-(III), (D)-(I)
(4) (A)-(II), (B)-(IV), (C)-(I), (D)-(III)

Options :

212807115589. 1
212807115590. 2

212807115591.3
212807115592.4

Question Number : 344 Question Id : 21280728899 Question Type : MCQ Option Shuffling : No Is Question Mandatory : No Calculator : None
Response Time : N.A Think Time : N.A Minimum Instruction Time : 0

Correct Marks : 5 Wrong Marks : 1

Question Key Details :

Key	Value
Comprehension	MCQ

'Bournvita Quiz Contest', the popular quiz programme on radio was broadcast by :

- (1) Vividh Bharati
- (2) Radio Ceylon
- (3) Radio Bangladesh
- (4) Radio Pakistan

Options :

212807115593.1
212807115594.2
212807115595.3
212807115596.4

Question Number : 344 Question Id : 21280728899 Question Type : MCQ Option Shuffling : No Is Question Mandatory : No Calculator : None
Response Time : N.A Think Time : N.A Minimum Instruction Time : 0

Correct Marks : 5 Wrong Marks : 1

Question Key Details :

Key	Value
Comprehension	MCQ

'बोर्न विटा क्विज कंटेस्ट' लोकप्रिय प्रश्नोत्तरी कार्यक्रम रेडिओ पर किसके द्वारा प्रसारित किया गया ?

- (1) विविध भारती
- (2) रेडिओ सीलॉन
- (3) रेडिओ बांग्लादेश
- (4) रेडिओ पाकिस्तान

Options :

212807115593.1
212807115594.2
212807115595.3
212807115596.4

Question Number : 345 Question Id : 21280728900 Question Type : MCQ Option Shuffling : No Is Question Mandatory : No Calculator : None
Response Time : N.A Think Time : N.A Minimum Instruction Time : 0

Correct Marks : 5 Wrong Marks : 1

Question Key Details :

Key	Value
Comprehension	MCQ

In a film production budget, the amount spent on the principal creative elements is referred as :

- (1) Studio Budget
- (2) Contingent Budget
- (3) Above the line costs
- (4) Below the line costs

Options :

212807115597.1
212807115598.2
212807115599.3

212807115600.4

Question Number : 345 Question Id : 21280728900 Question Type : MCQ Option Shuffling : No Is Question Mandatory : No Calculator : None
Response Time : N.A Think Time : N.A Minimum Instruction Time : 0

Correct Marks : 5 Wrong Marks : 1

Question Key Details :

Key	Value
Comprehension	MCQ

एक फिल्म निर्माता बजट में, मुख्य सृजनात्मक तत्व पर व्यय की गयी राशि को संदर्भित करता है :

- (1) स्टूडिओ बजट
- (2) आकस्मिक बजट
- (3) रेखा से ऊपर की लागत
- (4) रेखा से नीचे की लागत

Options :

212807115597.1

212807115598.2

212807115599.3

212807115600.4

Question Number : 346 Question Id : 21280728901 Question Type : MCQ Option Shuffling : No Is Question Mandatory : No Calculator : None
Response Time : N.A Think Time : N.A Minimum Instruction Time : 0

Correct Marks : 5 Wrong Marks : 1

Question Key Details :

Key	Value
Comprehension	MCQ

The first doctoral thesis on practices in Journalism entitled 'On News Reporting' in 1690 was submitted to ?

- (1) University of Leipzig
- (2) Harvard University
- (3) University of Columbia
- (4) Oxford University

Options :

212807115601.1

212807115602.2

212807115603.3

212807115604.4

Question Number : 346 Question Id : 21280728901 Question Type : MCQ Option Shuffling : No Is Question Mandatory : No Calculator : None
Response Time : N.A Think Time : N.A Minimum Instruction Time : 0

Correct Marks : 5 Wrong Marks : 1

Question Key Details :

Key	Value
Comprehension	MCQ

1690 में 'ऑन न्यूज रिपोर्टिंग' शीर्षक वाली पत्रकारिता में कार्य प्रणाली पर पहला डाक्टरेट शोध प्रबंध किस विश्वविद्यालय में प्रस्तुत किया गया ?

- (1) लिपज़िग विश्वविद्यालय
- (2) हावर्ड विश्वविद्यालय
- (3) कोलम्बिया विश्वविद्यालय
- (4) आक्सफोर्ड विश्वविद्यालय

Options :

212807115601. 1
212807115602. 2
212807115603. 3
212807115604. 4

**Question Number : 347 Question Id : 21280728902 Question Type : MCQ Option Shuffling : No Is Question Mandatory : No Calculator : None
Response Time : N.A Think Time : N.A Minimum Instruction Time : 0**

Correct Marks : 5 Wrong Marks : 1

Question Key Details :

Key	Value
Comprehension	MCQ

When was Emergency declared for the first time in India after Independence ?

- (1) 1977
- (2) 1978
- (3) 1975
- (4) 1970

Options :

212807115605. 1
212807115606. 2
212807115607. 3
212807115608. 4

**Question Number : 347 Question Id : 21280728902 Question Type : MCQ Option Shuffling : No Is Question Mandatory : No Calculator : None
Response Time : N.A Think Time : N.A Minimum Instruction Time : 0**

Correct Marks : 5 Wrong Marks : 1

Question Key Details :

Key	Value
Comprehension	MCQ

स्वतंत्रता के बाद भारत में पहली बार आपातकाल की घोषणा कब हुई ?

- (1) 1977
- (2) 1978
- (3) 1975
- (4) 1970

Options :

212807115605. 1
212807115606. 2
212807115607. 3
212807115608. 4

**Question Number : 348 Question Id : 21280728903 Question Type : MCQ Option Shuffling : No Is Question Mandatory : No Calculator : None
Response Time : N.A Think Time : N.A Minimum Instruction Time : 0**

Correct Marks : 5 Wrong Marks : 1

Question Key Details :

Key	Value
Comprehension	MCQ

Arrange in a correct sequence the following development in the field of media technology beginning from the first ?

- (A) Television
- (B) Newspapers
- (C) Radio
- (D) Color Tv
- (E) First Live Televised War

Choose the **correct** answer from the options given below :

- (1) (A), (C), (B) (D) (E)
- (2) (B), (E), (A) (C) (D)
- (3) (C), (B), (A) (E) (D)
- (4) (B), (C), (A) (D) (E)

Options :

- 212807115609. 1
- 212807115610. 2
- 212807115611. 3
- 212807115612. 4

Question Number : 348 Question Id : 21280728903 Question Type : MCQ Option Shuffling : No Is Question Mandatory : No Calculator : None Response Time : N.A Think Time : N.A Minimum Instruction Time : 0

Correct Marks : 5 Wrong Marks : 1

Question Key Details :

Key	Value
Comprehension	MCQ

पहले से शुरू करते हुए, मीडिया तकनीकों के क्षेत्र में हुए विकास को सही क्रम में व्यवस्थित करें :

- (A) टेलिविजन
- (B) समाचारपत्र
- (C) रेडिओ
- (D) कलर टीवी
- (E) प्रथम सीधा प्रसारित युद्ध

नीचे दिए गये विकल्पों में से सही उत्तर का चयन कीजिए :

- (1) (A), (C), (B) (D) (E)
- (2) (B), (E), (A) (C) (D)
- (3) (C), (B), (A) (E) (D)
- (4) (B), (C), (A) (D) (E)

Options :

- 212807115609. 1
- 212807115610. 2
- 212807115611. 3
- 212807115612. 4

Question Number : 349 Question Id : 21280728904 Question Type : MCQ Option Shuffling : No Is Question Mandatory : No Calculator : None Response Time : N.A Think Time : N.A Minimum Instruction Time : 0

Correct Marks : 5 Wrong Marks : 1

Question Key Details :

Key	Value
Comprehension	MCQ

Prabhat Studio was located in :

- (1) Pune
- (2) Calcutta
- (3) Bombay
- (4) Delhi

Options :

212807115613. 1
212807115614. 2
212807115615. 3
212807115616. 4

Question Number : 349 Question Id : 21280728904 Question Type : MCQ Option Shuffling : No Is Question Mandatory : No Calculator : None
Response Time : N.A Think Time : N.A Minimum Instruction Time : 0

Correct Marks : 5 Wrong Marks : 1

Question Key Details :

Key	Value
Comprehension	MCQ

प्रभात स्टूडिओ कहां पर स्थित है :

- (1) पुणे
- (2) कलकत्ता
- (3) बंबई
- (4) दिल्ली

Options :

212807115613. 1
212807115614. 2
212807115615. 3
212807115616. 4

Question Number : 350 Question Id : 21280728905 Question Type : MCQ Option Shuffling : No Is Question Mandatory : No Calculator : None
Response Time : N.A Think Time : N.A Minimum Instruction Time : 0

Correct Marks : 5 Wrong Marks : 1

Question Key Details :

Key	Value
Comprehension	MCQ

Identify the function / purposes of advertising from the following options :

- (A) It re-introduces a product in the media
- (B) It sustains interest in an existing brand
- (C) It blurs the distinction of a product from its competitors
- (D) It affects new demand
- (E) It limits the sales of a product

Choose the correct answer from the options given below :

- (1) (A), (B) and (C) Only
- (2) (B) Only
- (3) (C) and (D) Only
- (4) (C) and (E) only

Options :

212807115617. 1
212807115618. 2
212807115619. 3

Question Number : 350 Question Id : 21280728905 Question Type : MCQ Option Shuffling : No Is Question Mandatory : No Calculator : None
Response Time : N.A Think Time : N.A Minimum Instruction Time : 0

Correct Marks : 5 Wrong Marks : 1

Question Key Details :

Key	Value
Comprehension	MCQ

विज्ञापन की प्रणाली के उद्देश्य / कार्य को निम्नलिखित में से पहचान करें ।

- (A) यह मीडिया में एक उत्पाद का फिर से परिचय करवाता है।
- (B) यह एक मौजूदा ब्रांड में रूचि बनाए रखता है।
- (C) यह किसी उत्पाद की विशिष्टता को उसके प्रतिस्पर्धियों से धुंधला कर देता है।
- (D) यह नई मांग को प्रभावित करता है।
- (E) यह किसी उत्पाद की बिक्री को सीमित कर देता है।

नीचे दिए गये विकल्पों में से सही उत्तर का चयन कीजिए :

- (1) केवल (A), (B) और (C)
- (2) केवल (B)
- (3) केवल (C) और (D)
- (4) केवल (C) और (E)

Options :

- 212807115617. 1
- 212807115618. 2
- 212807115619. 3
- 212807115620. 4

Question Number : 351 Question Id : 21280728906 Question Type : MCQ Option Shuffling : No Is Question Mandatory : No Calculator : None
Response Time : N.A Think Time : N.A Minimum Instruction Time : 0

Correct Marks : 5 Wrong Marks : 1

Question Key Details :

Key	Value
Comprehension	MCQ

Who among the following believes that democracy and associated political freedom are significant parts of human freedom ?

- (1) Mark Denze
- (2) Amartya Sen
- (3) Majid Tehrarian
- (4) Jai Shiv Shankar

Options :

- 212807115621. 1
- 212807115622. 2
- 212807115623. 3
- 212807115624. 4

Question Number : 351 Question Id : 21280728906 Question Type : MCQ Option Shuffling : No Is Question Mandatory : No Calculator : None
Response Time : N.A Think Time : N.A Minimum Instruction Time : 0

Correct Marks : 5 Wrong Marks : 1

Question Key Details :

Key	Value
Comprehension	MCQ

लोकतंत्र और सम्बन्धित राजनीतिक स्वतंत्रता, मानव स्वतंत्रता का महत्वपूर्ण हिस्सा है, निम्नलिखित में से किसका मानना है ?

- (1) मार्क डेंज
- (2) अमर्त्य सेन
- (3) माजिद तेहरानियन
- (4) जय शिवशंकर

Options :

212807115621. 1
212807115622. 2
212807115623. 3
212807115624. 4

Question Number : 352 Question Id : 21280728907 Question Type : MCQ Option Shuffling : No Is Question Mandatory : No Calculator : None Response Time : N.A Think Time : N.A Minimum Instruction Time : 0

Correct Marks : 5 Wrong Marks : 1

Question Key Details :

Key	Value
Comprehension	MCQ

The first website was built by ?

- (1) Erich von Strohiem
- (2) Eric Meyers
- (3) Ang Lee
- (4) Tim Berners-Lee

Options :

212807115625. 1
212807115626. 2
212807115627. 3
212807115628. 4

Question Number : 352 Question Id : 21280728907 Question Type : MCQ Option Shuffling : No Is Question Mandatory : No Calculator : None Response Time : N.A Think Time : N.A Minimum Instruction Time : 0

Correct Marks : 5 Wrong Marks : 1

Question Key Details :

Key	Value
Comprehension	MCQ

प्रथम वेबसाइट का निर्माण किसके द्वारा किया गया ?

- (1) एरिक वॉन स्ट्रोहीम
- (2) एरिक मेयर्स
- (3) आंग ली
- (4) टिम बर्नर्स-ली

Options :

212807115625. 1
212807115626. 2
212807115627. 3
212807115628. 4

Question Number : 353 Question Id : 21280728908 Question Type : MCQ Option Shuffling : No Is Question Mandatory : No Calculator : None Response Time : N.A Think Time : N.A Minimum Instruction Time : 0

Correct Marks : 5 Wrong Marks : 1

Question Key Details :

Key	Value
-----	-------

From the following options, identify the investigative story which had an impact on the society :

- (1) The Story of Kamla
- (2) Geeta and Seeta
- (3) The Jodhpur Wedding
- (4) The Story of Queen Elizabeth

Options :

212807115629. 1
212807115630. 2
212807115631. 3
212807115632. 4

Question Number : 353 Question Id : 21280728908 Question Type : MCQ Option Shuffling : No Is Question Mandatory : No Calculator : None Response Time : N.A Think Time : N.A Minimum Instruction Time : 0

Correct Marks : 5 Wrong Marks : 1

Question Key Details :

Key	Value
Comprehension	MCQ

निम्नलिखित विकल्पों में से, वह कौन सी खोजी कहानी है, जिसका प्रभाव समाज पर पड़ा :

- (1) द स्टोरी ऑफ कमला
- (2) गीता और सीता
- (3) द जोधपुर वेडिंग
- (4) द स्टोरी ऑफ क्वीन एलिजाबेथ

Options :

212807115629. 1
212807115630. 2
212807115631. 3
212807115632. 4

Question Number : 354 Question Id : 21280728909 Question Type : MCQ Option Shuffling : No Is Question Mandatory : No Calculator : None Response Time : N.A Think Time : N.A Minimum Instruction Time : 0

Correct Marks : 5 Wrong Marks : 1

Question Key Details :

Key	Value
Comprehension	MCQ

Arrange the following tasks /activities in a chronological order of the pre-shooting stage in films :

- (A) Budgeting & Acquiring finances
- (B) Casting Actors
- (C) Finalizing the Technical and Production Team
- (D) Planning a Time and Schedule of the Shooting
- (E) Writing the Script

Choose the **correct** answer from the options given below :

- (1) (A), (E), (B), (D), (C)
- (2) (E), (A), (B), (C), (D)
- (3) (B), (E), (A), (D), (C)
- (4) (D), (B),(E),(C), (A)

Options :

212807115633. 1
212807115634. 2

212807115635. 3

212807115636. 4

Question Number : 354 Question Id : 21280728909 Question Type : MCQ Option Shuffling : No Is Question Mandatory : No Calculator : None
Response Time : N.A Think Time : N.A Minimum Instruction Time : 0

Correct Marks : 5 Wrong Marks : 1

Question Key Details :

Key	Value
Comprehension	MCQ

फिल्मों में (शूटिंग पूर्व अवस्था के) कार्य/गतिविधियों को कालानुक्रम के अनुसार व्यवस्थित करें :

- (A) बजट तैयार करना और वित्त जुटाना
- (B) अभिनेता का चयन
- (C) तकनीकी और निर्माता समूह को अंतिम रूप देना
- (D) शूटिंग के अनूसूची और समय की योजना बनाना
- (E) पटकथा लिखना

नीचे दिए गये विकल्पों में से सही उत्तर का चयन कीजिए :

- (1) (A), (E), (B), (D), (C)
- (2) (E), (A), (B), (C), (D)
- (3) (B), (E), (A), (D), (C)
- (4) (D), (B),(E),(C), (A)

Options :

212807115633. 1

212807115634. 2

212807115635. 3

212807115636. 4

Question Number : 355 Question Id : 21280728910 Question Type : MCQ Option Shuffling : No Is Question Mandatory : No Calculator : None
Response Time : N.A Think Time : N.A Minimum Instruction Time : 0

Correct Marks : 5 Wrong Marks : 1

Question Key Details :

Key	Value
Comprehension	MCQ

The term Scoop is related to _____ :

- (1) Feature
- (2) Film
- (3) Song
- (4) News

Options :

212807115637. 1

212807115638. 2

212807115639. 3

212807115640. 4

Question Number : 355 Question Id : 21280728910 Question Type : MCQ Option Shuffling : No Is Question Mandatory : No Calculator : None
Response Time : N.A Think Time : N.A Minimum Instruction Time : 0

Correct Marks : 5 Wrong Marks : 1

Question Key Details :

Key	Value
Comprehension	MCQ

'स्कूप' शब्द _____ से सम्बंधित है :

- (1) फ़ीचर
- (2) फिल्म
- (3) गीत
- (4) न्यूज़

Options :

212807115637. 1
212807115638. 2
212807115639. 3
212807115640. 4

Question Number : 356 Question Id : 21280728911 Question Type : MCQ Option Shuffling : No Is Question Mandatory : No Calculator : None
Response Time : N.A Think Time : N.A Minimum Instruction Time : 0

Correct Marks : 5 Wrong Marks : 1

Question Key Details :

Key	Value
Comprehension	MCQ

Who played the famous role of Gabbar Singh in the film 'Sholay' ?

- (1) Amjad Khan
- (2) Akshay Kumar
- (3) Amrish Puri
- (4) Paresh Raval

Options :

212807115641. 1
212807115642. 2
212807115643. 3
212807115644. 4

Question Number : 356 Question Id : 21280728911 Question Type : MCQ Option Shuffling : No Is Question Mandatory : No Calculator : None
Response Time : N.A Think Time : N.A Minimum Instruction Time : 0

Correct Marks : 5 Wrong Marks : 1

Question Key Details :

Key	Value
Comprehension	MCQ

फिल्म 'शोले' में गब्बर सिंह की लोकप्रिय भूमिका किसने अदा की ?

- (1) अमजद खान
- (2) अक्षय कुमार
- (3) अमरीश पुरी
- (4) परेश रावल

Options :

212807115641. 1
212807115642. 2
212807115643. 3
212807115644. 4

Question Number : 357 Question Id : 21280728912 Question Type : MCQ Option Shuffling : No Is Question Mandatory : No Calculator : None
Response Time : N.A Think Time : N.A Minimum Instruction Time : 0

Correct Marks : 5 Wrong Marks : 1

Question Key Details :

Key	Value
-----	-------

RECCE is done for :

- (1) Planing camera angles
- (2) Actor schedule management
- (3) Planning for equipment
- (4) Hunt for location to shoot

Options :

212807115645. 1
212807115646. 2
212807115647. 3
212807115648. 4

Question Number : 357 Question Id : 21280728912 Question Type : MCQ Option Shuffling : No Is Question Mandatory : No Calculator : None Response Time : N.A Think Time : N.A Minimum Instruction Time : 0

Correct Marks : 5 Wrong Marks : 1

Question Key Details :

Key	Value
Comprehension	MCQ

रेकी _____ के लिए किया जाता है।

- (1) कैमरे के कोण की योजना
- (2) अभिनेता के दिनचर्या का प्रबंधन
- (3) यंत्र के लिए योजना
- (4) शूटिंग स्थल के लिए खोज

Options :

212807115645. 1
212807115646. 2
212807115647. 3
212807115648. 4

Question Number : 358 Question Id : 21280728913 Question Type : MCQ Option Shuffling : No Is Question Mandatory : No Calculator : None Response Time : N.A Think Time : N.A Minimum Instruction Time : 0

Correct Marks : 5 Wrong Marks : 1

Question Key Details :

Key	Value
Comprehension	MCQ

Who introduced the present norm of 30-Minute Radio play on AIR ?

- (1) Lionel Fielden
- (2) Sardar Vallabhbhai Patel
- (3) Ambika Soni
- (4) Sushma Swaraj

Options :

212807115649. 1
212807115650. 2
212807115651. 3
212807115652. 4

Question Number : 358 Question Id : 21280728913 Question Type : MCQ Option Shuffling : No Is Question Mandatory : No Calculator : None Response Time : N.A Think Time : N.A Minimum Instruction Time : 0

Correct Marks : 5 Wrong Marks : 1

Question Key Details :

Key	Value
Comprehension	MCQ

किसने ए आई आर(AIR) पर 30 मिनट के रेडिओ नाटक के वर्तमान नियम से परिचय कराया ?

- (1) लियोनेल फिल्डेन
- (2) सरदार वल्लभभाई पटेल
- (3) अम्बिका सोनी
- (4) सुषमा स्वराज

Options :

212807115649. 1
212807115650. 2
212807115651. 3
212807115652. 4

Question Number : 359 Question Id : 21280728914 Question Type : MCQ Option Shuffling : No Is Question Mandatory : No Calculator : None Response Time : N.A Think Time : N.A Minimum Instruction Time : 0

Correct Marks : 5 Wrong Marks : 1

Question Key Details :

Key	Value
Comprehension	MCQ

Eight colum spread headline is called ?

- (1) Banner
- (2) Flush
- (3) Cross line
- (4) Inverted Pyramid

Options :

212807115653. 1
212807115654. 2
212807115655. 3
212807115656. 4

Question Number : 359 Question Id : 21280728914 Question Type : MCQ Option Shuffling : No Is Question Mandatory : No Calculator : None Response Time : N.A Think Time : N.A Minimum Instruction Time : 0

Correct Marks : 5 Wrong Marks : 1

Question Key Details :

Key	Value
Comprehension	MCQ

आठ स्तम्भ विस्तार सुर्खियो को कहा जाता है :

- (1) बैनर
- (2) फ्लश
- (3) क्रॉस लाइन
- (4) उल्टा पिरामिड

Options :

212807115653. 1
212807115654. 2
212807115655. 3
212807115656. 4

Question Number : 360 Question Id : 21280728915 Question Type : MCQ Option Shuffling : No Is Question Mandatory : No Calculator : None Response Time : N.A Think Time : N.A Minimum Instruction Time : 0

Correct Marks : 5 Wrong Marks : 1

Question Key Details :

Key	Value
-----	-------

Identify the first Hindi Newspapers from the following options :

- (1) Punjab Kesari
- (2) Dainik Bhaskar
- (3) Udant Martand
- (4) Hindustan

Options :

212807115657. 1
212807115658. 2
212807115659. 3
212807115660. 4

Question Number : 360 Question Id : 21280728915 Question Type : MCQ Option Shuffling : No Is Question Mandatory : No Calculator : None Response Time : N.A Think Time : N.A Minimum Instruction Time : 0

Correct Marks : 5 Wrong Marks : 1

Question Key Details :

Key	Value
Comprehension	MCQ

निम्नलिखित विकल्पों में से प्रथम हिन्दी समाचार पत्र की पहचान करें ।

- (1) पंजाब केसरी
- (2) दैनिक भास्कर
- (3) उदंत मार्तण्ड
- (4) हिन्दुस्तान

Options :

212807115657. 1
212807115658. 2
212807115659. 3
212807115660. 4

Question Number : 361 Question Id : 21280728916 Question Type : MCQ Option Shuffling : No Is Question Mandatory : No Calculator : None Response Time : N.A Think Time : N.A Minimum Instruction Time : 0

Correct Marks : 5 Wrong Marks : 1

Question Key Details :

Key	Value
Comprehension	MCQ

Match List - I with List - II.

List - I

List - II

- | | |
|-----------------------|--------------------|
| (A) Times of India | (I) Aaj Tak |
| (B) India Today Group | (II) Big FM |
| (C) ADAG | (III) Radio Mirchi |
| (D) Dainik Bhaskar | (IV) DNA |

Choose the correct answer from the options given below :

- (1) (A)-(I), (B)-(II), (C)-(III), (D)-(IV)
- (2) (A)-(III), (B)-(I), (C)-(II), (D)-(IV)
- (3) (A)-(III), (B)-(II), (C)-(I), (D)-(IV)
- (4) (A)-(IV), (B)-(III), (C)-(I), (D)-(II)

Options :

212807115661. 1
212807115662. 2

212807115663. 3

212807115664. 4

Question Number : 361 Question Id : 21280728916 Question Type : MCQ Option Shuffling : No Is Question Mandatory : No Calculator : None
Response Time : N.A Think Time : N.A Minimum Instruction Time : 0

Correct Marks : 5 Wrong Marks : 1

Question Key Details :

Key	Value
Comprehension	MCQ

सूची - I का सूची - II से मिलान किजिए :

सूची - I

सूची - II

- | | |
|-----------------------|--------------------|
| (A) टाइम्स ऑफ इंडिया | (I) आजतक |
| (B) इंडिया टूडे ग्रुप | (II) बिग एफएम |
| (C) ए.डी.ए.जी. | (III) रेडिओ मिर्ची |
| (D) दैनिक भास्कर | (IV) डी.एन.ए. |

नीचे दिए गए विकल्पों में से सही उत्तर का चयन कीजिए:

- (1) (A)-(I), (B)-(II), (C)-(III), (D)-(IV)
- (2) (A)-(III), (B)-(I), (C)-(II), (D)-(IV)
- (3) (A)-(III), (B)-(II), (C)-(I), (D)-(IV)
- (4) (A)-(IV), (B)-(III), (C)-(I), (D)-(II)

Options :

212807115661. 1

212807115662. 2

212807115663. 3

212807115664. 4

Question Number : 362 Question Id : 21280728917 Question Type : MCQ Option Shuffling : No Is Question Mandatory : No Calculator : None
Response Time : N.A Think Time : N.A Minimum Instruction Time : 0

Correct Marks : 5 Wrong Marks : 1

Question Key Details :

Key	Value
Comprehension	MCQ

Match List - I with List - II.

List - I

List - II

- | | |
|---------------------|------------------------------|
| (A) Harold Laswell | (I) Two-step Flow |
| (B) Elihu Katz | (II) Mass Audience |
| (C) Paul Lazarsfeld | (III) Hypodermic Needle |
| (D) Herbert Blumer | (IV) Uses and Gratifications |

Choose the correct answer from the options given below :

- (1) (A)-(III), (B)-(IV), (C)-(I), (D)-(II)
- (2) (A)-(IV), (B)-(III), (C)-(II), (D)-(I)
- (3) (A)-(III), (B)-(II), (C)-(IV), (D)-(I)
- (4) (A)-(I), (B)-(II), (C)-(III), (D)-(IV)

Options :

212807115665. 1

212807115666. 2

212807115667. 3

212807115668. 4

Question Number : 362 Question Id : 21280728917 Question Type : MCQ Option Shuffling : No Is Question Mandatory : No Calculator : None
Response Time : N.A Think Time : N.A Minimum Instruction Time : 0

Correct Marks : 5 Wrong Marks : 1

Question Key Details :

Key	Value
Comprehension	MCQ

सूची - I का सूची - II से मिलान किजिए :

सूची - I

सूची - II

- | | |
|--------------------|------------------------|
| (A) हेरोल्ड लासवेल | (I) द्वि-चरण प्रवाह |
| (B) एलिहु काटज | (II) दर्शक समूह |
| (C) पॉल लेजरफेल्ड | (III) हाइपोडर्मिक सुई |
| (D) हर्बर्ट ब्लूमर | (IV) उपयोग और संतुष्टि |

नीचे दिए गए विकल्पों में से सही उत्तर का चयन कीजिए:

- (1) (A)-(III), (B)-(IV), (C)-(I), (D)-(II)
- (2) (A)-(IV), (B)-(III), (C)-(II), (D)-(I)
- (3) (A)-(III), (B)-(II), (C)-(IV), (D)-(I)
- (4) (A)-(I), (B)-(II), (C)-(III), (D)-(IV)

Options :

212807115665. 1

212807115666. 2

212807115667. 3

212807115668. 4

Question Number : 363 Question Id : 21280728918 Question Type : MCQ Option Shuffling : No Is Question Mandatory : No Calculator : None
Response Time : N.A Think Time : N.A Minimum Instruction Time : 0

Correct Marks : 5 Wrong Marks : 1

Question Key Details :

Key	Value
Comprehension	MCQ

The popular book 'Film Form' which summarizes the relationship between cinema and other arts is written by :

- (1) David Siler
- (2) Anton Chekhov
- (3) Sergei Mikhailovich Eisenstein
- (4) Walter Hill

Options :

212807115669. 1

212807115670. 2

212807115671. 3

212807115672. 4

Question Number : 363 Question Id : 21280728918 Question Type : MCQ Option Shuffling : No Is Question Mandatory : No Calculator : None
Response Time : N.A Think Time : N.A Minimum Instruction Time : 0

Correct Marks : 5 Wrong Marks : 1

Question Key Details :

Key	Value
Comprehension	MCQ

लोकप्रिय किताब 'फिल्म फार्म' जो सिनेमा और अन्य कलाओं के सम्बन्ध को सारांशित करती है किसके द्वारा लिखी गयी है :

- (1) डेविड सिलर
- (2) एंटोन चेखोव
- (3) सरगई मिखालिओविच आइजंस्टीन
- (4) वाल्टर हिल्

Options :

212807115669. 1
212807115670. 2
212807115671. 3
212807115672. 4

Question Number : 364 Question Id : 21280728919 Question Type : MCQ Option Shuffling : No Is Question Mandatory : No Calculator : None Response Time : N.A Think Time : N.A Minimum Instruction Time : 0

Correct Marks : 5 Wrong Marks : 1

Question Key Details :

Key	Value
Comprehension	MCQ

Match List - I with List - II.

List - I

List - II

- | | |
|----------------------|------------------|
| (A) Bernard Herrmann | (I) Bandini |
| (B) John Barry | (II) Psycho |
| (C) Maurice Jarre | (III) James Bond |
| (D) S.D. Burman | (IV) Dr. Zhivago |

Choose the **correct** answer from the options given below :

- (1) (A)-(I), (B)-(IV), (C)-(II), (D)-(III)
- (2) (A)-(II), (B)-(III), (C)-(IV), (D)-(I)
- (3) (A)-(III), (B)-(IV), (C)-(I), (D)-(II)
- (4) (A)-(IV), (B)-(III), (C)-(II), (D)-(I)

Options :

212807115673. 1
212807115674. 2
212807115675. 3
212807115676. 4

Question Number : 364 Question Id : 21280728919 Question Type : MCQ Option Shuffling : No Is Question Mandatory : No Calculator : None Response Time : N.A Think Time : N.A Minimum Instruction Time : 0

Correct Marks : 5 Wrong Marks : 1

Question Key Details :

Key	Value
Comprehension	MCQ

सूची - I का सूची - II से मिलान किजिए :

सूची - I	सूची - II
(A) बर्नार्ड हरमैन	(I) बंदिनी
(B) जान बॅरी	(II) साइको
(C) मोरिस जैरे	(III) जेम्स बांड
(D) एस.डी.बर्मन	(IV) डॉ. जीवागो

नीचे दिए गए विकल्पों में से सही उत्तर का चयन कीजिए:

- (1) (A)-(I), (B)-(IV), (C)-(II), (D)-(III)
- (2) (A)-(II), (B)-(III), (C)-(IV), (D)-(I)
- (3) (A)-(III), (B)-(IV), (C)-(I), (D)-(II)
- (4) (A)-(IV), (B)-(III), (C)-(II), (D)-(I)

Options :

212807115673. 1
212807115674. 2
212807115675. 3
212807115676. 4

Question Number : 365 Question Id : 21280728920 Question Type : MCQ Option Shuffling : No Is Question Mandatory : No Calculator : None
Response Time : N.A Think Time : N.A Minimum Instruction Time : 0

Correct Marks : 5 Wrong Marks : 1

Question Key Details :

Key	Value
Comprehension	MCQ

Which of the following newspapers is an example of the Tabloid Newspaper ?

- (1) Indian Express
- (2) Mint
- (3) The Caravan
- (4) Today

Options :

212807115677. 1
212807115678. 2
212807115679. 3
212807115680. 4

Question Number : 365 Question Id : 21280728920 Question Type : MCQ Option Shuffling : No Is Question Mandatory : No Calculator : None
Response Time : N.A Think Time : N.A Minimum Instruction Time : 0

Correct Marks : 5 Wrong Marks : 1

Question Key Details :

Key	Value
Comprehension	MCQ

निम्नलिखित समाचारपत्रों में से कौन सा टैब्लाइड समाचारपत्र का उदाहरण है ?

- (1) इंडियन एक्सप्रेस
- (2) मिंट
- (3) द कारवां
- (4) टूडे

Options :

212807115677. 1

212807115678. 2
212807115679. 3
212807115680. 4

Question Number : 366 Question Id : 21280728921 Question Type : MCQ Option Shuffling : No Is Question Mandatory : No Calculator : None
Response Time : N.A Think Time : N.A Minimum Instruction Time : 0

Correct Marks : 5 Wrong Marks : 1

Question Key Details :

Key	Value
Comprehension	MCQ

“OTT” stands for ?

- (1) Over the Television
- (2) Over the Top
- (3) Other than Television
- (4) Over the Telephone

Options :

212807115681. 1
212807115682. 2
212807115683. 3
212807115684. 4

Question Number : 366 Question Id : 21280728921 Question Type : MCQ Option Shuffling : No Is Question Mandatory : No Calculator : None
Response Time : N.A Think Time : N.A Minimum Instruction Time : 0

Correct Marks : 5 Wrong Marks : 1

Question Key Details :

Key	Value
Comprehension	MCQ

ओटीटी (OTT) का अर्थ है :

- (1) ओवर द टेलीविज़न
- (2) ओवर द टॉप
- (3) अंदर देंन टेलीविज़न
- (4) ओवर द टेलीफ़ोन

Options :

212807115681. 1
212807115682. 2
212807115683. 3
212807115684. 4

Question Number : 367 Question Id : 21280728922 Question Type : MCQ Option Shuffling : No Is Question Mandatory : No Calculator : None
Response Time : N.A Think Time : N.A Minimum Instruction Time : 0

Correct Marks : 5 Wrong Marks : 1

Question Key Details :

Key	Value
Comprehension	MCQ

In which year were Doordarshan services extended to Mumbai and Amritsar ?

- (1) 1974
- (2) 1975
- (3) 1966
- (4) 1967

Options :

212807115685. 1
212807115686. 2

212807115687.3
212807115688.4

Question Number : 367 Question Id : 21280728922 Question Type : MCQ Option Shuffling : No Is Question Mandatory : No Calculator : None
Response Time : N.A Think Time : N.A Minimum Instruction Time : 0

Correct Marks : 5 Wrong Marks : 1

Question Key Details :

Key	Value
Comprehension	MCQ

किस वर्ष में दूरदर्शन की सेवाएँ मुम्बई और अमृतसर में भी विस्तारित की गयी ?

- (1) 1974
- (2) 1975
- (3) 1966
- (4) 1967

Options :

212807115685.1
212807115686.2
212807115687.3
212807115688.4

Question Number : 368 Question Id : 21280728923 Question Type : MCQ Option Shuffling : No Is Question Mandatory : No Calculator : None
Response Time : N.A Think Time : N.A Minimum Instruction Time : 0

Correct Marks : 5 Wrong Marks : 1

Question Key Details :

Key	Value
Comprehension	MCQ

Which of the following statements about films and their directors is/are correct ?

- (A) 'Rabindranath Tagore' is directed by Shyam Bengal
- (B) 'Charulata' is directed by K.Asif
- (C) 'Aparajita' is directed by Kundan Shah
- (D) 'Gabhriha Paus' is directed by Satish Manwar
- (E) 'Framework of Famine' is directed by Pratap Sharma

Choose the correct answer from the options given below :

- (1) (A), (B) and (C) Only
- (2) (B), (C) and (D) Only
- (3) (D) and (E) Only
- (4) (A) and (D) Only

Options :

212807115689.1
212807115690.2
212807115691.3
212807115692.4

Question Number : 368 Question Id : 21280728923 Question Type : MCQ Option Shuffling : No Is Question Mandatory : No Calculator : None
Response Time : N.A Think Time : N.A Minimum Instruction Time : 0

Correct Marks : 5 Wrong Marks : 1

Question Key Details :

Key	Value
Comprehension	MCQ

फिल्मों और उनके निर्देशकों के बारे में निम्नलिखित में से कौन सा/से कथन सही है/हैं ?

- (A) रविद्रनाथ टैगोर का निर्देशन श्याम बेनेगल के द्वारा किया गया
- (B) चारूलता का निर्देशन के. आसिफ के द्वारा किया गया
- (C) अपराजिता का निर्देशन कुंदन शाह के द्वारा किया गया
- (D) गाभरीचा पाउस का निर्देशन सतिश मानवर के द्वारा किया गया
- (E) फ्रेमवर्क ऑफ फेमाइन का निर्देशन प्रताप शर्मा के द्वारा किया गया

नीचे दिए गए विकल्पों में से सही उत्तर का चयन कीजिए:

- (1) केवल (A), (B) और (C)
- (2) केवल (B), (C) और (D)
- (3) केवल (D) और (E)
- (4) केवल (A) और (D)

Options :

- 212807115689. 1
- 212807115690. 2
- 212807115691. 3
- 212807115692. 4

Question Number : 369 Question Id : 21280728924 Question Type : MCQ Option Shuffling : No Is Question Mandatory : No Calculator : None Response Time : N.A Think Time : N.A Minimum Instruction Time : 0

Correct Marks : 5 Wrong Marks : 1

Question Key Details :

Key	Value
Comprehension	MCQ

Berliner is a type of :

- (1) Radio Programme
- (2) TV Programme
- (3) Cinema
- (4) Newspaper Format

Options :

- 212807115693. 1
- 212807115694. 2
- 212807115695. 3
- 212807115696. 4

Question Number : 369 Question Id : 21280728924 Question Type : MCQ Option Shuffling : No Is Question Mandatory : No Calculator : None Response Time : N.A Think Time : N.A Minimum Instruction Time : 0

Correct Marks : 5 Wrong Marks : 1

Question Key Details :

Key	Value
Comprehension	MCQ

बर्लिनर एक प्रकार का है :

- (1) रेडिओ कार्यक्रम
- (2) टीवी कार्यक्रम
- (3) सिनेमा
- (4) समाचार प्रतिरूप

Options :

212807115693. 1
212807115694. 2
212807115695. 3
212807115696. 4

Question Number : 370 Question Id : 21280728925 Question Type : MCQ Option Shuffling : No Is Question Mandatory : No Calculator : None Response Time : N.A Think Time : N.A Minimum Instruction Time : 0

Correct Marks : 5 Wrong Marks : 1

Question Key Details :

Key	Value
Comprehension	MCQ

Which of the following is a category of websites ?

- (1) Static
- (2) Java
- (3) JPEG
- (4) Compuserve

Options :

212807115697. 1
212807115698. 2
212807115699. 3
212807115700. 4

Question Number : 370 Question Id : 21280728925 Question Type : MCQ Option Shuffling : No Is Question Mandatory : No Calculator : None Response Time : N.A Think Time : N.A Minimum Instruction Time : 0

Correct Marks : 5 Wrong Marks : 1

Question Key Details :

Key	Value
Comprehension	MCQ

निम्नलिखित में से कौनसा एक वेबसाइटों के वर्गीकरण का रूप है ?

- (1) स्टैटिक
- (2) जावा
- (3) जय-पेग
- (4) कम्प्यूसर्व

Options :

212807115697. 1
212807115698. 2
212807115699. 3
212807115700. 4

Question Number : 371 Question Id : 21280728926 Question Type : MCQ Option Shuffling : No Is Question Mandatory : No Calculator : None Response Time : N.A Think Time : N.A Minimum Instruction Time : 0

Correct Marks : 5 Wrong Marks : 1

Question Key Details :

Key	Value
Comprehension	MCQ

Vividh Bharti is A :

- (1) TV Service
- (2) Radio Service
- (3) Newspaper
- (4) Magazine

Options :

212807115701. 1

212807115702. 2
212807115703. 3
212807115704. 4

Question Number : 371 Question Id : 21280728926 Question Type : MCQ Option Shuffling : No Is Question Mandatory : No Calculator : None
Response Time : N.A Think Time : N.A Minimum Instruction Time : 0

Correct Marks : 5 Wrong Marks : 1

Question Key Details :

Key	Value
Comprehension	MCQ

विविध भारती एक है :

- (1) टी.वी. सेवा
- (2) रेडिओ सेवा
- (3) समाचारपत्र
- (4) पत्रिका

Options :

212807115701. 1
212807115702. 2
212807115703. 3
212807115704. 4

Question Number : 372 Question Id : 21280728927 Question Type : MCQ Option Shuffling : No Is Question Mandatory : No Calculator : None
Response Time : N.A Think Time : N.A Minimum Instruction Time : 0

Correct Marks : 5 Wrong Marks : 1

Question Key Details :

Key	Value
Comprehension	MCQ

Which of the followings are correct about features ?

- (A) Features are written in present tense
- (B) Features can be written in the form of interviews
- (C) Features also quote several opinions
- (D) Newspapers do not carry features on the front page
- (E) Features are written by staff reporters

Choose the correct answer from the options given below :

- (1) (A), (B) and (C) Only
- (2) (B), (C) and (D) Only
- (3) (C), (D) and (E) Only
- (4) (D),(E) and (A) Only

Options :

212807115705. 1
212807115706. 2
212807115707. 3
212807115708. 4

Question Number : 372 Question Id : 21280728927 Question Type : MCQ Option Shuffling : No Is Question Mandatory : No Calculator : None
Response Time : N.A Think Time : N.A Minimum Instruction Time : 0

Correct Marks : 5 Wrong Marks : 1

Question Key Details :

Key	Value
Comprehension	MCQ

फ्रीचर्स के बारे में निम्नलिखित में से कौन सा सही है ?

- (A) फ्रीचर्स वर्तमान काल में लिखे जाते हैं।
- (B) फ्रीचर्स साक्षात्कारों के रूप में भी लिखे जा सकते हैं।
- (C) फ्रीचर्स विभिन्न मत/विचार का उद्घरण भी हैं।
- (D) समाचार पत्र मुख पृष्ठ पर फ्रीचर्स को जगह नहीं देते हैं।
- (E) फ्रीचर्स कर्मचारी संवाददाता के द्वारा लिखे जाते हैं

नीचे दिए गए विकल्पों में से सही उत्तर का चयन कीजिए:

- (1) केवल (A), (B) और (C)
- (2) केवल (B), (C) और (D)
- (3) केवल (C), (D) और (E)
- (4) केवल (D), (E) और (A)

Options :

- 212807115705. 1
- 212807115706. 2
- 212807115707. 3
- 212807115708. 4

Question Number : 373 Question Id : 21280728928 Question Type : MCQ Option Shuffling : No Is Question Mandatory : No Calculator : None Response Time : N.A Think Time : N.A Minimum Instruction Time : 0

Correct Marks : 5 Wrong Marks : 1

Question Key Details :

Key	Value
Comprehension	MCQ

Match List - I with List - II.

List - I

List - II

- (A) High Noon (I) Alfred Hitchcock
- (B) Lawrence of Arabia (II) Fred Zinnemann
- (C) Wild Strawberries (III) David Lean
- (D) Psycho (IV) Ingmar Bergman

Choose the correct answer from the options given below :

- (1) (A)-(II), (B)-(III), (C)-(IV), (D)-(I)
- (2) (A)-(I), (B)-(III), (C)-(II), (D)-(IV)
- (3) (A)-(IV), (B)-(III), (C)-(I), (D)-(II)
- (4) (A)-(I), (B)-(III), (C)-(II), (D)-(IV)

Options :

- 212807115709. 1
- 212807115710. 2
- 212807115711. 3
- 212807115712. 4

Question Number : 373 Question Id : 21280728928 Question Type : MCQ Option Shuffling : No Is Question Mandatory : No Calculator : None Response Time : N.A Think Time : N.A Minimum Instruction Time : 0

Correct Marks : 5 Wrong Marks : 1

Question Key Details :

Key	Value
Comprehension	MCQ

सूची - I का सूची - II से मिलान कीजिए :

सूची - I

सूची - II

- | | |
|------------------------|---------------------|
| (A) हार्ड नून | (I) अल्फ्रेड हिचकॉक |
| (B) लॉरेंस ऑफ अरेबिया | (II) फ्रेड जिन्मैन |
| (C) वाल्डड स्ट्राबैरोस | (III) डेविड लीन |
| (D) साइको | (IV) इंगमार बर्गमैन |

नीचे दिए गए विकल्पों में से सही उत्तर का चयन कीजिए:

- (1) (A)-(II), (B)-(III), (C)-(IV), (D)-(I)
- (2) (A)-(I), (B)-(III), (C)-(II), (D)-(IV)
- (3) (A)-(IV), (B)-(III), (C)-(I), (D)-(II)
- (4) (A)-(I), (B)-(III), (C)-(II), (D)-(IV)

Options :

212807115709. 1
212807115710. 2
212807115711. 3
212807115712. 4

Question Number : 374 Question Id : 21280728929 Question Type : MCQ Option Shuffling : No Is Question Mandatory : No Calculator : None Response Time : N.A Think Time : N.A Minimum Instruction Time : 0

Correct Marks : 5 Wrong Marks : 1

Question Key Details :

Key	Value
Comprehension	MCQ

What is the theme of the graphic novel 'V for Vendetta' :

- (1) Propaganda
- (2) Drug Issue
- (3) Mental Health
- (4) Corruption

Options :

212807115713. 1
212807115714. 2
212807115715. 3
212807115716. 4

Question Number : 374 Question Id : 21280728929 Question Type : MCQ Option Shuffling : No Is Question Mandatory : No Calculator : None Response Time : N.A Think Time : N.A Minimum Instruction Time : 0

Correct Marks : 5 Wrong Marks : 1

Question Key Details :

Key	Value
Comprehension	MCQ

ग्राफिक उपन्यास 'V फॉर वेनडेटा' किस विषयवस्तु को प्रस्तुत करता है।

- (1) दुष्प्रचार (प्रॉपेगेंडा)
- (2) ड्रग के मुद्दे
- (3) मानसिक स्वास्थ्य
- (4) भ्रष्टाचार

Options :

212807115713. 1

212807115714. 2
212807115715. 3
212807115716. 4

Question Number : 375 Question Id : 21280728930 Question Type : MCQ Option Shuffling : No Is Question Mandatory : No Calculator : None
Response Time : N.A Think Time : N.A Minimum Instruction Time : 0

Correct Marks : 5 Wrong Marks : 1

Question Key Details :

Key	Value
Comprehension	MCQ

Who is the director of the film ' To Live' :

- (1) Pratap Sharma
- (2) Zhang Yimou
- (3) Shankar Nag
- (4) Edward Gordon

Options :

212807115717. 1
212807115718. 2
212807115719. 3
212807115720. 4

Question Number : 375 Question Id : 21280728930 Question Type : MCQ Option Shuffling : No Is Question Mandatory : No Calculator : None
Response Time : N.A Think Time : N.A Minimum Instruction Time : 0

Correct Marks : 5 Wrong Marks : 1

Question Key Details :

Key	Value
Comprehension	MCQ

'टु लिव' (To Live) फिल्म का निर्देशक कौन है ?

- (1) प्रताप शर्मा
- (2) थांग थीमू
- (3) शंकर नाग
- (4) एडवर्ड गोर्डन

Options :

212807115717. 1
212807115718. 2
212807115719. 3
212807115720. 4

Sub-Section Number :

2

Sub-Section Id :

2128072104

Question Shuffling Allowed :

No

Is Section Default? :

null

Question Number : 376 Question Id : 21280728931 Question Type : MCQ Option Shuffling : No Is Question Mandatory : No Calculator : None
Response Time : N.A Think Time : N.A Minimum Instruction Time : 0

Correct Marks : 5 Wrong Marks : 1

Question Key Details :

Key	Value
Comprehension	Comp1

Read the passage carefully and answer the question :

The Ministry of Information and Broadcasting plays an effective role in helping people have access to free flow of information through its various mass communication media like the radio, television, films, press and print, advertising and traditional modes of communication like the dance and drama.

The Ministry is functionally divided into three sectors. The Information Sector is responsible for information dissemination and awareness creation of the policies and activities of the Government of India through print, electronic and digital media, framing of policy guidelines for rate fixation of government advertisements on print, electronic and online platforms.

This Sector oversees these public broadcasters by administering the Prasar Bharati (Broadcasting Corporation of India) Act, 1990. It also regulates private TV channels and the network of multi system operators and local cable operators through the Cable Television Networks (Regulation) Act, 1995 and policy guidelines issued from time to time. The private FM radio network is regulated by the Ministry through auctioning of FM channels, operationalisation of Community Radio Stations in rural and remote areas. The Films Sector is responsible for production and distribution of documentaries, preservation of films, organisation of international film festivals and promotion of good cinema by institution of awards.

The Film Sector of I & B Ministry is responsible for :

- (1) Production of Series
- (2) Production of Camera
- (3) Production of Documentaries
- (4) Production of Drama

Options :

- 212807115721. 1
- 212807115722. 2
- 212807115723. 3
- 212807115724. 4

Question Number : 376 Question Id : 21280728931 Question Type : MCQ Option Shuffling : No Is Question Mandatory : No Calculator : None Response Time : N.A Think Time : N.A Minimum Instruction Time : 0

Correct Marks : 5 Wrong Marks : 1

Question Key Details :

Key	Value
Comprehension	Compl

गद्यांश को पढ़े और प्रश्नों के उत्तर दें :

सूचना और प्रसारण मंत्रालय रेडिओ, टेलिविजन, फिल्मों, प्रेस और प्रिंट, विज्ञापन और पारम्परिक संचार के साधन जैसे विभिन्न जनसंचार के माध्यम से लोगों को सूचना के मुक्त प्रवाह तक पहुंच बनाने में मदद करने में प्रभावी भूमिका निभाता है। मंत्रालय कार्यात्मक रूप से तीन क्षेत्रों में विभाजित है। सूचना क्षेत्र प्रिंट इलेक्ट्रॉनिक और डिजिटल मीडिया के माध्यम से भारत सरकार की नीतियों और क्रियाकलाओं के सूचना प्रसार और जागरूकता निर्माण के लिए उत्तरदायी है साथ ही साथ प्रिंट, इलेक्ट्रॉनिक और आनलाइन प्लेटफार्म पर सरकारी विज्ञापन की दर निर्धारण के लिए नीतिगत दिशनिर्देश तैयार करता है।

ये क्षेत्र प्रसार भारती (प्रसारण ब्रॉडकास्टिंग कॉर्पोरेशन ऑफ इंडिया एक्ट) 1990 को प्रशासित करके सार्वजनिक प्रसारण का निरीक्षण करते हैं। यह केबल टेलिविजन नेटवर्क विनियमन अधिनियम) 1995 और समय समय पर जारी नीति दिशनिर्देशों के माध्यम से निजी टीवीचैनल और मल्टीसिस्टम आपरेटर्स और स्थानीय केबल आपरेटर्स के नेटवर्क को भी नियंत्रित करता है। निजी एफएम रेडिओ नेटवर्क को एफएम चैनलों की नीलामी, ग्रामीण और सूदुर क्षेत्रों में सामुदायिक रेडिओ स्टेशन के संचालन के माध्यम से मंत्रालय द्वारा नियंत्रित किया जाता है।

फिल्म सेक्टर वृत्तचित्र के उत्पादन और वितरण, फिल्मों के संरक्षण, अंतर्राष्ट्रीय फिल्म समारोहों के आयोजन और पुरस्कारों की स्थापना द्वारा उत्कृष्ट सिनेमा को बढ़ावा देने के लिए जिम्मेदार है।

सूचना एवं प्रसारण मंत्रालय का फिल्म क्षेत्रक उत्तरदायी है :

- (1) सीरीज का उत्पादन
- (2) कैमरे का उत्पादन
- (3) वृत्तचित्रों का उत्पादन
- (4) ड्रामा का उत्पादन

Options :

212807115721. 1
212807115722. 2
212807115723. 3
212807115724. 4

Question Number : 377 Question Id : 21280728932 Question Type : MCQ Option Shuffling : No Is Question Mandatory : No Calculator : None
Response Time : N.A Think Time : N.A Minimum Instruction Time : 0

Correct Marks : 5 Wrong Marks : 1

Question Key Details :

Key	Value
Comprehension	Compl

Read the passage carefully and answer the question :

The Ministry of Information and Broadcasting plays an effective role in helping people have access to free flow of information through its various mass communication media like the radio, television, films, press and print, advertising and traditional modes of communication like the dance and drama.

The Ministry is functionally divided into three sectors. The Information Sector is responsible for information dissemination and awareness creation of the policies and activities of the Government of India through print, electronic and digital media, framing of policy guidelines for rate fixation of government advertisements on print, electronic and online platforms.

This Sector oversees these public broadcasters by administering the Prasar Bharati (Broadcasting Corporation of India) Act, 1990. It also regulates private TV channels and the network of multi system operators and local cable operators through the Cable Television Networks (Regulation) Act, 1995 and policy guidelines issued from time to time. The private FM radio network is regulated by the Ministry through auctioning of FM channels, operationalisation of Community Radio Stations in rural and remote areas. The Films Sector is responsible for production and distribution of documentaries, preservation of films, organisation of international film festivals and promotion of good cinema by institution of awards.

Which Sector of I & B Ministry frames policy guidelines for rate fixation of Govt. advertisements on print & electronic and online platforms.

- (1) Information
- (2) Broadcasting
- (3) Films
- (4) Advertisement

Options :

- 212807115725. 1
- 212807115726. 2
- 212807115727. 3
- 212807115728. 4

Question Number : 377 Question Id : 21280728932 Question Type : MCQ Option Shuffling : No Is Question Mandatory : No Calculator : None
Response Time : N.A Think Time : N.A Minimum Instruction Time : 0

Correct Marks : 5 Wrong Marks : 1

Question Key Details :

Key	Value
Comprehension	Comp1

गद्यांश को पढ़े और प्रश्नों के उत्तर दें :

सूचना और प्रसारण मंत्रालय रेडिओ, टेलिविजन, फिल्मों, प्रेस और प्रिंट, विज्ञापन और पारम्परिक संचार के साधन जैसे विभिन्न जनसंचार के माध्यम से लोगों को सूचना के मुक्त प्रवाह तक पहुंच बनाने में मदद करने में प्रभावी भूमिका निभाता है। मंत्रालय कार्यात्मक रूप से तीन क्षेत्रों में विभाजित है। सूचना क्षेत्र प्रिंट इलेक्ट्रॉनिक और डिजिटल मीडिया के माध्यम से भारत सरकार की नीतियों और क्रियाकलाओं के सूचना प्रसार और जागरूकता निर्माण के लिए उत्तरदायी है साथ ही साथ प्रिंट, इलेक्ट्रॉनिक और आनलाइन प्लेटफार्म पर सरकारी विज्ञापन की दर निर्धारण के लिए नीतिगत दिशनिर्देश तैयार करता है।

ये क्षेत्र प्रसार भारती (प्रसारण ब्रॉडकास्टिंग कॉर्पोरेशन ऑफ इंडिया एक्ट) 1990 को प्रशासित करके सार्वजनिक प्रसारण का निरीक्षण करते हैं। यह केबल टेलिविजन नेटवर्क विनियमन अधिनियम) 1995 और समय समय पर जारी नीति दिशनिर्देशों के माध्यम से निजी टीवीचैनल और मल्टीसिस्टम आपरेटर्स और स्थानीय केबल आपरेटर्स के नेटवर्क को भी नियंत्रित करता है। निजी एफएम रेडिओ नेटवर्क को एफएम चैनलों की नीलामी, ग्रामीण और सूदुर क्षेत्रों में सामुदायिक रेडिओ स्टेशन के संचालन के माध्यम से मंत्रालय द्वारा नियंत्रित किया जाता है।

फिल्म सेक्टर वृत्तचित्र के उत्पादन और वितरण, फिल्मों के संरक्षण, अंतर्राष्ट्रीय फिल्म समारोहों के आयोजन और पुरस्कारों की स्थापना द्वारा उत्कृष्ट सिनेमा को बढ़ावा देने के लिए जिम्मेदार है।

कौन सा क्षेत्र सूचना और प्रसारण मंत्रालय के प्रिंट और इलेक्ट्रॉनिक और आनलाइन प्लेटफार्म के सरकारी विज्ञापन दर निर्धारण के लिए नीति-निर्देश तैयार करता है।

- (1) सूचना
- (2) ब्रॉडकास्टिंग
- (3) फिल्म
- (4) विज्ञापन

Options :

212807115725. 1
212807115726. 2
212807115727. 3
212807115728. 4

Question Number : 378 Question Id : 21280728933 Question Type : MCQ Option Shuffling : No Is Question Mandatory : No Calculator : None
Response Time : N.A Think Time : N.A Minimum Instruction Time : 0

Correct Marks : 5 Wrong Marks : 1

Question Key Details :

Key	Value
Comprehension	Comp1

Read the passage carefully and answer the question :

The Ministry of Information and Broadcasting plays an effective role in helping people have access to free flow of information through its various mass communication media like the radio, television, films, press and print, advertising and traditional modes of communication like the dance and drama.

The Ministry is functionally divided into three sectors. The Information Sector is responsible for information dissemination and awareness creation of the policies and activities of the Government of India through print, electronic and digital media, framing of policy guidelines for rate fixation of government advertisements on print, electronic and online platforms.

This Sector oversees these public broadcasters by administering the Prasar Bharati (Broadcasting Corporation of India) Act, 1990. It also regulates private TV channels and the network of multi system operators and local cable operators through the Cable Television Networks (Regulation) Act, 1995 and policy guidelines issued from time to time. The private FM radio network is regulated by the Ministry through auctioning of FM channels, operationalisation of Community Radio Stations in rural and remote areas. The Films Sector is responsible for production and distribution of documentaries, preservation of films, organisation of international film festivals and promotion of good cinema by institution of awards.

Which of the following is regulated by Cable TV Regulation Act 1995 ?

- (1) AIR
- (2) Doordarshan
- (3) Film Sector
- (4) Local Cable Sector

Options :

- 212807115729. 1
- 212807115730. 2
- 212807115731. 3
- 212807115732. 4

Question Number : 378 Question Id : 21280728933 Question Type : MCQ Option Shuffling : No Is Question Mandatory : No Calculator : None
Response Time : N.A Think Time : N.A Minimum Instruction Time : 0

Correct Marks : 5 Wrong Marks : 1

Question Key Details :

Key	Value
Comprehension	Comp1

गद्यांश को पढ़े और प्रश्नों के उत्तर दें :

सूचना और प्रसारण मंत्रालय रेडिओ, टेलिविजन, फिल्मों, प्रेस और प्रिंट, विज्ञापन और पारम्परिक संचार के साधन जैसे विभिन्न जनसंचार के माध्यम से लोगों को सूचना के मुक्त प्रवाह तक पहुंच बनाने में मदद करने में प्रभावी भूमिका निभाता है। मंत्रालय कार्यात्मक रूप से तीन क्षेत्रों में विभाजित है। सूचना क्षेत्र प्रिंट इलेक्ट्रॉनिक और डिजिटल मीडिया के माध्यम से भारत सरकार की नीतियों और क्रियाकलाओं के सूचना प्रसार और जागरूकता निर्माण के लिए उत्तरदायी है साथ ही साथ प्रिंट, इलेक्ट्रॉनिक और आनलाइन प्लेटफार्म पर सरकारी विज्ञापन की दर निर्धारण के लिए नीतिगत दिशनिर्देश तैयार करता है।

ये क्षेत्र प्रसार भारती (प्रसारण ब्रॉडकास्टिंग कॉर्पोरेशन ऑफ इंडिया एक्ट) 1990 को प्रशासित करके सार्वजनिक प्रसारण का निरीक्षण करते हैं। यह केबल टेलिविजन नेटवर्क विनियमन अधिनियम) 1995 और समय समय पर जारी नीति दिशनिर्देशों के माध्यम से निजी टीवीचैनल और मल्टीसिस्टम आपरेटर्स और स्थानीय केबल आपरेटर्स के नेटवर्क को भी नियंत्रित करता है। निजी एफएम रेडिओ नेटवर्क को एफएम चैनलों की नीलामी, ग्रामीण और सूदुर क्षेत्रों में सामुदायिक रेडिओ स्टेशन के संचालन के माध्यम से मंत्रालय द्वारा नियंत्रित किया जाता है।

फिल्म सेक्टर वृत्तचित्र के उत्पादन और वितरण, फिल्मों के संरक्षण, अंतर्राष्ट्रीय फिल्म समारोहों के आयोजन और पुरस्कारों की स्थापना द्वारा उत्कृष्ट सिनेमा को बढ़ावा देने के लिए जिम्मेदार है।

निम्नलिखित में से केबल टीवी विनियमन अधिनियम 1995 के द्वारा विनियमित है :

- (1) ए.आई.आर.
- (2) दूरदर्शन
- (3) फिल्म क्षेत्र
- (4) स्थानीय केबल क्षेत्र

Options :

212807115729. 1
212807115730. 2
212807115731. 3
212807115732. 4

Question Number : 379 Question Id : 21280728934 Question Type : MCQ Option Shuffling : No Is Question Mandatory : No Calculator : None
Response Time : N.A Think Time : N.A Minimum Instruction Time : 0

Correct Marks : 5 Wrong Marks : 1

Question Key Details :

Key	Value
Comprehension	Comp1

Read the passage carefully and answer the question :

The Ministry of Information and Broadcasting plays an effective role in helping people have access to free flow of information through its various mass communication media like the radio, television, films, press and print, advertising and traditional modes of communication like the dance and drama.

The Ministry is functionally divided into three sectors. The Information Sector is responsible for information dissemination and awareness creation of the policies and activities of the Government of India through print, electronic and digital media, framing of policy guidelines for rate fixation of government advertisements on print, electronic and online platforms.

This Sector oversees these public broadcasters by administering the Prasar Bharati (Broadcasting Corporation of India) Act, 1990. It also regulates private TV channels and the network of multi system operators and local cable operators through the Cable Television Networks (Regulation) Act, 1995 and policy guidelines issued from time to time. The private FM radio network is regulated by the Ministry through auctioning of FM channels, operationalisation of Community Radio Stations in rural and remote areas. The Films Sector is responsible for production and distribution of documentaries, preservation of films, organisation of international film festivals and promotion of good cinema by institution of awards.

By which process is the private FM Radio Network regulated by the Ministry ?

- (1) Purchasing
- (2) Rating
- (3) Auctioning
- (4) Contract

Options :

- 212807115733. 1
- 212807115734. 2
- 212807115735. 3
- 212807115736. 4

Question Number : 379 Question Id : 21280728934 Question Type : MCQ Option Shuffling : No Is Question Mandatory : No Calculator : None
Response Time : N.A Think Time : N.A Minimum Instruction Time : 0
Correct Marks : 5 Wrong Marks : 1

Question Key Details :

Key	Value
Comprehension	Comp1

गद्यांश को पढ़े और प्रश्नों के उत्तर दें :

सूचना और प्रसारण मंत्रालय रेडिओ, टेलिविजन, फिल्मों, प्रेस और प्रिंट, विज्ञापन और पारम्परिक संचार के साधन जैसे विभिन्न जनसंचार के माध्यम से लोगों को सूचना के मुक्त प्रवाह तक पहुंच बनाने में मदद करने में प्रभावी भूमिका निभाता है। मंत्रालय कार्यात्मक रूप से तीन क्षेत्रों में विभाजित है। सूचना क्षेत्र प्रिंट इलेक्ट्रॉनिक और डिजिटल मीडिया के माध्यम से भारत सरकार की नीतियों और क्रियाकलाओं के सूचना प्रसार और जागरूकता निर्माण के लिए उत्तरदायी है साथ ही साथ प्रिंट, इलेक्ट्रॉनिक और आनलाइन प्लेटफार्म पर सरकारी विज्ञापन की दर निर्धारण के लिए नीतिगत दिशनिर्देश तैयार करता है।

ये क्षेत्र प्रसार भारती (प्रसारण ब्रॉडकास्टिंग कॉर्पोरेशन ऑफ इंडिया एक्ट) 1990 को प्रशासित करके सार्वजनिक प्रसारण का निरीक्षण करते हैं। यह केबल टेलिविजन नेटवर्क विनियमन अधिनियम) 1995 और समय समय पर जारी नीति दिशनिर्देशों के माध्यम से निजी टीवीचैनल और मल्टीसिस्टम आपरेटर्स और स्थानीय केबल आपरेटर्स के नेटवर्क को भी नियंत्रित करता है। निजी एफएम रेडिओ नेटवर्क को एफएम चैनलों की नीलामी, ग्रामीण और सूदुर क्षेत्रों में सामुदायिक रेडिओ स्टेशन के संचालन के माध्यम से मंत्रालय द्वारा नियंत्रित किया जाता है।

फिल्म सेक्टर वृत्तचित्र के उत्पादन और वितरण, फिल्मों के संरक्षण, अंतर्राष्ट्रीय फिल्म समारोहों के आयोजन और पुरस्कारों की स्थापना द्वारा उत्कृष्ट सिनेमा को बढ़ावा देने के लिए जिम्मेदार है।

किस प्रक्रिया के द्वारा मंत्रालय निजी एफएम रेडियो नेटवर्क विनियमन करता है।

- (1) खरीद
- (2) रेटिंग
- (3) नीलामी
- (4) अनुबंध

Options :

212807115733. 1
212807115734. 2
212807115735. 3
212807115736. 4

Question Number : 380 Question Id : 21280728935 Question Type : MCQ Option Shuffling : No Is Question Mandatory : No Calculator : None
Response Time : N.A Think Time : N.A Minimum Instruction Time : 0

Correct Marks : 5 Wrong Marks : 1

Question Key Details :

Key	Value
Comprehension	Compl

Read the passage carefully and answer the question :

The Ministry of Information and Broadcasting plays an effective role in helping people have access to free flow of information through its various mass communication media like the radio, television, films, press and print, advertising and traditional modes of communication like the dance and drama.

The Ministry is functionally divided into three sectors. The Information Sector is responsible for information dissemination and awareness creation of the policies and activities of the Government of India through print, electronic and digital media, framing of policy guidelines for rate fixation of government advertisements on print, electronic and online platforms.

This Sector oversees these public broadcasters by administering the Prasar Bharati (Broadcasting Corporation of India) Act, 1990. It also regulates private TV channels and the network of multi system operators and local cable operators through the Cable Television Networks (Regulation) Act, 1995 and policy guidelines issued from time to time. The private FM radio network is regulated by the Ministry through auctioning of FM channels, operationalisation of Community Radio Stations in rural and remote areas. The Films Sector is responsible for production and distribution of documentaries, preservation of films, organisation of international film festivals and promotion of good cinema by institution of awards.

Which of the following is not a medium of Mass Communication ?

- (1) Radio
- (2) TV
- (3) Press
- (4) Drama

Options :

- 212807115737. 1
- 212807115738. 2
- 212807115739. 3
- 212807115740. 4

Question Number : 380 Question Id : 21280728935 Question Type : MCQ Option Shuffling : No Is Question Mandatory : No Calculator : None Response Time : N.A Think Time : N.A Minimum Instruction Time : 0

Correct Marks : 5 Wrong Marks : 1

Question Key Details :

Key	Value
Comprehension	Comp1

गद्यांश को पढ़े और प्रश्नों के उत्तर दें :

सूचना और प्रसारण मंत्रालय रेडिओ, टेलिविजन, फिल्मों, प्रेस और प्रिंट, विज्ञापन और पारम्परिक संचार के साधन जैसे विभिन्न जनसंचार के माध्यम से लोगों को सूचना के मुक्त प्रवाह तक पहुंच बनाने में मदद करने में प्रभावी भूमिका निभाता है। मंत्रालय कार्यात्मक रूप से तीन क्षेत्रों में विभाजित है। सूचना क्षेत्र प्रिंट इलेक्ट्रॉनिक और डिजिटल मीडिया के माध्यम से भारत सरकार की नीतियों और क्रियाकलाओं के सूचना प्रसार और जागरूकता निर्माण के लिए उत्तरदायी है साथ ही साथ प्रिंट, इलेक्ट्रॉनिक और आनलाइन प्लेटफार्म पर सरकारी विज्ञापन की दर निर्धारण के लिए नीतिगत दिशनिर्देश तैयार करता है।

ये क्षेत्र प्रसार भारती (प्रसारण ब्रॉडकास्टिंग कॉर्पोरेशन ऑफ इंडिया एक्ट) 1990 को प्रशासित करके सार्वजनिक प्रसारण का निरीक्षण करते हैं। यह केबल टेलिविजन नेटवर्क विनियमन अधिनियम) 1995 और समय समय पर जारी नीति दिशनिर्देशों के माध्यम से निजी टीवीचैनल और मल्टीसिस्टम आपरेटर्स और स्थानीय केबल आपरेटर्स के नेटवर्क को भी नियंत्रित करता है। निजी एफएम रेडिओ नेटवर्क को एफएम चैनलों की नीलामी, ग्रामीण और सूदुर क्षेत्रों में सामुदायिक रेडिओ स्टेशन के संचालन के माध्यम से मंत्रालय द्वारा नियंत्रित किया जाता है।

फिल्म सेक्टर वृत्तचित्र के उत्पादन और वितरण, फिल्मों के संरक्षण, अंतर्राष्ट्रीय फिल्म समारोहों के आयोजन और पुरस्कारों की स्थापना द्वारा उत्कृष्ट सिनेमा को बढ़ावा देने के लिए जिम्मेदार है।

निम्नलिखित में कौन सा जनसंचार का माध्यम नहीं है ?

- (1) रेडिओ
- (2) टी.वी
- (3) प्रेस
- (4) ड्रामा

Options :

212807115737. 1
212807115738. 2
212807115739. 3
212807115740. 4

Sub-Section Number :	3
Sub-Section Id :	2128072105
Question Shuffling Allowed :	No
Is Section Default? :	null

Question Number : 381 Question Id : 21280728936 Question Type : MCQ Option Shuffling : No Is Question Mandatory : No Calculator : None
Response Time : N.A Think Time : N.A Minimum Instruction Time : 0

Correct Marks : 5 Wrong Marks : 1

Question Key Details :

Key	Value
Comprehension	Comp2

Read the passage carefully and answer the question :

The most significant happening in the last few decades has been the Indian language newspaper revolution. Hindi, Telugu and Kannada recorded the highest growth. Among the four main geographic zones, the north showed the highest growth at 7.83 per cent. Growth in the south, west and east was 4.95 per cent, 2.81 per cent and 2.63 per cent, respectively. The top two Hindi dailies in India are Dainik Jagran and Dainik Bhaskar with average qualifying sales of 3.92 million and 3.81 million, respectively (July-December 2016).

The Eenadu story also exemplifies the success of the Indian language press. Ramoji Rao the founder of Eenadu, had successfully organised a chit-fund before launching the paper in 1974. By associating with appropriate causes in rural areas, like the anti-arrack movement in the mid-1980s, the Telugu newspaper was able to reach the countryside. This prompted it to launch 'district dailies' in 1989. These were tabloid inserts or features carrying sensational news from particular districts, as well as, classified advertisements from villages and small towns of the area.

Which of the following is one of the most significant happening in the last few decades ?

- (1) Indian Language Newspaper Revolution
- (2) Mass Media Revolution
- (3) English Newspaper Revolution
- (4) Internet Base Media Revolution

Options :

212807115741. 1

212807115742. 2

212807115743. 3

212807115744. 4

Question Number : 381 Question Id : 21280728936 Question Type : MCQ Option Shuffling : No Is Question Mandatory : No Calculator : None Response Time : N.A Think Time : N.A Minimum Instruction Time : 0

Correct Marks : 5 Wrong Marks : 1

Question Key Details :

Key	Value
Comprehension	Comp2

गद्यांश को ध्यानपूर्वक पढ़ें और प्रश्नों के उत्तर दें :

पिछले कुछ दशकों में सबसे महत्वपूर्ण घटना भारतीय भाषा के समाचार पत्रों में क्रांति की रही हैं। हिंदी, तेलुगू और कन्नड़ में उच्चतम वृद्धि दर्ज की गई। चार मुख्य भौगोलिक क्षेत्रों में उत्तरी क्षेत्र में अधिकतम संचलन 7.83 प्रतिशत रहा हैं। दक्षिण, पश्चिम और पूर्वीय क्षेत्रों में वृद्धि दर क्रमशः 4.95 प्रतिशत, 2.81 प्रतिशत और 2.63 प्रतिशत रहा है। भारत में शीर्ष दैनिक समाचार पत्रों के वर्ग में दैनिक जागरण और दैनिक भास्कर को औसतन 3.92 मिलियन और 3.81 मिलियन की बिक्री की दर से सम्मिलित किया गया है। क्रमशः (जुलाई - दिसंबर 2016) में

'ईनाडु' तेलुगु समाचारपत्र की कहानी भी भारतीय भाषाओं के समाचारपत्रों (प्रेस) की सफलता का एक उदाहरण है। 'ईनाडु' के संस्थापक रामोजी राव ने 1974 में इस समाचारपत्र को प्रारंभ करने से पहले एक चिड-फंड सफलतापूर्वक चलाया था। 1980 के दशक के मध्य भाग में ग्रामीण क्षेत्रों में अरक-विरोधी आंदोलन जैसे उपयुक्त मुद्दों से जुड़कर यह तेलुगु समाचारपत्र देशतों में पहुँचने में सफल हो गया। अपनी इस सफलता से प्रेरित होकर उसने 1989 में 'ज़िला दैनिक' निकालने शुरू किए। ये छोटे-छोटे पत्रक होते थे जिनमें ज़िला-विशेष के सनसनीखेज समाचार और उसी ज़िले के गाँवों और छोटे कस्बों से प्राप्त वर्गीकृत विज्ञापन छापे जाते थे।

निम्नलिखित में से पिछले कुछ दशकों में महत्वपूर्ण घटना घटित हुई है।

- (1) भारतीय भाषा के समाचार क्रांति में
- (2) जनसंचार में क्रांति
- (3) अंग्रेजी समाचार में क्रांति
- (4) इंटरनेट आधारित मीडिया में क्रांति

Options :

212807115741. 1
212807115742. 2
212807115743. 3
212807115744. 4

Question Number : 382 Question Id : 21280728937 Question Type : MCQ Option Shuffling : No Is Question Mandatory : No Calculator : None
Response Time : N.A Think Time : N.A Minimum Instruction Time : 0

Correct Marks : 5 Wrong Marks : 1

Question Key Details :

Key	Value
Comprehension	Comp2

Read the passage carefully and answer the question :

The most significant happening in the last few decades has been the Indian language newspaper revolution. Hindi, Telugu and Kannada recorded the highest growth. Among the four main geographic zones, the north showed the highest growth at 7.83 per cent. Growth in the south, west and east was 4.95 per cent, 2.81 per cent and 2.63 per cent, respectively. The top two Hindi dailies in India are Dainik Jagran and Dainik Bhaskar with average qualifying sales of 3.92 million and 3.81 million, respectively (July-December 2016).

The Eenadu story also exemplifies the success of the Indian language press. Ramoji Rao the founder of Eenadu, had successfully organised a chit-fund before launching the paper in 1974. By associating with appropriate causes in rural areas, like the anti-arrack movement in the mid-1980s, the Telugu newspaper was able to reach the countryside. This prompted it to launch 'district dailies' in 1989. These were tabloid inserts or features carrying sensational news from particular districts, as well as, classified advertisements from villages and small towns of the area.

Which of the following language Newspaper could not record a high growth ?

- (1) Hindi
- (2) Telugu
- (3) Kannada
- (4) English

Options :

212807115745. 1

212807115746. 2

212807115747. 3

212807115748. 4

Question Number : 382 Question Id : 21280728937 Question Type : MCQ Option Shuffling : No Is Question Mandatory : No Calculator : None Response Time : N.A Think Time : N.A Minimum Instruction Time : 0

Correct Marks : 5 Wrong Marks : 1

Question Key Details :

Key	Value
Comprehension	Comp2

गद्यांश को ध्यानपूर्वक पढ़ें और प्रश्नों के उत्तर दें :

पिछले कुछ दशकों में सबसे महत्वपूर्ण घटना भारतीय भाषा के समाचार पत्रों में क्रांति की रही हैं। हिंदी, तेलुगू और कन्नड़ में उच्चतम वृद्धि दर्ज की गई। चार मुख्य भौगोलिक क्षेत्रों में उत्तरी क्षेत्र में अधिकतम संचलन 7.83 प्रतिशत रहा है। दक्षिण, पश्चिम और पूर्वीय क्षेत्रों में वृद्धि दर क्रमशः 4.95 प्रतिशत, 2.81 प्रतिशत और 2.63 प्रतिशत रहा है। भारत में शीर्ष दैनिक समाचार पत्रों के वर्ग में दैनिक जागरण और दैनिक भास्कर को औसतन 3.92 मिलियन और 3.81 मिलियन की बिक्री की दर से सम्मिलित किया गया है। क्रमशः (जुलाई - दिसंबर 2016) में

'ईनाडु' तेलुगु समाचारपत्र की कहानी भी भारतीय भाषाओं के समाचारपत्रों (प्रेस) की सफलता का एक उदाहरण है। 'ईनाडु' के संस्थापक रामोजी राव ने 1974 में इस समाचारपत्र को प्रारंभ करने से पहले एक चिड-फंड सफलतापूर्वक चलाया था। 1980 के दशक के मध्य भाग में ग्रामीण क्षेत्रों में अरक-विरोधी आंदोलन जैसे उपयुक्त मुद्दों से जुड़कर यह तेलुगु समाचारपत्र देहातों में पहुँचने में सफल हो गया। अपनी इस सफलता से प्रेरित होकर उसने 1989 में 'ज़िला दैनिक' निकालने शुरू किए। ये छोटे-छोटे पत्रक होते थे जिनमें ज़िला-विशेष के सनसनीखेज समाचार और उसी ज़िले के गाँवों और छोटे कस्बों से प्राप्त वर्गीकृत विज्ञापन छापे जाते थे।

निम्नलिखित में कौन सा/से समाचार पत्र उच्च वृद्धि दर्ज नहीं कर सका ?

- (1) हिन्दी
- (2) तेलुगु
- (3) कन्नड़
- (4) अंग्रजी

Options :

212807115745. 1
212807115746. 2
212807115747. 3
212807115748. 4

Question Number : 383 Question Id : 21280728938 Question Type : MCQ Option Shuffling : No Is Question Mandatory : No Calculator : None
Response Time : N.A Think Time : N.A Minimum Instruction Time : 0

Correct Marks : 5 Wrong Marks : 1

Question Key Details :

Key	Value
Comprehension	Comp2

Read the passage carefully and answer the question :

The most significant happening in the last few decades has been the Indian language newspaper revolution. Hindi, Telugu and Kannada recorded the highest growth. Among the four main geographic zones, the north showed the highest growth at 7.83 per cent. Growth in the south, west and east was 4.95 per cent, 2.81 per cent and 2.63 per cent, respectively. The top two Hindi dailies in India are Dainik Jagran and Dainik Bhaskar with average qualifying sales of 3.92 million and 3.81 million, respectively (July-December 2016).

The Eenadu story also exemplifies the success of the Indian language press. Ramoji Rao the founder of Eenadu, had successfully organised a chit-fund before launching the paper in 1974. By associating with appropriate causes in rural areas, like the anti-arrack movement in the mid-1980s, the Telugu newspaper was able to reach the countryside. This prompted it to launch 'district dailies' in 1989. These were tabloid inserts or features carrying sensational news from particular districts, as well as, classified advertisements from villages and small towns of the area.

Which one of the following geographical zone showed lowest growth in newspaper circulation ?

- (1) West
- (2) North
- (3) South
- (4) East

Options :

212807115749. 1

212807115750. 2

212807115751. 3

212807115752. 4

Question Number : 383 Question Id : 21280728938 Question Type : MCQ Option Shuffling : No Is Question Mandatory : No Calculator : None Response Time : N.A Think Time : N.A Minimum Instruction Time : 0

Correct Marks : 5 Wrong Marks : 1

Question Key Details :

Key	Value
Comprehension	Comp2

गद्यांश को ध्यानपूर्वक पढ़ें और प्रश्नों के उत्तर दें :

पिछले कुछ दशकों में सबसे महत्वपूर्ण घटना भारतीय भाषा के समाचार पत्रों में क्रांति की रही है। हिंदी, तेलुगू और कन्नड़ में उच्चतम वृद्धि दर्ज की गई। चार मुख्य भौगोलिक क्षेत्रों में उत्तरी क्षेत्र में अधिकतम संचलन 7.83 प्रतिशत रहा है। दक्षिण, पश्चिम और पूर्वीय क्षेत्रों में वृद्धि दर क्रमशः 4.95 प्रतिशत, 2.81 प्रतिशत और 2.63 प्रतिशत रहा है। भारत में शीर्ष दैनिक समाचार पत्रों के वर्ग में दैनिक जागरण और दैनिक भास्कर को औसतन 3.92 मिलियन और 3.81 मिलियन की बिक्री की दर से सम्मिलित किया गया है। क्रमशः (जुलाई - दिसंबर 2016) में

'ईनाडु' तेलुगु समाचारपत्र की कहानी भी भारतीय भाषाओं के समाचारपत्रों (प्रेस) की सफलता का एक उदाहरण है। 'ईनाडु' के संस्थापक रामोजी राव ने 1974 में इस समाचारपत्र को प्रारंभ करने से पहले एक चिड-फंड सफलतापूर्वक चलाया था। 1980 के दशक के मध्य भाग में ग्रामीण क्षेत्रों में अरक-विरोधी आंदोलन जैसे उपयुक्त मुद्दों से जुड़कर यह तेलुगु समाचारपत्र देहातों में पहुँचने में सफल हो गया। अपनी इस सफलता से प्रेरित होकर उसने 1989 में 'ज़िला दैनिक' निकालने शुरू किए। ये छोटे-छोटे पत्रक होते थे जिनमें ज़िला-विशेष के सनसनीखेज समाचार और उसी ज़िले के गाँवों और छोटे कस्बों से प्राप्त वर्गीकृत विज्ञापन छापे जाते थे।

निम्नलिखित में से कौन से भौगोलिक क्षेत्रों में समाचार में सबसे कम वृद्धि दर्ज की गयी ?

- (1) पश्चिमी
- (2) उत्तरी
- (3) दक्षिणी
- (4) पूर्वी

Options :

212807115749. 1

212807115750. 2

212807115751. 3

212807115752. 4

Question Number : 384 Question Id : 21280728939 Question Type : MCQ Option Shuffling : No Is Question Mandatory : No Calculator : None Response Time : N.A Think Time : N.A Minimum Instruction Time : 0

Correct Marks : 5 Wrong Marks : 1

Question Key Details :

Key	Value
Comprehension	Comp2

Read the passage carefully and answer the question :

The most significant happening in the last few decades has been the Indian language newspaper revolution. Hindi, Telugu and Kannada recorded the highest growth. Among the four main geographic zones, the north showed the highest growth at 7.83 per cent. Growth in the south, west and east was 4.95 per cent, 2.81 per cent and 2.63 per cent, respectively. The top two Hindi dailies in India are Dainik Jagran and Dainik Bhaskar with average qualifying sales of 3.92 million and 3.81 million, respectively (July-December 2016).

The Eenadu story also exemplifies the success of the Indian language press. Ramoji Rao the founder of Eenadu, had successfully organised a chit-fund before launching the paper in 1974. By associating with appropriate causes in rural areas, like the anti-arrack movement in the mid-1980s, the Telugu newspaper was able to reach the countryside. This prompted it to launch 'district dailies' in 1989. These were tabloid inserts or features carrying sensational news from particular districts, as well as, classified advertisements from villages and small towns of the area.

Eenadu was able to reach the countryside because of a successful :

- (1) Anti-arrack movement
- (2) Sawdeshi movement
- (3) Independent movement
- (4) Organised a chit-fund

Options :

212807115753. 1

212807115754. 2

212807115755. 3

212807115756. 4

Question Number : 384 Question Id : 21280728939 Question Type : MCQ Option Shuffling : No Is Question Mandatory : No Calculator : None Response Time : N.A Think Time : N.A Minimum Instruction Time : 0

Correct Marks : 5 Wrong Marks : 1

Question Key Details :

Key	Value
Comprehension	Comp2

गद्यांश को ध्यानपूर्वक पढ़ें और प्रश्नों के उत्तर दें :

पिछले कुछ दशकों में सबसे महत्वपूर्ण घटना भारतीय भाषा के समाचार पत्रों में क्रांति की रही है। हिंदी, तेलुगू और कन्नड़ में उच्चतम वृद्धि दर्ज की गई। चार मुख्य भौगोलिक क्षेत्रों में उत्तरी क्षेत्र में अधिकतम संचलन 7.83 प्रतिशत रहा है। दक्षिण, पश्चिम और पूर्वीय क्षेत्रों में वृद्धि दर क्रमशः 4.95 प्रतिशत, 2.81 प्रतिशत और 2.63 प्रतिशत रहा है। भारत में शीर्ष दैनिक समाचार पत्रों के वर्ग में दैनिक जागरण और दैनिक भास्कर को औसतन 3.92 मिलियन और 3.81 मिलियन की बिक्री की दर से सम्मिलित किया गया है। क्रमशः (जुलाई - दिसंबर 2016) में

'ईनाडु' तेलुगु समाचारपत्र की कहानी भी भारतीय भाषाओं के समाचारपत्रों (प्रेस) की सफलता का एक उदाहरण है। 'ईनाडु' के संस्थापक रामोजी राव ने 1974 में इस समाचारपत्र को प्रारंभ करने से पहले एक चिट-फंड सफलतापूर्वक चलाया था। 1980 के दशक के मध्य भाग में ग्रामीण क्षेत्रों में अरक-विरोधी आंदोलन जैसे उपयुक्त मुद्दों से जुड़कर यह तेलुगु समाचारपत्र देहातों में पहुँचने में सफल हो गया। अपनी इस सफलता से प्रेरित होकर उसने 1989 में 'ज़िला दैनिक' निकालने शुरू किए। ये छोटे-छोटे पत्रक होते थे जिनमें ज़िला-विशेष के सनसनीखेज समाचार और उसी ज़िले के गाँवों और छोटे कस्बों से प्राप्त वर्गीकृत विज्ञापन छापे जाते थे।

ईनाडु ग्रामीण क्षेत्रों में पहुँच बना पाया, निम्न की सफलता के कारण -

- (1) अरक-विरोधी आंदोलन
- (2) स्वदेशी आंदोलन
- (3) स्वतंत्रता आंदोलन
- (4) चिट-फंड के आयोजन के कारण

Options :

212807115753. 1
212807115754. 2
212807115755. 3
212807115756. 4

Question Number : 385 Question Id : 21280728940 Question Type : MCQ Option Shuffling : No Is Question Mandatory : No Calculator : None
Response Time : N.A Think Time : N.A Minimum Instruction Time : 0

Correct Marks : 5 Wrong Marks : 1

Question Key Details :

Key	Value
Comprehension	Comp2

Read the passage carefully and answer the question :

The most significant happening in the last few decades has been the Indian language newspaper revolution. Hindi, Telugu and Kannada recorded the highest growth. Among the four main geographic zones, the north showed the highest growth at 7.83 per cent. Growth in the south, west and east was 4.95 per cent, 2.81 per cent and 2.63 per cent, respectively. The top two Hindi dailies in India are Dainik Jagran and Dainik Bhaskar with average qualifying sales of 3.92 million and 3.81 million, respectively (July-December 2016).

The Eenadu story also exemplifies the success of the Indian language press. Ramoji Rao the founder of Eenadu, had successfully organised a chit-fund before launching the paper in 1974. By associating with appropriate causes in rural areas, like the anti-arrack movement in the mid-1980s, the Telugu newspaper was able to reach the countryside. This prompted it to launch 'district dailies' in 1989. These were tabloid inserts or features carrying sensational news from particular districts, as well as, classified advertisements from villages and small towns of the area.

Which of the following news paper launched their district dailies in 1989 ?

- (1) Dainik Bhaskar
- (2) Dainik Jagran
- (3) Eenadu
- (4) Punjab Kesari

Options :

212807115757. 1

212807115758. 2

212807115759. 3

212807115760. 4

Question Number : 385 Question Id : 21280728940 Question Type : MCQ Option Shuffling : No Is Question Mandatory : No Calculator : None Response Time : N.A Think Time : N.A Minimum Instruction Time : 0

Correct Marks : 5 Wrong Marks : 1

Question Key Details :

Key	Value
Comprehension	Comp2

गद्यांश को ध्यानपूर्वक पढ़ें और प्रश्नों के उत्तर दें :

पिछले कुछ दशकों में सबसे महत्वपूर्ण घटना भारतीय भाषा के समाचार पत्रों में क्रांति की रही है। हिंदी, तेलुगू और कन्नड़ में उच्चतम वृद्धि दर्ज की गई। चार मुख्य भौगोलिक क्षेत्रों में उत्तरी क्षेत्र में अधिकतम संचलन 7.83 प्रतिशत रहा है। दक्षिण, पश्चिम और पूर्वीय क्षेत्रों में वृद्धि दर क्रमशः 4.95 प्रतिशत, 2.81 प्रतिशत और 2.63 प्रतिशत रहा है। भारत में शीर्ष दैनिक समाचार पत्रों के वर्ग में दैनिक जागरण और दैनिक भास्कर को औसतन 3.92 मिलियन और 3.81 मिलियन की बिक्री की दर से सम्मिलित किया गया है। क्रमशः (जुलाई - दिसंबर 2016) में

'ईनाडु' तेलुगु समाचारपत्र की कहानी भी भारतीय भाषाओं के समाचारपत्रों (प्रेस) की सफलता का एक उदाहरण है। 'ईनाडु' के संस्थापक रामोजी राव ने 1974 में इस समाचारपत्र को प्रारंभ करने से पहले एक चिड-फंड सफलतापूर्वक चलाया था। 1980 के दशक के मध्य भाग में ग्रामीण क्षेत्रों में अरक-विरोधी आंदोलन जैसे उपयुक्त मुद्दों से जुड़कर यह तेलुगु समाचारपत्र देहातों में पहुँचने में सफल हो गया। अपनी इस सफलता से प्रेरित होकर उसने 1989 में 'ज़िला दैनिक' निकालने शुरू किए। ये छोटे-छोटे पत्रक होते थे जिनमें ज़िला-विशेष के सनसनीखेज़ समाचार और उसी ज़िले के गाँवों और छोटे कस्बों से प्राप्त वर्गीकृत विज्ञापन छापे जाते थे।

निम्नलिखित में से किस समाचारपत्र ने 1989 में अपने ज़िला दैनिक की शुरुआत की ?

- (1) दैनिक भास्कर
- (2) दैनिक जागरण
- (3) ईनाडु
- (4) पंजाब केसरी

Options :

212807115757. 1
212807115758. 2
212807115759. 3
212807115760. 4

Mathematics

Group Number :	8
Group Id :	212807629
Group Maximum Duration :	60
Group Minimum Duration :	60
Show Attended Group? :	No
Edit Attended Group? :	No
Break time :	0
Group Marks :	200
Is this Group for Examiner? :	No
Examiner permission :	Can't View
Show Progress Bar? :	No

Common

Section Id :	212807735
Section Number :	1
Section type :	Online
Mandatory or Optional :	Mandatory
Number of Questions :	15
Number of Questions to be attempted :	15
Section Marks :	75
Enable Mark as Answered Mark for Review and Clear Response :	Yes
Maximum Instruction Time :	0
Sub-Section Number :	1

Sub-Section Id :
Question Shuffling Allowed :
Is Section Default? :

2128072106
Yes
null

Question Number : 386 Question Id : 21280728941 Question Type : MCQ Option Shuffling : No Is Question Mandatory : No Calculator : None
Response Time : N.A Think Time : N.A Minimum Instruction Time : 0

Correct Marks : 5 Wrong Marks : 1

Question Key Details :

Key	Value
Comprehension	MCQ1

$$\begin{bmatrix} 2x+1 & 4x \\ y+3 & 2y-5 \end{bmatrix} = \begin{bmatrix} x+2 & 4 \\ 7 & 3 \end{bmatrix}$$

- (1) $x=2, y=2$
(2) $x=4, y=1$
(3) $x=1, y=4$
(4) $x=3, y=1$

Options :

212807115761. 1
212807115762. 2
212807115763. 3
212807115764. 4

Question Number : 386 Question Id : 21280728941 Question Type : MCQ Option Shuffling : No Is Question Mandatory : No Calculator : None
Response Time : N.A Think Time : N.A Minimum Instruction Time : 0

Correct Marks : 5 Wrong Marks : 1

Question Key Details :

Key	Value
Comprehension	MCQ1

$$\begin{bmatrix} 2x+1 & 4x \\ y+3 & 2y-5 \end{bmatrix} = \begin{bmatrix} x+2 & 4 \\ 7 & 3 \end{bmatrix} \text{ तो } x \text{ तथा } y \text{ का मान ज्ञात करें।}$$

- (1) $x=2, y=2$
(2) $x=4, y=1$
(3) $x=1, y=4$
(4) $x=3, y=1$

Options :

212807115761. 1
212807115762. 2
212807115763. 3
212807115764. 4

Question Number : 387 Question Id : 21280728942 Question Type : MCQ Option Shuffling : No Is Question Mandatory : No Calculator : None
Response Time : N.A Think Time : N.A Minimum Instruction Time : 0

Correct Marks : 5 Wrong Marks : 1

Question Key Details :

Key	Value
Comprehension	MCQ1

If A is a square matrix of order 3 and $|A| = -2$, then the value of $|-A^{-1}|$ is :

- (1) $\frac{1}{2}$
(2) $-\frac{1}{2}$
(3) 2
(4) -2

Options :

212807115765. 1
212807115766. 2
212807115767. 3
212807115768. 4

Question Number : 387 Question Id : 21280728942 Question Type : MCQ Option Shuffling : No Is Question Mandatory : No Calculator : None
Response Time : N.A Think Time : N.A Minimum Instruction Time : 0

Correct Marks : 5 Wrong Marks : 1

Question Key Details :

Key	Value
Comprehension	MCQ1

यदि A एक वर्ग आव्यूह है जिसका कोटि 3 और $|A| = -2$ तब $|-A^{-1}|$ का मान है :

- (1) $\frac{1}{2}$
(2) $-\frac{1}{2}$
(3) 2
(4) -2

Options :

212807115765. 1
212807115766. 2
212807115767. 3
212807115768. 4

Question Number : 388 Question Id : 21280728943 Question Type : MCQ Option Shuffling : No Is Question Mandatory : No Calculator : None
Response Time : N.A Think Time : N.A Minimum Instruction Time : 0

Correct Marks : 5 Wrong Marks : 1

Question Key Details :

Key	Value
Comprehension	MCQ1

If the order of matrix A is 4×3 , order of matrix B is 4×5 and order of matrix C is 5×3 , then the order of matrix $(B \cdot C)A'$ is :

- (1) 4×3
(2) 4×4
(3) 3×4
(4) 5×3

Options :

212807115769. 1
212807115770. 2

212807115771.3
212807115772.4

Question Number : 388 Question Id : 21280728943 Question Type : MCQ Option Shuffling : No Is Question Mandatory : No Calculator : None
Response Time : N.A Think Time : N.A Minimum Instruction Time : 0

Correct Marks : 5 Wrong Marks : 1

Question Key Details :

Key	Value
Comprehension	MCQ1

यदि आव्यूह A का कोटि 4×3 , आव्यूह B का कोटि 4×5 और आव्यूह C का क्रम 5×3 है तब आव्यूह $(B-C)A'$ का कोटि है :

- (1) 4×3
- (2) 4×4
- (3) 3×4
- (4) 5×3

Options :

212807115769.1
212807115770.2
212807115771.3
212807115772.4

Question Number : 389 Question Id : 21280728944 Question Type : MCQ Option Shuffling : No Is Question Mandatory : No Calculator : None
Response Time : N.A Think Time : N.A Minimum Instruction Time : 0

Correct Marks : 5 Wrong Marks : 1

Question Key Details :

Key	Value
Comprehension	MCQ1

If the matrix $\begin{bmatrix} 1 & 2 \\ 3 & x \end{bmatrix}$ is a singular matrix, then the value of x is :

- (1) -6
- (2) 0
- (3) 6
- (4) 2

Options :

212807115773.1
212807115774.2
212807115775.3
212807115776.4

Question Number : 389 Question Id : 21280728944 Question Type : MCQ Option Shuffling : No Is Question Mandatory : No Calculator : None
Response Time : N.A Think Time : N.A Minimum Instruction Time : 0

Correct Marks : 5 Wrong Marks : 1

Question Key Details :

Key	Value
Comprehension	MCQ1

यदि आव्यूह $\begin{bmatrix} 1 & 2 \\ 3 & x \end{bmatrix}$ अव्युत्क्रमणीय आव्यूह है तब x का मान है :

- (1) -6
- (2) 0
- (3) 6
- (4) 2

Options :

- 212807115773. 1
- 212807115774. 2
- 212807115775. 3
- 212807115776. 4

Question Number : 390 Question Id : 21280728945 Question Type : MCQ Option Shuffling : No Is Question Mandatory : No Calculator : None Response Time : N.A Think Time : N.A Minimum Instruction Time : 0

Correct Marks : 5 Wrong Marks : 1

Question Key Details :

Key	Value
Comprehension	MCQ1

If $y = \log x^5$, then $\frac{d^2y}{dx^2}$ is given by :

- (1) $\frac{1}{x^5}$
- (2) $\frac{1}{5x^4}$
- (3) $-\frac{20}{x^2}$
- (4) $-\frac{5}{x^2}$

Options :

- 212807115777. 1
- 212807115778. 2
- 212807115779. 3
- 212807115780. 4

Question Number : 390 Question Id : 21280728945 Question Type : MCQ Option Shuffling : No Is Question Mandatory : No Calculator : None Response Time : N.A Think Time : N.A Minimum Instruction Time : 0

Correct Marks : 5 Wrong Marks : 1

Question Key Details :

Key	Value
Comprehension	MCQ1

यदि $y = \log x^5$, तब $\frac{d^2y}{dx^2}$ है :

(1) $\frac{1}{x^5}$

(2) $\frac{1}{5x^4}$

(3) $-\frac{20}{x^2}$

(4) $-\frac{5}{x^2}$

Options :

212807115777. 1

212807115778. 2

212807115779. 3

212807115780. 4

Question Number : 391 Question Id : 21280728946 Question Type : MCQ Option Shuffling : No Is Question Mandatory : No Calculator : None Response Time : N.A Think Time : N.A Minimum Instruction Time : 0

Correct Marks : 5 Wrong Marks : 1

Question Key Details :

Key	Value
Comprehension	MCQ1

The slope of the normal to the curve $y^2 = 16x$ at the point (1, 4) is :

(1) $\frac{1}{2}$

(2) $-\frac{1}{2}$

(3) 1

(4) -1

Options :

212807115781. 1

212807115782. 2

212807115783. 3

212807115784. 4

Question Number : 391 Question Id : 21280728946 Question Type : MCQ Option Shuffling : No Is Question Mandatory : No Calculator : None Response Time : N.A Think Time : N.A Minimum Instruction Time : 0

Correct Marks : 5 Wrong Marks : 1

Question Key Details :

Key	Value
Comprehension	MCQ1

वक्र $y^2 = 16x$ पर बिन्दु $(1, 4)$ के अभिलम्ब की प्रवणता है :

- (1) $\frac{1}{2}$
(2) $-\frac{1}{2}$
(3) 1
(4) -1

Options :

212807115781. 1
212807115782. 2
212807115783. 3
212807115784. 4

Question Number : 392 Question Id : 21280728947 Question Type : MCQ Option Shuffling : No Is Question Mandatory : No Calculator : None
Response Time : N.A Think Time : N.A Minimum Instruction Time : 0

Correct Marks : 5 Wrong Marks : 1

Question Key Details :

Key	Value
Comprehension	MCQ1

The function $f(x) = |x - 1|$ is strictly increasing in the interval.

- (1) $(0, 1)$
(2) $(-\infty, 0)$
(3) $(-\infty, -1)$
(4) $(1, \infty)$

Options :

212807115785. 1
212807115786. 2
212807115787. 3
212807115788. 4

Question Number : 392 Question Id : 21280728947 Question Type : MCQ Option Shuffling : No Is Question Mandatory : No Calculator : None
Response Time : N.A Think Time : N.A Minimum Instruction Time : 0

Correct Marks : 5 Wrong Marks : 1

Question Key Details :

Key	Value
Comprehension	MCQ1

फलन $f(x) = |x - 1|$ किस अंतराल में निरंतर वर्धमान है।

- (1) $(0, 1)$
(2) $(-\infty, 0)$
(3) $(-\infty, -1)$
(4) $(1, \infty)$

Options :

212807115785. 1
212807115786. 2
212807115787. 3
212807115788. 4

Question Number : 393 Question Id : 21280728948 Question Type : MCQ Option Shuffling : No Is Question Mandatory : No Calculator : None
Response Time : N.A Think Time : N.A Minimum Instruction Time : 0

Correct Marks : 5 Wrong Marks : 1

Question Key Details :

Key	Value
Comprehension	MCQ1

The value of the integral $\int \frac{\log x^3}{x} dx$ is :

- (1) $\frac{2}{3}(\log x)^2 + C$, where C is a constant
- (2) $\frac{3}{2}(\log x)^2 + C$, where C is a constant
- (3) $\log x^2 + C$, where C is a constant
- (4) $\log x^3 + C$, where C is a constant

Options :

212807115789. 1
212807115790. 2
212807115791. 3
212807115792. 4

Question Number : 393 Question Id : 21280728948 Question Type : MCQ Option Shuffling : No Is Question Mandatory : No Calculator : None
Response Time : N.A Think Time : N.A Minimum Instruction Time : 0

Correct Marks : 5 Wrong Marks : 1

Question Key Details :

Key	Value
Comprehension	MCQ1

समाकलन $\int \frac{\log x^3}{x} dx$ का मान होगा :

- (1) $\frac{2}{3}(\log x)^2 + C$, जहाँ C एक अचर है
- (2) $\frac{3}{2}(\log x)^2 + C$, जहाँ C एक अचर है
- (3) $\log x^2 + C$, जहाँ C एक अचर है
- (4) $\log x^3 + C$, जहाँ C एक अचर है

Options :

212807115789. 1
212807115790. 2
212807115791. 3
212807115792. 4

Question Number : 394 Question Id : 21280728949 Question Type : MCQ Option Shuffling : No Is Question Mandatory : No Calculator : None
Response Time : N.A Think Time : N.A Minimum Instruction Time : 0

Correct Marks : 5 Wrong Marks : 1

Question Key Details :

Key	Value
Comprehension	MCQ1

The area of the region bounded by $y = |x - 5|$, $x = 0$ and $x = 1$ is :

(1) 16

(2) 8

(3) $\frac{9}{2}$

(4) $\frac{25}{2}$

Options :

212807115793. 1

212807115794. 2

212807115795. 3

212807115796. 4

Question Number : 394 Question Id : 21280728949 Question Type : MCQ Option Shuffling : No Is Question Mandatory : No Calculator : None
Response Time : N.A Think Time : N.A Minimum Instruction Time : 0

Correct Marks : 5 Wrong Marks : 1

Question Key Details :

Key	Value
Comprehension	MCQ1

$y = |x - 5|$, $x = 0$ और $x = 1$ से परिबद्ध क्षेत्र का क्षेत्रफल है

(1) 16

(2) 8

(3) $\frac{9}{2}$

(4) $\frac{25}{2}$

Options :

212807115793. 1

212807115794. 2

212807115795. 3

212807115796. 4

Question Number : 395 Question Id : 21280728950 Question Type : MCQ Option Shuffling : No Is Question Mandatory : No Calculator : None
Response Time : N.A Think Time : N.A Minimum Instruction Time : 0

Correct Marks : 5 Wrong Marks : 1

Question Key Details :

Key	Value
Comprehension	MCQ1

Match List - I with List - II.

List - I

List - II

(A) $\left[1 + \left(\frac{dy}{dx}\right)^2\right] = \left(\frac{d^2y}{dx^2}\right)^2$

(I) order = 2, degree = 2

(B) $\frac{d^3y}{dx^3} - 3\frac{d^2y}{dx^2} + 2\left(\frac{dy}{dx}\right)^4 = y^4$

(II) order = 3, degree = 2

(C) $\left(1 + \frac{dy}{dx}\right)^3 = \left(\frac{d^3y}{dx^3}\right)^2$

(III) order = 2, degree = 1

(D) $\left[1 + \left(\frac{dy}{dx}\right)^2\right]^2 = \frac{d^2y}{dx^2}$

(IV) order = 3, degree = 1

Choose the correct answer from the options given below :

(1) (A)-(I), (B)-(IV), (C)-(II), (D)-(III)

(2) (A)-(II), (B)-(III), (C)-(IV), (D)-(I)

(3) (A)-(III), (B)-(II), (C)-(IV), (D)-(I)

(4) (A)-(I), (B)-(IV), (C)-(III), (D)-(II)

Options :

212807115797. 1

212807115798. 2

212807115799. 3

212807115800. 4

Question Number : 395 Question Id : 21280728950 Question Type : MCQ Option Shuffling : No Is Question Mandatory : No Calculator : None Response Time : N.A Think Time : N.A Minimum Instruction Time : 0

Correct Marks : 5 Wrong Marks : 1

Question Key Details :

Key	Value
Comprehension	MCQ1

सूची-I से सूची-II का मिलान कीजिए:

सूची-I

सूची-II

(A) $\left[1 + \left(\frac{dy}{dx}\right)^2\right] = \left(\frac{d^2y}{dx^2}\right)^2$

(I) कोटि = 2, घात = 2

(B) $\frac{d^3y}{dx^3} - 3\frac{d^2y}{dx^2} + 2\left(\frac{dy}{dx}\right)^4 = y^4$

(II) कोटि = 3, घात = 2

(C) $\left(1 + \frac{dy}{dx}\right)^3 = \left(\frac{d^3y}{dx^3}\right)^2$

(III) कोटि = 2, घात = 1

(D) $\left[1 + \left(\frac{dy}{dx}\right)^2\right]^2 = \frac{d^2y}{dx^2}$

(IV) कोटि = 3, घात = 1

नीचे दिए गए विकल्पों में से सही उत्तर का चयन कीजिए :

- (1) (A)-(I), (B)-(IV), (C)-(II), (D)-(III)
- (2) (A)-(II), (B)-(III), (C)-(IV), (D)-(I)
- (3) (A)-(III), (B)-(II), (C)-(IV), (D)-(I)
- (4) (A)-(I), (B)-(IV), (C)-(III), (D)-(II)

Options :

212807115797. 1

212807115798. 2

212807115799. 3

212807115800. 4

Question Number : 396 Question Id : 21280728951 Question Type : MCQ Option Shuffling : No Is Question Mandatory : No Calculator : None Response Time : N.A Think Time : N.A Minimum Instruction Time : 0

Correct Marks : 5 Wrong Marks : 1

Question Key Details :

Key	Value
Comprehension	MCQ1

Match List - I with List - II.

List - I

Differential equation

(A) $\frac{dy}{dx} - \frac{y}{x} = 2x$

(B) $\frac{dy}{dx} + \left(\frac{2x}{x^2-1}\right)y = \frac{2}{(x^2-1)^2}$

(C) $\frac{dy}{dx} - \left(\frac{x}{1-x^2}\right)y = \frac{1}{1-x^2}$

(D) $\frac{dy}{dx} + \frac{2xy}{1+x^2} = \frac{\cot x}{1+x^2}$

List - II

Integrating Factor (I.F.)

(I) $x^2 - 1$

(II) $\sqrt{1-x^2}$

(III) $\frac{1}{x}$

(IV) $1+x^2$

Choose the **correct** answer from the options given below :

- (1) (A)-(III), (B)-(I), (C)-(IV), (D)-(II)
- (2) (A)-(III), (B)-(IV), (C)-(I), (D)-(II)
- (3) (A)-(III), (B)-(II), (C)-(I), (D)-(IV)
- (4) (A)-(III), (B)-(I), (C)-(II), (D)-(IV)

Options :

212807115801. 1
212807115802. 2
212807115803. 3
212807115804. 4

Question Number : 396 Question Id : 21280728951 Question Type : MCQ Option Shuffling : No Is Question Mandatory : No Calculator : None
Response Time : N.A Think Time : N.A Minimum Instruction Time : 0

Correct Marks : 5 Wrong Marks : 1

Question Key Details :

Key	Value
Comprehension	MCQ1

सूची-I से सूची-II का मिलान कीजिए:

सूची-I

अवकलन समीकरण

सूची-II

समाकलन गुणक

(A) $\frac{dy}{dx} - \frac{y}{x} = 2x$

(I) $x^2 - 1$

(B) $\frac{dy}{dx} + \left(\frac{2x}{x^2 - 1}\right)y = \frac{2}{(x^2 - 1)^2}$

(II) $\sqrt{1 - x^2}$

(C) $\frac{dy}{dx} - \left(\frac{x}{1 - x^2}\right)y = \frac{1}{1 - x^2}$

(III) $\frac{1}{x}$

(D) $\frac{dy}{dx} + \frac{2xy}{1 + x^2} = \frac{\cot x}{1 + x^2}$

(IV) $1 + x^2$

नीचे दिए गए विकल्पों में से सही उत्तर का चयन कीजिए :

- (1) (A)-(III), (B)-(I), (C)-(IV), (D)-(II)
- (2) (A)-(III), (B)-(IV), (C)-(I), (D)-(II)
- (3) (A)-(III), (B)-(II), (C)-(I), (D)-(IV)
- (4) (A)-(III), (B)-(I), (C)-(II), (D)-(IV)

Options :

212807115801. 1
212807115802. 2
212807115803. 3
212807115804. 4

Question Number : 397 Question Id : 21280728952 Question Type : MCQ Option Shuffling : No Is Question Mandatory : No Calculator : None
Response Time : N.A Think Time : N.A Minimum Instruction Time : 0

Correct Marks : 5 Wrong Marks : 1

Question Key Details :

Key	Value
Comprehension	MCQ1

Corner points of the feasible region for a linear programming program are (0, 2), (3, 0), (4, 1), (2, 3) and (0, 3).

Let $F = 4x + 6y$ be the objective function.

The minimum value of F occurs at :

- (1) (0, 2) only
- (2) (3, 0) only
- (3) mid point of the line segment joining the points (0, 2) and (3, 0) only
- (4) every point on the line segment joining the points (0, 2) and (3, 0)

Options :

212807115805. 1
212807115806. 2
212807115807. 3
212807115808. 4

Question Number : 397 Question Id : 21280728952 Question Type : MCQ Option Shuffling : No Is Question Mandatory : No Calculator : None
Response Time : N.A Think Time : N.A Minimum Instruction Time : 0

Correct Marks : 5 Wrong Marks : 1

Question Key Details :

Key	Value
Comprehension	MCQ1

किसी LPP के सुसंगत क्षेत्र के कोनीय बिंदु $(0, 2)$, $(3, 0)$, $(4, 1)$, $(2, 3)$ तथा $(0, 3)$ हैं।

यदि $F = 4x + 6y$ एक उद्देश्य फलन है।

तो F का न्यूनतम मान है :

- (1) केवल $(0, 2)$ पर
- (2) केवल $(3, 0)$ पर
- (3) $(0, 2)$ तथा $(3, 0)$ को मिलाने वाली रेखाखंड के मध्य बिंदु पर
- (4) $(0, 2)$ and $(3, 0)$ को मिलाने वाली रेखाखंड के प्रत्येक बिंदु पर

Options :

212807115805. 1

212807115806. 2

212807115807. 3

212807115808. 4

Question Number : 398 Question Id : 21280728953 Question Type : MCQ Option Shuffling : No Is Question Mandatory : No Calculator : None
Response Time : N.A Think Time : N.A Minimum Instruction Time : 0

Correct Marks : 5 Wrong Marks : 1

Question Key Details :

Key	Value
Comprehension	MCQ1

For the objective function $z = px + qy$, where $p, q > 0$ the corner points of the feasible region determined by the system of linear constraints are - $(0, 10)$, $(5, 5)$, $(15, 15)$ and $(0, 20)$, condition on p and q so that maximum of z occurs at both the points $(15, 15)$ and $(0, 20)$ is :

- (1) $p = q$
- (2) $p = 2q$
- (3) $q = 2p$
- (4) $q = 3p$

Options :

212807115809. 1

212807115810. 2

212807115811. 3

212807115812. 4

Question Number : 398 Question Id : 21280728953 Question Type : MCQ Option Shuffling : No Is Question Mandatory : No Calculator : None
Response Time : N.A Think Time : N.A Minimum Instruction Time : 0

Correct Marks : 5 Wrong Marks : 1

Question Key Details :

Key	Value
Comprehension	MCQ1

उद्देश्य फलन $z = px + qy$, जहाँ $p, q > 0$ के लिए सुसंगत क्षेत्र के कोनीय बिंदु - $(0, 10)$, $(5, 5)$, $(15, 15)$ तथा $(0, 20)$ हैं, जिनका निर्धारण रेखिक व्यवरोधों के निकाय द्वारा होता है। p एवं q के बीच वह शर्त जहाँ दो बिंदु $(15, 15)$ तथा $(0, 20)$ पर z अधिकतम हो _____ :

- (1) $p = q$
- (2) $p = 2q$
- (3) $q = 2p$
- (4) $q = 3p$

Options :

212807115809. 1
212807115810. 2
212807115811. 3
212807115812. 4

Question Number : 399 Question Id : 21280728954 Question Type : MCQ Option Shuffling : No Is Question Mandatory : No Calculator : None Response Time : N.A Think Time : N.A Minimum Instruction Time : 0

Correct Marks : 5 Wrong Marks : 1

Question Key Details :

Key	Value
Comprehension	MCQ1

A random variable X has the following probability distribution :

X	1	2	3	4	5	6	7
P(X)	C	2C	2C	3C	C ²	2C ²	7C ² +C

Then the value of C is :

- (1) $\frac{1}{10}$
- (2) $\frac{1}{5}$
- (3) $\frac{3}{10}$
- (4) -1

Options :

212807115813. 1
212807115814. 2
212807115815. 3
212807115816. 4

Question Number : 399 Question Id : 21280728954 Question Type : MCQ Option Shuffling : No Is Question Mandatory : No Calculator : None Response Time : N.A Think Time : N.A Minimum Instruction Time : 0

Correct Marks : 5 Wrong Marks : 1

Question Key Details :

Key	Value
Comprehension	MCQ1

एक यादृच्छिक चर X का प्रायिकता बंटन है :

X	1	2	3	4	5	6	7
P(X)	C	2C	2C	3C	C ²	2C ²	7C ² +C

तब C का मान है :

(1) $\frac{1}{10}$

(2) $\frac{1}{5}$

(3) $\frac{3}{10}$

(4) -1

Options :

212807115813. 1

212807115814. 2

212807115815. 3

212807115816. 4

Question Number : 400 Question Id : 21280728955 Question Type : MCQ Option Shuffling : No Is Question Mandatory : No Calculator : None Response Time : N.A Think Time : N.A Minimum Instruction Time : 0

Correct Marks : 5 Wrong Marks : 1

Question Key Details :

Key	Value
Comprehension	MCQ1

If the mean of Binomial distribution is 5 and Variance is 3 then the value of p (probability of success) is :

(1) $\frac{1}{5}$

(2) $\frac{2}{5}$

(3) $\frac{3}{5}$

(4) $\frac{4}{5}$

Options :

212807115817. 1

212807115818. 2

212807115819. 3

212807115820. 4

Question Number : 400 Question Id : 21280728955 Question Type : MCQ Option Shuffling : No Is Question Mandatory : No Calculator : None Response Time : N.A Think Time : N.A Minimum Instruction Time : 0

Correct Marks : 5 Wrong Marks : 1

Question Key Details :

Key	Value
Comprehension	MCQ1

यदि द्विपद बंटन का माध्य 5 और प्रसरण 3 है तब p (सफलता की प्रायिकता) है _____ :

(1) $\frac{1}{5}$

(2) $\frac{2}{5}$

(3) $\frac{3}{5}$

(4) $\frac{4}{5}$

Options :

212807115817. 1

212807115818. 2

212807115819. 3

212807115820. 4

Core Mathematics

Section Id :	212807736
Section Number :	2
Section type :	Online
Mandatory or Optional :	Optional
Number of Questions :	35
Number of Questions to be attempted :	25
Section Marks :	125
Enable Mark as Answered Mark for Review and Clear Response :	Yes
Maximum Instruction Time :	0
Sub-Section Number :	1
Sub-Section Id :	2128072107
Question Shuffling Allowed :	Yes
Is Section Default? :	null

Question Number : 401 Question Id : 21280728956 Question Type : MCQ Option Shuffling : No Is Question Mandatory : No Calculator : None Response Time : N.A Think Time : N.A Minimum Instruction Time : 0

Correct Marks : 5 Wrong Marks : 1

Question Key Details :

Key	Value
Comprehension	MCQ2

Let $f(x) = |x|$ and $g(x) = [x]$, then the value of $f \circ g\left(-\frac{9}{2}\right) - g \circ f\left(-\frac{9}{2}\right)$ is :

(1) -1

(2) 1

(3) -9

(4) 9

Options :

212807115821. 1

212807115822. 2

212807115823. 3

212807115824. 4

Question Number : 401 Question Id : 21280728956 Question Type : MCQ Option Shuffling : No Is Question Mandatory : No Calculator : None

Response Time : N.A Think Time : N.A Minimum Instruction Time : 0

Correct Marks : 5 Wrong Marks : 1

Question Key Details :

Key	Value
Comprehension	MCQ2

माना $f(x) = |x|$ तथा $g(x) = [x]$ तब $f \circ g\left(-\frac{9}{2}\right) - g \circ f\left(-\frac{9}{2}\right)$ का मान है :

- (1) -1
- (2) 1
- (3) -9
- (4) 9

Options :

212807115821. 1

212807115822. 2

212807115823. 3

212807115824. 4

Question Number : 402 Question Id : 21280728957 Question Type : MCQ Option Shuffling : No Is Question Mandatory : No Calculator : None
Response Time : N.A Think Time : N.A Minimum Instruction Time : 0

Correct Marks : 5 Wrong Marks : 1

Question Key Details :

Key	Value
Comprehension	MCQ2

Let R be a relation on the set of integers Z such that $R = \{(a, b), a = 2^k b, a, b, k \in Z\}$, then R is :

- (1) Reflexive but not Symmetric and Transitive
- (2) Symmetric and Reflexive but not Transitive
- (3) Equivalence relation
- (4) Reflexive and Transitive but not Symmetric

Options :

212807115825. 1

212807115826. 2

212807115827. 3

212807115828. 4

Question Number : 402 Question Id : 21280728957 Question Type : MCQ Option Shuffling : No Is Question Mandatory : No Calculator : None
Response Time : N.A Think Time : N.A Minimum Instruction Time : 0

Correct Marks : 5 Wrong Marks : 1

Question Key Details :

Key	Value
Comprehension	MCQ2

माना R पूर्णाकों के समुच्चय Z पर संबंध इस प्रकार है कि $R = \{(a, b), a = 2^k b, a, b, k \in Z\}$ तो R होगा :

- (1) स्वतुल्य परंतु संक्रामक व सममित नहीं
- (2) सममित एवं स्वतुल्य पर संक्रामक नहीं
- (3) तुल्यता संबंध
- (4) स्वतुल्य एवं संक्रामक परंतु सममित नहीं

Options :

212807115825. 1

212807115826. 2

212807115827. 3

Question Number : 403 Question Id : 21280728958 Question Type : MCQ Option Shuffling : No Is Question Mandatory : No Calculator : None
Response Time : N.A Think Time : N.A Minimum Instruction Time : 0

Correct Marks : 5 Wrong Marks : 1

Question Key Details :

Key	Value
Comprehension	MCQ2

The value of $\sin\left(2\sin^{-1}\frac{4}{5}\right)$ is given by :

(1) $\frac{16}{25}$

(2) $\frac{24}{25}$

(3) $\frac{9}{25}$

(4) $\frac{12}{25}$

Options :

212807115829. 1

212807115830. 2

212807115831. 3

212807115832. 4

Question Number : 403 Question Id : 21280728958 Question Type : MCQ Option Shuffling : No Is Question Mandatory : No Calculator : None
Response Time : N.A Think Time : N.A Minimum Instruction Time : 0

Correct Marks : 5 Wrong Marks : 1

Question Key Details :

Key	Value
Comprehension	MCQ2

दिये गये $\sin\left(2\sin^{-1}\frac{4}{5}\right)$ का मान होगा :

(1) $\frac{16}{25}$

(2) $\frac{24}{25}$

(3) $\frac{9}{25}$

(4) $\frac{12}{25}$

Options :

212807115829. 1

212807115830. 2

212807115831. 3

212807115832. 4

Question Number : 404 Question Id : 21280728959 Question Type : MCQ Option Shuffling : No Is Question Mandatory : No Calculator : None
Response Time : N.A Think Time : N.A Minimum Instruction Time : 0

Correct Marks : 5 Wrong Marks : 1

Question Key Details :

Key	Value
Comprehension	MCQ2

If $\cos^{-1} \sqrt{3}x + \cos^{-1} x = \frac{\pi}{2}$, then the value of x is :

- (1) $\frac{1}{2}$
(2) $-\frac{1}{2}$
(3) $\frac{1}{\sqrt{2}}$
(4) $-\frac{1}{\sqrt{2}}$

Options :

212807115833. 1

212807115834. 2

212807115835. 3

212807115836. 4

Question Number : 404 Question Id : 21280728959 Question Type : MCQ Option Shuffling : No Is Question Mandatory : No Calculator : None
Response Time : N.A Think Time : N.A Minimum Instruction Time : 0

Correct Marks : 5 Wrong Marks : 1

Question Key Details :

Key	Value
Comprehension	MCQ2

यदि $\cos^{-1} \sqrt{3}x + \cos^{-1} x = \frac{\pi}{2}$ तब x का मान है :

- (1) $\frac{1}{2}$
(2) $-\frac{1}{2}$
(3) $\frac{1}{\sqrt{2}}$
(4) $-\frac{1}{\sqrt{2}}$

Options :

212807115833. 1

212807115834. 2

212807115835. 3

212807115836. 4

Question Number : 405 Question Id : 21280728960 Question Type : MCQ Option Shuffling : No Is Question Mandatory : No Calculator : None
Response Time : N.A Think Time : N.A Minimum Instruction Time : 0

Correct Marks : 5 Wrong Marks : 1

Question Key Details :

Key	Value
Comprehension	MCQ2

If $A = \begin{bmatrix} 1 & 0 \\ \frac{1}{25} & 1 \end{bmatrix}$, then the value of A^{125} is :

(1) $\begin{bmatrix} 1 & 5 \\ 0 & 1 \end{bmatrix}$

(2) $\begin{bmatrix} 0 & 1 \\ 1 & 5 \end{bmatrix}$

(3) $\begin{bmatrix} 1 & 0 \\ 5 & 1 \end{bmatrix}$

(4) $\begin{bmatrix} 5 & 1 \\ 1 & 0 \end{bmatrix}$

Options :

212807115837. 1

212807115838. 2

212807115839. 3

212807115840. 4

Question Number : 405 Question Id : 21280728960 Question Type : MCQ Option Shuffling : No Is Question Mandatory : No Calculator : None
Response Time : N.A Think Time : N.A Minimum Instruction Time : 0

Correct Marks : 5 Wrong Marks : 1

Question Key Details :

Key	Value
Comprehension	MCQ2

यदि $A = \begin{bmatrix} 1 & 0 \\ \frac{1}{25} & 1 \end{bmatrix}$, तब A^{125} का मान है :

(1) $\begin{bmatrix} 1 & 5 \\ 0 & 1 \end{bmatrix}$

(2) $\begin{bmatrix} 0 & 1 \\ 1 & 5 \end{bmatrix}$

(3) $\begin{bmatrix} 1 & 0 \\ 5 & 1 \end{bmatrix}$

(4) $\begin{bmatrix} 5 & 1 \\ 1 & 0 \end{bmatrix}$

Options :

212807115837. 1

212807115838. 2
212807115839. 3
212807115840. 4

Question Number : 406 Question Id : 21280728961 Question Type : MCQ Option Shuffling : No Is Question Mandatory : No Calculator : None
Response Time : N.A Think Time : N.A Minimum Instruction Time : 0

Correct Marks : 5 Wrong Marks : 1

Question Key Details :

Key	Value
Comprehension	MCQ2

If the matrix $\begin{pmatrix} 2 & 4 & 5 \\ 4 & 2 & 3 \\ K & 3 & 2 \end{pmatrix}$ is a symmetric matrix, then the value of K is :

- (1) - 5
- (2) 0
- (3) 5
- (4) 1

Options :

212807115841. 1
212807115842. 2
212807115843. 3
212807115844. 4

Question Number : 406 Question Id : 21280728961 Question Type : MCQ Option Shuffling : No Is Question Mandatory : No Calculator : None
Response Time : N.A Think Time : N.A Minimum Instruction Time : 0

Correct Marks : 5 Wrong Marks : 1

Question Key Details :

Key	Value
Comprehension	MCQ2

यदि आव्यूह $\begin{pmatrix} 2 & 4 & 5 \\ 4 & 2 & 3 \\ K & 3 & 2 \end{pmatrix}$ एक सममित आव्यूह है, तब K का मान बतायें है :

- (1) - 5
- (2) 0
- (3) 5
- (4) 1

Options :

212807115841. 1
212807115842. 2
212807115843. 3
212807115844. 4

Question Number : 407 Question Id : 21280728962 Question Type : MCQ Option Shuffling : No Is Question Mandatory : No Calculator : None
Response Time : N.A Think Time : N.A Minimum Instruction Time : 0

Correct Marks : 5 Wrong Marks : 1

Question Key Details :

Key	Value
Comprehension	MCQ2

If x, y, z are all distinct and $\begin{vmatrix} x & x^2 & 1+x^3 \\ y & y^2 & 1+y^3 \\ z & z^2 & 1+z^3 \end{vmatrix} = 0$, then the value of xyz is :

- (1) -2
 (2) -1
 (3) -3
 (4) 2

Options :

212807115845. 1
 212807115846. 2
 212807115847. 3
 212807115848. 4

Question Number : 407 Question Id : 21280728962 Question Type : MCQ Option Shuffling : No Is Question Mandatory : No Calculator : None Response Time : N.A Think Time : N.A Minimum Instruction Time : 0

Correct Marks : 5 Wrong Marks : 1

Question Key Details :

Key	Value
Comprehension	MCQ2

यदि x, y, z विभिन्न हो और $\begin{vmatrix} x & x^2 & 1+x^3 \\ y & y^2 & 1+y^3 \\ z & z^2 & 1+z^3 \end{vmatrix} = 0$, तब xyz का मान है :

- (1) -2
 (2) -1
 (3) -3
 (4) 2

Options :

212807115845. 1
 212807115846. 2
 212807115847. 3
 212807115848. 4

Question Number : 408 Question Id : 21280728963 Question Type : MCQ Option Shuffling : No Is Question Mandatory : No Calculator : None Response Time : N.A Think Time : N.A Minimum Instruction Time : 0

Correct Marks : 5 Wrong Marks : 1

Question Key Details :

Key	Value
Comprehension	MCQ2

By using the determinants the area of the triangle with vertices (0, 0), (0, 1) and (1, 0) is :

(1) 1

(2) 2

(3) $\frac{1}{2}$

(4) $\frac{1}{4}$

Options :

212807115849. 1

212807115850. 2

212807115851. 3

212807115852. 4

Question Number : 408 Question Id : 21280728963 Question Type : MCQ Option Shuffling : No Is Question Mandatory : No Calculator : None Response Time : N.A Think Time : N.A Minimum Instruction Time : 0

Correct Marks : 5 Wrong Marks : 1

Question Key Details :

Key	Value
Comprehension	MCQ2

एक त्रिभुज जिसके शीर्ष (0, 0), (0, 1) और (1, 0) हैं, सारणिक विधि द्वारा इसका क्षेत्रफल है :

(1) 1

(2) 2

(3) $\frac{1}{2}$

(4) $\frac{1}{4}$

Options :

212807115849. 1

212807115850. 2

212807115851. 3

212807115852. 4

Question Number : 409 Question Id : 21280728964 Question Type : MCQ Option Shuffling : No Is Question Mandatory : No Calculator : None Response Time : N.A Think Time : N.A Minimum Instruction Time : 0

Correct Marks : 5 Wrong Marks : 1

Question Key Details :

Key	Value
Comprehension	MCQ2

If A is a skew-symmetric matrix of order $n \times n$ and a_{ij} is the $(i, j)^{\text{th}}$ elements, then :

(1) $a_{ij} = \frac{1}{a_{ji}}$ for all values of i and j

(2) $a_{ij} = 0$ when $i = j$

(3) $a_{ij} \neq 0$ for all values of i and j

(4) $a_{ij} \neq 0$ when $i = j$ only

Options :

212807115853. 1

212807115854. 2
212807115855. 3
212807115856. 4

Question Number : 409 Question Id : 21280728964 Question Type : MCQ Option Shuffling : No Is Question Mandatory : No Calculator : None
Response Time : N.A Think Time : N.A Minimum Instruction Time : 0

Correct Marks : 5 Wrong Marks : 1

Question Key Details :

Key	Value
Comprehension	MCQ2

यदि A एक विषम सममित आव्यूह को कोटि $n \times n$ और a_{ij} $(i, j)^{\text{th}}$ अवयव है तब :

(1) $a_{ij} = \frac{1}{a_{ji}}$ i और j के सभी मानों के लिए

(2) $a_{ij} = 0$ जब $i = j$

(3) $a_{ij} \neq 0$ i और j के सभी मानों के लिए

(4) $a_{ij} \neq 0$ जब केवल $i = j$

Options :

212807115853. 1
212807115854. 2
212807115855. 3
212807115856. 4

Question Number : 410 Question Id : 21280728965 Question Type : MCQ Option Shuffling : No Is Question Mandatory : No Calculator : None
Response Time : N.A Think Time : N.A Minimum Instruction Time : 0

Correct Marks : 5 Wrong Marks : 1

Question Key Details :

Key	Value
Comprehension	MCQ2

The value of the determinant $\begin{vmatrix} a+b & b+c & c+a \\ c & a & b \\ 1 & 1 & 1 \end{vmatrix}$ is :

(1) 0

(2) -1

(3) 1

(4) 2

Options :

212807115857. 1
212807115858. 2
212807115859. 3
212807115860. 4

Question Number : 410 Question Id : 21280728965 Question Type : MCQ Option Shuffling : No Is Question Mandatory : No Calculator : None
Response Time : N.A Think Time : N.A Minimum Instruction Time : 0

Correct Marks : 5 Wrong Marks : 1

Question Key Details :

Key	Value
Comprehension	MCQ2

सारणिक $\begin{vmatrix} a+b & b+c & c+a \\ c & a & b \\ 1 & 1 & 1 \end{vmatrix}$ का मान है :

- (1) 0
 (2) -1
 (3) 1
 (4) 2

Options :

212807115857. 1
 212807115858. 2
 212807115859. 3
 212807115860. 4

Question Number : 411 Question Id : 21280728966 Question Type : MCQ Option Shuffling : No Is Question Mandatory : No Calculator : None
 Response Time : N.A Think Time : N.A Minimum Instruction Time : 0

Correct Marks : 5 Wrong Marks : 1

Question Key Details :

Key	Value
Comprehension	MCQ2

If $f(x) = \begin{cases} \frac{\tan\left(\frac{\pi}{4} - x\right)}{\cot 2x}, & x \neq \frac{\pi}{4} \\ K & , x = \frac{\pi}{4} \end{cases}$ is continuous at $x = \frac{\pi}{4}$, then the value of K is :

- (1) 1
 (2) 2
 (3) $\frac{1}{2}$
 (4) $\frac{1}{4}$

Options :

212807115861. 1
 212807115862. 2
 212807115863. 3
 212807115864. 4

Question Number : 411 Question Id : 21280728966 Question Type : MCQ Option Shuffling : No Is Question Mandatory : No Calculator : None
 Response Time : N.A Think Time : N.A Minimum Instruction Time : 0

Correct Marks : 5 Wrong Marks : 1

Question Key Details :

Key	Value
Comprehension	MCQ2

यदि फलन $f(x) = \begin{cases} \frac{\tan\left(\frac{\pi}{4} - x\right)}{\cot 2x}, & x \neq \frac{\pi}{4} \\ K & x = \frac{\pi}{4} \end{cases}$ $x = \frac{\pi}{4}$ पर संतत है तब K का मान है :

- (1) 1
 (2) 2
 (3) $\frac{1}{2}$
 (4) $\frac{1}{4}$

Options :

212807115861. 1
 212807115862. 2
 212807115863. 3
 212807115864. 4

Question Number : 412 Question Id : 21280728967 Question Type : MCQ Option Shuffling : No Is Question Mandatory : No Calculator : None
 Response Time : N.A Think Time : N.A Minimum Instruction Time : 0

Correct Marks : 5 Wrong Marks : 1

Question Key Details :

Key	Value
Comprehension	MCQ2

The function $f(x) = \begin{cases} \frac{x^2 + 2x - 3}{x - 1} & x \neq 1 \\ 2 & x = 1 \end{cases}$ is :

- (1) continuous at $x = 1$ only
 (2) discontinuous at $x = 1$
 (3) continuous at every real number
 (4) discontinuous at every real number

Options :

212807115865. 1
 212807115866. 2
 212807115867. 3
 212807115868. 4

Question Number : 412 Question Id : 21280728967 Question Type : MCQ Option Shuffling : No Is Question Mandatory : No Calculator : None
 Response Time : N.A Think Time : N.A Minimum Instruction Time : 0

Correct Marks : 5 Wrong Marks : 1

Question Key Details :

Key	Value
Comprehension	MCQ2

यदि फलन $f(x) = \begin{cases} \frac{x^2 + 2x - 3}{x - 1} & x \neq 1 \\ 2 & x = 1 \end{cases}$ है :

- (1) संतत, केवल $x=1$ पर
- (2) असंतत, $x=1$ पर
- (3) संतत, प्रत्येक वास्तविक संख्या पर
- (4) असंतत, प्रत्येक वास्तविक संख्या पर

Options :

212807115865. 1
212807115866. 2
212807115867. 3
212807115868. 4

Question Number : 413 Question Id : 21280728968 Question Type : MCQ Option Shuffling : No Is Question Mandatory : No Calculator : None Response Time : N.A Think Time : N.A Minimum Instruction Time : 0

Correct Marks : 5 Wrong Marks : 1

Question Key Details :

Key	Value
Comprehension	MCQ2

If $y = 5\cos x - 3\sin x$, then $\frac{d^2y}{dx^2}$ is equal to :

- (1) y
- (2) $-y$
- (3) $2y$
- (4) $-2y$

Options :

212807115869. 1
212807115870. 2
212807115871. 3
212807115872. 4

Question Number : 413 Question Id : 21280728968 Question Type : MCQ Option Shuffling : No Is Question Mandatory : No Calculator : None Response Time : N.A Think Time : N.A Minimum Instruction Time : 0

Correct Marks : 5 Wrong Marks : 1

Question Key Details :

Key	Value
Comprehension	MCQ2

यदि $y = 5\cos x - 3\sin x$, तब $\frac{d^2y}{dx^2}$ बराबर है _____ :

- (1) y
- (2) $-y$
- (3) $2y$
- (4) $-2y$

Options :

212807115869. 1

212807115870. 2
212807115871. 3
212807115872. 4

Question Number : 414 Question Id : 21280728969 Question Type : MCQ Option Shuffling : No Is Question Mandatory : No Calculator : None
Response Time : N.A Think Time : N.A Minimum Instruction Time : 0

Correct Marks : 5 Wrong Marks : 1

Question Key Details :

Key	Value
Comprehension	MCQ2

For which values of a , $f(x) = a(x + \sin x)$ is an increasing function ?

- (1) $a \leq 0$
- (2) $a \in (0, \infty)$
- (3) $a \in [0, \infty)$
- (4) $a \in \mathbb{R}$ (set of real numbers)

Options :

212807115873. 1
212807115874. 2
212807115875. 3
212807115876. 4

Question Number : 414 Question Id : 21280728969 Question Type : MCQ Option Shuffling : No Is Question Mandatory : No Calculator : None
Response Time : N.A Think Time : N.A Minimum Instruction Time : 0

Correct Marks : 5 Wrong Marks : 1

Question Key Details :

Key	Value
Comprehension	MCQ2

$f(x) = a(x + \sin x)$ एक वर्धमान फलन है, a के मान हैं _____ :

- (1) $a \leq 0$
- (2) $a \in (0, \infty)$
- (3) $a \in [0, \infty)$
- (4) $a \in \mathbb{R}$ (वास्तविक संख्याओं का समुच्चय)

Options :

212807115873. 1
212807115874. 2
212807115875. 3
212807115876. 4

Question Number : 415 Question Id : 21280728970 Question Type : MCQ Option Shuffling : No Is Question Mandatory : No Calculator : None
Response Time : N.A Think Time : N.A Minimum Instruction Time : 0

Correct Marks : 5 Wrong Marks : 1

Question Key Details :

Key	Value
Comprehension	MCQ2

The function $f(x) = \tan x - x$ for $x \in \left(0, \frac{\pi}{2}\right)$ is :

- (1) increasing function
- (2) decreasing function
- (3) neither increasing nor decreasing function
- (4) strictly decreasing function

Options :

- 212807115877. 1
- 212807115878. 2
- 212807115879. 3
- 212807115880. 4

Question Number : 415 Question Id : 21280728970 Question Type : MCQ Option Shuffling : No Is Question Mandatory : No Calculator : None Response Time : N.A Think Time : N.A Minimum Instruction Time : 0

Correct Marks : 5 Wrong Marks : 1

Question Key Details :

Key	Value
Comprehension	MCQ2

$x \in \left(0, \frac{\pi}{2}\right)$ के लिए फलन $f(x) = \tan x - x$ है

- (1) वर्धमान फलन
- (2) ह्रासमान फलन
- (3) ना वर्धमान, ना ह्रासमान
- (4) निरंतर ह्रासमान फलन

Options :

- 212807115877. 1
- 212807115878. 2
- 212807115879. 3
- 212807115880. 4

Question Number : 416 Question Id : 21280728971 Question Type : MCQ Option Shuffling : No Is Question Mandatory : No Calculator : None Response Time : N.A Think Time : N.A Minimum Instruction Time : 0

Correct Marks : 5 Wrong Marks : 1

Question Key Details :

Key	Value
Comprehension	MCQ2

If the length of a simple pendulum is decreased by 3%, the percentage change in its period T is :

[Note : $T = 2\pi \sqrt{\frac{L}{g}}$ where L is the length of pendulum and g is constant]

- (1) 1.5% decrease
- (2) 1.8% decrease
- (3) 2% increase
- (4) 2.5% decrease

Options :

- 212807115881. 1
- 212807115882. 2
- 212807115883. 3
- 212807115884. 4

Question Number : 416 Question Id : 21280728971 Question Type : MCQ Option Shuffling : No Is Question Mandatory : No Calculator : None Response Time : N.A Think Time : N.A Minimum Instruction Time : 0

Correct Marks : 5 Wrong Marks : 1

Question Key Details :

Key	Value
Comprehension	MCQ2

यदि एक सरल लोलक की लम्बाई में 3% कमी की गयी, तो उसके समय T में कितने प्रतिशत बदलाव होगा :

[नोट : $T = 2\pi\sqrt{\frac{L}{g}}$ जहाँ L सरल लोलक की लम्बाई और g एक नियतांक है]

- (1) 1.5% कमी
- (2) 1.8% कमी
- (3) 2% वृद्धि
- (4) 2.5% कमी

Options :

212807115881. 1
212807115882. 2
212807115883. 3
212807115884. 4

Question Number : 417 Question Id : 21280728972 Question Type : MCQ Option Shuffling : No Is Question Mandatory : No Calculator : None
Response Time : N.A Think Time : N.A Minimum Instruction Time : 0

Correct Marks : 5 Wrong Marks : 1

Question Key Details :

Key	Value
Comprehension	MCQ2

The value of $\int_{-\frac{\pi}{2}}^{\frac{\pi}{2}} (\sin|x| - \cos|x|) dx$ is :

- (1) -1
- (2) 2
- (3) 0
- (4) 1

Options :

212807115885. 1
212807115886. 2
212807115887. 3
212807115888. 4

Question Number : 417 Question Id : 21280728972 Question Type : MCQ Option Shuffling : No Is Question Mandatory : No Calculator : None
Response Time : N.A Think Time : N.A Minimum Instruction Time : 0

Correct Marks : 5 Wrong Marks : 1

Question Key Details :

Key	Value
Comprehension	MCQ2

$$\int_{-\frac{\pi}{2}}^{\frac{\pi}{2}} (\sin|x| - \cos|x|) dx \text{ का मान है :}$$

- (1) -1
 (2) 2
 (3) 0
 (4) 1

Options :

212807115885. 1
 212807115886. 2
 212807115887. 3
 212807115888. 4

Question Number : 418 Question Id : 21280728973 Question Type : MCQ Option Shuffling : No Is Question Mandatory : No Calculator : None Response Time : N.A Think Time : N.A Minimum Instruction Time : 0

Correct Marks : 5 Wrong Marks : 1

Question Key Details :

Key	Value
Comprehension	MCQ2

The value of $\int \frac{\cos x dx}{(1 + \sin x)(2 + \sin x)}$ is :

- (1) $\log \left| \frac{1}{(1 + \sin x)(2 + \sin x)} \right| + C$, where C is a constant
 (2) $\log \left| \frac{2 + \cos x}{1 + \cos x} \right| + C$, where C is a constant
 (3) $\log \left| \frac{2 + \sin x}{1 + \sin x} \right| + C$, where C is a constant
 (4) $\log \left| \frac{1 + \sin x}{2 + \sin x} \right| + C$, where C is a constant

Options :

212807115889. 1
 212807115890. 2
 212807115891. 3
 212807115892. 4

Question Number : 418 Question Id : 21280728973 Question Type : MCQ Option Shuffling : No Is Question Mandatory : No Calculator : None Response Time : N.A Think Time : N.A Minimum Instruction Time : 0

Correct Marks : 5 Wrong Marks : 1

Question Key Details :

Key	Value
Comprehension	MCQ2

$\int \frac{\cos x \, dx}{(1 + \sin x)(2 + \sin x)}$ का मान है :

(1) $\log \left| \frac{1}{(1 + \sin x)(2 + \sin x)} \right| + C$, जहाँ C एक अचर है

(2) $\log \left| \frac{2 + \cos x}{1 + \cos x} \right| + C$, जहाँ C एक अचर है

(3) $\log \left| \frac{2 + \sin x}{1 + \sin x} \right| + C$, जहाँ C एक अचर है

(4) $\log \left| \frac{1 + \sin x}{2 + \sin x} \right| + C$, जहाँ C एक अचर है

Options :

- 212807115889. 1
- 212807115890. 2
- 212807115891. 3
- 212807115892. 4

Question Number : 419 Question Id : 21280728974 Question Type : MCQ Option Shuffling : No Is Question Mandatory : No Calculator : None Response Time : N.A Think Time : N.A Minimum Instruction Time : 0

Correct Marks : 5 Wrong Marks : 1

Question Key Details :

Key	Value
Comprehension	MCQ2

Using integration the area enclosed by the ellipse $\frac{x^2}{a^2} + \frac{y^2}{b^2} = 1$ is equal to :

- (1) πab
- (2) $\pi a^2 b$
- (3) $\pi^2 ab$
- (4) πab^2

Options :

- 212807115893. 1
- 212807115894. 2
- 212807115895. 3
- 212807115896. 4

Question Number : 419 Question Id : 21280728974 Question Type : MCQ Option Shuffling : No Is Question Mandatory : No Calculator : None Response Time : N.A Think Time : N.A Minimum Instruction Time : 0

Correct Marks : 5 Wrong Marks : 1

Question Key Details :

Key	Value
Comprehension	MCQ2

समाकलन विधि से दीर्घ वृत्त $\frac{x^2}{a^2} + \frac{y^2}{b^2} = 1$ द्वारा घिरे क्षेत्र का क्षेत्रफल है :

- (1) πab
- (2) $\pi a^2 b$
- (3) $\pi^2 ab$
- (4) πab^2

Options :

- 212807115893. 1
- 212807115894. 2
- 212807115895. 3
- 212807115896. 4

Question Number : 420 Question Id : 21280728975 Question Type : MCQ Option Shuffling : No Is Question Mandatory : No Calculator : None Response Time : N.A Think Time : N.A Minimum Instruction Time : 0

Correct Marks : 5 Wrong Marks : 1

Question Key Details :

Key	Value
Comprehension	MCQ2

The area of the region enclosed between $y^2 = 4x$ and $x = 1$ and $x = 3$ in the first quadrant is :

- (1) $\frac{4}{3}(3\sqrt{3} - 1)$
- (2) $\frac{4}{3}(3\sqrt{3} + 1)$
- (3) $\frac{2}{3}(3\sqrt{3} - 1)$
- (4) $\frac{8}{3}(3\sqrt{3} - 1)$

Options :

- 212807115897. 1
- 212807115898. 2
- 212807115899. 3
- 212807115900. 4

Question Number : 420 Question Id : 21280728975 Question Type : MCQ Option Shuffling : No Is Question Mandatory : No Calculator : None Response Time : N.A Think Time : N.A Minimum Instruction Time : 0

Correct Marks : 5 Wrong Marks : 1

Question Key Details :

Key	Value
Comprehension	MCQ2

$y^2 = 4x$ तथा $x = 1$ और $x = 3$ प्रथम चतुर्थांश से परिबद्ध क्षेत्र का क्षेत्रफल है :

(1) $\frac{4}{3}(3\sqrt{3} - 1)$

(2) $\frac{4}{3}(3\sqrt{3} + 1)$

(3) $\frac{2}{3}(3\sqrt{3} - 1)$

(4) $\frac{8}{3}(3\sqrt{3} - 1)$

Options :

212807115897. 1

212807115898. 2

212807115899. 3

212807115900. 4

Question Number : 421 Question Id : 21280728976 Question Type : MCQ Option Shuffling : No Is Question Mandatory : No Calculator : None Response Time : N.A Think Time : N.A Minimum Instruction Time : 0

Correct Marks : 5 Wrong Marks : 1

Question Key Details :

Key	Value
Comprehension	MCQ2

The general solution of the differential equation $\frac{dy}{dx} - \frac{y}{x} = x^2$ is :

(1) $y = \frac{x^3}{2} + C$, where C is a constant

(2) $y = \frac{x^3}{2} + Cx$, where C is a constant

(3) $y = \frac{x}{2} + Cx$, where C is a constant

(4) $y = \frac{x^3}{2} + Cx^2$, where C is a constant

Options :

212807115901. 1

212807115902. 2

212807115903. 3

212807115904. 4

Question Number : 421 Question Id : 21280728976 Question Type : MCQ Option Shuffling : No Is Question Mandatory : No Calculator : None Response Time : N.A Think Time : N.A Minimum Instruction Time : 0

Correct Marks : 5 Wrong Marks : 1

Question Key Details :

Key	Value
Comprehension	MCQ2

अवकलन समीकरण $\frac{dy}{dx} - \frac{y}{x} = x^2$ का व्यापक हल है :

(1) $y = \frac{x^3}{2} + C$, जहाँ C एक अचर है

(2) $y = \frac{x^3}{2} + Cx$, जहाँ C एक अचर है

(3) $y = \frac{x}{2} + Cx$, जहाँ C एक अचर है

(4) $y = \frac{x^3}{2} + Cx^2$, जहाँ C एक अचर है

Options :

212807115901. 1

212807115902. 2

212807115903. 3

212807115904. 4

Question Number : 422 Question Id : 21280728977 Question Type : MCQ Option Shuffling : No Is Question Mandatory : No Calculator : None Response Time : N.A Think Time : N.A Minimum Instruction Time : 0

Correct Marks : 5 Wrong Marks : 1

Question Key Details :

Key	Value
Comprehension	MCQ2

The order and degree of the differential equation $\left(\frac{d^2y}{dx^2}\right)^2 + x^2\left(\frac{dy}{dx}\right)^3 + y = \sin x$ respectively are :

(1) 2, 2

(2) 2, 3

(3) 2, 1

(4) 1, 2

Options :

212807115905. 1

212807115906. 2

212807115907. 3

212807115908. 4

Question Number : 422 Question Id : 21280728977 Question Type : MCQ Option Shuffling : No Is Question Mandatory : No Calculator : None Response Time : N.A Think Time : N.A Minimum Instruction Time : 0

Correct Marks : 5 Wrong Marks : 1

Question Key Details :

Key	Value
Comprehension	MCQ2

अवकलन समीकरण $\left(\frac{d^2y}{dx^2}\right)^2 + x^2\left(\frac{dy}{dx}\right)^3 + y = \sin x$ की कोटि और घात क्रमशः हैं :

- (1) 2, 2
 (2) 2, 3
 (3) 2, 1
 (4) 1, 2

Options :

212807115905. 1
 212807115906. 2
 212807115907. 3
 212807115908. 4

Question Number : 423 Question Id : 21280728978 Question Type : MCQ Option Shuffling : No Is Question Mandatory : No Calculator : None Response Time : N.A Think Time : N.A Minimum Instruction Time : 0

Correct Marks : 5 Wrong Marks : 1

Question Key Details :

Key	Value
Comprehension	MCQ2

If two vectors \vec{a} and \vec{b} are such that $|\vec{a}| = 2$, $|\vec{b}| = 3$ and $\vec{a} \cdot \vec{b} = 4$, then $|\vec{a} - 2\vec{b}|$ is :

- (1) 24
 (2) $2\sqrt{2}$
 (3) $2\sqrt{6}$
 (4) 40

Options :

212807115909. 1
 212807115910. 2
 212807115911. 3
 212807115912. 4

Question Number : 423 Question Id : 21280728978 Question Type : MCQ Option Shuffling : No Is Question Mandatory : No Calculator : None Response Time : N.A Think Time : N.A Minimum Instruction Time : 0

Correct Marks : 5 Wrong Marks : 1

Question Key Details :

Key	Value
Comprehension	MCQ2

यदि दो सदिशों \vec{a} और \vec{b} इस प्रकार हे कि $|\vec{a}| = 2$, $|\vec{b}| = 3$ और $\vec{a} \cdot \vec{b} = 4$, तब $|\vec{a} - 2\vec{b}|$ है :

- (1) 24
 (2) $2\sqrt{2}$
 (3) $2\sqrt{6}$
 (4) 40

Options :

212807115909. 1

212807115910. 2
212807115911. 3
212807115912. 4

Question Number : 424 Question Id : 21280728979 Question Type : MCQ Option Shuffling : No Is Question Mandatory : No Calculator : None
Response Time : N.A Think Time : N.A Minimum Instruction Time : 0

Correct Marks : 5 Wrong Marks : 1

Question Key Details :

Key	Value
Comprehension	MCQ2

Match List - I with List - II.

List - I

List - II

(A) $\left(\hat{i} \times \hat{j}\right) + \left(\hat{j} \times \hat{i}\right)$

(I) 1

(B) $\hat{i} \cdot \hat{i} + \hat{j} \cdot \hat{j} + \hat{k} \cdot \hat{k}$

(II) $\hat{k} - \hat{j}$

(C) $\hat{i} \times \left(\hat{i} + \hat{j} + \hat{k}\right)$

(III) $\vec{0}$

(D) $\hat{i} \cdot \left(\hat{i} + \hat{j} + \hat{k}\right)$

(IV) 3

Choose the correct answer from the options given below :

(1) (A)-(II), (B)-(IV), (C)-(III), (D)-(I)

(2) (A)-(III), (B)-(IV), (C)-(II), (D)-(I)

(3) (A)-(III), (B)-(IV), (C)-(I), (D)-(II)

(4) (A)-(II), (B)-(IV), (C)-(I), (D)-(III)

Options :

212807115913. 1
212807115914. 2
212807115915. 3
212807115916. 4

Question Number : 424 Question Id : 21280728979 Question Type : MCQ Option Shuffling : No Is Question Mandatory : No Calculator : None
Response Time : N.A Think Time : N.A Minimum Instruction Time : 0

Correct Marks : 5 Wrong Marks : 1

Question Key Details :

Key	Value
Comprehension	MCQ2

सूची-I से सूची-II का मिलान कीजिए:

सूची-I	सूची-II
(A) $\left(\hat{i} \times \hat{j}\right) + \left(\hat{j} \times \hat{i}\right)$	(I) 1
(B) $\hat{i} \cdot \hat{i} + \hat{j} \cdot \hat{j} + \hat{k} \cdot \hat{k}$	(II) $\hat{k} - \hat{j}$
(C) $\hat{i} \times \left(\hat{i} + \hat{j} + \hat{k}\right)$	(III) $\vec{0}$
(D) $\hat{i} \cdot \left(\hat{i} + \hat{j} + \hat{k}\right)$	(IV) 3

नीचे दिए गए विकल्पों में से सही उत्तर का चयन कीजिए :

- (1) (A)-(II), (B)-(IV), (C)-(III), (D)-(I)
- (2) (A)-(III), (B)-(IV), (C)-(II), (D)-(I)
- (3) (A)-(III), (B)-(IV), (C)-(I), (D)-(II)
- (4) (A)-(II), (B)-(IV), (C)-(I), (D)-(III)

Options :

212807115913. 1
212807115914. 2
212807115915. 3
212807115916. 4

Question Number : 425 Question Id : 21280728980 Question Type : MCQ Option Shuffling : No Is Question Mandatory : No Calculator : None Response Time : N.A Think Time : N.A Minimum Instruction Time : 0

Correct Marks : 5 Wrong Marks : 1

Question Key Details :

Key	Value
Comprehension	MCQ2

The intercept made by the plane $2x - 3y + 5z + 4 = 0$ on z-axis is :

- (1) $-\frac{4}{5}$
- (2) - 2
- (3) $\frac{4}{3}$
- (4) 2

Options :

212807115917. 1
212807115918. 2
212807115919. 3
212807115920. 4

Question Number : 425 Question Id : 21280728980 Question Type : MCQ Option Shuffling : No Is Question Mandatory : No Calculator : None Response Time : N.A Think Time : N.A Minimum Instruction Time : 0

Correct Marks : 5 Wrong Marks : 1

Question Key Details :

Key	Value
-----	-------

समतल $2x - 3y + 5z + 4 = 0$ द्वारा z -अक्ष पर काटा गया अन्तः खण्ड है :

- (1) $-\frac{4}{5}$
 (2) -2
 (3) $\frac{4}{3}$
 (4) 2

Options :

212807115917. 1
 212807115918. 2
 212807115919. 3
 212807115920. 4

Question Number : 426 Question Id : 21280728981 Question Type : MCQ Option Shuffling : No Is Question Mandatory : No Calculator : None Response Time : N.A Think Time : N.A Minimum Instruction Time : 0

Correct Marks : 5 Wrong Marks : 1

Question Key Details :

Key	Value
Comprehension	MCQ2

The lines $\frac{x}{1} = \frac{y}{2} = \frac{z}{3}$ and $\frac{x-3}{-3} = \frac{y-4}{-6} = \frac{z-5}{-9}$ are :

- (1) coincident
 (2) skew
 (3) intersecting
 (4) parallel

Options :

212807115921. 1
 212807115922. 2
 212807115923. 3
 212807115924. 4

Question Number : 426 Question Id : 21280728981 Question Type : MCQ Option Shuffling : No Is Question Mandatory : No Calculator : None Response Time : N.A Think Time : N.A Minimum Instruction Time : 0

Correct Marks : 5 Wrong Marks : 1

Question Key Details :

Key	Value
Comprehension	MCQ2

रेखा $\frac{x}{1} = \frac{y}{2} = \frac{z}{3}$ और $\frac{x-3}{-3} = \frac{y-4}{-6} = \frac{z-5}{-9}$ हैं :

- (1) समपाती
 (2) विषम
 (3) प्रतिच्छेदी
 (4) समान्तर

Options :

212807115921. 1

212807115922. 2
212807115923. 3
212807115924. 4

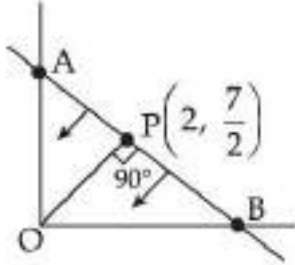
Question Number : 427 Question Id : 21280728982 Question Type : MCQ Option Shuffling : No Is Question Mandatory : No Calculator : None
Response Time : N.A Think Time : N.A Minimum Instruction Time : 0

Correct Marks : 5 Wrong Marks : 1

Question Key Details :

Key	Value
Comprehension	MCQ2

In the adjoining figure, the inequality representing AB is :



- (1) $14x + 8y \leq 65$
- (2) $x + 2y \leq 9$
- (3) $8x + 14y \leq 65$
- (4) $4x + 6y \leq 29$

Options :

212807115925. 1
212807115926. 2
212807115927. 3
212807115928. 4

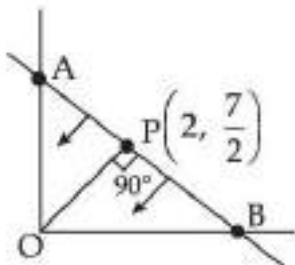
Question Number : 427 Question Id : 21280728982 Question Type : MCQ Option Shuffling : No Is Question Mandatory : No Calculator : None
Response Time : N.A Think Time : N.A Minimum Instruction Time : 0

Correct Marks : 5 Wrong Marks : 1

Question Key Details :

Key	Value
Comprehension	MCQ2

दिये गये चित्र में एक असमिका AB को निरूपित करती है :



- (1) $14x + 8y \leq 65$
- (2) $x + 2y \leq 9$
- (3) $8x + 14y \leq 65$
- (4) $4x + 6y \leq 29$

Options :

212807115925. 1
212807115926. 2
212807115927. 3

Question Number : 428 Question Id : 21280728983 Question Type : MCQ Option Shuffling : No Is Question Mandatory : No Calculator : None
Response Time : N.A Think Time : N.A Minimum Instruction Time : 0

Correct Marks : 5 Wrong Marks : 1

Question Key Details :

Key	Value
Comprehension	MCQ2

The corner points of the feasible region determined by the following system of linear inequalities $2x + y \leq 10$, $x + 3y \leq 15$, $x, y \geq 0$ are $(0, 0)$, $(5, 0)$, $(3, 4)$ and $(0, 5)$. Let $z = px + qy$ where p and $q > 0$. The condition on p and q so that the maximum of z occurs at both $(3, 4)$ and $(0, 5)$ is :

- (1) $p = q$
- (2) $p = 2q$
- (3) $p = 3q$
- (4) $q = 3p$

Options :

- 212807115929.1
212807115930.2
212807115931.3
212807115932.4

Question Number : 428 Question Id : 21280728983 Question Type : MCQ Option Shuffling : No Is Question Mandatory : No Calculator : None
Response Time : N.A Think Time : N.A Minimum Instruction Time : 0

Correct Marks : 5 Wrong Marks : 1

Question Key Details :

Key	Value
Comprehension	MCQ2

किसी सुसंगत क्षेत्र के कोनीय बिंदु $(0, 0)$, $(5, 0)$, $(3, 4)$ तथा $(0, 5)$ का निर्धारण रेखीय ब्यवरोध $2x + y \leq 10$, $x + 3y \leq 15$, $x, y \geq 0$ के निकायों द्वारा होता है। माना $z = px + qy$ जहाँ p एवं $q > 0$ तो p एवं q में वह शर्त स्थापित करें कि दो बिंदु $(3, 4)$ तथा $(0, 5)$ पर z अधिकतम हो :

- (1) $p = q$
- (2) $p = 2q$
- (3) $p = 3q$
- (4) $q = 3p$

Options :

- 212807115929.1
212807115930.2
212807115931.3
212807115932.4

Question Number : 429 Question Id : 21280728984 Question Type : MCQ Option Shuffling : No Is Question Mandatory : No Calculator : None
Response Time : N.A Think Time : N.A Minimum Instruction Time : 0

Correct Marks : 5 Wrong Marks : 1

Question Key Details :

Key	Value
Comprehension	MCQ2

Match List - I with List - II. Given $P(A) = \frac{1}{3}$ and $P(B) = \frac{1}{5}$ where A and B are independent.

List - I

(A) $P(A \cap B)$

(B) $P(A' \cap B')$

(C) P(at least one of the two events takes place)

(D) P(only one event takes place)

List - II

(I) $\frac{7}{15}$

(II) $\frac{2}{5}$

(III) $\frac{1}{15}$

(IV) $\frac{8}{15}$

Choose the **correct** answer from the options given below :

(1) (A)-(I), (B)-(II), (C)-(III), (D)-(IV)

(2) (A)-(III), (B)-(IV), (C)-(I), (D)-(II)

(3) (A)-(II), (B)-(III), (C)-(IV), (D)-(I)

(4) (A)-(IV), (B)-(III), (C)-(I), (D)-(II)

Options :

212807115933. 1

212807115934. 2

212807115935. 3

212807115936. 4

Question Number : 429 Question Id : 21280728984 Question Type : MCQ Option Shuffling : No Is Question Mandatory : No Calculator : None
Response Time : N.A Think Time : N.A Minimum Instruction Time : 0

Correct Marks : 5 Wrong Marks : 1

Question Key Details :

Key	Value
Comprehension	MCQ2

सूची-I से सूची-II का मिलान कीजिए। दिया है $P(A) = \frac{1}{3}$ और $P(B) = \frac{1}{5}$ जहाँ A और B स्वतंत्र हैं।

सूची - I

- (A) $P(A \cap B)$
- (B) $P(A' \cap B')$
- (C) P (दो घटनाओं में से कम से कम एक स्थान लेती है)
- (D) P (केवल एक घटना स्थान लेती है)

सूची - II

- (I) $\frac{7}{15}$
- (II) $\frac{2}{5}$
- (III) $\frac{1}{15}$
- (IV) $\frac{8}{15}$

नीचे दिए गए विकल्पों में से सही उत्तर का चयन कीजिए :

- (1) (A)-(I), (B)-(II), (C)-(III), (D)-(IV)
- (2) (A)-(III), (B)-(IV), (C)-(I), (D)-(II)
- (3) (A)-(II), (B)-(III), (C)-(IV), (D)-(I)
- (4) (A)-(IV), (B)-(III), (C)-(I), (D)-(II)

Options :

212807115933. 1
212807115934. 2
212807115935. 3
212807115936. 4

Question Number : 430 Question Id : 21280728985 Question Type : MCQ Option Shuffling : No Is Question Mandatory : No Calculator : None Response Time : N.A Think Time : N.A Minimum Instruction Time : 0

Correct Marks : 5 Wrong Marks : 1

Question Key Details :

Key	Value
Comprehension	MCQ2

If $P(A) = \frac{2}{5}$, $P(B) = \frac{3}{10}$ and $P(A \cap B) = \frac{1}{5}$, then $P(A'/B') - P(B'/A')$ is equal to :

- (1) $\frac{5}{6}$
- (2) $\frac{5}{7}$
- (3) $\frac{25}{42}$
- (4) $\frac{27}{42}$

Options :

212807115937. 1
212807115938. 2
212807115939. 3
212807115940. 4

Question Number : 430 Question Id : 21280728985 Question Type : MCQ Option Shuffling : No Is Question Mandatory : No Calculator : None Response Time : N.A Think Time : N.A Minimum Instruction Time : 0

Correct Marks : 5 Wrong Marks : 1

Question Key Details :

Key	Value
Comprehension	MCQ2

यदि $P(A) = \frac{2}{5}$, $P(B) = \frac{3}{10}$ और $P(A \cap B) = \frac{1}{5}$, तब $P(A'/B') \cdot P(B'/A')$ के बराबर है :

(1) $\frac{5}{6}$

(2) $\frac{5}{7}$

(3) $\frac{25}{42}$

(4) $\frac{27}{42}$

Options :

212807115937. 1

212807115938. 2

212807115939. 3

212807115940. 4

Sub-Section Number :

2

Sub-Section Id :

2128072108

Question Shuffling Allowed :

No

Is Section Default? :

null

Question Number : 431 Question Id : 21280728986 Question Type : MCQ Option Shuffling : No Is Question Mandatory : No Calculator : None Response Time : N.A Think Time : N.A Minimum Instruction Time : 0

Correct Marks : 5 Wrong Marks : 1

Question Key Details :

Key	Value
Comprehension	Compl

The function $f: \mathbb{R} \rightarrow \mathbb{R}$, $f(x) = x^2$ is :

(1) injective but not surjective

(2) surjective but not injective

(3) injective as well as surjective

(4) neither injective nor surjective

Options :

212807115941. 1

212807115942. 2

212807115943. 3

212807115944. 4

Question Number : 431 Question Id : 21280728986 Question Type : MCQ Option Shuffling : No Is Question Mandatory : No Calculator : None Response Time : N.A Think Time : N.A Minimum Instruction Time : 0

Correct Marks : 5 Wrong Marks : 1

Question Key Details :

Key	Value
Comprehension	Compl

फलन $f: \mathbb{R} \rightarrow \mathbb{R}$, $f(x) = x^2$ है :

- (1) एकैक लेकिन आच्छादी नहीं
- (2) आच्छादी लेकिन एकैक नहीं
- (3) एकैक तथा आच्छादी
- (4) ना एकैक, ना आच्छादी

Options :

212807115941. 1
212807115942. 2
212807115943. 3
212807115944. 4

Question Number : 432 Question Id : 21280728987 Question Type : MCQ Option Shuffling : No Is Question Mandatory : No Calculator : None
Response Time : N.A Think Time : N.A Minimum Instruction Time : 0

Correct Marks : 5 Wrong Marks : 1

Question Key Details :

Key	Value
Comprehension	Compl

If $y = 3 \cos(\log x) + 4 \sin(\log x)$, then choose correct option :

- (1) $x^2 y'' - xy' + y = 0$
- (2) $x^2 y'' + xy' - y = 0$
- (3) $x^2 y'' + xy' + y = 0$
- (4) $x^2 y'' - xy' - y = 0$

Options :

212807115945. 1
212807115946. 2
212807115947. 3
212807115948. 4

Question Number : 432 Question Id : 21280728987 Question Type : MCQ Option Shuffling : No Is Question Mandatory : No Calculator : None
Response Time : N.A Think Time : N.A Minimum Instruction Time : 0

Correct Marks : 5 Wrong Marks : 1

Question Key Details :

Key	Value
Comprehension	Compl

यदि $y = 3 \cos(\log x) + 4 \sin(\log x)$, तब सही विकल्प है :

- (1) $x^2 y'' - xy' + y = 0$
- (2) $x^2 y'' + xy' - y = 0$
- (3) $x^2 y'' + xy' + y = 0$
- (4) $x^2 y'' - xy' - y = 0$

Options :

212807115945. 1
212807115946. 2
212807115947. 3
212807115948. 4

Question Number : 433 Question Id : 21280728988 Question Type : MCQ Option Shuffling : No Is Question Mandatory : No Calculator : None
Response Time : N.A Think Time : N.A Minimum Instruction Time : 0

Correct Marks : 5 Wrong Marks : 1

Question Key Details :

Key	Value
Comprehension	Compl

The equation of the normal to the curve $y=4x^3+2 \sin x$ at $(0, 3)$ is :

- (1) $x - 3y = 3$
- (2) $x + 2y = 6$
- (3) $2x - y = -3$
- (4) $2x + y = 3$

Options :

- 212807115949. 1
- 212807115950. 2
- 212807115951. 3
- 212807115952. 4

Question Number : 433 Question Id : 21280728988 Question Type : MCQ Option Shuffling : No Is Question Mandatory : No Calculator : None Response Time : N.A Think Time : N.A Minimum Instruction Time : 0

Correct Marks : 5 Wrong Marks : 1

Question Key Details :

Key	Value
Comprehension	Compl

वक्र $y=4x^3+2 \sin x$ का $(0, 3)$ पर अभिलम्ब का समीकरण है :

- (1) $x - 3y = 3$
- (2) $x + 2y = 6$
- (3) $2x - y = -3$
- (4) $2x + y = 3$

Options :

- 212807115949. 1
- 212807115950. 2
- 212807115951. 3
- 212807115952. 4

Question Number : 434 Question Id : 21280728989 Question Type : MCQ Option Shuffling : No Is Question Mandatory : No Calculator : None Response Time : N.A Think Time : N.A Minimum Instruction Time : 0

Correct Marks : 5 Wrong Marks : 1

Question Key Details :

Key	Value
Comprehension	Compl

The angle between the line $\frac{x+1}{2} = \frac{y}{3} = \frac{z-3}{6}$ and the plane $10x+2y-11z=3$ is :

- (1) $\sin^{-1}\left(-\frac{8}{21}\right)$
- (2) $\sin^{-1}\left(-\frac{21}{8}\right)$
- (3) $\sin^{-1}\left(\frac{21}{8}\right)$
- (4) $\sin^{-1}\left(\frac{8}{21}\right)$

Options :

- 212807115953. 1
- 212807115954. 2

212807115955.3
212807115956.4

Question Number : 434 Question Id : 21280728989 Question Type : MCQ Option Shuffling : No Is Question Mandatory : No Calculator : None
Response Time : N.A Think Time : N.A Minimum Instruction Time : 0

Correct Marks : 5 Wrong Marks : 1

Question Key Details :

Key	Value
Comprehension	Compl

रेखा $\frac{x+1}{2} = \frac{y}{3} = \frac{z-3}{6}$ तथा समतल $10x + 2y - 11z = 3$ के बीच का कोण है :

(1) $\sin^{-1}\left(-\frac{8}{21}\right)$

(2) $\sin^{-1}\left(-\frac{21}{8}\right)$

(3) $\sin^{-1}\left(\frac{21}{8}\right)$

(4) $\sin^{-1}\left(\frac{8}{21}\right)$

Options :

212807115953.1
212807115954.2
212807115955.3
212807115956.4

Question Number : 435 Question Id : 21280728990 Question Type : MCQ Option Shuffling : No Is Question Mandatory : No Calculator : None
Response Time : N.A Think Time : N.A Minimum Instruction Time : 0

Correct Marks : 5 Wrong Marks : 1

Question Key Details :

Key	Value
Comprehension	Compl

The area of a triangle having the points A(1, 1, 1), B(1, 2, 3) and C(2, 3, 1) as its vertices is :

(1) $\sqrt{21}$

(2) $2\sqrt{21}$

(3) $\frac{1}{4}\sqrt{21}$

(4) $\frac{1}{2}\sqrt{21}$

Options :

212807115957.1
212807115958.2
212807115959.3
212807115960.4

Question Number : 435 Question Id : 21280728990 Question Type : MCQ Option Shuffling : No Is Question Mandatory : No Calculator : None
Response Time : N.A Think Time : N.A Minimum Instruction Time : 0

Correct Marks : 5 Wrong Marks : 1

Question Key Details :

Key	Value
Comprehension	Comp1

त्रिभुज का क्षेत्रफल होगा यदि शीर्ष बिंदु A(1, 1, 1), B(1, 2, 3) और C(2, 3, 1) है _____ :

- (1) $\sqrt{21}$
(2) $2\sqrt{21}$
(3) $\frac{1}{4}\sqrt{21}$
(4) $\frac{1}{2}\sqrt{21}$

Options :

212807115957. 1
212807115958. 2
212807115959. 3
212807115960. 4

Applied Mathematics

Section Id :	212807737
Section Number :	3
Section type :	Online
Mandatory or Optional :	Optional
Number of Questions :	35
Number of Questions to be attempted :	25
Section Marks :	125
Enable Mark as Answered Mark for Review and Clear Response :	Yes
Maximum Instruction Time :	0
Sub-Section Number :	1
Sub-Section Id :	2128072109
Question Shuffling Allowed :	Yes
Is Section Default? :	null

Question Number : 436 Question Id : 21280728991 Question Type : MCQ Option Shuffling : No Is Question Mandatory : No Calculator : None Response Time : N.A Think Time : N.A Minimum Instruction Time : 0

Correct Marks : 5 Wrong Marks : 1

Question Key Details :

Key	Value
Comprehension	MCQ3

The value of $6^{10} \pmod{5}$ is :

- (1) 5
(2) 2
(3) 1
(4) 3

Options :

212807115961. 1
212807115962. 2
212807115963. 3
212807115964. 4

Question Number : 436 Question Id : 21280728991 Question Type : MCQ Option Shuffling : No Is Question Mandatory : No Calculator : None Response Time : N.A Think Time : N.A Minimum Instruction Time : 0

Correct Marks : 5 Wrong Marks : 1

Question Key Details :

Key	Value
Comprehension	MCQ3

6^{10} (मापांक 5) का मान है :

- (1) 5
- (2) 2
- (3) 1
- (4) 3

Options :

- 212807115961. 1
- 212807115962. 2
- 212807115963. 3
- 212807115964. 4

Question Number : 437 Question Id : 21280728992 Question Type : MCQ Option Shuffling : No Is Question Mandatory : No Calculator : None Response Time : N.A Think Time : N.A Minimum Instruction Time : 0

Correct Marks : 5 Wrong Marks : 1

Question Key Details :

Key	Value
Comprehension	MCQ3

Riya and Priya complete a 200 metres race in 1 minute 12 seconds and 1 minute 36 seconds respectively. By how many metres will Riya defeat Priya ?

- (1) 25 metres
- (2) 50 metres
- (3) $\frac{25}{3}$ metres
- (4) $\frac{50}{3}$ metres

Options :

- 212807115965. 1
- 212807115966. 2
- 212807115967. 3
- 212807115968. 4

Question Number : 437 Question Id : 21280728992 Question Type : MCQ Option Shuffling : No Is Question Mandatory : No Calculator : None Response Time : N.A Think Time : N.A Minimum Instruction Time : 0

Correct Marks : 5 Wrong Marks : 1

Question Key Details :

Key	Value
Comprehension	MCQ3

रीया और प्रिया 200 मीटर की दौड़ क्रमशः 1 मिनट 12 सेकेण्ड में और 1 मिनट 36 सेकेण्ड में पूरी करती हैं। रीया द्वारा प्रिया को कितने मीटर से हराया गया ?

- (1) 25 मीटर
- (2) 50 मीटर
- (3) $\frac{25}{3}$ मीटर
- (4) $\frac{50}{3}$ मीटर

Options :

- 212807115965. 1
- 212807115966. 2
- 212807115967. 3

Question Number : 438 Question Id : 21280728993 Question Type : MCQ Option Shuffling : No Is Question Mandatory : No Calculator : None
 Response Time : N.A Think Time : N.A Minimum Instruction Time : 0
 Correct Marks : 5 Wrong Marks : 1

Question Key Details :

Key	Value
Comprehension	MCQ3

The set of values of 'x' for which $37 - (3x + 5) \geq 9x - 8(x - 3)$ holds true is :

- (1) $(-\infty, 2]$
- (2) $[2, \infty)$
- (3) $(-\infty, 2)$
- (4) $(2, \infty)$

Options :

- 212807115969.1
- 212807115970.2
- 212807115971.3
- 212807115972.4

Question Number : 438 Question Id : 21280728993 Question Type : MCQ Option Shuffling : No Is Question Mandatory : No Calculator : None
 Response Time : N.A Think Time : N.A Minimum Instruction Time : 0
 Correct Marks : 5 Wrong Marks : 1

Question Key Details :

Key	Value
Comprehension	MCQ3

'x' के मानों का समुच्चय जिसके लिए $37 - (3x + 5) \geq 9x - 8(x - 3)$ सत्यापित होता है, है :

- (1) $(-\infty, 2]$
- (2) $[2, \infty)$
- (3) $(-\infty, 2)$
- (4) $(2, \infty)$

Options :

- 212807115969.1
- 212807115970.2
- 212807115971.3
- 212807115972.4

Question Number : 439 Question Id : 21280728994 Question Type : MCQ Option Shuffling : No Is Question Mandatory : No Calculator : None
 Response Time : N.A Think Time : N.A Minimum Instruction Time : 0
 Correct Marks : 5 Wrong Marks : 1

Question Key Details :

Key	Value
Comprehension	MCQ3

The ratio in which a shopkeeper mixes two goods 'A' and 'B' is 3 : 2. If the price of good 'A' is ₹ 20 and that of good 'B' is ₹ 15. Then the price of mixed goods is (₹) :

- (1) 19
- (2) 18
- (3) 16
- (4) 17

Options :

- 212807115973.1
- 212807115974.2

212807115975.3
212807115976.4

Question Number : 439 Question Id : 21280728994 Question Type : MCQ Option Shuffling : No Is Question Mandatory : No Calculator : None
Response Time : N.A Think Time : N.A Minimum Instruction Time : 0

Correct Marks : 5 Wrong Marks : 1

Question Key Details :

Key	Value
Comprehension	MCQ3

एक दुकानदार ने दो वस्तुओं 'A' और 'B' को 3 : 2 अनुपात में मिश्रण करता है। यदि वस्तु 'A' का मूल्य ₹ 20 और वस्तु 'B' का मूल्य ₹ 15 है। मिश्रित उत्पाद का मूल्य है (₹) :

- (1) 19
- (2) 18
- (3) 16
- (4) 17

Options :

212807115973.1
212807115974.2
212807115975.3
212807115976.4

Question Number : 440 Question Id : 21280728995 Question Type : MCQ Option Shuffling : No Is Question Mandatory : No Calculator : None
Response Time : N.A Think Time : N.A Minimum Instruction Time : 0

Correct Marks : 5 Wrong Marks : 1

Question Key Details :

Key	Value
Comprehension	MCQ3

There are three business partners A, B and C such that capital investment of A is ₹ 20,000 more than twice the investment of B and C invests ₹ 60,000 less than A. If they jointly invest ₹ 4,80,000, their capital ratio is :

- (1) 4 : 1 : 2
- (2) 15 : 9 : 11
- (3) 11 : 5 : 8
- (4) 27 : 21 : 16

Options :

212807115977.1
212807115978.2
212807115979.3
212807115980.4

Question Number : 440 Question Id : 21280728995 Question Type : MCQ Option Shuffling : No Is Question Mandatory : No Calculator : None
Response Time : N.A Think Time : N.A Minimum Instruction Time : 0

Correct Marks : 5 Wrong Marks : 1

Question Key Details :

Key	Value
Comprehension	MCQ3

तीन साझेदार A, B और C द्वारा व्यवसाय में निवेश इस प्रकार है कि A द्वारा निवेश की गयी पूंजी B द्वारा निवेश पूंजी की दुगुनी से ₹ 20,000 अधिक है तथा C द्वारा A से ₹ 60,000 कम राशि का निवेश किया गया है। यदि उन सबने मिलकर ₹ 4,80,000 का निवेश किया तो उनके निवेश की राशि का अनुपात है :

- (1) 4 : 1 : 2
- (2) 15 : 9 : 11
- (3) 11 : 5 : 8
- (4) 27 : 21 : 16

Options :

- 212807115977. 1
- 212807115978. 2
- 212807115979. 3
- 212807115980. 4

Question Number : 441 Question Id : 21280728996 Question Type : MCQ Option Shuffling : No Is Question Mandatory : No Calculator : None Response Time : N.A Think Time : N.A Minimum Instruction Time : 0

Correct Marks : 5 Wrong Marks : 1

Question Key Details :

Key	Value
Comprehension	MCQ3

The speed of a boat in still water is 10 km/h. If its speed downstream is 18 km/h, the distance travelled by the boat upstream in 5 hours is :

- (1) 8 km
- (2) 10 km
- (3) 20 km
- (4) 16 km

Options :

- 212807115981. 1
- 212807115982. 2
- 212807115983. 3
- 212807115984. 4

Question Number : 441 Question Id : 21280728996 Question Type : MCQ Option Shuffling : No Is Question Mandatory : No Calculator : None Response Time : N.A Think Time : N.A Minimum Instruction Time : 0

Correct Marks : 5 Wrong Marks : 1

Question Key Details :

Key	Value
Comprehension	MCQ3

शांत जल में नाव की चाल 10 किमी/घं. है। यदि अनुप्रवाह में चाल 18 किमी./घं. है तो नाव द्वारा उर्ध्वप्रवाह में 5 घंटे में तय दूरी है :

- (1) 8 किमी
- (2) 10 किमी
- (3) 20 किमी
- (4) 16 किमी

Options :

- 212807115981. 1
- 212807115982. 2
- 212807115983. 3
- 212807115984. 4

Question Number : 442 Question Id : 21280728997 Question Type : MCQ Option Shuffling : No Is Question Mandatory : No Calculator : None
Response Time : N.A Think Time : N.A Minimum Instruction Time : 0

Correct Marks : 5 Wrong Marks : 1

Question Key Details :

Key	Value
Comprehension	MCQ3

If matrix $A = \begin{bmatrix} 1 & 0 & 0 \\ 0 & 1 & 0 \\ 0 & 1 & 1 \end{bmatrix}$, $B = \begin{bmatrix} 0 & 0 & 2 \\ 0 & 2 & 0 \\ 2 & 0 & 0 \end{bmatrix}$, $C = \begin{bmatrix} 1 & 0 & 1 \\ 0 & 0 & 1 \\ 1 & 1 & 0 \end{bmatrix}$, $D = \begin{bmatrix} 0 & 0 \\ 0 & 0 \\ 0 & 0 \end{bmatrix}$ then which of the following is

true ?

- (1) A is an identity matrix
- (2) B is a scalar matrix
- (3) C is a symmetric matrix
- (4) D is a skew-symmetric matrix

Options :

212807115985. 1

212807115986. 2

212807115987. 3

212807115988. 4

Question Number : 442 Question Id : 21280728997 Question Type : MCQ Option Shuffling : No Is Question Mandatory : No Calculator : None
Response Time : N.A Think Time : N.A Minimum Instruction Time : 0

Correct Marks : 5 Wrong Marks : 1

Question Key Details :

Key	Value
Comprehension	MCQ3

यदि आव्यूह $A = \begin{bmatrix} 1 & 0 & 0 \\ 0 & 1 & 0 \\ 0 & 1 & 1 \end{bmatrix}$, $B = \begin{bmatrix} 0 & 0 & 2 \\ 0 & 2 & 0 \\ 2 & 0 & 0 \end{bmatrix}$, $C = \begin{bmatrix} 1 & 0 & 1 \\ 0 & 0 & 1 \\ 1 & 1 & 0 \end{bmatrix}$, $D = \begin{bmatrix} 0 & 0 \\ 0 & 0 \\ 0 & 0 \end{bmatrix}$ तब निम्न में से कौन-सा सत्य है ?

- (1) A एक तत्समक आव्यूह है
- (2) B एक अदिश आव्यूह है
- (3) C एक सममित आव्यूह है
- (4) D एक विषम सममित आव्यूह है

Options :

212807115985. 1

212807115986. 2

212807115987. 3

212807115988. 4

Question Number : 443 Question Id : 21280728998 Question Type : MCQ Option Shuffling : No Is Question Mandatory : No Calculator : None
Response Time : N.A Think Time : N.A Minimum Instruction Time : 0

Correct Marks : 5 Wrong Marks : 1

Question Key Details :

Key	Value
Comprehension	MCQ3

If $A = \begin{bmatrix} 1 & 5 \\ 7 & 12 \end{bmatrix}$ and $B = \begin{bmatrix} 9 & 1 \\ 7 & 8 \end{bmatrix}$, then the matrix C for which $3A + 5B + 2C$ is a null matrix is :

(1) $\begin{bmatrix} -24 & 5 \\ 20 & 6 \end{bmatrix}$

(2) $\begin{bmatrix} 3 & 10 \\ -28 & 37 \end{bmatrix}$

(3) $\begin{bmatrix} -24 & -10 \\ -28 & -38 \end{bmatrix}$

(4) $\begin{bmatrix} -29 & 15 \\ -36 & -27 \end{bmatrix}$

Options :

212807115989. 1

212807115990. 2

212807115991. 3

212807115992. 4

Question Number : 443 Question Id : 21280728998 Question Type : MCQ Option Shuffling : No Is Question Mandatory : No Calculator : None Response Time : N.A Think Time : N.A Minimum Instruction Time : 0

Correct Marks : 5 Wrong Marks : 1

Question Key Details :

Key	Value
Comprehension	MCQ3

यदि $A = \begin{bmatrix} 1 & 5 \\ 7 & 12 \end{bmatrix}$ और $B = \begin{bmatrix} 9 & 1 \\ 7 & 8 \end{bmatrix}$, तब आव्यूह C , जिसके लिए $3A + 5B + 2C$ शून्य आव्यूह होगा, है :

(1) $\begin{bmatrix} -24 & 5 \\ 20 & 6 \end{bmatrix}$

(2) $\begin{bmatrix} 3 & 10 \\ -28 & 37 \end{bmatrix}$

(3) $\begin{bmatrix} -24 & -10 \\ -28 & -38 \end{bmatrix}$

(4) $\begin{bmatrix} -29 & 15 \\ -36 & -27 \end{bmatrix}$

Options :

212807115989. 1

212807115990. 2

212807115991. 3

212807115992. 4

Question Number : 444 Question Id : 21280728999 Question Type : MCQ Option Shuffling : No Is Question Mandatory : No Calculator : None Response Time : N.A Think Time : N.A Minimum Instruction Time : 0

Correct Marks : 5 Wrong Marks : 1

Question Key Details :

Key	Value
Comprehension	MCQ3

Three shopkeepers A, B, C go to store to buy stationary. A purchases 10 dozen pens, 6 dozen pencils. B purchases 10 dozen notebooks, 5 dozen pens and 7 dozen pencils. C purchases 11 dozen notebooks and 13 dozen pens. A notebook costs 40 paise, a pen costs 1.25 rupees and pencil costs 35 paise. Identify correct statements :

(A) If P is quantity matrix (stationary purchased by A, B, C) then order of P is 2×3

(B) If Q is a price matrix then order of matrix Q is (3×1) , to get individual bills

(C) P is $\begin{bmatrix} 0 & 10 & 6 \\ 10 & 5 & 7 \\ 11 & 13 & 0 \end{bmatrix}$

(D) Q is $[0.40 \quad 1.25 \quad 0.35]$

(E) Matrix P is $\begin{pmatrix} 0 & 120 & 72 \\ 120 & 60 & 84 \\ 132 & 156 & 0 \end{pmatrix}$

Choose the **correct** answer from the options given below :

(1) (A), (D) Only

(2) (B), (D) Only

(3) (C), (A) Only

(4) (B), (E) Only

Options :

212807115993. 1

212807115994. 2

212807115995. 3

212807115996. 4

Question Number : 444 Question Id : 21280728999 Question Type : MCQ Option Shuffling : No Is Question Mandatory : No Calculator : None
Response Time : N.A Think Time : N.A Minimum Instruction Time : 0

Correct Marks : 5 Wrong Marks : 1

Question Key Details :

Key	Value
Comprehension	MCQ3

तीन दुकानदार A, B, C स्टेशनरी खरीदने दुकान पर गये। A ने 10 दर्जन पेन, 6 दर्जन पेंसिल। B ने 10 दर्जन नोटबुक, 5 दर्जन पेन और 7 दर्जन पेंसिल व C ने 11 दर्जन नोटबुक और 13 दर्जन पेन खरीदे। एक नोटबुक का मूल्य 40 पैसा, एक पेन का मूल्य 1.25 रुपये और पेंसिल का मूल्य 35 पैसा है। सही कथन चुनें :

(A) यदि P मात्र आव्यूह है (स्टेशनरी खरीदी गयी A, B, C द्वारा) तब P का कोटि 2×3

(B) यदि Q एक कीमत आव्यूह है तब Q आव्यूह का कोटि (3×1) है (व्यक्तिगत बिलों के प्राप्त करने के लिए)

(C) P, $\begin{bmatrix} 0 & 10 & 6 \\ 10 & 5 & 7 \\ 11 & 13 & 0 \end{bmatrix}$ है

(D) Q, $[0.40 \quad 1.25 \quad 0.35]$ है

(E) P आव्यूह $\begin{pmatrix} 0 & 120 & 72 \\ 120 & 60 & 84 \\ 132 & 156 & 0 \end{pmatrix}$ है

नीचे दिए गए विकल्पों में से सही उत्तर का चयन कीजिए:

(1) केवल (A), (D)

(2) केवल (B), (D)

(3) केवल (C), (A)

(4) केवल (B), (E)

Options :

212807115993. 1

212807115994. 2

212807115995. 3

212807115996. 4

Question Number : 445 Question Id : 21280729000 Question Type : MCQ Option Shuffling : No Is Question Mandatory : No Calculator : None Response Time : N.A Think Time : N.A Minimum Instruction Time : 0

Correct Marks : 5 Wrong Marks : 1

Question Key Details :

Key	Value
Comprehension	MCQ3

Match List - I with List - II.

List - I

List - II

- (A) If $f(x) = \log(\log x)$, then $f'(x) =$ (I) $\frac{1}{x \log 2}$
- (B) If $g(x) = e^{x^2}$, then $g'(x) =$ (II) $\frac{1}{x \log x}$
- (C) If $h(x) = \frac{2}{\sqrt{x}}$, then $h'(x) =$ (III) $e^{x^2} \cdot 2x$
- (D) If $m(x) = \log_2 x$, then $m'(x) =$ (IV) $-x^{-\frac{3}{2}}$

Choose the correct answer from the options given below :

- (1) (A)-(I), (B)-(IV), (C)-(III), (D)-(II)
- (2) (A)-(II), (B)-(III), (C)-(IV), (D)-(I)
- (3) (A)-(III), (B)-(II), (C)-(IV), (D)-(I)
- (4) (A)-(I), (B)-(III), (C)-(IV), (D)-(II)

Options :

212807115997. 1

212807115998. 2

212807115999. 3

212807116000. 4

Question Number : 445 Question Id : 21280729000 Question Type : MCQ Option Shuffling : No Is Question Mandatory : No Calculator : None Response Time : N.A Think Time : N.A Minimum Instruction Time : 0

Correct Marks : 5 Wrong Marks : 1

Question Key Details :

Key	Value
Comprehension	MCQ3

सूची-I से सूची-II का मिलान कीजिए:

सूची-I

सूची-II

- (A) यदि $f(x) = \log(\log x)$, तब $f'(x) =$ (I) $\frac{1}{x \log 2}$
- (B) यदि $g(x) = e^{x^2}$, तब $g'(x) =$ (II) $\frac{1}{x \log x}$
- (C) यदि $h(x) = \frac{2}{\sqrt{x}}$, तब $h'(x) =$ (III) $e^{x^2} \cdot 2x$
- (D) यदि $m(x) = \log_2 x$, तब $m'(x) =$ (IV) $-x^{-\frac{3}{2}}$

नीचे दिए गए विकल्पों में से सही उत्तर का चयन कीजिए :

- (1) (A)-(I), (B)-(IV), (C)-(III), (D)-(II)
- (2) (A)-(II), (B)-(III), (C)-(IV), (D)-(I)
- (3) (A)-(III), (B)-(II), (C)-(IV), (D)-(I)
- (4) (A)-(I), (B)-(III), (C)-(IV), (D)-(II)

Options :

212807115997. 1
 212807115998. 2
 212807115999. 3
 212807116000. 4

Question Number : 446 Question Id : 21280729001 Question Type : MCQ Option Shuffling : No Is Question Mandatory : No Calculator : None Response Time : N.A Think Time : N.A Minimum Instruction Time : 0

Correct Marks : 5 Wrong Marks : 1

Question Key Details :

Key	Value
Comprehension	MCQ3

The demand for a certain product is represented by the function $p = 20 + 2x - \frac{x^2}{30}$ where x is the number of units demanded and p is the price per unit, then the value of marginal revenue when 10 units are sold is :

- (1) 100
 (2) 150
 (3) 50
 (4) 250

Options :

212807116001. 1
 212807116002. 2
 212807116003. 3
 212807116004. 4

Question Number : 446 Question Id : 21280729001 Question Type : MCQ Option Shuffling : No Is Question Mandatory : No Calculator : None Response Time : N.A Think Time : N.A Minimum Instruction Time : 0

Correct Marks : 5 Wrong Marks : 1

Question Key Details :

Key	Value
Comprehension	MCQ3

किसी विशेष उत्पाद की मांग को $p = 20 + 2x - \frac{x^2}{30}$ फलन द्वारा निरूपित किया जाता है, जहाँ x मांग की गयी इकाई तथा p प्रत्येक इकाई की कीमत है तो सीमांत आय का मान ज्ञात करें जब 10 इकाई बेची गयी हों :

- (1) 100
 (2) 150
 (3) 50
 (4) 250

Options :

212807116001. 1
 212807116002. 2
 212807116003. 3
 212807116004. 4

Question Number : 447 Question Id : 21280729002 Question Type : MCQ Option Shuffling : No Is Question Mandatory : No Calculator : None Response Time : N.A Think Time : N.A Minimum Instruction Time : 0

Correct Marks : 5 Wrong Marks : 1

Question Key Details :

Key	Value
Comprehension	MCQ3

If $f(x) = \frac{x^{10}}{10} + \frac{x^9}{9} + \dots + \frac{x^2}{2} + x + 1$ then the value of $f'(0)$ is :

- (1) 0
- (2) 1
- (3) 100
- (4) 101

Options :

- 212807116005. 1
- 212807116006. 2
- 212807116007. 3
- 212807116008. 4

Question Number : 447 Question Id : 21280729002 Question Type : MCQ Option Shuffling : No Is Question Mandatory : No Calculator : None Response Time : N.A Think Time : N.A Minimum Instruction Time : 0

Correct Marks : 5 Wrong Marks : 1

Question Key Details :

Key	Value
Comprehension	MCQ3

यदि $f(x) = \frac{x^{10}}{10} + \frac{x^9}{9} + \dots + \frac{x^2}{2} + x + 1$ तब $f'(0)$ का मान है :

- (1) 0
- (2) 1
- (3) 100
- (4) 101

Options :

- 212807116005. 1
- 212807116006. 2
- 212807116007. 3
- 212807116008. 4

Question Number : 448 Question Id : 21280729003 Question Type : MCQ Option Shuffling : No Is Question Mandatory : No Calculator : None Response Time : N.A Think Time : N.A Minimum Instruction Time : 0

Correct Marks : 5 Wrong Marks : 1

Question Key Details :

Key	Value
Comprehension	MCQ3

Maximum and minimum value, if any of $f(x) = K ; x \in [0, 2]$, where K is a constant is :

- (1) Maximum value = K and minimum value = K
- (2) Maximum value = 2 and minimum value = 0
- (3) Maximum and minimum value does not exist
- (4) Maximum value = 1 and minimum value = 0

Options :

- 212807116009. 1
- 212807116010. 2
- 212807116011. 3
- 212807116012. 4

Question Number : 448 Question Id : 21280729003 Question Type : MCQ Option Shuffling : No Is Question Mandatory : No Calculator : None Response Time : N.A Think Time : N.A Minimum Instruction Time : 0

Correct Marks : 5 Wrong Marks : 1

Question Key Details :

Key	Value
Comprehension	MCQ3

यदि $f(x) = K ; x \in [0, 2]$, जहाँ K एक अचर है, का अधिकतम एवं न्यूनतम मान हैं :

- (1) अधिकतम मान = K एवं न्यूनतम मान = K
- (2) अधिकतम मान = 2 एवं न्यूनतम मान = 0
- (3) अधिकतम एवं न्यूनतम मान अस्तित्व में नहीं हैं
- (4) अधिकतम मान = 1 एवं न्यूनतम मान = 0

Options :

212807116009. 1
212807116010. 2
212807116011. 3
212807116012. 4

Question Number : 449 Question Id : 21280729004 Question Type : MCQ Option Shuffling : No Is Question Mandatory : No Calculator : None
Response Time : N.A Think Time : N.A Minimum Instruction Time : 0

Correct Marks : 5 Wrong Marks : 1

Question Key Details :

Key	Value
Comprehension	MCQ3

Differential coefficient of $\log_{10}x$ with respect to $\log_x 10$ is :

- (1) $-(x \log_{10} x)^2$
- (2) $-\frac{(\log_{10} x)^2}{x^2}$
- (3) $-\frac{1}{(\log_x 10)^2}$
- (4) $-\frac{x^2}{(\log_{10} x)^2}$

Options :

212807116013. 1
212807116014. 2
212807116015. 3
212807116016. 4

Question Number : 449 Question Id : 21280729004 Question Type : MCQ Option Shuffling : No Is Question Mandatory : No Calculator : None
Response Time : N.A Think Time : N.A Minimum Instruction Time : 0

Correct Marks : 5 Wrong Marks : 1

Question Key Details :

Key	Value
Comprehension	MCQ3

$\log_{10}x$ का $\log_x 10$ के सापेक्ष अवकल गुणांक है :

(1) $-(x \log_{10}x)^2$

(2) $\frac{(\log_{10}x)^2}{x^2}$

(3) $\frac{1}{(\log_x 10)^2}$

(4) $\frac{x^2}{(\log_{10}x)^2}$

Options :

212807116013. 1

212807116014. 2

212807116015. 3

212807116016. 4

Question Number : 450 Question Id : 21280729005 Question Type : MCQ Option Shuffling : No Is Question Mandatory : No Calculator : None Response Time : N.A Think Time : N.A Minimum Instruction Time : 0

Correct Marks : 5 Wrong Marks : 1

Question Key Details :

Key	Value
Comprehension	MCQ3

If the mean and variance of a binomial distribution are $\frac{5}{6}$ and $\frac{25}{36}$ respectively. Then value of $P(X=2)$ is :

(1) ${}^5C_3 \left(\frac{1}{6}\right)^3 \left(\frac{5}{6}\right)^2$

(2) ${}^5C_1 \left(\frac{5}{6}\right)^3 \left(\frac{1}{6}\right)^2$

(3) ${}^5C_2 \left(\frac{5}{6}\right)^2 \left(\frac{1}{6}\right)^3$

(4) ${}^5C_2 \left(\frac{1}{6}\right)^2 \left(\frac{5}{6}\right)^3$

Options :

212807116017. 1

212807116018. 2

212807116019. 3

212807116020. 4

Question Number : 450 Question Id : 21280729005 Question Type : MCQ Option Shuffling : No Is Question Mandatory : No Calculator : None Response Time : N.A Think Time : N.A Minimum Instruction Time : 0

Correct Marks : 5 Wrong Marks : 1

Question Key Details :

Key	Value
Comprehension	MCQ3

यदि द्विपद बंटन का माध्य एवं प्रसरण क्रमशः $\frac{5}{6}$ एवं $\frac{25}{36}$ हो तो $P(X=2)$ का मान है :

(1) ${}^5C_3 \left(\frac{1}{6}\right)^3 \left(\frac{5}{6}\right)^2$

(2) ${}^5C_1 \left(\frac{5}{6}\right)^3 \left(\frac{1}{6}\right)^2$

(3) ${}^5C_2 \left(\frac{5}{6}\right)^2 \left(\frac{1}{6}\right)^3$

(4) ${}^5C_2 \left(\frac{1}{6}\right)^2 \left(\frac{5}{6}\right)^3$

Options :

212807116017. 1

212807116018. 2

212807116019. 3

212807116020. 4

Question Number : 451 Question Id : 21280729006 Question Type : MCQ Option Shuffling : No Is Question Mandatory : No Calculator : None Response Time : N.A Think Time : N.A Minimum Instruction Time : 0

Correct Marks : 5 Wrong Marks : 1

Question Key Details :

Key	Value
Comprehension	MCQ3

Match List - I with List - II. The probability distribution of number of sixes (X) is when an unbiased die is thrown twice is :

X	0	1	2
P(X)	25/36	5/18	1/36

List - I

List - II

(A) The value of $E(X)$

(I) $\frac{5}{72}$

(B) Value of $\text{Var}(X)$

(II) $\frac{1}{8}$

(C) Value of $\text{Var}\left(\frac{X}{2}\right)$

(III) $\frac{1}{3}$

(D) Value of $E\left(\frac{3}{8}X\right)$

(IV) $\frac{5}{18}$

Choose the correct answer from the options given below :

(1) (A)-(III), (B)-(I), (C)-(II), (D)-(IV)

(2) (A)-(II), (B)-(I), (C)-(IV), (D)-(III)

(3) (A)-(IV), (B)-(II), (C)-(III), (D)-(I)

(4) (A)-(III), (B)-(IV), (C)-(I), (D)-(II)

Options :

212807116021. 1

212807116022. 2
212807116023. 3
212807116024. 4

Question Number : 451 Question Id : 21280729006 Question Type : MCQ Option Shuffling : No Is Question Mandatory : No Calculator : None
Response Time : N.A Think Time : N.A Minimum Instruction Time : 0

Correct Marks : 5 Wrong Marks : 1

Question Key Details :

Key	Value
Comprehension	MCQ3

सूची-I से सूची-II का मिलान कीजिए। जब एक पासे को दो बार फेंका जाय तो संख्या छः के (X) बार आने की प्रायिकता बंटन नीचे दी गई है :

X	0	1	2
P(X)	25/36	5/18	1/36

सूची-I

सूची-II

- | | |
|---|---------------------|
| (A) $E(X)$ का मान | (I) $\frac{5}{72}$ |
| (B) $\text{Var}(X)$ का मान | (II) $\frac{1}{8}$ |
| (C) $\text{Var}\left(\frac{X}{2}\right)$ का मान | (III) $\frac{1}{3}$ |
| (D) $E\left(\frac{3}{8}X\right)$ का मान | (IV) $\frac{5}{18}$ |

नीचे दिए गए विकल्पों में से सही उत्तर का चयन कीजिए :

- (1) (A)-(III), (B)-(I), (C)-(II), (D)-(IV)
- (2) (A)-(II), (B)-(I), (C)-(IV), (D)-(III)
- (3) (A)-(IV), (B)-(II), (C)-(III), (D)-(I)
- (4) (A)-(III), (B)-(IV), (C)-(I), (D)-(II)

Options :

212807116021. 1
212807116022. 2
212807116023. 3
212807116024. 4

Question Number : 452 Question Id : 21280729007 Question Type : MCQ Option Shuffling : No Is Question Mandatory : No Calculator : None
Response Time : N.A Think Time : N.A Minimum Instruction Time : 0

Correct Marks : 5 Wrong Marks : 1

Question Key Details :

Key	Value
Comprehension	MCQ3

A coin is biased so that the head is 3 times likely to occur as tail. If the coin is tossed twice, then the probability distribution of number of tails is :

(1)

x	0	1	2
$P(x)$	9/16	6/16	1/16

(2)

x	0	1	2
$P(x)$	9/16	1/16	6/16

(3)

x	0	1	2
$P(x)$	1/16	6/16	9/16

(4)

x	0	1	2
$P(x)$	1/16	9/16	6/16

Options :

212807116025. 1

212807116026. 2

212807116027. 3

212807116028. 4

Question Number : 452 Question Id : 21280729007 Question Type : MCQ Option Shuffling : No Is Question Mandatory : No Calculator : None Response Time : N.A Think Time : N.A Minimum Instruction Time : 0

Correct Marks : 5 Wrong Marks : 1

Question Key Details :

Key	Value
Comprehension	MCQ3

एक दोषपूर्ण सिक्के में चित आने की संभावना पट से तिगुनी है। यदि सिक्के को दो बार उछाला गया तो पट x बार आने की प्रायिकता बंटन है :

(1)

x	0	1	2
$P(x)$	9/16	6/16	1/16

(2)

x	0	1	2
$P(x)$	9/16	1/16	6/16

(3)

x	0	1	2
$P(x)$	1/16	6/16	9/16

(4)

x	0	1	2
$P(x)$	1/16	9/16	6/16

Options :

212807116025. 1

212807116026. 2

212807116027. 3

212807116028. 4

Question Number : 453 Question Id : 21280729008 Question Type : MCQ Option Shuffling : No Is Question Mandatory : No Calculator : None Response Time : N.A Think Time : N.A Minimum Instruction Time : 0

Correct Marks : 5 Wrong Marks : 1

Question Key Details :

Key	Value

Consider the following statements with reference to probability and non probability sampling and select the correct statements :

- (A) In purposive sampling the members are selected which are most convenient for researches
- (B) Cluster sampling divides the population into subgroups and each subgroup has similar characteristics
- (C) In voluntary response sampling people are themselves ready to conduct the survey
- (D) Selection of a cricket team for world cup is an example of judgement sampling
- (E) Stratified sampling is a sampling in which every member of population is assigned a number and those numbers are chosen at regular intervals

Choose the correct answer from the options given below :

- (1) (B), (D) and (C) Only
- (2) (A), (B) and (C) Only
- (3) (A), (C) and (D) Only
- (4) (D) and (E) Only

Options :

- 212807116029. 1
- 212807116030. 2
- 212807116031. 3
- 212807116032. 4

Question Number : 453 Question Id : 21280729008 Question Type : MCQ Option Shuffling : No Is Question Mandatory : No Calculator : None Response Time : N.A Think Time : N.A Minimum Instruction Time : 0

Correct Marks : 5 Wrong Marks : 1

Question Key Details :

Key	Value
Comprehension	MCQ3

प्रायिकता और अप्रायिकता प्रतिचयन के संबंध में निम्न कथनों पर विचार करें और सही कथनों का चयन करें :

- (A) उद्देश्यपूर्ण प्रतिचयन में उन्हीं अवयवों को शोध के लिए चुना जाता है जो सबसे आसान हैं।
- (B) गुच्छ प्रतिचयन समष्टि को उपसमूहों में बांटता है और प्रत्येक उपसमूह की समान विशेषताएं होती हैं।
- (C) स्वैच्छ उत्तर प्रतिचयन में व्यक्ति खुद सर्वेक्षण के लिए तैयार होता है।
- (D) विश्व कप के लिए क्रिकेट टीम का चयन न्यायिक प्रतिचयन का एक उदाहरण है।
- (E) स्तंभित प्रतिचयन में समष्टि के प्रत्येक सदस्यों को एक संख्या प्रदान की जाती है तथा वे संख्याएं निश्चित अंतराल में चुनी जाती हैं।

नीचे दिए गए विकल्पों में से सही उत्तर का चयन कीजिए :

- (1) केवल (B), (D) और (C)
- (2) केवल (A), (B) और (C)
- (3) केवल (A), (C) और (D)
- (4) केवल (D) और (E)

Options :

- 212807116029. 1
- 212807116030. 2
- 212807116031. 3
- 212807116032. 4

Question Number : 454 Question Id : 21280729009 Question Type : MCQ Option Shuffling : No Is Question Mandatory : No Calculator : None
Response Time : N.A Think Time : N.A Minimum Instruction Time : 0

Correct Marks : 5 Wrong Marks : 1

Question Key Details :

Key	Value
Comprehension	MCQ3

Consider the statements given below and select the correct statements :

- (A) A list of indexes is called a index series
- (B) By time reversal test $p_{01} \times p_{10} = 0$
- (C) If $\sum p_1 q_0 = 144$, $\sum p_1 q_1 = 192$, $\sum p_0 q_0 = 90$ and $\sum p_0 q_1 = 120$ then Fisher's ideal number is 120
- (D) In Paashe's index number, current year quantities are taken as weights of commodities
- (E) If $\sum p_0 = 120$ and $\sum p_1 = 150$ then $p_{01} = 125$

Choose the correct answer from the options given below :

- (1) (B), (C) and (E) Only
- (2) (A) and (C) Only
- (3) (A), (D) and (E) Only
- (4) (B) and (D) Only

Options :

212807116033. 1

212807116034. 2

212807116035. 3

212807116036. 4

Question Number : 454 Question Id : 21280729009 Question Type : MCQ Option Shuffling : No Is Question Mandatory : No Calculator : None
Response Time : N.A Think Time : N.A Minimum Instruction Time : 0

Correct Marks : 5 Wrong Marks : 1

Question Key Details :

Key	Value
Comprehension	MCQ3

नीचे दिए कथनों पर विचार करें तथा सही कथन चुनें :

- (A) सूचकांकों की सूची सूचकांक श्रेणी कहलाता है
- (B) काल व्युत्क्रम जाँच में $p_{01} \times p_{10} = 0$
- (C) यदि $\sum p_1 q_0 = 144$, $\sum p_1 q_1 = 192$, $\sum p_0 q_0 = 90$ तथा $\sum p_0 q_1 = 120$ तो फिशर आदर्श संख्या 120 होगी
- (D) पाशे सूचकांक में वर्तमान वर्ष की मात्रा को वस्तुओं के भार के रूप में लिया जाता है
- (E) यदि $\sum p_0 = 120$ तथा $\sum p_1 = 150$ तो $p_{01} = 125$

नीचे दिए गए विकल्पों में से सही उत्तर का चयन कीजिए :

- (1) केवल (B), (C) और (E)
- (2) केवल (A) और (C)
- (3) केवल (A), (D) और (E)
- (4) केवल (B) और (D)

Options :

212807116033. 1

212807116034. 2

212807116035. 3

212807116036. 4

Question Number : 455 Question Id : 21280729010 Question Type : MCQ Option Shuffling : No Is Question Mandatory : No Calculator : None
Response Time : N.A Think Time : N.A Minimum Instruction Time : 0

Correct Marks : 5 Wrong Marks : 1

Question Key Details :

Key	Value
Comprehension	MCQ3

Consider the statement : During a certain period the cost of living index number goes from 110 to 200 and salary of a worker is also raised from ₹ 3,250 to ₹ 5,000.

Based on this information, check which of the following options are correct.

(A) Real wage is given by $\text{Real wage} = \frac{\text{Actual wage}}{\text{Cost of living index}} \times 100$

(B) Real wage of ₹ 3,250 = $\frac{₹ 3,250}{200} \times 100$

(C) Real wage of ₹ 3,250 = $\frac{₹ 3,250}{110} \times 100$

(D) Real wage of ₹ 5,000 = ₹ 2,600

(E) The worker actually loses ₹ 454.50 in real terms

Choose the **correct** answer from the options given below :

(1) (A), (B), (C) Only

(2) (B), (D), (E) Only

(3) (A), (C), (E) Only

(4) (C), (D), (E) Only

Options :

212807116037. 1

212807116038. 2

212807116039. 3

212807116040. 4

Question Number : 455 Question Id : 21280729010 Question Type : MCQ Option Shuffling : No Is Question Mandatory : No Calculator : None
Response Time : N.A Think Time : N.A Minimum Instruction Time : 0

Correct Marks : 5 Wrong Marks : 1

Question Key Details :

Key	Value
Comprehension	MCQ3

कथन पर विचार करें : एक निश्चित समय के दौरान जीवन मूल्य सूचकांक 110 से 200 हो जाता है तथा एक मजदूर का वेतन ₹ 3,250 से ₹ 5,000 बढ़ जाता है।

उपरोक्त सूचना के आधार पर दिये विकल्पों में सही उत्तर चुनें।

(A) यथार्थ मजदूरी = $\frac{\text{वास्तविक मजदूरी}}{\text{जीवन मूल्य सूचकांक}} \times 100$

(B) ₹ 3,250 की यथार्थ मजदूरी = $\frac{₹ 3,250}{200} \times 100$

(C) ₹ 3,250 की यथार्थ मजदूरी = $\frac{₹ 3,250}{110} \times 100$

(D) ₹ 5,000 की यथार्थ मजदूरी = ₹ 2,600

(E) मजदूर को वास्तविक रूप से ₹ 454.50 का नुकसान होता है

नीचे दिए गए विकल्पों में से सही उत्तर का चयन कीजिए :

- (1) केवल (A), (B), (C)
- (2) केवल (B), (D), (E)
- (3) केवल (A), (C), (E)
- (4) केवल (C), (D), (E)

Options :

212807116037. 1

212807116038. 2

212807116039. 3

212807116040. 4

Question Number : 456 Question Id : 21280729011 Question Type : MCQ Option Shuffling : No Is Question Mandatory : No Calculator : None Response Time : N.A Think Time : N.A Minimum Instruction Time : 0

Correct Marks : 5 Wrong Marks : 1

Question Key Details :

Key	Value
Comprehension	MCQ3

The straight line trend for the sales of a cosmetic item (in thousands) in a district with an origin year 2013 is $y = 5.9 + 1.3x$. The predicted sales of cosmetic items in 2023 is :

- (1) 5.9 thousands
- (2) 13.0 thousands
- (3) 18.9 thousands
- (4) 262.99 thousands

Options :

212807116041. 1

212807116042. 2

212807116043. 3

212807116044. 4

Question Number : 456 Question Id : 21280729011 Question Type : MCQ Option Shuffling : No Is Question Mandatory : No Calculator : None Response Time : N.A Think Time : N.A Minimum Instruction Time : 0

Correct Marks : 5 Wrong Marks : 1

Question Key Details :

Key	Value
-----	-------

किसी जिले में प्रसाधन वस्तुओं की बिक्री (हजार में) का सरल रेखा उपनति $y = 5.9 + 1.3x$ है, 2013 मूल वर्ष के संदर्भ में; 2023 के लिए प्रसाधन का अनुमानित बिक्री है _____।

- (1) 5.9 हजार
- (2) 13.0 हजार
- (3) 18.9 हजार
- (4) 262.99 हजार

Options :

212807116041. 1
212807116042. 2
212807116043. 3
212807116044. 4

Question Number : 457 Question Id : 21280729012 Question Type : MCQ Option Shuffling : No Is Question Mandatory : No Calculator : None
Response Time : N.A Think Time : N.A Minimum Instruction Time : 0

Correct Marks : 5 Wrong Marks : 1

Question Key Details :

Key	Value
Comprehension	MCQ3

With reference to one sample t-Test, the test statistics is given by the expression $t = \frac{17 - 18}{\frac{4.5}{\sqrt{48}}}$ then

which of the following gives the correct set of order of values \bar{x} , μ_0 , S and n ?

- (1) 48, 17, 18, 4.5
- (2) 17, 4.5, 48, 18
- (3) 17, 18, 4.5, 48
- (4) 18, 17, 48, 4.5

Options :

212807116045. 1
212807116046. 2
212807116047. 3
212807116048. 4

Question Number : 457 Question Id : 21280729012 Question Type : MCQ Option Shuffling : No Is Question Mandatory : No Calculator : None
Response Time : N.A Think Time : N.A Minimum Instruction Time : 0

Correct Marks : 5 Wrong Marks : 1

Question Key Details :

Key	Value
Comprehension	MCQ3

प्रतिदर्श t-जाँच के संबंध में, जाँच प्रतिदर्श को $t = \frac{17 - 18}{\frac{4.5}{\sqrt{48}}}$ द्वारा प्रदत्त है तो \bar{x} , μ_0 , S एवं n के लिए सही क्रम कौन-सा है ?

- (1) 48, 17, 18, 4.5
- (2) 17, 4.5, 48, 18
- (3) 17, 18, 4.5, 48
- (4) 18, 17, 48, 4.5

Options :

212807116045. 1
 212807116046. 2
 212807116047. 3
 212807116048. 4

Question Number : 458 Question Id : 21280729013 Question Type : MCQ Option Shuffling : No Is Question Mandatory : No Calculator : None
 Response Time : N.A Think Time : N.A Minimum Instruction Time : 0

Correct Marks : 5 Wrong Marks : 1

Question Key Details :

Key	Value
Comprehension	MCQ3

A student wants to estimate the mean of population for some sample. The probability is 0.95 that sample mean will not differ by true mean by more than 50% of standard deviation. ($Z_{0.025} = 1.96$)
 The size of sample taken by student is :

- (1) 17
 (2) 15
 (3) 14
 (4) 13

Options :

212807116049. 1
 212807116050. 2
 212807116051. 3
 212807116052. 4

Question Number : 458 Question Id : 21280729013 Question Type : MCQ Option Shuffling : No Is Question Mandatory : No Calculator : None
 Response Time : N.A Think Time : N.A Minimum Instruction Time : 0

Correct Marks : 5 Wrong Marks : 1

Question Key Details :

Key	Value
Comprehension	MCQ3

एक छात्र कुछ प्रतिदर्श से समष्टि माध्य का आकलन करना चाहता है। प्रतिदर्श माध्य का वास्तविक माध्य के मानक विचलन से 50% अधिकतम अन्तर होने की प्रायिकता 0.95 है। ($Z_{0.025} = 1.96$) छात्र द्वारा लिये गये प्रतिदर्श का आकार है :

- (1) 17
 (2) 15
 (3) 14
 (4) 13

Options :

212807116049. 1
 212807116050. 2
 212807116051. 3
 212807116052. 4

Question Number : 459 Question Id : 21280729014 Question Type : MCQ Option Shuffling : No Is Question Mandatory : No Calculator : None
 Response Time : N.A Think Time : N.A Minimum Instruction Time : 0

Correct Marks : 5 Wrong Marks : 1

Question Key Details :

Key	Value
Comprehension	MCQ3

Match List - I with List - II.

List - I

- (A) A measurable characteristic of a population is called :
(B) A collection of objects, events etc. is :
(C) A measurable characteristic of sample is called :
(D) The number of independent values which have freedom to vary in computing as statistic is called :

List - II

- (I) Degree of freedom
(II) Population
(III) Parameter
(IV) Statistic

Choose the **correct** answer from the options given below :

- (1) (A)-(I), (B)-(III), (C)-(IV), (D)-(II)
(2) (A)-(III), (B)-(II), (C)-(IV), (D)-(I)
(3) (A)-(II), (B)-(I), (C)-(IV), (D)-(III)
(4) (A)-(IV), (B)-(III), (C)-(II), (D)-(I)

Options :

212807116053. 1
212807116054. 2
212807116055. 3
212807116056. 4

Question Number : 459 Question Id : 21280729014 Question Type : MCQ Option Shuffling : No Is Question Mandatory : No Calculator : None Response Time : N.A Think Time : N.A Minimum Instruction Time : 0

Correct Marks : 5 Wrong Marks : 1

Question Key Details :

Key	Value
Comprehension	MCQ3

सूची-I से सूची-II का मिलान कीजिए :

सूची-I

- (A) समष्टि का मापीय गुण कहलाता है :
(B) वस्तुओं, घटनाओं का संग्रह है :
(C) प्रतिदर्श का मापीय गुण कहलाता है :
(D) स्वतंत्र मानों की संख्या जो प्रतिदर्शज में स्वतंत्र रूप से विचरण करती है, कहलाती हैं

सूची-II

- (I) स्वातंत्र्य कोटि
(II) समष्टि
(III) प्राचल
(IV) प्रतिदर्शज

नीचे दिए गए विकल्पों में से **सही उत्तर** का चयन कीजिए :

- (1) (A)-(I), (B)-(III), (C)-(IV), (D)-(II)
(2) (A)-(III), (B)-(II), (C)-(IV), (D)-(I)
(3) (A)-(II), (B)-(I), (C)-(IV), (D)-(III)
(4) (A)-(IV), (B)-(III), (C)-(II), (D)-(I)

Options :

212807116053. 1
212807116054. 2
212807116055. 3
212807116056. 4

Question Number : 460 Question Id : 21280729015 Question Type : MCQ Option Shuffling : No Is Question Mandatory : No Calculator : None Response Time : N.A Think Time : N.A Minimum Instruction Time : 0

Correct Marks : 5 Wrong Marks : 1

Question Key Details :

Key	Value
-----	-------

Raman borrows a sum of ₹ 4,00,000 with total interest paid ₹ 2,00,000 and he is paying an EMI of ₹ 12,000 under flat rate system, then his loan tenure is :

- (1) 48 months
- (2) 45 months
- (3) 50 months
- (4) 60 months

Options :

212807116057. 1
212807116058. 2
212807116059. 3
212807116060. 4

Question Number : 460 Question Id : 21280729015 Question Type : MCQ Option Shuffling : No Is Question Mandatory : No Calculator : None Response Time : N.A Think Time : N.A Minimum Instruction Time : 0

Correct Marks : 5 Wrong Marks : 1

Question Key Details :

Key	Value
Comprehension	MCQ3

रमन ₹ 4,00,000 उधार लेता है तथा कुल ₹ 2,00,000 का ब्याज भुगतान करता है। यदि वह ₹ 12,000 का मासिक किस्त देता है तो ऋण की अवधि, सपाट दर से, है _____।

- (1) 48 माह
- (2) 45 माह
- (3) 50 माह
- (4) 60 माह

Options :

212807116057. 1
212807116058. 2
212807116059. 3
212807116060. 4

Question Number : 461 Question Id : 21280729016 Question Type : MCQ Option Shuffling : No Is Question Mandatory : No Calculator : None Response Time : N.A Think Time : N.A Minimum Instruction Time : 0

Correct Marks : 5 Wrong Marks : 1

Question Key Details :

Key	Value
Comprehension	MCQ3

What sum of money should be invested now so as to get ₹ 7,500 at the beginning of every month forever, if the money is worth 7.5% per annum compounded monthly ?

- (1) ₹ 7,50,000
- (2) ₹ 12,00,000
- (3) ₹ 10,07,500
- (4) ₹ 12,07,500

Options :

212807116061. 1
212807116062. 2
212807116063. 3
212807116064. 4

Question Number : 461 Question Id : 21280729016 Question Type : MCQ Option Shuffling : No Is Question Mandatory : No Calculator : None
Response Time : N.A Think Time : N.A Minimum Instruction Time : 0

Correct Marks : 5 Wrong Marks : 1

Question Key Details :

Key	Value
Comprehension	MCQ3

7.5% प्रतिवर्ष की दर से मासिक चक्रवृद्धि व्याज दर से कितने रुपये का निवेश किया जाय कि प्रत्येक माह के आरंभ में चिरकाल तक ₹ 7,500 का धन प्राप्त हो ?

- (1) ₹ 7,50,000
- (2) ₹ 12,00,000
- (3) ₹ 10,07,500
- (4) ₹ 12,07,500

Options :

212807116061. 1
212807116062. 2
212807116063. 3
212807116064. 4

Question Number : 462 Question Id : 21280729017 Question Type : MCQ Option Shuffling : No Is Question Mandatory : No Calculator : None
Response Time : N.A Think Time : N.A Minimum Instruction Time : 0

Correct Marks : 5 Wrong Marks : 1

Question Key Details :

Key	Value
Comprehension	MCQ3

Match List - I with List - II.

List - I

- (A) Price at which bond is sold to investors
- (B) Amount which bond issuer pays to buyer at maturity
- (C) If discount rate < coupon rate then :
- (D) If discount rate > coupon rate, then :

List - II

- (I) Redemption
- (II) P.V. > face value
- (III) Face value
- (IV) P.V. < face value

Choose the correct answer from the options given below :

- (1) (A)-(III), (B)-(I), (C)-(II), (D)-(IV)
- (2) (A)-(I), (B)-(III), (C)-(IV), (D)-(II)
- (3) (A)-(III), (B)-(I), (C)-(IV), (D)-(II)
- (4) (A)-(I), (B)-(III), (C)-(II), (D)-(IV)

Options :

212807116065. 1
212807116066. 2
212807116067. 3
212807116068. 4

Question Number : 462 Question Id : 21280729017 Question Type : MCQ Option Shuffling : No Is Question Mandatory : No Calculator : None
Response Time : N.A Think Time : N.A Minimum Instruction Time : 0

Correct Marks : 5 Wrong Marks : 1

Question Key Details :

Key	Value
Comprehension	MCQ3

सूची-I से सूची-II का मिलान कीजिए :

सूची-I

- (A) वह कीमत जिस पर निवेशक को बांड बेचा जाता है
(B) वह धन जिस पर बांड जारीकर्ता खरीददार को परिपक्वता पर देता है
(C) यदि छूट दर < कूपन दर से तो :
(D) यदि छूट दर > कूपन दर से तो :

सूची-II

- (I) मोचन
(II) P.V. > अंकित मूल्य
(III) अंकित मूल्य
(IV) P.V. < अंकित मूल्य

नीचे दिए गए विकल्पों में से सही उत्तर का चयन कीजिए :

- (1) (A)-(III), (B)-(I), (C)-(II), (D)-(IV)
(2) (A)-(I), (B)-(III), (C)-(IV), (D)-(II)
(3) (A)-(III), (B)-(I), (C)-(IV), (D)-(II)
(4) (A)-(I), (B)-(III), (C)-(II), (D)-(IV)

Options :

212807116065. 1
212807116066. 2
212807116067. 3
212807116068. 4

Question Number : 463 Question Id : 21280729018 Question Type : MCQ Option Shuffling : No Is Question Mandatory : No Calculator : None
Response Time : N.A Think Time : N.A Minimum Instruction Time : 0

Correct Marks : 5 Wrong Marks : 1

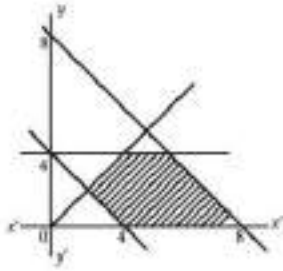
Question Key Details :

Key	Value
Comprehension	MCQ3

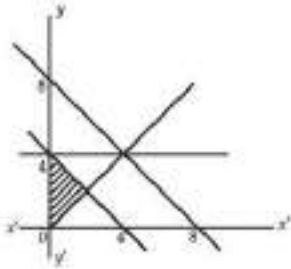
Which of the following graph represents the given constraints ?

$$x + y \leq 8, x + y \geq 4, x - y \leq 0, y \leq 4, x \geq 0, y \geq 0$$

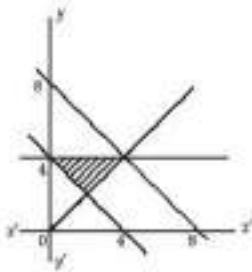
(1)



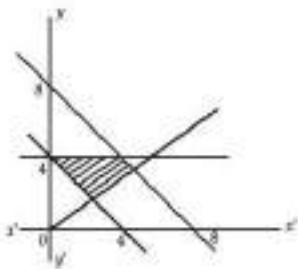
(2)



(3)



(4)



Options :

212807116069. 1

212807116070. 2

212807116071. 3

212807116072. 4

Question Number : 463 Question Id : 21280729018 Question Type : MCQ Option Shuffling : No Is Question Mandatory : No Calculator : None Response Time : N.A Think Time : N.A Minimum Instruction Time : 0

Correct Marks : 5 Wrong Marks : 1

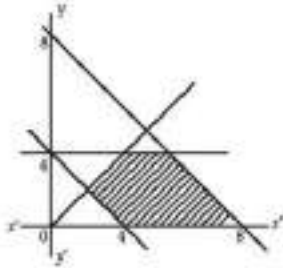
Question Key Details :

Key	Value
Comprehension	MCQ3

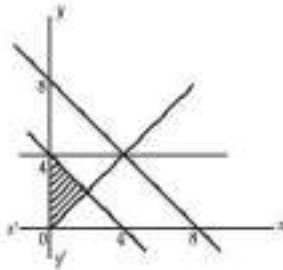
निम्न में कौन सा आरेख दिये व्यबरोधों को दर्शाता है ?

$$x + y \leq 8, x + y \geq 4, x - y \leq 0, y \leq 4, x \geq 0, y \geq 0$$

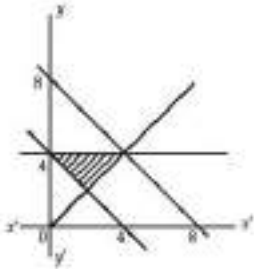
(1)



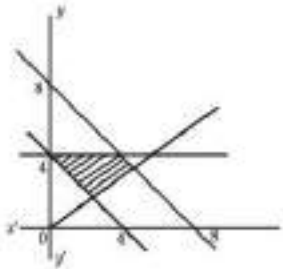
(2)



(3)



(4)



Options :

212807116069. 1

212807116070. 2

212807116071. 3

212807116072. 4

Question Number : 464 Question Id : 21280729019 Question Type : MCQ Option Shuffling : No Is Question Mandatory : No Calculator : None Response Time : N.A Think Time : N.A Minimum Instruction Time : 0

Correct Marks : 5 Wrong Marks : 1

Question Key Details :

Key	Value
Comprehension	MCQ3

Consider the following statements regarding LPP :

- (A) If R is unbounded, then maximum or minimum of the objective function Z must exist
- (B) An LPP can not have more than one optimal solution for the decision variables
- (C) The conditions $x \geq 0, y \geq 0$ are called non-negative restrictions on the decision variables
- (D) Two different corner points of the feasible region may give same value when put in the objective function
- (E) If the feasible region R is bounded then the objective function Z must have some optimal solution

Choose the correct answer from the options given below :

- (1) (A) and (B) Only
- (2) (A), (C) and (D) Only
- (3) (C), (D) and (E) Only
- (4) (D) and (E) Only

Options :

- 212807116073. 1
- 212807116074. 2
- 212807116075. 3
- 212807116076. 4

Question Number : 464 Question Id : 21280729019 Question Type : MCQ Option Shuffling : No Is Question Mandatory : No Calculator : None Response Time : N.A Think Time : N.A Minimum Instruction Time : 0

Correct Marks : 5 Wrong Marks : 1

Question Key Details :

Key	Value
Comprehension	MCQ3

LPP से संबंधित निम्न कथनों पर विचार करें :

- (A) यदि R अपरिबद्ध है तो उद्देश्य फलन Z का अधिकतम व न्यूनतम मान होगा।
- (B) किसी LPP के निर्णय चरों के लिए एक से अधिक इष्टतम हल नहीं हो सकता है।
- (C) किसी निर्णय चरों के लिए $x \geq 0, y \geq 0$ ऋणेत्तर व्यवरोध कहलाता है।
- (D) किसी सुसंगत क्षेत्र के दो अलग-अलग कोनीय बिंदु पर उद्देश्य फलन का समान मान आता है।
- (E) यदि R सुसंगत क्षेत्र आवद्ध हो तो उद्देश्य फलन Z का इष्टतम हल होगा।

नीचे दिए गए विकल्पों में से सही उत्तर का चयन कीजिए :

- (1) केवल (A) और (B)
- (2) केवल (A), (C) और (D)
- (3) केवल (C), (D) और (E)
- (4) केवल (D) और (E)

Options :

- 212807116073. 1
- 212807116074. 2
- 212807116075. 3
- 212807116076. 4

Question Number : 465 Question Id : 21280729020 Question Type : MCQ Option Shuffling : No Is Question Mandatory : No Calculator : None Response Time : N.A Think Time : N.A Minimum Instruction Time : 0

Correct Marks : 5 Wrong Marks : 1

Question Key Details :

Key	Value
Comprehension	MCQ3

If the corner points of the feasible region for an LPP are (6, 0), (5, 5), (3, 6) and (0, 4) then minimum value of the objective function $z = 2x + 3y$ occurs at :

- (1) (6, 0) Only
- (2) (0, 4) Only
- (3) the mid point of the line segment joining the points (6, 0) and (4, 0) only
- (4) every point of the line segment joining the points (6, 0) and (4, 0)

Options :

212807116077. 1
 212807116078. 2
 212807116079. 3
 212807116080. 4

Question Number : 465 Question Id : 21280729020 Question Type : MCQ Option Shuffling : No Is Question Mandatory : No Calculator : None Response Time : N.A Think Time : N.A Minimum Instruction Time : 0

Correct Marks : 5 Wrong Marks : 1

Question Key Details :

Key	Value
Comprehension	MCQ3

किसी LPP के सुसंगत क्षेत्र के कोनीय बिन्दु (6, 0), (5, 5), (3, 6) एवं (0, 4) हैं तो उद्देश्य फलन $z = 2x + 3y$ का न्यूनतम मान होगा _____।

- (1) केवल (6, 0)
- (2) केवल (0, 4)
- (3) (6, 0) तथा (4, 0) को जोड़ने वाली रेखा खंड के मध्य बिंदु पर
- (4) (6, 0) तथा (4, 0) को जोड़ने वाली रेखाखंड के सभी बिंदुओं पर

Options :

212807116077. 1
 212807116078. 2
 212807116079. 3
 212807116080. 4

Sub-Section Number : 2
 Sub-Section Id : 2128072110
 Question Shuffling Allowed : No
 Is Section Default? : null

Question Number : 466 Question Id : 21280729021 Question Type : MCQ Option Shuffling : No Is Question Mandatory : No Calculator : None Response Time : N.A Think Time : N.A Minimum Instruction Time : 0

Correct Marks : 5 Wrong Marks : 1

Question Key Details :

Key	Value
Comprehension	Comp2

It is 9 o'clock in the morning. The travel agent informed Sheetal that she will reach her destination after 400 hours of travel. At what time of the day she reaches her destination ?

- (1) 5 PM
- (2) 1 PM
- (3) 1 AM
- (4) 5 AM

Options :

212807116081. 1

212807116082. 2
212807116083. 3
212807116084. 4

Question Number : 466 Question Id : 21280729021 Question Type : MCQ Option Shuffling : No Is Question Mandatory : No Calculator : None
Response Time : N.A Think Time : N.A Minimum Instruction Time : 0

Correct Marks : 5 Wrong Marks : 1

Question Key Details :

Key	Value
Comprehension	Comp2

अभी सुबह के 9 बजे हैं। ट्रेवल एजेंट ने शीतल को बताया कि 400 घंटों की यात्रा के 10 मिनट पश्चात वह अपने नियत स्थान पर पहुँच जाएगी। वह किस समय अपने स्थान पर पहुँचेगी ?

- (1) 5 PM
- (2) 1 PM
- (3) 1 AM
- (4) 5 AM

Options :

212807116081. 1
212807116082. 2
212807116083. 3
212807116084. 4

Question Number : 467 Question Id : 21280729022 Question Type : MCQ Option Shuffling : No Is Question Mandatory : No Calculator : None
Response Time : N.A Think Time : N.A Minimum Instruction Time : 0

Correct Marks : 5 Wrong Marks : 1

Question Key Details :

Key	Value
Comprehension	Comp2

The slope of the function $f(x) = -\frac{x^3}{3} + \frac{5x^2}{2} - 6x + 12$ is maximum at $x =$ _____.

- (1) 6
- (2) -1
- (3) $\frac{5}{2}$
- (4) -2

Options :

212807116085. 1
212807116086. 2
212807116087. 3
212807116088. 4

Question Number : 467 Question Id : 21280729022 Question Type : MCQ Option Shuffling : No Is Question Mandatory : No Calculator : None
Response Time : N.A Think Time : N.A Minimum Instruction Time : 0

Correct Marks : 5 Wrong Marks : 1

Question Key Details :

Key	Value
Comprehension	Comp2

फलन $f(x) = -\frac{x^3}{3} + \frac{5x^2}{2} - 6x + 12$ की प्रवणता का अधिकतम मान है, x _____ पर:

- (1) 6
- (2) -1
- (3) $\frac{5}{2}$
- (4) -2

Options :

212807116085. 1
212807116086. 2
212807116087. 3
212807116088. 4

Question Number : 468 Question Id : 21280729023 Question Type : MCQ Option Shuffling : No Is Question Mandatory : No Calculator : None
Response Time : N.A Think Time : N.A Minimum Instruction Time : 0

Correct Marks : 5 Wrong Marks : 1

Question Key Details :

Key	Value
Comprehension	Comp2

Which of the following is not an adequacy test of index Numbers ?

- (1) Unit test
- (2) Time Reversal test
- (3) Factor Reversal test
- (4) Series test

Options :

212807116089. 1
212807116090. 2
212807116091. 3
212807116092. 4

Question Number : 468 Question Id : 21280729023 Question Type : MCQ Option Shuffling : No Is Question Mandatory : No Calculator : None
Response Time : N.A Think Time : N.A Minimum Instruction Time : 0

Correct Marks : 5 Wrong Marks : 1

Question Key Details :

Key	Value
Comprehension	Comp2

इनमें से कौन सूचकांक के उपयुक्त जाँच नहीं है ?

- (1) इकाई जाँच
- (2) काल व्युत्क्रमण जाँच
- (3) गुणनखंड व्युत्क्रमण जाँच
- (4) श्रेणी जाँच

Options :

212807116089. 1
212807116090. 2
212807116091. 3
212807116092. 4

Question Number : 469 Question Id : 21280729024 Question Type : MCQ Option Shuffling : No Is Question Mandatory : No Calculator : None
Response Time : N.A Think Time : N.A Minimum Instruction Time : 0

Correct Marks : 5 Wrong Marks : 1

Question Key Details :

Key	Value
Comprehension	Comp2

The three year moving average of the production given by the table.

Year	2010	2011	2012	2013	2014	2015
Production	98	95	103	109	88	110

is least around the year :

- (1) 2012
- (2) 2014
- (3) 2011
- (4) 2013

Options :

212807116093. 1
212807116094. 2
212807116095. 3
212807116096. 4

Question Number : 469 Question Id : 21280729024 Question Type : MCQ Option Shuffling : No Is Question Mandatory : No Calculator : None Response Time : N.A Think Time : N.A Minimum Instruction Time : 0

Correct Marks : 5 Wrong Marks : 1

Question Key Details :

Key	Value
Comprehension	Comp2

किसी उत्पाद के तीन वर्षीय चल औसत को निम्न तालिका में दिखाया गया है।

वर्ष	2010	2011	2012	2013	2014	2015
उत्पादन	98	95	103	109	88	110

यह किस आधार वर्ष में सबसे निम्न है :

- (1) 2012
- (2) 2014
- (3) 2011
- (4) 2013

Options :

212807116093. 1
212807116094. 2
212807116095. 3
212807116096. 4

Question Number : 470 Question Id : 21280729025 Question Type : MCQ Option Shuffling : No Is Question Mandatory : No Calculator : None Response Time : N.A Think Time : N.A Minimum Instruction Time : 0

Correct Marks : 5 Wrong Marks : 1

Question Key Details :

Key	Value
Comprehension	Comp2

If A is the amount of obligation, r is the rate of interest per payment period and $i = \frac{r}{100}$, then the amount of each payment can be calculated using which of the following formulae, where n is the number of payments ?

$$(1) \quad R = \left[\frac{(1+i)^n - 1}{i} \right] \times A$$

$$(2) \quad R = \left[\frac{A \times i}{(1+i)^n + 1} \right]$$

$$(3) \quad R = \left[\frac{A \times i}{(1+i)^n - 1} \right]$$

$$(4) \quad R = \left[\frac{(1+i)^n + 1}{i} \right] \times A$$

Options :

212807116097. 1
212807116098. 2
212807116099. 3
212807116100. 4

Question Number : 470 Question Id : 21280729025 Question Type : MCQ Option Shuffling : No Is Question Mandatory : No Calculator : None Response Time : N.A Think Time : N.A Minimum Instruction Time : 0

Correct Marks : 5 Wrong Marks : 1

Question Key Details :

Key	Value
Comprehension	Comp2

यदि A अनिवार्य देय धन, r प्रति अवधि व्याज पर $i = \frac{r}{100}$ तो प्रत्येक भुगतान की राशि को इनमें से किस सूत्र द्वारा निकाला जा सकता है, जहाँ n भुगतान की संख्या है ?

$$(1) \quad R = \left[\frac{(1+i)^n - 1}{i} \right] \times A$$

$$(2) \quad R = \left[\frac{A \times i}{(1+i)^n + 1} \right]$$

$$(3) \quad R = \left[\frac{A \times i}{(1+i)^n - 1} \right]$$

$$(4) \quad R = \left[\frac{(1+i)^n + 1}{i} \right] \times A$$

Options :

212807116097. 1
212807116098. 2
212807116099. 3
212807116100. 4

Physical Education

Group Number :	9
Group Id :	212807630
Group Maximum Duration :	45
Group Minimum Duration :	45
Show Attended Group? :	No
Edit Attended Group? :	No
Break time :	0
Group Marks :	200
Is this Group for Examiner? :	No
Examiner permission :	Cant View
Show Progress Bar? :	No

Physical Education

Section Id :	212807738
Section Number :	1
Section type :	Online
Mandatory or Optional :	Mandatory
Number of Questions :	50
Number of Questions to be attempted :	40
Section Marks :	200
Enable Mark as Answered Mark for Review and Clear Response :	Yes
Maximum Instruction Time :	0
Sub-Section Number :	1
Sub-Section Id :	2128072111
Question Shuffling Allowed :	Yes
Is Section Default? :	null

Question Number : 471 Question Id : 21280729026 Question Type : MCQ Option Shuffling : No Is Question Mandatory : No Calculator : None
Response Time : N.A Think Time : N.A Minimum Instruction Time : 0

Correct Marks : 5 Wrong Marks : 1

Question Key Details :

Key	Value
Comprehension	MCQ

Martial Arts is the proud legacy of _____ culture.

- (1) Indian
- (2) European
- (3) Chinese
- (4) Roman

Options :

- 212807116101. 1
- 212807116102. 2
- 212807116103. 3
- 212807116104. 4

Question Number : 471 Question Id : 21280729026 Question Type : MCQ Option Shuffling : No Is Question Mandatory : No Calculator : None
Response Time : N.A Think Time : N.A Minimum Instruction Time : 0

Correct Marks : 5 Wrong Marks : 1

Question Key Details :

Key	Value
Comprehension	MCQ

युद्ध कलायें _____ संस्कृति की एक गौरवशाली विरासत है।

- (1) भारतीय
- (2) यूरोपीय
- (3) चाइनीज़
- (4) रोमन

Options :

212807116101. 1
212807116102. 2
212807116103. 3
212807116104. 4

Question Number : 472 Question Id : 21280729027 Question Type : MCQ Option Shuffling : No Is Question Mandatory : No Calculator : None
Response Time : N.A Think Time : N.A Minimum Instruction Time : 0

Correct Marks : 5 Wrong Marks : 1

Question Key Details :

Key	Value
Comprehension	MCQ

Identify the odd one out from the below listed sports because of its special character.

- (1) Archery
- (2) Shooting
- (3) Gymnastics
- (4) Foot ball

Options :

212807116105. 1
212807116106. 2
212807116107. 3
212807116108. 4

Question Number : 472 Question Id : 21280729027 Question Type : MCQ Option Shuffling : No Is Question Mandatory : No Calculator : None
Response Time : N.A Think Time : N.A Minimum Instruction Time : 0

Correct Marks : 5 Wrong Marks : 1

Question Key Details :

Key	Value
Comprehension	MCQ

नीचे दिए गए खेलों में से सबसे अलग विकल्प को उसके विशेष चरित्र के कारण पहचानें :

- (1) धनुर्विद्या (तीरंदाजी)
- (2) शूटिंग
- (3) जिमनासस्टिक
- (4) फुटबॉल

Options :

212807116105. 1
212807116106. 2
212807116107. 3
212807116108. 4

Question Number : 473 Question Id : 21280729028 Question Type : MCQ Option Shuffling : No Is Question Mandatory : No Calculator : None
Response Time : N.A Think Time : N.A Minimum Instruction Time : 0

Correct Marks : 5 Wrong Marks : 1

Question Key Details :

Key	Value
-----	-------

“Sound mind in a sound body” was said by whom :

- (1) Socrates
- (2) Aurobindo
- (3) Zeno
- (4) Aristotle

Options :

212807116109. 1
212807116110. 2
212807116111. 3
212807116112. 4

Question Number : 473 Question Id : 21280729028 Question Type : MCQ Option Shuffling : No Is Question Mandatory : No Calculator : None
Response Time : N.A Think Time : N.A Minimum Instruction Time : 0

Correct Marks : 5 Wrong Marks : 1

Question Key Details :

Key	Value
Comprehension	MCQ

“स्वस्थ शरीर में स्वस्थ दिमाग होता है” यह किसके द्वारा कहा गया था।

- (1) सुकरात
- (2) अरबिन्दो
- (3) जेनों
- (4) अरस्टू

Options :

212807116109. 1
212807116110. 2
212807116111. 3
212807116112. 4

Question Number : 474 Question Id : 21280729029 Question Type : MCQ Option Shuffling : No Is Question Mandatory : No Calculator : None
Response Time : N.A Think Time : N.A Minimum Instruction Time : 0

Correct Marks : 5 Wrong Marks : 1

Question Key Details :

Key	Value
Comprehension	MCQ

National plan of Physical Education and Recreation in the year _____ aimed “To make every child physically, mentally and emotionally fit”.

- (1) 1956
- (2) 1946
- (3) 1966
- (4) 1952

Options :

212807116113. 1
212807116114. 2
212807116115. 3
212807116116. 4

Question Number : 474 Question Id : 21280729029 Question Type : MCQ Option Shuffling : No Is Question Mandatory : No Calculator : None
Response Time : N.A Think Time : N.A Minimum Instruction Time : 0

Correct Marks : 5 Wrong Marks : 1

Question Key Details :

Key	Value

“सभी बच्चों को शारीरिक, बौद्धिक तथा भावनात्मक रूप से स्वस्थ रखना” यह उद्देश्य _____ वर्ष में शारीरिक शिक्षा और मनोरंजन की राष्ट्रीय योजना का था ?

- (1) 1956
- (2) 1946
- (3) 1966
- (4) 1952

Options :

212807116113. 1
212807116114. 2
212807116115. 3
212807116116. 4

Question Number : 475 Question Id : 21280729030 Question Type : MCQ Option Shuffling : No Is Question Mandatory : No Calculator : None Response Time : N.A Think Time : N.A Minimum Instruction Time : 0

Correct Marks : 5 Wrong Marks : 1

Question Key Details :

Key	Value
Comprehension	MCQ

Which factor amongst the following is common in Acceleration and Pace Runs - methods to develop speed ?

- (1) Pace
- (2) Distance
- (3) Complete Recovery
- (4) Incomplete Recovery

Options :

212807116117. 1
212807116118. 2
212807116119. 3
212807116120. 4

Question Number : 475 Question Id : 21280729030 Question Type : MCQ Option Shuffling : No Is Question Mandatory : No Calculator : None Response Time : N.A Think Time : N.A Minimum Instruction Time : 0

Correct Marks : 5 Wrong Marks : 1

Question Key Details :

Key	Value
Comprehension	MCQ

गति विकसित करने के लिए त्वरण और गति से चलाने (पेस रन्स) के तरीकों में निम्नलिखित में से कौन सा कारक आम है ?

- (1) गति
- (2) दूरी
- (3) सम्पूर्ण क्षतिपूर्ति
- (4) अधूरी क्षतिपूर्ति

Options :

212807116117. 1
212807116118. 2
212807116119. 3
212807116120. 4

Question Number : 476 Question Id : 21280729031 Question Type : MCQ Option Shuffling : No Is Question Mandatory : No Calculator : None Response Time : N.A Think Time : N.A Minimum Instruction Time : 0

Correct Marks : 5 Wrong Marks : 1

Question Key Details :

Key	Value
Comprehension	MCQ

By which of the following methods of improving strength, Concentric and Eccentric contraction of muscles takes place ?

- (1) Isotonic
- (2) Isometric
- (3) Isokinetic
- (4) Isonomic

Options :

212807116121. 1
212807116122. 2
212807116123. 3
212807116124. 4

Question Number : 476 Question Id : 21280729031 Question Type : MCQ Option Shuffling : No Is Question Mandatory : No Calculator : None Response Time : N.A Think Time : N.A Minimum Instruction Time : 0

Correct Marks : 5 Wrong Marks : 1

Question Key Details :

Key	Value
Comprehension	MCQ

निम्नलिखित में से किस विधि से शक्ति में सुधार करने से मांसपेशियों का संकेद्रित (कोनसेन्ट्रिक) और बाह्य (इसेन्ट्रिक) संकुचन होता है :

- (1) आइसोटोनिक
- (2) आइसोमेट्रिक
- (3) आइसोकाइनेटिक
- (4) आइसोनोमिक

Options :

212807116121. 1
212807116122. 2
212807116123. 3
212807116124. 4

Question Number : 477 Question Id : 21280729032 Question Type : MCQ Option Shuffling : No Is Question Mandatory : No Calculator : None Response Time : N.A Think Time : N.A Minimum Instruction Time : 0

Correct Marks : 5 Wrong Marks : 1

Question Key Details :

Key	Value
Comprehension	MCQ

"A player with high hostility trait may not indulge in an aggressive behaviour if his team is winning with a large margin" is a fine example of which of the following concepts/theories ?

- (1) Learning Approach
- (2) Interaction Theory
- (3) Biological Factors
- (4) Psycho-Dynamic Theory

Options :

212807116125. 1
212807116126. 2
212807116127. 3
212807116128. 4

Question Number : 477 Question Id : 21280729032 Question Type : MCQ Option Shuffling : No Is Question Mandatory : No Calculator : None
Response Time : N.A Think Time : N.A Minimum Instruction Time : 0

Correct Marks : 5 Wrong Marks : 1

Question Key Details :

Key	Value
Comprehension	MCQ

“उच्च शत्रुता वाला खिलाड़ी आक्रमक व्यवहार लिप्त नहीं हो सकता यदि, उसकी टीम बड़े अंतर से जीत रही हो” यह निम्नलिखित में से किसका उदाहरण है :

- (1) अधिगम उपागम (लर्निंग अप्रोच)
- (2) बातचीत का सिद्धांत (इंटरैक्शन थ्योरी)
- (3) जैविक कारक (बायोलॉजिकल फैक्टर)
- (4) साइको-डायनोमिक सिद्धांत

Options :

212807116125. 1
212807116126. 2
212807116127. 3
212807116128. 4

Question Number : 478 Question Id : 21280729033 Question Type : MCQ Option Shuffling : No Is Question Mandatory : No Calculator : None
Response Time : N.A Think Time : N.A Minimum Instruction Time : 0

Correct Marks : 5 Wrong Marks : 1

Question Key Details :

Key	Value
Comprehension	MCQ

“Tournament software” is a great example of sports software engineering. It helps in _____ of the Tournament.

- (1) Better management
- (2) Procurement of Equipment
- (3) First aid application
- (4) Procurement of Finances

Options :

212807116129. 1
212807116130. 2
212807116131. 3
212807116132. 4

Question Number : 478 Question Id : 21280729033 Question Type : MCQ Option Shuffling : No Is Question Mandatory : No Calculator : None
Response Time : N.A Think Time : N.A Minimum Instruction Time : 0

Correct Marks : 5 Wrong Marks : 1

Question Key Details :

Key	Value
Comprehension	MCQ

प्रतियोगित साफ्टवेअर एक अच्छा उदाहरण है खेल साफ्टवेअर अभियॉत्र का, जो मदद करता है प्रतियोगिता में _____।

- (1) बेहतर प्रबंधन में
- (2) उपकरणों की खरीद में
- (3) प्राथमिक चिकित्सा अनुप्रयोग में
- (4) वित्त की उपलब्धि में

Options :

212807116129. 1

212807116130. 2
212807116131. 3
212807116132. 4

Question Number : 479 Question Id : 21280729034 Question Type : MCQ Option Shuffling : No Is Question Mandatory : No Calculator : None
Response Time : N.A Think Time : N.A Minimum Instruction Time : 0

Correct Marks : 5 Wrong Marks : 1

Question Key Details :

Key	Value
Comprehension	MCQ

In which of the following sport/event photo finish is not used generally ?

- (1) Triathlon
- (2) Cycling
- (3) Pole Vault
- (4) Skating

Options :

212807116133. 1
212807116134. 2
212807116135. 3
212807116136. 4

Question Number : 479 Question Id : 21280729034 Question Type : MCQ Option Shuffling : No Is Question Mandatory : No Calculator : None
Response Time : N.A Think Time : N.A Minimum Instruction Time : 0

Correct Marks : 5 Wrong Marks : 1

Question Key Details :

Key	Value
Comprehension	MCQ

निम्न में से किस खेल/इवेंट में सामान्यतः फोटो फिनिश का उपयोग नहीं किया जाता ?

- (1) ट्राईथलोन
- (2) साइकिलिंग
- (3) पोल वोल्ट
- (4) स्केटिंग

Options :

212807116133. 1
212807116134. 2
212807116135. 3
212807116136. 4

Question Number : 480 Question Id : 21280729035 Question Type : MCQ Option Shuffling : No Is Question Mandatory : No Calculator : None
Response Time : N.A Think Time : N.A Minimum Instruction Time : 0

Correct Marks : 5 Wrong Marks : 1

Question Key Details :

Key	Value
Comprehension	MCQ

Mr. Thomas Bach is the President of which of the below mentioned sports organisations ?

- (1) IOA
- (2) BCCI
- (3) IOC
- (4) CCI

Options :

212807116137. 1
212807116138. 2

212807116139.3
212807116140.4

Question Number : 480 Question Id : 21280729035 Question Type : MCQ Option Shuffling : No Is Question Mandatory : No Calculator : None
Response Time : N.A Think Time : N.A Minimum Instruction Time : 0
Correct Marks : 5 Wrong Marks : 1

Question Key Details :

Key	Value
Comprehension	MCQ

निम्नलिखित में से किस खेल संगठन के अध्यक्ष श्रीमान थॉमस बैक (Thomas Bach) हैं ?

- (1) आई.ओ.ए. (IOA)
- (2) बी.सी.सी.आई. (BCCI)
- (3) आई.ओ.सी. (IOC)
- (4) सी.सी.आई. (CCI)

Options :

212807116137.1
212807116138.2
212807116139.3
212807116140.4

Question Number : 481 Question Id : 21280729036 Question Type : MCQ Option Shuffling : No Is Question Mandatory : No Calculator : None
Response Time : N.A Think Time : N.A Minimum Instruction Time : 0
Correct Marks : 5 Wrong Marks : 1

Question Key Details :

Key	Value
Comprehension	MCQ

Who out of the following players won All England Open Badminton Championship in 2001 ?

- (1) Prakash Padukone
- (2) Pullela Gopichand
- (3) P.V. Sindhu
- (4) B. Sai Praneeth

Options :

212807116141.1
212807116142.2
212807116143.3
212807116144.4

Question Number : 481 Question Id : 21280729036 Question Type : MCQ Option Shuffling : No Is Question Mandatory : No Calculator : None
Response Time : N.A Think Time : N.A Minimum Instruction Time : 0
Correct Marks : 5 Wrong Marks : 1

Question Key Details :

Key	Value
Comprehension	MCQ

निम्नलिखित में से किस खिलाड़ी ने वर्ष 2001 में ऑल इंग्लैंड ओपन बैडमिंटन चैंपियनशिप जीती थी ?

- (1) प्रकाश पादुकोन
- (2) पुल्लेला गोपीचन्द
- (3) पी.वी. सिन्धु
- (4) बी.साई. प्रनीथ

Options :

212807116141.1

212807116142. 2
212807116143. 3
212807116144. 4

Question Number : 482 Question Id : 21280729037 Question Type : MCQ Option Shuffling : No Is Question Mandatory : No Calculator : None
Response Time : N.A Think Time : N.A Minimum Instruction Time : 0

Correct Marks : 5 Wrong Marks : 1

Question Key Details :

Key	Value
Comprehension	MCQ

Youth between the age group of 5 to 18 years should sleep at least _____ to _____ hours per night for functioning at their best.

- (1) 8 to 9
- (2) 9 to 10
- (3) 9 to 11
- (4) 8.5 to 11

Options :

212807116145. 1
212807116146. 2
212807116147. 3
212807116148. 4

Question Number : 482 Question Id : 21280729037 Question Type : MCQ Option Shuffling : No Is Question Mandatory : No Calculator : None
Response Time : N.A Think Time : N.A Minimum Instruction Time : 0

Correct Marks : 5 Wrong Marks : 1

Question Key Details :

Key	Value
Comprehension	MCQ

5 से 18 वर्ष की आयु के मध्य वाले युवाओं को कम से कम _____ से _____ घण्टों की नींद अपना सर्वश्रेष्ठ प्रदर्शन करने के लिए जरूरी है।

- (1) 8 से 9
- (2) 9 से 10
- (3) 9 से 11
- (4) 8.5 से 11

Options :

212807116145. 1
212807116146. 2
212807116147. 3
212807116148. 4

Question Number : 483 Question Id : 21280729038 Question Type : MCQ Option Shuffling : No Is Question Mandatory : No Calculator : None
Response Time : N.A Think Time : N.A Minimum Instruction Time : 0

Correct Marks : 5 Wrong Marks : 1

Question Key Details :

Key	Value
Comprehension	MCQ

WADA stands for :

- (1) World Athletic Doping Association
- (2) World Anti-Doping Agency
- (3) World Anti-Doping Administration
- (4) World Anti-Dope testing Agency

Options :

212807116149. 1
212807116150. 2
212807116151. 3
212807116152. 4

Question Number : 483 Question Id : 21280729038 Question Type : MCQ Option Shuffling : No Is Question Mandatory : No Calculator : None
Response Time : N.A Think Time : N.A Minimum Instruction Time : 0

Correct Marks : 5 Wrong Marks : 1

Question Key Details :

Key	Value
Comprehension	MCQ

वाडा (WADA) का फुल फार्म है :

- (1) वर्ल्ड अथेलेटिक डोपिंग एसोसिएशन
- (2) वर्ल्ड एंटी-डोपिंग एजेंसी
- (3) वर्ल्ड एंटी-डोपिंग एडमिनिस्ट्रेशन
- (4) वर्ल्ड एंटी-डोप टेस्टिंग एजेंसी

Options :

212807116149. 1
212807116150. 2
212807116151. 3
212807116152. 4

Question Number : 484 Question Id : 21280729039 Question Type : MCQ Option Shuffling : No Is Question Mandatory : No Calculator : None
Response Time : N.A Think Time : N.A Minimum Instruction Time : 0

Correct Marks : 5 Wrong Marks : 1

Question Key Details :

Key	Value
Comprehension	MCQ

“ _____ ” is added to Rest, Ice, Compression and Elevation in the modified protocol of dealing with sports injuries.

- (1) Preservation
- (2) Prevention
- (3) Promotion
- (4) Protection

Options :

212807116153. 1
212807116154. 2
212807116155. 3
212807116156. 4

Question Number : 484 Question Id : 21280729039 Question Type : MCQ Option Shuffling : No Is Question Mandatory : No Calculator : None
Response Time : N.A Think Time : N.A Minimum Instruction Time : 0

Correct Marks : 5 Wrong Marks : 1

Question Key Details :

Key	Value
Comprehension	MCQ

संशोधित औपचारिक शिष्टाचार में खेलों में चोट से निपटने के लिए आराम, बर्फ, संकुचन तथा उन्नयन में " _____ " जोड़ा गया है।

- (1) सुरक्षण (प्रिजरवेशन)
- (2) निवारण (प्रिवेनसन)
- (3) प्रवर्धन (प्रमोशन)
- (4) रक्षण (प्रोटेक्शन)

Options :

212807116153. 1
212807116154. 2
212807116155. 3
212807116156. 4

Question Number : 485 Question Id : 21280729040 Question Type : MCQ Option Shuffling : No Is Question Mandatory : No Calculator : None Response Time : N.A Think Time : N.A Minimum Instruction Time : 0

Correct Marks : 5 Wrong Marks : 1

Question Key Details :

Key	Value
Comprehension	MCQ

_____ fracture occurs, when the broken ends of the bones are jammed together by the force of the injury.

- (1) Transverse
- (2) Impacted
- (3) Oblique
- (4) Comminuted

Options :

212807116157. 1
212807116158. 2
212807116159. 3
212807116160. 4

Question Number : 485 Question Id : 21280729040 Question Type : MCQ Option Shuffling : No Is Question Mandatory : No Calculator : None Response Time : N.A Think Time : N.A Minimum Instruction Time : 0

Correct Marks : 5 Wrong Marks : 1

Question Key Details :

Key	Value
Comprehension	MCQ

_____ फ्रैक्चर तब होता है, जब चोट के बल से हड्डियों के टूटे सिरे आपस में फस जाते हैं।

- (1) ट्रैन्जवर्स (अनुप्रस्थ)
- (2) प्रभावी (इम्पैक्ट)
- (3) तिरछा फ्रैक्चर (Oblique)
- (4) कामीन्यूटिड (Comminutated)

Options :

212807116157. 1
212807116158. 2
212807116159. 3
212807116160. 4

Question Number : 486 Question Id : 21280729041 Question Type : MCQ Option Shuffling : No Is Question Mandatory : No Calculator : None Response Time : N.A Think Time : N.A Minimum Instruction Time : 0

Correct Marks : 5 Wrong Marks : 1

Question Key Details :

Key	Value
Comprehension	MCQ

In which type of fracture a bone bends ?

- (1) Comminuted fracture
- (2) Transverse
- (3) Greenstick
- (4) Oblique

Options :

212807116161. 1
212807116162. 2
212807116163. 3
212807116164. 4

Question Number : 486 Question Id : 21280729041 Question Type : MCQ Option Shuffling : No Is Question Mandatory : No Calculator : None Response Time : N.A Think Time : N.A Minimum Instruction Time : 0

Correct Marks : 5 Wrong Marks : 1

Question Key Details :

Key	Value
Comprehension	MCQ

किस प्रकार के फ्रैक्चर में हड्डी मुड़ जाती है ?

- (1) कामीन्युरिड फ्रैक्चर
- (2) अनुप्रस्थ फ्रैक्चर (ट्रैन्जवर्स)
- (3) ग्रीनस्टिक फ्रैक्चर
- (4) तिरछा फ्रैक्चर (Oblique)

Options :

212807116161. 1
212807116162. 2
212807116163. 3
212807116164. 4

Question Number : 487 Question Id : 21280729042 Question Type : MCQ Option Shuffling : No Is Question Mandatory : No Calculator : None Response Time : N.A Think Time : N.A Minimum Instruction Time : 0

Correct Marks : 5 Wrong Marks : 1

Question Key Details :

Key	Value
Comprehension	MCQ

Golf ball remains at rest until it is struck by a Golf Club. Which of the following Newton's Law of motion is applicable with respect to this statement ?

- (1) Law of Acceleration
- (2) Law of Inertia
- (3) Law of Resultant Force
- (4) Law of Reciprocal Action

Options :

212807116165. 1
212807116166. 2
212807116167. 3
212807116168. 4

Question Number : 487 Question Id : 21280729042 Question Type : MCQ Option Shuffling : No Is Question Mandatory : No Calculator : None Response Time : N.A Think Time : N.A Minimum Instruction Time : 0

Correct Marks : 5 Wrong Marks : 1

Question Key Details :

Key	Value
Comprehension	MCQ

गोल्फ बाल तब तक उसी स्थिति में रहती है जब तक 'गोल्फ क्लब' के द्वारा उसको मारा न जाए, इस कथन पर न्यूटन का कौन सा नियम स्टीक बैठता है ?

- (1) त्वरण का नियम
- (2) जड़त्व का नियम
- (3) परिणामी बल का नियम
- (4) पास्परिक क्रिया का नियम

Options :

212807116165. 1
212807116166. 2
212807116167. 3
212807116168. 4

Question Number : 488 Question Id : 21280729043 Question Type : MCQ Option Shuffling : No Is Question Mandatory : No Calculator : None Response Time : N.A Think Time : N.A Minimum Instruction Time : 0

Correct Marks : 5 Wrong Marks : 1

Question Key Details :

Key	Value
Comprehension	MCQ

_____ is a movement that occurs in frontal plane.

- (1) Abduction
- (2) Flexion
- (3) Extension
- (4) Rotation

Options :

212807116169. 1
212807116170. 2
212807116171. 3
212807116172. 4

Question Number : 488 Question Id : 21280729043 Question Type : MCQ Option Shuffling : No Is Question Mandatory : No Calculator : None Response Time : N.A Think Time : N.A Minimum Instruction Time : 0

Correct Marks : 5 Wrong Marks : 1

Question Key Details :

Key	Value
Comprehension	MCQ

_____ गति फ्रन्टल सतह (प्लेन) पर होती है।

- (1) अपवर्तन
- (2) संकुचन
- (3) विस्तारण
- (4) घूर्णन

Options :

212807116169. 1
212807116170. 2
212807116171. 3
212807116172. 4

Question Number : 489 Question Id : 21280729044 Question Type : MCQ Option Shuffling : No Is Question Mandatory : No Calculator : None
Response Time : N.A Think Time : N.A Minimum Instruction Time : 0

Correct Marks : 5 Wrong Marks : 1

Question Key Details :

Key	Value
Comprehension	MCQ

Which one of the mathematical equation is false with reference to Newton's second law of motion ?

- (1) $F = MA$
- (2) $A = \frac{M}{F}$
- (3) Force = Mass \times Acceleration
- (4) $M = \frac{F}{A}$

Options :

- 212807116173. 1
- 212807116174. 2
- 212807116175. 3
- 212807116176. 4

Question Number : 489 Question Id : 21280729044 Question Type : MCQ Option Shuffling : No Is Question Mandatory : No Calculator : None
Response Time : N.A Think Time : N.A Minimum Instruction Time : 0

Correct Marks : 5 Wrong Marks : 1

Question Key Details :

Key	Value
Comprehension	MCQ

न्यूटन के गति के द्वितीय नियम की दृष्टि से निम्नलिखित में से कौन सा गणितीय सूत्र गलत है।

- (1) $F = MA$
- (2) $A = \frac{M}{F}$
- (3) बल = द्रव्यमान \times त्वरण (Force = Mass \times Acceleration)
- (4) $M = \frac{F}{A}$

Options :

- 212807116173. 1
- 212807116174. 2
- 212807116175. 3
- 212807116176. 4

Question Number : 490 Question Id : 21280729045 Question Type : MCQ Option Shuffling : No Is Question Mandatory : No Calculator : None
Response Time : N.A Think Time : N.A Minimum Instruction Time : 0

Correct Marks : 5 Wrong Marks : 1

Question Key Details :

Key	Value
Comprehension	MCQ

Newton's second law of Motion is also known as :

- (1) Law of Reaction
- (2) Law of Resultant Force
- (3) Law of Effect
- (4) Law of Inertia

Options :

- 212807116177. 1

212807116178. 2
212807116179. 3
212807116180. 4

Question Number : 490 Question Id : 21280729045 Question Type : MCQ Option Shuffling : No Is Question Mandatory : No Calculator : None
Response Time : N.A Think Time : N.A Minimum Instruction Time : 0

Correct Marks : 5 Wrong Marks : 1

Question Key Details :

Key	Value
Comprehension	MCQ

न्यूटन के द्वितीय नियम को और किस नाम से भी जानते हैं ?

- (1) प्रतिक्रिया का नियम
- (2) परिणामी बल का नियम
- (3) प्रभाव का नियम
- (4) जड़त्व का नियम

Options :

212807116177. 1
212807116178. 2
212807116179. 3
212807116180. 4

Question Number : 491 Question Id : 21280729046 Question Type : MCQ Option Shuffling : No Is Question Mandatory : No Calculator : None
Response Time : N.A Think Time : N.A Minimum Instruction Time : 0

Correct Marks : 5 Wrong Marks : 1

Question Key Details :

Key	Value
Comprehension	MCQ

Carl Jung defined Personality as "an attitude refers to a predisposition to behave in a certain manner" in _____ year.

- (1) 1942
- (2) 1933
- (3) 1950
- (4) 1923

Options :

212807116181. 1
212807116182. 2
212807116183. 3
212807116184. 4

Question Number : 491 Question Id : 21280729046 Question Type : MCQ Option Shuffling : No Is Question Mandatory : No Calculator : None
Response Time : N.A Think Time : N.A Minimum Instruction Time : 0

Correct Marks : 5 Wrong Marks : 1

Question Key Details :

Key	Value
Comprehension	MCQ

"व्यक्तित्व एक दृष्टिकोण के रूप में एक निश्चित तरीके से व्यवहार करने के लिए एक पद्धति को संदर्भित करता है।"

कार्ल जंग के द्वारा यह परिभाषा किस वर्ष में दी गयी थी ?

- (1) 1942
- (2) 1933
- (3) 1950
- (4) 1923

Options :

- 212807116181. 1
- 212807116182. 2
- 212807116183. 3
- 212807116184. 4

Question Number : 492 Question Id : 21280729047 Question Type : MCQ Option Shuffling : No Is Question Mandatory : No Calculator : None Response Time : N.A Think Time : N.A Minimum Instruction Time : 0

Correct Marks : 5 Wrong Marks : 1

Question Key Details :

Key	Value
Comprehension	MCQ

Personality classification on the basis of body types was done by :

- (1) Kretschmar
- (2) Hypocrites
- (3) Friedman and Rosenman
- (4) Myers and Briggs

Options :

- 212807116185. 1
- 212807116186. 2
- 212807116187. 3
- 212807116188. 4

Question Number : 492 Question Id : 21280729047 Question Type : MCQ Option Shuffling : No Is Question Mandatory : No Calculator : None Response Time : N.A Think Time : N.A Minimum Instruction Time : 0

Correct Marks : 5 Wrong Marks : 1

Question Key Details :

Key	Value
Comprehension	MCQ

व्यक्तित्व का वर्गीकरण शरीर के प्रकारों के आधार पर किसके द्वारा किया गया था ?

- (1) क्रिस्चमर
- (2) हाइपोक्राइट्स
- (3) फ्राइडमैन और रोजमैन
- (4) मायरस और ब्रिग्स

Options :

- 212807116185. 1
- 212807116186. 2
- 212807116187. 3
- 212807116188. 4

Question Number : 493 Question Id : 21280729048 Question Type : MCQ Option Shuffling : No Is Question Mandatory : No Calculator : None Response Time : N.A Think Time : N.A Minimum Instruction Time : 0

Correct Marks : 5 Wrong Marks : 1

Question Key Details :

Key	Value
Comprehension	MCQ

Which of the following does not fall in the category of personality trait ?

- (1) Extrovert
- (2) Introvert
- (3) Sincere
- (4) Jade

Options :

212807116189.1
212807116190.2
212807116191.3
212807116192.4

Question Number : 493 Question Id : 21280729048 Question Type : MCQ Option Shuffling : No Is Question Mandatory : No Calculator : None
Response Time : N.A Think Time : N.A Minimum Instruction Time : 0

Correct Marks : 5 Wrong Marks : 1

Question Key Details :

Key	Value
Comprehension	MCQ

निम्नलिखित में से कौन सा विकल्प व्यक्तित्व की विशेषता से सम्बंधित नहीं है ?

- (1) बहिर्मुखी
- (2) अन्तःमुखी
- (3) ईमानदार
- (4) नटखट

Options :

212807116189.1
212807116190.2
212807116191.3
212807116192.4

Question Number : 494 Question Id : 21280729049 Question Type : MCQ Option Shuffling : No Is Question Mandatory : No Calculator : None
Response Time : N.A Think Time : N.A Minimum Instruction Time : 0

Correct Marks : 5 Wrong Marks : 1

Question Key Details :

Key	Value
Comprehension	MCQ

Who published the book 'Psychology Typen' in 1921 and presented his own theory of Personality ?

- (1) Sigmund Freud
- (2) Sheldon
- (3) Maslow
- (4) Carl Gustav Jung

Options :

212807116193.1
212807116194.2
212807116195.3
212807116196.4

Question Number : 494 Question Id : 21280729049 Question Type : MCQ Option Shuffling : No Is Question Mandatory : No Calculator : None
Response Time : N.A Think Time : N.A Minimum Instruction Time : 0

Correct Marks : 5 Wrong Marks : 1

Question Key Details :

Key	Value
Comprehension	MCQ

निम्नलिखित में से किस ने साइकोलॉजी टाईपन (Psychology Typen) पुस्तक का प्रकाशन वर्ष 1921 में किया तथा व्यक्तित्व के लिए अपना स्वयं का सिद्धांत प्रस्तुत किया ?

- (1) सिगमंड फ्रॉयड
- (2) शैल्डन
- (3) मैसलो
- (4) कार्ल गुस्ताव जंग

Options :

212807116193. 1
212807116194. 2
212807116195. 3
212807116196. 4

Question Number : 495 Question Id : 21280729050 Question Type : MCQ Option Shuffling : No Is Question Mandatory : No Calculator : None Response Time : N.A Think Time : N.A Minimum Instruction Time : 0

Correct Marks : 5 Wrong Marks : 1

Question Key Details :

Key	Value
Comprehension	MCQ

Which of the following descriptive term is not an example of personality trait ?

- (1) Dominant
- (2) Apprehensive
- (3) Rhythmic
- (4) Extrovert

Options :

212807116197. 1
212807116198. 2
212807116199. 3
212807116200. 4

Question Number : 495 Question Id : 21280729050 Question Type : MCQ Option Shuffling : No Is Question Mandatory : No Calculator : None Response Time : N.A Think Time : N.A Minimum Instruction Time : 0

Correct Marks : 5 Wrong Marks : 1

Question Key Details :

Key	Value
Comprehension	MCQ

अधोलिखित में से कौन सा शब्द व्यक्तित्व की विशेषता को इंगित नहीं करता ?

- (1) अभिभावी (वर्चस्ववादी) डॉमिनन्ट
- (2) आशंकित
- (3) लयात्मक
- (4) बहिर्मुखी (Extrovert)

Options :

212807116197. 1
212807116198. 2
212807116199. 3
212807116200. 4

Question Number : 496 Question Id : 21280729051 Question Type : MCQ Option Shuffling : No Is Question Mandatory : No Calculator : None Response Time : N.A Think Time : N.A Minimum Instruction Time : 0

Correct Marks : 5 Wrong Marks : 1

Question Key Details :

Key	Value
Comprehension	MCQ

Arrange the region wise break-up of National Olympic Committee's in a sequential order from highest to lowest.

- (A) Africa
- (B) Europe
- (C) America
- (D) Asia
- (E) Oceania

Choose the correct answer from the options given below :

- (1) (D), (B), (A), (C), (E)
- (2) (D), (C), (A), (B), (E)
- (3) (D), (A), (C), (B), (E)
- (4) (A), (B), (D), (C), (E)

Options :

- 212807116201. 1
- 212807116202. 2
- 212807116203. 3
- 212807116204. 4

Question Number : 496 Question Id : 21280729051 Question Type : MCQ Option Shuffling : No Is Question Mandatory : No Calculator : None Response Time : N.A Think Time : N.A Minimum Instruction Time : 0

Correct Marks : 5 Wrong Marks : 1

Question Key Details :

Key	Value
Comprehension	MCQ

राष्ट्रीय ओलम्पिक समिति दो के अलग-अलग विवरण को क्षेत्र के अनुसार उच्च से निम्न क्रम में व्यवस्थित कीजिए।

- (A) अफ्रीका
- (B) युरोप
- (C) अमेरिका
- (D) एशिया
- (E) ओशिनिया

नीचे दिए विकल्पों में से सही उत्तर का चयन करें :

- (1) (D), (B), (A), (C), (E)
- (2) (D), (C), (A), (B), (E)
- (3) (D), (A), (C), (B), (E)
- (4) (A), (B), (D), (C), (E)

Options :

- 212807116201. 1
- 212807116202. 2
- 212807116203. 3
- 212807116204. 4

Question Number : 497 Question Id : 21280729052 Question Type : MCQ Option Shuffling : No Is Question Mandatory : No Calculator : None Response Time : N.A Think Time : N.A Minimum Instruction Time : 0

Correct Marks : 5 Wrong Marks : 1

Question Key Details :

Key	Value
Comprehension	MCQ

In a knock out Tournament of 11 Teams, arrange the number of matches with regards to rounds (1, 2, 3 and 4) in a sequential order ?

- (A) 01
- (B) 02
- (C) 03
- (D) 04

Choose the correct answer from the options given below :

- (1) (A), (B), (C), (D)
- (2) (D), (C), (B), (A)
- (3) (C), (D), (B), (A)
- (4) (D), (B), (C), (A)

Options :

- 212807116205. 1
- 212807116206. 2
- 212807116207. 3
- 212807116208. 4

Question Number : 497 Question Id : 21280729052 Question Type : MCQ Option Shuffling : No Is Question Mandatory : No Calculator : None Response Time : N.A Think Time : N.A Minimum Instruction Time : 0

Correct Marks : 5 Wrong Marks : 1

Question Key Details :

Key	Value
Comprehension	MCQ

11 टीमों की नॉक आउट प्रतियोगिता में मैचों की संख्या को राउंड के अनुसार पहले से (1, 2, 3 और 4) अन्त तकके क्रम से व्यवस्थित कीजिए।

- (A) 01
- (B) 02
- (C) 03
- (D) 04

नीचे दिए गए विकल्पों में से सही उत्तर का चयन कीजिए :

- (1) (A), (B), (C), (D)
- (2) (D), (C), (B), (A)
- (3) (C), (D), (B), (A)
- (4) (D), (B), (C), (A)

Options :

- 212807116205. 1
- 212807116206. 2
- 212807116207. 3
- 212807116208. 4

Question Number : 498 Question Id : 21280729053 Question Type : MCQ Option Shuffling : No Is Question Mandatory : No Calculator : None Response Time : N.A Think Time : N.A Minimum Instruction Time : 0

Correct Marks : 5 Wrong Marks : 1

Question Key Details :

Key	Value
Comprehension	MCQ

Arrange the steps of First Aid for dislocated elbow joint in a sequential manner from first to last ?

- (A) Immobilise the injured part with a sling
- (B) Take or send the casualty to hospital
- (C) Provide support to the injured part
- (D) Keep checking circulation beyond the bandages every 10 minutes
- (E) Place padding between the injured limb and the body

Choose the correct answer from the options given below :

- (1) (A), (C), (B), (E), (D)
- (2) (E), (C), (A), (B), (D)
- (3) (C), (A), (E), (B), (D)
- (4) (C), (B), (A), (E), (D)

Options :

- 212807116209. 1
- 212807116210. 2
- 212807116211. 3
- 212807116212. 4

Question Number : 498 Question Id : 21280729053 Question Type : MCQ Option Shuffling : No Is Question Mandatory : No Calculator : None Response Time : N.A Think Time : N.A Minimum Instruction Time : 0

Correct Marks : 5 Wrong Marks : 1

Question Key Details :

Key	Value
Comprehension	MCQ

कोहनी के विस्थापन के स्थान पर प्राथमिक चिकित्सा के क्रम को पहले से अन्त तक व्यवस्थित कीजिए :

- (A) स्लिंग के द्वारा चोटिल भाग को गतिहीन करना।
- (B) जखमी व्यक्ति को अस्पताल ले जाना।
- (C) जखमी हिस्से को सहारा देना।
- (D) पट्टी के आस-पास दस मिनट के अंतराल में रक्त संचरण की स्थिति की जाँच करते रहना।
- (E) शरीर और घायल स्थान के मध्य पैडिंग रखें।

नीचे दिए गए विकल्पों में से सही उत्तर का चयन कीजिए :

- (1) (A), (C), (B), (E), (D)
- (2) (E), (C), (A), (B), (D)
- (3) (C), (A), (E), (B), (D)
- (4) (C), (B), (A), (E), (D)

Options :

- 212807116209. 1
- 212807116210. 2
- 212807116211. 3
- 212807116212. 4

Question Number : 499 Question Id : 21280729054 Question Type : MCQ Option Shuffling : No Is Question Mandatory : No Calculator : None Response Time : N.A Think Time : N.A Minimum Instruction Time : 0

Correct Marks : 5 Wrong Marks : 1

Question Key Details :

Key	Value
Comprehension	MCQ

Arrange the following items of Fitness Tests as per the distance covered in a sequential order from longest to shortest ?

- (A) Zig Zag Run
- (B) Test Item of measuring Endurance in Motor of Fitness Test
- (C) Shuttle Run
- (D) Test Item designed for the assessment of Speed and Acceleration of Motor Fitness Test

Choose the **correct** answer from the options given below :

- (1) (B), (D), (C), (A)
- (2) (B), (D), (A), (C)
- (3) (A), (C), (B), (D)
- (4) (A), (C), (D), (B)

Options :

- 212807116213. 1
- 212807116214. 2
- 212807116215. 3
- 212807116216. 4

Question Number : 499 Question Id : 21280729054 Question Type : MCQ Option Shuffling : No Is Question Mandatory : No Calculator : None Response Time : N.A Think Time : N.A Minimum Instruction Time : 0

Correct Marks : 5 Wrong Marks : 1

Question Key Details :

Key	Value
Comprehension	MCQ

निम्नलिखित दक्षता के मदों को उनके अन्तर्गत तय दूरी को सिलसिले वार अधिकतम से न्यूनतम क्रम में व्यवस्थित कीजिए।

- (A) जिग जैग दौड़
- (B) मोटर का फिटनेस उसकी सहनक्षमता की जांच के लिए
- (C) शटल दौड़
- (D) जो गामक योग्यता परीक्षा मद स्पीड एवं एक्सलरेशन को मापन करता है

नीचे दिए गए विकल्पों में से **सही** उत्तर का चयन कीजिए :

- (1) (B), (D), (C), (A)
- (2) (B), (D), (A), (C)
- (3) (A), (C), (B), (D)
- (4) (A), (C), (D), (B)

Options :

- 212807116213. 1
- 212807116214. 2
- 212807116215. 3
- 212807116216. 4

Question Number : 500 Question Id : 21280729055 Question Type : MCQ Option Shuffling : No Is Question Mandatory : No Calculator : None Response Time : N.A Think Time : N.A Minimum Instruction Time : 0

Correct Marks : 5 Wrong Marks : 1

Question Key Details :

Key	Value
Comprehension	MCQ

Arrange the below mentioned Psychologists in a sequential order from earliest to most recent, with specific reference to the year in which they defined Personality :

- (A) Robert A Barow
- (B) Eysenck
- (C) Cattell
- (D) Jung
- (E) Allport

Choose the correct answer from the options given below :

- (1) (C), (B), (E), (A), (D)
- (2) (B), (E), (A), (D), (C)
- (3) (A), (E), (B), (C), (D)
- (4) (D), (C), (B), (E), (A)

Options :

- 212807116217. 1
- 212807116218. 2
- 212807116219. 3
- 212807116220. 4

Question Number : 500 Question Id : 21280729055 Question Type : MCQ Option Shuffling : No Is Question Mandatory : No Calculator : None Response Time : N.A Think Time : N.A Minimum Instruction Time : 0

Correct Marks : 5 Wrong Marks : 1

Question Key Details :

Key	Value
Comprehension	MCQ

नीचे दिए गये मनोवैज्ञानकों को सबसे पहले से सबसे वर्तमान के क्रम में व्यवस्थित करें जिस वर्ष में उन्होंने व्यक्तित्व को परिभाषित किया था :

- (A) राबर्ट ए बारो
- (B) आइसेंक
- (C) कैटेल
- (D) जुंग
- (E) ऑलपोर्ट

नीचे दिए गए विकल्पों में से सही उत्तर का चयन कीजिए :

- (1) (C), (B), (E), (A), (D)
- (2) (B), (E), (A), (D), (C)
- (3) (A), (E), (B), (C), (D)
- (4) (D), (C), (B), (E), (A)

Options :

- 212807116217. 1
- 212807116218. 2
- 212807116219. 3
- 212807116220. 4

Question Number : 501 Question Id : 21280729056 Question Type : MCQ Option Shuffling : No Is Question Mandatory : No Calculator : None Response Time : N.A Think Time : N.A Minimum Instruction Time : 0

Correct Marks : 5 Wrong Marks : 1

Question Key Details :

Key	Value
-----	-------

The SAI as a nodal agency implements which of the following schemes of Ministry of Youth Affairs and Sports ?

- (A) Army boys Sports Company Scheme for Sub Juniors (ABSC)
- (B) SAI Scheme for International Talent (SIT) for Seniors
- (C) SAI Training Centres Scheme (STC) for Juniors
- (D) Promotion centres of SAI (PCS) for Seniors
- (E) Special Area Games Scheme for Juniors (SAG)

Choose the **correct** answer from the options given below :

- (1) (A), (B) and (C) only
- (2) (B), (C) and (D) only
- (3) (A), (C) and (E) only
- (4) (C), (D) and (E) only

Options :

- 212807116221. 1
- 212807116222. 2
- 212807116223. 3
- 212807116224. 4

Question Number : 501 Question Id : 21280729056 Question Type : MCQ Option Shuffling : No Is Question Mandatory : No Calculator : None Response Time : N.A Think Time : N.A Minimum Instruction Time : 0

Correct Marks : 5 Wrong Marks : 1

Question Key Details :

Key	Value
Comprehension	MCQ

युवा मामलों तथा खेल मंत्रालय को कौन सी योजनाओं का कार्यत्वतन एक केंद्रक एजेन्सी SAI द्वारा किया जाता है ?

- (A) आर्मी बॉयज़ स्पोर्ट्स कम्पनी स्कीम फार सब जूनियर्स (ABSC)
- (B) SAI स्कीम फार इंटरनेशनल टैलेंट (SIT) फार सीनियर्स
- (C) SAI ट्रेनिंग सेन्टर स्कीम (STC) फार जूनियर्स
- (D) प्रमोशन सेन्टर आफ SAI (PCS) फार सीनियर्स
- (E) स्पेशल एरिया गेम्स स्कीम फॉर जूनियर्स (SAG)

नीचे दिए गए विकल्पों में से **सही** उत्तर का चयन कीजिए :

- (1) केवल (A), (B) and (C)
- (2) केवल (B), (C) and (D)
- (3) केवल (A), (C) and (E)
- (4) केवल (C), (D) and (E)

Options :

- 212807116221. 1
- 212807116222. 2
- 212807116223. 3
- 212807116224. 4

Question Number : 502 Question Id : 21280729057 Question Type : MCQ Option Shuffling : No Is Question Mandatory : No Calculator : None Response Time : N.A Think Time : N.A Minimum Instruction Time : 0

Correct Marks : 5 Wrong Marks : 1

Question Key Details :

Key	Value
Comprehension	MCQ

Which of the following options will help in the prevention, control and spread of Communicable Diseases?

- (A) Personal Hygiene
- (B) Food Hygiene
- (C) Water Hygiene
- (D) Self Medication
- (E) Environmental Sanitation

Choose the correct answer from the options given below :

- (1) (A), (B) and (C) only
- (2) (A), (B), (C) and (D) only
- (3) (A), (B) and (E) only
- (4) (A), (B), (C) and (E) only

Options :

- 212807116225. 1
- 212807116226. 2
- 212807116227. 3
- 212807116228. 4

Question Number : 502 Question Id : 21280729057 Question Type : MCQ Option Shuffling : No Is Question Mandatory : No Calculator : None Response Time : N.A Think Time : N.A Minimum Instruction Time : 0

Correct Marks : 5 Wrong Marks : 1

Question Key Details :

Key	Value
Comprehension	MCQ

निम्नलिखित में से कौन सा विकल्प संचारी रोगों के रोकथाम नियंत्रण और प्रसार में मदद करेगा।

- (A) व्यक्तिगत स्वच्छता
- (B) भोजन की स्वच्छता
- (C) पानी की स्वच्छता
- (D) स्वयं से दवा लेना
- (E) पर्यावरण स्वच्छता

नीचे दिए गए विकल्पों में से सही उत्तर का चयन कीजिए :

- (1) केवल (A), (B) और (C)
- (2) केवल (A), (B), (C) और (D)
- (3) केवल (A), (B) और (E)
- (4) केवल (A), (B), (C) और (E)

Options :

- 212807116225. 1
- 212807116226. 2
- 212807116227. 3
- 212807116228. 4

Question Number : 503 Question Id : 21280729058 Question Type : MCQ Option Shuffling : No Is Question Mandatory : No Calculator : None Response Time : N.A Think Time : N.A Minimum Instruction Time : 0

Correct Marks : 5 Wrong Marks : 1

Question Key Details :

Key	Value
Comprehension	MCQ

Choose the correct number of byes to be given in upper and lower half, while drawing Fixtures for 35 teams for a single Knock Out Tournament.

- (A) Upper half (14 byes)
- (B) Lower half (14 byes)
- (C) Upper half (15 byes)
- (D) Lower half (15 byes)
- (E) Lower Half (16 byes)

Choose the correct answer from the options given below :

- (1) (A) and (D) only
- (2) (A) and (B) only
- (3) (B) and (C) only
- (4) (A) and (E) only

Options :

- 212807116229. 1
- 212807116230. 2
- 212807116231. 3
- 212807116232. 4

Question Number : 503 Question Id : 21280729058 Question Type : MCQ Option Shuffling : No Is Question Mandatory : No Calculator : None Response Time : N.A Think Time : N.A Minimum Instruction Time : 0

Correct Marks : 5 Wrong Marks : 1

Question Key Details :

Key	Value
Comprehension	MCQ

एकल नाक आउट टूर्नामेंट के लिए 35 टीमों के लिए फिक्सचर बनाते समय ऊपरी और निचले हिस्सों में दिए जाने वाले बाई की सही संख्या चुनें।

- (A) ऊपरी आधा (14 बाई)
- (B) निचला आधा (14 बाई)
- (C) ऊपरी आधा (15 बाई)
- (D) निचला आधा (15 बाई)
- (E) निचला आधा (16 बाई)

नीचे दिये गये विकल्पों में से सही उत्तर का चयन कीजिए :

- (1) केवल (A) और (D)
- (2) केवल (A) और (B)
- (3) केवल (B) और (C)
- (4) केवल (A) और (E)

Options :

- 212807116229. 1
- 212807116230. 2
- 212807116231. 3
- 212807116232. 4

Question Number : 504 Question Id : 21280729059 Question Type : MCQ Option Shuffling : No Is Question Mandatory : No Calculator : None
Response Time : N.A Think Time : N.A Minimum Instruction Time : 0

Correct Marks : 5 Wrong Marks : 1

Question Key Details :

Key	Value
Comprehension	MCQ

Which of the followings Terms/Statements are true with specific reference to Tamas Guna.

- (A) Have destructive behaviour
- (B) Plenty of self control
- (C) Lazy
- (D) Truthfull
- (E) Arrogant

Choose the correct answer from the options given below :

- (1) (A), (B) and (C) only
- (2) (B), (C) and (D) only
- (3) (A), (C) and (E) only
- (4) (C), (D) and (E) only

Options :

- 212807116233. 1
- 212807116234. 2
- 212807116235. 3
- 212807116236. 4

Question Number : 504 Question Id : 21280729059 Question Type : MCQ Option Shuffling : No Is Question Mandatory : No Calculator : None
Response Time : N.A Think Time : N.A Minimum Instruction Time : 0

Correct Marks : 5 Wrong Marks : 1

Question Key Details :

Key	Value
Comprehension	MCQ

अधोलिखित में से कौन से शब्द/वाक्य 'तमस गुना' (Tamas Guna) के विशिष्ट सन्दर्भ में सत्य हैं ?

- (A) विनाशकारी व्यवहार रखते हैं।
- (B) भरपूर आत्म नियंत्रण
- (C) आलसी
- (D) ईमानदारी
- (E) अभिमानी

नीचे दिए गए विकल्पों में से सही उत्तर का चयन कीजिए :

- (1) केवल (A), (B) और (C)
- (2) केवल (B), (C) और (D)
- (3) केवल (A), (C) और (E)
- (4) केवल (C), (D) और (E)

Options :

- 212807116233. 1
- 212807116234. 2
- 212807116235. 3
- 212807116236. 4

Question Number : 505 Question Id : 21280729060 Question Type : MCQ Option Shuffling : No Is Question Mandatory : No Calculator : None Response Time : N.A Think Time : N.A Minimum Instruction Time : 0

Correct Marks : 5 Wrong Marks : 1

Question Key Details :

Key	Value
Comprehension	MCQ

Which of the following statements are true with specific reference to Newton's First Law of Motion ?

- (A) Inertia is body's resistance to change in movement
- (B) The more mass, a body has, the more it will weigh
- (C) Inertia is a Swedish word
- (D) Rate of change of momentum
- (E) Mass is the quantity of resistance to change

Choose the correct answer from the options given below :

- (1) (A), (B) and (E) only
- (2) (A), (C) and (D) only
- (3) (C), (D) and (E) only
- (4) (B), (C) and (D) only

Options :

- 212807116237. 1
- 212807116238. 2
- 212807116239. 3
- 212807116240. 4

Question Number : 505 Question Id : 21280729060 Question Type : MCQ Option Shuffling : No Is Question Mandatory : No Calculator : None Response Time : N.A Think Time : N.A Minimum Instruction Time : 0

Correct Marks : 5 Wrong Marks : 1

Question Key Details :

Key	Value
Comprehension	MCQ

अधोलिखित में से कौन-कौन से न्यूटन के गति के प्रथम नियम के सन्दर्भ में सत्य है ?

- (A) गति में परिवर्तन के लिए जड़ता शरीर का प्रतिरोध
- (B) एक पिंड का द्रव्यमान जितना अधिक होगा, उसका वजन उतना ही अधिक होगा
- (C) Inertia स्वीडिश शब्द है।
- (D) संवेग परिवर्तन की दर
- (E) द्रव्यमान परिवर्तन के प्रतिरोध की मात्रा है।

नीचे दिए गए विकल्पों में से सही उत्तर का चयन कीजिए :

- (1) केवल (A), (B) और (E)
- (2) केवल (A), (C) और (D)
- (3) केवल (C), (D) और (E)
- (4) केवल (B), (C) और (D)

Options :

- 212807116237. 1
- 212807116238. 2
- 212807116239. 3
- 212807116240. 4

Question Number : 506 Question Id : 21280729061 Question Type : MCQ Option Shuffling : No Is Question Mandatory : No Calculator : None Response Time : N.A Think Time : N.A Minimum Instruction Time : 0

Correct Marks : 5 Wrong Marks : 1

Question Key Details :

Key	Value
Comprehension	MCQ

Match the names listed in List - I with the Institutions/Ranks they are associated with listed in List- II.

List - I Names	List - II Institution/Rank
(A) H C Buck	(I) President IOA
(B) Dorab Ji Tata	(II) Modern Olympic Games
(C) Pierre de Coubertin	(III) Secretary General of IOA
(D) G. D. Sondhi	(IV) YMCA College of Physical Education, Madras (Chennai)

Choose the correct answer from the options given below :

- (1) (A)-(IV), (B)-(I), (C)-(II), (D)-(III)
- (2) (A)-(III), (B)-(II), (C)-(I), (D)-(IV)
- (3) (A)-(IV), (B)-(I), (C)-(III), (D)-(II)
- (4) (A)-(II), (B)-(III), (C)-(IV), (D)-(I)

Options :

212807116241. 1

212807116242. 2

212807116243. 3

212807116244. 4

Question Number : 506 Question Id : 21280729061 Question Type : MCQ Option Shuffling : No Is Question Mandatory : No Calculator : None Response Time : N.A Think Time : N.A Minimum Instruction Time : 0

Correct Marks : 5 Wrong Marks : 1

Question Key Details :

Key	Value
Comprehension	MCQ

सूची-I में दिए गए नामों को सूची-II में दर्शाए गए संस्थान/पद से मिलान कीजिए।

सूची-I Names	सूची-II Institution/Rank
(A) एच्.सी. बक	(I) आई ओ ए अध्यक्ष
(B) दोराब जी टाटा	(II) आधुनिक ओलम्पिक खेल
(C) पियरे डी कूबरटिन	(III) आई ओ ए महासचिव
(D) जी.डी. सोन्धी	(IV) वाई एम सी ए कॉलेज ऑफ फिजिकल एज्युकेशन, मद्रास (चेन्नई)

दिए गए विकल्पों में से सही उत्तर का चुनाव कीजिए :

- (1) (A)-(IV), (B)-(I), (C)-(II), (D)-(III)
- (2) (A)-(III), (B)-(II), (C)-(I), (D)-(IV)
- (3) (A)-(IV), (B)-(I), (C)-(III), (D)-(II)
- (4) (A)-(II), (B)-(III), (C)-(IV), (D)-(I)

Options :

212807116241. 1

212807116242. 2
212807116243. 3
212807116244. 4

Question Number : 507 Question Id : 21280729062 Question Type : MCQ Option Shuffling : No Is Question Mandatory : No Calculator : None
Response Time : N.A Think Time : N.A Minimum Instruction Time : 0

Correct Marks : 5 Wrong Marks : 1

Question Key Details :

Key	Value
Comprehension	MCQ

Match the number of teams in List - I with their exact number of Byes listed in List - II with reference to a Knock Out Tournament.

List - I	List - II
No. of Teams	No. of Byes
(A) 11	(I) 4
(B) 28	(II) 13
(C) 19	(III) 5
(D) 30	(IV) 2

Choose the correct answer from the options given below :

- (1) (A)-(I), (B)-(II), (C)-(III), (D)-(IV)
- (2) (A)-(III), (B)-(I), (C)-(II), (D)-(IV)
- (3) (A)-(I), (B)-(IV), (C)-(III), (D)-(II)
- (4) (A)-(IV), (B)-(II), (C)-(III), (D)-(I)

Options :

212807116245. 1
212807116246. 2
212807116247. 3
212807116248. 4

Question Number : 507 Question Id : 21280729062 Question Type : MCQ Option Shuffling : No Is Question Mandatory : No Calculator : None
Response Time : N.A Think Time : N.A Minimum Instruction Time : 0

Correct Marks : 5 Wrong Marks : 1

Question Key Details :

Key	Value
Comprehension	MCQ

सूची-I में दी टीमों की संख्या का सूची-II में दी गई बाई की संख्या से नॉक आउट टूर्नामेंट के संदर्भ में मिलान कीजिए।

सूची-I	सूची-II
टीमों की संख्या	बाई की संख्या
(A) 11	(I) 4
(B) 28	(II) 13
(C) 19	(III) 5
(D) 30	(IV) 2

दिए गए विकल्पों में से सही उत्तर का चयन कीजिए :

- (1) (A)-(I), (B)-(II), (C)-(III), (D)-(IV)
- (2) (A)-(III), (B)-(I), (C)-(II), (D)-(IV)
- (3) (A)-(I), (B)-(IV), (C)-(III), (D)-(II)
- (4) (A)-(IV), (B)-(II), (C)-(III), (D)-(I)

Options :

212807116245. 1
212807116246. 2
212807116247. 3
212807116248. 4

Question Number : 508 Question Id : 21280729063 Question Type : MCQ Option Shuffling : No Is Question Mandatory : No Calculator : None Response Time : N.A Think Time : N.A Minimum Instruction Time : 0

Correct Marks : 5 Wrong Marks : 1

Question Key Details :

Key	Value
Comprehension	MCQ

Match the Tests/Test Items listed in List - I with the equipment required for administration of Test listed in List- II.

List - I Tests/Test Items	List - II Equipment
(A) Harvard Step	(I) Dumbbell
(B) Arm Curl	(II) Stop Watch
(C) Back Scratch	(III) Metronome
(D) Zig Zag Run	(IV) 18" Ruler

Choose the **correct** answer from the options given below :

- (1) (A)-(I), (B)-(II), (C)-(III), (D)-(IV)
- (2) (A)-(IV), (B)-(III), (C)-(II), (D)-(I)
- (3) (A)-(III), (B)-(I), (C)-(IV), (D)-(II)
- (4) (A)-(II), (B)-(IV), (C)-(I), (D)-(III)

Options :

212807116249. 1
212807116250. 2
212807116251. 3
212807116252. 4

Question Number : 508 Question Id : 21280729063 Question Type : MCQ Option Shuffling : No Is Question Mandatory : No Calculator : None Response Time : N.A Think Time : N.A Minimum Instruction Time : 0

Correct Marks : 5 Wrong Marks : 1

Question Key Details :

Key	Value
Comprehension	MCQ

सूची-I में दिये गये परीक्षणों/परीक्षण मदों का सूची-II में दिये गये उपकरण जो कि परीक्षण कराने के लिए आवश्यक है, मिलान कीजिए।

सूची-I परीक्षण/परीक्षण मद	सूची-II उपकरण
(A) हार्वर्ड स्टेप	(I) डम्बेल
(B) आर्म कर्ल	(II) स्टॉप वॉच
(C) बैक स्क्वेच	(III) मेट्रोनाम
(D) ज़िग ज़ैग रन	(IV) 18" फुट्टा (स्केल)

दिए गए विकल्पों में से सही उत्तर का चयन कीजिए :

- (1) (A)-(I), (B)-(II), (C)-(III), (D)-(IV)
- (2) (A)-(IV), (B)-(III), (C)-(II), (D)-(I)
- (3) (A)-(III), (B)-(I), (C)-(IV), (D)-(II)
- (4) (A)-(II), (B)-(IV), (C)-(I), (D)-(III)

Options :

212807116249. 1
212807116250. 2
212807116251. 3
212807116252. 4

Question Number : 509 Question Id : 21280729064 Question Type : MCQ Option Shuffling : No Is Question Mandatory : No Calculator : None Response Time : N.A Think Time : N.A Minimum Instruction Time : 0

Correct Marks : 5 Wrong Marks : 1

Question Key Details :

Key	Value
Comprehension	MCQ

Match the terms listed in List - I with their definitions listed in List - II.

List - I Terms	List - II Definitions Defined
(A) Friction	(I) For every action their is equal and opposite reaction
(B) Law of Inertia	(II) Force required to start movement and the force pressing the two bodies together
(C) Third law of motion	(III) Force that resists sliding
(D) Co-efficient of friction	(IV) Everything in this world is lazy requiring a force to get it on the move

Choose the correct answer from the options given below :

- (1) (A)-(I), (B)-(II), (C)-(III), (D)-(IV)
- (2) (A)-(IV), (B)-(III), (C)-(II), (D)-(I)
- (3) (A)-(II), (B)-(I), (C)-(IV), (D)-(III)
- (4) (A)-(III), (B)-(IV), (C)-(I), (D)-(II)

Options :

212807116253. 1
212807116254. 2
212807116255. 3
212807116256. 4

Question Number : 509 Question Id : 21280729064 Question Type : MCQ Option Shuffling : No Is Question Mandatory : No Calculator : None
Response Time : N.A Think Time : N.A Minimum Instruction Time : 0

Correct Marks : 5 Wrong Marks : 1

Question Key Details :

Key	Value
Comprehension	MCQ

सूची-I में दिए नियमों को सूची-II में दिए नियमों के अनुसार मिलान कीजिए।

सूची-I पद	सूची-II परिभाषा
(A) घर्षण	(I) प्रत्येक क्रिया की विपरीत और बराबर क्रिया होती है।
(B) जड़त्व का नियम	(II) बल के लिए कार्य होना आवश्यक है और दो वस्तुओं को एक साथ के लिए बल का उपयोग करना।
(C) गति का तृतीय नियम	(III) बल घर्षण का विरोध करता है।
(D) घर्षण के गुणांक	(IV) विश्व की सभी वस्तुएं आलसी हैं और उनकी स्थिति में परिवर्तन के लिए बल की आवश्यकता होती है।

निचे दिए उत्तरों में से सही उत्तर की पहचान कीजिए :

- (1) (A)-(I), (B)-(II), (C)-(III), (D)-(IV)
- (2) (A)-(IV), (B)-(III), (C)-(II), (D)-(I)
- (3) (A)-(II), (B)-(I), (C)-(IV), (D)-(III)
- (4) (A)-(III), (B)-(IV), (C)-(I), (D)-(II)

Options :

212807116253. 1
212807116254. 2
212807116255. 3
212807116256. 4

Question Number : 510 Question Id : 21280729065 Question Type : MCQ Option Shuffling : No Is Question Mandatory : No Calculator : None
Response Time : N.A Think Time : N.A Minimum Instruction Time : 0

Correct Marks : 5 Wrong Marks : 1

Question Key Details :

Key	Value
Comprehension	MCQ

Match the Physiological Characteristics Body Types listed in List - I with the Personality Traits listed in List - II.

List - I Physiological Characteristics	List - II Personality Traits
(A) Fat	(I) Aggressive
(B) Slim	(II) Fragile
(C) Scrawny	(III) Quiet
(D) Muscular person	(IV) Relaxed

Choose the correct answer from the options given below :

- (1) (A)-(IV), (B)-(III), (C)-(II), (D)-(I)
- (2) (A)-(I), (B)-(III), (C)-(II), (D)-(IV)
- (3) (A)-(III), (B)-(I), (C)-(IV), (D)-(II)
- (4) (A)-(II), (B)-(III), (C)-(IV), (D)-(I)

Options :

212807116257. 1
 212807116258. 2
 212807116259. 3
 212807116260. 4

Question Number : 510 Question Id : 21280729065 Question Type : MCQ Option Shuffling : No Is Question Mandatory : No Calculator : None
 Response Time : N.A Think Time : N.A Minimum Instruction Time : 0

Correct Marks : 5 Wrong Marks : 1

Question Key Details :

Key	Value
Comprehension	MCQ

सूची-I में दिये गये शरीर के प्रकार को सूची-II में दिये गये व्यक्तित्व के लक्षणों से शरीर क्रिया विशेषताओं के संदर्भ में मिलान कीजिए।

सूची-I**शरीर क्रिया विशेषतायें**

- (A) मोटा (स्थूल)
 (B) पतला
 (C) दुबला-पतला
 (D) मांसल व्यक्ति

सूची-II**व्यक्तित्व के लक्षण**

- (I) आक्रामक
 (II) कोमल
 (III) शांत
 (IV) शिथिल होना

दिए गए विकल्पों में से सही उत्तर का चयन कीजिए :

- (1) (A)-(IV), (B)-(III), (C)-(II), (D)-(I)
 (2) (A)-(I), (B)-(III), (C)-(II), (D)-(IV)
 (3) (A)-(III), (B)-(I), (C)-(IV), (D)-(II)
 (4) (A)-(II), (B)-(III), (C)-(IV), (D)-(I)

Options :

212807116257. 1
 212807116258. 2
 212807116259. 3
 212807116260. 4

Sub-Section Number : 2
 Sub-Section Id : 2128072112
 Question Shuffling Allowed : No
 Is Section Default? : null

Question Number : 511 Question Id : 21280729066 Question Type : MCQ Option Shuffling : No Is Question Mandatory : No Calculator : None
 Response Time : N.A Think Time : N.A Minimum Instruction Time : 0

Correct Marks : 5 Wrong Marks : 1

Question Key Details :

Key	Value
Comprehension	Compl

Read the passage carefully and answer the question strictly as per the content.

With each team having played eight matches, here's a look at some of the key takeaways from the tournament. After 20 matches and two and a half weeks of action - packed cricket, the league stage of the inaugural edition of the Women's Premier League (WPL) ended with Delhi Capitals qualifying for the final. Fans of women's cricket had waited a long time for the WPL to arrive. Australia's Big Bash League and England's Super League were great platforms in their own right but it was widely accepted that for the women's game to soar further, a T20 league in India had to get going. And so, 15 years after the IPL was born, the WPL came to life with the biggest names in the game stepping up. With five teams competing and playing eight matches each, the league stage didn't disappoint despite the several handicaps that come with the first edition of a tournament. There was individual brilliance aplenty, a remarkably strong sense of team spirit, close finishes and packed stadiums. With each team having played eight matches here's a look at some of the key takeaways from the tournament : of the 20 games that were played in the league stage, 15 saw the player of the match award go to an overseas player. This shouldn't come as too big a surprise, considering the number of domestic players competing, but there's no denying that every team depended heavily on its overseas stars. In the list of highest run - scorers in the tournament, the top five names are of overseas players and among bowlers, Only MI's Saika Ishaque was in the top five wicket - takers. Lanning and Marizanne Kapp for DC. Hayley Matthews, Natalie Seiver - Brunt and Amelia Kerr for MI. Alyssa Healy, Tahlia McGrath and Grace Harris for UPW, Sophie Devine and Ellyse Perry for Royal Challengers Bangalore, and Ashleigh Gardner and Kim Garth for Gujarat Giants - the league stage saw these proven international performers take great responsibility for their respective teams.

How many Player of the Match award went to Indian players after 20 games ?

- (1) 3
- (2) 2
- (3) 7
- (4) 5

Options :

- 212807116261. 1
- 212807116262. 2
- 212807116263. 3
- 212807116264. 4

Question Number : 511 Question Id : 21280729066 Question Type : MCQ Option Shuffling : No Is Question Mandatory : No Calculator : None Response Time : N.A Think Time : N.A Minimum Instruction Time : 0

Correct Marks : 5 Wrong Marks : 1

Question Key Details :

Key	Value
Comprehension	Comp1

नीचे दिये गये गद्यांश को ध्यानपूर्वक पढ़ें तथा प्रश्न को हल करें :

प्रत्येक टीम द्वारा 8 मैच खेलने के पश्चात् यहाँ पर टूर्नामेंट से संबंधित मुख्य बातों पर प्रकाश डाला गया है। दो सप्ताह से अधिक समय व 20 मैचों में रोमांचक क्रिकेट देखने को मिला। लीग चरण में, वुमेन प्रीमियर लीग का शुरुआत चरण दिल्ली कैपिटल्स के फाइनल में पहुँचने पर समाप्त हुआ। महिला क्रिकेट के शौकीन बहुत समय से IPL के आरम्भ होने का इंतजार कर रहे थे। आस्ट्रेलिया में "बिग बैश लीग" और इंग्लेण्ड में "सुपर लीग" खेल के लिए बहुत अच्छे अवसर प्रदान करते हैं। परन्तु महिलाओं के लिए अभी इन्हें और ऊपर चढ़ना था। भारत में T20 लीग खेली जानी थी। IPL प्रारंभ होने के 15 वर्ष पश्चात् WPL क्रिकेट जगत के बड़े सितारों के साथ आरंभ हुआ। पाँच टीमों ने भाग लिया और प्रत्येक ने आठ मैच खेले। टूर्नामेंट के प्रथम चरण ने बहुत सारी बाधाओं के बावजूद निराश नहीं किया। खचाखच भरे स्टेडियम में कई नजदीकी मुकाबले देखने को मिले, शानदार व्यक्तिगत प्रदर्शन और यादगार टीम भावना देखने को मिली। प्रत्येक टीम ने आठ मैच खेले। टूर्नामेंट के लीग चरण में कुल 20 मैच खेले गए। जिनमें मुख्य बातें यहाँ दी गई हैं। 15 'प्लेयर ऑफ द मैच' अवार्ड अन्तर्राष्ट्रीय खिलाड़ियों को दिये गये, इस में आश्चर्य नहीं होना चाहिये क्योंकि टूर्नामेंट में भारतीय खिलाड़ियों की पर्याप्त संख्या के बावजूद इस बात से इन्कार नहीं किया जा सकता कि ज्यादातर टीमों अपने अन्तर्राष्ट्रीय सितारे खिलाड़ियों के प्रदर्शन पर निर्भर थी। टूर्नामेंट में अधिकतम रन बनाने वाले और विकेट लेने वाले प्रथम पाँच अन्तर्राष्ट्रीय खिलाड़ी थे, इनमें केवल MI की सैफा इशाक पाँच विकेट लेने वालों में थी। लेनिंग और मेरीजेन केप (डी.सी), हेल मैथ्यूज, नतालिया सीवर - ब्रंट और एमीलिया कैर (एम.आई) एलिसा हीले, ताहिला मैकग्राथ और ग्रेस हैरिस (यू.पी.इब्ल्यू), सोफो डिवाइन और एल्सी पैरी (रॉयल चैलेन्जर्स बेंगलूरु) ऐश्ले गार्डनर और किम गर्थ (गुजरात जाइन्ट्स) इन अन्तर्राष्ट्रीय खिलाड़ियों का यह प्रदर्शन यह दर्शाता है कि उन्होंने अपनी टीम के लिए बहुत बड़ी जिम्मेदारी निभाई।

कितने भारतीय खिलाड़ियों को 20 मैचों के पश्चात् "प्लेयर ऑफ द मैच" पुरस्कार दिया गया ?

- (1) 3
- (2) 2
- (3) 7
- (4) 5

Options :

212807116261. 1
212807116262. 2
212807116263. 3
212807116264. 4

Question Number : 512 Question Id : 21280729067 Question Type : MCQ Option Shuffling : No Is Question Mandatory : No Calculator : None
Response Time : N.A Think Time : N.A Minimum Instruction Time : 0

Correct Marks : 5 Wrong Marks : 1

Question Key Details :

Key	Value
Comprehension	Compl

Read the passage carefully and answer the question strictly as per the content.

With each team having played eight matches, here's a look at some of the key takeaways from the tournament. After 20 matches and two and a half weeks of action - packed cricket, the league stage of the inaugural edition of the Women's Premier League (WPL) ended with Delhi Capitals qualifying for the final. Fans of women's cricket had waited a long time for the WPL to arrive. Australia's Big Bash League and England's Super League were great platforms in their own right but it was widely accepted that for the women's game to soar further, a T20 league in India had to get going. And so, 15 years after the IPL was born, the WPL came to life with the biggest names in the game stepping up. With five teams competing and playing eight matches each, the league stage didn't disappoint despite the several handicaps that come with the first edition of a tournament. There was individual brilliance aplenty, a remarkably strong sense of team spirit, close finishes and packed stadiums. With each team having played eight matches here's a look at some of the key takeaways from the tournament : of the 20 games that were played in the league stage, 15 saw the player of the match award go to an overseas player. This shouldn't come as too big a surprise, considering the number of domestic players competing, but there's no denying that every team depended heavily on its overseas stars. In the list of highest run - scorers in the tournament, the top five names are of overseas players and among bowlers, Only MI's Saika Ishaque was in the top five wicket - takers. Lanning and Marizanne Kapp for DC. Hayley Matthews, Natalie Seiver - Brunt and Amelia Kerr for MI. Alyssa Healy, Tahlia McGrath and Grace Harris for UPW, Sophie Devine and Ellyse Perry for Royal Challengers Bangalore, and Ashleigh Gardner and Kim Garth for Gujarat Giants - the league stage saw these proven international performers take great responsibility for their respective teams.

Who was the only Indian to secure a place in top five wicket takers ?

- (1) Smriti Mandhana
- (2) Shefali Verma
- (3) Saika Ishaque
- (4) Jhulan Goswami

Options :

212807116265. 1

212807116266. 2

212807116267. 3

212807116268. 4

Question Number : 512 Question Id : 21280729067 Question Type : MCQ Option Shuffling : No Is Question Mandatory : No Calculator : None Response Time : N.A Think Time : N.A Minimum Instruction Time : 0

Correct Marks : 5 Wrong Marks : 1

Question Key Details :

Key	Value
Comprehension	Comp1

नीचे दिये गये गद्यांश को ध्यानपूर्वक पढ़ें तथा प्रश्न को हल करें :

प्रत्येक टीम द्वारा 8 मैच खेलने के पश्चात् यहाँ पर टूर्नामेंट से संबंधित मुख्य बातों पर प्रकाश डाला गया है। दो सप्ताह से अधिक समय व 20 मैचों में रोमांचक क्रिकेट देखने को मिला। लीग चरण में, वुमेन प्रीमियर लीग का शुरुआत चरण दिल्ली कैपिटल्स के फाइनल में पहुँचने पर समाप्त हुआ। महिला क्रिकेट के शौकीन बहुत समय से IPL के आरम्भ होने का इंतजार कर रहे थे। आस्ट्रेलिया में "बिग बैश लीग" और इंग्लेण्ड में "सुपर लीग" खेल के लिए बहुत अच्छे अवसर प्रदान करते हैं। परन्तु महिलाओं के लिए अभी इन्हें और ऊपर चढ़ना था। भारत में T20 लीग खेली जानी थी। IPL प्रारंभ होने के 15 वर्ष पश्चात् WPL क्रिकेट जगत के बड़े सितारों के साथ आरंभ हुआ। पाँच टीमों ने भाग लिया और प्रत्येक ने आठ मैच खेले। टूर्नामेंट के प्रथम चरण ने बहुत सारी बाधाओं के बावजूद निराश नहीं किया। खचाखच भरे स्टेडियम में कई नजदीकी मुकाबले देखने को मिले, शानदार व्यक्तिगत प्रदर्शन और यादगार टीम भावना देखने को मिली। प्रत्येक टीम ने आठ मैच खेले। टूर्नामेंट के लीग चरण में कुल 20 मैच खेले गए। जिनमें मुख्य बातें यहाँ दी गई हैं। 15 'प्लेयर ऑफ द मैच' अवॉर्ड अन्तर्राष्ट्रीय खिलाड़ियों को दिये गये, इस में आश्चर्य नहीं होना चाहिये क्योंकि टूर्नामेंट में भारतीय खिलाड़ियों की पर्याप्त संख्या के बावजूद इस बात से इन्कार नहीं किया जा सकता कि ज्यादातर टीमों अपने अन्तर्राष्ट्रीय सितारे खिलाड़ियों के प्रदर्शन पर निर्भर थी। टूर्नामेंट में अधिकतम रन बनाने वाले और विकेट लेने वाले प्रथम पाँच अन्तर्राष्ट्रीय खिलाड़ी थे, इनमें केवल MI की सैफा इशाक पाँच विकेट लेने वालों में थी। लेनिंग और मेरीजेन केप (डी.सी), हेल मैथ्यूज़, नतालिया सीवर - ब्रंट और एमीलिया कैर (एम.आई) एलिसा हीले, ताहिला मैकग्राथ और ग्रेस हैरिस (यू.पी.डब्ल्यू), सोफो डिवाइन और एल्सी पैरी (रॉयल चैलेन्जर्स बेंगलूरु) ऐशले गार्डनर और किम गर्थ (गुजरात जाइन्ट्स) इन अन्तर्राष्ट्रीय खिलाड़ियों का यह प्रदर्शन यह दर्शाता है कि उन्होंने अपनी टीम के लिए बहुत बड़ी जिम्मेदारी निभाई।

निम्न में किस भारतीय खिलाड़ी ने टॉप पाँच विकेट लेने वालों में अपनी जगह बनाई है?

- (1) स्मृति मंधाना
- (2) शेफाली वर्मा
- (3) सैफा इशाक
- (4) झुलन गोस्वामी

Options :

212807116265. 1
212807116266. 2
212807116267. 3
212807116268. 4

Question Number : 513 Question Id : 21280729068 Question Type : MCQ Option Shuffling : No Is Question Mandatory : No Calculator : None Response Time : N.A Think Time : N.A Minimum Instruction Time : 0

Correct Marks : 5 Wrong Marks : 1

Question Key Details :

Key	Value
Comprehension	Comp1

Read the passage carefully and answer the question strictly as per the content.

With each team having played eight matches, here's a look at some of the key takeaways from the tournament. After 20 matches and two and a half weeks of action - packed cricket, the league stage of the inaugural edition of the Women's Premier League (WPL) ended with Delhi Capitals qualifying for the final. Fans of women's cricket had waited a long time for the WPL to arrive. Australia's Big Bash League and England's Super League were great platforms in their own right but it was widely accepted that for the women's game to soar further, a T20 league in India had to get going. And so, 15 years after the IPL was born, the WPL came to life with the biggest names in the game stepping up. With five teams competing and playing eight matches each, the league stage didn't disappoint despite the several handicaps that come with the first edition of a tournament. There was individual brilliance aplenty, a remarkably strong sense of team spirit, close finishes and packed stadiums. With each team having played eight matches here's a look at some of the key takeaways from the tournament : of the 20 games that were played in the league stage, 15 saw the player of the match award go to an overseas player. This shouldn't come as too big a surprise, considering the number of domestic players competing, but there's no denying that every team depended heavily on its overseas stars. In the list of highest run - scorers in the tournament, the top five names are of overseas players and among bowlers, Only MI's Saika Ishaque was in the top five wicket - takers. Lanning and Marizanne Kapp for DC. Hayley Matthews, Natalie Seiver - Brunt and Amelia Kerr for MI. Alyssa Healy, Tahlia McGrath and Grace Harris for UPW, Sophie Devine and Ellyse Perry for Royal Challengers Bangalore, and Ashleigh Gardner and Kim Garth for Gujarat Giants - the league stage saw these proven international performers take great responsibility for their respective teams.

The Gap between the birth of WPL and IPL was :

- (1) 15 years
- (2) 10 years
- (3) 14 years
- (4) 5 years

Options :

- 212807116269. 1
- 212807116270. 2
- 212807116271. 3
- 212807116272. 4

Question Number : 513 Question Id : 21280729068 Question Type : MCQ Option Shuffling : No Is Question Mandatory : No Calculator : None Response Time : N.A Think Time : N.A Minimum Instruction Time : 0

Correct Marks : 5 Wrong Marks : 1

Question Key Details :

Key	Value
Comprehension	Comp1

नीचे दिये गये गद्यांश को ध्यानपूर्वक पढ़ें तथा प्रश्न को हल करें :

प्रत्येक टीम द्वारा 8 मैच खेलने के पश्चात् यहाँ पर टूर्नामेंट से संबंधित मुख्य बातों पर प्रकाश डाला गया है। दो सप्ताह से अधिक समय व 20 मैचों में रोमांचक क्रिकेट देखने को मिला। लीग चरण में, वुमेन प्रीमियर लीग का शुरुआत चरण दिल्ली कैपिटल्स के फाइनल में पहुँचने पर समाप्त हुआ। महिला क्रिकेट के शौकीन बहुत समय से IPL के आरम्भ होने का इंतजार कर रहे थे। आस्ट्रेलिया में "बिग बैश लीग" और इंग्लेण्ड में "सुपर लीग" खेल के लिए बहुत अच्छे अवसर प्रदान करते हैं। परन्तु महिलाओं के लिए अभी इन्हें और ऊपर चढ़ना था। भारत में T20 लीग खेली जानी थी। IPL प्रारंभ होने के 15 वर्ष पश्चात् WPL क्रिकेट जगत के बड़े सितारों के साथ आरंभ हुआ। पाँच टीमों ने भाग लिया और प्रत्येक ने आठ मैच खेले। टूर्नामेंट के प्रथम चरण ने बहुत सारी बाधाओं के बावजूद निराश नहीं किया। खचाखच भरे स्टेडियम में कई नजदीकी मुकाबले देखने को मिले, शानदार व्यक्तिगत प्रदर्शन और यादगार टीम भावना देखने को मिली। प्रत्येक टीम ने आठ मैच खेले। टूर्नामेंट के लीग चरण में कुल 20 मैच खेले गए। जिनमें मुख्य बातें यहाँ दी गई हैं। 15 'प्लेयर ऑफ द मैच' अवॉर्ड अन्तर्राष्ट्रीय खिलाड़ियों को दिये गये, इस में आश्चर्य नहीं होना चाहिये क्योंकि टूर्नामेंट में भारतीय खिलाड़ियों की पर्याप्त संख्या के बावजूद इस बात से इन्कार नहीं किया जा सकता कि ज्यादातर टीमों अपने अन्तर्राष्ट्रीय सितारे खिलाड़ियों के प्रदर्शन पर निर्भर थी। टूर्नामेंट में अधिकतम रन बनाने वाले और विकेट लेने वाले प्रथम पाँच अन्तर्राष्ट्रीय खिलाड़ी थे, इनमें केवल MI की सैफा इशाक पाँच विकेट लेने वालों में थी। लेनिंग और मेरीजेन केप (डी.सी), हेल मैथ्यूज़, नतालिया सीवर - ब्रंट और एमीलिया कैर (एम.आई) एलिसा हीले, ताहिला मैकग्राथ और ग्रेस हैरिस (यू.पी.डब्ल्यू), सोफ़ी डिवाइन और एल्सी पैरी (रॉयल चैलेन्जर्स बेंगलूरु) ऐश्ले गार्डनर और किम गर्थ (गुजरात जाइन्ट्स) इन अन्तर्राष्ट्रीय खिलाड़ियों का यह प्रदर्शन यह दर्शाता है कि उन्होंने अपनी टीम के लिए बहुत बड़ी जिम्मेदारी निभाई।

WPL और IPL के मध्य कितने वर्षों का अन्तराल था?

- (1) 15 वर्ष
- (2) 10 वर्ष
- (3) 14 वर्ष
- (4) 5 वर्ष

Options :

212807116269. 1
212807116270. 2
212807116271. 3
212807116272. 4

Question Number : 514 Question Id : 21280729069 Question Type : MCQ Option Shuffling : No Is Question Mandatory : No Calculator : None Response Time : N.A Think Time : N.A Minimum Instruction Time : 0

Correct Marks : 5 Wrong Marks : 1

Question Key Details :

Key	Value
Comprehension	Compl

Read the passage carefully and answer the question strictly as per the content.

With each team having played eight matches, here's a look at some of the key takeaways from the tournament. After 20 matches and two and a half weeks of action - packed cricket, the league stage of the inaugural edition of the Women's Premier League (WPL) ended with Delhi Capitals qualifying for the final. Fans of women's cricket had waited a long time for the WPL to arrive. Australia's Big Bash League and England's Super League were great platforms in their own right but it was widely accepted that for the women's game to soar further, a T20 league in India had to get going. And so, 15 years after the IPL was born, the WPL came to life with the biggest names in the game stepping up. With five teams competing and playing eight matches each, the league stage didn't disappoint despite the several handicaps that come with the first edition of a tournament. There was individual brilliance aplenty, a remarkably strong sense of team spirit, close finishes and packed stadiums. With each team having played eight matches here's a look at some of the key takeaways from the tournament : of the 20 games that were played in the league stage, 15 saw the player of the match award go to an overseas player. This shouldn't come as too big a surprise, considering the number of domestic players competing, but there's no denying that every team depended heavily on its overseas stars. In the list of highest run - scorers in the tournament, the top five names are of overseas players and among bowlers, Only MI's Saika Ishaque was in the top five wicket - takers. Lanning and Marizanne Kapp for DC. Hayley Matthews, Natalie Seiver - Brunt and Amelia Kerr for MI. Alyssa Healy, Tahlia McGrath and Grace Harris for UPW, Sophie Devine and Ellyse Perry for Royal Challengers Bangalore, and Ashleigh Gardner and Kim Garth for Gujarat Giants - the league stage saw these proven international performers take great responsibility for their respective teams.

How many matches were played by all the teams in league stage ?

- (1) 13
- (2) 20
- (3) 40
- (4) 26

Options :

- 212807116273. 1
- 212807116274. 2
- 212807116275. 3
- 212807116276. 4

Question Number : 514 Question Id : 21280729069 Question Type : MCQ Option Shuffling : No Is Question Mandatory : No Calculator : None Response Time : N.A Think Time : N.A Minimum Instruction Time : 0

Correct Marks : 5 Wrong Marks : 1

Question Key Details :

Key	Value
Comprehension	Comp1

नीचे दिये गये गद्यांश को ध्यानपूर्वक पढ़ें तथा प्रश्न को हल करें :

प्रत्येक टीम द्वारा 8 मैच खेलने के पश्चात् यहाँ पर टूर्नामेंट से संबंधित मुख्य बातों पर प्रकाश डाला गया है। दो सप्ताह से अधिक समय व 20 मैचों में रोमांचक क्रिकेट देखने को मिला। लीग चरण में, वुमेन प्रीमियर लीग का शुरुआत चरण दिल्ली कैपिटल्स के फाइनल में पहुँचने पर समाप्त हुआ। महिला क्रिकेट के शौकीन बहुत समय से IPL के आरम्भ होने का इंतजार कर रहे थे। आस्ट्रेलिया में "बिग बैश लीग" और इंग्लेण्ड में "सुपर लीग" खेल के लिए बहुत अच्छे अवसर प्रदान करते हैं। परन्तु महिलाओं के लिए अभी इन्हें और ऊपर चढ़ना था। भारत में T20 लीग खेली जानी थी। IPL प्रारंभ होने के 15 वर्ष पश्चात् WPL क्रिकेट जगत के बड़े सितारों के साथ आरंभ हुआ। पाँच टीमों ने भाग लिया और प्रत्येक ने आठ मैच खेले। टूर्नामेंट के प्रथम चरण ने बहुत सारी बाधाओं के बावजूद निराश नहीं किया। खचाखच भरे स्टेडियम में कई नजदीकी मुकाबले देखने को मिले, शानदार व्यक्तिगत प्रदर्शन और यादगार टीम भावना देखने को मिली। प्रत्येक टीम ने आठ मैच खेले। टूर्नामेंट के लीग चरण में कुल 20 मैच खेले गए। जिनमें मुख्य बातें यहाँ दी गई हैं। 15 'प्लेयर ऑफ द मैच' अवार्ड अन्तर्राष्ट्रीय खिलाड़ियों को दिये गये, इस में आश्चर्य नहीं होना चाहिये क्योंकि टूर्नामेंट में भारतीय खिलाड़ियों की पर्याप्त संख्या के बावजूद इस बात से इन्कार नहीं किया जा सकता कि ज्यादातर टीमों अपने अन्तर्राष्ट्रीय सितारे खिलाड़ियों के प्रदर्शन पर निर्भर थी। टूर्नामेंट में अधिकतम रन बनाने वाले और विकेट लेने वाले प्रथम पाँच अन्तर्राष्ट्रीय खिलाड़ी थे, इनमें केवल MI की सैफा इशाक पाँच विकेट लेने वालों में थी। लेनिंग और मेरीजेन केप (डी.सी.), हेल मैथ्यूज, नतालिया सीवर - ब्रंट और एमीलिया कैर (एम.आई) एलिसा हीले, ताहिला मैकग्राथ और ग्रेस हैरिस (यू.पी.इब्ल्यू), सोफो डिवाइन और एल्सी पैरी (रॉयल चैलेन्जर्स बेंगलूरु) ऐश्ले गार्डनर और किम गर्थ (गुजरात जाइन्ट्स) इन अन्तर्राष्ट्रीय खिलाड़ियों का यह प्रदर्शन यह दर्शाता है कि उन्होंने अपनी टीम के लिए बहुत बड़ी जिम्मेदारी निभाई।

सभी टीमों ने लीग मैच में कितने मैच खेले ?

- (1) 13
- (2) 20
- (3) 40
- (4) 26

Options :

212807116273. 1
212807116274. 2
212807116275. 3
212807116276. 4

Question Number : 515 Question Id : 21280729070 Question Type : MCQ Option Shuffling : No Is Question Mandatory : No Calculator : None
Response Time : N.A Think Time : N.A Minimum Instruction Time : 0

Correct Marks : 5 Wrong Marks : 1

Question Key Details :

Key	Value
Comprehension	Compl

Read the passage carefully and answer the question strictly as per the content.

With each team having played eight matches, here's a look at some of the key takeaways from the tournament. After 20 matches and two and a half weeks of action - packed cricket, the league stage of the inaugural edition of the Women's Premier League (WPL) ended with Delhi Capitals qualifying for the final. Fans of women's cricket had waited a long time for the WPL to arrive. Australia's Big Bash League and England's Super League were great platforms in their own right but it was widely accepted that for the women's game to soar further, a T20 league in India had to get going. And so, 15 years after the IPL was born, the WPL came to life with the biggest names in the game stepping up. With five teams competing and playing eight matches each, the league stage didn't disappoint despite the several handicaps that come with the first edition of a tournament. There was individual brilliance aplenty, a remarkably strong sense of team spirit, close finishes and packed stadiums. With each team having played eight matches here's a look at some of the key takeaways from the tournament : of the 20 games that were played in the league stage, 15 saw the player of the match award go to an overseas player. This shouldn't come as too big a surprise, considering the number of domestic players competing, but there's no denying that every team depended heavily on its overseas stars. In the list of highest run - scorers in the tournament, the top five names are of overseas players and among bowlers, Only MI's Saika Ishaque was in the top five wicket - takers. Lanning and Marizanne Kapp for DC. Hayley Matthews, Natalie Seiver - Brunt and Amelia Kerr for ML. Alyssa Healy, Tahlia McGrath and Grace Harris for UPW, Sophie Devine and Ellyse Perry for Royal Challengers Bangalore, and Ashleigh Gardner and Kim Garth for Gujarat Giants - the league stage saw these proven international performers take great responsibility for their respective teams.

Which of the following team qualified for the finals ?

- (1) Gujarat Giants
- (2) RCB Bangalore
- (3) UPW
- (4) Delhi Capitals

Options :

212807116277. 1
212807116278. 2
212807116279. 3
212807116280. 4

Question Number : 515 Question Id : 21280729070 Question Type : MCQ Option Shuffling : No Is Question Mandatory : No Calculator : None
Response Time : N.A Think Time : N.A Minimum Instruction Time : 0

Correct Marks : 5 Wrong Marks : 1

Question Key Details :

Key	Value
Comprehension	Comp1

नीचे दिये गये गद्यांश को ध्यानपूर्वक पढ़ें तथा प्रश्न को हल करें :

प्रत्येक टीम द्वारा 8 मैच खेलने के पश्चात् यहाँ पर टूर्नामेंट से संबंधित मुख्य बातों पर प्रकाश डाला गया है। दो सप्ताह से अधिक समय व 20 मैचों में रोमांचक क्रिकेट देखने को मिला। लीग चरण में, वुमेन प्रीमियर लीग का शुरुआत चरण दिल्ली कैपिटल्स के फाइनल में पहुँचने पर समाप्त हुआ। महिला क्रिकेट के शौकीन बहुत समय से IPL के आरम्भ होने का इंतजार कर रहे थे। आस्ट्रेलिया में "बिग बैश लीग" और इंग्लेण्ड में "सुपर लीग" खेल के लिए बहुत अच्छे अवसर प्रदान करते हैं। परन्तु महिलाओं के लिए अभी इन्हें और ऊपर चढ़ना था। भारत में T20 लीग खेली जानी थी। IPL प्रारंभ होने के 15 वर्ष पश्चात् WPL क्रिकेट जगत के बड़े सितारों के साथ आरंभ हुआ। पाँच टीमों ने भाग लिया और प्रत्येक ने आठ मैच खेले। टूर्नामेंट के प्रथम चरण ने बहुत सारी बाधाओं के बावजूद निराश नहीं किया। खचाखच भरे स्टेडियम में कई नजदीकी मुकाबले देखने को मिले, शानदार व्यक्तिगत प्रदर्शन और यादगार टीम भावना देखने को मिली। प्रत्येक टीम ने आठ मैच खेले। टूर्नामेंट के लीग चरण में कुल 20 मैच खेले गए। जिनमें मुख्य बातें यहाँ दी गई हैं। 15 'प्लेयर ऑफ द मैच' अवॉर्ड अन्तर्राष्ट्रीय खिलाड़ियों को दिये गये, इस में आश्चर्य नहीं होना चाहिये क्योंकि टूर्नामेंट में भारतीय खिलाड़ियों की पर्याप्त संख्या के बावजूद इस बात से इन्कार नहीं किया जा सकता कि ज्यादातर टीमों अपने अन्तर्राष्ट्रीय सितारे खिलाड़ियों के प्रदर्शन पर निर्भर थी। टूर्नामेंट में अधिकतम रन बनाने वाले और विकेट लेने वाले प्रथम पाँच अन्तर्राष्ट्रीय खिलाड़ी थे, इनमें केवल MI की सैफा इशाक पाँच विकेट लेने वालों में थी। लेनिंग और मेरीजेन केप (डी.सी.), हेल मैथ्यूज़, नतालिया सीवर - ब्रंट और एमीलिया कैर (एम.आई) एलिसा हीले, ताहिला मैकग्राथ और ग्रेस हैरिस (यू.पी.डब्ल्यू), सोफ़ी डिवाइन और एल्सी पैरी (रॉयल चैलेन्जर्स बेंगलूरु) ऐश्ले गार्डनर और किम गर्थ (गुजरात जाइन्ट्स) इन अन्तर्राष्ट्रीय खिलाड़ियों का यह प्रदर्शन यह दर्शाता है कि उन्होंने अपनी टीम के लिए बहुत बड़ी जिम्मेदारी निभाई।

निम्न में से किस टीम ने फाइनल में अपनी जगह बनाई है ?

- (1) गुजरात जाइन्ट्स
- (2) RCB (बैंगलूरु)
- (3) UPW
- (4) देल्ही कैपिटल

Options :

212807116277. 1
212807116278. 2
212807116279. 3
212807116280. 4

Sub-Section Number : 3
Sub-Section Id : 2128072113
Question Shuffling Allowed : No
Is Section Default? : null

Question Number : 516 Question Id : 21280729071 Question Type : MCQ Option Shuffling : No Is Question Mandatory : No Calculator : None
Response Time : N.A Think Time : N.A Minimum Instruction Time : 0

Correct Marks : 5 Wrong Marks : 1

Question Key Details :

Key	Value
Comprehension	Comp2

Read the passage carefully and answer the question strictly as per the content.

All documents pertaining to test scores and their subsequent processing are collectively known as test records. In other words, all such documents which contain test scores in direct or alternate forms constitute the test records. These are the most important documents to be stored for quite some time with the concerned authorities so that the same could be used for the verification of any doubtful apprehensions of students, teachers, parents or the administrators (management) which may arise especially regarding the unexpected findings of the test results. In order to maintain and use proper test records, it is inevitable that all the original score cards or score sheet are collected and preserved. At the same time, it is equally important that all the subjects are provided with their individual results of each test item (probably except I.Q.) as promptly as possible. This should be done either asking the subjects to copy the results of their interest or by getting a duplicate copy made by clerical assistance or duplicating machines, but the originals must be maintained by the test incharges.

The collection of original score cards/score sheets must be made immediately after the completion of the last test item. Under no circumstances, requests of subjects should be entertained asking for the submission of score cards the next day or after few hours after copying. If such requests are entertained, these may often result in losing, mutilation or tampering of the scores. In fact, special instructions be given to a reliable test assistant to stand at the last test station to collect the store cards either from each subject directly or through squadleaders. In case the score cards are collected separately by each test station incharge, the duty of collection of the same at one place must be assigned either for the submission of test score to the overall test incharge directly by the station incharges or for getting the same collected by a reliable test assistant or teacher incharge of the test. After the test score cards or sheets are collected at one place, these are to be recorded and preserved safely. Administratively, the test records may be maintained either by the teacher incharge of test or by some central agency where all the teacher incharges of conducting different tests at the same time (or at different times) may be required to submit all test records for subsequent use as per the administrative decisions.

What is the reason for storing Test Records for a fairly long time ?

- (1) Requests of the subjects
- (2) Reliable Data sources
- (3) Verification of apprehensions of subjects
- (4) Mutilation or tampering of the score

Options :

- 212807116281. 1
- 212807116282. 2
- 212807116283. 3
- 212807116284. 4

Question Number : 516 Question Id : 21280729071 Question Type : MCQ Option Shuffling : No Is Question Mandatory : No Calculator : None Response Time : N.A Think Time : N.A Minimum Instruction Time : 0

Correct Marks : 5 Wrong Marks : 1

Question Key Details :

Key	Value
Comprehension	Comp2

नीचे दिये गये गद्यांश को ध्यानपूर्वक पढ़ें तथा प्रश्न हल करें :

परीक्षण स्कोर और उनके अनुवर्ती प्रसंकरण से संबंधित सभी दस्तावेज सामूहिक रूप से परीक्षण रिकार्ड के रूप में जाने जाते हैं। दूसरे शब्दों में ऐसे सभी दस्तावेज जिनमें प्रत्यक्ष या अप्रत्यक्ष रूप में परीक्षण के अंक शामिल हैं, परीक्षण रिकार्ड का गठन करते हैं। परीक्षा परिणाम से संबंधित अधिकारियों के पास कुछ समय के लिए संगृहीत किए जाने वाले में सबसे महत्वपूर्ण दस्तावेज हैं ताकि छात्रों शिक्षकों अभिभावकों या प्रशासकों को किसी भी संदिग्ध आशंकाओं के सत्यापन के लिए इसका उपयोग किया जा सके, जो विशेष रूप से अप्रत्याशित खोज के संबंध में उत्पन्न हो सकती है। उचित रिकॉर्ड को बनाए रखने और उपयोग करने के लिए, यह अनिवार्य है कि सभी मूल स्कोर कार्ड या स्कोर शीट को एकत्र और संक्षिप्त किया जाए साथ ही, यह भी समान रूप से महत्वपूर्ण है कि सभी परीक्षार्थियों को प्रत्येक परीक्षा आइटम के उनके व्यक्तिगत परिणाम यथाशीघ्र प्रदान किए जाए। (सम्भावित आई.क्यू. को छोड़कर) यह तो परीक्षार्थियों को उनकी रुचि के परिणामों को नोट करने के लिए कहा जा सकता है या डुप्लिकेटिंग मशीनों द्वारा बनाई गई डुप्लिकेट कॉपी प्राप्त कर सकता है, लेकिन मूल प्रति परीक्षा प्रभारी द्वारा रखी जानी चाहिए।

परीक्षा के अन्तिम मद में समाप्त होने के तुरन्त बाद ही मूल स्कोर कार्ड अथवा स्कोर शीट को इकट्ठा करके सुरक्षित किया जाना चाहिए। किसी भी स्थिति में परीक्षार्थी की कापी को जमा करने के लिए अगले दिन अथवा कुछ घण्टे के बाद जमा करने पर सहमति नहीं बननी चाहिए। यदि कोई किसी स्थिति में अगले दिन अथवा कुछ घण्टे बाद जमा करने की स्वीकृति प्राप्त कर लेता है तो है तो हो सकता है कि वह परिणाम को खो दे अथवा उसमें कोई विकृति पैदा कर दे अथवा वह परिणाम के साथ छेड़-छाड़ भी कर सकता है। वास्तव में एक विश्वसनीय परीक्षा सहायक को यह विशेष निर्देश दिए जाने चाहिए की वह अंतिम परीक्षा केन्द्र पर खड़े होकर सीधे परीक्षार्थियों से स्कोर कार्ड प्राप्त करे या समूह के नेता से। यदि स्कोर कार्डों को अलग से संग्रह किया जाता है तो प्रत्येक परीक्षा केंद्र प्रभारी द्वारा एक ही कार्ड का संग्रह किया जाना चाहिए या किसी विश्वसनीय परीक्षा सहायक अथवा शिक्षक प्रभारी द्वारा संग्रह किया जाना चाहिए।

एक ही स्थान पर सभी परिणाम शीट के इकट्ठे हो जाने के बाद इनको टिकाई में दर्ज करके सुरक्षित करना चाहिए। प्रशासनिक रूप से परीक्षण रिकार्ड या तो परीक्षण के प्रभारी शिक्षक द्वारा या किसी केंद्रीय एजेंसी द्वारा बनाये रखा जा सकता है, जहाँ एक ही समय में विभिन्न परीक्षण करने वाले सभी शिक्षक प्रभारी को पशासनिक निर्णयों के अनुसार बाद के उपयोग के लिए सभी परीक्षा रिकार्ड जमा करने की आवश्यकता हो सकती है।

क्या कारण है कि परीक्षा परिणामों को लम्बे समय के लिए ठीक ढंग से सुरक्षित किया जाए ?

- (1) परीक्षार्थियों के अनुरोध पर
- (2) विश्वसनीय डाटा स्रोत के लिए
- (3) परीक्षार्थियों की आशंकाओं का सत्यापन
- (4) परिणामों से विकृति अथवा छेड़छाड़

Options :

212807116281. 1

212807116282. 2

212807116283. 3

212807116284. 4

Question Number : 517 Question Id : 21280729072 Question Type : MCQ Option Shuffling : No Is Question Mandatory : No Calculator : None Response Time : N.A Think Time : N.A Minimum Instruction Time : 0

Correct Marks : 5 Wrong Marks : 1

Question Key Details :

Key	Value
Comprehension	Comp2

Read the passage carefully and answer the question strictly as per the content.

All documents pertaining to test scores and their subsequent processing are collectively known as test records. In other words, all such documents which contain test scores in direct or alternate forms constitute the test records. These are the most important documents to be stored for quite some time with the concerned authorities so that the same could be used for the verification of any doubtful apprehensions of students, teachers, parents or the administrators (management) which may arise especially regarding the unexpected findings of the test results. In order to maintain and use proper test records, it is inevitable that all the original score cards or score sheet are collected and preserved. At the same time, it is equally important that all the subjects are provided with their individual results of each test item (probably except I.Q.) as promptly as possible. This should be done either asking the subjects to copy the results of their interest or by getting a duplicate copy made by clerical assistance or duplicating machines, but the originals must be maintained by the test incharges.

The collection of original score cards/score sheets must be made immediately after the completion of the last test item. Under no circumstances, requests of subjects should be entertained asking for the submission of score cards the next day or after few hours after copying. If such requests are entertained, these may often result in losing, mutilation or tampering of the scores. In fact, special instructions be given to a reliable test assistant to stand at the last test station to collect the store cards either from each subject directly or through squadleaders. In case the score cards are collected separately by each test station incharge, the duty of collection of the same at one place must be assigned either for the submission of test score to the overall test incharge directly by the station incharges or for getting the same collected by a reliable test assistant or teacher incharge of the test. After the test score cards or sheets are collected at one place, these are to be recorded and preserved safely. Administratively, the test records may be maintained either by the teacher incharge of test or by some central agency where all the teacher incharges of conducting different tests at the same time (or at different times) may be required to submit all test records for subsequent use as per the administrative decisions.

Duplicate copy of the results should be given to :

- (1) Subjects
- (2) Clerical assistants
- (3) Test Incharges
- (4) Authorities

Options :

- 212807116285. 1
- 212807116286. 2
- 212807116287. 3
- 212807116288. 4

Question Number : 517 Question Id : 21280729072 Question Type : MCQ Option Shuffling : No Is Question Mandatory : No Calculator : None Response Time : N.A Think Time : N.A Minimum Instruction Time : 0

Correct Marks : 5 Wrong Marks : 1

Question Key Details :

Key	Value
Comprehension	Comp2

नीचे दिये गये गद्यांश को ध्यानपूर्वक पढ़ें तथा प्रश्न हल करें :

परीक्षण स्कोर और उनके अनुवर्ती प्रसंकरण से संबंधित सभी दस्तावेज सामूहिक रूप से परीक्षण रिकार्ड के रूप में जाने जाते हैं। दूसरे शब्दों में ऐसे सभी दस्तावेज जिनमें प्रत्यक्ष या अप्रत्यक्ष रूप में परीक्षण के अंक शामिल हैं, परीक्षण रिकार्ड का गठन करते हैं। परीक्षा परिणाम से संबंधित अधिकारियों के पास कुछ समय के लिए संगृहीत किए जाने वाले में सबसे महत्वपूर्ण दस्तावेज हैं ताकि छात्रों शिक्षकों अभिभावकों या प्रशासकों को किसी भी संदिग्ध आशाकाओं के सत्यापन के लिए इसका उपयोग किया जा सके, जो विशेष रूप से अप्रत्याशित खोज के संबंध में उत्पन्न हो सकती है। उचित रिकॉर्ड को बनाए रखने और उपयोग करने के लिए, यह अनिवार्य है कि सभी मूल स्कोर कार्ड या स्कोर शीट को एकत्र और संक्षिप्त किया जाए साथ ही, यह भी समान रूप से महत्वपूर्ण है कि सभी परीक्षार्थियों को प्रत्येक परीक्षा आइटम के उनके व्यक्तिगत परिणाम यथाशीघ्र प्रदान किए जाए। (सम्भावित आई.क्यू. को छोड़कर) यह तो परीक्षार्थियों को उनकी रुचि के परिणामों को नोट करने के लिए कहा जा सकता है या डुप्लिकेटिंग मशीनों द्वारा बनाई गई डुप्लिकेट कॉपी प्राप्त कर सकता है, लेकिन मूल प्रति परीक्षा प्रभारी द्वारा रखी जानी चाहिए।

परीक्षा के अन्तिम मद में समाप्त होने के तुरन्त बाद ही मूल स्कोर कार्ड अथवा स्कोर शीट को इकट्ठा करके सुरक्षित किया जाना चाहिए। किसी भी स्थिति में परीक्षार्थी की कापी को जमा करने के लिए अगले दिन अथवा कुछ घण्टे के बाद जमा करने पर सहमति नहीं बननी चाहिए। यदि कोई किसी स्थिति में अगले दिन अथवा कुछ घण्टे बाद जमा करने की स्वीकृति प्राप्त कर लेता है तो है तो हो सकता है कि वह परिणाम को खो दे अथवा उसमें कोई विकृति पैदा कर दे अथवा वह परिणाम के साथ छेड़-छाड़ भी कर सकता है। वास्तव में एक विश्वसनीय परीक्षा सहायक को यह विशेष निर्देश दिए जाने चाहिए की वह अंतिम परीक्षा केन्द्र पर खड़े होकर सीधे परीक्षार्थियों से स्कोर कार्ड प्राप्त करे या समूह के नेता से। यदि स्कोर कार्डों को अलग से संग्रह किया जाता है तो प्रत्येक परीक्षा केंद्र प्रभारी द्वारा एक ही कार्ड का संग्रह किया जाना चाहिए या किसी विश्वसनीय परीक्षा सहायक अथवा शिक्षक प्रभारी द्वारा संग्रह किया जाना चाहिए।

एक ही स्थान पर सभी परिणाम शीट के इकट्ठे हो जाने के बाद इनको टिकाई में दर्ज करके सुरक्षित करना चाहिए। प्रशासनिक रूप से परीक्षण रिकार्ड या तो परीक्षण के प्रभारी शिक्षक द्वारा या किसी केंद्रीय एजेंसी द्वारा बनाये रखा जा सकता है, जहाँ एक ही समय में विभिन्न परीक्षण करने वाले सभी शिक्षक प्रभारी को पशासनिक निर्णयों के अनुसार बाद के उपयोग के लिए सभी परीक्षा रिकार्ड जमा करने की आवश्यकता हो सकती है।

परिणामों की नकली कापी देनी चाहिए :

- (1) परीक्षार्थियों को
- (2) सहायक लिपिक को
- (3) परीक्षा प्रभारी को
- (4) अधिकारियों को

Options :

212807116285. 1
212807116286. 2
212807116287. 3
212807116288. 4

Question Number : 518 Question Id : 21280729073 Question Type : MCQ Option Shuffling : No Is Question Mandatory : No Calculator : None Response Time : N.A Think Time : N.A Minimum Instruction Time : 0

Correct Marks : 5 Wrong Marks : 1

Question Key Details :

Key	Value
Comprehension	Comp2

Read the passage carefully and answer the question strictly as per the content.

All documents pertaining to test scores and their subsequent processing are collectively known as test records. In other words, all such documents which contain test scores in direct or alternate forms constitute the test records. These are the most important documents to be stored for quite some time with the concerned authorities so that the same could be used for the verification of any doubtful apprehensions of students, teachers, parents or the administrators (management) which may arise especially regarding the unexpected findings of the test results. In order to maintain and use proper test records, it is inevitable that all the original score cards or score sheet are collected and preserved. At the same time, it is equally important that all the subjects are provided with their individual results of each test item (probably except I.Q.) as promptly as possible. This should be done either asking the subjects to copy the results of their interest or by getting a duplicate copy made by clerical assistance or duplicating machines, but the originals must be maintained by the test incharges.

The collection of original score cards/score sheets must be made immediately after the completion of the last test item. Under no circumstances, requests of subjects should be entertained asking for the submission of score cards the next day or after few hours after copying. If such requests are entertained, these may often result in losing, mutilation or tampering of the scores. In fact, special instructions be given to a reliable test assistant to stand at the last test station to collect the store cards either from each subject directly or through squadleaders. In case the score cards are collected separately by each test station incharge, the duty of collection of the same at one place must be assigned either for the submission of test score to the overall test incharge directly by the station incharges or for getting the same collected by a reliable test assistant or teacher incharge of the test. After the test score cards or sheets are collected at one place, these are to be recorded and preserved safely. Administratively, the test records may be maintained either by the teacher incharge of test or by some central agency where all the teacher incharges of conducting different tests at the same time (or at different times) may be required to submit all test records for subsequent use as per the administrative decisions.

Who should administratively maintain the test records ?

- (1) District Agency
- (2) Regional Agency
- (3) State Agency
- (4) Central Agency

Options :

212807116289. 1
212807116290. 2
212807116291. 3
212807116292. 4

Question Number : 518 Question Id : 21280729073 Question Type : MCQ Option Shuffling : No Is Question Mandatory : No Calculator : None
Response Time : N.A Think Time : N.A Minimum Instruction Time : 0

Correct Marks : 5 Wrong Marks : 1

Question Key Details :

Key	Value
Comprehension	Comp2

नीचे दिये गये गद्यांश को ध्यानपूर्वक पढ़ें तथा प्रश्न हल करें :

परीक्षण स्कोर और उनके अनुवर्ती प्रसंकरण से संबंधित सभी दस्तावेज सामूहिक रूप से परीक्षण रिकार्ड के रूप में जाने जाते हैं। दूसरे शब्दों में ऐसे सभी दस्तावेज जिनमें प्रत्यक्ष या अप्रत्यक्ष रूप में परीक्षण के अंक शामिल हैं, परीक्षण रिकार्ड का गठन करते हैं। परीक्षा परिणाम से संबंधित अधिकारियों के पास कुछ समय के लिए संगृहीत किए जाने वाले में सबसे महत्वपूर्ण दस्तावेज हैं ताकि छात्रों शिक्षकों अभिभावकों या प्रशासकों को किसी भी संदिग्ध आशाकाओं के सत्यापन के लिए इसका उपयोग किया जा सके, जो विशेष रूप से अप्रत्याशित खोज के संबंध में उत्पन्न हो सकती है। उचित रिकार्ड को बनाए रखने और उपयोग करने के लिए, यह अनिवार्य है कि सभी मूल स्कोर कार्ड या स्कोर शीट को एकत्र और संक्षिप्त किया जाए साथ ही, यह भी समान रूप से महत्वपूर्ण है कि सभी परीक्षार्थियों को प्रत्येक परीक्षा आइटम के उनके व्यक्तिगत परिणाम यथाशीघ्र प्रदान किए जाए। (सम्भावित आई.क्यू. को छोड़कर) यह तो परीक्षार्थियों को उनकी रुचि के परिणामों को नोट करने के लिए कहा जा सकता है या डुप्लिकेटिंग मशीनों द्वारा बनाई गई डुप्लिकेट कॉपी प्राप्त कर सकता है, लेकिन मूल प्रति परीक्षा प्रभारी द्वारा रखी जानी चाहिए।

परीक्षा के अन्तिम मद में समाप्त होने के तुरन्त बाद ही मूल स्कोर कार्ड अथवा स्कोर शीट को इकट्ठा करके सुरक्षित किया जाना चाहिए। किसी भी स्थिति में परीक्षार्थी की कापी को जमा करने के लिए अगले दिन अथवा कुछ घण्टे के बाद जमा करने पर सहमति नहीं बननी चाहिए। यदि कोई किसी स्थिति में अगले दिन अथवा कुछ घण्टे बाद जमा करने की स्वीकृति प्राप्त कर लेता है तो है तो हो सकता है कि वह परिणाम को खो दे अथवा उसमें कोई विकृति पैदा कर दे अथवा वह परिणाम के साथ छेड़-छाड़ भी कर सकता है। वास्तव में एक विश्वसनीय परीक्षा सहायक को यह विशेष निर्देश दिए जाने चाहिए की वह अंतिम परीक्षा केन्द्र पर खड़े होकर सीधे परीक्षार्थियों से स्कोर कार्ड प्राप्त करे या समूह के नेता से। यदि स्कोर कार्डों को अलग से संग्रह किया जाता है तो प्रत्येक परीक्षा केंद्र प्रभारी द्वारा एक ही कार्ड का संग्रह किया जाना चाहिए या किसी विश्वसनीय परीक्षा सहायक अथवा शिक्षक प्रभारी द्वारा संग्रह किया जाना चाहिए।

एक ही स्थान पर सभी परिणाम शीट के इकट्ठे हो जाने के बाद इनको टिकाई में दर्ज करके सुरक्षित करना चाहिए। प्रशासनिक रूप से परीक्षण रिकार्ड या तो परीक्षण के प्रभारी शिक्षक द्वारा या किसी केंद्रीय एजेंसी द्वारा बनाये रखा जा सकता है, जहाँ एक ही समय में विभिन्न परीक्षण करने वाले सभी शिक्षक प्रभारी को प्रशासनिक निर्णयों के अनुसार बाद के उपयोग के लिए सभी परीक्षा रिकार्ड जमा करने की आवश्यकता हो सकती है।

प्रशासनिक रूप से कौन परीक्षा परिणामों का रख रखाव करता है ?

- (1) जिला एजेंसी
- (2) क्षेत्रीय एजेंसी
- (3) राज्य एजेंसी
- (4) केन्द्रीय एजेंसी

Options :

212807116289. 1
212807116290. 2
212807116291. 3
212807116292. 4

Question Number : 519 Question Id : 21280729074 Question Type : MCQ Option Shuffling : No Is Question Mandatory : No Calculator : None Response Time : N.A Think Time : N.A Minimum Instruction Time : 0

Correct Marks : 5 Wrong Marks : 1

Question Key Details :

Key	Value
Comprehension	Comp2

Read the passage carefully and answer the question strictly as per the content.

All documents pertaining to test scores and their subsequent processing are collectively known as test records. In other words, all such documents which contain test scores in direct or alternate forms constitute the test records. These are the most important documents to be stored for quite some time with the concerned authorities so that the same could be used for the verification of any doubtful apprehensions of students, teachers, parents or the administrators (management) which may arise especially regarding the unexpected findings of the test results. In order to maintain and use proper test records, it is inevitable that all the original score cards or score sheet are collected and preserved. At the same time, it is equally important that all the subjects are provided with their individual results of each test item (probably except I.Q.) as promptly as possible. This should be done either asking the subjects to copy the results of their interest or by getting a duplicate copy made by clerical assistance or duplicating machines, but the originals must be maintained by the test incharges.

The collection of original score cards/score sheets must be made immediately after the completion of the last test item. Under no circumstances, requests of subjects should be entertained asking for the submission of score cards the next day or after few hours after copying. If such requests are entertained, these may often result in losing, mutilation or tampering of the scores. In fact, special instructions be given to a reliable test assistant to stand at the last test station to collect the store cards either from each subject directly or through squadleaders. In case the score cards are collected separately by each test station incharge, the duty of collection of the same at one place must be assigned either for the submission of test score to the overall test incharge directly by the station incharges or for getting the same collected by a reliable test assistant or teacher incharge of the test. After the test score cards or sheets are collected at one place, these are to be recorded and preserved safely. Administratively, the test records may be maintained either by the teacher incharge of test or by some central agency where all the teacher incharges of conducting different tests at the same time (or at different times) may be required to submit all test records for subsequent use as per the administrative decisions.

If score cards are allowed to be submitted on the next day of test, what will happen ?

- (1) Score can be easily tempered
- (2) Scores will remain same
- (3) Students will have difficulty in understanding them
- (4) Students will not be interested in keeping them

Options :

- 212807116293. 1
- 212807116294. 2
- 212807116295. 3
- 212807116296. 4

Question Number : 519 Question Id : 21280729074 Question Type : MCQ Option Shuffling : No Is Question Mandatory : No Calculator : None Response Time : N.A Think Time : N.A Minimum Instruction Time : 0

Correct Marks : 5 Wrong Marks : 1

Question Key Details :

Key	Value
Comprehension	Comp2

नीचे दिये गये गद्यांश को ध्यानपूर्वक पढ़ें तथा प्रश्न हल करें :

परीक्षण स्कोर और उनके अनुवर्ती प्रसंकरण से संबंधित सभी दस्तावेज सामूहिक रूप से परीक्षण रिकार्ड के रूप में जाने जाते हैं। दूसरे शब्दों में ऐसे सभी दस्तावेज जिन में प्रत्यक्ष या अप्रत्यक्ष रूप में परीक्षण के अंक शामिल हैं, परीक्षण रिकार्ड का गठन करते हैं। परीक्षा परिणाम से संबंधित अधिकारियों के पास कुछ समय के लिए संगृहीत किए जाने वाले में सबसे महत्वपूर्ण दस्तावेज हैं ताकि छात्रों शिक्षकों अभिभावकों या प्रशासकों को किसी भी संदिग्ध आशाकाओं के सत्यापन के लिए इसका उपयोग किया जा सके, जो विशेष रूप से अप्रत्याशित खोज के संबंध में उत्पन्न हो सकती है। उचित रिकॉर्ड को बनाए रखने और उपयोग करने के लिए, यह अनिवार्य है कि सभी मूल स्कोर कार्ड या स्कोर शीट को एकत्र और संक्षिप्त किया जाए साथ ही, यह भी समान रूप से महत्वपूर्ण है कि सभी परीक्षार्थियों को प्रत्येक परीक्षा आइटम के उनके व्यक्तिगत परिणाम यथाशीघ्र प्रदान किए जाए। (सम्भावित आई.क्यू. को छोड़कर) यह तो परीक्षार्थियों को उनकी रुचि के परिणामों को नोट करने के लिए कहा जा सकता है या डुप्लिकेटिंग मशीनों द्वारा बनाई गई डुप्लिकेट कॉपी प्राप्त कर सकता है, लेकिन मूल प्रति परीक्षा प्रभारी द्वारा रखी जानी चाहिए।

परीक्षा के अन्तिम मद में समाप्त होने के तुरन्त बाद ही मूल स्कोर कार्ड अथवा स्कोर शीट को इकट्ठा करके सुरक्षित किया जाना चाहिए। किसी भी स्थिति में परीक्षार्थी की कापी को जमा करने के लिए अगले दिन अथवा कुछ घण्टे के बाद जमा करने पर सहमति नहीं बननी चाहिए। यदि कोई किसी स्थिति में अगले दिन अथवा कुछ घण्टे बाद जमा करने की स्वीकृति प्राप्त कर लेता है तो है तो हो सकता है कि वह परिणाम को खो दे अथवा उसमें कोई विकृति पैदा कर दे अथवा वह परिणाम के साथ छेड़-छाड़ भी कर सकता है। वास्तव में एक विश्वसनीय परीक्षा सहायक को यह विशेष निर्देश दिए जाने चाहिए की वह अंतिम परीक्षा केन्द्र पर खड़े होकर सीधे परीक्षार्थियों से स्कोर कार्ड प्राप्त करे या समूह के नेता से। यदि स्कोर कार्डों को अलग से संग्रह किया जाता है तो प्रत्येक परीक्षा केंद्र प्रभारी द्वारा एक ही कार्ड का संग्रह किया जाना चाहिए या किसी विश्वसनीय परीक्षा सहायक अथवा शिक्षक प्रभारी द्वारा संग्रह किया जाना चाहिए।

एक ही स्थान पर सभी परिणाम शीट के इकट्ठे हो जाने के बाद इनको टिकाई में दर्ज करके सुरक्षित करना चाहिए। प्रशासनिक रूप से परीक्षण रिकार्ड या तो परीक्षण के प्रभारी शिक्षक द्वारा या किसी केंद्रीय एजेंसी द्वारा बनाये रखा जा सकता है, जहाँ एक ही समय में विभिन्न परीक्षण करने वाले सभी शिक्षक प्रभारी को पशासनिक निर्णयों के अनुसार बाद के उपयोग के लिए सभी परीक्षा रिकार्ड जमा करने की आवश्यकता हो सकती है।

यदि परीक्षा परिणामों को अगले दिन करने की छूट दे दी जाए तो क्या होने की सम्भावना हो सकती है ?

- (1) परिणाम से छेड़-छाड़ करना
- (2) परिणाम को वैसे रहने दिया जाए।
- (3) छात्रों को उन्हें समझने में कठिनाई होगी।
- (4) छात्रों को उन्हें रखने में कोई दिलचस्वी नहीं होगी।

Options :

212807116293. 1

212807116294. 2

212807116295. 3

212807116296. 4

Question Number : 520 Question Id : 21280729075 Question Type : MCQ Option Shuffling : No Is Question Mandatory : No Calculator : None Response Time : N.A Think Time : N.A Minimum Instruction Time : 0

Correct Marks : 5 Wrong Marks : 1

Question Key Details :

Key	Value
Comprehension	Comp2

Read the passage carefully and answer the question strictly as per the content.

All documents pertaining to test scores and their subsequent processing are collectively known as test records. In other words, all such documents which contain test scores in direct or alternate forms constitute the test records. These are the most important documents to be stored for quite some time with the concerned authorities so that the same could be used for the verification of any doubtful apprehensions of students, teachers, parents or the administrators (management) which may arise especially regarding the unexpected findings of the test results. In order to maintain and use proper test records, it is inevitable that all the original score cards or score sheet are collected and preserved. At the same time, it is equally important that all the subjects are provided with their individual results of each test item (probably except I.Q.) as promptly as possible. This should be done either asking the subjects to copy the results of their interest or by getting a duplicate copy made by clerical assistance or duplicating machines, but the originals must be maintained by the test incharges.

The collection of original score cards/score sheets must be made immediately after the completion of the last test item. Under no circumstances, requests of subjects should be entertained asking for the submission of score cards the next day or after few hours after copying. If such requests are entertained, these may often result in losing, mutilation or tampering of the scores. In fact, special instructions be given to a reliable test assistant to stand at the last test station to collect the store cards either from each subject directly or through squadleaders. In case the score cards are collected separately by each test station incharge, the duty of collection of the same at one place must be assigned either for the submission of test score to the overall test incharge directly by the station incharges or for getting the same collected by a reliable test assistant or teacher incharge of the test. After the test score cards or sheets are collected at one place, these are to be recorded and preserved safely. Administratively, the test records may be maintained either by the teacher incharge of test or by some central agency where all the teacher incharges of conducting different tests at the same time (or at different times) may be required to submit all test records for subsequent use as per the administrative decisions.

Documents which contain direct or indirect test scores are called _____.

- (1) Lists of tests
- (2) Test records
- (3) Test schedules
- (4) Test guidelines

Options :

- 212807116297. 1
- 212807116298. 2
- 212807116299. 3
- 212807116300. 4

Question Number : 520 Question Id : 21280729075 Question Type : MCQ Option Shuffling : No Is Question Mandatory : No Calculator : None Response Time : N.A Think Time : N.A Minimum Instruction Time : 0

Correct Marks : 5 Wrong Marks : 1

Question Key Details :

Key	Value
Comprehension	Comp2

नीचे दिये गये गद्यांश को ध्यानपूर्वक पढ़ें तथा प्रश्न हल करें :

परीक्षण स्कोर और उनके अनुवर्ती प्रसंकरण से संबंधित सभी दस्तावेज सामूहिक रूप से परीक्षण रिकार्ड के रूप में जाने जाते हैं। दूसरे शब्दों में ऐसे सभी दस्तावेज जिनमें प्रत्यक्ष या अप्रत्यक्ष रूप में परीक्षण के अंक शामिल हैं, परीक्षण रिकार्ड का गठन करते हैं। परीक्षा परिणाम से संबंधित अधिकारियों के पास कुछ समय के लिए संगृहीत किए जाने वाले में सबसे महत्वपूर्ण दस्तावेज हैं ताकि छात्रों शिक्षकों अभिभावकों या प्रशासकों को किसी भी संदिग्ध आशाकाओं के सत्यापन के लिए इसका उपयोग किया जा सके, जो विशेष रूप से अप्रत्याशित खोज के संबंध में उत्पन्न हो सकती है। उचित रिकार्ड को बनाए रखने और उपयोग करने के लिए, यह अनिवार्य है कि सभी मूल स्कोर कार्ड या स्कोर शीट को एकत्र और संक्षिप्त किया जाए साथ ही, यह भी समान रूप से महत्वपूर्ण है कि सभी परीक्षार्थियों को प्रत्येक परीक्षा आइटम के उनके व्यक्तिगत परिणाम यथाशीघ्र प्रदान किए जाए। (सम्भावित आई.क्यू. को छोड़कर) यह तो परीक्षार्थियों को उनकी रुचि के परिणामों को नोट करने के लिए कहा जा सकता है या डुप्लिकेटिंग मशीनों द्वारा बनाई गई डुप्लिकेट कॉपी प्राप्त कर सकता है, लेकिन मूल प्रति परीक्षा प्रभारी द्वारा रखी जानी चाहिए।

परीक्षा के अन्तिम मद में समाप्त होने के तुरन्त बाद ही मूल स्कोर कार्ड अथवा स्कोर शीट को इकट्ठा करके सुरक्षित किया जाना चाहिए। किसी भी स्थिति में परीक्षार्थी की कापी को जमा करने के लिए अगले दिन अथवा कुछ घण्टे के बाद जमा करने पर सहमति नहीं बननी चाहिए। यदि कोई किसी स्थिति में अगले दिन अथवा कुछ घण्टे बाद जमा करने की स्वीकृति प्राप्त कर लेता है तो है तो हो सकता है कि वह परिणाम को खो दे अथवा उसमें कोई विकृति पैदा कर दे अथवा वह परिणाम के साथ छेड़-छाड़ भी कर सकता है। वास्तव में एक विश्वसनीय परीक्षा सहायक को यह विशेष निर्देश दिए जाने चाहिए की वह अंतिम परीक्षा केन्द्र पर खड़े होकर सीधे परीक्षार्थियों से स्कोर कार्ड प्राप्त करे या समूह के नेता से। यदि स्कोर कार्डों को अलग से संग्रह किया जाता है तो प्रत्येक परीक्षा केंद्र प्रभारी द्वारा एक ही कार्ड का संग्रह किया जाना चाहिए या किसी विश्वसनीय परीक्षा सहायक अथवा शिक्षक प्रभारी द्वारा संग्रह किया जाना चाहिए।

एक ही स्थान पर सभी परिणाम शीट के इकट्ठे हो जाने के बाद इनको टिकाई में दर्ज करके सुरक्षित करना चाहिए। प्रशासनिक रूप से परीक्षण रिकार्ड या तो परीक्षण के प्रभारी शिक्षक द्वारा या किसी केंद्रीय एजेंसी द्वारा बनाये रखा जा सकता है, जहाँ एक ही समय में विभिन्न परीक्षण करने वाले सभी शिक्षक प्रभारी को पशासनिक निर्णयों के अनुसार बाद के उपयोग के लिए सभी परीक्षा रिकार्ड जमा करने की आवश्यकता हो सकती है।

दस्तावेज जिनमें प्रत्यक्ष और अप्रत्यक्ष परीक्षा के स्कोर होते हैं _____

- (1) परीक्षा सूची
- (2) परीक्षण रिकार्ड
- (3) परीक्षा सारणी
- (4) परीक्षा निर्देश

Options :

212807116297. 1
212807116298. 2
212807116299. 3
212807116300. 4

Political Science

Group Number :	10
Group Id :	212807631
Group Maximum Duration :	45
Group Minimum Duration :	45
Show Attended Group? :	No
Edit Attended Group? :	No

Break time : 0
Group Marks : 200
Is this Group for Examiner? : No
Examiner permission : Cant View
Show Progress Bar? : No

Political Science

Section Id : 212807739
Section Number : 1
Section type : Online
Mandatory or Optional : Mandatory
Number of Questions : 50
Number of Questions to be attempted : 40
Section Marks : 200
Enable Mark as Answered Mark for Review and Clear Response : Yes
Maximum Instruction Time : 0
Sub-Section Number : 1
Sub-Section Id : 2128072114
Question Shuffling Allowed : Yes
Is Section Default? : null

Question Number : 521 Question Id : 21280729076 Question Type : MCQ Option Shuffling : No Is Question Mandatory : No Calculator : None
Response Time : N.A Think Time : N.A Minimum Instruction Time : 0

Correct Marks : 5 Wrong Marks : 1

Question Key Details :

Key	Value
Comprehension	MCQ

Who was the founder of the Bhartiya Jana Sangh ?

- (1) Rafi Ahmed Kidwai
- (2) Deen Dayal Upadhyaya
- (3) Minoo Masani
- (4) Shyama Prasad Mukharjee

Options :

212807116301. 1
212807116302. 2
212807116303. 3
212807116304. 4

Question Number : 521 Question Id : 21280729076 Question Type : MCQ Option Shuffling : No Is Question Mandatory : No Calculator : None
Response Time : N.A Think Time : N.A Minimum Instruction Time : 0

Correct Marks : 5 Wrong Marks : 1

Question Key Details :

Key	Value
Comprehension	MCQ

निम्नलिखित में से कौन भारतीय जनसंघ के संस्थापक थे ?

- (1) रफी अहमद किदवई
- (2) दीन दयाल उपाध्याय
- (3) मीनू मसानी
- (4) श्यामा प्रसाद मुखर्जी

Options :

212807116301. 1
212807116302. 2
212807116303. 3
212807116304. 4

Question Number : 522 Question Id : 21280729077 Question Type : MCQ Option Shuffling : No Is Question Mandatory : No Calculator : None
Response Time : N.A Think Time : N.A Minimum Instruction Time : 0

Correct Marks : 5 Wrong Marks : 1

Question Key Details :

Key	Value
Comprehension	MCQ

Who was the first Indian to be the Governor General of India between year 1948-1950 ?

- (1) A. K. Gopalan
- (2) Srikant Nair
- (3) C. Rajagopalachari
- (4) N. C. Chatterjee

Options :

212807116305. 1

212807116306. 2

212807116307. 3

212807116308. 4

Question Number : 522 Question Id : 21280729077 Question Type : MCQ Option Shuffling : No Is Question Mandatory : No Calculator : None
Response Time : N.A Think Time : N.A Minimum Instruction Time : 0

Correct Marks : 5 Wrong Marks : 1

Question Key Details :

Key	Value
Comprehension	MCQ

निम्नलिखित में से कौन वर्ष 1948-1950 के बीच भारत के प्रथम गवर्नर जनरल थे ?

- (1) ए. के. गोपालन
- (2) श्री कांत नायर
- (3) सी. राजगोपालाचारी
- (4) एन. सी. चटर्जी

Options :

212807116305. 1

212807116306. 2

212807116307. 3

212807116308. 4

Question Number : 523 Question Id : 21280729078 Question Type : MCQ Option Shuffling : No Is Question Mandatory : No Calculator : None
Response Time : N.A Think Time : N.A Minimum Instruction Time : 0

Correct Marks : 5 Wrong Marks : 1

Question Key Details :

Key	Value
Comprehension	MCQ

"If linguistic provinces are formed, it will also give a fillip to the regional languages. It would be absurd to make Hindustani the medium of instruction in all the regions and it is still more absurd to use English for this purpose".

Who said the above lines (words) ?

- (1) Mahatma Gandhi
- (2) Vallabh Bhai Patel
- (3) Jawaharlal Nehru
- (4) Khan Abdul Gaffar Khan

Options :

212807116309. 1

212807116310. 2

212807116311. 3

212807116312. 4

Question Number : 523 Question Id : 21280729078 Question Type : MCQ Option Shuffling : No Is Question Mandatory : No Calculator : None Response Time : N.A Think Time : N.A Minimum Instruction Time : 0

Correct Marks : 5 Wrong Marks : 1

Question Key Details :

Key	Value
Comprehension	MCQ

यदि भाषायी आधार पर प्रांतों का निर्माण किया जाता है तो इससे क्षेत्रीय भाषाओं को भी बढ़ावा मिलेगा। सभी क्षेत्रों में हिन्दुस्तानी को अनुदेश का माध्यम बनाना बेतुकापन होगा तथा इस प्रयोजन के लिए अंग्रेजी का उपयोग और अधिक बेतुकापन है।

किसने उपर्युक्त पंक्तियां (शब्द) कही थीं ?

- (1) महात्मा गांधी
- (2) बल्लभ भाई पटेल
- (3) जवाहर लाल नेहरू
- (4) सी. राजगोपालाचारी

Options :

212807116309. 1

212807116310. 2

212807116311. 3

212807116312. 4

Question Number : 524 Question Id : 21280729079 Question Type : MCQ Option Shuffling : No Is Question Mandatory : No Calculator : None Response Time : N.A Think Time : N.A Minimum Instruction Time : 0

Correct Marks : 5 Wrong Marks : 1

Question Key Details :

Key	Value
Comprehension	MCQ

In 1947, the rulers of most of the states signed a document, which meant that their state agreed to become a part of the union of India. Identify from the following.

- (1) Akhand Bharat
- (2) Instrument of Accession
- (3) Instrument of Authority
- (4) Instrument of All together

Options :

212807116313. 1

212807116314. 2

212807116315. 3

212807116316. 4

Question Number : 524 Question Id : 21280729079 Question Type : MCQ Option Shuffling : No Is Question Mandatory : No Calculator : None Response Time : N.A Think Time : N.A Minimum Instruction Time : 0

Correct Marks : 5 Wrong Marks : 1

Question Key Details :

Key	Value
Comprehension	MCQ

अधिकांश देशी रियासतों के शासकों ने 1947 में एक दस्तावेज पर हस्ताक्षर किए थे, जिसमें कहा गया कि उनका राज्य भारत संघ का एक अंग बनने पर सहमत हुआ है। निम्नलिखित में इस दस्तावेज की पहचान कीजिए?

- (1) अखंड भारत
- (2) अधिमिलन - प्रपत्र (इन्स्ट्रुमेंट ऑफ एक्सेशन)
- (3) प्राधिकार - प्रपत्र
- (4) सभी के साथ होने का प्रपत्र (इन्स्ट्रुमेंट ऑफ आम्फ ऑल टुगेदर)

Options :

212807116313. 1
212807116314. 2
212807116315. 3
212807116316. 4

Question Number : 525 Question Id : 21280729080 Question Type : MCQ Option Shuffling : No Is Question Mandatory : No Calculator : None Response Time : N.A Think Time : N.A Minimum Instruction Time : 0

Correct Marks : 5 Wrong Marks : 1

Question Key Details :

Key	Value
Comprehension	MCQ

Name the author of book "Economy of permanence".

- (1) J. C. Kumarappa
- (2) P. C. Mahalanobis
- (3) K. P. S. Menon
- (4) Jawahar Lal Nehru

Options :

212807116317. 1
212807116318. 2
212807116319. 3
212807116320. 4

Question Number : 525 Question Id : 21280729080 Question Type : MCQ Option Shuffling : No Is Question Mandatory : No Calculator : None Response Time : N.A Think Time : N.A Minimum Instruction Time : 0

Correct Marks : 5 Wrong Marks : 1

Question Key Details :

Key	Value
Comprehension	MCQ

"इकोनॉमी ऑफ परमानेंस" पुस्तक के लेखक का नाम बताइए?"

- (1) जे. सी. कुमारप्पा
- (2) पी. सी. महालनोबिस
- (3) के. पी. एस. मेनन
- (4) जवाहर लाल नेहरू

Options :

212807116317. 1
212807116318. 2
212807116319. 3
212807116320. 4

Question Number : 526 Question Id : 21280729081 Question Type : MCQ Option Shuffling : No Is Question Mandatory : No Calculator : None Response Time : N.A Think Time : N.A Minimum Instruction Time : 0

Correct Marks : 5 Wrong Marks : 1

Question Key Details :

Key	Value
-----	-------

National institution for transforming India came into existence on _____.

- (1) 1 December 2015
- (2) 15 August 2015
- (3) 1 January 2015
- (4) 15 October 2015

Options :

212807116321. 1
212807116322. 2
212807116323. 3
212807116324. 4

Question Number : 526 Question Id : 21280729081 Question Type : MCQ Option Shuffling : No Is Question Mandatory : No Calculator : None Response Time : N.A Think Time : N.A Minimum Instruction Time : 0

Correct Marks : 5 Wrong Marks : 1

Question Key Details :

Key	Value
Comprehension	MCQ

नेशनल इंस्टीट्यूट फॉर ट्रांसफॉर्मिंग इंडिया (नीति आयोग) कब अस्तित्व में आया ?

- (1) एक दिसंबर, 2015
- (2) 15 अगस्त, 2015
- (3) एक जनवरी, 2015
- (4) 15 अक्टूबर 2015

Options :

212807116321. 1
212807116322. 2
212807116323. 3
212807116324. 4

Question Number : 527 Question Id : 21280729082 Question Type : MCQ Option Shuffling : No Is Question Mandatory : No Calculator : None Response Time : N.A Think Time : N.A Minimum Instruction Time : 0

Correct Marks : 5 Wrong Marks : 1

Question Key Details :

Key	Value
Comprehension	MCQ

Who created the Indian National Army during the second world war ?

- (1) Khudi Ram Bose
- (2) Lala Lajpat Rai
- (3) Subhash Chandra Bose
- (4) Maulana Azad

Options :

212807116325. 1
212807116326. 2
212807116327. 3
212807116328. 4

Question Number : 527 Question Id : 21280729082 Question Type : MCQ Option Shuffling : No Is Question Mandatory : No Calculator : None Response Time : N.A Think Time : N.A Minimum Instruction Time : 0

Correct Marks : 5 Wrong Marks : 1

Question Key Details :

Key	Value
Comprehension	MCQ

निम्नलिखित में से किसने द्वितीय विश्व युद्ध के दौरान इंडियन नेशनल आर्मी (आई. एन. ए.) का निर्माण किया था ?

- (1) खुदी राम बोस
- (2) लाला लाजपत राय
- (3) सुभाष चन्द्र बोस
- (4) मौलाना आज़ाद

Options :

212807116325. 1
212807116326. 2
212807116327. 3
212807116328. 4

Question Number : 528 Question Id : 21280729083 Question Type : MCQ Option Shuffling : No Is Question Mandatory : No Calculator : None Response Time : N.A Think Time : N.A Minimum Instruction Time : 0

Correct Marks : 5 Wrong Marks : 1

Question Key Details :

Key	Value
Comprehension	MCQ

Name the person, who was the first Indian High Commissioner in U.K. and later head of India's delegation to UN. He was active in the labour party in UK between 1934-1947.

- (1) K. P. S. Menon
- (2) V. K. Krishna Menon
- (3) Jawahar Lal Nehru
- (4) Krishan Mohan Pant

Options :

212807116329. 1
212807116330. 2
212807116331. 3
212807116332. 4

Question Number : 528 Question Id : 21280729083 Question Type : MCQ Option Shuffling : No Is Question Mandatory : No Calculator : None Response Time : N.A Think Time : N.A Minimum Instruction Time : 0

Correct Marks : 5 Wrong Marks : 1

Question Key Details :

Key	Value
Comprehension	MCQ

उस व्यक्ति का नाम बताइए, जो यू. के. में भारत का प्रथम उच्चायुक्त था और बाद में यू.एन. में भारतीय प्रतिनिधि मंडल का प्रमुख था; 1934-1947 के बीच यू. के. में लेबर पार्टी में भी सक्रिय था ?

- (1) के. पी. एस. मेनन
- (2) वी. के. कृष्णा मेनन
- (3) जवाहर लाल नेहरू
- (4) कृष्ण मोहन पंत

Options :

212807116329. 1
212807116330. 2
212807116331. 3
212807116332. 4

Question Number : 529 Question Id : 21280729084 Question Type : MCQ Option Shuffling : No Is Question Mandatory : No Calculator : None Response Time : N.A Think Time : N.A Minimum Instruction Time : 0

Correct Marks : 5 Wrong Marks : 1

Question Key Details :

Key	Value
Comprehension	MCQ

In Madras State (now Tamil Nadu) which of the followings regional party came to power by securing a clear majority in 1967 state assembly elections ?

- (1) DMK
- (2) Communist Party of India (M-L)
- (3) BJP
- (4) Socialist Party

Options :

212807116333. 1
212807116334. 2
212807116335. 3
212807116336. 4

Question Number : 529 Question Id : 21280729084 Question Type : MCQ Option Shuffling : No Is Question Mandatory : No Calculator : None Response Time : N.A Think Time : N.A Minimum Instruction Time : 0

Correct Marks : 5 Wrong Marks : 1

Question Key Details :

Key	Value
Comprehension	MCQ

मद्रास राज्य (अब तमिलनाडु) में निम्नलिखित में से कौन-सी क्षेत्रीय पार्टी 1967 में राज्य विधान सभा चुनाव में स्पष्ट बहुमत प्राप्त कर सत्ता में आई थी ?

- (1) डी. एम. के.
- (2) कम्युनिस्ट पार्टी ऑफ इंडिया (एम. एल.)
- (3) बी. जे. पी.
- (4) समाजवादी पार्टी

Options :

212807116333. 1
212807116334. 2
212807116335. 3
212807116336. 4

Question Number : 530 Question Id : 21280729085 Question Type : MCQ Option Shuffling : No Is Question Mandatory : No Calculator : None Response Time : N.A Think Time : N.A Minimum Instruction Time : 0

Correct Marks : 5 Wrong Marks : 1

Question Key Details :

Key	Value
Comprehension	MCQ

Who among the following was the symbol of opposition to emergency, a gandhian, Leader of Bihar movement and a moving force behind the formation of Janata Party.

- (1) Charu Majumdar
- (2) Morarji Desai
- (3) George Fernandes
- (4) Jayaprakash Narayan

Options :

212807116337. 1
212807116338. 2
212807116339. 3
212807116340. 4

Question Number : 530 Question Id : 21280729085 Question Type : MCQ Option Shuffling : No Is Question Mandatory : No Calculator : None Response Time : N.A Think Time : N.A Minimum Instruction Time : 0

Correct Marks : 5 Wrong Marks : 1

Question Key Details :

Key	Value
Comprehension	MCQ

निम्नलिखित में से कौन आपातकाल के विरुद्ध एक प्रतीक थे, जो एक गांधीवादी, बिहार आंदोलन के नेता और जनता पार्टी के निर्माण के पीछे एक प्रेरक शक्ति थे ?

- (1) चारू मजूमदार
- (2) मोरारजी देसाई
- (3) जॉर्ज फर्नान्डिस
- (4) जय प्रकाश नारायण

Options :

212807116337. 1
212807116338. 2
212807116339. 3
212807116340. 4

Question Number : 531 Question Id : 21280729086 Question Type : MCQ Option Shuffling : No Is Question Mandatory : No Calculator : None
Response Time : N.A Think Time : N.A Minimum Instruction Time : 0

Correct Marks : 5 Wrong Marks : 1

Question Key Details :

Key	Value
Comprehension	MCQ

Which prominent leader of Congress (O) announced that he would go an indefinite fast if assembly elections were not held in Gujrat in 1975 ?

- (1) Jaya Prakash Narayan
- (2) Atal Behari Vajpayee
- (3) Morarji Desai
- (4) Raj Narain

Options :

212807116341. 1
212807116342. 2
212807116343. 3
212807116344. 4

Question Number : 531 Question Id : 21280729086 Question Type : MCQ Option Shuffling : No Is Question Mandatory : No Calculator : None
Response Time : N.A Think Time : N.A Minimum Instruction Time : 0

Correct Marks : 5 Wrong Marks : 1

Question Key Details :

Key	Value
Comprehension	MCQ

कांग्रेस (ओ) के किस प्रमुख नेता ने घोषणा की थी कि यदि गुजरात में 1975 में राज्य विधान सभा के चुनाव नहीं करवाए गए तो वह अनिश्चितकालीन उपवास करेंगे ?

- (1) जय प्रकाश नारायण
- (2) अटल बिहारी वाजपेयी
- (3) मोरारजी देसाई
- (4) राज नारायण

Options :

212807116341. 1
212807116342. 2
212807116343. 3
212807116344. 4

Question Number : 532 Question Id : 21280729087 Question Type : MCQ Option Shuffling : No Is Question Mandatory : No Calculator : None
Response Time : N.A Think Time : N.A Minimum Instruction Time : 0

Correct Marks : 5 Wrong Marks : 1

Question Key Details :

Key	Value
Comprehension	MCQ

'Maila Anchal' is set in Purnia district in North East Bihar in the early year after independence. Who is the author of novel "Maila Anchal" ?

- (1) Fanishwarnath Renu
- (2) Amrita Pritam
- (3) Ram Dev Dhasal
- (4) Faiz Ahmed Faiz

Options :

212807116345. 1
212807116346. 2
212807116347. 3
212807116348. 4

Question Number : 532 Question Id : 21280729087 Question Type : MCQ Option Shuffling : No Is Question Mandatory : No Calculator : None
Response Time : N.A Think Time : N.A Minimum Instruction Time : 0

Correct Marks : 5 Wrong Marks : 1

Question Key Details :

Key	Value
Comprehension	MCQ

'मैला आंचल' उपन्यास का परिवेश स्वतंत्रता के बाद के आरम्भिक वर्षों में उत्तर पूर्वी बिहार के पूर्णिया जिले का है। निम्नलिखित में कौन "मैला आंचल" के लेखक हैं ?

- (1) फणीश्वर नाथ रेणु
- (2) अमृता प्रीतम
- (3) राम देव ढसाल
- (4) फैज़ अहमद फैज़

Options :

212807116345. 1
212807116346. 2
212807116347. 3
212807116348. 4

Question Number : 533 Question Id : 21280729088 Question Type : MCQ Option Shuffling : No Is Question Mandatory : No Calculator : None
Response Time : N.A Think Time : N.A Minimum Instruction Time : 0

Correct Marks : 5 Wrong Marks : 1

Question Key Details :

Key	Value
Comprehension	MCQ

In which year was the state of Nagaland created ?

- (1) 1963
- (2) 1972
- (3) 1987
- (4) 1989

Options :

212807116349. 1
212807116350. 2
212807116351. 3

212807116352. 4

Question Number : 533 Question Id : 21280729088 Question Type : MCQ Option Shuffling : No Is Question Mandatory : No Calculator : None
Response Time : N.A Think Time : N.A Minimum Instruction Time : 0
Correct Marks : 5 Wrong Marks : 1

Question Key Details :

Key	Value
Comprehension	MCQ

निम्नलिखित में से किस वर्ष में नागालैंड का गठन किया गया था ?

- (1) 1963
- (2) 1972
- (3) 1987
- (4) 1989

Options :

212807116349. 1
212807116350. 2
212807116351. 3
212807116352. 4

Question Number : 534 Question Id : 21280729089 Question Type : MCQ Option Shuffling : No Is Question Mandatory : No Calculator : None
Response Time : N.A Think Time : N.A Minimum Instruction Time : 0
Correct Marks : 5 Wrong Marks : 1

Question Key Details :

Key	Value
Comprehension	MCQ

What was the Status of Sikkim at the time of Independence of India ?

- (1) Colony
- (2) Sovereign State
- (3) Protectorate
- (4) a part of India

Options :

212807116353. 1
212807116354. 2
212807116355. 3
212807116356. 4

Question Number : 534 Question Id : 21280729089 Question Type : MCQ Option Shuffling : No Is Question Mandatory : No Calculator : None
Response Time : N.A Think Time : N.A Minimum Instruction Time : 0
Correct Marks : 5 Wrong Marks : 1

Question Key Details :

Key	Value
Comprehension	MCQ

भारत की स्वतंत्रता के समय सिक्किम की क्या परिस्थिति थी ?

- (1) उपनिवेश (कॉलोनी)
- (2) सम्प्रभु राज्य
- (3) संरक्षित राज्य / क्षेत्र
- (4) भारत का एक अंग

Options :

212807116353. 1
212807116354. 2
212807116355. 3
212807116356. 4

Question Number : 535 Question Id : 21280729090 Question Type : MCQ Option Shuffling : No Is Question Mandatory : No Calculator : None
Response Time : N.A Think Time : N.A Minimum Instruction Time : 0

Correct Marks : 5 Wrong Marks : 1

Question Key Details :

Key	Value
Comprehension	MCQ

Write the full form of "MKSS".

- (1) Mahila Kama's Shiv Shakti
- (2) Mazdoor Kisan Shakti Sangathan
- (3) Movement of Kisan Shiv Shakti
- (4) Majboor Kisan Sidha Sadha

Options :

212807116357. 1

212807116358. 2

212807116359. 3

212807116360. 4

Question Number : 535 Question Id : 21280729090 Question Type : MCQ Option Shuffling : No Is Question Mandatory : No Calculator : None
Response Time : N.A Think Time : N.A Minimum Instruction Time : 0

Correct Marks : 5 Wrong Marks : 1

Question Key Details :

Key	Value
Comprehension	MCQ

"एम. के. एस. एस. (MKSS)" का पूरा नाम लिखिए ?

- (1) महिला कामा 'ज शिव शक्ति
- (2) मज़दूर किसान शक्ति संगठन
- (3) मूवमेंट्स ऑफ किसान शिव शक्ति
- (4) मज़बूर किसान सिद्ध साधा

Options :

212807116357. 1

212807116358. 2

212807116359. 3

212807116360. 4

Question Number : 536 Question Id : 21280729091 Question Type : MCQ Option Shuffling : No Is Question Mandatory : No Calculator : None
Response Time : N.A Think Time : N.A Minimum Instruction Time : 0

Correct Marks : 5 Wrong Marks : 1

Question Key Details :

Key	Value
Comprehension	MCQ

Match List - I with List - II.

List - I

- (A) Bhim Tehsil, Rajsthan
(B) Shetkari Sanghathana
(C) Anti Arrack movement
(D) Chipko Movement

List - II

- (I) Uttrakhand
(II) Nellore, Andhra Pradesh
(III) Right to information
(IV) Farmer's association, Maharashtra

Choose the correct answer from the options given below :

- (1) (A)-(II), (B)-(III), (C)-(IV), (D)-(I)
(2) (A)-(III), (B)-(IV), (C)-(I), (D)-(II)
(3) (A)-(III), (B)-(IV), (C)-(II), (D)-(I)
(4) (A)-(II), (B)-(I), (C)-(III), (D)-(IV)

Options :

212807116361. 1
212807116362. 2
212807116363. 3
212807116364. 4

Question Number : 536 Question Id : 21280729091 Question Type : MCQ Option Shuffling : No Is Question Mandatory : No Calculator : None
Response Time : N.A Think Time : N.A Minimum Instruction Time : 0

Correct Marks : 5 Wrong Marks : 1

Question Key Details :

Key	Value
Comprehension	MCQ

सूची-I के साथ सूची-II का मिलान कीजिए :

सूची-I

- (A) भीम तहसील, राजस्थान
(B) शेतकारी संगठन
(C) ताड़ी-विरोधी आंदोलन
(D) चिपको आंदोलन

सूची-II

- (I) उत्तराखंड
(II) नेल्लोर, आंध्र प्रदेश
(III) सूचना का अधिकार
(IV) किसान संघ (फार्मर्स एसोसिएशन) महाराष्ट्र

नीचे दिए गए विकल्पों में से सही उत्तर का चयन कीजिए :

- (1) (A)-(II), (B)-(III), (C)-(IV), (D)-(I)
(2) (A)-(III), (B)-(IV), (C)-(I), (D)-(II)
(3) (A)-(III), (B)-(IV), (C)-(II), (D)-(I)
(4) (A)-(II), (B)-(I), (C)-(III), (D)-(IV)

Options :

212807116361. 1
212807116362. 2
212807116363. 3
212807116364. 4

Question Number : 537 Question Id : 21280729092 Question Type : MCQ Option Shuffling : No Is Question Mandatory : No Calculator : None
Response Time : N.A Think Time : N.A Minimum Instruction Time : 0

Correct Marks : 5 Wrong Marks : 1

Question Key Details :

Key	Value
Comprehension	MCQ

When did the independence movement begin in Lithuania ?

- (1) 1986
- (2) 1987
- (3) 1988
- (4) 1989

Options :

- 212807116365. 1
- 212807116366. 2
- 212807116367. 3
- 212807116368. 4

Question Number : 537 Question Id : 21280729092 Question Type : MCQ Option Shuffling : No Is Question Mandatory : No Calculator : None Response Time : N.A Think Time : N.A Minimum Instruction Time : 0

Correct Marks : 5 Wrong Marks : 1

Question Key Details :

Key	Value
Comprehension	MCQ

लित्थुआनिया में स्वतंत्रता आंदोलन कब आरम्भ हुआ था ?

- (1) 1986
- (2) 1987
- (3) 1988
- (4) 1989

Options :

- 212807116365. 1
- 212807116366. 2
- 212807116367. 3
- 212807116368. 4

Question Number : 538 Question Id : 21280729093 Question Type : MCQ Option Shuffling : No Is Question Mandatory : No Calculator : None Response Time : N.A Think Time : N.A Minimum Instruction Time : 0

Correct Marks : 5 Wrong Marks : 1

Question Key Details :

Key	Value
Comprehension	MCQ

In India the department of defence production was established in _____.

- (1) August 1947
- (2) August 1965
- (3) November 1962
- (4) November 1965

Options :

- 212807116369. 1
- 212807116370. 2
- 212807116371. 3
- 212807116372. 4

Question Number : 538 Question Id : 21280729093 Question Type : MCQ Option Shuffling : No Is Question Mandatory : No Calculator : None Response Time : N.A Think Time : N.A Minimum Instruction Time : 0

Correct Marks : 5 Wrong Marks : 1

Question Key Details :

Key	Value
Comprehension	MCQ

भारत में किस वर्ष में रक्षा उत्पादन विभाग स्थापित किया गया था ?

- (1) अगस्त 1947
- (2) अगस्त 1965
- (3) नवम्बर 1962
- (4) नवम्बर 1965

Options :

212807116369. 1
212807116370. 2
212807116371. 3
212807116372. 4

Question Number : 539 Question Id : 21280729094 Question Type : MCQ Option Shuffling : No Is Question Mandatory : No Calculator : None
Response Time : N.A Think Time : N.A Minimum Instruction Time : 0

Correct Marks : 5 Wrong Marks : 1

Question Key Details :

Key	Value
Comprehension	MCQ

India wanted to generate atomic energy for peaceful purposes. Under the guidance of which scientist the nuclear programme in India was initiated ?

- (1) Marie curie
- (2) Thomas Edison
- (3) Homi Jahangir Bhabha
- (4) Jagdish Basu

Options :

212807116373. 1
212807116374. 2
212807116375. 3
212807116376. 4

Question Number : 539 Question Id : 21280729094 Question Type : MCQ Option Shuffling : No Is Question Mandatory : No Calculator : None
Response Time : N.A Think Time : N.A Minimum Instruction Time : 0

Correct Marks : 5 Wrong Marks : 1

Question Key Details :

Key	Value
Comprehension	MCQ

भारत शांतिपूर्ण प्रयोजनों के लिए परमाणु ऊर्जा का उत्पादन करना चाहता था। निम्नलिखित में से किस वैज्ञानिक के मार्गदर्शन में भारत में परमाणु कार्यक्रम आरम्भ किया गया ?

- (1) मैरी क्यूरी
- (2) थॉमस एडिसन
- (3) होमी जहांगीर भाभा
- (4) जगदीश बासु

Options :

212807116373. 1
212807116374. 2
212807116375. 3
212807116376. 4

Question Number : 540 Question Id : 21280729095 Question Type : MCQ Option Shuffling : No Is Question Mandatory : No Calculator : None
Response Time : N.A Think Time : N.A Minimum Instruction Time : 0

Correct Marks : 5 Wrong Marks : 1

Question Key Details :

Key	Value
Comprehension	MCQ

Match List - I with List - II.

List - I	List - II
(A) Total Revolution	(I) Indira Gandhi
(B) Garibi Hatao	(II) Jai Prakash Narayan
(C) Students Protest	(III) Bihar Movement
(D) Railway Strike	(IV) George Fernandes

Choose the correct answer from the options given below :

- (1) (A)-(I), (B)-(II), (C)-(III), (D)-(IV)
- (2) (A)-(II), (B)-(III), (C)-(I), (D)-(IV)
- (3) (A)-(II), (B)-(I), (C)-(III), (D)-(IV)
- (4) (A)-(III), (B)-(IV), (C)-(II), (D)-(I)

Options :

212807116377. 1
212807116378. 2
212807116379. 3
212807116380. 4

Question Number : 540 Question Id : 21280729095 Question Type : MCQ Option Shuffling : No Is Question Mandatory : No Calculator : None Response Time : N.A Think Time : N.A Minimum Instruction Time : 0

Correct Marks : 5 Wrong Marks : 1

Question Key Details :

Key	Value
Comprehension	MCQ

सूची-I के साथ सूची-II का मिलान कीजिए :

सूची-I	सूची-II
(A) सम्पूर्ण क्रांति	(I) इंदिरा गांधी
(B) गरीबी हटाओ	(II) जय प्रकाश नारायण
(C) छात्रों द्वारा विरोध प्रदर्शन	(III) बिहार आंदोलन
(D) रेलवे हड़ताल	(IV) जॉर्ज फर्नान्डिस

नीचे दिए गए विकल्पों में से सही उत्तर का चयन कीजिए :

- (1) (A)-(I), (B)-(II), (C)-(III), (D)-(IV)
- (2) (A)-(II), (B)-(III), (C)-(II), (D)-(IV)
- (3) (A)-(II), (B)-(I), (C)-(III), (D)-(IV)
- (4) (A)-(III), (B)-(IV), (C)-(II), (D)-(I)

Options :

212807116377. 1
212807116378. 2
212807116379. 3
212807116380. 4

Question Number : 541 Question Id : 21280729096 Question Type : MCQ Option Shuffling : No Is Question Mandatory : No Calculator : None Response Time : N.A Think Time : N.A Minimum Instruction Time : 0

Correct Marks : 5 Wrong Marks : 1

Question Key Details :

Key	Value
Comprehension	MCQ

Who formed DMK as political party in 1949 ?

- (1) K. Kamraj
- (2) C. Natrajan Annadurai
- (3) Nevile Maxwell
- (4) C. Rajagopalachari

Options :

212807116381. 1
212807116382. 2
212807116383. 3
212807116384. 4

Question Number : 541 Question Id : 21280729096 Question Type : MCQ Option Shuffling : No Is Question Mandatory : No Calculator : None
Response Time : N.A Think Time : N.A Minimum Instruction Time : 0

Correct Marks : 5 Wrong Marks : 1

Question Key Details :

Key	Value
Comprehension	MCQ

निम्नलिखित में से किसने 1949 में राजनीति पार्टी के रूप में डी. एम. के. की स्थापना की थी ?

- (1) के. कामराज
- (2) सी. नटराजन अन्नादुरै
- (3) नेविल मैक्सवेल
- (4) सी. राजगोपालाचारी

Options :

212807116381. 1
212807116382. 2
212807116383. 3
212807116384. 4

Question Number : 542 Question Id : 21280729097 Question Type : MCQ Option Shuffling : No Is Question Mandatory : No Calculator : None
Response Time : N.A Think Time : N.A Minimum Instruction Time : 0

Correct Marks : 5 Wrong Marks : 1

Question Key Details :

Key	Value
Comprehension	MCQ

Arrange the following Prime ministers of India in chronological order in which they first held the post.

- (A) Narsimha Rao
- (B) V.P. Singh
- (C) I.K. Gujral
- (D) H.D. Deve Gowda

Choose the correct answer from the options given below :

- (1) (B), (D), (A), (C)
- (2) (B), (A), (D), (C)
- (3) (A), (B), (C), (D)
- (4) (B), (C), (D), (A)

Options :

212807116385. 1
212807116386. 2
212807116387. 3
212807116388. 4

Question Number : 542 Question Id : 21280729097 Question Type : MCQ Option Shuffling : No Is Question Mandatory : No Calculator : None
Response Time : N.A Think Time : N.A Minimum Instruction Time : 0

Correct Marks : 5 Wrong Marks : 1

Question Key Details :

Key	Value
Comprehension	MCQ

भारत में निम्नलिखित प्रधान मंत्रियों को उस कालक्रमानुसार व्यवस्थित कीजिए, जिसमें इस पद पर आसीन रहे प्रथम से लेकर अंतिम तक का अनुक्रम हो।

- (A) नरसिम्हा राव
- (B) बी. पी. सिंह
- (C) आई. के. गुजराल
- (D) एच. डी. देवेगौडा

नीचे दिए गए विकल्पों में से सही उत्तर का चयन कीजिए :

- (1) (B), (D), (A), (C)
- (2) (B), (A), (D), (C)
- (3) (A), (B), (C), (D)
- (4) (B), (C), (D), (A)

Options :

- 212807116385. 1
- 212807116386. 2
- 212807116387. 3
- 212807116388. 4

Question Number : 543 Question Id : 21280729098 Question Type : MCQ Option Shuffling : No Is Question Mandatory : No Calculator : None
Response Time : N.A Think Time : N.A Minimum Instruction Time : 0

Correct Marks : 5 Wrong Marks : 1

Question Key Details :

Key	Value
Comprehension	MCQ

“With total revolution as our motto, the future belongs to us”.

Above slogan is associated with which movement ?

- (1) Chipko Movement 1973
- (2) Anti - Arrack movement 1992
- (3) Bihar movement 1974
- (4) Gujrat Movement 1974

Options :

- 212807116389. 1
- 212807116390. 2
- 212807116391. 3
- 212807116392. 4

Question Number : 543 Question Id : 21280729098 Question Type : MCQ Option Shuffling : No Is Question Mandatory : No Calculator : None
Response Time : N.A Think Time : N.A Minimum Instruction Time : 0

Correct Marks : 5 Wrong Marks : 1

Question Key Details :

Key	Value
Comprehension	MCQ

“हमारे नीति-वाक्य (मोटो) के रूप में सम्पूर्ण क्रांति के साथ हमारा भविष्य जुड़ा हुआ है।”

उपर्युक्त नारा (स्लोगन) किस आंदोलन से संबद्ध है ?

- (1) चिपको आंदोलन, 1973
- (2) ताड़ी - विरोधी आंदोलन 1992
- (3) बिहार आंदोलन, 1974
- (4) गुजरात आंदोलन, 1974

Options :

212807116389. 1
212807116390. 2
212807116391. 3
212807116392. 4

Question Number : 544 Question Id : 21280729099 Question Type : MCQ Option Shuffling : No Is Question Mandatory : No Calculator : None
Response Time : N.A Think Time : N.A Minimum Instruction Time : 0

Correct Marks : 5 Wrong Marks : 1

Question Key Details :

Key	Value
Comprehension	MCQ

In which year the Shah commission was appointed by the Janata party ?

- (1) 1974
- (2) 1975
- (3) 1976
- (4) 1977

Options :

212807116393. 1
212807116394. 2
212807116395. 3
212807116396. 4

Question Number : 544 Question Id : 21280729099 Question Type : MCQ Option Shuffling : No Is Question Mandatory : No Calculator : None
Response Time : N.A Think Time : N.A Minimum Instruction Time : 0

Correct Marks : 5 Wrong Marks : 1

Question Key Details :

Key	Value
Comprehension	MCQ

जनता पार्टी को सरकार ने किस वर्ष में शाह आयोग नियुक्त किया था ?

- (1) 1974
- (2) 1975
- (3) 1976
- (4) 1977

Options :

212807116393. 1
212807116394. 2
212807116395. 3
212807116396. 4

Question Number : 545 Question Id : 21280729100 Question Type : MCQ Option Shuffling : No Is Question Mandatory : No Calculator : None
Response Time : N.A Think Time : N.A Minimum Instruction Time : 0

Correct Marks : 5 Wrong Marks : 1

Question Key Details :

Key	Value
Comprehension	MCQ

What was the code name of the bomb dropped by US on Japanese city of Nagasaki ?

- (1) Little Boy
- (2) Little Man
- (3) Fat Man
- (4) Fat Boy

Options :

212807116397. 1
212807116398. 2
212807116399. 3
212807116400. 4

Question Number : 545 Question Id : 21280729100 Question Type : MCQ Option Shuffling : No Is Question Mandatory : No Calculator : None Response Time : N.A Think Time : N.A Minimum Instruction Time : 0

Correct Marks : 5 Wrong Marks : 1

Question Key Details :

Key	Value
Comprehension	MCQ

अमेरिका द्वारा जापान के नागासाकी शहर पर गिराए गए बम का कूट नाम क्या था ?

- (1) लिटल बॉय
- (2) लिटल मैन
- (3) फैट मैन
- (4) फैट बॉय

Options :

212807116397. 1
212807116398. 2
212807116399. 3
212807116400. 4

Question Number : 546 Question Id : 21280729101 Question Type : MCQ Option Shuffling : No Is Question Mandatory : No Calculator : None Response Time : N.A Think Time : N.A Minimum Instruction Time : 0

Correct Marks : 5 Wrong Marks : 1

Question Key Details :

Key	Value
Comprehension	MCQ

In which Year Gorbachev became the president of the USSR and begins the reforms process there ?

- (1) 1985
- (2) 1987
- (3) 1989
- (4) 1991

Options :

212807116401. 1
212807116402. 2
212807116403. 3
212807116404. 4

Question Number : 546 Question Id : 21280729101 Question Type : MCQ Option Shuffling : No Is Question Mandatory : No Calculator : None Response Time : N.A Think Time : N.A Minimum Instruction Time : 0

Correct Marks : 5 Wrong Marks : 1

Question Key Details :

Key	Value
Comprehension	MCQ

निम्नलिखित में से किस वर्ष में गोर्बाचेव यू. एस. एस. आर. के राष्ट्रपति बने और वहां सुधार प्रक्रिया आरंभ की ?

- (1) 1985
- (2) 1987
- (3) 1989
- (4) 1991

Options :

212807116401. 1
212807116402. 2
212807116403. 3
212807116404. 4

Question Number : 547 Question Id : 21280729102 Question Type : MCQ Option Shuffling : No Is Question Mandatory : No Calculator : None Response Time : N.A Think Time : N.A Minimum Instruction Time : 0

Correct Marks : 5 Wrong Marks : 1

Question Key Details :

Key	Value
Comprehension	MCQ

Who was the founder of Bolshevik Communist Party and leader of the Russian revolution of 1917 ?

- (1) Joseph Stalin
- (2) Vladmir Lenin
- (3) Leonid Brezhnev
- (4) Nikita Khrushchev

Options :

212807116405. 1
212807116406. 2
212807116407. 3
212807116408. 4

Question Number : 547 Question Id : 21280729102 Question Type : MCQ Option Shuffling : No Is Question Mandatory : No Calculator : None Response Time : N.A Think Time : N.A Minimum Instruction Time : 0

Correct Marks : 5 Wrong Marks : 1

Question Key Details :

Key	Value
Comprehension	MCQ

निम्नलिखित में से कौन बोलशेविक कम्युनिस्ट पार्टी के संस्थापक और 1917 की रूसी क्रांति के नेता थे ?

- (1) जोसेफ स्टालिन
- (2) ब्लादिमीर लेनिन
- (3) लिओनिड ब्रेझ्नेव
- (4) निकिता ख्रुश्चेव

Options :

212807116405. 1
212807116406. 2
212807116407. 3
212807116408. 4

Question Number : 548 Question Id : 21280729103 Question Type : MCQ Option Shuffling : No Is Question Mandatory : No Calculator : None Response Time : N.A Think Time : N.A Minimum Instruction Time : 0

Correct Marks : 5 Wrong Marks : 1

Question Key Details :

Key	Value
Comprehension	MCQ

Name the wall, which had been built at the height of the cold war and was its greatest symbol, was toppled by the people in 1989 ?

- (1) The Great wall of China
- (2) The Dragon wall
- (3) The Berlin wall
- (4) The Cold wall

Options :

212807116409. 1
212807116410. 2
212807116411. 3
212807116412. 4

Question Number : 548 Question Id : 21280729103 Question Type : MCQ Option Shuffling : No Is Question Mandatory : No Calculator : None
Response Time : N.A Think Time : N.A Minimum Instruction Time : 0

Correct Marks : 5 Wrong Marks : 1

Question Key Details :

Key	Value
Comprehension	MCQ

निम्नलिखित में से उस दीवार का नाम बताइए, जिसका निर्माण शीत युद्ध की पराकाष्ठा के समय किया गया था एवं उसकी महत्तम प्रतीक थी और लोगों ने 1989 में उसे गिरा दिया था ?

- (1) द ग्रेट वॉल ऑफ चाइना
- (2) द ड्रैगन वॉल
- (3) द बर्लिन वॉल
- (4) द कोल्ड वॉल

Options :

212807116409. 1
212807116410. 2
212807116411. 3
212807116412. 4

Question Number : 549 Question Id : 21280729104 Question Type : MCQ Option Shuffling : No Is Question Mandatory : No Calculator : None
Response Time : N.A Think Time : N.A Minimum Instruction Time : 0

Correct Marks : 5 Wrong Marks : 1

Question Key Details :

Key	Value
Comprehension	MCQ

On 11th September 2001 where did the third aircraft crashed in the US head quarter of defence ?

- (1) North & South tower
- (2) Pentagon building
- (3) Capital building of the US Congress
- (4) World Trade Centre

Options :

212807116413. 1
212807116414. 2
212807116415. 3
212807116416. 4

Question Number : 549 Question Id : 21280729104 Question Type : MCQ Option Shuffling : No Is Question Mandatory : No Calculator : None
Response Time : N.A Think Time : N.A Minimum Instruction Time : 0

Correct Marks : 5 Wrong Marks : 1

Question Key Details :

Key	Value
-----	-------

11 सितम्बर 2001 को तीसरा विमान अमेरिका में किस रक्षा मुख्यालय भवन से टकराकर गिरा था ?

- (1) नॉर्थ एंड साउथ टॉवर
- (2) पेंटागन बिल्डिंग
- (3) अमेरिकी कांग्रेस की कैपिटल बिल्डिंग
- (4) वर्ल्ड ट्रेड सेंटर

Options :

212807116413. 1
212807116414. 2
212807116415. 3
212807116416. 4

Question Number : 550 Question Id : 21280729105 Question Type : MCQ Option Shuffling : No Is Question Mandatory : No Calculator : None Response Time : N.A Think Time : N.A Minimum Instruction Time : 0

Correct Marks : 5 Wrong Marks : 1

Question Key Details :

Key	Value
Comprehension	MCQ

On which date, the US launched its invasion of Iraq under the codename "Operation Iraqi Freedom.

- (1) 16th March 2003
- (2) 18th March 2003
- (3) 19th March 2003
- (4) 20th March 2003

Options :

212807116417. 1
212807116418. 2
212807116419. 3
212807116420. 4

Question Number : 550 Question Id : 21280729105 Question Type : MCQ Option Shuffling : No Is Question Mandatory : No Calculator : None Response Time : N.A Think Time : N.A Minimum Instruction Time : 0

Correct Marks : 5 Wrong Marks : 1

Question Key Details :

Key	Value
Comprehension	MCQ

अमेरिका ने किस दिनांक को 'ऑपरेशन इराकी फ्रीडम' के कूट नाम के अंतर्गत इराक पर आक्रमण किया था ?

- (1) 16 मार्च 2003
- (2) 18 मार्च 2003
- (3) 19 मार्च 2003
- (4) 20 मार्च 2003

Options :

212807116417. 1
212807116418. 2
212807116419. 3
212807116420. 4

Question Number : 551 Question Id : 21280729106 Question Type : MCQ Option Shuffling : No Is Question Mandatory : No Calculator : None Response Time : N.A Think Time : N.A Minimum Instruction Time : 0

Correct Marks : 5 Wrong Marks : 1

Question Key Details :

Key	Value

Comprehension	MCQ
---------------	-----

Which of the following nations adopted an Open door policy ?

- (1) South Korea
- (2) China
- (3) Japan
- (4) USA

Options :

212807116421. 1
212807116422. 2
212807116423. 3
212807116424. 4

Question Number : 551 Question Id : 21280729106 Question Type : MCQ Option Shuffling : No Is Question Mandatory : No Calculator : None Response Time : N.A Think Time : N.A Minimum Instruction Time : 0

Correct Marks : 5 Wrong Marks : 1

Question Key Details :

Key	Value
Comprehension	MCQ

निम्नलिखित में से किस देश ने 'खुलापन की नीति' अपनाई थी ?

- (1) दक्षिण कोरिया
- (2) चीन
- (3) जापान
- (4) संयुक्त राज्य अमेरिका

Options :

212807116421. 1
212807116422. 2
212807116423. 3
212807116424. 4

Question Number : 552 Question Id : 21280729107 Question Type : MCQ Option Shuffling : No Is Question Mandatory : No Calculator : None Response Time : N.A Think Time : N.A Minimum Instruction Time : 0

Correct Marks : 5 Wrong Marks : 1

Question Key Details :

Key	Value
Comprehension	MCQ

Which organisation of ASEAN deals with Security and foreign policy ?

- (1) ARF
- (2) FTA
- (3) SEZ
- (4) ASF

Options :

212807116425. 1
212807116426. 2
212807116427. 3
212807116428. 4

Question Number : 552 Question Id : 21280729107 Question Type : MCQ Option Shuffling : No Is Question Mandatory : No Calculator : None Response Time : N.A Think Time : N.A Minimum Instruction Time : 0

Correct Marks : 5 Wrong Marks : 1

Question Key Details :

Key	Value
Comprehension	MCQ

आसियान (ASEAN) का कौन-सा संगठन सुरक्षा और विदेश नीति से संबंधित है ?

- (1) ए. आर. एफ. (ARF)
- (2) एफ. टी. ए. (FTA)
- (3) एस. ई. जेड. (SEZ)
- (4) ए. एस. एफ. (ASF)

Options :

212807116425. 1
212807116426. 2
212807116427. 3
212807116428. 4

Question Number : 553 Question Id : 21280729108 Question Type : MCQ Option Shuffling : No Is Question Mandatory : No Calculator : None
Response Time : N.A Think Time : N.A Minimum Instruction Time : 0

Correct Marks : 5 Wrong Marks : 1

Question Key Details :

Key	Value
Comprehension	MCQ

In which year Sri Lanka (then Cylon) gained independence ?

- (1) 1947
- (2) 1948
- (3) 1949
- (4) 1950

Options :

212807116429. 1
212807116430. 2
212807116431. 3
212807116432. 4

Question Number : 553 Question Id : 21280729108 Question Type : MCQ Option Shuffling : No Is Question Mandatory : No Calculator : None
Response Time : N.A Think Time : N.A Minimum Instruction Time : 0

Correct Marks : 5 Wrong Marks : 1

Question Key Details :

Key	Value
Comprehension	MCQ

श्री लंका (तब सीलोन) ने किस वर्ष में स्वतंत्रता प्राप्त की थी ?

- (1) 1947
- (2) 1948
- (3) 1949
- (4) 1950

Options :

212807116429. 1
212807116430. 2
212807116431. 3
212807116432. 4

Question Number : 554 Question Id : 21280729109 Question Type : MCQ Option Shuffling : No Is Question Mandatory : No Calculator : None
Response Time : N.A Think Time : N.A Minimum Instruction Time : 0

Correct Marks : 5 Wrong Marks : 1

Question Key Details :

Key	Value
Comprehension	MCQ

In which year Afganistan joined SAARC ?

- (1) 2004
- (2) 2005
- (3) 2006
- (4) 2007

Options :

- 212807116433. 1
- 212807116434. 2
- 212807116435. 3
- 212807116436. 4

Question Number : 554 Question Id : 21280729109 Question Type : MCQ Option Shuffling : No Is Question Mandatory : No Calculator : None Response Time : N.A Think Time : N.A Minimum Instruction Time : 0

Correct Marks : 5 Wrong Marks : 1

Question Key Details :

Key	Value
Comprehension	MCQ

अफगानिस्तान किस वर्ष में सार्क (SAARC) में सम्मिलित हुआ था ?

- (1) 2004
- (2) 2005
- (3) 2006
- (4) 2007

Options :

- 212807116433. 1
- 212807116434. 2
- 212807116435. 3
- 212807116436. 4

Question Number : 555 Question Id : 21280729110 Question Type : MCQ Option Shuffling : No Is Question Mandatory : No Calculator : None Response Time : N.A Think Time : N.A Minimum Instruction Time : 0

Correct Marks : 5 Wrong Marks : 1

Question Key Details :

Key	Value
Comprehension	MCQ

In the UN system, Security council have total of 15 members. Out of these how many member have veto rights ?

- (1) 4
- (2) 5
- (3) 6
- (4) 7

Options :

- 212807116437. 1
- 212807116438. 2
- 212807116439. 3
- 212807116440. 4

Question Number : 555 Question Id : 21280729110 Question Type : MCQ Option Shuffling : No Is Question Mandatory : No Calculator : None Response Time : N.A Think Time : N.A Minimum Instruction Time : 0

Correct Marks : 5 Wrong Marks : 1

Question Key Details :

Key	Value
Comprehension	MCQ

संयुक्त राष्ट्र प्रणाली, की सुरक्षा परिषद में कुल 15 सदस्य हैं। इनमें से कितने सदस्यों को वीटो अधिकार प्राप्त है?

- (1) 4
- (2) 5
- (3) 6
- (4) 7

Options :

212807116437. 1
212807116438. 2
212807116439. 3
212807116440. 4

Question Number : 556 Question Id : 21280729111 Question Type : MCQ Option Shuffling : No Is Question Mandatory : No Calculator : None Response Time : N.A Think Time : N.A Minimum Instruction Time : 0

Correct Marks : 5 Wrong Marks : 1

Question Key Details :

Key	Value
Comprehension	MCQ

In February 1945, at which conference the 'Big three' (Roosevelt, Churchill and Stalin) decided to organise a United Nations Conference on the proposed World Organisation?

- (1) Yalta Conference
- (2) Tehran Conference
- (3) Atlantic Conference
- (4) United Nation Conference

Options :

212807116441. 1
212807116442. 2
212807116443. 3
212807116444. 4

Question Number : 556 Question Id : 21280729111 Question Type : MCQ Option Shuffling : No Is Question Mandatory : No Calculator : None Response Time : N.A Think Time : N.A Minimum Instruction Time : 0

Correct Marks : 5 Wrong Marks : 1

Question Key Details :

Key	Value
Comprehension	MCQ

फरवरी 1945 में आयोजित किस सम्मेलन में 'बिग थ्री' (रूज्वेल्ट, चर्चिल और स्टालिन) ने प्रस्तावित विश्व संगठन के बारे में संयुक्त राष्ट्र के एक सम्मेलन के आयोजन का निश्चय किया था?

- (1) याल्टा सम्मेलन
- (2) तेहरान सम्मेलन
- (3) अटलांटिक सम्मेलन
- (4) संयुक्त राष्ट्र सम्मेलन

Options :

212807116441. 1
212807116442. 2
212807116443. 3
212807116444. 4

Question Number : 557 Question Id : 21280729112 Question Type : MCQ Option Shuffling : No Is Question Mandatory : No Calculator : None Response Time : N.A Think Time : N.A Minimum Instruction Time : 0

Correct Marks : 5 Wrong Marks : 1

Question Key Details :

Key	Value
-----	-------

Match List - I with List - II.

List - I

Terms

(A) Arms Control

(B) Disarmament

(C) Human Security

(D) Balance of Power

List - II

Meaning

(I) The protection of communities and individuals from internal violence

(II) Building up military power by one country to counter other countries' military powers

(III) Regulates the acquisition or development of certain type of weapons.

(IV) Giving up certain types of weapons.

Choose the **correct** answer from the options given below :

(1) (A)-(IV), (B)-(III), (C)-(I), (D)-(II)

(2) (A)-(III), (B)-(IV), (C)-(I), (D)-(II)

(3) (A)-(III), (B)-(IV), (C)-(II), (D)-(I)

(4) (A)-(I), (B)-(II), (C)-(III), (D)-(IV)

Options :

212807116445. 1

212807116446. 2

212807116447. 3

212807116448. 4

Question Number : 557 Question Id : 21280729112 Question Type : MCQ Option Shuffling : No Is Question Mandatory : No Calculator : None Response Time : N.A Think Time : N.A Minimum Instruction Time : 0

Correct Marks : 5 Wrong Marks : 1

Question Key Details :

Key	Value
Comprehension	MCQ

सूची-I के साथ सूची-II का मिलान कीजिए :

सूची-I

पद

(A) शस्त्र नियंत्रण

(B) निरस्त्रीकरण

(C) मानव सुरक्षा

(D) शक्ति संतुलन

सूची-II

अर्थ

(I) आंतरिक हिंसा से समुदायों एवं व्यक्तियों का संरक्षण

(II) एक देश के द्वारा अन्य देशों की सैन्य शक्ति के प्रतिरोध के लिए सैन्य शक्ति का निर्माण करना

(III) कतिपय प्रकारों के हथियारों के अधिग्रहण या विकास को नियमित करना

(IV) कतिपय प्रकार के हथियारों का त्याग करना

नीचे दिए गए विकल्पों में से **सही** उत्तर का चयन कीजिए :

(1) (A)-(IV), (B)-(III), (C)-(I), (D)-(II)

(2) (A)-(III), (B)-(IV), (C)-(I), (D)-(II)

(3) (A)-(III), (B)-(IV), (C)-(II), (D)-(I)

(4) (A)-(I), (B)-(II), (C)-(III), (D)-(IV)

Options :

212807116445. 1

212807116446. 2

212807116447. 3

Question Number : 558 Question Id : 21280729113 Question Type : MCQ Option Shuffling : No Is Question Mandatory : No Calculator : None
Response Time : N.A Think Time : N.A Minimum Instruction Time : 0

Correct Marks : 5 Wrong Marks : 1

Question Key Details :

Key	Value
Comprehension	MCQ

Choose the correct options from the following statements related to India's stand on environmental issues.

- (A) India signed and ratified the kyoto protocol in 2005
- (B) India's International negotiating position relies heavily on the principles of historical responsibility as ensured in UNFCCC
- (C) India's Auto Fuel Policy mandates cleaner fuels for vehicles.
- (D) India ratified the Paris Climate agreement on 2nd Oct., 2020

Choose the correct answer from the options given below :

- (1) (B) and (C)
- (2) (A), (B) and (C)
- (3) (A) and (C)
- (4) (B), (C) and (D)

Options :

- 212807116449. 1
- 212807116450. 2
- 212807116451. 3
- 212807116452. 4

Question Number : 558 Question Id : 21280729113 Question Type : MCQ Option Shuffling : No Is Question Mandatory : No Calculator : None
Response Time : N.A Think Time : N.A Minimum Instruction Time : 0

Correct Marks : 5 Wrong Marks : 1

Question Key Details :

Key	Value
Comprehension	MCQ

पर्यावरणीय मुद्दों पर भारत की नीति से संबंधित निम्नलिखित कथनों में से सही विकल्पों का चयन कीजिए ?

- (A) भारत ने 2005 में क्योटो प्रोटोकॉल पर हस्ताक्षर किए और उसका अनुसमर्थन किया।
- (B) भारत की अंतरराष्ट्रीय संधिवादी नीति (नेगोशिएटिंग पोजीशन) ऐतिहासिक उत्तरदायित्व के सिद्धांतों पर अत्यधिक आधारित है, जैसा कि यू. एन. एफ. सी. सी. में प्रतिष्ठापित है।
- (C) भारत की ऑटो-ईंधन नीति में वाहनों के लिए स्वच्छ ईंधन का अधिदेश दिया गया है।
- (D) भारत ने 2 अक्टूबर 2020 को पेरिस जलवायु समझौते का अनुसमर्थन किया था।

नीचे दिए गए विकल्पों में से सही उत्तर का चयन कीजिए :

- (1) केवल (B) और (C)
- (2) केवल (A), (B) और (C)
- (3) केवल (A) और (C)
- (4) केवल (B), (C) और (D)

Options :

- 212807116449. 1
- 212807116450. 2
- 212807116451. 3

Question Number : 559 Question Id : 21280729114 Question Type : MCQ Option Shuffling : No Is Question Mandatory : No Calculator : None
Response Time : N.A Think Time : N.A Minimum Instruction Time : 0

Correct Marks : 5 Wrong Marks : 1

Question Key Details :

Key	Value
Comprehension	MCQ

What is Cultural Homogenisation? Choose the correct answer from the following options.

- (1) Emergence of a global culture.
- (2) Domination of the culture of the dominant power.
- (3) Synthesis of different cultures.
- (4) Rise of different and distinctive cultures leading to clash among cultures

Options :

212807116453. 1
212807116454. 2
212807116455. 3
212807116456. 4

Question Number : 559 Question Id : 21280729114 Question Type : MCQ Option Shuffling : No Is Question Mandatory : No Calculator : None
Response Time : N.A Think Time : N.A Minimum Instruction Time : 0

Correct Marks : 5 Wrong Marks : 1

Question Key Details :

Key	Value
Comprehension	MCQ

सांस्कृतिक समरूपीकरण (होमोजिनाइजेशन), क्या है? निम्नलिखित विकल्पों में से सही उत्तर का चयन कीजिए।

- (1) एक वैश्विक संस्कृति का आविर्भाव
- (2) राजनीतिक और आर्थिक रूप से प्रभुत्वशाली शक्ति की संस्कृति का आधिपत्य
- (3) भिन्न संस्कृतियों का संश्लेषण
- (4) संस्कृतियों में टकराव का मार्ग प्रशस्त करने वाली भिन्न और विशिष्ट संस्कृतियों का आविर्भाव

Options :

212807116453. 1
212807116454. 2
212807116455. 3
212807116456. 4

Question Number : 560 Question Id : 21280729115 Question Type : MCQ Option Shuffling : No Is Question Mandatory : No Calculator : None
Response Time : N.A Think Time : N.A Minimum Instruction Time : 0

Correct Marks : 5 Wrong Marks : 1

Question Key Details :

Key	Value
Comprehension	MCQ

BRIC turned into BRICS after the inclusion of which country ?

- (1) South Asia
- (2) Switzerland
- (3) Somalia
- (4) South Africa

Options :

212807116457. 1
212807116458. 2
212807116459. 3
212807116460. 4

Question Number : 560 Question Id : 21280729115 Question Type : MCQ Option Shuffling : No Is Question Mandatory : No Calculator : None
Response Time : N.A Think Time : N.A Minimum Instruction Time : 0

Correct Marks : 5 Wrong Marks : 1

Question Key Details :

Key	Value
Comprehension	MCQ

किस देश को सम्मिलित करने के बाद ब्रिक (BRIC) ब्रिक्स (BRICS) में परिवर्तित हो गया था ?

- (1) दक्षिण एशिया (साउथ एशिया)
- (2) स्विट्ज़रलैंड
- (3) सोमालिया
- (4) दक्षिण अफ्रीका (साउथ अफ्रीका)

Options :

212807116457. 1

212807116458. 2

212807116459. 3

212807116460. 4

Sub-Section Number :

2

Sub-Section Id :

2128072115

Question Shuffling Allowed :

No

Is Section Default? :

null

Question Number : 561 Question Id : 21280729116 Question Type : MCQ Option Shuffling : No Is Question Mandatory : No Calculator : None
Response Time : N.A Think Time : N.A Minimum Instruction Time : 0

Correct Marks : 5 Wrong Marks : 1

Question Key Details :

Key	Value
Comprehension	Compl

Look at the following cartoon and answer the question that follow :

:



The soldier shown in cartoon belongs to which country

- (1) China
- (2) Iraq
- (3) The United States
- (4) Afganistan

Options :

212807116461. 1
212807116462. 2
212807116463. 3
212807116464. 4

Question Number : 561 Question Id : 21280729116 Question Type : MCQ Option Shuffling : No Is Question Mandatory : No Calculator : None
Response Time : N.A Think Time : N.A Minimum Instruction Time : 0

Correct Marks : 5 Wrong Marks : 1

Question Key Details :

Key	Value
Comprehension	Compl

निम्नांकित कार्टून को देखें और संबंधित प्रश्न का उत्तर दीजिए :



कार्टून में दर्शाया गया सैनिक किस देश से संबंधित है?

- (1) चीन
- (2) इराक
- (3) अमेरिका
- (4) अफगानिस्तान

Options :

212807116461. 1
212807116462. 2
212807116463. 3
212807116464. 4

Question Number : 562 Question Id : 21280729117 Question Type : MCQ Option Shuffling : No Is Question Mandatory : No Calculator : None Response Time : N.A Think Time : N.A Minimum Instruction Time : 0

Correct Marks : 5 Wrong Marks : 1

Question Key Details :

Key	Value
Comprehension	Comp1

Look at the following cartoon and answer the question that follow :

:



The Overall impression of cartoon reflects that

- (1) the US is the predominant player in world affairs
- (2) the US in spreading democracy in different parts of war
- (3) the US is following the policy of isolation in world affairs.
- (4) the US is providing the humanatarion assistance to various countries.

Options :

- 212807116465. 1
- 212807116466. 2
- 212807116467. 3
- 212807116468. 4

Question Number : 562 Question Id : 21280729117 Question Type : MCQ Option Shuffling : No Is Question Mandatory : No Calculator : None Response Time : N.A Think Time : N.A Minimum Instruction Time : 0

Correct Marks : 5 Wrong Marks : 1

Question Key Details :

Key	Value
Comprehension	Compl

निम्नांकित कार्टून को देखें और संबंधित प्रश्न का उत्तर दीजिए :



कार्टून की समग्र मुद्रा प्रतिबिम्बित करती है कि :

- (1) अमेरिका विश्व के मामलों में प्रमुख आधिपत्य रखता (प्लेयर) है।
- (2) अमेरिका विश्व के भिन्न भागों में लोकतंत्र का प्रसार कर रहा है।
- (3) अमेरिका विश्व के मामलों में अलगाव की नीति अपना रहा है।
- (4) अमेरिका विभिन्न देशों को मानवीय सहायता प्रदान कर रहा है।

Options :

212807116465. 1
212807116466. 2
212807116467. 3
212807116468. 4

Question Number : 563 Question Id : 21280729118 Question Type : MCQ Option Shuffling : No Is Question Mandatory : No Calculator : None Response Time : N.A Think Time : N.A Minimum Instruction Time : 0

Correct Marks : 5 Wrong Marks : 1

Question Key Details :

Key	Value
Comprehension	Comp1

Look at the following cartoon and answer the question that follow :



Name the cartoonist of above cartoon :

- (1) Ares, Cagle Cartoons inc.
- (2) Ares, Kite Cartoons inc.
- (3) Cam Cardom inc.
- (4) Kem Intekar inc.

Options :

- 212807116469. 1
- 212807116470. 2
- 212807116471. 3
- 212807116472. 4

Question Number : 563 Question Id : 21280729118 Question Type : MCQ Option Shuffling : No Is Question Mandatory : No Calculator : None Response Time : N.A Think Time : N.A Minimum Instruction Time : 0

Correct Marks : 5 Wrong Marks : 1

Question Key Details :

Key	Value
Comprehension	Compl

निम्नांकित कार्टून को देखें और संबंधित प्रश्न का उत्तर दीजिए :



उपरोक्त कार्टून में कार्टूनिस्ट का नाम बताइए :

- (1) एरेस कागले कार्टून्स इन्क.
- (2) एरेस काइट कार्टून्स इन्क.
- (3) कैम कार्टून इन्क.
- (4) कैम इन्टेकार इन्क.

Options :

212807116469. 1
212807116470. 2
212807116471. 3
212807116472. 4

Question Number : 564 Question Id : 21280729119 Question Type : MCQ Option Shuffling : No Is Question Mandatory : No Calculator : None Response Time : N.A Think Time : N.A Minimum Instruction Time : 0

Correct Marks : 5 Wrong Marks : 1

Question Key Details :

Key	Value
Comprehension	Compl

Look at the following cartoon and answer the question that follow :



Some times International System dominated by a sole super power is called :

- (1) Multipolar System
- (2) Presidential System
- (3) Unipolar System
- (4) Co-operation System

Options :

- 212807116473. 1
- 212807116474. 2
- 212807116475. 3
- 212807116476. 4

Question Number : 564 Question Id : 21280729119 Question Type : MCQ Option Shuffling : No Is Question Mandatory : No Calculator : None Response Time : N.A Think Time : N.A Minimum Instruction Time : 0

Correct Marks : 5 Wrong Marks : 1

Question Key Details :

Key	Value
Comprehension	Compl

Look at the following cartoon and answer the question that follow :



The above cartoon shows Hegemony as _____.

- (1) Soft power
- (2) Structural power
- (3) Hard power
- (4) Cultural power

Options :

- 212807116477. 1
- 212807116478. 2
- 212807116479. 3
- 212807116480. 4

Question Number : 565 Question Id : 21280729120 Question Type : MCQ Option Shuffling : No Is Question Mandatory : No Calculator : None Response Time : N.A Think Time : N.A Minimum Instruction Time : 0

Correct Marks : 5 Wrong Marks : 1

Question Key Details :

Key	Value
Comprehension	Comp1

निम्नांकित कार्टून को देखें और संबंधित प्रश्न का उत्तर दीजिए :



प्रस्तुत कार्टून में हेगेमनी को ----- रूप में दिखाया गया है।

- (1) सॉफ्ट पॉवर
- (2) संरचनात्मक पॉवर
- (3) हार्ड पॉवर
- (4) संस्कृतिक पॉवर

Options :

212807116477. 1
212807116478. 2
212807116479. 3
212807116480. 4

Sub-Section Number : 3
Sub-Section Id : 2128072116
Question Shuffling Allowed : No
Is Section Default? : null

Question Number : 566 Question Id : 21280729121 Question Type : MCQ Option Shuffling : No Is Question Mandatory : No Calculator : None
Response Time : N.A Think Time : N.A Minimum Instruction Time : 0
Correct Marks : 5 Wrong Marks : 1

Question Key Details :

Key	Value
Comprehension	Comp2

Read the passage and answer the following question :

In may 1977, the Janata party government appointed a commission of Inquiry headed by Justice J.C. Shah retired chief justice of the supreme court of India, to inquire into several aspects of allegations of abuse of authority, excesses and malpractices committed and action taken in the wake of the Emergency proclaimed on the 25th June 1975. The Commission examined various kind of evidence and called scores of witnesses to give testimonies. The government of India accepted the findings, observations and recommendations contained in the two interim reports and third and final report of the Shah Commission.

Who headed the Shah commission ?

- (1) Justice J. C. Shah
- (2) Justice K. C. Shah
- (3) Justice M. C. Shah
- (4) Justice D. C. Shah

Options :

212807116481. 1
212807116482. 2
212807116483. 3
212807116484. 4

Question Number : 566 Question Id : 21280729121 Question Type : MCQ Option Shuffling : No Is Question Mandatory : No Calculator : None Response Time : N.A Think Time : N.A Minimum Instruction Time : 0

Correct Marks : 5 Wrong Marks : 1

Question Key Details :

Key	Value
Comprehension	Comp2

निम्नलिखित गद्यांश को पढ़ें और इसके बाद दिए गए प्रश्न का उत्तर दीजिए।

जनता पार्टी की सरकार ने 25 जून 1975 को आपातकाल की घोषणा करने के संदर्भ में सत्ता के दुरुपयोग ज्यादतियों और भ्रष्ट तौर तरीकों के आरोपों के अनेक पहलुओं की जांच के लिए भारतीय उच्चतम न्यायालय के सेवानिवृत्त न्यायमूर्ति जे. सी. शाह की अध्यक्षता में मई 1977 में एक आयोग नियुक्त किया। इस आयोग ने विभिन्न साक्ष्यों की जांच की और गवाही देने के लिए अनेक साक्षियों को बुलाया था। भारत सरकार ने शाह आयोग की दो आंतरिक रिपोर्टें एवं तीसरी और अंतिम रिपोर्ट में समाविष्ट निष्कर्षों, अवलोकनों और संस्तुतियों को स्वीकार कर लिया।

किसने शाह आयोग की अध्यक्षता की थी ?

- (1) न्यायमूर्ति जे. सी. शाह
- (2) न्यायमूर्ति के. सी. शाह
- (3) न्यायमूर्ति एम. सी. शाह
- (4) न्यायमूर्ति डी. सी. शाह

Options :

212807116481. 1
212807116482. 2
212807116483. 3
212807116484. 4

Question Number : 567 Question Id : 21280729122 Question Type : MCQ Option Shuffling : No Is Question Mandatory : No Calculator : None Response Time : N.A Think Time : N.A Minimum Instruction Time : 0

Correct Marks : 5 Wrong Marks : 1

Question Key Details :

Key	Value
Comprehension	Comp2

Read the passage and answer the following question :

In may 1977, the Janata party government appointed a commission of Inquiry headed by Justice J.C. Shah retired chief justice of the supreme court of India, to inquire into several aspects of allegations of abuse of authority, excesses and malpractices committed and action taken in the wake of the Emergency proclaimed on the 25th June 1975. The Commission examined various kind of evidence and called scores of witnesses to give testimonies. The government of India accepted the findings, observations and recommendations contained in the two interim reports and third and final report of the Shah Commission.

Which government appointed the Shah Commission ?

- (1) Congress government
- (2) Janata Party government
- (3) Left front government
- (4) Communist government

Options :

212807116485. 1
212807116486. 2
212807116487. 3
212807116488. 4

Question Number : 567 Question Id : 21280729122 Question Type : MCQ Option Shuffling : No Is Question Mandatory : No Calculator : None Response Time : N.A Think Time : N.A Minimum Instruction Time : 0

Correct Marks : 5 Wrong Marks : 1

Question Key Details :

Key	Value
Comprehension	Comp2

निम्नलिखित गद्यांश को पढ़ें और इसके बाद दिए गए प्रश्न का उत्तर दीजिए।

जनता पार्टी की सरकार ने 25 जून 1975 को आपातकाल की घोषणा करने के संदर्भ में सत्ता के दुरुपयोग ज्यादतियों और भ्रष्ट तौर तरीकों के आरोपों के अनेक पहलुओं की जांच के लिए भारतीय उच्चतम न्यायालय के सेवानिवृत्त न्यायमूर्ति जे. सी. शाह की अध्यक्षता में मई 1977 में एक आयोग नियुक्त किया। इस आयोग ने विभिन्न साक्ष्यों की जांच की और गवाही देने के लिए अनेक साक्षियों को बुलाया था। भारत सरकार ने शाह आयोग की दो आंतरिक रिपोर्टें एवं तीसरी और अंतिम रिपोर्ट में समाविष्ट निष्कर्षों, अवलोकनों और संस्तुतियों को स्वीकार कर लिया।

किस सरकार ने शाह आयोग नियुक्त किया था ?

- (1) कांग्रेस सरकार
- (2) जनता पार्टी सरकार
- (3) वाम मोर्चा सरकार
- (4) साम्यवादी सरकार

Options :

212807116485. 1
212807116486. 2
212807116487. 3
212807116488. 4

Question Number : 568 Question Id : 21280729123 Question Type : MCQ Option Shuffling : No Is Question Mandatory : No Calculator : None Response Time : N.A Think Time : N.A Minimum Instruction Time : 0

Correct Marks : 5 Wrong Marks : 1

Question Key Details :

Key	Value
Comprehension	Comp2

Read the passage and answer the following question :

In may 1977, the Janata party government appointed a commission of Inquiry headed by Justice J.C. Shah retired chief justice of the supreme court of India, to inquire into several aspects of allegations of abuse of authority, excesses and malpractices committed and action taken in the wake of the Emergency proclaimed on the 25th June 1975. The Commission examined various kind of evidence and called scores of witnesses to give testimonies. The government of India accepted the findings, observations and recommendations contained in the two interim reports and third and final report of the Shah Commission.

Emergency was proclaimed on :

- (1) 24th June 1975
- (2) 23th June 1975
- (3) 25th June 1975
- (4) 26th June 1975

Options :

212807116489. 1
212807116490. 2
212807116491. 3
212807116492. 4

Question Number : 568 Question Id : 21280729123 Question Type : MCQ Option Shuffling : No Is Question Mandatory : No Calculator : None Response Time : N.A Think Time : N.A Minimum Instruction Time : 0

Correct Marks : 5 Wrong Marks : 1

Question Key Details :

Key	Value
Comprehension	Comp2

निम्नलिखित गद्यांश को पढ़ें और इसके बाद दिए गए प्रश्न का उत्तर दीजिए।

जनता पार्टी की सरकार ने 25 जून 1975 को आपातकाल की घोषणा करने के संदर्भ में सत्ता के दुरुपयोग ज्यादतियों और भ्रष्ट तौर तरीकों के आरोपों के अनेक पहलुओं की जांच के लिए भारतीय उच्चतम न्यायालय के सेवानिवृत्त न्यायमूर्ति जे. सी. शाह की अध्यक्षता में मई 1977 में एक आयोग नियुक्त किया। इस आयोग ने विभिन्न साक्ष्यों की जांच की और गवाही देने के लिए अनेक साक्षियों को बुलाया था। भारत सरकार ने शाह आयोग की दो आंतरिक रिपोर्टें एवं तीसरी और अंतिम रिपोर्ट में समाविष्ट निष्कर्षों, अवलोकनों और संस्तुतियों को स्वीकार कर लिया।

आपातकाल की घोषणा कब की गई थी?

- (1) 24 जून 1975
- (2) 23 जून 1975
- (3) 25 जून 1975
- (4) 26 जून 1975

Options :

212807116489. 1
212807116490. 2
212807116491. 3
212807116492. 4

Question Number : 569 Question Id : 21280729124 Question Type : MCQ Option Shuffling : No Is Question Mandatory : No Calculator : None Response Time : N.A Think Time : N.A Minimum Instruction Time : 0

Correct Marks : 5 Wrong Marks : 1

Question Key Details :

Key	Value
Comprehension	Comp2

Read the passage and answer the following question :

In may 1977, the Janata party government appointed a commission of Inquiry headed by Justice J.C. Shah retired chief justice of the supreme court of India, to inquire into several aspects of allegations of abuse of authority, excesses and malpractices committed and action taken in the wake of the Emergency proclaimed on the 25th June 1975. The Commission examined various kind of evidence and called scores of witnesses to give testimonies. The government of India accepted the findings, observations and recommendations contained in the two interim reports and third and final report of the Shah Commission.

In which year Janta Party Government appointed a commission to inquire aspect regarding allegations of abuse of authority ?

- (1) 1976
- (2) 1977
- (3) 1975
- (4) 1978

Options :

212807116493. 1
212807116494. 2
212807116495. 3
212807116496. 4

Question Number : 569 Question Id : 21280729124 Question Type : MCQ Option Shuffling : No Is Question Mandatory : No Calculator : None Response Time : N.A Think Time : N.A Minimum Instruction Time : 0

Correct Marks : 5 Wrong Marks : 1

Question Key Details :

Key	Value
Comprehension	Comp2

निम्नलिखित गद्यांश को पढ़ें और इसके बाद दिए गए प्रश्न का उत्तर दीजिए।

जनता पार्टी की सरकार ने 25 जून 1975 को आपातकाल की घोषणा करने के संदर्भ में सत्ता के दुरुपयोग ज्यादतियों और भ्रष्ट तौर तरीकों के आरोपों के अनेक पहलुओं की जांच के लिए भारतीय उच्चतम न्यायालय के सेवानिवृत्त न्यायमूर्ति जे. सी. शाह की अध्यक्षता में मई 1977 में एक आयोग नियुक्त किया। इस आयोग ने विभिन्न साक्ष्यों की जांच की और गवाही देने के लिए अनेक साक्षियों को बुलाया था। भारत सरकार ने शाह आयोग की दो आंतरिक रिपोर्टें एवं तीसरी और अंतिम रिपोर्ट में समाविष्ट निष्कर्षों, अवलोकनों और संस्तुतियों को स्वीकार कर लिया।

निम्नलिखित में से किस वर्ष में जनता पार्टी की सरकार ने सत्ता के दुरुपयोग के आरोपों के पहलुओं की जांच के लिए एक आयोग नियुक्त किया था ?

- (1) 1976
- (2) 1977
- (3) 1975
- (4) 1978

Options :

212807116493. 1
212807116494. 2
212807116495. 3
212807116496. 4

Question Number : 570 Question Id : 21280729125 Question Type : MCQ Option Shuffling : No Is Question Mandatory : No Calculator : None Response Time : N.A Think Time : N.A Minimum Instruction Time : 0

Correct Marks : 5 Wrong Marks : 1

Question Key Details :

Key	Value
-----	-------

Read the passage and answer the following question :

In may 1977, the Janata party government appointed a commission of Inquiry headed by Justice J.C. Shah retired chief justice of the supreme court of India, to inquire into several aspects of allegations of abuse of authority, excesses and malpractices committed and action taken in the wake of the Emergency proclaimed on the 25th June 1975. The Commission examined various kind of evidence and called scores of witnesses to give testimonies. The government of India accepted the findings, observations and recommendations contained in the two interim reports and third and final report of the Shah Commission.

Under the provision of which article in the Indian Constitution Government could declare a State of emergency on ground of external threat or internal disturbance ?

- (1) Article 350
- (2) Article 351
- (3) Article 352
- (4) Article 353

Options :

212807116497. 1
212807116498. 2
212807116499. 3
212807116500. 4

Question Number : 570 Question Id : 21280729125 Question Type : MCQ Option Shuffling : No Is Question Mandatory : No Calculator : None Response Time : N.A Think Time : N.A Minimum Instruction Time : 0

Correct Marks : 5 Wrong Marks : 1

Question Key Details :

Key	Value
Comprehension	Comp2

निम्नलिखित गद्यांश को पढ़ें और इसके बाद दिए गए प्रश्न का उत्तर दीजिए।

जनता पार्टी की सरकार ने 25 जून 1975 को आपातकाल की घोषणा करने के संदर्भ में सत्ता के दुरुपयोग ज्यादतियों और भ्रष्ट तौर तरीकों के आरोपों के अनेक पहलुओं की जांच के लिए भारतीय उच्चतम न्यायालय के सेवानिवृत्त न्यायमूर्ति जे. सी. शाह की अध्यक्षता में मई 1977 में एक आयोग नियुक्त किया। इस आयोग ने विभिन्न साक्ष्यों की जांच की और गवाही देने के लिए अनेक साक्षियों को बुलाया था। भारत सरकार ने शाह आयोग की दो आंतरिक रिपोर्टें एवं तीसरी और अंतिम रिपोर्ट में समाविष्ट निष्कर्षों, अवलोकनों और संस्तुतियों को स्वीकार कर लिया।

भारतीय संविधान के किस अनुच्छेद में बाह्य असुरक्षा तथा आंतरिक गडबडी होने पर किसी राज्य में आपातकाल की घोषणा की जा सकती है ?

- (1) अनुच्छेद 350
- (2) अनुच्छेद 351
- (3) अनुच्छेद 352
- (4) अनुच्छेद 353

Options :

212807116497. 1
212807116498. 2
212807116499. 3
212807116500. 4