

TCSiON CAE

Notations :

- Options shown in green color and with ✓ icon are correct.
- Options shown in red color and with ✗ icon are incorrect.

Question Paper Name :	PC22126 GENERAL STUDIES AND GENERAL ABILITIES AEE 2212 22nd S1
Subject Name :	PC22126 GENERAL STUDIES AND GENERAL ABILITIES AEE2212
Actual Answer Key :	Yes
Calculator :	None
Magnifying Glass Required? :	No
Ruler Required? :	No
Eraser Required? :	No
Scratch Pad Required? :	No
Rough Sketch/Notepad Required? :	No
Protractor Required? :	No
Show Watermark on Console? :	Yes
Highlighter :	No
Auto Save on Console?	Yes
Change Font Color :	No
Change Background Color :	No
Change Theme :	No
Help Button :	No
Show Reports :	No
Show Progress Bar :	No
Is this Group for Examiner? :	No
Examiner permission :	Cant View
Show Progress Bar? :	No

Enable Mark as Answered Mark for Review and Clear Response :	Yes
Maximum Instruction Time :	0
Is Section Default? :	null

Question Number : 1 Question Id : 630680227316 Option Shuffling : Yes Is Question Mandatory : No Calculator : None Response Time : N.A Think Time : N.A Minimum Instruction Time : 0

Correct Marks : 1 Wrong Marks : 0

The controlled re-entry experiment for the decommissioned Megha-Tropiques-1 (MT-1) was carried out successfully on 7 March 2023. It is a collaborative effort between ISRO and the space agency of _____.

Options :

- ✗ Japan
- ✓ France
- ✗ China
- ✗ Canada

Question Number : 1 Question Id : 630680227316 Option Shuffling : Yes Is Question Mandatory : No Calculator : None Response Time : N.A Think Time : N.A Minimum Instruction Time : 0

Correct Marks : 1 Wrong Marks : 0

ఉపసంహరించబడిన మేఘా-ట్రోపిక్స్-1 (MT-1) కోసం నియంత్రిత పునర్-ప్రవేశ ప్రయోగం 7 మార్చి 2023న విజయవంతంగా నిర్వహించబడింది. ఇది ISRO మరియు _____ అంతరిక్ష సంస్థల మధ్య ఒక భాగస్వామ్య కృషి.

Options :

1. ✘ జపాన్
2. ✔ ఫ్రాన్స్
3. ✘ చైనా
4. ✘ కెనడా

Question Number : 2 Question Id : 630680227317 Option Shuffling : Yes Is Question Mandatory : No Calculator : None Response Time : N.A Think Time : N.A Minimum Instruction Time : 0

Correct Marks : 1 Wrong Marks : 0

The Silicon Valley Bank (SVB) that collapsed in March 2023, is headquartered at _____.

Options :

1. ✔ California
2. ✘ Beijing
3. ✘ Bengaluru
4. ✘ Paris

Question Number : 2 Question Id : 630680227317 Option Shuffling : Yes Is Question Mandatory : No Calculator : None Response Time : N.A Think Time : N.A Minimum Instruction Time : 0

Correct Marks : 1 Wrong Marks : 0

మార్చి 2023లో కుప్పకూలిన సిలికాన్ వ్యాలీ బ్యాంక్ (SVB) ప్రధాన కార్యాలయం _____ లో వుంది.

Options :

1. ✔ కాలిఫోర్నియా
2. ✘ బీజింగ్
3. ✘ బెంగళూరు
4. ✘ పారిస్

Question Number : 3 Question Id : 630680227318 Option Shuffling : Yes Is Question Mandatory : No Calculator : None Response Time : N.A Think Time : N.A Minimum Instruction Time : 0

Correct Marks : 1 Wrong Marks : 0

Which of the following statements is/are correct regarding Nobel Prizes 2022?

- I. The Nobel Prize in Physiology or Medicine 2022 has been awarded to only one person.
- II. The Nobel Prize in Literature 2022 has been awarded to Annie Ernaux.

Options :

1. ✘ Only I
2. ✘ Only II
3. ✔ Both I and II
4. ✘ Neither I nor II

Question Number : 3 Question Id : 630680227318 Option Shuffling : Yes Is Question Mandatory : No Calculator : None Response Time : N.A Think Time : N.A Minimum Instruction Time : 0 Negative Marks Display Text : 0.0

Correct Marks : 1 Wrong Marks : 0

2022 నోబెల్ ప్రైజ్ లకు సంబంధించి ఈ క్రింది వాటిలో సరైనది/వి ఏది/వి?

- I. ఫిజియాలజీ లేదా మెడిసిన్లో 2022 నోబెల్ బహుమతి ఒక వ్యక్తికి మాత్రమే అందించబడింది.
- II. సాహిత్యంలో 2022 నోబెల్ బహుమతి అన్నీ ఎర్నాక్సుకు లభించింది.

Options :

1. ✘ I మాత్రమే
2. ✘ II మాత్రమే
3. ✔ I మరియు II రెండూ
4. ✘ I కానీ లేదా II కానీ ఏదీ కాదు

Question Number : 4 Question Id : 630680227319 Option Shuffling : Yes Is Question Mandatory : No Calculator : None Response Time : N.A Think Time : N.A Minimum Instruction Time : 0

Correct Marks : 1 Wrong Marks : 0

Which of the following pairs representing the international agency and the report published by it is/are correct?

- I. Global Risks Report – World Bank

- II. World Development Report – World Economic Forum
 III. World Economic Outlook – International Monetary Fund

Options :

1. ✘ Only I
2. ✘ I and III
3. ✘ II and III
4. ✔ Only III

Question Number : 4 Question Id : 630680227319 Option Shuffling : Yes Is Question Mandatory : No Calculator : None Response Time : N.A Think Time : N.A Minimum Instruction Time : 0

Correct Marks : 1 Wrong Marks : 0

అంతర్జాతీయ ఏజెన్సీ మరియు అది ప్రచురించిన నివేదికకు ప్రాతినిధ్యం వహిస్తున్న ఈ క్రింది జతలలో ఏది/ఏవి సరైనది/సరైనవి?

- I. గ్లోబల్ రిస్క్ రిపోర్ట్ – ప్రపంచ బ్యాంక్
- II. ప్రపంచ అభివృద్ధి నివేదిక – ప్రపంచ ఆర్థిక ఫోరం
- III. వరల్డ్ ఎకనామిక్ ఔట్ లుక్ - అంతర్జాతీయ ద్రవ్య నిధి

Options :

1. ✘ I మాత్రమే
2. ✘ I మరియు III
3. ✘ II మరియు III
4. ✔ III మాత్రమే

Question Number : 5 Question Id : 630680227320 Option Shuffling : Yes Is Question Mandatory : No Calculator : None Response Time : N.A Think Time : N.A Minimum Instruction Time : 0

Correct Marks : 1 Wrong Marks : 0

Which of the following shows the countries in the correct ascending order based on the GDP per capita (current US\$) 2021, according to World Bank?

Options :

1. ✘ Denmark, Finland, Sweden
2. ✘ Finland, Denmark, Sweden
3. ✘ Sweden, Denmark, Finland
4. ✔ Finland, Sweden, Denmark

Question Number : 5 Question Id : 630680227320 Option Shuffling : Yes Is Question Mandatory : No Calculator : None Response Time : N.A Think Time : N.A Minimum Instruction Time : 0

Correct Marks : 1 Wrong Marks : 0

ప్రపంచ బ్యాంక్ ప్రకారం, తలసరి GDP (ప్రస్తుత US\$) 2021 ఆధారంగా ఈ క్రింది వాటిలో ఏ ఐచ్ఛికం దేశాలను సరైన ఆరోహణ క్రమంలో చూపుతుంది?

Options :

1. ✘ డెన్మార్క్, ఫిన్లాండ్, స్వీడన్
2. ✘ ఫిన్లాండ్, డెన్మార్క్, స్వీడన్
3. ✘ స్వీడన్, డెన్మార్క్, ఫిన్లాండ్
4. ✔ ఫిన్లాండ్, స్వీడన్, డెన్మార్క్

Question Number : 6 Question Id : 630680227321 Option Shuffling : Yes Is Question Mandatory : No Calculator : None Response Time : N.A Think Time : N.A Minimum Instruction Time : 0

Correct Marks : 1 Wrong Marks : 0

The Agnipath scheme approved by the Union Cabinet of India in June 2022, is related to _____.

Options :

1. ✘ the development of missile technologies
2. ✘ new communication technologies
3. ✘ rehabilitation schemes for drug addicts
4. ✔ recruitment in the armed forces

Question Number : 6 Question Id : 630680227321 Option Shuffling : Yes Is Question Mandatory : No Calculator : None Response Time : N.A Think Time : N.A Minimum Instruction Time : 0

Correct Marks : 1 Wrong Marks : 0

జూన్ 2022లో భారత కేంద్ర మంత్రి మండలి ఆమోదించిన అగ్నిపథ్ పథకం _____ కి సంబంధించినది.

Options :

1. ✘ క్షిపణి సాంకేతికతల అభివృద్ధి
2. ✘ కొత్త కమ్యూనికేషన్ టెక్నాలజీలు
3. ✘ మాదకద్రవ్యాల బానిసలకు పునరావాస పథకాలు
4. ✔ సాయుధ దళాలలో నియామకం

Question Number : 7 Question Id : 630680227322 Option Shuffling : Yes Is Question Mandatory : No Calculator : None Response Time : N.A Think Time : N.A Minimum Instruction Time : 0

Correct Marks : 1 Wrong Marks : 0

పూసా కృషి విజ్ఞాన మేళా 2023 యొక్క థీమ్ _____.

Options :

1. ✘ సాంకేతిక పరిజ్ఞానంతో స్వయం సమృద్ధిగల రైతులు
2. ✘ కృషి వికాస్ : నవకల్పన సాంకేతికతలు
3. ✔ సిరి ధాన్యాల ద్వారా పోషకాహారం, ఆహారం మరియు పర్యావరణ పరిరక్షణ (శ్రీ అన్న)
4. ✘ సుస్థిర ఆహార అభివృద్ధి

Question Number : 7 Question Id : 630680227322 Option Shuffling : Yes Is Question Mandatory : No Calculator : None Response Time : N.A Think Time : N.A Minimum Instruction Time : 0

Correct Marks : 1 Wrong Marks : 0

The theme of Pusa Krishi Vigyan Mela 2023 was _____.

Options :

1. ✘ Self-sufficient farmers with technological knowledge
2. ✘ Krishi Vikas: Innovative Technologies
3. ✔ Nutrition, Food, and Environmental Protection through millets (Sree Anna)
4. ✘ Sustainable food development

Question Number : 8 Question Id : 630680227323 Option Shuffling : Yes Is Question Mandatory : No Calculator : None Response Time : N.A Think Time : N.A Minimum Instruction Time : 0

Correct Marks : 1 Wrong Marks : 0

Which of the following statements is/are correct regarding Ayushman Bharat Digital Mission (ABDM)?

- I. In 2022, the Cabinet approved the implementation of ABDM with a budget of ₹1,600 crore for five years.
- II. The pilot of ABDM was held in the six union territories.

Options :

1. ✘ Only I
2. ✘ Only II
3. ✔ Both I and II
4. ✘ Neither I nor II

Question Number : 8 Question Id : 630680227323 Option Shuffling : Yes Is Question Mandatory : No Calculator : None Response Time : N.A Think Time : N.A Minimum Instruction Time : 0

Correct Marks : 1 Wrong Marks : 0

ఆయుష్మాన్ భారత్ డిజిటల్ మిషన్ (ABDM)కి సంబంధించి ఈ క్రింది వాటిలో ఏది/ఏవి సరైనది/సరైనవి?

- I. 2022లో, ఐదు సంవత్సరాలకు ₹1,600 కోట్ల బడ్జెట్తో ABDM అమలుకు క్యాబినెట్ ఆమోదం తెలిపింది.
- II. ABDM యొక్క ప్రయోగం ఆరు కేంద్రపాలిత ప్రాంతాలలో జరిగింది.

Options :

1. ✘ I మాత్రమే
2. ✘ II మాత్రమే
3. ✔ I మరియు II రెండూ
4. ✘ I కానీ లేదా II కానీ ఏదీ కాదు

Question Number : 9 Question Id : 630680227324 Option Shuffling : Yes Is Question Mandatory : No Calculator : None Response Time : N.A Think Time : N.A Minimum Instruction Time : 0

Correct Marks : 1 Wrong Marks : 0

Which of the following statements is/are correct regarding the draft NCF 2023?

- I. To complete grade 10, students will complete two essential courses from each of the eight curricular areas available i.e., a total of 16 essential courses across two years of grade 9 and 10.
- II. Students must complete 16 choice-based courses to complete grade 12.
- III. Grades 9 and 10 will follow an annual structure.

Options :

1. ✘ Only I and II
2. ✘ Only II and III
3. ✘ Only I and III
4. ✔ I, II and III

Question Number : 9 Question Id : 630680227324 Option Shuffling : Yes Is Question Mandatory : No Calculator : None Response Time : N.A Think Time : N.A Minimum Instruction Time : 0

Correct Marks : 1 Wrong Marks : 0

NCF 2023 ముసాయిదాకి సంబంధించి ఈ క్రింది ప్రకటనలలో ఏది/ఏవి సరైనది/సరైనవి?

- I. గ్రేడ్ 10ని పూర్తి చేయడానికి, విద్యార్థులు అందుబాటులో ఉన్న ఎనిమిది పాఠ్యాంశాల నుండి రెండు ముఖ్యమైన కోర్సులను పూర్తి చేస్తారు, అంటే గ్రేడ్ 9 మరియు 10 రెండు సంవత్సరాలలో మొత్తం 16 ముఖ్యమైన కోర్సులు.
- II. గ్రేడ్ 12ని పూర్తి చేయడానికి విద్యార్థులు తప్పనిసరిగా 16 ఐచ్ఛిక-ఆధారిత కోర్సులను పూర్తి చేయాలి.
- III. 9 మరియు 10 తరగతులు వార్షిక నిర్మాణాన్ని అనుసరిస్తాయి.

Options :

1. ✘ I మరియు II మాత్రమే
2. ✘ II మరియు III మాత్రమే
3. ✘ I మరియు III మాత్రమే
4. ✔ I, II మరియు III

Question Number : 10 Question Id : 630680227325 Option Shuffling : Yes Is Question Mandatory : No Calculator : None Response Time : N.A Think Time : N.A Minimum Instruction Time : 0

Correct Marks : 1 Wrong Marks : 0

Which court completed its platinum jubilee on 5 April 2023?

Options :

1. ✘ Calcutta High Court
2. ✔ Gauhati High Court
3. ✘ Bombay High Court
4. ✘ Madras High Court

Question Number : 10 Question Id : 630680227325 Option Shuffling : Yes Is Question Mandatory : No Calculator : None Response Time : N.A Think Time : N.A Minimum Instruction Time : 0

Correct Marks : 1 Wrong Marks : 0

ఏ కోర్టు దాని ప్లాటినం జూబ్లీని 5 ఏప్రిల్ 2023న పూర్తి చేసుకుంది?

Options :

1. ✘ కలకత్తా హైకోర్టు
2. ✔ గౌహతి హైకోర్టు
3. ✘ బాంబే హైకోర్టు
4. ✘ మద్రాసు హైకోర్టు

Question Number : 11 Question Id : 630680227326 Option Shuffling : Yes Is Question Mandatory : No Calculator : None Response Time : N.A Think Time : N.A Minimum Instruction Time : 0

Correct Marks : 1 Wrong Marks : 0

ఆర్థిక సర్వే 2022-23 ప్రకారం ఆరోగ్య వ్యయానికి సంబంధించి ఈ క్రింది ప్రకటనలలో ఏది/ఏవి సరైనది/సరైనవి?

- I. సామాజిక సేవలపై చేసే మొత్తం వ్యయంలో ఆరోగ్యంపై చేసే వ్యయంలో పెరుగుదల ఉంది, ఇది ఆర్థిక సంవత్సరం 19లో 21%

నుండి ఆర్థిక సంవత్సరం 23 (BE)లో 26%కి పెరిగింది.

II. ఆరోగ్య రంగంపై కేంద్ర మరియు రాష్ట్ర ప్రభుత్వాల బడ్జెట్ వ్యయం ఆర్థిక సంవత్సరం 23 (BE)లో GDPలో 2.1%కి చేరుకుంది.

Options :

1. ✘ I మాత్రమే
2. ✘ II మాత్రమే
3. ✔ I మరియు II రెండూ
4. ✘ I కానీ లేదా II కానీ ఏదీ కాదు

Question Number : 11 Question Id : 630680227326 Option Shuffling : Yes Is Question Mandatory : No Calculator : None Response Time : N.A Think Time : N.A Minimum Instruction Time : 0

Correct Marks : 1 Wrong Marks : 0

Which of the following statements is/are correct regarding health expenditure as per the Economic Survey 2022-23?

I. There is a hike in the share of expenditure on health in the total expenditure on social services, which has increased from 21% in Financial Year 19 to 26% in Financial Year 23 (BE).

II. Central and State Governments' budgeted expenditure on the health sector reached 2.1% of GDP in Financial Year 23 (BE).

Options :

1. ✘ Only I
2. ✘ Only II
3. ✔ Both I and II
4. ✘ Neither I nor II

Question Number : 12 Question Id : 630680227327 Option Shuffling : Yes Is Question Mandatory : No Calculator : None Response Time : N.A Think Time : N.A Minimum Instruction Time : 0

Correct Marks : 1 Wrong Marks : 0

In 2023, World Leprosy Day was celebrated on _____ January.

Options :

1. ✔ 29
2. ✘ 31
3. ✘ 15
4. ✘ 20

Question Number : 12 Question Id : 630680227327 Option Shuffling : Yes Is Question Mandatory : No Calculator : None Response Time : N.A Think Time : N.A Minimum Instruction Time : 0

Correct Marks : 1 Wrong Marks : 0

2023లో, ప్రపంచ కుష్టు వ్యాధి దినోత్సవాన్ని, జనవరి _____ న జరుపుకున్నారు.

Options :

1. ✔ 29
2. ✘ 31
3. ✘ 15
4. ✘ 20

Question Number : 13 Question Id : 630680227328 Option Shuffling : Yes Is Question Mandatory : No Calculator : None Response Time : N.A Think Time : N.A Minimum Instruction Time : 0

Correct Marks : 1 Wrong Marks : 0

The term 'CRISPR-Cas9' is related with _____.

Options :

1. ✘ a new type of wheat
2. ✔ genome editing
3. ✘ the rover used in Chandrayaan - 3
4. ✘ COVID-19 vaccine

Question Number : 13 Question Id : 630680227328 Option Shuffling : Yes Is Question Mandatory : No Calculator : None Response Time : N.A Think Time : N.A Minimum Instruction Time : 0

Correct Marks : 1 Wrong Marks : 0

CRISPR-Cas9' అనే పదం _____ కి సంబంధించినది.

Options :

1. ✘ ఒక కొత్త గోధుమ రకం
2. ✔ జన్యు సవరణ
3. ✘ చంద్రయాన్-3లో ఉపయోగించిన రోవర్
4. ✘ కోవిడ్-19 టీకా

Question Number : 14 Question Id : 630680227329 Option Shuffling : Yes Is Question Mandatory : No Calculator : None
Response Time : N.A Think Time : N.A Minimum Instruction Time : 0

Correct Marks : 1 Wrong Marks : 0

With respect to technology developed in India, the term 'CAWACH' stands for _____.

Options :

1. ✘ Centre for Alternative WAR with COVID-19 Health Crisis
2. ✘ Centre for Augmenting WAR with Chickenpox Health Crisis
3. ✘ Centre for Alternative WAR with Chickenpox Health Crisis
4. ✔ Centre for Augmenting WAR with COVID-19 Health Crisis

Question Number : 14 Question Id : 630680227329 Option Shuffling : Yes Is Question Mandatory : No Calculator : None
Response Time : N.A Think Time : N.A Minimum Instruction Time : 0

Correct Marks : 1 Wrong Marks : 0

భారతదేశంలో అభివృద్ధి చెందిన సాంకేతికతకు సంబంధించి, 'CAWACH' అనే పదం _____ ని సూచిస్తుంది.

Options :

1. ✘ సెంటర్ ఫర్ ఆల్టర్నెటివ్ వార్ విత్ కోవిడ్-19 హెల్త్ క్రైసిస్ (Centre for Alternative WAR with COVID-19 Health Crisis)
2. ✘ సెంటర్ ఫర్ ఆగ్మెంటింగ్ వార్ విత్ చికెన్ పాక్స్ హెల్త్ క్రైసిస్ (Centre for Augmenting WAR with Chickenpox Health Crisis)
3. ✘ సెంటర్ ఫర్ ఆల్టర్నెటివ్ వార్ విత్ చికెన్ పాక్స్ హెల్త్ క్రైసిస్ (Centre for Alternative WAR with Chickenpox Health Crisis)
4. ✔ సెంటర్ ఫర్ ఆగ్మెంటింగ్ వార్ విత్ కోవిడ్-19 హెల్త్ క్రైసిస్ (Centre for Augmenting WAR with COVID-19 Health Crisis)

Question Number : 15 Question Id : 630680227330 Option Shuffling : Yes Is Question Mandatory : No Calculator : None
Response Time : N.A Think Time : N.A Minimum Instruction Time : 0

Correct Marks : 1 Wrong Marks : 0

What do we call the functional form of chemistry in which molecular building blocks snap together quickly and efficiently?

Options :

1. ✘ Micro chemistry
2. ✔ Click chemistry
3. ✘ Nano chemistry
4. ✘ Bio chemistry

Question Number : 15 Question Id : 630680227330 Option Shuffling : Yes Is Question Mandatory : No Calculator : None
Response Time : N.A Think Time : N.A Minimum Instruction Time : 0

Correct Marks : 1 Wrong Marks : 0

పరమాణు బిల్డింగ్ బ్లాక్లు త్వరగా మరియు సమర్థవంతంగా కలిసిపోయే రసాయన శాస్త్రం యొక్క క్రియాత్మక రూపాన్ని మనం ఏమని పిలుస్తాము?

Options :

1. ✘ మైక్రో కెమిస్ట్రీ
2. ✔ క్లిక్ కెమిస్ట్రీ
3. ✘ నానో కెమిస్ట్రీ
4. ✘ బయో కెమిస్ట్రీ

Question Number : 16 Question Id : 630680227331 Option Shuffling : Yes Is Question Mandatory : No Calculator : None
Response Time : N.A Think Time : N.A Minimum Instruction Time : 0

Correct Marks : 1 Wrong Marks : 0

Which of the following pairs of acids and their natural source is/are correct?

I. Acetic Acid – Vinegar

II. Lactic Acid – Lemon

Options :

1. ✓ Only I
2. ✗ Only II
3. ✗ Both I and II
4. ✗ Neither I nor II

Question Number : 16 Question Id : 630680227331 Option Shuffling : Yes Is Question Mandatory : No Calculator : None Response Time : N.A Think Time : N.A Minimum Instruction Time : 0

Correct Marks : 1 Wrong Marks : 0

ఈ క్రింది ఆమ్లాల జతలు మరియు వాటి సహజ మూలాల్లో ఏది/ఏవి సరైనది/ సరైనవి?

- I. ఎసిటిక్ ఆమ్లం - వెనిగర్
- II. లాక్టిక్ ఆమ్లం - నిమ్మకాయ

Options :

1. ✓ I మాత్రమే
2. ✗ II మాత్రమే
3. ✗ I మరియు II రెండూ
4. ✗ I కానీ లేదా II కానీ ఏదీ కాదు

Question Number : 17 Question Id : 630680227332 Option Shuffling : Yes Is Question Mandatory : No Calculator : None Response Time : N.A Think Time : N.A Minimum Instruction Time : 0

Correct Marks : 1 Wrong Marks : 0

Which of the following statements regarding nutrition in human beings are correct?

- I. Alimentary canal extends from the mouth to the anus.
- II. Saliva contains an enzyme called salivary amylase.
- III. Food pipe is also known as oesophagus.

Options :

1. ✗ Only I and II
2. ✗ Only II and III
3. ✗ Only I and III
4. ✓ I, II and III

Question Number : 17 Question Id : 630680227332 Option Shuffling : Yes Is Question Mandatory : No Calculator : None Response Time : N.A Think Time : N.A Minimum Instruction Time : 0 Negative Marks Display Text : 0.0

Correct Marks : 1 Wrong Marks : 0

మానవులలో పోషకాహారానికి సంబంధించి ఈ క్రింది వాటిలో సరైనవి ఏవి?

- I. అన్నవాహిక నోటి నుండి పాయువు వరకు విస్తరించి ఉంటుంది.
- II. లాలాజలంలో లాలాజల అమైలేస్ అనే ఎంజైమ్ ఉంటుంది.
- III. ఆహార గొట్టాన్ని అన్నవాహిక అని కూడా అంటారు.

Options :

1. ✗ I మరియు II మాత్రమే
2. ✗ II మరియు III మాత్రమే
3. ✗ I మరియు III మాత్రమే
4. ✓ I, II మరియు III

Question Number : 18 Question Id : 630680227333 Option Shuffling : Yes Is Question Mandatory : No Calculator : None Response Time : N.A Think Time : N.A Minimum Instruction Time : 0

Correct Marks : 1 Wrong Marks : 0

మానవ మెదడుకు సంబంధించి ఈ క్రింది ప్రకటనలలో ఏది/ ఏవి సరైనది/సరైనవి?

- I. మానవులలో వాంతి అనుమస్తిష్కం చేత నియంత్రించబడుతుంది.
- II. మజ్జ కారణంగా సరళ రేఖలో నేరుగా నడవడం సాధ్యమవుతుంది.

Options :

1. ✗ I మాత్రమే
2. ✗ II మాత్రమే

3. ✘ I మరియు II రెండూ

4. ✔ I కానీ లేదా II కానీ ఏదీ కాదు

Question Number : 18 Question Id : 630680227333 Option Shuffling : Yes Is Question Mandatory : No Calculator : None
Response Time : N.A Think Time : N.A Minimum Instruction Time : 0

Correct Marks : 1 Wrong Marks : 0

Which of the following statements regarding the human brain is/are correct?

- I. Vomiting in humans is controlled by the cerebellum.
II. Walking in a straight line is possible due to the medulla.

Options :

1. ✘ Only I

2. ✘ Only II

3. ✘ Both I and II

4. ✔ Neither I nor II

Question Number : 19 Question Id : 630680227334 Option Shuffling : Yes Is Question Mandatory : No Calculator : None
Response Time : N.A Think Time : N.A Minimum Instruction Time : 0

Correct Marks : 1 Wrong Marks : 0

Which of the following shows the correct match of the tissues with their respective types?

	Tissue		Type
I	Xylem	1	Connective (Animal)
II	Bone	2	Simple (Plant)
III	Parenchyma	3	Complex (Plant)

Options :

1. ✘ I - 2; II - 3; III - 1

2. ✘ I - 2; II - 1; III - 3

3. ✔ I - 3; II - 1; III - 2

4. ✘ I - 3; II - 2; III - 1

Question Number : 19 Question Id : 630680227334 Option Shuffling : Yes Is Question Mandatory : No Calculator : None
Response Time : N.A Think Time : N.A Minimum Instruction Time : 0

Correct Marks : 1 Wrong Marks : 0

ఈ క్రింది వాటిలో ఏది, కణజాలం మరియు వాటి సంబంధిత రకాలతో సరైన జతపరచడాన్ని చూపుతుంది?

	కణజాలం		రకం
I	దారువు	1	అనుసంధాన (జంతువు)
II	ఎముక	2	సరళ (మొక్క)
III	మృదుకణజాలం	3	సంక్లిష్ట (మొక్క)

Options :

1. ✘ I - 2; II - 3; III - 1

2. ✘ I - 2; II - 1; III - 3

3. ✔ I - 3; II - 1; III - 2

4. ✘ I - 3; II - 2; III - 1

Question Number : 20 Question Id : 630680227335 Option Shuffling : Yes Is Question Mandatory : No Calculator : None

Response Time : N.A Think Time : N.A Minimum Instruction Time : 0 Negative Marks Display Text : 0.0

Correct Marks : 1 Wrong Marks : 0

ఈ క్రింది వాటిలో ఏవి వృక్ష రాజ్యం యొక్క ఉభయచరాలుగా పిలువబడతాయి?

Options :

1. ✓ బ్రయోఫైట్స్
2. ✗ శైవలాలు
3. ✗ టెరిడోఫైట్స్
4. ✗ వివృతబీజాలు

Question Number : 20 Question Id : 630680227335 Option Shuffling : Yes Is Question Mandatory : No Calculator : None
Response Time : N.A Think Time : N.A Minimum Instruction Time : 0

Correct Marks : 1 Wrong Marks : 0

Which of the following are known as the amphibians of the plant kingdom?

Options :

1. ✓ Bryophytes
2. ✗ Algae
3. ✗ Pteridophytes
4. ✗ Gymnosperms

Question Number : 21 Question Id : 630680227336 Option Shuffling : Yes Is Question Mandatory : No Calculator : None
Response Time : N.A Think Time : N.A Minimum Instruction Time : 0

Correct Marks : 1 Wrong Marks : 0

The green plants in a terrestrial ecosystem capture about _____% of the energy of sunlight that fall on their leaves and convert it into food energy.

Options :

1. ✗ 0.01
2. ✓ 1
3. ✗ 10
4. ✗ 50

Question Number : 21 Question Id : 630680227336 Option Shuffling : Yes Is Question Mandatory : No Calculator : None
Response Time : N.A Think Time : N.A Minimum Instruction Time : 0

Correct Marks : 1 Wrong Marks : 0

భూసంబంధమైన పర్యావరణ వ్యవస్థలోని ఆకుపచ్చ మొక్కలు వాటి ఆకులపై పడే సూర్యకాంతి యొక్క _____% శక్తిని సంగ్రహించి దానిని ఆహార శక్తిగా మారుస్తాయి.

Options :

1. ✗ 0.01
2. ✓ 1
3. ✗ 10
4. ✗ 50

Question Number : 22 Question Id : 630680227337 Option Shuffling : Yes Is Question Mandatory : No Calculator : None
Response Time : N.A Think Time : N.A Minimum Instruction Time : 0

Correct Marks : 1 Wrong Marks : 0

జనవరి 2023లో, భారతదేశంలోని జోషిమల్లో ఈ క్రింది వాటిలో ఏ సమస్య వెలుగులోకి వచ్చింది?

Options :

1. ✗ వంతెన కూలిపోవడం
2. ✗ సైక్లోనిక్ డిజాస్టర్
3. ✗ సునామీ
4. ✓ భూమి క్షీణత

Question Number : 22 Question Id : 630680227337 Option Shuffling : Yes Is Question Mandatory : No Calculator : None
Response Time : N.A Think Time : N.A Minimum Instruction Time : 0

Correct Marks : 1 Wrong Marks : 0

In January 2023, which of the following problems came to light at Joshimath in India?

Options :

1. ✘ Bridge collapse
2. ✘ Cyclonic disaster
3. ✘ Tsunami
4. ✔ Land subsidence

Question Number : 23 Question Id : 630680227338 Option Shuffling : Yes Is Question Mandatory : No Calculator : None Response Time : N.A Think Time : N.A Minimum Instruction Time : 0

Correct Marks : 1 Wrong Marks : 0

In May 2022, the seventh session of the Global Platform (GP2022) was organised by the UN Office for Disaster Risk Reduction (UNDRR) in _____.

Options :

1. ✔ Bali, Indonesia
2. ✘ Tokyo, Japan
3. ✘ Paris, France
4. ✘ New Delhi, India

Question Number : 23 Question Id : 630680227338 Option Shuffling : Yes Is Question Mandatory : No Calculator : None Response Time : N.A Think Time : N.A Minimum Instruction Time : 0

Correct Marks : 1 Wrong Marks : 0

మే 2022లో, గ్లోబల్ ప్లాట్‌ఫారమ్ (GP2022) యొక్క ఏడవ సెషన్‌ను UN ఆఫీస్ ఫర్ డిజాస్టర్ రిస్క్ రిడక్షన్ (UNDRR) _____లో నిర్వహించింది.

Options :

1. ✔ బాలి, ఇండోనేషియా
2. ✘ టోక్యో, జపాన్
3. ✘ పారిస్, ఫ్రాన్స్
4. ✘ న్యూఢిల్లీ, భారతదేశం

Question Number : 24 Question Id : 630680227339 Option Shuffling : Yes Is Question Mandatory : No Calculator : None Response Time : N.A Think Time : N.A Minimum Instruction Time : 0

Correct Marks : 1 Wrong Marks : 0

Which of the following apps gives the users lightning alerts on the basis of their location in India?

Options :

1. ✔ Damini app
2. ✘ Indra app
3. ✘ Agni app
4. ✘ Kavati app

Question Number : 24 Question Id : 630680227339 Option Shuffling : Yes Is Question Mandatory : No Calculator : None Response Time : N.A Think Time : N.A Minimum Instruction Time : 0

Correct Marks : 1 Wrong Marks : 0

ఈ క్రింది ఏ యాప్ వినియోగదారులకు భారతదేశంలో వారి ప్రాంతం ఆధారంగా పిడుగుల హెచ్చరికలను అందిస్తుంది?

Options :

1. ✔ దామిని యాప్
2. ✘ ఇంద్ర యాప్
3. ✘ అగ్ని యాప్
4. ✘ కావతీ యాప్

Question Number : 25 Question Id : 630680227340 Option Shuffling : Yes Is Question Mandatory : No Calculator : None Response Time : N.A Think Time : N.A Minimum Instruction Time : 0

Correct Marks : 1 Wrong Marks : 0

వాతావరణ మార్పుపై ఐక్యరాజ్య సమితి ప్రేమ్‌వర్క్ కన్వెన్షన్ (UNFCCC) యొక్క 27వ కాన్ఫరెన్స్ ఆఫ్ పార్టీస్ (COP) _____లో

జరిగింది.

Options :

1. ✘ ఫ్రాన్స్
2. ✔ ఈజిప్ట్
3. ✘ భారతదేశం
4. ✘ కెనడా

Question Number : 25 Question Id : 630680227340 Option Shuffling : Yes Is Question Mandatory : No Calculator : None Response Time : N.A Think Time : N.A Minimum Instruction Time : 0

Correct Marks : 1 Wrong Marks : 0

The 27th Conference of the Parties (COP) of the United Nations Framework Convention on Climate Change (UNFCCC) was held in _____.

Options :

1. ✘ France
2. ✔ Egypt
3. ✘ India
4. ✘ Canada

Question Number : 26 Question Id : 630680227341 Option Shuffling : Yes Is Question Mandatory : No Calculator : None Response Time : N.A Think Time : N.A Minimum Instruction Time : 0

Correct Marks : 1 Wrong Marks : 0

Bharat Stage (BS) VI norms are related with _____.

Options :

1. ✘ forest conservation
2. ✘ wildlife conservation
3. ✘ Ramsar sites in India
4. ✔ vehicular emission

Question Number : 26 Question Id : 630680227341 Option Shuffling : Yes Is Question Mandatory : No Calculator : None Response Time : N.A Think Time : N.A Minimum Instruction Time : 0

Correct Marks : 1 Wrong Marks : 0

భారత్ స్టేజ్ (BS) VI నిబంధనలు _____ కి సంబంధించినవి.

Options :

1. ✘ అటవీ సంరక్షణ
2. ✘ వన్యప్రాణుల సంరక్షణ
3. ✘ భారతదేశంలోని రామ్సర్ సైట్లు
4. ✔ వాహన ఉద్ఘాటం

Question Number : 27 Question Id : 630680227342 Option Shuffling : Yes Is Question Mandatory : No Calculator : None Response Time : N.A Think Time : N.A Minimum Instruction Time : 0

Correct Marks : 1 Wrong Marks : 0

Which of the following atmospheric conditions is also known as 'Little Girl'?

Options :

1. ✘ El Niño
2. ✔ La Ninā
3. ✘ Butte
4. ✘ Strait

Question Number : 27 Question Id : 630680227342 Option Shuffling : Yes Is Question Mandatory : No Calculator : None Response Time : N.A Think Time : N.A Minimum Instruction Time : 0

Correct Marks : 1 Wrong Marks : 0

ఈ క్రింది వాటిలో ఏ వాతావరణ పరిస్థితులను 'లిటిల్ గర్ల్' అని కూడా పిలుస్తారు?

Options :

1. ✘ ఎల్ నిస్
2. ✔ లా నినా
3. ✘ బుష్టె
4. ✘ జలసంధి

Question Number : 28 Question Id : 630680227343 Option Shuffling : Yes Is Question Mandatory : No Calculator : None Response Time : N.A Think Time : N.A Minimum Instruction Time : 0

Correct Marks : 1 Wrong Marks : 0

What is the full form of IRENA?

Options :

1. ✘ International Rover Energy Authority
2. ✘ International Rover Energy Agency
3. ✔ International Renewable Energy Agency
4. ✘ International Renewable Energy Authority

Question Number : 28 Question Id : 630680227343 Option Shuffling : Yes Is Question Mandatory : No Calculator : None Response Time : N.A Think Time : N.A Minimum Instruction Time : 0

Correct Marks : 1 Wrong Marks : 0

IRENA యొక్క విస్తరణ రూపం ఏమిటి?

Options :

1. ✘ ఇంటర్నేషనల్ రోవర్ ఎనర్జీ అథారిటీ (International Rover Energy Authority)
2. ✘ ఇంటర్నేషనల్ రోవర్ ఎనర్జీ ఏజెన్సీ (International Rover Energy Agency)
3. ✔ ఇంటర్నేషనల్ రెన్యూవబుల్ ఎనర్జీ ఏజెన్సీ (International Renewable Energy Agency)
4. ✘ ఇంటర్నేషనల్ రెన్యూవబుల్ ఎనర్జీ అథారిటీ (International Renewable Energy Authority)

Question Number : 29 Question Id : 630680227344 Option Shuffling : Yes Is Question Mandatory : No Calculator : None Response Time : N.A Think Time : N.A Minimum Instruction Time : 0

Correct Marks : 1 Wrong Marks : 0

With respect to agriculture, the term 'Endosulfan' is a _____.

Options :

1. ✘ method of rainwater harvesting
2. ✘ GM version of coffee
3. ✘ fertiliser
4. ✔ pesticide

Question Number : 29 Question Id : 630680227344 Option Shuffling : Yes Is Question Mandatory : No Calculator : None Response Time : N.A Think Time : N.A Minimum Instruction Time : 0

Correct Marks : 1 Wrong Marks : 0

వ్యవసాయానికి సంబంధించి, 'ఎండోసల్ఫాన్' అనేది ఒక _____.

Options :

1. ✘ వర్షపు నీటి నిల్వ పద్ధతి
2. ✘ కాఫీ యొక్క GM వెర్షన్
3. ✘ ఎరువు
4. ✔ పురుగుమందు

Question Number : 30 Question Id : 630680227345 Option Shuffling : Yes Is Question Mandatory : No Calculator : None Response Time : N.A Think Time : N.A Minimum Instruction Time : 0

Correct Marks : 1 Wrong Marks : 0

Which of the following statements is/are correct regarding Global Methane Pledge (GMP)?

- I. It was launched at COP26 in 2021.
- II. India is a member of GMP.

Options :

1. ✔ Only I

2. ✘ Only II
3. ✘ Both I and II
4. ✘ Neither I nor II

Question Number : 30 Question Id : 630680227345 Option Shuffling : Yes Is Question Mandatory : No Calculator : None Response Time : N.A Think Time : N.A Minimum Instruction Time : 0

Correct Marks : 1 Wrong Marks : 0

గ్లోబల్ మిథేన్ ప్లెడ్జ్ (GMP)కి సంబంధించి ఈ క్రింది ప్రకటనల్లో ఏది/వి సరైనది/వి?

- I. ఇది 2021లో COP26 వద్ద ప్రారంభించబడింది.
- II. భారతదేశం GMPలో ఒక సభ్య దేశం.

Options :

1. ✔ I మాత్రమే
2. ✘ II మాత్రమే
3. ✘ I మరియు II రెండూ
4. ✘ I కానీ లేదా II కానీ ఏదీ కాదు

Question Number : 31 Question Id : 630680227346 Option Shuffling : Yes Is Question Mandatory : No Calculator : None Response Time : N.A Think Time : N.A Minimum Instruction Time : 0

Correct Marks : 1 Wrong Marks : 0

Which of the following statements is/are correct regarding the National Green Tribunal (NGT) of India?

- I. NGT was established in 2010.
- II. New Delhi is the principal place of sitting for the Tribunal.
- III. Bhopal, Pune, Kolkata and Mumbai are the other four places of sitting of the Tribunal.

Options :

1. ✘ Only I
2. ✘ Only II
3. ✔ Only I and II
4. ✘ I, II and III

Question Number : 31 Question Id : 630680227346 Option Shuffling : Yes Is Question Mandatory : No Calculator : None Response Time : N.A Think Time : N.A Minimum Instruction Time : 0

Correct Marks : 1 Wrong Marks : 0

భారతదేశంలోని జాతీయ హరిత ట్రిబ్యూనల్ (NGT)కి సంబంధించి ఈ క్రింది ప్రకటనల్లో ఏది/ఏవి సరైనది/ సరైనవి?

- I. NGT 2010లో స్థాపించబడింది.
- II. ట్రిబ్యూనల్ సమావేశమయ్యే ప్రధాన ప్రదేశం న్యూఢిల్లీ.
- III. భోపాల్, పూణె, కోల్కతా మరియు ముంబైలు ట్రిబ్యూనల్ సమావేశమయ్యే ఇతర నాలుగు స్థానాలు.

Options :

1. ✘ I మాత్రమే
2. ✘ II మాత్రమే
3. ✔ I మరియు II మాత్రమే
4. ✘ I, II మరియు III

Question Number : 32 Question Id : 630680227347 Option Shuffling : Yes Is Question Mandatory : No Calculator : None Response Time : N.A Think Time : N.A Minimum Instruction Time : 0

Correct Marks : 1 Wrong Marks : 0

Which of the given options correctly shows the arrangement of the following Indian rivers from south to north with respect to their origin points?

- I. Tapi
- II. Krishna
- III. Kaveri

Options :

1. ✘ I, II, III
2. ✔ III, II, I
3. ✘ II, III, I
4. ✘ I, III, II

Question Number : 32 Question Id : 630680227347 Option Shuffling : Yes Is Question Mandatory : No Calculator : None
Response Time : N.A Think Time : N.A Minimum Instruction Time : 0

Correct Marks : 1 Wrong Marks : 0

ఇవ్వబడిన ఐచ్ఛికాలలో ఏది ఈ క్రింది భారతీయ నదులు అవి ఉద్భవించిన ప్రదేశాలకు సంబంధించి దక్షిణం నుండి ఉత్తరం వరకు వాటి సరైన అమరికను చూపుతాయి?

- I. తపతి
- II. కృష్ణా
- III. కావేరి

Options :

1. ✘ I, II, III
2. ✔ III, II, I
3. ✘ II, III, I
4. ✘ I, III, II

Question Number : 33 Question Id : 630680227348 Option Shuffling : Yes Is Question Mandatory : No Calculator : None
Response Time : N.A Think Time : N.A Minimum Instruction Time : 0

Correct Marks : 1 Wrong Marks : 0

ఈ క్రింది ఐచ్ఛికాలలో ఏది పర్వతాలను వాటి రకాలతో సరిగ్గా జతపరచబడింది?

	పర్వతాలు		రకం
I	హిమాలయ పర్వతాలు	1	బ్లాక్ మౌంటైన్స్
II	సాత్పూరా	2	అగ్ని పర్వతాలు
III	మౌంట్ కిలిమంజారో	3	ముడుత పర్వతాలు

Options :

1. ✔ I - 3; II - 1; III-2
2. ✘ I - 3; II - 2; III - 1
3. ✘ I - 1; II - 2; III - 3
4. ✘ I - 1; II - 3; III - 2

Question Number : 33 Question Id : 630680227348 Option Shuffling : Yes Is Question Mandatory : No Calculator : None
Response Time : N.A Think Time : N.A Minimum Instruction Time : 0

Correct Marks : 1 Wrong Marks : 0

Which of the following options correctly matches the mountains with their types?

	Mountain		Type
I	Himalayan mountains	1	Block mountains
II	Satpura	2	Volcanic mountains
III	Mt. Kilimanjaro	3	Fold mountains

Options :

1. ✔ I - 3; II - 1; III-2
2. ✘ I - 3; II - 2; III - 1
3. ✘ I - 1; II - 2; III - 3
4. ✘ I - 1; II - 3; III - 2

Question Number : 34 Question Id : 630680227349 Option Shuffling : Yes Is Question Mandatory : No Calculator : None
Response Time : N.A Think Time : N.A Minimum Instruction Time : 0

Correct Marks : 1 Wrong Marks : 0

Which of the following pairs of part of the western coast and its name is/are correct?

- I. Northern part of the coast – Kannad plain
- II. Central stretch – Konkan
- III. Southern stretch – Malabar coast

Options :

1. ✘ Only I
2. ✘ Only I and II
3. ✘ Only I and III
4. ✔ Only III

Question Number : 34 Question Id : 630680227349 Option Shuffling : Yes Is Question Mandatory : No Calculator : None Response Time : N.A Think Time : N.A Minimum Instruction Time : 0

Correct Marks : 1 Wrong Marks : 0

పశ్చిమ తీరప్రాంతంలోని భాగం మరియు దాని పేరు గల ఈ క్రింది జతలలో ఏది/వి సరైనది/వి?

- I. తీర ప్రాంతంలోని ఉత్తర భాగం – కన్నాడ్ మైదానం
- II. మధ్య అవధి – కొంకణ్
- III. దక్షిణ అవధి - మలబార్ తీర ప్రాంతం

Options :

1. ✘ I మాత్రమే
2. ✘ I మరియు II మాత్రమే
3. ✘ I మరియు III మాత్రమే
4. ✔ III మాత్రమే

Question Number : 35 Question Id : 630680227350 Option Shuffling : Yes Is Question Mandatory : No Calculator : None Response Time : N.A Think Time : N.A Minimum Instruction Time : 0

Correct Marks : 1 Wrong Marks : 0

Which option gives the correct order of the following Himalayan peaks with respect to their height, from highest to lowest?

- I. Makalu
- II. Annapurna
- III. Kamet

Options :

1. ✔ I, II, III
2. ✘ I, III, II
3. ✘ II, III, I
4. ✘ III, I, II

Question Number : 35 Question Id : 630680227350 Option Shuffling : Yes Is Question Mandatory : No Calculator : None Response Time : N.A Think Time : N.A Minimum Instruction Time : 0

Correct Marks : 1 Wrong Marks : 0

ఈ క్రింది హిమాలయ శిఖరాల ఎత్తుకు సంబంధించి, ఎగువ నుండి దిగువ వరకు సరైన క్రమాన్ని ఏ ఐచ్ఛికం అందిస్తుంది?

- I. మకాలు
- II. అన్నపూర్ణ
- III. కామెట్

Options :

1. ✔ I, II, III
2. ✘ I, III, II
3. ✘ II, III, I
4. ✘ III, I, II

Question Number : 36 Question Id : 630680227351 Option Shuffling : Yes Is Question Mandatory : No Calculator : None Response Time : N.A Think Time : N.A Minimum Instruction Time : 0

Correct Marks : 1 Wrong Marks : 0

Which option gives the correct arrangement of the following Indian states with respect to their population, in ascending order, as per the 2011 Census of India?

- I. Karnataka

II. West Bengal

III. Bihar

Options :

1. ✘ II, I, III

2. ✔ I, II, III

3. ✘ III, II, I

4. ✘ I, III, II

Question Number : 36 Question Id : 630680227351 Option Shuffling : Yes Is Question Mandatory : No Calculator : None Response Time : N.A Think Time : N.A Minimum Instruction Time : 0

Correct Marks : 1 Wrong Marks : 0

2011 భారత జనాభా లెక్కల ప్రకారం, ఈ క్రింది భారతీయ రాష్ట్రాల జనాభాకు సంబంధించి ఆరోహణ క్రమంలో సరైన అమరికను ఏ ఎంపిక అందిస్తుంది?

I. కర్ణాటక

II. పశ్చిమ బెంగాల్

III. బీహార్

Options :

1. ✘ II, I, III

2. ✔ I, II, III

3. ✘ III, II, I

4. ✘ I, III, II

Question Number : 37 Question Id : 630680227352 Option Shuffling : Yes Is Question Mandatory : No Calculator : None Response Time : N.A Think Time : N.A Minimum Instruction Time : 0

Correct Marks : 1 Wrong Marks : 0

Which of the following options correctly matches the given Indian States according to their literacy rate in per cent, as per the Census of India 2011?

	State		Literacy Rate
I	Kerala	1	75.55%
II	Bihar	2	94.00%
III	Haryana	3	61.80%

Options :

1. ✘ I - 1; II - 2; III - 3

2. ✔ I - 2; II - 3; III - 1

3. ✘ I - 1; II - 3; III - 2

4. ✘ I - 3; II - 1; III - 2

Question Number : 37 Question Id : 630680227352 Option Shuffling : Yes Is Question Mandatory : No Calculator : None Response Time : N.A Think Time : N.A Minimum Instruction Time : 0

Correct Marks : 1 Wrong Marks : 0

2011 భారత జనాభా లెక్కల ప్రకారం, ఇవ్వబడిన భారతీయ రాష్ట్రాలకు వాటి అక్షరాస్యత శాతం ప్రకారం ఈ క్రింది ఐచ్ఛికాలలో ఏది సరిగ్గా జతపరుస్తుంది?

	రాష్ట్రం		అక్షరాస్యత శాతం
I	కేరళ	1	75.55%
II	బీహార్	2	94.00%
III	హర్యానా	3	61.80%

Options :

1. ✘ I - 1; II - 2; III - 3
2. ✔ I - 2; II - 3; III - 1
3. ✘ I - 1; II - 3; III - 2
4. ✘ I - 3; II - 1; III - 2

Question Number : 38 Question Id : 630680227353 Option Shuffling : Yes Is Question Mandatory : No Calculator : None Response Time : N.A Think Time : N.A Minimum Instruction Time : 0

Correct Marks : 1 Wrong Marks : 0

Which of the following pairs correctly shows the Indian food security scheme and its establishment/introduction year?

Options :

1. ✘ National Food Security Act – 2016
2. ✔ Integrated Child Development Services – 1975
3. ✘ Revamped Public Distribution System – 2002
4. ✘ Targeted Public Distribution System – 1961

Question Number : 38 Question Id : 630680227353 Option Shuffling : Yes Is Question Mandatory : No Calculator : None Response Time : N.A Think Time : N.A Minimum Instruction Time : 0

Correct Marks : 1 Wrong Marks : 0

ఈ క్రింది వాటిలో ఏది భారతీయ ఆహార భద్రతా పథకం మరియు దాని ఏర్పాటు/ప్రవేశ సంవత్సరాన్ని సరిగ్గా చూపుతుంది?

Options :

1. ✘ జాతీయ ఆహార భద్రతా చట్టం - 2016
2. ✔ ఇంటిగ్రేటెడ్ చైల్డ్ డెవలప్ మెంట్ సర్వీసెస్ - 1975
3. ✘ పునరుద్ధరించిన ప్రజా పంపిణీ వ్యవస్థ - 2002
4. ✘ ఉద్దేశిత ప్రజా పంపిణీ వ్యవస్థ - 1961

Question Number : 39 Question Id : 630680227354 Option Shuffling : Yes Is Question Mandatory : No Calculator : None Response Time : N.A Think Time : N.A Minimum Instruction Time : 0

Correct Marks : 1 Wrong Marks : 0

Which of the given pairs is/are correct regarding the Census year and the total population of India in millions (approximate value)?

- I. 1961 – 548.2 million
- II. 1971 – 683.3 million

Options :

1. ✘ Only I
2. ✘ Only II
3. ✘ Both I and II
4. ✔ Neither I nor II

Question Number : 39 Question Id : 630680227354 Option Shuffling : Yes Is Question Mandatory : No Calculator : None Response Time : N.A Think Time : N.A Minimum Instruction Time : 0

Correct Marks : 1 Wrong Marks : 0

జనాభా లెక్కల సంవత్సరం మరియు మిలియన్ల (సుమారు విలువ)లో ఉన్న భారతదేశ జనాభాకు సంబంధించి ఇవ్వబడిన జంటలలో ఏది/ఏవి సరైనది/ సరైనవి?

- I. 1961 - 548.2 మిలియన్లు
- II. 1971 - 683.3 మిలియన్లు

Options :

1. ✘ I మాత్రమే
2. ✘ II మాత్రమే
3. ✘ I మరియు II రెండూ
4. ✔ I కానీ లేదా II కానీ ఏదీ కాదు

Question Number : 40 Question Id : 630680227355 Option Shuffling : Yes Is Question Mandatory : No Calculator : None Response Time : N.A Think Time : N.A Minimum Instruction Time : 0

Correct Marks : 1 Wrong Marks : 0

Which of the following statements is/are correct regarding farming?

- I. In subsistence farming, the land is used for growing food and fodder crops and rearing livestock.
- II. Shifting cultivation is known as Milpa in Northeast India.

Options :

1. ✘ Only I
2. ✘ Only II
3. ✘ Both I and II
4. ✔ Neither I nor II

Question Number : 40 Question Id : 630680227355 Option Shuffling : Yes Is Question Mandatory : No Calculator : None Response Time : N.A Think Time : N.A Minimum Instruction Time : 0

Correct Marks : 1 Wrong Marks : 0

వ్యవసాయానికి సంబంధించి ఈ క్రింది వాటిలో సరైనది/వి ఏది/వి?

I. జీవనాధార వ్యవసాయంలో, భూమి ఆహారం మరియు పశుగ్రాస పంటలను పండించడానికి మరియు పశువుల పెంపకానికి ఉపయోగించబడుతుంది.

II. బదలాయింపు వ్యవసాయమును ఈశాన్య భారతదేశంలో మిల్పా అని అంటారు.

Options :

1. ✘ I మాత్రమే
2. ✘ II మాత్రమే
3. ✘ I మరియు II రెండూ
4. ✔ I కానీ లేదా II కానీ ఏదీ కాదు

Question Number : 41 Question Id : 630680227356 Option Shuffling : Yes Is Question Mandatory : No Calculator : None Response Time : N.A Think Time : N.A Minimum Instruction Time : 0

Correct Marks : 1 Wrong Marks : 0

Which of the following options gives the correct order of low to high quality of coal?

- I. Bituminous
- II. Anthracite
- III. Lignite

Options :

1. ✘ I, II, III
2. ✔ III, I, II
3. ✘ III, II, I
4. ✘ I, III, II

Question Number : 41 Question Id : 630680227356 Option Shuffling : Yes Is Question Mandatory : No Calculator : None Response Time : N.A Think Time : N.A Minimum Instruction Time : 0

Correct Marks : 1 Wrong Marks : 0

ఈ క్రింది ఎంపికలలో ఏది తక్కువ నుండి ఎక్కువ నాణ్యత గల బొగ్గు యొక్క సరైన క్రమాన్ని ఇస్తుంది?

- I. బిట్యుమినస్
- II. అంథ్రాసైట్
- III. లిగ్నైట్

Options :

1. ✘ I, II, III
2. ✔ III, I, II
3. ✘ III, II, I
4. ✘ I, III, II

Question Number : 42 Question Id : 630680227357 Option Shuffling : Yes Is Question Mandatory : No Calculator : None Response Time : N.A Think Time : N.A Minimum Instruction Time : 0

Correct Marks : 1 Wrong Marks : 0

Which of the following options gives the correct arrangement of the given places having Mica reserves, from north to south India?

- I. Gaya
- II. Ajmer
- III. Beawar

Options :

1. ✘ I, II, III
2. ✘ III, II, I
3. ✔ II, III, I
4. ✘ III, I, II

Question Number : 42 Question Id : 630680227357 Option Shuffling : Yes Is Question Mandatory : No Calculator : None Response Time : N.A Think Time : N.A Minimum Instruction Time : 0

Correct Marks : 1 Wrong Marks : 0

ఈ క్రింది ఎంపికలలో ఏది ఉత్తరం నుండి దక్షిణ భారతదేశం వరకు మైకా నిల్వలను కలిగి ఉన్న ప్రదేశాల యొక్క సరైన అమరికను అందిస్తుంది?

- I. గయా
- II. అజ్మీర్
- III. బియావర్

Options :

1. ✘ I, II, III
2. ✘ III, II, I
3. ✔ II, III, I
4. ✘ III, I, II

Question Number : 43 Question Id : 630680227358 Option Shuffling : Yes Is Question Mandatory : No Calculator : None Response Time : N.A Think Time : N.A Minimum Instruction Time : 0

Correct Marks : 1 Wrong Marks : 0

Which of the following statements is/are correct regarding the fundamental duties mentioned in the Indian Constitution?

- I. The 86th Constitutional Amendment Act is related to the fundamental duties.
- II. 'To protect the natural environment' is a fundamental duty.

Options :

1. ✘ Only I
2. ✘ Only II
3. ✔ Both I and II
4. ✘ Neither I nor II

Question Number : 43 Question Id : 630680227358 Option Shuffling : Yes Is Question Mandatory : No Calculator : None Response Time : N.A Think Time : N.A Minimum Instruction Time : 0

Correct Marks : 1 Wrong Marks : 0

భారత రాజ్యాంగంలో పేర్కొన్న ప్రాథమిక విధులకు సంబంధించి ఈ క్రింది వాటిలో సరైనది/వి ఏది/వి?

- I. 86వ రాజ్యాంగ సవరణ చట్టం ప్రాథమిక విధులకు సంబంధించినది.
- II. 'సహజ పర్యావరణాన్ని పరిరక్షించడం' అనేది ఒక ప్రాథమిక విధి.

Options :

1. ✘ I మాత్రమే
2. ✘ II మాత్రమే
3. ✔ I మరియు II
4. ✘ I కానీ లేదా II కానీ ఏదీ కాదు

Question Number : 44 Question Id : 630680227359 Option Shuffling : Yes Is Question Mandatory : No Calculator : None Response Time : N.A Think Time : N.A Minimum Instruction Time : 0

Correct Marks : 1 Wrong Marks : 0

Article 15 of the Indian Constitution provides for prohibition of discrimination on certain grounds. Which of the following grounds is/are NOT included in it?

- I. Religion
- II. Place of birth
- III. Education

Options :

1. ✘ Only I
2. ✘ Only I and II
3. ✘ Only II and III

4. ✓ Only III

Question Number : 44 Question Id : 630680227359 Option Shuffling : Yes Is Question Mandatory : No Calculator : None Response Time : N.A Think Time : N.A Minimum Instruction Time : 0

Correct Marks : 1 Wrong Marks : 0

భారత రాజ్యాంగంలోని అధికరణం 15 నిర్దిష్ట కారణాలపై వివక్షను నిషేధిస్తుంది. ఈ క్రింది వాటిలో ఏది/ఏవి దానిలో చేర్చబడలేదు?

- I. మతం
- II. జన్మ స్థానం
- III. విద్య

Options :

1. ✗ I మాత్రమే
2. ✗ I మరియు II మాత్రమే
3. ✗ II మరియు III మాత్రమే
4. ✓ III మాత్రమే

Question Number : 45 Question Id : 630680227360 Option Shuffling : Yes Is Question Mandatory : No Calculator : None Response Time : N.A Think Time : N.A Minimum Instruction Time : 0

Correct Marks : 1 Wrong Marks : 0

As per the preamble to the Indian Constitution, 'Liberty' of which of the following is/are secured for all citizens?

- I. Faith
- II. Worship
- III. Devotion

Options :

1. ✗ Only I
2. ✓ Only I and II
3. ✗ Only II and III
4. ✗ Only III

Question Number : 45 Question Id : 630680227360 Option Shuffling : Yes Is Question Mandatory : No Calculator : None Response Time : N.A Think Time : N.A Minimum Instruction Time : 0

Correct Marks : 1 Wrong Marks : 0

భారత రాజ్యాంగం యొక్క పీఠిక ప్రకారం, పౌరులందరికీ ఈ క్రింది వాటిలో దేని/వేటి యొక్క 'స్వేచ్ఛ' ఇవ్వబడుతుంది?

- I. విశ్వాసం
- II. ఆరాధన
- III. భక్తి

Options :

1. ✗ I మాత్రమే
2. ✓ I మరియు II మాత్రమే
3. ✗ II మరియు III మాత్రమే
4. ✗ III మాత్రమే

Question Number : 46 Question Id : 630680227361 Option Shuffling : Yes Is Question Mandatory : No Calculator : None Response Time : N.A Think Time : N.A Minimum Instruction Time : 0

Correct Marks : 1 Wrong Marks : 0

Which is the correct arrangement of the given fundamental rights of the Indian Constitution in increasing order of the number of articles mentioned within them?

Options :

1. ✓ Right against Exploitation, Right to Freedom of Religion, Right to Equality
2. ✗ Right to Equality, Right to Freedom of Religion, Right against Exploitation
3. ✗ Right to Freedom of Religion, Right to Equality, Right against Exploitation
4. ✗ Right against Exploitation, Right to Equality, Right to Freedom of Religion

Question Number : 46 Question Id : 630680227361 Option Shuffling : Yes Is Question Mandatory : No Calculator : None

Response Time : N.A Think Time : N.A Minimum Instruction Time : 0

Correct Marks : 1 Wrong Marks : 0

భారత రాజ్యాంగం అందించిన ప్రాథమిక హక్కులను వాటిలో పేర్కొన్న అధికరణాల సంఖ్యను పెంచడంలో సరైన ఏర్పాటు ఏది?

Options :

1. ✓ పీఠాన్ని నిరోధించే హక్కు, మత స్వేచ్ఛ హక్కు, సమానత్వపు హక్కు
2. ✗ సమానత్వపు హక్కు, మత స్వేచ్ఛ హక్కు, పీఠాన్ని నిరోధించే హక్కు
3. ✗ మత స్వేచ్ఛ హక్కు, సమానత్వపు హక్కు, పీఠాన్ని నిరోధించే హక్కు
4. ✗ పీఠాన్ని నిరోధించే హక్కు, సమానత్వపు హక్కు, మత స్వేచ్ఛ హక్కు

Question Number : 47 Question Id : 630680227362 Option Shuffling : Yes Is Question Mandatory : No Calculator : None

Response Time : N.A Think Time : N.A Minimum Instruction Time : 0

Correct Marks : 1 Wrong Marks : 0

Which Part of the Indian Constitution deals with provisions related to the Union?

Options :

1. ✗ Part II
2. ✗ Part III
3. ✗ Part IV
4. ✓ Part V

Question Number : 47 Question Id : 630680227362 Option Shuffling : Yes Is Question Mandatory : No Calculator : None

Response Time : N.A Think Time : N.A Minimum Instruction Time : 0

Correct Marks : 1 Wrong Marks : 0

భారత రాజ్యాంగంలోని ఏ విభాగం సమాఖ్య (యునియన్) కు సంబంధించిన నిబంధనలతో వ్యవహరిస్తుంది?

Options :

1. ✗ విభాగం II
2. ✗ విభాగం III
3. ✗ విభాగం IV
4. ✓ విభాగం V

Question Number : 48 Question Id : 630680227363 Option Shuffling : Yes Is Question Mandatory : No Calculator : None

Response Time : N.A Think Time : N.A Minimum Instruction Time : 0

Correct Marks : 1 Wrong Marks : 0

Who among the following can vote in the elections for the appointment of the President of India?

- I. Elected members of the Legislative Assembly of Delhi.
- II. Elected members of the House of People.

Options :

1. ✗ Only I
2. ✗ Only II
3. ✓ Both I and II
4. ✗ Neither I nor II

Question Number : 48 Question Id : 630680227363 Option Shuffling : Yes Is Question Mandatory : No Calculator : None

Response Time : N.A Think Time : N.A Minimum Instruction Time : 0

Correct Marks : 1 Wrong Marks : 0

ఈ క్రింది వారిలో ఎవరు భారత రాష్ట్రపతి నియామకానికి ఎన్నికలలో ఓటు వేయగలరు?

- I. ఢిల్లీ శాసనసభకు ఎన్నికైన సభ్యులు.
- II. హౌస్ ఆఫ్ పీపుల్ (లోక్ సభ) యొక్క ఎన్నికైన సభ్యులు.

Options :

1. ✗ I మాత్రమే
2. ✗ II మాత్రమే
3. ✓ I మరియు II రెండూ
4. ✗ I కానీ లేదా II కానీ ఏదీ కాదు

Question Number : 49 Question Id : 630680227364 Option Shuffling : Yes Is Question Mandatory : No Calculator : None Response Time : N.A Think Time : N.A Minimum Instruction Time : 0

Correct Marks : 1 Wrong Marks : 0

Which of the following shows the correct arrangement of the given Articles of the Indian Constitution on the basis of the ascending order of their Article numbers?

- I. Appointment of the acting Chief Justice
- II. Appointment of the ad hoc Judges
- III. Supreme Court to be a court of record

Options :

1. ✓ I, II, III
2. ✗ I, III, II
3. ✗ II, I, III
4. ✗ III, I, II

Question Number : 49 Question Id : 630680227364 Option Shuffling : Yes Is Question Mandatory : No Calculator : None Response Time : N.A Think Time : N.A Minimum Instruction Time : 0

Correct Marks : 1 Wrong Marks : 0

ఈ క్రింది వాటిలో ఏది భారత రాజ్యాంగంలోని అధికరణాల సంఖ్యల ఆరోహణ క్రమం యొక్క సరైన అమరికను చూపుతుంది?

- I. తాత్కాలిక ప్రధాన న్యాయమూర్తి నియామకం
- II. తాత్కాలిక న్యాయమూర్తుల నియామకం
- III. సుప్రీంకోర్టు రికార్డు కోర్టుగా ఉండాలి

Options :

1. ✓ I, II, III
2. ✗ I, III, II
3. ✗ II, I, III
4. ✗ III, I, II

Question Number : 50 Question Id : 630680227365 Option Shuffling : Yes Is Question Mandatory : No Calculator : None Response Time : N.A Think Time : N.A Minimum Instruction Time : 0

Correct Marks : 1 Wrong Marks : 0

సెప్టెంబరు 2021 నాటికి ఈ క్రింది వాటిలో ఏది/ఏవి భారతదేశంలో జాతీయ రాజకీయ పార్టీ(లు)గా ఉంది/ఉన్నాయి?

- I. ఏఐఎడీఎంకే (AIADMK)
- II. సమాజ్ వాదీ పార్టీ
- III. జనతాదళ్ (యునైటెడ్)

Options :

1. ✗ I మాత్రమే
2. ✗ I మరియు II మాత్రమే
3. ✗ I మరియు III మాత్రమే
4. ✓ ఏదీకాదు

Question Number : 50 Question Id : 630680227365 Option Shuffling : Yes Is Question Mandatory : No Calculator : None Response Time : N.A Think Time : N.A Minimum Instruction Time : 0

Correct Marks : 1 Wrong Marks : 0

Which of the following was/were national political party(ies) in India, as of September 2021?

- I. AIADMK
- II. Samajwadi Party
- III. Janata Dal (United)

Options :

1. ✗ Only I
2. ✗ Only I and II
3. ✗ Only I and III
4. ✓ None

Question Number : 51 Question Id : 630680227366 Option Shuffling : Yes Is Question Mandatory : No Calculator : None Response Time : N.A Think Time : N.A Minimum Instruction Time : 0

Correct Marks : 1 Wrong Marks : 0

What is the correct chronological order (first to last) of the formation of the given Indian states as full states of the Indian Union?

Options :

1. ✘ Sikkim, Haryana, Nagaland, Telangana
2. ✔ Nagaland, Haryana, Sikkim, Telangana
3. ✘ Nagaland, Telangana, Sikkim, Haryana
4. ✘ Sikkim, Telangana, Nagaland, Haryana

Question Number : 51 Question Id : 630680227366 Option Shuffling : Yes Is Question Mandatory : No Calculator : None Response Time : N.A Think Time : N.A Minimum Instruction Time : 0

Correct Marks : 1 Wrong Marks : 0

భారత సమాఖ్య యొక్క సంపూర్ణ రాష్ట్రాలుగా ఏర్పడిన ఈ క్రింది భారతీయ రాష్ట్రాలకు సంబంధించి వాటి ఆవిర్భావం యొక్క సరైన కాలక్రమ క్రమం (మొదటి నుండి చివరి వరకు) ఏమిటి?

Options :

1. ✘ సిక్కిం, హర్యానా, నాగాలాండ్, తెలంగాణ
2. ✔ నాగాలాండ్, హర్యానా, సిక్కిం, తెలంగాణ
3. ✘ నాగాలాండ్, తెలంగాణ, సిక్కిం, హర్యానా
4. ✘ సిక్కిం, తెలంగాణ, నాగాలాండ్, హర్యానా

Question Number : 52 Question Id : 630680227367 Option Shuffling : Yes Is Question Mandatory : No Calculator : None Response Time : N.A Think Time : N.A Minimum Instruction Time : 0

Correct Marks : 1 Wrong Marks : 0

భారత రాజ్యాంగంలోని ఈ క్రింది ఏ విభాగం పంచాయితీల గురించి ప్రస్తావించింది?

Options :

1. ✘ విభాగం VII
2. ✔ విభాగం IX
3. ✘ విభాగం XI
4. ✘ విభాగం XIII

Question Number : 52 Question Id : 630680227367 Option Shuffling : Yes Is Question Mandatory : No Calculator : None Response Time : N.A Think Time : N.A Minimum Instruction Time : 0

Correct Marks : 1 Wrong Marks : 0

Which of the following Parts of the Indian Constitution mentions about the Panchayats?

Options :

1. ✘ Part VII
2. ✔ Part IX
3. ✘ Part XI
4. ✘ Part XIII

Question Number : 53 Question Id : 630680227368 Option Shuffling : Yes Is Question Mandatory : No Calculator : None Response Time : N.A Think Time : N.A Minimum Instruction Time : 0

Correct Marks : 1 Wrong Marks : 0

Which of the following Articles of the Indian Constitution provides for a committee for metropolitan planning?

Options :

1. ✘ Article 243ZB
2. ✘ Article 243ZC
3. ✘ Article 243ZD
4. ✔ Article 243ZE

Question Number : 53 Question Id : 630680227368 Option Shuffling : Yes Is Question Mandatory : No Calculator : None Response Time : N.A Think Time : N.A Minimum Instruction Time : 0

Correct Marks : 1 Wrong Marks : 0

భారత రాజ్యాంగంలోని ఈ క్రింది ఏ అధికరణంలో మహానగర ప్రణాళిక కోసం కమిటీని ఏర్పాటు చేశారు?

Options :

1. ✘ అధికరణం 243ZB
2. ✘ అధికరణం 243ZC
3. ✘ అధికరణం 243ZD
4. ✔ అధికరణం 243ZE

Question Number : 54 Question Id : 630680227369 Option Shuffling : Yes Is Question Mandatory : No Calculator : None Response Time : N.A Think Time : N.A Minimum Instruction Time : 0

Correct Marks : 1 Wrong Marks : 0

The SVAMITVA scheme is implemented by which of the following Union Ministries?

Options :

1. ✔ Ministry of Panchayati Raj
2. ✘ Ministry Of Earth Sciences
3. ✘ Ministry of Housing and Urban Affairs
4. ✘ Ministry of Urban Development

Question Number : 54 Question Id : 630680227369 Option Shuffling : Yes Is Question Mandatory : No Calculator : None Response Time : N.A Think Time : N.A Minimum Instruction Time : 0

Correct Marks : 1 Wrong Marks : 0

ఈ క్రింది ఏ కేంద్ర మంత్రిత్వ శాఖ ద్వారా SVAMITVA అనే పథకం అమలు చేయబడుతుంది?

Options :

1. ✔ పంచాయతీ రాజ్ మంత్రిత్వ శాఖ
2. ✘ భూ శాస్త్రాల మంత్రిత్వ శాఖ
3. ✘ గృహ మరియు పట్టణ వ్యవహారాల మంత్రిత్వ శాఖ
4. ✘ పట్టణాభివృద్ధి మంత్రిత్వ శాఖ

Question Number : 55 Question Id : 630680227370 Option Shuffling : Yes Is Question Mandatory : No Calculator : None Response Time : N.A Think Time : N.A Minimum Instruction Time : 0

Correct Marks : 1 Wrong Marks : 0

ఈ క్రింది వాటిలో ఏ సంఘటనతో మొదటి ప్రపంచ యుద్ధం ముగిసింది?

Options :

1. ✘ జపాన్ సైన్యం లొంగిపోవడం
2. ✔ ఒట్టోమన్ సామ్రాజ్య ఓటమి
3. ✘ జర్మన్ నియంత ఓటమి
4. ✘ గోడ కూల్చివేత

Question Number : 55 Question Id : 630680227370 Option Shuffling : Yes Is Question Mandatory : No Calculator : None Response Time : N.A Think Time : N.A Minimum Instruction Time : 0

Correct Marks : 1 Wrong Marks : 0

The First World War ended with which of the following events?

Options :

1. ✘ Surrender of the Japanese army
2. ✔ Defeat of the Ottoman Empire
3. ✘ Defeat of the German dictator
4. ✘ Fall of the wall of China

Question Number : 56 Question Id : 630680227371 Option Shuffling : Yes Is Question Mandatory : No Calculator : None Response Time : N.A Think Time : N.A Minimum Instruction Time : 0

Correct Marks : 1 Wrong Marks : 0

Who was the writer of the famous book 'Hind Swaraj'?

Options :

1. ✘ Raja Ram Mohan Roy
2. ✔ Mahatma Gandhi
3. ✘ Lala Lajpat Rai

4. ✖ Jawaharlal Nehru

Question Number : 56 Question Id : 630680227371 Option Shuffling : Yes Is Question Mandatory : No Calculator : None
Response Time : N.A Think Time : N.A Minimum Instruction Time : 0

Correct Marks : 1 Wrong Marks : 0

హింద్ స్వరాజ్ అనే ప్రసిద్ధ పుస్తక రచయిత ఎవరు?

Options :

1. ✖ రాజా రామ్ మోహన్ రాయ్
2. ✔ మహాత్మా గాంధీ
3. ✖ లాలా లజపతిరాయ్
4. ✖ జవహర్‌లాల్ నెహ్రూ

Question Number : 57 Question Id : 630680227372 Option Shuffling : Yes Is Question Mandatory : No Calculator : None
Response Time : N.A Think Time : N.A Minimum Instruction Time : 0

Correct Marks : 1 Wrong Marks : 0

Which of the following statements is/are correct regarding modern Indian history?

- I. In 1918, Vallabhbhai Patel led the peasant movement in Bardoli.
- II. In March 1930, Mahatma Gandhi began the Civil Disobedience Movement.

Options :

1. ✖ Only I
2. ✔ Only II
3. ✖ Both I and II
4. ✖ Neither I nor II

Question Number : 57 Question Id : 630680227372 Option Shuffling : Yes Is Question Mandatory : No Calculator : None
Response Time : N.A Think Time : N.A Minimum Instruction Time : 0

Correct Marks : 1 Wrong Marks : 0

ఆధునిక భారతీయ చరిత్రకు సంబంధించి ఈ క్రింది వాటిలో ఏది/ఏవి సరైనది/ సరైనవి?

- I. 1918లో, వల్లభాయ్ పటేల్ బార్డోలీలో రైతు ఉద్యమానికి నాయకత్వం వహించారు.
- II. మార్చి 1930లో మహాత్మా గాంధీ శాసనోల్లంఘన ఉద్యమాన్ని ప్రారంభించారు.

Options :

1. ✖ I మాత్రమే
2. ✔ II మాత్రమే
3. ✖ I మరియు II రెండూ
4. ✖ I కానీ లేదా II కానీ ఏదీ కాదు

Question Number : 58 Question Id : 630680227373 Option Shuffling : Yes Is Question Mandatory : No Calculator : None
Response Time : N.A Think Time : N.A Minimum Instruction Time : 0

Correct Marks : 1 Wrong Marks : 0

Which of the following pairs of year to battle is/are correct?

- I. 1757 : Battle of Plassey
- II. 1764 : Battle of Buxar

Options :

1. ✖ Only I
2. ✖ Only II
3. ✔ Both I and II
4. ✖ Neither I nor II

Question Number : 58 Question Id : 630680227373 Option Shuffling : Yes Is Question Mandatory : No Calculator : None
Response Time : N.A Think Time : N.A Minimum Instruction Time : 0

Correct Marks : 1 Wrong Marks : 0

యుద్ధానికి సంబంధించిన ఈ క్రింది జంటలలో ఏది/ఏవి సరైనది/సరైనవి?

- I. 1757 : ప్లాసీ యుద్ధం
- II. 1764: బాక్సర్ యుద్ధం

Options :

1. ✘ I మాత్రమే
2. ✘ II మాత్రమే
3. ✔ I మరియు II రెండూ
4. ✘ I కానీ లేదా II కానీ ఏదీ కాదు

Question Number : 59 Question Id : 630680227374 Option Shuffling : Yes Is Question Mandatory : No Calculator : None
Response Time : N.A Think Time : N.A Minimum Instruction Time : 0 Negative Marks Display Text : 0.0

Correct Marks : 1 Wrong Marks : 0

ఈ క్రింది వాటిలో ఏది భారత జాతీయ కాంగ్రెసుకు వారు అధ్యక్షులుగా ఎన్నిసార్లు పనిచేశారనే సంఖ్యకు సంబంధించి ఇవ్వబడిన వ్యక్తుల యొక్క సరైన క్రమాన్ని (పెరుగుతున్న క్రమంలో) చూపుతుంది?

Options :

1. ✔ దాదాభాయ్ నౌరోజీ, సురేంద్రనాథ్ బెనర్జీ, సరోజినీ నాయుడు
2. ✘ సరోజినీ నాయుడు, సురేంద్రనాథ్ బెనర్జీ, దాదాభాయ్ నౌరోజీ
3. ✘ సురేంద్రనాథ్ బెనర్జీ, సరోజినీ నాయుడు, దాదాభాయ్ నౌరోజీ
4. ✘ సురేంద్రనాథ్ బెనర్జీ, దాదాభాయ్ నౌరోజీ, సరోజినీ నాయుడు

Question Number : 59 Question Id : 630680227374 Option Shuffling : Yes Is Question Mandatory : No Calculator : None
Response Time : N.A Think Time : N.A Minimum Instruction Time : 0

Correct Marks : 1 Wrong Marks : 0

Which of the following shows the correct arrangement of the given personalities with respect to the number of times they have been the Presidents of the Indian National Congress (in increasing order)?

Options :

1. ✔ Dadabhai Naoroji, Surendranath Banerjee, Sarojini Naidu
2. ✘ Sarojini Naidu, Surendranath Banerjee, Dadabhai Naoroji
3. ✘ Surendranath Banerjee, Sarojini Naidu, Dadabhai Naoroji
4. ✘ Surendranath Banerjee, Dadabhai Naoroji, Sarojini Naidu

Question Number : 60 Question Id : 630680227375 Option Shuffling : Yes Is Question Mandatory : No Calculator : None
Response Time : N.A Think Time : N.A Minimum Instruction Time : 0

Correct Marks : 1 Wrong Marks : 0

What is the chronological order (first to last) of the following events with respect to Indian history?

- I. Vasco da Gama discovered a sea route to India.
- II. The East India Company acquired a charter from the ruler of England, Queen Elizabeth.
- III. An English factory was set up on the banks of the Hugli river.

Options :

1. ✔ I, II, III
2. ✘ III, II, I
3. ✘ I, III, II
4. ✘ II, III, I

Question Number : 60 Question Id : 630680227375 Option Shuffling : Yes Is Question Mandatory : No Calculator : None
Response Time : N.A Think Time : N.A Minimum Instruction Time : 0

Correct Marks : 1 Wrong Marks : 0

భారతీయ చరిత్రకు సంబంధించి ఈ క్రింది సంఘటనల కాలక్రమం (మొదటి నుండి చివరి వరకు) ఏమిటి?

- I. వాస్కోడిగామా భారతదేశానికి సముద్ర మార్గాన్ని కనుగొన్నాడు.
- II. ఈస్ట్ ఇండియా కంపెనీ ఇంగ్లండ్ పాలకురాలు క్వీన్ ఎలిజబెత్ నుండి ఒక చార్టర్ను పొందింది.
- III. హుగ్లీ నది ఒడ్డున ఒక ఆంగ్ల కర్మాగారం ఏర్పాటు చేయబడింది.

Options :

1. ✔ I, II, III
2. ✘ III, II, I
3. ✘ I, III, II
4. ✘ II, III, I

Question Number : 61 Question Id : 630680227376 Option Shuffling : Yes Is Question Mandatory : No Calculator : None Response Time : N.A Think Time : N.A Minimum Instruction Time : 0

Correct Marks : 1 Wrong Marks : 0

ఈ క్రింది వాటిలో కొత్త ఆర్థిక విధానం (NEP) 1991లోని భారత ప్రభుత్వ ప్రధాన ప్రథమ యత్నం కానిది ఏది?

Options :

1. ✘ సరళీకరణ
2. ✔ ఏకీకరణ
3. ✘ ప్రైవేటీకరణ
4. ✘ ప్రపంచీకరణ

Question Number : 61 Question Id : 630680227376 Option Shuffling : Yes Is Question Mandatory : No Calculator : None Response Time : N.A Think Time : N.A Minimum Instruction Time : 0

Correct Marks : 1 Wrong Marks : 0

Which of the following was NOT a major initiative of the Government of India in the New Economic Policy (NEP) 1991?

Options :

1. ✘ Liberalisation
2. ✔ Unification
3. ✘ Privatisation
4. ✘ Globalisation

Question Number : 62 Question Id : 630680227377 Option Shuffling : Yes Is Question Mandatory : No Calculator : None Response Time : N.A Think Time : N.A Minimum Instruction Time : 0

Correct Marks : 1 Wrong Marks : 0

In India, along with the budget, three policy statements are mandated by the Fiscal Responsibility and Budget Management Act, _____.

Options :

1. ✘ 1991
2. ✘ 1993
3. ✘ 2001
4. ✔ 2003

Question Number : 62 Question Id : 630680227377 Option Shuffling : Yes Is Question Mandatory : No Calculator : None Response Time : N.A Think Time : N.A Minimum Instruction Time : 0

Correct Marks : 1 Wrong Marks : 0

భారతదేశంలో, బడ్జెట్ పాటు, ఆర్థిక బాధ్యత మరియు బడ్జెట్ నిర్వహణ చట్టం, _____ ద్వారా మూడు విధాన ప్రకటనలు తప్పనిసరి.

Options :

1. ✘ 1991
2. ✘ 1993
3. ✘ 2001
4. ✔ 2003

Question Number : 63 Question Id : 630680227378 Option Shuffling : Yes Is Question Mandatory : No Calculator : None Response Time : N.A Think Time : N.A Minimum Instruction Time : 0

Correct Marks : 1 Wrong Marks : 0

కేంద్ర ప్రభుత్వ రంగ ఎంటర్ప్రైజెస్ లో ఒక్కొక్కటి ఒక్కో హోదాతో నిర్దేశించబడ్డాయి. హిందుస్థాన్ ఏరోనాటిక్స్ లిమిటెడ్ హోదా ఏమిటి?

Options :

1. ✘ మహారత్న
2. ✔ నవరత్న
3. ✘ మినీరత్న వర్గం I
4. ✘ మినీరత్న వర్గం II

Question Number : 63 Question Id : 630680227378 Option Shuffling : Yes Is Question Mandatory : No Calculator : None Response Time : N.A Think Time : N.A Minimum Instruction Time : 0

Correct Marks : 1 Wrong Marks : 0

Each of the Central Public Sector Enterprises is designated with a different status. What is the status of Hindustan Aeronautics Limited?

Options :

1. ✘ Maharatana
2. ✔ Navaratna
3. ✘ Miniratna category I
4. ✘ Miniratna category II

Question Number : 64 Question Id : 630680227379 Option Shuffling : Yes Is Question Mandatory : No Calculator : None Response Time : N.A Think Time : N.A Minimum Instruction Time : 0

Correct Marks : 1 Wrong Marks : 0

భారతదేశంలో, ఆర్థిక విధానం యొక్క లక్ష్యంగా 'సమాజం యొక్క సాంఘిక నమూనా' స్థాపనపై ఈ క్రింది విధానాలలో ఏది ఆధారపడి ఉంది?

Options :

1. ✘ కొత్త ఆర్థిక విధానం, 1991
2. ✔ పారిశ్రామిక విధానం, 1956
3. ✘ కొత్త ఆర్థిక విధానం, 2001
4. ✘ పారిశ్రామిక విధానం, 1999

Question Number : 64 Question Id : 630680227379 Option Shuffling : Yes Is Question Mandatory : No Calculator : None Response Time : N.A Think Time : N.A Minimum Instruction Time : 0

Correct Marks : 1 Wrong Marks : 0

In India, which of the following policies was based on the establishment of a 'socialistic pattern of society' as the goal of economic policy?

Options :

1. ✘ New Economic Policy, 1991
2. ✔ Industrial Policy, 1956
3. ✘ New Economic Policy, 2001
4. ✘ Industrial Policy, 1999

Question Number : 65 Question Id : 630680227380 Option Shuffling : Yes Is Question Mandatory : No Calculator : None Response Time : N.A Think Time : N.A Minimum Instruction Time : 0

Correct Marks : 1 Wrong Marks : 0

With respect to the Indian economy, which of the following pairs of Five-Year Plans and their time periods is/are correct?

- I. Fifth Five-Year Plan – 1980-1985
- II. Third Five-Year Plan – 1961-1966

Options :

1. ✘ Only I
2. ✔ Only II
3. ✘ Both I and II
4. ✘ Neither I nor II

Question Number : 65 Question Id : 630680227380 Option Shuffling : Yes Is Question Mandatory : No Calculator : None Response Time : N.A Think Time : N.A Minimum Instruction Time : 0

Correct Marks : 1 Wrong Marks : 0

భారత ఆర్థిక వ్యవస్థకు సంబంధించి, ఈ క్రింది పంచవర్ష ప్రణాళికలు మరియు వాటి కాలవ్యవధులలో ఏది/వి సరైనది/సరైనవి?

- I. ఐదవ పంచవర్ష ప్రణాళిక - 1980-1985
- II. మూడవ పంచవర్ష ప్రణాళిక - 1961-1966

Options :

1. ✘ I మాత్రమే
2. ✔ II మాత్రమే
3. ✘ I మరియు II రెండూ
4. ✘ I కానీ లేదా II కానీ ఏదీ కాదు

Question Number : 66 Question Id : 630680227381 Option Shuffling : Yes Is Question Mandatory : No Calculator : None
Response Time : N.A Think Time : N.A Minimum Instruction Time : 0

Correct Marks : 1 Wrong Marks : 0

2011 జనాభా లెక్కల ప్రకారం భారతదేశంలో లింగ నిష్పత్తి ఎంత?

Options :

1. ✘ ప్రతి వెయ్యి మంది స్త్రీలకు 943 మంది పురుషులు
2. ✔ ప్రతి వెయ్యి మంది పురుషులకు 943 మంది స్త్రీలు
3. ✘ ప్రతి వెయ్యి మంది స్త్రీలకు 933 మంది పురుషులు
4. ✘ ప్రతి వెయ్యి మంది పురుషులకు 933 మంది స్త్రీలు

Question Number : 66 Question Id : 630680227381 Option Shuffling : Yes Is Question Mandatory : No Calculator : None
Response Time : N.A Think Time : N.A Minimum Instruction Time : 0

Correct Marks : 1 Wrong Marks : 0

What is the sex ratio in India as per Census 2011?

Options :

1. ✘ 943 males per thousand females
2. ✔ 943 females per thousand males
3. ✘ 933 males per thousand females
4. ✘ 933 females per thousand males

Question Number : 67 Question Id : 630680227382 Option Shuffling : Yes Is Question Mandatory : No Calculator : None
Response Time : N.A Think Time : N.A Minimum Instruction Time : 0

Correct Marks : 1 Wrong Marks : 0

Which of the following Indian schemes is related to combating the trafficking of women and children?

Options :

1. ✘ Saubhagya scheme
2. ✔ Ujjwala scheme
3. ✘ Pahal scheme
4. ✘ Nari Shakti scheme

Question Number : 67 Question Id : 630680227382 Option Shuffling : Yes Is Question Mandatory : No Calculator : None
Response Time : N.A Think Time : N.A Minimum Instruction Time : 0

Correct Marks : 1 Wrong Marks : 0

ఈ క్రింది వాటిలో ఏ భారతీయ పథకం మహిళలు మరియు పిల్లల అక్రమ రవాణాను నిరోధించేందుకు అమలు చేయబడుతుంది?

Options :

1. ✘ సౌభాగ్య పథకం
2. ✔ ఉజ్జ్వల పథకం
3. ✘ పహల్ పథకం
4. ✘ నారీ శక్తి పథకం

Question Number : 68 Question Id : 630680227383 Option Shuffling : Yes Is Question Mandatory : No Calculator : None
Response Time : N.A Think Time : N.A Minimum Instruction Time : 0

Correct Marks : 1 Wrong Marks : 0

Which of the following tribes of Andaman and Nicobar islands falls under the category of Particularly Vulnerable Tribal Group (PVTG)?

Options :

1. ✘ Birhor
2. ✘ Lodhas
3. ✘ Totos
4. ✔ Jarawas

Question Number : 68 Question Id : 630680227383 Option Shuffling : Yes Is Question Mandatory : No Calculator : None
Response Time : N.A Think Time : N.A Minimum Instruction Time : 0

Correct Marks : 1 Wrong Marks : 0

అండమాన్ మరియు నికోబార్ దీవులలోని ఈ క్రింది తెగలలో ఏది ప్రత్యేకించి హాని కలిగించే గిరిజన తెగ (PVTG) వర్గంలోకి వస్తుంది?

Options :

1. ✘ బిర్వోర్
2. ✘ లోధాస్
3. ✘ టోటోస్
4. ✔ జరావాస్

Question Number : 69 Question Id : 630680227384 Option Shuffling : Yes Is Question Mandatory : No Calculator : None Response Time : N.A Think Time : N.A Minimum Instruction Time : 0

Correct Marks : 1 Wrong Marks : 0

In which district are the Kuntala and Pochera waterfalls located?

Options :

1. ✘ Hyderabad
2. ✔ Adilabad
3. ✘ Nirmal
4. ✘ Jagtial

Question Number : 69 Question Id : 630680227384 Option Shuffling : Yes Is Question Mandatory : No Calculator : None Response Time : N.A Think Time : N.A Minimum Instruction Time : 0

Correct Marks : 1 Wrong Marks : 0

కుంతల మరియు పొచ్చెర జలపాతాలు ఏ జిల్లాలో ఉన్నాయి?

Options :

1. ✘ హైదరాబాద్
2. ✔ ఆదిలాబాద్
3. ✘ నిర్మల్
4. ✘ జగిత్యాల

Question Number : 70 Question Id : 630680227385 Option Shuffling : Yes Is Question Mandatory : No Calculator : None Response Time : N.A Think Time : N.A Minimum Instruction Time : 0

Correct Marks : 1 Wrong Marks : 0

The development of Irrigation in Telangana is mostly dependent on which two rivers and their tributaries as one of the important source of irrigation in the state?

Options :

1. ✘ Godavari and Manjra
2. ✔ Godavari and Krishna
3. ✘ Krishna and Tungabhadra
4. ✘ Godavari and Bhima

Question Number : 70 Question Id : 630680227385 Option Shuffling : Yes Is Question Mandatory : No Calculator : None Response Time : N.A Think Time : N.A Minimum Instruction Time : 0

Correct Marks : 1 Wrong Marks : 0

తెలంగాణలో నీటిపారుదల అభివృద్ధి అనేది ఏ రెండు నదులు మరియు వాటి ఉపనదులపై ఎక్కువగా ఆధారపడి ఉంది?

Options :

1. ✘ గోదావరి మరియు మంజీరా
2. ✔ గోదావరి మరియు కృష్ణా
3. ✘ కృష్ణ మరియు తుంగభద్ర
4. ✘ గోదావరి మరియు భీమ

Question Number : 71 Question Id : 630680227386 Option Shuffling : Yes Is Question Mandatory : No Calculator : None Response Time : N.A Think Time : N.A Minimum Instruction Time : 0 Negative Marks Display Text : 0.0

Correct Marks : 1 Wrong Marks : 0

తెలంగాణలోని వన్యప్రాణుల అభయారణ్యాలు మరియు జాతీయ ఉద్యానవనాలకు సంబంధించి క్రింది మూడు ప్రకటనల

ఆధారంగా కింది ఎంపికలలో ఏది సరికానిది?

- I. పాఖాల సరస్సు మరియు వన్యప్రాణుల అభయారణ్యం తెలంగాణలోని ఖమ్మం జిల్లాలో ఉంది
- II. పోచారం ఆనకట్ట మరియు వన్యప్రాణుల అభయారణ్యం తెలంగాణలోని మెదక్ జిల్లా నుండి 15 km దూరంలో ఉంది.
- III. మహావీర్ హరిణ వనస్థలి జాతీయ ఉద్యానవనం హైదరాబాద్ లో ఉంది.

Options :

1. ✓ ఎంపిక I మాత్రమే సరికానిది
2. ✗ ఎంపిక II మాత్రమే సరికానిది
3. ✗ ఎంపిక III మాత్రమే సరికానిది
4. ✗ I మరియు II ఎంపికలు రెండూ సరికానివి

Question Number : 71 Question Id : 630680227386 Option Shuffling : Yes Is Question Mandatory : No Calculator : None Response Time : N.A Think Time : N.A Minimum Instruction Time : 0 Negative Marks Display Text : 0.0

Correct Marks : 1 Wrong Marks : 0

Which of the following option is incorrect on the basis of the three statements given below with respect to wildlife sanctuaries and National parks in Telangana?

- I. Pakhal Lake and Wildlife Sanctuary is situated in Khammam district of Telangana
- II. Pochram dam and wildlife sanctuary is 15 km from Medak district of Telangana
- III. Mahavir Harina Vanasthali National Park is situated in Hyderabad

Options :

1. ✓ Only option I is incorrect
2. ✗ Only option II is incorrect
3. ✗ Only option III is incorrect
4. ✗ Both option I and II are incorrect

Question Number : 72 Question Id : 630680227387 Option Shuffling : Yes Is Question Mandatory : No Calculator : None Response Time : N.A Think Time : N.A Minimum Instruction Time : 0

Correct Marks : 1 Wrong Marks : 0

What is the name of the pension scheme introduced by Telangana Government with a view to ensure secured life with dignity for all the poor.

Options :

1. ✗ Atal Pension Yojana
2. ✓ Aasara Pension Scheme
3. ✗ Pradhan Mantri Suraksha Bima Yojana
4. ✗ Ladli Scheme

Question Number : 72 Question Id : 630680227387 Option Shuffling : Yes Is Question Mandatory : No Calculator : None Response Time : N.A Think Time : N.A Minimum Instruction Time : 0

Correct Marks : 1 Wrong Marks : 0

పేదలందరికీ గౌరవప్రదమైన సురక్షితమైన జీవితాన్ని కల్పించాలనే ఉద్దేశంతో తెలంగాణ ప్రభుత్వం ప్రవేశపెట్టిన పింఛన్ పథకం యొక్క పేరు ఏమిటి?

Options :

1. ✗ అటల్ పింఛన్ యోజన
2. ✓ ఆసరా పింఛన్ పథకం
3. ✗ ప్రధాన్ మంత్రి సురక్ష బీమా యోజన
4. ✗ లాడ్లీ పథకం

Question Number : 73 Question Id : 630680227388 Option Shuffling : Yes Is Question Mandatory : No Calculator : None Response Time : N.A Think Time : N.A Minimum Instruction Time : 0

Correct Marks : 1 Wrong Marks : 0

In which of the following district the Thousand Pillar Temple located?

Options :

1. ✓ Hanumakonda
2. ✗ Hyderabad
3. ✗ Kamareddy
4. ✗ Karimnagar

Question Number : 73 Question Id : 630680227388 Option Shuffling : Yes Is Question Mandatory : No Calculator : None
Response Time : N.A Think Time : N.A Minimum Instruction Time : 0 Negative Marks Display Text : 0.0

Correct Marks : 1 Wrong Marks : 0

వేయి స్తంభాల గుడి ఈ కింది ఏ జిల్లాలో ఉంది?

Options :

1. ✓ హనుమకొండ
2. ✗ హైదరాబాద్
3. ✗ కామారెడ్డి
4. ✗ కరీంనగర్

Question Number : 74 Question Id : 630680227389 Option Shuffling : Yes Is Question Mandatory : No Calculator : None
Response Time : N.A Think Time : N.A Minimum Instruction Time : 0

Correct Marks : 1 Wrong Marks : 0

Which of the following option is correct on the basis of the two statements given below with respect to current literacy rate in Telangana?

- I. The male literacy rate is 74.95%
- II. The female literacy rate is 67.92%

Options :

1. ✗ Only option I is correct
2. ✗ Only option II is correct
3. ✗ Both option I and II are correct
4. ✓ Both option I and II are incorrect

Question Number : 74 Question Id : 630680227389 Option Shuffling : Yes Is Question Mandatory : No Calculator : None
Response Time : N.A Think Time : N.A Minimum Instruction Time : 0

Correct Marks : 1 Wrong Marks : 0

తెలంగాణలో ప్రస్తుత అక్షరాస్యత రేటుకు సంబంధించి దిగువ ఇవ్వబడిన రెండు ప్రకటనల ఆధారంగా కింది ఎంపికలలో ఏది సరైనది?

- I. పురుషుల అక్షరాస్యత రేటు 74.95%
- II. స్త్రీల అక్షరాస్యత రేటు 67.92%

Options :

1. ✗ ఎంపిక I మాత్రమే సరైనది
2. ✗ ఎంపిక II మాత్రమే సరైనది
3. ✗ I మరియు II ఎంపికలు రెండూ సరైనవి
4. ✓ I మరియు II ఎంపికలు రెండూ సరైనవి కావు

Question Number : 75 Question Id : 630680227390 Option Shuffling : Yes Is Question Mandatory : No Calculator : None
Response Time : N.A Think Time : N.A Minimum Instruction Time : 0

Correct Marks : 1 Wrong Marks : 0

Telangana is the only State in entire Southern India with vast deposits of _____.

Options :

1. ✓ Coal
2. ✗ Aluminum
3. ✗ Iron
4. ✗ Magnesium

Question Number : 75 Question Id : 630680227390 Option Shuffling : Yes Is Question Mandatory : No Calculator : None
Response Time : N.A Think Time : N.A Minimum Instruction Time : 0

Correct Marks : 1 Wrong Marks : 0

మొత్తం దక్షిణ భారతదేశంలో _____ నిక్షేపాలు విస్తృతంగా గల ఏకైక రాష్ట్రం తెలంగాణ.

Options :

1. ✓ బొగ్గు
2. ✗ అల్యూమినియం

3. ✘ ఇనుము
4. ✘ మెగ్నీషియం

Question Number : 76 Question Id : 630680227391 Option Shuffling : Yes Is Question Mandatory : No Calculator : None Response Time : N.A Think Time : N.A Minimum Instruction Time : 0

Correct Marks : 1 Wrong Marks : 0

Which of the following option is correct on the basis of the two statements given below with respect to power and energy in the Telangana state?

- I. Telangana state has the third largest power utility in the country with installed capacity of 4365.30 MW.
- II. The State has 60 power generating projects out of which 15 projects are conventional, while remaining are non-conventional plants.

Options :

1. ✔ Only option I is correct
2. ✘ Only option II is correct
3. ✘ Both option I and II are correct
4. ✘ Both option I and II are incorrect

Question Number : 76 Question Id : 630680227391 Option Shuffling : Yes Is Question Mandatory : No Calculator : None Response Time : N.A Think Time : N.A Minimum Instruction Time : 0

Correct Marks : 1 Wrong Marks : 0

తెలంగాణ రాష్ట్రంలోని విద్యుత్ మరియు శక్తికి సంబంధించి దిగువ ఇవ్వబడిన రెండు వాఖ్యాల ఆధారంగా కింది ఎంపికలలో ఏది సరైనది?

- I. 4365.30 MW వ్యవస్థాపించబడిన సామర్థ్యంతో తెలంగాణ రాష్ట్రం దేశంలోనే మూడవ అతిపెద్ద విద్యుత్ వినియోగాన్ని కలిగి ఉంది.
- II. రాష్ట్రంలో మొత్తం 60 విద్యుత్ ఉత్పాదక ప్రాజెక్టులు ఉన్నాయి, వాటిలో 15 ప్రాజెక్టులు సంప్రదాయకమైనవి, మిగిలినవి సంప్రదాయేతర ప్లాంట్లు.

Options :

1. ✔ ఎంపిక I మాత్రమే సరైనది
2. ✘ ఎంపిక II మాత్రమే సరైనది
3. ✘ I మరియు II ఎంపికలు రెండూ సరైనవి
4. ✘ I మరియు II ఎంపికలు రెండూ సరైనవి కావు

Question Number : 77 Question Id : 630680227392 Option Shuffling : Yes Is Question Mandatory : No Calculator : None Response Time : N.A Think Time : N.A Minimum Instruction Time : 0

Correct Marks : 1 Wrong Marks : 0

Bidri craft is the pride of the Telangana region. Bidri art involves using an alloy of Copper and Zinc, called _____

Options :

1. ✘ Brass
2. ✘ Metal
3. ✔ Gunmetal
4. ✘ Black metal

Question Number : 77 Question Id : 630680227392 Option Shuffling : Yes Is Question Mandatory : No Calculator : None Response Time : N.A Think Time : N.A Minimum Instruction Time : 0 Negative Marks Display Text : 0.0

Correct Marks : 1 Wrong Marks : 0

బిద్రి కళ తెలంగాణ ప్రాంతానికి గర్వకారణం. బిద్రి కళలో _____ అని పిలవబడే రాగి మరియు జింక్ లోహమిశ్రమాన్ని ఉపయోగిస్తారు.

Options :

1. ✘ ఇత్తడి
2. ✘ మెటల్
3. ✔ గన్ మెటల్
4. ✘ బ్లాక్ మెటల్

Question Number : 78 Question Id : 630680227393 Option Shuffling : Yes Is Question Mandatory : No Calculator : None Response Time : N.A Think Time : N.A Minimum Instruction Time : 0

Correct Marks : 1 Wrong Marks : 0

తెలంగాణకు చెందిన డోక్రా లోహపు కళలకు సంబంధించి కింది వాటిలో ఏది సరైనది కాదు?

Options :

1. ✓ దోక్రా లేదా డోక్రాను టెంపుల్ మెటల్ క్రాఫ్ట్ అని కూడా అంటారు
2. ✘ ఆదిలాబాద్ జిల్లాలోని జైనూర్ మండలం, ఉషెగాం, చిట్టల్ బోరిలో ఇది విరివిగా కనిపిస్తుంది
3. ✘ గిరిజన కళలలో బొమ్మలు, గిరిజన దేవతలు మొదలైన వస్తువులు ఉత్పత్తి చేయబడతాయి.
4. ✘ ఈ పనిలో జానపద నమూనాలు, నెమళ్ళు, ఎనుగులు, గుర్రాలు, కొలిచే గిన్నె, దీప పేటికలు మరియు ఇతర సాధారణ కళారూపాలు మరియు సాంప్రదాయక నమూనాలు ఉంటాయి.

Question Number : 78 Question Id : 630680227393 Option Shuffling : Yes Is Question Mandatory : No Calculator : None Response Time : N.A Think Time : N.A Minimum Instruction Time : 0

Correct Marks : 1 Wrong Marks : 0

Which of the following statements is NOT correct with respect to Dokra Metal Craft of Telangana?

Options :

1. ✓ Dhokra or Dokra is also known as Temple metal craft
2. ✘ It is widely seen in Jainoor Mandal, Ushegaon and Chittalbori in Adilabad district
3. ✘ The tribal craft produces objects like figurines, tribal gods, etc.
4. ✘ The work consists of folk motifs, peacocks, elephants, horses, measuring bowl, lamp caskets and other simple art forms and traditional designs.

Question Number : 79 Question Id : 630680227394 Option Shuffling : Yes Is Question Mandatory : No Calculator : None Response Time : N.A Think Time : N.A Minimum Instruction Time : 0

Correct Marks : 1 Wrong Marks : 0

Which of the following statements is NOT correct with regards to the Yakshagana Chindu Bhagawatham art form of Telangana?

Options :

1. ✘ A variant of Yakshagana, Chindu Bhagavatham is performed widely across Telangana
2. ✘ It is a theater art form that combines dance, music, dialogue, costume, make-up, and stage techniques with a unique style and form.
3. ✓ The word 'Chindu' in Telugu means 'dance'.
4. ✘ Most of the stories narrated are from 'Bhagavatam'

Question Number : 79 Question Id : 630680227394 Option Shuffling : Yes Is Question Mandatory : No Calculator : None Response Time : N.A Think Time : N.A Minimum Instruction Time : 0

Correct Marks : 1 Wrong Marks : 0

తెలంగాణ యొక్క యక్షగాన చిందు భాగవతం కళారూపానికి సంబంధించి కింది ఏ ప్రకటన సరైనది కాదు?

Options :

1. ✘ యక్షగాన రూపాంతర చిందు భాగవతం తెలంగాణ అంతటా విస్తృతంగా ప్రదర్శించబడుతుంది
2. ✘ ఇది ప్రత్యేకమైన శైలి మరియు ఆకృతితో నృత్యం, గీతం, డ్రైలాగ్, దుస్తులు, మేకప్ మరియు వేదిక పద్ధతులను కలిపే ఒక థియేటర్ కళారూపం.
3. ✓ తెలుగులో 'చిందు' అనే పదానికి అర్థం 'నృత్యం'.
4. ✘ 'భాగవతం'లోని కథలు ఎక్కువగా చెప్పబడుతాయి.

Question Number : 80 Question Id : 630680227395 Option Shuffling : Yes Is Question Mandatory : No Calculator : None Response Time : N.A Think Time : N.A Minimum Instruction Time : 0

Correct Marks : 1 Wrong Marks : 0

బంజారా నీడిల్ క్రాఫ్ట్లు తెలంగాణలోని బంజారాల (గిరిజన జిప్పీల) తో చేతితో తయారు చేయబడే సాంప్రదాయక _____ ఇది _____ మరియు అద్దం పనుల యొక్క ఒక రూపం.

Options :

1. ✘ హస్తకళ, పెయింటింగ్
2. ✓ బట్టలు, ఎంబ్రాయిడరీ
3. ✘ కుండలు, పెయింటింగ్
4. ✘ గంటలు, పెయింటింగ్

Question Number : 80 Question Id : 630680227395 Option Shuffling : Yes Is Question Mandatory : No Calculator : None

Response Time : N.A Think Time : N.A Minimum Instruction Time : 0

Correct Marks : 1 Wrong Marks : 0

Banjara Needle Crafts are the traditional handmade _____ made by Banjaras (the tribal Gypsies) in Telangana. It is a form of _____ and mirror work.

Options :

1. ✘ **handicraft, painting**
2. ✔ **fabrics, embroidery**
3. ✘ **pots, painting**
4. ✘ **bells, painting**

Question Number : 81 Question Id : 630680227396 Option Shuffling : Yes Is Question Mandatory : No Calculator : None Response Time : N.A Think Time : N.A Minimum Instruction Time : 0

Correct Marks : 1 Wrong Marks : 0

Which of the following is a correct option on the basis of the two statements given below regarding Bathukamma in Telangana?

- I. Bathukamma, a part of Dasara festivities, is unique to Telangana.
- II. Making circles around the assembled Bathukammas, womenfolk recite songs in a group. The songs have their roots in Tribal History

Options :

1. ✘ **Only option I is correct**
2. ✘ **Only option II is correct**
3. ✘ **Both option I and II are correct**
4. ✔ **Both option I and II are incorrect**

Question Number : 81 Question Id : 630680227396 Option Shuffling : Yes Is Question Mandatory : No Calculator : None Response Time : N.A Think Time : N.A Minimum Instruction Time : 0

Correct Marks : 1 Wrong Marks : 0

తెలంగాణలో బతుకమ్మకు సంబంధించి కింది రెండు ప్రకటనల ఆధారంగా కింది ఎంపికలలో ఏది సరైనది?

- I. దసరా సంబరాలలో భాగమైన బతుకమ్మ జాతర తెలంగాణలో ఎంతో ప్రత్యేకమైనది.
- II. అమర్నబడిన బతుకమ్మల చుట్టూ ఒక వృత్తాకారములో ప్రదక్షిణలు చేస్తూ, గుంపులుగా మహిళలు పాటలు పాడతారు. ఆ పాటల యొక్క మూలాలు గిరిజన చరిత్రలో ఉన్నాయి

Options :

1. ✘ **I మాత్రమే సరైన ఎంపిక**
2. ✘ **II మాత్రమే సరైన ఎంపిక**
3. ✘ **I మరియు II ఎంపికలు రెండూ సరైనవి**
4. ✔ **I మరియు II ఎంపికలు రెండూ సరైనవి కావు**

Question Number : 82 Question Id : 630680227397 Option Shuffling : Yes Is Question Mandatory : No Calculator : None Response Time : N.A Think Time : N.A Minimum Instruction Time : 0

Correct Marks : 1 Wrong Marks : 0

Which of the following option on the basis of the four statements given below is correct with respect to Nirmal Arts of Telangana?

- I. The renowned Nirmal oil paintings use pure gold and silver for painting.
- II. These paintings depict themes from the epics such as Ramayana and Mahabharata
- III. The origin of the Nirmal craft is traced back to the Kakatiya era
- IV. The motifs used for Nirmal craft are floral designs and frescoes from the regions of Ajanta and Ellora and Mughal miniatures

Options :

1. ✔ **Only option I is incorrect**
2. ✘ **Only option II is incorrect**
3. ✘ **Only option III is incorrect**
4. ✘ **Only option IV is incorrect**

Question Number : 82 Question Id : 630680227397 Option Shuffling : Yes Is Question Mandatory : No Calculator : None Response Time : N.A Think Time : N.A Minimum Instruction Time : 0

Correct Marks : 1 Wrong Marks : 0

తెలంగాణ నిర్మల్ కళలకు సంబంధించి దిగువ ఇవ్వబడిన నాలుగు ప్రకటనల ఆధారంగా కింది ఎంపికలలో ఏది సరైనది?

- I. ప్రఖ్యాతి చెందిన నిర్మల్ ఆయిల్ పెయింటింగ్ లో స్వచ్ఛమైన బంగారం మరియు వెండి ఉపయోగించబడుతుంది.
- II. ఈ చిత్రాలు రామాయణం మరియు మహాభారతం వంటి ఇతిహాసాల నుండి ఇతివృత్తాలను వర్ణిస్తాయి
- III. నిర్మల్ కళల మూలం కాకతీయ యుగం నుండి గుర్తించబడింది

IV. నిర్మల్ కళలలో ఉపయోగించబడే నమూనాలు అజంతా మరియు ఎల్లోరా మరియు మొఘల్ సూక్ష్మచిత్రాలలోని పూల డిజైన్లు మరియు కుడ్యచిత్రాలు.

Options :

1. ✓ ఎంపిక I మాత్రమే సరికాదు
2. ✘ ఎంపిక II మాత్రమే సరికాదు
3. ✘ ఎంపిక III మాత్రమే సరికాదు
4. ✘ ఎంపిక IV మాత్రమే సరికాదు

Question Number : 83 Question Id : 630680227398 Option Shuffling : Yes Is Question Mandatory : No Calculator : None Response Time : N.A Think Time : N.A Minimum Instruction Time : 0

Correct Marks : 1 Wrong Marks : 0

Which of the following does not correctly match?

Options :

1. ✓ Gunadhya - First poet of Telangana
2. ✘ Mallikarjuna Pandita – First shaivate poet of Telangana
3. ✘ Adi Kavi Pampa - court poet of Arikesari II
4. ✘ Bammara Pothana - the first Indian King who translated the Ramayana from Sanskrit to Telugu

Question Number : 83 Question Id : 630680227398 Option Shuffling : Yes Is Question Mandatory : No Calculator : None Response Time : N.A Think Time : N.A Minimum Instruction Time : 0 Negative Marks Display Text : 0.0

Correct Marks : 1 Wrong Marks : 0

కింది వాటిలో ఏది సరిగ్గా జతపరచబడలేదు?

Options :

1. ✓ గుణాద్యుడు - తెలంగాణ తొలి కవి
2. ✘ మల్లికార్జున పండితుడు - తెలంగాణ తొలి శైవ కవి
3. ✘ ఆదికవి పంప - అరికేసరి II యొక్క ఆస్థాన కవి
4. ✘ బమ్మెర పోతన - రామాయణాన్ని సంస్కృతం నుండి తెలుగులోకి అనువదించిన తొలి భారతీయ రాజు

Question Number : 84 Question Id : 630680227399 Option Shuffling : Yes Is Question Mandatory : No Calculator : None Response Time : N.A Think Time : N.A Minimum Instruction Time : 0

Correct Marks : 1 Wrong Marks : 0

Arrange the name of the composers and writers in the increasing order of the period in which they belonged?

- I. Somadeva Suri Composed Yashodhara-charita
- II. Kakatiya Rudradeva Nitisara: It is a Telugu work dealing with taxes and trade during Kakatiya Rudradeva
- III. Maha Kavi Palkuriki Soman Mallikarjuna Pandita The first shaivate poet of Telangana.
- IV. Jaya Senapathi Nrittaratnavali: This is a work in Sanskrit written by Jaya Senapathi the general and minister of Ganapatideva

Options :

1. ✓ I, III, II, IV
2. ✘ I, II, III, IV
3. ✘ I, IV, III, II
4. ✘ IV, III, II, I

Question Number : 84 Question Id : 630680227399 Option Shuffling : Yes Is Question Mandatory : No Calculator : None Response Time : N.A Think Time : N.A Minimum Instruction Time : 0

Correct Marks : 1 Wrong Marks : 0

స్వరకర్తలు మరియు రచయితల పేరును వారు జీవించిన కాలానుసారం ఆరోహణ క్రమంలో అమర్చండి?

- I. సోమదేవ సూరి యశోధర-చరిత్రను రచించారు
- II. కాకతీయ రుద్రదేవుడు నీతిసార: ఇది కాకతీయ రుద్రదేవుడు కాలంలో పన్నులు మరియు వాణిజ్యం గురించి తెలుపే ఒక తెలుగు రచన
- III. మహాకవి పాల్కురికి సోమన్ మల్లికార్జున పండిత తెలంగాణ తొలి శైవ కవి.
- IV. జయ సేనాపతి నృతరత్నావళి: ఇది గణపతిదేవుని సైన్యాధిపతి మరియు మంత్రి జయ సేనాపతి రచించిన సంస్కృత రచన.

Options :

1. ✓ I, III, II, IV
2. ✘ I, II, III, IV

3. ✘ I, IV, III, II

4. ✘ IV, III, II, I

Question Number : 85 Question Id : 630680227400 Option Shuffling : Yes Is Question Mandatory : No Calculator : None

Response Time : N.A Think Time : N.A Minimum Instruction Time : 0

Correct Marks : 1 Wrong Marks : 0

_____ is the flagship scheme of all health initiatives of the Telangana Government with a mission to provide quality healthcare to the poor.

Options :

1. ✘ Nirogya

2. ✘ Aayusha

3. ✔ Aarogyasri

4. ✘ Amrita

Question Number : 85 Question Id : 630680227400 Option Shuffling : Yes Is Question Mandatory : No Calculator : None

Response Time : N.A Think Time : N.A Minimum Instruction Time : 0

Correct Marks : 1 Wrong Marks : 0

పేదలకు నాణ్యమైన వైద్యం అందించాలనే లక్ష్యంతో తెలంగాణ ప్రభుత్వం చేపట్టిన ఆరోగ్య కార్యక్రమాలలోని ప్రధాన పథకం _____.

Options :

1. ✘ నిరోగ్య

2. ✘ ఆయుషా

3. ✔ ఆరోగ్యశ్రీ

4. ✘ అమృత

Question Number : 86 Question Id : 630680227401 Option Shuffling : Yes Is Question Mandatory : No Calculator : None

Response Time : N.A Think Time : N.A Minimum Instruction Time : 0

Correct Marks : 1 Wrong Marks : 0

Which of the following option is INCORRECT on the basis of the three statements given below with reference to Mecca Masjid of Telangana?

I. The historic Mecca Masjid is located adjacent to Charminar in a south-west direction.

II. The construction of this mosque started in the year 1614 by Sultan Muhammad Qutb Shah

III. Aurangzeb got it completed in 1700

Options :

1. ✘ statement I is incorrect

2. ✘ statement II is incorrect

3. ✔ statement III is incorrect

4. ✘ No statement is incorrect

Question Number : 86 Question Id : 630680227401 Option Shuffling : Yes Is Question Mandatory : No Calculator : None

Response Time : N.A Think Time : N.A Minimum Instruction Time : 0 Negative Marks Display Text : 0.0

Correct Marks : 1 Wrong Marks : 0

తెలంగాణ మక్కా మసీదుకు సంబంధించి కింద ఇవ్వబడిన మూడు ప్రకటనల ఆధారంగా కింది ఎంపికలలో ఏది సరికాదు?

I. చారిత్రాత్మక మక్కా మసీదు చార్మినార్ కు సమీపంలో నైరుతి దిశలో ఉంది.

II. ఈ మసీదు యొక్క నిర్మాణాన్ని 1614లో సుల్తాన్ ముహమ్మద్ కుతుబ్ షా ప్రారంభించారు

III. దీనిని 1700 సంవత్సరంలో ఔరంగజేబు పూర్తి చేశారు

Options :

1. ✘ ప్రకటన I సరికాదు

2. ✘ ప్రకటన II సరికాదు

3. ✔ ప్రకటన III సరికాదు

4. ✘ ఏ ప్రకటనా సరికాదు

Question Number : 87 Question Id : 630680227402 Option Shuffling : Yes Is Question Mandatory : No Calculator : None

Response Time : N.A Think Time : N.A Minimum Instruction Time : 0

Correct Marks : 1 Wrong Marks : 0

Which of the following is Correct Chronological order of the history of the heritage sites and museum in Telangana?

Options :

1. ✘ Charminar > Golkonda fort > Domokonda Fort > Archaeological and Heritage Museum
2. ✔ Golkonda fort > Charminar > Domokonda Fort > Archaeological and Heritage Museum
3. ✘ Archaeological and Heritage Museum > Golkonda fort > Charminar > Domokonda Fort
4. ✘ Domokonda Fort > Archaeological and Heritage Museum > Charminar > Golkonda fort

Question Number : 87 Question Id : 630680227402 Option Shuffling : Yes Is Question Mandatory : No Calculator : None Response Time : N.A Think Time : N.A Minimum Instruction Time : 0

Correct Marks : 1 Wrong Marks : 0

తెలంగాణలోని సంస్కృతిక ప్రదేశాలు మరియు ప్రదర్శనశాలల చరిత్రకు సంబంధించి కింది వాటిలో సరైన కాలక్రమానుసారం ఉన్నది ఏది?

Options :

1. ✘ చార్మినార్ > గోల్కొండ కోట > దోమకొండ కోట > పురావస్తు మరియు సంస్కృతిక ప్రదర్శనశాల
2. ✔ గోల్కొండ కోట > చార్మినార్ > దోమకొండ కోట > పురావస్తు మరియు సంస్కృతిక ప్రదర్శనశాల
3. ✘ పురావస్తు మరియు సంస్కృతిక ప్రదర్శనశాల > గోల్కొండ కోట > చార్మినార్ > దోమకొండ కోట
4. ✘ దోమకొండ కోట > పురావస్తు మరియు సంస్కృతిక ప్రదర్శనశాల > చార్మినార్ > గోల్కొండ కోట

Question Number : 88 Question Id : 630680227403 Option Shuffling : Yes Is Question Mandatory : No Calculator : None Response Time : N.A Think Time : N.A Minimum Instruction Time : 0

Correct Marks : 1 Wrong Marks : 0

Correctly Match the following dishes of Telangana with the raw material which is used to prepare these.

Dish	Raw Material
I. Kodi pulusu and vepudu	a. Spinach and Lentils
II. Venkaya Podichalli	b. Potata
III. Aloo gadda	c. Brinjal
IV. Palakura	d. Chicken

Options :

1. ✘ I. a; II. b; III. c; IV. d
2. ✘ I. b; II. c; III. d; IV. a
3. ✘ I. c; II. b; III. d; IV. a
4. ✔ I. d; II. c; III. b; IV. a

Question Number : 88 Question Id : 630680227403 Option Shuffling : Yes Is Question Mandatory : No Calculator : None Response Time : N.A Think Time : N.A Minimum Instruction Time : 0

Correct Marks : 1 Wrong Marks : 0

ఈ కింది తెలంగాణ వంటకాలను, వాటిని తయారు చేయడానికి ఉపయోగించే ముడిసరుకులను సరిగ్గా జతచేయండి.

వంటకాలు	ముడిసరుకులు
I. కోడి పులుసు మరియు వేపుడు	a. బచ్చలికూర మరియు పప్పులు
II. వంకాయ పొడిచల్లి	b. బంగాళాదుంప
III. ఆలుగడ్డ	c. వంకాయ
IV. పాలకూర	d. చికెన్

Options :

1. ✘ I. a; II. b; III. c; IV. d
2. ✘ I. b; II. c; III. d; IV. a
3. ✘ I. c; II. b; III. d; IV. a
4. ✔ I. d; II. c; III. b; IV. a

Question Number : 89 Question Id : 630680227404 Option Shuffling : Yes Is Question Mandatory : No Calculator : None
Response Time : N.A Think Time : N.A Minimum Instruction Time : 0

Correct Marks : 1 Wrong Marks : 0

Correctly pair the following dance forms of Telangana and their description.

Dance form	Description
I. Dandari- Gussadi	a. tribal dance form that Porja caste women present.
II. Dhimsa	b. folk dance of Telangana performed by the Banjara tribe.
III. Lambadi	c. dance of warriors presented by men
IV. Perini Thandavam	d. dance for gods of the Adilabad district

Options :

1. ✔ I. d; II. a; III. b; IV. c
2. ✘ I. c; II. a; III. b; IV. d
3. ✘ I. a; II. c; III. b; IV. d
4. ✘ I. b; II. d; III. a; IV. c

Question Number : 89 Question Id : 630680227404 Option Shuffling : Yes Is Question Mandatory : No Calculator : None
Response Time : N.A Think Time : N.A Minimum Instruction Time : 0

Correct Marks : 1 Wrong Marks : 0

క్రింద ఇవ్వబడిన తెలంగాణ నృత్య రూపాలను, వాటి వివరణను సరిగ్గా జత చేయండి.

నృత్య రూపం	వివరణ
I. దండారి- గుస్సాడి	a. పోర్జా కులం మహిళలు ప్రదర్శించే గిరిజన నృత్య రూపం.
II. డిమ్సా	b. బంజారా గిరిజనులు ప్రదర్శించే తెలంగాణ జానపద నృత్యం.
III. లంబాడీ	c. పురుషులు ప్రదర్శించే యోధుల నృత్యం
IV. పేరిణి తాండవం	d. ఆదిలాబాద్ జిల్లా దేవతల కొరకు ప్రదర్శించే నృత్యం

Options :

1. ✔ I. d; II. a; III. b; IV. c
2. ✘ I. c; II. a; III. b; IV. d
3. ✘ I. a; II. c; III. b; IV. d
4. ✘ I. b; II. d; III. a; IV. c

Question Number : 90 Question Id : 630680227405 Option Shuffling : Yes Is Question Mandatory : No Calculator : None
Response Time : N.A Think Time : N.A Minimum Instruction Time : 0

Correct Marks : 1 Wrong Marks : 0

Which of the following is the correct order of era of the Telugu literature scholars if era is set in the earliest-first order?

Options :

1. ✔ Maha Kavi Palkuriki Somanatha > Ganapati Deva > Baddena > Prataparudra Yasobhushanam
2. ✘ Ganapatideva > Maha Kavi Palkuriki Somanatha > Baddena > Prataparudra Yasobhushanam
3. ✘ Prataparudra Yasobhushanam > Maha Kavi Palkuriki Somanatha > Ganapatideva > Baddena

4. ✘ Baddena > Maha Kavi Palkuriki Somanatha > Ganapatideva > Prataparudra Yasobhushanam

Question Number : 90 Question Id : 630680227405 Option Shuffling : Yes Is Question Mandatory : No Calculator : None
Response Time : N.A Think Time : N.A Minimum Instruction Time : 0

Correct Marks : 1 Wrong Marks : 0

క్రింది తెలుగు సాహిత్య పండితుల యుగం ఆధారంగా ప్రాచీన యుగాలను ముందుగా ఉంచి ఒక క్రమంలో అమర్చినట్లయితే, కింది వాటిలో సరైన క్రమం ఏది?

Options :

1. ✔ మహా కవి పాల్కురికి సోమనాథ > గణపతి దేవ > బద్దెన > ప్రతాపరుద్ర యశోభూషణం
2. ✘ గణపతిదేవ > మహాకవి పాల్కురికి సోమనాథ > బద్దెన > ప్రతాపరుద్ర యశోభూషణం
3. ✘ ప్రతాపరుద్ర యశోభూషణం > మహాకవి పాల్కురికి సోమనాథ > గణపతిదేవ > బద్దెన
4. ✘ బద్దెన > మహాకవి పాల్కురికి సోమనాథ > గణపతిదేవ > ప్రతాపరుద్ర యశోభూషణం

Question Number : 91 Question Id : 630680227406 Option Shuffling : Yes Is Question Mandatory : No Calculator : None
Response Time : N.A Think Time : N.A Minimum Instruction Time : 0

Correct Marks : 1 Wrong Marks : 0

తెలంగాణలో WE హబ్ ప్రారంభానికి సంబంధించి కింది ప్రకటనలలో ఏది సరైనది కాదు?

Options :

1. ✘ WE హబ్ అనేది మహిళా పారిశ్రామికవేత్తల కొరకు ప్రత్యేకంగా ప్రారంభించబడిన ఇంక్యబేటర్.
2. ✘ సాంకేతికతలో అభివృద్ధి చెందుతున్న అంశాలపై దృష్టి సారించే వినూత్న ఆలోచనలు, పరిష్కారాలు మరియు సత్తా గల మహిళా పారిశ్రామికవేత్తలకు మద్దతు ఇవ్వడమే WE హబ్ లక్ష్యంగా పెట్టుకుంది.
3. ✔ WE హబ్ సేవ రంగానికి మాత్రమే మద్దతు ఇస్తుంది.
4. ✘ మహిళల ఆర్థిక, సామాజిక మరియు మద్దతు అడ్డంకులను తొలగించి వారి వ్యాపారాలలో విజయం సాధించడంలో వారికి సహాయపడటమే WE హబ్ యొక్క ఆదేశం మరియు లక్ష్యం.

Question Number : 91 Question Id : 630680227406 Option Shuffling : Yes Is Question Mandatory : No Calculator : None
Response Time : N.A Think Time : N.A Minimum Instruction Time : 0

Correct Marks : 1 Wrong Marks : 0

Which of the following statements is incorrect with reference to WE Hub start-up in Telangana?

Options :

1. ✘ WE Hub is a start-up incubator exclusively for women entrepreneurs.
2. ✘ WE Hub aims to support women entrepreneurs with innovative ideas, solutions and entities focusing on emerging areas in technology.
3. ✔ WE Hub will only support the Service sector.
4. ✘ The mandate and goal of WE Hub is to eliminate financial, societal and support barriers for women and help them succeed in their enterprises.

Question Number : 92 Question Id : 630680227407 Option Shuffling : Yes Is Question Mandatory : No Calculator : None
Response Time : N.A Think Time : N.A Minimum Instruction Time : 0

Correct Marks : 1 Wrong Marks : 0

Telangana Government launched a pioneering initiative 'KCR Nutrition Kits', which is aimed at _____

Options :

1. ✘ Reducing anemia and improving hemoglobin levels in children below five years of age.
2. ✔ Reducing anemia and improving hemoglobin levels in pregnant women.
3. ✘ Reducing anemia and improving hemoglobin levels in adolescent girls.
4. ✘ Reducing Anemia and improving hemoglobin levels in women of all ages.

Question Number : 92 Question Id : 630680227407 Option Shuffling : Yes Is Question Mandatory : No Calculator : None
Response Time : N.A Think Time : N.A Minimum Instruction Time : 0

Correct Marks : 1 Wrong Marks : 0

_____ లక్ష్యంతో తెలంగాణ ప్రభుత్వం 'కె.సి.ఆర్ న్యూట్రీషన్ కిట్స్'ను ప్రారంభించింది.

Options :

1. ✘ ఐదు సంవత్సరాలలోపు వయస్సు గల పిల్లలలో రక్తహీనతను తగ్గించడం మరియు హిమోగ్లోబిన్ స్థాయిలను మెరుగుపరచడం.

2. ✓ గర్భిణీ స్త్రీలలో రక్తహీనతను తగ్గించడం మరియు హిమోగ్లోబిన్ స్థాయిలను మెరుగుపరచడం.
3. ✘ యుక్వయస్సులో ఉన్న బాలికలలో రక్తహీనతను తగ్గించడం మరియు హిమోగ్లోబిన్ స్థాయిలను మెరుగుపరచడం.
4. ✘ అన్ని వయసుల మహిళల్లో రక్తహీనతను తగ్గించడం మరియు హిమోగ్లోబిన్ స్థాయిలను మెరుగుపరచడం.

Question Number : 93 Question Id : 630680227408 Option Shuffling : Yes Is Question Mandatory : No Calculator : None Response Time : N.A Think Time : N.A Minimum Instruction Time : 0

Correct Marks : 1 Wrong Marks : 0

Which of the following option is correct on the basis of following two statements with respect to government of Telangana's health related policies?

- I. The Telangana State Government to achieve "avoidable blindness-free" status by conducting a Comprehensive and Universal Eye Screening for the entire population of the State under the title 'Kanti Velugu'.
- II. Arogya Lakshmi Scheme provides one nutritious meal every day to pregnant and lactating women and children below the age of six through Anganwadi centres.

Options :

1. ✘ Only statement I is correct
2. ✘ Only statement II is correct
3. ✓ Both statements I and II are correct
4. ✘ Both statements I and II are incorrect

Question Number : 93 Question Id : 630680227408 Option Shuffling : Yes Is Question Mandatory : No Calculator : None Response Time : N.A Think Time : N.A Minimum Instruction Time : 0

Correct Marks : 1 Wrong Marks : 0

తెలంగాణ ప్రభుత్వ ఆరోగ్య సంబంధిత విధానాలకు సంబంధించి కింది రెండు ప్రకటనల ఆధారంగా కింది ఎంపికలలో ఏది సరైనది?

- I. తెలంగాణ రాష్ట్ర ప్రభుత్వం 'కంటి వెలుగు' అన్న పథకంతో రాష్ట్రంలోని మొత్తం జనాభా కొరకు సమగ్ర మరియు సారవంతమైన నేత్ర పరీక్షను నిర్వహించడం ద్వారా "నివారించదగిన అంధత్వం రహిత రాష్ట్రం" హోదాను సాధించాలని లక్ష్యంగా పెట్టుకుంది.
- II. ఆరోగ్య లక్ష్య పథకం కింద అంగన్ వాడీ కేంద్రాల ద్వారా గర్భిణీ స్త్రీలు మరియు బాలింతలు మరియు ఆరేళ్లలోపు పిల్లలకు ప్రతిరోజు ఒక పూట పౌష్టికాహారాన్ని అందిస్తుంది.

Options :

1. ✘ ప్రకటన I మాత్రమే సరైనది
2. ✘ ప్రకటన II మాత్రమే సరైనది
3. ✓ I మరియు II రెండు ప్రకటనలు సరైనవి
4. ✘ I మరియు II రెండు ప్రకటనలు సరైనవి కావు

Question Number : 94 Question Id : 630680227409 Option Shuffling : Yes Is Question Mandatory : No Calculator : None Response Time : N.A Think Time : N.A Minimum Instruction Time : 0

Correct Marks : 1 Wrong Marks : 0

When was the statehood bill for formation of Telangana state passed by both the houses of Parliament?

Options :

1. ✘ January 2014
2. ✓ February 2014
3. ✘ March 2014
4. ✘ April 2014

Question Number : 94 Question Id : 630680227409 Option Shuffling : Yes Is Question Mandatory : No Calculator : None Response Time : N.A Think Time : N.A Minimum Instruction Time : 0

Correct Marks : 1 Wrong Marks : 0

తెలంగాణ రాష్ట్ర ఏర్పాటుకు సంబంధించిన రాష్ట్ర ఏర్పాటు బిల్లును పార్లమెంటు ఉభయ సభలు ఎప్పుడు ఆమోదించాయి?

Options :

1. ✘ జనవరి 2014
2. ✓ ఫిబ్రవరి 2014
3. ✘ మార్చి 2014
4. ✘ ఏప్రిల్ 2014

Question Number : 95 Question Id : 630680227410 Option Shuffling : Yes Is Question Mandatory : No Calculator : None Response Time : N.A Think Time : N.A Minimum Instruction Time : 0

Correct Marks : 1 Wrong Marks : 0

In the first Telangana movement, intellectuals and political leaders gave memorandums to States Reorganisation Commission containing historic, political, economic, social and cultural justifications for creating separate Telangana state. Who amongst the following was NOT one of those representatives?

Options :

1. ✘ Prof Jayashankar
2. ✘ Sri HC Heda
3. ✘ Sri Konda Venkat Ranga Reddy
4. ✔ Shri H.N. Kunzru

Question Number : 95 Question Id : 630680227410 Option Shuffling : Yes Is Question Mandatory : No Calculator : None Response Time : N.A Think Time : N.A Minimum Instruction Time : 0

Correct Marks : 1 Wrong Marks : 0

తెలంగాణ తొలి ఉద్యమంలో ప్రత్యేక తెలంగాణ రాష్ట్రాన్ని ఏర్పరచడానికి చారిత్రక, రాజకీయ, ఆర్థిక, సామాజిక మరియు సాంస్కృతిక సమర్థనలు కలిగి ఉన్న మొదటి మూడు మేధావులు మరియు రాజకీయ నాయకులు రాష్ట్రాల పునర్వ్యవస్థీకరణ కమిషన్ కు ఇచ్చారు. కింది వారిలో ఎవరు ఆ ప్రతినిధులలో ఒకరు కాదు?

Options :

1. ✘ ప్రొఫెసర్ జయశంకర్
2. ✘ శ్రీ హెచ్.సి. హెడా
3. ✘ శ్రీ కొండా వెంకట్ రంగారెడ్డి
4. ✔ శ్రీ హెచ్.ఎన్. కుంజ్రు

Question Number : 96 Question Id : 630680227411 Option Shuffling : Yes Is Question Mandatory : No Calculator : None Response Time : N.A Think Time : N.A Minimum Instruction Time : 0 Negative Marks Display Text : 0.0

Correct Marks : 1 Wrong Marks : 0

Which of the following option is correct on the basis of following two statements with reference to the history of the formation of Telangana state?

- I. During the period between 1955 September and 1956 November, the people of Telangana launched a series of protests demanding statehood by implementing the SRC recommendations.
- II. But intense lobbying by leaders from Neighbour state in New Delhi resulted in the merger of Telangana region in Neighbour state to form the Telangana state.

Options :

1. ✘ Only statement I is correct
2. ✘ Only statement II is correct
3. ✘ Both statement I and II are correct
4. ✔ Both statement I and II are incorrect

Question Number : 96 Question Id : 630680227411 Option Shuffling : Yes Is Question Mandatory : No Calculator : None Response Time : N.A Think Time : N.A Minimum Instruction Time : 0 Negative Marks Display Text : 0.0

Correct Marks : 1 Wrong Marks : 0

తెలంగాణ రాష్ట్ర ఏర్పాటు చరిత్రకు సంబంధించి కింది రెండు ప్రకటనల ఆధారంగా కింది ఎంపికలలో ఏది సరైనది?

- I. 1955 సెప్టెంబరు నుండి 1956 నవంబర్ మధ్య కాలంలో తెలంగాణ ప్రజలు SRC సిఫార్సులను అమలు చేయడం ద్వారా రాష్ట్ర ఏర్పాటును కోరుతూ అనేక నిరసనలు చేపట్టారు.
- II. కానీ పొరుగు రాష్ట్రానికి చెందిన నాయకులు న్యూఢిల్లీలో చేసిన తీవ్రమైన ప్రాబల్యం ఫలితంగా తెలంగాణ రాష్ట్రాన్ని ఏర్పాటు చేయడానికి తెలంగాణ ప్రాంతాన్ని పొరుగు రాష్ట్రంలో విలీనం చేశారు.

Options :

1. ✘ I మాత్రమే సరైనది
2. ✘ II మాత్రమే సరైనది
3. ✘ I మరియు II రెండూ మాత్రమే సరైనవి
4. ✔ I మరియు II రెండూ సరైనవి కావు

Question Number : 97 Question Id : 630680227412 Option Shuffling : Yes Is Question Mandatory : No Calculator : None Response Time : N.A Think Time : N.A Minimum Instruction Time : 0

Correct Marks : 1 Wrong Marks : 0

Match the following events about the formation of Telangana state with the year in which they happened.

Event	Year
I. As the UPA government continued to dilly-dally on the decades old demand for Telangana state, KCR resigned to his ministry	a. 2009
II. TRS party MLAs resigned also walked out of the state government in protest against the delay in Telangana formation	b. 2006
III. TRS allied with TDP, CPI and CPM parties	c. 2008
IV. the UPA government started the statehood process	d. 2013

Options :

1. ✓ I. b; II. c; III. a; IV d
2. ✗ I. a; II. c; III. b; IV d
3. ✗ I. c; II. a; III. d; IV b
4. ✗ I. d; II. c; III. a; IV b

Question Number : 97 Question Id : 630680227412 Option Shuffling : Yes Is Question Mandatory : No Calculator : None Response Time : N.A Think Time : N.A Minimum Instruction Time : 0

Correct Marks : 1 Wrong Marks : 0

తెలంగాణ రాష్ట్ర ఏర్పాటుకు సంబంధించిన క్రింది సంఘటనలను అవి జరిగిన సంవత్సరంతో జతచేయండి.

సంఘటన	సంవత్సరం
I. దశాబ్దాల నాటి తెలంగాణ రాష్ట్ర డిమాండ్పై యు.పి.ఎ ప్రభుత్వం ఉత్తర కొనసాగించడంతో కె.సీ.ఆర్ తన మంత్రివర్గానికి రాజీనామా చేశారు.	a. 2009
II. తెలంగాణ ఏర్పాటు ఆలస్యానికి నిరసనగా టీ.ఆర్.ఎస్ పార్టీ ఎమ్మెల్యేలు రాజీనామా చేయడంతోపాటు రాష్ట్ర ప్రభుత్వం నుంచి వాకౌట్ కూడా చేశారు	b. 2006
III. టీ.డి.పీ, సీ.పీ.ఐ, సీ.పీ.ఎం పార్టీలతో టీ.ఆర్.ఎస్ పొత్తు పెట్టుకుంది	c. 2008
IV. యూ.పి.ఎ ప్రభుత్వం రాష్ట్ర ఏర్పాటు ప్రక్రియను ప్రారంభించింది	d.2013

Options :

1. ✓ I. b; II. c; III. a; IV d
2. ✗ I. a; II. c; III. b; IV d
3. ✗ I. c; II. a; III. d; IV b
4. ✗ I. d; II. c; III. a; IV b

Question Number : 98 Question Id : 630680227413 Option Shuffling : Yes Is Question Mandatory : No Calculator : None Response Time : N.A Think Time : N.A Minimum Instruction Time : 0 Negative Marks Display Text : 0.0

Correct Marks : 1 Wrong Marks : 0

తెలంగాణ రాష్ట్ర ఏర్పాటు డిమాండ్కు సంబంధించి క్రింది నాలుగు సంఘటనల కాలక్రమానుసార (మొదటి నుండి చివరికి) సరైన ఎంపిక ఏది?

- I. ప్రత్యేక తెలంగాణ రాష్ట్రాన్ని కోరుతూ భారతీయ జనతా పార్టీ (బి.జె.పి)లోని ఒక యూనిట్ ఒక తీర్మానాన్ని పాస్ చేసింది.
- II. అప్పటి ఏ.పీ రాష్ట్ర అసెంబ్లీ డిప్యూటీ స్పీకర్ గా ఉన్న శ్రీ కల్వకుంట్ల చంద్రశేఖర్ రావు (కేసీఆర్) తెలంగాణ అంశంపై నేపథ్య పని ప్రారంభించారు.
- III. తెలంగాణ మేధావులతో విస్తృత చర్చలను జరిపిన తరువాత తెలంగాణ రాష్ట్ర సమితిని ప్రారంభిస్తున్నట్లు కే.సీ.ఆర్ ప్రకటించారు.
- IV. టీ.ఆర్.ఎస్ కాంగ్రెస్ తో ఎన్నికల పొత్తు పెట్టుకుంది

Options :

1. ✘ III, II, I, IV
2. ✘ II, III, I, IV
3. ✔ I, II, III, IV
4. ✘ IV, III, II, I

Question Number : 98 Question Id : 630680227413 Option Shuffling : Yes Is Question Mandatory : No Calculator : None Response Time : N.A Think Time : N.A Minimum Instruction Time : 0

Correct Marks : 1 Wrong Marks : 0

Which of the following is correct chronological order(From first to last) for the four events related to demand for formation of Telangana state?

- I. unit of the Bharatiya Janata Party (BJP) passed a resolution seeking a separate Telangana
- II. Sri Kalvakuntla Chandrashekar Rao (KCR), who was then the Deputy Speaker of AP State assembly, had started background work on Telangana issue
- III. After detailed discussions and deliberations with a plethora of Telangana intellectuals, KCR announced the launch of Telangana Rashtra Samithi
- IV. TRS entered into a poll alliance with Congress party

Options :

1. ✘ III, II, I, IV
2. ✘ II, III, I, IV
3. ✔ I, II, III, IV
4. ✘ IV, III, II, I

Question Number : 99 Question Id : 630680227414 Option Shuffling : Yes Is Question Mandatory : No Calculator : None Response Time : N.A Think Time : N.A Minimum Instruction Time : 0

Correct Marks : 1 Wrong Marks : 0

Which of the following pairs has incorrect/wrong information in its second part?

Options :

1. ✘ As an economic, social, cultural and historical entity Telangana has a glorious history 2500 years or more
2. ✘ Remnants of iron ore smelting found at many places demonstrate the hoary roots of artisanship and tool making in Telangana for ---- --at least two thousand years
3. ✔ Megasthenes, who visited India in the 4th century BCE, wrote that there were 30 fortified towns of Andhras -----and a majority of them were not in Telangana.
4. ✘ One of the first five disciples of the Buddha, Kondanna is a typical name from Telangana the earliest known Buddhist township of Kondapur in Medak district is believed to be after him.

Question Number : 99 Question Id : 630680227414 Option Shuffling : Yes Is Question Mandatory : No Calculator : None Response Time : N.A Think Time : N.A Minimum Instruction Time : 0

Correct Marks : 1 Wrong Marks : 0

కింది ఏ జత వాఖ్యం యొక్క రెండవ భాగం సరైనది కాదు/తప్పు సమాచారాన్ని కలిగి ఉంది?

Options :

1. ✘ ఆర్థిక, సామాజిక, సాంస్కృతిక మరియు చారిత్రక అస్తిత్వంలో తెలంగాణకు 2500 సంవత్సరాలు లేదా అంతకంటే ఎక్కువ అద్భుతమైన పురాతన చరిత్ర ఉంది.
2. ✘ ఎన్నో ప్రదేశాలలో దొరికిన కరిగించిన ఇనుప ఖనిజము అవశేషాలు కనీసం రెండు వేల సంవత్సరాలుగా తెలంగాణలో చేతివృత్తి మరియు పనిముట్ల తయారీకి గల మూలాధారాలను తెలియజేస్తాయి.
3. ✔ క్రీస్తు పూర్వం 4వ శతాబ్దంలో భారతదేశాన్ని సందర్శించిన మెగస్తనీస్, ఆంధ్రాలో కోటలతో కూడిన పట్టణాలు 30 ఉన్నాయని రాశారు మరియు వాటిలో అధిక భాగం తెలంగాణలో లేవు.
4. ✘ బుద్ధుని మొదటి ఐదుగురు శిష్యులలో కొండన్న ఒకరు, కొండన్న అనేది తెలంగాణకు చెందిన ఒక సాధారణ పేరు. అతని పేరు మీదుగా మెదక్ జిల్లాలోని కొండపూర్ అనే మొట్టమొదటి బౌద్ధ పట్టణం పిలవబడుతోందని నమ్ముతున్నారు.

Question Number : 100 Question Id : 630680227415 Option Shuffling : Yes Is Question Mandatory : No Calculator : None Response Time : N.A Think Time : N.A Minimum Instruction Time : 0

Correct Marks : 1 Wrong Marks : 0

Which of the following events are in first happens first order?

Options :

1. ✘ People of Telangana started organizing themselves under various organizations with a demand for separate state of Telangana.> KCR resigned to the Karimnagar Lok Sabha seat and won it with a thumping majority.> The state unit of the Bharatiya Janata Party (BJP) passed a resolution seeking a separate Telangana.>

After 4 years of peaceful and impactful protests, the UPA government started the statehood process and concluded the process by passing the statehood bill in both houses of Parliament

2. ✖ People of Telangana started organizing themselves under various organizations with a demand for separate state of Telangana.>

The state unit of the Bharatiya Janata Party (BJP) passed a resolution seeking a separate Telangana.>

After 4 years of peaceful and impactful protests, the UPA government started the statehood process and concluded the process by passing the statehood bill in both houses of Parliament >

KCR resigned to the Karimnagar Lok Sabha seat and won it with a thumping majority.

3. ✖ The state unit of the Bharatiya Janata Party (BJP) passed a resolution seeking a separate Telangana.>

KCR resigned to the Karimnagar Lok Sabha seat and won it with a thumping majority.>

People of Telangana started organizing themselves under various organizations with a demand for separate state of Telangana.>

After 4 years of peaceful and impactful protests, the UPA government started the statehood process and concluded the process by passing the statehood bill in both houses of Parliament

4. ✔ People of Telangana started organizing themselves under various organizations with a demand for separate state of Telangana. >

The state unit of the Bharatiya Janata Party (BJP) passed a resolution seeking a separate Telangana. >

KCR resigned to the Karimnagar Lok Sabha seat and won it with a thumping majority. >

After 4 years of peaceful and impactful protests, the UPA government started the statehood process and concluded the process by passing the statehood bill in both houses of Parliament

Question Number : 100 Question Id : 630680227415 Option Shuffling : Yes Is Question Mandatory : No Calculator : None

Response Time : N.A Think Time : N.A Minimum Instruction Time : 0

Correct Marks : 1 Wrong Marks : 0

క్రింది వాటి ఏది మొదటగా జరిగిన సంఘటనల క్రమంలో అమర్చబడి ఉన్నాయి?

Options :

1. ✖ తెలంగాణ ప్రజలు ప్రత్యేక తెలంగాణా రాష్ట్రాన్ని డిమాండ్ చేస్తూ వివిధ సంస్థల క్రింద తమను తాము నిర్వహించుకోవడం ప్రారంభించారు.>

కే.సీ.ఆర్ కరింనగర్ లోక్ సభ స్థానానికి రాజీనామా చేసి అఖండ మెజారిటీతో దానిని గెలుపొందారు>

భారతీయ జనతా పార్టీ (బి.జె.పి) రాష్ట్ర శాఖ ప్రత్యేక తెలంగాణ కోరుతూ తీర్మానం పాస్ చేసింది.>

4 సంవత్సరాల శాంతియుత మరియు ప్రభావవంతమైన నిరసనల తరువాత, యు.పి.ఎ ప్రభుత్వం రాష్ట్ర ఏర్పాటు ప్రక్రియను ప్రారంభించింది మరియు పార్లమెంటు ఉభయ సభలలో రాష్ట్ర ఏర్పాటు బిల్లును ఆమోదించడం ద్వారా ప్రక్రియను ముగించింది.

2. ✖ తెలంగాణ ప్రజలు ప్రత్యేక తెలంగాణా రాష్ట్రాన్ని డిమాండ్ చేస్తూ వివిధ సంస్థల క్రింద తమను తాము నిర్వహించుకోవడం ప్రారంభించారు.>

భారతీయ జనతా పార్టీ (బి.జె.పి) రాష్ట్ర శాఖ ప్రత్యేక తెలంగాణ కోరుతూ తీర్మానం పాస్ చేసింది.>

4 సంవత్సరాల శాంతియుత మరియు ప్రభావవంతమైన నిరసనల తరువాత, యు.పి.ఎ ప్రభుత్వం రాష్ట్ర ఏర్పాటు ప్రక్రియను ప్రారంభించింది మరియు పార్లమెంటు ఉభయ సభలలో రాష్ట్ర ఏర్పాటు బిల్లును ఆమోదించడం ద్వారా ప్రక్రియను ముగించింది.>

కే.సీ.ఆర్ కరింనగర్ లోక్ సభ స్థానానికి రాజీనామా చేసి అఖండ మెజారిటీతో దానిని గెలుపొందారు.

3. ✖ భారతీయ జనతా పార్టీ (బి.జె.పి) రాష్ట్ర శాఖ ప్రత్యేక తెలంగాణ కోరుతూ తీర్మానం పాస్ చేసింది.>

కే.సీ.ఆర్ కరింనగర్ లోక్ సభ స్థానానికి రాజీనామా చేసి అఖండ మెజారిటీతో దానిని గెలుపొందారు>

తెలంగాణ ప్రజలు ప్రత్యేక తెలంగాణా రాష్ట్రాన్ని డిమాండ్ చేస్తూ వివిధ సంస్థల క్రింద తమను తాము నిర్వహించుకోవడం ప్రారంభించారు.>

4 సంవత్సరాల శాంతియుత మరియు ప్రభావవంతమైన నిరసనల తరువాత, యు.పి.ఎ ప్రభుత్వం రాష్ట్ర ఏర్పాటు ప్రక్రియను ప్రారంభించింది మరియు పార్లమెంటు ఉభయ సభలలో రాష్ట్ర ఏర్పాటు బిల్లును ఆమోదించడం ద్వారా ప్రక్రియను ముగించింది.

4. ✔ తెలంగాణ ప్రజలు ప్రత్యేక తెలంగాణా రాష్ట్రాన్ని డిమాండ్ చేస్తూ వివిధ సంస్థల క్రింద తమను తాము నిర్వహించుకోవడం ప్రారంభించారు.>

భారతీయ జనతా పార్టీ (బి.జె.పి) రాష్ట్ర శాఖ ప్రత్యేక తెలంగాణ కోరుతూ తీర్మానం పాస్ చేసింది. >

కే.సీ.ఆర్ కరింనగర్ లోక్ సభ స్థానానికి రాజీనామా చేసి అఖండ మెజారిటీతో దానిని గెలుపొందారు. >

4 సంవత్సరాల శాంతియుత మరియు ప్రభావవంతమైన నిరసనల తరువాత, యు.పి.ఎ ప్రభుత్వం రాష్ట్ర ఏర్పాటు ప్రక్రియను ప్రారంభించింది మరియు పార్లమెంటు ఉభయ సభలలో రాష్ట్ర ఏర్పాటు బిల్లును ఆమోదించడం ద్వారా ప్రక్రియను ముగించింది.

Question Number : 101 Question Id : 630680227416 Option Shuffling : Yes Is Question Mandatory : No Calculator : None

Response Time : N.A Think Time : N.A Minimum Instruction Time : 0

Correct Marks : 1 Wrong Marks : 0

Which of the following is correct chronological order of events for formation of Telangana from 1947 to 1970?

i. Hyderabad remained an independent princely state for a period of 13 months

ii. People of Telangana region in Hyderabad state, started organizing themselves with a demand for separate state

iii. People of Telangana region submitted several memorandums to the SRC and expressed their wish to constitute Telangana as a separate state

iv. The Commission submitted its report and recommended formation of Telangana state.

Options :

1. ✘ iv, iii, i, ii
2. ✘ iii, ii, i, iv
3. ✔ i, ii, iii, iv
4. ✘ iv, iii, ii, i

Question Number : 101 Question Id : 630680227416 Option Shuffling : Yes Is Question Mandatory : No Calculator : None Response Time : N.A Think Time : N.A Minimum Instruction Time : 0

Correct Marks : 1 Wrong Marks : 0

1947 నుండి 1970 వరకు తెలంగాణ ఏర్పాటుకు సంబంధించి కింది వాటిలో సరైన కాలక్రమానుసారం గల ఎంపిక ఏది?

- i. హైదరాబాద్ 13 నెలల పాటు స్వతంత్ర సంస్థానంగా కొనసాగింది
- ii. హైదరాబాద్ రాష్ట్రంలోని తెలంగాణ ప్రాంత ప్రజలు ప్రత్యేక రాష్ట్రాన్ని డిమాండ్ చేస్తూ తమను తాము నిర్వహించుకోవడం ప్రారంభించారు
- iii. తెలంగాణ ప్రాంత ప్రజలు SRCకి అనేక మెమోరాండంలు సమర్పిస్తూ తెలంగాణను ప్రత్యేక రాష్ట్రంగా ఏర్పాటు చేయాలని తమ కోరికను వ్యక్తం చేశారు.
- iv. కమిషన్ తన నివేదికను సమర్పించి తెలంగాణ రాష్ట్ర ఏర్పాటును సిఫార్సు చేసింది.

Options :

1. ✘ iv, iii, i, ii
2. ✘ iii, ii, i, iv
3. ✔ i, ii, iii, iv
4. ✘ iv, iii, ii, i

Question Number : 102 Question Id : 630680227417 Option Shuffling : Yes Is Question Mandatory : No Calculator : None Response Time : N.A Think Time : N.A Minimum Instruction Time : 0

Correct Marks : 1 Wrong Marks : 0

Which of the following option is correct on the basis of following three statements with reference to socio-cultural history of Telangana?

- I. For about one thousand years (400 BCE-600CE), non-Brahmanical religious and cultural traditions flourished in Telangana, shaping the socio-cultural ethos in the most formative period of its history.
- II. As anti-Brahmanic religions condemned caste hierarchy, social discrimination, and women enslavement, Telangana society evolved based on the non-Aryan communitarian ethic.
- III. Elements of pre-Vedic social cohesion as prevalent in the tribal society were discontinued.

Options :

1. ✘ Only statement I is incorrect
2. ✘ Only statement II is incorrect
3. ✔ Only statement III is incorrect
4. ✘ All statements are correct

Question Number : 102 Question Id : 630680227417 Option Shuffling : Yes Is Question Mandatory : No Calculator : None Response Time : N.A Think Time : N.A Minimum Instruction Time : 0

Correct Marks : 1 Wrong Marks : 0

తెలంగాణ సామాజిక-సాంస్కృతిక చరిత్రకు సంబంధించి క్రింది మూడు ప్రకటనల ఆధారంగా కింది ఎంపికలలో ఏది సరైనది?

- I. సుమారు వెయ్యి సంవత్సరాలు (400 BCE-600CE), బ్రాహ్మణేతర మత మరియు సాంస్కృతిక సంప్రదాయాలు తెలంగాణాలో అభివృద్ధి చెందాయి, దాని చరిత్రలోని అత్యంత నిర్మాణాత్మక కాలంలో సామాజిక-సాంస్కృతిక ధర్మాలను రూపొందించాయి.
- II. బ్రాహ్మణ వ్యతిరేక మతాలు కుల సోపానక్రమం, సామాజిక వివక్ష మరియు స్త్రీ బానిసత్వాన్ని ఖండించడంతో, తెలంగాణ సమాజం ఆర్యయేతర సమాజ నీతి ఆధారంగా అభివృద్ధి చెందింది.
- III. ఆదివాసీ సమాజంలో ప్రబలంగా ఉన్న వేద పూర్వ సామాజిక ఐక్యత యొక్క అంశాలు నిలిపివేయబడ్డాయి.

Options :

1. ✘ ప్రకటన I మాత్రమే సరికాదు
2. ✘ ప్రకటన II మాత్రమే సరికాదు
3. ✔ ప్రకటన III మాత్రమే సరికాదు
4. ✘ అన్ని ప్రకటనలు సరైనవి

Question Number : 103 Question Id : 630680227418 Option Shuffling : Yes Is Question Mandatory : No Calculator : None Response Time : N.A Think Time : N.A Minimum Instruction Time : 0

Correct Marks : 1 Wrong Marks : 0

తెలంగాణ సరిహద్దు రాష్ట్రాలకు సంబంధించి కింది వాటిలో ఏది సరైనది కాదు?

Options :

1. ✘ తెలంగాణకు ఉత్తరాన మహారాష్ట్ర సరిహద్దు ఉంది
2. ✘ తూర్పున ఛత్తీస్ గఢ్
3. ✔ పశ్చిమాన పశ్చిమ బెంగాల్
4. ✘ తూర్పు మరియు దక్షిణాన ఆంధ్ర ప్రదేశ్

Question Number : 103 Question Id : 630680227418 Option Shuffling : Yes Is Question Mandatory : No Calculator : None Response Time : N.A Think Time : N.A Minimum Instruction Time : 0

Correct Marks : 1 Wrong Marks : 0

Which of the following is NOT correct with reference to bordering states of Telangana?

Options :

1. ✘ Telangana is bordered by the state of Maharashtra to the north
2. ✘ Chhattisgarh to the east
3. ✔ West Bengal to the west
4. ✘ Andhra Pradesh to the east and south

Question Number : 104 Question Id : 630680227419 Option Shuffling : Yes Is Question Mandatory : No Calculator : None Response Time : N.A Think Time : N.A Minimum Instruction Time : 0

Correct Marks : 1 Wrong Marks : 0

Which of the following option is correct on the basis of following two statements with respect to history of religions in Telangana?

- I. Till 6th century, Telangana was predominantly ruled by the Buddhist and is the home of Mahayana Buddhism.
- II. From the 15th century onwards Islam began to spread in this region.

Options :

1. ✘ Only statement I is correct
2. ✔ Only statement II is correct
3. ✘ Both statements I and II are correct
4. ✘ Both statements I and II are incorrect

Question Number : 104 Question Id : 630680227419 Option Shuffling : Yes Is Question Mandatory : No Calculator : None Response Time : N.A Think Time : N.A Minimum Instruction Time : 0

Correct Marks : 1 Wrong Marks : 0

తెలంగాణలోని మతాల చరిత్రకు సంబంధించి కింది రెండు ప్రకటనల ఆధారంగా కింది ఎంపికలలో ఏది సరైనది?

- I. 6వ శతాబ్దం వరకు, తెలంగాణ ప్రధానంగా బౌద్ధులచే పాలించబడింది మరియు మహాయాన బౌద్ధమతానికి నిలయం.
- II. 15వ శతాబ్దం నుండి ఈ ప్రాంతంలో ఇస్లాం మతం వ్యాప్తి చెందడం ప్రారంభమైంది.

Options :

1. ✘ ప్రకటన I మాత్రమే సరైనది
2. ✔ ప్రకటన II మాత్రమే సరైనది
3. ✘ I మరియు II రెండు ప్రకటనలు సరైనవి
4. ✘ I మరియు II రెండు ప్రకటనలు సరైనవి కావు

Question Number : 105 Question Id : 630680227420 Option Shuffling : Yes Is Question Mandatory : No Calculator : None Response Time : N.A Think Time : N.A Minimum Instruction Time : 0 Negative Marks Display Text : 0.0

Correct Marks : 1 Wrong Marks : 0

Which of the following option is correct on the basis of following two statements with respect to given dance forms of Telangana?

- I. Burra Katha is a form of dance which has evolved from a dance called Tandana Katha.
- II. Burra Katha is mainly performed by a group of five main artists in the centre.
- III. Bhamakalapam and Gollakalapam are famous traditional dances which emphasise on the moral values initiated by Sidhenra Yogi.

Options :

1. ✘ All the three options are incorrect
2. ✘ Only option I is incorrect
3. ✔ Only option II is incorrect
4. ✘ Only option III is incorrect

Question Number : 105 Question Id : 630680227420 Option Shuffling : Yes Is Question Mandatory : No Calculator : None Response Time : N.A Think Time : N.A Minimum Instruction Time : 0 Negative Marks Display Text : 0.0

Correct Marks : 1 Wrong Marks : 0

తెలంగాణ నృత్య రూపాలకు సంబంధించి క్రింద ఇవ్వబడిన రెండు ప్రకటనల ఆధారంగా కింది ఎంపికలలో ఏది సరైనది?

I. బుర్ర కథ అనేది తందాన కథ అనే నృత్యం నుండి ఉద్భవించిన ఒక నృత్య రూపం.

II. ప్రధానంగా ఐదుగురు ప్రధాన కళాకారుల బృందం చే బుర్ర కథ ప్రదర్శించబడుతుంది.

III. భామాకలాపం మరియు గొల్లకలాపం ప్రసిద్ధ సాంప్రదాయ నృత్యాలు, ఇవి సిద్ధం యోగి ప్రారంభించిన నైతిక విలువల అవధారణము.

Options :

1. ✘ మూడు ఎంపికలూ సరైనవి కావు
2. ✘ ఎంపిక I మాత్రమే సరైనది కాదు
3. ✔ ఎంపిక II మాత్రమే సరైనది కాదు
4. ✘ ఎంపిక III మాత్రమే సరైనది కాదు

Question Number : 106 Question Id : 630680227421 Option Shuffling : Yes Is Question Mandatory : No Calculator : None Response Time : N.A Think Time : N.A Minimum Instruction Time : 0

Correct Marks : 1 Wrong Marks : 0

According to the Department for Promotion of Industry and Internal Trade (DPIIT), between October 2019-June 2022, FDI inflow in Telangana stood at US\$ 3,994 million. The state ranked _____ in India in terms of FDI inflow.

Options :

1. ✘ 5th
2. ✘ 6th
3. ✘ 7th
4. ✔ 8th

Question Number : 106 Question Id : 630680227421 Option Shuffling : Yes Is Question Mandatory : No Calculator : None Response Time : N.A Think Time : N.A Minimum Instruction Time : 0

Correct Marks : 1 Wrong Marks : 0

పరిశ్రమల ప్రోత్సాహం మరియు అంతర్గత వాణిజ్య విభాగం (డిపార్ట్‌మెంట్ ఫర్ ప్రమోషన్ ఆఫ్ ఇండస్ట్రీ అండ్ ఇంటర్నల్ ట్రేడ్- DPIIT) ప్రకారం, అక్టోబర్ 2019-జూన్ 2022 మధ్య, తెలంగాణలో FDI US\$ 3,994 మిలియన్లు పొందింది. FDI నుండి పొందిన రుసుము పరంగా భారతదేశంలో మన రాష్ట్రం _____ స్థానంలో ఉంది.

Options :

1. ✘ 5th
2. ✘ 6th
3. ✘ 7th
4. ✔ 8th

Question Number : 107 Question Id : 630680227422 Option Shuffling : Yes Is Question Mandatory : No Calculator : None Response Time : N.A Think Time : N.A Minimum Instruction Time : 0

Correct Marks : 1 Wrong Marks : 0

To check rising incidents of crime against women, the Telangana government has constituted a seven member committee to advise it on the measures to be taken for the safety and security of women and girls. Out of 77 recommendations by this committee, one was to form _____ to keep tab on the eve-teasers and stalkers in crowded places.

Options :

1. ✘ MOTHER Teams
2. ✘ WOMAN Teams
3. ✔ SHE Teams
4. ✘ LADLI Teams

Question Number : 107 Question Id : 630680227422 Option Shuffling : Yes Is Question Mandatory : No Calculator : None Response Time : N.A Think Time : N.A Minimum Instruction Time : 0

Correct Marks : 1 Wrong Marks : 0

మహిళలపై పెరుగుతున్న నేరాలను అరికట్టడానికి, మహిళలు మరియు బాలికల సురక్షిత మరియు భద్రత కొరకు తీసుకోవలసిన చర్యలపై సలహా ఇవ్వడానికి తెలంగాణ ప్రభుత్వం ఏడుగురు సభ్యుల కమిటీని ఏర్పాటు చేసింది. రద్దీగా ఉండే ప్రదేశాలలో

ఆకతాయిలు మరియు వేదింపులకు గురి చేసే వారిపై నిఘా ఉంచడానికి _____ని రూపొందించడం ఈ కమిటీ చేసిన 77 సిఫార్సులలో ఒకటి.

Options :

1. ✘ MOTHER టీమ్స్
2. ✘ WOMAN టీమ్స్
3. ✔ SHE టీమ్స్
4. ✘ LADLI టీమ్స్

Question Number : 108 Question Id : 630680227423 Option Shuffling : Yes Is Question Mandatory : No Calculator : None Response Time : N.A Think Time : N.A Minimum Instruction Time : 0 Negative Marks Display Text : 0.0

Correct Marks : 1 Wrong Marks : 0

Who among the following become the first Home Minister of Telangana state?

Options :

1. ✘ Kadiyam Srihari
2. ✘ G. Jagadish Reddy
3. ✘ Jogu Ramanna
4. ✔ Nayini Narsimha Reddy

Question Number : 108 Question Id : 630680227423 Option Shuffling : Yes Is Question Mandatory : No Calculator : None Response Time : N.A Think Time : N.A Minimum Instruction Time : 0 Negative Marks Display Text : 0.0

Correct Marks : 1 Wrong Marks : 0

కింది వారిలో తెలంగాణ రాష్ట్రానికి తొలి హోమ్ మంత్రిగా పనిచేశారు?

Options :

1. ✘ కడియం శ్రీహరి
2. ✘ G. జగదీష్ రెడ్డి
3. ✘ జోగు రామన్న
4. ✔ నాయని నర్సింహ రెడ్డి

Question Number : 109 Question Id : 630680227424 Option Shuffling : Yes Is Question Mandatory : No Calculator : None Response Time : N.A Think Time : N.A Minimum Instruction Time : 0

Correct Marks : 1 Wrong Marks : 0

తెలంగాణ రాష్ట్ర ఏర్పాటుకు సంబంధించి కింది వాటిలో సరైనది ఏది?

Options :

1. ✘ కొత్తగా ఏర్పడిన తెలంగాణ రాష్ట్రంలో మొదటి సార్వత్రిక ఎన్నికలు ఏప్రిల్ 2014లో జరిగాయి
2. ✘ తెలంగాణలో 2018 రాష్ట్ర అసెంబ్లీ ఎన్నికల్లో, 119 స్థానాలకు గానూ 63 స్థానాల్లో తెలంగాణ రాష్ట్ర సమితి విజయం సాధించింది.
3. ✔ తెలంగాణ తొలి ముఖ్యమంత్రిగా శ్రీ కె చంద్రశేఖర రావు ప్రమాణ స్వీకారం చేశారు
4. ✘ 2014 మే 21న తెలంగాణ రాష్ట్రం పద్ధతి ప్రకారము ప్రారంభించబడింది.

Question Number : 109 Question Id : 630680227424 Option Shuffling : Yes Is Question Mandatory : No Calculator : None Response Time : N.A Think Time : N.A Minimum Instruction Time : 0

Correct Marks : 1 Wrong Marks : 0

Which of the following statements is correct with reference to formation of Telangana state?

Options :

1. ✘ First General elections in newly created state of Telangana were held in April 2014
2. ✘ In 2018 State Assembly elections in Telangana, Telangana Rashtra Samithi emerged victorious by winning 63 of the 119 seats
3. ✔ Sri K Chandrashekar Rao was sworn in as the First Chief Minister of Telangana
4. ✘ The Telangana state was inaugurated formally on May 21, 2014.

Question Number : 110 Question Id : 630680227425 Option Shuffling : Yes Is Question Mandatory : No Calculator : None Response Time : N.A Think Time : N.A Minimum Instruction Time : 0

Correct Marks : 1 Wrong Marks : 0

Pochampally and Gadwal, represent name of which products of Telangana?

Options :

1. ✘ Men's wear
2. ✔ Sarees
3. ✘ Paintings
4. ✘ Dance forms

Question Number : 110 Question Id : 630680227425 Option Shuffling : Yes Is Question Mandatory : No Calculator : None Response Time : N.A Think Time : N.A Minimum Instruction Time : 0

Correct Marks : 1 Wrong Marks : 0

పోచంపల్లి మరియు గద్వాల అనేవి ఏ తెలంగాణ ఉత్పత్తుల పేరును సూచిస్తాయి?

Options :

1. ✘ పురుషుల దుస్తులు
2. ✔ చీరలు
3. ✘ పెయింటింగ్స్
4. ✘ నృత్య రూపాలు

Question Number : 111 Question Id : 630680227426 Option Shuffling : Yes Is Question Mandatory : No Calculator : None Response Time : N.A Think Time : N.A Minimum Instruction Time : 0

Correct Marks : 1 Wrong Marks : 0

A, B, C, D, E మరియు F అనే ఆరుగురు అమ్మాయిలు ఒక వరుసలో తూర్పు వైపుకి తిరిగి కూర్చున్నారు (ఇదే క్రమంలో ఉండాలి అవసరం లేదు). ఇద్దరు అమ్మాయిలు F మరియు D ల మధ్యలో కూర్చున్నారు మరియు F వరుసకు ఒక చివర కూర్చున్నారు. F యొక్క కుడి వైపున రెండవ స్థానంలో A కూర్చుంది. C కి ఎడమ వైపున మూడవ స్థానంలో B కూర్చుంది. అయిన F కి కుడి వైపున నాల్గవ స్థానంలో ఎవరు కూర్చున్నారు?

Options :

1. ✔ C
2. ✘ A
3. ✘ E
4. ✘ B

Question Number : 111 Question Id : 630680227426 Option Shuffling : Yes Is Question Mandatory : No Calculator : None Response Time : N.A Think Time : N.A Minimum Instruction Time : 0

Correct Marks : 1 Wrong Marks : 0

Six girls A, B, C, D, E and F are sitting in a row facing towards east (not necessarily in the same order). Two girls are sitting between F and D and F is sitting at one of the end. A is second to the right of F. B is third to the left of C. Who is sitting fourth to the right of F?

Options :

1. ✔ C
2. ✘ A
3. ✘ E
4. ✘ B

Question Number : 112 Question Id : 630680227427 Option Shuffling : Yes Is Question Mandatory : No Calculator : None Response Time : N.A Think Time : N.A Minimum Instruction Time : 0

Correct Marks : 1 Wrong Marks : 0

Five boys A, K, L, M and P are sitting around a circular table facing opposite to the centre. K is to the immediate right of A. M is second to the left of A. L is the neighbour of A and M. Who is sitting to the immediate right of P?

Options :

1. ✔ M
2. ✘ K
3. ✘ A
4. ✘ L

Question Number : 112 Question Id : 630680227427 Option Shuffling : Yes Is Question Mandatory : No Calculator : None Response Time : N.A Think Time : N.A Minimum Instruction Time : 0

Correct Marks : 1 Wrong Marks : 0

A, K, L, M మరియు P అనే ఐదుగురు అబ్బాయిలు ఒక వృత్తాకార టేబుల్ చుట్టూ కేంద్రాభిముఖంగా కూర్చున్నారు. A కు తక్షణం కుడి వైపున K కూర్చున్నాడు. A కు ఎడమ వైపున రెండవ స్థానంలో M కూర్చున్నాడు. A మరియు M ల యొక్క పొరుగున L ఉన్నాడు.

అయిన P కి తక్షణం కుడి వైపున ఎవరు కూర్చున్నారు?

Options :

1. ✓ M
2. ✗ K
3. ✗ A
4. ✗ L

Question Number : 113 Question Id : 630680227428 Option Shuffling : Yes Is Question Mandatory : No Calculator : None
Response Time : N.A Think Time : N.A Minimum Instruction Time : 0

Correct Marks : 1 Wrong Marks : 0

ఒకవేళ ఈరోజు శుక్రవారం అయినట్లైతే, 21 రోజుల తర్వాత ఏ రోజు వస్తుంది?

Options :

1. ✗ ఆదివారం
2. ✗ శనివారం
3. ✗ గురువారం
4. ✓ శుక్రవారం

Question Number : 113 Question Id : 630680227428 Option Shuffling : Yes Is Question Mandatory : No Calculator : None
Response Time : N.A Think Time : N.A Minimum Instruction Time : 0

Correct Marks : 1 Wrong Marks : 0

If today is Friday, then what will be the day after 21 days?

Options :

1. ✗ Sunday
2. ✗ Saturday
3. ✗ Thursday
4. ✓ Friday

Question Number : 114 Question Id : 630680227429 Option Shuffling : Yes Is Question Mandatory : No Calculator : None
Response Time : N.A Think Time : N.A Minimum Instruction Time : 0

Correct Marks : 1 Wrong Marks : 0

Mayur is standing in row having 56 people in total. His rank from the start of the row is 26. What is his rank from the end of the row?

Options :

1. ✗ 32
2. ✗ 29
3. ✓ 31
4. ✗ 30

Question Number : 114 Question Id : 630680227429 Option Shuffling : Yes Is Question Mandatory : No Calculator : None
Response Time : N.A Think Time : N.A Minimum Instruction Time : 0

Correct Marks : 1 Wrong Marks : 0

మొత్తం 56 మందిని కలిగి వున్న ఒక వరుసలో మయూర్ నిలబడి ఉన్నాడు. వరుస ప్రారంభం నుండి అతని ర్యాంకు 26. వరుస చివరి నుండి అతని ర్యాంకు ఎంత?

Options :

1. ✗ 32
2. ✗ 29
3. ✓ 31
4. ✗ 30

Question Number : 115 Question Id : 630680227430 Option Shuffling : Yes Is Question Mandatory : No Calculator : None
Response Time : N.A Think Time : N.A Minimum Instruction Time : 0

Correct Marks : 1 Wrong Marks : 0

Which day of week was it on 4 September 2015?

Options :

1. ✘ Wednesday
2. ✔ Friday
3. ✘ Thursday
4. ✘ Saturday

Question Number : 115 Question Id : 630680227430 Option Shuffling : Yes Is Question Mandatory : No Calculator : None Response Time : N.A Think Time : N.A Minimum Instruction Time : 0

Correct Marks : 1 Wrong Marks : 0

4 సెప్టెంబర్ 2015 న వారంలో ఏ రోజు వస్తుంది?

Options :

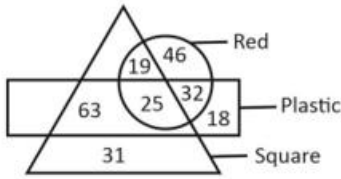
1. ✘ బుధవారం
2. ✔ శుక్రవారం
3. ✘ గురువారం
4. ✘ శనివారం

Question Number : 116 Question Id : 630680227431 Option Shuffling : Yes Is Question Mandatory : No Calculator : None Response Time : N.A Think Time : N.A Minimum Instruction Time : 0 Negative Marks Display Text : 0.0

Correct Marks : 1 Wrong Marks : 0

Study the given diagram and answer the question that follows.

The diagram shows the number of bottles of different types.



Arrange the following in the increasing order of their numbers.

- I. Square plastic (not red) bottles
- II. Red plastic (not square) bottles
- III. Red square (not plastic) bottles

Options :

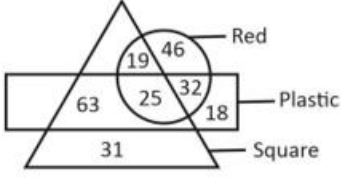
1. ✘ II < I < III
2. ✘ II < III < I
3. ✔ III < II < I
4. ✘ III < I < II

Question Number : 116 Question Id : 630680227431 Option Shuffling : Yes Is Question Mandatory : No Calculator : None Response Time : N.A Think Time : N.A Minimum Instruction Time : 0 Negative Marks Display Text : 0.0

Correct Marks : 1 Wrong Marks : 0

ఇచ్చిన పటాన్ని అధ్యయనం చేసి, ఈ క్రింది ప్రశ్నకు సమాధానం ఇవ్వండి.

పటం వివిధ రకాల సీసాల సంఖ్యను చూపుతుంది.



అనువాద సూచన:

Red- ఎరుపు; plastic- ప్లాస్టిక్; square- చతురస్రపు

ఈ క్రింది వాటిని వాటి సంఖ్యల పరంగా పెరిగే క్రమంలో అమర్చండి.

I. చతురస్రపు ప్లాస్టిక్ (ఎరుపు కానటువంటి) సీసాలు

II. ఎరుపు ప్లాస్టిక్ (చతురస్రపు కానటువంటి) సీసాలు

III. ఎరుపు చతురస్రపు (ప్లాస్టిక్ కానటువంటి) సీసాలు

Options :

1. ✘ II < I < III
2. ✘ II < III < I
3. ✔ III < II < I
4. ✘ III < I < II

Question Number : 117 Question Id : 630680227432 Option Shuffling : Yes Is Question Mandatory : No Calculator : None Response Time : N.A Think Time : N.A Minimum Instruction Time : 0

Correct Marks : 1 Wrong Marks : 0

Read the given statements and conclusions carefully. Assuming that the information given in the statements is true, even if it appears to be at variance with commonly known facts, decide which of the given conclusions logically follow from the statements.

Statements:

- I. All X are Y.
- II. All Y are Z.
- III. Some X are A.

Conclusions:

- I. Some Y are A.
- II. Some Z are A.
- III. Some X are A.

Options :

1. ✘ Both conclusions I and II follow
2. ✘ Both conclusions I and III follow
3. ✘ Both conclusions II and III follow
4. ✔ All conclusions follow

Question Number : 117 Question Id : 630680227432 Option Shuffling : Yes Is Question Mandatory : No Calculator : None Response Time : N.A Think Time : N.A Minimum Instruction Time : 0

Correct Marks : 1 Wrong Marks : 0

ఇవ్వబడిన ప్రకటనలను మరియు తీర్మానాలను జాగ్రత్తగా చదవండి. ప్రకటనల్లో ఇవ్వబడిన సమాచారం సాధారణంగా తెలిసిన వాస్తవాలతో విభేదిస్తున్నట్లు కనిపించినప్పటికీ, వాస్తవమని పరిగణించి, ఇవ్వబడిన తీర్మానాల్లో ఏది ప్రకటనలను తార్కికంగా అనుసరిస్తుందో నిర్ణయించండి.

ప్రకటనలు:

- I. అన్ని X లు Y లు.
- II. అన్ని Y లు Z లు.
- III. కొన్ని X లు A లు.

తీర్మానాలు:

- I. కొన్ని Y లు A లు.
- II. కొన్ని Z లు A లు.
- III. కొన్ని X లు A లు.

Options :

1. ✘ తీర్మానాలు I మరియు II రెండూ అనుసరిస్తాయి
2. ✘ తీర్మానాలు I మరియు III రెండూ అనుసరిస్తాయి
3. ✘ తీర్మానాలు II మరియు III రెండూ అనుసరిస్తాయి
4. ✔ అన్ని తీర్మానాలు అనుసరిస్తాయి

Question Number : 118 Question Id : 630680227433 Option Shuffling : Yes Is Question Mandatory : No Calculator : None Response Time : N.A Think Time : N.A Minimum Instruction Time : 0 Negative Marks Display Text : 0.0

Correct Marks : 1 Wrong Marks : 0

Study the following series of letters and special characters.

(Left) A @ I # T @ P * Q & ^ \$ # G K L (Right)

How many special characters are followed by another special characters when counting from left to right?

Options :

1. ✘ 2
2. ✘ 5
3. ✔ 3
4. ✘ 4

Question Number : 118 Question Id : 630680227433 Option Shuffling : Yes Is Question Mandatory : No Calculator : None Response Time : N.A Think Time : N.A Minimum Instruction Time : 0 Negative Marks Display Text : 0.0

Correct Marks : 1 Wrong Marks : 0

దిగువ శ్రేణిలోని అక్షరాలు మరియు ప్రత్యేక అక్షరాలను పరిశీలించండి.

(ఎడమ)A @ I # T @ P * Q & ^ \$ # G K L (కుడి)

ఎడమ నుండి కుడికి లెక్కించేటప్పుడు ఎన్ని ప్రత్యేక అక్షరాలు వాటి తర్వాత కూడా ప్రత్యేక అక్షరాలను కలిగి ఉన్నాయి?

Options :

1. ✘ 2
2. ✘ 5
3. ✔ 3
4. ✘ 4

Question Number : 119 Question Id : 630680227434 Option Shuffling : Yes Is Question Mandatory : No Calculator : None Response Time : N.A Think Time : N.A Minimum Instruction Time : 0

Correct Marks : 1 Wrong Marks : 0

Maximum marks of five exams D, K, F, P and R are compared. Maximum marks of each exam are different. Maximum marks of D are more than F and K. Maximum marks of R is more than P and maximum marks of P is more than D. Maximum marks of K is not the least among them. If the maximum marks of K is 190, then what can be the maximum marks of P?

Options :

1. ✔ 194
2. ✘ 186
3. ✘ 188
4. ✘ 189

Question Number : 119 Question Id : 630680227434 Option Shuffling : Yes Is Question Mandatory : No Calculator : None Response Time : N.A Think Time : N.A Minimum Instruction Time : 0

Correct Marks : 1 Wrong Marks : 0

D, K, F, P మరియు R అను ఐదు పరీక్షల గరిష్ట మార్కులు పోల్చబడ్డాయి. ప్రతి పరీక్షలో గరిష్ట మార్కులు భిన్నంగా ఉంటాయి. D యొక్క గరిష్ట మార్కులు F మరియు K ల కంటే ఎక్కువ. R యొక్క గరిష్ట మార్కులు P కంటే ఎక్కువ మరియు P యొక్క గరిష్ట మార్కులు D కంటే ఎక్కువ. K యొక్క గరిష్ట మార్కులు వారందరిలో కనిష్టం కాదు. K యొక్క గరిష్ట మార్కులు 190 అయితే, P యొక్క గరిష్ట మార్కులు ఎన్ని అయి ఉండవచ్చు?

Options :

1. ✔ 194

2. ✘ 186
3. ✘ 188
4. ✘ 189

Question Number : 120 Question Id : 630680227435 Option Shuffling : Yes Is Question Mandatory : No Calculator : None Response Time : N.A Think Time : N.A Minimum Instruction Time : 0

Correct Marks : 1 Wrong Marks : 0

Weight of six mobiles M1, M2, M3, M4, M5 and M6 is compared. Weight of M5 is less than only M3. Weight of M4 is less than M6 but more than M1 and M2. Weight of M6 is less than M5.

Which of the following can have the maximum weight?

Options :

1. ✔ M3
2. ✘ M2
3. ✘ M4
4. ✘ M5

Question Number : 120 Question Id : 630680227435 Option Shuffling : Yes Is Question Mandatory : No Calculator : None Response Time : N.A Think Time : N.A Minimum Instruction Time : 0

Correct Marks : 1 Wrong Marks : 0

M1, M2, M3, M4, M5 మరియు M6 అనే ఆరు మొబైల్ల బరువు పోల్చబడింది. M5 యొక్క బరువు M3 కంటే మాత్రమే తక్కువ. M4 బరువు M6 కంటే తక్కువ కానీ M1 మరియు M2 ల కంటే ఎక్కువ. M6 బరువు M5 కంటే తక్కువ.

అయిన క్రింది వాటిలో ఏది గరిష్ట బరువును కలిగి ఉంటుంది?

Options :

1. ✔ M3
2. ✘ M2
3. ✘ M4
4. ✘ M5

Question Number : 121 Question Id : 630680227436 Option Shuffling : Yes Is Question Mandatory : No Calculator : None Response Time : N.A Think Time : N.A Minimum Instruction Time : 0

Correct Marks : 1 Wrong Marks : 0

In a certain code language, 'FRUIT' is coded as 'HTWKV'.

Match the columns of words with their respective codes on basis of the given code language.

	Word		Code
I	MATCH	1	UJQGU
II	PLUTO	2	OCVEJ
III	SHOES	3	RNWVQ

Options :

1. ✘ I-2, II-1, III-3
2. ✔ I-2, II-3, III-1
3. ✘ I-3, II-1, III-2
4. ✘ I-3, II-2, III-1

Question Number : 121 Question Id : 630680227436 Option Shuffling : Yes Is Question Mandatory : No Calculator : None Response Time : N.A Think Time : N.A Minimum Instruction Time : 0

Correct Marks : 1 Wrong Marks : 0

ఒక నిర్దిష్ట కోడ్ భాషలో, 'FRUIT' అనేది 'HTWKV'గా కోడ్ చేయబడింది.

ఇవ్వబడిన కోడ్ భాష ఆధారంగా పదాలను వాటి సంబంధిత కోడ్లతో జతపరచండి.

	పదం		కోడ్
I	MATCH	1	UJQGU
II	PLUTO	2	OCVEJ
III	SHOES	3	RNWVQ

Options :

1. ✘ I-2, II-1, III-3
2. ✔ I-2, II-3, III-1
3. ✘ I-3, II-1, III-2
4. ✘ I-3, II-2, III-1

Question Number : 122 Question Id : 630680227437 Option Shuffling : Yes Is Question Mandatory : No Calculator : None
Response Time : N.A Think Time : N.A Minimum Instruction Time : 0

Correct Marks : 1 Wrong Marks : 0

In a certain code language, 'CROWNING' is coded as 'RCWOINGN'.

Which of the following pairs of Word : Code is correct on the basis of the given code language?

Options :

1. ✘ VIDEOPUT : IVEDPOUT
2. ✘ TRUTHFUL : RTUTFHLU
3. ✘ SKETCHPU : KSTECHUP
4. ✔ PENTOCID : EPTNCODI

Question Number : 122 Question Id : 630680227437 Option Shuffling : Yes Is Question Mandatory : No Calculator : None
Response Time : N.A Think Time : N.A Minimum Instruction Time : 0

Correct Marks : 1 Wrong Marks : 0

ఒక నిర్దిష్ట కోడ్ భాషలో, 'CROWNING' అనేది 'RCWOINGN'గా కోడ్ చేయబడింది.

పైన పేర్కొన్న కోడ్ భాష ఆధారంగా ఈ క్రింది జతలలో ఏ పదం : కోడ్ సరైనది?

Options :

1. ✘ VIDEOPUT : IVEDPOUT
2. ✘ TRUTHFUL : RTUTFHLU
3. ✘ SKETCHPU : KSTECHUP
4. ✔ PENTOCID : EPTNCODI

Question Number : 123 Question Id : 630680227438 Option Shuffling : Yes Is Question Mandatory : No Calculator : None
Response Time : N.A Think Time : N.A Minimum Instruction Time : 0

Correct Marks : 1 Wrong Marks : 0

ఒక వ్యక్తి పాయింట్ A నుండి ప్రారంభమై, B పాయింట్ కి చేరుకోవడానికి 20 km పశ్చిమం వైపు నడుస్తాడు. అతను ఇప్పుడు కుడి మలుపు తీసుకొని, C పాయింట్ కి చేరుకోవడానికి 10 km నడుస్తాడు. అతను ఇప్పుడు ఎడమ మలుపు తీసుకొని 10 km నడిచి పాయింట్ D కి చేరుకుంటాడు. అయిన ఈ క్రింది ప్రకటనలలో ఏది సరైనది?

I. A మరియు D ల మధ్య దూరం $10\sqrt{10}$ km.

II. D కి అగ్నేయంగా A ఉంది.

III. D కి అగ్నేయంగా B ఉంది.

Options :

1. ✘ I మరియు II లు మాత్రమే
2. ✘ II మరియు III లు మాత్రమే

3. ✘ I మరియు III లు మాత్రమే

4. ✔ I, II మరియు III

Question Number : 123 Question Id : 630680227438 Option Shuffling : Yes Is Question Mandatory : No Calculator : None Response Time : N.A Think Time : N.A Minimum Instruction Time : 0

Correct Marks : 1 Wrong Marks : 0

A person starts from point A and walks towards west for 20 km to reach point B. He now takes a right turn and walks for 10 km to reach point C. He now takes a left turn and walks for 10 km to reach point D. Which of the following statements is correct?

I. Distance between A and D is $10\sqrt{10}$ km.

II. A is towards the Southeast of D.

III. B is towards the Southeast of D.

Options :

1. ✘ Only I and II

2. ✘ Only II and III

3. ✘ Only I and III

4. ✔ I, II and III

Question Number : 124 Question Id : 630680227439 Option Shuffling : Yes Is Question Mandatory : No Calculator : None Response Time : N.A Think Time : N.A Minimum Instruction Time : 0

Correct Marks : 1 Wrong Marks : 0

Select the word-pair that best represents a similar relationship to the one expressed in the pair of words given below.

TROOP : WOLLS

Options :

1. ✔ PRINT : SORKW

2. ✘ CROSE : FOMHH

3. ✘ SPAIN : VMZFR

4. ✘ PROST : SPLQW

Question Number : 124 Question Id : 630680227439 Option Shuffling : Yes Is Question Mandatory : No Calculator : None Response Time : N.A Think Time : N.A Minimum Instruction Time : 0

Correct Marks : 1 Wrong Marks : 0

దిగువ ఇవ్వబడిన పదాల జతలో తెలుపబడిన ఒక సారూప్య సంబంధాన్ని ఉత్తమంగా సూచించే పద-జతని ఐచ్ఛికాల నుండి ఎంచుకోండి.

TROOP : WOLLS

Options :

1. ✔ PRINT : SORKW

2. ✘ CROSE : FOMHH

3. ✘ SPAIN : VMZFR

4. ✘ PROST : SPLQW

Question Number : 125 Question Id : 630680227440 Option Shuffling : Yes Is Question Mandatory : No Calculator : None Response Time : N.A Think Time : N.A Minimum Instruction Time : 0

Correct Marks : 1 Wrong Marks : 0

Select the set in which the terms are related in the same way as are the terms of the given set.

(TUR, WYU, ZCX)

Options :

1. ✘ (ZIN, CMQ, FPT)

2. ✘ (RIE, VLI, ZOM)

3. ✘ (POT, SRW, VUZ)

4. ✔ (SON, VSQ, YWT)

Question Number : 125 Question Id : 630680227440 Option Shuffling : Yes Is Question Mandatory : No Calculator : None

Response Time : N.A Think Time : N.A Minimum Instruction Time : 0

Correct Marks : 1 Wrong Marks : 0

ఇవ్వబడిన సమూహంలోని నిబంధనల వంటి నిబంధనలు గల సమూహమును ఐచ్ఛికాల నుండి ఎంచుకోండి.
(TUR, WYU, ZCX)

Options :

1. ✘ (ZIN, CMQ, FPT)
2. ✘ (RIE, VLI, ZOM)
3. ✘ (POT, SRW, VUZ)
4. ✔ (SON, VSQ, YWT)

Question Number : 126 Question Id : 630680227441 Option Shuffling : Yes Is Question Mandatory : No Calculator : None

Response Time : N.A Think Time : N.A Minimum Instruction Time : 0

Correct Marks : 1 Wrong Marks : 0

Read the given question and statements carefully. Select the correct option on the basis of the question and statements.

Question:

What is the remainder when N is divided by 6?

Statements:

I. N is a multiple of 2.

II. N is a multiple of 3.

Options :

1. ✘ The question can be answered by using one of the statements alone but cannot be answered by using the other statement alone.
2. ✘ The question can be answered by using either of the statements I or II alone.
3. ✔ The question can be answered by using both the statements together but not by either statement alone.
4. ✘ The question cannot be answered even by using both the statements together.

Question Number : 126 Question Id : 630680227441 Option Shuffling : Yes Is Question Mandatory : No Calculator : None

Response Time : N.A Think Time : N.A Minimum Instruction Time : 0

Correct Marks : 1 Wrong Marks : 0

ఇవ్వబడిన ప్రశ్నను మరియు ప్రకటనలను జాగ్రత్తగా చదవండి. ప్రశ్న మరియు ప్రకటనల ఆధారంగా సరైన ఐచ్ఛికాన్ని ఎంచుకోండి.

ప్రశ్న:

N అనేది 6 చే భాగించబడినప్పుడు లభించు శేషం ఎంత?

ప్రకటనలు:

I. N అనేది 2 యొక్క గుణకం.

II. N అనేది 3 యొక్క గుణకం.

Options :

1. ✘ ప్రకటనల్లో ఒకదాన్ని మాత్రమే ఉపయోగించడం ద్వారా ప్రశ్నకు సమాధానం ఇవ్వవచ్చు కానీ మరొక ప్రకటనను మాత్రమే ఉపయోగించడం ద్వారా సమాధానం ఇవ్వలేరు.
2. ✘ I లేదా II ప్రకటనల్లో దేనినైనా ఉపయోగించడం ద్వారా ప్రశ్నకు సమాధానం ఇవ్వవచ్చు.
3. ✔ రెండు ప్రకటనలను కలిపి ఉపయోగించడం ద్వారా ప్రశ్నకు సమాధానం ఇవ్వవచ్చు కానీ ఒక్క ప్రకటన ద్వారా కాదు.
4. ✘ రెండు ప్రకటనలను కలిపి ఉపయోగించడం ద్వారా కూడా ప్రశ్నకు సమాధానం ఇవ్వలేము.

Question Number : 127 Question Id : 630680227442 Option Shuffling : Yes Is Question Mandatory : No Calculator : None

Response Time : N.A Think Time : N.A Minimum Instruction Time : 0

Correct Marks : 1 Wrong Marks : 0

Read the given question and statements carefully. Select the correct option on the basis of the question and statements.

Question:

What is the present age of Rohan?

Statements:

I. Rohan was 18 years old 5 years ago.

II. Rohan will go to the college after 2 years.

Options :

1. ✔ The question can be answered by using one of the statements alone but cannot be answered by using the other statement alone.
2. ✘ The question can be answered by using either of the statements I or II alone.
3. ✘ The question can be answered by using both the statements together but not by either statement alone.
4. ✘ The question cannot be answered even by using both the statements together.

Question Number : 127 Question Id : 630680227442 Option Shuffling : Yes Is Question Mandatory : No Calculator : None Response Time : N.A Think Time : N.A Minimum Instruction Time : 0

Correct Marks : 1 Wrong Marks : 0

ఇవ్వబడిన ప్రశ్నను మరియు ప్రకటనలను జాగ్రత్తగా చదవండి. ప్రశ్న మరియు ప్రకటనల ఆధారంగా సరైన ఐచ్ఛికాన్ని ఎంచుకోండి.

ప్రశ్న:

రోహన్ యొక్క ప్రస్తుత వయస్సు ఎంత?

ప్రకటనలు:

I. 5 సంవత్సరాల క్రితం రోహన్ కు 18 ఏళ్లు.

II. 2 సంవత్సరాల తర్వాత రోహన్ కళాశాలకు వెళ్ళాడు.

Options :

1. ✓ ప్రకటనల్లో ఒకదాన్ని మాత్రమే ఉపయోగించడం ద్వారా ప్రశ్నకు సమాధానం ఇవ్వవచ్చు కానీ మరొక ప్రకటనను మాత్రమే ఉపయోగించడం ద్వారా సమాధానం ఇవ్వలేదు.
2. ✗ I లేదా II ప్రకటనల్లో దేనినైనా ఉపయోగించడం ద్వారా ప్రశ్నకు సమాధానం ఇవ్వవచ్చు.
3. ✗ రెండు ప్రకటనలను కలిపి ఉపయోగించడం ద్వారా ప్రశ్నకు సమాధానం ఇవ్వవచ్చు కానీ ఒక్క ప్రకటన ద్వారా కాదు.
4. ✗ రెండు ప్రకటనలను కలిపి ఉపయోగించడం ద్వారా కూడా ప్రశ్నకు సమాధానం ఇవ్వలేము.

Question Number : 128 Question Id : 630680227443 Option Shuffling : Yes Is Question Mandatory : No Calculator : None Response Time : N.A Think Time : N.A Minimum Instruction Time : 0 Negative Marks Display Text : 0.0

Correct Marks : 1 Wrong Marks : 0

ఇవ్వబడిన ప్రకటనను మరియు కృత్యాల క్రమాలను జాగ్రత్తగా చదవండి. సాధారణంగా తెలిసిన వాస్తవాలతో విభేదిస్తున్నట్లు కనిపించినప్పటికీ, ప్రకటనలో ఇవ్వబడిన సమాచారం వాస్తవంగా పరిగణించి, ప్రకటన నుండి తార్కికంగా ఏ కృత్య క్రమము/లను అనుసరించాలో నిర్ణయించండి.

ప్రకటన:

A నగరంలోని సొరంగ గోడలో ఐదు మీటర్ల భాగం కూలిపోయింది.

కృత్యాల క్రమం :

A. గాయపడిన వారందరికీ తక్షణ వైద్య సహాయం అందించాలి.

B. కూలడం వెనుక గల కారణాలను పరిశోధించడానికి నిపుణుల కమిటీని ఏర్పాటు చేయాలి.

Options :

1. ✗ A మాత్రమే అనుసరిస్తుంది.
2. ✗ B మాత్రమే అనుసరిస్తుంది.
3. ✓ A మరియు B లు రెండూ అనుసరిస్తాయి.
4. ✗ A కానీ లేదా B కానీ ఏదీ అనుసరించదు.

Question Number : 128 Question Id : 630680227443 Option Shuffling : Yes Is Question Mandatory : No Calculator : None Response Time : N.A Think Time : N.A Minimum Instruction Time : 0

Correct Marks : 1 Wrong Marks : 0

A statement is followed by two courses of action (A and B). Based on the information given in the statement, you have to assume everything in the statement to be true. Identify which course(s) of action logically follow(s).

Statement:

A five-metre portion of a tunnel wall collapsed in city A.

Courses of action:

A. Immediate medical help should be provided to all the injured people. B. An expert committee should be constituted to investigate the reasons behind the collapse.

Options :

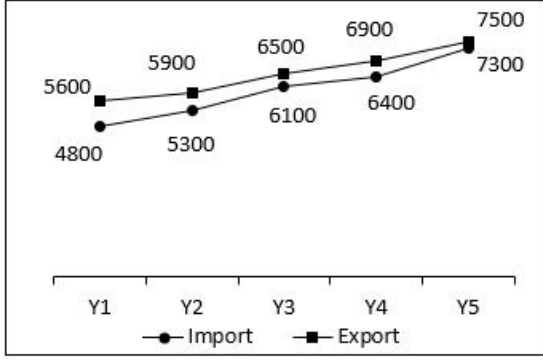
1. ✗ Only A follows
2. ✗ Only B follows
3. ✓ Both A and B follow
4. ✗ Neither A nor B follows

Question Number : 129 Question Id : 630680227444 Option Shuffling : Yes Is Question Mandatory : No Calculator : None Response Time : N.A Think Time : N.A Minimum Instruction Time : 0

Correct Marks : 1 Wrong Marks : 0

Study the given line-chart and answer the question that follows.

The line-chart shows the exports and imports for a country for 5 years. All the values are given in ₹ crores.



Trade factor = (Exports/Imports)

Which of the following is the correct order of trade factor for the given years?

Options :

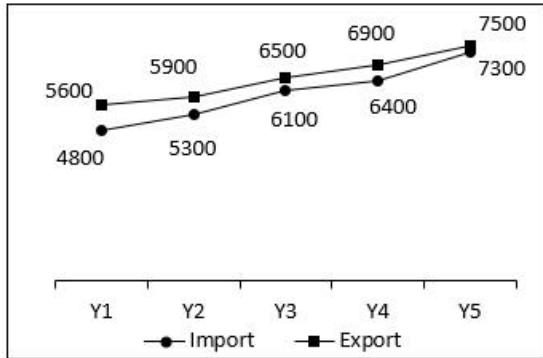
1. ✘ $Y1 > Y2 > Y3 > Y5 > Y4$
2. ✘ $Y1 > Y2 > Y3 > Y4 > Y5$
3. ✔ $Y1 > Y2 > Y4 > Y3 > Y5$
4. ✘ $Y1 > Y2 > Y4 > Y5 > Y3$

Question Number : 129 Question Id : 630680227444 Option Shuffling : Yes Is Question Mandatory : No Calculator : None Response Time : N.A Think Time : N.A Minimum Instruction Time : 0

Correct Marks : 1 Wrong Marks : 0

ఇచ్చిన లైన్-చార్ట్‌ను అధ్యయనం చేసి, ఈ క్రింది ప్రశ్నకు సమాధానం ఇవ్వండి.

లైన్-చార్ట్ ఒక దేశం కోసం 5 సంవత్సరాల పాటు ఎగుమతులు మరియు దిగుమతులను చూపుతుంది. అన్ని విలువలు ₹ కోట్లలో ఇవ్వబడ్డాయి.



అనువాద సూచన: Exports - ఎగుమతులు; Imports - దిగుమతులు

వాణిజ్య కారకం = (ఎగుమతులు/దిగుమతులు)

ఈ క్రింది వాటిలో ఇచ్చిన సంవత్సరాలకు వాణిజ్య కారకం యొక్క సరైన క్రమం ఏది?

Options :

1. ✘ $Y1 > Y2 > Y3 > Y5 > Y4$
2. ✘ $Y1 > Y2 > Y3 > Y4 > Y5$
3. ✔ $Y1 > Y2 > Y4 > Y3 > Y5$
4. ✘ $Y1 > Y2 > Y4 > Y5 > Y3$

Question Number : 130 Question Id : 630680227445 Option Shuffling : Yes Is Question Mandatory : No Calculator : None Response Time : N.A Think Time : N.A Minimum Instruction Time : 0

Correct Marks : 1 Wrong Marks : 0

Study the given table and answer the question that follows.

The table shows the number of runs scored and balls faced by a batsman in five different innings.

Innings	Runs scored	Balls faced
I1	143	61
I2	150	79
I3	60	28
I4	53	16
I5	43	22

Strike rate = (Runs scored / ball faced) × 100

Which of the following is the correct order of the strike rate of the innings?

Options :

1. ✘ I4 > I3 > I1 > I5 > I2
2. ✘ I4 > I3 > I1 > I2 > I5
3. ✘ I4 > I1 > I3 > I2 > I5
4. ✔ I4 > I1 > I3 > I5 > I2

Question Number : 130 Question Id : 630680227445 Option Shuffling : Yes Is Question Mandatory : No Calculator : None Response Time : N.A Think Time : N.A Minimum Instruction Time : 0

Correct Marks : 1 Wrong Marks : 0

ఇచ్చిన పట్టికను అధ్యయనం చేసి, క్రింది ప్రశ్నకు సమాధానం ఇవ్వండి.

ఐదు వేర్వేరు ఇన్నింగ్స్ లో బ్యాట్స్ మన్ సాధించిన పరుగుల స్కోర్ మరియు ఆడిన బంతుల సంఖ్యను పట్టిక చూపుతుంది.

ఇన్నింగ్స్	సాధించిన పరుగులు	ఆడిన బంతుల సంఖ్య
I1	143	61
I2	150	79
I3	60	28
I4	53	16
I5	43	22

స్ట్రైక్ రేట్ = (సాధించిన పరుగులు / ఆడిన బంతుల సంఖ్య) × 100

ఈ క్రింది వాటిలో ఇన్నింగ్స్ స్ట్రైక్ రేట్ యొక్క సరైన క్రమం ఏది?

Options :

1. ✘ I4 > I3 > I1 > I5 > I2
2. ✘ I4 > I3 > I1 > I2 > I5
3. ✘ I4 > I1 > I3 > I2 > I5
4. ✔ I4 > I1 > I3 > I5 > I2

Question Number : 131 Question Id : 630680227446 Option Shuffling : Yes Is Question Mandatory : No Calculator : None Response Time : N.A Think Time : N.A Minimum Instruction Time : 0

Correct Marks : 1 Wrong Marks : 0

Fill in the blank with the most appropriate option.

Just after dawn _____ next day, Kichaka went to the palace.

Options :

1. ✘ an
2. ✘ that
3. ✘ a
4. ✔ the

Question Number : 131 Question Id : 630680227446 Option Shuffling : Yes Is Question Mandatory : No Calculator : None Response Time : N.A Think Time : N.A Minimum Instruction Time : 0

Correct Marks : 1 Wrong Marks : 0

Fill in the blank with the most appropriate option.

Just after dawn _____ next day, Kichaka went to the palace.

Options :

1. ✘ an
2. ✘ that
3. ✘ a
4. ✔ the

Question Number : 132 Question Id : 630680227447 Option Shuffling : Yes Is Question Mandatory : No Calculator : None Response Time : N.A Think Time : N.A Minimum Instruction Time : 0

Correct Marks : 1 Wrong Marks : 0

Fill in the blank with the most appropriate option.

You are M. Hercule Poirot, I think? Shall I make _____ guess?

Options :

1. ✔ a
2. ✘ the
3. ✘ an
4. ✘ this

Question Number : 132 Question Id : 630680227447 Option Shuffling : Yes Is Question Mandatory : No Calculator : None Response Time : N.A Think Time : N.A Minimum Instruction Time : 0

Correct Marks : 1 Wrong Marks : 0

Fill in the blank with the most appropriate option.

You are M. Hercule Poirot, I think? Shall I make _____ guess?

Options :

1. ✔ a
2. ✘ the
3. ✘ an
4. ✘ this

Question Number : 133 Question Id : 630680227448 Option Shuffling : Yes Is Question Mandatory : No Calculator : None Response Time : N.A Think Time : N.A Minimum Instruction Time : 0

Correct Marks : 1 Wrong Marks : 0

Fill in the blank with the most appropriate option.

_____, when I pressed him, he even allowed me privileges he kept from his other daughters.

Options :

1. ✘ Rarely
2. ✘ Unusually
3. ✔ Sometimes
4. ✘ Always

Question Number : 133 Question Id : 630680227448 Option Shuffling : Yes Is Question Mandatory : No Calculator : None Response Time : N.A Think Time : N.A Minimum Instruction Time : 0

Correct Marks : 1 Wrong Marks : 0

Fill in the blank with the most appropriate option.

_____, when I pressed him, he even allowed me privileges he kept from his other daughters.

Options :

1. ✘ Rarely
2. ✘ Unusually
3. ✔ Sometimes
4. ✘ Always

Question Number : 134 Question Id : 630680227449 Option Shuffling : Yes Is Question Mandatory : No Calculator : None Response Time : N.A Think Time : N.A Minimum Instruction Time : 0

Correct Marks : 1 Wrong Marks : 0

Fill in the blank with the most appropriate option.

He slipped _____ and hid himself, waiting for Kichaka's arrival.

Options :

1. ✘ indoor
2. ✔ inside
3. ✘ before
4. ✘ beyond

Question Number : 134 Question Id : 630680227449 Option Shuffling : Yes Is Question Mandatory : No Calculator : None Response Time : N.A Think Time : N.A Minimum Instruction Time : 0

Correct Marks : 1 Wrong Marks : 0

Fill in the blank with the most appropriate option.

He slipped _____ and hid himself, waiting for Kichaka's arrival.

Options :

1. ✘ indoor
2. ✔ inside
3. ✘ before
4. ✘ beyond

Question Number : 135 Question Id : 630680227450 Option Shuffling : Yes Is Question Mandatory : No Calculator : None Response Time : N.A Think Time : N.A Minimum Instruction Time : 0

Correct Marks : 1 Wrong Marks : 0

Which of these statements has a grammatical error?

Statement A: He did have a clean shirt on and neatly mended overalls.

Statement B: You could have exercised that charm nor you could have restrained it.

Options :

1. ✘ Only A
2. ✔ Only B
3. ✘ Both A and B
4. ✘ Neither A and B

Question Number : 135 Question Id : 630680227450 Option Shuffling : Yes Is Question Mandatory : No Calculator : None Response Time : N.A Think Time : N.A Minimum Instruction Time : 0

Correct Marks : 1 Wrong Marks : 0

Which of these statements has a grammatical error?

Statement A: He did have a clean shirt on and neatly mended overalls.

Statement B: You could have exercised that charm nor you could have restrained it.

Options :

1. ✘ Only A
2. ✔ Only B
3. ✘ Both A and B
4. ✘ Neither A and B

Question Number : 136 Question Id : 630680227451 Option Shuffling : Yes Is Question Mandatory : No Calculator : None Response Time : N.A Think Time : N.A Minimum Instruction Time : 0

Correct Marks : 1 Wrong Marks : 0

Which of these statements has a grammatical error?

Statement A: As Bhabravya expected, they turned in no time and retreated quick.

Statement B: Darling, they really are incredible, so exquisitely matched.

Options :

1. ✔ Only A
2. ✘ Only B
3. ✘ Both A and B

4. ✘ Neither A and B

Question Number : 136 Question Id : 630680227451 Option Shuffling : Yes Is Question Mandatory : No Calculator : None Response Time : N.A Think Time : N.A Minimum Instruction Time : 0

Correct Marks : 1 Wrong Marks : 0

Which of these statements has a grammatical error?

Statement A: As Bhabravva expected, they turned in no time and retreated quick.

Statement B: Darling, they really are incredible, so exquisitely matched.

Options :

1. ✔ Only A

2. ✘ Only B

3. ✘ Both A and B

4. ✘ Neither A and B

Question Number : 137 Question Id : 630680227452 Option Shuffling : Yes Is Question Mandatory : No Calculator : None Response Time : N.A Think Time : N.A Minimum Instruction Time : 0

Correct Marks : 1 Wrong Marks : 0

Arrange the following in logical sequence so as to form a coherent paragraph.:

A. They did their regular checks and as per the plan started moving north.

B. But it did, and they were not prepared for it.

C. One would never expect to see rainfall and snow in a desert.

D. They walked steadily north for many days.

E. As they got off the helicopter, first they searched for a hiding spot.

Options :

1. ✔ EADCB

2. ✘ ABCDE

3. ✘ BDACE

4. ✘ ACDBE

Question Number : 137 Question Id : 630680227452 Option Shuffling : Yes Is Question Mandatory : No Calculator : None Response Time : N.A Think Time : N.A Minimum Instruction Time : 0

Correct Marks : 1 Wrong Marks : 0

Arrange the following in logical sequence so as to form a coherent paragraph.:

A. They did their regular checks and as per the plan started moving north.

B. But it did, and they were not prepared for it.

C. One would never expect to see rainfall and snow in a desert.

D. They walked steadily north for many days.

E. As they got off the helicopter, first they searched for a hiding spot.

Options :

1. ✔ EADCB

2. ✘ ABCDE

3. ✘ BDACE

4. ✘ ACDBE

Question Number : 138 Question Id : 630680227453 Option Shuffling : Yes Is Question Mandatory : No Calculator : None Response Time : N.A Think Time : N.A Minimum Instruction Time : 0

Correct Marks : 1 Wrong Marks : 0

Which of these statements has a grammatical error?

Statement A: Nandi bursted out in laughter as he slapped the Arishtanemi on his arm.

Statement B: Only over-riding national interests would have provoke him to the extreme step of resignation.

Options :

1. ✘ Only A

2. ✘ Only B

3. ✔ Both A and B

4. ✘ Neither A and B

Question Number : 138 Question Id : 630680227453 Option Shuffling : Yes Is Question Mandatory : No Calculator : None

Response Time : N.A Think Time : N.A Minimum Instruction Time : 0

Correct Marks : 1 Wrong Marks : 0

Which of these statements has a grammatical error?

Statement A: Nandi bursted out in laughter as he slapped the Arishtanemi on his arm.

Statement B: Only over-riding national interests would have provoke him to the extreme step of resignation.

Options :

1. ✘ Only A
2. ✘ Only B
3. ✔ Both A and B
4. ✘ Neither A and B

Question Number : 139 Question Id : 630680227454 Option Shuffling : Yes Is Question Mandatory : No Calculator : None Response Time : N.A Think Time : N.A Minimum Instruction Time : 0

Correct Marks : 1 Wrong Marks : 0

Which of these statements has a grammatical error?

Statement A: Surely there must be some good king, mustn't there?

Statement B: Harry give his cousin an impatient dig in the ribs, didn't he?

Options :

1. ✘ Only A
2. ✔ Only B
3. ✘ Both A and B
4. ✘ Neither A and B

Question Number : 139 Question Id : 630680227454 Option Shuffling : Yes Is Question Mandatory : No Calculator : None Response Time : N.A Think Time : N.A Minimum Instruction Time : 0

Correct Marks : 1 Wrong Marks : 0

Which of these statements has a grammatical error?

Statement A: Surely there must be some good king, mustn't there?

Statement B: Harry give his cousin an impatient dig in the ribs, didn't he?

Options :

1. ✘ Only A
2. ✔ Only B
3. ✘ Both A and B
4. ✘ Neither A and B

Question Number : 140 Question Id : 630680227455 Option Shuffling : Yes Is Question Mandatory : No Calculator : None Response Time : N.A Think Time : N.A Minimum Instruction Time : 0

Correct Marks : 1 Wrong Marks : 0

Fill in the blank with the most appropriate option.

You aren't an archer, _____ you?

Options :

1. ✔ are
2. ✘ is
3. ✘ can
4. ✘ have

Question Number : 140 Question Id : 630680227455 Option Shuffling : Yes Is Question Mandatory : No Calculator : None Response Time : N.A Think Time : N.A Minimum Instruction Time : 0

Correct Marks : 1 Wrong Marks : 0

Fill in the blank with the most appropriate option.

You aren't an archer, _____ you?

Options :

1. ✔ are
2. ✘ is
3. ✘ can
4. ✘ have

Question Number : 141 Question Id : 630680227456 Option Shuffling : Yes Is Question Mandatory : No Calculator : None Response Time : N.A Think Time : N.A Minimum Instruction Time : 0

Correct Marks : 1 Wrong Marks : 0

Select the correct passive form of the given sentence.

Geeta will return the laptop as soon as she finishes her report.

Options :

1. ✘ The laptop is being returned by Geeta as sh ehas finished her report.
2. ✘ The laptop will return Geeta as soon as her report is finished.
3. ✘ The laptop had been returned by Geeta as soon as she finished her report.
4. ✔ The laptop will be returned by Geeta as soon as she finishes her report.

Question Number : 141 Question Id : 630680227456 Option Shuffling : Yes Is Question Mandatory : No Calculator : None Response Time : N.A Think Time : N.A Minimum Instruction Time : 0

Correct Marks : 1 Wrong Marks : 0

Select the correct passive form of the given sentence.

Geeta will return the laptop as soon as she finishes her report.

Options :

1. ✘ The laptop is being returned by Geeta as sh ehas finished her report.
2. ✘ The laptop will return Geeta as soon as her report is finished.
3. ✘ The laptop had been returned by Geeta as soon as she finished her report.
4. ✔ The laptop will be returned by Geeta as soon as she finishes her report.

Question Number : 142 Question Id : 630680227457 Option Shuffling : Yes Is Question Mandatory : No Calculator : None Response Time : N.A Think Time : N.A Minimum Instruction Time : 0

Correct Marks : 1 Wrong Marks : 0

From the options choose the correct active voice form for the sentence given below.

That horse was ridden by my brother.

Options :

1. ✔ My brother rode that horse.
2. ✘ My brother rides over that horse.
3. ✘ My brother rides that horse.
4. ✘ My brother is ridding that horse.

Question Number : 142 Question Id : 630680227457 Option Shuffling : Yes Is Question Mandatory : No Calculator : None Response Time : N.A Think Time : N.A Minimum Instruction Time : 0

Correct Marks : 1 Wrong Marks : 0

From the options choose the correct active voice form for the sentence given below.

That horse was ridden by my brother.

Options :

1. ✔ My brother rode that horse.
2. ✘ My brother rides over that horse.
3. ✘ My brother rides that horse.
4. ✘ My brother is ridding that horse.

Question Number : 143 Question Id : 630680227458 Option Shuffling : Yes Is Question Mandatory : No Calculator : None Response Time : N.A Think Time : N.A Minimum Instruction Time : 0

Correct Marks : 1 Wrong Marks : 0

Which of these four pairs of idiom and its meaning is the correct match?

Options :

1. ✘ A dog's life: An important person
2. ✘ Cold turkey: Someone going on a vacation after long time
3. ✘ In the bag: To be extremely happy
4. ✔ The cat is out of the bag: Secret is revealed

Question Number : 143 Question Id : 630680227458 Option Shuffling : Yes Is Question Mandatory : No Calculator : None Response Time : N.A Think Time : N.A Minimum Instruction Time : 0

Correct Marks : 1 Wrong Marks : 0

Which of these four pairs of idiom and its meaning is the correct match?

Options :

1. ✘ A dog's life: An important person
2. ✘ Cold turkey: Someone going on a vacation after long time
3. ✘ In the bag: To be extremely happy
4. ✔ The cat is out of the bag: Secret is revealed

Question Number : 144 Question Id : 630680227459 Option Shuffling : Yes Is Question Mandatory : No Calculator : None Response Time : N.A Think Time : N.A Minimum Instruction Time : 0

Correct Marks : 1 Wrong Marks : 0

Select the most appropriate meaning of the given proverb.

Teach a man to fish

Options :

1. ✘ You have to act fast to get what you want.
2. ✔ Teaching someone a skill and it will help them forever.
3. ✘ Giving some unwanted advice.
4. ✘ If you don't work hard you will not achieve your goal.

Question Number : 144 Question Id : 630680227459 Option Shuffling : Yes Is Question Mandatory : No Calculator : None Response Time : N.A Think Time : N.A Minimum Instruction Time : 0

Correct Marks : 1 Wrong Marks : 0

Select the most appropriate meaning of the given proverb.

Teach a man to fish

Options :

1. ✘ You have to act fast to get what you want.
2. ✔ Teaching someone a skill and it will help them forever.
3. ✘ Giving some unwanted advice.
4. ✘ If you don't work hard you will not achieve your goal.

Question Number : 145 Question Id : 630680227460 Option Shuffling : Yes Is Question Mandatory : No Calculator : None Response Time : N.A Think Time : N.A Minimum Instruction Time : 0 Negative Marks Display Text : 0.0

Correct Marks : 1 Wrong Marks : 0

Match the following words with their respective antonym.

A. Wander	1. Sink
B. Float	2. Disorder
C. Overt	3. Direct
D. Pattern	4. Unclear

Options :

1. ✘ A-1, B-2, C-3, D-4
2. ✔ A-3, B-1, C-4, D-2
3. ✘ A-4, B-3, C-4, D-1
4. ✘ A-4, B-2, C-3, D-4

Question Number : 145 Question Id : 630680227460 Option Shuffling : Yes Is Question Mandatory : No Calculator : None Response Time : N.A Think Time : N.A Minimum Instruction Time : 0 Negative Marks Display Text : 0.0

Correct Marks : 1 Wrong Marks : 0

Match the following words with their respective antonym.

A. Wander	1. Sink
B. Float	2. Disorder
C. Overt	3. Direct
D. Pattern	4. Unclear

Options :

1. ✘ A-1, B-2, C-3, D-4
2. ✔ A-3, B-1, C-4, D-2
3. ✘ A-4, B-3, C-4, D-1
4. ✘ A-4, B-2, C-3, D-4

Question Number : 146 Question Id : 630680227461 Option Shuffling : Yes Is Question Mandatory : No Calculator : None Response Time : N.A Think Time : N.A Minimum Instruction Time : 0

Correct Marks : 1 Wrong Marks : 0

Consider the following pairs:

- A. Fabricate: Assemble
- B. Insipid: Tasty
- C. Annoyed: Gratified
- D. Simple: Complex

Choose the correct pair of synonyms:

Options :

1. ✔ A only
2. ✘ A & B Only
3. ✘ C & D only
4. ✘ A, C, D Only

Question Number : 146 Question Id : 630680227461 Option Shuffling : Yes Is Question Mandatory : No Calculator : None Response Time : N.A Think Time : N.A Minimum Instruction Time : 0

Correct Marks : 1 Wrong Marks : 0

Consider the following pairs:

- A. Fabricate: Assemble
- B. Insipid: Tasty
- C. Annoyed: Gratified
- D. Simple: Complex

Choose the correct pair of synonyms:

Options :

1. ✔ A only
2. ✘ A & B Only
3. ✘ C & D only
4. ✘ A, C, D Only

Question Number : 147 Question Id : 630680227462 Option Shuffling : Yes Is Question Mandatory : No Calculator : None Response Time : N.A Think Time : N.A Minimum Instruction Time : 0

Correct Marks : 1 Wrong Marks : 0

Four words are given, out of which only one word is spelt correctly. Choose the correctly spelt word.

Options :

1. ✘ LIESURE
2. ✔ TOMORROW
3. ✘ SEPERATE
4. ✘ PRESANCE

Question Number : 147 Question Id : 630680227462 Option Shuffling : Yes Is Question Mandatory : No Calculator : None Response Time : N.A Think Time : N.A Minimum Instruction Time : 0

Correct Marks : 1 Wrong Marks : 0

Four words are given, out of which only one word is spelt correctly. Choose the correctly spelt word.

Options :

1. ✘ LIESURE
2. ✔ TOMORROW
3. ✘ SEPERATE
4. ✘ PRESANCE

Question Number : 148 Question Id : 630680227463 Option Shuffling : Yes Is Question Mandatory : No Calculator : None Response Time : N.A Think Time : N.A Minimum Instruction Time : 0

Correct Marks : 1 Wrong Marks : 0

Four words are given, out of which three words are spelt correctly. Choose the incorrectly spelt word.

Options :

1. ✘ WITHHOLD
2. ✘ UNTIL
3. ✘ TWELFTH
4. ✔ PUBLICALLY

Question Number : 148 Question Id : 630680227463 Option Shuffling : Yes Is Question Mandatory : No Calculator : None Response Time : N.A Think Time : N.A Minimum Instruction Time : 0

Correct Marks : 1 Wrong Marks : 0

Four words are given, out of which three words are spelt correctly. Choose the incorrectly spelt word.

Options :

1. ✘ WITHHOLD
2. ✘ UNTIL
3. ✘ TWELFTH
4. ✔ PUBLICALLY

Question Number : 149 Question Id : 630680227464 Option Shuffling : Yes Is Question Mandatory : No Calculator : None Response Time : N.A Think Time : N.A Minimum Instruction Time : 0

Correct Marks : 1 Wrong Marks : 0

Fill in the blank with the most appropriate option.

It is about the society as a _____.

Options :

1. ✘ hall
2. ✔ whole
3. ✘ howl
4. ✘ hole

Question Number : 149 Question Id : 630680227464 Option Shuffling : Yes Is Question Mandatory : No Calculator : None Response Time : N.A Think Time : N.A Minimum Instruction Time : 0

Correct Marks : 1 Wrong Marks : 0

Fill in the blank with the most appropriate option.

It is about the society as a _____.

Options :

1. ✘ hall
2. ✔ whole
3. ✘ howl
4. ✘ hole

Question Number : 150 Question Id : 630680227465 Option Shuffling : Yes Is Question Mandatory : No Calculator : None Response Time : N.A Think Time : N.A Minimum Instruction Time : 0

Correct Marks : 1 Wrong Marks : 0

Fill in the blank with the most appropriate option.

Though the shirt was _____ he rejected it. Nobody _____ what the reasons were for his rejection.

Options :

1. ✘ New ----- new
2. ✘ Knew ----- new
3. ✔ New----- knew
4. ✘ Knew----- knew

Question Number : 150 Question Id : 630680227465 Option Shuffling : Yes Is Question Mandatory : No Calculator : None Response Time : N.A Think Time : N.A Minimum Instruction Time : 0

Correct Marks : 1 Wrong Marks : 0

Fill in the blank with the most appropriate option.

Though the shirt was _____ he rejected it. Nobody _____ what the reasons were for his rejection.

Options :

1. ✘ New ----- new
2. ✘ Knew ----- new
3. ✔ New----- knew
4. ✘ Knew----- knew