



TCSiON CAE

Notations :

- 1.Options shown in **green** color and with  icon are correct.
- 2.Options shown in **red** color and with  icon are incorrect.

Question Paper Name :	PC22301GENERALSTUDIESANDGENERALABILITIESL2230 17th May 2023 Shift 1
Subject Name :	PC22301 GENERAL STUDIES AND GENERAL ABILITIES L2230
Actual Answer Key :	Yes
Calculator :	None
Magnifying Glass Required? :	No
Ruler Required? :	No
Eraser Required? :	No
Scratch Pad Required? :	No
Rough Sketch/Notepad Required? :	No
Protractor Required? :	No
Show Watermark on Console? :	Yes
Highlighter :	No
Auto Save on Console?	Yes
Change Font Color :	No
Change Background Color :	No
Change Theme :	No
Help Button :	No
Show Reports :	No
Show Progress Bar :	No
Is this Group for Examiner? :	No

Examiner permission : Cant View

Show Progress Bar? : No

Enable Mark as Answered Mark for Review and Clear Response : Yes

Maximum Instruction Time : 0

Is Section Default? : null

Question Number : 1 Question Id : 630680221096 Option Shuffling : Yes Is Question Mandatory : No Calculator : None Response Time : N.A Think Time : N.A Minimum Instruction Time : 0

Correct Marks : 1 Wrong Marks : 0

In March 2023, United Arab Emirates President Sheikh Mohammed bin Zayed Al Nahyan has appointed whom as the crown prince of Abu Dhabi?

Options :

1. ✓ Sheikh Khaled
2. ✘ Sheikh Mansour
3. ✘ Hazza bin Zayed
4. ✘ Sheikh Tahnoon

Question Number : 1 Question Id : 630680221096 Option Shuffling : Yes Is Question Mandatory : No Calculator : None Response Time : N.A Think Time : N.A Minimum Instruction Time : 0

Correct Marks : 1 Wrong Marks : 0

మార్చి 2023లో, యునైటెడ్ అరబ్ ఎమిరేట్స్ ప్రెసిడెంట్ షేక్ మొహమ్మద్ బిన్ జాయెద్ అల్ నహ్యన్ అబుదాబి యువరాజుగా ఎవరిని నియమించారు?

Options :

1. ✓ షేక్ ఖాలీద్
2. ✗ షేక్ మన్సూర్
3. ✗ హజ్జా బిన్ జాయెద్
4. ✗ షేక్ తహ్సూన్

Question Number : 2 Question Id : 630680221097 Option Shuffling : Yes Is Question

Mandatory : No Calculator : None Response Time : N.A Think Time : N.A Minimum Instruction Time : 0

Correct Marks : 1 Wrong Marks : 0

In April 2023, who has been named as first woman astronaut for the Moon Mission by NASA?

Options :

1. ✗ Kayla Barron
2. ✓ Christina Koch
3. ✗ Megan McArthur
4. ✗ Shannon Walker

Question Number : 2 Question Id : 630680221097 Option Shuffling : Yes Is Question

Mandatory : No Calculator : None Response Time : N.A Think Time : N.A Minimum Instruction Time : 0

Correct Marks : 1 Wrong Marks : 0

ఏప్రిల్ 2023లో, NASA చేత మూన్ మిషన్ కోసం మొదటి మహిళా వ్యోమగామిగా ఎవరు ఎంపికయ్యారు?

Options :

1. ✘ కైలా బారన్
2. ✔ క్రిస్టినా కోచ్
3. ✘ మేగాన్ మెక్ఆర్థర్
4. ✘ షానన్ వాకర్

Question Number : 3 Question Id : 630680221098 Option Shuffling : Yes Is Question

Mandatory : No Calculator : None Response Time : N.A Think Time : N.A Minimum Instruction Time : 0

Correct Marks : 1 Wrong Marks : 0

Which of the following statements is correct regarding the Oscar Awards 2023?

- I. "Coda" is awarded as best picture.
- II. Will Smith was awarded Best Supporting Actor.

Options :

1. ✘ Only I
2. ✘ Only II
3. ✘ Both I and II

4. ✓ Neither I nor II

Question Number : 3 Question Id : 630680221098 Option Shuffling : Yes Is Question

Mandatory : No Calculator : None Response Time : N.A Think Time : N.A Minimum Instruction

Time : 0

Correct Marks : 1 Wrong Marks : 0

2023లో ఆస్కార్ అవార్డులకు సంబంధించి ఈ క్రింది వాటిలో సరైన ప్రకటన ఏది?

- I. "కోడా" ఉత్తమ చిత్రం అవార్డును పొందింది.
- II. విల్ స్మిత్‌కు ఉత్తమ సహాయ నటుడి అవార్డు లభించింది.

Options :

1. ✘ I మాత్రమే

2. ✘ II మాత్రమే

3. ✘ I మరియు II రెండూ

4. ✓ I కానీ లేదా II కానీ ఏదీ కాదు

Question Number : 4 Question Id : 630680221099 Option Shuffling : Yes Is Question

Mandatory : No Calculator : None Response Time : N.A Think Time : N.A Minimum Instruction

Time : 0

Correct Marks : 1 Wrong Marks : 0

Which of the following statements is correct regarding the Synthesis Report (SYR) released in March 2023?

I. SYR was published by the Intergovernmental Panel on Climate Change (IPCC).

II. SYR summarises the findings of seven reports released during its seventh assessment cycle.

III. According to the report, excess emissions from human activities have raised global temperature by 1.1°C above 1850–1900.

Options :

1. ✘ Only I and II

2. ✘ Only II and III

3. ✔ Only I and III

4. ✘ I, II and III

Question Number : 4 Question Id : 630680221099 Option Shuffling : Yes Is Question

Mandatory : No Calculator : None Response Time : N.A Think Time : N.A Minimum Instruction Time : 0

Correct Marks : 1 Wrong Marks : 0

మార్చి 2023లో విడుదల చేసిన సింథసిస్ రిపోర్ట్ (SYR)కి సంబంధించి ఈ క్రింది ప్రకటనలలో ఏది సరైనది?

I. SYRను ఇంటర్గవర్నమెంటల్ ప్యానెల్ ఆన్ క్లైమేట్ చేంజ్ (IPCC) ప్రచురించింది.

II. SYR తన ఏడవ అంచనా చక్రంలో విడుదల చేసిన ఏడు నివేదికల ఫలితాలను సంగ్రహిస్తుంది.

III. నివేదిక ప్రకారం, మానవ కార్యకలాపాల నుండి వెలువడే 1850-1900 కంటే ఎక్కువ మితిమీరిన ఉద్ధారాలు భూ ఉష్ణోగ్రతను 1.1°C పెంచాయి.

Options :

1. ✘ I మరియు II లు మాత్రమే

2. ✘ II మరియు III లు మాత్రమే

3. ✔ I మరియు III లు మాత్రమే

4. ✘ I, II మరియు III

Question Number : 5 Question Id : 630680221100 Option Shuffling : Yes Is Question

Mandatory : No Calculator : None Response Time : N.A Think Time : N.A Minimum Instruction Time : 0

Correct Marks : 1 Wrong Marks : 0

Which of the following pairs is correct regarding award and its recipient?

I. The Abel Prize 2023 – Luis A. Caffarelli

II. Sveriges Riksbank Prize in Economic Sciences 2022 – Paul R. Milgrom

Options :

1. ✔ Only I

2. ✘ Only II

3. ✘ Both I and II

4. ✘ Neither I nor II

Question Number : 5 Question Id : 630680221100 Option Shuffling : Yes Is Question

Mandatory : No Calculator : None Response Time : N.A Think Time : N.A Minimum Instruction Time : 0

Correct Marks : 1 Wrong Marks : 0

అవార్డు మరియు దాని గ్రహీతకు సంబంధించి ఈ క్రింది జతలలో ఏది సరైనది?

- I. ది అబెల్ ప్రైజ్ 2023 - లూయిస్ ఎ. కాఫరెల్లి
- II. స్వెరిజెస్ రిక్స్బ్యాంక్ ప్రైజ్ ఇన్ ఎకనామిక్ సైన్సెస్ 2022 - పాల్ ఆర్. మిల్గ్రోమ్

Options :

1. ✓ I మాత్రమే
2. ✗ II మాత్రమే
3. ✗ I మరియు II లు రెండూ
4. ✗ I కానీ లేదా II కానీ ఏదీ కాదు

Question Number : 6 Question Id : 630680221101 Option Shuffling : Yes Is Question

Mandatory : No Calculator : None Response Time : N.A Think Time : N.A Minimum Instruction

Time : 0

Correct Marks : 1 Wrong Marks : 0

Arrange the following awards/prize with respect to of their year of establishment from earliest to latest?

- I. Grammy Awards
- II. Pulitzer Prize
- III. Magsaysay Awards

Options :

1. ✓ II, III, I
2. ✗ I, II, III
3. ✗ III, II, I

4. ✘ I, III, II

Question Number : 6 Question Id : 630680221101 Option Shuffling : Yes Is Question Mandatory : No Calculator : None Response Time : N.A Think Time : N.A Minimum Instruction Time : 0

Correct Marks : 1 Wrong Marks : 0

ఈ క్రింది అవార్డులు/బహుమతులను అవి స్థాపించబడిన సంవత్సరానికి సంబంధించి మొదటి నుండి ఇటీవలి వరకు అమర్చండి?

- I. గ్రామీ అవార్డులు
- II. పులిట్జర్ ప్రైజ్
- III. మెగసెసే అవార్డులు

Options :

1. ✔ II, III, I

2. ✘ I, II, III

3. ✘ III, II, I

4. ✘ I, III, II

Question Number : 7 Question Id : 630680221102 Option Shuffling : Yes Is Question Mandatory : No Calculator : None Response Time : N.A Think Time : N.A Minimum Instruction Time : 0

Correct Marks : 1 Wrong Marks : 0

In February 2023, _____ has India's first hydrogen combustion engine tech for heavy-duty trucks.

Options :

1. ✘ The Tata group
2. ✔ Reliance Industries Limited
3. ✘ Adani Enterprises Ltd
4. ✘ Mahindra & Mahindra

Question Number : 7 Question Id : 630680221102 Option Shuffling : Yes Is Question

Mandatory : No Calculator : None Response Time : N.A Think Time : N.A Minimum Instruction Time : 0

Correct Marks : 1 Wrong Marks : 0

ఫిబ్రవరి 2023లో, హెచ్-డ్యూటీ ట్రక్కులలో భారతదేశపు మొట్టమొదటి హైడ్రోజన్ దహన ఇంజిన్ సాంకేతికతను _____ కలిగి ఉంది.

Options :

1. ✘ ది టాటా గ్రూప్
2. ✔ రిలయన్స్ ఇండస్ట్రీస్ లిమిటెడ్
3. ✘ అదానీ ఎంటర్ప్రైజెస్ లిమిటెడ్
4. ✘ మహీంద్రా & మహీంద్రా

Question Number : 8 Question Id : 630680221103 Option Shuffling : Yes Is Question

Mandatory : No Calculator : None Response Time : N.A Think Time : N.A Minimum Instruction

Time : 0

Correct Marks : 1 Wrong Marks : 0

In which city is India's first 3D-printed post office set to open?

Options :

1. ✓ Bengaluru

2. ✗ Gurugram

3. ✗ Pune

4. ✗ Surat

Question Number : 8 Question Id : 630680221103 Option Shuffling : Yes Is Question

Mandatory : No Calculator : None Response Time : N.A Think Time : N.A Minimum Instruction

Time : 0

Correct Marks : 1 Wrong Marks : 0

భారతదేశంలోని మొట్టమొదటి 3D-ప్రింట్‌డ్ పోస్టాఫీసు ఏ నగరంలో ప్రారంభం కానుంది?

Options :

1. ✓ బెంగళూరు

2. ✗ గురుగ్రామ్

3. ✗ పూణే

4. ✗ సూరత్

Question Number : 9 Question Id : 630680221104 Option Shuffling : Yes Is Question Mandatory : No Calculator : None Response Time : N.A Think Time : N.A Minimum Instruction Time : 0

Correct Marks : 1 Wrong Marks : 0

Which of the following statements is correct regarding "AVGAS 100 LL" launched in September 2022?

- I. It is a special aviation fuel meant for piston engine aircraft and unmanned ariel vehicles.
- II. It was developed by DRDO.

Options :

- 1. ✓ Only I
- 2. ✗ Only II
- 3. ✗ Both I and II
- 4. ✗ Neither I nor II

Question Number : 9 Question Id : 630680221104 Option Shuffling : Yes Is Question Mandatory : No Calculator : None Response Time : N.A Think Time : N.A Minimum Instruction Time : 0

Correct Marks : 1 Wrong Marks : 0

సెప్టెంబర్ 2022లో ప్రారంభించబడిన "AVGAS 100 LL"కి సంబంధించి ఈ క్రింది ప్రకటనలలో ఏది సరైనది?

- I. ఇది పిస్టన్ ఇంజిన్ ఎయిర్క్రాఫ్ట్ మరియు మానవరహిత ఏరియల్ వాహనాల కోసం ఉద్దేశించిన ప్రత్యేక విమాన ఇంధనం.
- II. ఇది DRDO ద్వారా అభివృద్ధి చేయబడింది.

Options :

- 1. ✓ I మాత్రమే

2. ✖ || మాత్రమే

3. ✖ | మరియు || లు రెండూ

4. ✖ | కానీ లేదా || కానీ ఏదీ కాదు

Question Number : 10 Question Id : 630680221105 Option Shuffling : Yes Is Question Mandatory : No Calculator : None Response Time : N.A Think Time : N.A Minimum Instruction Time : 0

Correct Marks : 1 Wrong Marks : 0

Which of the following statements is correct regarding "KRITAGYA 3.0"?

- I. It is a National level Hackathon on crop improvement.
- II. It is organised by Indian Council of Agricultural Research.
- III. It promotes 'speed breeding for crop improvement'.

Options :

- 1. ✖ Only I and II
- 2. ✖ Only II and III
- 3. ✖ Only I and III
- 4. ✔ I, II and III

Question Number : 10 Question Id : 630680221105 Option Shuffling : Yes Is Question Mandatory : No Calculator : None Response Time : N.A Think Time : N.A Minimum Instruction

Time : 0

Correct Marks : 1 Wrong Marks : 0

"కృతజ్ఞ 3.0 (KRITAGYA 3.0)"కి సంబంధించి ఈ క్రింది ప్రకటనలలో ఏది సరైనది?

- I. ఇది పంట అభివృద్ధిపై జాతీయ స్థాయి హ్యేకథాన్.
- II. దీనిని ఇండియన్ కౌన్సిల్ ఆఫ్ అగ్రికల్చరల్ రీసెర్చ్ నిర్వహిస్తుంది.
- III. ఇది 'పంట ఎదుగుదల కోసం వేగవంతమైన పెంపకం'ను ప్రోత్సహిస్తుంది.

Options :

1. ✘ I మరియు II లు మాత్రమే
2. ✘ II మరియు III లు మాత్రమే
3. ✘ I మరియు III లు మాత్రమే
4. ✔ I, II మరియు III

Question Number : 11 Question Id : 630680221106 Option Shuffling : Yes Is Question

Mandatory : No Calculator : None Response Time : N.A Think Time : N.A Minimum Instruction

Time : 0

Correct Marks : 1 Wrong Marks : 0

Which of the following statements is correct regarding the Aravalli Green Wall Project?

- I. It was launched by the Union Minister for Environment, Forest and Climate Change, Shri Bhupender Yadav.
- II. It was launched on March 25, 2023.
- III. It is a major initiative to green 50 km buffer area around the Aravalli Hill Range in four states.

Options :

1. ✘ Only I and III

2. ✘ Only II and III

3. ✔ Only I and II

4. ✘ I, II and III

Question Number : 11 Question Id : 630680221106 Option Shuffling : Yes Is Question Mandatory : No Calculator : None Response Time : N.A Think Time : N.A Minimum Instruction Time : 0

Correct Marks : 1 Wrong Marks : 0

ఆరావళి గ్రీన్ వాల్ ప్రాజెక్టుకు సంబంధించి ఈ క్రింది వాటిలో సరైన ప్రకటన ఏది?

- I. దీనిని కేంద్ర పర్యావరణ, అటవీ మరియు వాతావరణ మార్పుల శాఖామాత్యులు శ్రీ భూపేందర్ యాదవ్ ప్రారంభించారు.
- II. ఇది మార్చి 25, 2023న ప్రారంభించబడింది.
- III. నాలుగు రాష్ట్రాల్లోని ఆరావళి కొండ శ్రేణి చుట్టూ ఉన్న 50 km బఫర్ ప్రాంతాన్ని హరితంగా మార్చడానికి ఇది ఒక ప్రధాన కార్యక్రమం.

Options :

1. ✘ I మరియు III లు మాత్రమే

2. ✘ II మరియు III లు మాత్రమే

3. ✔ I మరియు II లు మాత్రమే

4. ✘ I, II మరియు III

Question Number : 12 Question Id : 630680221107 Option Shuffling : Yes Is Question Mandatory : No Calculator : None Response Time : N.A Think Time : N.A Minimum Instruction Time : 0

Correct Marks : 1 Wrong Marks : 0

Which of the following statements is correct regarding Aadi Mahotsav 2023?

- I. It was held from 16 to 23 February 2023.
- II. It was held at Major Dhyan Chand National Stadium in Delhi.

Options :

1. ✘ Only I
2. ✔ Only II
3. ✘ Both I and II
4. ✘ Neither I nor II

Question Number : 12 Question Id : 630680221107 Option Shuffling : Yes Is Question Mandatory : No Calculator : None Response Time : N.A Think Time : N.A Minimum Instruction Time : 0

Correct Marks : 1 Wrong Marks : 0

ఆది మహోత్సవం 2023కి సంబంధించి ఈ క్రింది వాటిలో సరైనది ఏది?

- I. ఇది 16 నుండి 23 ఫిబ్రవరి 2023 వరకు జరిగింది.
- II. ఢిల్లీలోని మేజర్ ధ్యాన్ చంద్ జాతీయ స్టేడియంలో ఇది జరిగింది.

Options :

1. ✘ I మాత్రమే
2. ✔ II మాత్రమే

3. ✖ I మరియు II లు రెండూ

4. ✖ I కానీ లేదా II కానీ ఏదీ కాదు

Question Number : 13 Question Id : 630680221108 Option Shuffling : Yes Is Question Mandatory : No Calculator : None Response Time : N.A Think Time : N.A Minimum Instruction Time : 0

Correct Marks : 1 Wrong Marks : 0

In January 2023, Atal Pension Yojna subscribers have crossed a count of _____ crores.

Options :

1. ✔ 5

2. ✖ 10

3. ✖ 1

4. ✖ 2

Question Number : 13 Question Id : 630680221108 Option Shuffling : Yes Is Question Mandatory : No Calculator : None Response Time : N.A Think Time : N.A Minimum Instruction Time : 0

Correct Marks : 1 Wrong Marks : 0

జనవరి 2023లో, అటల్ పెన్షన్ యోజన చందాదారులు _____ కోట్ల సంఖ్యను దాటారు.

Options :

1. ✔ 5

2. ✖ 10

3. ✖ 1

4. ✖ 2

Question Number : 14 Question Id : 630680221109 Option Shuffling : Yes Is Question Mandatory : No Calculator : None Response Time : N.A Think Time : N.A Minimum Instruction Time : 0

Correct Marks : 1 Wrong Marks : 0

Which state of India has launched Bal Panchayats in February 2023 to curb child marriages?

Options :

1. ✖ Punjab

2. ✔ Assam

3. ✖ Maharashtra

4. ✖ Tamil Nadu

Question Number : 14 Question Id : 630680221109 Option Shuffling : Yes Is Question Mandatory : No Calculator : None Response Time : N.A Think Time : N.A Minimum Instruction Time : 0

Correct Marks : 1 Wrong Marks : 0

భారతదేశంలోని ఏ రాష్ట్రం బాల్య వివాహాలను అరికట్టడానికి ఫిబ్రవరి 2023 లో బాల పంచాయతీలను ప్రారంభించింది?

Options :

1. ✘ పంజాబ్

2. ✔ అస్సాం

3. ✘ మహారాష్ట్ర

4. ✘ తమిళనాడు

Question Number : 15 Question Id : 630680221110 Option Shuffling : Yes Is Question Mandatory : No Calculator : None Response Time : N.A Think Time : N.A Minimum Instruction Time : 0

Correct Marks : 1 Wrong Marks : 0

Lumpy Skin Disease mainly affects _____.

Options :

1. ✘ humans

2. ✔ cattle

3. ✘ birds

4. ✘ pigs

Question Number : 15 Question Id : 630680221110 Option Shuffling : Yes Is Question Mandatory : No Calculator : None Response Time : N.A Think Time : N.A Minimum Instruction Time : 0

Correct Marks : 1 Wrong Marks : 0

గడ్డలు గడ్డలుగా ఉండే చర్మ వ్యాధి (Lumpy Skin Disease) ప్రధానంగా _____ని ప్రభావితం చేస్తుంది.

Options :

1. ✘ మానవులు
2. ✔ పశువులు
3. ✘ పక్షులు
4. ✘ పండ్లు

Question Number : 16 Question Id : 630680221111 Option Shuffling : Yes Is Question

Mandatory : No Calculator : None Response Time : N.A Think Time : N.A Minimum Instruction Time : 0

Correct Marks : 1 Wrong Marks : 0

The technique of DNA fingerprinting was first developed by _____.

Options :

1. ✔ Alec Jeffreys
2. ✘ Richard Owen
3. ✘ Ernst Haeckel
4. ✘ Gregor Mendel

Question Number : 16 Question Id : 630680221111 Option Shuffling : Yes Is Question

Mandatory : No Calculator : None Response Time : N.A Think Time : N.A Minimum Instruction

Time : 0

Correct Marks : 1 Wrong Marks : 0

DNA వేలిముద్ర యొక్క సాంకేతికతను మొదట అభివృద్ధి చేసినవారు _____.

Options :

1. ✓ అలెక్ జెఫ్రీస్
2. ✗ రిచర్డ్ ఓవెన్
3. ✗ ఎర్నెస్ట్ హేకెల్
4. ✗ గ్రెగర్ మెండెల్

Question Number : 17 Question Id : 630680221112 Option Shuffling : Yes Is Question

Mandatory : No Calculator : None Response Time : N.A Think Time : N.A Minimum Instruction

Time : 0

Correct Marks : 1 Wrong Marks : 0

Which of the following statement is correct regarding stem cell?

Options :

1. ✗ There are three main types of stem cells.
2. ✓ Stem cells serve as a repair system for the body.
3. ✗ They can do only specific functions in the body.
4. ✗ Embryonic is not a types of stem cells

Question Number : 17 Question Id : 630680221112 Option Shuffling : Yes Is Question Mandatory : No Calculator : None Response Time : N.A Think Time : N.A Minimum Instruction Time : 0

Correct Marks : 1 Wrong Marks : 0

మూలకణానికి సంబంధించి ఈ క్రింది వాటిలో సరైనది ఏది?

Options :

1. ✘ మూలకణాలలో మూడు ప్రధాన రకాలు ఉన్నాయి.
2. ✔ మూల కణాలు శరీరానికి మరమ్మతు వ్యవస్థగా పనిచేస్తాయి.
3. ✘ అవి శరీరంలో నిర్దిష్ట విధులను మాత్రమే చేయగలవు.
4. ✘ ఎంబ్రియోనిక్ అనేది ఒక రకమైన మూలకణాలు కాదు

Question Number : 18 Question Id : 630680221113 Option Shuffling : Yes Is Question Mandatory : No Calculator : None Response Time : N.A Think Time : N.A Minimum Instruction Time : 0

Correct Marks : 1 Wrong Marks : 0

Which of the following statements is correct regarding carbon?

- I. Carbon forms covalent bonds with itself and other elements.
- II. Carbon form double and triple bonds between carbon atoms.
- III. Carbon and its compounds are some of our major sources of fuel.

Options :

1. ✘ Only I and II
2. ✘ Only II and III

3. ✘ Only I and III

4. ✔ I, II and III

Question Number : 18 Question Id : 630680221113 Option Shuffling : Yes Is Question Mandatory : No Calculator : None Response Time : N.A Think Time : N.A Minimum Instruction Time : 0

Correct Marks : 1 Wrong Marks : 0

కార్పొనేషన్ సంబంధించి ఈ క్రింది వాటిలో సరైనది ఏది?

- I. కార్పొనేషన్ దానికదే మరియు ఇతర మూలకాలతో సమయోజనీయ బంధాలను ఏర్పరుస్తుంది.
- II. కార్పొనేషన్ అనేది కార్పొనేషన్ పరమాణువుల మధ్య ద్వీబంధం మరియు త్రిబంధాలను ఏర్పరుస్తుంది.
- III. కార్పొనేషన్ మరియు దాని సమ్మేళనాలు మన ఇంధనం యొక్క కొన్ని ప్రధాన వనరులు.

Options :

1. ✘ I మరియు II లు మాత్రమే

2. ✘ II మరియు III లు మాత్రమే

3. ✘ I మరియు III లు మాత్రమే

4. ✔ I, II మరియు III

Question Number : 19 Question Id : 630680221114 Option Shuffling : Yes Is Question Mandatory : No Calculator : None Response Time : N.A Think Time : N.A Minimum Instruction Time : 0

Correct Marks : 1 Wrong Marks : 0

Which of the following statement regarding life process is correct?

- I. Heterotrophic nutrition involves the intake of complex material prepared by other organism.
- II. Respiration can only be anaerobic.

Options :

1. ✓ Only I
2. ✗ Only II
3. ✗ Both I and II
4. ✗ Neither I nor II

Question Number : 19 Question Id : 630680221114 Option Shuffling : Yes Is Question

Mandatory : No Calculator : None Response Time : N.A Think Time : N.A Minimum Instruction Time : 0

Correct Marks : 1 Wrong Marks : 0

జీవ ప్రక్రియ (లైఫ్ ప్రాసెస్)కు సంబంధించి ఈ క్రింది వాటిలో సరైనది ఏది?

- I. పరపోషక పోషణ అనేది ఇతర జీవించే తయారు చేయబడిన సంక్లిష్ట పదార్థాన్ని తీసుకోవడం.
- II. శ్వాసక్రియ వాయురహితంగా మాత్రమే ఉంటుంది.

Options :

1. ✓ I మాత్రమే
2. ✗ II మాత్రమే
3. ✗ I మరియు II లు రెండూ

4. ✖ I కానీ లేదా II కానీ ఏదీ కాదు

Question Number : 20 Question Id : 630680221115 Option Shuffling : Yes Is Question Mandatory : No Calculator : None Response Time : N.A Think Time : N.A Minimum Instruction Time : 0

Correct Marks : 1 Wrong Marks : 0

Match the following element with their respective atomicity.

	Element		Atomicity
I	Argon	1	Poly-atomic
II	Oxygen	2	Monoatomic
III	Sulphur	3	Diatomic

Options :

1. ✖ I-3, II-1, III-2

2. ✔ I-2, II-3, III-1

3. ✖ I-2, II-1, III-3

4. ✖ I-3, II-2, III-1

Question Number : 20 Question Id : 630680221115 Option Shuffling : Yes Is Question Mandatory : No Calculator : None Response Time : N.A Think Time : N.A Minimum Instruction Time : 0

Correct Marks : 1 Wrong Marks : 0

ఈ క్రింది మూలకాన్ని వాటి సంబంధిత పరమాణుకతో జతపరచండి.

	మూలకం		పరమాణుకత
I	ఆర్గాన్	1	బహు- పరమాణు
II	ఆక్సిజన్	2	ఏకపరమాణు
III	సల్ఫర్	3	ద్వీపరమాణు

Options :

1. ✘ I-3, II-1, III-2

2. ✔ I-2, II-3, III-1

3. ✘ I-2, II-1, III-3

4. ✘ I-3, II-2, III-1

Question Number : 21 Question Id : 630680221116 Option Shuffling : Yes Is Question

Mandatory : No Calculator : None Response Time : N.A Think Time : N.A Minimum Instruction

Time : 0

Correct Marks : 1 Wrong Marks : 0

Which of the following pair of cell type : number of chromosomes is correct?

I. Prokaryotic cell : Single

II. Eukaryotic cell : More than one

Options :

1. ✘ Only I

2. ✖ Only II

3. ✔ Both I and II

4. ✖ Neither I nor II

Question Number : 21 Question Id : 630680221116 Option Shuffling : Yes Is Question Mandatory : No Calculator : None Response Time : N.A Think Time : N.A Minimum Instruction Time : 0

Correct Marks : 1 Wrong Marks : 0

ఈ క్రింది వాటిలో ఏ కణ రకం : క్రోమోజోమ్ల సంఖ్య జత సరైనది?

I. కేంద్రక పూర్వ కణాలు: ఏకైక

II. నిజ కేంద్రక కణాలు: ఒకటి కంటే ఎక్కువ

Options :

1. ✖ I మాత్రమే

2. ✖ II మాత్రమే

3. ✔ I మరియు II లు రెండూ

4. ✖ I కానీ లేదా II కానీ ఏదీ కాదు

Question Number : 22 Question Id : 630680221117 Option Shuffling : Yes Is Question Mandatory : No Calculator : None Response Time : N.A Think Time : N.A Minimum Instruction Time : 0

Correct Marks : 1 Wrong Marks : 0

Members of which phylum of animal kingdom are commonly known as roundworms?

Options :

1. ✘ Annelida
2. ✘ Mollusca
3. ✘ Platyhelminthes
4. ✔ Aschelminthes

Question Number : 22 Question Id : 630680221117 Option Shuffling : Yes Is Question

Mandatory : No Calculator : None Response Time : N.A Think Time : N.A Minimum Instruction Time : 0

Correct Marks : 1 Wrong Marks : 0

జంతు రాజ్యంలో ఏ వర్గానికి చెందిన జీవులను సాధారణంగా ఏలికపాములు అంటారు?

Options :

1. ✘ అన్నెలిడా
2. ✘ మొలస్కా
3. ✘ ప్లాటిహెల్మింథెస్
4. ✔ అస్కెల్మింథెస్

Question Number : 23 Question Id : 630680221118 Option Shuffling : Yes Is Question

Mandatory : No Calculator : None Response Time : N.A Think Time : N.A Minimum Instruction Time : 0

Correct Marks : 1 Wrong Marks : 0

Herbivores are part of _____ trophic level of an ecosystem.

Options :

1. ✘ First

2. ✔ Second

3. ✘ Third

4. ✘ Fourth

Question Number : 23 Question Id : 630680221118 Option Shuffling : Yes Is Question

Mandatory : No Calculator : None Response Time : N.A Think Time : N.A Minimum Instruction Time : 0

Correct Marks : 1 Wrong Marks : 0

శకాహారులు పర్యావరణ వ్యవస్థ యొక్క _____ ట్రోఫిక్ స్థాయిలో భాగంగా వుంటాయి.

Options :

1. ✘ మొదటి

2. ✔ రెండవ

3. ✘ మూడవ

4. ✘ నాల్గవ

Question Number : 24 Question Id : 630680221119 Option Shuffling : Yes Is Question Mandatory : No Calculator : None Response Time : N.A Think Time : N.A Minimum Instruction Time : 0

Correct Marks : 1 Wrong Marks : 0

In India, the Epidemic Disease Act, which was seen in the news during the COVID-19 outbreak, was enacted in _____.

Options :

1. ✘ 1881

2. ✘ 1887

3. ✘ 1891

4. ✔ 1897

Question Number : 24 Question Id : 630680221119 Option Shuffling : Yes Is Question Mandatory : No Calculator : None Response Time : N.A Think Time : N.A Minimum Instruction Time : 0

Correct Marks : 1 Wrong Marks : 0

భారతదేశంలో, COVID-19 వ్యాప్తి సమయంలో వార్షికోత్సవం కనిపించే అంటువ్యాధి వ్యాధి చట్టం _____లో అమలు చేయబడింది.

Options :

1. ✘ 1881

2. ✘ 1887

3. ✘ 1891

4. ✓ 1897

Question Number : 25 Question Id : 630680221120 Option Shuffling : Yes Is Question Mandatory : No Calculator : None Response Time : N.A Think Time : N.A Minimum Instruction Time : 0

Correct Marks : 1 Wrong Marks : 0

Planting, Stepped Terraces and Suspended Fences are some mitigation measures for _____.

Options :

1. ✓ avalanches

2. ✘ earthquakes

3. ✘ heat waves

4. ✘ chemical disaster

Question Number : 25 Question Id : 630680221120 Option Shuffling : Yes Is Question Mandatory : No Calculator : None Response Time : N.A Think Time : N.A Minimum Instruction Time : 0

Correct Marks : 1 Wrong Marks : 0

మొక్కలు నాటడం, స్టెప్పె టెర్రాస్లు మరియు సస్పెండెడ్ ఫెన్సెస్ అనేవి _____ కోసం తీసుకునే కొన్ని ఉపశమన చర్యలు.

Options :

1. ✓ హిమపాతాలు

2. ✘ భూకంపాలు

3. ✖ వడగాలుల

4. ✖ రసాయన విపత్తు

Question Number : 26 Question Id : 630680221121 Option Shuffling : Yes Is Question Mandatory : No Calculator : None Response Time : N.A Think Time : N.A Minimum Instruction Time : 0

Correct Marks : 1 Wrong Marks : 0

Aarogya Setu App which is used for covid-19 tracking was developed by _____.

Options :

1. ✖ Indian Space Research Organisation

2. ✔ National Informatics Centre

3. ✖ All India Institute Of Medical Science (AIIMS)

4. ✖ Indian Council of Medical Research

Question Number : 26 Question Id : 630680221121 Option Shuffling : Yes Is Question Mandatory : No Calculator : None Response Time : N.A Think Time : N.A Minimum Instruction Time : 0

Correct Marks : 1 Wrong Marks : 0

కోవిడ్-19 ట్రాకింగ్ కోసం ఉపయోగించే ఆరోగ్య సేతు యాప్‌ను అభివృద్ధి చేసినవారు _____.

Options :

1. ✖ భారత అంతరిక్ష పరిశోధనా సంస్థ

2. ✓ నేషనల్ ఇన్స్పెక్టింగ్ సెంటర్

3. ✘ ఆల్ ఇండియా ఇన్స్టిట్యూట్ ఆఫ్ మెడికల్ సైన్స్ (AIIMS)

4. ✘ ఇండియన్ కౌన్సిల్ ఆఫ్ మెడికల్ రీసెర్చ్

Question Number : 27 Question Id : 630680221122 Option Shuffling : Yes Is Question Mandatory : No Calculator : None Response Time : N.A Think Time : N.A Minimum Instruction Time : 0

Correct Marks : 1 Wrong Marks : 0

With respect to air pollution, what do the terms "SWAS, SAFAL, and STAR" refer to?

Options :

1. ✘ Air purifiers

2. ✘ Air Pollutants

3. ✓ Green Crackers

4. ✘ Greenhouse gases

Question Number : 27 Question Id : 630680221122 Option Shuffling : Yes Is Question Mandatory : No Calculator : None Response Time : N.A Think Time : N.A Minimum Instruction Time : 0

Correct Marks : 1 Wrong Marks : 0

వాయు కాలుష్యానికి సంబంధించి, "SWAS, SAFAL మరియు STAR" అనే పదాలు దేనిని సూచిస్తాయి?

Options :

1. ✘ ఎయిర్ ప్యూరిఫైయర్లు
2. ✘ వాయు కాలుష్య కారకాలు
3. ✔ గ్రీన్ క్రాకర్స్
4. ✘ గ్రీన్ హౌస్ వాయువులు

Question Number : 28 Question Id : 630680221123 Option Shuffling : Yes Is Question Mandatory : No Calculator : None Response Time : N.A Think Time : N.A Minimum Instruction Time : 0

Correct Marks : 1 Wrong Marks : 0

Microplastics are tiny plastic particles with an upper size limit of _____.

Options :

1. ✔ 5 mm in diameter
2. ✘ 30 mm in diameter
3. ✘ 50 mm in diameter
4. ✘ 100 mm in diameter

Question Number : 28 Question Id : 630680221123 Option Shuffling : Yes Is Question Mandatory : No Calculator : None Response Time : N.A Think Time : N.A Minimum Instruction Time : 0

Correct Marks : 1 Wrong Marks : 0

మైక్రోప్లాస్టిక్లు అంటే _____ ఎగువ పరిమాణ పరిమితి కలిగిన చిన్న ప్లాస్టిక్ కణాలు.

Options :

1. ✓ వ్యాసంలో 5 mm
2. ✗ వ్యాసంలో 30 mm
3. ✗ వ్యాసంలో 50 mm
4. ✗ వ్యాసంలో 100 mm

Question Number : 29 Question Id : 630680221124 Option Shuffling : Yes Is Question

Mandatory : No Calculator : None Response Time : N.A Think Time : N.A Minimum Instruction Time : 0

Correct Marks : 1 Wrong Marks : 0

Which of the following is the second most abundant anthropogenic greenhouse gas (GHG) after carbon dioxide?

Options :

1. ✗ Nitrous oxide
2. ✓ Methane
3. ✗ Hydrofluorocarbons
4. ✗ Perfluorocarbons

Question Number : 29 Question Id : 630680221124 Option Shuffling : Yes Is Question Mandatory : No Calculator : None Response Time : N.A Think Time : N.A Minimum Instruction Time : 0

Correct Marks : 1 Wrong Marks : 0

ఈ క్రింది వాటిలో కార్బన్ డయాక్సైడ్ తర్వాత అత్యంత సమృద్ధిగా లభించే మానవజన్య గ్రీన్ హౌస్ వాయువు (GHG) ఏది?

Options :

1. ✘ నైట్రస్ ఆక్సైడ్
2. ✔ మీథేన్
3. ✘ హైడ్రోఫ్లోరోకార్బన్లు
4. ✘ పర్ఫ్లోరోకార్బన్స్

Question Number : 30 Question Id : 630680221125 Option Shuffling : Yes Is Question Mandatory : No Calculator : None Response Time : N.A Think Time : N.A Minimum Instruction Time : 0

Correct Marks : 1 Wrong Marks : 0

In 2022, Earth Overshoot Day was on _____.

Options :

1. ✘ 27 July
2. ✔ 28 July
3. ✘ 29 July

4. ✖ 30 July

Question Number : 30 Question Id : 630680221125 Option Shuffling : Yes Is Question Mandatory : No Calculator : None Response Time : N.A Think Time : N.A Minimum Instruction Time : 0

Correct Marks : 1 Wrong Marks : 0

2022లో, ఎర్డ్ ఓవర్షూట్ డే _____న జరిగింది.

Options :

1. ✖ 27 జూలై

2. ✔ 28 జూలై

3. ✖ 29 జూలై

4. ✖ 30 జూలై

Question Number : 31 Question Id : 630680221126 Option Shuffling : Yes Is Question Mandatory : No Calculator : None Response Time : N.A Think Time : N.A Minimum Instruction Time : 0

Correct Marks : 1 Wrong Marks : 0

As of October 2022, how many beaches in India have 'Blue Flag' beaches?

Options :

1. ✖ 8

2. ✖ 10

3. ✓ 12

4. ✘ 14

Question Number : 31 Question Id : 630680221126 Option Shuffling : Yes Is Question Mandatory : No Calculator : None Response Time : N.A Think Time : N.A Minimum Instruction Time : 0

Correct Marks : 1 Wrong Marks : 0

అక్టోబర్ 2022 నాటికి, భారతదేశంలో ఎన్ని బీచ్‌లలో 'బ్లూ ఫ్లాగ్' బీచ్‌లు ఉన్నాయి?

Options :

1. ✘ 8

2. ✘ 10

3. ✓ 12

4. ✘ 14

Question Number : 32 Question Id : 630680221127 Option Shuffling : Yes Is Question Mandatory : No Calculator : None Response Time : N.A Think Time : N.A Minimum Instruction Time : 0

Correct Marks : 1 Wrong Marks : 0

Which of the following statement regarding Methanol is correct?

I. Methanol is a clean burning drop in fuel which can replace both petrol & diesel in transportation & LPG, Wood, Kerosene in cooking fuel.

II. Methanol can be produced from Natural Gas.

Options :

1. ✘ I only

2. ✘ II only

3. ✔ Both I and II

4. ✘ Neither I nor II

Question Number : 32 Question Id : 630680221127 Option Shuffling : Yes Is Question

Mandatory : No Calculator : None Response Time : N.A Think Time : N.A Minimum Instruction Time : 0

Correct Marks : 1 Wrong Marks : 0

మిథనాల్కు సంబంధించి ఈ క్రింది వాటిలో సరైనది ఏది?

I. మిథనాల్ అనేది ఇంధనంలో శుద్ధిగా దహనం చెందే బిందువు, ఇది పెట్రోల్ & డీజిల్ రెండింటినీ రవాణా & వంట ఇంధనంలో LPG, కలప, కిరోసిన్ రెండింటికీ బదులుగా వాడబడుతుంది.

II. సహజ వాయువు నుండి మిథనాల్ను ఉత్పత్తి చేయవచ్చు.

Options :

1. ✘ I మాత్రమే

2. ✘ II మాత్రమే

3. ✔ I మరియు II రెండూ

4. ✘ I కానీ లేదా II కానీ ఏదీ కాదు

Question Number : 33 Question Id : 630680221128 Option Shuffling : Yes Is Question Mandatory : No Calculator : None Response Time : N.A Think Time : N.A Minimum Instruction Time : 0

Correct Marks : 1 Wrong Marks : 0

Which of the following statements is correct regarding Climate Change Performance Index 2023?

- I. India secured 8th position in the index.
- II. United Kingdom secured 11th position in the index.
- III. India's rank is the best amongst the G 20 countries.

Options :

- 1. ✘ I and II only
- 2. ✘ II and III only
- 3. ✘ I and III only
- 4. ✔ I, II and III

Question Number : 33 Question Id : 630680221128 Option Shuffling : Yes Is Question Mandatory : No Calculator : None Response Time : N.A Think Time : N.A Minimum Instruction Time : 0

Correct Marks : 1 Wrong Marks : 0

క్లైమేట్ చేంజ్ పెర్ఫార్మెన్స్ ఇండెక్స్ 2023కి సంబంధించి, ఈ క్రింది ప్రకటనలలో ఏది సరైనది?

- I. ఈ ఇండెక్స్లో భారతదేశం 8వ స్థానాన్ని పొందింది.
- II. ఈ ఇండెక్స్లో యునైటెడ్ కింగ్డమ్ 11వ స్థానాన్ని పొందింది.
- III. జి20 దేశాలలో భారతదేశానిది అత్యుత్తమ ర్యాంక్.

Options :

- 1.

✘ I మరియు II లు మాత్రమే

2. ✘ II మరియు III లు మాత్రమే

3. ✘ I మరియు III లు మాత్రమే

4. ✔ I, II మరియు III

Question Number : 34 Question Id : 630680221129 Option Shuffling : Yes Is Question Mandatory : No Calculator : None Response Time : N.A Think Time : N.A Minimum Instruction Time : 0

Correct Marks : 1 Wrong Marks : 0

Which of the following pairs of rivers and their tributaries is correct?

Options :

1. ✘ Indus – Son

2. ✘ Ganga – Zaskar

3. ✔ Brahmaputra – Dibang

4. ✘ Godavari – Ghatprabha

Question Number : 34 Question Id : 630680221129 Option Shuffling : Yes Is Question Mandatory : No Calculator : None Response Time : N.A Think Time : N.A Minimum Instruction Time : 0

Correct Marks : 1 Wrong Marks : 0

ఈ క్రింది నదులు మరియు వాటి ఉపనదుల జతలలో ఏది సరైనది?

Options :

1. ✘ సింధు - సోన్
2. ✘ గంగ - జస్కర్
3. ✔ బ్రహ్మపుత్ర - దిబాంగ్
4. ✘ గోదావరి - ఘటప్రభ

Question Number : 35 Question Id : 630680221130 Option Shuffling : Yes Is Question

Mandatory : No Calculator : None Response Time : N.A Think Time : N.A Minimum Instruction Time : 0

Correct Marks : 1 Wrong Marks : 0

Arrange the following wildlife sanctuary of India from north to south?

- I. Sarika wildlife sanctuary
- II. Chandra Prabha wildlife sanctuary
- III. Periyar wildlife sanctuary

Options :

1. ✔ I, II, III
2. ✘ III, II, I
3. ✘ III, I, II
4. ✘ II, I, III

Question Number : 35 Question Id : 630680221130 Option Shuffling : Yes Is Question Mandatory : No Calculator : None Response Time : N.A Think Time : N.A Minimum Instruction Time : 0

Correct Marks : 1 Wrong Marks : 0

భారతదేశంలోని ఈ క్రింది వన్యప్రాణుల అభయారణ్యాలను ఉత్తరం నుండి దక్షిణానికి అమర్చండి?

- I. సారిక వన్యప్రాణుల అభయారణ్యం
- II. చంద్రప్రభ వన్యప్రాణుల అభయారణ్యం
- III. పెరియార్ వన్యప్రాణుల అభయారణ్యం

Options :

1. ✓ I, II, III

2. ✗ III, II, I

3. ✗ III, I, II

4. ✗ II, I, III

Question Number : 36 Question Id : 630680221131 Option Shuffling : Yes Is Question Mandatory : No Calculator : None Response Time : N.A Think Time : N.A Minimum Instruction Time : 0

Correct Marks : 1 Wrong Marks : 0

Match the following Indian States with their capital?

	State		Capital
I	Mizoram	1	Dispur
II	Assam	2	Agartala
III	Tripura	3	Aizawl

Options :

- ✘ I-3, II-2, III-1
- ✘ I-1, II-2, III-3
- ✘ I-1, II-3, III-2
- ✔ I-3, II-1, III-2

Question Number : 36 Question Id : 630680221131 Option Shuffling : Yes Is Question

Mandatory : No Calculator : None Response Time : N.A Think Time : N.A Minimum Instruction

Time : 0

Correct Marks : 1 Wrong Marks : 0

ఈ క్రింది భారతీయ రాష్ట్రాలను వాటి రాజధానితో జతపరచండి?

	రాష్ట్రం		రాజధాని
I	మిజోరామ్	1	డిస్పూర్
II	అస్సాం	2	అగర్తలా
III	త్రిపుర	3	ఐజావల్

Options :

1. ✘ I-3, II-2, III-1

2. ✘ I-1, II-2, III-3

3. ✘ I-1, II-3, III-2

4. ✔ I-3, II-1, III-2

Question Number : 37 Question Id : 630680221132 Option Shuffling : Yes Is Question Mandatory : No Calculator : None Response Time : N.A Think Time : N.A Minimum Instruction Time : 0

Correct Marks : 1 Wrong Marks : 0

What is the correct order (first to last) of the following cities with respect to sunrise time?

I. Hyderabad

II. Patna

III. Raipur

Options :

1. ✘ I, II, III

2. ✘ III, II, I

3. ✔ II, III, I

4. ✘ III, I, II

Question Number : 37 Question Id : 630680221132 Option Shuffling : Yes Is Question Mandatory : No Calculator : None Response Time : N.A Think Time : N.A Minimum Instruction Time : 0

Correct Marks : 1 Wrong Marks : 0

సూర్యోదయ సమయానికి సంబంధించి ఈ క్రింది నగరాల్లో సరైన క్రమం (మొదటి నుండి చివరి వరకు) ఏమిటి?

I. హైదరాబాద్

II. పాట్నా

III. రాయ్పూర్

Options :

1. ✘ I, II, III

2. ✘ III, II, I

3. ✔ II, III, I

4. ✘ III, I, II

Question Number : 38 Question Id : 630680221133 Option Shuffling : Yes Is Question Mandatory : No Calculator : None Response Time : N.A Think Time : N.A Minimum Instruction Time : 0

Correct Marks : 1 Wrong Marks : 0

What is the chronological order (first to last) of following events with respect to Indian demography?

I. Rangarajan Report on Poverty was submitted.

II. Latest census conducted in India.

III. Mahatma Gandhi National Rural Employment Guarantee Act was enacted.

Options :

1. ✘ I, II, III

2. ✘ II, I, III

3. ✔ III, II, I

4. ✘ I, III, II

Question Number : 38 Question Id : 630680221133 Option Shuffling : Yes Is Question

Mandatory : No Calculator : None Response Time : N.A Think Time : N.A Minimum Instruction Time : 0

Correct Marks : 1 Wrong Marks : 0

భారతీయ జనాభాకు సంబంధించి ఈ క్రింది సంఘటనల కాలక్రమానుసారం (మొదటి నుండి చివరి వరకు) ఏమిటి?

I. రంగరాజన్ పేదరికంపై నివేదికను సమర్పించారు.

II. భారతదేశంలో తాజా జనాభా లెక్కలు నిర్వహించబడింది.

III. మహాత్మా గాంధీ జాతీయ గ్రామీణ ఉపాధి హామీ చట్టం అమలులోకి వచ్చింది.

Options :

1. ✘ I, II, III

2. ✘ II, I, III

3. ✔ III, II, I

4. ✘ I, III, II

Question Number : 39 Question Id : 630680221134 Option Shuffling : Yes Is Question Mandatory : No Calculator : None Response Time : N.A Think Time : N.A Minimum Instruction Time : 0

Correct Marks : 1 Wrong Marks : 0

Arrange the following Indian States/UT based on their literacy rate from lowest to highest as per census 2011?

I. Kerala

II. Lakshadweep

III. Mizoram

Options :

1. ✘ I, II, III

2. ✔ III, II, I

3. ✘ II, I, III

4. ✘ II, III, I

Question Number : 39 Question Id : 630680221134 Option Shuffling : Yes Is Question Mandatory : No Calculator : None Response Time : N.A Think Time : N.A Minimum Instruction Time : 0

Correct Marks : 1 Wrong Marks : 0

2011 జనాభా లెక్కల ప్రకారం ఈ క్రింది భారతీయ రాష్ట్రాలు/UTలను వాటి అక్షరాస్యత రేటు అత్యల్ప నుండి అత్యధిక స్థాయిలో అమర్చండి ?

I. కేరళ

II. లక్షద్వీప్

III. మిజోరం

Options :

1. ✘ I, II, III

2. ✔ III, II, I

3. ✘ II, I, III

4. ✘ II, III, I

Question Number : 40 Question Id : 630680221135 Option Shuffling : Yes Is Question Mandatory : No Calculator : None Response Time : N.A Think Time : N.A Minimum Instruction Time : 0

Correct Marks : 1 Wrong Marks : 0

In India, which of the following pairs of commissions in India and their report submission years are correct?

I. Report of the Linguistic Provinces Commission – 1948

II. Report of the States Reorganisation Commission – 1951

Options :

1. ✔ Only I

2. ✘ Only II

3. ✘ Both I and II

4. ✘ Neither I nor II

Question Number : 40 Question Id : 630680221135 Option Shuffling : Yes Is Question

Mandatory : No Calculator : None Response Time : N.A Think Time : N.A Minimum Instruction Time : 0

Correct Marks : 1 Wrong Marks : 0

భారతదేశంలో, ఈ క్రింది భారతదేశపు ఏ కమీషన్లు మరియు వాటి నివేదిక సమర్పించిన సంవత్సరాల జత సరైనవి?

- I. లింగ్విస్టిక్ ప్రావిన్సెస్ కమీషన్ నివేదిక - 1948
- II. రాష్ట్రాల పునర్వ్యవస్థీకరణ కమీషన్ నివేదిక - 1951

Options :

1. ✓ I మాత్రమే
2. ✗ II మాత్రమే
3. ✗ I మరియు II
4. ✗ I కానీ లేదా II కానీ ఏదీ కాదు

Question Number : 41 Question Id : 630680221136 Option Shuffling : Yes Is Question

Mandatory : No Calculator : None Response Time : N.A Think Time : N.A Minimum Instruction Time : 0

Correct Marks : 1 Wrong Marks : 0

Match the following religious communities in India with respect to their population per cent as per the 2011 census?

	Community		Percent
I	Christians	1	2.3
II	Sikhs	2	1.9
III	Buddhists	3	0.8

Options :

1. ✘ I-1, II-3, III-2
2. ✘ I-3, II-2, III-1
3. ✔ I-2, II-1, III-3
4. ✘ I-1, II-2, III-3

Question Number : 41 Question Id : 630680221136 Option Shuffling : Yes Is Question

Mandatory : No Calculator : None Response Time : N.A Think Time : N.A Minimum Instruction

Time : 0

Correct Marks : 1 Wrong Marks : 0

2011 జనాభా లెక్కల ప్రకారం, భారతదేశంలోని ఈ క్రింది మతానికి సంబంధించిన సమాజాలను వారి జనాభా శాతంతో జతపరచండి?

	సమాజం		శాతం
I	క్రైస్తవులు	1	2.3
II	సిక్కులు	2	1.9
III	బౌద్ధులు	3	0.8

Options :

1. ✘ I-1, II-3, III-2

2. ✘ I-3, II-2, III-1

3. ✔ I-2, II-1, III-3

4. ✘ I-1, II-2, III-3

Question Number : 42 Question Id : 630680221137 Option Shuffling : Yes Is Question

Mandatory : No Calculator : None Response Time : N.A Think Time : N.A Minimum Instruction Time : 0

Correct Marks : 1 Wrong Marks : 0

Which of the following statements is correct regarding Principles of Sustainable Development?

I. Sustainable Development aim to minimise the depletion of natural resources.

II. It aim to conserve the earth's vitality and diversity.

Options :

1. ✘ I only

2. ✘ II only

3. ✔ Both I and II

4. ✘ Neither I nor II

Question Number : 42 Question Id : 630680221137 Option Shuffling : Yes Is Question Mandatory : No Calculator : None Response Time : N.A Think Time : N.A Minimum Instruction Time : 0

Correct Marks : 1 Wrong Marks : 0

సుస్థిర అభివృద్ధి సూత్రాలకు సంబంధించి ఈ క్రింది వాటిలో సరైనది ఏది?

- I. సహజ వనరుల క్షీణతను తగ్గించడం సుస్థిర అభివృద్ధి లక్ష్యం.
- II. ఇది భూమి యొక్క జీవశక్తి మరియు వైవిధ్యాన్ని కాపాడటం లక్ష్యంగా పెట్టుకుంది.

Options :

1. ✘ I మాత్రమే

2. ✘ II మాత్రమే

3. ✔ I మరియు II రెండూ

4. ✘ I కానీ లేదా II కానీ ఏదీ కాదు

Question Number : 43 Question Id : 630680221138 Option Shuffling : Yes Is Question Mandatory : No Calculator : None Response Time : N.A Think Time : N.A Minimum Instruction Time : 0

Correct Marks : 1 Wrong Marks : 0

Arrange the following industrial regions in India based on their location from east to west.

I. Hugli region

II. Chottanagpur industrial belt

III. Ahmedabad-Baroda region

Options :

1. ✘ I-III-II

2. ✔ I-II-III

3. ✘ III-II-I

4. ✘ II-I-III

Question Number : 43 Question Id : 630680221138 Option Shuffling : Yes Is Question

Mandatory : No Calculator : None Response Time : N.A Think Time : N.A Minimum Instruction Time : 0

Correct Marks : 1 Wrong Marks : 0

భారతదేశంలోని క్రింది పారిశ్రామిక ప్రాంతాలను తూర్పు నుండి పడమర వరకు వాటి స్థానం ఆధారంగా అమర్చండి.

I. హుగ్లీ ప్రాంతం

II. ఛోటానాగ్‌పూర్ ఇండస్ట్రియల్ బెల్ట్

III. అహ్మదాబాద్-బరోడా ప్రాంతం

Options :

1. ✘ I-III-II

2. ✔ I-II-III

3. ✘ III-II-I

4. ✘ II-I-III

Question Number : 44 Question Id : 630680221139 Option Shuffling : Yes Is Question Mandatory : No Calculator : None Response Time : N.A Think Time : N.A Minimum Instruction Time : 0

Correct Marks : 1 Wrong Marks : 0

What is the correct order of following Iron Ore type based on their iron content from highest to lowest?

I. Magnetite

II. Hematite

III. Siderite

Options :

1. ✘ III, II, I

2. ✔ I, II, III

3. ✘ I, III, II

4. ✘ II, I, III

Question Number : 44 Question Id : 630680221139 Option Shuffling : Yes Is Question Mandatory : No Calculator : None Response Time : N.A Think Time : N.A Minimum Instruction Time : 0

Correct Marks : 1 Wrong Marks : 0

ముడి ఇనుము రకాన్ని వాటి ఇనుము కంటెంట్ ఆధారంగా అత్యధికం నుండి అత్యల్పం వరకు అనుసరించే సరైన క్రమం ఏమిటి?

I. మాగ్నెటైట్

II. హెమటైట్

III. సిడరైట్

Options :

1. ✘ III, II, I

2. ✔ I, II, III

3. ✘ I, III, II

4. ✘ II, I, III

Question Number : 45 Question Id : 630680221140 Option Shuffling : Yes Is Question

Mandatory : No Calculator : None Response Time : N.A Think Time : N.A Minimum Instruction

Time : 0

Correct Marks : 1 Wrong Marks : 0

Which of the following statements is correct regarding Fundamental Duties mentioned in the Indian Constitution?

I. There is no fundamental duty parents have towards their wards.

II. At present there are 12 fundamental duties.

Options :

1. ✘ Only I

2. ✘ Only II

3. ✘ Both I and II

4. ✔ Neither I nor II

Question Number : 45 Question Id : 630680221140 Option Shuffling : Yes Is Question Mandatory : No Calculator : None Response Time : N.A Think Time : N.A Minimum Instruction Time : 0

Correct Marks : 1 Wrong Marks : 0

భారత రాజ్యాంగంలో పేర్కొన్న ప్రాథమిక విధులకు సంబంధించి ఈ క్రింది వాటిలో సరైనది ఏది?

- I. వారి పిల్లల పట్ల తల్లిదండ్రులకు ఎటువంటి ప్రాథమిక విధి లేదు.
- II. ప్రస్తుతం 12 ప్రాథమిక విధులు ఉన్నాయి.

Options :

1. ✘ I మాత్రమే

2. ✘ II మాత్రమే

3. ✘ I మరియు II లు రెండూ

4. ✔ I కానీ లేదా II కానీ ఏదీ కాదు

Question Number : 46 Question Id : 630680221141 Option Shuffling : Yes Is Question Mandatory : No Calculator : None Response Time : N.A Think Time : N.A Minimum Instruction Time : 0

Correct Marks : 1 Wrong Marks : 0

Article 19 of the Indian Constitution provides for the protection of certain rights. Which of the following is included in it?

I. Freedom of speech and expression.

II. To form associations or unions.

III. To organize a strike and lockout.

Options :

1. ✘ Only I

2. ✔ Only I and II

3. ✘ Only II and III

4. ✘ I, II and III

Question Number : 46 Question Id : 630680221141 Option Shuffling : Yes Is Question

Mandatory : No Calculator : None Response Time : N.A Think Time : N.A Minimum Instruction Time : 0

Correct Marks : 1 Wrong Marks : 0

భారత రాజ్యాంగంలోని అధికరణం 19 కొన్ని నిర్దిష్ట హక్కుల రక్షణను అందిస్తుంది. ఈ క్రింది వాటిలో ఏది అందులో చేర్చబడింది?

I. వాక్ స్వాతంత్ర్యం మరియు భావప్రకటన స్వేచ్ఛ.

II. సంస్థలు లేదా సంఘాలను ఏర్పాటు చేయడం.

III. సమ్మె మరియు లాకౌట్లను నిర్వహించడానికి.

Options :

1. ✘ I మాత్రమే

2. ✓ I మరియు II లు మాత్రమే

3. ✘ II మరియు III లు మాత్రమే

4. ✘ I, II మరియు III

Question Number : 47 Question Id : 630680221142 Option Shuffling : Yes Is Question Mandatory : No Calculator : None Response Time : N.A Think Time : N.A Minimum Instruction Time : 0

Correct Marks : 1 Wrong Marks : 0

What is the chronological order (first to last) of the following events with respect to the Indian Constitution?

I. The preamble was amended.

II. Article 21A was added to the Indian Constitution.

III. The voting age was reduced from 21 to 18.

Options :

1. ✓ I, III, II

2. ✘ I, II, III

3. ✘ III, II, I

4. ✘ II, I, III

Question Number : 47 Question Id : 630680221142 Option Shuffling : Yes Is Question Mandatory : No Calculator : None Response Time : N.A Think Time : N.A Minimum Instruction Time : 0

Correct Marks : 1 Wrong Marks : 0

భారత రాజ్యాంగానికి సంబంధించి ఈ క్రింది సంఘటనల కాలక్రమానుసారం (మొదటి నుండి చివరి వరకు) ఏమిటి?

- I. ప్రవేశిక సవరించబడింది.
- II. అధికరణం 21A భారత రాజ్యాంగంలో చేర్చబడింది.
- III. ఓటు వేసే వయస్సును 21 నుంచి 18 కి తగ్గించబడింది.

Options :

1. ✓ I, III, II

2. ✗ I, II, III

3. ✗ III, II, I

4. ✗ II, I, III

Question Number : 48 Question Id : 630680221143 Option Shuffling : Yes Is Question

Mandatory : No Calculator : None Response Time : N.A Think Time : N.A Minimum Instruction

Time : 0

Correct Marks : 1 Wrong Marks : 0

Arrange the following provisions with respect to the order (first to last) of their articles in the Indian Constitution?

- I. Organisation of village panchayats
- II. Organisation of agriculture and animal husbandry
- III. Uniform civil code for citizens

Options :

1. ✓ I, III, II

2. ✗ I, II, III

3. ✘ III, II, I

4. ✘ III, I, II

Question Number : 48 Question Id : 630680221143 Option Shuffling : Yes Is Question Mandatory : No Calculator : None Response Time : N.A Think Time : N.A Minimum Instruction Time : 0

Correct Marks : 1 Wrong Marks : 0

భారత రాజ్యాంగంలో వాటి అధికరణాల యొక్క క్రమం (మొదటి నుండి చివరి వరకు)కి సంబంధించి ఈ క్రింది నిబంధనలను ఏర్పాటు చేయండి?

I. గ్రామ పంచాయతీల సంస్థ

II. వ్యవసాయం మరియు పశుపోషణ సంస్థ

III. పౌరులకు యూనిఫాం సివిల్ కోడ్

Options :

1. ✔ I, III, II

2. ✘ I, II, III

3. ✘ III, II, I

4. ✘ III, I, II

Question Number : 49 Question Id : 630680221144 Option Shuffling : Yes Is Question Mandatory : No Calculator : None Response Time : N.A Think Time : N.A Minimum Instruction Time : 0

Correct Marks : 1 Wrong Marks : 0

As per the Indian Constitution, the Executive power of the Union is vested in the _____.

Options :

1. ✓ President
2. ✘ Speaker of the House of the People
3. ✘ Prime Minister
4. ✘ Chief Justice of India

Question Number : 49 Question Id : 630680221144 Option Shuffling : Yes Is Question

Mandatory : No Calculator : None Response Time : N.A Think Time : N.A Minimum Instruction Time : 0

Correct Marks : 1 Wrong Marks : 0

భారత రాజ్యాంగం ప్రకారం, కేంద్ర సమాఖ్య యొక్క కార్యనిర్వాహక అధికారం _____ కి ఇవ్వబడింది.

Options :

1. ✓ రాష్ట్రపతి
2. ✘ లోక్ సభ స్పీకర్
3. ✘ ప్రధాన మంత్రి
4. ✘ భారత ప్రధాన న్యాయమూర్తి

Question Number : 50 Question Id : 630680221145 Option Shuffling : Yes Is Question

Mandatory : No Calculator : None Response Time : N.A Think Time : N.A Minimum Instruction Time : 0

Correct Marks : 1 Wrong Marks : 0

Which of the following statement is correct regarding Vice-President of India?

I. The term of Vice-President of India is Six year.

II. The Vice-President of India is ex officio chairman of the House of the People.

Options :

1. ✘ Only I

2. ✘ Only II

3. ✘ Both I and II

4. ✔ Neither I nor II

Question Number : 50 Question Id : 630680221145 Option Shuffling : Yes Is Question

Mandatory : No Calculator : None Response Time : N.A Think Time : N.A Minimum Instruction Time : 0

Correct Marks : 1 Wrong Marks : 0

భారత ఉపరాష్ట్రపతికి సంబంధించి ఈ క్రింది వాటిలో సరైన ప్రకటన ఏది?

I. భారత ఉపరాష్ట్రపతి పదవీకాలం ఆరు సంవత్సరాలు.

II. భారత ఉపరాష్ట్రపతి లోక్ సభ యొక్క ఎక్స్ అఫిషియో చైర్మన్.

Options :

1. ✘ I మాత్రమే

2. ✘ II మాత్రమే

3. ✘ I మరియు II లు రెండూ

4. ✔ I కానీ లేదా II కానీ ఏదీ కాదు

Question Number : 51 Question Id : 630680221146 Option Shuffling : Yes Is Question Mandatory : No Calculator : None Response Time : N.A Think Time : N.A Minimum Instruction Time : 0

Correct Marks : 1 Wrong Marks : 0

Arrange the sequence according to the ascending order as per the number of following articles of the Indian Constitution.

I. Language to be used in Parliament

II. Disqualifications for membership of the Parliament.

III. Procedure in Parliament with respect to estimates.

Options :

1. ✘ I, II, III

2. ✘ I, III, II

3. ✔ II, III, I

4. ✘ III, I, II

Question Number : 51 Question Id : 630680221146 Option Shuffling : Yes Is Question Mandatory : No Calculator : None Response Time : N.A Think Time : N.A Minimum Instruction Time : 0

Correct Marks : 1 Wrong Marks : 0

భారత రాజ్యాంగంలోని ఈ క్రింది వాటి యొక్క అధికరణాల సంఖ్య ప్రకారం ఆరోహణ క్రమంలో అమర్చండి.

- I. పార్లమెంట్‌లో ఉపయోగించాల్సిన భాష
- II. పార్లమెంటు సభ్యత్వానికి అనర్హతలు
- III. అంచనాలకు సంబంధించి పార్లమెంటులో ప్రక్రియ

Options :

1. ✘ I, II, III

2. ✘ I, III, II

3. ✔ II, III, I

4. ✘ III, I, II

Question Number : 52 Question Id : 630680221147 Option Shuffling : Yes Is Question Mandatory : No Calculator : None Response Time : N.A Think Time : N.A Minimum Instruction Time : 0

Correct Marks : 1 Wrong Marks : 0

Which of the following statements is correct regarding electoral bonds with respect to the Indian political system?

- I. The Government of India has notified the Electoral Bond Scheme in 2015.
- II. The Electoral Bonds are valid for fifteen calendar days from the date of issue.
- III. All the political parties are eligible to receive the Electoral Bonds.

Options :

1. ✘ Only I

2. ✔ Only II

3. ✖ Only I and III

4. ✖ Only II and III

Question Number : 52 Question Id : 630680221147 Option Shuffling : Yes Is Question Mandatory : No Calculator : None Response Time : N.A Think Time : N.A Minimum Instruction Time : 0

Correct Marks : 1 Wrong Marks : 0

భారత రాజకీయ వ్యవస్థకు సంబంధించి ఎలక్టోరల్ బాండ్లకు సంబంధించి ఈ క్రింది వాటిలో సరైన ప్రకటన ఏది?

I. భారత ప్రభుత్వం 2015లో ఎలక్టోరల్ బాండ్ పథకాన్ని నోటిఫై చేసింది.

II. ఎలక్టోరల్ బాండ్లు జారీ చేసిన తేదీ నుండి పదిహేను క్యాలెండర్ రోజుల వరకు చెల్లుబాటు అవుతాయి.

III. అన్ని రాజకీయ పార్టీలు ఎలక్టోరల్ బాండ్లను స్వీకరించడానికి అర్హులు.

Options :

1. ✖ I మాత్రమే

2. ✔ II మాత్రమే

3. ✖ I మరియు III

4. ✖ II మరియు III

Question Number : 53 Question Id : 630680221148 Option Shuffling : Yes Is Question Mandatory : No Calculator : None Response Time : N.A Think Time : N.A Minimum Instruction

Time : 0

Correct Marks : 1 Wrong Marks : 0

What is the correct order (first to last) of the number of following articles of the Indian Constitution?

I. Qualifications for appointment as Governor

II. Conditions of Governor's office

III. Oath or affirmations by the Governor

Options :

1. ✓ I, II, III

2. ✗ III, II, I

3. ✗ II, I, III

4. ✗ I, III, II

Question Number : 53 Question Id : 630680221148 Option Shuffling : Yes Is Question

Mandatory : No Calculator : None Response Time : N.A Think Time : N.A Minimum Instruction

Time : 0

Correct Marks : 1 Wrong Marks : 0

భారత రాజ్యాంగంలోని ఈ క్రింది అధికరణాలలో సరైన క్రమం (మొదటి నుండి చివరి వరకు) ఏది?

I. గవర్నర్‌గా నియామకానికి అర్హతలు

II. గవర్నర్ కార్యాలయ పరిస్థితులు

III. గవర్నర్ చేత ప్రమాణం లేదా ధృవీకరణలు.

Options :

1. ✓ I, II, III

2. ✗ III, II, I

3. ✘ II, I, III

4. ✘ I, III, II

Question Number : 54 Question Id : 630680221149 Option Shuffling : Yes Is Question Mandatory : No Calculator : None Response Time : N.A Think Time : N.A Minimum Instruction Time : 0

Correct Marks : 1 Wrong Marks : 0

Which of the following part of the Indian Constitution mentions the relations between the union and the states?

Options :

1. ✘ Part VII

2. ✘ Part IX

3. ✔ Part XI

4. ✘ Part XII

Question Number : 54 Question Id : 630680221149 Option Shuffling : Yes Is Question Mandatory : No Calculator : None Response Time : N.A Think Time : N.A Minimum Instruction Time : 0

Correct Marks : 1 Wrong Marks : 0

భారత రాజ్యాంగంలోని ఈ క్రింది ఏ విభాగం కేంద్ర మరియు రాష్ట్రాల మధ్య సంబంధాల గురించి ప్రస్తావించింది?

Options :

1. ✘ విభాగం VII

2. ✘ విభాగం IX

3. ✔ విభాగం XI

4. ✘ విభాగం XII

Question Number : 55 Question Id : 630680221150 Option Shuffling : Yes Is Question Mandatory : No Calculator : None Response Time : N.A Think Time : N.A Minimum Instruction Time : 0

Correct Marks : 1 Wrong Marks : 0

Which of the following articles of the Indian Constitution mentions provision related to the Panchayats?

Options :

1. ✔ Article 243-243O

2. ✘ Article 243-243P

3. ✘ Article 242-242O

4. ✘ Article 242-242P

Question Number : 55 Question Id : 630680221150 Option Shuffling : Yes Is Question Mandatory : No Calculator : None Response Time : N.A Think Time : N.A Minimum Instruction Time : 0

Correct Marks : 1 Wrong Marks : 0

భారత రాజ్యాంగంలోని ఈ క్రింది ఏ అధికరణంలో పంచాయతీలకు సంబంధించిన నిబంధనలు ఉన్నాయి?

Options :

1. ✓ అధికరణం 243-243O
2. ✘ అధికరణం 243-243P
3. ✘ అధికరణం 242-242O
4. ✘ అధికరణం 242-242P

Question Number : 56 Question Id : 630680221151 Option Shuffling : Yes Is Question Mandatory : No Calculator : None Response Time : N.A Think Time : N.A Minimum Instruction Time : 0

Correct Marks : 1 Wrong Marks : 0

According to the Article 243 (ZJ) of Indian Constitution, the maximum number of directors of a co-operative society shall not exceed _____.

Options :

1. ✘ 7
2. ✘ 11
3. ✘ 15
4. ✓ 21

Question Number : 56 Question Id : 630680221151 Option Shuffling : Yes Is Question Mandatory : No Calculator : None Response Time : N.A Think Time : N.A Minimum Instruction Time : 0

Correct Marks : 1 Wrong Marks : 0

భారత రాజ్యాంగంలోని అధికరణం 243 (ZJ) ప్రకారం, సహకార సంఘం యొక్క గరిష్ట డైరెక్టర్ల సంఖ్య _____ని మించకూడదు.

Options :

1. ✖ 7

2. ✖ 11

3. ✖ 15

4. ✔ 21

Question Number : 57 Question Id : 630680221152 Option Shuffling : Yes Is Question Mandatory : No Calculator : None Response Time : N.A Think Time : N.A Minimum Instruction Time : 0

Correct Marks : 1 Wrong Marks : 0

The Mughal emperor appointed the company as the Diwan of the provinces of Bengal in _____.

Options :

1. ✖ 1763

2. ✔ 1765

3. ✖ 1767

4. ✖ 1769

Question Number : 57 Question Id : 630680221152 Option Shuffling : Yes Is Question Mandatory : No Calculator : None Response Time : N.A Think Time : N.A Minimum Instruction Time : 0

Correct Marks : 1 Wrong Marks : 0

మొఘల్ చక్రవర్తి కంపెనీని _____లో బెంగాల్ ప్రావిన్సులకు దివాన్గా నియమించాడు.

Options :

1. ✘ 1763

2. ✔ 1765

3. ✘ 1767

4. ✘ 1769

Question Number : 58 Question Id : 630680221153 Option Shuffling : Yes Is Question Mandatory : No Calculator : None Response Time : N.A Think Time : N.A Minimum Instruction Time : 0

Correct Marks : 1 Wrong Marks : 0

The East India Company introduced which of the following land revenue systems in 1793?

Options :

1. ✘ Ryotwari settlement

2. ✘ Mahalwari Settlement

3. ✘ Subsidiary alliance Settlement

4. ✓ Permanent Settlement

Question Number : 58 Question Id : 630680221153 Option Shuffling : Yes Is Question Mandatory : No Calculator : None Response Time : N.A Think Time : N.A Minimum Instruction Time : 0

Correct Marks : 1 Wrong Marks : 0

ఈస్టిండియా కంపెనీ 1793లో ఈ క్రింది వాటిలో ఏ భూ రెవెన్యూ వ్యవస్థను ప్రవేశపెట్టింది?

Options :

1. ✘ రైత్వారీ వ్యవస్థ

2. ✘ మహల్వారీ వ్యవస్థ

3. ✘ అనుబంధ కూటమి వ్యవస్థ

4. ✓ శాశ్వత వ్యవస్థ

Question Number : 59 Question Id : 630680221154 Option Shuffling : Yes Is Question Mandatory : No Calculator : None Response Time : N.A Think Time : N.A Minimum Instruction Time : 0

Correct Marks : 1 Wrong Marks : 0

Which of the following statements is correct regarding tribal leader Birsa Munda?

I. The British arrested Birsa Munda in 1895.

II. The British hanged Birsa Munda in 1897.

Options :

1. ✓ Only I

2. ✖ Only II

3. ✖ Both I and II

4. ✖ Neither I nor II

Question Number : 59 Question Id : 630680221154 Option Shuffling : Yes Is Question Mandatory : No Calculator : None Response Time : N.A Think Time : N.A Minimum Instruction Time : 0

Correct Marks : 1 Wrong Marks : 0

గిరిజన నాయకుడు బిర్సా ముండాకు సంబంధించి ఈ క్రింది వాటిలో సరైనది ఏది?

I. బ్రిటిష్ వారు 1895లో బిర్సా ముండాను అరెస్టు చేశారు.

II. బ్రిటిష్ వారు 1897లో బిర్సా ముండాను ఉరితీశారు.

Options :

1. ✔ I మాత్రమే

2. ✖ II మాత్రమే

3. ✖ I మరియు II లు రెండూ

4. ✖ I కానీ లేదా II కానీ ఏదీ కాదు

Question Number : 60 Question Id : 630680221155 Option Shuffling : Yes Is Question Mandatory : No Calculator : None Response Time : N.A Think Time : N.A Minimum Instruction Time : 0

Correct Marks : 1 Wrong Marks : 0

What is the chronological order (first to last) of the following events with respect to Indian history?

I. Christian missionaries are allowed to function freely in India.

II. Lord Dalhousie becomes governor-general of India.

III. Mangal Pandey was hanged.

Options :

1. ✓ I, II, III

2. ✗ III, II, I

3. ✗ I, III, II

4. ✗ II, I, III

Question Number : 60 Question Id : 630680221155 Option Shuffling : Yes Is Question

Mandatory : No Calculator : None Response Time : N.A Think Time : N.A Minimum Instruction Time : 0

Correct Marks : 1 Wrong Marks : 0

భారతదేశ చరిత్రకు సంబంధించి ఈ క్రింది సంఘటనల కాలక్రమానుసారం (మొదటి నుండి చివరి వరకు) ఏమిటి?

I. క్రైస్తవ మిషనరీలు భారతదేశంలో స్వేచ్ఛగా పనిచేయడానికి అనుమతించబడ్డాయి.

II. లార్డ్ డల్హౌసీ భారతదేశానికి గవర్నర్ జనరల్ అవుతాడు.

III. మంగళ్ పాండేని ఉరితీశారు.

Options :

1. ✓ I, II, III

2. ✗ III, II, I

3. ✘ I, III, II

4. ✘ II, I, III

Question Number : 61 Question Id : 630680221156 Option Shuffling : Yes Is Question Mandatory : No Calculator : None Response Time : N.A Think Time : N.A Minimum Instruction Time : 0

Correct Marks : 1 Wrong Marks : 0

Which of the following pairs is correct regarding events of Indian history and their year?

I. Hindu College was established in Benaras: 1781

II. Wood's Despatch: 1854

Options :

1. ✘ I only

2. ✔ II only

3. ✘ Both I and II

4. ✘ Neither I nor II

Question Number : 61 Question Id : 630680221156 Option Shuffling : Yes Is Question Mandatory : No Calculator : None Response Time : N.A Think Time : N.A Minimum Instruction Time : 0

Correct Marks : 1 Wrong Marks : 0

భారతదేశ చరిత్ర మరియు వాటి సంవత్సరానికి సంబంధించిన సంఘటనలకు సంబంధించి ఈ క్రింది జతలలో ఏది సరైనది?

I. హిందూ కళాశాల బెనారస్‌లో స్థాపించబడింది: 1781

II. వుడ్స్ డిస్పాచ్ (బట్వాడా): 1854

Options :

1. ✘ I మాత్రమే

2. ✔ II మాత్రమే

3. ✘ I మరియు II లు రెండూ

4. ✘ I కానీ లేదా II కానీ ఏదీ కాదు

Question Number : 62 Question Id : 630680221157 Option Shuffling : Yes Is Question

Mandatory : No Calculator : None Response Time : N.A Think Time : N.A Minimum Instruction Time : 0

Correct Marks : 1 Wrong Marks : 0

Arrange the following organisations with respect to the city of their establishment, from south to north.

I. The Brahmo Samaj

II. The Prarthana Samaj

III. The Veda Samaj

Options :

1. ✘ I, II, III

2. ✔ III, II, I

3. ✘ I, III, II

4. ✘ II, I, III

Question Number : 62 Question Id : 630680221157 Option Shuffling : Yes Is Question Mandatory : No Calculator : None Response Time : N.A Think Time : N.A Minimum Instruction Time : 0

Correct Marks : 1 Wrong Marks : 0

దక్షిణం నుండి ఉత్తరం వరకు వాటి స్థాపన నగరానికి సంబంధించి ఈ క్రింది సంస్థలను ఏర్పాటు చేయండి.

I. బ్రహ్మ సమాజం

II. ప్రార్థన సమాజం

III. వేద సమాజం

Options :

1. ✘ I, II, III

2. ✔ III, II, I

3. ✘ I, III, II

4. ✘ II, I, III

Question Number : 63 Question Id : 630680221158 Option Shuffling : Yes Is Question Mandatory : No Calculator : None Response Time : N.A Think Time : N.A Minimum Instruction Time : 0

Correct Marks : 1 Wrong Marks : 0

Match the following personalities with respect to modern history and their field.

	Personality		Field
I	William Jones	1	Scottish missionary
II	Henry Thomas Colebrooke	2	Scholar of Sanskrit
III	William Carey	3	Judge at the Supreme Court

Options :

1. ✘ I-3, II-1, III-2
2. ✘ I-1, II-2, III-3
3. ✘ I-1, II-3, III-2
4. ✔ I-3, II-2, III-1

Question Number : 63 Question Id : 630680221158 Option Shuffling : Yes Is Question

Mandatory : No Calculator : None Response Time : N.A Think Time : N.A Minimum Instruction Time : 0

Correct Marks : 1 Wrong Marks : 0

ఆధునిక చరిత్ర మరియు వారు పని చేసిన రంగానికి సంబంధించి ఈ క్రింది వ్యక్తులను జతపరచండి.

	వ్యక్తి	పనిచేసిన రంగం
I	విలియమ్ జోన్స్	1 స్కాటిష్ మిషనరీ
II	హెన్రీ థామస్ కోల్బ్రూక్	2 సంస్కృత పండితుడు
III	విలియం కారీ	3 సుప్రీంకోర్టు న్యాయమూర్తి

Options :

1. ✘ I-3, II-1, III-2
2. ✘ I-1, II-2, III-3
3. ✘ I-1, II-3, III-2
4. ✔ I-3, II-2, III-1

Question Number : 64 Question Id : 630680221159 Option Shuffling : Yes Is Question Mandatory : No Calculator : None Response Time : N.A Think Time : N.A Minimum Instruction Time : 0

Correct Marks : 1 Wrong Marks : 0

Which of the following is National Mission on Financial Inclusion launched by government of India?

Options :

1. ✔ Pradhan Mantri Jan Dhan Yojna (PMJDY)
2. ✘ Rashtriya Swasthya Bima Yojana (RSBY)
3. ✘ Pradhan Mantri Mudra Yojana

4. ✖ National Social Assistance scheme

Question Number : 64 Question Id : 630680221159 Option Shuffling : Yes Is Question Mandatory : No Calculator : None Response Time : N.A Think Time : N.A Minimum Instruction Time : 0

Correct Marks : 1 Wrong Marks : 0

ఈ క్రింది వాటిలో అర్థిక చేరికపై జాతీయ మిషన్ భారత ప్రభుత్వం ప్రారంభించినది ఏది?

Options :

1. ✔ ప్రధాన మంత్రి జన్ ధన్ యోజన (PMJDY)

2. ✖ రాష్ట్రీయ స్వాస్థ్య బీమా యోజన (RSBY)

3. ✖ ప్రధాన మంత్రి ముద్రా యోజన

4. ✖ జాతీయ సామాజిక సహాయ పథకం

Question Number : 65 Question Id : 630680221160 Option Shuffling : Yes Is Question Mandatory : No Calculator : None Response Time : N.A Think Time : N.A Minimum Instruction Time : 0

Correct Marks : 1 Wrong Marks : 0

In 2019, which of the following accounts for largest share in livestock in India?

Options :

1. ✖ Cattle and buffalos

2. ✔ Poultry

3. ✘ Sheep and goats

4. ✘ Pigs

Question Number : 65 Question Id : 630680221160 Option Shuffling : Yes Is Question Mandatory : No Calculator : None Response Time : N.A Think Time : N.A Minimum Instruction Time : 0

Correct Marks : 1 Wrong Marks : 0

2019లో, భారతదేశంలోని పశుసంపదలో ఈ క్రింది వాటిలో ఏది అత్యధిక వాటాను కలిగి ఉంది?

Options :

1. ✘ పశువులు మరియు గేదెలు

2. ✔ పెంపుడు కోళ్లు

3. ✘ గొర్రెలు మరియు మేకలు

4. ✘ పందులు

Question Number : 66 Question Id : 630680221161 Option Shuffling : Yes Is Question Mandatory : No Calculator : None Response Time : N.A Think Time : N.A Minimum Instruction Time : 0

Correct Marks : 1 Wrong Marks : 0

With respect to the Indian economy, the terms Shishu, Kishore and Tarun are related with _____.

Options :

1. ✔ Pradhan Mantri Mudra Yojana

2. ✖ Atal Pension Yojana

3. ✖ Stand Up India Scheme

4. ✖ Pradhan Mantri Jeevan Jyoti Bima Yojana

Question Number : 66 Question Id : 630680221161 Option Shuffling : Yes Is Question Mandatory : No Calculator : None Response Time : N.A Think Time : N.A Minimum Instruction Time : 0

Correct Marks : 1 Wrong Marks : 0

భారత ఆర్థిక వ్యవస్థకు సంబంధించి, శిశు, కిషోర్ మరియు తరుణ్ పదాలు _____ కి సంబంధించినవి.

Options :

1. ✔ ప్రధాన మంత్రి ముద్రా యోజన

2. ✖ అటల్ పెన్షన్ యోజన

3. ✖ స్టాండ్ ఆఫ్ ఇండియా పథకం

4. ✖ ప్రధాన మంత్రి జీవన్ జ్యోతి బీమా యోజన

Question Number : 67 Question Id : 630680221162 Option Shuffling : Yes Is Question Mandatory : No Calculator : None Response Time : N.A Think Time : N.A Minimum Instruction Time : 0

Correct Marks : 1 Wrong Marks : 0

The Government of India introduced a new scheme called Saansad Adarsh Gram Yojana (SAGY) in _____.

Options :

1. ✘ 2012

2. ✔ 2014

3. ✘ 2016

4. ✘ 2018

Question Number : 67 Question Id : 630680221162 Option Shuffling : Yes Is Question

Mandatory : No Calculator : None Response Time : N.A Think Time : N.A Minimum Instruction Time : 0

Correct Marks : 1 Wrong Marks : 0

భారత ప్రభుత్వం _____లో సన్నద్ధ ఆదర్శ గ్రామ యోజన (SAGY) అనే కొత్త పథకాన్ని ప్రవేశపెట్టింది.

Options :

1. ✘ 2012

2. ✔ 2014

3. ✘ 2016

4. ✘ 2018

Question Number : 68 Question Id : 630680221163 Option Shuffling : Yes Is Question

Mandatory : No Calculator : None Response Time : N.A Think Time : N.A Minimum Instruction Time : 0

Correct Marks : 1 Wrong Marks : 0

National Bank for Agriculture and Rural Development (NABARD) was set up in _____.

Options :

1. ✘ 1972

2. ✘ 1976

3. ✔ 1982

4. ✘ 1986

Question Number : 68 Question Id : 630680221163 Option Shuffling : Yes Is Question

Mandatory : No Calculator : None Response Time : N.A Think Time : N.A Minimum Instruction

Time : 0

Correct Marks : 1 Wrong Marks : 0

_____లో నేషనల్ బ్యాంక్ ఫర్ అగ్రికల్చర్ అండ్ రూరల్ డెవలప్‌మెంట్ (NABARD) స్థాపించబడింది.

Options :

1. ✘ 1972

2. ✘ 1976

3. ✔ 1982

4. ✘ 1986

Question Number : 69 Question Id : 630680221164 Option Shuffling : Yes Is Question

Mandatory : No Calculator : None Response Time : N.A Think Time : N.A Minimum Instruction Time : 0

Correct Marks : 1 Wrong Marks : 0

Which of the following pairs is correct regarding farm product selling areas and their region?

I. Apni Mandi – Punjab

II. Rythu Bazars – Andhra Pradesh

Options :

1. ✘ Only I

2. ✘ Only II

3. ✔ Both I and II

4. ✘ Neither I nor II

Question Number : 69 Question Id : 630680221164 Option Shuffling : Yes Is Question

Mandatory : No Calculator : None Response Time : N.A Think Time : N.A Minimum Instruction Time : 0

Correct Marks : 1 Wrong Marks : 0

వ్యవసాయ ఉత్పత్తుల విక్రయ ప్రదేశాలు మరియు వాటి ప్రాంతానికి సంబంధించి ఈ క్రింది జతలలో ఏది సరైనది?

I. ఆప్నీ మండి - పంజాబ్

II. రైతు బజార్లు - ఆంధ్రప్రదేశ్

Options :

1. ✘ I మాత్రమే

2. ✘ || మాత్రమే

3. ✔ | మరియు || లు రెండూ

4. ✘ | కానీ లేదా || కానీ ఏదీ కాదు

Question Number : 70 Question Id : 630680221165 Option Shuffling : Yes Is Question Mandatory : No Calculator : None Response Time : N.A Think Time : N.A Minimum Instruction Time : 0

Correct Marks : 1 Wrong Marks : 0

As on March 2023, The Mahatma Gandhi National Rural Employment Guarantee Act 2005 promises how many days of guaranteed wage employment to all rural households who volunteer to do unskilled manual work?

Options :

1. ✘ 90

2. ✔ 100

3. ✘ 110

4. ✘ 120

Question Number : 70 Question Id : 630680221165 Option Shuffling : Yes Is Question Mandatory : No Calculator : None Response Time : N.A Think Time : N.A Minimum Instruction Time : 0

Correct Marks : 1 Wrong Marks : 0

మార్చి 2023 నాటికి, మహాత్మా గాంధీ జాతీయ గ్రామీణ ఉపాధి హామీ చట్టం 2005 నైపుణ్యం లేని చేతి పని చేయడానికి స్వచ్ఛందంగా ముందుకు వచ్చే అన్ని గ్రామీణ కుటుంబాలకు ఎన్ని రోజుల పాటు ఉపాధి హామీ వేతనానికి హామీ ఇస్తుంది?

Options :

1. ✘ 90

2. ✔ 100

3. ✘ 110

4. ✘ 120

Question Number : 71 Question Id : 630680221166 Option Shuffling : Yes Is Question Mandatory : No Calculator : None Response Time : N.A Think Time : N.A Minimum Instruction Time : 0

Correct Marks : 1 Wrong Marks : 0

Match the following five years plan and their targeted growth rate.

	Five-year plan		Target growth rate
I	Third Plan	1	5.6%
II	Fifth Plan	2	4.4%
III	Sixth Plan	3	5.2%

Options :

1. ✘ I-3, II-2, III-1

2. ✘ I-2, II-1, III-3

3. ✘ I-1, II-3, III-2

4. ✔ I-1, II-2, III-3

Question Number : 71 Question Id : 630680221166 Option Shuffling : Yes Is Question Mandatory : No Calculator : None Response Time : N.A Think Time : N.A Minimum Instruction Time : 0

Correct Marks : 1 Wrong Marks : 0

ఈ క్రింది పంచవర్ష ప్రణాళిక మరియు వాటి లక్ష్య వృద్ధి రేటును జతపరచండి.

	పంచవర్ష ప్రణాళిక		లక్ష్య వృద్ధి రేటు
I	మూడవ ప్రణాళిక	1	5.6%
II	ఐదవ ప్రణాళిక	2	4.4%
III	ఆరవ ప్రణాళిక	3	5.2%

Options :

1. ✘ I-3, II-2, III-1

2. ✘ I-2, II-1, III-3

3. ✘ I-1, II-3, III-2

4. ✔ I-1, II-2, III-3

Question Number : 72 Question Id : 630680221167 Option Shuffling : Yes Is Question

Mandatory : No Calculator : None Response Time : N.A Think Time : N.A Minimum Instruction Time : 0

Correct Marks : 1 Wrong Marks : 0

Annual Status of Education Report (ASER) 2022 was released by _____.

Options :

1. ✘ Ministry of Education
2. ✔ NGO Pratham
3. ✘ Swades Foundation
4. ✘ Ministry of Women & Child Development

Question Number : 72 Question Id : 630680221167 Option Shuffling : Yes Is Question

Mandatory : No Calculator : None Response Time : N.A Think Time : N.A Minimum Instruction Time : 0

Correct Marks : 1 Wrong Marks : 0

వార్షిక విద్యా స్థితి నివేదిక (ASER) 2022 ను విడుదల చేసినది _____.

Options :

1. ✘ విద్యా మంత్రిత్వ శాఖ
2. ✔ NGO ప్రథమ్
3. ✘ స్వదేశ్ ఫౌండేషన్
4. ✘ మహిళా & శిశు అభివృద్ధి మంత్రిత్వ శాఖ

Question Number : 73 Question Id : 630680221168 Option Shuffling : Yes Is Question Mandatory : No Calculator : None Response Time : N.A Think Time : N.A Minimum Instruction Time : 0

Correct Marks : 1 Wrong Marks : 0

In September 2022, the Supreme Court has ruled that all women, regardless of their marital status, were entitled to benefits of safe and legal abortion till _____.

Options :

1. ✘ 18 weeks of pregnancy
2. ✘ 20 weeks of pregnancy
3. ✘ 22 weeks of pregnancy
4. ✔ 24 weeks of pregnancy

Question Number : 73 Question Id : 630680221168 Option Shuffling : Yes Is Question Mandatory : No Calculator : None Response Time : N.A Think Time : N.A Minimum Instruction Time : 0

Correct Marks : 1 Wrong Marks : 0

సెప్టెంబరు 2022లో, మహిళలందరూ, వారి వైవాహిక స్థితితో సంబంధం లేకుండా, _____ వరకు సురక్షితమైన మరియు చట్టబద్ధమైన అబార్షన్ ప్రయోజనాలకు అర్హులు అని సుప్రీంకోర్టు తీర్పునిచ్చింది.

Options :

1. ✘ 18 వారాల గర్భం
2. ✘ 20 వారాల గర్భం
3. ✘ 22 వారాల గర్భం

4. ✓ 24 వారాల గర్భం

Question Number : 74 Question Id : 630680221169 Option Shuffling : Yes Is Question Mandatory : No Calculator : None Response Time : N.A Think Time : N.A Minimum Instruction Time : 0

Correct Marks : 1 Wrong Marks : 0

In October 2022, which of the following Indian organization has announces "pay equity policy"?

Options :

1. ✘ National Green Tribunal
2. ✘ Bharat Heavy Electricals Limited
3. ✓ Board of Control for Cricket in India
4. ✘ Oil and Natural Gas Corporation

Question Number : 74 Question Id : 630680221169 Option Shuffling : Yes Is Question Mandatory : No Calculator : None Response Time : N.A Think Time : N.A Minimum Instruction Time : 0

Correct Marks : 1 Wrong Marks : 0

అక్టోబర్ 2022లో, కింది వాటిలో ఏ భారతీయ సంస్థ "పే ఈక్విటీ పాలసీ"ని ప్రకటించింది?

Options :

1. ✘ నేషనల్ గ్రీన్ ట్రిబ్యూనల్
2. ✘ భారత్ హెవీ ఎలక్ట్రికల్స్ లిమిటెడ్

3. ✓ బోర్డ్ ఆఫ్ కంట్రోల్ ఫర్ క్రికెట్ ఇన్ ఇండియా

4. ✘ ఆయిల్ అండ్ నేచురల్ గ్యాస్ కార్పొరేషన్

Question Number : 75 Question Id : 630680221170 Option Shuffling : Yes Is Question Mandatory : No Calculator : None Response Time : N.A Think Time : N.A Minimum Instruction Time : 0

Correct Marks : 1 Wrong Marks : 0

In India, Renke commission was associated with _____.

Options :

1. ✘ promotion of higher education in regional languages

2. ✓ denotified, nomadic and semi-nomadic tribes

3. ✘ strengthening of the anganwadi system

4. ✘ mental health assistance

Question Number : 75 Question Id : 630680221170 Option Shuffling : Yes Is Question Mandatory : No Calculator : None Response Time : N.A Think Time : N.A Minimum Instruction Time : 0

Correct Marks : 1 Wrong Marks : 0

భారతదేశంలో, రెంకే కమిషన్ _____ని కూర్చినది.

Options :

1. ✘ ప్రాంతీయ భాషల్లో ఉన్నత విద్యను ప్రోత్సహించడం

2. ✓ డీనోటిఫైడ్, సంచార మరియు పాక్షిక సంచార తెగలు

3. ✘ అంగన్వాడీ వ్యవస్థను బలోపేతం చేయడం

4. ✘ మానసిక ఆరోగ్య సహాయం

Question Number : 76 Question Id : 630680221171 Option Shuffling : Yes Is Question Mandatory : No Calculator : None Response Time : N.A Think Time : N.A Minimum Instruction Time : 0

Correct Marks : 1 Wrong Marks : 0

Taliperu river is the tributary of which river flowing in Telangana?

Options :

1. ✘ Wainganga

2. ✘ Tungabhadra

3. ✘ Krishna

4. ✓ Godavari

Question Number : 76 Question Id : 630680221171 Option Shuffling : Yes Is Question Mandatory : No Calculator : None Response Time : N.A Think Time : N.A Minimum Instruction Time : 0

Correct Marks : 1 Wrong Marks : 0

తెలంగాణలో ప్రవహించే ఏ నదికి తాలిపేరు నది ఒక ఉపనది?

Options :

1. ✘ వైన్‌గంగా
2. ✘ తుంగభద్ర
3. ✘ కృష్ణా
4. ✔ గోదావరి

Question Number : 77 Question Id : 630680221172 Option Shuffling : Yes Is Question Mandatory : No Calculator : None Response Time : N.A Think Time : N.A Minimum Instruction Time : 0

Correct Marks : 1 Wrong Marks : 0

Which district of Telangana has the highest deposits of Uranium?

Options :

1. ✔ Nalgonda
2. ✘ Medak
3. ✘ Nizamabad
4. ✘ Karimnagar

Question Number : 77 Question Id : 630680221172 Option Shuffling : Yes Is Question Mandatory : No Calculator : None Response Time : N.A Think Time : N.A Minimum Instruction Time : 0

Correct Marks : 1 Wrong Marks : 0

తెలంగాణలో యురేనియం నిక్షేపాలు అత్యధికంగా ఉన్న జిల్లా ఏది?

Options :

1. ✓ నల్గొండ
2. ✘ మెదక్
3. ✘ నిజామాబాద్
4. ✘ కరీంనగర్

Question Number : 78 Question Id : 630680221173 Option Shuffling : Yes Is Question

Mandatory : No Calculator : None Response Time : N.A Think Time : N.A Minimum Instruction Time : 0

Correct Marks : 1 Wrong Marks : 0

The Telangana State emerged as the 29th and the youngest State in the Indian Union with a geographical area of _____ km².

Options :

1. ✘ 1,13,077
2. ✓ 1,12,077
3. ✘ 1,11,077
4. ✘ 1,10,077

Question Number : 78 Question Id : 630680221173 Option Shuffling : Yes Is Question Mandatory : No Calculator : None Response Time : N.A Think Time : N.A Minimum Instruction Time : 0

Correct Marks : 1 Wrong Marks : 0

తెలంగాణ రాష్ట్రం _____ km² భౌగోళిక ప్రాంతంతో భారత యూనియన్‌లో 29వ మరియు అతి తక్కువ వయస్సు గల రాష్ట్రంగా అవతరించింది.

Options :

1. ✘ 1,13,077

2. ✔ 1,12,077

3. ✘ 1,11,077

4. ✘ 1,10,077

Question Number : 79 Question Id : 630680221174 Option Shuffling : Yes Is Question Mandatory : No Calculator : None Response Time : N.A Think Time : N.A Minimum Instruction Time : 0

Correct Marks : 1 Wrong Marks : 0

What is the percentage of Telangana in the geographical area of India?

Options :

1. ✔ 3.4%

2. ✘ 4.4%

3. ✘ 5.4%

4. ✘ 6.4%

Question Number : 79 Question Id : 630680221174 Option Shuffling : Yes Is Question Mandatory : No Calculator : None Response Time : N.A Think Time : N.A Minimum Instruction Time : 0

Correct Marks : 1 Wrong Marks : 0

భారతదేశంలోని భౌగోళిక విస్తీర్ణంలో తెలంగాణ శాతం ఎంత?

Options :

1. ✓ 3.4%

2. ✗ 4.4%

3. ✗ 5.4%

4. ✗ 6.4%

Question Number : 80 Question Id : 630680221175 Option Shuffling : Yes Is Question Mandatory : No Calculator : None Response Time : N.A Think Time : N.A Minimum Instruction Time : 0

Correct Marks : 1 Wrong Marks : 0

As per Telangana state statistical abstract released by Telangana State Development Planning Society (TSDPS), Planning Department - 2021 what is the density of the population of the state of Telangana?

Options :

1. ✗ 342 per km²

2. ✗ 332 per km²

3. ✓ 312 per km²

4. ✗ 322 per km²

Question Number : 80 Question Id : 630680221175 Option Shuffling : Yes Is Question Mandatory : No Calculator : None Response Time : N.A Think Time : N.A Minimum Instruction Time : 0

Correct Marks : 1 Wrong Marks : 0

తెలంగాణ రాష్ట్ర అభివృద్ధి ప్రణాళిక సంఘం (తెలంగాణ స్టేట్ డెవలప్‌మెంట్ ప్లానింగ్ సొసైటీ-TSDPS), ప్రణాళిక విభాగం - 2021 విడుదల చేసిన తెలంగాణ రాష్ట్ర గణాంక సంగ్రహం ప్రకారం తెలంగాణ రాష్ట్ర జన సాంద్రత ఎంత?

Options :

1. ✗ km² కి 342

2. ✗ km² కి 332

3. ✓ km² కి 312

4. ✗ km² కి 322

Question Number : 81 Question Id : 630680221176 Option Shuffling : Yes Is Question Mandatory : No Calculator : None Response Time : N.A Think Time : N.A Minimum Instruction Time : 0

Correct Marks : 1 Wrong Marks : 0

As per Telangana state statistical abstract released by Telangana State Development Planning Society (TSDPS), Planning Department - 2021 what is the sex ratio (females per 1000 males) of rural areas in Telangana?

Options :

1. ✓ 999

2. ✘ 989

3. ✘ 979

4. ✘ 969

Question Number : 81 Question Id : 630680221176 Option Shuffling : Yes Is Question

Mandatory : No Calculator : None Response Time : N.A Think Time : N.A Minimum Instruction Time : 0

Correct Marks : 1 Wrong Marks : 0

తెలంగాణ రాష్ట్ర అభివృద్ధి ప్రణాళిక సంఘం (తెలంగాణ స్టేట్ డెవలప్‌మెంట్ ప్లానింగ్ సొసైటీ-TSDPS), ప్రణాళిక విభాగం - 2021 విడుదల చేసిన తెలంగాణ రాష్ట్ర గణాంక సంగ్రహం ప్రకారం తెలంగాణలో గ్రామీణ ప్రాంతాలలోని లింగ నిష్పత్తి (1000 మంది పురుషులకు గల స్త్రీలు) ఎంత?

Options :

1. ✓ 999

2. ✘ 989

3. ✘ 979

4. ✘ 969

Question Number : 82 Question Id : 630680221177 Option Shuffling : Yes Is Question

Mandatory : No Calculator : None Response Time : N.A Think Time : N.A Minimum Instruction Time : 0

Correct Marks : 1 Wrong Marks : 0

As per Telangana state statistical abstract released by Telangana State Development Planning Society (TSDPS), Planning Department - 2021, what is the female literacy rate of the state of Telangana?

Options :

1. ✘ 67.99%

2. ✔ 58.0%

3. ✘ 77.99%

4. ✘ 87.99%

Question Number : 82 Question Id : 630680221177 Option Shuffling : Yes Is Question

Mandatory : No Calculator : None Response Time : N.A Think Time : N.A Minimum Instruction

Time : 0

Correct Marks : 1 Wrong Marks : 0

తెలంగాణ రాష్ట్ర అభివృద్ధి ప్రణాళిక సంఘం (తెలంగాణ స్టేట్ డెవలప్ మెంట్ ప్లానింగ్ సొసైటీ-TSDPS), ప్రణాళిక విభాగం - 2021 విడుదల చేసిన తెలంగాణ రాష్ట్ర గణాంక సంగ్రహం ప్రకారం, తెలంగాణ రాష్ట్ర మహిళా అక్షరాస్యత రేటు ఎంత?

Options :

1. ✘ 67.99%

2. ✔ 58.0%

3. ✘ 77.99%

4. ✘ 87.99%

Question Number : 83 Question Id : 630680221178 Option Shuffling : Yes Is Question Mandatory : No Calculator : None Response Time : N.A Think Time : N.A Minimum Instruction Time : 0

Correct Marks : 1 Wrong Marks : 0

Read the following and select the correct statement(s):

A: The water source for Nagarjunasagar Hydroelectric Project is Krishna river.

B: The water source for Nizamsagar Hydroelectric Project is Godavari river.

Options :

1. ✘ Only A

2. ✘ Only B

3. ✔ Both A and B

4. ✘ Neither A nor B

Question Number : 83 Question Id : 630680221178 Option Shuffling : Yes Is Question Mandatory : No Calculator : None Response Time : N.A Think Time : N.A Minimum Instruction Time : 0

Correct Marks : 1 Wrong Marks : 0

ఈ క్రింది వాటిని చదివి, సరైన ప్రకటన(ల)ను ఎంచుకోండి:

A: నాగార్జునసాగర్ జలవిద్యుత్ ప్రాజెక్టుకు నీటి వనరు కృష్ణా నది.

B: నిజాంసాగర్ జలవిద్యుత్ ప్రాజెక్టుకు నీటి వనరు గోదావరి నది.

Options :

1. ✘ A మాత్రమే

2. ✘ B మాత్రమే

3. ✔ A మరియు B రెండూ

4. ✘ A లేదా B ఏదీ కాదు

Question Number : 84 Question Id : 630680221179 Option Shuffling : Yes Is Question Mandatory : No Calculator : None Response Time : N.A Think Time : N.A Minimum Instruction Time : 0

Correct Marks : 1 Wrong Marks : 0

Read the following and select the correct statement(s):

A: The Telangana state government proposed to undertake the development of three greenfield airports at Jakranpally (Nizamabad), Palvancha (Bhadradi Kothagudem), and Mahabubnagar.

B: The Telangana state government proposed to set up three brownfield airports at Mamnoor (Warangal), Basant Nagar (Peddapalli) and Adilabad.

C: As per the State Budget 2022-23, ₹822 crores has been allocated towards the National Health Mission.

Options :

1. ✔ A, B and C

2. ✘ Both B and C

3. ✘ Both A and B

4. ✘ Only C

Question Number : 84 Question Id : 630680221179 Option Shuffling : Yes Is Question

Mandatory : No Calculator : None Response Time : N.A Think Time : N.A Minimum Instruction Time : 0

Correct Marks : 1 Wrong Marks : 0

ఈ క్రింది వాటిని చదివి, సరైన ప్రకటన(ల)ను ఎంచుకోండి:

A: తెలంగాణ రాష్ట్ర ప్రభుత్వం, జక్రాన్ పల్లి (నిజామాబాద్), పాల్వంచ (భద్రాద్రి కొత్తగూడెం), మహబూబ్ నగర్ లో మూడు గ్రీన్ ఫీల్డ్ విమానాశ్రయాల అభివృద్ధిని చేపట్టాలని ప్రతిపాదించింది.

B: తెలంగాణ రాష్ట్ర ప్రభుత్వం మామునూర్ (వరంగల్), బసంత్ నగర్ (పెద్దపల్లి) మరియు ఆదిలాబాద్ లో మూడు బ్రౌన్ ఫీల్డ్ విమానాశ్రయాలను ఏర్పాటు చేయాలని ప్రతిపాదించింది.

C: రాష్ట్ర బడ్జెట్ 2022-23 ప్రకారం, జాతీయ ఆరోగ్య మిషన్ కు ₹822 కోట్లు కేటాయించారు.

Options :

1. ✓ A, B మరియు C

2. ✗ B మరియు C రెండూ

3. ✗ A మరియు B రెండూ

4. ✗ C మాత్రమే

Question Number : 85 Question Id : 630680221180 Option Shuffling : Yes Is Question

Mandatory : No Calculator : None Response Time : N.A Think Time : N.A Minimum Instruction Time : 0

Correct Marks : 1 Wrong Marks : 0

Match the following national highways with their location:

National Highway in Telangana	Location
A. NH30	1. Kalyan-Nirmal Road
B. NH44	2. Hyderabad – Vijayawada
C. NH65	3. Hyderabad -Bangalore
D. NH61	4. Vijayawada – Jagdalpur

Options :

1. ✘ A-1, B-2, C-4, D-3

2. ✘ A-2, B-1, C-4, D-3

3. ✔ A-4, B-3, C-2, D-1

4. ✘ A-4, B-1, C-2, D-3

Question Number : 85 Question Id : 630680221180 Option Shuffling : Yes Is Question

Mandatory : No Calculator : None Response Time : N.A Think Time : N.A Minimum Instruction

Time : 0

Correct Marks : 1 Wrong Marks : 0

ఈ క్రింది జాతీయ రహదారులను వాటి ప్రాంతంతో జతచేయండి:

తెలంగాణలో జాతీయ రహదారి	స్థానం
A. NH30	1. కళ్యాణ్-నిర్మల్ రోడ్
B. NH44	2. హైదరాబాద్ - విజయవాడ
C. NH65	3. హైదరాబాద్ -బెంగళూరు
D. NH61	4. విజయవాడ - జగదల్పూర్

Options :

1.

✘ A-1, B-2, C-4, D-3

2. ✘ A-2, B-1, C-4, D-3

3. ✔ A-4, B-3, C-2, D-1

4. ✘ A-4, B-1, C-2, D-3

Question Number : 86 Question Id : 630680221181 Option Shuffling : Yes Is Question Mandatory : No Calculator : None Response Time : N.A Think Time : N.A Minimum Instruction Time : 0

Correct Marks : 1 Wrong Marks : 0

Read the following and select the correct statement(s):

A: Kavijanasrayam was written by Malliya Rechana.

B: Gokarna Chandassu was written by Baddena.

Options :

1. ✔ Only A

2. ✘ Only B

3. ✘ Both A and B

4. ✘ Neither A nor B

Question Number : 86 Question Id : 630680221181 Option Shuffling : Yes Is Question Mandatory : No Calculator : None Response Time : N.A Think Time : N.A Minimum Instruction

Time : 0

Correct Marks : 1 Wrong Marks : 0

కింది వాటిని చదివి, సరైన ప్రకటన(ల)ను ఎంచుకోండి:

A: కవిజనాశ్రయమును రచించినది మల్లియ రేచన.

B: గోకర్ణ చందస్సును రచించినది బద్దెన.

Options :

1. ✓ A మాత్రమే

2. ✘ B మాత్రమే

3. ✘ A మరియు B లు రెండూ

4. ✘ A కానీ లేదా B కానీ ఏదీ కాదు

Question Number : 87 Question Id : 630680221182 Option Shuffling : Yes Is Question

Mandatory : No Calculator : None Response Time : N.A Think Time : N.A Minimum Instruction

Time : 0

Correct Marks : 1 Wrong Marks : 0

Select the correct pair(s) from the following:

Writer	Book
A. Charigondi Dharmanna	Chitra bharatam
B. Dasaradhi	Dhaasa Bodha
C. Bammera Pothana	Veerabadra Vijayam
D. Gona Budha Reddy	Ranganatha Ramayanam

Options :

1. ✘ Both A and C

2. ✘ Both A and D

3. ✔ Only A, C and D

4. ✘ A, B, C and D

Question Number : 87 Question Id : 630680221182 Option Shuffling : Yes Is Question Mandatory : No Calculator : None Response Time : N.A Think Time : N.A Minimum Instruction Time : 0

Correct Marks : 1 Wrong Marks : 0

కింది వాటిలో సరైన జత(లు)ను ఎంచుకోండి:

రచయిత	పుస్తకం
A. చరిగొండి ధర్మన్న	చిత్ర భారతం
B. దాశరథి	దాస బోధ
C. బమ్మెర పోతన	వీరబద్ర విజయం
D. గోన బుద్ధారెడ్డి	రంగనాథ రామాయణం

Options :

1. ✘ A మరియు C లు రెండూ

2. ✘ A మరియు D లు రెండూ

3. ✔ A, C మరియు D లు మాత్రమే

4. ✘ A, B, C మరియు D

Question Number : 88 Question Id : 630680221183 Option Shuffling : Yes Is Question Mandatory : No Calculator : None Response Time : N.A Think Time : N.A Minimum Instruction Time : 0

Correct Marks : 1 Wrong Marks : 0

Chindu Bhagavatham which is performed widely across Telangana is a variant of _____.

Options :

1. ✓ Yakshagana

2. ✗ Kathakali

3. ✗ Odissi

4. ✗ Kathak

Question Number : 88 Question Id : 630680221183 Option Shuffling : Yes Is Question Mandatory : No Calculator : None Response Time : N.A Think Time : N.A Minimum Instruction Time : 0

Correct Marks : 1 Wrong Marks : 0

తెలంగాణ అంతటా విస్తృతంగా ప్రదర్శించబడే చిందు భాగవతం _____ యొక్క రూపాంతరం.

Options :

1. ✓ యక్షగానం

2. ✗ కథాకళి

3. ✗ ఒడిసీసె

4. ✖ కథక్

Question Number : 89 Question Id : 630680221184 Option Shuffling : Yes Is Question Mandatory : No Calculator : None Response Time : N.A Think Time : N.A Minimum Instruction Time : 0

Correct Marks : 1 Wrong Marks : 0

Which Jain Temple in Telangana is 2000 years old and located in Kolanupaka village in Nalgonda district?

Options :

1. ✖ Jaishankar Bhupalpally

2. ✔ Kulpakji

3. ✖ Jamalapuam temple

4. ✖ Kotagullu

Question Number : 89 Question Id : 630680221184 Option Shuffling : Yes Is Question Mandatory : No Calculator : None Response Time : N.A Think Time : N.A Minimum Instruction Time : 0

Correct Marks : 1 Wrong Marks : 0

నల్గొండ జిల్లాలోని కొలనుపాక గ్రామంలో 2000 సంవత్సరాల నాటి జైన దేవాలయం ఏది?

Options :

1. ✖ జైశంకర్ భూపాలపల్లి

2. ✔ కులపక్జీ

3. ✖ జమలపుయం దేవాలయం

4. ✖ కోటగుల్లు

Question Number : 90 Question Id : 630680221185 Option Shuffling : Yes Is Question Mandatory : No Calculator : None Response Time : N.A Think Time : N.A Minimum Instruction Time : 0

Correct Marks : 1 Wrong Marks : 0

Match the following heritage sites with their location:

Heritage site	Location/district
A. Chowmahalla Palace	1. Warangal
B. Bhadra Kali Temple	2. Alampur
C. Vishwa Brahma Temple	3. Nizamabad
D. Khilla Ramalayam	4. Hyderabad

Options :

1. ✖ A-4, B-2, C-1, D-3

2. ✖ A-3, B-1, C-2, D-4

3. ✔ A-4, B-1, C-2, D-3

4. ✖ A-2, B-1, C-4, D-3

Question Number : 90 Question Id : 630680221185 Option Shuffling : Yes Is Question Mandatory : No Calculator : None Response Time : N.A Think Time : N.A Minimum Instruction Time : 0

Correct Marks : 1 Wrong Marks : 0

ఈ క్రింది హెరిటేజ్ సైట్లను అవి ఉన్న ప్రాంతంతో జతచేయండి:

వారసత్వ ప్రదేశం	ప్రాంతం/జిల్లా
A. చౌమహల్లా ప్యాలెస్	1.వరంగల్
B. భద్రకాళి ఆలయం	2.అలంపూర్
C. విశ్వ బ్రహ్మ దేవాలయం	3.నిజామాబాద్
D. భీల్లా రామాలయం	4.హైదరాబాద్

Options :

1. ✘ A-4, B-2, C-1, D-3

2. ✘ A-3, B-1, C-2, D-4

3. ✔ A-4, B-1, C-2, D-3

4. ✘ A-2, B-1, C-4, D-3

Question Number : 91 Question Id : 630680221186 Option Shuffling : Yes Is Question

Mandatory : No Calculator : None Response Time : N.A Think Time : N.A Minimum Instruction Time : 0

Correct Marks : 1 Wrong Marks : 0

Read the following and select the correct statement(s):

A: Bhongir Fort was built by the Western Chalukya ruler Tribhuvanamalla Vikramaditya VI.

B: Bhongir Fort was built in the 12th century.

Options :

1. ✔ Only A

2. ✖ Only B

3. ✖ Both A and B

4. ✖ Neither A nor B

Question Number : 91 Question Id : 630680221186 Option Shuffling : Yes Is Question Mandatory : No Calculator : None Response Time : N.A Think Time : N.A Minimum Instruction Time : 0

Correct Marks : 1 Wrong Marks : 0

ఈ క్రింది వాటిని చదివి, సరైన ప్రకటన(ల)ను ఎంచుకోండి:

A: భువనగిరి కోటను పశ్చిమ చాళుక్య పాలకులు త్రిభువనమల్ల విక్రమాదిత్య VI నిర్మించారు.

B: భువనగిరి కోట 12వ శతాబ్దంలో నిర్మించబడింది.

Options :

1. ✔ A మాత్రమే

2. ✖ B మాత్రమే

3. ✖ A మరియు B రెండూ

4. ✖ A లేదా B ఏదీ కాదు

Question Number : 92 Question Id : 630680221187 Option Shuffling : Yes Is Question Mandatory : No Calculator : None Response Time : N.A Think Time : N.A Minimum Instruction Time : 0

Correct Marks : 1 Wrong Marks : 0

Medaram Jathara is a tribal festival of honouring the goddesses celebrated in the state of Telangana in _____ district.

Options :

1. ✓ Mulugu
2. ✘ Jogulamba Gadwal
3. ✘ Bhadradri Kothagudem
4. ✘ Jayashankar Bhupalpally

Question Number : 92 Question Id : 630680221187 Option Shuffling : Yes Is Question

Mandatory : No Calculator : None Response Time : N.A Think Time : N.A Minimum Instruction

Time : 0

Correct Marks : 1 Wrong Marks : 0

మేడారం జాతర అనేది తెలంగాణ రాష్ట్రంలో _____ జిల్లాలో జరుపుకునే ఇద్దరూ దేవతలను గౌరవించే గిరిజన పండుగ.

Options :

1. ✓ ములుగు
2. ✘ జోగులాంబ గద్వాల
3. ✘ భద్రాద్రి కొత్తగూడెం
4. ✘ జయశంకర్ భూపాలపల్లి

Question Number : 93 Question Id : 630680221188 Option Shuffling : Yes Is Question Mandatory : No Calculator : None Response Time : N.A Think Time : N.A Minimum Instruction Time : 0

Correct Marks : 1 Wrong Marks : 0

Nagoba Jatara is a tribal festival held in _____ district of Telangana.

Options :

1. ✓ Adilabad
2. ✗ Nizamabad
3. ✗ Medak
4. ✗ Warangal

Question Number : 93 Question Id : 630680221188 Option Shuffling : Yes Is Question Mandatory : No Calculator : None Response Time : N.A Think Time : N.A Minimum Instruction Time : 0

Correct Marks : 1 Wrong Marks : 0

నాగోబా జాతర తెలంగాణలోని _____ జిల్లాలో జరిగే గిరిజన పండుగ.

Options :

1. ✓ ఆదిలాబాద్
2. ✗ నిజామాబాద్
3. ✗ మెదక్
4. ✗ వరంగల్

Question Number : 94 Question Id : 630680221189 Option Shuffling : Yes Is Question Mandatory : No Calculator : None Response Time : N.A Think Time : N.A Minimum Instruction Time : 0

Correct Marks : 1 Wrong Marks : 0

Dhokra art which involves the most ancient Lost Wax tradition, practised from at least 2000 years ago is also known as _____.

Options :

1. ✓ Bell metal craft
2. ✗ Misch metal craft
3. ✗ Copper metal craft
4. ✗ Gold metal craft

Question Number : 94 Question Id : 630680221189 Option Shuffling : Yes Is Question Mandatory : No Calculator : None Response Time : N.A Think Time : N.A Minimum Instruction Time : 0

Correct Marks : 1 Wrong Marks : 0

అత్యంత పురాతనమైన లోహాన్ని కరిగించి బొమ్మలు తయారు చేసే సంప్రదాయాన్ని కలిగి ఉన్న ధోక్రా కళ, కనీసం 2000 సంవత్సరాల క్రితం నుండి ఆచరించబడినది, దీనిని _____ అని కూడా అంటారు.

Options :

1. ✓ బెల్ మెటల్ క్రాఫ్ట్
2. ✗ మిష్ మెటల్ క్రాఫ్ట్

3. ✖ రాగి మెటల్ క్రాఫ్ట్

4. ✖ గోల్డ్ మెటల్ క్రాఫ్ట్

Question Number : 95 Question Id : 630680221190 Option Shuffling : Yes Is Question Mandatory : No Calculator : None Response Time : N.A Think Time : N.A Minimum Instruction Time : 0

Correct Marks : 1 Wrong Marks : 0

Read the following and select the correct statement(s):

A: Finance Minister T Harish Rao, while presenting the Budget, announced ₹3,497 crores for the 'Mana Ooru Mana Badi' scheme for 2022-23.

B: Telangana government allocated ₹16,043 crores to the education sector for 2022-23.

Options :

1. ✖ Only A

2. ✖ Only B

3. ✔ Both A and B

4. ✖ Neither A nor B

Question Number : 95 Question Id : 630680221190 Option Shuffling : Yes Is Question Mandatory : No Calculator : None Response Time : N.A Think Time : N.A Minimum Instruction Time : 0

Correct Marks : 1 Wrong Marks : 0

ఈ క్రింది వాటిని చదివి, సరైన ప్రకటన(ల)ను ఎంచుకోండి:

A: ఆర్థిక మంత్రి టి హరీశ్ రావు బడ్జెట్‌ను సమర్పిస్తూ, 2022-23 సంవత్సరానికి 'మన ఊరు మన బడి' పథకానికి ₹3,497 కోట్లు ప్రకటించారు.

B: తెలంగాణ ప్రభుత్వం 2022-23 సంవత్సరానికి విద్యా రంగానికి ₹16,043 కోట్లు కేటాయించింది.

Options :

1. ✘ A మాత్రమే

2. ✘ B మాత్రమే

3. ✔ A మరియు B రెండూ

4. ✘ A లేదా B ఏదీ కాదు

Question Number : 96 Question Id : 630680221191 Option Shuffling : Yes Is Question

Mandatory : No Calculator : None Response Time : N.A Think Time : N.A Minimum Instruction Time : 0

Correct Marks : 1 Wrong Marks : 0

Match the following schemes with their description:

Scheme	Description
A. Mission Kakatiya	1. 1.30 lakh km stretch of pipelines
B. Mission Bhagiratha	2. ₹4,600 crore sanctioned in 2015-16 and 2016-17 budgets
C. Shaadi Mubarak	3. One nutritious meal every day to pregnant
D. Arogya Lakshmi	4. One-time financial assistance of ₹1,00,116

Options :

1. ✘ A-1, B-2, C-4, D-3

2. ✔ A-2, B-1, C-4, D-3

3. ✘ A-2, B-1, C-3, D-4

4. ✘ A-4, B-1, C-2, D-3

Question Number : 96 Question Id : 630680221191 Option Shuffling : Yes Is Question Mandatory : No Calculator : None Response Time : N.A Think Time : N.A Minimum Instruction Time : 0

Correct Marks : 1 Wrong Marks : 0

ఈ క్రింది పథకాలను వాటికి సంబంధించిన సరైన వివరణతో జతచేయండి:

పథకం	వివరణ
A. మిషన్ కాకతీయ	1. 1.30 లక్షల కి.మీ వైపులైన్లు
B. మిషన్ భగీరథ	2. 2015-16లో మరియు 2016-17 బడ్జెట్లో ₹4,600 కోట్ల మంజూరు
C. షాదీ ముబారక్	3. గర్భవతికి ప్రతిరోజూ పోషకాలతో కూడిన భోజనం
D. ఆరోగ్య లక్ష్మి	4. ఒకేసారి ₹1,00,116 ఆర్థిక సహాయం

Options :

1. ✘ A-1, B-2, C-4, D-3

2. ✔ A-2, B-1, C-4, D-3

3. ✘ A-2, B-1, C-3, D-4

4. ✘ A-4, B-1, C-2, D-3

Question Number : 97 Question Id : 630680221192 Option Shuffling : Yes Is Question Mandatory : No Calculator : None Response Time : N.A Think Time : N.A Minimum Instruction Time : 0

Correct Marks : 1 Wrong Marks : 0

Read the following and select the correct statement(s):

A: In the SDG goal 'Gender Equality' Telangana has scored 41 points in the SDG index 2020-21.

B: In the SDG goal 'Zero Hunger' Telangana state has scored 50 points in the SDG index 2020-21.

C. In 2019-20 Telangana state has been ranked third in the Sustainable Development Goals (SDGs) index.

Options :

1. ✓ A, B and C

2. ✗ Both B and C

3. ✗ Both A and B

4. ✗ Only C

Question Number : 97 Question Id : 630680221192 Option Shuffling : Yes Is Question Mandatory : No Calculator : None Response Time : N.A Think Time : N.A Minimum Instruction Time : 0

Correct Marks : 1 Wrong Marks : 0

ఈ క్రింది వాటిని చదివి, సరైన ప్రకటన(ల)ను ఎంచుకోండి:

A: SDG లక్ష్యం 'లింగ సమానత్వం'లో తెలంగాణ SDG ఇండెక్స్ 2020-21లో 41 పాయింట్లు సాధించింది.

B: SDG లక్ష్యం 'ఆకలికి అలమటింఛే వారి సంఖ్య శూన్యం'లో తెలంగాణ రాష్ట్రం SDG సూచిక 2020-21లో 50 పాయింట్లు సాధించింది.

C. 2019-20లో తెలంగాణ రాష్ట్రం సుస్థిరత అభివృద్ధి లక్ష్యాలు (SDGs) ఇండెక్స్లో మూడవ స్థానంలో నిలిచింది.

Options :

1. ✓ A, B మరియు C

2. ✗ B మరియు C రెండూ

3. ✗ A మరియు B రెండూ

4. ✗ C మాత్రమే

Question Number : 98 Question Id : 630680221193 Option Shuffling : Yes Is Question Mandatory : No Calculator : None Response Time : N.A Think Time : N.A Minimum Instruction Time : 0

Correct Marks : 1 Wrong Marks : 0

Arrange the following schemes of Telangana government in the chronological order (launch year):

A. T-Hub

B. Shaadi Mubarak

C. Rythu Bandhu

D. Mana ooru - Mana badi

Options :

1. ✓ B, A, C, D

2. ✗ A, B, C, D

3. ✗ A, C, D, B

4. ✗ B, D, C, A

Question Number : 98 Question Id : 630680221193 Option Shuffling : Yes Is Question Mandatory : No Calculator : None Response Time : N.A Think Time : N.A Minimum Instruction Time : 0

Correct Marks : 1 Wrong Marks : 0

తెలంగాణ ప్రభుత్వం యొక్క ఈ క్రింది పథకాలను కాలక్రమానుసారం (ప్రారంభ సంవత్సరం) అమర్చండి:

- A. T-హబ్
- B. షాదీ ముబారక్
- C. రైతు బంధు
- D. మన ఊరు - మన బడి

Options :

- 1. ✓ B, A, C, D
- 2. ✗ A, B, C, D
- 3. ✗ A, C, D, B
- 4. ✗ B, D, C, A

Question Number : 99 Question Id : 630680221194 Option Shuffling : Yes Is Question Mandatory : No Calculator : None Response Time : N.A Think Time : N.A Minimum Instruction Time : 0

Correct Marks : 1 Wrong Marks : 0

Select the correct pair(s) from the following:

Scheme	Launch year
A. T-Hub	2015
B. SoFTNET	2016
C. Aasara pensions	2014
D. Arogya Lakshmi	2015

Options :

- ✘ Both A and C
- ✘ Both A and D
- ✘ Only A, B and C
- ✔ A, B, C and D

Question Number : 99 Question Id : 630680221194 Option Shuffling : Yes Is Question Mandatory : No Calculator : None Response Time : N.A Think Time : N.A Minimum Instruction Time : 0

Correct Marks : 1 Wrong Marks : 0

కింది వాటిలో సరైన జత(ల)ను ఎంచుకోండి:

పథకం	ప్రారంభించిన సంవత్సరం
A. T-హబ్	2015
B. సాఫ్ట్‌నెట్	2016
C. ఆసరా పింఛన్లు	2014
D. ఆరోగ్య లక్ష్మి	2015

Options :

1. ✘ A మరియు C లు రెండూ
2. ✘ A మరియు D లు రెండూ
3. ✘ A, B మరియు C లు మాత్రమే
4. ✔ A, B, C మరియు D

Question Number : 100 Question Id : 630680221195 Option Shuffling : Yes Is Question Mandatory : No Calculator : None Response Time : N.A Think Time : N.A Minimum Instruction Time : 0

Correct Marks : 1 Wrong Marks : 0

Read the following and select the correct statement(s):

A: Hyderabad was ranked second among the top 20 global cities in JLL's City Momentum Index (CMI) 2020.

B: The Hyderabad airport is India's first 'Pharma Zone' - an exclusive terminal for handling temperature-sensitive pharmaceuticals.

C: As of August 2022, the total installed power capacity in Telangana was 18029.39 MW as per Telangana State Report 2022(IBEF).

Options :

1. ✔ A, B and C
2. ✘ Both B and C
3. ✘ Both A and B
4. ✘ Only C

Question Number : 100 Question Id : 630680221195 Option Shuffling : Yes Is Question Mandatory : No Calculator : None Response Time : N.A Think Time : N.A Minimum Instruction Time : 0

Correct Marks : 1 Wrong Marks : 0

కింది వాటిని చదివి, సరైన ప్రకటన(ల)ను ఎంచుకోండి:

A: JLL యొక్క సిటీ మొమెంటం ఇండెక్స్ (CMI) 2020లో 20 ప్రపంచ అగ్ర నగరాల్లో హైదరాబాదు రెండవ స్థానంలో నిలిచింది.

B: భారతదేశపు మొట్ట మొదటి 'ఫార్మా క్షేత్రం' హైదరాబాదు విమానాశ్రయం - ఉష్ణోగ్రత-సున్నిత ఫార్మాస్యూటికల్లను నిర్వహించడానికి ప్రత్యేకమైన టెర్రినల్.

C: ఆగస్టు 2022 నాటికి, తెలంగాణ రాష్ట్ర నివేదిక 2022(తెలంగాణ స్టేట్ రిపోర్ట్ - IBEF) ప్రకారం తెలంగాణలో స్థాపించబడిన మొత్తం విద్యుత్ సామర్థ్యం 18029.39 MW.

Options :

1. ✓ A, B మరియు C

2. ✗ B మరియు C లు రెండూ

3. ✗ A మరియు B లు రెండూ

4. ✗ C మాత్రమే

Question Number : 101 Question Id : 630680221196 Option Shuffling : Yes Is Question Mandatory : No Calculator : None Response Time : N.A Think Time : N.A Minimum Instruction Time : 0

Correct Marks : 1 Wrong Marks : 0

Arrange the following schemes in the decreasing order of average yearly maximum monetary benefit:

A. Rythu Bandhu

B. Kalyana Lakshmi

C. Aasara pensions

D. Dalit Bandhu

Options :

1. ✘ $A > B > C > D$

2. ✔ $D > B > A > C$

3. ✘ $B > C > D > A$

4. ✘ $C > B > A > D$

Question Number : 101 Question Id : 630680221196 Option Shuffling : Yes Is Question

Mandatory : No Calculator : None Response Time : N.A Think Time : N.A Minimum Instruction

Time : 0

Correct Marks : 1 Wrong Marks : 0

సగటు వార్షిక గరిష్ఠ ద్రవ్య ప్రయోజనం ఆధారంగా కింది నుండి మీదకు ఈ క్రింది పథకాలను అమర్చండి:

A. రైతు బంధు

B. కళ్యాణలక్ష్మి

C. ఆసరా పింఛన్లు.

D. దళిత బంధు

Options :

1. ✘ $A > B > C > D$

2. ✓ D > B > A > C

3. ✗ B > C > D > A

4. ✗ C > B > A > D

Question Number : 102 Question Id : 630680221197 Option Shuffling : Yes Is Question Mandatory : No Calculator : None Response Time : N.A Think Time : N.A Minimum Instruction Time : 0

Correct Marks : 1 Wrong Marks : 0

Shadi Mubarak scheme is launched by Telangana government for Muslim girls who have completed 18 years of age at the time of marriage and whose parental income does not exceed _____ annum

Options :

1. ✗ ₹4 lakh

2. ✗ ₹3 lakh

3. ✗ ₹1 lakh

4. ✓ ₹2 lakh

Question Number : 102 Question Id : 630680221197 Option Shuffling : Yes Is Question Mandatory : No Calculator : None Response Time : N.A Think Time : N.A Minimum Instruction Time : 0

Correct Marks : 1 Wrong Marks : 0

వివాహ సమయానికి 18 సంవత్సరాలు నిండి, తల్లిదండ్రుల ఆదాయం సంవత్సరానికి _____ మించని ముస్లిం బాలికల కోసం తెలంగాణ ప్రభుత్వం షాదీ ముబారక్ పథకాన్ని ప్రారంభించింది.

Options :

1. ✘ ₹4 లక్షలు
2. ✘ ₹3 లక్షలు
3. ✘ ₹1 లక్ష
4. ✔ ₹2 లక్షలు

Question Number : 103 Question Id : 630680221198 Option Shuffling : Yes Is Question Mandatory : No Calculator : None Response Time : N.A Think Time : N.A Minimum Instruction Time : 0

Correct Marks : 1 Wrong Marks : 0

Read the following and select the correct statement(s):

A: The Dalit Bandhu scheme provides a one-time grant of ₹10,00,000 to the beneficiaries.

B: Rythu Bandhu scheme provides a grant of ₹5,000 per acre per season.

C. Arogya Laxmi scheme provides one nutritious meal every day to pregnant and lactating women and children below the age of six.

Options :

1. ✘ Both A and B
2. ✘ Only A
3. ✘ Both A and C
4. ✔ A, B, and C

Question Number : 103 Question Id : 630680221198 Option Shuffling : Yes Is Question Mandatory : No Calculator : None Response Time : N.A Think Time : N.A Minimum Instruction Time : 0

Correct Marks : 1 Wrong Marks : 0

ఈ క్రింది వాటిని చదివి, సరైన ప్రకటన(ల)ను ఎంచుకోండి:

- A: దళిత బంధు పథకం ద్వారా లబ్ధిదారులకు ఒకేసారి ₹10,00,000 నిధి మంజూరు అవుతుంది.
- B: రైతు బంధు పథకం ప్రతి సీజన్కు ఎకరాకు ₹5,000 నిధిని అందిస్తుంది.
- C: ఆరోగ్య లక్ష్య పథకం గర్భిణులు మరియు బాలింతలు మరియు ఆరు సంవత్సరాల కంటే తక్కువ వయస్సు ఉన్న పిల్లలకు ప్రతి రోజు ఒకపూట పోషకాలతో కూడిన భోజనాన్ని అందిస్తుంది.

Options :

1. ✘ A మరియు B రెండూ
2. ✘ A మాత్రమే
3. ✘ A మరియు C రెండూ
4. ✔ A, B, మరియు C

Question Number : 104 Question Id : 630680221199 Option Shuffling : Yes Is Question Mandatory : No Calculator : None Response Time : N.A Think Time : N.A Minimum Instruction Time : 0

Correct Marks : 1 Wrong Marks : 0

Read the following and select the correct statement(s):

- A: The full form of 'SoFTNET' scheme launched by the Telangana government is 'Society for Telangana Network'.
- B: The TASK scheme was launched by the Telangana government in the year 2015.

Options :

1. ✘ Only A

2. ✘ Only B

3. ✔ Both A and B

4. ✘ Neither A nor B

Question Number : 104 Question Id : 630680221199 Option Shuffling : Yes Is Question Mandatory : No Calculator : None Response Time : N.A Think Time : N.A Minimum Instruction Time : 0

Correct Marks : 1 Wrong Marks : 0

ఈ క్రింది వాటిని చదివి, సరైన ప్రకటన(ల)ను ఎంచుకోండి:

A: తెలంగాణ ప్రభుత్వం ప్రారంభించిన 'SoFTNET' పథకం పూర్తి రూపం 'సొసైటీ ఫర్ తెలంగాణ నెట్వర్క్'.

B: TASK పథకాన్ని తెలంగాణ ప్రభుత్వం 2015లో ప్రారంభించింది.

Options :

1. ✘ A మాత్రమే

2. ✘ B మాత్రమే

3. ✔ A మరియు B రెండూ

4. ✘ A లేదా B ఏదీ కాదు

Question Number : 105 Question Id : 630680221200 Option Shuffling : Yes Is Question Mandatory : No Calculator : None Response Time : N.A Think Time : N.A Minimum Instruction Time : 0

Correct Marks : 1 Wrong Marks : 0

How many Lok Sabha seats have been assigned to Telangana state as on 30th April 2023?

Options :

1. ✓ 17

2. ✗ 15

3. ✗ 19

4. ✗ 25

Question Number : 105 Question Id : 630680221200 Option Shuffling : Yes Is Question Mandatory : No Calculator : None Response Time : N.A Think Time : N.A Minimum Instruction Time : 0

Correct Marks : 1 Wrong Marks : 0

30 ఏప్రిల్ 2023 నాటికి తెలంగాణ రాష్ట్రానికి ఎన్ని లోక్సభ స్థానాలు కేటాయించబడ్డాయి?

Options :

1. ✓ 17

2. ✗ 15

3. ✗ 19

4. ✗ 25

Question Number : 106 Question Id : 630680221201 Option Shuffling : Yes Is Question Mandatory : No Calculator : None Response Time : N.A Think Time : N.A Minimum Instruction Time : 0

Correct Marks : 1 Wrong Marks : 0

Which one of the following statements is/are correct about Telangana?

- A. The State comprises of 33 districts as on 30th April 2023.
- B. The largest district is Bhadradri Kothagudem in terms of area.
- C. The smallest district is Hyderabad in terms of area.

Options :

- 1. ✘ Only A
- 2. ✘ Only B
- 3. ✘ Both B and C
- 4. ✔ A, B and C

Question Number : 106 Question Id : 630680221201 Option Shuffling : Yes Is Question Mandatory : No Calculator : None Response Time : N.A Think Time : N.A Minimum Instruction Time : 0

Correct Marks : 1 Wrong Marks : 0

తెలంగాణకు సంబంధించి క్రింది ఏ ప్రకటన(లు) సరైనది/సరైనవి?

- A. 30 ఏప్రిల్ 2023 నాటికి రాష్ట్రంలో 33 జిల్లాలు ఉన్నాయి.
- B. విస్తీర్ణం పరంగా అతిపెద్ద జిల్లా భద్రాద్రి కొత్తగూడెం.
- C. విస్తీర్ణం పరంగా అతి చిన్న జిల్లా హైదరాబాదు.

Options :

1. ✘ A మాత్రమే

2. ✘ B మాత్రమే

3. ✘ B మరియు C లు రెండూ

4. ✔ A, B మరియు C

Question Number : 107 Question Id : 630680221202 Option Shuffling : Yes Is Question Mandatory : No Calculator : None Response Time : N.A Think Time : N.A Minimum Instruction Time : 0

Correct Marks : 1 Wrong Marks : 0

In which month of 2022 did the Election Commission of India accept the name change of Telangana Rashtra Samithi to Bharat Rashtra Samithi?

Options :

1. ✘ March

2. ✘ August

3. ✘ July

4. ✔ December

Question Number : 107 Question Id : 630680221202 Option Shuffling : Yes Is Question Mandatory : No Calculator : None Response Time : N.A Think Time : N.A Minimum Instruction

Time : 0

Correct Marks : 1 Wrong Marks : 0

తెలంగాణ రాష్ట్ర సమితి పేరును భారత రాష్ట్ర సమితిగా మార్చడానికి భారత ఎన్నికల సంఘం 2022లో ఏ నెలలో అంగీకరించింది?

Options :

1. ✘ మార్చి
2. ✘ ఆగస్టు
3. ✘ జూలై
4. ✔ డిసెంబరు

Question Number : 108 Question Id : 630680221203 Option Shuffling : Yes Is Question Mandatory : No Calculator : None Response Time : N.A Think Time : N.A Minimum Instruction Time : 0

Correct Marks : 1 Wrong Marks : 0

When was the first general elections held in Telangana state?

Options :

1. ✘ January 2011
2. ✘ March 2012
3. ✘ August 2013
4. ✔ April 2014

Question Number : 108 Question Id : 630680221203 Option Shuffling : Yes Is Question Mandatory : No Calculator : None Response Time : N.A Think Time : N.A Minimum Instruction Time : 0

Correct Marks : 1 Wrong Marks : 0

తెలంగాణ రాష్ట్రంలో తొలి సార్వత్రిక ఎన్నికలు ఎప్పుడు జరిగాయి?

Options :

1. ✘ జనవరి 2011

2. ✘ మార్చి 2012

3. ✘ ఆగస్టు 2013

4. ✔ ఏప్రిల్ 2014

Question Number : 109 Question Id : 630680221204 Option Shuffling : Yes Is Question Mandatory : No Calculator : None Response Time : N.A Think Time : N.A Minimum Instruction Time : 0

Correct Marks : 1 Wrong Marks : 0

With his win in assembly election 2018 which minister of Telangana Assembly became the youngest six-time member of any legislative assembly in India?

Options :

1. ✘ C A. Indrakaran Reddy

2. ✘ V. Srinivas Goud

3. ✔ T Harish Rao

4. ✖ Guntakandla Jagadish Reddy

Question Number : 109 Question Id : 630680221204 Option Shuffling : Yes Is Question Mandatory : No Calculator : None Response Time : N.A Think Time : N.A Minimum Instruction Time : 0

Correct Marks : 1 Wrong Marks : 0

2018 అసెంబ్లీ ఎన్నికలలో విజయం సాధించి భారతదేశంలోని ఏదేని శాసనసభలో ఆరు సార్లు సభ్యుడిగా ఎన్నికైన అతి పిన్న వయస్కుడైన తెలంగాణ అసెంబ్లీకి చెందిన మంత్రి ఎవరు?

Options :

1. ✖ C A. ఇంద్రకరణ్ రెడ్డి

2. ✖ V. శ్రీనివాస్ గౌడ్

3. ✔ T. హరీష్ రావు

4. ✖ గుంటకండ్ల జగదీష్ రెడ్డి

Question Number : 110 Question Id : 630680221205 Option Shuffling : Yes Is Question Mandatory : No Calculator : None Response Time : N.A Think Time : N.A Minimum Instruction Time : 0

Correct Marks : 1 Wrong Marks : 0

In the 1971 parliamentary elections, how many Lok Sabha seats did Telangana Praja Samithi win in Telangana area?

Options :

1. ✔ 10

2. ✖ 8

3. ✖ 12

4. ✖ 14

Question Number : 110 Question Id : 630680221205 Option Shuffling : Yes Is Question Mandatory : No Calculator : None Response Time : N.A Think Time : N.A Minimum Instruction Time : 0

Correct Marks : 1 Wrong Marks : 0

1971 పార్లమెంటు ఎన్నికల్లో తెలంగాణ ప్రాంతంలో తెలంగాణ ప్రజా సమితి ఎన్ని లోక్సభ స్థానాలను గెలుచుకుంది?

Options :

1. ✔ 10

2. ✖ 8

3. ✖ 12

4. ✖ 14

Question Number : 111 Question Id : 630680221206 Option Shuffling : Yes Is Question Mandatory : No Calculator : None Response Time : N.A Think Time : N.A Minimum Instruction Time : 0

Correct Marks : 1 Wrong Marks : 0

Six persons P, Q, R, S, T and W are sitting around a circular table facing towards the centre (not necessarily in the same order). R is sitting opposite to W. Only one person is sitting between P and S. T is sitting to the immediate left of S. Only one person is sitting between W and T. Who is sitting third to the left of Q?

Options :

1. ✘ R

2. ✘ W

3. ✔ S

4. ✘ P

Question Number : 111 Question Id : 630680221206 Option Shuffling : Yes Is Question Mandatory : No Calculator : None Response Time : N.A Think Time : N.A Minimum Instruction Time : 0

Correct Marks : 1 Wrong Marks : 0

P, Q, R, S, T మరియు W అనే ఆరుగురు వ్యక్తులు వృత్తాకార టేబుల్ చుట్టూ కేంద్రానికి అభిముఖంగా కూర్చుని ఉన్నారు (ఇదే క్రమంలో ఉండాల్సిన అవసరం లేదు). R, W కి ఎదురుగా కూర్చున్నాడు. P మరియు S ల మధ్య ఒక వ్యక్తి మాత్రమే కూర్చున్నాడు. S కి తక్షణ ఎడమ వైపున T కూర్చున్నాడు. W మరియు T ల మధ్య ఒక వ్యక్తి మాత్రమే కూర్చున్నాడు. అయిన Q కి ఎడమ వైపు మూడవ స్థానంలో ఎవరు కూర్చున్నారు?

Options :

1. ✘ R

2. ✘ W

3. ✔ S

4. ✘ P

Question Number : 112 Question Id : 630680221207 Option Shuffling : Yes Is Question

Mandatory : No Calculator : None Response Time : N.A Think Time : N.A Minimum Instruction Time : 0

Correct Marks : 1 Wrong Marks : 0

Five men A, B, C, D and E are sitting around a circular table facing opposite to the centre (not necessarily in the same order). Only one man is sitting between D and E. Only one man is sitting between C and D. A is sitting to the immediate left of C. Who is sitting to the immediate left of B?

Options :

1. ✘ A

2. ✘ C

3. ✘ D

4. ✔ E

Question Number : 112 Question Id : 630680221207 Option Shuffling : Yes Is Question

Mandatory : No Calculator : None Response Time : N.A Think Time : N.A Minimum Instruction Time : 0

Correct Marks : 1 Wrong Marks : 0

A, B, C, D మరియు E అనే ఐదుగురు వ్యక్తులు వృత్తాకార టేబుల్ చుట్టూ కేంద్రానికి అభిముఖంగా కూర్చుని ఉన్నారు (ఇదే క్రమంలో ఉండాల్సిన అవసరం లేదు). D మరియు E ల మధ్య ఒక వ్యక్తి మాత్రమే కూర్చున్నాడు. C మరియు D ల మధ్య ఒక వ్యక్తి మాత్రమే కూర్చున్నాడు. A, C కి తక్షణం ఎడమ వైపున కూర్చున్నాడు. అయిన B కి తక్షణం ఎడమ వైపున ఎవరు కూర్చున్నారు?

Options :

1. ✘ A

2. ✘ C

3. ✘ D

4. ✔ E

Question Number : 113 Question Id : 630680221208 Option Shuffling : Yes Is Question Mandatory : No Calculator : None Response Time : N.A Think Time : N.A Minimum Instruction Time : 0

Correct Marks : 1 Wrong Marks : 0

If today is Sunday, then what will be the day after 18 days?

Options :

1. ✘ Wednesday

2. ✔ Thursday

3. ✘ Saturday

4. ✘ Friday

Question Number : 113 Question Id : 630680221208 Option Shuffling : Yes Is Question Mandatory : No Calculator : None Response Time : N.A Think Time : N.A Minimum Instruction Time : 0

Correct Marks : 1 Wrong Marks : 0

ఒకవేళ ఈ రోజు ఆదివారం అయితే, 18 రోజుల తర్వాత ఏ రోజు వస్తుంది?

Options :

1. ✘ బుధవారం

2.

✓ గురువారం

3. ✘ శనివారం

4. ✘ శుక్రవారం

Question Number : 114 Question Id : 630680221209 Option Shuffling : Yes Is Question Mandatory : No Calculator : None Response Time : N.A Think Time : N.A Minimum Instruction Time : 0

Correct Marks : 1 Wrong Marks : 0

Shikha is standing in a row of girls. His position from start of the row is 32 and from end of the row is 32. How many total girls are there in the row?

Options :

1. ✓ 63

2. ✘ 64

3. ✘ 65

4. ✘ 62

Question Number : 114 Question Id : 630680221209 Option Shuffling : Yes Is Question Mandatory : No Calculator : None Response Time : N.A Think Time : N.A Minimum Instruction Time : 0

Correct Marks : 1 Wrong Marks : 0

శిఖా ఒక అమ్మాయిల వరుసలో నిలబడి ఉంది. వరుస ప్రారంభం నుండి ఆమె స్థానం 32 మరియు వరుస చివరి నుండి కూడా ఆమె స్థానం 32. అయిన వరుసలో మొత్తం ఎంత మంది అమ్మాయిలు ఉన్నారు?

Options :

1. ✓ 63

2. ✗ 64

3. ✗ 65

4. ✗ 62

Question Number : 115 Question Id : 630680221210 Option Shuffling : Yes Is Question Mandatory : No Calculator : None Response Time : N.A Think Time : N.A Minimum Instruction Time : 0

Correct Marks : 1 Wrong Marks : 0

Which day of week was there on 5th August 2009?

Options :

1. ✗ Tuesday

2. ✗ Friday

3. ✗ Thursday

4. ✓ Wednesday

Question Number : 115 Question Id : 630680221210 Option Shuffling : Yes Is Question Mandatory : No Calculator : None Response Time : N.A Think Time : N.A Minimum Instruction Time : 0

Correct Marks : 1 Wrong Marks : 0

ఆగస్టు 5, 2009 న వారంలో ఏ రోజు వస్తుంది?

Options :

1. ✖ మంగళవారం

2. ✖ శుక్రవారం

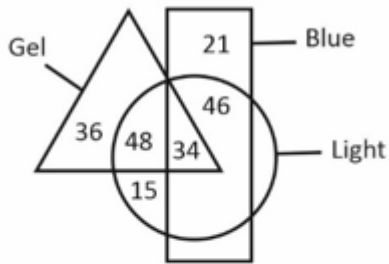
3. ✖ గురువారం

4. ✔ బుధవారం

Question Number : 116 Question Id : 630680221211 Option Shuffling : Yes Is Question Mandatory : No Calculator : None Response Time : N.A Think Time : N.A Minimum Instruction Time : 0

Correct Marks : 1 Wrong Marks : 0

The diagram given below shows the number of pens of different types.



Arrange the following in descending order of their numbers.

I. Gel pens

II. Blue pens

III. Light pens

Options :

1. ✘ II > I > III

2. ✘ II > III > I

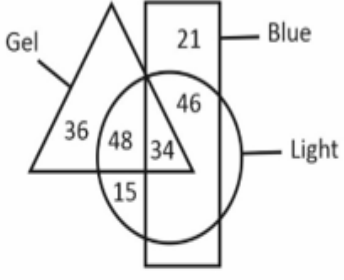
3. ✔ III > I > II

4. ✘ III > II > I

Question Number : 116 Question Id : 630680221211 Option Shuffling : Yes Is Question Mandatory : No Calculator : None Response Time : N.A Think Time : N.A Minimum Instruction Time : 0

Correct Marks : 1 Wrong Marks : 0

ఈ క్రింద ఇవ్వబడిన రేఖాచిత్రం వివిధ రకాల పెన్నుల సంఖ్యను చూపుతుంది.



Gel : జెల్ Blue : నీలం Light : లైట్

ఈ క్రింది వాటిని వాటి సంఖ్యల ప్రకారం అవరోహణ క్రమంలో అమర్చండి.

- I. జెల్ పెన్నులు
- II. నీలం పెన్నులు
- III. లైట్ పెన్నులు

Options :

1. ✘ II > I > III
2. ✘ II > III > I
3. ✔ III > I > II
4. ✘ III > II > I

Question Number : 117 Question Id : 630680221212 Option Shuffling : Yes Is Question Mandatory : No Calculator : None Response Time : N.A Think Time : N.A Minimum Instruction Time : 0

Correct Marks : 1 Wrong Marks : 0

In the following question below are given three statements followed by some conclusions based on those statements. Taking the given statements to be true even if they seem to be at variance from commonly known facts. Read all the conclusions and then decide which of the given conclusion logically follows the given statements.

Statements:

I. Some M are N.

II. Some N are J.

III. All J are S.





Conclusions:

I. Some N are S.

II. Some M are S.

III. All S are J.

Options :

1.  Only conclusion I follows
2.  Only conclusion II follows
3.  Both conclusion I and III follows
4.  No conclusion follows

Question Number : 117 Question Id : 630680221212 Option Shuffling : Yes Is Question Mandatory : No Calculator : None Response Time : N.A Think Time : N.A Minimum Instruction Time : 0

Correct Marks : 1 Wrong Marks : 0

దిగువ ప్రశ్నలో మూడు ప్రకటనలు ఇవ్వబడ్డాయి మరియు ఆ ప్రకటనల ఆధారంగా కొన్ని ముగింపులు ఇవ్వబడ్డాయి. ఇచ్చిన ప్రకటనలు సాధారణంగా తెలిసిన వాస్తవాలకు భిన్నంగా ఉన్నట్లు అనిపించినప్పటికీ వాటిని సత్యమైనవిగా భావించండి. అన్ని ముగింపులను చదవి, ఇచ్చిన ప్రకటనలను తార్కికంగా అనుసరించే ముగింపును నిర్ణయించండి.

ప్రకటనలు:

- I. కొన్ని M లు N లు.
- II. కొన్ని N లు J లు.
- III. J లు అన్ని S లు.

ముగింపులు:

- I. కొన్ని N లు S లు.
- II. కొన్ని M లు S లు.
- III. S లు అన్ని J లు.

Options :

1. ✓ ముగింపు I మాత్రమే అనుసరిస్తుంది
2. ✘ ముగింపు II మాత్రమే అనుసరిస్తుంది
3. ✘ ముగింపు I మరియు III లు రెండూ అనుసరిస్తాయి
4. ✘ ఏ ముగింపు అనుసరించదు

Question Number : 118 Question Id : 630680221213 Option Shuffling : Yes Is Question Mandatory : No Calculator : None Response Time : N.A Think Time : N.A Minimum Instruction Time : 0

Correct Marks : 1 Wrong Marks : 0

Consider the following array of special characters, alphabets, and digits.

1 @ B 2 C 3 1 C # 2 @ # 3 B C A A 2 3 # 2 @ 3

How many letters are preceded by a special character and followed by a digit?

Options :

1. ✘ 3

2. ✘ 2

3. ✘ 0

4. ✔ 1

Question Number : 118 Question Id : 630680221213 Option Shuffling : Yes Is Question Mandatory : No Calculator : None Response Time : N.A Think Time : N.A Minimum Instruction Time : 0

Correct Marks : 1 Wrong Marks : 0

ఈ క్రింది స్పెషల్ క్యారెక్టర్లు, అక్షరాలు మరియు అంకెల శ్రేణిని పరిగణించండి.

1 @ B 2 C 3 1 C # 2 @ # 3 B C A A 2 3 # 2 @ 3

వాటి ముందు ఒక స్పెషల్ క్యారెక్టర్ మరియు తర్వాత ఒక అంకెను కలిగిన ఎన్ని అక్షరాలు కలవు?

Options :

1. ✘ 3

2. ✘ 2

3. ✘ 0

4.

✓ 1

Question Number : 119 Question Id : 630680221214 Option Shuffling : Yes Is Question Mandatory : No Calculator : None Response Time : N.A Think Time : N.A Minimum Instruction Time : 0

Correct Marks : 1 Wrong Marks : 0

Height of five boys B1, B2, B3, B4 and B5 is compared. Each boy has a different height. Height of B5 is neither least nor maximum. Two boys have more height than B2 and two boys have less height than him. B1 and B3 both have height less than B2. Who has the maximum height?

Options :

1. ✘ B2

2. ✓ B4

3. ✘ B5

4. ✘ B1

Question Number : 119 Question Id : 630680221214 Option Shuffling : Yes Is Question Mandatory : No Calculator : None Response Time : N.A Think Time : N.A Minimum Instruction Time : 0

Correct Marks : 1 Wrong Marks : 0

B1, B2, B3, B4 మరియు B5 అనే ఐదుగురు బాలల ఎత్తులు పోల్చబడ్డాయి. బాలురందరు వేర్వేరు ఎత్తులను కలిగి వున్నారు. B5 యొక్క ఎత్తు కనిష్టంగా కానీ లేదా గరిష్టంగా కానీ లేదు. ఇద్దరు బాలురు B2 కంటే ఎక్కువ ఎత్తు మరియు ఇద్దరు బాలురు అతని కంటే తక్కువ ఎత్తు కలిగి ఉన్నారు. B1 మరియు B3 లు ఇద్దరూ B2 కంటే తక్కువ ఎత్తును కలిగి వున్నారు. అయిన ఎవరు గరిష్ట ఎత్తును కలిగి ఉన్నారు?

Options :

1. ✘ B2

2. ✔ B4

3. ✘ B5

4. ✘ B1

Question Number : 120 Question Id : 630680221215 Option Shuffling : Yes Is Question Mandatory : No Calculator : None Response Time : N.A Think Time : N.A Minimum Instruction Time : 0

Correct Marks : 1 Wrong Marks : 0

Number of wickets taken by six bowlers J, K, L, M, N and P are compared. Each bowler has taken different number of wickets. Number of wickets taken by K are more than only the number of wickets taken by J. Number of wickets taken by N are less than only two bowlers. Number of wickets taken by M are not more than N. Who among the following has taken more wickets than N?

Options :

1. ✘ M

2. ✘ K

3. ✘ J

4. ✔ P

Question Number : 120 Question Id : 630680221215 Option Shuffling : Yes Is Question Mandatory : No Calculator : None Response Time : N.A Think Time : N.A Minimum Instruction

Time : 0

Correct Marks : 1 Wrong Marks : 0

J, K, L, M, N మరియు P అనే ఆరుగురు బౌలర్లు తీసిన వికెట్ల సంఖ్య పోల్చబడింది. ఒక్కో బౌలర్ వివిధ సంఖ్య గల వికెట్లను తీశాడు. K తీసిన వికెట్ల సంఖ్య J తీసిన వికెట్ల సంఖ్య కంటే మాత్రమే ఎక్కువ. N తీసిన వికెట్ల సంఖ్య కేవలం ఇద్దరు బౌలర్ల కంటే తక్కువ. M తీసిన వికెట్ల సంఖ్య N కంటే ఎక్కువ కాదు. అయిన ఈ క్రింది వారిలో ఎవరు N కంటే ఎక్కువ వికెట్లు తీసుకున్నారు?

Options :

1. ✘ M

2. ✘ K

3. ✘ J

4. ✔ P

Question Number : 121 Question Id : 630680221216 Option Shuffling : Yes Is Question

Mandatory : No Calculator : None Response Time : N.A Think Time : N.A Minimum Instruction

Time : 0

Correct Marks : 1 Wrong Marks : 0

In a certain coding language 'PAYMEN' is coded as 'OBXNDO'. Match the following words with their respective codes on basis of the above given code language?

	Word		Code
I	RETRYs	1	RFBVQF
II	ORDEAL	2	NSCFZM
III	SECURE	3	QFSSXT

Options :

1. ✘ I-2, II-1, III-3

2. ✔ I-3, II-2, III-1

3. ✘ I-2, II-3, III-1

4. ✘ I-3, II-1, III-2

Question Number : 121 Question Id : 630680221216 Option Shuffling : Yes Is Question Mandatory : No Calculator : None Response Time : N.A Think Time : N.A Minimum Instruction Time : 0

Correct Marks : 1 Wrong Marks : 0

నిర్దిష్ట కోడింగ్ భాషలో 'PAYMEN' అనేది 'OBXNDO'గా కోడ్ చేయబడింది.

పైన ఇచ్చిన కోడ్ భాష ఆధారంగా ఈ క్రింది పదాలను వాటి సంబంధిత కోడ్లతో జతపరచండి?

	పదం		కోడ్
I	RETRY5	1	RFBVQF
II	ORDEAL	2	NSCFZM
III	SECURE	3	QFSSXT

Options :

1. ✘ I-2, II-1, III-3

2. ✔ I-3, II-2, III-1

3. ✘ I-2, II-3, III-1

4. ✘ I-3, II-1, III-2

Question Number : 122 Question Id : 630680221217 Option Shuffling : Yes Is Question Mandatory : No Calculator : None Response Time : N.A Think Time : N.A Minimum Instruction Time : 0

Correct Marks : 1 Wrong Marks : 0

In a certain coding language 'TRIPARTY' is coded as 'IRTPAYTR'. Which of the following pair of Word : Code is correct on basis of the above code language?

Options :

1. ✘ RELATEDS : ERLATESD

2. ✘ WORDINGS : OWDRNISG

3. ✔ SPEAKERS : EPSAKSRE

4. ✘ PAYMENTS : STNEMYAP

Question Number : 122 Question Id : 630680221217 Option Shuffling : Yes Is Question Mandatory : No Calculator : None Response Time : N.A Think Time : N.A Minimum Instruction Time : 0

Correct Marks : 1 Wrong Marks : 0

నిర్దిష్ట కోడింగ్ భాషలో 'TRIPARTY' అనేది 'IRTPAYTR'గా కోడ్ చేయబడింది.

పై కోడ్ భాష ఆధారంగా ఈ క్రింది పదం : కోడ్ జతలలో సరైనది ఏది?

Options :

1. ✘ RELATEDS : ERLATESD

2. ✘ WORDINGS : OWDRNISG

3. ✔ SPEAKERS : EPSAKSRE

4. ✘ PAYMENTS : STNEMYAP

Question Number : 123 Question Id : 630680221218 Option Shuffling : Yes Is Question Mandatory : No Calculator : None Response Time : N.A Think Time : N.A Minimum Instruction Time : 0

Correct Marks : 1 Wrong Marks : 0

A person starts from Z and walks towards east for 18 km to reach point Y. He now turns left from point Y and walks for 12 km to reach point X. He now turns left and walks for 24 km to reach point W. He now turns left and walks for 12 km to reach point U.

Which of the following statements is correct?

I. Distance between U and Z is 12 km.

II. U is towards west of Z.

III. X is towards south west of Z.

Options :

1. ✔ Only II

2. ✘ I and II

3. ✘ Only III

4. ✘ None

Question Number : 123 Question Id : 630680221218 Option Shuffling : Yes Is Question Mandatory : No Calculator : None Response Time : N.A Think Time : N.A Minimum Instruction Time : 0

Correct Marks : 1 Wrong Marks : 0

ఒక వ్యక్తి Z నుండి ప్రారంభమై 18 km తూర్పు వైపు నడుస్తూ Y స్థానానికి చేరుకుంటాడు. అతను ఇప్పుడు Y స్థానం నుండి ఎడమ వైపుకు తిరిగి 12 km నడిచి X స్థానానికి చేరుకుంటాడు. అతను ఇప్పుడు ఎడమ వైపుకు తిరిగి 24 km నడిచి W స్థానాన్ని చేరుకుంటాడు. అతను ఇప్పుడు ఎడమ వైపుకు తిరిగి 12 km నడిచి U స్థానాన్ని చేరుకుంటాడు.

అయిన ఈ క్రింది ప్రకటనలలో ఏది సరైనది?

I. U మరియు Z ల మధ్య దూరం 12 km

II. U, Z కి పడమటి వైపు ఉంది.

III. X, Z కి నైరుతి వైపు ఉంది.

Options :

1. ✓ II మాత్రమే

2. ✗ I మరియు II

3. ✗ III మాత్రమే

4. ✗ ఏదీ కాదు

Question Number : 124 Question Id : 630680221219 Option Shuffling : Yes Is Question Mandatory : No Calculator : None Response Time : N.A Think Time : N.A Minimum Instruction Time : 0

Correct Marks : 1 Wrong Marks : 0

In the following question, a group of letter clusters is given. The letter-number clusters of each group are related with the letter-number clusters of the same group by some Logic/Rule/Relation. From the given alternatives, select a group of letter-number clusters which does not follow the same Logic/Rule/Relation.

(WXT67, ZBY53, CFD13)

Options :

1. ✓ (AND19, DRI31, GVN43)
2. ✗ (PQR51, STW62, VXB48)
3. ✗ (SAN34, VES45, YIX58)
4. ✗ (ABC6, DFH17, GJM30)

Question Number : 124 Question Id : 630680221219 Option Shuffling : Yes Is Question Mandatory : No Calculator : None Response Time : N.A Think Time : N.A Minimum Instruction Time : 0

Correct Marks : 1 Wrong Marks : 0

ఈ క్రింది ప్రశ్నలో, అక్షర సమూహాల గ్రూపు ఇవ్వబడింది. ప్రతి సమూహంలోని అక్షర-సంఖ్య సమూహాలు కొంత తర్కం/నియమం/సంబంధం ద్వారా అదే సమూహంలోని అక్షర-సంఖ్య సమూహాలతో సంబంధం కలిగి ఉంటాయి. ఇవ్వబడిన ప్రత్యామ్నాయాల నుండి, అదే తర్కం/నియమం/సంబంధంను అనుసరించని అక్షర-సంఖ్య సమూహాన్ని ఎంచుకోండి.

(WXT67, ZBY53, CFD13)

Options :

1. ✓ (AND19, DRI31, GVN43)
2. ✗ (PQR51, STW62, VXB48)
3. ✗ (SAN34, VES45, YIX58)

4. ✘ (ABC6, DFH17, GJM30)

Question Number : 125 Question Id : 630680221220 Option Shuffling : Yes Is Question Mandatory : No Calculator : None Response Time : N.A Think Time : N.A Minimum Instruction Time : 0

Correct Marks : 1 Wrong Marks : 0

Letters given on the left side of (:) are related with the letters given on the right side of (:) by some Logic/Rule/Relation.
Select the correct alternative from the given alternatives based on the same Logic/Rule/Relation.

CURD : BSOZ

Options :

1. ✘ TIME : SGIA

2. ✔ CINE : BGKA

3. ✘ PINT : OGKO

4. ✘ SNAP : RLYL

Question Number : 125 Question Id : 630680221220 Option Shuffling : Yes Is Question Mandatory : No Calculator : None Response Time : N.A Think Time : N.A Minimum Instruction Time : 0

Correct Marks : 1 Wrong Marks : 0

(:) యొక్క ఎడమ వైపున ఇవ్వబడిన అక్షరాలు కొంత తర్కం/నియమం/సంబంధం ద్వారా (:) కుడి వైపున ఇచ్చిన అక్షరాలతో సంబంధం కలిగి ఉంటాయి. అదే తర్కం/నియమం/సంబంధం ఆధారంగా ఇచ్చిన ప్రత్యామ్నాయాల నుండి సరైన ప్రత్యామ్నాయాన్ని ఎంచుకోండి.

CURD: BSOZ

Options :

1. ✘ TIME : SGIA

2. ✔ CINE : BGKA

3. ✘ PINT : OGKO

4. ✘ SNAP : RLYL

Question Number : 126 Question Id : 630680221221 Option Shuffling : Yes Is Question Mandatory : No Calculator : None Response Time : N.A Think Time : N.A Minimum Instruction Time : 0

Correct Marks : 1 Wrong Marks : 0

The question given below has a question and two statements. Choose the correct option on the basis of the question and statements.

A sum doubles itself in 3 years. In how much time will it become 8 times?

I. The sum was invested on simple interest.

II. The sum was invested on compound interest.

Options :

The question can be answered by using one of the statements alone but cannot be answered by using the other statement

1. ✘ alone.

2. ✔ The question can be answered by using either of the statement I or II alone.

3. ✘ The question can be answered by using both the statements together but not by either statement alone.

4. ✘ The question cannot be answered by even by using both the statements together.

Question Number : 126 Question Id : 630680221221 Option Shuffling : Yes Is Question Mandatory : No Calculator : None Response Time : N.A Think Time : N.A Minimum Instruction Time : 0

Correct Marks : 1 Wrong Marks : 0

ఈ క్రింద ఇవ్వబడిన ప్రశ్నలో, ఒక ప్రశ్న మరియు రెండు ప్రకటనలు ఉన్నాయి. ప్రశ్న మరియు ప్రకటనల ఆధారంగా సరైన ఎంపికను ఎంచుకోండి.

ప్రశ్న: కొంత సొమ్ము 3 సంవత్సరాలలో రెట్టింపు అవుతుంది. అయిన ఎంత కాలంలో అది 8 రెట్లు అవుతుంది?

ప్రకటనలు:

- I. సొమ్ము బారువడ్డీపై పెట్టుబడి పెట్టబడింది.
- II. సొమ్ము చక్రవడ్డీపై పెట్టుబడి పెట్టబడింది.

Options :

1. ✘ ప్రకటనలలో ఒకదాన్ని మాత్రమే ఉపయోగించడం ద్వారా ప్రశ్నకు సమాధానం ఇవ్వవచ్చు కానీ మరొక ప్రకటనను మాత్రమే ఉపయోగించడం ద్వారా సమాధానం ఇవ్వలేరు.
2. ✔ I లేదా II ప్రకటనలలో దేనినైనా ఉపయోగించడం ద్వారా ప్రశ్నకు సమాధానం ఇవ్వవచ్చు.
3. ✘ రెండు ప్రకటనలను కలిపి ఉపయోగించడం ద్వారా ప్రశ్నకు సమాధానం ఇవ్వవచ్చు కానీ ఒక్క ప్రకటన ద్వారా మాత్రం కాదు.
4. ✘ రెండు ప్రకటనలను కలిపి ఉపయోగించడం ద్వారా కూడా ప్రశ్నకు సమాధానం ఇవ్వలేము.

Question Number : 127 Question Id : 630680221222 Option Shuffling : Yes Is Question Mandatory : No Calculator : None Response Time : N.A Think Time : N.A Minimum Instruction Time : 0

Correct Marks : 1 Wrong Marks : 0

The question given below has a question and two statements. Choose the correct option on the basis of the question and statements.

What percentage of students in class are girls?

I. There are 56 boys in the class.

II. The number of girls in the class is 8 less than the boys.

Options :

The question can be answered by using one of the statements alone but cannot be answered by using the other statement

1. ✘ alone.

2. ✘ The question can be answered by using either of the statement I or II alone.

3. ✔ The question can be answered by using both the statements together but not by either statement alone.

4. ✘ The question cannot be answered by even by using both the statements together.

Question Number : 127 Question Id : 630680221222 Option Shuffling : Yes Is Question

Mandatory : No Calculator : None Response Time : N.A Think Time : N.A Minimum Instruction Time : 0

Correct Marks : 1 Wrong Marks : 0

ఈ క్రింద ఇవ్వబడిన ప్రశ్నలో, ఒక ప్రశ్న మరియు రెండు ప్రకటనలు ఉన్నాయి. ప్రశ్న మరియు ప్రకటనల ఆధారంగా సరైన ఎంపికను ఎంచుకోండి.

ప్రశ్న: తరగతి విద్యార్థుల్లో ఎంత శాతం మంది బాలికలు ఉన్నారు?

ప్రకటనలు:

I. తరగతిలో 56 మంది అబ్బాయిలు ఉన్నారు.

II. తరగతిలో అబ్బాయిల కంటే అమ్మాయిల సంఖ్య 8 తక్కువ.

Options :

1. ✘

ప్రకటనలలో ఒకదాన్ని మాత్రమే ఉపయోగించడం ద్వారా ప్రశ్నకు సమాధానం ఇవ్వవచ్చు కానీ మరొక ప్రకటనను మాత్రమే ఉపయోగించడం ద్వారా సమాధానం ఇవ్వలేరు.

2. ✘ | లేదా || ప్రకటనలలో దేనినైనా ఉపయోగించడం ద్వారా ప్రశ్నకు సమాధానం ఇవ్వవచ్చు.

3. ✔ రెండు ప్రకటనలను కలిపి ఉపయోగించడం ద్వారా ప్రశ్నకు సమాధానం ఇవ్వవచ్చు కానీ ఒక్క ప్రకటన ద్వారా మాత్రం కాదు.

4. ✘ రెండు ప్రకటనలను కలిపి ఉపయోగించడం ద్వారా కూడా ప్రశ్నకు సమాధానం ఇవ్వలేము.

Question Number : 128 Question Id : 630680221223 Option Shuffling : Yes Is Question Mandatory : No Calculator : None Response Time : N.A Think Time : N.A Minimum Instruction Time : 0

Correct Marks : 1 Wrong Marks : 0

In the following question, two statements are given. There may be a cause-and-effect relationship between the two statements. Identify the correct relation between the statements and choose the correct option.

Statement A: Many lakes in the city X have dried up.

Statement B: The record numbers of people from city Y migrated to city X.

Options :

1. ✘ If statement A is the cause and statement B is its effect.

2. ✘ If statement B is the cause and statement A is its effect.

3. ✘ If both the statements A and B are independent causes.

4. ✔ If both the statements A and B are effects of independent causes.

Question Number : 128 Question Id : 630680221223 Option Shuffling : Yes Is Question Mandatory : No Calculator : None Response Time : N.A Think Time : N.A Minimum Instruction Time : 0

Correct Marks : 1 Wrong Marks : 0

ఈ క్రింది ప్రశ్నలో, రెండు ప్రకటనలు ఇవ్వబడ్డాయి. రెండు ప్రకటనల మధ్య కారణం-మరియు-ప్రభావ సంబంధం ఉండవచ్చు. ప్రకటనల మధ్య సరైన సంబంధాన్ని గుర్తించి, సరైన ఎంపికను ఎంచుకోండి.

ప్రకటన A: X నగరంలో చాలా సరస్సులు ఎండిపోయాయి.

ప్రకటన B: Y నగరం నుండి రికార్డు స్థాయిలో ప్రజలు X నగరానికి వలస వచ్చారు.

Options :

1. ✘ ఒకవేళ ప్రకటన A కారణం అయితే ప్రకటన B దాని ప్రభావం అవుతుంది.
2. ✘ ఒకవేళ ప్రకటన B కారణం అయితే ప్రకటన A దాని ప్రభావం అవుతుంది.
3. ✘ A మరియు B లు రెండు ప్రకటనలు స్వతంత్ర కారణాలు.
4. ✔ A మరియు B లు రెండు ప్రకటనలు స్వతంత్ర కారణాల యొక్క ప్రభావాలు.

Question Number : 129 Question Id : 630680221224 Option Shuffling : Yes Is Question Mandatory : No Calculator : None Response Time : N.A Think Time : N.A Minimum Instruction Time : 0

Correct Marks : 1 Wrong Marks : 0

The table given below shows the number of spectators present in 4 stadiums during different matches held in them. The table also gives the maximum capacity of each stadium.

Stadium	Present	Maximum capacity
S1	88000	100000
S2	41260	50000
S3	32880	40000
S4	51300	60000

Popularity score of a stadium = $(\text{Present}/\text{Maximum Capacity}) \times 100$

Which of the following is the correct order of popularity scores of the given stadiums?

Options :

1. ✘ S4 > S1 > S2 > S3

2. ✘ S1 > S4 > S3 > S2

3. ✔ S1 > S4 > S2 > S3

4. ✘ S4 > S1 > S3 > S2

Question Number : 129 Question Id : 630680221224 Option Shuffling : Yes Is Question

Mandatory : No Calculator : None Response Time : N.A Think Time : N.A Minimum Instruction

Time : 0

Correct Marks : 1 Wrong Marks : 0

దిగువ ఇవ్వబడిన పట్టిక 4 స్టేడియాలలో జరిగిన వివిధ మ్యాచ్లలో ఉన్న ప్రేక్షకుల సంఖ్యను చూపుతుంది. పట్టిక ప్రతి స్టేడియం యొక్క గరిష్ట సామర్థ్యాన్ని కూడా అందిస్తుంది.

స్టేడియం	హాజరైనవారు	గరిష్ట సామర్థ్యం
S1	88000	100000
S2	41260	50000
S3	32880	40000
S4	51300	60000

స్టేడియం యొక్క ప్రజాదరణ స్కోరు = (హాజరైనవారు / గరిష్ట సామర్థ్యం) × 100

ఇవ్వబడిన స్టేడియాల యొక్క జనాదరణ స్కోర్ల ప్రకారం ఈ క్రింది వాటిలో సరైన క్రమం ఏది?

Options :

1. ✘ S4 > S1 > S2 > S3
2. ✘ S1 > S4 > S3 > S2
3. ✔ S1 > S4 > S2 > S3
4. ✘ S4 > S1 > S3 > S2

Question Number : 130 Question Id : 630680221225 Option Shuffling : Yes Is Question Mandatory : No Calculator : None Response Time : N.A Think Time : N.A Minimum Instruction Time : 0 Correct Marks : 1 Wrong Marks : 0

The table given below shows the revenue and expenditure of 4 different companies during a financial year.

Company	Revenue	Expenditure
C1	2800000	2400000
C2	2200000	1800000
C3	3200000	2900000
C4	3800000	3500000

$$\text{Profit percentage} = \left[\frac{\text{Revenue} - \text{Expenditure}}{\text{Expenditure}} \right] \times 100$$

Which of the following is the correct order of profit percentage of the given 4 companies?

Options :

1. ✘ $C1 > C2 > C4 > C3$

2. ✘ $C1 > C2 > C3 > C4$

3. ✔ $C2 > C1 > C3 > C4$

4. ✘ $C2 > C1 > C4 > C3$

Question Number : 130 Question Id : 630680221225 Option Shuffling : Yes Is Question

Mandatory : No Calculator : None Response Time : N.A Think Time : N.A Minimum Instruction

Time : 0

Correct Marks : 1 Wrong Marks : 0

దిగువ ఇవ్వబడిన పట్టిక ఆర్థిక సంవత్సరంలో 4 వేర్వేరు కంపెనీల ఆదాయం మరియు వ్యయాన్ని చూపుతుంది.

కంపెనీ	ఆదాయం	వ్యయం
C1	2800000	2400000
C2	2200000	1800000
C3	3200000	2900000
C4	3800000	3500000

లాభ శాతం = $[(\text{ఆదాయం} - \text{వ్యయం})/\text{వ్యయం}] \times 100$

ఇచ్చిన 4 కంపెనీల లాభాల శాతం ప్రకారం ఈ క్రింది వాటిలో సరైన క్రమంలో ఏది?

Options :

1. ✘ C1 > C2 > C4 > C3

2. ✘ C1 > C2 > C3 > C4

3. ✔ C2 > C1 > C3 > C4

4. ✘ C2 > C1 > C4 > C3

Question Number : 131 Question Id : 630680221226 Option Shuffling : Yes Is Question

Mandatory : No Calculator : None Response Time : N.A Think Time : N.A Minimum Instruction Time : 0

Correct Marks : 1 Wrong Marks : 0

Select the most appropriate option to fill in the blank.

Infrastructure is _____ development necessity.

Options :

1. ✓ a

2. ✗ an

3. ✗ the

4. ✗ No article

Question Number : 131 Question Id : 630680221226 Option Shuffling : Yes Is Question Mandatory : No Calculator : None Response Time : N.A Think Time : N.A Minimum Instruction Time : 0

Correct Marks : 1 Wrong Marks : 0

Select the most appropriate option to fill in the blank.

Infrastructure is _____ development necessity.

Options :

1. ✓ a

2. ✗ an

3. ✗ the

4. ✗ No article

Question Number : 132 Question Id : 630680221227 Option Shuffling : Yes Is Question Mandatory : No Calculator : None Response Time : N.A Think Time : N.A Minimum Instruction Time : 0

Correct Marks : 1 Wrong Marks : 0

Select the most appropriate option to fill in the blank.

_____ more successful we become, _____ more important it is to constantly question ourselves.

Options :

1. ✘ The, a

2. ✘ A, the

3. ✔ The, the

4. ✘ A, an

Question Number : 132 Question Id : 630680221227 Option Shuffling : Yes Is Question Mandatory : No Calculator : None Response Time : N.A Think Time : N.A Minimum Instruction Time : 0

Correct Marks : 1 Wrong Marks : 0

Select the most appropriate option to fill in the blank.

_____ more successful we become, _____ more important it is to constantly question ourselves.

Options :

1. ✘ The, a

2. ✘ A, the

3. ✔ The, the

4. ✘ A, an

Question Number : 133 Question Id : 630680221228 Option Shuffling : Yes Is Question Mandatory : No Calculator : None Response Time : N.A Think Time : N.A Minimum Instruction Time : 0

Correct Marks : 1 Wrong Marks : 0

Select the most appropriate option to fill in the blank.

China _____ historic progress in domestic growth in the last year.

Options :

1. ✘ achieve
2. ✘ will achieved
3. ✘ achieving
4. ✔ had achieved

Question Number : 133 Question Id : 630680221228 Option Shuffling : Yes Is Question Mandatory : No Calculator : None Response Time : N.A Think Time : N.A Minimum Instruction Time : 0

Correct Marks : 1 Wrong Marks : 0

Select the most appropriate option to fill in the blank.

China _____ historic progress in domestic growth in the last year.

Options :

1. ✘ achieve
2. ✘ will achieved
3. ✘ achieving

4. ✓ had achieved

Question Number : 134 Question Id : 630680221229 Option Shuffling : Yes Is Question Mandatory : No Calculator : None Response Time : N.A Think Time : N.A Minimum Instruction Time : 0

Correct Marks : 1 Wrong Marks : 0

Select the most appropriate option to fill in the blank.

He comes in _____ a hole in the floor.

Options :

1. ✗ with

2. ✗ by

3. ✓ through

4. ✗ about

Question Number : 134 Question Id : 630680221229 Option Shuffling : Yes Is Question Mandatory : No Calculator : None Response Time : N.A Think Time : N.A Minimum Instruction Time : 0

Correct Marks : 1 Wrong Marks : 0

Select the most appropriate option to fill in the blank.

He comes in _____ a hole in the floor.

Options :

1. ✗ with

2. ✘ by

3. ✔ through

4. ✘ about

Question Number : 135 Question Id : 630680221230 Option Shuffling : Yes Is Question Mandatory : No Calculator : None Response Time : N.A Think Time : N.A Minimum Instruction Time : 0

Correct Marks : 1 Wrong Marks : 0

From the four sentences given below, identify the sentence(s) with a grammatical error.

I. Who is going to read all your copy?

II. Ben try to make cake, but fails.

III. We were on our way back.

IV. Their are only three ways to make money.

Options :

1. ✘ Only I, II and III

2. ✘ Only IV

3. ✔ Only II and IV

4. ✘ Only I and III

Question Number : 135 Question Id : 630680221230 Option Shuffling : Yes Is Question Mandatory : No Calculator : None Response Time : N.A Think Time : N.A Minimum Instruction

Time : 0

Correct Marks : 1 Wrong Marks : 0

From the four sentences given below, identify the sentence(s) with a grammatical error.

I. Who is going to read all your copy?

II. Ben try to make cake, but fails.

III. We were on our way back.

IV. Their are only three ways to make money.

Options :

1. ✘ Only I, II and III

2. ✘ Only IV

3. ✔ Only II and IV

4. ✘ Only I and III

Question Number : 136 Question Id : 630680221231 Option Shuffling : Yes Is Question

Mandatory : No Calculator : None Response Time : N.A Think Time : N.A Minimum Instruction

Time : 0

Correct Marks : 1 Wrong Marks : 0

From the four sentences given below, identify the sentence(s) with a grammatical error.

I. Nearly two weeks had pass since the killing.

II. I am filing a case against your daughter.

III. Small-scale farmers in France needs agricultural machines to support their work.

IV. Neither the secretary nor the ministers is walking inside the garden.

Options :

1.

✘ Only I

2. ✘ Only III and IV

3. ✘ Only II and III

4. ✔ Only I, III and IV

Question Number : 136 Question Id : 630680221231 Option Shuffling : Yes Is Question Mandatory : No Calculator : None Response Time : N.A Think Time : N.A Minimum Instruction Time : 0

Correct Marks : 1 Wrong Marks : 0

From the four sentences given below, identify the sentence(s) with a grammatical error.

I. Nearly two weeks had pass since the killing.

II. I am filing a case against your daughter.

III. Small-scale farmers in France needs agricultural machines to support their work.

IV. Neither the secretary nor the ministers is walking inside the garden.

Options :

1. ✘ Only I

2. ✘ Only III and IV

3. ✘ Only II and III

4. ✔ Only I, III and IV

Question Number : 137 Question Id : 630680221232 Option Shuffling : Yes Is Question Mandatory : No Calculator : None Response Time : N.A Think Time : N.A Minimum Instruction Time : 0

Correct Marks : 1 Wrong Marks : 0

Identify the sentence with the correct usage of the present continuous tense.

- I. I am not coming in Simran's party.
- II. You are waiting for the blue bus.

Options :

- 1. ✘ Only I
- 2. ✘ Only II
- 3. ✔ Both I and II
- 4. ✘ Neither I nor II

Question Number : 137 Question Id : 630680221232 Option Shuffling : Yes Is Question Mandatory : No Calculator : None Response Time : N.A Think Time : N.A Minimum Instruction Time : 0

Correct Marks : 1 Wrong Marks : 0

Identify the sentence with the correct usage of the present continuous tense.

- I. I am not coming in Simran's party.
- II. You are waiting for the blue bus.

Options :

- 1. ✘ Only I
- 2. ✘ Only II

3. ✓ Both I and II

4. ✗ Neither I nor II

Question Number : 138 Question Id : 630680221233 Option Shuffling : Yes Is Question Mandatory : No Calculator : None Response Time : N.A Think Time : N.A Minimum Instruction Time : 0

Correct Marks : 1 Wrong Marks : 0

Identify the sentence with the correct usage of the past perfect tense.

I. She had been walking outside the complex when her mother arrived.

II. Your manager misplaced all the project files.

Options :

1. ✗ Only I

2. ✗ Only II

3. ✗ Both I and II

4. ✓ Neither I nor II

Question Number : 138 Question Id : 630680221233 Option Shuffling : Yes Is Question Mandatory : No Calculator : None Response Time : N.A Think Time : N.A Minimum Instruction Time : 0

Correct Marks : 1 Wrong Marks : 0

Identify the sentence with the correct usage of the past perfect tense.

- I. She had been walking outside the complex when her mother arrived.
- II. Your manager misplaced all the project files.

Options :

- 1. ✘ Only I
- 2. ✘ Only II
- 3. ✘ Both I and II
- 4. ✔ Neither I nor II

Question Number : 139 Question Id : 630680221234 Option Shuffling : Yes Is Question Mandatory : No Calculator : None Response Time : N.A Think Time : N.A Minimum Instruction Time : 0

Correct Marks : 1 Wrong Marks : 0

Select the most appropriate option to fill in the blank.

The earth is bigger than the sun, _____?

Options :

- 1. ✘ does it
- 2. ✘ is it
- 3. ✘ didn't it
- 4. ✔ isn't it

Question Number : 139 Question Id : 630680221234 Option Shuffling : Yes Is Question Mandatory : No Calculator : None Response Time : N.A Think Time : N.A Minimum Instruction Time : 0

Correct Marks : 1 Wrong Marks : 0

Select the most appropriate option to fill in the blank.

The earth is bigger than the sun, _____?

Options :

1. ✘ does it
2. ✘ is it
3. ✘ didn't it
4. ✔ isn't it

Question Number : 140 Question Id : 630680221235 Option Shuffling : Yes Is Question Mandatory : No Calculator : None Response Time : N.A Think Time : N.A Minimum Instruction Time : 0

Correct Marks : 1 Wrong Marks : 0

Select the most appropriate option to fill in the blank.

You wouldn't put your trust in her, _____?

Options :

1. ✔ would you
2. ✘ will not you

3. ✘ should not you

4. ✘ can you

Question Number : 140 Question Id : 630680221235 Option Shuffling : Yes Is Question Mandatory : No Calculator : None Response Time : N.A Think Time : N.A Minimum Instruction Time : 0

Correct Marks : 1 Wrong Marks : 0

Select the most appropriate option to fill in the blank.

You wouldn't put your trust in her, _____?

Options :

1. ✔ would you

2. ✘ will not you

3. ✘ should not you

4. ✘ can you

Question Number : 141 Question Id : 630680221236 Option Shuffling : Yes Is Question Mandatory : No Calculator : None Response Time : N.A Think Time : N.A Minimum Instruction Time : 0

Correct Marks : 1 Wrong Marks : 0

Select the correct passive form of the given sentence.

Sneha's nephew is reading a journal.

Options :

1. ✘ A journal was being read by Sneha's nephew.

2. ✘ A journal is been read by Sneha's nephew.
3. ✔ A journal is being read by Sneha's nephew.
4. ✘ A journal is read by Sneha's nephew.

Question Number : 141 Question Id : 630680221236 Option Shuffling : Yes Is Question Mandatory : No Calculator : None Response Time : N.A Think Time : N.A Minimum Instruction Time : 0

Correct Marks : 1 Wrong Marks : 0

Select the correct passive form of the given sentence.
Sneha's nephew is reading a journal.

Options :

1. ✘ A journal was being read by Sneha's nephew.
2. ✘ A journal is been read by Sneha's nephew.
3. ✔ A journal is being read by Sneha's nephew.
4. ✘ A journal is read by Sneha's nephew.

Question Number : 142 Question Id : 630680221237 Option Shuffling : Yes Is Question Mandatory : No Calculator : None Response Time : N.A Think Time : N.A Minimum Instruction Time : 0

Correct Marks : 1 Wrong Marks : 0

Select the correct active form of the given sentence.

This document has not been signed by us.

Options :

1. ✘ We will not sign this document.
2. ✔ We have not signed this document.
3. ✘ We cannot sign this document.
4. ✘ We didn't sign this document.

Question Number : 142 Question Id : 630680221237 Option Shuffling : Yes Is Question Mandatory : No Calculator : None Response Time : N.A Think Time : N.A Minimum Instruction Time : 0

Correct Marks : 1 Wrong Marks : 0

Select the correct active form of the given sentence.

This document has not been signed by us.

Options :

1. ✘ We will not sign this document.
2. ✔ We have not signed this document.
3. ✘ We cannot sign this document.
4. ✘ We didn't sign this document.

Question Number : 143 Question Id : 630680221238 Option Shuffling : Yes Is Question Mandatory : No Calculator : None Response Time : N.A Think Time : N.A Minimum Instruction Time : 0

Correct Marks : 1 Wrong Marks : 0

Match the given idioms with their correct meanings.

Idiom		Meaning	
A	Paint the town red	1	To die
B	Once and for all	2	To have a great time
C	Kick the bucket	3	In person
D	In the flesh	4	Completely and finally

Options :

1. ✓ A-2, B-4, C-1, D-3

2. ✗ A-1, B-2, C-4, D-3

3. ✗ A-3, B-2, C-4, D-1

4. ✗ A-4, B-1, C-3, D-2

Question Number : 143 Question Id : 630680221238 Option Shuffling : Yes Is Question Mandatory : No Calculator : None Response Time : N.A Think Time : N.A Minimum Instruction Time : 0

Correct Marks : 1 Wrong Marks : 0

Match the given idioms with their correct meanings.

Idiom		Meaning	
A	Paint the town red	1	To die
B	Once and for all	2	To have a great time
C	Kick the bucket	3	In person
D	In the flesh	4	Completely and finally

Options :

1. ✓ A-2, B-4, C-1, D-3

2. ✗ A-1, B-2, C-4, D-3

3. ✗ A-3, B-2, C-4, D-1

4. ✗ A-4, B-1, C-3, D-2

Question Number : 144 Question Id : 630680221239 Option Shuffling : Yes Is Question Mandatory : No Calculator : None Response Time : N.A Think Time : N.A Minimum Instruction Time : 0

Correct Marks : 1 Wrong Marks : 0

Match the given idioms with their correct meanings.

Idiom		Meaning	
A	Give and take	1	To discover something important
B	Get cold feet	2	To make sense
C	Fall into place	3	Be frightened
D	Blaze a trail	4	Compromises

Options :

1. ✗ A-2, B-4, C-1, D-3

2. ✗ A-1, B-2, C-3, D-4

3. ✗ A-3, B-2, C-1, D-4

4. ✓ A-4, B-3, C-2, D-1

Question Number : 144 Question Id : 630680221239 Option Shuffling : Yes Is Question Mandatory : No Calculator : None Response Time : N.A Think Time : N.A Minimum Instruction Time : 0

Correct Marks : 1 Wrong Marks : 0

Match the given idioms with their correct meanings.

Idiom		Meaning	
A	Give and take	1	To discover something important
B	Get cold feet	2	To make sense
C	Fall into place	3	Be frightened
D	Blaze a trail	4	Compromises

Options :

1. ✘ A-2, B-4, C-1, D-3
2. ✘ A-1, B-2, C-3, D-4
3. ✘ A-3, B-2, C-1, D-4
4. ✔ A-4, B-3, C-2, D-1

Question Number : 145 Question Id : 630680221240 Option Shuffling : Yes Is Question Mandatory : No Calculator : None Response Time : N.A Think Time : N.A Minimum Instruction Time : 0

Correct Marks : 1 Wrong Marks : 0

Identify the correct pair of synonyms.

- I. Stylish: Trendy
- II. Mystical: Mundane
- III. Arouse: Nod
- IV. Behold: Miss

Options :

1. ✓ Only I

2. ✘ Only II and IV

3. ✘ Only III

4. ✘ Only I, III and IV

Question Number : 145 Question Id : 630680221240 Option Shuffling : Yes Is Question Mandatory : No Calculator : None Response Time : N.A Think Time : N.A Minimum Instruction Time : 0

Correct Marks : 1 Wrong Marks : 0

Identify the correct pair of synonyms.

I. Stylish: Trendy

II. Mystical: Mundane

III. Arouse: Nod

IV. Behold: Miss

Options :

1. ✓ Only I

2. ✘ Only II and IV

3. ✘ Only III

4. ✘ Only I, III and IV

Question Number : 146 Question Id : 630680221241 Option Shuffling : Yes Is Question

Mandatory : No Calculator : None Response Time : N.A Think Time : N.A Minimum Instruction Time : 0

Correct Marks : 1 Wrong Marks : 0

Identify the correct pair of antonyms.

- I. Talkative: Taciturn
- II. Radiant: Flat
- III. Demolish: Shape
- IV. Haul: Thrust

Options :

- 1. ✘ Only I and II
- 2. ✘ Only II and III
- 3. ✘ Only III and IV
- 4. ✔ All I, II, III and IV

Question Number : 146 Question Id : 630680221241 Option Shuffling : Yes Is Question

Mandatory : No Calculator : None Response Time : N.A Think Time : N.A Minimum Instruction Time : 0

Correct Marks : 1 Wrong Marks : 0

Identify the correct pair of antonyms.

- I. Talkative: Taciturn
- II. Radiant: Flat
- III. Demolish: Shape
- IV. Haul: Thrust

Options :

- 1. ✘ Only I and II
- 2. ✘ Only II and III

3. ✘ Only III and IV

4. ✔ All I, II, III and IV

Question Number : 147 Question Id : 630680221242 Option Shuffling : Yes Is Question Mandatory : No Calculator : None Response Time : N.A Think Time : N.A Minimum Instruction Time : 0

Correct Marks : 1 Wrong Marks : 0

Identify the sentence(s) with no spelling errors from the given sentences.

I. Deadlines refine the mind.

II. The country needs to harness its vast hydropower resources.

Options :

1. ✔ Only I

2. ✘ Only II

3. ✘ Both I and II

4. ✘ Neither I nor II

Question Number : 147 Question Id : 630680221242 Option Shuffling : Yes Is Question Mandatory : No Calculator : None Response Time : N.A Think Time : N.A Minimum Instruction Time : 0

Correct Marks : 1 Wrong Marks : 0

Identify the sentence(s) with no spelling errors from the given sentences.

I. Deadlines refine the mind.

II. The country needs to harness its vast hydropower resources.

Options :

1. ✓ Only I

2. ✗ Only II

3. ✗ Both I and II

4. ✗ Neither I nor II

Question Number : 148 Question Id : 630680221243 Option Shuffling : Yes Is Question Mandatory : No Calculator : None Response Time : N.A Think Time : N.A Minimum Instruction Time : 0

Correct Marks : 1 Wrong Marks : 0

Identify the sentence(s) with no spelling errors from the given sentences.

I. We eat in silence for a few long mintues.

II. We do not get paid for our ideas.

III. She unties her shoes and slips them off.

IV. China needs to establish an integrated management of forests.

Options :

1. ✗ Only I and II

2. ✗ Only I and III

3. ✗ Only III and IV

4. ✓ Only II, III and IV

Question Number : 148 Question Id : 630680221243 Option Shuffling : Yes Is Question Mandatory : No Calculator : None Response Time : N.A Think Time : N.A Minimum Instruction Time : 0

Correct Marks : 1 Wrong Marks : 0

Identify the sentence(s) with no spelling errors from the given sentences.

- I. We eat in silence for a few long mintues.
- II. We do not get paid for our ideas.
- III. She unties her shoes and slips them off.
- IV. China needs to establish an integrated management of forests.

Options :

1. ✘ Only I and II

2. ✘ Only I and III

3. ✘ Only III and IV

4. ✓ Only II, III and IV

Question Number : 149 Question Id : 630680221244 Option Shuffling : Yes Is Question Mandatory : No Calculator : None Response Time : N.A Think Time : N.A Minimum Instruction Time : 0

Correct Marks : 1 Wrong Marks : 0

Select the most appropriate pair of homonyms for the given blanks.

She _____ her hair pink, but I later learned that she _____ of a heart attack.

Options :

1. ✘ bawled, bald

2. ✘ died, dyed

3. ✘ bald, bawled

4. ✔ dyed, died

Question Number : 149 Question Id : 630680221244 Option Shuffling : Yes Is Question Mandatory : No Calculator : None Response Time : N.A Think Time : N.A Minimum Instruction Time : 0

Correct Marks : 1 Wrong Marks : 0

Select the most appropriate pair of homonyms for the given blanks.

She _____ her hair pink, but I later learned that she _____ of a heart attack.

Options :

1. ✘ bawled, bald

2. ✘ died, dyed

3. ✘ bald, bawled

4. ✔ dyed, died

Question Number : 150 Question Id : 630680221245 Option Shuffling : Yes Is Question Mandatory : No Calculator : None Response Time : N.A Think Time : N.A Minimum Instruction Time : 0

Correct Marks : 1 Wrong Marks : 0

Select the most appropriate pair of homonyms for the given blanks.

I still can't believe I gave _____ to my child on a train _____.

Options :

1. ✓ birth, berth

2. ✗ cache, cash

3. ✗ berth, birth

4. ✗ cash, cache

Question Number : 150 Question Id : 630680221245 Option Shuffling : Yes Is Question

Mandatory : No Calculator : None Response Time : N.A Think Time : N.A Minimum Instruction

Time : 0

Correct Marks : 1 Wrong Marks : 0

Select the most appropriate pair of homonyms for the given blanks.

I still can't believe I gave _____ to my child on a train _____.

Options :

1. ✓ birth, berth

2. ✗ cache, cash

3. ✗ berth, birth

4. ✗ cash, cache