

1. ఈ కింది ఐక్యరాజ్యసమితి ప్రత్యేక ఏజెన్సీలను వాటి ప్రధాన కార్యాలయాలలో జతపరచండి :

- | | |
|-----------|------------------|
| ఏజెన్సీ | ప్రధాన కార్యాలయం |
| A. FAO | I. న్యూయార్క్ |
| B. UNIDO | II. జెనివా |
| C. ILO | III. రోమ్ |
| D. UNESCO | IV. పారిస్ |
| | V. వియన్నా |

సరైన సమాధానాన్ని ఎంచుకోవండి :

- (1) A-III; B-V; C-II; D-IV
- (2) A-II; B-I; C-IV; D-V
- (3) A-V; B-IV; C-I; D-II
- (4) A-IV; B-III; C-II; D-I

2. ఈ కిందిది యునైటెడ్ స్టేట్స్ మరియు సోవియట్ యూనియన్లను యుద్ధానికి సమీపంగా తీసుకువచ్చిన ప్రధాన ఘర్షణ :

- (1) అంగోలా అంతర్భుద్ధం
- (2) నూయజ్ కాలువ సంక్షోభం
- (3) క్యూబా క్షిపణుల సంక్షోభం
- (4) కాంగో సంక్షోభం

3. కింది జతలలో ఏవి సరిగా జతపరచబడినాయి ?

- | | | |
|---------------------------|--------------------------|---------------------|
| A. ASEAN | : బ్యాంకాక్, సచివాలయం | : థాయిలాండ్ |
| B. SAARC | : సచివాలయం | : ఖాట్మాండు, నేపాల్ |
| C. యూరోపియన్ యూనియన్ (EU) | : ట్రెస్ ల్యే, బెర్లియం | |
| D. ఆఫ్రికన్ యూనియన్ (AU) | : అడిస్ అబాబా, ఇథియోపియా | |

సరైన సమాధానాన్ని ఎంచుకోవండి :

- (1) A మరియు B మాత్రమే
- (2) A, B, C మరియు D
- (3) B, C మరియు D మాత్రమే
- (4) A, B మరియు C మాత్రమే

4. టీబిబి నమస్కరు సంబంధించి ఈ కింది అంశాల వరిగణించండి :

- A. టీబిబిను అక్రమించుకుంటామని ప్రకటించినపుడు టీబిబి నమస్కరు ప్రతిపాదిస్తూ భారతదేశం నిరసన లేఖను పంపింది.
- B. 1954 లో, చైనా-భారతదేశం శాంతి సహజీవనం ఐదు సూత్రాలపై ఒప్పందంలో భాగంగా టీబిబిలో చైనా పాలనను భారత అంగీకరించింది.

పై వ్యాఖ్యలలో ఏవి సరైనది/వి ?

- (1) A మరియు B రెండూ కావు
- (2) B మాత్రమే
- (3) A మరియు B రెండూ
- (4) A మాత్రమే

5. G-20 కి సంబంధించి కింది వాటిని వరిగణించండి :

- A. ఆర్థిక మంత్రుల మరియు సెంట్రల్ బ్యాంక్ గవర్నర్ల వేదికగా 1999 లో G-20 స్థాపించబడింది.
- B. G-20 రాజ్య/ప్రభుత్వ అధిపతుల స్థాయికి 2008 లో అప్ గ్రేడ్ చేయబడింది.
- C. G-20 విస్తరించబడిన ఎజెండాలో వాణిజ్యం, స్థిర అభివృద్ధి, ఆరోగ్యం, వ్యవసాయం, ఇంధన, పర్యావరణం, వాతావరణ మార్పు, అవినీతి నిర్మూలన వంటి అంశాలు ఉన్నాయి.

పైన ఇవ్వబడిన ప్రకటనలలో ఏవి సరైనవి ?

- (1) A మరియు C మాత్రమే
- (2) A, B మరియు C
- (3) B మరియు C మాత్రమే
- (4) A మరియు B మాత్రమే

6. కింది రెండవ ప్రపంచ యుద్ధ సంఘటనల కాలక్రమానుసారం అమర్చండి :

- A. పశ్చిమ ఫ్రాన్స్ లో నార్మాండ్ దండయాత్ర
- B. జర్మన్ - సోవియట్ నాన్ అగ్రెషన్ ఒప్పందం
- C. హిరోషిమా మరియు నాగసాకిలపై అణుబాంబు దాడి
- D. పెర్ల్ హార్బరుపై జపాన్ దాడి
- E. స్టాలిన్ గ్రాడ్ యుద్ధం

సరైన క్రమాన్ని ఎంపిక చేయండి :

- (1) B, D, E, A, C
- (2) A, D, C, E, B
- (3) E, B, D, A, C
- (4) D, C, A, E, B

7. కింది స్టేట్‌మెంట్‌లను పరిగణించండి :

- A. ఆణు విద్యుత్ కేంద్రాలలో ఉష్ణమును ఉత్పత్తి చేసి
టర్బైన్లను నడవడానికి ఆణు ఇంధనము
వాడబడుతుంది.
- B. భారత దేశంలో ధోరణియం ఆణు ఇంధనముగా
వాడబడుతోంది.

పై ప్రకటనలు ఏవి సరైనవి ?

- (1) A మరియు B రెండూ కావు
(2) B మాత్రమే
(3) A మరియు B రెండూ
(4) A మాత్రమే

8. కింది వాటిని పరిగణించండి :

- A. గగన్‌యాన్ : సైన్సు టెక్నాలజీ అభివృద్ధి కోసమై ఇస్రో
ముగ్గురు 'గగన్ వాటి' లతో 2023 లో ఏడు రోజుల
గగన యాత్రకు ప్రణాళిక చేస్తున్నది.
- B. వ్యోమ్నాత : 'గగన్ వాటి' లతో పాటు వంపబడే మానవ
రూప రోబో వర్షావరణ సమాచారాన్ని నిర్వహిస్తుంది.

పై ఏవి సరైనవి ?

- (1) A మరియు B లు రెండూ కావు
(2) B మాత్రమే
(3) A మరియు B లు రెండూ
(4) A మాత్రమే

9. కింది స్టేట్‌మెంట్‌లను పరిగణించండి :

- A. బి.కె.డి. (BOD) అనేది నీటిలోని సూక్ష్మ జీవులు
వినియోగించే ఆక్సిజన్ మోతాదుకు సూచిక మరియు
ఇది నీటి కాలిచ్చ స్థాయిని సూచిస్తుంది.
- B. త్రాగు నీటిలో బి.కె.డి. (BOD) స్థాయి 1 - 2
పి.పి.యం. ల మధ్య ఉండవచ్చును.

పై ప్రకటనలు ఏవి సరైనవి ?

- (1) A మరియు B లు రెండూ కావు
(2) B మాత్రమే
(3) A మరియు B లు రెండూ
(4) A మాత్రమే

10. కింది స్టేట్‌మెంట్‌లను పరిగణించండి :

- A. సీంద్రీయ (అకార్బన్) ఎరువులు, పురుగు
మందులను, తగుమోతాదులో ఉపయోగించడం వలన
వంట ఉత్పత్తి పెరుగుతుంది.
- B. పురుగుల మందులు లక్ష్యంకాని జీవులకు
విషపూరితము.
- C. అధిక ఎరువుల రెసిడ్యూతో కూడిన నీరు నదులకు
చేరితే యుక్లోఫికేషన్ కు దారితీస్తుంది.
- D. హావికర రసాయనాల బయోమ్యాగ్నిఫికేషన్ మానవ
ఆరోగ్యానికి హానికలిగిస్తాయి.

పైన ఇవ్వబడిన ప్రకటనలలో ఏవి సరైనవి ?

- (1) A, B, C మరియు D
(2) A, C మరియు D మాత్రమే
(3) A, B మరియు D మాత్రమే
(4) A, B మరియు C మాత్రమే

11. కింది స్టేట్‌మెంట్‌లను పరిగణించండి :

- A. జీవులలో అంతర్గతంగా లయబద్ధంగా దాదాపు 24
గంటల చక్రంలో వచ్చే మార్పులను సర్కేడియన్
లయ అంటారు.
- B. జీవ గడియారము సర్కేడియన్ లయను
నియంత్రిస్తుంది.
- C. మానవునిలో నిద్ర దశ, మేల్కోన్న దశ సర్కేడియన్
లయలో భాగంగా జరుగుతాయి.
- D. మానవ పౌడరు స్పందన సర్కేడియన్ లయ (రిథమ్)
కు ఒక ఉదాహరణ.

పైన ఇవ్వబడిన ప్రకటనలలో ఏవి సరైనవి ?

- (1) A, B మరియు C మాత్రమే
(2) A, C మరియు D మాత్రమే
(3) B, C మరియు D మాత్రమే
(4) A, B మరియు D మాత్రమే

12. కింది వాటిని వాటిలో ఉపయోగించిన సంబంధిత సూక్ష్మ
వర్ణాలతో సరిపోల్చండి :

- | | |
|-----------------------------|----------------------------|
| A. సెన్స్రీస్ లోషన్ | I. వానో సిల్వర్ |
| B. టెక్స్టైల్స్ | II. క్వాంటం డాట్స్ |
| C. ఆప్టో ఎంక్రాఫిక్స్ | III. ట్రిటానియం
ఆక్సైడ్ |
| D. హై-డెఫినెషన్ టెలివిజన్లు | IV. జింక్ సెలెనైడ్ |
| | V. లిథియం ఆక్సైడ్ |

సరైన జవాబును ఎంచుకోండి :

- (1) A-I; B-IV; C-III; D-II
(2) A-IV; B-II; C-III; D-V
(3) A-II; B-III; C-IV; D-V
(4) A-III; B-I; C-II; D-IV



13. కింది వాటిని అతవరచండి :

మాతన సాంకేతిక వరచడి ఉదాహరణ
(అభివృద్ధి)

- | | |
|---|---------------------------|
| A. కృత్రిమ మేధ (AI) | I. వర్చువల్ రియాలిటీ |
| B. నేచురల్ లాంగ్వేజ్ ప్రాసెసింగ్ | II. డ్రోన్ |
| C. మానవ రహిత వాయిశకటం | III. టెక్స్ట్-టు-స్పీచ్ |
| D. స్ట్రాక్చర్డ్ నెస్ ఉపయోగించి గృహోపకరణాల వినియోగం | IV. ఇంటర్నెట్ ఆఫ్ థింగ్స్ |
| | V. సోఫియా |

సరైన జవాబును ఎంచుకోండి :

- (1) A-II; B-IV; C-V; D-III
- (2) A-II; B-III; C-V; D-I
- (3) A-V; B-III; C-II; D-IV
- (4) A-V; B-IV; C-I; D-II

14. కింది జతలను పరిగణించండి :

- | | |
|---|--------------------------|
| A. భారత విప్లవ పితామహుడు | : యం.ఎస్. విశ్వనాథన్ |
| B. భారతదేశ మిస్టర్ మ్యాన్ కళాం. | : ఎ.పి.జి. అబ్దుల్ కలాం. |
| C. అంతరిక్షంలోకి వెళ్ళిన తొలి భారతీయురాలు | : సునీతా విలియమ్స్ |
| D. మొదటి భారతీయ రిమోట్ సెన్సింగ్ ఉపగ్రహం | : APPLE |

తప్పుగా ఉన్న జతలను ఎంచుకోండి :

- (1) B, C మరియు D
- (2) A, C మరియు D
- (3) A, B మరియు C
- (4) A, B మరియు D

15. కింది జతలను పరిగణించండి :

- | | |
|--------------------------------------|--|
| A. ఎంక్లోస్ట్రాటిక్ ప్రెసిపిటేటర్ | : పార్సిక్యులేట్ మ్యాటర్ |
| B. ఉత్క్రేపక కస్టర్లు | : కార్బన్ మోనాక్సైడ్ మరియు నైట్రోజన్ ఆక్సైడ్ |
| C. టెంగాల్ టెర్రర్ | : వాటర్ హైసింట్ (బికోర్నియా ప్రాసిప్ప) |
| D. బయోకెమికల్ ఆక్సిజన్ డిమాండ్ (BOD) | : కలుషిత నీరు |

పరిగ్గా సరిపోలిన జత గుర్తించండి :

- (1) A, B, C మరియు D
- (2) A మరియు C మాత్రమే
- (3) A, C మరియు D మాత్రమే
- (4) A మరియు B మాత్రమే

16. కింది స్టేట్ మెంట్లను పరిగణించండి :

- A. భారతదేశం పాఠ్యాంశలో అణు పరీక్షలు విజయవంతంగా నిర్వహించినందున ప్రతి సంవత్సరం మే 11 న జాతీయ సాంకేతిక దినోత్సవాన్ని జరుపుకుంటారు.
- B. అగ్ని-III అనేది భారతదేశం యొక్క తాజా దీర్ఘ శ్రేణి ఉపరితలం నుండి ఉపరితల అణు సామర్థ్యం గల బాలిస్టిక్ క్షిపణి పర్యవసాది. దీనిని 2018 లో విజయవంతంగా పరీక్షించారు.
- C. చంద్రుని స్థిలాకృతి, స్వరూప నిర్మాణం, భవిష్యత్ కాలానికి మరయు వాతావరణాన్ని అధ్యయనం చేసే లక్ష్యంతో మంగళయాన్ ను 5 నవంబర్, 2013 న ప్రయోగించారు.
- D. మొట్ట మొదటి భారతీయ ఉపగ్రహం ఆర్కాటెట్ ను ప్రయోగించినప్పుడు భారత అంతరిక్ష పరిశోధనా సంస్థ ఛైర్మన్ గా యు.ఆర్. రావు ఉన్నారు.

తప్పు స్టేట్ మెంట్లను గుర్తించండి :

- (1) A, B మరియు D
- (2) B మరియు C
- (3) A, C మరియు D
- (4) A మరియు D



17. సమీ కండక్టర్ క్రిస్టల్ (స్పటికం) పై ఇంటిగ్రేటిడ్ చిప్ను ఉత్పత్తి చేసే వద్దతి :

- (1) క్రిస్టాగ్రఫీ (2) ఫోటోలిథోగ్రఫీ
(3) టోమోగ్రఫీ (4) ఎంటిడింగ్

18. వేవ చెట్టులో దైవ్యాక్ వ్యాధికి కారణము :

- (1) కైవలాలు (2) నైరస్
(3) శిలీంధ్రము (4) ఇసుము లోపము

19. మానవుని దేహ ఉష్ణోగ్రతను నియంత్రించునది :

- (1) కండరములు (2) చర్మము
(3) చిన్నమెదడు (4) సైటోథాలమస్

20. వాహనములలోని ఎయిర్ బ్యాగులలో ఏ రసాయనము ప్రమాద సమయంలో నైట్రోజన్ విడుదల చేసి బెయోనులు విచ్చుకొనునట్లు చేయును ?

- (1) పాటాషియం నైట్రేట్
(2) సోడియం నైట్రేట్
(3) సిల్వర్ నైట్రేట్
(4) సోడియం ఆజైడ్

21. ఆకాష్ క్షిప్తణి అభివృద్ధి మరియు ఉత్పత్తి చేసినది

- (1) రష్యా మరియు డి.ఇ.ఆర్.ఎల్.
(2) ఎన్.ఎఫ్.సి. మరియు బి.ఎ.ఆర్.సి.
(3) ఐ.ఎస్.ఆర్.ఓ. (ఇస్రో) మరియు డి.ఇ.ఆర్.ఎల్.
(4) డి.ఆర్.డి.ఓ. మరియు బి.డి.ఎల్.

22. 2022 సం.నికి గాను నోబెల్ బహుమతి గ్రహీతలు, వారి వనివి జతచేయండి :

- A. అలెస్ బియాలాటిస్కీ : నాన్ వదార్థాలు, వాటి అనువర్తనాలు
B. స్వాంటి పాబ్ : అంతరించి పోయిన చోమీన్ల జీనము మరియు మానవ పరిణామం
C. అలెన్ యాస్పెక్ట్, జాన్ ఎఫ్ ఛాసర్, యాంటోన్ జీలింగర్ : ఫోటాన్ల క్రాంతం ఎంటాంగ్లెంట్, సమాచార శాస్త్రము మరియు క్రిస్టాగ్రఫీ
D. క్లౌడిస్ ఆర్ బర్లెట్టి, మోస్టెన్ మెల్లార్, కె. బార్ షార్పిన్ : క్లిక్ రసాయన శాస్త్రం, బయో ఆర్థోగోనల్ రసాయన శాస్త్రం

సరైన జత/జతలను ఎంపిక చేయుము :

- (1) B, C మరియు D మాత్రమే
(2) D మాత్రమే
(3) A, B మరియు C మాత్రమే
(4) A మాత్రమే

23. లోతు నుండి ఉపరితలం వరకు భూమి యొక్క లోగాల క్రమం :

- (1) ఇస్పర్ కోర్ → బాటర్ కోర్ → మాంటిల్ → క్రస్ట్
(2) మాంటిల్ → క్రస్ట్ → ఇస్పర్ కోర్ → బాటర్ కోర్
(3) బాటర్ కోర్ → ఇస్పర్ కోర్ → క్రస్ట్ → మాంటిల్
(4) క్రస్ట్ → మాంటిల్ → ఇస్పర్ కోర్ → బాటర్ కోర్

24. క్రింది వాటిని జతచేయండి :

- | | |
|-------------------|-------------------|
| A. మలేరియా | I. ప్లాస్మోడియం |
| B. ఎలిఫెంటియాసిస్ | II. సైలేరియా |
| C. ట్రిపానిడ్ | III. క్లాస్టీడియం |
| D. టిటానస్ | IV. ఉఖరేరియా |
| | V. సార్టోసెల్లా |

సరైన సమాధానాన్ని ఎంచుకొనుము :

- (1) A-I; B-IV; C-V; D-III
(2) A-I; B-III; C-V; D-IV
(3) A-I; B-IV; C-III; D-II
(4) A-I; B-II; C-III; D-V

25. క్రింది వాటిని జతచేయండి :

- | | |
|-----------------------|--------------------------|
| A. కార్బైడ్ | I. బెరిబెరి |
| B. ఫయఫైన్ | II. రికెట్స్ |
| C. సయనోకోబాలమిన్ | III. స్పర్మీస్ |
| D. ఆస్కార్బిక్ ఆమ్లము | IV. పెరిసిసియస్ రక్తహీనత |
| | V. గాయిటర్ |

సరైన సమాధానాన్ని ఎంచుకొనుము :

- (1) A-V; B-III; C-I; D-IV
(2) A-II; B-IV; C-III; D-V
(3) A-IV; B-I; C-III; D-II
(4) A-II; B-I; C-IV; D-III

26. మానవునిలో మూత్రం ఏర్పడడానికి సంబంధించి కింది వాటిని క్రమానుగతంలో అమర్చండి :

- A. కేంద్రీకృత మూత్రం ఏర్పడడం
B. గొట్టపు పునఃశోషణం
C. గ్లోమెరులర్ పడపోత
D. గొట్టపు ప్రావం

సరైన క్రమాన్ని ఎంచుకొనుము :

- (1) A, D, B, C (2) C, B, D, A
(3) B, A, D, C (4) A, C, B, D



32. కింది పథకాలను అపథకాలను ప్రారంభించిన/అమలు జరిపిన సంవత్సరం ఆధారంగా కాల క్రమానుసారం అమర్చుము :

- A. ప్రధాన మంత్రి ఆవాస యోజన (ఆర్బిఎన్)
- B. ప్రధాన మంత్రి స్టేట్ వెండర్స్ అథారిటీ నిధి
- C. దీన దయాల్ అంకల్స్ యోజన - నేషనల్ రూరల్ లైవ్లిహోడ్స్ మిషన్
- D. ప్రధాన మంత్రి జనధన్ యోజన

క్రింది వాటిలో నుండి సరైన సమాధానాన్ని ఎంపిక చేయుము :

(1) A, D, C, B (2) C, D, A, B
 (3) D, C, B, A (4) A, C, D, B

33. నార్త్ ఈస్ట్ ఇండస్ట్రియల్ అండ్ ఇన్వెస్ట్మెంట్ ప్రమోషన్ పాలసీ - 2007 క్రింద, 2021 - 22 సంవత్సరంలో క్రింది రాష్ట్రాలకు కేంద్ర ప్రభుత్వం ఏడుదల చేసిన సబ్సిడీ (కోట్ల రూపాయలలో) ఆధారంగా, క్రింది రాష్ట్రాలను ఆరోహణ క్రమంలో అమర్చుము :

- A. అరుణాచల్ ప్రదేశ్
- B. మణిపూర్
- C. మేఘాలయ
- D. మిజోరమ్

క్రింది వాటిలో నుండి సరైన సమాధానాన్ని ఎంపిక చేయుము :

(1) B, D, C, A
 (2) A, D, B, C
 (3) C, B, A, D
 (4) D, A, C, B

34. జాతీయ పారిశ్రామిక వర్గీకరణ రెండు అంకెల తరగతి ఆధారంగా, 2021 - 22 లో ఈ క్రింది పస్తువుల సంవత్సరిక వృద్ధి రేటును (శాతంలో) ఆరోహణ క్రమంలో అమర్చుము :

- A. ఆహార ఉత్పత్తుల తయారీ
- B. రబ్బరు మరియు ప్లాస్టిక్ పస్తువుల తయారీ
- C. రసాయనాలు మరియు రసాయనిక పస్తువుల తయారీ
- D. విద్యుత్ పరికరాల తయారీ

క్రింది వాటిలో నుండి సరైన సమాధానాన్ని ఎంపిక చేయుము :

(1) A, B, D, C
 (2) B, C, D, A
 (3) D, C, A, B
 (4) C, A, B, D

35. ఎరువుల అభ్యుత్సాహం పెంచి మరియు వ్యయాన్ని తగ్గించేందుకు కేంద్ర ప్రభుత్వం క్రింది వాటిలో దేని క్రింద 'ఒక దేశం, ఒక ఎరువు' ప్రవేశ పెట్టింది ?

- (1) 'సమైక్య భారత్' ట్రాండ్ నేమ్
- (2) 'విశాల భారత్' ట్రాండ్ నేమ్
- (3) 'ఏకతా భారత్' ట్రాండ్ నేమ్
- (4) 'భారత్' ట్రాండ్ నేమ్

36. నీతి ఆయోగ్ యొక్క వార్షిక నివేదిక 2021 - 22 ప్రకారం క్రింది వాటిలో ఏది నీతి ఆయోగ్ యొక్క రాష్ట్ర ఆరోగ్య సూచీలో ఒక భాగం (domain) కాదు ?

- (1) కీలక ఇన్పుట్స్ / ప్రాసెసింగ్
- (2) పాలన మరియు సమాచారం
- (3) ఉత్తమ పద్ధతులు
- (4) ఆరోగ్య ఫలితాలు

37. కేంద్ర ప్రభుత్వం యొక్క సోయిల్ హెల్త్ కార్డు పథకానికి సంబంధించి క్రింది వ్యాఖ్యలలో ఏవి ఓప్పు ?

- A. ఈ పథకాన్ని 2014 - 15 లో ప్రవేశపెట్టారు.
- B. ఈ పథకం యొక్క మొదటి దశలో సుమారు 10:74 కోట్ల కార్డులు రైతులకు జారీ చేయబడ్డాయి.
- C. ఈ పథకం యొక్క రెండవ దశలో సుమారుగా 12:47 కోట్ల కార్డులు రైతులకు జారీ చేయబడ్డాయి.
- D. మోడల్ ఏలేట్ పథకం క్రింద సుమారు 3 కోట్ల కార్డులు రైతులకు జారీ చేయబడ్డాయి.

క్రింది వాటిలో నుండి సరియైన సమాధానాన్ని ఎంపిక చేయుము :

(1) A మరియు D మాత్రమే
 (2) A మరియు B మాత్రమే
 (3) B, C మరియు D మాత్రమే
 (4) B మరియు C మాత్రమే

38. 'మేకిన్ ఇండియా' (భారత్లో తయారీ) చొరవకు సంబంధించి క్రింది వాటిలో ఏవి ఓప్పు ?

- A. పెట్టుబడులకు మార్గం సుగమం చేయుటం
- B. ఆవిష్కరణలను పెంపొందించటం
- C. భారత్ను తయారీ, ఆకృతి (design) మరియు ఆవిష్కరణల కేంద్రంగా తీర్చిదిద్దటం
- D. అత్యంత అధునాతన మౌలిక సౌకర్యాలను కల్పించటం

క్రింది వాటిలో నుండి సరియైన సమాధానాన్ని ఎంపిక చేయుము :

(1) B, C మరియు D మాత్రమే
 (2) C మరియు D మాత్రమే
 (3) A, B, C మరియు D
 (4) A మరియు B మాత్రమే



39. కింది వాటిలో ఏది భారత ముద్రాపత్ర అప్పీలు అధికార పరిధి కాదు ?

- (1) ఏ రాజ్యాంగ పరిమిత ప్రాంతంలో సంబంధించి కేసి ప్రీమియర్ కేసులు
- (2) రాజ్యాంగ వివరణకు సంబంధించిన కేసులు
- (3) ఏ రాజ్యాంగ పరిమిత ప్రాంతంలో సంబంధించి కేసి సీనియర్ కేసులు
- (4) రెండు లేదా అంతకంటే ఎక్కువ రాష్ట్రాల మధ్య జరిగే వివాదాలకు సంబంధించిన కేసులు

40. కింది వారిలో భారత రాజ్యాంగ నిర్మాణ నిధి సభ్యులు ఎవరు ?

- A. అమర్త్యం కార్
- B. బేగం బజాక్ యూత్
- C. హంసా జీవరాజ్ మెహతా
- D. కమలా ముఖర్జీ
- E. రెణుకా రే

సరైన సమాధానాన్ని ఎంచుకొనుము :

- (1) B, C, D మరియు E మాత్రమే
- (2) A, C మరియు D మాత్రమే
- (3) B, C మరియు E మాత్రమే
- (4) A, B, D మరియు E మాత్రమే

41. 'అవరేషన్ బిల్డ్ స్ట్రాక్' కి సంబంధించి కింది వాటిని పరిగణించండి :

- A. ఇది భారత సైన్యం చేపట్టిన ఒక అతివేగ అంతర్గత తిరుగు మిషన్.
- B. వార్షికోత్సవ సాహిత్య కార్యక్రమంలో ఆయుధాలను పొగుచేసుకుంటున్న సీక్యూ తీవ్రవాదులను తొలగించడం దీని లక్ష్యం.
- C. అవరేషన్ బిల్డ్ స్ట్రాక్ జూలై 1 నుండి జూలై 8, 1985 మధ్య అమ్మోల్సర్లో జరిగింది.

పై వ్యాఖ్యలలో ఏవి సరైనది/వి ?

- (1) B మాత్రమే
- (2) A, B మరియు C
- (3) B మరియు C మాత్రమే
- (4) A మరియు B మాత్రమే

42. శాసన మండలికి సంబంధించి కిందివాటిని పరిగణించండి :

- A. కౌన్సిల్ ఆఫ్ స్టేట్, మూడింట ఒకవంతు సభ్యులు రెండేళ్ళలో వచ్చి పరిమణం చేస్తారు.
- B. శాసన మండలి మొత్తం సభ్యుల సంఖ్యలో మూడింట ఒకవంతును స్థానిక సంస్థల సభ్యులు ఎమ్మెకంటారు.
- C. రాష్ట్రంలో ఏదేని స్థానిక మూడు సంవత్సరాల స్థాయి పట్టణ(దులలో కూడిన ఒకటి ద్వారా ఎన్నుకొనబడవ వంతు సభ్యులు ఎమ్మెకంటారు.

పైని ఇవ్వబడిన ప్రకటనలలో ఏవి సరైనవి ?

- (1) B మరియు C మాత్రమే
- (2) A మరియు B మాత్రమే
- (3) A మరియు C మాత్రమే
- (4) A, B మరియు C

43. ఈ కింది వారిలో ఏవరు తమ పదవిలో అధికారాలు, విధుల నిర్వహణ, పనితీరుపై ఏ న్యాయస్థానానికి జవాబుదారీగా ఉండరు ?

- A. రాష్ట్రపతి
- B. ప్రధాన మంత్రి
- C. న్యాయ శాఖ మంత్రి
- D. ఒక రాష్ట్ర గవర్నర్

సరైన సమాధానాన్ని ఎంచుకొనుము :

- (1) A, B మరియు D మాత్రమే
- (2) A మరియు B మాత్రమే
- (3) A మరియు D మాత్రమే
- (4) A, B మరియు C మాత్రమే

44. ఈ కింది వాటిని పరిగణించండి :

- A. సామాన్యులకు సస్టం కలిగించే విధంగా సంపద కేంద్రీకరణను నిరోధించడం
- B. బాల్యం, యువతకు దోపిడి నుండి రక్షణ
- C. పౌరులందరికీ తగిన జీవనోపాధి మార్గాలు
- D. సమాజపు భౌతిక పనరులను సాధారణ శ్రేయస్సు కొరకు సక్రమంగా పంపిణీ చేయడం

పై అంశాలు ఏటిలో భాగం :

- (1) రాజ్యాంగంలోని ఐదవ షెడ్యూలు
- (2) రాజ్యాంగంలోని ఆదేశిక సూత్రాలు
- (3) రాజ్యాంగంలోని రాష్ట్రాల జాబితా
- (4) రాజ్యాంగంలోని ప్రాథమిక హక్కులు



45. ఈ కింది వ్యాఖ్యలను పరిగణించండి :

- A. భారత రాజ్యాంగంలోని ప్రకరణ 366 ఆర్థిక అత్యవసర పరిస్థితి విధించడానికి సంబంధించినది.
 B. ఆర్థిక అత్యవసర పరిస్థితిని ప్రకటించిన సమయంలో కేంద్ర, రాష్ట్రాల మధ్య వస్తుం విధజనకు సంబంధించిన నిబంధనలను రాష్ట్రపతి నిరసించేయ వచ్చును.

పై వ్యాఖ్యలలో ఏవి సరైనవి/వి ?

- (1) A మరియు B రెండూ కావు
 (2) B మాత్రమే
 (3) A మరియు B రెండూ
 (4) A మాత్రమే

46. TSR సుబ్రమణియన్ కమిటీ (2014) కింది వాటిలో దేనికి సంబంధించినది ?

- (1) మానవ వనరుల అభివృద్ధి మంత్రిత్వ శాఖ ప్రక్రియలు, చట్టాలను సమీక్షించడం
 (2) వర్షావరణం, ఆటవీ, వాతావరణ మార్పు మంత్రిత్వ శాఖ ప్రక్రియలు, చట్టాలను సమీక్షించడం
 (3) ముస్లిం వివాదా చట్ట రద్దు
 (4) అంతర్గత, బాహ్య ఉగ్రవాదాన్ని ఎదుర్కోవడానికి భారతదేశం ప్రయత్నాలు

47. ఈ కింది వ్యాఖ్యలను పరిగణించండి :

- A. రాజ్యాంగ భార్యతలను వ్యాయంగా, విష్వక్సాతంగా నిర్వర్తించడానికి, గుభూర్ పై రాజ్యాంగం కర్తించని పదవులు, అధికారాలతో భారం వేయకూడదు.
 B. గవర్నర్ను విశ్వవిద్యాలయాలకు ఛాన్సలర్గా చేయడం, తద్వారా అతనికి / ఆమెకు అధికారంను అప్పగించడం దారిత్రాత్కంగా కొంత కొదిల్కాన్ని కలిగి ఉన్నవటికి నేడు కాం, పరిస్థితుల మార్పుతో అది ఉనికిని కోల్పోయింది.

పై పేర్కొన్నవి క్రింది సిఫాయులలో భాగం :

- (1) సెషనల్ వాలెడ్ కమిషన్
 (2) కొలార కమిషన్
 (3) సూతన విద్యావిధానం - 2020
 (4) అప్సీస్ ఎమ్.ఎమ్. పుంఢీ కమిషన్

48. రాజ్యాంగంలోని కింది ప్రకరణలను వాటి సంబంధిత నిబంధనలతో జతపరచండి :

- | ప్రకరణ | నిబంధన |
|--------------|--|
| A. ప్రకరణ-19 | I. ప్రజాకాంతి, లభతంకు లోలడి మత కార్యకలాపాలు అరవడం |
| B. ప్రకరణ-21 | II. మానవ అభిమరవాణ, అంపంకపు వెట్టికాకిన సేధము |
| C. ప్రకరణ-23 | III. వాక్ స్వతంత్ర్యం మందలైన వాటికి సంబంధించిన కొప్పి వాక్కులు |
| D. ప్రకరణ-26 | IV. కొప్పి మందర్యాలలో అరెష్ట మరయు నిర్బంధం నుండి రక్షణ |
| | V. వక్తి స్వర్క, జీవించే వాక్కుల రక్షణ |

సరైన సమాధానాన్ని ఎంచుకొనుము :

- (1) A-V; B-II; C-I; D-III
 (2) A-IV; B-III; C-I; D-II
 (3) A-V; B-IV; C-II; D-III
 (4) A-III; B-V; C-II; D-I

49. వక్తి నిర్బంధ చట్టబద్ధతకు నవాలు ఎదులైనప్పిడు :

- (1) రిట్ ఆఫ్ కోవారంబ్ దాఖలు చేయబడుతుంది
 (2) రిట్ ఆఫ్ హాటియస్ కార్పస్ దాఖలు చేయబడుతుంది
 (3) రిట్ ఆఫ్ మాండమస్ దాఖలు చేయబడుతుంది
 (4) రిట్ ఆఫ్ సెర్పియారరీ దాఖలు చేయబడుతుంది

50. ఈ క్రింది వాఖ్యలను పరిగణించండి :

- A. సామాజిక, ఆర్థిక రాజకీయ ప్రజాస్వామ్యంలో కూడిన సమసమాజ స్థాపనకు రాజ్యాంగం వ్యాయం, స్వర్క, సమానత్వం, సాభ్రాత్పత్కాల కల్పనను అత్యున్నత విలువలుగా ఆడేశిస్తుంది.
 B. సమసమాజ సామాజిక క్రమాన్ని స్థాపించడానికి, రాజ్యాంగ వీతిక, ప్రాథమిక వాక్కులు, రాజ్యనిధాన ఆడేశిక సూత్రాలు అనే మాడు అంశాలు సామాజిక-ఆర్థిక వ్యాయ సాధన మార్కాన్ని సుగమం చేస్తాయి.

పై వ్యాఖ్యలలో ఏవి సరైనవి/వి ?

- (1) A మరియు B రెండూ కావు
 (2) B మాత్రమే
 (3) A మరియు B రెండూ
 (4) A మాత్రమే

అయిమ్మూన్ భారత్ లోని హత్త్ అండ్ వెల్ఫేర్ సెంటర్ (HWC) సేవలు ఇవి :

- A. గర్భదారణ, ధనువ సమయంలో సందర్శన
 - B. అంటు వ్యాధుల నిర్వహణ
 - C. ప్రాథమిక నోటి ఆరోగ్య సందర్శన
 - D. మానసిక ఆరోగ్య వ్యాధి స్క్రీనింగ్, ప్రాథమిక నిర్వహణ.
- సరైన సమాధానాన్ని ఎంచుకొనుము :

- (1) B మరియు C మాత్రమే
- (2) A మరియు B మాత్రమే
- (3) A మాత్రమే
- (4) A, B, C మరియు D

ట్రేడ్ ఇన్ఫ్రాస్ట్రక్చర్ ఫర్ ఎక్స్పోర్ట్ స్కీమ్ (TIES) ప్రధానంగా దీని ద్వారా అమలు చేయబడుతుంది :

- (1) రోడ్లు, భవనాల మంత్రిత్వ శాఖ, భారత ప్రభుత్వం
- (2) మిసిస్సీ అఫ్ కామర్స్ అండ్ ఇండస్ట్రీ, భారత ప్రభుత్వం
- (3) విత్త మంత్రిత్వ శాఖ, భారత ప్రభుత్వం
- (4) మిసిస్సీ ఆఫ్ షిప్పింగ్, భారత ప్రభుత్వం

నీతి ఆయోగ్ సంస్థాగత ప్రేమ పర్కనకు సంబంధించి, ఈ కింది వాటిలో ఏది సరిగా జతపరచబడ లేదు ?

- (1) చీఫ్ ఎగ్జిక్యూటివ్ ఆఫీసర్ : మూడేళ్ళ-కాలానికి రాష్ట్రపతినే నియమించబడతారు
- (2) పార్ట్-టైమ్ సభ్యులు : గరిష్ఠంగా ఇద్దరు
- (3) ఎక్స్-ఆఫీషియో సభ్యులు : గరిష్ఠంగా నలుగురు
- (4) ఛీఫ్ సెక్రటరీ : భారత ప్రధాన మంత్రి

భారత ప్రభుత్వ విదేశీ వాణిజ్య విధానానికి సంబంధించి ఈ కింది వ్యాఖ్యలను పరిగణించండి :

- A. విదేశీ వాణిజ్య విధానం అనేది భారత దేశంలో వస్తువుల దిగుమతి, ఎగుమతికి సంబంధించిన విషయాలలో డైరెక్టరేట్ జనరల్ ఆఫ్ ఫారీన్ ట్రేడ్ (DGFT) ఏర్పాటు చేసిన మార్గదర్శకాలు, సూచనల సమూహం.
- B. భారత ప్రభుత్వ విత్త మంత్రిత్వశాఖ ప్రతి ఐదు సంవత్సరాలకు ఎగుమతి, దిగుమతి విధానాన్ని ప్రకటిస్తుంది.

పై వ్యాఖ్యలలో ఏవి సరైనది/వి ?

- (1) A మరియు B రెండూ కావు
- (2) B మాత్రమే
- (3) A మరియు B రెండూ
- (4) A మాత్రమే

63. ఈ కింది ఏ చట్టం అది రూపొందించబడిన సంవత్సరానికి సంబంధించి సరిగా జతపరచబడ లేదు ?

- (1) 2012 : జాతీయ ఆహార భద్రతా చట్టం
- (2) 2005 : MGNREG చట్టం
- (3) 2009 : RTE చట్టం
- (4) 2005 : సమాచార హక్కు చట్టం

64. డెవలప్ మెంట్ మనిటరింగ్ అండ్ ఎవాల్యూయేషన్ ఆఫీస్ (DMEO) ఇవ్వాలి ఏవి ?

- A. డేటా ఇన్ఫార్మేటిక్స్ సంబంధించిన కేంద్రీకృత డిపాజిటరీని అభివృద్ధి చేయడం
- B. డేటా ఆధారిత విధాన రూపకల్పనను ప్రారంభించడం
- C. పనితీరు కొలమానాల కఠినమైన ట్రాకింగ్ను సంస్థాగతీకరించడం
- D. ప్రధాన ప్రవంతి కఠినమైన ఫలితాల పర్యవేక్షణ, మూల్యాంకనానికి వ్యవస్థాపిత పూర్తి పరిసర సామర్థ్యాలను బలోపేతం చేయడం

సరైన సమాధానాన్ని ఎంచుకొనుము :

- (1) B, C మరియు D మాత్రమే
- (2) A, C మరియు D మాత్రమే
- (3) B మరియు D మాత్రమే
- (4) A, B మరియు C మాత్రమే

65. భారత ప్రభుత్వం, రాష్ట్రప్రభుత్వాలు రెండూ స్వతంత్ర అధికార పబ్లిక్ రికార్డ్ ఆఫీసర్ స్థాపన కోసం, కింది వాటిలో ఏది సిఫార్సు చేసింది ?

- (1) సమాచార హక్కుపై పార్లమెంటురి జాయింట్ చిర్కింగ్ గ్రూప్
- (2) సువరిపాలనపై నీతి ఆయోగ్ టాస్క్ ఫోర్స్
- (3) రెండవ పరిపాలన సంస్కరణల కమిషన్
- (4) గిరిస్ రామాచంద్ర దేశ్ పాండే vs. కేంద్ర సమాచార కమిషన్ పై సుప్రీం కోర్టు తీర్పు

66. MGNREGA కి సంబంధించి కింది వాటిని పరిగణించండి :

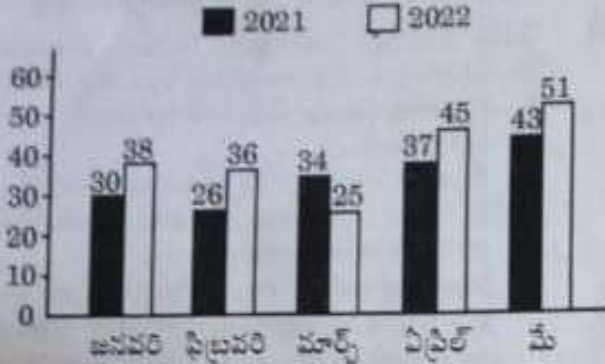
- A. MGNREGA లో వేతనాలు పొందే వారు ప్రాథమిక వాటాదారులు.
- B. MGNREGA లో కింద చేపట్ట వలసిన పనులను ఫీల్డ్ ఆఫీసర్ సిఫార్సు చేస్తారు.
- C. గ్రామసభ పథకం అమలుపై సామాజిక తనిఖీని నిర్వహిస్తుంది.

పై వ్యాఖ్యలలో ఏవి సరైనది/వి ?

- (1) C మాత్రమే
- (2) A మరియు C మాత్రమే
- (3) A, B మరియు C
- (4) A మరియు B మాత్రమే



67. క్రింది ఇచ్చిన బార్ చార్ట్లో ఒక కుటుంబం యొక్క నెలసరి ఖర్చులు (వేల రూపాయల్లో) లకు నెలలు అయిన రెండు సంవత్సరాల కాలానికి ఇవ్వబడ్డాయి. 2021, 2022 సంవత్సరాల నగటు నెలసరి ఖర్చుల మధ్య నిష్పత్తి ఎంత? ఒక కుటుంబం యొక్క నెలసరి ఖర్చులు



- (1) 34 : 37 (2) 34 : 39
(3) 32 : 37 (4) 33 : 37

68. ఒక గడియారం ప్రతిగంటకు 5 నిమిషాలు కోల్పోతుంది. ఆ గడియారంలో బుధవారం ఉదయం 8 గంటలకు వలెన సమయాన్ని చూపిస్తే సరిచేస్తే, మళ్ళీ ఆ గడియారం వలెన సమయాన్ని ఎప్పుడు చూపుతుంది?

- (1) సాయంత్రం 8 గంటలు, బుధవారం
(2) సాయంత్రం 8 గంటలు, మంగళవారం
(3) ఉదయం 8 గంటలు, బుధవారం
(4) ఉదయం 8 గంటలు, మంగళవారం

69. ఒక పెద్ద ఘనానికి ఆరు వైపులా రంగు వేసి, దాన్ని ఒక నిర్దిష్ట సంఖ్యలో సమానమైన చిన్న ఘనాలుగా కత్తిరించారు. ఆ చిన్న ఘనాల్లో, 8 ఘనాలకు ఏ ముఖానికి కూడా రంగు వేయలేదు. రెండు ముఖాలకు మాత్రమే రంగు వేయబడ్డ చిన్న ఘనాలెన్ని?

- (1) 24 (2) 12
(3) 18 (4) 6

70. ఒక వేళ, $AB39 + C6B8B = 4292C$ అయితే $A + 2B + 3C$ విలువ ఎంత? (A, B మరియు C అనే ముడు అక్షరాలు 1 నుండి 9 వరకు గల అంకెల్లో మూడు వివిధ అంకెలను సూచిస్తాయి. ఏ అంకె కూడా ఒక అక్షరం కంటే ఎక్కువ అక్షరాలను సూచించదు)

- (1) 22 (2) 24
(3) 21 (4) 23

71. ఒక నిర్దిష్ట కోడ్ భాషలో SORT ని 2169 గా, TEST ని 5122 గా, DOG ని 368 గా, GOAT ని 6243 గా కోడ్ చేస్తే, అదే భాషలో ROAST ని ఏవిధంగా కోడ్ చేస్తారు?

- (1) 49623 (2) 64829
(3) 21946 (4) 91463

72. రెండు ప్రకటనలు, I, II, III మరియు IV వే నాలుగు ముగింపులు క్రింద ఇవ్వబడ్డాయి. ప్రకటనలను జాగ్రత్తగా చదివి సాధారణంగా తెలిసిన వాస్తవాలను విస్మరించి, తార్కికంగా ఏ ముగింపులు అనునరిస్తాయో నిర్ణయించండి.

ప్రకటనలు :

ఏ వులీ కుడా ఏనుగు కాదు.
ఏనుగులు అన్ని సింహాలు.

ముగింపులు :

- I. కొన్ని సింహాలు వులులు.
II. అన్ని సింహాలు వులులు.
III. కొన్ని సింహాలు ఏనుగులు.
IV. కొన్ని సింహాలు ఏనుగులు కావు.

(1) ముగింపులు II, III మరియు IV మాత్రమే అనునరిస్తాయి

(2) ముగింపులు I, II మరియు III మాత్రమే అనునరిస్తాయి

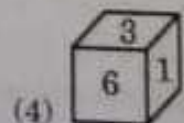
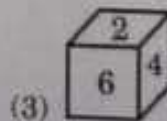
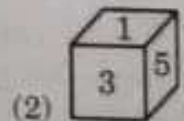
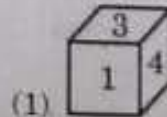
(3) ముగింపులు III మరియు IV మాత్రమే అనునరిస్తాయి

(4) ముగింపులు I మరియు II మాత్రమే అనునరిస్తాయి

73. రామ్, శ్యామ్ ల వయస్సుల లబ్ధం 240. రామ్ వయస్సు కంటే, రెండు రెట్ల శ్యామ్ వయస్సు 4 సంవత్సరాలు ఎక్కువ అయితే, శ్యామ్ వయస్సు ఎంత? (సంవత్సరాల్లో)

- (1) 44 (2) 20
(3) 24 (4) 12

74. క్రింద ఇచ్చిన వటాన్ని ఒక బాక్స్ గా మరిచారు. వటాన్ని మరిచినప్పుడు తయారయ్యే పవైన బాక్స్ ని గుర్తించండి.



75. A, B, C, D, E మరియు F అనే ప్రదేశాలు వివిధ సమూహాల తీరా వివిధ గుర్తింపులు కలిగి ఉన్నాయి. A హీల్ స్పిషన్ కాదు, B మరియు E లు చారిత్రాత్మక ప్రదేశాలు కావు. D మరియు F లు పారిత్రామిక వగరాలు కావు. A మరియు D లు చారిత్రాత్మక ప్రదేశాలు కావు. A మరియు B లు ఒకే విధంగా ఉంటాయి. చారిత్రాత్మక ప్రదేశం కాని, హీల్ స్పిషన్ మరియు పారిత్రామిక వగరం అయిన ప్రదేశం ఏది ?
- (1) C (2) E
(3) F (4) B
76. క్రింది శ్రేణిలో తప్పిపోయిన పదాన్ని కనుక్కోండి : ANBO, _____, DQER, FSGT
- (1) CPBO (2) CRGT
(3) CPRS (4) CPDQ
77. ఒక వ్యక్తి, ఒక ఫాటోలో ఉన్న బాలున్ని చూపిస్తూ ఈ విధంగా చెప్పెను, "ఈ ఫాటోలో ఉన్న బాలుడు, నా సోదరుని తండ్రి యొక్క కూతురి యొక్క కొడుకు." ఆ వ్యక్తి, ఫాటోలో ఉన్న బాలుడికి ఏమవుతాడు ?
- (1) తాత (2) సోదరుడు
(3) మేన మామ (4) తండ్రి
78. రాము తన కొడుకు అయిన రాఘవతో ఈ విధంగా చెప్పెను, "మిమ్మ పుట్టినప్పుడు నా వయస్సు, నీ ప్రస్తుత వయస్సులో సగము." రాము యొక్క ప్రస్తుత వయస్సు 60 సంవత్సరాలు అయితే రాఘవ పుట్టినప్పుడు రాము వయస్సు ఎంత ? (సంవత్సరాల్లో)
- (1) 19 (2) 22
(3) 25 (4) 20
79. ఒక వేళ $25 \# 5 = 5$, $10 @ 2 = 20$, $5 \& 3 = 8$ మరియు $10 \$ 6 = 4$, అయితే క్రింది దాని విలువ ఎంత ?
- $20 \$ 6 @ 1 \& (20 \# 10)$
- (1) 22 (2) 18
(3) 16 (4) 20
80. క్రింది శ్రేణిలో అన్ని రెండు అంతరి సంఖ్యల మొత్తం ఎంత ?
- 1, 8, 15, 22,
- (1) 742 (2) 759
(3) 741 (4) 750
81. క్రింది శ్రేణిలో తరువాతి పదే సంఖ్య ఏది ?
- 9, 4-5, 13-6, 74-25, 594, ?
- (1) 6831 (2) 5940
(3) 6534 (4) 6237
82. క్రింది శ్రేణిలో తప్పిపోయిన సంఖ్యని కనుక్కోండి ?
- 7, 8, 20, ?, 292, 1485
- (1) 69 (2) 55
(3) 45 (4) 50
83. క్రింది శ్రేణిలో ఇరుదని సంఖ్యని కనుక్కోండి :
- 5, 12, 51, 311, 2497, 24961
- (1) 24961 (2) 311
(3) 2497 (4) 51
84. ఒక వేళ $P = +$, $Q = \times$, $R = \div$, $S = -$ మరియు $T = \%$ యొక్క అయితే
- $225 Q 3 R 15 S 20 P 67 S 20 T 160$ విలువ ఎంత ?
- (1) 60 (2) 50
(3) 55 (4) 45
85. ఒక నిర్దిష్ట కోడ్ భాషలో GENETICS అనే పదాన్ని HCQAYCJK గా కోడ్ చేస్తే, అదే భాషలో ANALYTICS యొక్క కోడ్ ఏంటి ?
- (1) BLDDHNPVB
(2) BLDHNPVB
(3) BLDHENPUB
(4) BLDDHNPUB
86. ఒక వేళ, జూన్ 15, 2023 గురువారం అయితే అక్టోబర్ 24, 2028 న ఏ వారం ఆవుతుంది ?
- (1) మంగళవారం
(2) గురువారం
(3) శుక్రవారం
(4) బుధవారం



87. కాకతీయుల కాలమునాటి ఈ క్రింది ప్రవచనములను పరిగణించుము ?

- A. కాకతీయుల కాలంలో ప్రజలకు ప్రాతినిధ్యం గురించి తెప్పవలసి వచ్చినప్పుడు సాధారణంగా వారిని 'అష్టాదశప్రజలు' గా సంబోధించేవారు.
- B. ప్రజలు ఈ కాలంలో కార్పొరేట్ జీవన విధానాన్ని అవలంబించారు.
- C. ఈ కాలంలో 'సమయాచార' అను పేరుతో కుల సంఘాలను ఏర్పరుచుకొని ఆయా సంఘ సభ్యుల భాగోగులు చూసేవారు.
- D. బ్రాహ్మణ గ్రామాలు సాధారణంగా 'అనమఖ్యాతులు' అనే సంఘం పేరుతో పిలువబడేవి.

పై ప్రకటనలో ఏవి సరైనవి కావు ?

- (1) A మరియు D
- (2) B మరియు C
- (3) C మరియు D
- (4) A మరియు B

88. తెలంగాణలో ఆశ్రీత కులాల ప్రధాన వృత్తిగా క్రింది వాటిలో ఏది పరిగణించబడింది?

- (1) పోడు సాగు
- (2) వేట
- (3) యాచించడం
- (4) చాపలు మరియు బుట్టలు అల్లిక

89. 'పంజాబ్-ఇ-షాకి' అనగా నేమి ?

- (1) దక్కన్లోని ముస్లింలు జరుపుకునే ఐదు ముఖ్యమైన పండుగలు.
- (2) ప్రతి ముస్లిం అనుసరించే ఐదు ముఖ్యవిధులు అలమ్ (చిహ్నము) లో పొందు పరుచబడినవి. ఈ అలమ్ 15, 16 శతాబ్దములో దక్కన్లో స్థాపించబడింది.
- (3) పీయా ముస్లింలు చిక్కానము ప్రకారము ఐదుగురు వ్యక్తులైన వారు అనగా మొహమ్మద్, ఆలీ, ఫాతిమా, హసన్ మరియు హసినా వేళ్లు అలమ్ (చిహ్నము) లో పొందు పరుచబడింది.
- (4) ప్రతి ముస్లిం అనుసరించ వలసిన ఐదు ముఖ్యమైన విధులు.

90. ఏ కాకతీయ సామంత నరిపాలకుల కుటుంబ చరిత్ర గురించి 'శివయోగసారము' వివరిస్తున్నది ?

- (1) మల్కాల నాయకులు
- (2) చెరకు నాయకులు
- (3) కోట నాయకులు
- (4) ఇందులూరి నాయకులు

91. కాకతీయుల కాలంలో పండిత శ్రయముగా పేరొందిన ముగ్గురు ఆచార్యులు ఎవరో గుర్తించుము ?

- (1) శ్రీవతి పండితుడు, పాలకురికి సోమనాథుడు మరియు మంచన పండితుడు
- (2) శ్రీవతి పండితుడు, మల్లిఖార్జున పండితుడు మరియు మంచన పండితుడు
- (3) విశ్వేశర పండితుడు, మల్లిఖార్జున పండితుడు మరియు మంచన పండితుడు
- (4) మల్లిఖార్జున పండితుడు, పాలకురికి సోమనాథుడు మరియు విశ్వేశ్వర పండితుడు

92. ఈ క్రింది జతలను పరిగణించండి :
చర్చిలు హైదరాబాద్లోని ప్రాంతం

- A. సెయింట్ జాన్స్ చర్చి : బోల్షరం
- B. హోలీ ట్రీనటీ చర్చి : తిర్మల్గిరి
- C. సెయింట్ మేరీ చర్చి : సికింద్రాబాద్
- D. సెయింట్ జార్జ్ చర్చి : అబీద్

సరైన జతలను ఎంచుకోండి :

- (1) A మరియు D
- (2) B మరియు C
- (3) C మరియు D
- (4) A మరియు B

93. కుతుబ్ షాహీ కాలంలో, హిందూ మరియు ముస్లిం ప్రముఖులు ఇద్దరూ "కులా" మరియు "ఖిలా" లలో కూడిన దుస్తులను ధరించేవారు. ఈ రెండు పదాల అర్థం ఏమిటి ?

- (1) హెడ్ బ్యాండులు మరియు ట్రై
- (2) ప్యాంటు మరియు బెల్ట్
- (3) చొక్కా మరియు ధోతీ
- (4) టోపి మరియు పాడవైన కోటు

94. 19 వ శతాబ్దం ప్రారంభంలో, హైదరాబాద్లో జోర్జియన్ ఇరానీ వలసదారులు ఏ పంటకాన్ని పరిచయం చేశారు ?

- (1) ఛాయి
- (2) హాల్వీమ్
- (3) ఖువానీ కా మీరా
- (4) బిర్యానీ



95. తెలంగాణ రాష్ట్ర రైతు బంధు పథకానికి సంబంధించి క్రింది వ్యాఖ్యలో ఏది/వి సరైనవి/వి ?
- A. 2020 - 21 తెలంగాణ బడ్జెట్లో, 65-4% వ్యవసాయ బడ్జెట్ రైతుబంధు కొరకు కేటాయించబడింది.
 - B. 2020 - 21 తెలంగాణ బడ్జెట్లో, మొత్తం బడ్జెట్లో 7-7% రైతుబంధు కొరకు కేటాయించబడింది.
 - C. తెలంగాణ రాష్ట్ర ప్రభుత్వం రైతుబంధు పథకాన్ని 2016 వ సంవత్సరంలో ప్రారంభించింది.
 - D. 2020 వ సంవత్సరంలో, రైతుబంధు లబ్ధి దారులలో 80% చిన్న మరియు సన్నకారు (marginal and small) రైతులు ఉన్నారు.

సరైన సమాధానాన్ని ఎంచుకోవండి :

- (1) A మరియు C మాత్రమే
- (2) B మాత్రమే
- (3) A, B మరియు D మాత్రమే
- (4) D మాత్రమే

96. తెలంగాణ రాష్ట్ర ఆవిష్కరణ విధానం - 2016 యొక్క విస్తృత ప్రంథానకు సంబంధించి క్రింది వాటిని అతివరచుము :

ప్రంథం ఏది	ప్రంథం ఏదీ
A. మానవ మూలధనం	I. ఒకటి
B. భౌతిక మౌలిక వనరులు మరియు ప్రాగ్రామ్ నిర్వహణ సామర్థ్యాలు	II. మూడు
C. పెట్టుబడి సమూహాలు మరియు మూలధనం	III. రెండు
D. పరిశ్రమలో అనుసంధానం	IV. నాలుగు

సరైన సమాధానాన్ని ఎంచుకోవండి :

- (1) A-III; B-IV; C-II; D-I
- (2) A-II; B-I; C-III; D-IV
- (3) A-II; B-III; C-I; D-IV
- (4) A-I; B-II; C-IV; D-III

97. తెలంగాణ వస్త్ర మరియు దుస్తుల విధానం 2017 - 22 క్రింద అందించే ప్రోత్సాహకాలకు సంబంధించిన క్రింది జతలను పరిగణించుము :

ప్రోత్సాహకం రకం	ప్రోత్సాహకం
A. మూలధన రాయితీ	: 40 కోట్ల రూపాయల వరకు
B. పట్టీ రాయితీ	: సంవత్సరానికి 6 శాతం దొప్పని 8 సంవత్సరాల వరకు
C. విద్యుత్ రాయితీ	: యూనిట్కు 1-5 రూపాయల వరకు
D. రాష్ట్ర వస్త్ర సేవల వస్తును తిరిగి పొందటం	: 7 సంవత్సరాల వరకు 100%

పై వాటిలోనుండి ఉప్పుగా జతపరిచిన జతలను ఎంపిక చేయుము :

- (1) A, B, C మరియు D
- (2) B మరియు D మాత్రమే
- (3) A మరియు D మాత్రమే
- (4) A మరియు C మాత్రమే

98. 2020 - 21 లో రంగాల వారీ TS-iPASS పెట్టుబడి (కోట్ల రూపాయలలో) ఆధారంగా క్రింది వాటిని అదోవణ క్రమంలో అమర్చుము :

- A. సౌర మరియు ఇతర పునరుత్పాదక ఇంధనం
- B. థర్మల్ విద్యుత్ ప్లాంట్లు
- C. ఎరువులు
- D. ఫార్మాస్యూటికల్ మరియు రసాయనాలు

సరైన క్రమాన్ని ఎంచుకోవండి :

- (1) C, D, B, A
- (2) B, A, D, C
- (3) A, B, C, D
- (4) B, C, D, A



99. క్రూన్ జెండర్ వర్షాన్ని (ఫ్రాట్టింగ్ ఆఫ్ రైట్స్) యాక్ట్ 2019 ప్రకారం ఈ క్రిందివారిలో ఎవరు క్రూన్ జెండర్ వర్షాన్ని గుర్తించు వ్యవహారం వ్యత్యాసం జారీ చేయవచ్చు :

- (1) ఎన్నికైన గ్రామ పంచాయతీ లేదా మున్సిపాలిటీ వర్ధిల్లలో చైర్మన్
- (2) ఏరియా అనుబంధ మెడికల్ సూపరింటెండెంట్
- (3) జిల్లా మేజిస్ట్రేట్
- (4) ఏరియా అనుబంధ డిప్యూటీ మెడికల్ ఆఫీసర్

100. మహిళలకు వని గురించి కింది ఇచ్చిన ప్రకటనలను పరిగణించండి :

- A. OECD వేదీక ప్రకారం, సంరక్షణ వనిలో పురుషుల కంటే మహిళలు రెండు మంది వని రెట్లు ఎక్కువ సమయాన్ని గడుపుతారు.
- B. NSS 2019 వేదీక ప్రకారం మహిళలు వేతనం లేని గృహ సేవలో 299 ఏమిషాలు గడుపుతుండగా, పురుషులు 97 ఏమిషాలు గడుపుతున్నారు.
- C. గ్లోబల్ జెండర్ గ్యాప్ (2021) ప్రకారం భారత్ లో కేవలం 22.3% మంది మహిళలు మాత్రమే లేటర్ మార్కెట్ లో పాల్గొంటున్నారు.
- D. ప్రధాన మంత్రి గ్రామీణ డిజిటల్ సాక్షరతా అభియాన్ (PMGDISHA) గ్రామీణ ప్రాంతంలోని మహిళలు ఇంటి వద్ద సంరక్షణ వనిలో ఎక్కువ సమయం గడవడానికి వీలు కల్పించడం లక్ష్యంగా పెట్టుకుంది.

పై ప్రకటనలలో ఏవి సరైనవి ?

- (1) A, B, C మరియు D
- (2) A, B మరియు D మాత్రమే
- (3) A, C మరియు D మాత్రమే
- (4) A, B మరియు C మాత్రమే

101. బాల కార్మిక (నిషేధం మరియు నిర్మూలన) చట్టం ను, 1986 లో సేవలను చేసింది ఎవరు ?

- (1) గురుపాదస్వామి కమిటీ
- (2) కొకారి కమిషన్
- (3) నర్సింహన్ కమిటీ
- (4) దేవే కమిటీ

102. మాన్యువల్ స్కావింగ్లకు ఉపాధిని నిషేధించడం మరియు వారి పునరుద్ధరణ చట్టం, 2013 లోని క్లాజ్ 9 ఈ విధంగా పేర్కొంది

- (1) క్లాజ్ 8 లోని నిబంధనలను ఉల్లంఘించిన వారికి రెండేళ్ల వరకు జైలు శిక్ష లేదా రెండు లక్షల రూపాయల వరకు జరిమానా లేదా రెండూ విధించవచ్చు
- (2) క్లాజ్ 6 లోని నిబంధనలను ఉల్లంఘించిన వారికి రెండేళ్ల వరకు జైలు శిక్ష లేదా రెండు లక్షల రూపాయల వరకు జరిమానా లేదా రెండూ విధించవచ్చు
- (3) క్లాజ్ 7 లోని నిబంధనలను ఉల్లంఘించిన వారికి రెండేళ్ల వరకు జైలు శిక్ష లేదా రెండు లక్షల రూపాయల వరకు జరిమానా లేదా రెండూ విధించవచ్చు
- (4) క్లాజ్ 5 లోని నిబంధనలను ఉల్లంఘించిన వారికి రెండేళ్ల వరకు జైలు శిక్ష లేదా రెండు లక్షల రూపాయల వరకు జరిమానా లేదా రెండూ విధించవచ్చు

103. ఇంటర్నేషియల్ ఎడ్యుకేషన్ ఫర్ డెవలప్ మెంట్ ఏజెన్సీ (IEEC) పథకాన్ని ఏ సంవత్సరం ప్రారంభించారు

- (1) 1994
- (2) 1974
- (3) 1984
- (4) 1970

104. జెండర్ (లింగ) సమానత్వం దేనికి దోహదం చేస్తుంది :

- A. శాంతియుత మరియు స్థిరస్థావకత సమాజాలను సాధించడం
- B. సుస్థిర అభివృద్ధి
- C. ఆర్థిక వృద్ధి
- D. మహిళా అధిపత్యం

పై వాటిలో ఏవి సరైనవి ?

- (1) A, B, C మరియు D
- (2) A, C మరియు D మాత్రమే
- (3) A, B మరియు D మాత్రమే
- (4) A, B మరియు C మాత్రమే



105. గిరిజన ఉపప్రణాళికపై కింది ప్రకటనలను పదిగణించండి :
- A. గిరిజన ఉపప్రణాళిక 1974 - 75 లో అమలులోకి వచ్చింది.
- B. ప్రణాళిక మరియు ప్రణాళికేతరాలు విలీనమైన తర్వాత గిరిజన ఉపప్రణాళికను గిరిజన వ్యవహారాల మంత్రిత్వ శాఖ పెడ్యూల్డ్ తెగల కాంపాసెంట్ (STC) భాగంగా మార్చారు.
- C. రాష్ట్ర ప్రభుత్వాలు మొత్తం రాష్ట్ర ప్రణాళికకు సంబంధించి రాష్ట్రంలోని పెడ్యూల్డ్ తెగల జనాభా (సెన్సస్ 2011) నిమిత్తంలో గిరిజన ఉపప్రణాళిక విధులను కేటాయించారు.
- D. 2018 - 19 ఆర్థిక సంవత్సరంలో గిరిజన వ్యవహారాల మంత్రిత్వ శాఖకు పెడ్యూల్డ్ తెగ కాంపాసెంట్ ప్లాన్ పర్యవేక్షణ ఇవ్వబడింది.

పై ప్రకటనలలో ఏవి సరైనవి ?

- (1) A, B, C మరియు D
 (2) A, B మరియు D మాత్రమే
 (3) A, C మరియు D మాత్రమే
 (4) A, B మరియు C మాత్రమే

106. జత పర్చుము :

సుస్థిర అభివృద్ధి లక్ష్యాలు (SDG లు)	లక్ష్యాలు
A. సుస్థిర అభివృద్ధి లక్ష్యం 2-2	I. భవంచ ప్రసూతి మరణాల నిష్పత్తిని ఫలిత 1,00,000 సజీవ జననాలకు 70 కంటే తక్కువకు తగ్గించడం
B. సుస్థిర అభివృద్ధి లక్ష్యం 3-1	II. లైంగిక మరియు పునరుత్పత్తి ఆరోగ్య సంరక్షణ సేవలకు సార్వత్రిక ప్రాప్యతను నిర్ధారించడం
C. సుస్థిర అభివృద్ధి లక్ష్యం 3-3	III. అన్ని రకాల పోషకాహార లోపాలకు స్వస్తి
D. సుస్థిర అభివృద్ధి లక్ష్యం 3-7	IV. వియడ్స్, క్షయ, మలేరియా మరియు నిర్లక్ష్యం వేయబడిన ఉష్ణమండల అంటువ్యాధులను అంతం చేయడం.

సరైన సమాధానాన్ని ఎంచుకోవండి :

- (1) A-III; B-IV; C-I; D-II
 (2) A-III; B-I; C-IV; D-II
 (3) A-III; B-I; C-II; D-IV
 (4) A-II; B-I; C-IV; D-III

107. విసార్ (NISAR) గురించి కింది వ్యాఖ్యలలో సరైనవి ఏవి ?
- A. ఇది నాస మరియు ఇస్రో సంయుక్తంగా అభివృద్ధి చేసిన ఒక ధా పరిశీలన ఉపగ్రహం.
- B. ఎనిమిదేళ్ల తీతం 2014 లో నాసా మరియు ఇస్రో కలిపి దీనిని రూపొందించడానికి తలపెట్టినాయి.
- C. 2024 జనవరిలో సతీష్ ధావన్ స్పేస్ సెంటర్ నుండి దీనిని ప్రయోగించాలని అనుకున్నారు.
- D. ఇది హై ఎర్త్ ఆర్బిట్ (HEO) అల్ట్రావైటర్, ఇది కపిసం పదేళ్లపాటు పనిచేస్తుంది.

సరైన సమాధానాన్ని ఎంచుకోవండి :

- (1) A మరియు D మాత్రమే
 (2) A, B మరియు C మాత్రమే
 (3) A, B, C మరియు D
 (4) A మరియు B మాత్రమే

108. సాల్టాటువోసువో క్రూసె గురించి కింది వాటిలో సరైనవి ఏవి/ఏవి ?

- A. 60 మంది సభ్యులున్న నాగాలాండ్ అసెంబ్లీకి ఎన్నికైన తొలి మహిళలలో ఆమె ఒకరు.
- B. నాగాలాండ్ తొలి మహిళా మంత్రిగా ఆమె ప్రమాణ స్వీకారం చేశారు.
- C. ఆమెకు కిజ్యా మంత్రిత్వ శాఖను కేటాయించారు.

సరైన సమాధానాన్ని ఎంచుకోవండి :

- (1) B మరియు C మాత్రమే (2) A మరియు B మాత్రమే
 (3) A మాత్రమే (4) A, B మరియు C

109. కేరళ పిప్లీంగ్ మరియు ఇన్లాండ్ నావిగేషన్ కార్పొరేషన్ (KSINC) ఏప్రిల్ 2023 లో రాష్ట్రంలో పర్యాటకాన్ని ప్రోత్సహించడం కోసం మొదట సౌరశక్తితో సడిచే, డబుల్-డెక్, హైట్రీడ్ బోటును ప్రవేశపెట్టింది. ఆ పడవ పేరు ఏమిటి ?

- (1) సూర్యోదయం (2) సూర్యాంబు
 (3) సూర్య సక్షత్ర (4) సూర్య రథం

110. నేషనల్ ఇన్స్టిట్యూట్ ఆఫ్ మౌంటెనీరింగ్ మరియు అడ్యెంచర్ స్పోర్ట్స్ (NIMAS) బృందంచే జనవరి నుండి మార్చి 2023 వరకు 'సిక్స్-నేషన్ స్ప్రింగ్ ఎక్స్పెడిషన్ 2023' నిర్వహించినారు. ఈ స్ప్రింగ్ యాత్రలో కింది ఏ దేశాలు భాగంగా ఉండినాయి ?

- A. వియత్నాం B. బంగ్లాదేశ్
 C. కంబోడియా D. థాయిలాండ్
 E. శ్రీలంక

సరైన సమాధానాన్ని ఎంచుకోవండి :

- (1) A, B, C మరియు E మాత్రమే
 (2) A, C మరియు D మాత్రమే
 (3) A, C, D మరియు E మాత్రమే
 (4) A, B మరియు C మాత్రమే



111. కింది వ్యాఖ్యలను పరిగణించండి :
A. మునుపు మార్కెట్ హామరేజ్ షిఫర్ అవి ఏతీనే మార్కెట్ వైస్ వ్యాటి (MVD) WHO ప్రకారం, తీవ్రమైనది, తరచుగా ప్రాణాంతక రక్తస్రావ జ్వరంను కలిగిస్తుంది.

B. టాంజానియా ప్రభుత్వం తన వాయువ్య కగేరా ప్రాంతంలో మార్చి 2023 లో MVD వ్యాప్తిని నివేదించింది.

పై ప్రకటనలు ఏవి సరైనది/వి ?

- (1) A మరియు B రెండూ కావు
- (2) B మాత్రమే
- (3) A మరియు B రెండూ
- (4) A మాత్రమే

112. బ్రిక్స్ (BRICS) ఏర్పాటు చేసిన బహుపార్టీక ఆర్థిక సంస్థ అయిన న్యూ డెవలప్ మెంట్ బ్యాంక్ (NDB) కి అధిపతిగా 2023 లో కింది వారిలో ఎవరు ఎన్నికయ్యారు ?

- (1) కోహినోస్ గెర్బార్ట్స్ ప్రేడమ్, రక్షణ ఆఫీక మాజీ ప్రధాన మంత్రి
- (2) చైనా మాజీ ఆర్థిక మంత్రి లియూ కున్
- (3) అంటోన్ జెర్బినోవిచ్ సిబువనోవ్, రష్యా మాజీ ఆర్థిక మంత్రి
- (4) బ్రెజిల్ మాజీ అధ్యక్షురాలు దిల్మా రోసెట్

113. 'ఓబ్రియవోటు-3' రియోస్టర్ గురించి కింది వాటిలో సరైనవి ఏవి ?

- A. ఇది ఐరోపాలోని అత్యంత శక్తివంతమైన అణు రియోస్టర్.
- B. ఇది ఫ్రాన్స్ కు చెందిన అరేవా, అర్జెంటీనా కిందిన సీమెన్స్ ల ఉమ్మడి వెంచర్ గా అభివృద్ధి చేయబడింది.
- C. ఓబ్రియవోటు-3 విద్యాణం 2005 లో ప్రారంభమై, అసలు ప్రణాళిక నుండి 14 సంవత్సరాల ఆలస్యం తర్వాత ఇప్పుడు సిద్ధంగా వుంది.
- D. యూరోపియన్ దేశాలు రష్యా నుండి చమురు, గ్యాస్, ఇతర విద్యుత్ సరఫరాలను విరివేసేసిన తరుణంలో ఇంధన భద్రతను సాధించడానికి డెల్టాయంకు ఇది సహాయ పడుతుంది.

సరైన సమాధానాన్ని ఎంచుకొనుము :

- (1) B, C మరియు D మాత్రమే
- (2) A, B మరియు C మాత్రమే
- (3) A, B, C మరియు D
- (4) A మరియు B మాత్రమే

114. మార్చి 2023 లో నేపాల్ లోని భట్టాండలో ఒక్కరాజ్యసమితి ఒక ప్రాంతీయ కార్యశాలను నిర్వహించింది. ఈ కార్యశాల ధీమ పేరుతో ?

- (1) సస్పెన్షనుల్ టూరిజం ఇన్ ఆసియా అండ్ ది పసిఫిక్ : ప్రమోటింగ్ హార్టీ ప్రాక్టీసెస్
- (2) మెజరింగ్ టూరిజం : టెటర్ డాటా వర్ టెటర్ టూరిజం ఇన్ ఆసియా అండ్ ది పసిఫిక్
- (3) ఇకో-టూరిజం ఇన్ ఆసియా పసిఫిక్ : ప్రమోటింగ్ సస్పెన్షనుల్ టూరిజం
- (4) ఇంటర్ నేషనల్ టూరిజం : బాస్టింగ్ ఎకానమీస్ ఆఫ్ ఆసియా పసిఫిక్

115. వరల్డ్ హ్యాపీనెస్ రిపోర్ట్ (WHR), 2023 లో వాటి ర్యాంకుం ఆధారంగా ఈ కింది దేశాలను జతచేయండి :

దేశం	ర్యాంక్
A. ఐస్లాండ్	I. మొదటి ర్యాంక్
B. ఇజ్రాయెల్	II. రెండవ ర్యాంక్
C. ఫిన్లాండ్	III. మూడవ ర్యాంక్
D. డెన్మార్క్	IV. నాల్గవ ర్యాంక్
	V. ఐదవ ర్యాంక్

సరైన సమాధానాన్ని ఎంచుకొనుము :

- (1) A-III; B-IV; C-I; D-II
- (2) A-II; B-I; C-IV; D-V
- (3) A-II; B-III; C-I; D-IV
- (4) A-IV; B-II; C-III; D-V

116. కింది వ్యాఖ్యలను పరిగణించండి :

- A. ఎలక్ట్రిక్ వాహనాలు, ఎలక్ట్రానిక్ పరికరాల కోసం బ్యాటరీలో కీలకమైన లిథియం పెద్ద విక్షేపాన్ని కనుగొన్నట్లు ఇరాక్ మార్చి 2023 లో ప్రకటించింది.
- B. 2022 లో ప్రచురించబడిన యునైటెడ్ స్టేట్స్ జ్యూలాజికల్ సర్వే (USGS) నివేదిక ప్రకారం, ఆస్ట్రేలియా, చిలీ, అర్జెంటీనా మరియు చైనా ప్రధాన ఉత్పత్తి దారులుగా ప్రపంచ వ్యాప్తంగా మొత్తం 89 మిలియన్ టన్నుల లిథియం గుర్తించ బడింది.

పై ప్రకటనలు ఏవి సరైనది/వి ?

- (1) A మరియు B రెండూ కావు
- (2) B మాత్రమే
- (3) A మరియు B రెండూ
- (4) A మాత్రమే



117. 2021 - 22 సంవత్సరానికి పంచాయతీలకు సంబంధించి 2023 లో ఇప్పటివరకు 46 వాటిని పంచాయతీ అవార్డులలో తెలంగాణ రాష్ట్రం 13 వార్డులను గెలుచుకున్నది. ఈ కింది గ్రామాలను వాటి అవార్డు వర్గంలో జతపరచండి :

- గ్రామం మరియు తల్లి - అవార్డు వర్గం
- | | |
|-------------------------------------|----------------------------------|
| A. గోతంపూర్, భద్రాద్రి - కొత్తగూడెం | I. నీటి సుస్థిరత పంచాయతీ |
| B. నెల్లూరు, జనగామ | II. మహిళా స్వేచ్ఛాపూర్వక పంచాయతీ |
| C. కొంగట్పల్లి, మహబూబ్ నగర్ | III. ఆరోగ్యపంథమైన పంచాయతీ |
| D. ఏపూర్, సూర్యాపేట | IV. క్లీన్ అండ్ గ్రీన్ పంచాయతీ |
| | V. సామాజిక చర్యల కలిగిన పంచాయతీ |

సరైన సమాధానాన్ని ఎంచుకోవండి :

- (1) A-V; B-II; C-I; D-III
 (2) A-III; B-I; C-V; D-II
 (3) A-IV; B-II; C-I; D-III
 (4) A-II; B-III; C-IV; D-I

118. జనవరి 2023 లో విడుదలైన RBI వర్కింగ్ పేపర్ "భారత దేశంలో మార్కెట్ రుణంపై రాష్ట్రాల ఆర్థిక పనితీరు మరియు దిగుబడి వ్యాప్తి", నకు సంబంధించి ఈ కింది వ్యాఖ్యలను పరిగణించండి :

- A. 2014 - 15 నుంచి 2018 - 19 వరకు తెలంగాణ స్థూల రాష్ట్ర దేశీయోత్పత్తి (GSDP) కి సగటు అప్పు 16:1 శాతంగా వుంది.
 B. మొత్తం రెవెన్యూ రాబడుల్లో రాష్ట్ర సొంత ఆదాయ రాబడి శాతం వేగంగా క్షీణిస్తున్నది.

పై వ్యాఖ్యలలో ఏవి సరైనది/వి ?

- (1) A మరియు B రెండూ కావు
 (2) B మాత్రమే
 (3) A మరియు B రెండూ
 (4) A మాత్రమే

119. రాష్ట్ర రవాణా శాఖ మార్చి 2023 గణాంకం ప్రకారం, తెలంగాణలో 153 కోట్ల వాహనాలు ఉన్నాయి. కింది వాహనాలను వాటి సంఖ్య ఆధారంగా అవరోహణ క్రమంలో అమర్చండి :

- A. ఆటో రిక్షాలు
 B. హెలారు కార్లు
 C. గూర్చి క్వారీల వాహనాలు
 D. ట్రాక్టర్లు మరియు ట్రైలర్లు

సరైన క్రమాన్ని ఎంచుకోవండి :

- (1) A, C, D, B
 (2) B, D, A, C
 (3) A, B, D, C
 (4) D, A, B, C

120. 2022 - 23 లో సింగరేణి కాలరీస్ కంపెనీ రిమిడిడ్ (SCCL) పనితీరుకు సంబంధించి కింది వాటిని పరిగణించండి :

- A. గత ఆర్థిక సంవత్సరం కంటే ఎక్కువ బొగ్గును ఉత్పత్తి చేసింది.
 B. దాని స్వంత డర్బల్ పవర్ ప్లెన్ ను కోసం అంతర్గత వినియోగం కారణంగా గత ఆర్థిక సంవత్సరం కంటే కొంచెం తక్కువ బొగ్గును కవాణా చేసింది.
 C. బొగ్గు గనులు, ఓపెన్ కాస్ట్, భాగర్చు గనులు, ఎక్కువ భాగం 100% లక్ష్యాన్ని సాధించాయి.

పై ప్రకటనలు ఏవి సరైనది/వి ?

- (1) C మాత్రమే
 (2) A, B మరియు C
 (3) A మరియు C మాత్రమే
 (4) A మరియు B మాత్రమే

121. నేషనల్ ఆర్గాన్ అండ్ టిప్స్ ట్రాన్స్ ప్లాంట్ ఆర్గనైజేషన్ (NOTTO) ప్రకారం మరణించిన దాతలనుండి సేకరించిన అవయవ మార్పిడిలో కింది రాష్ట్రాలు 2022 లో మొదటి నాలుగు స్థానాలలో నిలిచినాయి. వీటిని అవరోహణ క్రమంలో అమర్చండి :

- A. తమిళ నాడు
 B. మహారాష్ట్ర
 C. తెలంగాణ
 D. కర్ణాటక

సరైన క్రమాన్ని ఎంచుకోవండి :

- (1) D, B, C, A
 (2) C, A, B, D
 (3) C, D, B, A
 (4) B, C, A, D

122. భారత దేశం G-20 ప్రసిడెన్సీలో స్వార్జీవ్ 20 ఎంజీజీఎంబి గ్రూప్ రెండవ సమావేశం మార్చి 2023 లో గాంజీటాక్లో జరిగింది. దీనికి సంబంధించి కింది వాటిని పరిగణించండి :

- A. మార్గదర్శకత్వం, మార్కెట్ యాక్సెస్, నిధులు, స్వార్జీవ్ కు కీలకమైన అంశాలుగా గుర్తించబడ్డాయి.
 B. G-20 దేశాలలో నిధులు, విజ్ఞాన భాగస్వామ్యాన్ని సులభతరం చేయడానికి సేంగిల్ విండో ప్లాట్ ఫారమ్ ఆచరణాత్మక సైలెట్ చేయబడింది.
 C. జైనా చౌరస్లో షాంఘైలో, ఉమ్మడి స్వార్జీవ్ 20 ని స్థాపించాలని నిర్ణయం తీసుకున్నారు.

పై ప్రకటనలు ఏవి సరైనది/వి ?

- (1) A మరియు C మాత్రమే
 (2) A మరియు B మాత్రమే
 (3) A, B మరియు C
 (4) A మాత్రమే



123. పాఠ కట్టి 30 మార్కులలో సుర్వించేందుకు పాఠిక-ప్రంశ్న పరిగణనకు అభివృద్ధి చేసిన పరికరంగా నింపు ఏది ?
 (1) నేషనల్ ఇన్స్టిట్యూట్ ఆఫ్ డైరీ సైన్స్ మరియు టెక్నాలజీ (NIDST), అదియానా, పంజాబ్
 (2) ICT హైదరాబాద్
 (3) నేషనల్ డైరీ రిసెర్చ్ ఇన్స్టిట్యూట్ (NDRI), కర్నాట్, వార్కానా
 (4) IIT మద్రాస్

124. PM మిత్రా మగా టెక్నోలజీల్ పాఠ్యపుస్తకం ఈ కింది రాష్ట్రాలలో ఏర్పాటు చేస్తున్నట్లు భారత ప్రభుత్వం ప్రకటించింది :
 A. తమిళనాడు B. గుజరాత్
 C. త్రిపుర D. తెలంగాణ
 సరైన జవాబును ఎంచుకొనుము :
 (1) A, B మరియు D మాత్రమే
 (2) A, B, C మరియు D
 (3) A, C మరియు D మాత్రమే
 (4) B మరియు C మాత్రమే

125. వరల్డ్ సమ్మిట్ ఆన్ ది ఇన్ఫర్మేషన్ సొసైటీ (WSIS) జవాబుతులు 2023 ను గెలుచుకున్నది ఈ కింది వాటిలో ఏది ?
 (1) ఇండియా - ఇది స్టార్ట్ అప్ లకు ఆన్ లైన్ ఇన్ ఫోర్మేషన్ - ఇది స్టార్ట్ అప్ లకు ఆన్ లైన్ పేజ్యుటదులను సులభతరం చేస్తుంది
 (2) ఇండియా అడిట్ - ఇది GST విభాగాలలో ఆన్ లైన్ అడిట్ ను సులభతరం చేస్తుంది
 (3) ఇండియా ఆన్ లైన్ - ఇది ఆన్ లైన్ ఫిర్యాదుల పరిష్కార యంత్రాంగాన్ని సులభతరం చేస్తుంది
 (4) అడిట్ ఆన్ లైన్ - ఇది పంచాయితీ రాజ్ సంస్థలలో ఆన్ లైన్ అడిట్ ను సులభతరం చేస్తుంది

126. ఆస్ట్రా ఆవార్డ్ 2023 జవాబుతుని గెలుచుకున్న 'ది ఎలిఫెంట్ సెన్సార్స్' డాక్యుమెంటరీ గురించి ఈ కింది వ్యాఖ్యలు పరిగణించండి :
 A. ఈ డాక్యుమెంటరీ బొమ్మన్, బెల్గీ అనే స్థానిక జంట ఒక అవార పిల్ల ఏనుగును సంరక్షిస్తున్న కథను చెబుతుంది.
 B. ఈ డాక్యుమెంటరీని కర్ణాటకలోని కొడగులో గం వాగవోల్ నేషనల్ పార్కులో చిత్రీకరించారు.
 సరైన జవాబు ఏది సరైనవి/ది ?
 (1) A మరియు B రెండూ కావు
 (2) B మాత్రమే
 (3) A మరియు B రెండూ
 (4) A మాత్రమే

127. "ఇల్ టుట్ మిష్ రెండు పాఠాలి సింహం విగ్రహం చెక్కిందాడు. వాటి మెడలో గంటలు కట్టించాడు. ఎవరైనా ఈ గంటలు మోగించి సుల్తాన్ ముండ్ వ్యామం పొందవచ్చు." ఈ క్రింది రచయితలలో ఎవరు ఈ ప్రకటనను సమోడు చేశారు ?
 (1) మాలిక్ కుతుబ్-ఉద్-దీన్
 (2) ఇబ్న్ బటూటా
 (3) ఇసామి
 (4) మిర్జాత్-ఉస్-సీరాత్

128. అయితే సింహాసనం లేక శవపీఠిక (యా తక్, యా తక్) అనే సామెత ఏ దేశానిది ?
 (1) అరేబియా (2) తుర్కీస్టాన్
 (3) పర్షియా (4) హిందుస్థాన్

129. క్రింది వాటిని జత పరుచుము :
 చిత్రకారులు మోఘల్ రాజులు
 A. మీర్ సయ్యద్ అలీ I. హుమాయున్
 B. దశవంత్ II. అక్బర్
 C. ఉస్మాద్ మన్షూర్ III. జహాంగీర్
 D. మీర్ హాషిమ్ IV. షాజహాన్

- సరైన సమాధానాన్ని ఎంచుకొనుము :
 (1) A-III; B-I; C-IV; D-II
 (2) A-II; B-IV; C-I; D-III
 (3) A-I; B-III; C-II; D-IV
 (4) A-I; B-II; C-III; D-IV

130. అయితే ఫజల్ ప్రకారము, ఉన్న వస్త్రాలు తయారు చేయుటకు అక్బర్ వెయ్యి కాఠానాలను ప్రారంభించెను. ఈ క్రింది ప్రదేశములలో ఎక్కడ వీటిని స్థాపించెను ?
 (1) అమ్మకేసర్ (2) ధాకా
 (3) లాహోర్ (4) నూరత్

131. ఈ క్రింది వ్యాఖ్యానాలలో సరైన సమాధానము/లు కనుగొనుము :
 A. 1875 సంవత్సరములో ఆర్య సమాజ్ ను స్థాపించినది నరస్పతి ప్రారంభించెను.
 B. కర్మ కాండలను, మూఢ నమ్మకాలను వివేకానందుడు ఖండించెను.
 C. హిందూ మత వునర్జీవనము మరియు అలోపేతానికే దీప్య జ్ఞానులు దోహదం చేశారు.
 D. సీక్కు గురుద్వారాలను ప్రజ్వాలము చేసేందుకు 1920 లలో వెంజాట్ లో ఆకాలీ ఉద్యమము ప్రారంభమయింది.

- సరైన సమాధానాన్ని ఎంచుకొనుము :
 (1) A, B, C మరియు D
 (2) A, B మరియు D
 (3) B, C మరియు D
 (4) A, B మరియు C



132. "భారతదేశం యొక్క ఈ విజయం, మహారాష్ట్ర యొక్క ఈ ఆధారణం ఈ కార్మికుల యువరాజు ఆతనిని చూసి అనుకరించడానికి ప్రయత్నించండి." అని గోపాల కృష్ణ గోఖలే గురించి ఎవరు వ్యాఖ్యానించారు?

- (1) జి.వి. జోషి
- (2) బాల్ గంగాధర్ తిలక్
- (3) మహాత్మా గాంధీ
- (4) బి.ఆర్. నంద

133. దక్షిణ భారత దేశం నాట్యానికి సంబంధించిన స్వచ్ఛమైన శాస్త్రీయ పద్ధతులకు నిలయం. ఆంధ్ర మరియు తెమిళనాడులో, దేవదాశీలు ఒంటి నృత్యము మరియు నృత్య-నాటకములను ప్రదర్శిస్తూ ఈ నృత్య సంప్రదాయాన్ని సజీవంగా ఉంచారు. దక్షిణ భారత దేశంలో ఈ నృత్య నాటకాలను ఏమని పిలుస్తారు ?

- (1) ఆలంబనం
- (2) కురవంజీలు
- (3) ఆంగిక అభినయం
- (4) చౌ నృత్యము

134. సిక్కులకు సంబంధించి క్రింది ఫలితాలను పరిగణించుము :

- A. గోయిండ్ వాల్ గ్రామంలో గురు అమర్ దాస్ నిర్మించిన 84 మెట్ల బావి సిక్కుల మొదటి పుణ్య క్షేత్రం అయింది.
- B. 1589 లో గురు అర్జున్ దేవ్ అమృత్ సర్ క్ హార్ మందిర్ సాహిబ్ దేవాలయం (స్వర్ణ దేవాలయం) నిర్మించాడు.
- C. హార్ మందిర్ సాహిబ్ ఎదురుగా అకాల్ తక్త్ అని పిలువబడే ఒక ఎత్తైన వేదికను గురు హర్ గోవింద్ నిర్మించాడు.
- D. 1699 లో గురు గోవింద్ సింగ్ శివాలిక్ వర్షాత ప్రాంతంలోని అనంధ్ పూర్ లో 'ఖాల్సా'ను ప్రవేశ పెట్టి అక్కడ స్థాపించాడు.

పైన ఇవ్వబడిన ప్రకటనలలో ఏవి సరైనవి ?

- (1) A, B, C మరియు D
- (2) A, B మరియు C
- (3) B, C మరియు D
- (4) A మరియు B

135. అజీవిక తత్వశాస్త్రం ప్రకారం, ఒక పక్షి తమిళాన్ని నిర్ణయించే ప్రధాన భావం ఏది ?

- (1) నియాతి
- (2) ధర్మ
- (3) అర్థ
- (4) కర్మ

136. సరికాని జత/జతలను గుర్తించుము :

- | | | |
|----|--------|------------------|
| | రచయిత | రచన |
| A. | భాస | బ్రహ్మర చారుడత్త |
| B. | దండీన్ | దశకుమారచరిత్ర |
| C. | సుబంధు | వాసవదత్త |
| D. | భారవి | రావణవధ |

- (1) C మరియు D మాత్రమే
- (2) B మాత్రమే
- (3) A మరియు D మాత్రమే
- (4) A మాత్రమే

137. ఈ క్రింది జతలలో ఏవి సరైనవి కాదు :

- | | | |
|----|---------------------|---------------------|
| A. | సోమనాథ ఆలయం | : సోంకీలు |
| B. | కంఠారియ మహాదేవ ఆలయం | : చాహానులు |
| C. | లయిహోల్ ఆలయం | : బాదామి చాళుక్యులు |
| D. | కోణార్క ఆలయం | : చండేలులు |

- (1) A మరియు D మాత్రమే
- (2) B మరియు C మాత్రమే
- (3) B మరియు D మాత్రమే
- (4) A మరియు B మాత్రమే

138. వరంగల్ కోట మరియు కోటలోని లోపల కట్టడములను పరిగణించుము :

- A. వరంగల్ కోటలోని పితాబ్ ఖాన్ చే నిర్మించబడ్డ 'కుషీ మహల్', మాండులోని 'హిందోల మహల్' యొక్క సమానం.
- B. ప్రతాపచరిత్ర, సిద్దేశ్వర చరిత్ర మరియు క్షీరాభిరామము వరంగల్ కోటను గురించి విలువైన సమాచారము తెలుపుచున్నాయి.
- C. ప్రతాపచరిత్ర గ్రంథము ప్రకారము వరంగల్ కోటలో 88 బురుజులు (కొట్టలములు) కల్గియున్నవి.
- D. శివయోగసారము అను గ్రంథము ప్రకారము వరంగల్ కోట శిలాపలకమును గణపతిదేవుడు వేయించెను.

పైన ఇవ్వబడిన ప్రకటనలలో ఏవి సరైనవి ?

- (1) A మరియు D మాత్రమే
- (2) B మరియు C మాత్రమే
- (3) C మరియు D మాత్రమే
- (4) A మరియు B మాత్రమే



139. అగ్ని శీలలు సంబంధించిన క్రింది ప్రకటనలను పరిగణించండి :

- A. అగ్ని శీలలు కఠిన రేణు స్ఫటికాకారంగా ఉంటాయి.
- B. వాటికి ఎవ్వరైనా శీలం వంటి పొరలు ఉండవు.
- C. రసాయన క్రైస్టల్స్ వల్ల అవి తక్కువగా ప్రభావితమవుతాయి.
- D. అగ్ని శీలల్లో శీలాళాలు ఉండవు.

పైన ఇవ్వబడిన ప్రకటనలలో ఏవి సరైనవి ?

- (1) A, B, C మరియు D
- (2) B మరియు C మాత్రమే
- (3) B, C మరియు D మాత్రమే
- (4) A మరియు B మాత్రమే

140. క్రింది సముద్ర ప్రవాహాలు మరియు వాటి స్థానం / రకాలను పరిశోధించండి :

సముద్ర ప్రవాహాలు	స్థానం / రకం
A. లింగులా కరెంట్	I. వెచ్చని ప్రవాహం
B. కురోషిమో కరెంట్	II. శీతల ప్రవాహం
C. ఉత్తర అట్లాంటిక్ డ్రైఫ్ట్	III. పసిఫిక్ మహా సముద్రం
D. ఆసుల్లాస్ కరెంట్	IV. హిందూ మహాసముద్రం

పైన సమాధానాన్ని ఎంచుకోవండి :

- (1) A-II; B-III; C-I; D-IV
- (2) A-III; B-IV; C-I; D-II
- (3) A-IV; B-III; C-I; D-II
- (4) A-II; B-III; C-IV; D-I

141. భారత జనగణన వారి జనాభా అభారంగా పట్టణాలను అరు వర్గాలుగా వర్గీకరించింది. కింది వాటిలో ఏది సరిగ్గా సరిపోలేదు ?

- (1) 5,000 కంటే తక్కువ జనాభా కలిగిన షాస్ VI పట్టణాలు
- (2) 30,000 నుండి 49,999 జనాభాలో షాస్ III పట్టణాలు
- (3) 5,000 నుండి 9,999 జనాభా కలిగిన షాస్ V పట్టణాలు
- (4) 50,000 నుండి 99,999 జనాభా కలిగిన షాస్ II పట్టణాలు

142. కింది అధునిక భారతీయ భాషలు (మటుంబం) మరియు రాష్ట్రాలను/వి.ప్రా. పరిశోధించండి :

భాషలు (మటుంబం)	రాష్ట్ర/వి.ప్రా.
A. ఆస్ట్రోక్	I. మేఘాలయ
B. భాషిడ	II. కేరళ
C. చైనా-టిబెటన్	III. అరుణాచల్ ప్రదేశ్
D. ఇండో-యూరోపియన్	IV. అమ్మో మరియు కాశ్మీర్

పైన సమాధానాన్ని ఎంచుకోవండి :

- (1) A-I; B-II; C-III; D-IV
- (2) A-IV; B-II; C-III; D-I
- (3) A-IV; B-I; C-II; D-III
- (4) A-II; B-I; C-III; D-IV

143. 'జయదేవ్ జీ' నెదర్లాండ్స్ లోని ఒక భాగం నుండి తిరిగి పొందబడిన తొలి ప్రాంతాలకు ప్రసిద్ధి చెందిన :

- (1) గిజిల్
- (2) డైక్
- (3) కాస్యస్సు
- (4) పోల్డర్

144. దక్షిణ తెలంగాణ ఆగ్నే-కైమాటీక్ కోన్ కు సంబంధించిన కింది ప్రకటనలను పరిగణించండి :

- A. మెద్యల్-మెల్కాజిగిరి, పనపర్తి, రంగారెడ్డి మరియు వికారాబాద్ జిల్లాలు ఈ కోన్ పరిధిలోకి వస్తాయి.
- B. వార్షిక వర్షపాతం (జూన్ నుండి మే వరకు) 610 నుండి 850 మి.మీ. వరకు ఉంటుంది. వేసవిలో కనిష్ట మరియు గరిష్ట ఉష్ణోగ్రతలు 32°C - 38°C మధ్య ఉంటాయి.
- C. ఈ కోన్ లో ప్రధానంగా ఒండ్రు నేలలు ఉన్నాయి.

పైన ఇవ్వబడిన ప్రకటనలలో ఏవి సరైనవి ?

- (1) A, B మరియు C
- (2) B మరియు C మాత్రమే
- (3) A మరియు C మాత్రమే
- (4) A మరియు B మాత్రమే



145. తెలంగాణ ఐ. టీ. పరిశ్రమకు సంబంధించిన కింది ప్రకటనను పరిగణించండి :

- A. 2014 - 15 లో తెలంగాణ నుంచి ఐ. టీ. ఎగుమతులు ₹ 66,276 కోట్లు, దాదాపు మూడు రేట్లు పెరిగి 2021 - 22 నాటికి ₹ 1,83,569 కోట్లు.
- B. గ్లోబ్ ఇన్ డ్రెస్సింగ్ విధానం ద్వారా, హైదరాబాద్ వ్యక్తిమ ప్రాంతం దాటి తమ ఐ. టీ. యూనిట్లను విస్తరించే లేదా స్థాపించే కంపెనీలను ప్రభుత్వం ప్రత్యేక ప్రోత్సాహకాలను అందిస్తుంది.

పై ప్రకటనలు ఏవి సరైనది/వి ?

- (1) A మరియు B రెండూ కావు
(2) B మాత్రమే
(3) A మరియు B రెండూ
(4) A మాత్రమే

146. తెలంగాణ రాష్ట్రంలోని (2020 - 21) ఆయా జిల్లాల మొత్తం భౌగోళిక విస్తీర్ణంలో, ఆటవి ప్రాంతంలో అత్యధిక శాతం వాటా కలిగిన మొదటి మూడు జిల్లాలను గుర్తించండి.

- (1) భద్రాద్రి కొత్తగూడెం, కుమ్రం టీమ్ ఆసిఫాబాద్ మరియు అదిలాబాద్
(2) ములుగు, భద్రాద్రి కొత్తగూడెం మరియు కుమ్రం టీమ్ ఆసిఫాబాద్
(3) ములుగు, కుమ్రం టీమ్ ఆసిఫాబాద్ మరియు భద్రాద్రి కొత్తగూడెం
(4) ములుగు, జయశంకర్ భుపాలపల్లి మరియు కుమ్రం టీమ్ ఆసిఫాబాద్

147. 2011 జనాభా లెక్కల ప్రకారం, నూతనంగా ఏర్పడిన కింది జిల్లాల్లో 40% శాతం కంటే ఎక్కువ వట్టణ జనాభా ఉన్న జిల్లా ఏది ?

- (1) మంచిర్యాల
(2) నంగారెడ్డి
(3) పెద్దవర్షి
(4) వరంగల్

148. కింది జతలను పరిగణించండి :

- | | |
|---------------------------|--------------|
| ఇసుము మరియు ఉమ్మి పరిశ్రమ | రాష్ట్రం |
| A. ఢిల్లాయ్ | : దత్తీసిగర్ |
| B. బోకారో | : జార్ఖండ్ |
| C. దోర్నా | : మహారాష్ట్ర |
| D. ధైతరీ | : ఒడిశా |

సరైన జతలను ఎంచుకోవండి :

- (1) A, B, C మరియు D
(2) B మరియు C మాత్రమే
(3) A, B మరియు D మాత్రమే
(4) A మరియు B మాత్రమే

149. భారత రేకంబ్ ఋతు వచనాల పద్ధతాతంపై 'మస్కూరీన్ ప్లా' ప్రభావం గురించి క్రింది ప్రకటనలను చదవండి :

A. 'మస్కూరీన్ ప్లా' అనేది పర్షియాలో (ఋతువచన) మస్కూరీన్ దీప్తిం (దక్షిణ హిందూ మహాసముద్రంలో) చుట్టూ కురిపించే అల్పవీడన ప్రాంతం.

B. 'మస్కూరీన్ ప్లా' దక్షిణ అరేబియా సముద్రం గుండా త్రాస-ఉక్కల్ రియల్ ప్రవాహానికి బాధ్యత వహిస్తుంది మరియు ఇది దక్షిణ అర్ధగోళ అనుసంధానంగా వదిలేస్తుంది.

పై ప్రకటనలు ఏవి సరైనది/వి ?

- (1) A మరియు B రెండూ కావు
(2) B మాత్రమే
(3) A మరియు B రెండూ
(4) A మాత్రమే

150. కెన్-బెల్టా నది లింకు ప్రాజెక్ట్ (KBLP) నీటి పారుదలకి సంబంధించి క్రింది ప్రకటనలను పరిగణించండి :

A. ఉత్తర ప్రదేశ్ లోని వూర్యాంచల్ ప్రాంతం నీటి భద్రత మరియు సామాజిక-ఆర్థిక అభివృద్ధికి ఇది కీలకం.

B. ప్రాజెక్టులో దౌధన్ అనకట్ట నిర్మాణం ద్వారా తెల్యా నది నుండి కెన్ నదికి నీటిని బదిలీ చేస్తారు.

పై ప్రకటనలు ఏవి సరైనది/వి ?

- (1) A మరియు B రెండూ కావు
(2) B మాత్రమే
(3) A మరియు B రెండూ
(4) A మాత్రమే