



TCSiON CAE

Notations :

- 1.Options shown in **green** color and with  icon are correct.
- 2.Options shown in **red** color and with  icon are incorrect.

Question Paper Name :	PC22171GENERALSTUDIESANDGENERALABILITIESGAZ2217 18th July 2023 Shift 1
Subject Name :	PC22171 GENERAL STUDIES AND GENERAL ABILITIES GAZ2217
Actual Answer Key :	Yes
Calculator :	None
Magnifying Glass Required? :	No
Ruler Required? :	No
Eraser Required? :	No
Scratch Pad Required? :	No
Rough Sketch/Notepad Required? :	No
Protractor Required? :	No
Show Watermark on Console? :	Yes
Highlighter :	No
Auto Save on Console?	Yes
Change Font Color :	No
Change Background Color :	No
Change Theme :	No
Help Button :	No
Show Reports :	No
Show Progress Bar :	No
Is this Group for Examiner? :	No

Examiner permission : Cant View

Show Progress Bar? : No

GENERAL STUDIES AND GENERAL ABILITIES

Section type : Online

Enable Mark as Answered Mark for
Review and Clear Response : Yes

Maximum Instruction Time : 0

Is Section Default? : null

Question Number : 1 Question Id : 630680271202 Is Question Mandatory : No Calculator :

None Response Time : N.A Think Time : N.A Minimum Instruction Time : 0

Correct Marks : 1 Wrong Marks : 0

The Telangana region was part of the _____ state from 17th September 1948 to 1st November 1956.

Options :

1. ✘ Mysore
2. ✔ Hyderabad
3. ✘ Pudukkottai
4. ✘ Travancore

Question Number : 1 Question Id : 630680271202 Is Question Mandatory : No Calculator :

None Response Time : N.A Think Time : N.A Minimum Instruction Time : 0

Correct Marks : 1 Wrong Marks : 0

తెలంగాణ ప్రాంతం 17 సెప్టెంబర్ 1948 నుండి 1 నవంబర్ 1956 వరకు _____ రాష్ట్రంలో భాగంగా ఉండేది.

Options :

1. ✘ మైసూర్
2. ✔ హైదరాబాద్
3. ✘ పుదుక్కోటై
4. ✘ ట్రావెన్కోర్

**Question Number : 2 Question Id : 630680271203 Is Question Mandatory : No Calculator :
None Response Time : N.A Think Time : N.A Minimum Instruction Time : 0**

Correct Marks : 1 Wrong Marks : 0

తెలంగాణకు ఉత్తరాన మహారాష్ట్ర, ఛత్తీస్‌గఢ్ మరియు పశ్చిమాన _____ రాష్ట్రం ఉంది.

Options :

1. ✘ పంజాబ్
2. ✘ కేరళ
3. ✔ కర్ణాటక
4. ✘ గుజరాత్

**Question Number : 2 Question Id : 630680271203 Is Question Mandatory : No Calculator :
None Response Time : N.A Think Time : N.A Minimum Instruction Time : 0**

Correct Marks : 1 Wrong Marks : 0

Telangana is surrounded by Maharashtra and Chhattisgarh in the North and _____ in the West.

Options :

1. ✘ Punjab

2. ✘ Kerala

3. ✔ Karnataka

4. ✘ Gujarat

Question Number : 3 Question Id : 630680271204 Is Question Mandatory : No Calculator :

None Response Time : N.A Think Time : N.A Minimum Instruction Time : 0

Correct Marks : 1 Wrong Marks : 0

The Telangana state came into existence on 2nd June 2014 with _____ Districts.

Options :

1. ✘ 5

2. ✔ 10

3. ✘ 15

4. ✘ 20

Question Number : 3 Question Id : 630680271204 Is Question Mandatory : No Calculator :

None Response Time : N.A Think Time : N.A Minimum Instruction Time : 0

Correct Marks : 1 Wrong Marks : 0

తెలంగాణ రాష్ట్రం 2 జూన్ 2014న _____ జిల్లాలతో ఏర్పడింది.

Options :

1. ✘ 5

2. ✔ 10

3. ✘ 15

4. ✘ 20

**Question Number : 4 Question Id : 630680271205 Is Question Mandatory : No Calculator :
None Response Time : N.A Think Time : N.A Minimum Instruction Time : 0**

Correct Marks : 1 Wrong Marks : 0

Which of the following are the two major interstate rivers of Telangana?

Options :

1. ✔ Krishna and Godavari

2. ✘ Ganga and Yamuna

3. ✘ Yamuna and Saraswati

4. ✘ Kaveri and Ganga

**Question Number : 4 Question Id : 630680271205 Is Question Mandatory : No Calculator :
None Response Time : N.A Think Time : N.A Minimum Instruction Time : 0**

Correct Marks : 1 Wrong Marks : 0

కింది వాటిలో తెలంగాణలోని రెండు ప్రధాన అంతర్జాతీయ నదులు ఏవి?

Options :

1. ✓ కృష్ణా మరియు గోదావరి
2. ✘ గంగా మరియు యమునా
3. ✘ యమునా మరియు సరస్వతి
4. ✘ కావేరి మరియు గంగ

**Question Number : 5 Question Id : 630680271206 Is Question Mandatory : No Calculator :
None Response Time : N.A Think Time : N.A Minimum Instruction Time : 0
Correct Marks : 1 Wrong Marks : 0**

As per Telangana state statistical abstract 2022, what is the density of the population of the state?

Options :

1. ✘ 212 per km²
2. ✓ 312 per km²
3. ✘ 412 per km²
4. ✘ 512 per km²

**Question Number : 5 Question Id : 630680271206 Is Question Mandatory : No Calculator :
None Response Time : N.A Think Time : N.A Minimum Instruction Time : 0
Correct Marks : 1 Wrong Marks : 0**

తెలంగాణ రాష్ట్ర గణాంక సారాంశం 2022 ప్రకారం, రాష్ట్ర జన సాంద్రత ఎంత?

Options :

1. ✘ ప్రతీ km^2 కు 212

2. ✔ ప్రతీ km^2 కు 312

3. ✘ ప్రతీ km^2 కు 412

4. ✘ ప్రతీ km^2 కు 512

Question Number : 6 Question Id : 630680271207 Is Question Mandatory : No Calculator :

None Response Time : N.A Think Time : N.A Minimum Instruction Time : 0

Correct Marks : 1 Wrong Marks : 0

As per Telangana state statistical abstract 2022, what is the Child Sex Ratio (Female per 1000 Males) in the state?

Options :

1. ✘ 912

2. ✔ 932

3. ✘ 952

4. ✘ 972

Question Number : 6 Question Id : 630680271207 Is Question Mandatory : No Calculator :

None Response Time : N.A Think Time : N.A Minimum Instruction Time : 0

Correct Marks : 1 Wrong Marks : 0

తెలంగాణ రాష్ట్ర గణాంక సారాంశం 2022 ప్రకారం, రాష్ట్రంలో పిల్లల లింగ నిష్పత్తి (ప్రతి 1000 మంది మగవారికి, ఆడవారు) ఎంత?

Options :

1. ✘ 912

2. ✔ 932

3. ✘ 952

4. ✘ 972

Question Number : 7 Question Id : 630680271208 Is Question Mandatory : No Calculator :

None Response Time : N.A Think Time : N.A Minimum Instruction Time : 0

Correct Marks : 1 Wrong Marks : 0

తెలంగాణ రాష్ట్ర గణాంక సారాంశం 2022 ప్రకారం, రాష్ట్ర లింగ నిష్పత్తి (ప్రతి 1000 మంది పురుషులకు, స్త్రీలు) ఎంత?

Options :

1. ✘ 998

2. ✔ 988

3. ✘ 968

4. ✘ 920

Question Number : 7 Question Id : 630680271208 Is Question Mandatory : No Calculator :

None Response Time : N.A Think Time : N.A Minimum Instruction Time : 0

Correct Marks : 1 Wrong Marks : 0

As per Telangana state statistical abstract 2022, what is the sex ratio (Female per 1000 Males) of the state?

Options :

1. ✘ 998

2. ✔ 988

3. ✘ 968

4. ✘ 920

Question Number : 8 Question Id : 630680271209 Is Question Mandatory : No Calculator :

None Response Time : N.A Think Time : N.A Minimum Instruction Time : 0

Correct Marks : 1 Wrong Marks : 0

మే 2023 నాటికి, తెలంగాణ వ్యవసాయ శాఖ మంత్రి ఎవరు?

Options :

1. ✘ కె చంద్రశేఖర్ రావు

2. ✔ సింగిరెడ్డి నిరంజన్ రెడ్డి

3. ✘ చామకూర మల్లా రెడ్డి

4. ✘ తన్నీరు హరీష్ రావు

Question Number : 8 Question Id : 630680271209 Is Question Mandatory : No Calculator :

None Response Time : N.A Think Time : N.A Minimum Instruction Time : 0

Correct Marks : 1 Wrong Marks : 0

As of May 2023, who is the Agriculture Minister of Telangana?

Options :

1. ✘ K Chandrashekar Rao
2. ✔ Singireddy Niranjan Reddy
3. ✘ Chamakura Malla Reddy
4. ✘ Thanneeru Harish Rao

Question Number : 9 Question Id : 630680271210 Is Question Mandatory : No Calculator :

None Response Time : N.A Think Time : N.A Minimum Instruction Time : 0

Correct Marks : 1 Wrong Marks : 0

కింది వాటిలో హైదరాబాద్ చాంబర్ ఆఫ్ కామర్స్ (ప్రస్తుత ఫెడరేషన్ ఆఫ్ తెలంగాణా ఛాంబర్స్ ఆఫ్ కామర్స్ అండ్ ఇండస్ట్రీ) (FTCCI) స్థాపించబడిన సంవత్సరం ఏది?

Options :

1. ✘ 1910
2. ✔ 1917
3. ✘ 1927
4. ✘ 1937

Question Number : 9 Question Id : 630680271210 Is Question Mandatory : No Calculator :

None Response Time : N.A Think Time : N.A Minimum Instruction Time : 0

Correct Marks : 1 Wrong Marks : 0

The Hyderabad Chamber of Commerce (now Federation of Telangana Chambers of Commerce and Industry) (FTCCI) was established in which of the following years?

Options :

1. ✘ 1910

2. ✔ 1917

3. ✘ 1927

4. ✘ 1937

Question Number : 10 Question Id : 630680271211 Is Question Mandatory : No Calculator :

None Response Time : N.A Think Time : N.A Minimum Instruction Time : 0

Correct Marks : 1 Wrong Marks : 0

మినిస్ట్రీ ఆఫ్ స్టాటిస్టిక్స్ అండ్ ప్రోగ్రామ్ ఇంప్లిమెంటేషన్ (MoSPI) ప్రకారం, తెలంగాణ 2022-23లో తలసరి ఆదాయంలో దేశంలోని అన్ని రాష్ట్రాలను అధిగమించి _____ స్థానంలో నిలిచింది.

Options :

1. ✔ 1వ

2. ✘ 2వ

3. ✘ 3వ

4. ✘ 4వ

Question Number : 10 Question Id : 630680271211 Is Question Mandatory : No Calculator :

None Response Time : N.A Think Time : N.A Minimum Instruction Time : 0

Correct Marks : 1 Wrong Marks : 0

Telangana ranked _____ in per capita income in 2022-23, surpassing all other states in the country, according to the Ministry of Statistics and Programme Implementation (MoSPI).

Options :

1. ✓ 1st

2. ✗ 2nd

3. ✗ 3rd

4. ✗ 4th

Question Number : 11 Question Id : 630680271212 Is Question Mandatory : No Calculator :

None Response Time : N.A Think Time : N.A Minimum Instruction Time : 0

Correct Marks : 1 Wrong Marks : 0

Read the following and select the correct answer.

A. Perini Sivatandavam dance form is also known as 'dance of warriors'.

B. Dhoom Dham is a composite art form which highlighted the injustice to people .

Options :

1. ✗ Only A

2. ✗ Only B

3. ✓ Both A and B

4. ✗ Neither A nor B

Question Number : 11 Question Id : 630680271212 Is Question Mandatory : No Calculator :
None Response Time : N.A Think Time : N.A Minimum Instruction Time : 0

Correct Marks : 1 Wrong Marks : 0

కింది వాటిని చదివి, సరైన సమాధానాన్ని ఎంచుకోండి.

- A. పేరిణి శివతాండవ నృత్య రూపాన్ని 'యోధుల నృత్యం' అని కూడా అంటారు.
B. ధూమ్ ధూమ్ అనేది ప్రజలకు జరిగిన అన్యాయాన్ని ఎత్తిచూపిన మిశ్రమ కళారూపం.

Options :

1. ✘ A మాత్రమే
2. ✘ B మాత్రమే
3. ✔ A మరియు Bలు రెండూ
4. ✘ A లేదా Bలలో ఏదీ కాదు

Question Number : 12 Question Id : 630680271213 Is Question Mandatory : No Calculator :
None Response Time : N.A Think Time : N.A Minimum Instruction Time : 0

Correct Marks : 1 Wrong Marks : 0

Select the correct pair:

	Museum	Place
A	Buddhist Heritage Museum	Nalgonda
B	Salar Jung Museum	Pillalamarri
C	District Heritage, Archaeological Museum	Nizamabad
D	Gandhi Centenary Museum	Karimnagar

Options :

1. ✓ A, C and D

2. ✘ A, B, and D

3. ✘ A, B and C

4. ✘ A, B, C and D

Question Number : 12 Question Id : 630680271213 Is Question Mandatory : No Calculator :

None Response Time : N.A Think Time : N.A Minimum Instruction Time : 0

Correct Marks : 1 Wrong Marks : 0

సరైన జంటను ఎంచుకోండి:

	మ్యూజియం	ప్రదేశం
A	బౌద్ధ వారసత్వ మ్యూజియం	నల్గొండ
B	సాలార్ జంగ్ మ్యూజియం	పిల్లలమట్టి
C	జిల్లా వారసత్వ, పురావస్తు మ్యూజియం	నిజామాబాద్
D	గాంధీ సెంటినరీ మ్యూజియం	కరీంనగర్

Options :

1. ✓ A, C మరియు D

2. ✘ A, B, మరియు D

3. ✘ A, B మరియు C

4. ✘ A, B, C మరియు D

Question Number : 13 Question Id : 630680271214 Is Question Mandatory : No Calculator :

None Response Time : N.A Think Time : N.A Minimum Instruction Time : 0

Correct Marks : 1 Wrong Marks : 0

On which date was the Buddhist Heritage Museum officially Inaugurated?

Options :

1. ✘ May 14, 2015

2. ✔ May 14, 2014

3. ✘ May 14, 2013

4. ✘ May 14, 2012

Question Number : 13 Question Id : 630680271214 Is Question Mandatory : No Calculator :

None Response Time : N.A Think Time : N.A Minimum Instruction Time : 0

Correct Marks : 1 Wrong Marks : 0

బౌద్ధ వారసత్వ మ్యూజియం అధికారికంగా ప్రారంభించబడిన తేదీ ఏది?

Options :

1. ✘ మే 14, 2015

2. ✔ మే 14, 2014

3. ✘ మే 14, 2013

4. ✘ మే 14, 2012

Question Number : 14 Question Id : 630680271215 Is Question Mandatory : No Calculator :

None Response Time : N.A Think Time : N.A Minimum Instruction Time : 0

Correct Marks : 1 Wrong Marks : 0

తెలంగాణలోని కింది ఆలయాలను అవి ఉన్న ప్రదేశాలతో జతచేయండి:

స్మారక కట్టడం	ప్రదేశం
A. శ్రీ జ్ఞాన సరస్వతి ఆలయం	1. నిర్మల్ పట్టణం
B. బిర్లా మందిరం	2. బాసర పట్టణం
C. వేణు గోపాల స్వామి ఆలయం	3. హైదరాబాద్
D. శమ్‌గర్డ్ కోట	4. కల్లూర్

Options :

1. ✘ A-1, B-2, C-3, D-4

2. ✔ A-2, B-3, C-4, D-1

3. ✘ A-3, B-4, C-1, D-2

4. ✘ A-4, B-1, C-2, D-3

Question Number : 14 Question Id : 630680271215 Is Question Mandatory : No Calculator :

None Response Time : N.A Think Time : N.A Minimum Instruction Time : 0

Correct Marks : 1 Wrong Marks : 0

Match the following temples of Telangana:

Monument	Location
A. Sri Gnana Saraswathi Temple	1. Nirmal Town
B. Birla Temple	2. Basar town
C. Lord Venu Gopala Swami Temple	3. Hyderabad
D. Fort Shamgardh	4. Kallur

Options :

1. ✘ A-1, B-2, C-3, D-4

2. ✔ A-2, B-3, C-4, D-1

3. ✘ A-3, B-4, C-1, D-2

4. ✘ A-4, B-1, C-2, D-3

**Question Number : 15 Question Id : 630680271216 Is Question Mandatory : No Calculator :
None Response Time : N.A Think Time : N.A Minimum Instruction Time : 0**

Correct Marks : 1 Wrong Marks : 0

Which of the following statements are correct?

A. Gadwal, in the state of Telangana is considered world famous for the handloom zari sarees.

B. Dokra metal crafts is the form of embroidery and mirror work.

C. Nirmal oil paintings use natural dyes for depicting themes.

D. Birdi crafts involves several stages like crafting, engraving etc.

Options :

1. ✘ A, B, C and D

2. ✘ A, B and C

3. ✔ A, C and D

4. ✘ A, B and D

Question Number : 15 Question Id : 630680271216 Is Question Mandatory : No Calculator :

None Response Time : N.A Think Time : N.A Minimum Instruction Time : 0

Correct Marks : 1 Wrong Marks : 0

కింది ప్రకటనలలో సరైనది ఏది?

- A. తెలంగాణ రాష్ట్రంలోని గద్వాల చేనేత జరీ చీరలకు ప్రపంచ ప్రఖ్యాతిగాంచింది.
- B. డోక్రా మెటల్ క్రాఫ్టింగ్ అనేది ఎంబ్రాయిడరీ మరియు మిర్రర్ వర్క్ యొక్క ప్రతిరూపం.
- C. నిర్మల్ జైల చిత్రాలలో ఇతివృత్తాలను వర్ణించడానికి సహజ రంగులను ఉపయోగిస్తారు.
- D. బిర్లీ చేతివృత్తి క్రాఫ్టింగ్, చెక్కడం మొదలైన అనేక దశలను కలిగి ఉంటుంది.

Options :

1. ✘ A, B, C మరియు D

2. ✘ A, B మరియు C

3. ✔ A, C మరియు D

4. ✘ A, B మరియు D

Question Number : 16 Question Id : 630680271217 Is Question Mandatory : No Calculator :

None Response Time : N.A Think Time : N.A Minimum Instruction Time : 0

Correct Marks : 1 Wrong Marks : 0

Which of the following statements is correct about the Bonalu Festival?

- A. Festival Celebrated during the month of Ashadam.
- B. Important part of this festival is Rangam whereby women standing atop of an earthen pot invokes Goddess Mahakali.

Options :

1. ✘ Only A

2. ✘ Only B

3. ✘ Neither A nor B

4. ✔ Both A and B

Question Number : 16 Question Id : 630680271217 Is Question Mandatory : No Calculator :

None Response Time : N.A Think Time : N.A Minimum Instruction Time : 0

Correct Marks : 1 Wrong Marks : 0

బోనాల పండుగ గురించి కింది వాటిలో సరైనది ఏది?

A. ఆషాఢ మాసంలో జరుపుకునే పండుగ.

B. ఈ పండుగలో ముఖ్యమైన భాగం రంగం, ఈ సమయంలో మహిళలు మట్టి కుండలో నైవేద్యం వండి దాన్ని తలపై పెట్టుకుని మహంకాళి దేవిని ప్రార్థిస్తారు.

Options :

1. ✘ A మాత్రమే

2. ✘ B మాత్రమే

3. ✘ A లేదా B లలో ఏదీ కాదు

4. ✔ A మరియు B లు రెండూ

Question Number : 17 Question Id : 630680271218 Is Question Mandatory : No Calculator :

None Response Time : N.A Think Time : N.A Minimum Instruction Time : 0

Correct Marks : 1 Wrong Marks : 0

తెలంగాణలో ఉన్న బసవన్న ఆలయం గురించి కింది వాటిలో సరైనది ఏది?

- A. ఇది కురవరం గ్రామంలో ఉంది.
- B. దీనిని శివాలయం అని కూడా అంటారు.
- C. ఇది దక్షిణం వైపు నుండి ప్రవేశంతో ఎత్తైన ఆదిస్థానంపై నిర్మించబడింది.
- D. దీని నిర్మాణంలో నీటిలో తేలియాడే ఇటుకలను ఉపయోగించారు.

Options :

1. ✘ A, B, C మరియు D

2. ✘ A, B మరియు D

3. ✘ B, C మరియు D

4. ✔ A, B మరియు C

Question Number : 17 Question Id : 630680271218 Is Question Mandatory : No Calculator :

None Response Time : N.A Think Time : N.A Minimum Instruction Time : 0

Correct Marks : 1 Wrong Marks : 0

Which of the following statement is correct about the Basavanna Temple located in Telangana?

- A. It is located in Kuravaram Village.
- B. It is also known as Siva Temple.
- C. It has built on high Adistana with entrance from Southern Side.
- D. Floating Bricks were used in its construction.

Options :

1. ✘ A, B, C and D

2. ✘ A, B and D

3. ✘ B, C and D

4. ✔ A, B and C

Question Number : 18 Question Id : 630680271219 Is Question Mandatory : No Calculator :

None Response Time : N.A Think Time : N.A Minimum Instruction Time : 0

Correct Marks : 1 Wrong Marks : 0

To determine the culture of Telangana, who sowed the seeds of an independent and self-sufficient village economy?

Options :

1. ✘ Kakatiyas

2. ✔ Satavahanas

3. ✘ Nizam's

4. ✘ Qutbshahis

Question Number : 18 Question Id : 630680271219 Is Question Mandatory : No Calculator :

None Response Time : N.A Think Time : N.A Minimum Instruction Time : 0

Correct Marks : 1 Wrong Marks : 0

తెలంగాణ సంస్కృతిని నిర్ణయించడానికి, స్వతంత్ర మరియు స్వయం సమృద్ధిగల గ్రామ ఆర్థిక వ్యవస్థకు బీజాలు వేసింది ఎవరు?

Options :

1. ✘ కాకతీయులు

2. ✓ శాతవాహనులు

3. ✘ నిజాంలు

4. ✘ కుతుబ్ షాహీలు

**Question Number : 19 Question Id : 630680271220 Is Question Mandatory : No Calculator :
None Response Time : N.A Think Time : N.A Minimum Instruction Time : 0**

Correct Marks : 1 Wrong Marks : 0

Select the correct statement about 'Chindu Bhagavatham'.

- A. It is performed widely across Telangana.
- B. It is generally about the struggle and Exploitation.
- C. It is theatre art form which combines dance, music, dialogue, costume.
- D. It gained its name from its presentation as it is interspersed with leaps and jumps.

Options :

1. ✘ A, B, C and D

2. ✓ A, C and D

3. ✘ A, B and C

4. ✘ B,C and D

**Question Number : 19 Question Id : 630680271220 Is Question Mandatory : No Calculator :
None Response Time : N.A Think Time : N.A Minimum Instruction Time : 0**

Correct Marks : 1 Wrong Marks : 0

'సింధు భాగవతం' గురించి సరైన ప్రకటనను ఎంచుకోండి.

A. ఇది తెలంగాణ వ్యాప్తంగా విస్తృతంగా ప్రదర్శించబడుతుంది.

B. ఇది సాధారణంగా పోరాటం మరియు దోపిడీకి సంబంధించినది.

C. ఇది నృత్యం, సంగీతం, డైలాగ్, కాస్ట్యూమ్లతో కూడిన థియేటర్ కళారూపం.

D. ఇది అల్లకల్లీల గంతులు మరియు ఎగరడాలతో విడదీయబడినందున దాని ప్రదర్శన నుండి దాని పేరును పొందింది.

Options :

1. ✘ A, B, C మరియు D

2. ✔ A, C మరియు D

3. ✘ A, B మరియు C

4. ✘ B,C మరియు D

Question Number : 20 Question Id : 630680271221 Is Question Mandatory : No Calculator :

None Response Time : N.A Think Time : N.A Minimum Instruction Time : 0

Correct Marks : 1 Wrong Marks : 0

Which of the following festivals in Telangana is famously known as 'Peerla panduga'?

Options :

1. ✘ Bonalu

2. ✘ Ugadi

3. ✔ Muharram

4. ✘ Dasara

Question Number : 20 Question Id : 630680271221 Is Question Mandatory : No Calculator :
None Response Time : N.A Think Time : N.A Minimum Instruction Time : 0

Correct Marks : 1 Wrong Marks : 0

కింది వాటిలో తెలంగాణలోని ఏ పండుగను 'పీల్ల పండుగ' అని కూడా పిలుస్తారు?

Options :

1. ✘ బోనాలు

2. ✘ ఉగాది

3. ✔ మొహర్రం

4. ✘ దసరా

Question Number : 21 Question Id : 630680271222 Is Question Mandatory : No Calculator :
None Response Time : N.A Think Time : N.A Minimum Instruction Time : 0

Correct Marks : 1 Wrong Marks : 0

As per the year of construction of dams, which of the following is correct in increasing order?

A. Bheemanpally Dam

B. Boath Dam

C. Bethampudi Dam

D. Boggulavagu Dam

Options :

1. ✘ A, B, C, D

2. ✓ A, C, D, B

3. ✘ A, B, D, C

4. ✘ B, D, C, A

Question Number : 21 Question Id : 630680271222 Is Question Mandatory : No Calculator :

None Response Time : N.A Think Time : N.A Minimum Instruction Time : 0

Correct Marks : 1 Wrong Marks : 0

కింది వాటిలో ఆనకట్టల నిర్మాణ సంవత్సరం ప్రకారం, ఆరోహణ క్రమంలో సరైనది ఏది?

A. భీమన్పల్లి ఆనకట్ట

B. బోత్ ఆనకట్ట

C. బేతంపూడి ఆనకట్ట

D. బొగ్గులవాగు ఆనకట్ట

Options :

1. ✘ A, B, C, D

2. ✓ A, C, D, B

3. ✘ A, B, D, C

4. ✘ B, D, C, A

Question Number : 22 Question Id : 630680271223 Is Question Mandatory : No Calculator :

None Response Time : N.A Think Time : N.A Minimum Instruction Time : 0

Correct Marks : 1 Wrong Marks : 0

As per Telangana Socio Economic Outlook 2023, what is the ranking of the Telangana State in Oil Extraction Rate (OER)?

Options :

1. ✓ 1st

2. ✗ 2nd

3. ✗ 3rd

4. ✗ 4th

Question Number : 22 Question Id : 630680271223 Is Question Mandatory : No Calculator : None Response Time : N.A Think Time : N.A Minimum Instruction Time : 0

Correct Marks : 1 Wrong Marks : 0

తెలంగాణ సామాజిక ఆర్థిక ఔట్ లుక్ 2023 ప్రకారం, చమురు వెలికితీత రేటు (OER)లో తెలంగాణ రాష్ట్రం ర్యాంకింగ్ ఎంత?

Options :

1. ✓ 1వ

2. ✗ 2వ

3. ✗ 3వ

4. ✗ 4వ

Question Number : 23 Question Id : 630680271224 Is Question Mandatory : No Calculator :

None Response Time : N.A Think Time : N.A Minimum Instruction Time : 0

Correct Marks : 1 Wrong Marks : 0

కింది వాటిని జతపరచండి:

పథకం/విధానాలు	ప్రయోజనం
A. రైతు బంధు పథకం	1. గర్భిణీ స్త్రీలకు మరియు నవజాత శిశువుకు అవసరమైన అన్ని వస్తువులను అందించడం.
B. హరితహారం	2. దాదాపు 22,000 కోట్ల రూపాయల వ్యయంతో దాదాపు 25 లక్షల ఎకరాలకు సాగునీటి వనరులు అందించడానికి ఐదు సంవత్సరాలలో దాదాపు 46,000 చెరువులను పునరుద్ధరించడం.
C. మిషన్ కాకతీయ	3. రాష్ట్రంలో ప్రస్తుతం ఉన్న 24% చెట్లను రాష్ట్ర మొత్తం భౌగోళిక ప్రాంతంలో 33%కి పెంచడం.
D. కేసీఆర్ కిట్	4. ఎకరానికి ₹5,000 మంజూరు చేయడం ద్వారా వ్యవసాయం మరియు ఉద్యాన పంటలకు పెట్టుబడి మద్దతును అందించడం.

Options :

1. ✘ A-2, B-4, C-1, D-3

2. ✘ A-3, B-1, C-2, D-4

3. ✔ A-4, B-3, C-2, D-1

4. ✘ A-4, B-2, C-1, D-3

Question Number : 23 Question Id : 630680271224 Is Question Mandatory : No Calculator :

None Response Time : N.A Think Time : N.A Minimum Instruction Time : 0

Correct Marks : 1 Wrong Marks : 0

Match the following:

Scheme/Policies	Benefit
A. Rythu Bandhu Scheme	1. To provide all the necessary items for pregnant women and the newborn baby.
B. Haritha Haram	2. Restoring around 46,000 tanks in five years to provide irrigation source to about 25 lakh acres spending ₹22,000 crore.
C. Mission Kakatiya	3. To increase the present 24% tree cover in the State to 33% of the total geographical area of the State.
D. KCR Kit	4. Providing investment support to Agriculture and Horticulture crops by way of grant of ₹5,000 per acre.

Options :

1. ✘ A-2, B-4, C-1, D-3
2. ✘ A-3, B-1, C-2, D-4
3. ✔ A-4, B-3, C-2, D-1
4. ✘ A-4, B-2, C-1, D-3

Question Number : 24 Question Id : 630680271225 Is Question Mandatory : No Calculator :

None Response Time : N.A Think Time : N.A Minimum Instruction Time : 0

Correct Marks : 1 Wrong Marks : 0

As per the NITI Aayog Health Index, what is the ranking of the Telangana State in the year reference year 2019-20?

Options :

1. ✘ 1st
2. ✘ 2nd

3. ✓ 3rd

4. ✘ 4th

Question Number : 24 Question Id : 630680271225 Is Question Mandatory : No Calculator :

None Response Time : N.A Think Time : N.A Minimum Instruction Time : 0

Correct Marks : 1 Wrong Marks : 0

నీతి (NITI) ఆయోగ్ ఆరోగ్య సూచిక ప్రకారం, ప్రస్తావన సంవత్సరం 2019-20లో తెలంగాణ రాష్ట్రానికి లభించిన ర్యాంకు ఎంత?

Options :

1. ✘ 1వ

2. ✘ 2వ

3. ✓ 3వ

4. ✘ 4వ

Question Number : 25 Question Id : 630680271226 Is Question Mandatory : No Calculator :

None Response Time : N.A Think Time : N.A Minimum Instruction Time : 0

Correct Marks : 1 Wrong Marks : 0

Arrange the following in Chronological order (first to last) of the year of launch:

- A. KCR Nutrition Kit
- B. Dalit Bandhu
- C. Shaadi Mubarak
- D. Mana Ooru-Mana Badi
- E. Kanti Velugu
- F. Arogya Lakshmi

Options :

- 1. ✘ A, B, C, D, E, F
- 2. ✘ F, E, B, C, D, A
- 3. ✘ D, F, A, B, C, E
- 4. ✔ C, F, E, B, D, A

Question Number : 25 Question Id : 630680271226 Is Question Mandatory : No Calculator :

None Response Time : N.A Think Time : N.A Minimum Instruction Time : 0

Correct Marks : 1 Wrong Marks : 0

కింది వాటిని వాటి ప్రారంభించిన సంవత్సరం ఆధారంగా కాలక్రమానుసారం (మొదటి నుండి చివరి వరకు) అమర్చండి:

A. కేసీఆర్ పోషకాహార కిట్

B. దళిత బంధు

C. షాదీ ముబారక్

D. మన ఊరు-మన బడి

E. కంటి వెలుగు

F. ఆరోగ్య లక్ష్మి

Options :

1. ✘ A, B, C, D, E, F

2. ✘ F, E, B, C, D, A

3. ✘ D, F, A, B, C, E

4. ✔ C, F, E, B, D, A

Question Number : 26 Question Id : 630680271227 Is Question Mandatory : No Calculator :

None Response Time : N.A Think Time : N.A Minimum Instruction Time : 0

Correct Marks : 1 Wrong Marks : 0

As per Telangana Socio Economic Outlook 2023, between 2014-15 and 2022-23, the state's contribution to India's nominal GDP increased from 4.1% to _____ .

Options :

1. ✘ 4.4%

2. ✔ 4.9%

3. ✘ 5.3%

4. ✘ 6.5%

**Question Number : 26 Question Id : 630680271227 Is Question Mandatory : No Calculator :
None Response Time : N.A Think Time : N.A Minimum Instruction Time : 0**

Correct Marks : 1 Wrong Marks : 0

తెలంగాణ సామాజిక ఆర్థిక ఔట్ లుక్ 2023 ప్రకారం, 2014-15 మరియు 2022-23ల మధ్య, భారతదేశ నామమాత్రపు GDPకి రాష్ట్ర సహకారం 4.1% నుండి ____ కి పెరిగింది.

Options :

1. ✘ 4.4%

2. ✔ 4.9%

3. ✘ 5.3%

4. ✘ 6.5%

**Question Number : 27 Question Id : 630680271228 Is Question Mandatory : No Calculator :
None Response Time : N.A Think Time : N.A Minimum Instruction Time : 0**

Correct Marks : 1 Wrong Marks : 0

According to the Economic Survey 2022-23, which of the following sustainable development goal is already achieved by the Telangana State?

Options :

1. ✘ Zero hunger

2. ✘ No poverty

3. ✓ Good health and well being

4. ✘ Quality education

Question Number : 27 Question Id : 630680271228 Is Question Mandatory : No Calculator :

None Response Time : N.A Think Time : N.A Minimum Instruction Time : 0

Correct Marks : 1 Wrong Marks : 0

ఆర్థిక సర్వే 2022-23 ప్రకారం, కింది వాటిలో తెలంగాణ రాష్ట్రం ఇప్పటికే ఏ సుస్థిర అభివృద్ధి లక్ష్యాన్ని సాధించింది?

Options :

1. ✘ ఆకలికి అలమటించే వారు లేకపోవడం

2. ✘ పేదరికం లేదు

3. ✓ మంచి ఆరోగ్యం మరియు శ్రేయస్సు

4. ✘ నాణ్యమైన విద్య

Question Number : 28 Question Id : 630680271229 Is Question Mandatory : No Calculator :

None Response Time : N.A Think Time : N.A Minimum Instruction Time : 0

Correct Marks : 1 Wrong Marks : 0

Which of the following statements is/are correct about 'KCR Kit' scheme?

- A. The scheme was launched in 2017.
- B. In this scheme, the mother is provided with financial assistance of ₹15,000.
- C. In this scheme, the mother is provided with financial assistance of ₹18,000 in the case of a girl child.
- D. After the delivery, the mother is provided with a kit consisting of 20 items.

Options :

- 1. ✓ Only A
- 2. ✗ Both A and D
- 3. ✗ Both C and D
- 4. ✗ Only A, B and D

Question Number : 28 Question Id : 630680271229 Is Question Mandatory : No Calculator :

None Response Time : N.A Think Time : N.A Minimum Instruction Time : 0

Correct Marks : 1 Wrong Marks : 0

కింది ప్రకటనలలో 'కేసీఆర్ కిట్' పథకం గురించి ఏది/వి సరైనది/వి?

- A. ఈ పథకం 2017లో ప్రారంభించబడింది.
- B. ఈ పథకంలో, తల్లికి ₹15,000 ఆర్థిక సహాయం అందించబడుతుంది.
- C. ఈ పథకంలో, ఆడపిల్ల పుడితే తల్లికి ₹18,000 ఆర్థిక సహాయం అందించబడుతుంది.
- D. ప్రసవం తర్వాత, తల్లికి 20 వస్తువులతో కూడిన కిట్ను అందజేస్తారు.

Options :

- 1. ✓ A మాత్రమే
- 2. ✗ A మరియు Dలు రెండూ

3. ✘ C మరియు Dలు రెండూ

4. ✘ A, B మరియు Dలు మాత్రమే

Question Number : 29 Question Id : 630680271230 Is Question Mandatory : No Calculator :

None Response Time : N.A Think Time : N.A Minimum Instruction Time : 0

Correct Marks : 1 Wrong Marks : 0

Consider the statements about Mana Ooru-Mana Badi Programme and identify which statements is/are correct:

A. It is aimed at all around development and creation of effective infrastructure in schools.

B. The programme was launched on 10 March 2022.

Options :

1. ✘ Both A and B

2. ✔ Only A

3. ✘ Only B

4. ✘ Neither A nor B

Question Number : 29 Question Id : 630680271230 Is Question Mandatory : No Calculator :

None Response Time : N.A Think Time : N.A Minimum Instruction Time : 0

Correct Marks : 1 Wrong Marks : 0

మన ఊరు-మన బడి కార్యక్రమానికి సంబంధించి ప్రకటనలను పరిగణించి, ఏ ప్రకటన/లు సరైనదో/వో వాటిని గుర్తించండి:

A. ఇది పాఠశాలలో ప్రభావవంతమైన అవస్థాపన అభివృద్ధి మరియు కల్పనను లక్ష్యంగా చేసుకుంది.

B. కార్యక్రమం 10 మార్చి 2022న ప్రారంభించబడింది.

Options :

1. ✘ A మరియు Bలు రెండూ

2. ✔ A మాత్రమే

3. ✘ B మాత్రమే

4. ✘ A లేదా Bలలో ఏదీ కాదు

Question Number : 30 Question Id : 630680271231 Is Question Mandatory : No Calculator :

None Response Time : N.A Think Time : N.A Minimum Instruction Time : 0

Correct Marks : 1 Wrong Marks : 0

Select the correct statement about the 'Telangana Ku Haritha Haaram', a flagship programme of the Telangana Government.

A. It envisages to increase the present 24% tree cover in the state to 30% of the total geographical area of the state.

B. B. 10 crore seedlings are proposed to be planted outside the notified forests area.

Options :

1. ✘ Both A and B

2. ✘ Only A

3. ✘ Only B

4. ✓ Neither A nor B

Question Number : 30 Question Id : 630680271231 Is Question Mandatory : No Calculator :

None Response Time : N.A Think Time : N.A Minimum Instruction Time : 0

Correct Marks : 1 Wrong Marks : 0

తెలంగాణ ప్రభుత్వ ప్రధాన కార్యక్రమం 'తెలంగాణకు హరిత హారం' గురించి సరైన ప్రకటనను ఎంచుకోండి.

A. రాష్ట్రంలో ప్రస్తుతం ఉన్న 24% చెట్ల విస్తీర్ణం రాష్ట్ర మొత్తం భౌగోళిక విస్తీర్ణంలో 30%కి పెంచాలని భావిస్తోంది.

B. ప్రకటిత అటవీ ప్రాంతం వెలుపల 10 కోట్ల విత్తనాలు నాటాలని ప్రతిపాదించారు.

Options :

1. ✘ A మరియు Bలు రెండూ

2. ✘ A మాత్రమే

3. ✘ B మాత్రమే

4. ✓ A లేదా Bలలో ఏదీ కాదు

Question Number : 31 Question Id : 630680271232 Is Question Mandatory : No Calculator :

None Response Time : N.A Think Time : N.A Minimum Instruction Time : 0

Correct Marks : 1 Wrong Marks : 0

Match the following.

Scheme	Year of the launching
A. Dalit Bandhu	1. 2021
B. Kanti Velugu	2. 2015
C. Mission Kakatiya	3. 2018
D. Aasara Pension	4. 2014

Options :

1. ✓ A-1, B-3, C-2, D-4

2. ✗ A-4, B-3, C-1 D-2

3. ✗ A-4, B-2, C-3, D-1

4. ✗ A-1, B-2, C-3, D-4

Question Number : 31 Question Id : 630680271232 Is Question Mandatory : No Calculator :

None Response Time : N.A Think Time : N.A Minimum Instruction Time : 0

Correct Marks : 1 Wrong Marks : 0

కింది వాటిని జతపరచండి.

పథకం	ప్రారంభించిన సంవత్సరం
A. దళిత బంధు	1. 2021
B. కంటి వెలుగు	2. 2015
C. మిషన్ కాకతీయ	3. 2018
D. ఆసరా పించను	4. 2014

Options :

1. ✓ A-1, B-3, C-2, D-4

2. ✗ A-4, B-3, C-1 D-2

3. ✗ A-4, B-2, C-3, D-1

4. ✗ A-1, B-2, C-3, D-4

**Question Number : 32 Question Id : 630680271233 Is Question Mandatory : No Calculator :
None Response Time : N.A Think Time : N.A Minimum Instruction Time : 0**

Correct Marks : 1 Wrong Marks : 0

Arrange the following in chronological order (first to last) as per the occurrence of event:

- A. The Indian Government appointed the States Reorganisation Committee to look into the various statehood demands.
- B. MK Vellodi was appointed as the first chief Minister of Hyderabad state.
- C. The Indian government conducted a military operation called Operation Polo to bring Hyderabad state into the Indian Union.

Options :

1. ✘ A-B-C

2. ✔ C-B-A

3. ✘ C-A-B

4. ✘ A-C-B

**Question Number : 32 Question Id : 630680271233 Is Question Mandatory : No Calculator :
None Response Time : N.A Think Time : N.A Minimum Instruction Time : 0**

Correct Marks : 1 Wrong Marks : 0

కింది వాటిని సంఘటన జరిగిన దాని ప్రకారం కాలక్రమానుసారం (మొదటి నుండి చివరి వరకు) అమర్చండి:

A. వివిధ రాష్ట్ర డిమాండ్లను పరిశీలించేందుకు భారత ప్రభుత్వం రాష్ట్రాల పునర్వ్యవస్థీకరణ కమిటీని నియమించింది.

B. హైదరాబాద్ రాష్ట్ర తొలి ముఖ్యమంత్రిగా బి.ఎం.కె.వెల్లోడి నియమితులయ్యారు.

C. హైదరాబాద్ రాష్ట్రాన్ని భారత సమాఖ్యలోకి విలీనం చేయడానికి భారత ప్రభుత్వం ఆపరేషన్ పోలో అనే సైనిక చర్యను నిర్వహించింది.

Options :

1. ✘ A – B – C

2. ✔ C – B – A

3. ✘ C – A – B

4. ✘ A – C – B

Question Number : 33 Question Id : 630680271234 Is Question Mandatory : No Calculator :

None Response Time : N.A Think Time : N.A Minimum Instruction Time : 0

Correct Marks : 1 Wrong Marks : 0

Which of the following statements is correct about Qutbshahis?

A. Sultan Quli Qutb Shah declared his independence in 1496.

B. Seven sultans of Qutbshahis ruled not only Telangana but the entire Telugu-speaking land including parts of present day Maharashtra and Karnataka.

Options :

1. ✔ Both A and B

2. ✘ Only A

3. ✖ Only B

4. ✖ Neither A nor B

Question Number : 33 Question Id : 630680271234 Is Question Mandatory : No Calculator :

None Response Time : N.A Think Time : N.A Minimum Instruction Time : 0

Correct Marks : 1 Wrong Marks : 0

కింది వాటిలో కుతుబ్‌షాహీల గురించి సరైనది ఏది?

A. సుల్తాన్ కులీ కుతుబ్ షా 1496లో స్వాతంత్ర్యం ప్రకటించుకున్నాడు.

B. కుతుబ్‌షాహీలకు చెందిన ఏడుగురు సుల్తానులు తెలంగాణను మాత్రమే కాకుండా ప్రస్తుత మహారాష్ట్ర మరియు కర్ణాటక ప్రాంతాలతో సహా మొత్తం తెలుగు మాట్లాడే ప్రాంతాన్ని పాలించారు.

Options :

1. ✔ A మరియు Bలు రెండూ

2. ✖ A మాత్రమే

3. ✖ B మాత్రమే

4. ✖ A లేదా Bలలో ఏదీ కాదు

Question Number : 34 Question Id : 630680271235 Is Question Mandatory : No Calculator :

None Response Time : N.A Think Time : N.A Minimum Instruction Time : 0

Correct Marks : 1 Wrong Marks : 0

Arrange the following kingdoms in chronological order (first to last).

- A. Kakatiyas
- B. Asaf Jahis
- C. Qutbshahis
- D. Satavahanas

Options :

- 1. ✘ A, B, C and D
- 2. ✘ A, C, B and D
- 3. ✔ D, A, C and B
- 4. ✘ C, B, D and A

Question Number : 34 Question Id : 630680271235 Is Question Mandatory : No Calculator :

None Response Time : N.A Think Time : N.A Minimum Instruction Time : 0

Correct Marks : 1 Wrong Marks : 0

కింది రాజ్యాలను కాలక్రమానుసారంగా అమర్చండి (మొదటి నుండి చివరి వరకు).

- A. కాకతీయులు
- B. అసఫ్ జాహీలు
- C. కుతుబ్ షాహీలు
- D. శాతవాహనులు

Options :

- 1. ✘ A, B, C మరియు D
- 2. ✘ A, C, B మరియు D

3. ✓ D, A, C మరియు B

4. ✘ C, B, D మరియు A

Question Number : 35 Question Id : 630680271236 Is Question Mandatory : No Calculator :

None Response Time : N.A Think Time : N.A Minimum Instruction Time : 0

Correct Marks : 1 Wrong Marks : 0

Match the event with the year it happened:

Event	Year
A. Appointment of State Reorganisation Commission	1. 1971
B. States Reorganisation Commission submitted its report	2. 1953
C. Indira Gandhi had called snap parliamentary elections in	3. 1955

Options :

1. ✓ A-2, B-3, C-1

2. ✘ A-1, B-2, C-3

3. ✘ A-3, B-2, C-1

4. ✘ A-2, B-1, C-3

Question Number : 35 Question Id : 630680271236 Is Question Mandatory : No Calculator :

None Response Time : N.A Think Time : N.A Minimum Instruction Time : 0

Correct Marks : 1 Wrong Marks : 0

సంఘటనను అది జరిగిన సంవత్సరంతో జతపరచండి:

సంఘటన	సంవత్సరం
A. రాష్ట్ర పునర్వ్యవస్థీకరణ కమిషన్ నియామకం	1. 1971
B. రాష్ట్రాల పునర్వ్యవస్థీకరణ కమిషన్ తన నివేదికను సమర్పించింది	2. 1953
C. ఇందిరా గాంధీ ముందస్తు పార్లమెంటు ఎన్నికలకు పిలిపునిచ్చారు	3. 1955

Options :

1. ✓ A – 2, B – 3, C – 1

2. ✘ A – 1, B – 2, C – 3

3. ✘ A – 3, B – 2, C – 1

4. ✘ A – 2, B – 1, C – 3

Question Number : 36 Question Id : 630680271237 Is Question Mandatory : No Calculator :

None Response Time : N.A Think Time : N.A Minimum Instruction Time : 0

Correct Marks : 1 Wrong Marks : 0

ప్రపంచ బ్యాంక్ తదుపరి అద్యక్షుడిగా నియమితులైన భారతీయ సంతతికి చెందిన అజయ్ బంగా, కింది వాటిలో ఏ కంపెనీకి పనిచేశారు?

Options :

1. ✓ జనరల్ అట్లాంటిక్ (General Atlantic)

2. ✘ మైక్రోసాఫ్ట్ (Microsoft)

3. ✘ ఐబిఎమ్ (IBM)

4. ✘ బెర్క్‌షైర్ హ్యాత్‌వే (Berkshire Hathaway)

Question Number : 36 Question Id : 630680271237 Is Question Mandatory : No Calculator :

None Response Time : N.A Think Time : N.A Minimum Instruction Time : 0

Correct Marks : 1 Wrong Marks : 0

Indian-origin Ajay Banga, who has been appointed as the next president of the World Bank, has worked for which of the following companies?

Options :

1. ✔ General Atlantic

2. ✘ Microsoft

3. ✘ IBM

4. ✘ Berkshire Hathaway

Question Number : 37 Question Id : 630680271238 Is Question Mandatory : No Calculator :

None Response Time : N.A Think Time : N.A Minimum Instruction Time : 0

Correct Marks : 1 Wrong Marks : 0

Shehan Karunatilaka, who received Booker Prize 2022, is from which of the following countries?

Options :

1. ✔ Sri Lanka

2. ✘ Myanmar

3. ✘ Indonesia

4. ✘ Malaysia

Question Number : 37 Question Id : 630680271238 Is Question Mandatory : No Calculator :

None Response Time : N.A Think Time : N.A Minimum Instruction Time : 0

Correct Marks : 1 Wrong Marks : 0

2022 బుకర్ ప్రైజ్ అందుకున్న షహాస్ కరుణాతిలక, కింది వాటిలో ఏ దేశానికి చెందినవారు?

Options :

1. ✔ శ్రీలంక

2. ✘ మయన్మార్

3. ✘ ఇండోనేషియా

4. ✘ మలేషియా

Question Number : 38 Question Id : 630680271239 Is Question Mandatory : No Calculator :

None Response Time : N.A Think Time : N.A Minimum Instruction Time : 0

Correct Marks : 1 Wrong Marks : 0

In which of the following places did Prime Minister Narendra Modi hold a meeting with Russian President Vladimir Putin at the Shanghai Cooperation Organisation (SCO) summit held in September 2022?

Options :

1. ✘ Moscow

2. ✘ Tehran

3. ✔ Samarkand

4. ✘ Ulaanbaatar

Question Number : 38 Question Id : 630680271239 Is Question Mandatory : No Calculator :

None Response Time : N.A Think Time : N.A Minimum Instruction Time : 0

Correct Marks : 1 Wrong Marks : 0

కింది వాటిలో సెప్టెంబరు 2022లో జరిగిన షాంఘై సహకార సంస్థ (SCO) శిఖరాగ్ర సమావేశంలో ప్రధాన మంత్రి నరేంద్ర మోడీ రష్యా అధ్యక్షుడు వ్లాదిమిర్ పుతిన్‌తో ఏ ప్రదేశంలో సమావేశమయ్యారు?

Options :

1. ✘ మాస్కో

2. ✘ టెహ్రాన్

3. ✔ సమర్కాండ్

4. ✘ ఉలాన్బాటర్

Question Number : 39 Question Id : 630680271240 Is Question Mandatory : No Calculator :

None Response Time : N.A Think Time : N.A Minimum Instruction Time : 0

Correct Marks : 1 Wrong Marks : 0

ఐక్యరాజ్య సమితి జనరల్ అసెంబ్లీ యొక్క 77వ సెషన్ (UNGA 77) కింద పేర్కొన్న ఏ నెలలో జరిగింది?

Options :

1. ✘ డిసెంబర్ 2022

2. ✘ నవంబర్ 2022

3. ✘ అక్టోబర్ 2022

4. ✓ ಸೆಪ್ಟೆಂಬರ್ 2022

**Question Number : 39 Question Id : 630680271240 Is Question Mandatory : No Calculator :
None Response Time : N.A Think Time : N.A Minimum Instruction Time : 0**

Correct Marks : 1 Wrong Marks : 0

In which of the following months was the 77th session of the UN General Assembly (UNGA 77) held?

Options :

1. ✘ December 2022

2. ✘ November 2022

3. ✘ October 2022

4. ✓ September 2022

**Question Number : 40 Question Id : 630680271241 Is Question Mandatory : No Calculator :
None Response Time : N.A Think Time : N.A Minimum Instruction Time : 0**

Correct Marks : 1 Wrong Marks : 0

In May 2023, Nepali Sherpa Kami Rita Sherpa, made a record by climbing Mount Everest for the _____.

Options :

1. ✘ 25th time

2. ✘ 26th time

3. ✓ 27th time

4. ✘ 28th time

**Question Number : 40 Question Id : 630680271241 Is Question Mandatory : No Calculator :
None Response Time : N.A Think Time : N.A Minimum Instruction Time : 0**

Correct Marks : 1 Wrong Marks : 0

మే 2023లో, నేపాలీ షెర్పా కమీ రీటా షెర్పా, _____ ఎవరెస్ట్ శిఖరాన్ని అధిరోహించి రికార్డు సృష్టించారు.

Options :

1. ✘ 25వ సారి

2. ✘ 26వ సారి

3. ✔ 27వ సారి

4. ✘ 28వ సారి

**Question Number : 41 Question Id : 630680271242 Is Question Mandatory : No Calculator :
None Response Time : N.A Think Time : N.A Minimum Instruction Time : 0**

Correct Marks : 1 Wrong Marks : 0

In 2023, which of the following companies launched a chatbot called Bard?

Options :

1. ✔ Google

2. ✘ Microsoft

3. ✘ IBM

4. ✘ Amazon

Question Number : 41 Question Id : 630680271242 Is Question Mandatory : No Calculator :

None Response Time : N.A Think Time : N.A Minimum Instruction Time : 0

Correct Marks : 1 Wrong Marks : 0

2023లో, കിംഗ് വാటిൽ ബാർഡ്(Bard) അൻ ചാർജ്ജ്‌സു ഖ കംപെൻ പ്രാരംഭിച്ചിంది?

Options :

1. ✔ ഗൂഗിൾ (Google)

2. ✘ മൈക്രോസോഫ്റ്റ് (Microsoft)

3. ✘ ഐബിം (IBM)

4. ✘ അമെജാൻ (Amazon)

Question Number : 42 Question Id : 630680271243 Is Question Mandatory : No Calculator :

None Response Time : N.A Think Time : N.A Minimum Instruction Time : 0

Correct Marks : 1 Wrong Marks : 0

What is the name of the Indian government's Massive Open Online Course (MOOC) platform, which provides educational opportunities for a vast number of university and college learners?

Options :

1. ✘ SWARAJYA

2. ✔ SWAYAM

3. ✘ SWADHIN

4. ✘ SVAVALAMBAN

Question Number : 42 Question Id : 630680271243 Is Question Mandatory : No Calculator :

None Response Time : N.A Think Time : N.A Minimum Instruction Time : 0

Correct Marks : 1 Wrong Marks : 0

అధిక సంఖ్యలో విశ్వవిద్యాలయాలు మరియు కళాశాల అభ్యాసకులకు విద్యా అవకాశాలను అందించే భారత ప్రభుత్వం యొక్క మాసీవ్ ఓపెన్ ఆన్‌లైన్ కోర్సు (MOOC) ప్లాట్‌ఫామ్ పేరు ఏమిటి?

Options :

1. ✘ స్వరాజ్య (SWARAJYA)

2. ✔ స్వయమ్ (SWAYAM)

3. ✘ స్వాధిన్ (SWADHIN)

4. ✘ స్వవలంబన్ (SVAVALAMBAN)

Question Number : 43 Question Id : 630680271244 Is Question Mandatory : No Calculator :

None Response Time : N.A Think Time : N.A Minimum Instruction Time : 0

Correct Marks : 1 Wrong Marks : 0

In February 2023, who was given a demo of the Digital India Mobile Van for enlightening citizens about G20 DEWG at the Sushma Swaraj Bhawan (Delhi)?

Options :

1. ✘ Manoj Kumar Singh

2. ✘ Alkesh Kumar Sharma

3.

✓ Amitabh Kant

4. ✘ Ravi Banal

Question Number : 43 Question Id : 630680271244 Is Question Mandatory : No Calculator :

None Response Time : N.A Think Time : N.A Minimum Instruction Time : 0

Correct Marks : 1 Wrong Marks : 0

ఫిబ్రవరి 2023లో, సుప్రీం స్వరాజ్ భవన్ (డెల్లీ)లో G20 DEWG గురించి పౌరులకు అవగాహన కల్పించడం కోసం డిజిటల్ ఇండియా మొబైల్ వ్యాన్ డెమో ఇచ్చినవారు ఎవరు?

Options :

1. ✘ మనోజ్ కుమార్ సింగ్

2. ✘ అల్కేష్ కుమార్ శర్మ

3. ✓ అమితాబ్ కాంత్

4. ✘ రవి బనాల్

Question Number : 44 Question Id : 630680271245 Is Question Mandatory : No Calculator :

None Response Time : N.A Think Time : N.A Minimum Instruction Time : 0

Correct Marks : 1 Wrong Marks : 0

Which of the following is a self-regulatory body for publishers of news and current affairs across India that was approved by the Union Ministry of Information and Broadcasting?

Options :

1. ✘ JEEVAN

2. ✘ VISHNU

3. ✘ RAMA

4. ✔ PADMA

Question Number : 44 Question Id : 630680271245 Is Question Mandatory : No Calculator :

None Response Time : N.A Think Time : N.A Minimum Instruction Time : 0

Correct Marks : 1 Wrong Marks : 0

కింది వాటిలో కేంద్ర సమాచార మరియు ప్రసార మంత్రిత్వ శాఖ ఆమోదించిన భారతదేశంలోని వార్తలు మరియు కరెంట్ అఫైర్స్ పబ్లిషర్లకు సంబంధించిన స్వీయ నియంత్రణ సంస్థ ఏది?

Options :

1. ✘ జీవన్ (JEEVAN)

2. ✘ విష్ణు (VISHNU)

3. ✘ రమ (RAMA)

4. ✔ పద్మ (PADMA)

Question Number : 45 Question Id : 630680271246 Is Question Mandatory : No Calculator :

None Response Time : N.A Think Time : N.A Minimum Instruction Time : 0

Correct Marks : 1 Wrong Marks : 0

Which of the following is NOT a correct statement about Strengthening, Upscaling and Nurturing Local Innovations for Livelihood (SUNIL) Programme?

- A. Technological Advancement for Rural Areas (TARA) programme was designed to provide long term Core support to S&T enable voluntary organisations working in rural and deprived areas to provide appropriate technological solutions and delivery.
- B. In 2020, the TARA programme has been evolved as SUNIL programme aiming to strengthen technology delivery system and creation of social enterprise models for Economically Weaker Section (EWS) of society.
- C. Under this scheme, the 56 S&T driven core support groups (CSGs) were supported to address specific challenges in identified regions across the country

Options :

- 1. ✘ Only A
- 2. ✘ Both A and B
- 3. ✘ Only B
- 4. ✔ Both B and C

**Question Number : 45 Question Id : 630680271246 Is Question Mandatory : No Calculator :
None Response Time : N.A Think Time : N.A Minimum Instruction Time : 0
Correct Marks : 1 Wrong Marks : 0**

కింది వాటిలో జీవనోపాధి కార్యచరణ కోసం స్థానిక ఆవిష్కరణలను బలోపేతం చేయడం, అభివృద్ధి చేయడం మరియు పెంపొందించడం (SUNIL) గురించి సరైన ప్రకటన కానిది ఏది?

- A. గ్రామీణ ప్రాంతాలలో సాంకేతిక అభివృద్ధి (TARA) కార్యక్రమం S&Tకి దీర్ఘకాలిక ప్రధాన మద్దతును అందించడానికి గ్రామీణ మరియు వెనుకబడిన ప్రాంతాలలో పనిచేసే స్వచ్ఛంద సంస్థలకు తగిన సాంకేతిక పరిష్కారాలు మరియు పంపిణీని అందించడానికి రూపొందించబడింది.
- B. 2020లో, TARA ప్రోగ్రామ్ అనేది టెక్నాలజీ డెలివరీ సిస్టమ్ను బలోపేతం చేయడం మరియు సమాజంలోని ఆర్థికంగా బలహీనమైన విభాగం (EWS) కోసం సామాజిక సంస్థ నమూనాలను రూపొందించడం లక్ష్యంగా SUNIL ప్రోగ్రామ్గా అభివృద్ధి చేయబడింది.
- C. ఈ పథకం కింద, దేశవ్యాప్తంగా గుర్తించబడిన ప్రాంతాలలో నిర్దిష్ట సవాళ్లను పరిష్కరించడానికి 56 S&T ద్వారా ప్రధాన మద్దతు సమూహాలు (CSGలు) మద్దతునిచ్చాయి.

Options :

1. ✘ A మాత్రమే
2. ✘ A మరియు B లు రెండూ
3. ✘ B మాత్రమే
4. ✔ B మరియు C లు రెండూ

Question Number : 46 Question Id : 630680271247 Is Question Mandatory : No Calculator :

None Response Time : N.A Think Time : N.A Minimum Instruction Time : 0

Correct Marks : 1 Wrong Marks : 0

Which of the following statements is true about the fundamental Right to Education?

- A. The Constitution (Eighty-sixth Amendment) Act, 2002 inserted Article 21-A in the Constitution of India which deals with the Right to Education.
- B. This article is related to providing free and compulsory education for all children in the age group of six to fourteen years as a Fundamental Right.

Options :

1. ✘ Only A
2. ✘ Only B
3. ✔ Both A and B
4. ✘ None of the options

Question Number : 46 Question Id : 630680271247 Is Question Mandatory : No Calculator :

None Response Time : N.A Think Time : N.A Minimum Instruction Time : 0

Correct Marks : 1 Wrong Marks : 0

కింది వాటిలో ప్రాథమిక హక్కు అయిన విద్య హక్కుకు సంబంధించి ఏది నిజం?

A. రాజ్యాంగం (ఎనబై ఆరవ సవరణ) చట్టం, 2002 భారత రాజ్యాంగంలో విద్యాహక్కు గల అధికరణం 21-A చేర్చబడింది.

B. ఈ అధికరణం ప్రాథమిక హక్కుగా ఆరు నుండి పదాలుగు సంవత్సరాల వయస్సు గల పిల్లలందరికీ ఉచిత మరియు నిర్బంధ విద్యను అందించడానికి సంబంధించినది.

Options :

1. ✘ A మాత్రమే
2. ✘ B మాత్రమే
3. ✔ A మరియు B లు రెండూ
4. ✘ ఎంపికలలో ఏదీ కాదు

Question Number : 47 Question Id : 630680271248 Is Question Mandatory : No Calculator :

None Response Time : N.A Think Time : N.A Minimum Instruction Time : 0

Correct Marks : 1 Wrong Marks : 0

Hindu Minority and Guardianship Act was passed in which of the following years?

Options :

1. ✓ 1956

2. ✗ 1957

3. ✗ 1958

4. ✗ 1959

Question Number : 47 Question Id : 630680271248 Is Question Mandatory : No Calculator :

None Response Time : N.A Think Time : N.A Minimum Instruction Time : 0

Correct Marks : 1 Wrong Marks : 0

హిందూ మైనారిటీ మరియు సంరక్షకత్వ చట్టం కింది ఏ సంవత్సరంలో ఆమోదించబడింది?

Options :

1. ✓ 1956

2. ✗ 1957

3. ✗ 1958

4. ✗ 1959

Question Number : 48 Question Id : 630680271249 Is Question Mandatory : No Calculator :

None Response Time : N.A Think Time : N.A Minimum Instruction Time : 0

Correct Marks : 1 Wrong Marks : 0

Which of the following statements is NOT true about the Protection of Children from Sexual Offences Act?

- A. Protection of Children from Sexual Offences law was passed in 2012.
- B. This act was enacted to protect children aged less than 8 from sexual assault sexual abuse, sexual harassment, and pornography.

Options :

1. ✘ Only A
2. ✔ Only B
3. ✘ Both A and B
4. ✘ None of the options

Question Number : 48 Question Id : 630680271249 Is Question Mandatory : No Calculator :

None Response Time : N.A Think Time : N.A Minimum Instruction Time : 0

Correct Marks : 1 Wrong Marks : 0

కింది వాటిలో లైంగిక నేరాల నుండి పిల్లలకు రక్షణ చట్టం గురించి నిజం కానిది ఏది?

- A. లైంగిక నేరాల నుంచి పిల్లలకు రక్షణ చట్టం 2012లో ఆమోదించబడింది.
- B. లైంగిక వేధింపులు, లైంగిక దాడులు మరియు పోర్నోగ్రఫీ నుండి 8 సంవత్సరాల కంటే తక్కువ వయస్సు ఉన్న పిల్లలను రక్షించడానికి ఈ చట్టం రూపొందించబడింది.

Options :

1. ✘ A మాత్రమే
2. ✔ B మాత్రమే
3. ✘ A మరియు B లు రెండూ

4. ✘ ఎంపికలలో ఏదీ కాదు

Question Number : 49 Question Id : 630680271250 Is Question Mandatory : No Calculator :

None Response Time : N.A Think Time : N.A Minimum Instruction Time : 0

Correct Marks : 1 Wrong Marks : 0

Which of the following statements related to the regulatory measures taken by the Central Government for the prevention, control, and abatement of air pollution in the country is NOT true?

- A. SAMBHAV app has been launched wherein air quality information is available to public along with provision for registering complaints against air polluting activities.
- B. The Central Government has notified a Comprehensive Action Plan (CAP) in 2015 identifying timelines and implementing agencies for actions identified for prevention, control and mitigation of air pollution in Delhi and NCR.
- C. The Central Government has launched National Clean Air Programme (NCAP) under the Central Sector 'Control of Pollution' Scheme.

Options :

1. ✘ Only A

2. ✔ A and B

3. ✘ Only B

4. ✘ B and C

Question Number : 49 Question Id : 630680271250 Is Question Mandatory : No Calculator :

None Response Time : N.A Think Time : N.A Minimum Instruction Time : 0

Correct Marks : 1 Wrong Marks : 0

కింది ప్రకటనలలో దేశంలో వాయు కాలుష్య నివారణ, నియంత్రణ మరియు తగ్గింపు కోసం కేంద్ర ప్రభుత్వం తీసుకున్న నియంత్రణ చర్యలకు సంబంధించిన నిజం కానిది ఏది?

- A. సంభవ్ (SAMBHAV) యాప్ ప్రారంభించబడింది, ఇందులో వాయు కాలుష్య కార్యకలాపాలకు వ్యతిరేకంగా ఫిర్యాదులను నమోదు చేయడానికి సదుపాయంతో పాటు గాలి నాణ్యత సమాచారం ప్రజలకు అందుబాటులో ఉంటుంది.
- B. ఢిల్లీ మరియు ఎన్సీఆర్(NCR)లలో వాయు కాలుష్య నివారణ, నియంత్రణ మరియు తగ్గించడం కోసం గుర్తించిన చర్యల కోసం సమయపాటన మరియు అమలు చేసే ఏజెన్సీలను గుర్తించే సమగ్ర కార్యాచరణ ప్రణాళిక (CAP)ని 2015లో కేంద్ర ప్రభుత్వం నోటిఫై చేసింది.
- C. సెంట్రల్ సెక్టార్ 'కాలుష్య నియంత్రణ' పథకం కింద కేంద్ర ప్రభుత్వం జాతీయ శుభ్రమైన వాయు కార్యక్రమాన్ని (NCAP) ప్రారంభించింది.

Options :

1. ✘ A మాత్రమే
2. ✔ A మరియు B
3. ✘ B మాత్రమే
4. ✘ B మరియు C

Question Number : 50 Question Id : 630680271251 Is Question Mandatory : No Calculator :

None Response Time : N.A Think Time : N.A Minimum Instruction Time : 0

Correct Marks : 1 Wrong Marks : 0

As of May 2023, under the Pradhan Mantri Shram Yogi Maan-Dhan Yojana (PM-SYM) (Old Age Protection), after attaining the age of 60 years, beneficiaries are entitled to receive a minimum monthly assured pension of _____.

Options :

1. ✘ ₹6,000
2. ✘ ₹5,000
- 3.

✘ ₹4,000

4. ✔ ₹3,000

Question Number : 50 Question Id : 630680271251 Is Question Mandatory : No Calculator :

None Response Time : N.A Think Time : N.A Minimum Instruction Time : 0

Correct Marks : 1 Wrong Marks : 0

మే 2023 నాటికి, ప్రధాన మంత్రి శ్రమ యోగి మాన్-ధన్ యోజన (PM-SYM) (వృద్ధాప్య సంరక్షణ) కింద, 60 ఏళ్ల వయస్సు వచ్చిన తర్వాత, లబ్ధిదారులు కనీస నెలవారీ హామీ పెన్షన్ _____ అను పొందేందుకు అర్హులు.

Options :

1. ✘ ₹6,000

2. ✘ ₹5,000

3. ✘ ₹4,000

4. ✔ ₹3,000

Question Number : 51 Question Id : 630680271252 Is Question Mandatory : No Calculator :

None Response Time : N.A Think Time : N.A Minimum Instruction Time : 0

Correct Marks : 1 Wrong Marks : 0

Which of the following pairs are correct?

Pair	Common Name of the vitamins	Scientific Name
A	Vitamin C	Phytonadione
B	Vitamin D	Calciferol
C	Vitamin E	Tocopherol
D	Vitamin K	Ascorbic acid

Options :

1. ✘ A and B

2. ✔ B and C

3. ✘ C and D

4. ✘ D and A

Question Number : 51 Question Id : 630680271252 Is Question Mandatory : No Calculator :

None Response Time : N.A Think Time : N.A Minimum Instruction Time : 0

Correct Marks : 1 Wrong Marks : 0

కింది జతలలో ఏది సరైనది?

జత	విటమిన్ల సాదారణ నామం	శాస్త్రీయ నామం
A	విటమిన్ C	పైటోనాడియోన్
B	విటమిన్ D	కాల్సిఫెరోల్
C	విటమిన్ E	టోకోఫెరోల్
D	విటమిన్ K	ఆస్కార్బిక్ ఆమ్లం

Options :

1. ✘ A మరియు B
2. ✔ B మరియు C
3. ✘ C మరియు D
4. ✘ D మరియు A

Question Number : 52 Question Id : 630680271253 Is Question Mandatory : No Calculator :

None Response Time : N.A Think Time : N.A Minimum Instruction Time : 0

Correct Marks : 1 Wrong Marks : 0

Match the following National Parks with the states they are located in.

Name of the National Park		State	
A	Jim Corbett National Park	1	Uttarakhand
B	Kaziranga National Park	2	Assam
C	Kanha National Park	3	Madhya Pradesh

Options :

1. ✓ A-1, B-2, C-3

2. ✘ A-2, B-3, C-1

3. ✘ A-3, B-1, C-2

4. ✘ A-2, B-1, C-3

Question Number : 52 Question Id : 630680271253 Is Question Mandatory : No Calculator :

None Response Time : N.A Think Time : N.A Minimum Instruction Time : 0

Correct Marks : 1 Wrong Marks : 0

కింది జాతీయ పార్కులను అవి ఉన్న రాష్ట్రాలతో జతచేయండి.

జాతీయ పార్కు పేరు		రాష్ట్రం	
A	జిమ్ కార్పెట్ జాతీయ పార్కు	1	ఉత్తరాఖండ్
B	కజిరంగా జాతీయ పార్కు	2	అస్సాం
C	కన్హా జాతీయ పార్కు	3	మధ్యప్రదేశ్

Options :

1. ✓ A-1, B-2, C-3

2. ✘ A-2, B-3, C-1

3. ✘ A-3, B-1, C-2

4. ✘ A-2, B-1, C-3

Question Number : 53 Question Id : 630680271254 Is Question Mandatory : No Calculator :
None Response Time : N.A Think Time : N.A Minimum Instruction Time : 0

Correct Marks : 1 Wrong Marks : 0

Match the following mines with the states they are located in.

Mines		State	
A	Kollur Mine	1	Karnataka
B	Hatti Gold Mines	2	Andhra Pradesh
C	Sonbhadra Mine	3	Uttar Pradesh

Options :

1. ✘ A-1, B-2, C-3

2. ✘ A-2, B-3, C-1

3. ✘ A-3, B-1, C-2

4. ✔ A-2, B-1, C-3

Question Number : 53 Question Id : 630680271254 Is Question Mandatory : No Calculator :
None Response Time : N.A Think Time : N.A Minimum Instruction Time : 0

Correct Marks : 1 Wrong Marks : 0

కింది గనులను అవి ఉన్న రాష్ట్రాలలో జతపరచండి.

గనులు		రాష్ట్రం	
A	కోల్లూర్ గని	1	కర్ణాటక
B	హట్టి బంగారు గనులు	2	ఆంధ్రప్రదేశ్
C	సొంబద్రి గని	3	ఉత్తరప్రదేశ్

Options :

1. ✘ A-1, B-2, C-3
2. ✘ A-2, B-3, C-1
3. ✘ A-3, B-1, C-2
4. ✔ A-2, B-1, C-3

Question Number : 54 Question Id : 630680271255 Is Question Mandatory : No Calculator :

None Response Time : N.A Think Time : N.A Minimum Instruction Time : 0

Correct Marks : 1 Wrong Marks : 0

Arrange the following government schemes in chronological order as per the year in which they were launched.

- A. Janani Shishu Suraksha Karyakaram (JSSK)
- B. Rashtriya Kishor Swasthya Karyakram (RKSK)
- C. Rashtriya Bal Swasthya Karyakram (RBSK)

Options :

1. ✘ A B C
2. ✘ B A C

3. ✘ CAB

4. ✔ ACB

Question Number : 54 Question Id : 630680271255 Is Question Mandatory : No Calculator :

None Response Time : N.A Think Time : N.A Minimum Instruction Time : 0

Correct Marks : 1 Wrong Marks : 0

కింది ప్రభుత్వ పథకాలను ప్రారంభించిన సంవత్సరం ప్రకారం కాలక్రమానుసారంగా అమర్చండి.

A. జననీ శిశు సురక్ష కార్యక్రమం (JSSK)

B. రాష్ట్రీయ కిషోర్ స్వాస్థ్య కార్యక్రమం (RKSK)

C. రాష్ట్రీయ బాల స్వాస్థ్య కార్యక్రమం (RBSK)

Options :

1. ✘ A, B, C

2. ✘ B, A, C

3. ✘ C, A, B

4. ✔ A, C, B

Question Number : 55 Question Id : 630680271256 Is Question Mandatory : No Calculator :

None Response Time : N.A Think Time : N.A Minimum Instruction Time : 0

Correct Marks : 1 Wrong Marks : 0

Arrange the following government schemes in chronological order as per the year in which they were launched.

- A. National Goitre Control Programme
- B. MAA (Mothers' Absolute Affection) Programme for Infant and Young Child Feeding
- C. National Programme for Prevention and Control of Fluorosis (NPPCF)

Options :

1. ✘ A B C

2. ✘ B A C

3. ✘ C A B

4. ✔ B C A

Question Number : 55 Question Id : 630680271256 Is Question Mandatory : No Calculator :

None Response Time : N.A Think Time : N.A Minimum Instruction Time : 0

Correct Marks : 1 Wrong Marks : 0

కింది ప్రభుత్వ పథకాలను అవి ప్రారంభించబడిన సంవత్సరం ప్రకారం కాలక్రమానుసారంగా అమర్పండి.

- A. జాతీయ గాయిటర్(డైరాయిడ్ గ్రంథి విస్తరించడం వల్ల గొంతు వాపు) నియంత్రణ కార్యక్రమం
- B. MAA (తల్లల సంపూర్ణ ఆప్యాయత) శిశువు మరియు చిన్న పిల్లల ఆహారం కోసం కార్యక్రమం
- C. ఫ్లోరోసిస్ నివారణ మరియు నియంత్రణ కోసం జాతీయ కార్యక్రమం (NPPCF)

Options :

1. ✘ A, B, C

2. ✘ B, A, C

3. ✘ C, A, B

4. ✓ B, C, A

Question Number : 56 Question Id : 630680271257 Is Question Mandatory : No Calculator :

None Response Time : N.A Think Time : N.A Minimum Instruction Time : 0

Correct Marks : 1 Wrong Marks : 0

Match the following sugars as per their sources in which they are found in abundant quantity.

Sugar		Source	
A	Fructose	1	Honey
B	Lactose	2	Milk
C	Sucrose	3	Sugarcane

Options :

1. ✓ A-1, B-2, C-3

2. ✗ A-2, B-3, C-1

3. ✗ A-3, B-1, C-2

4. ✗ A-2, B-1, C-3

Question Number : 56 Question Id : 630680271257 Is Question Mandatory : No Calculator :

None Response Time : N.A Think Time : N.A Minimum Instruction Time : 0

Correct Marks : 1 Wrong Marks : 0

కింది చక్కెరలను, అవి సమ్మర్దిగా ఉన్న వాటి మూలాల ప్రకారం జతచేయండి.

చక్కెర		మూలం	
A	ప్రక్టోజ్	1	తేన్
B	లాక్టోజ్	2	పాలు
C	సుక్రోజ్	3	చెరుకుగడ

Options :

1. ✓ A-1, B-2, C-3
2. ✗ A-2, B-3, C-1
3. ✗ A-3, B-1, C-2
4. ✗ A-2, B-1, C-3

Question Number : 57 Question Id : 630680271258 Is Question Mandatory : No Calculator :
None Response Time : N.A Think Time : N.A Minimum Instruction Time : 0

Correct Marks : 1 Wrong Marks : 0

కింది జంతువులను, వాటికి చెందిన పైలం ప్రకారం జతచేయండి.

జంతువు		పైలం	
A	దోమ	1	అన్నెలిడా
B	ఆక్టోపస్	2	మొలస్కా
C	జలగ	3	ఆర్థోపోడ్

Options :

1. ✗ A-1, B-2, C-3

2. ✓ A-3, B-2, C-1

3. ✗ A-3, B-1, C-2

4. ✗ A-2, B-1, C-3

Question Number : 57 Question Id : 630680271258 Is Question Mandatory : No Calculator :

None Response Time : N.A Think Time : N.A Minimum Instruction Time : 0

Correct Marks : 1 Wrong Marks : 0

Match the following animals as per the phylum they belong to.

Animal		Phylum	
A	Mosquito	1	Annelida
B	Octopus	2	Mollusca
C	Leech	3	Arthropod

Options :

1. ✗ A-1, B-2, C-3

2. ✓ A-3, B-2, C-1

3. ✗ A-3, B-1, C-2

4. ✗ A-2, B-1, C-3

Question Number : 58 Question Id : 630680271259 Is Question Mandatory : No Calculator :

None Response Time : N.A Think Time : N.A Minimum Instruction Time : 0

Correct Marks : 1 Wrong Marks : 0

Match the following nutrients as per their sources in which they are found in abundant quantity.

Nutrients		Source	
A	Olive	1	Protein
B	Egg	2	Carbohydrates
C	Banana	3	Fatty Acids

Options :

1. ✘ A-1, B-2, C-3

2. ✘ A-3, B-2, C-1

3. ✔ A-3, B-1, C-2

4. ✘ A-2, B-1, C-3

Question Number : 58 Question Id : 630680271259 Is Question Mandatory : No Calculator :

None Response Time : N.A Think Time : N.A Minimum Instruction Time : 0

Correct Marks : 1 Wrong Marks : 0

క్రింది పోషకాలను, అవి సమృద్ధిగా లభించే మూలాధారాలతో జతచేయండి.

పోషకాలు		మూలాం	
A	ఆలివ్	1	ప్రోటీన్
B	గుడ్డు	2	కార్బోహైడ్రేట్లు
C	అరటి పండు	3	కొవ్వు ఆమ్లాలు

Options :

1. ✘ A-1, B-2, C-3

2. ✘ A-3, B-2, C-1

3. ✔ A-3, B-1, C-2

4. ✘ A-2, B-1, C-3

Question Number : 59 Question Id : 630680271260 Is Question Mandatory : No Calculator :

None Response Time : N.A Think Time : N.A Minimum Instruction Time : 0

Correct Marks : 1 Wrong Marks : 0

Arrange the following cyclone in chronological order as per the year in which they were formed and hit India.

A. Fani

B. Amphan

C. Asani

Options :

1. ✘ C B A

2. ✔ A B C

3. ✘ B C A

4. ✘ C A B

Question Number : 59 Question Id : 630680271260 Is Question Mandatory : No Calculator :

None Response Time : N.A Think Time : N.A Minimum Instruction Time : 0

Correct Marks : 1 Wrong Marks : 0

కింది తుఫానులు అవి ఏర్పడి, భారతదేశాన్ని తాకిన సంవత్సరం ప్రకారం వాటిని కాలక్రమానుసారంగా అమర్చండి.

A. ఫణి

B. అమృన్

C. అసాని

Options :

1. ✘ C, B, A

2. ✔ A, B, C

3. ✘ B, C, A

4. ✘ C, A, B

Question Number : 60 Question Id : 630680271261 Is Question Mandatory : No Calculator :

None Response Time : N.A Think Time : N.A Minimum Instruction Time : 0

Correct Marks : 1 Wrong Marks : 0

Kalpana-1 was the first dedicated meteorological satellite launched by the Indian Space Research Organisation using a Polar Satellite Launch Vehicle in which of the following years?

Options :

1. ✔ 2002

2. ✘ 2003

3. ✘ 2004

4. ✘ 2005

Question Number : 60 Question Id : 630680271261 Is Question Mandatory : No Calculator :

None Response Time : N.A Think Time : N.A Minimum Instruction Time : 0

Correct Marks : 1 Wrong Marks : 0

కింది ఏ సంవత్సరంలో తొలి ప్రత్యేక వాతావరణ ఉపగ్రహం కల్పనా-1ను పోలార్ శాటిలైట్ లాంచ్ వెహికల్‌ను ఉపయోగించి భారత అంతరిక్ష పరిశోధనా సంస్థ ప్రయోగించింది?

Options :

1. ✔ 2002

2. ✘ 2003

3. ✘ 2004

4. ✘ 2005

Question Number : 61 Question Id : 630680271262 Is Question Mandatory : No Calculator :

None Response Time : N.A Think Time : N.A Minimum Instruction Time : 0

Correct Marks : 1 Wrong Marks : 0

In May 2023, cyclone Mocha was formed from which of the following seas/bay?

Options :

1. ✘ Andaman Sea

2. ✘ Arabian Sea

3. ✔ Bay of Bengal

4. ✘ South China Sea

Question Number : 61 Question Id : 630680271262 Is Question Mandatory : No Calculator :

None Response Time : N.A Think Time : N.A Minimum Instruction Time : 0

Correct Marks : 1 Wrong Marks : 0

మే 2023లో, కింది ఏ సముద్రం/అఖాతం నుండి మోచా తుఫాను ఏర్పడింది?

Options :

1. ✘ అండమాన్ సముద్రం

2. ✘ అరేబియా సముద్రం

3. ✔ బంగాళాఖాతం

4. ✘ దక్షిణ చైనా సముద్రం

Question Number : 62 Question Id : 630680271263 Is Question Mandatory : No Calculator :

None Response Time : N.A Think Time : N.A Minimum Instruction Time : 0

Correct Marks : 1 Wrong Marks : 0

National Disaster Response Force (NDRF) comes under which of the following ministries?

Options :

1. ✘ Ministry of Environment, Forest and Climate Change

2. ✔ Ministry of Home Affairs

3. ✘ Ministry of Jal Shakti

4. ✘ Ministry of Defence

Question Number : 62 Question Id : 630680271263 Is Question Mandatory : No Calculator :

None Response Time : N.A Think Time : N.A Minimum Instruction Time : 0

Correct Marks : 1 Wrong Marks : 0

జాతీయ విపత్తు ప్రతిస్పందన బృందం (NDRF) కింది ఏ మంత్రిత్వ శాఖ కిందకు వస్తుంది?

Options :

1. ✘ పర్యావరణ, అటవీ మరియు వాతావరణ మార్పుల మంత్రిత్వ శాఖ

2. ✔ గృహ వ్యవహారాల మంత్రిత్వ శాఖ

3. ✘ జల శక్తి మంత్రిత్వ శాఖ

4. ✘ రక్షణ మంత్రిత్వ శాఖ

Question Number : 63 Question Id : 630680271264 Is Question Mandatory : No Calculator :

None Response Time : N.A Think Time : N.A Minimum Instruction Time : 0

Correct Marks : 1 Wrong Marks : 0

Central pollution control board was established in which of the following years?

Options :

1. ✔ 1974

2. ✘ 1975

3. ✘ 1976

4. ✘ 1977

Question Number : 63 Question Id : 630680271264 Is Question Mandatory : No Calculator :

None Response Time : N.A Think Time : N.A Minimum Instruction Time : 0

Correct Marks : 1 Wrong Marks : 0

కింది ఏ సంవత్సరంలో కేంద్ర కాలుష్య నియంత్రణ మండలి స్థాపించబడింది?

Options :

1. ✔ 1974

2. ✘ 1975

3. ✘ 1976

4. ✘ 1977

Question Number : 64 Question Id : 630680271265 Is Question Mandatory : No Calculator :

None Response Time : N.A Think Time : N.A Minimum Instruction Time : 0

Correct Marks : 1 Wrong Marks : 0

కింది ఏ సంవత్సరంలో, ప్రధానమంత్రి, "గంగమ్మ తల్లికి సేవ చేయడం నా కర్తవ్యం" అని చెప్పి, నమామి గంగే కార్యక్రమాన్ని ప్రారంభించారు?

Options :

1. ✔ 2014

2. ✘ 2015

3. ✘ 2016

4. ✘ 2017

**Question Number : 64 Question Id : 630680271265 Is Question Mandatory : No Calculator :
None Response Time : N.A Think Time : N.A Minimum Instruction Time : 0**

Correct Marks : 1 Wrong Marks : 0

In which of the following years, prime minister said, "It's my destiny to serve Maa Ganga" and launched the Namami Gange programme?

Options :

1. ✔ 2014

2. ✘ 2015

3. ✘ 2016

4. ✘ 2017

**Question Number : 65 Question Id : 630680271266 Is Question Mandatory : No Calculator :
None Response Time : N.A Think Time : N.A Minimum Instruction Time : 0**

Correct Marks : 1 Wrong Marks : 0

Arrange the following initiatives of the government of India in chronological order as per the year in which they were launched.

A. Green Skill Development Programme (GSDP)

B. Swachh Bharat Abhiyan

C. Nagar Van Scheme

Options :

1. ✘ A B C

2. ✘ C B A

3. ✘ C A B

4. ✔ B A C

Question Number : 65 Question Id : 630680271266 Is Question Mandatory : No Calculator :

None Response Time : N.A Think Time : N.A Minimum Instruction Time : 0

Correct Marks : 1 Wrong Marks : 0

క్రింది భారత ప్రభుత్వం యొక్క కార్యక్రమాలను, అవి ప్రారంభించబడిన సంవత్సరం ప్రకారం కాలక్రమానుసారంగా అమర్చండి.

A. గ్రీన్ స్కేల్ డెవలప్‌మెంట్ ప్రోగ్రామ్ (GSDP)

B. స్వచ్ఛ భారత్ అభియాన్

C. నగర వాన్ పథకం

Options :

1. ✘ A, B, C

2. ✘ C, B, A

3. ✘ C, A, B

4. ✔ B, A, C

Question Number : 66 Question Id : 630680271267 Is Question Mandatory : No Calculator :

None Response Time : N.A Think Time : N.A Minimum Instruction Time : 0

Correct Marks : 1 Wrong Marks : 0

ఓజోన్ పొర క్షీణతకు కారణమైన కారకాల్లో ఒకటైన CFC యొక్క విస్తరణ రూపం ఏమిటి?

Options :

1. ✘ కాలోమ్ఫ్లోరో కార్బన్లు
2. ✔ క్లోరోఫ్లోరో కార్బన్లు
3. ✘ క్లోరోఫ్లోరోకెమికల్
4. ✘ సెంట్రల్ఫ్లోరో కార్బన్లు

Question Number : 66 Question Id : 630680271267 Is Question Mandatory : No Calculator :

None Response Time : N.A Think Time : N.A Minimum Instruction Time : 0

Correct Marks : 1 Wrong Marks : 0

What is the full form of CFC which is one of the responsible factors for ozone layer depletion?

Options :

1. ✘ Calbomfluorocarbons
2. ✔ Chlorofluorocarbons
3. ✘ Chlorofluorochemicle
4. ✘ Centralfluorocarbons

Question Number : 67 Question Id : 630680271268 Is Question Mandatory : No Calculator :

None Response Time : N.A Think Time : N.A Minimum Instruction Time : 0

Correct Marks : 1 Wrong Marks : 0

5వ ఐక్యరాజ్య సమితి పర్యావరణ అసెంబ్లీ కింది ఏ దేశంలో ముగిసింది?

Options :

1. ✓ కెన్యా
2. ✘ దక్షిణాఫ్రికా
3. ✘ కెనడా
4. ✘ అమెరికా

**Question Number : 67 Question Id : 630680271268 Is Question Mandatory : No Calculator :
None Response Time : N.A Think Time : N.A Minimum Instruction Time : 0**

Correct Marks : 1 Wrong Marks : 0

The 5th UN Environment Assembly concluded in which of the following countries?

Options :

1. ✓ Kenya
2. ✘ South Africa
3. ✘ Canada
4. ✘ The US

**Question Number : 68 Question Id : 630680271269 Is Question Mandatory : No Calculator :
None Response Time : N.A Think Time : N.A Minimum Instruction Time : 0**

Correct Marks : 1 Wrong Marks : 0

'పర్యవరణ మిత్ర: ఎ సీటిజన్ ఎంగేజ్‌మెంట్ ఇనిషియేటివ్'ని ఢిల్లీ ప్రభుత్వం కింది ఏ సంవత్సరంలో ప్రారంభించింది?

Options :

1. ✘ 2020

2. ✘ 2021

3. ✔ 2022

4. ✘ 2023

Question Number : 68 Question Id : 630680271269 Is Question Mandatory : No Calculator :

None Response Time : N.A Think Time : N.A Minimum Instruction Time : 0

Correct Marks : 1 Wrong Marks : 0

'Paryavaran Mitra: A Citizen Engagement Initiative' was launched by the Delhi government in which of the following years?

Options :

1. ✘ 2020

2. ✘ 2021

3. ✔ 2022

4. ✘ 2023

Question Number : 69 Question Id : 630680271270 Is Question Mandatory : No Calculator :

None Response Time : N.A Think Time : N.A Minimum Instruction Time : 0

Correct Marks : 1 Wrong Marks : 0

కింది వాటిలో 2022 ఐక్యరాజ్యసమితి వాతావరణ మార్పుల సమావేశం లేదా UNFCCC యొక్క ఫార్మిల సదస్సు ఏ దేశంలో జరిగింది?

Options :

1. ✘ అమెరికా

2. ✔ ఈజిప్ట్

3. ✘ రష్యా

4. ✘ మలేషియా

Question Number : 69 Question Id : 630680271270 Is Question Mandatory : No Calculator :

None Response Time : N.A Think Time : N.A Minimum Instruction Time : 0

Correct Marks : 1 Wrong Marks : 0

The 2022 United Nations Climate Change Conference or Conference of the Parties of the UNFCCC was held in which of the following countries?

Options :

1. ✘ The US

2. ✔ Egypt

3. ✘ Russia

4. ✘ Malaysia

Question Number : 70 Question Id : 630680271271 Is Question Mandatory : No Calculator :

None Response Time : N.A Think Time : N.A Minimum Instruction Time : 0

Correct Marks : 1 Wrong Marks : 0

The Rana Pratap Sagar Dam over the Chambal River is located in which of the following states of India?

Options :

1. ✘ Madhya Pradesh

2. ✔ Rajasthan

3. ✘ Uttar Pradesh

4. ✘ Haryana

Question Number : 70 Question Id : 630680271271 Is Question Mandatory : No Calculator :

None Response Time : N.A Think Time : N.A Minimum Instruction Time : 0

Correct Marks : 1 Wrong Marks : 0

చంబల్ నదిపై ఉన్న రాణా ప్రతాప్ సాగర్ ఆనకట్ట భారతదేశంలోని ఏ రాష్ట్రంలో ఉంది?

Options :

1. ✘ మధ్యప్రదేశ్

2. ✔ రాజస్థాన్

3. ✘ ఉత్తర ప్రదేశ్

4. ✘ హర్యాణా

Question Number : 71 Question Id : 630680271272 Is Question Mandatory : No Calculator :

None Response Time : N.A Think Time : N.A Minimum Instruction Time : 0

Correct Marks : 1 Wrong Marks : 0

As per the India State of Forest Report 2021, which of the following states has the highest forest cover?

Options :

1. ✘ Rajasthan
2. ✘ Jharkhand
3. ✔ Madhya Pradesh
4. ✘ Chhattisgarh

Question Number : 71 Question Id : 630680271272 Is Question Mandatory : No Calculator :

None Response Time : N.A Think Time : N.A Minimum Instruction Time : 0

Correct Marks : 1 Wrong Marks : 0

భారతదేశ అటవీ నివేదిక 2021 ప్రకారం, కింది వాటిలో ఏ రాష్ట్రంలో అత్యధిక అటవీ విస్తీర్ణం ఉంది?

Options :

1. ✘ రాజస్థాన్
2. ✘ యూర్ఖండ్
3. ✔ మధ్యప్రదేశ్
4. ✘ చత్తీస్ గఢ్

Question Number : 72 Question Id : 630680271273 Is Question Mandatory : No Calculator :

None Response Time : N.A Think Time : N.A Minimum Instruction Time : 0

Correct Marks : 1 Wrong Marks : 0

The Keibul Lamjao National Park is located in which of the following northeastern states of India?

Options :

1. ✘ Assam
2. ✘ Sikkim
3. ✘ Nagaland
4. ✔ Manipur

**Question Number : 72 Question Id : 630680271273 Is Question Mandatory : No Calculator :
None Response Time : N.A Think Time : N.A Minimum Instruction Time : 0
Correct Marks : 1 Wrong Marks : 0**

కైబుల్ లామ్జువో నేషనల్ పార్క్ భారతదేశంలోని కింది ఏ ఈశాన్య రాష్ట్రాల్లో ఉంది?

Options :

1. ✘ అస్సాం
2. ✘ సిక్కిం
3. ✘ నాగాలాండ్
4. ✔ మణిపూర్

**Question Number : 73 Question Id : 630680271274 Is Question Mandatory : No Calculator :
None Response Time : N.A Think Time : N.A Minimum Instruction Time : 0
Correct Marks : 1 Wrong Marks : 0**

జూన్ నెలలో ఉత్తరాఖండ్ లో అసాధారణమైన వర్షపాతం కారణంగా కింది ఏ సంవత్సరంలో కేడార్ నాథ్ వరద విపత్తు సంభవించింది?

Options :

1. ✘ 2012

2. ✔ 2013

3. ✘ 2014

4. ✘ 2015

**Question Number : 73 Question Id : 630680271274 Is Question Mandatory : No Calculator :
None Response Time : N.A Think Time : N.A Minimum Instruction Time : 0**

Correct Marks : 1 Wrong Marks : 0

In which of the following years did the Kedarnath flood disaster take place due to an unusual amount of rainfall in Uttarakhand in the month of June?

Options :

1. ✘ 2012

2. ✔ 2013

3. ✘ 2014

4. ✘ 2015

**Question Number : 74 Question Id : 630680271275 Is Question Mandatory : No Calculator :
None Response Time : N.A Think Time : N.A Minimum Instruction Time : 0**

Correct Marks : 1 Wrong Marks : 0

Which of the following statements is INCORRECT as per the Census of India 2011?

- A. Meghalaya had the lowest population.
- B. Kerala had the highest sex ratio.
- C. Kerala had the highest literacy rate.

Options :

- 1. ✓ Only A
- 2. ✗ Both A and B
- 3. ✗ Only B
- 4. ✗ Both B and C

Question Number : 74 Question Id : 630680271275 Is Question Mandatory : No Calculator :

None Response Time : N.A Think Time : N.A Minimum Instruction Time : 0

Correct Marks : 1 Wrong Marks : 0

2011 భారత జనాభా లెక్కల ప్రకారం కింది వాటిలో సరికాని ప్రకటన ఏది?

- A. మేఘాలయలో అత్యల్ప జనాభా కలదు.
- B. కేరళలో అత్యధిక లింగ నిష్పత్తి కలదు.
- C. కేరళలో అత్యధిక అక్షరాస్యత రేటు కలదు.

Options :

- 1. ✓ A మాత్రమే
- 2. ✗ A మరియు B లు రెండూ
- 3. ✗ B మాత్రమే

4. ✘ B మరియు C లు రెండూ

Question Number : 75 Question Id : 630680271276 Is Question Mandatory : No Calculator :

None Response Time : N.A Think Time : N.A Minimum Instruction Time : 0

Correct Marks : 1 Wrong Marks : 0

Which of the following statements is INCORRECT as per the Census of India 2011?

A. Uttar Pradesh had the highest population density.

B. Bihar state had the highest population.

C. Haryana state had the lowest sex ratio.

Options :

1. ✘ Only A

2. ✔ Both A and B

3. ✘ Only B

4. ✘ Both B and C

Question Number : 75 Question Id : 630680271276 Is Question Mandatory : No Calculator :

None Response Time : N.A Think Time : N.A Minimum Instruction Time : 0

Correct Marks : 1 Wrong Marks : 0

2011 భారత జనాభా లెక్కల ప్రకారం కింది వాటిలో సరికాని ప్రకటన ఏది?

A. ఉత్తరప్రదేశ్‌లో అత్యధిక జనసాంద్రత కలదు.

B. బీహార్ రాష్ట్రంలో అత్యధిక జనాభా కలదు.

C. హర్యాణా రాష్ట్రంలో అతి తక్కువ లింగ నిష్పత్తి కలదు.

Options :

1. ✘ A మాత్రమే
2. ✔ A మరియు B లు రెండూ
3. ✘ B మాత్రమే
4. ✘ B మరియు C లు రెండూ

**Question Number : 76 Question Id : 630680271277 Is Question Mandatory : No Calculator :
None Response Time : N.A Think Time : N.A Minimum Instruction Time : 0**

Correct Marks : 1 Wrong Marks : 0

Among the following states, which of the following states had the lowest literacy rate as per the census 2011?

Options :

1. ✘ Madhya Pradesh
2. ✘ Haryana
3. ✘ Karnataka
4. ✔ Rajasthan

**Question Number : 76 Question Id : 630680271277 Is Question Mandatory : No Calculator :
None Response Time : N.A Think Time : N.A Minimum Instruction Time : 0**

Correct Marks : 1 Wrong Marks : 0

కింది రాష్ట్రాలలో, 2011 జనాభా లెక్కల ప్రకారం కింది రాష్ట్రాలలో ఏది అత్యల్ప అక్షరాస్యత రేటును కలిగి ఉంది?

Options :

1. ✘ మధ్యప్రదేశ్
2. ✘ హర్యాణా
3. ✘ కర్ణాటక
4. ✔ రాజస్థాన్

**Question Number : 77 Question Id : 630680271278 Is Question Mandatory : No Calculator :
None Response Time : N.A Think Time : N.A Minimum Instruction Time : 0**

Correct Marks : 1 Wrong Marks : 0

What was the sex ratio of India as per the 2011 Census?

Options :

1. ✔ 943 females per 1000 males
2. ✘ 950 females per 1000 males
3. ✘ 960 females per 1000 males
4. ✘ 970 females per 1000 males

**Question Number : 77 Question Id : 630680271278 Is Question Mandatory : No Calculator :
None Response Time : N.A Think Time : N.A Minimum Instruction Time : 0**

Correct Marks : 1 Wrong Marks : 0

2011 జనాభా లెక్కల ప్రకారం భారతదేశం యొక్క లింగ నిష్పత్తి ఎంత?

Options :

1. ✓ 1000 మంది పురుషులకు 943 మంది స్త్రీలు
2. ✘ 1000 మంది పురుషులకు 950 మంది స్త్రీలు
3. ✘ 1000 మంది పురుషులకు 960 మంది స్త్రీలు
4. ✘ 1000 మంది పురుషులకు 970 మంది స్త్రీలు

Question Number : 78 Question Id : 630680271279 Is Question Mandatory : No Calculator :

None Response Time : N.A Think Time : N.A Minimum Instruction Time : 0

Correct Marks : 1 Wrong Marks : 0

Match the correct pair as per the information given below.

Power Station		States they are located in	
A	Amarkantak Thermal Power Plant	1	Madhya Pradesh
B	Chandrapur Thermal Power plant	2	Uttar Pradesh
C	Anpara Thermal Power plant	3	Maharashtra

Options :

1. ✓ A-1, B-3, C-2
2. ✘ A-3, B-2, C-1
3. ✘ A-3, B-1, C-2
4. ✘ A-2, B-1, C-3

Question Number : 78 Question Id : 630680271279 Is Question Mandatory : No Calculator :

None Response Time : N.A Think Time : N.A Minimum Instruction Time : 0

Correct Marks : 1 Wrong Marks : 0

దిగువ అందించిన సమాచారం ప్రకారం సరైన జతని జతచేయండి.

పవర్ స్టేషన్		అవి స్థాపించబడిన రాష్ట్రం	
A	అమర్కంట్ ధర్మల్ పవర్ ప్లాంట్	1	మధ్యప్రదేశ్
B	చంద్రపూర్ ధర్మల్ పవర్ ప్లాంట్	2	ఉత్తర ప్రదేశ్
C	అన్వారా ధర్మల్ పవర్ ప్లాంట్	3	మహారాష్ట్ర

Options :

1. ✓ A-1, B-3, C-2

2. ✘ A-3, B-2, C-1

3. ✘ A-3, B-1, C-2

4. ✘ A-2, B-1, C-3

Question Number : 79 Question Id : 630680271280 Is Question Mandatory : No Calculator :

None Response Time : N.A Think Time : N.A Minimum Instruction Time : 0

Correct Marks : 1 Wrong Marks : 0

RBI బారతీయ రాష్ట్రాల గణాంకాల హ్యాండ్‌బుక్ 2021-22 ప్రకారం, భారతదేశ GDPకి రాష్ట్రాల సహకారం ప్రకారం కింది రాష్ట్రాలను అత్యధిక స్థాయి నుండి అత్యల్ప స్థాయికి అమర్చండి.

A. రాజస్థాన్

B. తమిళనాడు

C. పంజాబ్

D. త్రిపుర

Options :

1. ✘ A, D, B, C

2. ✘ B, D, A, C

3. ✘ A, B, C, D

4. ✔ B, A, C, D

Question Number : 79 Question Id : 630680271280 Is Question Mandatory : No Calculator :

None Response Time : N.A Think Time : N.A Minimum Instruction Time : 0

Correct Marks : 1 Wrong Marks : 0

According to the RBI Handbook of Statistics on Indian States 2021-22, arrange the following states from highest to lowest as per their contribution to India's GDP.

A. Rajasthan

B. Tamil Nadu

C. Punjab

D. Tripura

Options :

1. ✘ A D B C

2. ✘ B D A C

3. ✘ A B C D

4. ✔ B A C D

Question Number : 80 Question Id : 630680271281 Is Question Mandatory : No Calculator :
None Response Time : N.A Think Time : N.A Minimum Instruction Time : 0

Correct Marks : 1 Wrong Marks : 0

కింది చట్టాలను అవి ఆమోదించబడిన సంవత్సరాల ప్రకారం కాలక్రమానుసారంగా అమర్పండి.

- A. బాల్య వివాహ నిరోధక చట్టం
- B. వికలాంగుల హక్కుల చట్టం
- C. జాతీయ ఆహార భద్రతా చట్టం

Options :

1. ✘ A, B, C

2. ✔ A, C, B

3. ✘ C, B, A

4. ✘ B, A, C

Question Number : 80 Question Id : 630680271281 Is Question Mandatory : No Calculator :
None Response Time : N.A Think Time : N.A Minimum Instruction Time : 0

Correct Marks : 1 Wrong Marks : 0

Arrange the following acts in chronological order as per the years they were passed.

- A. Child Marriage Restraint Act
- B. Rights of Persons with Disabilities Act
- C. National Food Security Act

Options :

1. ✘ A B C

2. ✓ A C B

3. ✘ C B A

4. ✘ B A C

Question Number : 81 Question Id : 630680271282 Is Question Mandatory : No Calculator :

None Response Time : N.A Think Time : N.A Minimum Instruction Time : 0

Correct Marks : 1 Wrong Marks : 0

కొత్త రాష్ట్రాలను ఏర్పాటు చేయడానికి మరియు ఇప్పటికే ఉన్న రాష్ట్రాల (కేంద్రపాలిత ప్రాంతంతో సహా) ప్రాంతాలు, సరిహద్దులు లేదా పేర్లను మార్చడానికి భారత రాజ్యాంగంలోని కింది ఏ అధికరణం పార్లమెంట్‌కు అధికారాలను అందిస్తుంది?

Options :

1. ✓ అధికరణం 3

2. ✘ అధికరణం 4

3. ✘ అధికరణం 6

4. ✘ అధికరణం 8

Question Number : 81 Question Id : 630680271282 Is Question Mandatory : No Calculator :

None Response Time : N.A Think Time : N.A Minimum Instruction Time : 0

Correct Marks : 1 Wrong Marks : 0

Which of the following Articles of the Constitution of India provides the Parliament to form new States and alter the areas, boundaries, or names of the existing States (which includes Union Territory)?

Options :

1. ✓ Article 3

2. ✘ Article 4

3. ✘ Article 6

4. ✘ Article 8

**Question Number : 82 Question Id : 630680271283 Is Question Mandatory : No Calculator :
None Response Time : N.A Think Time : N.A Minimum Instruction Time : 0**

Correct Marks : 1 Wrong Marks : 0

భారత రాజ్యాంగంలోని కింది ఏ అధికరణం గ్రామ పంచాయతీల సంస్థకు సంబంధించింది?

Options :

1. ✘ అధికరణం 35

2. ✘ అధికరణం 39

3. ✔ అధికరణం 40

4. ✘ అధికరణం 44

**Question Number : 82 Question Id : 630680271283 Is Question Mandatory : No Calculator :
None Response Time : N.A Think Time : N.A Minimum Instruction Time : 0**

Correct Marks : 1 Wrong Marks : 0

Which of the following Articles of the Indian Constitution deals with the organisation of village panchayats?

Options :

1. ✘ Article 35

2. ✘ Article 39

3. ✔ Article 40

4. ✘ Article 44

**Question Number : 83 Question Id : 630680271284 Is Question Mandatory : No Calculator :
None Response Time : N.A Think Time : N.A Minimum Instruction Time : 0
Correct Marks : 1 Wrong Marks : 0**

Arrange the following political parties as per the seats won by them in the Karnataka assembly election held in May 2023.

A. Bharatiya Janata Party

B. Indian National Congress

C. Janata Dal (Secular)

D. Kalyana Rajya Pragathi Paksha

Options :

1. ✘ A B C D

2. ✔ B A C D

3. ✘ D A C B

4. ✘ D B A C

**Question Number : 83 Question Id : 630680271284 Is Question Mandatory : No Calculator :
None Response Time : N.A Think Time : N.A Minimum Instruction Time : 0**

Correct Marks : 1 Wrong Marks : 0

మే 2023లో జరిగిన కర్నాటక అసెంబ్లీ ఎన్నికల్లో క్రింది రాజకీయ పార్టీలను అవి గెలిచిన సీట్ల ప్రకారం అమర్చండి.

- A. భారతీయ జనతా పార్టీ
- B. భారత జాతీయ కాంగ్రెస్
- C. జనతాదళ్ (సెక్యులర్)
- D. కళ్యాణ రాజ్య ప్రగతి పక్ష

Options :

1. ✘ A, B, C, D

2. ✔ B, A, C, D

3. ✘ D, A, C, B

4. ✘ D, B, A, C

Question Number : 84 Question Id : 630680271285 Is Question Mandatory : No Calculator :

None Response Time : N.A Think Time : N.A Minimum Instruction Time : 0

Correct Marks : 1 Wrong Marks : 0

కింది ప్రకటనలలో ఏది సరైనది కాదు?

- A. మార్చి 13న, స్వలింగ సంపర్కుల వివాహాలకు చట్టపరమైన ధ్రువీకరణను డిమాండ్ చేస్తూ డాఖలైన అనేక పిటిషన్లను రాజ్యాంగ ధర్మాసనం నిర్ణయిస్తుందని సుప్రీంకోర్టు నిర్ణయించింది.
- B. ధర్మాసనంలో భారత ప్రధాన న్యాయమూర్తి (CJI) ధనంజయ Y చంద్రచూడ్, మరియు న్యాయమూర్తులు సంజయ్ కిషన్ కౌల్, S రవీంద్ర భట్, PS నరసింహ మరియు హిమా కోష్లిలు ఉన్నారు.
- C. అధికరణం 273 రాజ్యాంగం యొక్క వివరణకు సంబంధించిన అంశంలో కనీసం ఐదుగురు న్యాయమూర్తులచే విచారణ చేయబడాలి.

Options :

1. ✘ A మాత్రమే

2. ✘ B మాత్రమే

3. ✔ C మాత్రమే

4. ✘ B మరియు A లు రెండూ

Question Number : 84 Question Id : 630680271285 Is Question Mandatory : No Calculator :

None Response Time : N.A Think Time : N.A Minimum Instruction Time : 0

Correct Marks : 1 Wrong Marks : 0

Which of the following statements is NOT correct?

- A. On March 13, the Supreme Court decided that a bunch of petitions demanding legal validation for same-sex marriages will be decided by a constitutional bench.
- B. The bench will comprise Chief Justice of India (CJI) Dhananjaya Y Chandrachud, and justices Sanjay Kishan Kaul, S Ravindra Bhat, PS Narasimha, and Hima Kohli.
- C. Article 273 lays down cases that involve a substantial question of law in a matter relating to the interpretation of the Constitution should be heard by at least five judges.

Options :

1. ✘ Only A

2. ✘ Only B

3. ✔ Only C

4. ✘ Both B and A

Question Number : 85 Question Id : 630680271286 Is Question Mandatory : No Calculator :

None Response Time : N.A Think Time : N.A Minimum Instruction Time : 0

Correct Marks : 1 Wrong Marks : 0

Arrange the following states as per their number of Rajya Sabha seats in highest to lowest order.

- A. Andhra Pradesh
- B. Arunachal Pradesh
- C. Assam
- D. Bihar

Options :

1. ✘ A D C B

2. ✔ D A C B

3. ✘ D A B C

4. ✘ B A C D

Question Number : 85 Question Id : 630680271286 Is Question Mandatory : No Calculator :

None Response Time : N.A Think Time : N.A Minimum Instruction Time : 0

Correct Marks : 1 Wrong Marks : 0

కింది రాష్ట్రాలను వాటి రాజ్యసభ సీట్ల సంఖ్య ఆధారంగా ఎక్కువ నుండి తక్కువకు అమర్చండి.

- A. ఆంధ్రప్రదేశ్
- B. అరుణాచల్ ప్రదేశ్
- C. అస్సాం
- D. బీహార్

Options :

1. ✘ A, D, C, B

2. ✔ D, A, C, B

3. ✘ D, A, B, C

4. ✘ B, A, C, D

Question Number : 86 Question Id : 630680271287 Is Question Mandatory : No Calculator :

None Response Time : N.A Think Time : N.A Minimum Instruction Time : 0

Correct Marks : 1 Wrong Marks : 0

As of May 2023, who is the deputy Chief Minister of Maharashtra?

Options :

1. ✘ Supriya Sule

2. ✘ RR Patil

3. ✘ Ajit Pawar

4. ✔ Devendra Fadnavis

Question Number : 86 Question Id : 630680271287 Is Question Mandatory : No Calculator :

None Response Time : N.A Think Time : N.A Minimum Instruction Time : 0

Correct Marks : 1 Wrong Marks : 0

మే 2023 నాటికి, మహారాష్ట్ర ఉప ముఖ్యమంత్రి ఎవరు?

Options :

1. ✘ సుప్రీయా సూలే

2. ✘ ఆర్ఆర్ పాటిల్

3. ✘ అజిత్ పవార్

4. ✔ దేవేంద్ర పడ్నవీస్

Question Number : 87 Question Id : 630680271288 Is Question Mandatory : No Calculator :

None Response Time : N.A Think Time : N.A Minimum Instruction Time : 0

Correct Marks : 1 Wrong Marks : 0

Which of the following statements about Directive Principles of State Policy is INCORRECT?

- A. Article 50 says that the state shall endeavour to protect and improve the environment and safeguard the forests and wildlife of the country.
- B. Article 49 says the State shall take steps to separate the judiciary from the executive in the public services of the State.
- C. Article 51 deals with the Promotion of international peace and security.

Options :

1. ✘ Only A

2. ✔ Both A and B

3. ✘ Both B and C

4. ✘ Only C

Question Number : 87 Question Id : 630680271288 Is Question Mandatory : No Calculator :

None Response Time : N.A Think Time : N.A Minimum Instruction Time : 0

Correct Marks : 1 Wrong Marks : 0

రాష్ట్ర విధాన నిర్దేశక సూత్రాల గురించిన కింది ప్రకటనలలో సరికానిది ఏది?

- A. అధికరణం 50 ప్రకారం, రాష్ట్రం పర్యావరణాన్ని రక్షించడానికి మరియు మెరుగుపరచడానికి మరియు దేశంలోని అడవులు మరియు వన్యప్రాణులను రక్షించడానికి ప్రయత్నిస్తుంది.
- B. అధికరణం 49 ప్రకారం రాష్ట్ర ప్రభుత్వ సేవలలో కార్యనిర్వాహక వ్యవస్థ నుండి న్యాయవ్యవస్థను వేరు చేయడానికి రాష్ట్రం చర్యలు తీసుకుంటుంది.
- C. అధికరణం 51 అంతర్జాతీయ శాంతి మరియు భద్రతను ప్రోత్సహిస్తుంది.

Options :

1. ✘ A మాత్రమే
2. ✔ A మరియు B లు రెండూ
3. ✘ B మరియు C లు రెండూ
4. ✘ C మాత్రమే

Question Number : 88 Question Id : 630680271289 Is Question Mandatory : No Calculator :

None Response Time : N.A Think Time : N.A Minimum Instruction Time : 0

Correct Marks : 1 Wrong Marks : 0

As of May 2023, how many states in India have Legislative Councils?

Options :

1. ✘ Five
2. ✔ Six
3. ✘ Seven

4. ✘ Eight

Question Number : 88 Question Id : 630680271289 Is Question Mandatory : No Calculator :

None Response Time : N.A Think Time : N.A Minimum Instruction Time : 0

Correct Marks : 1 Wrong Marks : 0

మే 2023 నాటికి, భారతదేశంలో ఎన్ని రాష్ట్రాలు శాసన మండలిలను కలిగి ఉన్నాయి?

Options :

1. ✘ ఐదు

2. ✔ ఆరు

3. ✘ ఏడు

4. ✘ ఎనిమిది

Question Number : 89 Question Id : 630680271290 Is Question Mandatory : No Calculator :

None Response Time : N.A Think Time : N.A Minimum Instruction Time : 0

Correct Marks : 1 Wrong Marks : 0

Arrange the following states from newer to older as per their years of foundation.

A. Andhra Pradesh

B. Arunachal Pradesh

C. Assam

D. Manipur

Options :

1. ✔ B D A C

2. ✘ ABCD

3. ✘ DCBA

4. ✘ CBAD

**Question Number : 89 Question Id : 630680271290 Is Question Mandatory : No Calculator :
None Response Time : N.A Think Time : N.A Minimum Instruction Time : 0**

Correct Marks : 1 Wrong Marks : 0

కింది రాష్ట్రాలను వాటి ఆవిర్భావ సంవత్సరాల ప్రకారం కొత్త నుండి పాత వరకు అమర్చండి.

A. ఆంధ్రప్రదేశ్

B. అరుణాచల్ ప్రదేశ్

C. అస్సాం

D. మణిపూర్

Options :

1. ✔ B, D, A, C

2. ✘ A, B, C, D

3. ✘ D, C, B, A

4. ✘ C, B, A, D

**Question Number : 90 Question Id : 630680271291 Is Question Mandatory : No Calculator :
None Response Time : N.A Think Time : N.A Minimum Instruction Time : 0**

Correct Marks : 1 Wrong Marks : 0

Which of the following pairs is INCORRECT about various religious movements in India and their years of foundation?

A. Brahma Samaj - 1861

B. Arya Samaj - 1875

C. Prarthana Samaj - 1867

Options :

1. ✓ Only A

2. ✗ Both A and B

3. ✗ Only C

4. ✗ Both B and C

Question Number : 90 Question Id : 630680271291 Is Question Mandatory : No Calculator :

None Response Time : N.A Think Time : N.A Minimum Instruction Time : 0

Correct Marks : 1 Wrong Marks : 0

కింది వాటిలో భారతదేశంలోని వివిధ మతపరమైన ఉద్యమాలు మరియు వాటి ఆవిర్భావ సంవత్సరాల గురించి తప్పుగా ఉన్న జత ఏది?

A. బ్రహ్మ సమాజం - 1861

B. ఆర్యసమాజం - 1875

C. ప్రార్థన సమాజం - 1867

Options :

1. ✓ A మాత్రమే

2. ✗ A మరియు B లు రెండూ

3. ✘ C మాత్రమే

4. ✘ B మరియు C లు రెండూ

Question Number : 91 Question Id : 630680271292 Is Question Mandatory : No Calculator :

None Response Time : N.A Think Time : N.A Minimum Instruction Time : 0

Correct Marks : 1 Wrong Marks : 0

Which of the following statements is/are correct?

A. Vivekananda spread Ramakrishna's religious teachings to a wide audience.

B. In 1867, Keshab Chandra Sen helped Atmaram Pandurang create the Prarthana Samaj in Bombay.

Options :

1. ✘ Only A

2. ✔ Both A and B

3. ✘ Only B

4. ✘ None of the options

Question Number : 91 Question Id : 630680271292 Is Question Mandatory : No Calculator :

None Response Time : N.A Think Time : N.A Minimum Instruction Time : 0

Correct Marks : 1 Wrong Marks : 0

కింది ప్రకటనలలో ఏది/ఏవి సరైనది/సరైనవి?

A. వివేకానందుడు, రామకృష్ణ గారి మత బోధనలను విస్తృత ప్రేక్షకులకు వ్యాప్తి చేశారు.

B. 1867లో, కేశబ్ చంద్ర సేన్ బొంబాయిలో ప్రార్థనా సమాజాన్ని స్థాపించడంలో ఆత్మారామ్ పాండురంగ్‌కు సహాయం చేశాడు.

Options :

1. ✘ A మాత్రమే

2. ✔ A మరియు B లు రెండూ

3. ✘ B మాత్రమే

4. ✘ ఎంపికలలో ఏదీ కాదు

Question Number : 92 Question Id : 630680271293 Is Question Mandatory : No Calculator :

None Response Time : N.A Think Time : N.A Minimum Instruction Time : 0

Correct Marks : 1 Wrong Marks : 0

వివిధ చట్టాలు మరియు అవి ఆమోదించబడిన సంవత్సరాలకు సంబంధించి కింది జంటలలో సరికానిది ఏది?

A. రాష్ట్రాల పునర్వ్యవస్థీకరణ చట్టం - 1956

B. బాల్య వివాహాల నిషేధ చట్టం - 2006

C. ఈశాన్య ప్రాంతాల (పునర్వ్యవస్థీకరణ) చట్టం - 1961

Options :

1. ✘ A మాత్రమే

2. ✘ A మరియు B లు రెండూ

3. ✘ B మరియు C లు రెండూ

4. ✔ C మాత్రమే

Question Number : 92 Question Id : 630680271293 Is Question Mandatory : No Calculator :

None Response Time : N.A Think Time : N.A Minimum Instruction Time : 0

Correct Marks : 1 Wrong Marks : 0

Which of the following pairs is INCORRECT about various acts and the years in which they were passed?

- A. The States Reorganisation Act - 1956
- B. The Prohibition of Child Marriage Act - 2006
- C. The North-eastern Areas (Reorganisation) Act - 1961

Options :

- 1. ✘ Only A
- 2. ✘ Both A and B
- 3. ✘ Both B and C
- 4. ✔ Only C

Question Number : 93 Question Id : 630680271294 Is Question Mandatory : No Calculator :

None Response Time : N.A Think Time : N.A Minimum Instruction Time : 0

Correct Marks : 1 Wrong Marks : 0

When was Morarji Desai sworn in as the Prime Minister of India?

Options :

- 1. ✘ 1967
- 2. ✘ 1969
- 3. ✘ 1971
- 4. ✔ 1977

Question Number : 93 Question Id : 630680271294 Is Question Mandatory : No Calculator :
None Response Time : N.A Think Time : N.A Minimum Instruction Time : 0

Correct Marks : 1 Wrong Marks : 0

భారతదేశ ప్రధానమంత్రిగా మొరార్జీ దేశాయ్ ఎప్పుడు ప్రమాణ స్వీకారం చేశారు?

Options :

1. ✘ 1967

2. ✘ 1969

3. ✘ 1971

4. ✔ 1977

Question Number : 94 Question Id : 630680271295 Is Question Mandatory : No Calculator :
None Response Time : N.A Think Time : N.A Minimum Instruction Time : 0

Correct Marks : 1 Wrong Marks : 0

కింది వాటిలో భారతదేశ మాజీ రాష్ట్రపతులు మరియు వారు రాష్ట్రపతి పదవిని పొందిన సంవత్సరాల ప్రకారం సరికాని జత ఏది?

A. వరాహగిరి వెంకట గిరి - 1969

B. నీలం సంజీవ రెడ్డి - 1977

C. గియాని జైల్ సింగ్ - 1979

Options :

1. ✘ A మాత్రమే

2. ✘ A మరియు B లు రెండూ

3. ✘ B మరియు C లు రెండూ

4. ✔ C మాత్రమే

Question Number : 94 Question Id : 630680271295 Is Question Mandatory : No Calculator :

None Response Time : N.A Think Time : N.A Minimum Instruction Time : 0

Correct Marks : 1 Wrong Marks : 0

Which of the following pairs is INCORRECT as per the past presidents of India and the years in which they resumed the office of president?

A. Varahagiri Venkata Giri - 1969

B. Neelam Sanjiva Reddy - 1977

C. Giani Zail Singh - 1979

Options :

1. ✘ Only A

2. ✘ Both A and B

3. ✘ Both B and C

4. ✔ Only C

Question Number : 95 Question Id : 630680271296 Is Question Mandatory : No Calculator :

None Response Time : N.A Think Time : N.A Minimum Instruction Time : 0

Correct Marks : 1 Wrong Marks : 0

ప్రధానమంత్రి పదవిని చేపట్టిన సంవత్సరాలకు అనుగుణంగా ఈ క్రింది భారత మాజీ ప్రధానమంత్రులను కఠోత్ర నుండి పాత వరకు అమర్చండి.

A. ఇందర్ కుమార్ గుజ్రాల్

B. పి.వి.నరసింహారావు

C. చంద్ర శేఖర్

D. విశ్వనాథ్ ప్రతాప్ సింగ్

Options :

1. ✘ A, C, B, D

2. ✘ D, C, B, A

3. ✔ A, B, C, D

4. ✘ D, C, A, B

Question Number : 95 Question Id : 630680271296 Is Question Mandatory : No Calculator :

None Response Time : N.A Think Time : N.A Minimum Instruction Time : 0

Correct Marks : 1 Wrong Marks : 0

Arrange the following past Prime Ministers of India from newest to oldest as per the years in which they resumed the Office of Prime Minister.

A. Inder Kumar Gujral

B. PV Narasimha Rao

C. Chandra Shekhar

D. Vishwanath Pratap Singh

Options :

1. ✘ A C B D

2. ✘ DCBA

3. ✔ ABCD

4. ✘ DCAB

**Question Number : 96 Question Id : 630680271297 Is Question Mandatory : No Calculator :
None Response Time : N.A Think Time : N.A Minimum Instruction Time : 0**

Correct Marks : 1 Wrong Marks : 0

Which of the following statements is INCORRECT?

A. The Non-cooperation movement was a political campaign launched in September 1920.

B. The Jallianwala Bagh massacre, also known as the Amritsar massacre, took place on 13 April 1922.

Options :

1. ✘ Only A

2. ✘ Both A and B

3. ✔ Only B

4. ✘ None of the options

**Question Number : 96 Question Id : 630680271297 Is Question Mandatory : No Calculator :
None Response Time : N.A Think Time : N.A Minimum Instruction Time : 0**

Correct Marks : 1 Wrong Marks : 0

కింది ప్రకటనలలో సరికానిది ఏది?

A. సహాయ నిరాకరణ ఉద్యమం సెప్టెంబర్ 1920లో ప్రారంభించబడిన రాజకీయ ప్రచారం.

B. జలియన్‌వాలాబాగ్ మారణకాండను, అమృత్‌సర్ ఉచకోత అని కూడా పిలుస్తారు, ఇది 1922 ఏప్రిల్ 13న జరిగింది.

Options :

1. ✘ A మాత్రమే

2. ✘ A మరియు B లు రెండూ

3. ✔ B మాత్రమే

4. ✘ ఎంపికలలో ఏదీ కాదు

Question Number : 97 Question Id : 630680271298 Is Question Mandatory : No Calculator :

None Response Time : N.A Think Time : N.A Minimum Instruction Time : 0

Correct Marks : 1 Wrong Marks : 0

Which of the following statements is INCORRECT?

A. Bhagat Singh, Rajguru, and Sukhdev were sentenced to death in the Lahore conspiracy case and ordered to be hanged on 24 March 1928.

B. Salt March, also called Dandi March or Salt Satyagraha, major nonviolent protest action in India was led by Mohandas Gandhi in 1930.

Options :

1. ✔ Only A

2. ✘ Both A and B

3. ✘ Only B

4. ✘ None of the options

Question Number : 97 Question Id : 630680271298 Is Question Mandatory : No Calculator :

None Response Time : N.A Think Time : N.A Minimum Instruction Time : 0

Correct Marks : 1 Wrong Marks : 0

కింది ప్రకటనలలో సరికానిది ఏది?

- A. లాహోర్ కుట్ట కేసులో భగత్ సింగ్, రాజ్ గురు మరియు సుభదేవ్ లకు మరణశిక్ష విధించబడింది మరియు 24 మార్చి 1928న వారిని ఉరితీయాలని ఆదేశించబడింది.
- B. ఉప్పు యాత్ర, దండి యాత్ర లేదా ఉప్పు సత్యాగ్రహం అని కూడా పిలుస్తారు, భారతదేశంలో ఈ ప్రధాన అహింసా నిరసన చర్య 1930లో మోహన్ దాస్ గాంధీ నేతృత్వంలో జరిగింది.

Options :

1. ✔ A మాత్రమే

2. ✘ A మరియు B లు రెండూ

3. ✘ B మాత్రమే

4. ✘ ఎంపికలలో ఏదీ కాదు

Question Number : 98 Question Id : 630680271299 Is Question Mandatory : No Calculator :

None Response Time : N.A Think Time : N.A Minimum Instruction Time : 0

Correct Marks : 1 Wrong Marks : 0

Which of the following statements is true about the New Economic Policy of 1991?

- A. Dr. Manmohan Singh was the Prime Minister of India when the New Economic Policy of 1991 was introduced.
- B. Pranab Mukherjee was the Finance Minister of India when the New Economic Policy of 1991 was introduced.

Options :

1.

✘ Only A

2. ✘ Both A and B

3. ✘ Only B

4. ✔ None of the options

Question Number : 98 Question Id : 630680271299 Is Question Mandatory : No Calculator :

None Response Time : N.A Think Time : N.A Minimum Instruction Time : 0

Correct Marks : 1 Wrong Marks : 0

కింది వాటిలో 1991 కొత్త ఆర్థిక విధానం గురించి ఏది నిజం?

A. డా. మన్మోహన్ సింగ్ 1991 కొత్త ఆర్థిక విధానాన్ని ప్రవేశపెట్టినప్పుడు భారత ప్రధానిగా ఉన్నారు.

B. 1991 కొత్త ఆర్థిక విధానాన్ని ప్రవేశపెట్టినప్పుడు ప్రణబ్ ముఖర్జీ భారతదేశ ఆర్థిక మంత్రిగా ఉన్నారు.

Options :

1. ✘ A మాత్రమే

2. ✘ A మరియు B లు రెండూ

3. ✘ B మాత్రమే

4. ✔ ఎంపికలలో ఏదీ కాదు

Question Number : 99 Question Id : 630680271300 Is Question Mandatory : No Calculator :

None Response Time : N.A Think Time : N.A Minimum Instruction Time : 0

Correct Marks : 1 Wrong Marks : 0

కింది వాటిలో 1991 కొత్త ఆర్థిక విధానం గురించి ఏది నిజం?

A. 1991 కొత్త ఆర్థిక విధానం దిగుమతి సుంకాలను సరళీకరించింది మరియు సడలించింది.

B. 1991 కొత్త ఆర్థిక విధానం మార్కెట్లను నియంత్రించి, ప్రైవేట్ మరియు విదేశీ బహుళజాతి కంపెనీలపై కఠినమైన పరిమితులను విధించింది.

Options :

1. ✓ A మాత్రమే

2. ✗ A మరియు B లు రెండూ

3. ✗ B మాత్రమే

4. ✗ ఎంపికలలో ఏదీ కాదు

Question Number : 99 Question Id : 630680271300 Is Question Mandatory : No Calculator :

None Response Time : N.A Think Time : N.A Minimum Instruction Time : 0

Correct Marks : 1 Wrong Marks : 0

Which of the following statements is true about the New Economic Policy of 1991?

A. The New Economic Policy of 1991 liberalized and relaxed the import tariffs.

B. The New Economic Policy of 1991 regulated the markets and put stiff restrictions on private and foreign multinational companies.

Options :

1. ✓ Only A

2. ✗ Both A and B

3. ✗ Only B

4. ✘ None of the options

Question Number : 100 Question Id : 630680271301 Is Question Mandatory : No Calculator :

None Response Time : N.A Think Time : N.A Minimum Instruction Time : 0

Correct Marks : 1 Wrong Marks : 0

గుత్తాధిపత్యం మరియు నిర్బంధ వాణిజ్య పద్ధతుల చట్టం, 1969 (MRTP చట్టం) _____ ద్వారా భర్తీ చేయబడింది.

Options :

1. ✘ పోటీ చట్టం, 2005

2. ✘ పోటీ చట్టం, 2004

3. ✘ పోటీ చట్టం, 2003

4. ✔ పోటీ చట్టం, 2002

Question Number : 100 Question Id : 630680271301 Is Question Mandatory : No Calculator :

None Response Time : N.A Think Time : N.A Minimum Instruction Time : 0

Correct Marks : 1 Wrong Marks : 0

The Monopolies and Restrictive Trade Practices Act, 1969 (MRTP Act) has been replaced by the _____.

Options :

1. ✘ Competition Act, 2005

2. ✘ Competition Act, 2004

3. ✘ Competition Act, 2003

4. ✓ Competition Act, 2002

Question Number : 101 Question Id : 630680271302 Is Question Mandatory : No Calculator :

None Response Time : N.A Think Time : N.A Minimum Instruction Time : 0

Correct Marks : 1 Wrong Marks : 0

In 2020-21, what was the approximate percentage share of Gross Value Added (GVA) of Agriculture and Allied Sectors to the total economy of India?

Options :

1. ✓ 20.2%

2. ✘ 25.2%

3. ✘ 18.2%

4. ✘ 16.2%

Question Number : 101 Question Id : 630680271302 Is Question Mandatory : No Calculator :

None Response Time : N.A Think Time : N.A Minimum Instruction Time : 0

Correct Marks : 1 Wrong Marks : 0

2020-21లో, భారతదేశ మొత్తం ఆర్థిక వ్యవస్థలో వ్యవసాయం మరియు అనుబంధ రంగాల స్థూల విలువ జోడింపు (GVA) యొక్క సుమారు శాతం ఎంత?

Options :

1. ✓ 20.2%

2. ✘ 25.2%

3. ✘ 18.2%

4. ✘ 16.2%

Question Number : 102 Question Id : 630680271303 Is Question Mandatory : No Calculator :

None Response Time : N.A Think Time : N.A Minimum Instruction Time : 0

Correct Marks : 1 Wrong Marks : 0

In which of the following years was the Twelfth Five-Year Plan implemented?

Options :

1. ✔ 2012–2017

2. ✘ 2013–2018

3. ✘ 2014–2019

4. ✘ 2015–2020

Question Number : 102 Question Id : 630680271303 Is Question Mandatory : No Calculator :

None Response Time : N.A Think Time : N.A Minimum Instruction Time : 0

Correct Marks : 1 Wrong Marks : 0

కింది ఏ సంవత్సరంలో పన్నెండవ పంచవర్ష ప్రణాళిక అమలు చేయబడింది?

Options :

1. ✔ 2012–2017

2. ✘ 2013–2018

3. ✘ 2014–2019

4. ✘ 2015–2020

Question Number : 103 Question Id : 630680271304 Is Question Mandatory : No Calculator :

None Response Time : N.A Think Time : N.A Minimum Instruction Time : 0

Correct Marks : 1 Wrong Marks : 0

కింది వాటిలో ఏ పంచవర్ష ప్రణాళికలు దాని ప్రధాన లక్ష్యాలతో సరిగ్గా జత చేయబడలేదు?

- A. మొదటి పంచవర్ష ప్రణాళిక - వ్యవసాయం
- B. రెండవ పంచవర్ష ప్రణాళిక - పారిశ్రామికీకరణ
- C. ఐదవ పంచవర్ష ప్రణాళిక - భారత జాతీయ రహదారి వ్యవస్థ

Options :

- 1. ✘ A మాత్రమే
- 2. ✘ A మరియు B లు రెండూ
- 3. ✘ B మాత్రమే
- 4. ✔ ఎంపికలలో ఏదీ కాదు

Question Number : 103 Question Id : 630680271304 Is Question Mandatory : No Calculator :

None Response Time : N.A Think Time : N.A Minimum Instruction Time : 0

Correct Marks : 1 Wrong Marks : 0

Which of the following Five-Year Plans is NOT correctly paired with its main objectives?

- A. First Five-Year Plan - Agriculture
- B. Second Five-Year Plan - Industrialisation
- C. Fifth Five-Year Plan - Indian National Highway System

Options :

1. ✘ Only A
2. ✘ Both A and B
3. ✘ Only B
4. ✔ None of the options

Question Number : 104 Question Id : 630680271305 Is Question Mandatory : No Calculator :

None Response Time : N.A Think Time : N.A Minimum Instruction Time : 0

Correct Marks : 1 Wrong Marks : 0

In India, the Green Revolution was mainly led by whom among the following persons?

Options :

1. ✘ Subrahmaniam Nagarajan
2. ✘ Benjamin Peary Pal
3. ✔ MS Swaminathan
4. ✘ Hem Singh Pruthi

Question Number : 104 Question Id : 630680271305 Is Question Mandatory : No Calculator :

None Response Time : N.A Think Time : N.A Minimum Instruction Time : 0

Correct Marks : 1 Wrong Marks : 0

భారతదేశంలో, హరిత విప్లవానికి ప్రధానంగా కింది వ్యక్తులలో ఎవరు నాయకత్వం వహించారు?

Options :

1. ✘ సుబ్రహ్మణ్యం నాగరాజన్

2. ✘ టెంజమిన్ పియరీ పాల్

3. ✔ MS స్వామినాథన్

4. ✘ హేమ్ సింగ్ పృథి

Question Number : 105 Question Id : 630680271306 Is Question Mandatory : No Calculator :

None Response Time : N.A Think Time : N.A Minimum Instruction Time : 0

Correct Marks : 1 Wrong Marks : 0

When did the National Coal Development Corporation (NCDC) establish?

Options :

1. ✘ 1947

2. ✘ 1950

3. ✔ 1956

4. ✘ 1971

Question Number : 105 Question Id : 630680271306 Is Question Mandatory : No Calculator :

None Response Time : N.A Think Time : N.A Minimum Instruction Time : 0

Correct Marks : 1 Wrong Marks : 0

జాతీయ బొగ్గు అభివృద్ధి సంస్థ (NCDC) ఎప్పుడు స్థాపించబడింది?

Options :

1. ✘ 1947

2. ✘ 1950

3. ✔ 1956

4. ✘ 1971

Question Number : 106 Question Id : 630680271307 Is Question Mandatory : No Calculator :

None Response Time : N.A Think Time : N.A Minimum Instruction Time : 0

Correct Marks : 1 Wrong Marks : 0

కింది చట్టాలను ఆమోదించిన సంవత్సరం ప్రకారం పాత నుండి కొత్త వరకు అమర్పండి.

A. షెడ్యూల్డ్ కులాలు మరియు షెడ్యూల్డ్ తెగలు (అత్యచారాల నిరోధక) చట్టం.

B. వికలాంగుల (సమాన అవకాశాలు, హక్కుల రక్షణ మరియు పూర్తి భాగస్వామ్యం) చట్టం.

C. ఆడపిల్ల ప్రాణహత్య నిరోధక చట్టం.

Options :

1. ✘ C, B, A

2. ✘ A, B, C

3. ✘ B, A, C

4. ✔ C, A, B

Question Number : 106 Question Id : 630680271307 Is Question Mandatory : No Calculator :

None Response Time : N.A Think Time : N.A Minimum Instruction Time : 0

Correct Marks : 1 Wrong Marks : 0

Arrange the following Acts from oldest to newest as per the year in which they were passed.

- A. Scheduled Castes and the Scheduled Tribes (Prevention of Atrocities) Act.
- B. The Persons with Disabilities (Equal Opportunities, Protection of Rights and Full Participation) Act.
- C. Female Infanticide Prevention Act.

Options :

1. ✘ C B A

2. ✘ A B C

3. ✘ B A C

4. ✔ C A B

Question Number : 107 Question Id : 630680271308 Is Question Mandatory : No Calculator :

None Response Time : N.A Think Time : N.A Minimum Instruction Time : 0

Correct Marks : 1 Wrong Marks : 0

Which of the following schemes aims to provide affordable Health Insurance to persons with Autism, Cerebral Palsy, Mental Retardation, and Multiple Disabilities?

Options :

1. ✘ GHARAUNDA

2. ✘ GYAN PRABHA

3. ✘ SAHYOGI

4. ✔ NIRAMAYA

Question Number : 107 Question Id : 630680271308 Is Question Mandatory : No Calculator :
None Response Time : N.A Think Time : N.A Minimum Instruction Time : 0

Correct Marks : 1 Wrong Marks : 0

క్రింది పథకాలలో పగటి కలలు కనడం, మస్తిష్క పక్షవాతము, మానసిక మాంద్యము మరియు పలు వైకల్యాలు ఉన్న వ్యక్తులకు సరసమైన ఆరోగ్య బీమాను అందించడానికి లక్ష్యంగా పెట్టుకున్నది ఏది?

Options :

1. ✘ ఘరౌండ (GHARAUNDA)
2. ✘ గ్యాన్ ప్రభ (GYAN PRABHA)
3. ✘ సహయోగి (SAHYOGI)
4. ✔ నిరామయ (NIRAMAYA)

Question Number : 108 Question Id : 630680271309 Is Question Mandatory : No Calculator :
None Response Time : N.A Think Time : N.A Minimum Instruction Time : 0

Correct Marks : 1 Wrong Marks : 0

కింది ప్రకటనలలో సరైనది ఏది?

- A. వికలాంగుల (సమాన అవకాశాలు, హక్కుల రక్షణ మరియు పూర్తి భాగస్వామ్యం) చట్టం 1995లో ఆమోదించబడింది.
- B. పగటి కలలు కనడం, మస్తిష్క పక్షవాతము, మానసిక మాంద్యము మరియు పలు వైకల్యాలు ఉన్న వ్యక్తుల సంక్షేమం కోసం చట్టాన్ని నేషనల్ ట్రస్ట్ 1999లో ఆమోదించబడింది.

Options :

1. ✘ A మాత్రమే
2. ✔ A మరియు B లు రెండూ

3. ✘ B మాత్రమే

4. ✘ ఎంపికలలో ఏదీ కాదు

Question Number : 108 Question Id : 630680271309 Is Question Mandatory : No Calculator :

None Response Time : N.A Think Time : N.A Minimum Instruction Time : 0

Correct Marks : 1 Wrong Marks : 0

Which of the following statements is correct?

A. The Persons with Disability (Equal Opportunities, Protection of Rights and Full Participation) Act was passed in 1995.

B. The National Trust for Welfare of Persons with Autism, Cerebral Palsy, Mental Retardation, and Multiple Disability Act was passed in 1999.

Options :

1. ✘ Only A

2. ✔ Both A and B

3. ✘ Only B

4. ✘ None of the options

Question Number : 109 Question Id : 630680271310 Is Question Mandatory : No Calculator :

None Response Time : N.A Think Time : N.A Minimum Instruction Time : 0

Correct Marks : 1 Wrong Marks : 0

Arrange the following states according to the largest to the smallest percentage of Scheduled Tribes to the total Schedule Tribe population in India per the 2011 census.

- A. Maharashtra
- B. Rajasthan
- C. Madhya Pradesh
- D. Odisha

Options :

1. ✘ C D B A

2. ✘ D C A B

3. ✔ C A D B

4. ✘ C D A B

**Question Number : 109 Question Id : 630680271310 Is Question Mandatory : No Calculator :
None Response Time : N.A Think Time : N.A Minimum Instruction Time : 0**

Correct Marks : 1 Wrong Marks : 0

2011 జనాభా లెక్కల ప్రకారం భారతదేశంలోని మొత్తం షెడ్యూల్డ్ తెగల జనాభాలో తక్కువ నుండి ఎక్కువ షెడ్యూల్డ్ తెగల శాతం ప్రకారం క్రింది రాష్ట్రాలను అమర్చండి.

- A. మహారాష్ట్ర
- B. రాజస్థాన్
- C. మధ్యప్రదేశ్
- D. ఒడిశా

Options :

1. ✘ C, D, B, A

2. ✘ D, C, A, B

3. ✔ C, A, D, B

4. ✘ C, D, A, B

Question Number : 110 Question Id : 630680271311 Is Question Mandatory : No Calculator :

None Response Time : N.A Think Time : N.A Minimum Instruction Time : 0

Correct Marks : 1 Wrong Marks : 0

Which of the following statements is NOT correct?

A. According to Census Report 2011, tribes constitute 8.6% of India's population.

B. The Constitution of India in Article 355 (25) prescribes that the Scheduled Tribes mean such tribes or tribal communities as are deemed under Article 342 of the Constitution to be Scheduled Tribes.

Options :

1. ✘ Only A

2. ✘ Both A and B

3. ✔ Only B

4. ✘ None of the options

Question Number : 110 Question Id : 630680271311 Is Question Mandatory : No Calculator :

None Response Time : N.A Think Time : N.A Minimum Instruction Time : 0

Correct Marks : 1 Wrong Marks : 0

కింది ప్రకటనలలో ఏది సరైనది కాదు?

A. జనాభా లెక్కల నివేదిక 2011 ప్రకారం, భారతదేశ జనాభాలో 8.6% మంది గిరిజనులు ఉన్నారు.

B. భారత రాజ్యాంగం అధికరణం 355 (25)లో షెడ్యూల్డ్ తెగలు అంటే రాజ్యాంగంలోని అధికరణం 342 ప్రకారం షెడ్యూల్డ్ తెగలుగా పరిగణించబడే తెగలు లేదా గిరిజన సంఘాలు.

Options :

1. ✘ A మాత్రమే

2. ✘ A మరియు B లు రెండూ

3. ✔ B మాత్రమే

4. ✘ ఎంపికలలో ఏదీ కాదు

Question Number : 111 Question Id : 630680271312 Is Question Mandatory : No Calculator :

None Response Time : N.A Think Time : N.A Minimum Instruction Time : 0

Correct Marks : 1 Wrong Marks : 0

Parul, Qureshi, Riya, Sakshi, Tina and Veena are sitting in a circle facing the centre of the circle. Tina is not between Qureshi and Sakshi but some other one. Parul is next to the left of Veena. Riya is 4th to the right of Parul.

Which of the following Matches represents the correct combination?

Person	Position
(a) Sakshi	(1) just next to the right to Riya
(b) Tina	(2) just next to the right of Veena
(c) Riya	(3) second to the right of Tina
(d) Parul	(4) second to the right of Riya

Options :

1. ✘ a - 4

2. ✘ b - 2

3. ✔ c - 3

4. ✘ d - 1

Question Number : 111 Question Id : 630680271312 Is Question Mandatory : No Calculator :

None Response Time : N.A Think Time : N.A Minimum Instruction Time : 0

Correct Marks : 1 Wrong Marks : 0

పారుల్, ఖుర్రేషీ, రియా, సాక్షి, టీనా మరియు వీణ అనేవారు వృత్తాకారంలో కేంద్రాభిముఖంగా కూర్చున్నారు. టీనా, ఖుర్రేషీ మరియు సాక్షిల మధ్య కాకుండా మరొకరి మధ్య ఉంది. వీణకు తరువాత ఎడమ వైపున పారుల్ ఉంది. పారుల్ కి కుడివైపున రియా 4వ స్థానంలో ఉంది.

కింది జతలలో ఏది సరైన కలయికను సూచిస్తుంది?

వ్యక్తి	స్థానం
(a) సాక్షి	(1) రియాకు కుడి వైపు వెంటనే పక్కన
(b) టీనా	(2) వీణకు కుడి వైపు వెంటనే పక్కన
(c) రియా	(3) టీనాకు కుడి వైపు రెండవది
(d) పారుల్	(4) రియాకు కుడి వైపు రెండవది

Options :

1. ✘ a - 4

2. ✘ b - 2

3. ✔ c - 3

4. ✘ d - 1

Question Number : 112 Question Id : 630680271313 Is Question Mandatory : No Calculator :

None Response Time : N.A Think Time : N.A Minimum Instruction Time : 0

Correct Marks : 1 Wrong Marks : 0

Poorvesh, Quran, Ramesh, Suresh, Tabish, Umar, Vipin, and Wang are seated in a circle facing the centre of the table. Poorvesh is seated third to Wang's right and third to Quran's left. Suresh is the second to Tabish's right. Vipin is the second to Ramesh's left. Tabish is not a neighbour of Quran. Neither Tabish nor Wang is a neighbour of Umar.

Match the correct for position from following

Person	Position
(a) Umar	(1) is the second to Vipin's left
(b) Tabish	(2) just next to the right of Vipin
(c) Ramesh	(3) is the second to Vipin's left
(d) Poorvesh	(4) is the third to Vipin's left

Options :

1. ✓ A - 1

2. ✗ B - 2

3. ✗ C - 3

4. ✗ D - 1

Question Number : 112 Question Id : 630680271313 Is Question Mandatory : No Calculator :

None Response Time : N.A Think Time : N.A Minimum Instruction Time : 0

Correct Marks : 1 Wrong Marks : 0

పూర్వేష్, ఖురాన్, రమేష్, సురేష్, తబీష్, ఉమర్, విపిన్ మరియు వాంగ్ అనేవారు టేబుల్ కేంద్రాభిముఖంగా వృత్తాకారంలో కూర్చున్నారు. పూర్వేష్, వాంగ్ యొక్క కుడి వైపున మూడవ స్థానంలో మరియు ఖురాన్ యొక్క ఎడమ వైపున మూడవ స్థానంలో కూర్చున్నాడు. తబీష్ కు కుడి వైపున సురేష్ రెండోవాడు. రమేష్ కి ఎడమ వైపున విపిన్ రెండోవాడు. తబీష్, ఖురాన్ కు పొరుగువాడు కాదు. తబీష్ కానీ లేదా వాంగ్ కానీ ఎవరూ ఉమర్ కు పొరుగువారు కాదు.

కింది జతలలో ఏది సరైన కలయికను సూచిస్తుంది?

వ్యక్తి	స్థానం
(a) ఉమర్	(1) విపిన్ కు ఎడమ వైపున రెండోవాడు
(b) తబీష్	(2) విపిన్ కు తక్షణ కుడి పక్కనవాడు
(c) రమేష్	(3) విపిన్ కు ఎడమ వైపున రెండోవాడు
(d) పూర్వేష్	(4) విపిన్ కు ఎడమ వైపున మూడోవాడు

Options :

1. ✓ A – 1

2. ✗ B – 2

3. ✗ C – 3

4. ✗ D – 1

Question Number : 113 Question Id : 630680271314 Is Question Mandatory : No Calculator :

None Response Time : N.A Think Time : N.A Minimum Instruction Time : 0

Correct Marks : 1 Wrong Marks : 0

What was the day of the week on 30th May 1998, if 3rd January 1998 is Saturday?

Options :

1. ✗ Sunday

2. ✘ Monday

3. ✘ Tuesday

4. ✔ Saturday

Question Number : 113 Question Id : 630680271314 Is Question Mandatory : No Calculator :

None Response Time : N.A Think Time : N.A Minimum Instruction Time : 0

Correct Marks : 1 Wrong Marks : 0

ఒకవేళ జనవరి 3, 1998న శనివారం అయినట్లైతే, 30 మే 1998న వారంలోని ఏ రోజు అవుతుంది?

Options :

1. ✘ ఆదివారం

2. ✘ సోమవారం

3. ✘ మంగళవారం

4. ✔ శనివారం

Question Number : 114 Question Id : 630680271315 Is Question Mandatory : No Calculator :

None Response Time : N.A Think Time : N.A Minimum Instruction Time : 0

Correct Marks : 1 Wrong Marks : 0

జనవరి 1, 2006న ఆదివారం. జనవరి 3, 2010న వారంలోని ఏ రోజు అవుతుంది?

Options :

1. ✘ శనివారం

2. ✘ శుక్రవారం

3. ✘ సోమవారం

4. ✔ ఆదివారం

Question Number : 114 Question Id : 630680271315 Is Question Mandatory : No Calculator :

None Response Time : N.A Think Time : N.A Minimum Instruction Time : 0

Correct Marks : 1 Wrong Marks : 0

It was Sunday on January 1, 2006. What was the day of the week on January 3, 2010?

Options :

1. ✘ Saturday

2. ✘ Friday

3. ✘ Monday

4. ✔ Sunday

Question Number : 115 Question Id : 630680271316 Is Question Mandatory : No Calculator :

None Response Time : N.A Think Time : N.A Minimum Instruction Time : 0

Correct Marks : 1 Wrong Marks : 0

Read the given statements and conclusions carefully. Assuming that the information given in the statements is true, even if it appears to be at variance with commonly known facts, decide which of the given conclusions logically follow(s) from the statements.

Statements:

All bats are balls.

All balls are stumps.

Some bails are stumps.

Conclusions:

1. Some stumps are bats.

2. Some bails are balls.

3. All balls are bats.

Options :

1. ✘ Both conclusions (1) and (2) follow.

2. ✔ Only conclusion (1) follows.

3. ✘ Only conclusion (2) follows.

4. ✘ Both conclusions (1) and (3) follow.

Question Number : 115 Question Id : 630680271316 Is Question Mandatory : No Calculator :

None Response Time : N.A Think Time : N.A Minimum Instruction Time : 0

Correct Marks : 1 Wrong Marks : 0

ఇచ్చిన ప్రకటనలను మరియు ముగింపులను జాగ్రత్తగా చదవండి. సాధారణంగా తెలిసిన వాస్తవాలతో విభేదిస్తున్నట్లు కనిపించినప్పటికీ ప్రకటనలలో ఇవ్వబడిన సమాచారం నిజమని భావిస్తూ, ఇచ్చిన ముగింపులలో ఏది/వి తార్కికంగా ప్రకటనలను అనుసరిస్తుందో/స్తాయో నిర్ణయించండి.

ప్రకటనలు: బ్యాట్లు అన్ని బంతులు.

బంతులు అన్ని స్టంప్లు.

కొన్ని బెయిల్లు స్టంప్లు.

ముగింపులు:

1. కొన్ని స్టంప్లు బ్యాట్లు.

2. కొన్ని బెయిల్లు బంతులు.

3. బంతులు అన్ని బ్యాట్లు.

Options :

1. ✘ ముగింపులు (1) మరియు (2)లు రెండూ అనుసరిస్తాయి.

2. ✔ ముగింపు (1) మాత్రమే అనుసరిస్తుంది.

3. ✘ ముగింపు (2) మాత్రమే అనుసరిస్తుంది.

4. ✘ ముగింపులు (1) మరియు (3) లు రెండూ అనుసరిస్తాయి.

Question Number : 116 Question Id : 630680271317 Is Question Mandatory : No Calculator :

None Response Time : N.A Think Time : N.A Minimum Instruction Time : 0

Correct Marks : 1 Wrong Marks : 0

Read the given statements and conclusions carefully. Assuming that the information given in the statements is true, even if it appears to be at variance with commonly known facts, decide which of the given conclusions logically follow(s) from the statements.

Statements:

Some fawns are gorillas.

All gorillas are leopards.

Some eels are wolves.

Conclusions:

(I) Some fawns are wolves.

(II) Some leopards are fawns.

(III) Some eels are gorillas.

Options :

1. ✘ Only conclusion I follows.
2. ✔ Only conclusion II follows.
3. ✘ Either conclusion I or conclusion III follow.
4. ✘ None of the conclusions follow.

Question Number : 116 Question Id : 630680271317 Is Question Mandatory : No Calculator :

None Response Time : N.A Think Time : N.A Minimum Instruction Time : 0

Correct Marks : 1 Wrong Marks : 0

ఇచ్చిన ప్రకటనలను మరియు ముగింపులను జాగ్రత్తగా చదవండి. సాధారణంగా తెలిసిన వాస్తవాలతో విభేదిస్తున్నట్లు కనిపించినప్పటికీ ప్రకటనలలో ఇవ్వబడిన సమాచారం నిజమని భావిస్తూ, ఇచ్చిన ముగింపులలో ఏది/వి తార్కికంగా ప్రకటనలను అనుసరిస్తుందో/స్తాయో నిర్ణయించండి.

ప్రకటనలు:

కొన్ని జింక పిల్లలు గొరిల్లాలు.

గొరిల్లాలన్నీ చిరుతపులిలే.

కొన్ని ఈల్స్ తోడేళ్ళు.

ముగింపులు:

(I) కొన్ని జింక పిల్లలు తోడేళ్ళు.

(II) కొన్ని చిరుతలు జింక పిల్లలు.

(III) కొన్ని ఈల్స్ గొరిల్లాలు.

Options :

1. ✘ ముగింపు I మాత్రమే అనుసరిస్తుంది.

2. ✔ ముగింపు II మాత్రమే అనుసరిస్తుంది.

3. ✘ ముగింపు I కానీ లేదా ముగింపు III కానీ ఏదైనా అనుసరిస్తుంది.

4. ✘ ముగింపులు ఏవీ అనుసరించవు.

Question Number : 117 Question Id : 630680271318 Is Question Mandatory : No Calculator :

None Response Time : N.A Think Time : N.A Minimum Instruction Time : 0

Correct Marks : 1 Wrong Marks : 0

దిగువ ఇవ్వబడిన అసమానత ప్రకటన ఆధారంగా,

$$P < Q < T < S < U > R$$

ఈ ఇచ్చిన ఎంపికలలో సరికానిది ఏది?

Options :

1. ✘ $Q < S$

2. ✘ $T < U$

3. ✘ $Q < U$

4. ✔ $S < P$

Question Number : 117 Question Id : 630680271318 Is Question Mandatory : No Calculator :

None Response Time : N.A Think Time : N.A Minimum Instruction Time : 0

Correct Marks : 1 Wrong Marks : 0

Based on the inequality statement given below,

$$P < Q < T < S < U > R$$

which of these given conclusions is INCORRECT?

Options :

1. ✘ $Q < S$

2. ✘ $T < U$

3. ✘ $Q < U$

4. ✔ $S < P$

**Question Number : 118 Question Id : 630680271319 Is Question Mandatory : No Calculator :
None Response Time : N.A Think Time : N.A Minimum Instruction Time : 0**

Correct Marks : 1 Wrong Marks : 0

Select the term from among the given options that can replace the question mark (?) in the following series.

1A26, 3C24, 5E22, 7G20, ?

Options :

1. ✓ 9I18

2. ✗ 9H14

3. ✗ 9J16

4. ✗ 9K20

**Question Number : 118 Question Id : 630680271319 Is Question Mandatory : No Calculator :
None Response Time : N.A Think Time : N.A Minimum Instruction Time : 0**

Correct Marks : 1 Wrong Marks : 0

కింది శ్రేణిలో ప్రశ్న గుర్తు (?)ను భర్తీ చేయగల ఇవ్వబడిన ఎంపికల నుండి పదాన్ని ఎంచుకోండి.

1A26, 3C24, 5E22, 7G20, ?

Options :

1. ✓ 9I18

2. ✗ 9H14

3. ✗ 9J16

4. ✘ 9K20

Question Number : 119 Question Id : 630680271320 Is Question Mandatory : No Calculator :

None Response Time : N.A Think Time : N.A Minimum Instruction Time : 0

Correct Marks : 1 Wrong Marks : 0

ఇవ్వబడిన పదాల జతలు పంచుకునే సంబంధంలా పంచుకునే పద-జత ఎంపికను ఎంచుకోండి.

దూడ : ఆవు

Options :

1. ✘ జింకపిల్ల : హంస

2. ✔ గుర్రపు పిల్ల : గుర్రం

3. ✘ పిల్లికూన : కప్ప

4. ✘ చిరుకప్ప : పిల్లి

Question Number : 119 Question Id : 630680271320 Is Question Mandatory : No Calculator :

None Response Time : N.A Think Time : N.A Minimum Instruction Time : 0

Correct Marks : 1 Wrong Marks : 0

Select the option in which the word-pair share the same relationship as that shared by the given pairs of words.

Calf : Cow

Options :

1. ✘ Fawn : Swan

2. ✔ Colt : Horse

3. ✘ Kitten : Frog

4. ✘ Tadpole : Cat

Question Number : 120 Question Id : 630680271321 Is Question Mandatory : No Calculator :

None Response Time : N.A Think Time : N.A Minimum Instruction Time : 0

Correct Marks : 1 Wrong Marks : 0

ఒక నిర్దిష్ట కోడ్ భాషలో, 'AFHJ'ని 'ZUSQ' అని మరియు 'BDFG'ని 'YWUT' అని రాశారు. అదే భాషలో 'HKLM' ను ఎలా రాస్తారు?

Options :

1. ✘ NPSP

2. ✘ SPQN

3. ✘ RQPM

4. ✔ SPON

Question Number : 120 Question Id : 630680271321 Is Question Mandatory : No Calculator :

None Response Time : N.A Think Time : N.A Minimum Instruction Time : 0

Correct Marks : 1 Wrong Marks : 0

In a certain code language, 'AFHJ' is written as 'ZUSQ' and 'BDFG' is written as 'YWUT'. How will 'HKLM' be written in that language?

Options :

1. ✘ NPSP

2. ✘ SPQN

3. ✘ RQPM

4. ✔ SPON

**Question Number : 121 Question Id : 630680271322 Is Question Mandatory : No Calculator :
None Response Time : N.A Think Time : N.A Minimum Instruction Time : 0**

Correct Marks : 1 Wrong Marks : 0

Ankit travels 8 km East from his house and then turns right and travels 6 km. What is the minimum distance he will cover to go home?

Options :

1. ✘ 5 km

2. ✘ 7 km

3. ✔ 10 km

4. ✘ 12 km

**Question Number : 121 Question Id : 630680271322 Is Question Mandatory : No Calculator :
None Response Time : N.A Think Time : N.A Minimum Instruction Time : 0**

Correct Marks : 1 Wrong Marks : 0

అంకిత్ తన ఇంటి నుండి తూర్పునకు 8 km లు ప్రయాణించి కుడి వైపునకు తిరిగి 6 km లు ప్రయాణిస్తాడు. అతను తిరిగి ఇంటికి వెళ్ళడానికి ప్రయనించాల్సిన కనిష్ట దూరం ఎంత?

Options :

1. ✘ 5 km

2. ✘ 7 km

3. ✔ 10 km

4. ✘ 12 km

**Question Number : 122 Question Id : 630680271323 Is Question Mandatory : No Calculator :
None Response Time : N.A Think Time : N.A Minimum Instruction Time : 0**

Correct Marks : 1 Wrong Marks : 0

Select the option that is related to the third word in the same way as the second word is related to the first word.

(The words must be considered as meaningful English words and must not be related to each other based on the number of letters/number of consonants/vowels in the word)

Sheep : Flock :: Sailors : ?

Options :

1. ✘ River

2. ✘ Ocean

3. ✘ Sail

4. ✔ Crew

**Question Number : 122 Question Id : 630680271323 Is Question Mandatory : No Calculator :
None Response Time : N.A Think Time : N.A Minimum Instruction Time : 0**

Correct Marks : 1 Wrong Marks : 0

రెండవ పదం మొదటి పదానికి సంబంధించిన విధంగానే, మూడవ పదానికి సంబంధించిన ఎంపికను ఎంచుకోండి.

(పదాలు అర్థవంతమైన తెలుగు పదాలుగా పరిగణించబడాలి మరియు పదంలోని అక్షరాల సంఖ్య/హల్లుల సంఖ్య/అచ్చుల సంఖ్య ఆధారంగా ఒకదానికొకటి సంబంధం కలిగి ఉండకూడదు)

గొర్రెలు : మంద :: నావికులు : ?

Options :

1. ✘ నది (River)
2. ✘ మహాసముద్రం (Ocean)
3. ✘ ఆరచాప (Sail)
4. ✔ సిబ్బంది (Crew)

Question Number : 123 Question Id : 630680271324 Is Question Mandatory : No Calculator :

None Response Time : N.A Think Time : N.A Minimum Instruction Time : 0

Correct Marks : 1 Wrong Marks : 0

Four letter-clusters have been given, out of which three are alike in some manner and one is different. Select the one that is different.

Options :

1. ✘ BDF
2. ✘ HJL
3. ✘ RTV
4. ✔ VWX

Question Number : 123 Question Id : 630680271324 Is Question Mandatory : No Calculator :

None Response Time : N.A Think Time : N.A Minimum Instruction Time : 0

Correct Marks : 1 Wrong Marks : 0

నాలుగు అక్షర-సమూహాలు ఇవ్వబడ్డాయి, వాటిలో మూడు ఏదో ఒక పద్ధతిలో ఒకేలా ఉండి, ఒకటి భిన్నంగా ఉంటుంది. భిన్నంగా ఉన్నదాన్ని ఎంచుకోండి.

Options :

1. ✘ BDF

2. ✘ HJL

3. ✘ RTV

4. ✔ VWX

Question Number : 124 Question Id : 630680271325 Is Question Mandatory : No Calculator :

None Response Time : N.A Think Time : N.A Minimum Instruction Time : 0

Correct Marks : 1 Wrong Marks : 0

A question is given, followed by two statements labelled I and II. Identify which of the statements is/are sufficient/necessary to answer the question.

Question: What is total sale of the Decathlon?

Statements:

I. I. Decathlon sold 5000 units of cricket bats and the selling price of each cricket bat is ₹500.

II. II. Decathlon has no other product line.

III. III. Decathlon is one stop for buying sports goods.

Options :

1. ✘ I alone is sufficient while II and III alone is not sufficient.

2. ✘ II alone is sufficient while I and III alone is not sufficient.

3. ✓ Both I and II are sufficient.

4. ✘ Both I and III are sufficient.

Question Number : 124 Question Id : 630680271325 Is Question Mandatory : No Calculator :

None Response Time : N.A Think Time : N.A Minimum Instruction Time : 0

Correct Marks : 1 Wrong Marks : 0

I మరియు II అని పేరు పెట్టబడిన రెండు ప్రకటనల తర్వాత ఒక ప్రశ్న ఇవ్వబడింది. ప్రశ్నకు సమాధానం ఇవ్వడానికి ఏ ప్రకటన/లు సరిపోతాయి/అవసరమైనవో గుర్తించండి.

ప్రశ్న: డెకాథాన్ మొత్తం విక్రయం ఎంత?

ప్రకటనలు:

I. డెకాథాన్ 5000 యూనిట్ల క్రికెట్ బ్యాట్లను విక్రయించింది మరియు ఒక్కో క్రికెట్ బ్యాట్ విక్రయ ధర ₹500.

II. డెకాథాన్ కు ఇతర ఉత్పత్తి శ్రేణి లేదు.

III. క్రీడా వస్తువులను కొనుగోలు చేయడానికి గమ్యస్థానం డెకాథాన్.

Options :

1. ✘ I మాత్రమే సరిపోతుంది, II మరియు III లు మాత్రమే సరిపోవు.

2. ✘ II మాత్రమే సరిపోతుంది, I మరియు III లు మాత్రమే సరిపోవు.

3. ✓ I మరియు II లు రెండూ సరిపోతాయి.

4. ✘ I మరియు III లు రెండూ సరిపోతాయి.

Question Number : 125 Question Id : 630680271326 Is Question Mandatory : No Calculator :

None Response Time : N.A Think Time : N.A Minimum Instruction Time : 0

Correct Marks : 1 Wrong Marks : 0

Given below are pairs of events (I) and (II). You have to read them and decide their nature of relationship. You have to assume that the information given in both (I) and (II) is true and not assume anything beyond the given information in deciding the answer.

Event (I). The farmers called off the strike they were observing in protest against farmers act.

Event (II). The central government has accepted the demands of the farmers against farmers act.

Options :

1. ✘ Statement I is the cause and statement II is its effect.
2. ✔ Statement II is the cause and statement I is its effect.
3. ✘ Both statements I and II are independent causes.
4. ✘ Both statements I and II are effects of independent causes.

Question Number : 125 Question Id : 630680271326 Is Question Mandatory : No Calculator :

None Response Time : N.A Think Time : N.A Minimum Instruction Time : 0

Correct Marks : 1 Wrong Marks : 0

దిగువన (I) మరియు (II) అనే ప్రకటనల జత ఇవ్వబడింది. మీరు వాటిని చదివి వాటి సంబంధ స్వభావాన్ని నిర్ణయించవలెను. మీరు (I) మరియు (II) రెండింటిలోనూ అందించిన సమాచారం నిజమని భావించి, సమాధానాన్ని నిర్ణయించడంలో ఇచ్చిన సమాచారం కంటే మించినది ఏమీ ఉండదని అనుకోండి.

ప్రకటన (I). రైతుల చట్టానికి నిరసనగా చేపట్టిన సమ్మెను రైతులు విరమించారు.

ప్రకటన (II). రైతుల చట్టానికి వ్యతిరేకంగా రైతుల డిమాండ్లను కేంద్ర ప్రభుత్వం ఆమోదించింది.

Options :

1. ✘ ప్రకటన I కారణం మరియు ప్రకటన II దాని ప్రభావం.
2. ✔ ప్రకటన II కారణం మరియు ప్రకటన I దాని ప్రభావం.

3. ✘ I మరియు II ప్రకటనలు రెండూ స్వతంత్ర కారణాలు.

4. ✘ రెండూ స్వతంత్ర కారణాలకు I మరియు II అనే ప్రకటనలు ప్రభావాలు.

Question Number : 126 Question Id : 630680271327 Is Question Mandatory : No Calculator :

None Response Time : N.A Think Time : N.A Minimum Instruction Time : 0

Correct Marks : 1 Wrong Marks : 0

Select the number from among the given options that can replace the question mark (?) in the following series.

7, 50, 2501, ?

Options :

1. ✘ 6255001

2. ✔ 6255002

3. ✘ 6255003

4. ✘ 6255004

Question Number : 126 Question Id : 630680271327 Is Question Mandatory : No Calculator :

None Response Time : N.A Think Time : N.A Minimum Instruction Time : 0

Correct Marks : 1 Wrong Marks : 0

కింది శ్రేణిలో ప్రశ్న గుర్తు (?)ని భర్తీ చేయగల సంఖ్యను, ఇవ్వబడిన ఎంపికల నుండి ఎంచుకోండి.

7, 50, 2501, ?

Options :

1. ✘ 6255001

2. ✓ 6255002

3. ✘ 6255003

4. ✘ 6255004

**Question Number : 127 Question Id : 630680271328 Is Question Mandatory : No Calculator :
None Response Time : N.A Think Time : N.A Minimum Instruction Time : 0**

Correct Marks : 1 Wrong Marks : 0

If 'A' stands for '+', 'Z' stands for '-', 'R' stands for '×', 'Y' stands for '÷', then $14 R 10 A 42 Y 2 Z 8 = ?$

Options :

1. ✘ 132

2. ✘ 141

3. ✓ 153

4. ✘ 165

**Question Number : 127 Question Id : 630680271328 Is Question Mandatory : No Calculator :
None Response Time : N.A Think Time : N.A Minimum Instruction Time : 0**

Correct Marks : 1 Wrong Marks : 0

ఒకవేళ 'A' అంటే '+', 'Z' అంటే '-', 'R' అంటే '×', 'Y' అంటే '÷' అయినట్లయితే,

$14 R 10 A 42 Y 2 Z 8 = ?$

Options :

1. ✘ 132

2. ✘ 141

3. ✔ 153

4. ✘ 165

**Question Number : 128 Question Id : 630680271329 Is Question Mandatory : No Calculator :
None Response Time : N.A Think Time : N.A Minimum Instruction Time : 0**

Correct Marks : 1 Wrong Marks : 0

If '?' stands for '+', '@' stands for '-', 'S' stands for '+', '%' stands for '×', 'B' stands for '=', 'M' stands for 'greater than', then state which of the following is true?

Options :

1. ✔ 10 % 2 S 2 M 10 @ 10 ? 8

2. ✘ 6 % 3 @ 7 % 8 B 9 M 6

3. ✘ 2 B 5 M 4 % 7 @ 8 M 6

4. ✘ 7 @ 8 M 9 B 1 @ 2 % 3

**Question Number : 128 Question Id : 630680271329 Is Question Mandatory : No Calculator :
None Response Time : N.A Think Time : N.A Minimum Instruction Time : 0**

Correct Marks : 1 Wrong Marks : 0

ఒకవేళ '?' అనేది '+' ని సూచిస్తుంది, '@' అనేది '-' ని సూచిస్తుంది, '\$' అనేది '+' ని సూచిస్తుంది, '%' అనేది '×' ని సూచిస్తుంది, 'B' అనేది '=' ని సూచిస్తుంది, 'M' అనేది 'గ్రేటర్ డ్యూస్' ని సూచిస్తుంది, అయిన కింది వాటిలో ఏది నిజమో చెప్పండి?

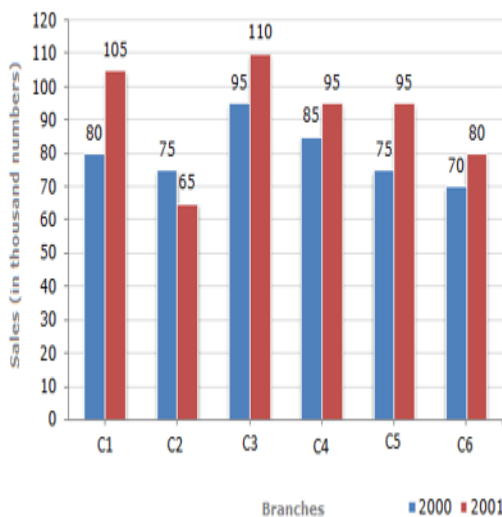
Options :

1. ✓ 10 % 2 \$ 2 M 10 @ 10 ? 8
2. ✗ 6 % 3 @ 7 % 8 B 9 M 6
3. ✗ 2 B 5 M 4 % 7 @ 8 M 6
4. ✗ 7 @ 8 M 9 B 1 @ 2 % 3

Question Number : 129 Question Id : 630680271330 Is Question Mandatory : No Calculator : None Response Time : N.A Think Time : N.A Minimum Instruction Time : 0

Correct Marks : 1 Wrong Marks : 0

The bar graph given below shows the sales of sports bats (in thousand number) from six branches - C1, C2, C3, C4, C5 and C6 of a sports company during two consecutive years 2000 and 2001.



What is the ratio of the total sales of branch C1 for both years to the total sales of branch C6 for both years?

Options :

1. ✓ 37 : 30
2. ✗ 37 : 40

3. ✘ 47 : 30

4. ✘ 47 : 40

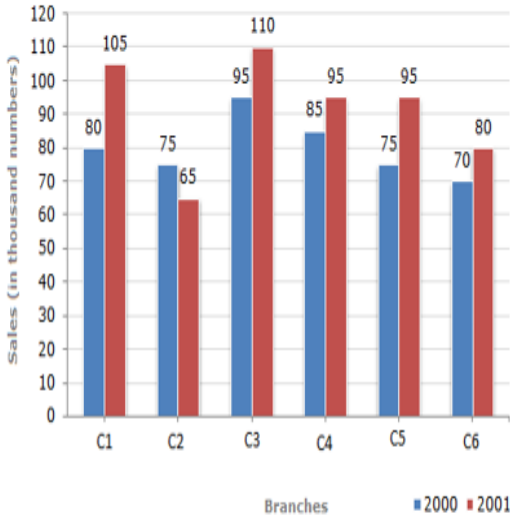
Question Number : 129 Question Id : 630680271330 Is Question Mandatory : No Calculator :

None Response Time : N.A Think Time : N.A Minimum Instruction Time : 0

Correct Marks : 1 Wrong Marks : 0

క్రింద ఇవ్వబడిన బార్ గ్రాఫ్ 2000 మరియు 2001 వరుసగా రెండు సంవత్సరాలలో ఒక స్పోర్ట్స్ కంపెనీ యొక్క C1, C2, C3, C4, C5

మరియు C6 అనే ఆరు శాఖల నుండి స్పోర్ట్స్ బ్యాట్ల (వేలల్లో) విక్రయాలను చూపుతుంది.



అనువాద సూచన:

Branches: శాఖలు

sales (in thousand number): విక్రయం (వేలల్లో)

రెండు సంవత్సరాలకు గాను శాఖ C1 యొక్క మొత్తం అమ్మకాలకు మరియు రెండు సంవత్సరాలకు గాను శాఖ C6 యొక్క మొత్తం

విక్రయాలకు గల నిష్పత్తి ఎంత?

Options :

1. ✔ 37 : 30

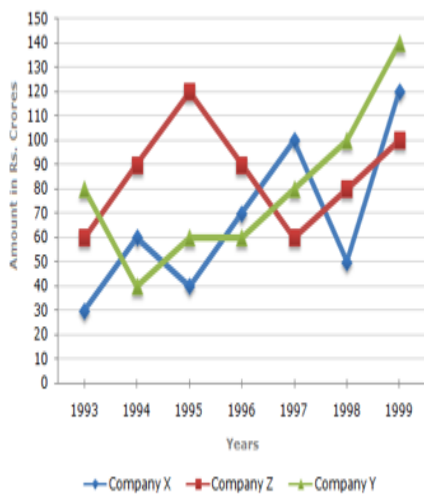
2. ✘ 37 : 40

3. ✘ 47 : 30

4. ✘ 47 : 40

**Question Number : 130 Question Id : 630680271331 Is Question Mandatory : No Calculator :
None Response Time : N.A Think Time : N.A Minimum Instruction Time : 0
Correct Marks : 1 Wrong Marks : 0**

Study the following line graph and answer the questions for the Imports of Three Companies over the Years (in ₹ crore).



In which of the following years was the difference between the imports from company X and Y maximum?

Options :

1. ✘ 1994 and 1995

2. ✔ 1993 and 1998

3. ✘ 1996 and 1997

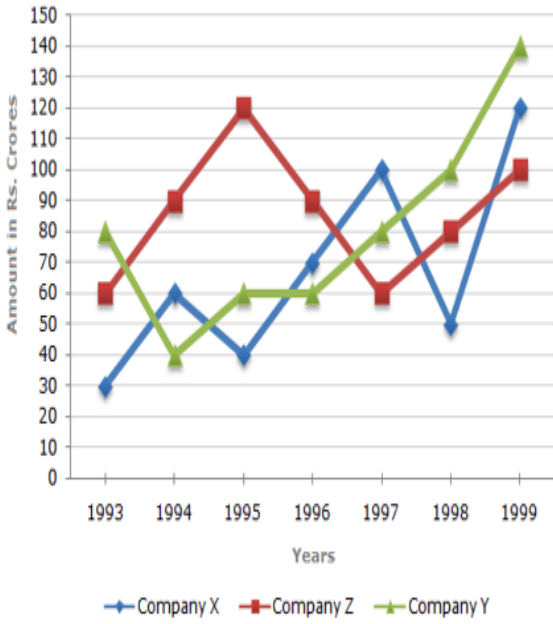
4. ✘ 1997 and 1999

Question Number : 130 Question Id : 630680271331 Is Question Mandatory : No Calculator :

None Response Time : N.A Think Time : N.A Minimum Instruction Time : 0

Correct Marks : 1 Wrong Marks : 0

కింది లైన్ గ్రాఫ్ను అధ్యయనం చేసి, సంవత్సరాలకు గాను మూడు కంపెనీల దిగుమతులకు (₹ కోట్లలో) సంబంధించిన ప్రశ్నలకు సమాధానం ఇవ్వండి.



Company X : కంపెనీ X, Company Y : కంపెనీ Y, Company Z : కంపెనీ Z

Amount in Rs. Crores : మొత్తం రూ. కోట్లలో

కంపెనీ X మరియు Y నుండి దిగుమతుల మధ్య గరిష్ట వ్యత్యాసం క్రింది ఏ సంవత్సరాల్లో ఉంది?

Options :

1. ✘ 1994 మరియు 1995

2. ✔ 1993 మరియు 1998

3. ✘ 1996 మరియు 1997

4. ✘ 1997 మరియు 1999

Question Number : 131 Question Id : 630680271332 Is Question Mandatory : No Calculator :

None Response Time : N.A Think Time : N.A Minimum Instruction Time : 0

Correct Marks : 1 Wrong Marks : 0

Select the most appropriate article to fill in the blank.

_____ gold bag kept on the shelf contains the coin given by my grandmother last night.

Options :

1. ✘ A

2. ✘ An

3. ✔ The

4. ✘ No article

Question Number : 131 Question Id : 630680271332 Is Question Mandatory : No Calculator :

None Response Time : N.A Think Time : N.A Minimum Instruction Time : 0

Correct Marks : 1 Wrong Marks : 0

Select the most appropriate article to fill in the blank.

_____ gold bag kept on the shelf contains the coin given by my grandmother last night.

Options :

1. ✘ A

2. ✘ An

3. ✔ The

4. ✘ No article

Question Number : 132 Question Id : 630680271333 Is Question Mandatory : No Calculator :

None Response Time : N.A Think Time : N.A Minimum Instruction Time : 0

Correct Marks : 1 Wrong Marks : 0

Select the most appropriate article to fill in the blank.

Last Sunday, I had _____ long talk with my mother over the land dispute among the villagers.

Options :

1. ✓ a

2. ✗ an

3. ✗ the

4. ✗ No article

Question Number : 132 Question Id : 630680271333 Is Question Mandatory : No Calculator :

None Response Time : N.A Think Time : N.A Minimum Instruction Time : 0

Correct Marks : 1 Wrong Marks : 0

Select the most appropriate article to fill in the blank.

Last Sunday, I had _____ long talk with my mother over the land dispute among the villagers.

Options :

1. ✓ a

2. ✗ an

3. ✗ the

4. ✗ No article

Question Number : 133 Question Id : 630680271334 Is Question Mandatory : No Calculator :

None Response Time : N.A Think Time : N.A Minimum Instruction Time : 0

Correct Marks : 1 Wrong Marks : 0

Select the most appropriate option to fill in the blank.

I _____ many messages from my past employer, Mr. Ravi last evening.

Options :

1. ✘ did

2. ✘ has

3. ✘ have

4. ✔ had

Question Number : 133 Question Id : 630680271334 Is Question Mandatory : No Calculator :

None Response Time : N.A Think Time : N.A Minimum Instruction Time : 0

Correct Marks : 1 Wrong Marks : 0

Select the most appropriate option to fill in the blank.

I _____ many messages from my past employer, Mr. Ravi last evening.

Options :

1. ✘ did

2. ✘ has

3. ✘ have

4. ✔ had

**Question Number : 134 Question Id : 630680271335 Is Question Mandatory : No Calculator :
None Response Time : N.A Think Time : N.A Minimum Instruction Time : 0**

Correct Marks : 1 Wrong Marks : 0

Select the most appropriate option to fill in the blank.

The birthday of my brother Amit is _____ 20th December.

Options :

1. ✘ at

2. ✔ on

3. ✘ in

4. ✘ of

**Question Number : 134 Question Id : 630680271335 Is Question Mandatory : No Calculator :
None Response Time : N.A Think Time : N.A Minimum Instruction Time : 0**

Correct Marks : 1 Wrong Marks : 0

Select the most appropriate option to fill in the blank.

The birthday of my brother Amit is _____ 20th December.

Options :

1. ✘ at

2. ✔ on

3. ✘ in

4. ✘ of

Question Number : 135 Question Id : 630680271336 Is Question Mandatory : No Calculator :

None Response Time : N.A Think Time : N.A Minimum Instruction Time : 0

Correct Marks : 1 Wrong Marks : 0

The following sentence has been split into four segments. Identify the segment that contains an error.

The newly built / bridge is wide / than any other / bridge in the state.

Options :

1. ✘ The newly built

2. ✔ bridge is wide

3. ✘ than any other

4. ✘ bridge in the state

Question Number : 135 Question Id : 630680271336 Is Question Mandatory : No Calculator :

None Response Time : N.A Think Time : N.A Minimum Instruction Time : 0

Correct Marks : 1 Wrong Marks : 0

The following sentence has been split into four segments. Identify the segment that contains an error.

The newly built / bridge is wide / than any other / bridge in the state.

Options :

1. ✘ The newly built

2. ✔ bridge is wide

3. ✘ than any other

4. ✘ bridge in the state

Question Number : 136 Question Id : 630680271337 Is Question Mandatory : No Calculator :

None Response Time : N.A Think Time : N.A Minimum Instruction Time : 0

Correct Marks : 1 Wrong Marks : 0

The following sentence has been split into four segments. Identify the segment that contains an error.

You are / forbidden not / to write on / the school desk.

Sandstone is believed / to be more / prone to / physically erosion.

Options :

1. ✘ You are/ Sandstone is believed

2. ✘ forbidden not/ to be more

3. ✘ to write on / prone to

4. ✔ the school desk. physically erosion

Question Number : 136 Question Id : 630680271337 Is Question Mandatory : No Calculator :

None Response Time : N.A Think Time : N.A Minimum Instruction Time : 0

Correct Marks : 1 Wrong Marks : 0

The following sentence has been split into four segments. Identify the segment that contains an error.

You are / forbidden not / to write on / the school desk.

Sandstone is believed / to be more / prone to / physically erosion.

Options :

1. ✘ You are/ Sandstone is believed
2. ✘ forbidden not/ to be more
3. ✘ to write on / prone to
4. ✔ the school desk. physically erosion

**Question Number : 137 Question Id : 630680271338 Is Question Mandatory : No Calculator :
None Response Time : N.A Think Time : N.A Minimum Instruction Time : 0**

Correct Marks : 1 Wrong Marks : 0

The following sentence has been split into four segments. Identify the segment that contains an error.

Manya switch off / the light before / Manav locked / the room.

Options :

1. ✔ Manya switch off
2. ✘ the light before
3. ✘ Manav locked
4. ✘ the room

**Question Number : 137 Question Id : 630680271338 Is Question Mandatory : No Calculator :
None Response Time : N.A Think Time : N.A Minimum Instruction Time : 0**

Correct Marks : 1 Wrong Marks : 0

The following sentence has been split into four segments. Identify the segment that contains an error.

Manya switch off / the light before / Manav locked / the room.

Options :

1. ✓ Manya switch off
2. ✗ the light before
3. ✗ Manav locked
4. ✗ the room

Question Number : 138 Question Id : 630680271339 Is Question Mandatory : No Calculator :

None Response Time : N.A Think Time : N.A Minimum Instruction Time : 0

Correct Marks : 1 Wrong Marks : 0

The following sentence has been split into four segments. Identify the segment that contains an error.

Our company book the / conference room for the / weekly meetings scheduled / on every Monday.

Options :

1. ✓ Our company book the
2. ✗ conference room for the
3. ✗ weekly meetings scheduled
4. ✗ on every Monday

Question Number : 138 Question Id : 630680271339 Is Question Mandatory : No Calculator :

None Response Time : N.A Think Time : N.A Minimum Instruction Time : 0

Correct Marks : 1 Wrong Marks : 0

The following sentence has been split into four segments. Identify the segment that contains an error.

Our company book the / conference room for the / weekly meetings scheduled / on every Monday.

Options :

1. ✓ Our company book the
2. ✗ conference room for the
3. ✗ weekly meetings scheduled
4. ✗ on every Monday

Question Number : 139 Question Id : 630680271340 Is Question Mandatory : No Calculator :

None Response Time : N.A Think Time : N.A Minimum Instruction Time : 0

Correct Marks : 1 Wrong Marks : 0

Select the most appropriate question tag to fill in the blank.

Rosie is going to Canada for her post-doctoral research, _____?

Options :

1. ✗ doesn't she
2. ✗ is she
3. ✗ didn't she
4. ✓ isn't she

Question Number : 139 Question Id : 630680271340 Is Question Mandatory : No Calculator :

None Response Time : N.A Think Time : N.A Minimum Instruction Time : 0

Correct Marks : 1 Wrong Marks : 0

Select the most appropriate question tag to fill in the blank.

Rosie is going to Canada for her post-doctoral research, _____?

Options :

1. ✘ doesn't she

2. ✘ is she

3. ✘ didn't she

4. ✔ isn't she

Question Number : 140 Question Id : 630680271341 Is Question Mandatory : No Calculator :

None Response Time : N.A Think Time : N.A Minimum Instruction Time : 0

Correct Marks : 1 Wrong Marks : 0

Select the most appropriate question tag to fill in the blank.

Harish has no manners and etiquettes, _____?

Options :

1. ✔ has he?

2. ✘ had he?

3. ✘ did he?

4. ✘ do he?

**Question Number : 140 Question Id : 630680271341 Is Question Mandatory : No Calculator :
None Response Time : N.A Think Time : N.A Minimum Instruction Time : 0**

Correct Marks : 1 Wrong Marks : 0

Select the most appropriate question tag to fill in the blank.

Harish has no manners and etiquettes, _____?

Options :

1. ✓ has he?
2. ✗ had he?
3. ✗ did he?
4. ✗ do he?

**Question Number : 141 Question Id : 630680271342 Is Question Mandatory : No Calculator :
None Response Time : N.A Think Time : N.A Minimum Instruction Time : 0**

Correct Marks : 1 Wrong Marks : 0

Select the option that expresses the given sentence in passive voice.

The teacher is helping the students.

Options :

1. ✗ The students is being helped by the teacher.
2. ✓ The students are being helped by the teacher.
3. ✗ The students are been helped by the teacher.

4. ✘ The students have been helped by the teacher.

Question Number : 141 Question Id : 630680271342 Is Question Mandatory : No Calculator :

None Response Time : N.A Think Time : N.A Minimum Instruction Time : 0

Correct Marks : 1 Wrong Marks : 0

Select the option that expresses the given sentence in passive voice.

The teacher is helping the students.

Options :

1. ✘ The students is being helped by the teacher.

2. ✔ The students are being helped by the teacher.

3. ✘ The students are been helped by the teacher.

4. ✘ The students have been helped by the teacher.

Question Number : 142 Question Id : 630680271343 Is Question Mandatory : No Calculator :

None Response Time : N.A Think Time : N.A Minimum Instruction Time : 0

Correct Marks : 1 Wrong Marks : 0

Select the option that expresses the given sentence in active voice.

A letter will be written by me.

Options :

1. ✘ I write a letter.

2. ✘ I am writing a letter.

3. ✓ I shall write a letter.

4. ✘ I was writing a letter.

Question Number : 142 Question Id : 630680271343 Is Question Mandatory : No Calculator :

None Response Time : N.A Think Time : N.A Minimum Instruction Time : 0

Correct Marks : 1 Wrong Marks : 0

Select the option that expresses the given sentence in active voice.

A letter will be written by me.

Options :

1. ✘ I write a letter.

2. ✘ I am writing a letter.

3. ✓ I shall write a letter.

4. ✘ I was writing a letter.

Question Number : 143 Question Id : 630680271344 Is Question Mandatory : No Calculator :

None Response Time : N.A Think Time : N.A Minimum Instruction Time : 0

Correct Marks : 1 Wrong Marks : 0

Select the most appropriate meaning of the given idiom.

Piece of a cake

Options :

1. ✘ Always dangerous

2. ✓ Simple and easy

3. ✘ Complete work

4. ✘ Quite well

Question Number : 143 Question Id : 630680271344 Is Question Mandatory : No Calculator :

None Response Time : N.A Think Time : N.A Minimum Instruction Time : 0

Correct Marks : 1 Wrong Marks : 0

Select the most appropriate meaning of the given idiom.

Piece of a cake

Options :

1. ✘ Always dangerous

2. ✓ Simple and easy

3. ✘ Complete work

4. ✘ Quite well

Question Number : 144 Question Id : 630680271345 Is Question Mandatory : No Calculator :

None Response Time : N.A Think Time : N.A Minimum Instruction Time : 0

Correct Marks : 1 Wrong Marks : 0

Select the most appropriate meaning of the given idiom.

Ivory tower

Options :

1. ✘ Close living relatives
2. ✘ Practical life experience
3. ✔ Aloof from realities
4. ✘ Grand building construction

**Question Number : 144 Question Id : 630680271345 Is Question Mandatory : No Calculator :
None Response Time : N.A Think Time : N.A Minimum Instruction Time : 0**

Correct Marks : 1 Wrong Marks : 0

Select the most appropriate meaning of the given idiom.

Ivory tower

Options :

1. ✘ Close living relatives
2. ✘ Practical life experience
3. ✔ Aloof from realities
4. ✘ Grand building construction

**Question Number : 145 Question Id : 630680271346 Is Question Mandatory : No Calculator :
None Response Time : N.A Think Time : N.A Minimum Instruction Time : 0**

Correct Marks : 1 Wrong Marks : 0

Select the most appropriate synonym of the given word.

Divine

Options :

1. ✘ Positive
2. ✔ Heavenly
3. ✘ Rambling
4. ✘ Relevant

Question Number : 145 Question Id : 630680271346 Is Question Mandatory : No Calculator :

None Response Time : N.A Think Time : N.A Minimum Instruction Time : 0

Correct Marks : 1 Wrong Marks : 0

Select the most appropriate synonym of the given word.

Divine

Options :

1. ✘ Positive
2. ✔ Heavenly
3. ✘ Rambling
4. ✘ Relevant

Question Number : 146 Question Id : 630680271347 Is Question Mandatory : No Calculator :

None Response Time : N.A Think Time : N.A Minimum Instruction Time : 0

Correct Marks : 1 Wrong Marks : 0

Select the most appropriate ANTONYM of the given word.

Extravagant

Options :

1. ✓ Economical
2. ✗ Mildly
3. ✗ Consenting
4. ✗ Luxurious

**Question Number : 146 Question Id : 630680271347 Is Question Mandatory : No Calculator :
None Response Time : N.A Think Time : N.A Minimum Instruction Time : 0**

Correct Marks : 1 Wrong Marks : 0

Select the most appropriate ANTONYM of the given word.

Extravagant

Options :

1. ✓ Economical
2. ✗ Mildly
3. ✗ Consenting
4. ✗ Luxurious

Question Number : 147 Question Id : 630680271348 Is Question Mandatory : No Calculator :

None Response Time : N.A Think Time : N.A Minimum Instruction Time : 0

Correct Marks : 1 Wrong Marks : 0

Select the correctly spelt word to fill in the blank.

Antonio was a wealthy _____ in Italy.

Options :

1. ✘ mercant
2. ✘ mirchant
3. ✘ marchant
4. ✔ merchant

Question Number : 147 Question Id : 630680271348 Is Question Mandatory : No Calculator :

None Response Time : N.A Think Time : N.A Minimum Instruction Time : 0

Correct Marks : 1 Wrong Marks : 0

Select the correctly spelt word to fill in the blank.

Antonio was a wealthy _____ in Italy.

Options :

1. ✘ mercant
2. ✘ mirchant
3. ✘ marchant
4. ✔ merchant

Question Number : 148 Question Id : 630680271349 Is Question Mandatory : No Calculator :

None Response Time : N.A Think Time : N.A Minimum Instruction Time : 0

Correct Marks : 1 Wrong Marks : 0

Select the correctly spelt word to fill in the blank.

Many people still believe in _____.

Options :

1. ✘ supersetions

2. ✘ superseetions

3. ✔ superstitions

4. ✘ supersiteions

Question Number : 148 Question Id : 630680271349 Is Question Mandatory : No Calculator :

None Response Time : N.A Think Time : N.A Minimum Instruction Time : 0

Correct Marks : 1 Wrong Marks : 0

Select the correctly spelt word to fill in the blank.

Many people still believe in _____.

Options :

1. ✘ supersetions

2. ✘ superseetions

3. ✔ superstitions

4. ✘ supersiteions

Question Number : 149 Question Id : 630680271350 Is Question Mandatory : No Calculator :

None Response Time : N.A Think Time : N.A Minimum Instruction Time : 0

Correct Marks : 1 Wrong Marks : 0

Select the most appropriate pair of homophones to fill in the blanks.

He had _____ flower bouquets to Seema with a _____ bottle.

Options :

1. ✘ scent; sent

2. ✔ sent; scent

3. ✘ scent; scent

4. ✘ sent; sent

Question Number : 149 Question Id : 630680271350 Is Question Mandatory : No Calculator :

None Response Time : N.A Think Time : N.A Minimum Instruction Time : 0

Correct Marks : 1 Wrong Marks : 0

Select the most appropriate pair of homophones to fill in the blanks.

He had _____ flower bouquets to Seema with a _____ bottle.

Options :

1. ✘ scent; sent

2. ✔ sent; scent

3. ✘ scent; scent

4. ✘ sent; sent

Question Number : 150 Question Id : 630680271351 Is Question Mandatory : No Calculator :

None Response Time : N.A Think Time : N.A Minimum Instruction Time : 0

Correct Marks : 1 Wrong Marks : 0

Select the most appropriate pair of homophones to fill in the blanks.

I asked my kids to be _____ as I was feeling _____ tired after a long and harrowing day.

Options :

1. ✔ quiet; quite

2. ✘ quite; quiet

3. ✘ quiet; quiet

4. ✘ quite; quite

Question Number : 150 Question Id : 630680271351 Is Question Mandatory : No Calculator :

None Response Time : N.A Think Time : N.A Minimum Instruction Time : 0

Correct Marks : 1 Wrong Marks : 0

Select the most appropriate pair of homophones to fill in the blanks.

I asked my kids to be _____ as I was feeling _____ tired after a long and harrowing day.

Options :

1. ✔ quiet; quite

2. ✖ quite; quiet

3. ✖ quiet; quiet

4. ✖ quite; quite