

APOne Limited

Notations :

- 1.Options shown in green color and with ✓ icon are correct.
- 2.Options shown in red color and with ✗ icon are incorrect.

Question Paper Name :	PaperIGSandMAAMVI 6th Oct 2023 Shift 1
Subject Name :	Paper I GS and MA AMVI
Actual Answer Key :	Yes
Calculator :	None
Magnifying Glass Required? :	No
Ruler Required? :	No
Eraser Required? :	No
Scratch Pad Required? :	No
Rough Sketch/Notepad Required? :	No
Protractor Required? :	No
Show Watermark on Console? :	Yes
Highlighter :	No
Auto Save on Console?	Yes
Change Font Color :	No
Change Background Color :	No
Change Theme :	No
Help Button :	No
Show Reports :	No
Show Progress Bar :	No
Is this Group for Examiner? :	No
Examiner permission :	Cant View
Show Progress Bar? :	No

Paper I GS and MA AMVI

Section type :	Online
Section Negative Marks :	0.33
Enable Mark as Answered Mark for Review and Clear Response :	Yes
Maximum Instruction Time :	0
Is Section Default? :	null

Question Number : 1 Question Id : 630680399745 Is Question Mandatory : No Calculator :
None Response Time : N.A Think Time : N.A Minimum Instruction Time : 0
Correct Marks : 1 Wrong Marks : 0.33

ఇంగ్లాండ్‌లోని లండన్‌లో రాయల్ ఫెస్టివల్ హాల్‌లో జరిగిన BAFTA ఫిల్మ్ అవార్డ్స్ 2023లో జర్మన్ మూవీ 'అల్ క్వైట్ ఆన్ ది వెస్టర్న్ ఫ్రంట్' ఎన్ని అవార్డులను గెలుచుకుంది?

Options :

1. ✓ ఏడు
2. ✗ ఆరు
3. ✗ ఐదు
4. ✗ నాలుగు

Question Number : 1 Question Id : 630680399745 Is Question Mandatory : No Calculator :
None Response Time : N.A Think Time : N.A Minimum Instruction Time : 0
Correct Marks : 1 Wrong Marks : 0.33

How many awards did the German movie 'All Quiet on the Western Front' win at the BAFTA Film Awards 2023, held in the Royal Festival Hall in London, England?

Options :

1. ✓ Seven

2. ✗ Six

3. ✗ Five

4. ✗ Four

Question Number : 2 Question Id : 630680399746 Is Question Mandatory : No Calculator :

None Response Time : N.A Think Time : N.A Minimum Instruction Time : 0

Correct Marks : 1 Wrong Marks : 0.33

భారతీయ ఐటీ నిపుణుల కోసం 'ఇన్-కంట్రీ' పునరుద్ధరించగల H-1B వీసాలను ఏ దేశం ప్రవేశపెట్టింది ?

Options :

1. ✗ ఫ్రాన్స్

2. ✗ ఇంగ్లండ్

3. ✗ జర్మనీ

4. ✓ యు.ఎస్

Question Number : 2 Question Id : 630680399746 Is Question Mandatory : No Calculator :

None Response Time : N.A Think Time : N.A Minimum Instruction Time : 0

Correct Marks : 1 Wrong Marks : 0.33

In June 2023, which country introduced the 'in-country' renewable H-1B visas for Indian IT professionals?

Options :

1. ✗ France

2. ✗ England

3. ✗ Germany

4. ✓ The US

Question Number : 3 Question Id : 630680399747 Is Question Mandatory : No Calculator :

None Response Time : N.A Think Time : N.A Minimum Instruction Time : 0

Correct Marks : 1 Wrong Marks : 0.33

మే 2023లో NVS-01 నావిగేషన్ ఉపగ్రహాన్ని కక్ష్యలోకి ప్రవేశపెట్టడానికి భారత అంతరిక్ష పరిశోధనా సంస్థ (ISRO) ఉపయోగించిన లాంచ్ వెహికల్ (ప్రయోగ వాహనం) పేరు ఏమిటి?

Options :

1. ✓ GSLV-F12

2. ✗ GSLV-F14

3. ✗ GSLV-F16

4. ✗ GSLV-F18

Question Number : 3 Question Id : 630680399747 Is Question Mandatory : No Calculator :

None Response Time : N.A Think Time : N.A Minimum Instruction Time : 0

Correct Marks : 1 Wrong Marks : 0.33

What is the name of the launch vehicle used by Indian Space Research Organisation (ISRO) for launching NVS-01 navigation satellite into orbit in May 2023?

Options :

1. ✓ GSLV-F12

2. ✗ GSLV-F14

3. ✗ GSLV-F16

4. ✗ GSLV-F18

Question Number : 4 Question Id : 630680399748 Is Question Mandatory : No Calculator :

None Response Time : N.A Think Time : N.A Minimum Instruction Time : 0

Correct Marks : 1 Wrong Marks : 0.33

జూన్ 2023లో, మైక్రోసాఫ్ట్ దాదాపు _____ మంది విద్యార్థులకు సైబర్ సెక్యూరిటీ స్కీల్స్లో శిక్షణ అందించడానికిగాను

నైపుణ్యాభివృద్ధి మరియు వ్యవస్థాపక మంత్రిత్వ శాఖ (MSDE) ఆధ్వర్యంలో డైరెక్టరేట్ జనరల్ ఆఫ్ ట్రైనింగ్ (DGT)తో అవగాహన ఒప్పందం (MOU)పై సంతకం చేసింది.

Options :

1. ✖ 4000
2. ✔ 6000
3. ✖ 2000
4. ✖ 3000

Question Number : 4 Question Id : 630680399748 Is Question Mandatory : No Calculator : None Response Time : N.A Think Time : N.A Minimum Instruction Time : 0

Correct Marks : 1 Wrong Marks : 0.33

In June 2023, Microsoft signed a memorandum of understanding (MoU) with Directorate General of Training (DGT) under the Ministry of Skills Development and Entrepreneurship (MSDE) to train nearly _____ students in cybersecurity skills.

Options :

1. ✖ 4000
2. ✔ 6000
3. ✖ 2000
4. ✖ 3000

Question Number : 5 Question Id : 630680399749 Is Question Mandatory : No Calculator : None Response Time : N.A Think Time : N.A Minimum Instruction Time : 0

Correct Marks : 1 Wrong Marks : 0.33

మే 2023లో బెంగళూరులోని రామన్ రీసెర్చ్ ఇన్స్టిట్యూట్ (RRI) సహకారంతో ఇండియన్ స్పేస్ రీసెర్చ్ ఆర్గనైజేషన్ (ఇస్రో) ప్రారంభించిన భారతదేశపు మొట్టమొదటి పోలారిమెట్రి మిషన్ పేరు ఏమిటి?

Options :

1. ✖ WPosat

2. ✘ GPoSat

3. ✔ XPoSat

4. ✘ RPoSat

Question Number : 5 Question Id : 630680399749 Is Question Mandatory : No Calculator :

None Response Time : N.A Think Time : N.A Minimum Instruction Time : 0

Correct Marks : 1 Wrong Marks : 0.33

What is the name of India's first polarimetry mission launched by the Indian Space Research Organisation (ISRO) in collaboration with the Raman Research Institute (RRI), Bengaluru in May 2023?

Options :

1. ✘ WPoSat

2. ✘ GPoSat

3. ✔ XPoSat

4. ✘ RPoSat

Question Number : 6 Question Id : 630680399750 Is Question Mandatory : No Calculator :

None Response Time : N.A Think Time : N.A Minimum Instruction Time : 0

Correct Marks : 1 Wrong Marks : 0.33

What rank was achieved by India's AI Supercomputer 'AIRAWAT' at the International Supercomputing Conference (ISC 2023), held in Germany in May 2023?

Options :

1. ✘ 65th

2. ✔ 75th

3. ✘ 55th

4. ✘ 45th

Question Number : 6 Question Id : 630680399750 Is Question Mandatory : No Calculator :
None Response Time : N.A Think Time : N.A Minimum Instruction Time : 0

Correct Marks : 1 Wrong Marks : 0.33

మే 2023లో జర్మనీలో జరిగిన అంతర్జాతీయ సూపర్ కంప్యూటింగ్ కాన్ఫరెన్స్ (ISC 2023)లో భారతదేశానికి చెందిన AI సూపర్ కంప్యూటర్ 'AIRAWAT' ఏ ర్యాంక్ ను సాధించింది?

Options :

1. ✖ 65వ

2. ✔ 75వ

3. ✖ 55వ

4. ✖ 45వ

Question Number : 7 Question Id : 630680399751 Is Question Mandatory : No Calculator :
None Response Time : N.A Think Time : N.A Minimum Instruction Time : 0

Correct Marks : 1 Wrong Marks : 0.33

వ్యవస్థాపకత రంగంలో అవగాహనతో కూడిన కెరీర్ లను ఎంపిక చేసుకోవడానికిగాను _____ను శక్తివంతం చేసే లక్ష్యంతో ఐక్యరాజ్యసమితి అభివృద్ధి కార్యక్రమం (UNDP) మరియు దీనదయాళ్ అంత్యోదయ యోజన-నేషనల్ అర్బన్ లైఫ్ లైన్స్ మిషన్ (DAY-NULM)లు జూన్ 2023లో సహకార భాగస్వామ్యం లోకి ప్రవేశించాయి.

Options :

1. ✔ మహిళలు

2. ✖ వయో వృద్ధులు

3. ✖ పాఠశాలకు వెళ్లే బాలురు

4. ✖ పాఠశాలకు వెళ్లే బాలికలు

Question Number : 7 Question Id : 630680399751 Is Question Mandatory : No Calculator :
None Response Time : N.A Think Time : N.A Minimum Instruction Time : 0

Correct Marks : 1 Wrong Marks : 0.33

The United Nations Development Programme (UNDP) and the Deendayal Antyodaya Yojana-National Urban Livelihoods Mission (DAY-NULM) entered into a collaborative partnership in June 2023 with the aim of empowering _____ to make well-informed career choices in the field of entrepreneurship.

Options :

1. ✓ women
2. ✗ senior citizens
3. ✗ school going boys
4. ✗ school going girls

Question Number : 8 Question Id : 630680399752 Is Question Mandatory : No Calculator :

None Response Time : N.A Think Time : N.A Minimum Instruction Time : 0

Correct Marks : 1 Wrong Marks : 0.33

28 జూన్ 2023 నాడు, 'సాంస్కృతిక మంత్రిత్వ శాఖ 'వెటరన్ ఆర్డిస్ట్ల కోసం ఆర్థిక సహాయం పథకం' కింద ఆర్థిక సహాయం పంపిణీ ప్రక్రియను క్రమబద్ధీకరించడానికి ఏ బ్యాంక్‌తో అవగాహన ఒప్పందంపై సంతకం చేసింది?

Options :

1. ✓ కెనరా బ్యాంక్
2. ✗ ICICI బ్యాంక్
3. ✗ YES బ్యాంక్
4. ✗ బంధన్ బ్యాంక్

Question Number : 8 Question Id : 630680399752 Is Question Mandatory : No Calculator :

None Response Time : N.A Think Time : N.A Minimum Instruction Time : 0

Correct Marks : 1 Wrong Marks : 0.33

On 28th June 2023, the Ministry of Culture signed a Memorandum of Understanding with which bank to streamline the process of disbursement of financial assistance under the 'Scheme for Financial

Assistance for Veteran Artists'?

Options :

1. ✓ Canara Bank
2. ✗ ICICI Bank
3. ✗ YES Bank
4. ✗ Bandhan Bank

**Question Number : 9 Question Id : 630680399753 Is Question Mandatory : No Calculator :
None Response Time : N.A Think Time : N.A Minimum Instruction Time : 0**

Correct Marks : 1 Wrong Marks : 0.33

What is India's rank in the 35th edition of World Competitiveness Index 2023, published by the International Institute of Management Development?

Options :

1. ✗ 28th
2. ✗ 36th
3. ✓ 40th
4. ✗ 45th

**Question Number : 9 Question Id : 630680399753 Is Question Mandatory : No Calculator :
None Response Time : N.A Think Time : N.A Minimum Instruction Time : 0**

Correct Marks : 1 Wrong Marks : 0.33

ఇంటర్నేషనల్ ఇన్స్టిట్యూట్ ఆఫ్ మేనేజ్మెంట్ డెవలప్మెంట్ ప్రచురించిన ప్రపంచ పోటీతత్వ సూచిక 2023 యొక్క 35వ ఎడిషన్లో భారతదేశం యొక్క ర్యాంక్ ఎంత ?

Options :

1. ✗ 28వ
2. ✗ 36వ

3. ✓ 40వ

4. ✗ 45వ

Question Number : 10 Question Id : 630680399754 Is Question Mandatory : No Calculator :

None Response Time : N.A Think Time : N.A Minimum Instruction Time : 0

Correct Marks : 1 Wrong Marks : 0.33

జూన్ 2023లో, భవనీ దేవి ఆసియా ఛాంపియన్షిప్‌లో భారతదేశం నుండి మొట్టమొదటి పతకం (కాంస్యం) గెలుచుకున్న _____.

Options :

1. ✗ బ్యాడ్మింటన్ క్రీడాకారిణి

2. ✓ ఫెన్సర్

3. ✗ మల్లయోధులు

4. ✗ షూటర్

Question Number : 10 Question Id : 630680399754 Is Question Mandatory : No Calculator :

None Response Time : N.A Think Time : N.A Minimum Instruction Time : 0

Correct Marks : 1 Wrong Marks : 0.33

In June 2023, Bhawani Devi became the first ever _____ from India to win a medal (a bronze) at the Asian Championship.

Options :

1. ✗ badminton player

2. ✓ fencer

3. ✗ wrestler

4. ✗ shooter

Question Number : 11 Question Id : 630680399755 Is Question Mandatory : No Calculator :

None Response Time : N.A Think Time : N.A Minimum Instruction Time : 0

Correct Marks : 1 Wrong Marks : 0.33

Match the following in regard to IBA Women's World Championships 2023.

Country	Gold medals won
A. India	1. One
B. China	2. Three
C. Russian Federation	3. Zero
D. Australia	4. Four

Options :

1. ✓ A-4, B-2, C-1, D-3

2. ✘ A-3, B-2, C-1, D-4

3. ✘ A-1, B-2, C-4, D-3

4. ✘ A-2, B-4, C-1, D-3

Question Number : 11 Question Id : 630680399755 Is Question Mandatory : No Calculator :

None Response Time : N.A Think Time : N.A Minimum Instruction Time : 0

Correct Marks : 1 Wrong Marks : 0.33

IBA మహిళల ప్రపంచ ఛాంపియన్‌షిప్‌లు 2023 కి సంబంధించి కింది వాటిని సరిపోల్పండి .

దేశం	సాధించిన బంగారు పతకాలు
A. భారతదేశం	1. ఒకటి
B. చైనా	2. మూడు
C. రష్యన్ ఫెడరేషన్	3. సున్నా (ఒకటి కూడా లేదు)
D. ఆస్ట్రేలియా	4. నాలుగు

Options :

1. ✓ A-4, B-2, C-1, D-3

2. ✗ A-3, B-2, C-1, D-4

3. ✗ A-1, B-2, C-4, D-3

4. ✗ A-2, B-4, C-1, D-3

**Question Number : 12 Question Id : 630680399756 Is Question Mandatory : No Calculator :
None Response Time : N.A Think Time : N.A Minimum Instruction Time : 0**

Correct Marks : 1 Wrong Marks : 0.33

Microplastics are tiny plastic particles up to _____ in diameter which find their way into food, water and air.

Options :

1. ✗ 10 mm

2. ✓ 5 mm

3. ✗ 15 mm

4. ✗ 50 mm

**Question Number : 12 Question Id : 630680399756 Is Question Mandatory : No Calculator :
None Response Time : N.A Think Time : N.A Minimum Instruction Time : 0**

Correct Marks : 1 Wrong Marks : 0.33

మైక్రోప్లాస్టిక్స్ అనేవి _____ వ్యాసం కలిగిన చిన్న ప్లాస్టిక్ రేణువులు, ఇవి ఆహారం, నీరు మరియు గాలిలోకి తమ మూర్గాన్ని కనుగొంటాయి.

Options :

1.

✘ 10 mm

2. ✔ 5 mm

3. ✘ 15 mm

4. ✘ 50 mm

Question Number : 13 Question Id : 630680399757 Is Question Mandatory : No Calculator :

None Response Time : N.A Think Time : N.A Minimum Instruction Time : 0

Correct Marks : 1 Wrong Marks : 0.33

According to World Health Organization, how much percentage of the world's population was living in places where the WHO air quality guidelines levels were not met in 2019?

Options :

1. ✘ 79%

2. ✘ 89%

3. ✔ 99%

4. ✘ 69%

Question Number : 13 Question Id : 630680399757 Is Question Mandatory : No Calculator :

None Response Time : N.A Think Time : N.A Minimum Instruction Time : 0

Correct Marks : 1 Wrong Marks : 0.33

ప్రపంచ ఆరోగ్య సంస్థ ప్రకారం, 2019లో WHO గాలి నాణ్యత మార్గదర్శకాల స్థాయిలను అందుకోని ప్రదేశాలలో ప్రపంచ జనాభాలో ఎంత శాతం మంది నివసిస్తున్నారు?

Options :

1. ✘ 79%

2. ✘ 89%

3. ✔ 99%

4. ✘ 69%

Question Number : 14 Question Id : 630680399758 Is Question Mandatory : No Calculator : None Response Time : N.A Think Time : N.A Minimum Instruction Time : 0

Correct Marks : 1 Wrong Marks : 0.33

A rare form of epilepsy, known as PSE, is triggered by visual stimuli that form patterns in time or space, such as flashing lights, bold, regular patterns or regular moving patterns. What is the full form of PSE?

Options :

1. ✓ Photosensitive Epileptic Seizures
2. ✗ Photosensitive Endocrinal Seizures
3. ✗ Photosensitive Epileptic Sensitivity
4. ✗ Photosensitive Endocrinal Sensitivity

Question Number : 14 Question Id : 630680399758 Is Question Mandatory : No Calculator : None Response Time : N.A Think Time : N.A Minimum Instruction Time : 0

Correct Marks : 1 Wrong Marks : 0.33

మూర్ఖ యొక్క అరుదైన రూపంను, PSE అని పిలుస్తారు, ఇది ఏదేని సమయం లేదా ప్రదేశంలో మెరుస్తున్న లైట్లు, బోల్డ్, రెగ్యులర్ నమూనాలు లేదా రెగ్యులర్ గా కదిలే నమూనాల వంటి దృశ్య ఉద్దీపనల ద్వారా ప్రేరేపించబడుతుంది. PSE యొక్క పూర్తి రూపం ఏమిటి?

Options :

1. ✓ ఫోటోసెన్సిటివ్ ఎపిలెప్టిక్ సీజర్స్ (Photosensitive Epileptic Seizures)
2. ✗ ఫోటోసెన్సిటివ్ ఎండోక్రినల్ సీజర్స్ (Photosensitive Endocrinal Seizures)
3. ✗ ఫోటోసెన్సిటివ్ ఎపిలెప్టిక్ సెన్సిటివిటీ (Photosensitive Epileptic Sensitivity)
4. ✗ ఫోటోసెన్సిటివ్ ఎండోక్రినల్ సెన్సిటివిటీ (Photosensitive Endocrinal Sensitivity)

Question Number : 15 Question Id : 630680399759 Is Question Mandatory : No Calculator : None Response Time : N.A Think Time : N.A Minimum Instruction Time : 0

Correct Marks : 1 Wrong Marks : 0.33

ఫాసియోలా హెపాటికా అనేది ఆతిథ్య జంతువు _____ ని ఆక్రమించే ఫ్లాట్ వార్మ్ శాస్త్రీయ నామం.

Options :

1. ✘ మెదడు
2. ✘ మూత్రపిండము
3. ✘ గుండె
4. ✔ కాలేయం

Question Number : 15 Question Id : 630680399759 Is Question Mandatory : No Calculator :

None Response Time : N.A Think Time : N.A Minimum Instruction Time : 0

Correct Marks : 1 Wrong Marks : 0.33

Fasciola hepatica is the scientific name of a flat worm that invades the _____ of the host animal.

Options :

1. ✘ brain
2. ✘ kidney
3. ✘ heart
4. ✔ liver

Question Number : 16 Question Id : 630680399760 Is Question Mandatory : No Calculator :

None Response Time : N.A Think Time : N.A Minimum Instruction Time : 0

Correct Marks : 1 Wrong Marks : 0.33

కింది వాటిలో మానవ శరీరానికి అవసరమైన అమైనో ఆమ్లం ఏది?

Options :

1. ✔ ఐసోలూసిన్
2. ✘ అలనైన్

3. ✘ ಅಸ್ಪಾರ್ಟಿಕ್ ಯಾಸಿಡ್

4. ✘ ಸಿಸ್ಠಿನ್

Question Number : 16 Question Id : 630680399760 Is Question Mandatory : No Calculator :

None Response Time : N.A Think Time : N.A Minimum Instruction Time : 0

Correct Marks : 1 Wrong Marks : 0.33

Which of the following is an essential amino acid for the human body?

Options :

1. ✔ Isoleucine

2. ✘ Alanine

3. ✘ Aspartic acid

4. ✘ Cysteine

Question Number : 17 Question Id : 630680399761 Is Question Mandatory : No Calculator :

None Response Time : N.A Think Time : N.A Minimum Instruction Time : 0

Correct Marks : 1 Wrong Marks : 0.33

Match the columns.

Vitamin	Deficiency disease
A. Vitamin A	1. Scurvy
B. Vitamin D	2. Night blindness
C. Vitamin C	3. Excessive bleeding due to injury
D. Vitamin K	4. Rickets

Options :

1. ✘ A-2, B-3, C-1, D-4

2. ✘ A-3, B-4, C-2, D-1

3. ✓ A-2, B-4, C-1, D-3

4. ✘ A-1, B-4, C-2, D-3

Question Number : 17 Question Id : 630680399761 Is Question Mandatory : No Calculator :

None Response Time : N.A Think Time : N.A Minimum Instruction Time : 0

Correct Marks : 1 Wrong Marks : 0.33

వరుసలను జతపరచండి.

విటమిన్	వ్యాధి లోపం
A. విటమిన్ ఎ	1. స్కర్వి
B. విటమిన్ డి	2. రేచీకటి
C. విటమిన్ సి	3. గాయం కారణంగా అధిక రక్తస్రావం
D. విటమిన్ కె	4. రికెట్స్

Options :

1. ✘ A-2, B-3, C-1, D-4

2. ✘ A-3, B-4, C-2, D-1

3. ✓ A-2, B-4, C-1, D-3

4. ✘ A-1, B-4, C-2, D-3

Question Number : 18 Question Id : 630680399762 Is Question Mandatory : No Calculator :

None Response Time : N.A Think Time : N.A Minimum Instruction Time : 0

Correct Marks : 1 Wrong Marks : 0.33

High Power Committee on Disaster Management identified _____ types of disasters in 2005.

Note: For this question, discrepancy is found in question/answer. So, this question is ignored for all candidates.

Options :

1. 11

2. 21

3. 31

4. 41

Question Number : 18 Question Id : 630680399762 Is Question Mandatory : No Calculator :

None Response Time : N.A Think Time : N.A Minimum Instruction Time : 0

Correct Marks : 1 Wrong Marks : 0.33

విపత్తు నిర్వహణపై హై పవర్ కమిటీ 2005లో _____ రకాల విపత్తులను గుర్తించింది.

Note: For this question, discrepancy is found in question/answer. So, this question is ignored for all candidates.

Options :

1. 11

2. 21

3. 31

4. 41

Question Number : 19 Question Id : 630680399763 Is Question Mandatory : No Calculator :

None Response Time : N.A Think Time : N.A Minimum Instruction Time : 0

Correct Marks : 1 Wrong Marks : 0.33

భారతదేశం దాదాపు 7516 కి.మీల తీరప్రాంతాన్ని కలిగి ఉంది, ఇది దాదాపు _____ శాతం ప్రపంచ ఉష్ణమండల తుఫానులకు గురవుతుంది.

Options :

1. ✖ 20

2. ✔ 10

3. ✖ 15

4. ✖ 18

Question Number : 19 Question Id : 630680399763 Is Question Mandatory : No Calculator :

None Response Time : N.A Think Time : N.A Minimum Instruction Time : 0

Correct Marks : 1 Wrong Marks : 0.33

India has a coastline of about 7516 kms, which is exposed to nearly _____ per cent of the world's tropical cyclones.

Options :

1. ✖ 20

2. ✔ 10

3. ✖ 15

4. ✖ 18

Question Number : 20 Question Id : 630680399764 Is Question Mandatory : No Calculator :

None Response Time : N.A Think Time : N.A Minimum Instruction Time : 0

Correct Marks : 1 Wrong Marks : 0.33

న్యూదిల్లీ ఏ భూకంప మండలానికి చెందినది?

Options :

1. ✖ భూకంప మండలం III

2. ✘ భూకంప మండలం II

3. ✔ భూకంప మండలం IV

4. ✘ భూకంప మండలం I

Question Number : 20 Question Id : 630680399764 Is Question Mandatory : No Calculator :

None Response Time : N.A Think Time : N.A Minimum Instruction Time : 0

Correct Marks : 1 Wrong Marks : 0.33

Which seismic zone does New Delhi belong to?

Options :

1. ✘ Seismic Zone III

2. ✘ Seismic Zone II

3. ✔ Seismic Zone IV

4. ✘ Seismic Zone I

Question Number : 21 Question Id : 630680399765 Is Question Mandatory : No Calculator :

None Response Time : N.A Think Time : N.A Minimum Instruction Time : 0

Correct Marks : 1 Wrong Marks : 0.33

1993లో కిల్గారి భూకంపం సంభవించడం వల్ల భూకంప మండల మ్యాప్‌లో మరింత పునర్విమర్శ జరిగింది, దీనిలో తక్కువ

ప్రమాదకరమైన మండలం లేదా భూకంప మండలం I అనేది భూకంప మండలం _____ లో విలీనం చేయబడింది.

Options :

1. ✔ II

2. ✘ III

3. ✘ IV

4. ✘ V

Question Number : 21 Question Id : 630680399765 Is Question Mandatory : No Calculator :

None Response Time : N.A Think Time : N.A Minimum Instruction Time : 0

Correct Marks : 1 Wrong Marks : 0.33

The occurrence of the Killari earthquake in 1993 resulted in further revision of the seismic zoning map, in which the low hazard zone or Seismic Zone I was merged with Seismic Zone _____.

Options :

1. ✓ II

2. ✗ III

3. ✗ IV

4. ✗ V

Question Number : 22 Question Id : 630680399766 Is Question Mandatory : No Calculator :

None Response Time : N.A Think Time : N.A Minimum Instruction Time : 0

Correct Marks : 1 Wrong Marks : 0.33

The Air (Prevention and Control of Pollution) Act or the Air Act was passed in which year by the Government of India?

Options :

1. ✗ 1971

2. ✓ 1981

3. ✗ 2001

4. ✗ 1991

Question Number : 22 Question Id : 630680399766 Is Question Mandatory : No Calculator :

None Response Time : N.A Think Time : N.A Minimum Instruction Time : 0

Correct Marks : 1 Wrong Marks : 0.33

వాయు (కాలుష్య నివారణ మరియు నియంత్రణ) చట్టం లేదా వాయు చట్టాన్ని భారత ప్రభుత్వం ఏ సంవత్సరంలో ఆమోదించింది?

Options :

1. ✘ 1971

2. ✔ 1981

3. ✘ 2001

4. ✘ 1991

Question Number : 23 Question Id : 630680399767 Is Question Mandatory : No Calculator :

None Response Time : N.A Think Time : N.A Minimum Instruction Time : 0

Correct Marks : 1 Wrong Marks : 0.33

Which was the first country in the world to set up a ministry of non-conventional energy resources, in early 1980?

Options :

1. ✘ Australia

2. ✘ The US

3. ✘ Russia

4. ✔ India

Question Number : 23 Question Id : 630680399767 Is Question Mandatory : No Calculator :

None Response Time : N.A Think Time : N.A Minimum Instruction Time : 0

Correct Marks : 1 Wrong Marks : 0.33

1980 ప్రారంభంలో ప్రపంచంలో సంప్రదాయేతర ఇంధన వనరుల మంత్రిత్వ శాఖను ఏర్పాటు చేసిన మొదటి దేశం ఏది?

Options :

1. ✘ ఆస్ట్రేలియా

2. ✘ యు.ఎస్

3. ✘ రష్యా

4. ✔ భారతదేశం

**Question Number : 24 Question Id : 630680399768 Is Question Mandatory : No Calculator :
None Response Time : N.A Think Time : N.A Minimum Instruction Time : 0**

Correct Marks : 1 Wrong Marks : 0.33

In which year did the Government of India pass the National Environment Tribunal Act?

Options :

1. ✓ 1995

2. ✗ 2005

3. ✗ 1985

4. ✗ 1975

**Question Number : 24 Question Id : 630680399768 Is Question Mandatory : No Calculator :
None Response Time : N.A Think Time : N.A Minimum Instruction Time : 0**

Correct Marks : 1 Wrong Marks : 0.33

భారత ప్రభుత్వం నేషనల్ ఎన్విరాన్మెంట్ ట్రిబ్యూనల్ చట్టాన్ని ఏ సంవత్సరంలో ఆమోదించింది?

Options :

1. ✓ 1995

2. ✗ 2005

3. ✗ 1985

4. ✗ 1975

**Question Number : 25 Question Id : 630680399769 Is Question Mandatory : No Calculator :
None Response Time : N.A Think Time : N.A Minimum Instruction Time : 0**

Correct Marks : 1 Wrong Marks : 0.33

According to the 2021 World Air Quality Report, India is home to _____ of the 100 most polluted cities in the world.

Options :

1. ✖ 53

2. ✖ 73

3. ✔ 63

4. ✖ 43

Question Number : 25 Question Id : 630680399769 Is Question Mandatory : No Calculator :

None Response Time : N.A Think Time : N.A Minimum Instruction Time : 0

Correct Marks : 1 Wrong Marks : 0.33

2021 ప్రపంచ వాయు నాణ్యత నివేదిక ప్రకారం, ప్రపంచంలోని 100 అత్యంత కలుషితమైన నగరాల్లో భారతదేశంలో _____ వున్నాయి.

Options :

1. ✖ 53

2. ✖ 73

3. ✔ 63

4. ✖ 43

Question Number : 26 Question Id : 630680399770 Is Question Mandatory : No Calculator :

None Response Time : N.A Think Time : N.A Minimum Instruction Time : 0

Correct Marks : 1 Wrong Marks : 0.33

According to NITI Aayog report, the multidimensional poverty rate in Andhra Pradesh reduced from 41.6% in 2005-06 to _____ in 2016-17.

Options :

1. ✖ 17%

2. ✔ 21%

3. ✖ 29%

4. ✖ 32%

Question Number : 26 Question Id : 630680399770 Is Question Mandatory : No Calculator :
None Response Time : N.A Think Time : N.A Minimum Instruction Time : 0

Correct Marks : 1 Wrong Marks : 0.33

నీతి ఆయోగ్ నివేదిక ప్రకారం, ఆంధ్రప్రదేశ్ లో బహుమితియ పేదరికం రేటు 2005-06లో 41.6% నుండి 2016-17లో _____ కి
అగ్గింది.

Options :

1. ✘ 17%

2. ✔ 21%

3. ✘ 29%

4. ✘ 32%

Question Number : 27 Question Id : 630680399771 Is Question Mandatory : No Calculator :
None Response Time : N.A Think Time : N.A Minimum Instruction Time : 0

Correct Marks : 1 Wrong Marks : 0.33

ఈ క్రింది వరుసలను జతపరచండి.

శిఖరం	ఎత్తు
A. ఎవరెస్ట్ పర్వతం	1. 8126 మీటర్లు
B. కాంచనజుంగా	2. 8848 మీటర్లు
C. నంగా పర్బత్	3. 7817 మీటర్లు
D. నందా దేవి	4. 8598 మీటర్లు

Options :

1. ✘ A-4, B-2, C-1, D-3

2. ✘ A-1, B-4, C-2, D-3

3. ✓ A-2, B-4, C-1, D-3

4. ✘ A-3, B-4, C-1, D-2

Question Number : 27 Question Id : 630680399771 Is Question Mandatory : No Calculator :

None Response Time : N.A Think Time : N.A Minimum Instruction Time : 0

Correct Marks : 1 Wrong Marks : 0.33

Match the columns.

Peak	Height
A. Mount Everest	1. 8126 metres
B. Kanchenjunga	2. 8848 metres
C. Nanga Parbat	3. 7817 metres
D. Nanda Devi	4. 8598 metres

Options :

1. ✘ A-4, B-2, C-1, D-3

2. ✘ A-1, B-4, C-2, D-3

3. ✓ A-2, B-4, C-1, D-3

4. ✘ A-3, B-4, C-1, D-2

Question Number : 28 Question Id : 630680399772 Is Question Mandatory : No Calculator :

None Response Time : N.A Think Time : N.A Minimum Instruction Time : 0

Correct Marks : 1 Wrong Marks : 0.33

హిమాలయాల వెడల్పు కాశ్మీర్‌లో 400 km నుండి అరుణాచల్ ప్రదేశ్‌లో _____ వరకు మారుతూ ఉంటుంది.

Options :

1. ✘ 120 km

2. ✔ 150 km

3. ✘ 130 km

4. ✘ 160 km

Question Number : 28 Question Id : 630680399772 Is Question Mandatory : No Calculator :

None Response Time : N.A Think Time : N.A Minimum Instruction Time : 0

Correct Marks : 1 Wrong Marks : 0.33

The width of the Himalayas varies from 400 km in Kashmir to _____ in Arunachal Pradesh.

Options :

1. ✘ 120 km

2. ✔ 150 km

3. ✘ 130 km

4. ✘ 160 km

Question Number : 29 Question Id : 630680399773 Is Question Mandatory : No Calculator :

None Response Time : N.A Think Time : N.A Minimum Instruction Time : 0

Correct Marks : 1 Wrong Marks : 0.33

ఈ క్రింది వాటిలో ఏ నది సింధు నదికి ఉపనది కాదు ?

Options :

1. ✘ జీలం

2. ✘ చీనాబ్

3. ✘ రావి

4. ✔ మహానది

Question Number : 29 Question Id : 630680399773 Is Question Mandatory : No Calculator :

None Response Time : N.A Think Time : N.A Minimum Instruction Time : 0

Correct Marks : 1 Wrong Marks : 0.33

Which of the following is NOT a tributary of Indus river?

Options :

1. ✘ Jhelum

2. ✘ Chenab

3. ✘ Ravi

4. ✔ Mahanadi

Question Number : 30 Question Id : 630680399774 Is Question Mandatory : No Calculator :

None Response Time : N.A Think Time : N.A Minimum Instruction Time : 0

Correct Marks : 1 Wrong Marks : 0.33

ఱని నది ఎక్కడ ఉంది?

Options :

1. ✔ ఇండియన్ ఎడారి

2. ✘ సహారా ఎడారి

3. ✔ థార్ ఎడారి

4. ✘ షోలిస్టాన్ ఎడారి

Note: For this question, ambiguity is found in question/answer. Candidate will get full marks for this question if any of the correct options are chosen.

Question Number : 30 Question Id : 630680399774 Is Question Mandatory : No Calculator :

None Response Time : N.A Think Time : N.A Minimum Instruction Time : 0

Correct Marks : 1 Wrong Marks : 0.33

Where is the Luni river located?

Options :

1. ✓ Indian desert

2. ✗ Sahara desert

3. ✓ Thar desert

4. ✗ Cholistan desert

Note: For this question, ambiguity is found in question/answer. Candidate will get full marks for this question if any of the correct options are chosen.

Question Number : 31 Question Id : 630680399775 Is Question Mandatory : No Calculator :

None Response Time : N.A Think Time : N.A Minimum Instruction Time : 0

Correct Marks : 1 Wrong Marks : 0.33

The Lakshadweep islands cover an area of _____.

Options :

1. ✓ 32 km²

2. ✗ 42 km²

3. ✗ 52 km²

4. ✗ 62 km²

Question Number : 31 Question Id : 630680399775 Is Question Mandatory : No Calculator :

None Response Time : N.A Think Time : N.A Minimum Instruction Time : 0

Correct Marks : 1 Wrong Marks : 0.33

లక్షద్వీప్ దీవులు _____ ప్రాంతంలో విస్తరించి ఉన్నాయి.

Options :

1. ✓ 32 km²

2. ✗ 42 km²

3. ✗ 52 km²

4. ✗ 62 km²

**Question Number : 32 Question Id : 630680399776 Is Question Mandatory : No Calculator :
None Response Time : N.A Think Time : N.A Minimum Instruction Time : 0**

Correct Marks : 1 Wrong Marks : 0.33

పిట్టి పక్షుల అభయారణ్యం ఎక్కడ ఉంది?

Options :

1. ✘ రామేశ్వరం

2. ✘ మధురై

3. ✔ లక్షద్వీప్

4. ✘ గోవా

**Question Number : 32 Question Id : 630680399776 Is Question Mandatory : No Calculator :
None Response Time : N.A Think Time : N.A Minimum Instruction Time : 0**

Correct Marks : 1 Wrong Marks : 0.33

Where is the Pitti Bird Sanctuary located?

Options :

1. ✘ Rameswaram

2. ✘ Madurai

3. ✔ Lakshadweep

4. ✘ Goa

**Question Number : 33 Question Id : 630680399777 Is Question Mandatory : No Calculator :
None Response Time : N.A Think Time : N.A Minimum Instruction Time : 0**

Correct Marks : 1 Wrong Marks : 0.33

Match the following (shares of States in value of mineral production 2021-22).

State	Share
A. Odisha	1. 17.34%
B. Madhya Pradesh	2. 2.96%
C. Karnataka	3. 4.36%
D. Jharkhand	4. 44.11%

Options :

1. ✓ A-4, B-2, C-1, D-3
2. ✗ A-1, B-4, C-2, D-3
3. ✗ A-2, B-4, C-1, D-3
4. ✗ A-3, B-4, C-1, D-2

Question Number : 33 Question Id : 630680399777 Is Question Mandatory : No Calculator :

None Response Time : N.A Think Time : N.A Minimum Instruction Time : 0

Correct Marks : 1 Wrong Marks : 0.33

ఈ క్రింది వాటిని సరిపోల్చండి (ఖనిజ ఉత్పత్తి విలువలో రాష్ట్రాల వాటా 2021-22).

రాష్ట్రం	వాటా
A. ఒడిశా	1. 17.34%
B. మధ్యప్రదేశ్	2. 2.96%
C. కర్ణాటక	3. 4.36%
D. జార్ఖండ్	4. 44.11%

Options :

1. ✓ A-4, B-2, C-1, D-3

2. ✘ A-1, B-4, C-2, D-3

3. ✘ A-2, B-4, C-1, D-3

4. ✘ A-3, B-4, C-1, D-2

Question Number : 34 Question Id : 630680399778 Is Question Mandatory : No Calculator :

None Response Time : N.A Think Time : N.A Minimum Instruction Time : 0

Correct Marks : 1 Wrong Marks : 0.33

ఈ క్రింది వారిలో ఎవరు 'రామదండు' అనిపిలువబడే వ్యవస్థీకృత స్వచ్ఛంద దళంను 1921లో ఏర్పాటుచేశారు?

Options :

1. ✔ దుగ్గిరాల గోపాల కృష్ణయ్య

2. ✘ పింగళి వెంకయ్య

3. ✘ భోగరాజు పట్టాభి సీతారామయ్య

4. ✘ కాశీనాథుని నాగేశ్వరరావు

Question Number : 34 Question Id : 630680399778 Is Question Mandatory : No Calculator :

None Response Time : N.A Think Time : N.A Minimum Instruction Time : 0

Correct Marks : 1 Wrong Marks : 0.33

Who among the following organised volunteer corps called 'Ramadandu' in 1921?

Options :

1. ✔ Duggirala Gopala Krishnayya

2. ✘ Pingali Venkaiah

3. ✘ Bhogaraju Pattabhi Sitaramayya

4. ✘ Kasinathuni Nageswara Rao

Question Number : 35 Question Id : 630680399779 Is Question Mandatory : No Calculator :

None Response Time : N.A Think Time : N.A Minimum Instruction Time : 0

Correct Marks : 1 Wrong Marks : 0.33

ఆంధ్ర ప్రాంతంలో సహాయ నిరాకరణ ఉద్యమంలో ముఖ్యమైన ఘట్టాలలో ఒకటి 'అటవీ సత్యాగ్రహం'. ఆంధ్రా ప్రాంతంలో ఇది మొదట ఎక్కడ మొదలైంది?

Options :

1. ✘ బాపట్ల

2. ✘ విశాఖపట్నం

3. ✘ మచిలీపట్నం

4. ✔ పల్నాడు

Question Number : 35 Question Id : 630680399779 Is Question Mandatory : No Calculator :

None Response Time : N.A Think Time : N.A Minimum Instruction Time : 0

Correct Marks : 1 Wrong Marks : 0.33

One of the important episodes in the Non-Cooperation Movement in Andhra region is 'Forest Satyagraha'. Where did this first start in the Andhra region?

Options :

1. ✘ Bapatla

2. ✘ Visakhapatnam

3. ✘ Machilipatnam

4. ✔ Palnadu

Question Number : 36 Question Id : 630680399780 Is Question Mandatory : No Calculator :

None Response Time : N.A Think Time : N.A Minimum Instruction Time : 0

Correct Marks : 1 Wrong Marks : 0.33

Who among the following established a journal called 'Vivekavardhini' for propagating his reforms

in the social and literary fields?

Options :

1. ✓ Kandukuri Veeresalingam
2. ✗ Tanguturi Prakasam Panthulu
3. ✗ Rangaiah Naidu
4. ✗ Srirangam Srinivasa Rao

**Question Number : 36 Question Id : 630680399780 Is Question Mandatory : No Calculator :
None Response Time : N.A Think Time : N.A Minimum Instruction Time : 0**

Correct Marks : 1 Wrong Marks : 0.33

ఈ క్రింది వారిలో ఎవరు సామాజిక మరియు సాహిత్య రంగాలలో తన సంస్కరణలను ప్రచారం చేయడానికి 'వివేకవర్ధిని' అనే పత్రికను స్థాపించారు ?

Options :

1. ✓ కందుకూరి వీరేశలింగం
2. ✗ టింగుటూరి ప్రకాశం పంతులు
3. ✗ రంగయ్య నాయుడు
4. ✗ శ్రీరంగం శ్రీనివాసరావు

**Question Number : 37 Question Id : 630680399781 Is Question Mandatory : No Calculator :
None Response Time : N.A Think Time : N.A Minimum Instruction Time : 0**

Correct Marks : 1 Wrong Marks : 0.33

కొమర్రాజు వెంకట లక్ష్మణరావు ఏ నగరంలో 1901లో 'శ్రీ కృష్ణ దేవరాయ ఆంధ్ర బాషా నిలయం'ను స్థాపించారు?

Options :

1. ✗ మచిలీపట్నం
2. ✓ హైదరాబాద్

3. ✖ విజయవాడ

4. ✖ రాజమండ్రి

Question Number : 37 Question Id : 630680399781 Is Question Mandatory : No Calculator :

None Response Time : N.A Think Time : N.A Minimum Instruction Time : 0

Correct Marks : 1 Wrong Marks : 0.33

In which city did Komarraju Venkata Lakshmana Rao establish 'Sri Krishna Deva Raya Andhra basha Nilayam' in 1901?

Options :

1. ✖ Machilipatnam

2. ✔ Hyderabad

3. ✖ Vijayawada

4. ✖ Rajahmundry

Question Number : 38 Question Id : 630680399782 Is Question Mandatory : No Calculator :

None Response Time : N.A Think Time : N.A Minimum Instruction Time : 0

Correct Marks : 1 Wrong Marks : 0.33

1913 మే 26వ తేదీన అప్పటి మద్రాసు శాసన మండలి సభ్యుడు బిఎన్ శర్మ అధ్యక్షతన మొదటి ఆంధ్ర సమావేశం ఏ ప్రాంతంలో జరిగింది?

Options :

1. ✖ గుడివాడ

2. ✖ కాకినాడ

3. ✔ బాపట్ల

4. ✖ వరంగల్

Question Number : 38 Question Id : 630680399782 Is Question Mandatory : No Calculator :

None Response Time : N.A Think Time : N.A Minimum Instruction Time : 0

Correct Marks : 1 Wrong Marks : 0.33

At which place did the first Andhra conference meet on 26th May 1913 under the presidentship of BN Sharma, the then member of legislative council of Madras?

Options :

1. ✘ Gudivada

2. ✘ Kakinada

3. ✔ Bapatla

4. ✘ Warangal

Question Number : 39 Question Id : 630680399783 Is Question Mandatory : No Calculator :

None Response Time : N.A Think Time : N.A Minimum Instruction Time : 0

Correct Marks : 1 Wrong Marks : 0.33

Who wrote the Telugu drama called 'Japaneeyamu' to celebrate the victory of Japan over Russia, which stimulated the Indian national spirit?

Note: For this question, discrepancy is found in question/answer. So, this question is ignored for all candidates.

Options :

1. Sriram Vishwabrahmam

2. Adipudi Somanatha Rao

3. Lakshmana Rao

4. Kandukuri Veeresalingam

Question Number : 39 Question Id : 630680399783 Is Question Mandatory : No Calculator :

None Response Time : N.A Think Time : N.A Minimum Instruction Time : 0

Correct Marks : 1 Wrong Marks : 0.33

భారత జాతీయ స్ఫూర్తిని రగిలించిన రష్యాపై జపాన్ సాధించిన విజయాన్ని పురస్కరించుకుని 'జపనీయము' అనే తెలుగు నాటకాన్ని ఎవరు రచించారు ?

Note: For this question, discrepancy is found in question/answer. So, this question is ignored for all candidates.

Options :

1. శ్రీరామ్ విశ్వబ్రహ్మం
2. ఆదిపూడి సోమనాథరావు
3. లక్ష్మణరావు
4. కందుకూరి వీరేశలింగం

Question Number : 40 Question Id : 630680399784 Is Question Mandatory : No Calculator : None Response Time : N.A Think Time : N.A Minimum Instruction Time : 0

Correct Marks : 1 Wrong Marks : 0.33

రాష్ట్రంలో మూడు రాజధానుల ఏర్పాటు కోసం ఆంధ్రప్రదేశ్ ప్రభుత్వం ఆమోదించిన బిల్లు పేరు ఏమిటి?

Options :

1. ✘ AP రాజధాని ప్రాంత అభివృద్ధి అథారిటీ (రద్దు) బిల్లు, 2021
2. ✔ AP రాజధాని ప్రాంత అభివృద్ధి అథారిటీ (రద్దు) బిల్లు, 2020
3. ✘ AP రాజధాని ప్రాంత అభివృద్ధి అథారిటీ (రద్దు) బిల్లు, 2022
4. ✘ AP రాజధాని ప్రాంత అభివృద్ధి అథారిటీ (రద్దు) బిల్లు, 2023

Question Number : 40 Question Id : 630680399784 Is Question Mandatory : No Calculator : None Response Time : N.A Think Time : N.A Minimum Instruction Time : 0

Correct Marks : 1 Wrong Marks : 0.33

What is the name of the bill passed by the Government of Andhra Pradesh, to establish three capitals in the state?

Options :

1. ✘ AP Capital Region Development Authority (Repeal) Bill, 2021
2. ✔ AP Capital Region Development Authority (Repeal) Bill, 2020
3. ✘ AP Capital Region Development Authority (Repeal) Bill, 2022
4. ✘ AP Capital Region Development Authority (Repeal) Bill, 2023

**Question Number : 41 Question Id : 630680399785 Is Question Mandatory : No Calculator :
None Response Time : N.A Think Time : N.A Minimum Instruction Time : 0**

Correct Marks : 1 Wrong Marks : 0.33

సుపరిపాలన కేంద్రం (CGG)ను ఆంధ్ర ప్రదేశ్ ప్రభుత్వం (GOAP) ఏ సంవత్సరంలో స్థాపించింది?

Options :

1. ✘ 2005
2. ✘ 2003
3. ✔ 2001
4. ✘ 2007

**Question Number : 41 Question Id : 630680399785 Is Question Mandatory : No Calculator :
None Response Time : N.A Think Time : N.A Minimum Instruction Time : 0**

Correct Marks : 1 Wrong Marks : 0.33

In which year was the Centre for Good Governance (CGG) established by the Government of Andhra Pradesh (GoAP)?

Options :

1. ✘ 2005
2. ✘ 2003

3. ✓ 2001

4. ✘ 2007

**Question Number : 42 Question Id : 630680399786 Is Question Mandatory : No Calculator :
None Response Time : N.A Think Time : N.A Minimum Instruction Time : 0**

Correct Marks : 1 Wrong Marks : 0.33

As per reports of Andhra Pradesh Economic Development Board (APEDB), how much percentage of total Indian exports was contributed by Andhra Pradesh by 2020-2021?

Options :

1. ✘ 8.8%

2. ✘ 7.8%

3. ✘ 6.8%

4. ✓ 5.8%

**Question Number : 42 Question Id : 630680399786 Is Question Mandatory : No Calculator :
None Response Time : N.A Think Time : N.A Minimum Instruction Time : 0**

Correct Marks : 1 Wrong Marks : 0.33

ఆంధ్రప్రదేశ్ ఎకనామిక్ డెవలప్‌మెంట్ బోర్డ్ (APEDB) నివేదికల ప్రకారం, 2020-2021 నాటికి మొత్తం భారతీయ ఎగుమతుల్లో ఆంధ్రప్రదేశ్ ఎంత శాతం వాటాను అందించింది?

Options :

1. ✘ 8.8%

2. ✘ 7.8%

3. ✘ 6.8%

4. ✓ 5.8%

Question Number : 43 Question Id : 630680399787 Is Question Mandatory : No Calculator :

None Response Time : N.A Think Time : N.A Minimum Instruction Time : 0

Correct Marks : 1 Wrong Marks : 0.33

The YSR Jagananna Mega Industrial Hub, which is being developed by Andhra Pradesh government in Kopparthi area, is spread across an area of _____.

Options :

1. ✓ 3,155 acres

2. ✗ 2,155 acres

3. ✗ 1,155 acres

4. ✗ 4,155 acres

Question Number : 43 Question Id : 630680399787 Is Question Mandatory : No Calculator :

None Response Time : N.A Think Time : N.A Minimum Instruction Time : 0

Correct Marks : 1 Wrong Marks : 0.33

కొప్పర్తి ప్రాంతంలో ఆంధ్రప్రదేశ్ ప్రభుత్వం అభివృద్ధి చేస్తున్న వైఎస్ఆర్ జగనన్న మెగా ఇండస్ట్రియల్ హబ్ _____ విస్తీర్ణంలో విస్తరించి ఉంది.

Options :

1. ✓ 3,155 ఎకరాలు

2. ✗ 2,155 ఎకరాలు

3. ✗ 1,155 ఎకరాలు

4. ✗ 4,155 ఎకరాలు

Question Number : 44 Question Id : 630680399788 Is Question Mandatory : No Calculator :

None Response Time : N.A Think Time : N.A Minimum Instruction Time : 0

Correct Marks : 1 Wrong Marks : 0.33

ఏప్రిల్ 2021లో ఆంధ్రప్రదేశ్ ప్రభుత్వం CXO రౌండ్ టేబుల్ సమావేశం ఎక్కడ జరిగింది?

Options :

1. ✖ రాజమండ్రి
2. ✖ కాకినాడ
3. ✖ విశాఖపట్నం
4. ✔ విజయవాడ

**Question Number : 44 Question Id : 630680399788 Is Question Mandatory : No Calculator :
None Response Time : N.A Think Time : N.A Minimum Instruction Time : 0
Correct Marks : 1 Wrong Marks : 0.33**

Where was the CXO Round Table conference held by the Andhra Pradesh government in April 2021?

Options :

1. ✖ Rajahmundry
2. ✖ Kakinada
3. ✖ Visakhapatnam
4. ✔ Vijayawada

**Question Number : 45 Question Id : 630680399789 Is Question Mandatory : No Calculator :
None Response Time : N.A Think Time : N.A Minimum Instruction Time : 0
Correct Marks : 1 Wrong Marks : 0.33**

ఫిబ్రవరి 2021లో, ఆర్థిక మంత్రిత్వ శాఖ, వ్యయ శాఖ నిర్దేశించిన విద్యుత్ రంగ సంస్కరణలను చేపట్టి _____ రాష్ట్రంగా ఆంధ్రప్రదేశ్ అవతరించింది.

Options :

1. ✔ రెండవ
2. ✖ మొదటి
3. ✖ మూడవ

4. ✖ నాల్గవ

Question Number : 45 Question Id : 630680399789 Is Question Mandatory : No Calculator :

None Response Time : N.A Think Time : N.A Minimum Instruction Time : 0

Correct Marks : 1 Wrong Marks : 0.33

In February 2021, Andhra Pradesh became the _____ State to undertake the power sector reforms stipulated by the Department of Expenditure, Ministry of Finance.

Options :

1. ✔ second

2. ✖ first

3. ✖ third

4. ✖ fourth

Question Number : 46 Question Id : 630680399790 Is Question Mandatory : No Calculator :

None Response Time : N.A Think Time : N.A Minimum Instruction Time : 0

Correct Marks : 1 Wrong Marks : 0.33

ఆంధ్రప్రదేశ్ పునర్వ్యవస్థీకరణ బిల్లు 2014 ప్రకారం, ప్రస్తుత ఆంధ్రప్రదేశ్ రాష్ట్రానికి _____ ఫైనాన్స్ కమిషన్ కేటాయించిన వనరులను జనాభా నిష్పత్తి మరియు ఇతర పారామితుల ఆధారంగా రెండు కొత్త రాష్ట్రాల మధ్య విభజించారు.

Options :

1. ✖ 10వ

2. ✖ 11వ

3. ✖ 12వ

4. ✔ 13వ

Question Number : 46 Question Id : 630680399790 Is Question Mandatory : No Calculator :

None Response Time : N.A Think Time : N.A Minimum Instruction Time : 0

Correct Marks : 1 Wrong Marks : 0.33

As per Andhra Pradesh Reorganization Bill 2014, the resources allocated by the _____ Finance Commission to the existing state of Andhra Pradesh were apportioned between the two successor states on the basis of population ratio and other parameters.

Options :

1. ✘ 10th

2. ✘ 11th

3. ✘ 12th

4. ✔ 13th

Question Number : 47 Question Id : 630680399791 Is Question Mandatory : No Calculator :

None Response Time : N.A Think Time : N.A Minimum Instruction Time : 0

Correct Marks : 1 Wrong Marks : 0.33

ఆంధ్రప్రదేశ్ పునర్వ్యవస్థీకరణ బిల్లు 2014 ప్రకారం, పన్నుల వాపసు ఆంధ్రప్రదేశ్ మరియు తెలంగాణల మధ్య వరుసగా _____ నిష్పత్తిలో పంచబడాలి.

Options :

1. ✘ 56.32 : 43.68

2. ✔ 58.32 : 41.68

3. ✘ 60.32 : 39.68

4. ✘ 49.32 : 50.68

Question Number : 47 Question Id : 630680399791 Is Question Mandatory : No Calculator :

None Response Time : N.A Think Time : N.A Minimum Instruction Time : 0

Correct Marks : 1 Wrong Marks : 0.33

As per Andhra Pradesh Reorganization Bill 2014, the refund of taxes is to be shared between Andhra Pradesh and Telangana in the ratio of _____, respectively.

Options :

1. ✘ 56.32 : 43.68

2. ✔ 58.32 : 41.68

3. ✘ 60.32 : 39.68

4. ✘ 49.32 : 50.68

Question Number : 48 Question Id : 630680399792 Is Question Mandatory : No Calculator :

None Response Time : N.A Think Time : N.A Minimum Instruction Time : 0

Correct Marks : 1 Wrong Marks : 0.33

ఆంధ్రప్రదేశ్ పునర్వ్యవస్థీకరణ చట్టం 2014 ప్రకారం, ఆంధ్రప్రదేశ్ లెజిస్లేటివ్ కౌన్సిల్లో _____ కంటే మించని సభ్యులతో కూడిన ప్రతి కౌన్సిల్ రాష్ట్రానికి ఒక శాసన మండలి ఏర్పాటు చేయబడుతుంది.

Options :

1. ✔ 50

2. ✘ 40

3. ✘ 30

4. ✘ 60

Question Number : 48 Question Id : 630680399792 Is Question Mandatory : No Calculator :

None Response Time : N.A Think Time : N.A Minimum Instruction Time : 0

Correct Marks : 1 Wrong Marks : 0.33

As per Andhra Pradesh Reorganization Act 2014, there shall be constituted a Legislative Council for each of the successor States consisting of not more than _____ members in the Legislative Council of Andhra Pradesh.

Options :

1. ✔ 50

2. ✘ 40

3. ✘ 30

4. ✖ 60

Question Number : 49 Question Id : 630680399793 Is Question Mandatory : No Calculator :

None Response Time : N.A Think Time : N.A Minimum Instruction Time : 0

Correct Marks : 1 Wrong Marks : 0.33

ఆంధ్ర ప్రదేశ్ గుండా ప్రవహించే తుంగభద్ర నది _____ యొక్క ఉపనది.

Options :

1. ✖ కావేరి నది

2. ✖ గోదావరి నది

3. ✔ కృష్ణా నది

4. ✖ మహానది

Question Number : 49 Question Id : 630680399793 Is Question Mandatory : No Calculator :

None Response Time : N.A Think Time : N.A Minimum Instruction Time : 0

Correct Marks : 1 Wrong Marks : 0.33

The river Tungabhadra, which flows through Andhra Pradesh, is a tributary of _____.

Options :

1. ✖ Cauvery river

2. ✖ Godavari river

3. ✔ Krishna river

4. ✖ Mahanadi river

Question Number : 50 Question Id : 630680399794 Is Question Mandatory : No Calculator :

None Response Time : N.A Think Time : N.A Minimum Instruction Time : 0

Correct Marks : 1 Wrong Marks : 0.33

ఆంధ్రప్రదేశ్ లోని పెన్నార్ నది మొత్తం పొడవు ఎంత?

Options :

1. ✘ 526 km

2. ✔ 536 km

3. ✘ 546 km

4. ✘ 556 km

Question Number : 50 Question Id : 630680399794 Is Question Mandatory : No Calculator :

None Response Time : N.A Think Time : N.A Minimum Instruction Time : 0

Correct Marks : 1 Wrong Marks : 0.33

What is the total length of Pennar river in Andhra Pradesh?

Options :

1. ✘ 526 km

2. ✔ 536 km

3. ✘ 546 km

4. ✘ 556 km

Question Number : 51 Question Id : 630680399795 Is Question Mandatory : No Calculator :

None Response Time : N.A Think Time : N.A Minimum Instruction Time : 0

Correct Marks : 1 Wrong Marks : 0.33

As per a NITI Aayog report, in 2020-2021, Andhra Pradesh had 10.1 million ha of cultivated area, constituting _____ of the total geographical area of the State.

Options :

1. ✘ 27%

2. ✘ 29%

3. ✔ 37%

4. ✘ 33%

Question Number : 51 Question Id : 630680399795 Is Question Mandatory : No Calculator :

None Response Time : N.A Think Time : N.A Minimum Instruction Time : 0

Correct Marks : 1 Wrong Marks : 0.33

NITI ఆయోగ్ నివేదిక ప్రకారం, 2020-2021లో, ఆంధ్రప్రదేశ్‌లో 10.1 మిలియన్ హెక్టార్ల సాగు విస్తీర్ణం ఉంది, ఇది రాష్ట్ర మొత్తం భౌగోళిక విస్తీర్ణంలో _____ని కలిగి ఉంది.

Options :

1. ✘ 27%

2. ✘ 29%

3. ✔ 37%

4. ✘ 33%

Question Number : 52 Question Id : 630680399796 Is Question Mandatory : No Calculator :

None Response Time : N.A Think Time : N.A Minimum Instruction Time : 0

Correct Marks : 1 Wrong Marks : 0.33

In November 2022, the Government of Andhra Pradesh's Forest Department and the US Agency for International Development (USAID) announced the launch of the TOFI programme in Andhra Pradesh. What is the full form of TOFI?

Options :

1. ✔ Trees Outside Forests in India

2. ✘ Trees Of Forests in India

3. ✘ Trees Outside Farming in India

4. ✘ Trees for Original Farming in India

Question Number : 52 Question Id : 630680399796 Is Question Mandatory : No Calculator :

None Response Time : N.A Think Time : N.A Minimum Instruction Time : 0

Correct Marks : 1 Wrong Marks : 0.33

నవంబర్ 2022లో, ఆంధ్రప్రదేశ్ ప్రభుత్వం అటవీ శాఖ మరియు US ఏజెన్సీ ఫర్ ఇంటర్నేషనల్ డెవలప్ మెంట్ (USAID)

ఆంధ్రప్రదేశ్ లో TOFI కార్యక్రమాన్ని ప్రారంభించినట్లు ప్రకటించింది. TOFI యొక్క పూర్తి రూపం ఏమిటి?

Options :

1. ✓ ట్రీస్ అవుట్ సైడ్ ఫారెస్ట్స్ ఇన్ ఇండియా (Trees Outside Forests in India)
2. ✗ ట్రీస్ ఆఫ్ ఫారెస్ట్స్ ఇన్ ఇండియా (Trees Of Forests in India)
3. ✗ ట్రీస్ అవుట్ సైడ్ ఫార్మింగ్ ఇన్ ఇండియా (Trees Outside Farming in India)
4. ✗ ట్రీస్ ఫర్ ఒరిజినల్ ఫార్మింగ్ ఇన్ ఇండియా (Trees for Original Farming in India)

Question Number : 53 Question Id : 630680399797 Is Question Mandatory : No Calculator :

None Response Time : N.A Think Time : N.A Minimum Instruction Time : 0

Correct Marks : 1 Wrong Marks : 0.33

As per an Atomic Minerals Directorate for Exploration and Research press release of March 2017, Andhra Pradesh has nearly 1.22 lakh tonnes of Uranium oxide, which is equal to nearly _____ tonnes of Uranium metal.

Options :

1. ✓ 1.04 lakh
2. ✗ 1.14 lakh
3. ✗ 1.12 lakh
4. ✗ 1.16 lakh

Question Number : 53 Question Id : 630680399797 Is Question Mandatory : No Calculator :

None Response Time : N.A Think Time : N.A Minimum Instruction Time : 0

Correct Marks : 1 Wrong Marks : 0.33

అటామిక్ మినరల్స్ డైరెక్టరేట్ ఫర్ ఎక్స్ ప్లోరేషన్ అండ్ రీసెర్చ్ ప్రెస్ రిలీజ్ ప్రకారం , ఆంధ్రప్రదేశ్ లో దాదాపు 1.22 లక్షల టన్నుల యురేనియం ఆక్సైడ్ ఉంది, ఇది దాదాపు _____ టన్నుల యురేనియం మెటల్ కు సమానం.

Options :

1. ✓ 1.04 లక్షలు

2. ✘ 1.14 లక్షలు

3. ✘ 1.12 లక్షలు

4. ✘ 1.16 లక్షలు

Question Number : 54 Question Id : 630680399798 Is Question Mandatory : No Calculator :

None Response Time : N.A Think Time : N.A Minimum Instruction Time : 0

Correct Marks : 1 Wrong Marks : 0.33

నేషనల్ మినరల్ ఇన్వెంటరీ ప్రకారం, ఆంధ్రప్రదేశ్‌లో వజ్రాల నిల్వల మొత్తం విలువ క్యారెట్లలో ఎంత?

Options :

1. ✘ 1522955

2. ✘ 1622955

3. ✘ 1722955

4. ✓ 1822955

Question Number : 54 Question Id : 630680399798 Is Question Mandatory : No Calculator :

None Response Time : N.A Think Time : N.A Minimum Instruction Time : 0

Correct Marks : 1 Wrong Marks : 0.33

As per National Mineral Inventory, what is the total value of diamond reserves in Andhra Pradesh in carats?

Options :

1. ✘ 1522955

2. ✘ 1622955

3. ✘ 1722955

4. ✓ 1822955

**Question Number : 55 Question Id : 630680399799 Is Question Mandatory : No Calculator :
None Response Time : N.A Think Time : N.A Minimum Instruction Time : 0**

Correct Marks : 1 Wrong Marks : 0.33

The Andhra Pradesh Community-Managed Natural Farming (APCNF) is being implemented by RySS, a not-for-profit company established by the Department of Agriculture, Government of Andhra Pradesh. What is the full form of RySS?

Options :

1. ✘ Rythu Surakshana Samstha
2. ✘ Rythu Sarvekshana Samstha
3. ✘ Rythu Sadhana Samstha
4. ✔ Rythu Sadhikara Samstha

**Question Number : 55 Question Id : 630680399799 Is Question Mandatory : No Calculator :
None Response Time : N.A Think Time : N.A Minimum Instruction Time : 0**

Correct Marks : 1 Wrong Marks : 0.33

ఆంధ్ర ప్రదేశ్ కమ్యూనిటీ-మేనేజ్డ్ నేచురల్ ఫార్మింగ్ (APCNF)ని ఆంధ్రప్రదేశ్ ప్రభుత్వంలోని వ్యవసాయ శాఖ స్థాపించిన లాభాపేక్ష లేని సంస్థ RySS ద్వారా అమలు చేస్తున్నారు. RySS యొక్క పూర్తి రూపం ఏమిటి?

Options :

1. ✘ రైతు సురక్షణ సంస్థ (Rythu Surakshana Samstha)
2. ✘ రైతు సర్వేక్షణ సంస్థ (Rythu Sarvekshana Samstha)
3. ✘ రైతు సాధన సంస్థ (Rythu Sadhana Samstha)
4. ✔ రైతు సాధికార సంస్థ (Rythu Sadhikara Samstha)

**Question Number : 56 Question Id : 630680399800 Is Question Mandatory : No Calculator :
None Response Time : N.A Think Time : N.A Minimum Instruction Time : 0**

Correct Marks : 1 Wrong Marks : 0.33

1960లో _____ తలసరి ఆదాయంతో పోలిస్తే 2021-22లో ఆంధ్రప్రదేశ్ వార్షిక తలసరి ఆదాయం ₹2.07 లక్షలుగా ఉంది.

Options :

1. ✓ ₹7,781

2. ✗ ₹7,681

3. ✗ ₹7,581

4. ✗ ₹7,481

Question Number : 56 Question Id : 630680399800 Is Question Mandatory : No Calculator :

None Response Time : N.A Think Time : N.A Minimum Instruction Time : 0

Correct Marks : 1 Wrong Marks : 0.33

The annual per capita income of Andhra Pradesh stood at ₹2.07 lakh in 2021-22 against _____ per capita income in 1960.

Options :

1. ✓ ₹7,781

2. ✗ ₹7,681

3. ✗ ₹7,581

4. ✗ ₹7,481

Question Number : 57 Question Id : 630680399801 Is Question Mandatory : No Calculator :

None Response Time : N.A Think Time : N.A Minimum Instruction Time : 0

Correct Marks : 1 Wrong Marks : 0.33

ఆంధ్రప్రదేశ్ పారిశ్రామిక విధానం 2020-23 ప్రకారం, షెడ్యూల్డ్ కులాల పారిశ్రామికవేత్తలకు APIIC పార్కుల్లో ఎంత శాతం ప్లాట్లు రిజర్వు చేయబడ్డాయి?

Options :

1. ✗ 14.2%

2. ✓ 16.2%

3. ✖ 12.2%

4. ✖ 10.2%

Question Number : 57 Question Id : 630680399801 Is Question Mandatory : No Calculator :

None Response Time : N.A Think Time : N.A Minimum Instruction Time : 0

Correct Marks : 1 Wrong Marks : 0.33

Under Andhra Pradesh Industrial Policy 2020-23, how much percentage of plots in APIIC parks are reserved for Scheduled Caste entrepreneurs?

Options :

1. ✖ 14.2%

2. ✔ 16.2%

3. ✖ 12.2%

4. ✖ 10.2%

Question Number : 58 Question Id : 630680399802 Is Question Mandatory : No Calculator :

None Response Time : N.A Think Time : N.A Minimum Instruction Time : 0

Correct Marks : 1 Wrong Marks : 0.33

Under Andhra Pradesh Industrial Policy 2020-23, for how many years will the SGST be reimbursed for medium, large and mega industries linked to employment creation?

Options :

1. ✖ 7 years

2. ✖ 3 years

3. ✖ 10 years

4. ✔ 5 years

Question Number : 58 Question Id : 630680399802 Is Question Mandatory : No Calculator :

None Response Time : N.A Think Time : N.A Minimum Instruction Time : 0

Correct Marks : 1 Wrong Marks : 0.33

ఉపాధి కల్పనలో ముడిపడి ఉన్న మధ్యస్థ, భారీ మరియు మెగా పరిశ్రమలకు ఎన్ని సంవత్సరాల పాటు SGST తిరిగి చెల్లించబడుతుంది ?

Options :

1. ✘ 7 సంవత్సరాలు
2. ✘ 3 సంవత్సరాలు
3. ✘ 10 సంవత్సరాలు
4. ✔ 5 సంవత్సరాలు

Question Number : 59 Question Id : 630680399803 Is Question Mandatory : No Calculator : None Response Time : N.A Think Time : N.A Minimum Instruction Time : 0

Correct Marks : 1 Wrong Marks : 0.33

డిసెంబర్ 2021లో, కేంద్ర రోడ్డు రవాణా మరియు రహదారుల శాఖ మంత్రి నితిన్ గడ్కరీ, ఆంధ్రప్రదేశ్‌లో ₹16,826 కోట్ల అంచనా వ్యయంతో పూర్తి చేయడానికి 1,048 km పొడవున _____ రోడ్డు ప్రాజెక్టులను ప్రారంభించి, శంకుస్థాపన చేశారు.

Options :

1. ✔ 41
2. ✘ 31
3. ✘ 21
4. ✘ 11

Question Number : 59 Question Id : 630680399803 Is Question Mandatory : No Calculator : None Response Time : N.A Think Time : N.A Minimum Instruction Time : 0

Correct Marks : 1 Wrong Marks : 0.33

In December 2021, Union Minister for Road Transport and Highways Nitin Gadkari inaugurated and laid the foundation stone for _____ road projects in Andhra Pradesh for a length of 1,048 km, to be completed at an estimated cost of ₹16,826 crores.

Options :

1. ✓ 41
2. ✗ 31
3. ✗ 21
4. ✗ 11

Question Number : 60 Question Id : 630680399804 Is Question Mandatory : No Calculator : None Response Time : N.A Think Time : N.A Minimum Instruction Time : 0

Correct Marks : 1 Wrong Marks : 0.33

2023 జూన్ లో ఈజిప్ట్‌లో ఆన అధికారిక పర్యటన సందర్భంగా ప్రధానమంత్రి నరేంద్ర మోడీకి ఏ అవార్డును అందించారు?

Options :

1. ✗ ఆర్డర్ ఆఫ్ జాయెద్ అవార్డు
2. ✓ ఆర్డర్ ఆఫ్ ది నైలు
3. ✗ ఆర్డర్ ఆఫ్ సెయింట్ ఆండ్రూ అవార్డు
4. ✗ ఆర్డర్ ఆఫ్ గ్లోబల్ గోల్డ్ గోల్డ్ గోల్డ్ అవార్డు

Question Number : 60 Question Id : 630680399804 Is Question Mandatory : No Calculator : None Response Time : N.A Think Time : N.A Minimum Instruction Time : 0

Correct Marks : 1 Wrong Marks : 0.33

With which award was the Prime Minister Narendra Modi bestowed, on his state visit to Egypt in June 2023?

Options :

1. ✗ Order of Zayed Award
2. ✓ Order of the Nile
3. ✗ Order of St. Andrew Award

4. ✖ Order of Global Goalkeeper Award

Question Number : 61 Question Id : 630680399805 Is Question Mandatory : No Calculator :

None Response Time : N.A Think Time : N.A Minimum Instruction Time : 0

Correct Marks : 1 Wrong Marks : 0.33

FIFA U-17 మహిళల ప్రపంచ కప్ 2022 ఫైనల్లో మొదటిసారి ఫైనల్కు చేరిన కొలంబియాపై ఎవరు గెలిచారు?

Options :

1. ✖ జర్మనీ

2. ✖ నైజీరియా

3. ✖ ఇటలీ

4. ✔ స్పెయిన్

Question Number : 61 Question Id : 630680399805 Is Question Mandatory : No Calculator :

None Response Time : N.A Think Time : N.A Minimum Instruction Time : 0

Correct Marks : 1 Wrong Marks : 0.33

Who won the FIFA U-17 Women's World Cup 2022 final against the first-time finalists Colombia?

Options :

1. ✖ Germany

2. ✖ Nigeria

3. ✖ Italy

4. ✔ Spain

Question Number : 62 Question Id : 630680399806 Is Question Mandatory : No Calculator :

None Response Time : N.A Think Time : N.A Minimum Instruction Time : 0

Correct Marks : 1 Wrong Marks : 0.33

2023 జూన్ 22 మరియు 23 తేదీల్లో కొత్త గ్లోబల్ ఫైనాన్సింగ్ ఒప్పందం కోసం శిఖరార్ర సదస్సును ఏ దేశం నిర్వహించింది?

Options :

1. ✓ ఫ్రాన్స్

2. ✗ జర్మనీ

3. ✗ జపాన్

4. ✗ భారతదేశం

Question Number : 62 Question Id : 630680399806 Is Question Mandatory : No Calculator :

None Response Time : N.A Think Time : N.A Minimum Instruction Time : 0

Correct Marks : 1 Wrong Marks : 0.33

Which country hosted the Summit for a New Global Financing Pact on 22 and 23 June 2023?

Options :

1. ✓ France

2. ✗ Germany

3. ✗ Japan

4. ✗ India

Question Number : 63 Question Id : 630680399807 Is Question Mandatory : No Calculator :

None Response Time : N.A Think Time : N.A Minimum Instruction Time : 0

Correct Marks : 1 Wrong Marks : 0.33

The International Union of Geological Sciences (IUGS), one of the largest scientific organisations of UNESCO has recognised, _____ as one of the first 100 IUGS geological heritage sites of India.

Options :

1. ✓ Mawmluh Cave, Meghalaya

2. ✗ Bhimbetka Caves, Madhya Pradesh

3. ✗ Badami Caves, Karnataka

4.

✖ Amarnath Cave, Jammu and Kashmir

Question Number : 63 Question Id : 630680399807 Is Question Mandatory : No Calculator :

None Response Time : N.A Think Time : N.A Minimum Instruction Time : 0

Correct Marks : 1 Wrong Marks : 0.33

యునెస్కో అతిపెద్ద శాస్త్రీయ సంస్థలలో ఒకటైన ఇంటర్నేషనల్ యూనియన్ ఆఫ్ జియోలాజికల్ సైన్సెస్ (IUGS) భారతదేశంలోని మొదటి 100 IUGS జియోలాజికల్ హెరిటేజ్ సైట్లలో ఒకటిగా _____ ని గుర్తించింది.

Options :

1. ✓ మవ్నూహ్ గుహ, మేఘాలయ
2. ✖ భింబేట్కా గుహలు, మధ్యప్రదేశ్
3. ✖ బాదామి గుహలు, కర్ణాటక
4. ✖ అమర్నాథ్ గుహ, జమ్మూ కాశ్మీర్

Question Number : 64 Question Id : 630680399808 Is Question Mandatory : No Calculator :

None Response Time : N.A Think Time : N.A Minimum Instruction Time : 0

Correct Marks : 1 Wrong Marks : 0.33

Who has launched India's First Regional Navigation Satellite System based device to provide precise directions for various infrastructure projects?

Options :

1. ✖ Montana media services
2. ✓ Elena geo systems
3. ✖ Geo media alignments
4. ✖ India forge technologies

Question Number : 64 Question Id : 630680399808 Is Question Mandatory : No Calculator :

None Response Time : N.A Think Time : N.A Minimum Instruction Time : 0

Correct Marks : 1 Wrong Marks : 0.33

వివిధ మౌలిక సదుపాయాల ప్రాజెక్టుల కోసం ఖచ్చితమైన దిశలను అందించడానికి భారతదేశపు మొదటి ప్రాంతీయ నావిగేషన్ శాటిలైట్ సిస్టమ్ ఆధారిత పరికరాన్ని ఎవరు రూపొందించారు?

Options :

1. ✘ మేంటానా మీడియా సర్వీసెస్
2. ✔ ఎలెనా జయో సిస్టమ్స్
3. ✘ జయో మీడియా అలైన్ మెంట్స్
4. ✘ ఇండియా ఫోర్ట్ టెక్నాలజీస్

**Question Number : 65 Question Id : 630680399809 Is Question Mandatory : No Calculator :
None Response Time : N.A Think Time : N.A Minimum Instruction Time : 0**

Correct Marks : 1 Wrong Marks : 0.33

Which state has become the first in the country to provide one per cent reservation for the transgender community in all the government services in July 2021?

Options :

1. ✔ Karnataka
2. ✘ Maharashtra
3. ✘ Kerala
4. ✘ Orissa

**Question Number : 65 Question Id : 630680399809 Is Question Mandatory : No Calculator :
None Response Time : N.A Think Time : N.A Minimum Instruction Time : 0**

Correct Marks : 1 Wrong Marks : 0.33

2021 జూలైలో అన్ని ప్రభుత్వ సేవల్లో ట్రాన్స్జెండర్ కమ్యూనిటీకి ఒక శాతం రిజర్వేషన్‌ను అందించి ఏ రాష్ట్రం ఈ విషయంలో దేశంలో మొదటి స్థానంలో నిలిచింది?

Options :

1. ✓ కర్ణాటక

2. ✘ మహారాష్ట్ర

3. ✘ కేరళ

4. ✘ ఒరిస్సా

Question Number : 66 Question Id : 630680399810 Is Question Mandatory : No Calculator :

None Response Time : N.A Think Time : N.A Minimum Instruction Time : 0

Correct Marks : 1 Wrong Marks : 0.33

భారతదేశంలో జాతీయ మహిళా కమిషన్ (NCW) ప్రస్తుత (జూలై 2023 నాటికి) ఛైర్పర్సన్ ఎవరు?

Options :

1. ✘ లలిత కుమారమంగళం

2. ✓ రేఖా శర్మ

3. ✘ విజయ రహత్కర్

4. ✘ కమలేష్ గౌతమ్

Question Number : 66 Question Id : 630680399810 Is Question Mandatory : No Calculator :

None Response Time : N.A Think Time : N.A Minimum Instruction Time : 0

Correct Marks : 1 Wrong Marks : 0.33

Who is the current (as of July 2023) Chairperson of the National Commission for Women (NCW) in India?

Options :

1. ✘ Lalitha Kumaramangalam

2. ✓ Rekha Sharma

3. ✘ Vijaya Rahatkar

4. ✖ Kamlesh Gautam

Question Number : 67 Question Id : 630680399811 Is Question Mandatory : No Calculator :

None Response Time : N.A Think Time : N.A Minimum Instruction Time : 0

Correct Marks : 1 Wrong Marks : 0.33

విద్యను, బాలికల సాధికారతను ప్రోత్సహించడానికి 2022లో 'ముఖ్య మంత్రి కన్యా ఉల్లాస్ యోజన'ను ప్రారంభించిన భారతదేశ రాష్ట్రం ఏది?

Options :

1. ✔ బిహార్

2. ✖ ఉత్తర ప్రదేశ్

3. ✖ రాజస్థాన్

4. ✖ మధ్యప్రదేశ్

Question Number : 67 Question Id : 630680399811 Is Question Mandatory : No Calculator :

None Response Time : N.A Think Time : N.A Minimum Instruction Time : 0

Correct Marks : 1 Wrong Marks : 0.33

Which Indian state launched the 'Mukhya Mantri Kanya Utthan Yojana' in 2022 to promote education and the empowerment of girls?

Options :

1. ✔ Bihar

2. ✖ Uttar Pradesh

3. ✖ Rajasthan

4. ✖ Madhya Pradesh

Question Number : 68 Question Id : 630680399812 Is Question Mandatory : No Calculator :

None Response Time : N.A Think Time : N.A Minimum Instruction Time : 0

Correct Marks : 1 Wrong Marks : 0.33

Which state ranks first in 'Quality of Life for Elderly Index assesses well-being of India's ageing population' released in August 2021 by Dr Bibek Debroy, Chairman, Economic Advisory Council to the Prime Minister (EAC-PM)?

Options :

1. ✘ Tamil Nadu
2. ✘ Andhra Pradesh
3. ✘ Punjab
4. ✔ Rajasthan

Question Number : 68 Question Id : 630680399812 Is Question Mandatory : No Calculator : None Response Time : N.A Think Time : N.A Minimum Instruction Time : 0

Correct Marks : 1 Wrong Marks : 0.33

ప్రధానమంత్రి ఆర్థిక సలహా మండలి (EAC-PM) చైర్మన్ డాక్టర్ బిబేక్ దేబ్రాయ్ ఆగస్టు 2021లో విడుదల చేసిన 'వృద్ధుల జీవన నాణ్యత సూచిక భారతదేశపు వృద్ధాప్య జనాభా శ్రేయస్సును అంచనా వేస్తుంది' నివేదికలో ఏ రాష్ట్రం మొదటి స్థానంలో ఉంది?

Options :

1. ✘ తమిళనాడు
2. ✘ ఆంధ్రప్రదేశ్
3. ✘ పంజాబ్
4. ✔ రాజస్థాన్

Question Number : 69 Question Id : 630680399813 Is Question Mandatory : No Calculator : None Response Time : N.A Think Time : N.A Minimum Instruction Time : 0

Correct Marks : 1 Wrong Marks : 0.33

కామన్వెల్త్ గేమ్స్ 2022, బర్మింగ్హామ్లో పురుషుల హెవీవెయిట్ పారా పవర్లిఫ్టింగ్ ఈవెంట్లో బంగారు పతకాన్ని ఎవరు గెలుచుకున్నారు?

Options :

1. ✘ అమిత్ పంఘల్

2. ✔ సుధీర్

3. ✘ వికాస్ కృష్ణ

4. ✘ శివ థాపా

**Question Number : 69 Question Id : 630680399813 Is Question Mandatory : No Calculator :
None Response Time : N.A Think Time : N.A Minimum Instruction Time : 0**

Correct Marks : 1 Wrong Marks : 0.33

Who won the gold medal in the men's heavyweight para powerlifting event at the Commonwealth Games 2022, Birmingham?

Options :

1. ✘ Amit Panghal

2. ✔ Sudhir

3. ✘ Vikas Krishan

4. ✘ Shiva Thapa

**Question Number : 70 Question Id : 630680399814 Is Question Mandatory : No Calculator :
None Response Time : N.A Think Time : N.A Minimum Instruction Time : 0**

Correct Marks : 1 Wrong Marks : 0.33

2022-2023 ఇండియన్ సూపర్ లీగ్ (ISL) సీజన్‌ను ఏ ఇండియన్ ఫుట్‌బాల్ క్లబ్ గెలుచుకుంది?

Options :

1. ✔ ATK మోహన్ బగాన్

2. ✘ ముంబై సిటీ FC

3. ✘ బెంగళూరు FC

4. ✖ FC గోవా

Question Number : 70 Question Id : 630680399814 Is Question Mandatory : No Calculator :

None Response Time : N.A Think Time : N.A Minimum Instruction Time : 0

Correct Marks : 1 Wrong Marks : 0.33

Which Indian football club won the 2022-2023 Indian Super League (ISL) season?

Options :

1. ✔ ATK Mohun Bagan

2. ✖ Mumbai City FC

3. ✖ Bengaluru FC

4. ✖ FC Goa

Question Number : 71 Question Id : 630680399815 Is Question Mandatory : No Calculator :

None Response Time : N.A Think Time : N.A Minimum Instruction Time : 0

Correct Marks : 1 Wrong Marks : 0.33

2022 ప్రో కబడ్డీ లీగ్ (PKL)లో సీజన్లో 'అత్యంత విలువైన ఆటగాడు' టైటిల్ను ఎవరు గెలుచుకున్నారు?

Options :

1. ✔ అర్జున్ దేశ్పాల్

2. ✖ సిద్ధాంత్ దేశాయ్

3. ✖ పవన్ సెహ్రావత్

4. ✖ పర్షిష్ నర్వాల్

Question Number : 71 Question Id : 630680399815 Is Question Mandatory : No Calculator :

None Response Time : N.A Think Time : N.A Minimum Instruction Time : 0

Correct Marks : 1 Wrong Marks : 0.33

Who won the title 'most valuable player' of the season in the 2022 Pro Kabaddi League (PKL)?

Options :

1. ✓ Arjun Deshwal
2. ✗ Siddharth Desai
3. ✗ Pawan Sehrawat
4. ✗ Pardeep Narwal

**Question Number : 72 Question Id : 630680399816 Is Question Mandatory : No Calculator :
None Response Time : N.A Think Time : N.A Minimum Instruction Time : 0**

Correct Marks : 1 Wrong Marks : 0.33

సంబంధిత ధాతువుల నుండి లోహాలను వెలికితీసే ప్రక్రియను ఏమంటారు?

Options :

1. ✗ శుద్ధి చేయడం
2. ✗ గనుల తవ్వకం
3. ✓ స్మెల్టింగ్
4. ✗ దహనం

**Question Number : 72 Question Id : 630680399816 Is Question Mandatory : No Calculator :
None Response Time : N.A Think Time : N.A Minimum Instruction Time : 0**

Correct Marks : 1 Wrong Marks : 0.33

What is the process of extracting metals from their ores called?

Options :

1. ✗ Refining
2. ✗ Mining
3. ✓ Smelting
4. ✗ Incineration

**Question Number : 73 Question Id : 630680399817 Is Question Mandatory : No Calculator :
None Response Time : N.A Think Time : N.A Minimum Instruction Time : 0**

Correct Marks : 1 Wrong Marks : 0.33

కింది వాటిలో మానవ విసర్జన వ్యవస్థలో భాగం కానిది ఏది?

Options :

1. ✓ వాయుకోశాలు (అల్వీయోలీ)

2. ✗ మూత్రనాళికలు (నెఫ్రాన్స్)

3. ✗ బౌమాన్ క్యాప్సుల్

4. ✗ మూత్రనాళం (యురేటర్)

**Question Number : 73 Question Id : 630680399817 Is Question Mandatory : No Calculator :
None Response Time : N.A Think Time : N.A Minimum Instruction Time : 0**

Correct Marks : 1 Wrong Marks : 0.33

Which of following is NOT a part of the human excretory system?

Options :

1. ✓ Alveoli

2. ✗ Nephrons

3. ✗ Bowman's capsule

4. ✗ Ureter

**Question Number : 74 Question Id : 630680399818 Is Question Mandatory : No Calculator :
None Response Time : N.A Think Time : N.A Minimum Instruction Time : 0**

Correct Marks : 1 Wrong Marks : 0.33

మానవులలోని కింది వాటిలో కిడ్నీపై ఏ గ్రంథి ఉంది?

Options :

1. ✖ పిట్యూటరీ

2. ✖ థైరాయిడ్

3. ✔ ఆడ్రినల్ గ్రంథి

4. ✖ హైపోథాలమస్

Question Number : 74 Question Id : 630680399818 Is Question Mandatory : No Calculator :

None Response Time : N.A Think Time : N.A Minimum Instruction Time : 0

Correct Marks : 1 Wrong Marks : 0.33

Which of the following glands in humans is located on the kidney?

Options :

1. ✖ Pituitary

2. ✖ Thyroid

3. ✔ Adrenal gland

4. ✖ Hypothalamus

Question Number : 75 Question Id : 630680399819 Is Question Mandatory : No Calculator :

None Response Time : N.A Think Time : N.A Minimum Instruction Time : 0

Correct Marks : 1 Wrong Marks : 0.33

కింది వాటిలో కృత్రిమ తీపి పదార్థం ఏది?

Options :

1. ✖ సుక్రోజ్

2. ✔ సాకరిన్

3. ✖ గ్లైసిన్

4. ✖ స్టెవియోల్ గ్లైకోసైడ్

**Question Number : 75 Question Id : 630680399819 Is Question Mandatory : No Calculator :
None Response Time : N.A Think Time : N.A Minimum Instruction Time : 0**

Correct Marks : 1 Wrong Marks : 0.33

Which of following is an artificial sweetening agent?

Options :

1. ✘ Sucrose
2. ✔ Saccharin
3. ✘ Glycine
4. ✘ Steviol glycoside

**Question Number : 76 Question Id : 630680399820 Is Question Mandatory : No Calculator :
None Response Time : N.A Think Time : N.A Minimum Instruction Time : 0**

Correct Marks : 1 Wrong Marks : 0.33

ఇల్లలో సాధారణంగా ఉపయోగించే క్రిమినాశక డెటాల్‌లో ప్రధాన భాగం కింది వాటిలో ఏది?

Options :

1. ✘ క్లోరోక్విలెనాల్ మరియు అయోడిన్
2. ✔ క్లోరోక్విలెనాల్ మరియు ఆల్ఫా-టిర్పినోల్
3. ✘ అయోడిన్ మరియు ఆల్ఫా-టిర్పినోల్
4. ✘ అయోడిన్, క్లోరోక్విలెనాల్ మరియు ఆల్ఫా-టిర్పినోల్

**Question Number : 76 Question Id : 630680399820 Is Question Mandatory : No Calculator :
None Response Time : N.A Think Time : N.A Minimum Instruction Time : 0**

Correct Marks : 1 Wrong Marks : 0.33

Which of the following are the main constituents of Dettol, a commonly used antiseptic in homes?

Options :

- 1.

✘ Chloroxyleneol and iodine

2. ✔ Chloroxyleneol and alpha-terpineol

3. ✘ Iodine and alpha-terpineol

4. ✘ Iodine, chloroxyleneol and alpha-terpineol

Question Number : 77 Question Id : 630680399821 Is Question Mandatory : No Calculator :

None Response Time : N.A Think Time : N.A Minimum Instruction Time : 0

Correct Marks : 1 Wrong Marks : 0.33

డెంగ్యూ వైరస్ ప్రధానంగా మానవ రక్తంలో _____ ని లక్ష్యంగా చేసుకుంటుంది.

Options :

1. ✘ RBCలు

2. ✘ WBCలు

3. ✔ ప్లేట్‌లెట్స్

4. ✘ ప్లాస్మా

Question Number : 77 Question Id : 630680399821 Is Question Mandatory : No Calculator :

None Response Time : N.A Think Time : N.A Minimum Instruction Time : 0

Correct Marks : 1 Wrong Marks : 0.33

The dengue virus mainly targets _____ in the human blood.

Options :

1. ✘ RBCs

2. ✘ WBCs

3. ✔ platelets

4. ✘ plasma

Question Number : 78 Question Id : 630680399822 Is Question Mandatory : No Calculator :

None Response Time : N.A Think Time : N.A Minimum Instruction Time : 0

Correct Marks : 1 Wrong Marks : 0.33

స్పిరోగైరా దీనికి ఒక ఉదాహరణ:

Options :

1. ✘ శిలీంధ్రాలు

2. ✔ ఆల్గే

3. ✘ బ్రయోఫైట్స్

4. ✘ లివర్ వర్డ్స్

Question Number : 78 Question Id : 630680399822 Is Question Mandatory : No Calculator :

None Response Time : N.A Think Time : N.A Minimum Instruction Time : 0

Correct Marks : 1 Wrong Marks : 0.33

Spirogyra is an example of:

Options :

1. ✘ fungi

2. ✔ algae

3. ✘ bryophytes

4. ✘ liverworts

Question Number : 79 Question Id : 630680399823 Is Question Mandatory : No Calculator :

None Response Time : N.A Think Time : N.A Minimum Instruction Time : 0

Correct Marks : 1 Wrong Marks : 0.33

కింది వాటిలో ఏ రంగు లైట్లు అత్యధిక తరంగదైర్ఘ్యం కలిగి ఉంటాయి?

Options :

1. ✘ నీలం

2. ✘ ఆకుపచ్చ

3. ✔ ఎరుపు

4. ✘ పసుపుపచ్చ

Question Number : 79 Question Id : 630680399823 Is Question Mandatory : No Calculator :

None Response Time : N.A Think Time : N.A Minimum Instruction Time : 0

Correct Marks : 1 Wrong Marks : 0.33

Which of the following coloured lights has the highest wavelength?

Options :

1. ✘ Blue

2. ✘ Green

3. ✔ Red

4. ✘ Yellow

Question Number : 80 Question Id : 630680399824 Is Question Mandatory : No Calculator :

None Response Time : N.A Think Time : N.A Minimum Instruction Time : 0

Correct Marks : 1 Wrong Marks : 0.33

Which of the following can be used to capture the heat radiated by volcanic eruptions?

Options :

1. ✘ Red band cameras

2. ✘ Visible ray sensors

3. ✔ Infrared sensitive sensors

4. ✘ Ultraviolet ray imagery

Question Number : 80 Question Id : 630680399824 Is Question Mandatory : No Calculator :

None Response Time : N.A Think Time : N.A Minimum Instruction Time : 0

Correct Marks : 1 Wrong Marks : 0.33

అగ్నిపర్వత విస్ఫోటనాల ద్వారా వెలువడే వేడిని సంగ్రహించడానికి కింది వాటిలో ఏది ఉపయోగించవచ్చు?

Options :

1. ✖ రెడ్ బ్యాండ్ కెమెరాలు
2. ✖ విజిబుల్ రే సెన్సార్లు
3. ✔ ఇన్ఫ్రారెడ్ సెన్సిటివ్ సెన్సార్లు
4. ✖ అల్ట్రా వయొలెట్ రే ఇమేజరీ

Question Number : 81 Question Id : 630680399825 Is Question Mandatory : No Calculator :

None Response Time : N.A Think Time : N.A Minimum Instruction Time : 0

Correct Marks : 1 Wrong Marks : 0.33

కింది వాటిలో రిమోట్ సెన్సింగ్లో ఉపయోగించే యాక్టివ్ సెన్సార్ ఏది?

Options :

1. ✖ విజిబుల్ స్పెక్ట్రమ్ కెమెరా
2. ✖ ఇన్ఫ్రారెడ్ కెమెరా
3. ✖ ఎక్స్-రే కెమెరా
4. ✔ లేజర్

Question Number : 81 Question Id : 630680399825 Is Question Mandatory : No Calculator :

None Response Time : N.A Think Time : N.A Minimum Instruction Time : 0

Correct Marks : 1 Wrong Marks : 0.33

Which of the following is an active sensor used in remote sensing?

Options :

1. ✖ Visible spectrum camera
2. ✖ Infrared camera

3. ✘ X-ray camera

4. ✔ Laser

Question Number : 82 Question Id : 630680399826 Is Question Mandatory : No Calculator :

None Response Time : N.A Think Time : N.A Minimum Instruction Time : 0

Correct Marks : 1 Wrong Marks : 0.33

According to Indian Meteorological Department, a heat wave will not be considered in a hilly region, until the temperature exceeds:

Options :

1. ✘ 25°C

2. ✔ 30°C

3. ✘ 35°C

4. ✘ 40°C

Question Number : 82 Question Id : 630680399826 Is Question Mandatory : No Calculator :

None Response Time : N.A Think Time : N.A Minimum Instruction Time : 0

Correct Marks : 1 Wrong Marks : 0.33

భారత వాతావరణ శాఖ ప్రకారం, కొండ ప్రాంతంలో ఏ ఉష్ణోగ్రతను మించే వరకు అవి వేడి తరంగాలుగా పరిగణించబడవు:

Options :

1. ✘ 25°C

2. ✔ 30°C

3. ✘ 35°C

4. ✘ 40°C

Question Number : 83 Question Id : 630680399827 Is Question Mandatory : No Calculator :

None Response Time : N.A Think Time : N.A Minimum Instruction Time : 0

Correct Marks : 1 Wrong Marks : 0.33

What is the colour code for 'post landfall outlook' stage warning for a cyclone issued by the regional area cyclone warning centres?

Options :

1. ✘ Yellow

2. ✘ Orange

3. ✔ Red

4. ✘ Green

Question Number : 83 Question Id : 630680399827 Is Question Mandatory : No Calculator :

None Response Time : N.A Think Time : N.A Minimum Instruction Time : 0

Correct Marks : 1 Wrong Marks : 0.33

రీజనల్ ఏరియా తుఫాను హెచ్చరిక కేంద్రాలు జారీ చేసిన తుఫాను సంబంధిత 'పోస్ట్ ల్యాండ్ఫాల్ అవుట్లుక్' దశ హెచ్చరిక రంగు కోడ్ ఏమిటి?

Options :

1. ✘ పసుపుపచ్చ

2. ✘ నారింజ రంగు

3. ✔ ఎరుపు

4. ✘ ఆకుపచ్చ

Question Number : 84 Question Id : 630680399828 Is Question Mandatory : No Calculator :

None Response Time : N.A Think Time : N.A Minimum Instruction Time : 0

Correct Marks : 1 Wrong Marks : 0.33

The area under which of the following seismic zones in India is the least active one?

Options :

1. ✘ Zone I

2. ✓ Zone II

3. ✗ Zone IV

4. ✗ Zone V

Question Number : 84 Question Id : 630680399828 Is Question Mandatory : No Calculator :

None Response Time : N.A Think Time : N.A Minimum Instruction Time : 0

Correct Marks : 1 Wrong Marks : 0.33

భారతదేశంలోని కింది ఏ భూకంప మండలం కింద అత్యంత తక్కువ భూకంపాలు సంభవించే ప్రాంతం ఉంది?

Options :

1. ✗ జోన్ I

2. ✓ జోన్ II

3. ✗ జోన్ IV

4. ✗ జోన్ V

Question Number : 85 Question Id : 630680399829 Is Question Mandatory : No Calculator :

None Response Time : N.A Think Time : N.A Minimum Instruction Time : 0

Correct Marks : 1 Wrong Marks : 0.33

As on 31 December 2022, cumulative solar power installed in India was _____.

Options :

1. ✓ 63.30 GW

2. ✗ 100 GW

3. ✗ 84.24 GW

4. ✗ 23.67.1 GW

Question Number : 85 Question Id : 630680399829 Is Question Mandatory : No Calculator :

None Response Time : N.A Think Time : N.A Minimum Instruction Time : 0

Correct Marks : 1 Wrong Marks : 0.33

31 డిసెంబర్ 2022 నాటికి, భారతదేశంలో వ్యవస్థాపించబడిన సంచిత సౌరశక్తి _____.

Options :

1. ✓ 63.30 GW
2. ✗ 100 GW
3. ✗ 84.24 GW
4. ✗ 23.67.1 GW

Question Number : 86 Question Id : 630680399830 Is Question Mandatory : No Calculator :

None Response Time : N.A Think Time : N.A Minimum Instruction Time : 0

Correct Marks : 1 Wrong Marks : 0.33

ఇంధనంగా హైడ్రోజన్ కు సంబంధించి, _____ ద్వారా గ్రీన్ హైడ్రోజన్ ఉత్పత్తి చేయబడుతుంది.

Options :

1. ✗ వృక్ష పదార్థాల గ్యాసిఫికేషన్
2. ✗ బొగ్గు గ్యాసిఫికేషన్
3. ✓ నీటి విద్యుద్విశ్లేషణ
4. ✗ మీథేన్ ఫైరోలైసిస్

Question Number : 86 Question Id : 630680399830 Is Question Mandatory : No Calculator :

None Response Time : N.A Think Time : N.A Minimum Instruction Time : 0

Correct Marks : 1 Wrong Marks : 0.33

With reference to hydrogen as a fuel, green hydrogen is produced by _____.

Options :

1. ✗ gasification of plant material
2. ✗ gasification of coal

3. ✓ electrolysis of water

4. ✗ pyrolysis of methane

Question Number : 87 Question Id : 630680399831 Is Question Mandatory : No Calculator :

None Response Time : N.A Think Time : N.A Minimum Instruction Time : 0

Correct Marks : 1 Wrong Marks : 0.33

మూడవ తరం బయోఇథనాల్ _____ నుండి పొందబడింది.

Options :

1. ✗ ఆహార ఆధారిత ఫీడ్స్టాక్లు

2. ✗ ప్రత్యేకంగా వేసిన శక్తి పంటలు (ఎనర్జీ క్రాప్స్)

3. ✗ చెక్క అవశేషాలు

4. ✓ ఆల్గల్ బయోమాస్

Question Number : 87 Question Id : 630680399831 Is Question Mandatory : No Calculator :

None Response Time : N.A Think Time : N.A Minimum Instruction Time : 0

Correct Marks : 1 Wrong Marks : 0.33

Third generation bioethanol is obtained from _____.

Options :

1. ✗ food based feedstocks

2. ✗ dedicated energy crops

3. ✗ wood residue

4. ✓ algal biomass

Question Number : 88 Question Id : 630680399832 Is Question Mandatory : No Calculator :

None Response Time : N.A Think Time : N.A Minimum Instruction Time : 0

Correct Marks : 1 Wrong Marks : 0.33

సర్ఫుద్దీన్ ద్వీపం, దశన్ ద్వీపం, మెహగామ్ ద్వీపం, వెగ్ని ద్వీపం, అలియా ద్వీపం ఏ నదిలో ఉన్నాయి?

Options :

1. ✘ గోదావరి
2. ✘ గంగ
3. ✔ నర్మద
4. ✘ యమున

Question Number : 88 Question Id : 630680399832 Is Question Mandatory : No Calculator :

None Response Time : N.A Think Time : N.A Minimum Instruction Time : 0

Correct Marks : 1 Wrong Marks : 0.33

The Sarfuddin island, Dashan island, Mehgam island, Vegni island and Alia island are the riverine islands in which river?

Options :

1. ✘ Godavari
2. ✘ Ganga
3. ✔ Narmada
4. ✘ Yamuna

Question Number : 89 Question Id : 630680399833 Is Question Mandatory : No Calculator :

None Response Time : N.A Think Time : N.A Minimum Instruction Time : 0

Correct Marks : 1 Wrong Marks : 0.33

కింది జాతీయ ఉద్యానవనాలు మరియు అవి ఉన్న రాష్ట్రాలకు సంబంధించి ఏ జంట అప్పుగా ఉంది?

Options :

1. ✔ పెంచ్ నేషనల్ పార్క్ - మహారాష్ట్ర
2. ✘ నియోరా నేషనల్ పార్క్ - పశ్చిమ బెంగాల్

3. ✓ బల్పాక్రమ్ నేషనల్ పార్క్ - మణిపూర్

4. ✗ బెట్లా నేషనల్ పార్క్ - జార్ఖండ్

Note: For this question, ambiguity is found in question/answer. Candidate will get full marks for this question if any of the correct options are chosen.

Question Number : 89 Question Id : 630680399833 Is Question Mandatory : No Calculator :

None Response Time : N.A Think Time : N.A Minimum Instruction Time : 0

Correct Marks : 1 Wrong Marks : 0.33

Which of the following pairs of National Parks and the States in which it is located is INCORRECT?

Options :

1. ✓ Pench National Park - Maharashtra

2. ✗ Neora National Park - West Bengal

3. ✓ Balpakram National Park - Manipur

4. ✗ Betla National Park - Jharkhand

Note: For this question, ambiguity is found in question/answer. Candidate will get full marks for this question if any of the correct options are chosen.

Question Number : 90 Question Id : 630680399834 Is Question Mandatory : No Calculator :

None Response Time : N.A Think Time : N.A Minimum Instruction Time : 0

Correct Marks : 1 Wrong Marks : 0.33

Tirumala Hills, Kalvarayan Hills, Garhjat Range, Shevaroy Hills are a part of which of the following major mountain ranges?

Options :

1. ✓ Eastern ghats

2. ✗ Western ghats

3. ✗ Aravalis

4. ✖ Himalayas

Question Number : 90 Question Id : 630680399834 Is Question Mandatory : No Calculator :

None Response Time : N.A Think Time : N.A Minimum Instruction Time : 0

Correct Marks : 1 Wrong Marks : 0.33

కింది ప్రధాన పర్వత శ్రేణుల్లో తిరుమల కొండలు, కల్వరాయన్ కొండలు, గర్జట్ శ్రేణి, శేవరాయ్ కొండలు దేనిలో భాగంగా వున్నాయి?

Options :

1. ✔ తూర్పు కనుమలు

2. ✖ పశ్చిమ కనుమలు

3. ✖ ఆరావళి

4. ✖ హిమాలయాలు

Question Number : 91 Question Id : 630680399835 Is Question Mandatory : No Calculator :

None Response Time : N.A Think Time : N.A Minimum Instruction Time : 0

Correct Marks : 1 Wrong Marks : 0.33

డన్లు అనేవి _____ మధ్య ఏర్పడిన పొడవైన ఇరుకైన లోయలు.

Options :

1. ✖ ట్రాన్స్ హిమాలయాలు మరియు గ్రేటర్ హిమాలయాలు

2. ✖ గ్రేటర్ హిమాలయాలు మరియు దిగువ హిమాలయాలు

3. ✖ గ్రేటర్ హిమాలయాలు మరియు శివాలిక్స్

4. ✔ దిగువ హిమాలయాలు మరియు శివాలిక్స్

Question Number : 91 Question Id : 630680399835 Is Question Mandatory : No Calculator :

None Response Time : N.A Think Time : N.A Minimum Instruction Time : 0

Correct Marks : 1 Wrong Marks : 0.33

Duns are the long narrow valleys formed between _____.

Options :

1. ✘ Trans Himalayas and Greater Himalayas
2. ✘ Greater Himalayas and Lesser Himalayas
3. ✘ Greater Himalayas and Shivaliks
4. ✔ Lesser Himalayas and Shivaliks

Question Number : 92 Question Id : 630680399836 Is Question Mandatory : No Calculator :

None Response Time : N.A Think Time : N.A Minimum Instruction Time : 0

Correct Marks : 1 Wrong Marks : 0.33

కింది వాటిలో ఏ నది అమర్కంట్ పీఠభూమిలో ఉద్భవించలేదు?

Options :

1. ✘ నర్మద
2. ✔ డామోదర్
3. ✘ సన్
4. ✘ జోహిల్లా

Question Number : 92 Question Id : 630680399836 Is Question Mandatory : No Calculator :

None Response Time : N.A Think Time : N.A Minimum Instruction Time : 0

Correct Marks : 1 Wrong Marks : 0.33

Which of the following rivers does NOT have its origin in the Amarkantak Plateau?

Options :

1. ✘ Narmada
2. ✔ Damodar
3. ✘ Son

4. ✖ Johilla

Question Number : 93 Question Id : 630680399837 Is Question Mandatory : No Calculator :

None Response Time : N.A Think Time : N.A Minimum Instruction Time : 0

Correct Marks : 1 Wrong Marks : 0.33

'Patland' in the central India refers to which of the following physical features?

Options :

1. ✖ Sedimentary butes

2. ✖ Alluvial fans

3. ✔ Lava capped mesas

4. ✖ Oxbow lakes

Question Number : 93 Question Id : 630680399837 Is Question Mandatory : No Calculator :

None Response Time : N.A Think Time : N.A Minimum Instruction Time : 0

Correct Marks : 1 Wrong Marks : 0.33

మధ్య భారతదేశంలోని 'పాట్‌ల్యాండ్' కింది వాటిలో ఏ భౌతిక లక్షణాలను సూచిస్తుంది?

Options :

1. ✖ అవక్షేపణ గడ్డలు

2. ✖ ఒండ్రు దిబ్బలు

3. ✔ లావా కప్పబడిన దిబ్బలు

4. ✖ ఆక్స్ బో సరస్సులు

Question Number : 94 Question Id : 630680399838 Is Question Mandatory : No Calculator :

None Response Time : N.A Think Time : N.A Minimum Instruction Time : 0

Correct Marks : 1 Wrong Marks : 0.33

పాంగోంగ్ తో సరస్సు గురించి కింది వాక్యాలలో ఏది తప్పు?

Options :

1. ✘ దీని పేరుకు అనువాదం 'హై గ్రాస్‌లాండ్ సరస్సు'.
2. ✔ ఇది మంచినీటి సరస్సు.
3. ✘ ఇందులో ఎక్కువ భాగం చైనాలో ఉంది.
4. ✘ దీని చుట్టూ శుష్క పర్వతాలు (అరిడ్ మౌంటెన్స్) ఉన్నాయి.

Question Number : 94 Question Id : 630680399838 Is Question Mandatory : No Calculator :

None Response Time : N.A Think Time : N.A Minimum Instruction Time : 0

Correct Marks : 1 Wrong Marks : 0.33

Which of the following statements is INCORRECT about the Pangong Tso lake?

Options :

1. ✘ Its name translates to 'high grassland lake'.
2. ✔ It is a freshwater lake.
3. ✘ Major part of it lies in China.
4. ✘ It is surrounded by arid mountains.

Question Number : 95 Question Id : 630680399839 Is Question Mandatory : No Calculator :

None Response Time : N.A Think Time : N.A Minimum Instruction Time : 0

Correct Marks : 1 Wrong Marks : 0.33

కింది వాటిలో కారకోరం శ్రేణిలో ఏ శిఖరం ఉంది?

Options :

1. ✘ ఎవరెస్ట్ పర్వతం
2. ✘ కాంచనజంగా
3. ✘ నాగ్ టిబ్బా

4. ✓ గాడ్విన్ ఆస్టెన్

Question Number : 95 Question Id : 630680399839 Is Question Mandatory : No Calculator :

None Response Time : N.A Think Time : N.A Minimum Instruction Time : 0

Correct Marks : 1 Wrong Marks : 0.33

Which of the following peaks is located in the Karakoram Range?

Options :

1. ✗ Mount Everest

2. ✗ Kanchenjunga

3. ✗ Nag Tibba

4. ✓ Godwin Austen

Question Number : 96 Question Id : 630680399840 Is Question Mandatory : No Calculator :

None Response Time : N.A Think Time : N.A Minimum Instruction Time : 0

Correct Marks : 1 Wrong Marks : 0.33

విజయనగర సామ్రాజ్యాన్ని పాలించిన కృష్ణదేవరాయలు ఏ రాజవంశానికి చెందినవారు?

Options :

1. ✓ తుళువ

2. ✗ పాండ్యులు

3. ✗ కాకతీయ

4. ✗ కుతుబ్ షాహీ

Question Number : 96 Question Id : 630680399840 Is Question Mandatory : No Calculator :

None Response Time : N.A Think Time : N.A Minimum Instruction Time : 0

Correct Marks : 1 Wrong Marks : 0.33

Krishnadevaraya who ruled the Vijayanagar empire belonged to which dynasty?

Options :

1. ✓ Tuluva
2. ✗ Pandyas
3. ✗ Kakatiya
4. ✗ Qutb Shahi

**Question Number : 97 Question Id : 630680399841 Is Question Mandatory : No Calculator :
None Response Time : N.A Think Time : N.A Minimum Instruction Time : 0**

Correct Marks : 1 Wrong Marks : 0.33

జాతీయ పోరాటానికి మహాత్మా గాంధీ నాయకత్వాన్ని రాజకీయ నాయకులు అంగీకరించిన అఖిల భారత కాంగ్రెస్ కమిటీ సమావేశం విజయవాడలో ఎప్పుడు జరిగింది?

Options :

1. ✗ 1919
2. ✓ 1921
3. ✗ 1923
4. ✗ 1925

**Question Number : 97 Question Id : 630680399841 Is Question Mandatory : No Calculator :
None Response Time : N.A Think Time : N.A Minimum Instruction Time : 0**

Correct Marks : 1 Wrong Marks : 0.33

When was the All India Congress Committee meeting was held at Vijayawada where Mahatma Gandhi's leadership of the national struggle was accepted by the political leaders?

Options :

1. ✗ 1919
2. ✓ 1921
3. ✗ 1923

4. ✖ 1925

Question Number : 98 Question Id : 630680399842 Is Question Mandatory : No Calculator :

None Response Time : N.A Think Time : N.A Minimum Instruction Time : 0

Correct Marks : 1 Wrong Marks : 0.33

కింది వారిలో ఎవరు ఆంధ్ర ప్రదేశ్‌లో జమీందారీ రైతు ఉద్యమానికి మార్గదర్శకులలో ఒకరు?

Options :

1. ✖ ముట్నూరి కృష్ణారావు

2. ✖ అయ్యదేవర కాలేశ్వరరావు

3. ✖ పింగళి వెంకయ్య

4. ✔ గొట్టిపాటి బ్రహ్మయ్య

Question Number : 98 Question Id : 630680399842 Is Question Mandatory : No Calculator :

None Response Time : N.A Think Time : N.A Minimum Instruction Time : 0

Correct Marks : 1 Wrong Marks : 0.33

Who among the following was one of the pioneers of the Zamindari Ryot Movement in Andhra Pradesh?

Options :

1. ✖ Mutnuri Krishna Rao

2. ✖ Ayyadevara Kaleswara Rao

3. ✖ Pingali Venkaiah

4. ✔ Gottipati Brahmaiah

Question Number : 99 Question Id : 630680399843 Is Question Mandatory : No Calculator :

None Response Time : N.A Think Time : N.A Minimum Instruction Time : 0

Correct Marks : 1 Wrong Marks : 0.33

Match the following personalities with the events.

	Personality		Event
i	Duggirala Gopalakrishnayya	a	Chirala-Perala struggle
ii	Kandukuri Veeresalingam	b	Gadya Tikkana
iii	Sitarama Raju	c	Rampa rebellion
iv	Bipin Chandrapal	d	Vande Mataram movement

Options :

1. ✓ i-a, ii-b, iii-c, iv-d

2. ✗ i-b, ii-c, iii-d, iv-a

3. ✗ i-c, ii-d, iii-a, iv-b

4. ✗ i-d, ii-b, iii-c, iv-a

Question Number : 99 Question Id : 630680399843 Is Question Mandatory : No Calculator :

None Response Time : N.A Think Time : N.A Minimum Instruction Time : 0

Correct Marks : 1 Wrong Marks : 0.33

కింది వ్యక్తులను ఆయా సంఘటనలతో జతపర్చండి.

	వ్యక్తులు		సంఘటనలు
i	దుగ్గిరాల గోపాలకృష్ణయ్య	a	చీరాల-పేరాల పోరాటం
ii	కందుకూరి వీరేశలింగం	b	గద్య తిక్కన
iii	సీతారామ రాజు	c	రంప తిరుగుబాటు
iv	బిపిన్ చంద్రపాల్	d	వందే మాతరం ఉద్యమం

Options :

1. ✓ i-a, ii-b, iii-c, iv-d

2. ✘ i-b, ii-c, iii-d, iv-a

3. ✘ i-c, ii-d, iii-a, iv-b

4. ✘ i-d, ii-b, iii-c, iv-a

Question Number : 100 Question Id : 630680399844 Is Question Mandatory : No Calculator :

None Response Time : N.A Think Time : N.A Minimum Instruction Time : 0

Correct Marks : 1 Wrong Marks : 0.33

తెలంగాణ మరియు ఆంధ్ర ప్రాంతాలు ఒకే రాష్ట్రంగా ఆంధ్రప్రదేశ్‌గా ఏర్పడ్డాయి?

Options :

1. ✘ 1952

2. ✘ 1953

3. ✘ 1955

4. ✓ 1956

Question Number : 100 Question Id : 630680399844 Is Question Mandatory : No Calculator :

None Response Time : N.A Think Time : N.A Minimum Instruction Time : 0

Correct Marks : 1 Wrong Marks : 0.33

When were Telangana and Andhra areas constituted into a single state Andhra Pradesh?

Options :

1. ✘ 1952

2. ✘ 1953

3. ✖ 1955

4. ✔ 1956

Question Number : 101 Question Id : 630680399845 Is Question Mandatory : No Calculator :

None Response Time : N.A Think Time : N.A Minimum Instruction Time : 0

Correct Marks : 1 Wrong Marks : 0.33

ఆంధ్రప్రదేశ్‌కి చెందిన స్వాతంత్ర్య సమరయోధురాలు దుర్గాబాయి దేశ్‌ముఖ్ గురించి కింది వాటిలో ఏది సత్యం కాదు?

I) ఆమె ఆంధ్ర ఆత్మీయ సభ స్థాపకురాలు.

II) ఆమె 'ఐరన్ లేడీ'గా ప్రసిద్ధి చెందారు.

III) స్వాతంత్ర్యం తర్వాత ఆమెకు తామ్రపత్రం, పాల్ హాఫ్‌మన్ అవార్డు లభించాయి.

Note: For this question, discrepancy is found in question/answer. So, this question is ignored for all candidates.

Options :

1. I మరియు II

2. I మరియు III

3. II మరియు III

4. I, II మరియు III

Question Number : 101 Question Id : 630680399845 Is Question Mandatory : No Calculator :

None Response Time : N.A Think Time : N.A Minimum Instruction Time : 0

Correct Marks : 1 Wrong Marks : 0.33

Which of following are NOT true about freedom fighter Durgabai Deshmukh of Andhra Pradesh?

I) She was the founder of the Andhra Aatmiya Sabha.

II) She was popularly known as 'Iron Lady'.

III) She was awarded the Tamrapatra and Paul Hoffman Award after independence.

Note: For this question, discrepancy is found in question/answer. So, this question is ignored for all candidates.

Options :

1. I and II
2. I and III
3. II and III
4. I, II and III

Question Number : 102 Question Id : 630680399846 Is Question Mandatory : No Calculator :

None Response Time : N.A Think Time : N.A Minimum Instruction Time : 0

Correct Marks : 1 Wrong Marks : 0.33

ఆంధ్రప్రదేశ్ పునర్వ్యవస్థీకరణ చట్టం 2014లోని ఏ సెక్షన్ ప్రకారం, ఉమ్మడి రాజధాని నివాసితుల జీవితం, స్వేచ్ఛ మరియు ఆస్తులను రక్షించడానికి గవర్నర్ కు ప్రత్యేక అధికారాలు ఇవ్వబడ్డాయి?

Options :

1. ✖ సెక్షన్ 6
2. ✔ సెక్షన్ 8
3. ✖ సెక్షన్ 10
4. ✖ సెక్షన్ 12

Question Number : 102 Question Id : 630680399846 Is Question Mandatory : No Calculator :

None Response Time : N.A Think Time : N.A Minimum Instruction Time : 0

Correct Marks : 1 Wrong Marks : 0.33

Under which Section of the Andhra Pradesh Reorganisation Act 2014, was the governor given special powers to protect life, liberty and property of residents of common capital?

Options :

1. ✘ Section 6

2. ✔ Section 8

3. ✘ Section 10

4. ✘ Section 12

Question Number : 103 Question Id : 630680399847 Is Question Mandatory : No Calculator :

None Response Time : N.A Think Time : N.A Minimum Instruction Time : 0

Correct Marks : 1 Wrong Marks : 0.33

YS Jagan Mohan Reddy was sworn in as the _____ Chief Minister of the Government of Andhra Pradesh on 30 May 2019.

Options :

1. ✘ 16th

2. ✔ 17th

3. ✘ 18th

4. ✘ 19th

Question Number : 103 Question Id : 630680399847 Is Question Mandatory : No Calculator :

None Response Time : N.A Think Time : N.A Minimum Instruction Time : 0

Correct Marks : 1 Wrong Marks : 0.33

వైఎస్ జగన్ మోహన్ రెడ్డి 30 మే 2019న ఆంధ్రప్రదేశ్ ప్రభుత్వ _____ ముఖ్యమంత్రిగా ప్రమాణ స్వీకారం చేశారు.

Options :

1. ✘ 16వ

2. ✔ 17వ

3. ✘ 18వ

4. ✘ 19వ

**Question Number : 104 Question Id : 630680399848 Is Question Mandatory : No Calculator :
None Response Time : N.A Think Time : N.A Minimum Instruction Time : 0**

Correct Marks : 1 Wrong Marks : 0.33

ఆంధ్రప్రదేశ్ రాజ్యసభ స్థానాల సంఖ్య ఎంత?

Options :

1. ✖ 7

2. ✖ 9

3. ✔ 11

4. ✖ 13

**Question Number : 104 Question Id : 630680399848 Is Question Mandatory : No Calculator :
None Response Time : N.A Think Time : N.A Minimum Instruction Time : 0**

Correct Marks : 1 Wrong Marks : 0.33

What is the number of Rajya Sabha seats of Andhra Pradesh?

Options :

1. ✖ 7

2. ✖ 9

3. ✔ 11

4. ✖ 13

**Question Number : 105 Question Id : 630680399849 Is Question Mandatory : No Calculator :
None Response Time : N.A Think Time : N.A Minimum Instruction Time : 0**

Correct Marks : 1 Wrong Marks : 0.33

జూలై 2023 నాటికి, రాజ్యసభలో YSR కాంగ్రెస్ బలం ఎంత?

Options :

1. ✖ 7

2. ✓ 9

3. ✘ 11

4. ✘ 13

Question Number : 105 Question Id : 630680399849 Is Question Mandatory : No Calculator :

None Response Time : N.A Think Time : N.A Minimum Instruction Time : 0

Correct Marks : 1 Wrong Marks : 0.33

As of July 2023, what is strength of the YSR Congress in Rajya Sabha?

Options :

1. ✘ 7

2. ✓ 9

3. ✘ 11

4. ✘ 13

Question Number : 106 Question Id : 630680399850 Is Question Mandatory : No Calculator :

None Response Time : N.A Think Time : N.A Minimum Instruction Time : 0

Correct Marks : 1 Wrong Marks : 0.33

Match the following Ministers with the portfolios held by them as of July 2023.

	Minister		Portfolio
i	Dadisetti Ramalingeswara Rao	a	Social welfare
ii	Dharmana Prasada Rao	b	Water resources
iii	Ambati Rambabu	c	Revenue, registrations and stamps
iv	Merugu Nagarjuna	d	Roads and buildings

Options :

1. ✘ i-a, ii-b, iii-c, iv-d

2.

✘ i-b, ii-c, iii-d, iv-a

3. ✘ i-c, ii-d, iii-a, iv-b

4. ✔ i-d, ii-c, iii-b, iv-a

Question Number : 106 Question Id : 630680399850 Is Question Mandatory : No Calculator :

None Response Time : N.A Think Time : N.A Minimum Instruction Time : 0

Correct Marks : 1 Wrong Marks : 0.33

కింది మంత్రులను జూలై 2023 నాటికి వారు కలిగి ఉన్న మంత్రిత్వశాఖలతో జతపర్చండి.

	మంత్రి		మంత్రిత్వ శాఖ
i	డాడిశెట్టి రామలింగేశ్వర రావు	a	సామాజిక సంక్షేమం
ii	ధర్మాన ప్రసాద రావు	b	జల వనరులు
iii	అంబటి రాంబాబు	c	రాబడి, రిజిస్ట్రేషన్ మరియు స్టాంపులు
iv	మెరుగు నాగార్జున	d	రోడ్లు మరియు భవనాలు

Options :

1. ✘ i-a, ii-b, iii-c, iv-d

2. ✘ i-b, ii-c, iii-d, iv-a

3. ✘ i-c, ii-d, iii-a, iv-b

4. ✔ i-d, ii-c, iii-b, iv-a

Question Number : 107 Question Id : 630680399851 Is Question Mandatory : No Calculator :

None Response Time : N.A Think Time : N.A Minimum Instruction Time : 0

Correct Marks : 1 Wrong Marks : 0.33

Which of following is NOT among the nine Navratna Welfare Schemes of Sri YS Jagan Mohan Reddy, Honourable Chief Minister of Andhra Pradesh?

Options :

1. ✘ Control of alcohol consumption

2. ✘ Pension - enhancement

3. ✔ Zero hunger in the state

4. ✘ Housing for all poor

Question Number : 107 Question Id : 630680399851 Is Question Mandatory : No Calculator :

None Response Time : N.A Think Time : N.A Minimum Instruction Time : 0

Correct Marks : 1 Wrong Marks : 0.33

గౌరవనీయ ఆంధ్రప్రదేశ్ ముఖ్యమంత్రి శ్రీ వైఎస్ జగన్ మోహన్ రెడ్డి గారి తొమ్మిది నవరత్న సంక్షేమ పథకాలలో కింది వాటిలో ఏది లేదు?

Options :

1. ✘ మద్యం వినియోగం నియంత్రణ

2. ✘ పెన్షన్ - పెంపుదల

3. ✔ రాష్ట్రంలో సున్నా ఆకలి

4. ✘ పేదలందరికీ ఇళ్లు

Question Number : 108 Question Id : 630680399852 Is Question Mandatory : No Calculator :

None Response Time : N.A Think Time : N.A Minimum Instruction Time : 0

Correct Marks : 1 Wrong Marks : 0.33

ఆంధ్రప్రదేశ్ ప్రభుత్వ ఆరోగ్యశ్రీ - సార్వత్రిక ఆరోగ్య సంరక్షణ పథకం గురించి కింది వాటిలో సరైన ప్రకటన ఏది?

a) ₹10 లక్షల కంటే తక్కువ వార్షిక ఆదాయం ఉన్న అన్ని వర్గాలకు వైఎస్ఆర్ ఆరోగ్యశ్రీ కవర్.

b) ₹5,000 కంటే ఎక్కువ ఉన్న అన్ని వైద్య ఖర్చులకు ఆరోగ్యశ్రీ వర్తిస్తుంది.

c) ఆరోగ్యశ్రీ చికిత్స దేశవ్యాప్తంగా వర్తిస్తుంది.

d) మూత్రపిండాలు, తలసేమియా, పెరినియల్ వ్యాధులతో బాధపడుతున్న వ్యక్తులకు నెలకు ₹10,000 పెన్షన్ అందించబడుతుంది.

Note: For this question, discrepancy is found in question/answer. So, this question is ignored for all candidates.

Options :

1. a మరియు b

2. b మరియు c

3. c మరియు d

4. a, b, మరియు c

Question Number : 108 Question Id : 630680399852 Is Question Mandatory : No Calculator :

None Response Time : N.A Think Time : N.A Minimum Instruction Time : 0

Correct Marks : 1 Wrong Marks : 0.33

Which of following statements are correct about Aarogyasri - Universal Healthcare scheme of the Andhra Pradesh government?

a) YSR Aarogyasri cover is for all categories with annual income less than ₹10 lakh.

b) Aarogyasri is applicable for all medical expenses above ₹5,000.

c) Aarogyasri treatment is applicable throughout the country.

d) ₹10,000 pension per month to be provided to the persons suffering from kidney, thalassemia and perineal diseases.

Note: For this question, discrepancy is found in question/answer. So, this question is ignored for all candidates.

Options :

1. a and b
2. b and c
3. c and d
4. a, b, and c

Question Number : 109 Question Id : 630680399853 Is Question Mandatory : No Calculator :

None Response Time : N.A Think Time : N.A Minimum Instruction Time : 0

Correct Marks : 1 Wrong Marks : 0.33

ఆంధ్రప్రదేశ్, ఆలంగాణ కొత్త రాష్ట్రాల ఏర్పాటుకు 'అపాయింట్డ్ డే' ఏది?

Options :

1. ✖ 1 మార్చి 2014
2. ✔ 2 జూన్ 2014
3. ✖ 1 జూలై 2014
4. ✖ 2 జనవరి 2014

Question Number : 109 Question Id : 630680399853 Is Question Mandatory : No Calculator :

None Response Time : N.A Think Time : N.A Minimum Instruction Time : 0

Correct Marks : 1 Wrong Marks : 0.33

What was the 'appointed day' for the formation of the new states of Andhra Pradesh and Telangana?

Options :

1. ✘ 1 March 2014
2. ✔ 2 June 2014
3. ✘ 1 July 2014
4. ✘ 2 January 2014

**Question Number : 110 Question Id : 630680399854 Is Question Mandatory : No Calculator :
None Response Time : N.A Think Time : N.A Minimum Instruction Time : 0**

Correct Marks : 1 Wrong Marks : 0.33

కింది వాటిలో ఏ కొండ శ్రేణులు ఆంధ్రప్రదేశ్ రాష్ట్రంలో కనిపిస్తాయి?

Options :

1. ✘ సిరుమలై
2. ✘ కారంతమలై
3. ✘ జవాదు కొండలు
4. ✔ వెలికొండ

**Question Number : 110 Question Id : 630680399854 Is Question Mandatory : No Calculator :
None Response Time : N.A Think Time : N.A Minimum Instruction Time : 0**

Correct Marks : 1 Wrong Marks : 0.33

Which of the following hill ranges can be found in the state of Andhra Pradesh?

Options :

1. ✘ Sirumalai
2. ✘ Karanthamalai

3. ✖ Javadu hills

4. ✔ Velikonda

Question Number : 111 Question Id : 630680399855 Is Question Mandatory : No Calculator :

None Response Time : N.A Think Time : N.A Minimum Instruction Time : 0

Correct Marks : 1 Wrong Marks : 0.33

ఆంధ్రప్రదేశ్‌లోని కింది ఏ రాతి వ్యవస్థలో చమురు, పెట్రోలియం లభిస్తాయి?

Options :

1. ✖ ధార్వాడ్

2. ✔ ప్లీస్టోసీన్

3. ✖ ఆర్కియన్

4. ✖ కడప

Question Number : 111 Question Id : 630680399855 Is Question Mandatory : No Calculator :

None Response Time : N.A Think Time : N.A Minimum Instruction Time : 0

Correct Marks : 1 Wrong Marks : 0.33

In which of the following rock systems of Andhra Pradesh can oil and petroleum be found?

Options :

1. ✖ Dharwad

2. ✔ Pleistocene

3. ✖ Archean

4. ✖ Cuddapah

Question Number : 112 Question Id : 630680399856 Is Question Mandatory : No Calculator :

None Response Time : N.A Think Time : N.A Minimum Instruction Time : 0

Correct Marks : 1 Wrong Marks : 0.33

Godavari river flows through which of the following National Parks in Andhra Pradesh?

Options :

1. ✘ Rajiv Gandhi National Park
2. ✘ Sri Venkateswara National Park
3. ✘ Periyar National Park
4. ✔ Papikonda National Park

Question Number : 112 Question Id : 630680399856 Is Question Mandatory : No Calculator :

None Response Time : N.A Think Time : N.A Minimum Instruction Time : 0

Correct Marks : 1 Wrong Marks : 0.33

గోదావరి నది ఆంధ్రప్రదేశ్‌లోని కింది ఏ జాతీయ ఉద్యానవనాల గుండా ప్రవహిస్తుంది?

Options :

1. ✘ రాజీవ్ గాంధీ నేషనల్ పార్క్
2. ✘ శ్రీ వెంకటేశ్వర నేషనల్ పార్క్
3. ✘ పెరియార్ నేషనల్ పార్క్
4. ✔ పాపికొండ నేషనల్ పార్క్

Question Number : 113 Question Id : 630680399857 Is Question Mandatory : No Calculator :

None Response Time : N.A Think Time : N.A Minimum Instruction Time : 0

Correct Marks : 1 Wrong Marks : 0.33

కింది వాటిలో ఏ నేలలు ఆంధ్రప్రదేశ్ రాష్ట్రంలోని అతిపెద్ద ప్రాంతాలను ఆక్రమించాయి?

Options :

1. ✘ నల్లరేగడి నేల
2. ✔ ఎర్ర నేల
3. ✘ ఒండ్లు నేల

4. ✖ లేటరైట్ నేల

Question Number : 113 Question Id : 630680399857 Is Question Mandatory : No Calculator :

None Response Time : N.A Think Time : N.A Minimum Instruction Time : 0

Correct Marks : 1 Wrong Marks : 0.33

Which of the following soils covers the largest parts of the state of Andhra Pradesh?

Options :

1. ✖ Black soil

2. ✔ Red soil

3. ✖ Alluvial soil

4. ✖ Laterite soil

Question Number : 114 Question Id : 630680399858 Is Question Mandatory : No Calculator :

None Response Time : N.A Think Time : N.A Minimum Instruction Time : 0

Correct Marks : 1 Wrong Marks : 0.33

ఆంధ్రప్రదేశ్ రాష్ట్రంలో, ఈ క్రింది ఏ నదీ పరీవాహక ప్రాంతం యొక్క అత్యధిక ప్రాంతం ఉంది?

Options :

1. ✔ గోదావరి

2. ✖ కృష్ణ

3. ✖ పెన్నార్

4. ✖ వెల్డార్

Question Number : 114 Question Id : 630680399858 Is Question Mandatory : No Calculator :

None Response Time : N.A Think Time : N.A Minimum Instruction Time : 0

Correct Marks : 1 Wrong Marks : 0.33

In the state of Andhra Pradesh, the largest area falls under which of the following river basins?

Options :

1. ✓ Godavari
2. ✗ Krishna
3. ✗ Pennar
4. ✗ Vellar

**Question Number : 115 Question Id : 630680399859 Is Question Mandatory : No Calculator :
None Response Time : N.A Think Time : N.A Minimum Instruction Time : 0**

Correct Marks : 1 Wrong Marks : 0.33

ఇండియన్ స్టేట్ ఆఫ్ ది ఫారెస్ట్ రిపోర్ట్, 2021 ప్రకారం, ఆంధ్రప్రదేశ్‌లో సుమారుగా ఎంత విస్తీర్ణంలో అడవులు ఉన్నాయి?

Options :

1. ✗ 33.09
2. ✗ 30.43
3. ✓ 22.63
4. ✗ 21.39

**Question Number : 115 Question Id : 630680399859 Is Question Mandatory : No Calculator :
None Response Time : N.A Think Time : N.A Minimum Instruction Time : 0**

Correct Marks : 1 Wrong Marks : 0.33

According to the Indian State of the Forest Report, 2021, approximately how much area of Andhra Pradesh is covered by forests?

Options :

1. ✗ 33.09
2. ✗ 30.43
3. ✓ 22.63
4. ✗ 21.39

**Question Number : 116 Question Id : 630680399860 Is Question Mandatory : No Calculator :
None Response Time : N.A Think Time : N.A Minimum Instruction Time : 0**

Correct Marks : 1 Wrong Marks : 0.33

భారతదేశంలోని తీరప్రాంత రాష్ట్రాలలో తీర రేఖ పొడవు పరంగా ఆంధ్రప్రదేశ్ ర్యాంక్ ఎంత?

Options :

1. ✘ మొదటి

2. ✔ రెండవ

3. ✘ మూడవ

4. ✘ నాల్గవ

**Question Number : 116 Question Id : 630680399860 Is Question Mandatory : No Calculator :
None Response Time : N.A Think Time : N.A Minimum Instruction Time : 0**

Correct Marks : 1 Wrong Marks : 0.33

What is the rank of Andhra Pradesh in terms of length of coast line amongst the coastal states of India?

Options :

1. ✘ First

2. ✔ Second

3. ✘ Third

4. ✘ Fourth

**Question Number : 117 Question Id : 630680399861 Is Question Mandatory : No Calculator :
None Response Time : N.A Think Time : N.A Minimum Instruction Time : 0**

Correct Marks : 1 Wrong Marks : 0.33

ఆంధ్రప్రదేశ్ లో ఎన్ని అంతర్జాతీయ విమానాశ్రయాలు ఉన్నాయి?

Options :

1. ✖ ఒకటి

2. ✔ మూడు

3. ✖ ఐదు

4. ✖ ఏడు

Question Number : 117 Question Id : 630680399861 Is Question Mandatory : No Calculator :

None Response Time : N.A Think Time : N.A Minimum Instruction Time : 0

Correct Marks : 1 Wrong Marks : 0.33

How many international airports are there in Andhra Pradesh?

Options :

1. ✖ One

2. ✔ Three

3. ✖ Five

4. ✖ Seven

Question Number : 118 Question Id : 630680399862 Is Question Mandatory : No Calculator :

None Response Time : N.A Think Time : N.A Minimum Instruction Time : 0

Correct Marks : 1 Wrong Marks : 0.33

ఈజ్ ఆఫ్ డూయింగ్ బిజినెస్ రిపోర్ట్లో ఆంధ్రప్రదేశ్ ర్యాంక్ ఎంత?

Options :

1. ✔ 1వ

2. ✖ 8వ

3. ✖ 14వ

4. ✖ 16వ

**Question Number : 118 Question Id : 630680399862 Is Question Mandatory : No Calculator :
None Response Time : N.A Think Time : N.A Minimum Instruction Time : 0
Correct Marks : 1 Wrong Marks : 0.33**

What was the rank of Andhra Pradesh in the Ease of Doing Business Report?

Options :

1. ✓ 1st
2. ✗ 8th
3. ✗ 14th
4. ✗ 16th

**Question Number : 119 Question Id : 630680399863 Is Question Mandatory : No Calculator :
None Response Time : N.A Think Time : N.A Minimum Instruction Time : 0
Correct Marks : 1 Wrong Marks : 0.33**

జూలై 2023 వరకు ఆంధ్రప్రదేశ్ రాష్ట్రంలో నోటిఫై చేయబడిన ప్రత్యేక ఆర్థిక మండలాల సంఖ్య ఎంత?

Options :

1. ✗ 18
2. ✗ 24
3. ✗ 29
4. ✓ 32

**Question Number : 119 Question Id : 630680399863 Is Question Mandatory : No Calculator :
None Response Time : N.A Think Time : N.A Minimum Instruction Time : 0
Correct Marks : 1 Wrong Marks : 0.33**

What is the number of notified Special Economic Zones in the state of Andhra Pradesh till July 2023?

Options :

1. ✖ 18

2. ✖ 24

3. ✖ 29

4. ✔ 32

Question Number : 120 Question Id : 630680399864 Is Question Mandatory : No Calculator :

None Response Time : N.A Think Time : N.A Minimum Instruction Time : 0

Correct Marks : 1 Wrong Marks : 0.33

ఎకనామిక్ డెవలప్‌మెంట్ బోర్డ్ ఆఫ్ ఆంధ్రప్రదేశ్ అనేది ఆంధ్రప్రదేశ్ ఎకనామిక్ డెవలప్‌మెంట్ బోర్డ్ యాక్ట్, _____ కింద స్థాపించబడింది.

Options :

1. ✖ 2017

2. ✔ 2018

3. ✖ 2019

4. ✖ 2020

Question Number : 120 Question Id : 630680399864 Is Question Mandatory : No Calculator :

None Response Time : N.A Think Time : N.A Minimum Instruction Time : 0

Correct Marks : 1 Wrong Marks : 0.33

Economic Development Board of Andhra Pradesh was established under the Andhra Pradesh Economic Development Board Act, _____.

Options :

1. ✖ 2017

2. ✔ 2018

3. ✖ 2019

4. ✖ 2020

Question Number : 121 Question Id : 630680399866 Is Question Mandatory : No Calculator :

None Response Time : N.A Think Time : N.A Minimum Instruction Time : 0

Correct Marks : 1 Wrong Marks : 0.33

If '@' means 'greater than', '#' means 'smaller than', '\$' means 'equal to', '*' means 'neither smaller than nor equal to', then solve the given equations and select which of the following has the highest value.

ASB, B#C, C@D, D#E, C*E

Options :

1. ✘ A

2. ✘ E

3. ✔ C

4. ✘ D

Question Number : 121 Question Id : 630680399866 Is Question Mandatory : No Calculator :

None Response Time : N.A Think Time : N.A Minimum Instruction Time : 0

Correct Marks : 1 Wrong Marks : 0.33

'@' అనగా 'దానికంటే పెద్దది', '#' అనగా 'దానికంటే చిన్నది', '\$' అనగా 'సమానం', '*' అనగా 'దానికంటే చిన్నది కాదు లేదా సమానం కాదు' అయినచో, ఇచ్చిన సమీకరణాలను పరిష్కరించి, కింది వాటిలో గరిష్ఠ విలువను కలిగి ఉన్న దాన్ని ఎంచుకోండి.

A\$B, B#C, C@D, D#E, C*E

Options :

1. ✘ A

2. ✘ E

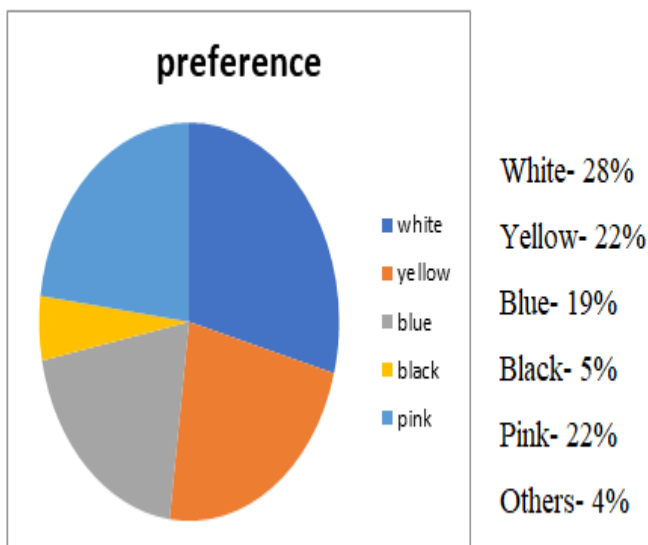
3. ✔ C

4. ✘ D

**Question Number : 122 Question Id : 630680399867 Is Question Mandatory : No Calculator :
None Response Time : N.A Think Time : N.A Minimum Instruction Time : 0
Correct Marks : 1 Wrong Marks : 0.33**

Study the given graph and answer the question that follows.

The percentage of people with their colour preferences for clothes for summer season is given below:



If 1500 people voted, then what is the total number of voters for blue?

Options :

1. ✘ 420

2. ✔ 285

3. ✘ 330

4. ✘ 75

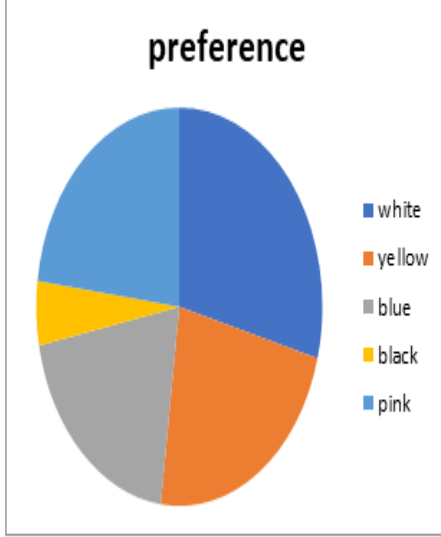
Question Number : 122 Question Id : 630680399867 Is Question Mandatory : No Calculator :

None Response Time : N.A Think Time : N.A Minimum Instruction Time : 0

Correct Marks : 1 Wrong Marks : 0.33

ఇవ్వబడిన గ్రాఫ్ ను అధ్యయనం చేసి, ఈ క్రింది ప్రశ్నకు సమాధానం ఇవ్వండి.

వేసవి కాలంలో దుస్తుల కోసం వారి రంగు ప్రాధాన్యతలను బట్టి వ్యక్తుల శాతం క్రింద ఇవ్వబడింది.



తెలుపు - 28%

పసుపు - 22%

నీలం - 19%

నలుపు - 5%

పింక్ - 22%

ఇతరాలు - 4%

మొత్తం 1500 మంది ఓటు వేసినట్లైతే, నీలం రంగు కోసం ఓటేసిన మొత్తం ఓటర్ల సంఖ్య ఎంత?

Options :

1. ✘ 420

2. ✔ 285

3. ✘ 330

4. ✘ 75

Question Number : 123 Question Id : 630680399868 Is Question Mandatory : No Calculator :

None Response Time : N.A Think Time : N.A Minimum Instruction Time : 0

Correct Marks : 1 Wrong Marks : 0.33

Select the number that will come next in the following series.

3, 3, 13, 15, 31, 35, 57, ?

Options :

1. ✓ 63

2. ✘ 73

3. ✘ 74

4. ✘ 69

**Question Number : 123 Question Id : 630680399868 Is Question Mandatory : No Calculator :
None Response Time : N.A Think Time : N.A Minimum Instruction Time : 0**

Correct Marks : 1 Wrong Marks : 0.33

ఈ క్రింది శ్రేణిలో ఆదుపరి వచ్చే సంఖ్యను ఎంచుకోండి.

3, 3, 13, 15, 31, 35, 57, ?

Options :

1. ✓ 63

2. ✘ 73

3. ✘ 74

4. ✘ 69

**Question Number : 124 Question Id : 630680399869 Is Question Mandatory : No Calculator :
None Response Time : N.A Think Time : N.A Minimum Instruction Time : 0**

Correct Marks : 1 Wrong Marks : 0.33

Identify the INCORRECT number in the following series.

16, 23, 30, 37, 44, 53, 58

Options :

1. ✘ 58

2. ✔ 53

3. ✘ 44

4. ✘ 37

Question Number : 124 Question Id : 630680399869 Is Question Mandatory : No Calculator :

None Response Time : N.A Think Time : N.A Minimum Instruction Time : 0

Correct Marks : 1 Wrong Marks : 0.33

ఈ క్రింది శ్రేణిలో 'సరైనదికాని' సంఖ్యను గుర్తించండి.

16, 23, 30, 37, 44, 53, 58

Options :

1. ✘ 58

2. ✔ 53

3. ✘ 44

4. ✘ 37

Question Number : 125 Question Id : 630680399870 Is Question Mandatory : No Calculator :

None Response Time : N.A Think Time : N.A Minimum Instruction Time : 0

Correct Marks : 1 Wrong Marks : 0.33

Refer to the following number symbol series and answer the question that follows.

(Left) 7 > 2 4 % 6 7 * & % * 8 7 4 & 5 % 4 2 * 3 # 2 % 8 9 4 & % 4 3 6 & 3 % 4 @ 4 5 3 % 7 8 & 6 % 7 8 # 4 @ 8 @ 4
* 8 9 % 8 % 3 2 # 6 @ (Right)

How many even numbers in the above string are immediately followed by an odd number and then an even number and immediately preceded by a symbol? (Consider counting from left to right only)

Options :

1. ✘ One

2. ✘ Two

3. ✔ Three

4. ✘ Four

Question Number : 125 Question Id : 630680399870 Is Question Mandatory : No Calculator :

None Response Time : N.A Think Time : N.A Minimum Instruction Time : 0

Correct Marks : 1 Wrong Marks : 0.33

క్రీంది సంఖ్యా చిహ్నా శ్రేణిని చూడండి మరియు ఈ క్రీంది ప్రశ్నకు సమాధానం ఇవ్వండి.

(ఎడమ) 7 > 2 4 % 6 7 * & % * 8 7 4 & 5 % 4 2 * 3 # 2 % 8 9 4 & % 4 3 6 & 3 % 4 @ 4 5 3 % 7 8 & 6 % 7 8 # 4
@ 8 @ 4 * 8 9 % 8 % 3 2 # 6 @ (కుడి)

పై శ్రేణిలోని ఎన్ని సరి సంఖ్యలు తక్షణం వెంటనే బేసి సంఖ్య మరియు ఆ తర్వాత సరి సంఖ్య మరియు తక్షణం ముందు చిహ్నంతో ఉంటాయి? (ఎడమ నుండి కుడికి మాత్రమే లెక్కింపును పరిగణించండి)

Options :

1. ✘ ఒకటి

2. ✘ రెండు

3. ✔ మూడు

4. ✘ నాలుగు

Question Number : 126 Question Id : 630680399871 Is Question Mandatory : No Calculator :

None Response Time : N.A Think Time : N.A Minimum Instruction Time : 0

Correct Marks : 1 Wrong Marks : 0.33

Refer to the following number symbol series and answer the question that follows.

(Left) & 3 % 4 @ 4 5 & % 7 8 & 6 % 7 8 # 4 @ 8 @ 4* 8 9 % 8 % 3 2 # 6 @ 7 > 2 4 % 6 7* & % * 5 8 7 4 & 5 % 4 2 * 3
2 % 8 9 4 & % 3 4 6 (Right)

How many symbols in the above string are immediately followed by an odd number and then an even number and immediately preceded by a symbol? (Consider counting from left to right only)

Options :

1. ✘ One

2. ✘ Two

3. ✔ Three

4. ✘ Four

Question Number : 126 Question Id : 630680399871 Is Question Mandatory : No Calculator :

None Response Time : N.A Think Time : N.A Minimum Instruction Time : 0

Correct Marks : 1 Wrong Marks : 0.33

క్రింది సంఖ్య చిహ్నా శ్రేణిని చూడండి మరియు ఈ క్రింది ప్రశ్నకు సమాధానం ఇవ్వండి.

(ఎడమవైపు) & 3 % 4 @ 4 5 & % 7 8 & 6 % 7 8 # 4 @ 8 @ 4* 8 9 % 8 % 3 2 # 6 @ 7 > 2 4 % 6 7* & % * 5 8 7 4
& 5 % 4 2 * 3 # 2 % 8 9 4 & % 3 4 6 (కుడి)

పై శ్రేణిలోని ఎన్ని చిహ్నాలు తక్షణం వెంటనే బేసి సంఖ్య, ఆపై సరి సంఖ్య మరియు తక్షణం ముందు చిహ్నంతో ఉంటాయి? (ఎడమ నుండి కుడికి మాత్రమే లెక్కింపును పరిగణించండి)

Options :

1. ✖ ఒకటి
2. ✖ రెండు
3. ✔ మూడు
4. ✖ నాలుగు

Question Number : 127 Question Id : 630680399872 Is Question Mandatory : No Calculator :

None Response Time : N.A Think Time : N.A Minimum Instruction Time : 0

Correct Marks : 1 Wrong Marks : 0.33

Which of the following statements proves that 'B > D' is true?

Options :

1. ✖ $J = L < D > K, K = O > F < P < B, B < J$
2. ✖ $B < P < Q \leq K > J > Z; Z = H \geq S = G < D$
3. ✔ $S < J < B = O \leq L < Q; S = P \leq K < D = J$
4. ✖ $G \geq J < K = B \geq L > Z; J > N = S \leq D$

Question Number : 127 Question Id : 630680399872 Is Question Mandatory : No Calculator :
None Response Time : N.A Think Time : N.A Minimum Instruction Time : 0

Correct Marks : 1 Wrong Marks : 0.33

కింది వాటిలో ఏ ప్రకటన 'B > D' సత్యం అని రుజువు చేస్తుంది?

Options :

1. ✘ $J = L < D > K, K = O > F < P < B, B < J$
2. ✘ $B < P < Q \leq K > J > Z; Z = H \geq S = G < D$
3. ✔ $S < J < B = O \leq L < Q; S = P \leq K < D = J$
4. ✘ $G \geq J < K = B \geq L > Z; J > N = S \leq D$

Question Number : 128 Question Id : 630680399873 Is Question Mandatory : No Calculator :
None Response Time : N.A Think Time : N.A Minimum Instruction Time : 0

Correct Marks : 1 Wrong Marks : 0.33

Select the term from among the given options that can replace the question mark (?) in the following series.

T 359, Q 322, N 287, ?, H 223

Options :

1. ✘ J 255
2. ✘ K 256
3. ✘ J 257
4. ✔ K 254

**Question Number : 128 Question Id : 630680399873 Is Question Mandatory : No Calculator :
None Response Time : N.A Think Time : N.A Minimum Instruction Time : 0**

Correct Marks : 1 Wrong Marks : 0.33

కింది శ్రేణిలో ప్రశ్న గుర్తు (?)ను భర్తీ చేయగల పదాన్ని ఇవ్వబడిన ఐచ్ఛికాల నుండి ఎంచుకోండి.

T 359, Q 322, N 287, ? , H 223

Options :

1. ✘ J 255

2. ✘ K 256

3. ✘ J 257

4. ✔ K 254

**Question Number : 129 Question Id : 630680399874 Is Question Mandatory : No Calculator :
None Response Time : N.A Think Time : N.A Minimum Instruction Time : 0**

Correct Marks : 1 Wrong Marks : 0.33

Four letter-clusters have been given, out of which three are alike in some manner and one is different. Select the one that is different.

Options :

1. ✘ KM

2. ✔ AF

3. ✘ JN

4. ✘ RZ

Question Number : 129 Question Id : 630680399874 Is Question Mandatory : No Calculator :

None Response Time : N.A Think Time : N.A Minimum Instruction Time : 0

Correct Marks : 1 Wrong Marks : 0.33

నాలుగు అక్షర-సమూహాలు ఇవ్వబడ్డాయి, వీటిలో మూడు ఏదో ఒక పద్ధతిలో ఒకేలా ఉంటాయి మరియు ఒకటి భిన్నంగా ఉంటుంది. భిన్నమైనదాన్ని ఎంచుకోండి.

Options :

1. ✘ KM

2. ✔ AF

3. ✘ JN

4. ✘ RZ

Question Number : 130 Question Id : 630680399875 Is Question Mandatory : No Calculator :

None Response Time : N.A Think Time : N.A Minimum Instruction Time : 0

Correct Marks : 1 Wrong Marks : 0.33

Four word-pairs have been given, out of which three are alike in some manner and one is different. Select the one that is different.

Options :

1. ✘ Sledge : Snow

2. ✘ Car : Road

3. ✘ Submarine : Water

4. ✓ Boat : Ship

Question Number : 130 Question Id : 630680399875 Is Question Mandatory : No Calculator :

None Response Time : N.A Think Time : N.A Minimum Instruction Time : 0

Correct Marks : 1 Wrong Marks : 0.33

నాలుగు పద-జతలు ఇవ్వబడ్డాయి, వాటిలో మూడు ఏదో ఒక పద్ధతిలో ఒకేలా ఉంటాయి, ఒకటి భిన్నంగా ఉంటుంది. భిన్నమైనదాన్ని ఎంచుకోండి.

Options :

1. ✘ స్టెడ్జ్: మంచు

2. ✘ కారు: రోడ్డు

3. ✘ జలాంతర్గామి: నీరు

4. ✓ పడవ: ఓడ

Question Number : 131 Question Id : 630680399876 Is Question Mandatory : No Calculator :

None Response Time : N.A Think Time : N.A Minimum Instruction Time : 0

Correct Marks : 1 Wrong Marks : 0.33

Each of Pallavi, Meghna, Ruchika, Vinita , Jyoti, Neelam and Somya have an exam on a different day of a week starting from Monday and ending on Sunday of the same week.

Neelam has an exam on Thursday. Jyoti has an exam on the third day before Neelam. Only one person has exam between Jyoti and Vinita. Jyoti and Meghna have a gap of four.days between their exams. Pallavi has exam on the day after Neelam and Ruchika has an exam on the day after Meghna. Who amongst the following has exam on Tuesday?

Options :

1. ✘ Pallavi

2. ✓ Somya

3. ✘ Jyoti

4. ✘ Vinita

Question Number : 131 Question Id : 630680399876 Is Question Mandatory : No Calculator :

None Response Time : N.A Think Time : N.A Minimum Instruction Time : 0

Correct Marks : 1 Wrong Marks : 0.33

ఒకే వారంలో పల్లవి, మేఘున, రుచిక, వినీత, జ్యోతి, నీలమ్ మరియు సోమ్యలకు ఒక్కొక్కరికి ఒక్కో రోజు సోమవారం నుంచి ప్రారంభమై ఆదివారం వరకు పరీక్ష ఉంటుంది.

నీలమ్ కి గురువారం పరీక్ష ఉంది. నీలమ్ ముందు మూడో రోజు జ్యోతికి పరీక్ష ఉంది. జ్యోతి మరియు వినీత మధ్య ఒక వ్యక్తికి మాత్రమే పరీక్ష ఉంది. జ్యోతి మరియు మేఘున పరీక్షల మధ్య నాలుగు రోజుల గ్యాప్ ఉంది. నీలమ్ తర్వాతి రోజు పల్లవికి పరీక్ష ఉంది, మేఘున తర్వాతి రోజు రుచికకి పరీక్ష ఉంది. కింది వారిలో ఎవరికి మంగళవారం రోజు పరీక్ష ఉంది?

Options :

1. ✘ పల్లవి

2. ✓ సోమ్య

3. ✘ జ్యోతి

4. ✘ వినీత

Question Number : 132 Question Id : 630680399877 Is Question Mandatory : No Calculator :

None Response Time : N.A Think Time : N.A Minimum Instruction Time : 0

Correct Marks : 1 Wrong Marks : 0.33

6 students H, U, A, B, C and T are sitting in a circle facing the centre. H is second to the left of C. U is second to the right of A. B is to the immediate right of T. C is second to the left of T. A is seated to the immediate right of H. Who is immediate neighbor of H and T?

Options :

1. ✘ A

2. ✔ B

3. ✘ C

4. ✘ U

**Question Number : 132 Question Id : 630680399877 Is Question Mandatory : No Calculator :
None Response Time : N.A Think Time : N.A Minimum Instruction Time : 0**

Correct Marks : 1 Wrong Marks : 0.33

6 మంది విద్యార్థులు H, U, A, B, C మరియు Tలు ఒక వృత్తాకారంలో కేంద్రానికి అభిముఖంగా కూర్చున్నారు. Cకు ఎడమవైపున రెండవ స్థానంలో H కూర్చున్నారు. Aకు కుడివైపున రెండవ స్థానంలో U కూర్చున్నారు. Tకు తక్షణం కుడివైపున B కూర్చున్నారు. Tకు ఎడమవైపున రెండవ స్థానంలో C కూర్చున్నారు. Hకు తక్షణం కుడివైపున A కూర్చున్నారు. H మరియు Tలకు తక్షణ పొరుగు ఎవరు?

Options :

1. ✘ A

2. ✔ B

3. ✘ C

4. ✘ U

**Question Number : 133 Question Id : 630680399878 Is Question Mandatory : No Calculator :
None Response Time : N.A Think Time : N.A Minimum Instruction Time : 0**

Correct Marks : 1 Wrong Marks : 0.33

Select the term from among the given options that can replace the question mark (?) in the following series.

YLZ, UNU, QQP, MUK, ?

Options :

1. ✘ JYF

2. ✔ IZF

3. ✘ JZE

4. ✘ IYF

**Question Number : 133 Question Id : 630680399878 Is Question Mandatory : No Calculator :
None Response Time : N.A Think Time : N.A Minimum Instruction Time : 0**

Correct Marks : 1 Wrong Marks : 0.33

కింది శ్రేణిలో ప్రశ్న గుర్తు (?)ని భర్తీ చేయగల పదాన్ని ఇవ్వబడిన ఎంపికల నుండి ఎంచుకోండి.

YLZ, UNU, QQP, MUK, ?

Options :

1. ✘ JYF

2. ✔ IZF

3. ✘ JZE

4. ✘ IYF

Question Number : 134 Question Id : 630680399879 Is Question Mandatory : No Calculator :

None Response Time : N.A Think Time : N.A Minimum Instruction Time : 0

Correct Marks : 1 Wrong Marks : 0.33

Two statements are given, followed by two conclusions numbered I and II. Assuming the statements to be true, even if they seem to be at variance with commonly known facts, decide which of the following conclusions logically follow(s) from the statements.

Statements:

No grape is an orange.

All blueberries are grapes .

Conclusions:

I. Some oranges are blueberries .

II. No orange is a blueberry .

Options :

1. ✘ Only I follows

2. ✔ Only II follows

3. ✘ Both I and II follow

4. ✘ Neither I nor II follows

Question Number : 134 Question Id : 630680399879 Is Question Mandatory : No Calculator :

None Response Time : N.A Think Time : N.A Minimum Instruction Time : 0

Correct Marks : 1 Wrong Marks : 0.33

రెండు ప్రకటనలు ఇవ్వబడ్డాయి, తర్వాత I మరియు II సంఖ్యలతో రెండు తీర్మానాలు ఇవ్వబడ్డాయి. ప్రకటనలు నిజమని ఊహిస్తూ, అవి సాధారణంగా తెలిసిన వాస్తవాలతో విబేదిస్తున్నట్లు అనిపించినప్పటికీ, ప్రకటనలను తార్కికంగా అనుసరించే తీర్మానం (లు) ఏదో (వో) నిర్ణయించండి.

ప్రకటనలు:

ద్రాక్ష ఏదీ నారింజ కాదు.

అన్ని భూబెర్రీలు ద్రాక్షలు.

తీర్మానాలు:

I. కొన్ని నారింజలు భూబెర్రీలు.

II. నారింజ ఏదీ ఒక భూబెర్రీ కాదు.

Options :

1. ✘ I మాత్రమే అనుసరిస్తుంది
2. ✔ II మాత్రమే అనుసరిస్తుంది
3. ✘ I మరియు II రెండూ అనుసరిస్తాయి
4. ✘ I కానీ లేదా II కానీ అనుసరించదు

Question Number : 135 Question Id : 630680399880 Is Question Mandatory : No Calculator :

None Response Time : N.A Think Time : N.A Minimum Instruction Time : 0

Correct Marks : 1 Wrong Marks : 0.33

six statements are given, followed by three conclusions numbered I, II and III. Assuming the statements to be true, even if they seem to be at variance with commonly known facts, decide which of the conclusions logically follow(s) from the statements.-

Statements:

Only a few bats are bottles.

All bats are squares.

No square is cloud.

But some cloud is a bottle.

Some cloud is also a ball.

Conclusions:

I. All cloud are bottles.

II. Some squares can be bottles is a possibility.

III. All bottles are balls

Options :

1. ✘ Only I follows

2. ✔ Only II follows

3. ✘ Both I and III follow

4. ✘ Neither I , II, III follow

Question Number : 135 Question Id : 630680399880 Is Question Mandatory : No Calculator :

None Response Time : N.A Think Time : N.A Minimum Instruction Time : 0

Correct Marks : 1 Wrong Marks : 0.33

ఆరు ప్రకటనలు, వాటిని అనుసరిస్తూ I, II మరియు III సంఖ్యలతో మూడు తీర్మానాలు ఇవ్వబడ్డాయి. ప్రకటనలు నిజమని భావించి, అవి సాధారణంగా తెలిసిన వాస్తవాలతో విభేదిస్తున్నట్లు అనిపించినప్పటికీ, ప్రకటనల నుండి తార్కికంగా అనుసరించే తీర్మానం(లు) ఏదో(వే) నిర్ణయించండి.-

ప్రకటనలు:

కొన్ని గబ్బిలాలు మాత్రమే సీసాలు.

గబ్బిలాలన్నీ చతురస్రాలు.

చతురస్రం ఏదీ మేఘం కాదు.

కానీ కొంత మేఘం ఒక సీసా.

కొంత మేఘం ఒక బంతి కూడా.

తీర్మానాలు:

I. అన్ని మేఘాలు సీసాలు.

II. కొన్ని చతురస్రాలు సీసాలు కావచ్చు.

III. అన్ని సీసాలు బంతులు

Options :

1. ✘ I మాత్రమే అనుసరిస్తుంది
2. ✔ కేవలం II మాత్రమే అనుసరిస్తుంది
3. ✘ I మరియు III రెండూ అనుసరిస్తాయి
4. ✘ I, II, III ఏవీ అనుసరించవు

Question Number : 136 Question Id : 630680399881 Is Question Mandatory : No Calculator :

None Response Time : N.A Think Time : N.A Minimum Instruction Time : 0

Correct Marks : 1 Wrong Marks : 0.33

Six students A,B,C,D,E and F participated in a test of 300 marks, C scored 60% marks which are 20% higher than that of E. Ratio of Marks obtained by A,B and F is 10:6:5 respectively. D scored 50% more marks than E who scored same marks as by B.

If passing marks is 35% of maximum marks then marks scored by D at what percent more than the passing marks. (upto two decimals)

Options :

1. ✘ 111.35

2. ✘ 112.29

3. ✔ 114.29

4. ✘ 116.35

**Question Number : 136 Question Id : 630680399881 Is Question Mandatory : No Calculator :
None Response Time : N.A Think Time : N.A Minimum Instruction Time : 0**

Correct Marks : 1 Wrong Marks : 0.33

ఆరుగురు విద్యార్థులు A,B,C,D,E మరియు Fలు 300 మార్కులు గల ఒక పరీక్షలో పాల్గొన్నారు, C అను విద్యార్థి 60% మార్కులు సాధించారు, ఇది E కంటే 20% ఎక్కువ. A,B మరియు F అను విద్యార్థులు పొందిన మార్కుల నిష్పత్తి వరుసగా 10:6:5. B సాధించిన అదే మార్కులను పొందిన E కంటే D 50% ఎక్కువ మార్కులు సాధించాడు.

ఉత్తీర్ణత మార్కులు గరిష్ట మార్కులలో 35% అయితే, ఉత్తీర్ణత మార్కుల కంటే D ఎంత ఎక్కువ మార్కులు సాధించారు. (రెండు దశాంశాల వరకు)

Options :

1. ✘ 111.35

2. ✘ 112.29

3. ✔ 114.29

4. ✘ 116.35

Question Number : 137 Question Id : 630680399882 Is Question Mandatory : No Calculator :

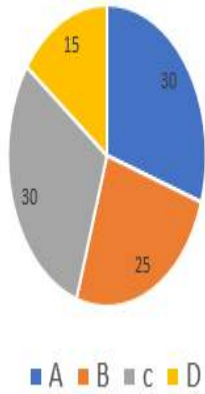
None Response Time : N.A Think Time : N.A Minimum Instruction Time : 0

Correct Marks : 1 Wrong Marks : 0.33

Pie chart shows the income distribution of 4 earning persons in a family out of total family income in the year 2020.

Read the data carefully and answer the questions.

Distribution (Percentage)of Total family income in
2020



If income of B and D increased by 10% and 20% in the year 2021 over the previous year, then find the ratio of total income of B and D together in 2020 to that of 2021 is:

Options :

1. ✘ 7.1:8

2. ✔ 8:9.1

3. ✘ 10:12

4. ✘ 11:5.2

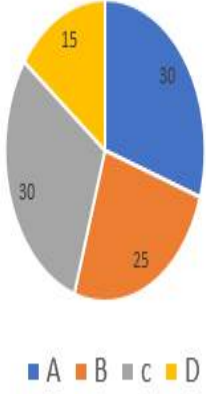
Question Number : 137 Question Id : 630680399882 Is Question Mandatory : No Calculator :

None Response Time : N.A Think Time : N.A Minimum Instruction Time : 0

Correct Marks : 1 Wrong Marks : 0.33

ఈ క్రింద ఇవ్వబడిన 'పై-చార్ట్' 2020 సంవత్సరంలో మొత్తం కుటుంబ ఆదాయంలో ఒక కుటుంబంలో సంపాదించే 4గురు వ్యక్తుల ఆదాయ విభజనను చూపుతుంది. డేటాను జాగ్రత్తగా చదివి, ప్రశ్నలకు సమాధానం ఇవ్వండి.

2020లో మొత్తం కుటుంబ ఆదాయం పంపిణీ (శాతం).



2021 సంవత్సరంలో B మరియు D ఆదాయం మునుపటి సంవత్సరం కంటే 10% మరియు 20% పెరిగితే, 2020లో B మరియు D మొత్తం ఆదాయం నిష్పత్తిని 2021కి కనుగొనండి.

Options :

1. ✘ 7:1:8

2. ✔ 8:9:1

3. ✘ 10:12

4. ✘ 11:5:2

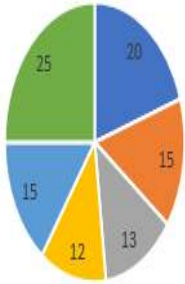
Question Number : 138 Question Id : 630680399883 Is Question Mandatory : No Calculator :

None Response Time : N.A Think Time : N.A Minimum Instruction Time : 0

Correct Marks : 1 Wrong Marks : 0.33

The chart shows the investment of a government entity (in crores) in different sectors. The total investment is Rs.1000crores.

Total investment= Rs.1000crores



- Food and grain sector ■ Development sector
- Banking sector ■ Insurance sector
- Railway sector ■ Defence sector

Find the ratio of average investment on Banking and Defence sectors to the average investment on insurance, Railway and Development Sectors.

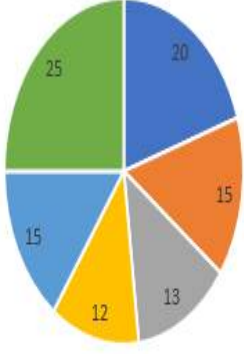
Options :

1. ✘ 15:17
2. ✘ 17:25
3. ✘ 17:22
4. ✔ 19:14

**Question Number : 138 Question Id : 630680399883 Is Question Mandatory : No Calculator :
None Response Time : N.A Think Time : N.A Minimum Instruction Time : 0
Correct Marks : 1 Wrong Marks : 0.33**

ఈ క్రింది చార్ట్ వివిధ రంగాలలో ప్రభుత్వ సంస్థ (కోట్లలో) పెట్టుబడిని చూపుతుంది. మొత్తం పెట్టుబడి రూ.1000కోట్లు.

మొత్తం పెట్టుబడి= రూ.1000కోట్లు



- ఆరోగ్య మరియు ధాన్యాల రంగం
- అభివృద్ధి రంగం
- బీమా రంగం
- బ్యాంకింగ్ రంగం
- రైల్వే రంగం
- రక్షణ రంగం

బీమా, రైల్వే మరియు అభివృద్ధి రంగాలపై సగటు పెట్టుబడికి బ్యాంకింగ్ మరియు రక్షణ రంగాలపై సగటు పెట్టుబడి నిష్పత్తిని కనుగొనండి.

Options :

1. ✘ 15:17

2. ✘ 17:25

3. ✘ 17:22

4. ✔ 19:14

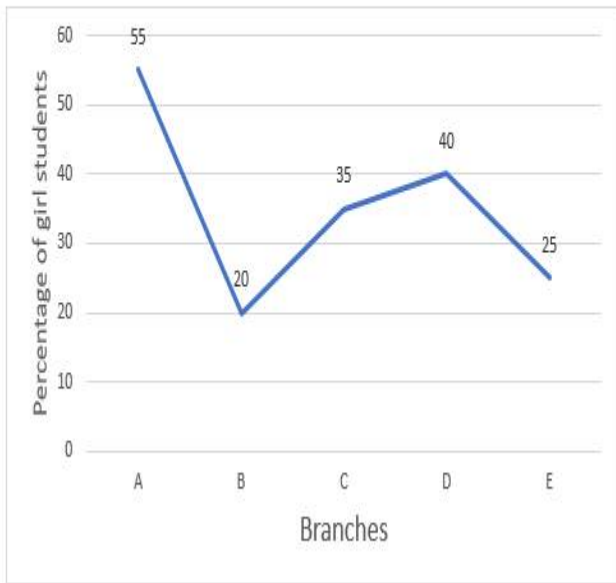
Question Number : 139 Question Id : 630680399884 Is Question Mandatory : No Calculator :

None Response Time : N.A Think Time : N.A Minimum Instruction Time : 0

Correct Marks : 1 Wrong Marks : 0.33

This graph shows percentage of girls out of total students in five different branches of Engineering college are A,B,C,D and E. Total number of students in each branch is 200.

Total number of students in each Branch = No of boys + No of girls.



Find out the difference between the total number of boys and total number of girls in all the branches together.

Options :

1. ✘ 250

2. ✘ 280

3. ✔ 300

4. ✘ 310

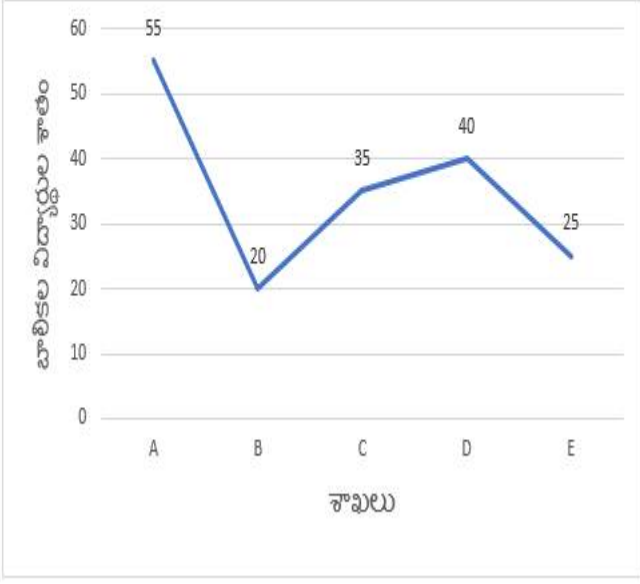
Question Number : 139 Question Id : 630680399884 Is Question Mandatory : No Calculator :

None Response Time : N.A Think Time : N.A Minimum Instruction Time : 0

Correct Marks : 1 Wrong Marks : 0.33

ఈ క్రింది గ్రాఫ్ ఇంజనీరింగ్ కళాశాలలోని ఐదు వేర్వేరు బ్రాంచ్లు A,B,C,D మరియు Eలలోని మొత్తం విద్యార్థులలో అమ్మాయిల శాతాన్ని చూపుతుంది. ఒక్కో బ్రాంచ్లోని మొత్తం విద్యార్థుల సంఖ్య 200.

ప్రతి బ్రాంచ్లోని మొత్తం విద్యార్థుల సంఖ్య = అబ్బాయిల సంఖ్య + అమ్మాయిల సంఖ్య.



అన్ని బ్రాంచ్లలో కలిపి మొత్తం అబ్బాయిల సంఖ్య మరియు మొత్తం అమ్మాయిల సంఖ్య మధ్య వ్యత్యాసాన్ని కనుగొనండి.

Options :

1. ✘ 250

2. ✘ 280

3. ✔ 300

4. ✘ 310

Question Number : 140 Question Id : 630680399885 Is Question Mandatory : No Calculator :

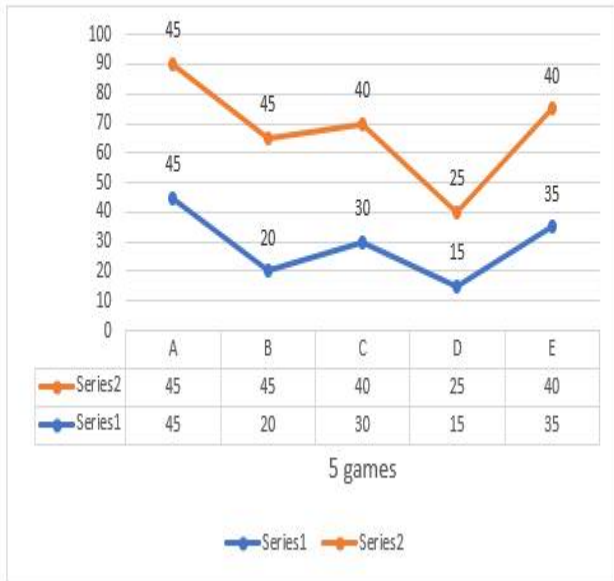
None Response Time : N.A Think Time : N.A Minimum Instruction Time : 0

Correct Marks : 1 Wrong Marks : 0.33

The chart shows the total number of students (in '00) who play 5 different games namely A,B,C,D and E and percentage of girls playing in these games

Series 1 : Total number of students, Series 2 : % of girl students

$$\% \text{ of girls playing any game} = \frac{\text{Number of girls playing that game}}{\text{Number of total students playing that game}} \times 100$$



Average number of girls playing A,B and D is what percent more or less than boys playing B and C together. (upto two decimals)

Options :

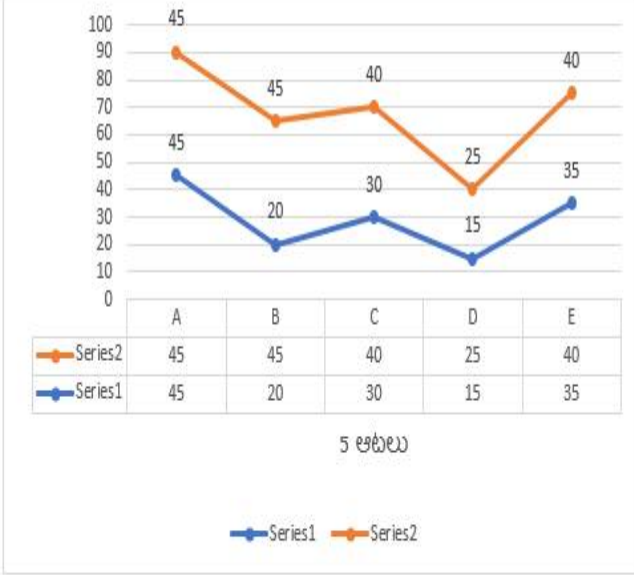
1. ✘ 58.04
2. ✘ 60.52
3. ✔ 62.07
4. ✘ 63.25

Question Number : 140 Question Id : 630680399885 Is Question Mandatory : No Calculator : None Response Time : N.A Think Time : N.A Minimum Instruction Time : 0 Correct Marks : 1 Wrong Marks : 0.33

ఈ క్రింది చార్ట్ A,B,C,D మరియు E అనే 5 విభిన్న ఆటలను ఆడే మొత్తం విద్యార్థుల సంఖ్య ('00లలో) మరియు ఈ ఆటలలో ఆడే బాలికల శాతాన్ని చూపుతుంది

శ్రేణి 1 : మొత్తం విద్యార్థుల సంఖ్య, శ్రేణి 2 : బాలికల %

$$\text{ఏదైనా ఆట ఆడే బాలికల \%} = \frac{\text{ఆ ఆట ఆడే అమ్మాయిల సంఖ్య}}{\text{ఆ గేమ్ ఆడే మొత్తం విద్యార్థుల సంఖ్య}} \times 100$$



A,B మరియు D ఆడుతున్న అమ్మాయిల సగటు సంఖ్య B మరియు C కలిసి ఆడే అమ్మాయిల కంటే ఎంత శాతం ఎక్కువ లేదా తక్కువ. (రెండు దశాంశాల వరకు)

Options :

1. ✘ 58.04
2. ✘ 60.52
3. ✔ 62.07
4. ✘ 63.25

Question Number : 141 Question Id : 630680399886 Is Question Mandatory : No Calculator : None Response Time : N.A Think Time : N.A Minimum Instruction Time : 0 Correct Marks : 1 Wrong Marks : 0.33

The table given below shows the number of students enrolled in 4 different engineering colleges A, B, C and D over the years. Study the data carefully and answer the following question.

YEAR	COLLEGES			
	Number of students in A	Number of students in B	Number of students in C	Number of students in D
2018	550	400	450	300
2019	500	300	600	400
2020	650	450	550	500
2021	250	300	350	400

In the year 2019, if 25% students of college B enrolled in ECE, 35% students enrolled in CSE and remaining students enrolled in IT, then find the difference between the number of students who enrolled in IT and ECE is:

Options :

1. ✘ 43

2. ✔ 45

3. ✘ 46

4. ✘ 47

Question Number : 141 Question Id : 630680399886 Is Question Mandatory : No Calculator :

None Response Time : N.A Think Time : N.A Minimum Instruction Time : 0

Correct Marks : 1 Wrong Marks : 0.33

A, B, C మరియు D సంవత్సరాలలో నమోదు చేసుకున్న విద్యార్థుల సంఖ్యను చూపుతుంది . దత్తాంశాన్ని జాగ్రత్తగా అధ్యయనం చేసి, ఈ క్రింది ప్రశ్నకు సమాధానం ఇవ్వండి.

సంవత్సరం	కళాశాలలు			
	A లోని విద్యార్థుల సంఖ్య	B లోని విద్యార్థుల సంఖ్య	C లోని విద్యార్థుల సంఖ్య	D లోని విద్యార్థుల సంఖ్య
2018	550	400	450	300
2019	500	300	600	400
2020	650	450	550	500
2021	250	300	350	400

2019 సంవత్సరంలో, కాలేజీ B యొక్క 25% మంది విద్యార్థులు ECEలో నమోదు చేసుకున్నట్లయితే, 35% మంది విద్యార్థులు CSEలో మరియు మిగిలిన విద్యార్థులు ITలో నమోదు చేసుకున్నట్లయితే, IT మరియు ECEలో నమోదు చేసుకున్న విద్యార్థుల సంఖ్య మధ్య భేదాన్ని కనుగొనండి.

Options :

1. ✘ 43

2. ✔ 45

3. ✘ 46

4. ✘ 47

Question Number : 142 Question Id : 630680399887 Is Question Mandatory : No Calculator :

None Response Time : N.A Think Time : N.A Minimum Instruction Time : 0

Correct Marks : 1 Wrong Marks : 0.33

కింది దత్తాంశానికి మార్కుల వ్యాప్తిని లెక్కించండి

మార్కులు	10-20	20-30	30-40	40-50	50-60
విద్యార్థుల సంఖ్య	8	10	12	8	4

Options :

1. ✓ 50

2. ✘ 55

3. ✘ 60

4. ✘ 65

Question Number : 142 Question Id : 630680399887 Is Question Mandatory : No Calculator :

None Response Time : N.A Think Time : N.A Minimum Instruction Time : 0

Correct Marks : 1 Wrong Marks : 0.33

Calculate the Range of marks to the following data

Marks	10-20	20-30	30-40	40-50	50-60
No. Of students	8	10	12	8	4

Options :

1. ✓ 50

2. ✘ 55

3. ✘ 60

4. ✘ 65

Question Number : 143 Question Id : 630680399888 Is Question Mandatory : No Calculator :

None Response Time : N.A Think Time : N.A Minimum Instruction Time : 0

Correct Marks : 1 Wrong Marks : 0.33

If the standard deviation and the mean of the distribution is 20 and 25 respectively, find the Co-efficient of variation.

Note: For this question, discrepancy is found in question/answer. So, this question is ignored for all candidates.

Options :

1. 75
2. 802
3. 85
4. 90

Question Number : 143 Question Id : 630680399888 Is Question Mandatory : No Calculator :

None Response Time : N.A Think Time : N.A Minimum Instruction Time : 0

Correct Marks : 1 Wrong Marks : 0.33

ప్రామాణిక విచలనం మరియు విభజనం సగటు వరుసగా 20 మరియు 25 అయితే, వైషమ్య గుణకాన్ని కనుగొనండి.

Note: For this question, discrepancy is found in question/answer. So, this question is ignored for all candidates.

Options :

1. 75
2. 802

3. 85

4. 90

**Question Number : 144 Question Id : 630680399889 Is Question Mandatory : No Calculator :
None Response Time : N.A Think Time : N.A Minimum Instruction Time : 0**

Correct Marks : 1 Wrong Marks : 0.33

Find the Geometric mean of 3,4,41 is

Options :

1. ✘ $(292)^{\frac{1}{3}}$

2. ✘ $(192)^{\frac{1}{3}}$

3. ✘ $(392)^{\frac{1}{3}}$

4. ✔ $(492)^{\frac{1}{3}}$

**Question Number : 144 Question Id : 630680399889 Is Question Mandatory : No Calculator :
None Response Time : N.A Think Time : N.A Minimum Instruction Time : 0**

Correct Marks : 1 Wrong Marks : 0.33

3,4,41 యొక్క గుణ మధ్యమం కనుగొనండి :

Options :

1. ✘ $(292)^{\frac{1}{3}}$

2. ✘ $(192)^{\frac{1}{3}}$

3. ✘ $(392)^{\frac{1}{3}}$

4. ✔ $(492)^{\frac{1}{3}}$

Question Number : 145 Question Id : 630680399890 Is Question Mandatory : No Calculator :

None Response Time : N.A Think Time : N.A Minimum Instruction Time : 0

Correct Marks : 1 Wrong Marks : 0.33

For the Assertions (A) and Reasons (R), choose the correct alternative from the given options.

Assertion (A):

Geometric Mean is the best average in the construction of index numbers

Reason(R):

I : This average makes the index numbers to satisfy the time reversal test

II : It gives an equal weight to equal ratio of change.

Options :

1. ✔ A and Reason I&II are true

2. ✘ A is false Reason I&II are true

3. ✘ Both A and Reason I&II are false

4. ✘ A and Reason I are true and Reason II are false

Question Number : 145 Question Id : 630680399890 Is Question Mandatory : No Calculator :

None Response Time : N.A Think Time : N.A Minimum Instruction Time : 0

Correct Marks : 1 Wrong Marks : 0.33

వాక్యం (A) కారణం (R) లకు సంబంధించి ఇచ్చిన ఐచ్ఛికాల నుంచి సరైన ఐచ్ఛికాన్ని ఎంచుకోండి

వాక్యం (A):

ఇండెక్స్ నంబర్స్ నిర్మాణంలో గుణమధ్యమం ఉత్తమ సగటు

కారణం(R):

I: ఈ సగటు అనేది టైమ్ రివర్సల్ టెస్ట్ ను ఇండెక్స్ నంబర్స్ సంతృప్తి పరిచేలా చేస్తుంది

II: మార్పు సమాన నిష్పత్తికి అది సమాన వెయిట్ ను అందిస్తుంది

Options :

1. ✓ A మరియు కారణం I&II సత్యం

2. ✗ A అసత్యం, కారణం I&II సత్యం

3. ✗ A మరియు కారణం I&II రెండూ అసత్యం

4. ✗ A మరియు కారణం I సత్యం మరియు కారణం II అసత్యం

Question Number : 146 Question Id : 630680399891 Is Question Mandatory : No Calculator :

None Response Time : N.A Think Time : N.A Minimum Instruction Time : 0

Correct Marks : 1 Wrong Marks : 0.33

Find the median of the following data.

18,17,23,48,39,40,49,36

Options :

1. ✗ 34.5

2. ✗ 35.5

3. ✖ 36.5

4. ✔ 37.5

Question Number : 146 Question Id : 630680399891 Is Question Mandatory : No Calculator :

None Response Time : N.A Think Time : N.A Minimum Instruction Time : 0

Correct Marks : 1 Wrong Marks : 0.33

కింది దత్తాంశం మధ్యగతంను కనుగొనండి.

18,17,23,48,39,40,49,36

Options :

1. ✖ 34.5

2. ✖ 35.5

3. ✖ 36.5

4. ✔ 37.5

Question Number : 147 Question Id : 630680399892 Is Question Mandatory : No Calculator :

None Response Time : N.A Think Time : N.A Minimum Instruction Time : 0

Correct Marks : 1 Wrong Marks : 0.33

Find the quartile deviation of the following data (rounded off to two decimal places)

Weight in kg	Number of students
22-24	2
24-26	4
26-28	8
28-30	13
30-32	18
32-34	9
34-36	5
36-38	1

Options :

1. ✘ 1.34

2. ✘ 1.55

3. ✘ 1.73

4. ✔ 1.92

Question Number : 147 Question Id : 630680399892 Is Question Mandatory : No Calculator :

None Response Time : N.A Think Time : N.A Minimum Instruction Time : 0

Correct Marks : 1 Wrong Marks : 0.33

కింది దత్తాంకం చతుర్థాంక విచలనాన్ని కనుగొనండి (రెండు దశాంక స్థానాలకు సవరించబడింది)

బరువు kgలలో	విద్యార్థుల సంఖ్య
22-24	2
24-26	4
26-28	8
28-30	13
30-32	18
32-34	9
34-36	5
36-38	1

Options :

1. ✘ 1.34

2. ✘ 1.55

3. ✘ 1.73

4. ✔ 1.92

Question Number : 148 Question Id : 630680399893 Is Question Mandatory : No Calculator :

None Response Time : N.A Think Time : N.A Minimum Instruction Time : 0

Correct Marks : 1 Wrong Marks : 0.33

The expenditure (in thousand) of 100 families is given below. Mode for the distribution is 26(in thousand), find the missing frequencies.

Expenditure	Number of families
0-10	13
10-20	
20-30	27
30-40	
40-50	16

Options :

1. ✘ 20 and 24
2. ✔ 21 and 23
3. ✘ 18 and 26
4. ✘ 19 and 25

Question Number : 148 Question Id : 630680399893 Is Question Mandatory : No Calculator :

None Response Time : N.A Think Time : N.A Minimum Instruction Time : 0

Correct Marks : 1 Wrong Marks : 0.33

100 కుటుంబాల వ్యయం (వేలలో) క్రింద ఇవ్వబడింది. విభజనం బాహుళకం 26(వేలలో), తప్పిపోయిన

పొసఁపున్యాలను కనుగొనండి.

వ్యయం	కుటుంబాల సంఖ్య
0-10	13
10-20	
20-30	27
30-40	
40-50	16

Options :

1. ✘ 20 మరియు 24

2. ✔ 21 మరియు 23

3. ✘ 18 మరియు 26

4. ✘ 19 మరియు 25

Question Number : 149 Question Id : 630680399894 Is Question Mandatory : No Calculator :

None Response Time : N.A Think Time : N.A Minimum Instruction Time : 0

Correct Marks : 1 Wrong Marks : 0.33

Following table shows the number of students appeared and passed in Board exam from three schools A, B and C.

	A		B		C	
	Appeared	Pass	Appeared	Pass	Appeared	Pass
2015	785	360	612	310	720	410
2016	804	472	608	326	728	480
2017	720	448	636	298	680	390
2018	750	360	655	305	695	396
2019	824	504	640	346	712	424

What is the average number of students passed from all the three schools in the year 2016?

Options :

1. ✘ 380
2. ✘ 408
3. ✘ 420
4. ✔ 426

Question Number : 149 Question Id : 630680399894 Is Question Mandatory : No Calculator :

None Response Time : N.A Think Time : N.A Minimum Instruction Time : 0

Correct Marks : 1 Wrong Marks : 0.33

క్రింది పట్టిక A, B మరియు C మూడు పాఠశాలల నుండి బోర్డ్ పరీక్షకు హాజరైన మరియు ఉత్తీర్ణులైన విద్యార్థుల సంఖ్యను చూపిస్తుంది.

	A		B		C	
	హాజరైనవారు	ఉత్తీర్ణులైనవారు	హాజరైనవారు	ఉత్తీర్ణులైనవారు	హాజరైనవారు	ఉత్తీర్ణులైనవారు
2015	785	360	612	310	720	410
2016	804	472	608	326	728	480
2017	720	448	636	298	680	390
2018	750	360	655	305	695	396
2019	824	504	640	346	712	424

2016 సంవత్సరంలో మూడు పాఠశాలల నుండి ఉత్తీర్ణత సాధించిన విద్యార్థుల సగటు సంఖ్య ఎంత?

Options :

1. ✘ 380

2. ✘ 408

3. ✘ 420

4. ✔ 426

Question Number : 150 Question Id : 630680399895 Is Question Mandatory : No Calculator :

None Response Time : N.A Think Time : N.A Minimum Instruction Time : 0

Correct Marks : 1 Wrong Marks : 0.33

The variance of the mean deviation from the mean of the AP $a, a + d, a + 2d, \dots, a + 2nd$ is :

Options :

1. ✘ $\sqrt{\frac{n(n-1)}{3}d}$

2. ✘ $\sqrt{\frac{n(n+1)}{3}d}$

3. ✘ $\sqrt{\frac{n(n-1)}{3}d^2}$

4. ✔ $\sqrt{\frac{n(n+1)}{3}d^2}$

Question Number : 150 Question Id : 630680399895 Is Question Mandatory : No Calculator :

None Response Time : N.A Think Time : N.A Minimum Instruction Time : 0

Correct Marks : 1 Wrong Marks : 0.33

AP $a, a + d, a + 2d, \dots, a + 2nd$ యొక్క సగటు నుండి సగటు విచలనం యొక్క వ్యత్యాసం:

Options :

1. ✘ $\sqrt{\frac{n(n-1)}{3}}d$

2. ✘ $\sqrt{\frac{n(n+1)}{3}}d$

3. ✘ $\sqrt{\frac{n(n-1)}{3}}d^2$

4. ✔ $\sqrt{\frac{n(n+1)}{3}}d^2$