

Q1. ఈ క్రింది వానిలో చోళుల కాలంలోని సామాజిక-ఆర్థిక జీవితానికి సంబంధించి ఏది సరైనది/వాస్తవమైనది?

1. సామాజిక-మత జీవితంలో వివిధ కులాలు మరియు ఉపకులాల మధ్య సహకారం.
2. మహిళల స్థానం గణనీయంగా మెరుగుపడింది.
3. సతి అన్ని సామాజిక తరగతులలో ప్రబలంగా ఉండేది.

దిగువ ఇచ్చిన కోడ్‌ని ఉపయోగించి సరైన సమాధానాన్ని ఎంచుకోండి:

- (a) 1 మాత్రమే
- (b) 2 మరియు 3 మాత్రమే
- (c) 1 మరియు 2 మాత్రమే
- (d) 1, 2 మరియు 3

Q2. ఈ క్రింది ఇచ్చిన వివరణ నుండి అ వ్యక్తి ఎవరో గుర్తించండి:

1. అతను రాజధాని కనోజ్‌కు వెళ్ళాడు.
2. ప్రియదర్శిక, రత్నావళి, నాగానంద నాటకాలు రచించాడు.
3. అతని కాలంలో, హ్యూయెన్ త్సాంగ్ ఒక చైనా యాత్రికుడు.

- (a) కనిష్క్
- (b) రాజవర్ధన్
- (c) హర్షవర్ధన్
- (d) పులకేశి II

Q3. ఈ క్రింది వానిలో దిగువ నుండి, 'మోక్ష పరిషత్' అని పిలువబడే ప్రతి సంవత్సరం విరాళాల కోసం సమావేశాలను నిర్వహించడంలో ప్రసిద్ధి చెందిన రాజు/పాలకుడిని గుర్తించండి:

- (a) కనిష్క్
- (b) రాజవర్ధన్
- (c) హర్షవర్ధన
- (d) పులకేశి II

Q4. ఈ క్రింది వానిలో తప్పు జత/లని గుర్తించండి:

(రాజు/పాలకుడు) : : (అనుబంధ శాసనం)

1. సముద్రగుప్తుడు - ప్రయాగ / అలహాబాద్ శాసనం
2. చంద్రగుప్తు II - జునాగడ్ రాతి శాసనం

3. స్కందగుప్తుడు - మెహ్రాలీ ఇనుప స్తంభం

(a) కేవలం 1 మాత్రమే

(b) 1 మరియు 2 మాత్రమే

(c) 2 మరియు 3 మాత్రమే

(d) కేవలం 3 మాత్రమే

Q5. ఈ క్రింది వానిలో డిల్లీ సుల్తానేట్ పాలకులను సరైన కాలక్రమానుసారంగా అమర్చండి:

A. మహమ్మద్ బీన్ తుగ్లక్

B. కుతుబుద్దీన్ ఐబక్

C. రజియా సుల్తాన్

D. బాల్బాన్

(a) బి సి డి ఎ

(b) ఎ బి సి డి

(c) డి సి బి ఎ

(d) సి డి బి ఎ

Q6. ఈ క్రింది వానిలో భక్తి సాధువులు ఎవరు:

A. రామానుజ

B. సంత నామ్ దేవ్

C. కబీర్

D. సంత ఏకనాథ్

E. ఖ్వాజా ముయినుద్దీన్ చిస్తీ

(a) ఎ మరియు సి మాత్రమే

(b) B మరియు D మాత్రమే

(c) ఎ, బి, సి, డి మాత్రమే

(d) పై వన్నీ సరి అయినవి

Q7. ఈ క్రింది వాటి నుండి తప్పుగా సరిపోలిన జత/లని గుర్తించండి:

(రచయిత) : : (పుస్తకం పేరు)

A. అశోక్ మెహతా - '1857'

- B. సర్ సయ్యద్ అహ్మద్ ఖాన్ - 'భారత తిరుగుబాటుకు కారణాలు'
C. S. N. సేన్ - '1857 ది గ్రేట్ తిరుగుబాటు'
D. వినాయక్ దామోదర్ సావర్కర్ - '1857 భారతదేశ మొదటి స్వాతంత్ర్య యుద్ధం'

- (a) ఎ మరియు బి
(b) ఎ, బి మరియు సి
(c) ఎ మరియు సి
(d) బి మరియు సి

Q8. ఈ క్రింది ఇచ్చిన వివరణ నుండి ఆ వ్యక్తిని గుర్తించండి:

- A. 1889లో థియోసాఫికల్ సొసైటీలో ప్రవేశించాడు.
B. న్యూ ఇండియా మరియు కామన్వెల్త్ వార్తాపత్రికలను ప్రారంభించాడు.
C. 1917లో కోల్ కతా కాంగ్రెస్ సమావేశానికి మొదటి మహిళా అధ్యక్షురాలు.
D. అడ్యార్లో హోమ్ రూల్ లీగ్ని స్థాపించాడు.

- (a) సరోజినీ నాయుడు
(b) అన్నీ బిసెంట్
(c) అంబికా ముజుందార్
(d) బేగం హజ్రత్ మహల్

Q9. ఈ క్రింది వానిలో ముస్లింలకు ప్రత్యేక నియోజకవర్గాలను ఏ చట్టంలో ఏర్పాటు చేశారు?

- (a) ఇండియన్ కౌన్సిల్స్ చట్టం 1909
(b) మోంటాగు-చెమ్స్ ఫోర్డ్ చట్టం 1919
(c) భారత ప్రభుత్వ చట్టం, 1935
(d) భారత స్వాతంత్ర్య చట్టం, 1947

Q10. ఈ క్రింది ప్రకటనలను పరిగణించండి:

- A. పావర్టీ అండ్ అన్-బ్రిటీష్ రూల్ ఇన్ ఇండియా అనే పుస్తకాన్ని రచించాడు.
B. సొరాబ్జీ షాపూర్జీ సహాయంతో పార్సీ లా అసోసియేషన్ను స్థాపించాడు.
C. కలకత్తాలో జరిగిన కాంగ్రెస్ సమావేశానికి మొదటి పర్షియన్ అధ్యక్షుడు.

దిగువ నుండి, పై ప్రకటనల ద్వారా వివరించబడిన సరైన వ్యక్తిని గుర్తించండి:

- (a) సురేంద్రనాథ్ బెనర్జీ

(b) దాదాభాయ్ నారోజీ

(c) దిన్నా వచ్చా

(d) బర్దుద్దీన్ ఠ్యాబ్జీ

Q11. ఈ క్రింది వాటిని సరైన కాలక్రమానుసారం అమర్చండి:

A. రౌలట్ చట్టం

B. సూరత్ సమావేశం

C. ఖిలాఫత్ ఉద్యమం

D. స్వదేశీ ఉద్యమం

(a) ఎ బి సి డి

(b) డిబిఎ సి

(c) డి ఎ బి సి

(d) బి డి ఎ సి

Q12. ఈ క్రింది వానిలో 'అన్ టు ది లాస్ట్' గుజరాతీ అనువాదానికి గాంధీజీ ఏ టైటిల్ పెట్టారు?

(a) ప్రజా సంక్షేమం

(b) హరిజన

(c) సర్వోదయ

(d) శాశ్వతమైనది, నిత్యమైనది (ఎటర్నల్)

Q13. ఈ క్రింది వానిలో వ్యక్తిగత సత్యాగ్రహంలో రెండవ సత్యాగ్రహి ఎవరు?

(a) వినోబా భావే

(b) మహాత్మా గాంధీ

(c) జవహర్‌లాల్ నెహ్రూ

(d) సుభాష్ చంద్రబోస్

Q14. భారత ప్రభుత్వ చట్టం, 1935 ప్రకారం ఈ క్రింది నిబంధనలలో ఏవి రూపొందించబడ్డాయి:

A. అంశాలను కేంద్ర జాబితా, రాష్ట్ర జాబితా మరియు ఉమ్మడి జాబితాగా విభజించబడ్డాయి.

B. ఈ చట్టం కింద ప్రాంతీయ స్వయంప్రతిపత్తి ప్రవేశపెట్టబడింది.

C. ప్రావిన్సులలో ద్వంద్వ ప్రభుత్వ వ్యవస్థ అమలు చేయబడింది.

D. భారతదేశానికి హైకమిషనర్ పదవిని సృష్టించారు.

(a) ఎ మరియు బి మాత్రమే

(b) కేవలం ఎ

(c) ఎ, బి, సి మాత్రమే

(d) పై వన్నీ సరి అయినవి

Q15. ఈ క్రింది వానిలో భారత స్థానిక స్వపరిపాలన సంస్థలకు ప్రభుత్వ పితామహుడిగా ఎవరు ప్రసిద్ధి చెందారు?

(a) లార్డ్ లిట్టన్

(b) లార్డ్ రిపన్

(c) లార్డ్ కర్జన్

(d) లార్డ్ మేయో

Q16. ఈ క్రింది వానిలో భారతదేశంలో, ఏ చట్టం నుండి ఏకీకృత న్యాయవ్యవస్థను స్వీకరించారు?

(a) ఇండియన్ కౌన్సిల్స్ యాక్ట్ 1861

(b) మోర్లే-మింటో సంస్కరణలు 1909

(c) మోంటాగు-చెమ్స్ఫోర్డ్ చట్టం 1919

(d) భారత ప్రభుత్వ చట్టం 1935

Q17. ఈ క్రింది వానిలో రామచరితమానస్కు సంబంధించి క్రింది ప్రకటనలను పరిశీలించండి?

1. ఈ పద్యం 16వ శతాబ్దంలో సంస్కృతంలో వ్రాయబడింది

2. ఇది ఏడు అధ్యాయాలు (ఖండాలుగా) గా విభజించబడింది, ఇది రాముడు పుట్టినప్పటి నుండి అయోధ్యకు

రాజు అయ్యే వరకు కథను తెలియజేస్తుంది.

పైన ఇచ్చిన ప్రకటనలలో ఏది సరైనది/సరైనవి?

(a) 1 మాత్రమే

(b) 2 మాత్రమే

(c) 1 మరియు 2 రెండూ

(d) 1 లేదా 2 కాదు

Q18. ఈ క్రింది వానిలో మౌర్య సామ్రాజ్యంలోని నాలుగు విభాగాలను మరియు వాటి రాజధానులను సరిపోల్చండి:

'ఎ' గ్రూప్

- A. తూర్పు విభాగం
- B. పశ్చిమ విభాగం
- C. దక్షిణ విభాగం
- D. ఉత్తర విభాగం

'బి' గ్రూప్

- 1. సువర్ణగిరి (కర్ణాటక)
- 2. శ్రావస్తీ (నేపాల్)
- 3. తోషాలి (ఒడిశా)
- 4. కాందహార్ (అఫ్ఘనిస్తాన్)
- 5. ఉజ్జయిని (మధ్యప్రదేశ్)
- 6. తక్షశిలా (పాకిస్తాన్)

A B C D

- (a) 1 5 3 4
- (b) 2 1 6 3
- (c) 1 2 4 3
- (d) 3 5 1 6

(a)a

(b)b

(c)c

(d)d

Q19. ఈ క్రింది వానిని సరైన జత/లని సరిపోల్పండి:

A గ్రూప్

- A. భారీ రాయి
- B. మహా స్నానవాటిక
- C. దున్నిన వ్యవసాయా భూమి

B గ్రూప్

- 1. మొహంజదారో కనుగొనబడింది
- 2. ఖాలిబంగాన్
- 3. దయామాబాద్
- 4. లోధాల్

A B C

- (a) 1 2 3
- (b) 4 1 2
- (c) 1 2 4
- (d) 4 1 3

(a)a

(b)b

(c)c

(d)d

Q20. ఈ క్రింది సంఘటనలను కాలక్రమానుసారంగా అమర్చండి:

A. అశోకుడు మగధ చక్రవర్తి బిరుదును అందుకున్నాడు.

B. చంద్రగుప్తుడు మౌర్య సామ్రాజ్యాన్ని స్థాపించాడు.

C. అశోకుడు కళింగపై దండెత్తాడు.

D. అలెగ్జాండర్ భారతదేశంపై దండెత్తాడు.

(a) B, D, A, C

(b) A, B, C, D

(c) D, B, C, A

(d) C, A, B, D

Q21. ఈ క్రింది వానిలో 8^వ C A.D. శతాబ్దంలో బీహార్‌లోని భాగల్‌పూర్ సమీపంలో విక్రమశిల విశ్వవిద్యాలయాన్ని స్థాపించిన రాజును ఈ క్రింది వాటి నుండి గుర్తించండి:

(a) హర్షవర్ధన

(b) చంద్రగుప్తు మౌర్య

(c) ధర్మపాల

(d) శశాంక్

Q22. ఈ క్రింది గవర్నర్ జనరల్ ను వారి సంబంధిత సంస్కరణలతో సరిపోల్చండి:

- | | |
|-------------------|--------------------|
| A. రాబర్ట్ క్లైవ్ | 1. విద్య |
| B. లార్డ్ బెంటిక్ | 2. పునర్వివాహం |
| C. లార్డ్ డల్హౌసీ | 3. సతి నిషేధం |
| D. లార్డ్ మెకాలే | 4. ద్వంద్వ రాచరికం |

- A B C D
(a) 1 3 2 4
(b) 2 1 4 3
(c) 4 3 2 1
(d) 2 1 3 4

(a)a

(b)b

(c)c

(d)d

Q23. ఈ క్రింద ఇవ్వబడిన వివరణలతో అనుబంధించబడిన వ్యక్తిని గుర్తించండి:

- A. వేదికపై నుంచి స్వరాజ్యం అనే పదాలను మొదట పలికిన వ్యక్తి ఇతనే
B. ఏకం కావాలని, స్వరాజ్యం పొందాలని సందేశం ఇచ్చారు.

(a) వుమేష్ చంద్ర బెనర్జీ

(b) గోఖలే

(c) ఆలమ్ హ్యూమ్

(d) దాదాభాయ్ నారోజీ

Q24. ఈ క్రింది వానిలో భారతదేశ మధ్యయుగ చరిత్రకు సంబంధించి క్రింది ప్రకటనలను పరిగణించండి:

1. 'రాజపుత్ర' అనే పదం రాజపుత్రులకు సంబంధించినది.
2. 'సామంతలు' పెద్ద భూస్వాములు లేదా రాజుల అధీనంలో ఉన్న యోధుల నాయకులు.

పైన ఇచ్చిన ప్రకటనలలో ఏది సరైనది/సరైనవి?

(a) 1 మాత్రమే

(b) 2 మాత్రమే

(c) 1 మరియు 2 రెండూ

(d) 1 లేదా 2 కాదు

Q25. ఈ క్రింది వానిలో వేవెల్ ప్రణాళికకు సంబంధించి సరైన ప్రకటనలను గుర్తించండి?

(a) కేంద్ర మరియు రాష్ట్ర శాసనసభలలో ముస్లింలు, దళితులు మరియు మైనారిటీలకు తగిన ప్రాతినిధ్యం ఇవ్వబడుతుంది.

(b) వైస్రాయ్ కార్యనిర్వహణ బోర్డులో హిందూ-ముస్లిం సభ్యుల సంఖ్య ప్రస్తుతానికి అలాగే ఉంటుంది.

(c) భారతదేశంలోని ప్రధాన రాజకీయ పార్టీల సమావేశం సిమ్లాలో జరిగింది.

(d) పై వన్నీ సరిఅయినవి

Q26. ఈ క్రింది వానిలో జూలై 1, 1908న సోమవంశీ మిత్రును ఎవరు ప్రారంభించారు?

(a) గోపాల్ బాబా వాలంగాకర్

(b) సానె గురూజీ

(c) రాజశ్రీ షాహూ మహారాజ్

(d) శివరామ్ జనబా కాంబ్లే

Q27. ఈ క్రింది వానిలో ముస్లిం సమాజ సంస్కరణకు నాంది పలికిన ఆలోచనాపరులు ఎవరు?

(a) అబ్దుల్ లతీఫ్

(b) అహ్మద్ ఖాన్

(c) అబ్దుల్ కలాం

(d) పై వాటిలో ఏదీ కాదు

Q28. ఈ క్రింది వానిలో వైదిక ప్రభుత్వ వ్యవస్థ నిర్మాణంలోని కొన్ని అంశాలను వాటి పరిపాలనా నిర్మాణం ప్రకారం సరైన ఆరోహణ క్రమాన్ని గుర్తించండి.

(a) జనపద్ - జన్ - విష్

(b) విష్ - జనపద్ - జన్

(c) జన్ - విష్ - జనపద్

(d) విష్ - జన్ - జనపద్

Q29. ఖైన్మతం గురించిన కింది ప్రకటనలను పరిశీలించండి.

A. ప్రజలకు బోధించడానికి యాత్రికుల సమావేశాలను 'సంవాసరణ' అని పిలిచేవారు.

B. వర్ధమాన్ మహావీరు పాళీ భాషలో ప్రజలతో సంభాషించారు, తద్వారా ప్రజలు మతాన్ని సులభంగా అర్థం చేసుకోవచ్చు.

C. జైనమతం ఒక విధి(గమ్య స్థానం)

D. జైనమతం ప్రకారం, 'జ్ఞానం' మోక్షానికి అత్యంత నమ్మదగిన సాధనం కాదు.

సరైన ప్రకటనలను గుర్తించండి

ఎంపికలు:

(a) ఎ మరియు బి మాత్రమే

(b) బి మరియు సి మాత్రమే

(c) A మరియు D మాత్రమే

(d) పై వన్నీ సరి అయినవి

Q30. సిద్ధాంతాలు మరియు అనుబంధ సాధువులకు సంబంధించి దిగువ ఇవ్వబడిన ప్రకటనలలో ఏది సరైనది/వాస్తవమైనది?

1. శంకరులు అద్వైతాన్ని ప్రచారం చేశారు.

2. రామానుజులు విశిష్టాద్వైత సిద్ధాంతాన్ని ప్రతిపాదించారు.

3. మాధవుడు ద్వైతాన్ని ప్రగాఢంగా చేశాడు.

సరైన ఎంపికను ఎంచుకోండి:

(a) 1 మాత్రమే

(b) 1 మరియు 2 మాత్రమే

(c) 2 మరియు 3 మాత్రమే

(d) 1, 2 మరియు 3

Q31. ఈ క్రింది వానిలో భూ అంతర్ నిర్మాణం గురించి కింది ప్రకటనలలో ఏది తప్పుగా ఉంది:

A. భూ పటలం సియోల్ మరియు సిమా అనే రెండు పొరలను కలిగి ఉంటుంది.

B. భూ పటలం కింద ఉండే పొరను మాంటిల్ అంటారు.

(a) కేవలం ఎ మాత్రమే

(b) కేవలం బి మాత్రమే

(c) A మరియు B రెండూ

(d) పై వేవి కావు

Q32. ఈ క్రింది వానిలో సూర్యరహణం ఎప్పుడు ఏర్పడుతుంది

(a) సూర్యుడు, చంద్రుడు మరియు భూమి ఒకే రేఖలో వుండవు

- (b) భూమి సూర్యుడు మరియు చంద్రుని మధ్య వస్తుంది
 (c) భూమి మరియు చంద్రుని మధ్య సూర్యుడు వస్తాడు
 (d) చంద్రుడు సూర్యునికి మరియు భూమికి మధ్య వస్తాడు

Q33. ఈ క్రింది ప్రకటనలలో ఏది సరైనది/సరైనది:

- A. పాత ఒండ్లు మైదాన ప్రాంతాన్ని 'భాబర్' అంటారు.
 B. నదుల లోతట్టు ప్రాంతాలలో కొత్త మట్టి (సిల్ట్) నిక్షేపణను 'ఖాదర్' అంటారు.

- (a) కేవలం ఎ మాత్రమే
 (b) కేవలం బి మాత్రమే
 (c) A మరియు B రెండూ మాత్రమే
 (d) పై వేవీ కాదు

Q34. ఈ క్రింది వానిలో సరైన జంటను గుర్తించండి:

- (a) బనిహాల్ కనుమ → హిమాచల్ ప్రదేశ్
 (b) పిప్పిలా కనుమ → జమ్మూ మరియు కాశ్మీర్
 (c) నాథు-లా కనుమ → ఉత్తరాఖండ్
 (d) దిహాంగ్ కనుమ → అరుణాచల్ ప్రదేశ్

Q35. ఈ క్రింది వానిలో భూకంప తరంగానికి సంబంధించి ఏ ప్రకటన సరైనది:

- (a) ద్వితీయ తరంగాలు ధ్వని తరంగాల వంటివి.
 (b) ప్రాథమిక తరంగాలు ద్రవాల ద్వారా ప్రయాణించలేవు.
 (c) ద్వితీయ తరంగాల వేగం ప్రాథమిక తరంగాల కంటే ఎక్కువగా ఉంటుంది.
 (d) ఉపరితల తరంగాలు అత్యంత వినాశకరమైనవి.

Q36. ఈ క్రింది వానిలో జతలలో ఏది సరైనది/సరైనది?

- A. మౌంట్ మిచెల్ → ఉత్తర అమెరికా
 B. K2 → ఆసియా
 C. కొట్‌పాక్స్ → ఆస్ట్రేలియా
 (a) కేవలం ఎ మాత్రమే
 (b) A మరియు B మాత్రమే.
 (c) B మరియు C మాత్రమే

(d) పై వన్నీ సరి అయినవి

Q37. ఈ క్రింది వాటిలో ఏ నది నేరుగా సింధు నదిలో కలుస్తుంది:

- (a) చీనాబ్
- (b) సట్లెజ్
- (c) రావి
- (d) జీలం

Q38. ఈ క్రింది వాటిలో భారతదేశ సందర్భంలో సర్గోల్, దిద్వానా, కుచమన్ మరియు ఖాటు పేర్లు ఏమిటి:

- (a) మడఅడవుల ప్రాంతం
- (b) హిమానీనదం
- (c) ఉప్పు సరస్సు
- (d) రామ్సర్ ప్రాంతం

Q39. ఈ క్రింది వానిలో పసిఫిక్ మహాసముద్రంతో సంబంధం లేని సముద్ర ప్రవాహం ఏది?

- (a) కురోషియో ప్రవాహం
- (b) కాలిఫోర్నియా ప్రవాహం
- (c) గల్ఫ్ ప్రవాహం
- (d) హంబోల్ట్ ప్రవాహం

Q40. ఈ క్రింది వానిలో తప్పు జంటను గుర్తించండి:

- (a) నీలి విప్లవం - చేప
- (b) శ్వేత విప్లవం - పాలు
- (c) బంగారు(స్వర్ణ) విప్లవం - గుడ్లు
- (d) పసుపు విప్లవం - నూనె గింజలు

Q41. ఈ క్రింది ప్రకటనలలో ఏది సరైనది:

A. ఉష్ణమండల సతత హరిత అడవులు 250 సెం.మీ కంటే ఎక్కువ వర్షపాతం ఉన్న ప్రాంతాల్లో కనిపిస్తాయి.

B. ఉష్ణమండల సతత హరిత అడవులలో టేకు, బెరడు, నువ్వులు, మోహ ఉన్నాయి.

- (a) కేవలం ఎ మాత్రమే
- (b) కేవలం బి మాత్రమే
- (c) రెండూ సరైనవే

(d) పై వేవి కావు

Q42. ఈ క్రింది వానిలో సముద్రపు అలల కోత వలన ఏ భూ స్వరూపాలు ఏర్పడవు?

(a) సముద్రపు శిఖరాలు

(b) సముద్ర గుహలు

(c) సముద్ర వంపు

(d) త్వరిత ఇసుక(వేగంగా ఇసుక మెటలు)

Q43. ఈ క్రింది వానిలో నర్మదా-తాపి నదీ పరీవాహక ప్రాంతాలు ఏ పర్వత శ్రేణుల ద్వారా వేరు చేయబడ్డాయి:

(a) సత్మల -అజంతా

(b) సాత్పుర పర్వతాలు

(c) శంభుమహాదేవ్

(d) హరిశ్చంద్ర బాలాఘాట్

Q44. ఈ క్రింది వానిలో ఒకే జాతికి చెందిన భౌగోళికంగా వేరు చేయబడిన జాతులను ఏమని _____ అంటారు.

(a) ఆధిపత్యం

(b) జంతుజాలం జాతులు

(c) గోపురాలు / ప్రాదేశిక జనాభా

(d) ఎకోటోన్

Q45. ఈ క్రింది ప్రకటనలలో ఏది సరైనది:

A. శక్తి మార్పిడి యొక్క ప్రతి స్థాయిలో, శక్తి తగ్గుతుంది.

B. శక్తి యొక్క పిరమిడ్ ఎల్లప్పుడూ నిటారుగా ఉంటుంది.

(a) కేవలం ఎ మాత్రమే

(b) కేవలం బి మాత్రమే

(c) రెండు ప్రకటనలు

(d) పై వేవీ కాదు

Q46. ఈ క్రింది వానిలో వాతావరణంలోని ట్రోపోఆవరణం గురించి సరి కానీ ప్రకటనను గుర్తించండి.

(a) ట్రోపో ఆవరణం అనేది భూ వాతావరణంలోని పొర.

(b) ట్రోపో ఆవరణం యొక్క సగటు పరిధి 13 కి.మీ.

(c) ఈ ఆవరణం తుఫానులు, మేఘాలు, వర్షం మొదలైన వాటి వలన ఏర్పడతాయి.

(d) ట్రోపో ఆవరణలో ఎత్తు పెరిగే కొలది ఉష్ణోగ్రత పెరుగుతుంది.

Q47. ఈ క్రింది వాటిలో మేఘ విస్ఫోటనం గురించి సరైన ప్రకటనలను గుర్తించండి.

A. మేఘ విస్ఫోటనంలో అనేది భారీ వర్షం యొక్క రూపం.

B. మేఘ విస్ఫోటనంలో, నేలపై పడే వర్షపు చినుకులు బలమైన పై గాలుల ద్వారా ఎగిరిపోతాయి, తరువాత తక్కువ ఉష్ణోగ్రతల వద్ద బిందువులు వడగళ్ళుగా మారుతాయి.

C. మేఘాలు వడగళ్ళతో కలిసి అకస్మాత్తుగా కుండపోత వర్షాలుగ కురుస్తాయి .

(a) ఎ మరియు సి

(b) సి మాత్రమే

(c) బి మాత్రమే

(d) పై వన్నీ సరి అయినవి

Q48. ఈ క్రింది వానిలో భూమి ఉపరితలం వద్ద గాలి పీడనం ఎక్కువగా ఉంటుంది. భూమి ఉపరితలం పైకి ఎగబాకుతున్న కొద్దీ గాలి పీడనం తగ్గుతుంది. పై ప్రకటనను పరిగణించండి

(a) పై ప్రకటన పాక్షికంగా నిజం.

(b) పై ప్రకటన పూర్తిగా నిజం.

(c) పై ప్రకటన పాక్షికంగా అవాస్తవం.

(d) పై ప్రకటన పూర్తిగా అవాస్తవం.

Q49. ఈ క్రింది వానిలో సరైన ప్రకటనను గుర్తించండి.

A. భౌగోళిక లక్షణాలు - భూరూపాలు, పండుగలు, నీటి వనరులు, అడవులు

B. సామాజిక / సాంస్కృతిక - భాష, పండుగలు, వేడుకలు, దుస్తులు

C. భౌగోళిక లక్షణాలు - అడవులు, భూరూపాలు, నీటి వనరులు

D. సామాజిక-సాంస్కృతిక - భాష, పండుగలు, దుస్తులు, అడవులు

(a) ఎ మరియు బి

(b) బి మరియు డి

(c) ఎ మరియు సి

(d) బి మరియు సి

Q50. ఈ క్రింది వానిలో అగ్ని పర్వత శిలల గురించిన ఇచ్చిన ప్రకటనలను చదివి సరి అయిన దానిని గుర్తించండి.

A. భూమి లోపల ఉన్న పదార్థాన్ని బట్టి అగ్నిపర్వత శిల ఏర్పడుతుంది.

- B. అగ్ని పర్వత శిలలు బరువు తక్కువగా ఉంటాయి
 C. మహారాష్ట్ర పీఠభూమి మరియు సహ్యాద్రి అగ్నిపర్వత శిలలతో కూడి ఉంది
 D. బసాల్ట్ అగ్నిపర్వత శిలలలో ప్రధానమైన శిల
 (a) ఎ, బి, సి
 (b) బి, సి, డి
 (c) ఎ, సి, డి
 (d) ఎ, బి, డి

Q51. ఈ క్రింది వానిలో సరైన ప్రకటనలను గుర్తించండి

- A. సుందర్బన్స్ ఏర్పడటం - గంగా నది ముఖద్వారం దగ్గర ప్రపంచంలోనే అతిపెద్ద త్రిభుజాకార మైదాన ప్రాంతం.
 B. బ్రహ్మపుత్ర నది ఒక పశ్చిమ ఉపనది ఇది అరేబియా సముద్రంలో కలుస్తుంది
 C. గంగా మరియు బ్రహ్మపుత్ర నదులు బంగాదేశ్ లో ప్రవహిస్తాయి.
 D. గంగా మరియు బ్రహ్మపుత్ర నదుల సంగమం నుండి మజులి ద్వీపం ఏర్పడటం జరిగినది

- (a) A,B
 (b) A, C
 (c) B,C
 (d) B, D

Q52. ఈ క్రింది వానిలో భారతదేశంలోని పీఠభూమిలో ప్రధానంగా కనిపించేవి ఏవి -----

- A. ఆకురాల్చే అడవులు
 B. పశ్చిమ బయళ్ళు , చందనం
 C. ఔషధ అడవులు
 D. పొడి వాతావరణం

- (a) A,B,C
 (b) B,C,D
 (c) A,B,D
 (d) పై వన్నీ సరి అయినవి

Q53. ఈ క్రింది వానిలో ఆర్థిక అభివృద్ధికి సంబంధించిన జనాభా పరివర్తన యొక్క కొన్ని నిర్దిష్ట దశలు క్రింద ఉన్నాయి

A. తక్కువ జనన రేటు మరియు తక్కువ మరణాల రేటు

B. అధిక జనన రేటు మరియు అధిక మరణాల రేటు

C. అధిక జనన రేటు మరియు తక్కువ మరణాల రేటు

కింది సూచనలను ఉపయోగించి ఈ రాష్ట్రాల సరైన క్రమాన్ని ఎంచుకోండి

(a) B,C,A

(b) C,B,A

(c) A,B,C

(d) B,A,C

Q54. ఈ క్రింది వానిలో గోదావరి నదికి కుడివైపునకు వచ్చే ఉపనదుల సరైన క్రమాన్ని ఎంచుకోండి.

(a) దారణ - ప్రవర - మూల - సింధ్యన - మంజీర

(b) పూర్ణ - పెన్ గంగా - వార్ధా - వైన్ గంగా - ఇంద్రావతి

(c) మంజీర - బిందుసార - సింధ్యన - డర్నా

(d) ప్రవర - బిందుసార - ఖమ్ - ఎస్. పూర్ణ - ప్రాణహిత

Q55. ఈ క్రింది వానిలో ఇసుక నేలల యొక్క సరైన లక్షణాలను గుర్తించండి?

A. ఈ నేలల్లో లవణాలు మరియు సిలికా పుష్కలంగా ఉంటాయి.

B. చిరు ధాన్యాలు, నువ్వులు ఈ నేలలో పండుతాయి.

C. ఈ ప్రాంతంలోని మొక్కల బెరడు మందంగా ఉంటుంది

D. ఈ మొక్క యొక్క మూలాలు చాలా లోతుగా ఉండవు

(a) ఎ, బి, సి

(b) బి, సి, డి

(c) ఎ, సి, డి

(d) ఎ, బి, డి

Q56. ఈ క్రింది వానిలో బొగ్గు లేదా శక్తి వనరు గురించి సరైన ప్రకటనను పేర్కొనండి

A. ఈ ఖనిజం సేంద్రీయ స్థరీకరించిన పొరలలో కనిపిస్తుంది

B. ఇది తారు, కోక్, రంగులను ఉత్పత్తి చేస్తుంది

C. ప్రపంచంలో భారతదేశం మూడవ స్థానంలో మరియు చైనా మొదటి స్థానంలో ఉంది

D. ఈ ఖనిజాలు మొక్కలలోని కార్బన్ నుండి ఏర్పడతాయి

- (a) A,B,C
- (b) B,C,D
- (c) A,C,D
- (d) A,B,C,D

Q57. ఈ క్రింది వానిలో మాల్డస్ ఉచ్చు అనగా?

- (a) జనాభా పెరుగుదల మరియు ఆహార ఉత్పత్తి నిష్పత్తి స్థిరంగా లేనందున జనాభా పెరుగుదలకు ఆటంకం ఏర్పడింది.
- (b) ఆర్థిక వ్యవస్థ వృద్ధి చెందుతున్నందున, దాని తలసరి ఆదాయం స్థిరంగా ఉంటుంది.
- (c) ఆర్థిక వ్యవస్థ యొక్క తలసరి ఆదాయం పెరుగుతున్న కొద్దీ, జనాభా కూడా పెరుగుతుంది.
- (d) తలసరి ఆహార లభ్యతకు జనాభా పెరుగుదలతో సంబంధం లేదు.

Q58. ఈ క్రింది ప్రకటనలను పరిగణించండి.

- A. పమీర్ నాట్ ఆప్టనిస్టాన్ మరియు తజికిస్థాన్లలో ఉంది.
- B. హిమాలయాలు, కారాకోరం, కున్లున్ మరియు హిందూ కుష్ పర్వత శ్రేణులు ఈ పీఠభూమిలో కలుస్తాయి.
- C. హిందూ కుష్ ఉత్తరాన సోలమన్ పర్వతాలు ఉన్నాయి.

పై ప్రకటనలలో ఏది సరి అయినది కాదు?

- (a) కేవలం A మాత్రమే
- (b) A,C మాత్రమే
- (c) C మాత్రమే
- (d) పై వాటిలో ఏదీ లేదు

Q59. ఈ క్రింది ప్రకటనలలో ఏది నిజం కాదు?

- A. దక్కన్ పీఠభూమిని పీల్డ్ రీజియన్ ఆఫ్ ఇండియా అని కూడా అంటారు.
- B. దక్కన్ పీఠభూమి సగటు ఎత్తు 200 మీటర్లు.

ఈ క్రింది ఎంపికలను ఎంచుకోండి:

- (a) కేవలం ఎ మాత్రమే
- (b) కేవలం బి మాత్రమే
- (c) రెండూ సరి అయినవి కాదు
- (d) పై రెండు సరి అయినవి

Q60. ఈ కింది వాటిలో ఏ నది 'డెల్టాటిక్ డ్రైనేజ్ ప్యాటర్న్'ని సూచిస్తుంది?

- A. గంగ
- B. కావేరి
- C. గోదావరి
- D. కృష్ణ

ఈ క్రింది ఎంపికలను ఎంచుకోండి :

- (a) A,B మాత్రమే
- (b) A,B,C మాత్రమే
- (c) A,C,D మాత్రమే
- (d) పై వన్నీ సరి అయినవి

Q61. WHO గర్భిణి స్త్రీకి ఎంత మొత్తంలో ఐరన్ మరియు ఫోలిక్ యాసిడ్ ని సిఫార్సు చేస్తుంది?

- (a) ఐరన్ మూలకం 30 mg మరియు 0.3 mg ఫోలిక్ యాసిడ్ రోజుకు
- (b) ఐరన్ మూలకం 40 mg మరియు 0.4 mg ఫోలిక్ యాసిడ్ రోజుకు
- (c) ఐరన్ మూలకం 100 mg మరియు 0.01 mg ఫోలిక్ యాసిడ్ రోజుకు
- (d) ఐరన్ మూలకం 60 mg మరియు 0.4 mg ఫోలిక్ యాసిడ్ రోజుకు

Q62. ఈ క్రింది వానిలో ప్రపంచ లింగ అంతర సూచీ 2023 ప్రకారం, లింగ సమానత్వం విషయంలో భారతదేశం 146 దేశాలలో ఏ _____ స్థానంలో ఉంది.

- (a) 45
- (b) 127
- (c) 132
- (d) 156

Q63. ఈ క్రింది వానిలో లైంగిక నేరాల నుండి పిల్లల రక్షణ చట్టం (POCSO) 2012 లక్ష్యం ఏమిటి:

- (a) అన్ని రకాల లైంగిక వేధింపులు మరియు దోపిడీల నుండి పిల్లలను రక్షించండి
- (b) నేరస్థులకు కఠినమైన చట్టపరమైన విధానాలను రూపొందించడం మరియు బాధితులకు న్యాయం జరిగేలా చూడాలి
- (c) దుర్వినియోగం నుండి బయటపడిన వారికి సహాయ సేవలు మరియు పునరావాసం అందించండి
- (d) పై వన్నీ సరి అయినవి

Q64. మరణించిన తన సోదరుని సంతానం లేని వితంతువుతో ఒక వ్యక్తి వివాహాన్ని ----- అంటారు.

- (a) సొరోరేట్
- (b) లెవిరేట్
- (c) సోరోరల్ బహుభార్యత్వం
- (d) బహుభార్యత్వం

Q65. ఈ కింది జతలలో ఎన్ని సరైనవి:

1. పాలియాండ్రి - పురుషులు ఒకటి కంటే ఎక్కువ మంది భార్యలను వివాహం చేసుకోవచ్చు
2. బహుభార్యత్వం - స్త్రీ ఒకటి కంటే ఎక్కువ మంది భర్తలను వివాహం చేసుకోవచ్చు
3. పేట్రోనిమిక్ - తండ్రి లేదా మగ పూర్వీకుల పేరు నుండి ఉద్భవించిన పేరును సూచిస్తుంది లేదా దానికి సంబంధించినది.
4. సంతానం - సంతానం ఉత్పత్తి; పునరుత్పత్తి.

- (a) ఒకటి మాత్రమే
- (b) రెండు మాత్రమే
- (c) కేవలం మూడు
- (d) మొత్తం నాలుగు

Q66. భారతదేశంలోని _____ ఏ తెగలలో బంధించడం ద్వారా వివాహం ప్రబలంగా ఉంటుంది?

- (a) గోండ్
- (b) సంతాల్
- (c) ఖాసీ
- (d) జాంగ్

Q67. ఈ క్రింది వానిలో _____ బహుభార్యత్వం మరియు బహు బహుభర్తృత్వము కలయికగా దేనిని వర్ణించవచ్చు.

- (a) ఏకభార్యత్వం
- (b) లెవిరేట్
- (c) సొరోరేట్
- (d) సమూహం-వివాహం

Q68. ఈ క్రింది వానిలో ఉమ్మడి కుటుంబ వ్యవస్థ విచ్ఛిన్నానికి సంబంధించి కింది వాటిలో ఏది నిజం కాదు?

- (a) పెరిగిన పట్టణీకరణ ఉంది
- (b) ప్రజలు ఆకర్షణీయమైన నగరాల్లో నివసించాలని కోరుకుంటారు
- (c) గ్రామాల కంటే నగరాలు ఎక్కువ సౌకర్యాలను అందిస్తాయి
- (d) ఇది సామాజిక ధర్మాలను అభివృద్ధి చేయడంలో విఫలమైంది

Q69. J. L. లుబ్జాక్ పేరు క్రింది సిద్ధాంతాలలో దేనితో ముడిపడి ఉంది.

- (a) ఆదిమ ప్రామిస్క్యూయిజం సిద్ధాంతం
- (b) పితృస్వామ్య సిద్ధాంతం
- (c) బహుళ-కారకాల సిద్ధాంతం
- (d) మాతృస్వామ్య సిద్ధాంతం

Q70. ఈ క్రింది వానిలో పునలున్ ----- అని వర్ణించబడింది?

- (a) లైంగిక సంబంధం ఖచ్చితంగా లేని కుటుంబ వ్యవస్థ
- (b) లైంగిక సంబంధం ఖచ్చితంగా ఉండే కుటుంబ వ్యవస్థ
- (c) లైంగిక సంబంధం ఖచ్చితంగా లేని జాతి వ్యవస్థ
- (d) ట్రైబా వ్యవస్థలో లైంగిక సంబంధం ఖచ్చితంగా లేదు

Q71. ఈ క్రింది వాటిలో బంధుత్వం యొక్క లక్షణం ఏది?

- (1) కొన్ని సందర్భాల్లో ఇది నిర్దిష్టంగా ఉంటుంది, మరికొన్నింటిలో ఇది కాదు
- (2) ఇది లైంగికానికి సంబంధించినది
- (3) ఇది సాధారణంగా జనరేషన్ అంతరాన్ని సూచిస్తుంది
- (4) దీనికి ఇద్దరు సంబంధిత వ్యక్తుల మధ్య ఎటువంటి అనుబంధం లేదు

- (a) కేవలం 1
- (b) 2 మరియు 3 మాత్రమే
- (c) 1,2 మరియు 4
- (d) 1,2 మరియు 3

Q72. ఈ క్రింది వానిలో సెక్షన్ 377 కింది కథనాలలో ఏది ఉల్లంఘిస్తుంది:

- (a) ఆర్టికల్ 19
- (b) ఆర్టికల్ 21
- (c) ఆర్టికల్ 18

(d) ఆర్థికల్ 16

Q73. ఈ క్రింది వానిలో మార్క్సియన్ దృక్పథం ప్రకారం _____ సమాజం యొక్క మౌలిక సదుపాయాలను ఏది ఏర్పరుస్తుంది?

(a) ఆర్థిక వ్యవస్థ

(b) మతం

(c) రాజకీయాలు

(d) నమ్మక వ్యవస్థలు

Q74. ఈ క్రింది వానిలో 'నగరం' సాపేక్షంగా పెద్ద, దట్టమైన మరియు సామాజికంగా భిన్నమైన వ్యక్తుల శాశ్వత నివాసంగా ఎవరు నిర్వచించారు?

(a) లే ఫ్లే

(b) లూయిస్ విర్ట్

(c) మర్డాక్

(d) బర్గెస్

Q75. ఈ క్రింది వానిలో వర్గ స్పృహ యొక్క భావన _____ని ఏర్పాటు చేయడానికి అవసరం కానీ _____ కాదు?

(a) తరగతి, కులం

(b) కులం, తరగతి

(c) స్థితి సమూహం, తరగతి

(d) కులం, స్థితి సమూహం

Q76. 'ఈ క్రింది వానిలో సాంస్కృతిక తత్వం' అంటే ఏమిటి?

(a) ప్రపంచం - సమాజం యొక్క దృక్పథం

(b) ప్రపంచం - ప్రజల దృష్టి

(c) ప్రపంచం - సంస్కృతి యొక్క దృశ్యం

(d) లావాదేవీ యొక్క ప్రపంచ దృష్టికోణం

Q77. ఈ క్రింది వానిలో 'పెళ్లి తర్వాత పిల్లలు వస్తారు'. ఈ ప్రకటన సూచిస్తుంది

(a) వివాహానంతర దశ

(b) నిర్మాణ దశ

(c) వివాహ దశ

(d) వివాహానికి ముందు దశ

Q78. ఈ క్రింది వానిలో "గిరిజన జీవితంలో మొత్తం సమాజానికి ప్రధాన సంబంధాలు బంధుత్వంపై ఆధారపడి ఉంటాయి," ఇది ఎవరి అభిప్రాయం?

(a) మాండెల్బామ్

(b) లూసీ మెయిర్

(c) ఎవాన్స్ పెట్చాండ్

(d) రాడ్క్లిఫ్ బ్రౌన్

Q79. ఈ క్రింది వానిలో ఆర్థికల్ 46 తో ఏది వ్యవహరిస్తుంది?

(a) షెడ్యూల్డ్ కులాలు, షెడ్యూల్డ్ తెగలు మరియు ఇతర బలహీన వర్గాల విద్యా మరియు ఆర్థిక ప్రయోజనాలను ప్రోత్సహించడం

(b) షెడ్యూల్డ్ కులాలు, షెడ్యూల్డ్ తెగలు మరియు ఇతర బలహీన వర్గాల సాంస్కృతిక మరియు ఆర్థిక ప్రయోజనాలను ప్రోత్సహించడం

(c) షెడ్యూల్డ్ కులాలు, షెడ్యూల్డ్ తెగలు మరియు ఇతర బలహీన వర్గాల సామాజిక మరియు ఆర్థిక ప్రయోజనాలను ప్రోత్సహించడం

(d) షెడ్యూల్డ్ కులాలు, షెడ్యూల్డ్ తెగలు మరియు ఇతర బలహీన వర్గాల ఆరోగ్యం మరియు ఆర్థిక ప్రయోజనాలను ప్రోత్సహించడం

Q80. ఈ క్రింది వానిలో షెడ్యూల్డ్ తెగల జాతీయ కమిషన్ కు సంబంధించి కింది వాటిలో ఏది సరైనది?

1) ఆర్థికల్ 338-A షెడ్యూల్డ్ తెగల జాతీయ కమిషన్ తో వ్యవహరిస్తుంది.

2) 1999లో కొత్త గిరిజన వ్యవహారాల మంత్రిత్వ శాఖ ఏర్పాటు చేయబడింది.

(a) కేవలం 1

(b) కేవలం 2

(c) 1 మరియు 2 రెండూ

(d) పైవేవి కాదు

Q81. ఈ క్రింది వానిలో ఒకే కులం, ఒక మతం, మనిషికి ఒక దేవుడు ఏ తత్వశాస్త్రం నుండి ప్రచారం చేయబడింది?

(a) అద్వైతం

- (b) ద్వైతం
- (c) విశిష్టాద్వైతం
- (d) ఏదీ లేదు

Q82. ఈ క్రింది వానిలో 'స్టైమ్ ఫ్యామిలీ' అంటే ఏమిటి?

- (a) చిన్న కుటుంబం
- (b) ఉమ్మడి కుటుంబం
- (c) అణు కుటుంబం
- (d) కార్పొరేట్ వ్యాపార సంస్థల కుటుంబం

Q83. ఈ క్రింది వానిలో జాతీయ జనాభా విధానం ఏ సంవత్సరంలో కొన్ని మార్పులకు గురైంది?

- (a) 1981
- (b) 1979
- (c) 1977
- (d) 1991

Q84. ఈ క్రింది వానిలో నిరుద్యోగ యువత మరియు మహిళలకు స్వయం ఉపాధి కల్పించడం ఏ పథకం లక్ష్యం?

- (a) PMRY
- (b) SGRY
- (c) PMGY
- (d) SGSY

Q85. ఈ క్రింది వానిలో ముస్లిం మహిళలు (వివాహంపై హక్కుల పరిరక్షణ) చట్టాన్ని ఏ రాష్ట్రం రూపొందించింది?

- (a) హిమాచల్ ప్రదేశ్
- (b) ఉత్తర ప్రదేశ్
- (c) అస్సాం
- (d) కేరళ

Q86. ఈ క్రింది వానిలో ఏ సంవత్సరంలో ఆకలిని నిర్మూలించాలి అనే లక్ష్యంతో SDG2 జీరో హంగర్ వ్యవహరిస్తుంది?

- (a) 2030

(b) 2025

(c) 2035

(d) 2040

Q87. కింది వాటిని సరిపోల్పండి.

1. 7వ పంచవర్ష ప్రణాళికా ----- A. ఆధునికీకరణ, వృద్ధి

2. 8వ పంచవర్ష ప్రణాళికా ----- B. మానవ వనరుల అభివృద్ధి

3. 9వ పంచవర్ష ప్రణాళికా ----- C. సమాన పంపిణీ మరియు సమానత్వంతో వృద్ధి

4. 10వ పంచవర్ష ప్రణాళికా ----- D. మానవాభివృద్ధికి ప్రాధాన్యతనిస్తూ వృద్ధి

(a) 1- a, 2- b, 3- c, 4-d

(b) 1- c, 2-b, 3-a, 4-d

(c) 1-b, 2-c, 3-a, 4 -d

(d) 1-a, 2- c, 3- d, 4- b

Q88. ఈ క్రింది వానిలో దీక్ష, స్వయం మరియు నిష్ఠ అనేవి కేంద్ర మంత్రిత్వ శాఖ మరియు స్వయం _____ని సూచిస్తాయి

(a) MSME మంత్రిత్వ శాఖ, Society Webs of Active Learning for Young Aspiring Minds

(b) విద్యా మంత్రిత్వ శాఖ, Study Webs of Active Learning for Young Aspiring Minds

(c) స్కీల్ డెవలప్‌మెంట్ మంత్రిత్వ శాఖ, Students Webs of Active Learning for Young Aspiring Minds

(d) పర్యావరణ, అటవీ మరియు వాతావరణ మార్పు మంత్రిత్వ శాఖ, Service Webs of Active Learning for Young Aspiring Minds

Q89. ఈ క్రింది వానిలో కేంద్ర బడ్జెట్ 2022 ప్రకారం, హర్ ఘోష్, నల్ సే జల్ స్కీమ్ కింద 2022-23లో 3.8 కోట్ల కుటుంబాలకు లబ్ధి చేకూర్చడానికి ఎన్ని కోట్లు వచ్చాయి?

(a) 100,000 కోట్లు

(b) 20,000 కోట్లు

(c) 50,000 కోట్లు

(d) 60,000 కోట్లు

Q90. ఈ క్రింది వానిలో షెడ్యూల్డ్ కులాలు మరియు షెడ్యూల్డ్ తెగల జాబితాలో ఎవరిని చేర్చాలో నిర్ణయించే హక్కు ఎవరికి ఉంది?

- (a) గవర్నర్
- (b) ఉప రాష్ట్రపతి
- (c) రాష్ట్రపతి
- (d) ముఖ్యమంత్రి

Q91. ఈ క్రింది వానిలో ఏ రాష్ట్రం తన స్వంత వాతావరణ మార్పు మిషన్‌ను ప్రారంభించిన మొదటి రాష్ట్రంగా అవతరిస్తుంది?

- (a) కర్ణాటక
- (b) కేరళ
- (c) తమిళనాడు
- (d) ఆంధ్రప్రదేశ్

Q92. ఈ క్రింది వానిలో 'మిరాకిల్స్ ఆఫ్ ఫీస్ యోగా' పుస్తకాన్ని ఎవరు విడుదల చేశారు?

- (a) జంపా లాహిరి
- (b) మాన్సి గులాటి
- (c) అరుంధతీ రాయ్
- (d) చేతన్ భగత్

Q93. ఈ క్రింది వానిలో గ్లోబల్ మీథేన్ ట్రాకర్ నివేదికను ఏ సంస్థ ప్రచురించింది?

- (a) ఇంటర్నేషనల్ ఎనర్జీ ఏజెన్సీ
- (b) ఐక్యరాజ్యసమితి పర్యావరణ కార్యక్రమం
- (c) వాతావరణ మార్పుపై ఐక్యరాజ్యసమితి ప్రీమ్‌వర్క్ కన్వెన్షన్
- (d) స్వచ్ఛమైన గాలి కోసం కూటమి

Q94. కింది వాటిలో "భారత్ పర్వ" 2023 ఈవెంట్‌ను నిర్వహించడానికి నోడల్ మంత్రిత్వ శాఖ ఏది?

- (a) సాంస్కృతిక మంత్రిత్వ శాఖ
- (b) పర్యాటక మంత్రిత్వ శాఖ
- (c) విదేశీ వ్యవహారాల మంత్రిత్వ శాఖ
- (d) హోం వ్యవహారాల మంత్రిత్వ శాఖ

Q95. ఈ క్రింది వానిలో మీజిల్స్ మరియు రుబెల్లా (MR) ను తొలగించాలని భారతదేశం ఏ సంవత్సరం లక్ష్యంగా పెట్టుకుంది?

- (a) 2023
(b) 2024
(c) 2025
(d) 2026

Q96. G20కి సంబంధించి కింది ప్రకటనలను పరిగణించండి

1. ఇది 19 దేశాలు ,యూరోపియన్ యూనియన్, అంతర్జాతీయ ద్రవ్య నిధి మరియు ప్రపంచ బ్యాంకు ప్రతినిధులతో కూడిన అనధికారిక సమూహం.

2. G20 అధ్యక్ష పదవి ప్రతి 2 సంవత్సరాలకు ఒకసారి తిరుగుతుంది.

పైన ఇచ్చిన ప్రకటనలలో ఏది సరైనది/సరైనవి?

- (a) 1 మాత్రమే
(b) 2 మాత్రమే
(c) 1 మరియు 2 రెండూ
(d) 1 లేదా 2 కాదు

Q97. కింది వాటిలో ఏ సంస్థ "వరల్డ్ ఎకనామిక్ ఔట్‌లుక్" నివేదికను విడుదల చేసింది?

- (a) ప్రపంచ బ్యాంకు
(b) OECD
(c) IMF
(d) WEF

Q98. 'అటల్ బిజ్ నెట్' అభ్యుదయ యోజన'కి సంబంధించి కింది ప్రకటనలను పరిశీలించండి

1. ఇది సామాజిక న్యాయం మరియు సాధికారత మంత్రిత్వ శాఖ ద్వారా అమలు చేయబడిన కేంద్ర రంగ పథకం
2. ఈ పథకంలో సీనియర్ సిటిజన్ల సాధికారత కోసం మూడు భాగాలు ఉన్నాయి - ఇంటిగ్రేటెడ్ ప్రోగ్రామ్, స్టేట్ యాక్షన్ ప్లాన్ మరియు కమ్యూనిటీ యాక్షన్ ప్లాన్.

3. ఇంటిగ్రేటెడ్ ప్రోగ్రాం ఫర్ సీనియర్ సిటిజన్స్ (IPSrC) కాంపోనెంట్ కింద వృద్ధాశ్రమాల నిర్వహణ కోసం NGOలు/వాలంటరీ ఆర్గనైజేషన్స్ (VOలు)కి గ్రాంట్లు అందించబడతాయి.

- (a) 1 మరియు 2 మాత్రమే
(b) కేవలం 2

(c) 1 మరియు 3 మాత్రమే

(d) కేవలం 3

Q99. భారతదేశంలో పులుల సంరక్షణ గురించి కింది ప్రకటనల్లో ఏది సరైనది/వాస్తవమైనది?

1. పులులు మరియు వాటి ఆవాసాలను రక్షించడానికి ప్రాజెక్ట్ టైగర్ 1973లో భారతదేశంలో ప్రారంభించబడింది.

2. ప్రపంచంలోనే అత్యధిక పులుల జనాభా భారతదేశంలోనే ఉంది.

3. భారతదేశంలోని అన్ని టైగర్ రిజర్వ్లు జాతీయ పార్కులు మరియు వన్యప్రాణుల అభయారణ్యాలలో ఉన్నాయి.

(a) 2 మరియు 3 మాత్రమే

(b) 1 మరియు 3 మాత్రమే

(c) 1 మరియు 2 మాత్రమే

(d) అన్ని ప్రకటనలు సరైనవి.

Q100. న్యూయార్క్ కోర్టులో మొదటి భారతీయ-అమెరికన్ న్యాయమూర్తి ఎవరు?

(a) అజయ్ బంగా

(b) అరుణా మిల్లర్

(c) అప్పర ఎ. అయ్యర్

(d) అరుణ్ సుబ్రమణ్యం

Q101. కేంద్ర రోడ్డు మరియు రవాణా మంత్రి అయినటువంటి నితిన్ గడ్కరీ మొదటి మిథనాల్తో నడిచే బస్సును ఏ నగరంలో ఆవిష్కరించారు?

(a) బెంగళూరు

(b) న్యూఢిల్లీ

(c) హైదరాబాద్

(d) అహ్మదాబాద్

Q102. ఆసియాలో మొదటి మహిళా లోకోమోటివ్ ఫైలట్ అయినటువంటి వారు ఎవరు వందే భారత్ ఎక్స్ప్రెస్ ను నడుపుతున్నారు _____.

(a) తమనా సింగ్

(b) రాణి దేవత

(c) సురేఖ యాదవ్

(d) సుకనియా శర్మ

Q103. ఇటీవల, రిజర్వ్ బ్యాంక్ ఆఫ్ ఇండియా _____ కి 'ఇన్ఫ్రాస్ట్రక్చర్ ఫైనాన్స్ కంపెనీ (IFC)' హోదాను కల్పించింది.

(a) నీతి ఆయోగ్

(b) SEBI

(c) IREDA

(d) Paytm చెల్లింపు బ్యాంక్

Q104. కింది వాటిలో 25 ఏళ్లలో మొదటిసారిగా మహిళల కోసం సైనిక సేవలను ప్రవేశపెట్టిన దేశం ఏది?

(a) దక్షిణ కొరియా

(b) కొలంబియా

(c) జపాన్

(d) థాయిలాండ్

Q105. కింది వాటిలో ఏ సంస్థకు అభిమత విద్యాపీఠం హోదా వచ్చింది?

(a) రాష్ట్రసంఠ తుక్డోజీ మహారాజ్ నాగ్పూర్ విశ్వవిద్యాలయం

(b) లక్ష్మీనారాయణ ఇన్స్టిట్యూట్ ఆఫ్ టెక్నాలజీ నాగ్పూర్

(c) ప్రభుత్వ నాలెడ్జ్, సైన్స్ ఇన్స్టిట్యూట్ అమరావతి

(d) వరల్ సర్వ

Q106. ఈ క్రింది వాటిలో ప్రపంచంలో ఏ ప్రాంతంలో అత్యధిక సంఖ్యలో హాట్స్పాట్లు ఉన్నాయి?

(a) ఆఫ్రికా ప్రాంతం

(b) యూరోపియన్ భూభాగాలు

(c) ఆగ్నేయాసియా మరియు ఆసియా-పసిఫిక్ ప్రాంతం

(d) దక్షిణ అమెరికా

Q107. కింది వాటిలో ఏ నిబంధనలకు పార్లమెంటులో ప్రత్యేక మెజారిటీ అవసరం?

(a) ప్రాథమిక హక్కులలో మార్పు

(b) కొత్త రాష్ట్రాలను ఏర్పాటు చేయడం

(c) రాష్ట్రంలో లెజిస్లేటివ్ కౌన్సిల్ను రద్దు చేయడం

(d) పార్లమెంట్లో నియమాలు మరియు విధానాలు

Q108. ఈ క్రింది వానిలో నేషనల్ ఎయిర్ క్వాలిటీ ఇండెక్స్‌లో కింది వాటిలో ఏ కాలుష్య కారకాలు చేర్చబడ్డాయి?

A. P. M. 2.5

B. P. M. 10

C. నైట్రోజన్ డయాక్సైడ్

D. కార్బన్ డయాక్సైడ్

ఎంపికలు

(a) A మరియు B మాత్రమే

(b) A,B,C మాత్రమే

(c) A,B,D మాత్రమే

(d) A,B,C,D

Q109. ఈ క్రింది వానిలో జోమి జాతి సమూహం కింది ఏ ఈశాన్య రాష్ట్రాలకు చెందినది?

(a) మిజోరం

(b) అస్సాం

(c) మణిపూర్

(d) అరుణాచల్ ప్రదేశ్

Q110. ఈ క్రింది వానిలో అమ్మ ఒడి పథకం యొక్క ప్రయోజనాలు ఎవరికి?

(a) 6 నుండి 10వ తరగతి వరకు విద్యార్థులు

(b) 7 నుండి 12వ తరగతి వరకు విద్యార్థులు

(c) 1 నుండి 12వ తరగతి వరకు విద్యార్థులు

(d) 5 నుండి 10వ తరగతి వరకు విద్యార్థులు

Q111. ఈ క్రింది వానిలో జాతీయ అంతరిక్ష దినోత్సవాన్ని ఎప్పుడు జరుపుకుంటారు?

(a) ఆగస్టు 13

(b) సెప్టెంబర్ 12

(c) అక్టోబర్ 12

(d) ఆగస్టు 23

Q112. ఈ క్రింది వానిలో రామాయపట్నం ఓడరేవు ఏ జిల్లాలో ఉంది?

(a) నెల్లూరు

(b) విశాఖపట్నం

(c) ఒంగోలు

(d) శ్రీకాకుళం

Q113. ఈ క్రింది వానిలో ప్రపంచ మానసిక ఆరోగ్య దినోత్సవం యొక్క థీమ్ ఏమిటి?

(a) మానసిక ఆరోగ్యం అనేది సార్వత్రిక మానవ హక్కు.

(b) ఆరోగ్యకరమైన మనస్సు ఆరోగ్యకరమైన జీవితం

(c) ప్రతి ఒక్కరికీ మానసిక ఆరోగ్యం

(d) ప్రతి ఒక్కరూ మానసిక ఆరోగ్యానికి అర్హులు

Q114. ఈ క్రింది వాటిలో భారతదేశంలో పసుపు ఉత్పత్తిలో అగ్రగామిగా ఉన్న రాష్ట్రం ఏది?

(a) ఆంధ్రప్రదేశ్

(b) తమిళనాడు

(c) ఒరిస్సా

(d) కర్ణాటక

Q115. ఈ క్రింది వాటిలో YSR రైతు భరోసా కింద అందించే వార్షిక ఆర్థిక సహాయం ఏమిటి?

(a) రూ. 7500

(b) రూ. 10,000

(c) రూ. 13,500

(d) రూ. 15,000

Q116. ఈ క్రింది వాటిలో లైఫ్ మిషన్ యొక్క ప్రాథమిక లక్ష్యం ఏమిటి?

(a) ఆర్థిక వృద్ధిని పెంచండి

(b) బాధ్యతాయుతమైన వినియోగం మరియు వనరుల పరిరక్షణను ప్రోత్సహించండి

(c) పునరుత్పాదక శక్తి కోసం కొత్త సాంకేతికతలను అభివృద్ధి చేయండి

(d) కొత్త మౌలిక సదుపాయాల ప్రాజెక్టులను నిర్మించండి

Q117. ఈ క్రింది వాటిలో ఆడుదాం ఆంధ్ర యొక్క ప్రాథమిక లక్ష్యం ఏమిటి?

(a) ఆంధ్రప్రదేశ్ లో పర్యాటకాన్ని ప్రోత్సహించండి

(b) వ్యవసాయంలో పెట్టుబడిని ప్రోత్సహించండి

(c) గ్రామీణ మౌలిక సదుపాయాలను అభివృద్ధి చేయండి

(d) క్రీడలలో పాల్గొనడం మరియు ప్రతిభను గుర్తించడం పెంచండి

Q118. ఈ క్రింది వాటిలో ఆంధ్ర ప్రదేశ్ ఇంటిగ్రేటెడ్ ఇరిగేషన్ అండ్ అగ్రికల్చర్ ట్రాన్స్ఫర్మేషన్ ప్రాజెక్ట్ (APIIATP) ఆంధ్రప్రదేశ్లోని ఎంత మంది రైతులకు ప్రయోజనం చేకూరుస్తుందని భావిస్తున్నారు?

- (a) 1 మిలియన్
- (b) 2 మిలియన్లు
- (c) 3 మిలియన్లు
- (d) 4 మిలియన్లు

Q119. ఈ క్రింది వాటిలో AP యొక్క మొదటి ప్లాట్ ప్యాక్టరీ కాంప్లెక్స్ ఎక్కడ నిర్మించబడుతోంది?

- (a) వైజాగ్
- (b) విజయవాడ
- (c) తిరుపతి
- (d) విశాఖపట్నం

Q120. ఈ క్రింది వాటిలో కొండవీడు కోటను ఏ రాజవంశం నిర్మించింది?

- (a) రెడ్డిలు
- (b) కాకతీయులు
- (c) విజయనగర సామ్రాజ్యం
- (d) కుతుబ్ షాహీలు

Directions (121 - 123): దిగువ ఇవ్వబడిన ప్రతి ప్రశ్నలో కొన్ని ప్రకటనలు మరియు కొన్ని ముగింపులు ఇవ్వబడ్డాయి. అన్ని ప్రకటనలను చదవండి మరియు క్రింది విధంగా సమాధానం ఇవ్వండి-

Q121.

ప్రకటనలు :

కొన్ని ఎన్వలప్లు ప్యాకెట్లు.

కొన్ని ప్యాకెట్లు పెట్టెలు.

అన్ని పెట్టెలు పొట్టాలు.

ముగింపు:

I. కొన్ని పొట్టాలు ప్యాకెట్లు.

II. కొన్ని పొట్లాలు ఎన్వలప్లు.

- | | | | | | |
|-----|--------------------------------|--|---------|----------------|----------------|
| (a) | ముగింపు | | మాత్రమే | అనుసరిస్తుంది. | |
| (b) | ముగింపు | | మాత్రమే | అనుసరిస్తుంది. | |
| (c) | ముగింపు | | లేదా | | అనుసరిస్తుంది. |
| (d) | ముగింపు లేదా అనుసరించవు . | | | | |

Q122.

ప్రకటనలు : అన్ని పట్టికలు విండోస్.

అన్నీ కిటికీలు గదులే.

అన్నీ గదులు బస్సులే.

ముగింపు:

I. కొన్ని బస్సులు బల్లలు.

II. ఏ గదులు కూడా బల్లలు కావు

- | | | | | | |
|-----|--------------------------------|--|---------|----------------|----------------|
| (a) | ముగింపు | | మాత్రమే | అనుసరిస్తుంది. | |
| (b) | ముగింపు | | మాత్రమే | అనుసరిస్తుంది. | |
| (c) | ముగింపు | | లేదా | | అనుసరిస్తుంది. |
| (d) | ముగింపు లేదా అనుసరించవు . | | | | |

Q123.

ప్రకటనలు :

కొన్ని సీసాలు పాత్రలు.

అన్ని జాడీలు బకెట్లు.

అన్ని బకెట్లు ట్యాంకులు.

ముగింపు :

I. అన్ని పాత్రలు ట్యాంకులు.

II. ఏ బకెట్లు కూడా ట్యాంకులు కాదు.

- | | | | | | |
|-----|--------------------------------|--|---------|----------------|----------------|
| (a) | ముగింపు | | మాత్రమే | అనుసరిస్తుంది. | |
| (b) | ముగింపు | | మాత్రమే | అనుసరిస్తుంది. | |
| (c) | ముగింపు | | లేదా | | అనుసరిస్తుంది. |
| (d) | ముగింపు లేదా అనుసరించవు . | | | | |

Directions (124-126): దిగువన ఉన్న ప్రతి ప్రశ్నలో ఒక ప్రకటన ఇవ్వబడింది | మరియు II సంఖ్యలతో రెండు ఊహలు అనుసరించబడ్డాయి. ఒక ఊహ అనేది ఊహించిన లేదా మంజూరు చేయబడినది. మీరు ప్రకటన మరియు క్రింది అంచనాలను పరిగణనలోకి తీసుకోవాలి మరియు అంచనాలలో ఏది అంతర్లీనంగా ఉందో నిర్ణయించండి ప్రకటన.

Q124.

ప్రకటన:

మంచి పుస్తకం, ఖర్చుతో కూడుకున్నదే అయినా అమ్ముడవుతుంది.

ఊహలు:

I. కొన్ని పుస్తకాలు మిగిలా వాటి కంటే మెరుగ్గా ఉన్నాయి.

II. చాలా పుస్తకాలు ఖరీదైనవి.

(a) కేవలం ఊహ I మాత్రమే అవ్యక్తంగా ఉంటే

(b) కేవలం ఊహ II మాత్రమే అవ్యక్తంగా ఉంటే

(c) ఊహ I లేదా ఊహ II అవ్యక్తంగా ఉంటే.

(d) ఊహ I లేదా ఊహ II అవ్యక్తంగా లేకుంటే.

Q125.

ప్రకటన:

ప్రజలు తెలివైన వారైతే, వారు సృజనాత్మకంగా ఉండాలి.

ఊహలు:

I. సృజనాత్మకత మరియు మేధస్సుకు సంబంధించినవి.

II. సృజనాత్మక వ్యక్తులు తెలివైనవారు.

(a) కేవలం ఊహ I మాత్రమే అవ్యక్తంగా ఉంటే

(b) కేవలం ఊహ II మాత్రమే అవ్యక్తంగా ఉంటే

(c) ఊహ I లేదా ఊహ II అవ్యక్తంగా ఉంటే.

(d) ఊహ I లేదా ఊహ II అవ్యక్తంగా లేకుంటే.

Q126.

ప్రకటన:

విటమిన్ E మాత్రలు రక్త ప్రసరణను మెరుగుపరుస్తాయి, మీ ఛాయను మెరిస్ స్థితిలో ఉంచుతాయి.

ఊహలు:

- I. ప్రజలు మెరిస్ ఛాయను ఇష్టపడతారు.
 - II. ప్రసరణ లేనప్పుడు సంక్లిష్టత నిస్తేజంగా మారుతుంది.
- (a) కేవలం ఊహ I మాత్రమే అవ్యక్తంగా ఉంటే
 (b) కేవలం ఊహ II మాత్రమే అవ్యక్తంగా ఉంటే
 (c) ఊహ I లేదా ఊహ II అవ్యక్తంగా ఉంటే.
 (d) I మరియు II రెండు ఊహలు అవ్యక్తంగా ఉంటే.

Q127.

ప్రకటనలు:

ఒక రోజు క్రికెట్ మ్యాచ్‌లో ఒక జట్టు చేసిన మొత్తం పరుగులు 200. ఇందులో 160 పరుగులు స్పిన్నర్లు చేసినవే.

ముగింపులు:

- I. జట్టులో 80% మంది స్పిన్నర్లను కలిగి ఉన్నారు.
 - II. ఓపెనింగ్ బ్యాట్స్‌మెన్లు స్పిన్నర్లు.
- (a) కేవలం ముగింపు I మాత్రమే అనుసరించబడుతుంది
 (b) కేవలం ముగింపు II మాత్రమే అనుసరించబడుతుంది
 (c) I మరియు II రెండూ అనుసరిస్తాయి
 (d) I మరియు II రెండూ అనుసరించలేదు

Q128.

ప్రకటనలు:

పాత క్రమాన్ని కొత్తదిగా మార్చింది.

ముగింపులు:

- I. మార్పు అనేది ప్రకృతి నియమం.
 - II. పాత ఆలోచనలు పాతవి కాబట్టి వాటిని విస్మరించండి.
- (a) కేవలం ముగింపు I మాత్రమే అనుసరించబడుతుంది
 (b) కేవలం ముగింపు II మాత్రమే అనుసరించబడుతుంది
 (c) I మరియు II రెండూ అనుసరిస్తాయి

(d) I మరియు II రెండూ అనుసరించలేదు

Q129. ప్రకటన: జనాభా పెరుగుదలతో పాటు వనరులు క్షీణించడం రాబోయే రోజుల్లో అనేక అభివృద్ధి చెందుతున్న దేశాల దృశ్యం కాబోతోంది.

ముగింపులు:

I. అభివృద్ధి చెందుతున్న దేశాల జనాభా భవిష్యత్తులో పెరగదు.

II. అభివృద్ధి చెందుతున్న దేశాల ప్రభుత్వాలకు తమ ప్రజలకు మంచి జీవన ప్రమాణాలను అందించడం చాలా కష్టం.

(a) కేవలం ముగింపు I మాత్రమే అనుసరించబడుతుంది

(b) కేవలం ముగింపు II మాత్రమే అనుసరించబడుతుంది

(c) I మరియు II రెండూ అనుసరిస్తాయి

(d) I మరియు II రెండూ అనుసరించలేదు

Q130. ప్రకటనలు : భారతదేశంలోని పట్టణ ప్రాంతాల్లోని ఫైమ్ ఏజ్ స్కూల్ కి వెళ్లే పిల్లలు ఇప్పుడు టీవీ లోని ఇళ్లలో కూడా టెలివిజన్ ని చూసేందుకు ఆసక్తిగా మారారు. ఫలితంగా వార్తాపత్రికల పాఠకుల సంఖ్య ప్రమాదకరంగా క్షీణించింది.

ముగింపులు:

I. వార్తాపత్రికల పాఠకుల సంఖ్యను పెంచే విధానాన్ని రూపొందించాలి.

II. టీవీ ప్రభావంపై అధ్యయనం చేసేందుకు నిపుణుల బృందాన్ని ఇతర దేశాలకు వార్తాపత్రికల పాఠకుల సంఖ్యపై పంపాలి..

(a) కేవలం ముగింపు I మాత్రమే అనుసరించబడుతుంది

(b) కేవలం ముగింపు II మాత్రమే అనుసరించబడుతుంది

(c) I మరియు II రెండూ అనుసరిస్తాయి

(d) I మరియు II రెండూ అనుసరించలేదు

Q131. ఈ క్రింది క్రమంలో ఏది సరి అయినది కాదు ?

3, 6, 10, 16, 21, 28

(a) 16

(b) 10

(c) 15

(d) 28

Q132. 10, 15, 35, 115, 435, ?

(a) 1715

(b) 1517

(c) 1716

(d) 1717

Q133. ఒక నిర్దిష్టమయిన కోడ్ భాషలో

(1) 'pod na joc' అనగా 'very bright boy';

(2) 'tam nu pod' అనగా 'the boy comes';

(3) 'nu per ton' అనగా 'keep the doll';

(4) 'joc ton su' అనగా 'very good doll'.

ఈ కోడ్ భాషలో 'bright' అనగా అర్థం ఏమిటి?

(a) joc

(b) pod

(c) ton

(d) na

Q134. ఒక నిర్దిష్టమయిన కోడ్ భాషలో,

'786' అనగా 'study very hard'

'958' అనగా 'hard work pays'

'645' అనగా 'study and work'.

ఈ క్రింది వానిలో 'very' కి సంబంధించిన కోడ్ ఏది?

(a) 7

(b) 5

(c) 8

(d) 6

Q135.

ఈ రకంలో, నాలుగు ఎంపికలలో మూడు వస్తువులు లేదా వస్తువులు ఒకే లక్షణాలను కలిగి ఉంటాయి.

(a) ఒక న్యాయవాది

(b) శాసనసభ్యుడు

(c) మేయర్

(d) గవర్నర్

Q136. ఈ క్రింది ఇవ్వబడిన సిరీస్ నుండి భిన్నమైన దానిని కనుగొనండి?

(a) CFIL

(b) PSVX

(c) JMPS

(d) ORUX

Q137. ఈ క్రింది ఇవ్వబడిన సిరీస్ నుండి భిన్నమైన దానిని కనుగొనండి

(a) 6481


(b) 1625

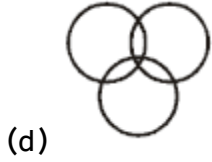
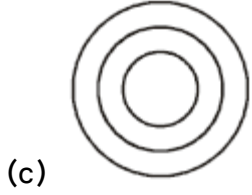
(c) 2536

(d) 1211

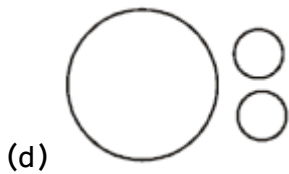
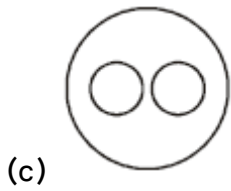
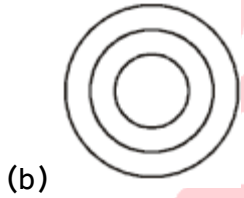

Q138. కింది రేఖాచిత్రాలలో ఏది ఉపాధ్యాయులు, గ్రాడ్యుయేట్లు మరియు మహిళల మధ్య సంబంధాన్ని ఉత్తమంగా వర్ణిస్తుంది?

(a) 

(b) 

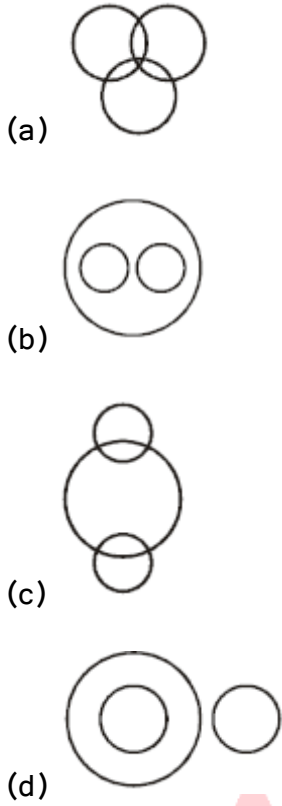


Q139. కింది రేఖాచిత్రాలలో ఏది ఇల్లు, పడకగది మరియు బాత్రూమ్ మధ్య సంబంధాన్ని ఉత్తమంగా వర్ణిస్తుంది.
(సర్కిల్ల పరిమాణాలు పైన ఉన్న సాపేక్ష పరిమాణాన్ని సూచించవు)

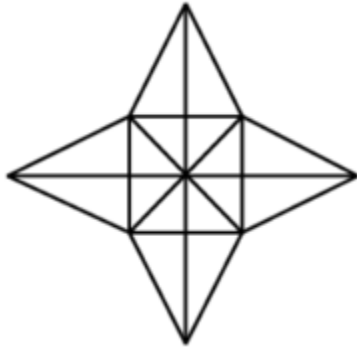


Q140. ఇచ్చిన మూలకాల సెట్ కోసం : కీబోర్డ్, ఫంక్షన్ కీలు, లెటర్-కీలు.

ఈ మూడు అంశాల మధ్య సంబంధాన్ని ఉత్తమంగా సూచించేది గుర్తించండి?



Q141. ఈ చిత్రంలో ఎన్ని త్రిభుజాలు ఉన్నాయి?



- (a) 26
- (b) 34
- (c) 36
- (d) 30

Q142. ఒక క్లబ్‌లో 15 మంది పురుషులు మరియు 25 మంది మహిళలు ఉన్నారు. పురుషుల సగటు వయస్సు 10 సంవత్సరాలు మరియు స్త్రీల సగటు వయస్సు 12 సంవత్సరాలు. మొత్తం క్లబ్ యొక్క సగటు వయస్సు ఎంత?

- (a) 11.40 years
- (b) 11.60 years
- (c) 11.25 years
- (d) 12.25 years

Q143. 12 ఫలితాల సగటు 15, మరియు మొదటి రెండు ఫలితాల సగటు 14. మిగిలిన వాటి సగటు ఎంత?

- (a) 15.2
- (b) 13.2
- (c) 15
- (d) 16

Q144. 7 : 5 యొక్క త్రిపాది నిష్పత్తిని కనుగొనండి?

- (a) 125 : 343
- (b) 343 : 125
- (c) 344 : 125
- (d) 343 : 126

Q145. ఈ క్రింది వానిలో 17 : 19 యొక్క విలోమ నిష్పత్తి ఎంత?

- (a) 19 : 17
- (b) 18 : 17
- (c) 17 : 18
- (d) 19 : 5

Q146. ఏదైనా సంఖ్యను 12తో భాగించినప్పుడు, డివిడెండ్ ఇతర సంఖ్యలో $\frac{1}{4}$ వ వంతు వస్తుంది. మొదటి సంఖ్య రెండవ సంఖ్య కంటే ఎంత శాతం ఎక్కువ?

- (a) 150
- (b) 200
- (c) 300

(d) దత్తాంశం సరి పోవడంలేదు

Q147. ఈ క్రింది వానిలో C. I. మరియు SI 2.5% pa వద్ద 3 సంవత్సరాలకు 8000 మధ్య వ్యత్యాసాన్ని కనుగొనండి..

(a) Rs.14.125

(b) Rs.15.20

(c) Rs.14.2

(d) Rs. 15.125

Q148. A మరియు B ఒక పనిని 10 రోజులలో, B మరియు C లు 15 రోజులలో, C మరియు A 20 రోజులలో చేస్తారు. A, B మరియు C అందరూ కలిసి ఒకే పనిని ఎన్ని రోజుల్లో పూర్తి చేయగలరు?

(a) 13/120 days

(b) 120/13 days

(c) 110/13 days

(d) 115/13 days

Q149. A Qకి వెళ్లడానికి P నుండి మొదలవుతాడు . అదే సమయంలో B Q నుండి P వరకు ప్రారంభమవుతుంది. A మరియు B ఒకరినొకరు కలుసుకున్న తర్వాత వారి గమ్యస్థానాలను చేరుకోవడానికి వరుసగా 16 మరియు 25 గంటల సమయం తీసుకుంటే, వారి వేగం యొక్క నిష్పత్తి :

(a) 3 : 2

(b) 5 : 4

(c) 9 : 4

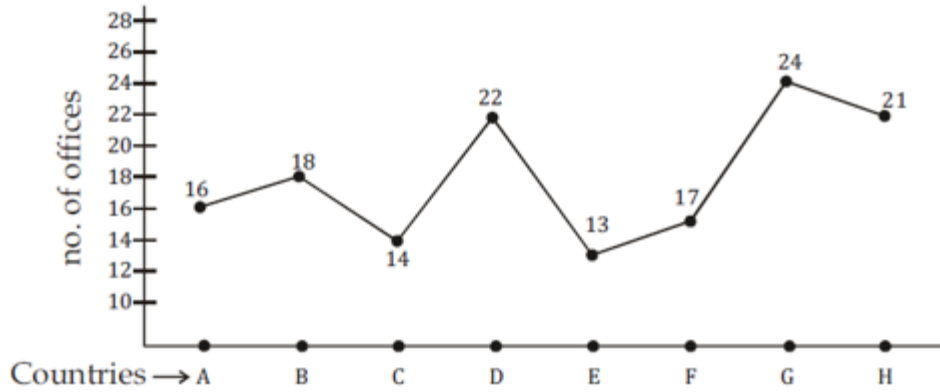
(d) 9 : 13

Q150.

తెలుగు

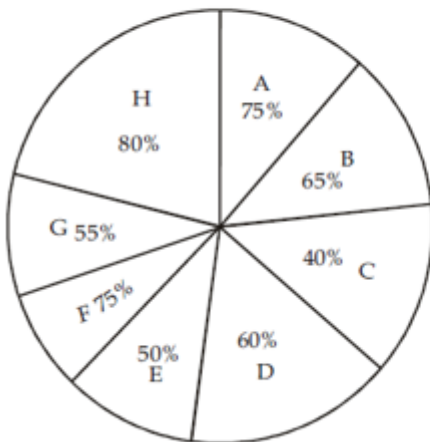
Mixed Graph:

Data Related to human resource of a multinational company (x) which has 145 offices across 8 – countries



Percentage distribution of post-graduate employees across – 8 – countries

Number of employees and respective Ratio male to female across - 8 countries



Countries	Total no. of Employees	Respective ratio of Male and Female emp.
A	2568	5 : 7
B	2880	11 : 5
C	2310	10 : 11
D	3575	3 : 2
E	2054	7 : 6
F	2788	20 : 21
G	3720	8 : 7
H	3360	9 : 5

B మరియు H దేశాలలో మొత్తం పురుష ఉద్యోగుల సంఖ్య మరియు మొత్తం మహిళా ఉద్యోగుల మధ్య సంబంధిత నిష్పత్తి ఎంత. C మరియు D దేశాలలో కలిసి?

- (a) 63 : 52
- (b) 51 : 38
- (c) 77 : 64
- (d) 69 : 44

Solutions

S1. Ans (a)

Sol.

బ్రాహ్మణులు మరియు క్షత్రియులు ప్రత్యేక అధికారాలను పొందారు. చోళ పాలన యొక్క తరువాతి కాలం నాటి శాసనాలు కులాలలో రెండు ప్రధాన విభాగాలను ప్రస్తావిస్తున్నాయి - వలంగై మరియు ఇడంగై కులాలు. అయితే సామాజికంగా వివిధ కులాలు, ఉపకులాల మధ్య సహకారం మతపరమైన జీవితం ఉండేది. మహిళల స్థానం మెరుగుపడలేదు. రాజకుటుంబాలలో 'సతి' ఆచారం ఎక్కువగా ఉండేది. దేవాలయాలకు అనుబంధంగా ఉన్న దేవదాసీ వ్యవస్థ లేదా నృత్య బాలికలు ఈ కాలంలో ఉద్భవించారు.

S2. Ans (c)

Sol.

పై సమాచారం హర్షవర్ధన రాజు గురించినది. ప్రియదర్శిక, రత్నావళి, నాగానంద అనే మూడు నాటకాలు రాశారు. అలాగే, బాణభట్ట తన జీవితం ఆధారంగా ఒక సంతోషకరమైన పుస్తకాన్ని రాశాడు.

S3. Ans(b)

Sol.

అశోకుని ధమ్మం మరియు వ్యక్తిగత జీవితం గురించిన సమాచారం చిన్న శాసనంలో ఉంది. అశోకుని శాసనాలు బ్రాహ్మీ, ఖరోష్ఠి, గ్రీకు మరియు అరామిక్ లిపిలలో ఉన్నాయి. అలాగే స్తంబ శాసనంలో పరిపాలన పరమైన విషయాలను ప్రధానంగా ప్రస్తావించారు.

S4. Ans (c)

Sol.

సముద్రగుప్త - ప్రయాగ / అలహాబాద్ శాసనం

చంద్రగుప్త II - మెహ్రాళి ఇనుప స్తంభం శాసనం

స్కందగుప్త - జునాగఢ్ రాతి శాసనం

S5. Ans (a)

Sol.

డిల్లీ సుల్తానేట్లో పాలకుల పదవీకాలం:

1. కుతుబుద్దీన్ ఐబక్ - (1206 - 10)

2. రజియా సుల్తాన్ - (1236 - 40)

3. బాల్బాన్ - (1266 - 87)

4. ముహమ్మద్ బీన్ తుగ్లక్ - (1325 - 51)

S6. Ans (c)

Sol.

ఖ్వాజా ముయినుద్దీన్ చిస్తీ ఒక సూఫీ సన్యాసి .

S7. Ans(c)

Sol.

అశోక్ మెహతా - '1857 ది గ్రేట్ రెబిలియన్'

సర్ సయ్యద్ అహ్మద్ ఖాన్ - 'భారత తిరుగుబాటుకు కారణాలు'

S. N. సేన్ - '1857'

వినాయక్ దామోదర్ సావర్కర్ - '1857 స్వాతంత్ర్య వేసవి'

S8. Ans (b)

Sol.

పై ప్రకటన అన్నీ బిసెంట్ గురించి తెలియచేయడమైనది

S9. Ans(a)

Sol.

1909 నాటి మోర్లే మింట్ చట్టం ముస్లింలకు ప్రత్యేక నియోజకవర్గాలను అందించింది.

S10. Ans(b)

Sol.

దాదాభాయ్ నారోజీ వివరించారు.

S11. Ans(b)

Sol.

స్వదేశీ ఉద్యమం (1905)

సూరత్ సమావేశం (1907)

రౌలట్ చట్టం (1916)

ఖిలాఫత్ ఉద్యమం (1920)

S12. Ans (c)

Sol.

సర్వోదయ అనగా అందరి అభివృద్ధి. గాంధీజీ 1908లో ఈ పదాన్ని ఉపయోగించారు.

S13. Ans(c)

Sol.

వ్యక్తిగత సత్యార్థహం యొక్క మొదటి సత్యార్థహి వినోబా భావే మరియు రెండవది జవహర్‌లాల్ నెహ్రూ.

S14. Ans (a)

Sol.

కేంద్రంలో ద్వంద్వ ప్రభుత్వ విధానం ప్రవేశపెట్టబడింది అలాగే 1919 చట్టం ద్వారా హైకమిషనర్ పదవిని సృష్టించారు.

S15. Ans (b)

Sol.

లార్డ్ రిప్పన్ భారతీయ స్థానిక స్వపరిపాలన యొక్క పితామహుడిగా చెప్పబడింది. ఇది రిప్పన్ కి అత్యంత ప్రాముఖ్యమైనది.

S16. Ans (d)

Sol.

• భారత రాజ్యాంగం న్యాయ వ్యవస్థను ఏకీకృత న్యాయవ్యవస్థగా చెప్పబడినది.

భారత ప్రభుత్వ చట్టం 1935 నుండి స్వీకరించబడిన ఏకీకృత న్యాయస్థానాల వ్యవస్థ కేంద్ర చట్టాలు మరియు రాష్ట్ర చట్టాలు రెండింటినీ అమలు చేస్తుంది.

• భారత రాజ్యాంగం సర్వోన్నత న్యాయస్థానాన్ని ఎగువన మరియు దాని దిగువన ఉన్న హైకోర్టులతో సమీకృత న్యాయ వ్యవస్థను ఏర్పాటు చేసింది.

• భారత సుప్రీంకోర్టు భారత రాజ్యాంగానికి సంరక్షకుడు. ఇది జనవరి 28, 1950న ప్రారంభించబడింది.

• ఇది 1935లో భారత ప్రభుత్వ చట్టం ప్రకారం స్థాపించబడిన ఫెడరల్ కోర్ట్ ఆఫ్ ఇండియాను సుప్రీం కోర్టుగా వ్యవహరిస్తారు. రాజ్యాంగంలోని పార్ట్ Vలోని ఆర్టికల్స్ 124 నుండి 147 వరకు సుప్రీం కోర్ట్ యొక్క సంస్థ, స్వాతంత్ర్యం, అధికార పరిధి, అధికారాలు మరియు విధానాలతో వ్యవహరిస్తాయి.

S17. Ans (b)

Sol. రామచరితమానస్: ఈ పద్యాన్ని 16వ శతాబ్దంలో తులసీదాస్ అవధి మాండలికంలో రచించారు, ఇది ప్రధానంగా నేటి ప్రయాగ్‌రాజ్ మరియు అయోధ్య జిల్లాలలో మాట్లాడబడుతుంది. ఇది ఏడు అధ్యాయాలు (ఖండాలుగా) గా విభజించబడింది, ఇది రాముడు పుట్టినప్పటి నుండి అయోధ్యకు రాజు అయ్యే వరకు కథను తెలియజేస్తుంది.

రామచరితమానస్‌ను భక్తి ఉద్యమంలోని సగుణ పాఠశాలకి చెందిన రచనగా పలువురు భావిస్తారు.

S18.Ans.(d)

Sol.

తూర్పు డివిజన్ - తోషాలి

పశ్చిమ విభాగం - ఉజ్జయిని

సాత్ డివిజన్ - సువర్ణగిరి

ఉత్తర విభాగం - తక్షిలా

S19.Ans(b)

Sol.

భారీ లోయ - లోథాల్

మహా స్నానవాటిక - మొహెంజోదారో

దున్నిన పొలం - కాలిబంగస్

S20.Ans.(a)

Sol.

ఈ సంఘటనల సరైన క్రమం:

- b. చంద్రగుప్తుడు మౌర్య సామ్రాజ్యాన్ని స్థాపించాడు. అతను నందా రాజవంశాన్ని పడగొట్టి, మొదటి ఏకీకృత భారత సామ్రాజ్యాన్ని స్థాపించిన తర్వాత ఇది 322 BCEలో జరిగింది.
- D. అలెగ్జాండర్ భారతదేశంపై దండెత్తాడు. 326 BCEలో, అలెగ్జాండర్ ది గ్రేట్ తన మాసిడోనియన్ సైన్యాన్ని భారత ఉపఖండంలోని వాయువ్య ప్రాంతాల గుండా నడిపించాడు. అతను అనేక మంది రాజులను ఓడించాడు, కానీ గట్టి ప్రతిఘటనను ఎదుర్కొన్నాడు, చివరికి మొత్తం ప్రాంతాన్ని జయించకుండానే వెనుదిరిగాడు.
- a. అశోకుడు మగధ చక్రవర్తి బిరుదును అందుకున్నాడు. క్రూరమైన వారసత్వ యుద్ధం తర్వాత అశోక ది గ్రేట్ 268 BCEలో సింహాసనాన్ని అధిరోపించాడు, ఈ యుద్ధం అతన్ని తీవ్రంగా కలవరపెట్టింది.
- c. అశోకుడు కళింగంపై దండెత్తాడు. అతని ప్రారంభం హింసతో మొదలు అయినది పాలన తర్వాత, అశోకుడు కళింగ తీర్థయాత్రను ప్రారంభించాడు, అతను 261 BCEలో దానిని జయించాడు. అక్కడ అతను చూసిన రక్తపాతం మరియు బాధలు అతన్ని బౌద్ధమతంలోకి మార్చడానికి మరియు అహింసా సూత్రాలను స్వీకరించడానికి దారితీశాయి.
- కాబట్టి, క్రమం B-D-A-C.

S21.Ans(a)

Sol.

బీహార్‌లోని భాగల్‌పూర్ సమీపంలోని విక్రమశిల విశ్వవిద్యాలయాన్ని 8వ శతాబ్దంలో రాజు హర్షవర్ధన్ స్థాపించారు.

S22.Ans.(c)

Sol. ఎంపిక c సరైనది.

S23.Ans(d)

Sol.

పై వివరణ దాదాభాయ్ నారోజీ.

S24.Ans (c)

Sol.

మధ్యయుగ కాలంలో ముఖ్యమైన వ్యక్తుల సమూహం ఒకటి

రాజపుత్రులు, ఒక పాలకుడి కుమారుడైన "రాజపుత్ర" నుండి వచ్చిన పేరు. కాబట్టి, ప్రకటన (1) సరైనది.

ఏడవ శతాబ్దం నాటికి ఉపఖండంలోని వివిధ ప్రాంతాలలో పెద్ద భూస్వాములు లేదా యోధుల అధిపతులు ఉన్నారు. ఇప్పటికే ఉన్న రాజులు తరచుగా వారిని తమ అధీనంలో లేదా సామంతలుగా గుర్తించేవారు.

S25.Ans.(d)

Sol.

అన్ని ప్రకటనలు సరైనవి.

S26.Ans(d)

Sol.

శివరామ్ జనబా కాంట్ స్తోమవంశీయ మిత్ర పత్రికను ప్రారంభించారు.

S27.Ans(a)

Sol.

ఇవేవీ కాదు.

S28. Ans(d)

Sol.

చాలా మంది గ్రామస్తుల సమూహం, 'విష్', దాని చీఫ్ 'విష్వతి'. గ్రామ్ముఖ్ 'గ్రామణి'

ప్రజల ప్రధానుడు 'రాజా / నృప్'.

S29. Ans (c)

Sol.

B. 'అర్థమాగధి' (గౌతమ బుద్ధుడు - పాళీ) భాషను ఉపయోగించారు.

C. 'జీవన కల్ప' విధి. డెస్టినిస్టులు మానవ ప్రయత్నం ద్వారా ఏమీ సాధించలేరని నమ్ముతారు, అన్నీ విధిపై ఆధారపడి ఉంటాయి. జైనమతంలో, మనిషి మోక్షం కోసం ప్రయత్నించవచ్చు. జైనమతం 'బహుళవాదం'. విషయాలపై పూర్తి అవగాహన ఉండటం కష్టం. కాబట్టి జ్ఞానం కంటే ప్రవర్తన ముఖ్యం.

S30. Ans (d)

Sol.

అద్వైతం లేదా వ్యక్తిగత ఆత్మ మరియు పరమాత్మ యొక్క ఏకత్వం యొక్క సిద్ధాంతం, ఇది అంతిమ వాస్తవికత. దీనిని శంకరులు ప్రచారం చేశారు.

పదకొండవ శతాబ్దంలో తమిళనాడులో జన్మించిన రామానుజులు ఆళ్వార్ల ప్రభావంతో బాగా ప్రభావితమయ్యారు. అతను విశిష్టాద్వైత సిద్ధాంతాన్ని లేదా యోగ్యత కలిగిన ఏకత్వాన్ని ప్రతిపాదించాడు, పరమాత్మతో ఐక్యమైనప్పటికీ ఆత్మ విభిన్నంగా ఉంటుంది.

మాధవాచార్య ఉడిపి (కర్ణాటక)లో జన్మించిన ఆనందతీత అని కూడా పిలుస్తారు. ద్వైత సిద్ధాంతాన్ని ప్రచారం చేశాడు. దేవుడు మరియు వ్యక్తిగత ఆత్మలు స్వతంత్ర వాస్తవాలుగా ఉన్నాయని మరియు ఇవి విభిన్నమైనవి అని ఇది పేర్కొంది.

S31. Ans (d)

Sol.

రెండు ప్రకటనలు సరైనవి.

S32. Ans(d)

Sol.

సూర్యునికి మరియు భూమికి మధ్య చంద్రుడు ప్రయాణిస్తున్నప్పుడు సూర్యగ్రహణం ఏర్పడుతుంది, సూర్యుని కాంతిని పూర్తిగా లేదా కొంత భాగాన్ని అడ్డుకుంటుంది.

భూమి నుండి చూసినట్లుగా సూర్యుడు మరియు చంద్రుడు కలయికలో ఉన్నప్పుడు ఇది అమావాస్య సమయంలో జరుగుతుంది. చంద్రుని నీడ అప్పుడు భూమిపై పడటం వలన సూర్యగ్రహణం ఏర్పడుతుంది.

ఇది చంద్రగ్రహణం నుండి భిన్నంగా ఉంటుంది, ఇది భూమి సూర్యుడు మరియు చంద్రుని మధ్యకు వచ్చినప్పుడు, భూమి యొక్క నీడను చంద్రునిపై పడినప్పుడు సంభవిస్తుంది.

S33. Ans (b)

Sol.

పాత సిల్ట్ ప్రాంతాన్ని భాంగర్ అంటారు.

S34. Ans (d)

Sol.

- బనిహాల్ కనుమ - జమ్మూ మరియు కాశ్మీర్
- పిప్పిలా కనుమ - హిమాచల్ ప్రదేశ్
- నాథు-లా కనుమ - సిక్కిం

S35. Ans(d)

Sol.

ప్రాథమిక తరంగాలు ధ్వని తరంగాలు, ద్వితీయ తరంగాలు కాంతి తరంగాలు వంటివి. ద్వితీయ తరంగాలు ద్రవాల ద్వారా ప్రయాణించలేవు మరియు వాటి వేగం ప్రాథమిక తరంగాల కంటే తక్కువగా ఉంటుంది.

S36. Ans(b)

Sol.

కోట్‌పాక్స్ దక్షిణ అమెరికాలో ఎత్తైన శిఖరం.

S37. Ans (b)

Sol.

సట్లైట్ మినహా మిగిలిన మూడు నదులు సింధులో నేరుగా కలవకుండా ఒకదానితో ఒకటి కలిసిపోయి ఆ తర్వాత సింధులో కలుస్తాయి.

S38. Ans (c)

Sol.

సర్గోల్, దిద్వానా, కుచమన్ మరియు ఖాటు అనేవి ఉప్పుగా ఉండే సరస్సుల పేర్లు. సాంబార్ సరస్సు భారతదేశంలో అతిపెద్ద ఉప్పు సరస్సు ఇది రామ్ సర్ ప్రదేశాలలో ఒకటి.

S39. Ans(c)

Sol.

- గల్ఫ్ స్ట్రీమ్ ఒక శక్తివంతమైన, వెచ్చని మరియు వేగవంతమైన అట్లాంటిక్ మహాసముద్ర ప్రవాహం, ఇది గల్ఫ్ ఆఫ్ మెక్సికోలో ఉద్భవించి ఫ్లోరిడా కొన వద్ద అట్లాంటిక్ లోకి ప్రవహిస్తుంది, ఇది యునైటెడ్ స్టేట్స్ మరియు న్యూఫౌండ్లాండ్ యొక్క తూర్పు తీరప్రాంతాల వెంట వేగవంతమవుతుంది.
- కురోషియో కరెంట్, కాలిఫోర్నియా కరెంట్ మరియు హంబోల్ట్ కరెంట్ అన్నీ పసిఫిక్ మహాసముద్రంతో సంబంధం కలిగి ఉన్నాయి.
- కురోషియో కరెంట్ అనేది ఉత్తర పసిఫిక్ మహాసముద్రం యొక్క పశ్చిమ వైపున ఉన్న వెచ్చని ఉత్తర ప్రవహించే సముద్ర ప్రవాహం.
- కాలిఫోర్నియా కరెంట్ అనేది ఉత్తర అమెరికా పశ్చిమ తీరం వెంట దక్షిణ దిశగా కదిలే చల్లని నీటి ప్రవాహం.
- హంబోల్ట్ కరెంట్, పెరూ కరెంట్ అని కూడా పిలుస్తారు, ఇది దక్షిణ అమెరికా పశ్చిమ తీరం వెంట ఉత్తరాన ప్రవహించే చల్లని, తక్కువ లవణీయత కలిగిన సముద్ర ప్రవాహం.

S40. Ans(c)

Sol. తేనెటీగల పెంపకం

S41. Ans (a)

Sol.

ఉష్ణమండల ఆకురాల్చే అడవులలో పైన పేర్కొన్న వృక్షాలు ఉన్నాయి.

S42. Ans (d)

Sol.

పులాస్ సముద్రపు అలల నిక్షేపణ ద్వారా ఏర్పడిన భూభాగం.

S43. Ans(b)

Sol.

సత్పూర్ణ శ్రేణి ఈ రెండు నదుల లోయలను వేరు చేస్తుంది.

S44. Ans(c)

Sol.

• ఆవాసం - జీవులు నివసించే ప్రాంతం ఆవాసం.

• జాతుల - ఉదా. పాంథెర టైగ్రిస్, హోమో సేపియన్స్

ఎకోటోన్ - రెండు వేర్వేరు ప్రక్కనే ఉన్న జీవుల మధ్య పరివర్తన ప్రాంతం.

S45. Ans (c)

Sol. రెండు ప్రకటనలు సరైనవి.

S46.Ans.(d)

Sol.

ఉష్ణోగ్రత పొరలో ఎత్తు ప్రకారం ఉష్ణోగ్రత పెరగదు.

S47.Ans.(d)

Sol.

క్లోడ్ బర్న్ అనేది భారీ వర్షం యొక్క ఒక రూపం. భూమిపై పడే వర్షపు చినుకులు మేఘాల పేలుళ్లలో బలమైన పై గాలుల ద్వారా ఎగిరినప్పుడు, తక్కువ ఉష్ణోగ్రతల వద్ద ఆ చుక్కలు వడగళ్ళుగా మారుతాయి.

క్లోడ్ బర్న్ అంటే వడగళ్లతో కూడిన ఆకస్మిక వర్షం.

S48.Ans.(b)

Sol.

భూమి యొక్క ఉపరితలం దగ్గర గాలి పీడనం ఎక్కువ, భూమి యొక్క ఉపరితలంపై పైకి లేచినప్పుడు గాలి పీడనం తక్కువగా ఉంటుంది.

S49.Ans.(d)

Sol.

సామాజిక/సాంస్కృతిక లక్షణాలు - భాష, పండుగలు, వేడుకలు, దుస్తులు.

భౌగోళిక లక్షణాలు - భూరూపాలు, నీటి వనరులు, అడవులు

S50.Ans.(c)

Sol.

అగ్నిపర్వత శిలలు బరువు తక్కువగా ఉండవు.

S51.Ans.(b)

Sol.

బ్రహ్మపుత్ర నది బంగాళాఖాతంలో కలుస్తుంది. బ్రహ్మపుత్ర నది సిల్ట్ నుండి మజులీ ద్వీపం ఏర్పడింది.

S52.Ans.(d)

Sol.

పైన పేర్కొన్న అడవులన్నీ ప్రధానంగా భారతదేశంలోని పీఠభూమిలో కనిపిస్తాయి.

S53.Ans(a)

Sol.

- a. తక్కువ జనన రేటు మరియు తక్కువ మరణాల రేటు
- b. అధిక జనన రేటు మరియు అధిక మరణాల రేటు
- C. అధిక జనన రేటు మరియు తక్కువ మరణాల రేటు

సరైన క్రమం B,C,A

S54.Ans.(a)

Sol.

కుడివైపున గోదావరి నది ఉపనదులు

దారణ - ప్రవర - మూల - సింధ్యణ - మంజర

S55.Ans(a)

Sol.

ఇసుక నేలల్లో లవణాలు మరియు సిలికా అధికంగా ఉంటాయి. ఈ నేలలో ముళ్ల చెట్లు ఎక్కువగా కనిపిస్తాయి. మినుము, నువ్వులు మొదలైన పంటలు పండిస్తారు. ఈ నేల ప్రాంతంలో మొక్క యొక్క బెరడు మందంగా ఉంటుంది.

S56.Ans.(d)

Sol.

స్తరీకరించిన రాళ్లలో బొగ్గు కనిపిస్తుంది. ఇది తారు, కోక్ రంగులను ఉత్పత్తి చేస్తుంది. బొగ్గు ఉత్పత్తిలో భారతదేశం ప్రపంచంలో మూడవ స్థానంలో మరియు చైనా మొదటి స్థానంలో ఉంది. ఇది ఖనిజ మొక్క కార్బన్ నుండి ఏర్పడుతుంది.

S57. Ans(b)

Sol. ఆర్థిక వ్యవస్థ పురోగమిస్తున్న కొద్దీ దాని మొత్తం ఆదాయం కూడా పెరుగుతుంది. కానీ ఈ పెరిగిన ఆదాయం జీవన ప్రమాణాలను మెరుగుపరచడానికి ఉపయోగించబడకపోవడంతో, జనాభా పెరుగుతుంది, ఇది చివరికి తలసరి ఆదాయాన్ని స్థిరంగా ఉంచుతుంది. అటువంటి ఆర్థిక వ్యవస్థ ఒక ఉచ్చు లాంటిది, దీనిని మార్లస్ ట్రాప్ అంటారు.

S58.Ans (c)

Sol. పామీర్ పీఠభూమి హిమాలయాలకు వాయువ్యంగా ఉంది. దీనిని పామిర్ నాట్ అని కూడా అంటారు. పీఠభూమి ఆఫ్ఘనిస్తాన్ మరియు తజికిస్తాన్లలో ఉంది.

S59. Ans(d)

Sol. పై రెండు ప్రకటనలు సరైనవి.

భారత ద్వీపకల్పంలోని దక్షిణ భాగాన్ని ఆక్రమించిన దక్కన్ పీఠభూమి ప్రపంచంలోని పురాతన భాగాలలో ఒకటి. దీనిని తరచుగా భారతీయ కవచం అని పిలుస్తారు.

S60. Ans(d)

Sol. పై నదులన్నీ ఆర్బియల్ డ్రైనేజీ వ్యవస్థలను సూచిస్తాయి.

S61. Ans (d)

Sol.

ఐరన్ 60 mg మరియు 0.4 mg ఫోలిక్ యాసిడ్ రోజుకు

. WHO సిఫార్సు ఐరన్ 60 mg మరియు 0.4 mg ఫోలిక్ యాసిడ్ ప్రతి రోజు మొత్తంలో ఐరన్ మరియు ఫోలిక్ యాసిడ్ గర్భిణీ స్త్రీకి.

S62. Ans(b)

Sol.

ప్రపంచ లింగ అంతరాయ సూచీ 2023, వరల్డ్ ఎకనామిక్ ఫోరమ్ (WEF) విడుదల చేసిన తాజా గ్లోబల్ జెండర్ గ్యాప్ నివేదికలో 146 దేశాలలో భారతదేశం 127వ స్థానంలో ఉంది.

భారతదేశం యొక్క మొత్తం స్కూలు 2022 నివేదికతో పోలిస్తే 2023లో 1.4 శాతం పాయింట్లు మరియు ఎనిమిది స్థానాలు మెరుగుపడింది.

S63. Ans(d)

Sol.

2012 యొక్క లైంగిక నేరాల నుండి పిల్లల రక్షణ చట్టం (POCSO) పైన పేర్కొన్న అన్నింటిలో జాబితా చేయబడిన అన్ని లక్ష్యాలను సాధించడం లక్ష్యంగా పెట్టుకుంది.

S64. Ans(b)

Sol. మరణించిన తన సోదరుని సంతానం లేని వితంతువుతో ఒక వ్యక్తి వివాహాన్ని లెవిరేట్ అంటారు.

S65. Ans (b)

Sol.

1. పాలియాండ్రస్ - స్త్రీ ఒకటి కంటే ఎక్కువ మంది భర్తలను వివాహం చేసుకోవచ్చు

2. బహుభార్యత్వం - పురుషుడు ఒకటి కంటే ఎక్కువ మంది భార్యలను వివాహం చేసుకోవచ్చు

3. పేట్రోనిమిక్ - తండ్రి లేదా మగ పూర్వీకుల పేరు నుండి ఉద్భవించిన పేరును సూచిస్తుంది లేదా దానికి సంబంధించినది.

4. సంతానం - సంతానం ఉత్పత్తి; పునరుత్పత్తి.

S66. Ans(a)

Sol. గోండులలో బంధించడం, పెళ్లి చేసుకోవడం సర్వసాధారణం

S67. Ans (d)

Sol. సమూహ వివాహం బహుభార్యాత్వం మరియు బహుభార్యాత్వం కలయికగా వర్ణించబడింది.

S68. Ans (d)

S69. Ans(a)

Sol. ఆదిమ వ్యభిచారం - లైంగిక సంబంధాలు లేదా వివాహానికి సంబంధించి అశ్లీల నిషేధాలు మరియు ఇతర నియమాలు లేకపోవడం వల్ల మానవ సమాజం యొక్క అసలు స్థితి వర్ణించబడిందనే సిద్ధాంతం. మోర్గాన్, మెక్లేల్లన్, బచోఫెన్ మరియు ప్రీజర్ వంటి తొలి మానవ శాస్త్రవేత్తలు ఈ అభిప్రాయాన్ని కలిగి ఉన్నారు.

S70. Ans(a)

Sol. కుటుంబ వ్యవస్థలో లైంగిక సంబంధం ఖచ్చితంగా లేదు

S71. Ans(d)

Sol. బంధుత్వ లక్షణాలు

(1) కొన్ని సందర్భాల్లో ఇది నిర్దిష్టంగా ఉంటుంది, మరికొన్నింటిలో ఇది కాదు

(2) ఇది సెక్స్ కు సంబంధించినది

(3) ఇది సాధారణంగా జనరేషన్ గ్యాప్ ని సూచిస్తుంది

S72. Ans (b)

Sol. జూలై 2, 2009న, ప్రధాన న్యాయమూర్తి ఎపి షా & జస్టిస్ ఎస్ మురళీధర్లతో కూడిన హైకోర్టు బెంచ్ "సెక్షన్ 377 IPC, వ్యక్తిగతంగా పెద్దల అంగీకార లైంగిక చర్యలను నేరంగా పరిగణించడం, రాజ్యాంగంలోని 21, 14 మరియు 15 అధికరణలను ఉల్లంఘించడమే" అని తీర్పునిచ్చింది. .

S73. Ans (a)

Sol. మార్క్స్ మరియు ఎంగెల్స్ సమాజం యొక్క ఆర్థిక నిర్మాణం కోసం మౌలిక సదుపాయాలు లేదా ఆధారం అనే పదాలను ఉపయోగించారు . న్యాయ-రాజకీయ సంస్థలు, రాష్ట్రం, చట్టం మొదలైన వాటికి సూపర్ స్ట్రక్చర్ అనే పదాలను ఉపయోగించారు. ఇవన్నీ కూడా "సామాజిక స్పృహ యొక్క రూపాలు" గ పరిగణిస్తారు

S74. Ans(b)

Sol. లూయిస్ రిచ్

S75. Ans (a)

Sol.వర్గ స్పృహ యొక్క భావన ఒక తరగతిని ఏర్పాటు చేయడానికి అవసరం కానీ కులం కాదు.

S76. Ans (b)

Sol.సాంస్కృతిక నీతి - ప్రజల దృష్టి

S77. Ans (b)

Sol. 'పెళ్లి తర్వాత పిల్లలు వస్తారు'. ఈ ప్రకటన నిర్మాణ దశను సూచిస్తుంది

S78. Ans (a)

Sol."గిరిజన జీవితంలో మొత్తం సమాజానికి సంబంధించిన ప్రధాన సంబంధాలు మాండెల్బామ్ ఇచ్చిన బంధుత్వంపై ఆధారపడి ఉంటాయి.

S79. Ans (a)

Sol. ఆర్టికల్ 46: షెడ్యూల్డ్ యొక్క విద్యా మరియు ఆర్థిక ప్రయోజనాలను ప్రోత్సహించడం

కులాలు, షెడ్యూల్డ్ తెగలు మరియు ఇతర బలహీన వర్గాలు- రాష్ట్రం బలహీన వర్గాల ప్రజల విద్యా మరియు ఆర్థిక ప్రయోజనాలను ప్రత్యేక శ్రద్ధతో ప్రోత్సహిస్తుంది మరియు ముఖ్యంగా షెడ్యూల్డ్ కులాలు మరియు షెడ్యూల్డ్ తెగల మరియు సామాజిక అన్యాయం నుండి వారిని రక్షించాలి అన్ని రకాల దోపిడీల నుండి .

S80. Ans(c)

Sol. షెడ్యూల్డ్ తెగల జాతీయ కమిషన్ (ఎస్టీలు) -

- నేషనల్ కమిషన్ ఫర్ షెడ్యూల్డ్ ట్రిబ్స్ (STలు) అనేది రాజ్యాంగ సంస్థ, ఇది రాజ్యాంగంలోని ఆర్టికల్ 338-A ద్వారా నేరుగా స్థాపించబడింది.
- 65వ రాజ్యాంగ సవరణ చట్టం 1990 ఆమోదించిన తర్వాత SC మరియు STల కోసం జాతీయ కమిషన్ ఉనికిలోకి వచ్చింది.
- రాజ్యాంగంలోని ఆర్టికల్ 338 ప్రకారం కమిషన్ ఏర్పాటు చేయబడింది.
- రాజ్యాంగం లేదా ఇతర చట్టాల ప్రకారం SC మరియు STలకు అందించబడిన అన్ని రక్షణలను పర్యవేక్షించడం దీని లక్ష్యం.
- భౌగోళికంగా మరియు సాంస్కృతికంగా, STలు SCలకు భిన్నంగా ఉంటారు.
- వారి సమస్యలు కూడా భిన్నంగా ఉంటాయి.

- 1999లో STల సంక్షేమం మరియు అభివృద్ధి పట్ల మరింత దృష్టి కేంద్రీకరించే విధానం కోసం గిరిజన వ్యవహారాల కొత్త మంత్రిత్వ శాఖ సృష్టించబడింది.

S81. Ans(a)

Sol. "ఒకే కులం, ఒకే మతం, ఒక దేవుడు మనిషికి" అనే శక్తివంతమైన ఆచరణాత్మక జీవిత తత్వశాస్త్రంగా రూపొందించిన "అద్వైత" యొక్క నిజమైన సందేశాన్ని శ్రీ నారాయణ గురు ప్రజల మనస్సులలోకి తీసుకువచ్చారు.

S82. Ans(a)

Sol. చిన్న పెద్ద కుటుంబం

S83. Ans (b)

S84. Ans (a)

Sol. ప్రధాన మంత్రి రోజ్ గార్ యోజన (PMRY):

ప్రధానమంత్రి రోజ్ గార్ యోజన దేశంలోని విద్యావంతులైన నిరుద్యోగ యువకులకు ఉపాధి అవకాశాల కల్పన కోసం భారత ప్రభుత్వం స్పాన్సర్ చేసిన ముఖ్యమైన పథకాలలో ఒకటి. ఈ పథకం 1993-94 సంవత్సరం నుండి మణిపూర్ లో అమలు చేయడం ప్రారంభించబడింది. ఈ పథకం కింద పైనాన్సింగ్ పూర్తిగా సంబంధిత జిల్లాల్లో ఉన్న జాతీయం చేయబడిన బ్యాంకులచే భరించబడుతుంది. ఇప్పటి వరకు 7,900 మందికి పైగా చదువుకున్న నిరుద్యోగ యువకులకు ఈ పథకం కింద రూ. పథకం ప్రారంభ అమలు నుండి 59.84 కోట్లు.

S85. Ans(b)

Sol. ఉత్తర ప్రదేశ్.

S86. Ans (a)

Sol.

ప్రపంచవ్యాప్తంగా, నేడు ప్రపంచంలోని తొమ్మిది మందిలో ఒకరు (795 మిలియన్లు) పోషకాహార లోపంతో బాధపడుతున్నారు.

SDGలు అన్ని రకాల ఆకలి మరియు పోషకాహార లోపాలను 2030 నాటికి అంతం చేయాలని లక్ష్యంగా పెట్టుకున్నాయి, ప్రజలందరికీ - ముఖ్యంగా పిల్లలకు - యాక్సెస్ ఉండేలా చేస్తుంది ఏడాది పొడవునా తగినంత మరియు పోషకమైన ఆహారం అందిస్తుంది

S87. Ans(a)

Sol.

స్వావలంబన ,సామాజిక న్యాయం, ఆధునికీకరణ మరియు వృద్ధి 7వ పంచవర్ష ప్రణాళిక యొక్క లక్ష్యాలు. 8వ పంచవర్ష ప్రణాళిక మానవ వనరుల అభివృద్ధిపై దృష్టి సారించింది, 9వ పంచవర్ష ప్రణాళిక సమాన పంపిణీ మరియు సమానత్వంతో వృద్ధిపై దృష్టి పెట్టింది. 10వ పంచవర్ష ప్రణాళిక మానవాభివృద్ధికి ప్రాధాన్యతనిస్తూ వృద్ధిపై దృష్టి సారించింది.

S88.Ans(b)

Sol.

దీక్ష, స్వయం (స్టడీ వెబ్ ఆఫ్ యాక్టివ్ లెర్నింగ్ ఫర్ యంగ్ ఆస్పైరింగ్ మైండ్స్), PM-eVIDYA (వన్ క్లాస్ వన్ ఛానల్) మరియు నిష్ఠ (స్కూల్ హెడ్స్ మరియు టీచర్స్ హోలిస్టిక్ అడ్వాన్స్‌మెంట్ కోసం నేషనల్ ఇనిషియేటివ్) విద్యా మంత్రిత్వ శాఖ యొక్క ప్రధాన కార్యక్రమాలు.

S89. Ans (d)

Sol.

హార్ ఘర్, నల్ సే జల్ స్కీమ్ కింద 2022-23లో 3.8 కోట్ల కుటుంబాలను లబ్ధి చేకూర్చడానికి 60,000 కోట్ల రూపాయల కేటాయింపు జరిగింది.

హార్ ఘర్, నల్ సే జల్ ప్రస్తుత కవరేజీ 8.7 కోట్లు అని ఆర్థిక మంత్రి తెలిపారు.

అందులో 5.5 కోట్ల కుటుంబాలకు గత రెండేళ్లలోనే కుళాయి నీటిని అందించారు.

నిర్మలా సీతారామన్ 80 లక్షల ఇళ్లను పూర్తి చేసేందుకు రూ.48,000 కోట్లు కేటాయిస్తున్నట్లు ప్రకటించారు.

2022-23లో పిఎం ఆవాస్ యోజన, గ్రామీణ మరియు పట్టణ ప్రాంతాలలో గుర్తించబడిన అర్హులైన లబ్ధిదారుల కోసం.

అన్ని భూమి మరియు నిర్మాణానికి సంబంధించిన సమయాన్ని తగ్గించడానికి కేంద్ర ప్రభుత్వం రాష్ట్ర ప్రభుత్వాలతో కలిసి పని చేస్తుంది.

S90. Ans(c)

Sol.

భారత రాజ్యాంగం ప్రకారం, షెడ్యూల్డ్ కులాలు మరియు షెడ్యూల్డ్ తెగల జాబితాలో ఎవరిని చేర్చాలో నిర్ణయించే హక్కు రాష్ట్రపతికి ఉంది.

S91. Ans (c)

Sol.

తమిళనాడు తన స్వంత వాతావరణ మార్పు మిషన్‌ను ప్రారంభించిన మొదటి రాష్ట్రంగా అవతరిస్తుంది. ఇది గత సెప్టెంబర్‌లో గ్రీన్ తమిళనాడు మిషన్‌ను మరియు ఈ ఆగస్టులో తమిళనాడు వెట్‌ల్యాండ్స్ మిషన్‌ను ప్రారంభించింది.

S92. Ans (b)

Sol. మనస్వాణి వ్యవస్థాపకురాలు మాన్సీ గులాటి తన పుస్తకాన్ని 'మిరాకిల్స్ ఆఫ్ ఫేస్ యోగా'ను విడుదల చేశారు. 'ఫేస్ యోగా' పుస్తకం ముఖ యోగాపై సమగ్రమైన రచన, ఇది ప్రారంభకులకు సులభంగా అర్థమయ్యేలా సరళమైన మరియు సరళమైన భాషలో వ్రాయబడింది.

S93. Ans(a)

Sol.

మీథేన్ గ్లోబల్ ట్రాకర్ నివేదికను ఇంటర్నేషనల్ ఎనర్జీ ఏజెన్సీ ఏటా ప్రచురిస్తుంది. ఇటీవల ప్రచురించిన నివేదిక ప్రకారం, శిలాజ ఇంధన కంపెనీలు 2022లో వాతావరణంలోకి 120 మిలియన్ మెట్రిక్ టన్నుల మీథేన్‌ను విడుదల చేశాయి, ఇది 2019లో కనిపించిన రికార్డుల కంటే కొంచెం తక్కువగా ఉంది. ఇంధన రంగం నుండి 75 శాతం మీథేన్ ఉద్గారాలను తగ్గించవచ్చని నివేదిక పేర్కొంది. చౌకగా మరియు సులభంగా అందుబాటులో ఉన్న సాంకేతికత సహాయం. మీథేన్ విడుదలను అరికట్టడానికి అందుబాటులో ఉన్న 80 శాతం ఎంపికలను నికర సున్నా ఖర్చుతో శిలాజ ఇంధన పరిశ్రమ అమలు చేయవచ్చని పేర్కొంది.

S94. Ans(b)

Sol.

గణతంత్ర దినోత్సవ వేడుకల్లో భాగంగా 2023 జనవరి 26 నుండి 31 వరకు ఢిల్లీలోని ఎర్రకోట ఎదురుగా ఉన్న లాన్స్ మరియు జ్ఞాన్ పథ్ వద్ద ఆరు రోజుల మెగా ఈవెంట్ "భారత్ పర్వ" ఈవెంట్‌ను భారత ప్రభుత్వం నిర్వహించనుంది. "భారత్ పర్వ" పర్యాటక మంత్రిత్వ శాఖ క్రింద ఉంది మరియు ఈవెంట్ కోసం నోడల్ మంత్రిత్వ శాఖగా నియమించబడింది

S95. Ans(a)

Sol.

భారతదేశం 2023 నాటికి మీజిల్స్ మరియు రుబెల్లా (MR)ని నిర్మూలించాలని లక్ష్యంగా పెట్టుకుంది. మీజిల్స్ అధిక మరణాల రేటును కలిగి ఉండగా, గర్భిణీ స్త్రీలలో రుబెల్లా సంక్రమణం పిండంపై ప్రభావం చూపుతుంది, ఫలితంగా పుట్టుకతో వచ్చే లోపాలు ఏర్పడతాయి. మీజిల్స్ మరియు రుబెల్లా రెండూ వైరల్ ఇన్ఫెక్షన్లు.

S96. Ans (a)

Sol.

G20 అనేది 19 దేశాలు మరియు యూరోపియన్ యూనియన్, అంతర్జాతీయ ద్రవ్య నిధి మరియు ప్రపంచ బ్యాంకు ప్రతినిధులతో కూడిన అనధికారిక సమూహం. G20 సభ్యత్వం ప్రపంచంలోని అతిపెద్ద అధునాతన మరియు అభివృద్ధి చెందుతున్న ఆర్థిక వ్యవస్థల మిశ్రమాన్ని కలిగి ఉంది, కలిసి, G20 సభ్యులు ప్రపంచ GDPలో 80% కంటే ఎక్కువ, అంతర్జాతీయ వాణిజ్యంలో 75% మరియు ప్రపంచ జనాభాలో 60% ప్రాతినిధ్యం వహిస్తున్నారు. G20 ప్రెసిడెన్సీ కాలక్రమణ ప్రాంతీయ సమతుల్యతను నిర్ధారించే వ్యవస్థ ప్రకారం ప్రతి సంవత్సరం తిరుగుతుంది. ప్రెసిడెన్సీ ఎంపిక కోసం, 19 దేశాలు 5 గ్రూపులుగా విభజించబడ్డాయి, ఒక్కొక్కటి 4 కంటే ఎక్కువ దేశాలను కలిగి ఉండవు. ప్రతి సమూహం మధ్య అధ్యక్ష పదవి తిరుగుతుంది. ప్రతి సంవత్సరం G20 అధ్యక్షుడిగా మరొక సమూహం నుండి ఒక దేశాన్ని ఎంపిక చేస్తుంది.

S97. Ans(c)

Sol.

ఇంటర్నేషనల్ మానిటరీ ఫండ్ (IMF) వరల్డ్ "వరల్డ్ ఎకనామిక్ ఔట్లుక్" నివేదికను విడుదల చేసింది.

S98. Ans(c)

Sol.

ఇది సెంట్రల్ సెక్టర్ స్కీమ్, దీనిని గతంలో సీనియర్ సిటిజన్స్ కోసం నేషనల్ యాక్షన్ స్కీమ్ అని పిలిచేవారు. ఈ పథకాన్ని సామాజిక న్యాయం మరియు సాధికారత మంత్రిత్వ శాఖ ఆధ్వర్యంలోని సామాజిక న్యాయం మరియు సాధికారత విభాగం అమలు చేస్తోంది

ఇది రెండు భాగాలను కలిగి ఉంది - సీనియర్ సిటిజన్స్ కోసం ఇంటిగ్రేటెడ్ ప్రోగ్రామ్ (IPSRc) మరియు సీనియర్ సిటిజన్స్ కోసం రాష్ట్ర కార్యచరణ ప్రణాళిక (SAPSRc).

IPSRc: సీనియర్ సిటిజన్స్ జీవన నాణ్యతను మెరుగుపరచడానికి, ముఖ్యంగా పేద సీనియర్ సిటిజన్స్ కోసం ప్రాథమిక సౌకర్యాలను పూడ్చేందుకు గృహ నిర్మాణాన్ని ఇది కలిగి ఉంటుంది. SAPSRc: ప్రతి రాష్ట్రం/UT సీనియర్ సిటిజన్ల సంక్షేమం కోసం దాని స్వంత కార్యచరణ ప్రణాళికను సిద్ధం చేయాలని భావిస్తున్నారు.

IPSC కాంపోనెంట్ కింద వృద్ధాశ్రమాలను నిర్వహించడం మరియు నిర్వహించడం, సంరక్షణ గృహాలను కొనసాగించడం కోసం NGOలు/వాలంటరీ ఆర్గనైజేషన్స్ (VOలు)కి సహాయం అందించబడుతుంది.

S99. Ans(c)

Sol.

ఇటీవల పులులను సామూహికంగా చంపడం ఈ ప్రశ్నకు బలం చేకూర్చింది. పులులు మరియు వాటి ఆవాసాలను రక్షించడానికి ప్రాజెక్ట్ టైగర్ 1973లో భారతదేశంలో ప్రారంభించబడింది. ఇది ప్రపంచంలో అత్యంత విజయవంతమైన పరిరక్షణ కార్యక్రమాలలో ఒకటి. కాబట్టి స్టేట్ మెంట్ 1 సరైనది. ప్రపంచంలోనే అత్యధిక పులుల జనాభా భారతదేశంలోనే ఉంది. 2018లో తాజా జనాభా లెక్కల ప్రకారం, భారతదేశంలో సుమారుగా 2,967 పులులు ఉన్నాయి, ఇది ప్రపంచంలోని పులుల జనాభాలో 70% కంటే ఎక్కువ. కాబట్టి స్టేట్ మెంట్ 2 సరైనది. భారతదేశంలోని కొన్ని పులుల నిల్వలు జాతీయ ఉద్యానవనాలు మరియు వన్యప్రాణుల అభయారణ్యాలలో ఉన్నాయి, కానీ అన్నీ కాదు. ఒడిశాలోని సిమ్లిపాల్ మరియు తమిళనాడులోని సత్యమంగళం వంటి కొన్ని టైగర్ రిజర్వులు రక్షిత ప్రాంతాల వెలుపల అడవులలో ఉన్నాయి. కాబట్టి ప్రకటన 3 తప్పు.

S100. Ans(d)

Sol.

భారతీయ అమెరికన్ అరుణ్ సుబ్రమణ్యం న్యూయార్క్ సదరన్ డిస్ట్రిక్టుకు మొదటి దక్షిణాసియా జిల్లా న్యాయమూర్తిగా ధృవీకరించబడ్డారు.

S101. Ans(a)

Sol.

బెంగాళురులో మొట్టమొదటి మిథనాల్తో నడిచే బస్సును కేంద్ర రోడ్డు, రవాణా శాఖ మంత్రి నితీష్ గడ్కరీ ఆవిష్కరించారు.

S102. Ans(c)

Sol.

వందే భారత్ ఎక్స్ ప్రెస్ ను ఇప్పుడు ఆసియాలో మొదటి మహిళా లోకోమోటివ్ పైలట్ సురేఖ యాదవ్ నడుపుతున్నారు. యాదవ్ వందే భారత్ ఎక్స్ ప్రెస్ ను షోలాపూర్ నుండి మహారాష్ట్రలోని ఛత్రపతి శివాజీ మహారాజ్ టెర్మినల్ (CSMT) వరకు నడిపారు.

S103. Ans(c)

Sol.

రిజర్వ్ బ్యాంక్ ఆఫ్ ఇండియా (RBI) ఇండియన్ రెన్యూవబుల్ ఎనర్జీ డెవలప్‌మెంట్ ఏజెన్సీ (IREDA)కి 'ఇన్‌ఫ్రాస్ట్రక్చర్ ఫైనాన్స్ కంపెనీ (IFC)' హోదాను మంజూరు చేసింది.

S104. Ans(b)

Sol.

కొలంబియా 25 ఏళ్లలో తొలిసారిగా మహిళల కోసం సైనిక సేవలను ప్రవేశపెట్టింది. ఫిబ్రవరి 2023 నాటికి, కొలంబియా సైన్యంలోకి 1,296 మంది మహిళలు డ్రాఫ్ట్ చేయబడ్డారు.

S105. Ans(d)

Sol.

రాష్ట్రసంత తుక్కోజీ మహారాజ్ నాగపూర్ విశ్వవిద్యాలయం, లక్ష్మీనారాయణ ఇన్‌స్టిట్యూట్ ఆఫ్ టెక్నాలజీ నాగపూర్ మరియు గవర్నమెంట్ నాలెడ్జ్, సైన్స్ ఇన్‌స్టిట్యూట్ అమరావతి ఇది అభిమత యూనివర్సిటీ హోదాను పొందింది.

S106. Ans (c)

Sol. ప్రపంచవ్యాప్తంగా మొత్తం 35 హాట్‌స్పాట్లు ఉన్నాయి, ఇవి భూమి యొక్క ఉపరితలంలో 2.3 శాతాన్ని కలిగి ఉన్నాయి, అయితే ప్రపంచంలోని స్థానిక మొక్కలలో యాభై శాతానికి పైగా ఉన్నాయి. అలాగే, దాదాపు 43% ప్రాంతంలో పక్షులు, క్షీరదాలు, సరీసృపాలు మరియు ఉభయచరాలు ఉన్నాయి.

S107. Ans(a)

Sol. ప్రాథమిక హక్కుల నిబంధనలను మార్చడానికి ప్రత్యేక మెజారిటీ అవసరం.

S108. Ans(b)

Sol. నేషనల్ ఎయిర్ క్వాలిటీ ఇండెక్స్ కింది 8 కాలుష్య కారకాలను కలిగి ఉంది.

1. p. M. 2.5

2. p. M. 10

3. ఓజోన్

4. కార్బన్ మోనాక్సైడ్

5. అమ్మోనియా

6. సల్ఫర్ డయాక్సైడ్

7. లీడ్

8. నైట్రోజన్ ఆక్సైడ్

S109. Ans(c)

Sol.

- మణిపూర్ యొక్క జోమి జాతి సమూహం అస్సాంలోని బోడోలాండ్ టెరిటోరియల్ కౌన్సిల్ తరహాలో స్వీయ-పరిపాలన జోన్ అయిన రాజ్యాంగంలోని ఆరవ షెడ్యూల్ ప్రకారం జోలాండ్ టెరిటోరియల్ కౌన్సిల్ (ZTC)ని ఏర్పాటు చేయాలనే డిమాండ్‌ను పునరుద్ధరించింది.
- జూ ప్రజలు లేదా జోమీ అనేది భారతదేశం మరియు బర్మా సరిహద్దులో నివసిస్తున్న ఒక స్థానిక సమాజం. వారు జో ప్రజల ఉప సమూహం (మిజో-కుకి-చిన్).
- భారతదేశంలో, వారు పైట్ మరియు సిమ్టే ప్రజలతో నివసిస్తున్నారు భాష మరియు అలవాట్లలో సమానంగా ఉంటారు.
- భారతదేశంలో, జూ అధికారికంగా మణిపూర్ రాష్ట్రంలోని ముప్పై-మూడు స్థానిక ప్రజలలో ఒకరిగా గుర్తించబడ్డారు మరియు షెడ్యూల్డ్ తెగలలో ఒకరు.
- 2001 జనాభా లెక్కల ప్రకారం, మణిపూర్‌లో జూ/జో జనాభా దాదాపు 20,000, జనాభాలో 3% కంటే తక్కువ. ఈ సంఘం మణిపూర్‌లోని చురచంద్‌పూర్ మరియు చందేల్ జిల్లాల్లో కేంద్రీకృతమై ఉంది.

S110.Ans (c)

Sol. జగనన్న అమ్మ ఒడి పథకాన్ని ఏపీ సీఎం వైఎస్ జగన్ మోహన్ రెడ్డి ప్రారంభించారు ఇది 1వ తరగతి నుండి 12వ తరగతి వరకు ప్రయోజనం పొందుతుంది.

S111.Ans (d)

Sol. భారతదేశం యొక్క చద్రయాన్ 3 చంద్రునిపై ల్యాండ్ అయిన ఆగస్టు 23ని జాతీయ అంతరిక్ష దినోత్సవంగా జరుపుకోవాలని ప్రధాన మంత్రి ప్రకటించారు.

S112.Ans.(a)

Sol. రామాయపట్నం ఆంధ్ర ప్రదేశ్ రాష్ట్రం, నెల్లూరు జిల్లా, ఉలవపాడు మండలంలోని బంగాళాఖాతం ఒడ్డున ఉన్న ఒక చిన్న గ్రామం.

S113. Ans(a)

Sol. ప్రపంచ మానసిక ఆరోగ్య దినోత్సవం 2023 "మానసిక ఆరోగ్యం సార్యత్రిక మానవ హక్కు" అనే థీమ్‌తో వ్యక్తులు మరియు సంఘాలకు ఒక వేదికను అందిస్తుంది. ప్రపంచ మానసిక ఆరోగ్య దినోత్సవం 2023 యొక్క థీమ్ మానసిక ఆరోగ్య సవాళ్లను పరిష్కరించడానికి వ్యక్తులు మరియు సంఘాలకు ఉత్ప్రేరకంగా పనిచేస్తుంది. దీని ప్రాథమిక లక్ష్యాలలో మానసిక ఆరోగ్య సమస్యలపై ప్రజలకు అవగాహన కల్పించడం మరియు వారితో పోరాడుతున్న వారికి సహాయాన్ని అందించడం వంటివి ఉన్నాయి.

S114. Ans(a)

Sol.

భారతదేశంలో పసుపు ఉత్పత్తిలో ఆంధ్రప్రదేశ్ అగ్రగామిగా ఉంది, దేశ ఉత్పత్తిలో 50% పైగా ఉంది. పసుపును ఉత్పత్తి చేసే ఇతర ప్రధాన రాష్ట్రాలలో తమిళనాడు, ఒరిస్సా, కర్ణాటక మరియు కేరళ ఉన్నాయి.

S115. Ans(c)

Sol.

RBKలు YSR రైతు భరోసా పథకాన్ని పంపిణీ చేస్తాయి, రూ. అర్బులైన ప్రతి రైతు కుటుంబానికి సంవత్సరానికి 13,500.

విత్తనాలు, ఎరువులు మరియు పురుగుమందుల వంటి నాణ్యమైన వ్యవసాయ ఇన్పుట్లకు సబ్సిడీ ధరలకు ఇవి కేంద్రంగా పనిచేస్తాయి.

S116. Ans(b)

Sol.

భారత ప్రభుత్వ విద్యుత్ మంత్రిత్వ శాఖ ఆధ్వర్యంలోని బ్యూరో ఆఫ్ ఎనర్జీ ఎఫిషియెన్సీ (BEE), లైఫ్ స్టైల్ ఫర్ ఎన్విరాన్మెంట్ (లైఫ్) మిషన్ను 2022లో ప్రారంభించింది.

ఈ ప్రతిష్టాత్మక చొరవ శక్తి పరిరక్షణను ప్రోత్సహించే మరియు వాతావరణ మార్పుల ఉపశమనానికి దోహదపడే పర్యావరణ స్పృహతో కూడిన జీవనశైలిని అవలంబించడానికి వ్యక్తులను శక్తివంతం చేయడం లక్ష్యంగా పెట్టుకుంది.

S117. Ans(d)

Sol.

ఆడదం ఆంధ్ర అనేది 2023లో ఆంధ్రప్రదేశ్ ప్రభుత్వం ప్రారంభించిన భారీ బహుళ-క్రీడా పోటీ.

ఈ ప్రతిష్టాత్మక చొరవ లక్ష్యం:

క్రీడా భాగస్వామ్యాన్ని ప్రోత్సహించండి

యువతకు సాధికారత కల్పించండి

క్రీడా సామర్థ్యాన్ని వెలికితీయండి

క్రీడా సంస్కృతిని పెంపొందించుకోండి

ఇది క్రికెట్, వాలీబాల్, బ్యాడ్మింటన్, కబడ్డీ, ఖో-ఖో మరియు అథ్లెటిక్స్ వంటి ప్రసిద్ధ క్రీడలతో పాటు టగ్-ఆఫ్-వార్ మరియు సాక్ రేస్ వంటి సాంప్రదాయ గ్రామీణ క్రీడలను కవర్ చేస్తుంది.

S118. Ans(b)

Sol.

ఆంధ్రప్రదేశ్ ఇంటిగ్రేటెడ్ ఇరిగేషన్ అండ్ అగ్రికల్చర్ ట్రాన్స్ఫర్మేషన్ ప్రాజెక్ట్ (APIIATP) అనేది ప్రపంచ బ్యాంకు నిధులతో కూడిన ప్రాజెక్ట్.

2 లక్షల మంది రైతులకు ప్రయోజనం చేకూరుతుందని అంచనా

ఇది భారతదేశంలోని ఆంధ్రప్రదేశ్ రాష్ట్రంలో నీటిపారుదలని మెరుగుపరచడం మరియు వ్యవసాయాన్ని మార్చడం లక్ష్యంగా పెట్టుకుంది.

కాలువలు మరియు బోర్లు వంటి నీటిపారుదల వ్యవస్థల సామర్థ్యాన్ని మెరుగుపరచడంపై ఇది దృష్టి పెడుతుంది.

కాల్వలను లైనింగ్ చేయడం, నీటి మీటర్లను అమర్చడం మరియు బిందు సేద్యాన్ని ప్రోత్సహించడం ద్వారా ఇది జరుగుతుంది.

S119. Ans(a)

Sol.

వైజాగ్ లోని పెదగంట్యాడలో ఏపీలో తొలి ఫ్లాట్ ఫ్యాక్టరీ కాంప్లెక్స్

ఇది కేంద్ర ప్రభుత్వం యొక్క MSME మౌలిక సదుపాయాల అభివృద్ధి పథకం క్రింద స్థాపించబడుతుంది.

మొదటి FFCలో 32 MSMEలు ఉంటాయి

S120. Ans(a)

Sol.

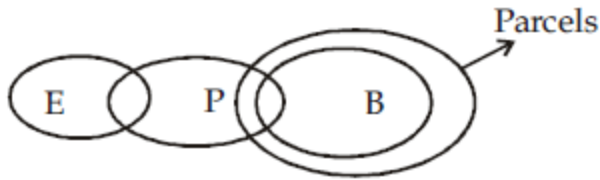
పల్నాడులోని కొండవీడు కోట చరిత్ర శాతవాహనుల కాలం నాటిది మరియు రాష్ట్రంలోని అత్యంత ప్రసిద్ధ పర్యాటక ప్రదేశం.

దీనిని రెడ్డి రాజులు నిర్మించారు

దీనిని రెడ్డి రాజులు, విజయనగర రాజులు మరియు బహమాన్, నిజాంలు, ఫ్రెంచ్ మరియు ఈస్ట్ ఇండియా కంపెనీ పాలించారు.

S121. Ans (a)

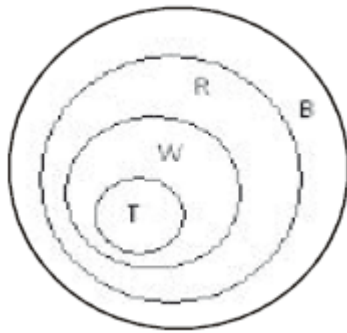
Sol.



Both follow

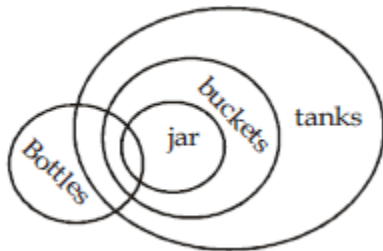
S122. Ans (a)

Sol.



S123. Ans (a)

Sol.



S124. Ans(a)

Sol. ప్రకటన మంచి పుస్తకం గురించి. అంటే కొన్ని పుస్తకాలు మంచివి కావచ్చు. కాబట్టి, I అవ్యక్తం. 'ఖరీదైనట్లయితే' అనే పదాలు చాలా పుస్తకాలు ఖరీదైనవి కావు. కాబట్టి, II అవ్యక్తమైనది కాదు.

S125.Ans(a)

Sol. కేవలం I మాత్రమే చెల్లుబాటులో అయినది . సృజనాత్మకత మరియు తెలివితేటలు సంబంధం కలిగి ఉన్నాయని స్పష్టంగా తెలుస్తుంది.

ఊహ II అస్సలు ఊహ కాదు. ఇది కేవలం ఇచ్చిన ప్రకటన యొక్క పునఃస్థాపన.

S126.Ans (d)

Sol. ప్రజలు కోరుకునే ఉత్పత్తి యొక్క మంచి ఫీచర్ హైలైట్ చేయబడింది, కాబట్టి I అంతర్లీనంగా ఉన్నాది . సర్క్యులేషన్ మెరుగుపడితే కాంప్లెక్స్ మెరుగుస్తుంది. కాబట్టి II కూడా అంతర్లీనంగా ఉంటుంది.

S127.Ans (d)

Sol. ప్రకటనలో, స్పిన్నర్ల సంఖ్య పేర్కొనబడలేదు. కాబట్టి మొదటి తీర్మానం చెల్లదు. బ్యాట్స్మెన్ సమాచారం ఇవ్వబడలేదు కాబట్టి రెండవ ముగింపు కూడా చెల్లదు.

S128. Ans(a)

Sol. మొదటి తీర్మానం వాస్తవం మరియు పై సమాచారాన్ని అనుసరించండి రెండవ తీర్మానం అనుసరించకండి

S129.Ans. (b)

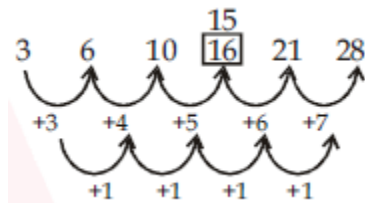
Sol. భవిష్యత్తు కోసం అభివృద్ధి చెందుతున్న దేశాల జనాభా నిర్ధారణ ఇవ్వబడలేదు. ఇది కలయికను పెంచుతుందని చెప్పవచ్చు కాబట్టి మంచి జీవన నాణ్యతను అందించడం కష్టమవుతుంది.

S130.Ans(b)

Sol. పాఠకుల సంఖ్య వార్తాపత్రికపై ఆధారపడి ఉండదు కాబట్టి మొదటిది చెల్లదు. II చెల్లుబాటు అవుతుంది ఎందుకంటే ఈ సమాచారం ద్వారా మేము రీడర్షిప్పై సంబంధిత సమాచారాన్ని కనుగొంటాము.

S131. Ans (a)

Sol.



S132.Ans (a);

Sol.వరుస క్రమం అనేది $+ 5, + (5 \times 4), + (20 \times 4), + (80 \times 4), + (320 \times 4)$. So term is 1715

S133. Ans (d)

Sol. na

ప్రకటన 1 మరియు 2నుండి , pod is common and the common word is 'boy' So, 'Pod' stands for 'boy'.

ప్రకటన 1 మరియు 4, joc is common and the common word is 'very'

అందువలన 'joc' stands for 'very' ,కాబట్టి 'na' stands for 'bright'

S134. Ans (a)

Sol. 7

మొదటి మరియు రెండవ ప్రకటనలలో, సాధారణ పదం 'hard' మరియు సాధారణ కోడ్ అంకె '8'. కాబట్టి, '8' అంటే 'కఠినమైనది'. మొదటి మరియు మూడవ ప్రకటనలలో, సాధారణ పదం 'study' మరియు సాధారణ కోడ్ అంకె '6'. కాబట్టి, '6' అంటే చదువు. కాబట్టి, మొదటి ప్రకటనలో '7' అంటే 'very'.

S135. Ans (a)

Sol. చివరి 3 ఎంపికలు రాజకీయాలకు సంబంధించినవి మరియు మొదటి ఎంపిక లాయర్ ఇది భిన్నమైనది.

S136. Ans (b);

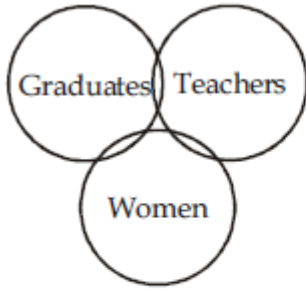
Sol. ఎంపిక తప్ప, రెండవ PSVX అక్షరాల పెరుగుదలను 3 స్థానానికి అనుసరించదు.

S137. Ans (d);

Sol. In each of alternatives except option (d) the combination of 2-2 digit are perfect square in given number.

S138. Ans (d)

Sol.



Here, some teachers may be women and some women may be graduates. Also some graduates may be teachers.

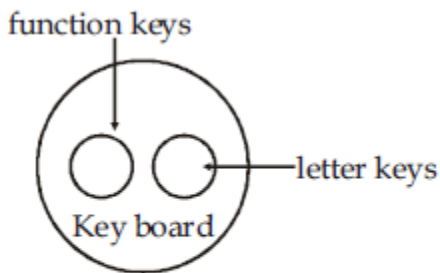
S139. Ans (b)

Sol.



S140. Ans (b)

Sol.



Function keys and letter keys both are present in key board but function keys are different from letter keys.

S141. Ans (c)

Sol. There are 36 triangles in the given figure.

S142. Ans (c)

Sol.

Total age of men = $15 \times 10 = 150$

Total age of women = $25 \times 12 = 300$

$$\begin{aligned} \text{Average age of the whole club} &= \frac{150 + 300}{40} \\ &= \frac{450}{40} = 11.25 \text{ years.} \end{aligned}$$

S143. Ans (a)

Sol.

Let the average of rest results = x

According to the question

$$14 \times 2 + x \times 10 = 15 \times 12 \Rightarrow 10x = 180 - 28$$

$$x = \frac{152}{10} \Rightarrow x = 15.2$$

Hence average of the rest is 15.2

S144. Ans (b)

Sol.

త్రీ నిష్పత్తి = Ratio of cubes.

Triplicate ratio of

$$7 : 5 = 7^3 : 5^3 = 343 : 125$$

S145. Ans (a)

Sol. విలోమ నిష్పత్తి $17 : 19 = 19 : 17$

S146. Ans (b)

Sol.

Let the First and Second number be x and y

$$\frac{x}{12} = \frac{y}{4} \Rightarrow \frac{x}{y} = \frac{3}{1}$$

$$\text{Required percentage} = \frac{3-1}{1} \times 100 = 200\%$$

S147. Ans (d)

Sol.

$$\text{Difference} = \frac{Pr^2(300+r)}{100^3}$$

[only possible for 3 years]

$$= \frac{8000(2.5)^2(300+2.5)}{100^3} = \text{Rs. } 15.125$$

S148. Ans (b)

Sol.

$$\text{Work done by (A + B) in 1 day} = \frac{1}{10}$$

$$\text{Work done by (B + C) in 1 day} = \frac{1}{15}$$

$$\text{Work done by (C + A) in 1 day} = \frac{1}{20}$$

$$\text{Work done by } 2(A + B + C) \text{ in 1 day} = \frac{1}{10} + \frac{1}{15} + \frac{1}{20}$$

$$\text{Work done by (A + B + C) in 1 day} = \frac{6+4+3}{60 \times 2} = \frac{13}{120}$$

$$\text{Time taken by them to complete the work} = \frac{120}{13} \text{ days}$$

S149. Ans (b)

Sol.

$$\text{Required ratio} = \sqrt{b} : \sqrt{a}$$

$$= \sqrt{25} : \sqrt{16} = 5 : 4$$

S150. Ans (d)

Sol.

Total male in B and H or girl C and D
Required Ratio

$$\left(\frac{2880 \times 11}{16} + \frac{3360 \times 9}{14}\right) : \left(\frac{2310 \times 11}{21} + \frac{3575 \times 2}{5}\right) \Rightarrow (1980 + 2160) : (1210 + 1430)$$

$$4140 : 2640 \Rightarrow 207 : 132 \Rightarrow 69 : 44$$

