

APOnline Limited

Notations :

- Options shown in green color and with ✓ icon are correct.
- Options shown in red color and with ✘ icon are incorrect.

Question Paper Name :	General Studies and Mental Ability
Subject Name :	General Studies and Mental ability
Actual Answer Key :	Yes
Calculator :	None
Magnifying Glass Required? :	No
Ruler Required? :	No
Eraser Required? :	No
Scratch Pad Required? :	No
Rough Sketch/Notepad Required? :	No
Protractor Required? :	No
Show Watermark on Console? :	Yes
Highlighter :	No
Auto Save on Console?	Yes
Change Font Color :	No
Change Background Color :	No
Change Theme :	No
Help Button :	No
Show Reports :	No
Show Progress Bar :	No
Is this Group for Examiner? :	No
Examiner permission :	Cant View
Show Progress Bar? :	No

General Studies and Mental Ability

Section type :	Online
Section Negative Marks :	0.33
Enable Mark as Answered Mark for Review and Clear Response :	Yes
Maximum Instruction Time :	0
Is Section Default? :	null

Question Number : 1 Question Id : 630680805036 Option Shuffling : Yes Is Question Mandatory : No Calculator : None Response Time : N.A Think Time : N.A Minimum Instruction Time : 0

Correct Marks : 1 Wrong Marks : 0.33

Who among the following is elected as the new Chief Minister of Solomon Islands in May 2024?

Options :

- ✓ Jeremiah Manele
- ✘ Ishmael Mali Avui
- ✘ Nestor Giro
- ✘ Jackson Fiulaua

Question Number : 1 Question Id : 630680805036 Option Shuffling : Yes Is Question Mandatory : No Calculator : None Response Time : N.A Think Time : N.A Minimum Instruction Time : 0

Correct Marks : 1 Wrong Marks : 0.33

కింది వారిలో మే 2024లో సోలమన్ దీవుల కొత్త ముఖ్యమంత్రిగా ఎన్నికైనవారు ఎవరు?

Options :

- ✓ జెరీమియా మనేలే
- ✘ ఇస్మాల్ మాలి అవుయి
- ✘ నెస్టర్ గిరో
- ✘ జాక్సన్ ఫియులావా

Question Number : 2 Question Id : 630680805037 Option Shuffling : Yes Is Question Mandatory : No Calculator : None Response Time : N.A Think Time : N.A Minimum Instruction Time : 0

Correct Marks : 1 Wrong Marks : 0.33

In April 2024, which of these countries unveiled new 'kamikaze' drone similar to Russian Lancet?

Options :

- ✘ Iraq
- ✓ Iran
- ✘ Dubai
- ✘ Turkey

Question Number : 2 Question Id : 630680805037 Option Shuffling : Yes Is Question Mandatory : No Calculator : None Response Time : N.A Think Time : N.A Minimum Instruction Time : 0

Correct Marks : 1 Wrong Marks : 0.33

ఏప్రిల్ 2024లో, రష్యన్ లాస్సెబ్లీ మాదిరిగానే కొత్త 'కామికేజ్' డ్రోన్ను వీటిలో అవిష్కరించిన దేశం ఏది?

Options :

- ✘ ఇరాక్
- ✔ ఇరాన్
- ✘ దుబాయి
- ✘ టర్కి

Question Number : 3 Question Id : 630680805038 Option Shuffling : Yes Is Question Mandatory : No Calculator : None Response Time : N.A Think Time : N.A Minimum Instruction Time : 0

Correct Marks : 1 Wrong Marks : 0.33

In April 2024, which of these countries became the first in world to introduce new 5-in-1 vaccine against meningitis?

Options :

- ✔ Nigeria
- ✘ Kenya
- ✘ Algeria
- ✘ Sudan

Question Number : 3 Question Id : 630680805038 Option Shuffling : Yes Is Question Mandatory : No Calculator : None Response Time : N.A Think Time : N.A Minimum Instruction Time : 0

Correct Marks : 1 Wrong Marks : 0.33

ఏప్రిల్ 2024లో, మెనింగైటిస్ నిరోధకంగా కొత్త 5-ఇన్-1 వ్యాక్సిన్ను ప్రపంచంలో ప్రప్రథమంగా ప్రవేశపెట్టిన దేశంగా ఈ దేశాల్లో నిలిచినది ఏది?

Options :

- ✔ నైజీరియ
- ✘ కెన్యా
- ✘ అల్జీరియా
- ✘ సూడాన్

Question Number : 4 Question Id : 630680805040 Option Shuffling : Yes Is Question Mandatory : No Calculator : None Response Time : N.A Think Time : N.A Minimum Instruction Time : 0

Correct Marks : 1 Wrong Marks : 0.33

In March 2024, China outpaced India in importing Russian crude by sea, receiving _____ barrels per day (bpd) compared to India's 1.36 million.

Options :

- ✘ 1.52 million
- ✘ 1.62 million
- ✘ 1.72 million
- ✔ 1.82 million

Question Number : 4 Question Id : 630680805040 Option Shuffling : Yes Is Question Mandatory : No Calculator : None Response Time : N.A Think Time : N.A Minimum Instruction Time : 0

Correct Marks : 1 Wrong Marks : 0.33

మార్చి 2024లో, సముద్రం ద్వారా రష్యా ముడి చమురును దిగుమతి చేసుకోవడంలో చైనా భారతదేశాన్ని అధిగమించింది, భారతదేశం యొక్క 1.36 మిలియన్లతో పోలిస్తే రోజుకు _____ బ్యారెల్స్ (bpd) పొందుతుంది.

Options :

- ✘ 1.52 మిలియన్
- ✘ 1.62 మిలియన్
- ✘ 1.72 మిలియన్
- ✔ 1.82 మిలియన్

Question Number : 5 Question Id : 630680805042 Option Shuffling : Yes Is Question Mandatory : No Calculator : None Response Time : N.A Think Time : N.A Minimum Instruction Time : 0

Correct Marks : 1 Wrong Marks : 0.33

In March 2024, which of the following unveiled BhashaNet portal at Universal Acceptance (UA) Day on 21st March 2024 for Digital Inclusion across the nation?

Options :

- ✘ Council of Scientific & Industrial Research (CSIR) and Ministry of Electronics and Information Technology (MeitY)
- ✘ NITI Aayog and Ministry of Electronics and Information Technology (MeitY)
- ✔ National Internet Exchange of India (NIXI) and Ministry of Electronics and Information Technology (MeitY)
- ✘ National Internet Exchange of India (NIXI) and Council of Scientific & Industrial Research (CSIR)

Question Number : 5 Question Id : 630680805042 Option Shuffling : Yes Is Question Mandatory : No Calculator : None Response Time : N.A Think Time : N.A Minimum Instruction Time : 0

Correct Marks : 1 Wrong Marks : 0.33

మార్చి 2024లో, దేశవ్యాప్తంగా డిజిటల్ మేళవింపు కోసం 21 మార్చి 2024న యూనివర్సల్ యాక్సెప్టెన్స్ (UA) దినోత్సవం సందర్భంగా భాషానెట్ పోర్టల్ని అవిష్కరించింది ఏది?

Options :

1. ✖ కొన్ని ఆఫ్ సైంటిఫిక్ & ఇండస్ట్రియల్ రీసెర్చ్ (CSIR) మరియు మినిస్ట్రీ ఆఫ్ ఎలక్ట్రానిక్స్ అండ్ ఇన్ఫర్మేషన్ టెక్నాలజీ (MeitY)
2. ✖ నీతి ఆయోగ్ మరియు ఎలక్ట్రానిక్స్ మరియు ఇన్ఫర్మేషన్ టెక్నాలజీ మంత్రిత్వ శాఖ (MeitY)
3. ✔ నేషనల్ ఇంటర్నెట్ ఎక్స్చేంజ్ ఆఫ్ ఇండియా (NIXI) మరియు మినిస్ట్రీ ఆఫ్ ఎలక్ట్రానిక్స్ అండ్ ఇన్ఫర్మేషన్ టెక్నాలజీ (MeitY)
4. ✖ నేషనల్ ఇంటర్నెట్ ఎక్స్చేంజ్ ఆఫ్ ఇండియా (NIXI) మరియు కొన్ని ఆఫ్ సైంటిఫిక్ & ఇండస్ట్రియల్ రీసెర్చ్ (CSIR)

Question Number : 6 Question Id : 630680805043 Option Shuffling : Yes Is Question Mandatory : No Calculator : None Response Time : N.A Think Time : N.A Minimum Instruction Time : 0

Correct Marks : 1 Wrong Marks : 0.33

In March 2024, in which of these cities, India's fastest and indigenously designed IP/MPLS (Multiprotocol Label Switching) router was launched by Ashwini Vaishnaw, Union Minister for Communications, Electronics and Information Technology?

Options :

1. ✖ Hyderabad
2. ✖ Chennai
3. ✖ New Delhi
4. ✔ Bengaluru

Question Number : 6 Question Id : 630680805043 Option Shuffling : Yes Is Question Mandatory : No Calculator : None Response Time : N.A Think Time : N.A Minimum Instruction Time : 0

Correct Marks : 1 Wrong Marks : 0.33

మార్చి 2024లో, వీటిలోని ఏ నగరంలో, భారతదేశం యొక్క అత్యంత వేగవంతమైన మరియు స్వదేశీంగా రూపొందించబడిన IP/MPLS (మల్టీప్రోటోకాల్ లేబుల్ స్విచింగ్) రౌటర్ ను కేంద్ర కమ్యూనికేషన్లు, ఎలక్ట్రానిక్స్ మరియు ఇన్ఫర్మేషన్ టెక్నాలజీ మంత్రి అశ్వినీ వైష్ణవ్ ప్రారంభించారు?

Options :

1. ✖ హైదరాబాద్
2. ✖ చెన్నై
3. ✖ న్యూ ఢిల్లీ
4. ✔ బెంగళూరు

Question Number : 7 Question Id : 630680805044 Option Shuffling : Yes Is Question Mandatory : No Calculator : None Response Time : N.A Think Time : N.A Minimum Instruction Time : 0

Correct Marks : 1 Wrong Marks : 0.33

This question consist of two statements – Assertion (A) and Reason (R). Answer the question selecting the appropriate option given below:

Assertion (A): The department of science & technology and Telangana govt have partnered with T-Hub to establish MATH, an AI and ML hub.
Reason (R): MATH aims to support educational organizations and modernize higher education system.

Options :

1. ✖ Both A and R are true, and R is the correct explanation of A.
2. ✖ Both A and R are true, but R is not the correct explanation of A.
3. ✔ A is true, but R is false.
4. ✖ Both A and R are false.

Question Number : 7 Question Id : 630680805044 Option Shuffling : Yes Is Question Mandatory : No Calculator : None Response Time : N.A Think Time : N.A Minimum Instruction Time : 0

Correct Marks : 1 Wrong Marks : 0.33

ఈ ప్రశ్నలో, నిశ్చిత వాక్యం (A) మరియు కారణం (R) అనే రెండు ప్రకటనలు ఉంటాయి. దిగువ ఇవ్వబడిన సముచిత ఎంపికను ఎంచుకుని ప్రశ్నకు సమాధానం ఇవ్వండి:

నిశ్చిత వాక్యం(A): MATH(ఎంఎటిహెచ్), AI(ఐఐ) మరియు ML(ఎంఎల్) హబ్ ని స్థాపించడానికి సైన్స్ & టెక్నాలజీ విభాగం మరియు తెలంగాణ ప్రభుత్వం టీ-హబ్ (T-Hub)తో భాగస్వామ్యం కలిగి ఉన్నాయి.

కారణం (R): MATH(ఎంఎటిహెచ్) విద్యా సంస్థలకు మద్దతు ఇవ్వడం మరియు ఉన్నత విద్యా వ్యవస్థను ఆధునికీకరించడం లక్ష్యంగా పెట్టుకుంది.

Options :

1. ✖ A మరియు R రెండూ నిజం మరియు R అనేది A యొక్క సరైన వివరణ.
2. ✖ A మరియు R రెండూ నిజం, కానీ R అనేది A యొక్క సరైన వివరణ కాదు.
3. ✔ A అనేది నిజం, కానీ R అనేది తప్పు.
4. ✖ A మరియు R అనేవి రెండూ తప్పు.

Question Number : 8 Question Id : 630680805045 Option Shuffling : Yes Is Question Mandatory : No Calculator : None Response Time : N.A Think Time : N.A Minimum Instruction Time : 0

Correct Marks : 1 Wrong Marks : 0.33

In this question, a statement is given followed by two conclusions. Choose the correct response from the given four options:

Statement:

Supreme Court Justice Aniruddha Bose joined as new Director of National Judicial Academy post-retirement on 13th April 2024.

Conclusion:

- i) The Ex. Director Mr. Justice Sujoy Paul left the office on 12th April 2024.
- ii) Mr. Justice Sujoy Paul joined National Judicial Academy as Director in 2023.

Options :

1. ✔ Only conclusion (i) is correct.
2. ✖ Only conclusion (ii) is correct.
3. ✖ Both conclusion (i) and (ii) are correct.

4. ✖ None of the conclusions are correct.

Question Number : 8 Question Id : 630680805045 Option Shuffling : Yes Is Question Mandatory : No Calculator : None Response Time : N.A Think Time : N.A Minimum Instruction Time : 0

Correct Marks : 1 Wrong Marks : 0.33

ఈ ప్రశ్నలో, ఒక ప్రకటన దాని తర్వాత రెండు తీర్మానాలు ఇవ్వబడ్డాయి. ఇవ్వబడిన నాలుగు ఎంపికల నుండి సరైన ప్రతిస్పందనను ఎంచుకోండి:

ప్రకటన:

సుప్రీంకోర్టు న్యాయమూర్తి అనిరుద్ధ బోస్ 13 ఏప్రిల్ 2024న పదవీ విరమణ తర్వాత నేషనల్ జ్యూడిషియల్ అకాడమీ కొత్త డైరెక్టర్గా చేరారు.

తీర్మానం:

i) మాజీ డైరెక్టర్ శ్రీ జస్టిస్ సుజోయ్ పాల్ 12 ఏప్రిల్ 2024న కార్యాలయం నుండి నిష్క్రమించారు.

ii) శ్రీ జస్టిస్ సుజోయ్ పాల్ 2023లో నేషనల్ జ్యూడిషియల్ అకాడమీ డైరెక్టర్గా చేరారు.

Options :

- ✓ తీర్మానం (i) మాత్రమే సరైనది.
- ✖ తీర్మానం (iii) మాత్రమే సరైనది.
- ✖ తీర్మానం(i) మరియు (ii) రెండూ సరైనవి.
- ✖ తీర్మానాలు ఏవీ సరైనవి కావు.

Question Number : 9 Question Id : 630680805046 Option Shuffling : Yes Is Question Mandatory : No Calculator : None Response Time : N.A Think Time : N.A Minimum Instruction Time : 0

Correct Marks : 1 Wrong Marks : 0.33

In October 2023, which of these states or Union Territories was among the top 3 performing States or Union Territories to receive Azadi Ka Amrit Mahotsav Awards by PM Shri Narendra Modi?

Options :

- ✖ Puducherry
- ✓ Gujarat
- ✖ Tamil Nadu
- ✖ Ladakh

Question Number : 9 Question Id : 630680805046 Option Shuffling : Yes Is Question Mandatory : No Calculator : None Response Time : N.A Think Time : N.A Minimum Instruction Time : 0

Correct Marks : 1 Wrong Marks : 0.33

అక్టోబరు 2023లో, ప్రధానమంత్రి శ్రీ నరేంద్ర మోదీచే ఆజాదీ కా అమృత్ మహోత్సవ్ అవార్డులను అందుకున్న 3 అగ్ర రాష్ట్రాలు లేదా కేంద్ర పాలిత ప్రాంతాలలో ఉన్నది ఏది?

Options :

- ✖ పుదుచ్చేరి
- ✓ గుజరాత్
- ✖ తమిళ్ నాడు
- ✖ లడాక్

Question Number : 10 Question Id : 630680805048 Option Shuffling : Yes Is Question Mandatory : No Calculator : None Response Time : N.A Think Time : N.A Minimum Instruction Time : 0

Correct Marks : 1 Wrong Marks : 0.33

The Rajya Sabha passed the Constitution (Jammu and Kashmir) Scheduled Tribes Order (Amendment) Bill, 2024 on 9th February 2024 to amend _____ with respect to the UT of J&K.

Options :

- ✖ the Constitution (Jammu & Kashmir) Scheduled Tribes Order, 1969
- ✖ the Constitution (Jammu & Kashmir) Scheduled Tribes Order, 1978
- ✓ the Constitution (Jammu & Kashmir) Scheduled Tribes Order, 1989
- ✖ the Constitution (Jammu & Kashmir) Scheduled Tribes Order, 1996

Question Number : 10 Question Id : 630680805048 Option Shuffling : Yes Is Question Mandatory : No Calculator : None Response Time : N.A Think Time : N.A Minimum Instruction Time : 0

Correct Marks : 1 Wrong Marks : 0.33

జమ్మూ మరియు కాశ్మీర్ యొక్క UT(కేంద్ర పాలిత ప్రాంతం) కి సంబంధించి _____ని సవరించడానికి 9 ఫిబ్రవరి 2024న రాజ్యాంగం (జమ్మూ మరియు కాశ్మీర్) షెడ్యూల్డ్ ట్రిబ్స్ ఆర్డర్ (సవరణ) బిల్లు, 2024ను రాజ్యసభ ఆమోదించింది.

Options :

- ✖ రాజ్యాంగం (జమ్మూ & కాశ్మీర్) షెడ్యూల్డ్ ట్రిబ్స్ ఆర్డర్, 1969
- ✖ రాజ్యాంగం (జమ్మూ & కాశ్మీర్) షెడ్యూల్డ్ ట్రిబ్స్ ఆర్డర్, 1978
- ✓ రాజ్యాంగం (జమ్మూ & కాశ్మీర్) షెడ్యూల్డ్ ట్రిబ్స్ ఆర్డర్, 1989
- ✖ రాజ్యాంగం (జమ్మూ & కాశ్మీర్) షెడ్యూల్డ్ ట్రిబ్స్ ఆర్డర్, 1996

Question Number : 11 Question Id : 630680805049 Option Shuffling : Yes Is Question Mandatory : No Calculator : None Response Time : N.A Think Time : N.A Minimum Instruction Time : 0

Correct Marks : 1 Wrong Marks : 0.33

In February 2024, APAAR was launched by Ministry of Education through Common Service Centres (CSCs) in remote villages of India. What is the full form of APAAR?

Options :

- ✖ Automated Present Academic Assistant Registry

2. ✖ Automated Permanent Academic Assessment Registry
3. ✖ Automated Personal Academic Account Registry
4. ✔ Automated Permanent Academic Account Registry

Question Number : 11 Question Id : 630680805049 Option Shuffling : Yes Is Question Mandatory : No Calculator : None Response Time : N.A Think Time : N.A Minimum Instruction Time : 0

Correct Marks : 1 Wrong Marks : 0.33

ఫిబ్రవరి 2024లో, APAAR అనేది భారతదేశంలోని మారుమూల గ్రామాలలో సాధారణ సేవా కేంద్రాల (CSCలు) ద్వారా విద్యా మంత్రిత్వ శాఖ ద్వారా ప్రారంభించబడింది. APAAR యొక్క విస్తరణ రూపం ఏమిటి?

Options :

1. ✖ ఆటోమేటెడ్ ప్రెజెంట్ అకాడమిక్ అసిస్టెంట్ రిజిస్ట్రీ (Automated Present Academic Assistant Registry)
2. ✖ ఆటోమేటెడ్ పర్మినెంట్ అకాడమిక్ అసిస్టెంట్ రిజిస్ట్రీ (Automated Permanent Academic Assessment Registry)
3. ✖ ఆటోమేటెడ్ పర్సనల్ అకాడమిక్ అకౌంట్ రిజిస్ట్రీ (Automated Personal Academic Account Registry)
4. ✔ ఆటోమేటెడ్ పర్మినెంట్ అకాడమిక్ అకౌంట్ రిజిస్ట్రీ (Automated Permanent Academic Account Registry)

Question Number : 12 Question Id : 630680805050 Option Shuffling : Yes Is Question Mandatory : No Calculator : None Response Time : N.A Think Time : N.A Minimum Instruction Time : 0

Correct Marks : 1 Wrong Marks : 0.33

In March 2024, which of these apps was launched by the Election Commission to facilitate easier voting for PWDs and to avail facilities at Polling Stations?

Options :

1. ✖ Sugamya
2. ✔ Saksham
3. ✖ Sahayta
4. ✖ Saral

Question Number : 12 Question Id : 630680805050 Option Shuffling : Yes Is Question Mandatory : No Calculator : None Response Time : N.A Think Time : N.A Minimum Instruction Time : 0

Correct Marks : 1 Wrong Marks : 0.33

మార్చి 2024లో, PWDలకు సులభంగా ఓటు వేయడానికి మరియు పోలింగ్ స్టేషన్లలో సౌకర్యాలను పొందేందుకు ఎన్నికల సంఘం వీటిలో ఏ యాప్‌లను ప్రారంభించింది?

Options :

1. ✖ సుగమ్య
2. ✔ సక్ష్మ
3. ✖ సహాయతా
4. ✖ సరల్

Question Number : 13 Question Id : 630680805052 Option Shuffling : Yes Is Question Mandatory : No Calculator : None Response Time : N.A Think Time : N.A Minimum Instruction Time : 0

Correct Marks : 1 Wrong Marks : 0.33

This question consist of two statements – Assertion (A) and Reason (R). Answer the question selecting the appropriate option given below:

Assertion (A): A day-long ‘Purple Fest’ has been organised at the Amrit Udyan in Rashtrapati Bhavan on February 26, 2024.

Reason (R): The ‘Purple Fest’ aimed to raise awareness about different disabilities and their impact on people’s lives and to promote understanding, acceptance and inclusion of persons with disabilities within society.

Options :

1. ✔ Both A and R are true, and R is the correct explanation of A.
2. ✖ Both A and R are true, but R is not the correct explanation of A.
3. ✖ A is true, but R is false.
4. ✖ Both A and R are false.

Question Number : 13 Question Id : 630680805052 Option Shuffling : Yes Is Question Mandatory : No Calculator : None Response Time : N.A Think Time : N.A Minimum Instruction Time : 0

Correct Marks : 1 Wrong Marks : 0.33

ఈ ప్రశ్నలో, నిశ్చిత వాక్యం (A) మరియు కారణం (R) అనే రెండు ప్రకటనలు ఉంటాయి. దిగువ ఇవ్వబడిన సముచిత ఎంపికను ఎంచుకుని ప్రశ్నకు సమాధానం ఇవ్వండి:

నిశ్చిత వాక్యం (A): ఫిబ్రవరి 26, 2024న రాష్ట్రపతి భవన్‌లోని అమృత్ ఉద్యానవనంలో ఒక రోజంతా ‘పర్పుల్ ఫెస్ట్’ నిర్వహించబడింది.

కారణం (R): ‘పర్పుల్ ఫెస్ట్’ అనేది విభిన్న వైకల్యాలు మరియు ప్రజల జీవితాలపై వాటి ప్రభావం గురించి అవగాహన పెంచడం మరియు సమాజంలో వైకల్యం ఉన్న వ్యక్తులను అర్థం చేసుకోవడం, అంగీకరించడం మరియు చేర్చడాన్ని ప్రోత్సహించడం లక్ష్యంగా పెట్టుకుంది.

Options :

1. ✔ A మరియు R రెండూ నిజం మరియు R అనేది A యొక్క సరైన వివరణ.
2. ✖ A మరియు R రెండూ నిజం, కానీ R అనేది A యొక్క సరైన వివరణ కాదు.
3. ✖ A అనేది నిజం, కానీ R అనేది తప్పు.
4. ✖ A మరియు R అనేవి రెండూ తప్పు.

Question Number : 14 Question Id : 630680805053 Option Shuffling : Yes Is Question Mandatory : No Calculator : None Response Time : N.A Think Time : N.A Minimum Instruction Time : 0

Correct Marks : 1 Wrong Marks : 0.33

Which of these metal was banned to be used in firecrackers by the Supreme Court in National Capital Region and all other parts of India ahead of Diwali in November 2023?

Options :

- Boron
- Barium
- Chromium
- Strontium

Question Number : 14 Question Id : 630680805053 Option Shuffling : Yes Is Question Mandatory : No Calculator : None Response Time : N.A Think Time : N.A Minimum Instruction Time : 0

Correct Marks : 1 Wrong Marks : 0.33

నవంబర్ 2023లో దీపావళికి ముందు జాతీయ రాజధాని ప్రాంతం మరియు భారతదేశంలోని అన్ని ఇతర ప్రాంతాల్లో ఈ లోహాన్ని పటాకుల్లో ఉపయోగించడాన్ని సుప్రీంకోర్టు నిషేధించింది?

Options :

- బోరాన్
- బెరియం
- క్రోమియం
- స్ట్రోన్షియం

Question Number : 15 Question Id : 630680805055 Option Shuffling : Yes Is Question Mandatory : No Calculator : None Response Time : N.A Think Time : N.A Minimum Instruction Time : 0

Correct Marks : 1 Wrong Marks : 0.33

Which of these was included in the prestigious UNESCO World Heritage list in September 2023?

Options :

- Hoysala Temples, Karnataka
- Lingaraj Temple, Odisha
- Yamunotri Temple, Uttarakhand
- Dilwara Temples, Rajasthan

Question Number : 15 Question Id : 630680805055 Option Shuffling : Yes Is Question Mandatory : No Calculator : None Response Time : N.A Think Time : N.A Minimum Instruction Time : 0

Correct Marks : 1 Wrong Marks : 0.33

వీటిలో సెప్టెంబర్ 2023లో ప్రతిష్ఠాత్మకమైన యునెస్కో ప్రపంచ వారసత్వ జాబితాలో చేర్చబడింది ఏది?

Options :

- హెయిసల దేవాలయాలు, కర్ణాటక
- లింగరాజ్ దేవాలయం, ఒడిశా
- యమునోత్రి ఆలయం, ఉత్తరాఖండ్
- దిల్వారా దేవాలయాలు, రాజస్థాన్

Question Number : 16 Question Id : 630680805056 Option Shuffling : Yes Is Question Mandatory : No Calculator : None Response Time : N.A Think Time : N.A Minimum Instruction Time : 0

Correct Marks : 1 Wrong Marks : 0.33

Which of these is the science of analyzing physical or behavioral characteristics specific to each individual to authenticate their identity?

Options :

- Biocenosis
- Biometrics
- Bioactive
- Biologism

Question Number : 16 Question Id : 630680805056 Option Shuffling : Yes Is Question Mandatory : No Calculator : None Response Time : N.A Think Time : N.A Minimum Instruction Time : 0

Correct Marks : 1 Wrong Marks : 0.33

వీటిలో ప్రతి వ్యక్తికి వారి గుర్తింపును ప్రామాణీకరించడానికి నిర్దిష్ట భౌతిక లేదా ప్రవర్తనా లక్షణాలను విశ్లేషించే శాస్త్రం ఏది?

Options :

- బయోసెనోసిస్
- బయోమెట్రిక్స్
- బయోయాక్టివ్
- జీవశాస్త్రం

Question Number : 17 Question Id : 630680805057 Option Shuffling : Yes Is Question Mandatory : No Calculator : None Response Time : N.A Think Time : N.A Minimum Instruction Time : 0

Correct Marks : 1 Wrong Marks : 0.33

In this question, a statement is given followed by two conclusions. Choose the correct response from the given four options:
Statement:

In a mercury thermometer, a glass tube is filled with mercury and a standard temperature scale is marked on the tube.

Conclusion:

- With changes in temperature, the mercury expands and contracts, and the temperature can be read from the scale.
- Mercury thermometers can be used to determine body, liquid, and vapor temperature

Options :

- Only conclusion (i) is correct.
- Only conclusion (ii) is correct.
- Both conclusion (i) and (ii) are correct.
- None of the conclusions are correct.

Question Number : 17 Question Id : 630680805057 Option Shuffling : Yes Is Question Mandatory : No Calculator : None Response Time : N.A Think Time : N.A Minimum Instruction Time : 0

Correct Marks : 1 Wrong Marks : 0.33

ఈ ప్రశ్నలో, ఒక ప్రకటన దాని కింద రెండు తీర్మానాలు ఇవ్వబడ్డాయి. ఇవ్వబడిన నాలుగు ఎంపికల నుండి సరైన ప్రతిస్పందనను ఎంచుకోండి: ప్రకటన:

పాదరసం ధర్మామీటర్లో, ఒక గాజు గొట్టం పాదరసంతో నిండి ఉంటుంది మరియు గొట్టంపై ప్రామాణిక ఉష్ణోగ్రత స్కేల్ గుర్తించబడి ఉంటుంది. తీర్మానం:

- ఉష్ణోగ్రతలో మార్పులతో, పాదరసం వ్యాకోచించి, సంకోచిస్తుంది మరియు ఉష్ణోగ్రత స్కేలు నుండి తెలుస్తుంది.
- శరీర, ద్రవ మరియు ఆవిరి ఉష్ణోగ్రతను నిర్ణయించడానికి పాదరసం ధర్మామీటర్లను ఉపయోగించవచ్చు

Options :

- తీర్మానం (i) మాత్రమే సరైనది.
- తీర్మానం (ii) మాత్రమే సరైనది.
- తీర్మానం (i) మరియు (ii) రెండూ సరైనవి.
- తీర్మానాలు ఏవీ సరైనవి కావు.

Question Number : 18 Question Id : 630680805058 Option Shuffling : Yes Is Question Mandatory : No Calculator : None Response Time : N.A Think Time : N.A Minimum Instruction Time : 0

Correct Marks : 1 Wrong Marks : 0.33

This question consist of two statements – Assertion (A) and Reason (R). Answer the question selecting the appropriate option given below:

Assertion (A): Laparoscopy allows a surgeon to use only small cuts and a camera for procedures inside the tummy or pelvis.

Reason (R): A laparoscopy is done under general anaesthetic condition.

Options :

- Both A and R are true, and R is the correct explanation of A.
- Both A and R are true, but R is not the correct explanation of A.
- A is true, but R is false.
- Both A and R are false.

Question Number : 18 Question Id : 630680805058 Option Shuffling : Yes Is Question Mandatory : No Calculator : None Response Time : N.A Think Time : N.A Minimum Instruction Time : 0

Correct Marks : 1 Wrong Marks : 0.33

ఈ ప్రశ్నలో, నిశ్చిత వాక్యం (A) మరియు కారణం (R) అనే రెండు ప్రకటనలు ఉంటాయి. దిగువ ఇవ్వబడిన సముచిత ఎంపికను ఎంచుకుని ప్రశ్నకు సమాధానం ఇవ్వండి:

నిశ్చిత వాక్యం (A): లాపరోస్కోపీ అనేది సర్జన్ ను చిన్న కోతలు మరియు పొట్ల లేదా పొత్తికడుపు లోపల చేయడం కోసం కెమెరాను మాత్రమే ఉపయోగించడానికి అనుమతిస్తుంది.

కారణం (R): సాధారణ మత్తు పరిస్థితిలో లాపరోస్కోపీ చేయబడుతుంది.

Options :

- A మరియు R రెండూ నిజం మరియు R అనేది A యొక్క సరైన వివరణ.
- A మరియు R రెండూ నిజం, కానీ R అనేది A యొక్క సరైన వివరణ కాదు.
- A అనేది నిజం, కానీ R అనేది తప్పు.
- A మరియు R అనేవి రెండూ తప్పు.

Question Number : 19 Question Id : 630680805059 Option Shuffling : Yes Is Question Mandatory : No Calculator : None Response Time : N.A Think Time : N.A Minimum Instruction Time : 0

Correct Marks : 1 Wrong Marks : 0.33

Which of these is defined as the rate of formation of new organic matter by consumers?

Options :

- Net primary productivity
- Gross primary productivity
- Secondary productivity
- Tertiary productivity

Question Number : 19 Question Id : 630680805059 Option Shuffling : Yes Is Question Mandatory : No Calculator : None Response Time : N.A Think Time : N.A Minimum Instruction Time : 0

Correct Marks : 1 Wrong Marks : 0.33

వీటిలో వినియోగదారులచే కొత్త సెండ్రీయ పదార్థం ఏర్పడే రేటుగా నిర్వచించబడింది ఏది?

Options :

- నికర ప్రాథమిక ఉత్పాదకత

2. ✖ స్థూల ప్రాథమిక ఉత్పాదకత
3. ✔ ద్వితీయ ఉత్పాదకత
4. ✖ తృతీయ ఉత్పాదకత

Question Number : 20 Question Id : 630680805060 Option Shuffling : Yes Is Question Mandatory : No Calculator : None Response Time : N.A Think Time : N.A Minimum Instruction Time : 0

Correct Marks : 1 Wrong Marks : 0.33

This question consist of two statements – Assertion (A) and Reason (R). Answer the question selecting the appropriate option given below:

Assertion (A): Persons with blood group ‘AB’ are called ‘universal recipients’
Reason (R): Group ‘O’ blood can be donated to persons with any other blood group.

Options :

1. ✖ Both A and R are true, and R is the correct explanation of A.
2. ✔ Both A and R are true, but R is not the correct explanation of A.
3. ✖ A is true, but R is false.
4. ✖ Both A and R are false.

Question Number : 20 Question Id : 630680805060 Option Shuffling : Yes Is Question Mandatory : No Calculator : None Response Time : N.A Think Time : N.A Minimum Instruction Time : 0

Correct Marks : 1 Wrong Marks : 0.33

ఈ ప్రశ్నలో, నిశ్చిత వాక్యం (A) మరియు కారణం (R) అనే రెండు ప్రకటనలు ఉంటాయి. దిగువ ఇవ్వబడిన సముచిత ఎంపికను ఎంచుకుని ప్రశ్నకు సమాధానం ఇవ్వండి:

నిశ్చిత వాక్యం(A): బ్లడ్ గ్రూప్ 'AB' ఉన్న వ్యక్తులను విశ్వ గ్రహీతలు' అంటారు.

కారణం (R): గ్రూప్ 'O' రక్తాన్ని ఏదైనా ఇతర బ్లడ్ గ్రూప్ ఉన్న వ్యక్తులకు దానం చేయవచ్చు

Options :

1. ✖ A మరియు R రెండూ నిజం మరియు R అనేది A యొక్క సరైన వివరణ.
2. ✔ A మరియు R రెండూ నిజం, కానీ R అనేది A యొక్క సరైన వివరణ కాదు.
3. ✖ A అనేది నిజం, కానీ R అనేది తప్పు.
4. ✖ A మరియు R అనేవి రెండూ తప్పు.

Question Number : 21 Question Id : 630680805061 Option Shuffling : Yes Is Question Mandatory : No Calculator : None Response Time : N.A Think Time : N.A Minimum Instruction Time : 0

Correct Marks : 1 Wrong Marks : 0.33

Anorexia nervosa is a _____ disorder.

Options :

1. ✖ Sleeping
2. ✖ Anxiety
3. ✔ Eating
4. ✖ Personality

Question Number : 21 Question Id : 630680805061 Option Shuffling : Yes Is Question Mandatory : No Calculator : None Response Time : N.A Think Time : N.A Minimum Instruction Time : 0

Correct Marks : 1 Wrong Marks : 0.33

అనోరెక్సియా నెర్వోసా ఒక _____ రుగ్మత.

Options :

1. ✖ నిద్ర
2. ✖ ఆందోళన
3. ✔ తినడం
4. ✖ వ్యక్తిత్వం

Question Number : 22 Question Id : 630680805063 Option Shuffling : Yes Is Question Mandatory : No Calculator : None Response Time : N.A Think Time : N.A Minimum Instruction Time : 0

Correct Marks : 1 Wrong Marks : 0.33

Match the following columns I and II and choose the CORRECT answer from the given options.

Column I (Phylum)	Column II (Distinctive features)
A. Ctenophora	1. Choanocytes
B. Porifera	2. Bioluminescence
C. Coelenterata (Cnidaria)	3. Water vascular system
D. Echinodermata	4. Polyp and Medusa

Options :

1. ✖ A-1, B-2, C-3, D-4
2. ✔ A-2, B-1, C-4, D-3
3. ✖ A-4, B-3, C-2, D-1
4. ✖ A-2, B-3, C-1, D-4

Question Number : 22 Question Id : 630680805063 Option Shuffling : Yes Is Question Mandatory : No Calculator : None Response Time : N.A Think Time : N.A Minimum Instruction Time : 0

Correct Marks : 1 Wrong Marks : 0.33

క్రింది I మరియు II నిలువు వరుసలను జతపరచి, ఇచ్చిన ఎంపికల నుండి సరైన సమాధానాన్ని ఎంచుకోండి.

వరుస I (పైలం)	వరుస II (విలక్షణమైన లక్షణాలను)
A. సెటినోఫోరా	1. ఖోనోసైట్లు
B. పోరిఫెర	2. బయోలుమినిసెన్స్
C. సిలెంటరేటా (సినిడారియా)	3. నీటి ప్రసరణ వ్యవస్థ
D. ఇబైడోడర్మీటా	4. పాలిప్ మరియు మెడుసా

Options :

1. ✖ A-1, B-2, C-3, D-4

2. ✔ A-2, B-1, C-4, D-3

3. ✖ A-4, B-3, C-2, D-1

4. ✖ A-2, B-3, C-1, D-4

Question Number : 23 Question Id : 630680805064 Option Shuffling : Yes Is Question Mandatory : No Calculator : None Response Time : N.A Think Time : N.A Minimum Instruction Time : 0

Correct Marks : 1 Wrong Marks : 0.33

Which of these is the change of gaseous state directly to solid state without going through liquid state?

Options :

1. ✖ Sublimation

2. ✖ Decantation

3. ✔ Deposition

4. ✖ Evaporation

Question Number : 23 Question Id : 630680805064 Option Shuffling : Yes Is Question Mandatory : No Calculator : None Response Time : N.A Think Time : N.A Minimum Instruction Time : 0

Correct Marks : 1 Wrong Marks : 0.33

వాయు స్థితి నుండి ద్రవ స్థితిలోకి వెళ్లకుండా నేరుగా ఘన స్థితికి మార్చేది వీటిలో ఏది?

Options :

1. ✖ ఉత్పతనము

2. ✖ తేర్చుట

3. ✔ నిక్షేపణం

4. ✖ బాష్పీభవనం

Question Number : 24 Question Id : 630680805065 Option Shuffling : Yes Is Question Mandatory : No Calculator : None Response Time : N.A Think Time : N.A Minimum Instruction Time : 0

Correct Marks : 1 Wrong Marks : 0.33

In this question, a statement is given followed by two conclusions. Choose the correct response from the given four options:

Statement:

Sound is a mechanical wave and needs a material medium for its propagation.

Conclusion:

i) Sound cannot travel through vacuum.

ii) Air is the most common medium through which sound travels.

Options :

1. ✖ Only conclusion (i) is correct.

2. ✖ Only conclusion (ii) is correct.

3. ✔ Both conclusion (i) and (ii) are correct.

4. ✖ None of the conclusions are correct.

Question Number : 24 Question Id : 630680805065 Option Shuffling : Yes Is Question Mandatory : No Calculator : None Response Time : N.A Think Time : N.A Minimum Instruction Time : 0

Correct Marks : 1 Wrong Marks : 0.33

ఈ ప్రశ్నలో, ఒక ప్రకటన దాని కింద రెండు తీర్మానాలు ఇవ్వబడ్డాయి. ఇవ్వబడిన నాలుగు ఎంపికల నుండి సరైన ప్రతిస్పందనను ఎంచుకోండి:

ప్రకటన:

ధ్వని ఒక యాంత్రిక తరంగం మరియు దాని ప్రసారం కోసం ఒక పదార్థ యానకం అవసరం.

తీర్మానం:

i) శూన్యం ద్వారా ధ్వని ప్రయాణించదు.

ii) ధ్వని ప్రయాణించే అత్యంత సాధారణ యానకం గాలి.

Options :

1. ✖ తీర్మానం (i) మాత్రమే సరైనది.

2. ✖ తీర్మానం (ii) మాత్రమే సరైనది.

3. ✔ తీర్మానం (i) మరియు (ii) రెండూ సరైనవి.

4. ✖ తీర్మానాలు ఏవీ సరైనవి కావు.

Question Number : 25 Question Id : 630680805066 Option Shuffling : Yes Is Question Mandatory : No Calculator : None Response Time : N.A Think Time : N.A Minimum Instruction Time : 0

Correct Marks : 1 Wrong Marks : 0.33

In Wurtz reaction, alkyl halides on treatment with _____ metal in dry ethereal (free from moisture) solution give higher alkanes.

Options :

1. ✓ Sodium
2. ✖ Calcium
3. ✖ Potassium
4. ✖ Lithium

Question Number : 25 Question Id : 630680805066 Option Shuffling : Yes Is Question Mandatory : No Calculator : None Response Time : N.A Think Time : N.A Minimum Instruction Time : 0

Correct Marks : 1 Wrong Marks : 0.33

ఉడ్డీ (Wurtz) చర్యలో, పొడి ఈథరీయల్ (తేమ లేని) ద్రావణంలో _____ లోహంతో చర్య జరగడం వలన ఆలైల్ హాలైడ్లు అధిక ఆల్కేన్లను ఏర్పరుస్తాయి.

Options :

1. ✓ సోడియం
2. ✖ క్యాల్షియం
3. ✖ పొటాషియం
4. ✖ లిథియం

Question Number : 26 Question Id : 630680805067 Option Shuffling : Yes Is Question Mandatory : No Calculator : None Response Time : N.A Think Time : N.A Minimum Instruction Time : 0

Correct Marks : 1 Wrong Marks : 0.33

For how many years, Quli Qutb Shah ruled in Andhra?

Options :

1. ✖ 30 years
2. ✓ 31 years
3. ✖ 32 years
4. ✖ 33 years

Question Number : 26 Question Id : 630680805067 Option Shuffling : Yes Is Question Mandatory : No Calculator : None Response Time : N.A Think Time : N.A Minimum Instruction Time : 0

Correct Marks : 1 Wrong Marks : 0.33

కులీ కుతుబ్ షా ఆంధ్రలో ఎన్ని సంవత్సరాలు పాలించాడు?

Options :

1. ✖ 30 సంవత్సరాలు
2. ✓ 31 సంవత్సరాలు
3. ✖ 32 సంవత్సరాలు
4. ✖ 33 సంవత్సరాలు

Question Number : 27 Question Id : 630680805068 Option Shuffling : Yes Is Question Mandatory : No Calculator : None Response Time : N.A Think Time : N.A Minimum Instruction Time : 0

Correct Marks : 1 Wrong Marks : 0.33

What was the main source of income for the state of Andhra Pradesh at the time of Qutb Shahi rulers?

Options :

1. ✖ Tourism
2. ✓ Land revenue
3. ✖ Custom dues
4. ✖ Feudal levies

Question Number : 27 Question Id : 630680805068 Option Shuffling : Yes Is Question Mandatory : No Calculator : None Response Time : N.A Think Time : N.A Minimum Instruction Time : 0

Correct Marks : 1 Wrong Marks : 0.33

కుతుబ్ షాహీ పాలకుల కాలంలో ఆంధ్ర ప్రదేశ్ రాష్ట్రానికి ప్రధాన ఆదాయ వనరు ఏది?

Options :

1. ✖ పర్యాటకం
2. ✓ భూ ఆదాయం
3. ✖ కస్టమ్ బకాయిలు
4. ✖ భూస్వామ్య పన్నులు

Question Number : 28 Question Id : 630680805069 Option Shuffling : Yes Is Question Mandatory : No Calculator : None Response Time : N.A Think Time : N.A Minimum Instruction Time : 0

Correct Marks : 1 Wrong Marks : 0.33

Who was Mahasibs or Mustasibs during Qutb Shahi rulers in Andhra Pradesh?

Options :

1. ✓ In-charge of public morals
2. ✘ Chief Justice
3. ✘ The head of Taraf
4. ✘ In-charge of Civil cases

Question Number : 28 Question Id : 630680805069 Option Shuffling : Yes Is Question Mandatory : No Calculator : None Response Time : N.A Think Time : N.A Minimum Instruction Time : 0

Correct Marks : 1 Wrong Marks : 0.33

ఆంధ్ర ప్రదేశ్ లో కుతుబ్ షాహీ పాలకుల కాలంలో మహసిబ్లు లేదా ముస్తాసిబ్లు ఎవరు?

Options :

1. ✓ ప్రజా నైతికతకు ఇన్‌చార్జ్
2. ✘ ప్రధాన న్యాయమూర్తి
3. ✘ తారాఫ్ అధిపతి
4. ✘ సివిల్ కేసుల ఇన్‌చార్జ్

Question Number : 29 Question Id : 630680805070 Option Shuffling : Yes Is Question Mandatory : No Calculator : None Response Time : N.A Think Time : N.A Minimum Instruction Time : 0

Correct Marks : 1 Wrong Marks : 0.33

Which of these Qutb Shahi ruler permitted the English East India Company to establish trade centres at Machilipatnam in 1611 C.E.?

Options :

1. ✘ Jamshid Quli
2. ✓ Muhammad Quli
3. ✘ Abdullah Qutb Shah
4. ✘ Ibrahim Qutb Shah

Question Number : 29 Question Id : 630680805070 Option Shuffling : Yes Is Question Mandatory : No Calculator : None Response Time : N.A Think Time : N.A Minimum Instruction Time : 0

Correct Marks : 1 Wrong Marks : 0.33

1611 C.E. లో మచిలీపట్నంలో వాణిజ్య కేంద్రాలను స్థాపించడానికి ఆంగ్లేయ ఈస్టిండియా కంపెనీని అనుమతించిన కుతుబ్ షాహీ పాలకుడు ఎవరు?

Options :

1. ✘ జంషీద్ కులీ
2. ✓ ముహమ్మద్ కులీ
3. ✘ అబ్దుల్లా కుతుబ్ షా
4. ✘ ఇబ్రహీం కుతుబ్ షా

Question Number : 30 Question Id : 630680805072 Option Shuffling : Yes Is Question Mandatory : No Calculator : None Response Time : N.A Think Time : N.A Minimum Instruction Time : 0

Correct Marks : 1 Wrong Marks : 0.33

Which of these districts in Andhra was first Telugu speaking region to start social reform movement?

Options :

1. ✘ Vishakapatnam
2. ✓ East Godavari
3. ✘ Vizianagaram
4. ✘ Eluru

Question Number : 30 Question Id : 630680805072 Option Shuffling : Yes Is Question Mandatory : No Calculator : None Response Time : N.A Think Time : N.A Minimum Instruction Time : 0

Correct Marks : 1 Wrong Marks : 0.33

సామాజిక సంస్కరణ ఉద్యమాన్ని ప్రారంభించిన మొదటి తెలుగు మాట్లాడే ప్రాంతం ఆంధ్రలోని ఈ జిల్లాల్లో ఏది?

Options :

1. ✘ విశాఖపట్నం
2. ✓ తూర్పు గోదావరి
3. ✘ విజయనగరం
4. ✘ ఏలూరు

Question Number : 31 Question Id : 630680805073 Option Shuffling : Yes Is Question Mandatory : No Calculator : None Response Time : N.A Think Time : N.A Minimum Instruction Time : 0

Correct Marks : 1 Wrong Marks : 0.33

In which year was the first Round Table Conference held between the Indian leaders and the British?

Options :

1. ✘ 1919
2. ✘ 1923
3. ✘ 1928
4. ✓ 1930

Question Number : 31 Question Id : 63068080573 Option Shuffling : Yes Is Question Mandatory : No Calculator : None Response Time : N.A Think Time : N.A Minimum Instruction Time : 0

Correct Marks : 1 Wrong Marks : 0.33

భారతీయ నాయకులు మరియు బ్రిటిష్ వారి మధ్య మొదటి రౌండ్ టేబుల్ సమావేశం ఏ సంవత్సరంలో జరిగింది?

Options :

1. ✘ 1919
2. ✘ 1923
3. ✘ 1928
4. ✔ 1930

Question Number : 32 Question Id : 63068080574 Option Shuffling : Yes Is Question Mandatory : No Calculator : None Response Time : N.A Think Time : N.A Minimum Instruction Time : 0

Correct Marks : 1 Wrong Marks : 0.33

When was the Civil Disobedience Movement withdrawn by Mahatma Gandhi?

Options :

1. ✘ April 1932
2. ✘ June 1933
3. ✔ April 1934
4. ✘ August 1935

Question Number : 32 Question Id : 63068080574 Option Shuffling : Yes Is Question Mandatory : No Calculator : None Response Time : N.A Think Time : N.A Minimum Instruction Time : 0

Correct Marks : 1 Wrong Marks : 0.33

శాసనోల్లంఘన ఉద్యమాన్ని మహాత్మా గాంధీ ఎప్పుడు ఉపసంహరించుకున్నారు?

Options :

1. ✘ ఏప్రిల్ 1932
2. ✘ జూన్ 1933
3. ✔ ఏప్రిల్ 1934
4. ✘ ఆగస్టు 1935

Question Number : 33 Question Id : 63068080576 Option Shuffling : Yes Is Question Mandatory : No Calculator : None Response Time : N.A Think Time : N.A Minimum Instruction Time : 0

Correct Marks : 1 Wrong Marks : 0.33

Who among the following was a lawyer from East Bengal and was especially active in the Non-Cooperation Movement?

Options :

1. ✔ Chitta Ranjan Das
2. ✘ Subhash Chandra Bose
3. ✘ C. Rajagopalachari
4. ✘ Asaf Ali

Question Number : 33 Question Id : 63068080576 Option Shuffling : Yes Is Question Mandatory : No Calculator : None Response Time : N.A Think Time : N.A Minimum Instruction Time : 0

Correct Marks : 1 Wrong Marks : 0.33

కింది వారిలో ప్రత్యేకించి సహాయ నిరాకరణ ఉద్యమంలో చురుకుగా ఉన్న తూర్పు బెంగాల్ కు చెందిన న్యాయవాది ఎవరు?

Options :

1. ✔ చిత్త రంజన్ దాస్
2. ✘ సుభాష్ చంద్ర బోస్
3. ✘ సి. రాజగోపాలచారి
4. ✘ అసఫ్ అలీ

Question Number : 34 Question Id : 63068080577 Option Shuffling : Yes Is Question Mandatory : No Calculator : None Response Time : N.A Think Time : N.A Minimum Instruction Time : 0

Correct Marks : 1 Wrong Marks : 0.33

Match the following columns I and II about Socio and Religious Reform Movements and year in which they were founded.

Column I (Socio and Religious Reform Movements)	Column II (Founded in the year)
A. Satya-Shodhak Samaj	1. 1875
B. Veda Samaj	2. 1903
C. Shree narayana Dharma Paripalana Yogam	3. 1864
D. Arya Samaj	4. 1873

Options :

1. ✖ A-1, B-2, C-3, D-4
2. ✖ A-2, B-4, C-1, D-3
3. ✔ A-4, B-3, C-2, D-1
4. ✖ A-2, B-3, C-1, D-4

Question Number : 34 Question Id : 630680805077 Option Shuffling : Yes Is Question Mandatory : No Calculator : None Response Time : N.A Think Time : N.A Minimum Instruction Time : 0

Correct Marks : 1 Wrong Marks : 0.33

సామాజిక మరియు మత సంస్కరణ ఉద్యమాలు మరియు అవి స్థాపించబడిన సంవత్సరాలకు చెందిన క్రింది నిలువు వరుస I మరియు IIని జతపరచండి.

వరుస I (సామాజిక మరియు మత సంస్కరణ ఉద్యమాలు)	వరుస II (సంవత్సరంలో స్థాపించబడింది)
A. సత్య-శోధక సమాజం	1. 1875
B. వేద సమాజం	2. 1903
C. శ్రీ నారాయణ ధర్మ పరిపాలన యోగం	3. 1864
D. ఆర్య సమాజం	4. 1873

Options :

1. ✖ A-1, B-2, C-3, D-4
2. ✖ A-2, B-4, C-1, D-3
3. ✔ A-4, B-3, C-2, D-1
4. ✖ A-2, B-3, C-1, D-4

Question Number : 35 Question Id : 630680805078 Option Shuffling : Yes Is Question Mandatory : No Calculator : None Response Time : N.A Think Time : N.A Minimum Instruction Time : 0

Correct Marks : 1 Wrong Marks : 0.33

In this question, a statement is given followed by two conclusions. Choose the correct response from the given four options:
Statement:

In 1906, the All India Muslim League was founded under the leadership of the Aga Khan, the Nawab of Dhaka and Nawab Mohsin-ul-Mulk.

Conclusion:

i) The All India Muslim League supported the partition of Bengal.

ii) The All India Muslim League raised the slogan of separate Muslim interests, demanded separate electorates and safeguards for Muslims in government services.

Options :

1. ✖ Only conclusion (i) is correct.
2. ✖ Only conclusion (ii) is correct.
3. ✖ Both conclusion (i) and (ii) are correct.
4. ✔ None of the conclusions are correct.

Question Number : 35 Question Id : 630680805078 Option Shuffling : Yes Is Question Mandatory : No Calculator : None Response Time : N.A Think Time : N.A Minimum Instruction Time : 0

Correct Marks : 1 Wrong Marks : 0.33

ఈ ప్రశ్నలో, ఒక ప్రకటన దాని కింద రెండు తీర్మానాలు ఇవ్వబడ్డాయి. ఇవ్వబడిన నాలుగు ఎంపికల నుండి సరైన ప్రతిస్పందనను ఎంచుకోండి:
ప్రకటన:

1906లో, డాక్టర్ నవాబ్ అగాఖాన్ మరియు నవాబ్ మొహ్సిన్-ఉల్-ముల్క్ నాయకత్వంలో ఆల్ ఇండియా ముస్లిం లీగ్ స్థాపించబడింది.

తీర్మానం:

i) బెంగాల్ విభజనకు ఆల్ ఇండియా ముస్లిం లీగ్ మద్దతు ఇచ్చింది.

ii) ఆల్ ఇండియా ముస్లిం లీగ్ ప్రత్యేక ముస్లిం ప్రయోజనాల నినాదాన్ని లేవనెత్తింది, ప్రత్యేక ఓటర్లు మరియు ప్రభుత్వ సేవల్లో ముస్లింలకు భద్రత కల్పించాలని డిమాండ్ చేసింది.

Options :

1. ✖ తీర్మానం (i) మాత్రమే సరైనది.
2. ✖ తీర్మానం (ii) మాత్రమే సరైనది.
3. ✖ తీర్మానం (i) మరియు (ii) రెండూ సరైనవి.
4. ✔ తీర్మానాలు ఏవీ సరైనవి కావు.

Question Number : 36 Question Id : 630680805079 Option Shuffling : Yes Is Question Mandatory : No Calculator : None Response Time : N.A Think Time : N.A Minimum Instruction Time : 0

Correct Marks : 1 Wrong Marks : 0.33

The last Mauryan king was killed by his Commander-in-Chief, _____.

Options :

1. ✘ Dattamitra Shunga
2. ✘ Vibhuti Shunga
3. ✔ Pushyamitra Shunga
4. ✘ Indrabhattarika Shunga

Question Number : 36 Question Id : 630680805079 Option Shuffling : Yes Is Question Mandatory : No Calculator : None Response Time : N.A Think Time : N.A Minimum Instruction Time : 0

Correct Marks : 1 Wrong Marks : 0.33

చివరి మౌర్య రాజు అతని సర్వ సైన్యాధ్యక్షుడు _____ చేత చంపబడ్డాడు.

Options :

1. ✘ దత్తమిత్ర శుంగ
2. ✘ విభూతి శుంగ
3. ✔ పుష్యమిత్ర శుంగ
4. ✘ ఇంద్రభట్టారిక శుంగ

Question Number : 37 Question Id : 630680805080 Option Shuffling : Yes Is Question Mandatory : No Calculator : None Response Time : N.A Think Time : N.A Minimum Instruction Time : 0

Correct Marks : 1 Wrong Marks : 0.33

The pottery from 1000 B.C. to 600 B.C. found in the Gangetic plain is called the _____ pottery.

Options :

1. ✘ Painted Black Ware
2. ✔ Painted Grey Ware
3. ✘ Painted White Ware
4. ✘ Painted Brown Ware

Question Number : 37 Question Id : 630680805080 Option Shuffling : Yes Is Question Mandatory : No Calculator : None Response Time : N.A Think Time : N.A Minimum Instruction Time : 0

Correct Marks : 1 Wrong Marks : 0.33

1000 B.C నుండి 600 B.C. వరకు గంగా మైదానంలో కనుగొనబడిన కుండలను _____ కుండలు అని అంటారు.

Options :

1. ✘ పెయింట్ బ్లాక్ వేర్
2. ✔ పెయింట్ గ్రే వేర్
3. ✘ పెయింట్ వైట్ వేర్
4. ✘ పెయింట్ బ్రౌన్ వేర్

Question Number : 38 Question Id : 630680805081 Option Shuffling : Yes Is Question Mandatory : No Calculator : None Response Time : N.A Think Time : N.A Minimum Instruction Time : 0

Correct Marks : 1 Wrong Marks : 0.33

Which of these is a technique used at several Indian sites of palaeolithic period such as Sembur , Tamil Nadu to produce stone tools?

Options :

1. ✘ Lacooid technique
2. ✔ Levallois technique
3. ✘ Placooid technique
4. ✘ Hollois technique

Question Number : 38 Question Id : 630680805081 Option Shuffling : Yes Is Question Mandatory : No Calculator : None Response Time : N.A Think Time : N.A Minimum Instruction Time : 0

Correct Marks : 1 Wrong Marks : 0.33

తమిళనాడులోని సెంబూర్ వంటి ప్రాచీన శిలాయుగానికి చెందిన అనేక భారతీయ ప్రదేశాలలో రాతి పనిముట్లను ఉత్పత్తి చేయడానికి వీటిలో ఉపయోగించే సాంకేతికత ఏది?

Options :

1. ✘ లాకోయిడ్ సాంకేతికత (Lacooid technique)
2. ✔ లెవల్లోయిస్ సాంకేతికత (Levallois technique)
3. ✘ ప్లానోయిడ్ సాంకేతికత (Placooid technique)
4. ✘ హొలోయిస్ సాంకేతికత (Hollois technique)

Question Number : 39 Question Id : 630680805082 Option Shuffling : Yes Is Question Mandatory : No Calculator : None Response Time : N.A Think Time : N.A Minimum Instruction Time : 0

Correct Marks : 1 Wrong Marks : 0.33

Of all the states that grew out of debris of the Gupta Empire, which of these kingdoms had the rulers Maharaja Dharapatta and Guhasena?

Options :

1. ✔ The Maitrakas of Valabhi
2. ✘ The Yasodharman of Kanauj
3. ✘ The Maukharis of Kanauj
4. ✘ The Pushyabbutis of Thanesar

Question Number : 39 Question Id : 630680805082 Option Shuffling : Yes Is Question Mandatory : No Calculator : None Response Time : N.A Think Time : N.A Minimum Instruction Time : 0

Correct Marks : 1 Wrong Marks : 0.33

గుప్త సామ్రాజ్యం యొక్క శిథిలాల నుండి పెరిగిన అన్ని రాష్ట్రాలలో, మహారాజా ధరపట్ట మరియు గుహసేనుల పాలకులు గల రాజ్యం ఏది?

Options :

1. ✓ వలభీ యొక్క మైత్రకాలు
2. ✘ కనోజ్ యొక్క యశోధర్మన్
3. ✘ కనోజ్ యొక్క మౌఖారీలు
4. ✘ తానోసర్ యొక్క పుష్పభూతిలు

Question Number : 40 Question Id : 630680805083 Option Shuffling : Yes Is Question Mandatory : No Calculator : None Response Time : N.A Think Time : N.A Minimum Instruction Time : 0

Correct Marks : 1 Wrong Marks : 0.33

Which of these kings were the first in Indian history to make tax free land grants to Buddhists and Brahmanas to gain religious merit?

Options :

1. ✘ Partian kings
2. ✓ Satavahanas kings
3. ✘ Kushana kings
4. ✘ Shaka kings

Question Number : 40 Question Id : 630680805083 Option Shuffling : Yes Is Question Mandatory : No Calculator : None Response Time : N.A Think Time : N.A Minimum Instruction Time : 0

Correct Marks : 1 Wrong Marks : 0.33

ఈ రాజులలో భారతదేశ చరిత్రలో బౌద్ధులు మరియు బ్రాహ్మణులకు మతపరమైన అర్హతను పొందేందుకు పన్ను రహిత భూమిని మంజూరు చేసిన తొలి రాజు ఎవరు?

Options :

1. ✘ పార్ష్యాన్ రాజులు
2. ✓ శాతవాహనుల రాజులు
3. ✘ కుషాణ రాజులు
4. ✘ శాక రాజులు

Question Number : 41 Question Id : 630680805084 Option Shuffling : Yes Is Question Mandatory : No Calculator : None Response Time : N.A Think Time : N.A Minimum Instruction Time : 0

Correct Marks : 1 Wrong Marks : 0.33

In how many volume Abul Fazl wrote a history of Akbar's reign, titled Akbar Nama?

Options :

1. ✘ Two
2. ✓ Three
3. ✘ Four
4. ✘ Five

Question Number : 41 Question Id : 630680805084 Option Shuffling : Yes Is Question Mandatory : No Calculator : None Response Time : N.A Think Time : N.A Minimum Instruction Time : 0

Correct Marks : 1 Wrong Marks : 0.33

అబుల్ ఫజల్ అక్బర్ నామా అనే పేరుతో అక్బర్ పాలన చరిత్రను ఎన్ని సంపుటాలలో వ్రాసాడు?

Options :

1. ✘ రెండు
2. ✓ మూడు
3. ✘ నాలుగు
4. ✘ అయిదు

Question Number : 42 Question Id : 630680805085 Option Shuffling : Yes Is Question Mandatory : No Calculator : None Response Time : N.A Think Time : N.A Minimum Instruction Time : 0

Correct Marks : 1 Wrong Marks : 0.33

Which of the following statement is CORRECT about Chola kings?

Options :

1. ✘ The Chola Empire was founded by Rajendra I.
2. ✓ Aditya I succeeded Vijayalaya to become the ruler of the empire.
3. ✘ Aditya I was popularly called the Victor of the Ganges.
4. ✘ Vijayalaya received the title of 'Gangaikonda'.

Question Number : 42 Question Id : 630680805085 Option Shuffling : Yes Is Question Mandatory : No Calculator : None Response Time : N.A Think Time : N.A Minimum Instruction Time : 0

Correct Marks : 1 Wrong Marks : 0.33

చోళ రాజుల గురించి కింది వాటిలో సరైనది ఏది?

Options :

1. ✖ చోళ సామ్రాజ్యాన్ని రాజేంద్ర I స్థాపించాడు.
2. ✔ ఆదిత్య I విజయాలయ తరువాత సామ్రాజ్యానికి పాలకుడు అయ్యాడు.
3. ✖ ఆదిత్య Iను గంగానది విజేత అని పిలుస్తారు.
4. ✖ విజయాలయకు 'గంగైకొండ' అనే బిరుదు లభించింది.

Question Number : 43 Question Id : 630680805087 Option Shuffling : Yes Is Question Mandatory : No Calculator : None Response Time : N.A Think Time : N.A Minimum Instruction Time : 0

Correct Marks : 1 Wrong Marks : 0.33

In 1526 Babur defeated the Sultan of Delhi, Ibrahim Lodi, at Panipat and captured _____.

Options :

1. ✔ Delhi and Agra
2. ✖ Delhi and Kanpur
3. ✖ Agra and Kanpur
4. ✖ Delhi and Allahabad

Question Number : 43 Question Id : 630680805087 Option Shuffling : Yes Is Question Mandatory : No Calculator : None Response Time : N.A Think Time : N.A Minimum Instruction Time : 0

Correct Marks : 1 Wrong Marks : 0.33

1526లో బాబర్ పానిపట్టు వద్ద ఢిల్లీ సుల్తాన్ ఇబ్రహీం లోడిని ఓడించి _____లను స్వాధీనం చేసుకున్నాడు.

Options :

1. ✔ ఢిల్లీ మరియు ఆగ్రా
2. ✖ ఢిల్లీ మరియు కాన్పూర్
3. ✖ ఆగ్రా మరియు కాన్పూర్
4. ✖ ఢిల్లీ మరియు అలహాబాద్

Question Number : 44 Question Id : 630680805088 Option Shuffling : Yes Is Question Mandatory : No Calculator : None Response Time : N.A Think Time : N.A Minimum Instruction Time : 0

Correct Marks : 1 Wrong Marks : 0.33

Match the following columns I and II and choose the CORRECT answer from the given options.

Column I (Delhi Sultan)	Column II (Period of rule)
A. Jalaluddin Khalji	1. 1451 -1489
B. Muhammad Tughluq	2. 1414 -1421
C. Khizr Khan	3. 1324 -1351
D. Bahlul Lodi	4. 1290 – 1296

Options :

1. ✖ A-1, B-2, C-3, D-4
2. ✖ A-2, B-1, C-4, D-3
3. ✖ A-4, B-3, C-1, D-2
4. ✔ A-4, B-3, C-2, D-1

Question Number : 44 Question Id : 630680805088 Option Shuffling : Yes Is Question Mandatory : No Calculator : None Response Time : N.A Think Time : N.A Minimum Instruction Time : 0

Correct Marks : 1 Wrong Marks : 0.33

క్రీంది I మరియు II నిలువు వరుసలను జతపరిచి, ఇచ్చిన ఎంపికల నుండి సరైన సమాధానాన్ని ఎంచుకోండి.

వరుస I (ఢిల్లీ సుల్తాను)	వరుస II (పాలన కాలం)
A. జలాలుద్దీన్ ఖాల్జీ	1. 1451 -1489
B. మహమ్మద్ తుగ్లక్	2. 1414 -1421
C. ఖిజర్ ఖాన్	3. 1324 -1351
D. బహ్మల్ లోడి	4. 1290 – 1296

Options :

1. ✖ A-1, B-2, C-3, D-4
2. ✖ A-2, B-1, C-4, D-3
3. ✖ A-4, B-3, C-1, D-2
4. ✔ A-4, B-3, C-2, D-1

Question Number : 45 Question Id : 630680805089 Option Shuffling : Yes Is Question Mandatory : No Calculator : None Response Time : N.A Think Time : N.A Minimum Instruction Time : 0

Correct Marks : 1 Wrong Marks : 0.33

Territory of which of these dynasties was called Tondaimandalam?

Options :

1. ✖ Chalukya dynasty

2. ✖ Kakatiya dynasty
3. ✖ Satavahana dynasty
4. ✔ Pallava dynasty

Question Number : 45 Question Id : 630680805089 Option Shuffling : Yes Is Question Mandatory : No Calculator : None Response Time : N.A Think Time : N.A Minimum Instruction Time : 0

Correct Marks : 1 Wrong Marks : 0.33

వీటిలో ఏ రాజ్యం యొక్క భూభాగాన్ని తొండ్రైమండలం అని పిలుస్తారు?

Options :

1. ✖ చాళుక్య రాజ్యం
2. ✖ కాకతీయ రాజ్యం
3. ✖ శాతవాహన రాజ్యం
4. ✔ పల్లవ రాజ్యం

Question Number : 46 Question Id : 630680805090 Option Shuffling : Yes Is Question Mandatory : No Calculator : None Response Time : N.A Think Time : N.A Minimum Instruction Time : 0

Correct Marks : 1 Wrong Marks : 0.33

Which of these rivers is known as the Tsang Po in Tibet?

Options :

1. ✖ Ganga
2. ✖ Jhelum
3. ✔ Brahmaputra
4. ✖ Mahanadi

Question Number : 46 Question Id : 630680805090 Option Shuffling : Yes Is Question Mandatory : No Calculator : None Response Time : N.A Think Time : N.A Minimum Instruction Time : 0

Correct Marks : 1 Wrong Marks : 0.33

కింది నదులలో టిబెట్‌లో త్సాంగ్ పో (Tsang Po) అని పిలువబడేది ఏది?

Options :

1. ✖ గంగ
2. ✖ జీలం
3. ✔ బ్రహ్మపుత్ర
4. ✖ మహానది

Question Number : 47 Question Id : 630680805091 Option Shuffling : Yes Is Question Mandatory : No Calculator : None Response Time : N.A Think Time : N.A Minimum Instruction Time : 0

Correct Marks : 1 Wrong Marks : 0.33

The Indian rivers are divided into _____ major groups.

Options :

1. ✔ Two
2. ✖ Three
3. ✖ Five
4. ✖ Six

Question Number : 47 Question Id : 630680805091 Option Shuffling : Yes Is Question Mandatory : No Calculator : None Response Time : N.A Think Time : N.A Minimum Instruction Time : 0

Correct Marks : 1 Wrong Marks : 0.33

భారతీయ నదులు _____ ప్రధాన సమూహాలుగా విభజించబడ్డాయి.

Options :

1. ✔ రెండు
2. ✖ మూడు
3. ✖ ఐదు
4. ✖ ఆరు

Question Number : 48 Question Id : 630680805092 Option Shuffling : Yes Is Question Mandatory : No Calculator : None Response Time : N.A Think Time : N.A Minimum Instruction Time : 0

Correct Marks : 1 Wrong Marks : 0.33

In which of these states of India, Loktak lake is located?

Options :

1. ✖ Assam
2. ✖ Mizoram
3. ✔ Manipur
4. ✖ Tripura

Question Number : 48 Question Id : 630680805092 Option Shuffling : Yes Is Question Mandatory : No Calculator : None Response Time : N.A Think Time : N.A Minimum Instruction Time : 0

Correct Marks : 1 Wrong Marks : 0.33

భారతదేశంలోని ఈ రాష్ట్రాల్లో లోక్ తక్కువ సరస్సు ఏ రాష్ట్రంలో ఉంది?

Options :

1. ✖ అస్సాం
2. ✖ మిజోరం
3. ✔ మణిపూర్
4. ✖ త్రిపుర

Question Number : 49 Question Id : 630680805093 Option Shuffling : Yes Is Question Mandatory : No Calculator : None Response Time : N.A Think Time : N.A Minimum Instruction Time : 0

Correct Marks : 1 Wrong Marks : 0.33

Mahogany, ebony and rosewood are the important trees of _____.

Options :

1. ✖ Tropical deciduous forest
2. ✖ Mountain vegetation
3. ✔ Tropical Evergreen Forests
4. ✖ Mangrove forests

Question Number : 49 Question Id : 630680805093 Option Shuffling : Yes Is Question Mandatory : No Calculator : None Response Time : N.A Think Time : N.A Minimum Instruction Time : 0

Correct Marks : 1 Wrong Marks : 0.33

మహాగని, ఎబోనీ మరియు రోజ్ వుడ్ _____ యొక్క ప్రధానమైన వృక్షాలు.

Options :

1. ✖ ఉష్ణమండల ఆకురాల్చే అడవి
2. ✖ పర్వత వృక్షసంపద
3. ✔ ఉష్ణమండల సతత హరిత అడవులు
4. ✖ మడ అడవులు

Question Number : 50 Question Id : 630680805094 Option Shuffling : Yes Is Question Mandatory : No Calculator : None Response Time : N.A Think Time : N.A Minimum Instruction Time : 0

Correct Marks : 1 Wrong Marks : 0.33

Which of the following is CORRECT with respect to physical features of India?

Options :

1. ✖ The Shiwalik ranges are mainly composed of highly compressed and altered rocks.
2. ✖ The folds of the Great Himalayas are symmetrical in nature.
3. ✖ The Himalaya consists of four parallel ranges in its longitudinal extent.
4. ✔ Himadri is the most continuous range consisting of the loftiest peaks with an average height of 6,000 metres.

Question Number : 50 Question Id : 630680805094 Option Shuffling : Yes Is Question Mandatory : No Calculator : None Response Time : N.A Think Time : N.A Minimum Instruction Time : 0

Correct Marks : 1 Wrong Marks : 0.33

కింది వాటిలో భారతదేశ భౌతిక లక్షణాలకు సంబంధించి సరైనది ఏది?

Options :

1. ✖ శివాలిక్ శ్రేణులు ప్రధానంగా అత్యంత కుదించబడిన మరియు సవరణ శిలలతో కూడి ఉంటాయి.
2. ✖ మహా హిమాలయాల మడతలు ప్రకృతిలో సౌష్ఠ్యంగా ఉంటాయి.
3. ✖ హిమాలయాలు దాని రేఖాంశ పరిధిలో నాలుగు సమాంతర శ్రేణులను కలిగి ఉంటాయి.
4. ✔ 6,000 మీటర్ల సగటు ఎత్తుతో ఎత్తైన శిఖరాలతో కూడిన అత్యంత అవిచ్ఛిన్న శ్రేణి హిమాద్రి.

Question Number : 51 Question Id : 630680805095 Option Shuffling : Yes Is Question Mandatory : No Calculator : None Response Time : N.A Think Time : N.A Minimum Instruction Time : 0

Correct Marks : 1 Wrong Marks : 0.33

As per the fifth round of the National Family Health Survey (2019-21), the sex ratio of the population (females per 1000 males) for India was estimated as _____.

Options :

1. ✖ 1005
2. ✖ 1010
3. ✖ 1015
4. ✔ 1020

Question Number : 51 Question Id : 630680805095 Option Shuffling : Yes Is Question Mandatory : No Calculator : None Response Time : N.A Think Time : N.A Minimum Instruction Time : 0

Correct Marks : 1 Wrong Marks : 0.33

జాతీయ కుటుంబ ఆరోగ్య సర్వే (2019-21) యొక్క ఐదవ విడత ప్రకారం, భారతదేశంలో జనాభా లింగ నిష్పత్తి (1000 మంది పురుషులకు స్త్రీలు) _____ గా అంచనా వేయబడింది.

Options :

1. ✖ 1005
2. ✖ 1010
3. ✖ 1015

4. ✓ 1020

Question Number : 52 Question Id : 630680805096 Option Shuffling : Yes Is Question Mandatory : No Calculator : None Response Time : N.A Think Time : N.A Minimum Instruction Time : 0

Correct Marks : 1 Wrong Marks : 0.33

What was the literacy rates of India as per Census 2011?

Options :

1. ✘ 71.04%
2. ✘ 72.04%
3. ✘ 73.04%
4. ✓ 74.04%

Question Number : 52 Question Id : 630680805096 Option Shuffling : Yes Is Question Mandatory : No Calculator : None Response Time : N.A Think Time : N.A Minimum Instruction Time : 0

Correct Marks : 1 Wrong Marks : 0.33

2011 జనాభా లెక్కల ప్రకారం భారతదేశ అక్షరాస్యత రేటు ఎంత?

Options :

1. ✘ 71.04%
2. ✘ 72.04%
3. ✘ 73.04%
4. ✓ 74.04%

Question Number : 53 Question Id : 630680805097 Option Shuffling : Yes Is Question Mandatory : No Calculator : None Response Time : N.A Think Time : N.A Minimum Instruction Time : 0

Correct Marks : 1 Wrong Marks : 0.33

As per National Population and Housing Census 2021 of Nepal, what percentage of birth of children of age 5 years and below was NOT registered in Nepal?

Options :

1. ✓ 26%
2. ✘ 36%
3. ✘ 46%
4. ✘ 56%

Question Number : 53 Question Id : 630680805097 Option Shuffling : Yes Is Question Mandatory : No Calculator : None Response Time : N.A Think Time : N.A Minimum Instruction Time : 0

Correct Marks : 1 Wrong Marks : 0.33

నేపాల్ జాతీయ జనాభా మరియు గృహ గణన 2021 ప్రకారం, నేపాల్లో నమోదు కాని 5 సంవత్సరాల మరియు అంతకంటే తక్కువ వయస్సు ఉన్న పిల్లల జనన శాతం ఎంత?

Options :

1. ✓ 26%
2. ✘ 36%
3. ✘ 46%
4. ✘ 56%

Question Number : 54 Question Id : 630680805098 Option Shuffling : Yes Is Question Mandatory : No Calculator : None Response Time : N.A Think Time : N.A Minimum Instruction Time : 0

Correct Marks : 1 Wrong Marks : 0.33

As per Pakistan Economic Survey 2022/23, the literacy rate of Pakistan according to Labor Force Survey 2020- 21 was _____.

Options :

1. ✓ 62.8%
2. ✘ 61.8%
3. ✘ 60.8%
4. ✘ 59.8%

Question Number : 54 Question Id : 630680805098 Option Shuffling : Yes Is Question Mandatory : No Calculator : None Response Time : N.A Think Time : N.A Minimum Instruction Time : 0

Correct Marks : 1 Wrong Marks : 0.33

పాకిస్తాన్ ఆర్థిక సర్వే 2022/23 ప్రకారం, లేబర్ ఫోర్స్ సర్వే 2020- 21 ప్రకారం పాకిస్తాన్ అక్షరాస్యత రేటు _____.

Options :

1. ✓ 62.8%
2. ✘ 61.8%
3. ✘ 60.8%
4. ✘ 59.8%

Question Number : 55 Question Id : 630680805099 Option Shuffling : Yes Is Question Mandatory : No Calculator : None Response Time : N.A Think Time : N.A Minimum Instruction Time : 0

Correct Marks : 1 Wrong Marks : 0.33

Match the following columns I and II and choose the CORRECT answer from the given options.

Column I (Religion)	Column II (Population as per Census 2011)
A. Sikhs	1. 1.7%
B. Christians	2. 2.3%
C. Buddhists	3. 0.4%
D. Jains	4. 0.7%

Options :

1. ✖ A-1, B-2, C-3, D-4
2. ✔ A-1, B-2, C-4, D-3
3. ✖ A-2, B-1, C-4, D-3
4. ✖ A-2, B-1, C-3, D-4

Question Number : 55 Question Id : 630680805099 Option Shuffling : Yes Is Question Mandatory : No Calculator : None Response Time : N.A Think Time : N.A Minimum Instruction Time : 0

Correct Marks : 1 Wrong Marks : 0.33

క్రింది I మరియు II నిలువు వరుసలను జతపరిచి, ఇచ్చిన ఎంపికల నుండి సరైన సమాధానాన్ని ఎంచుకోండి.

వరుస I (మతం)	వరుస II (2011 జనాభా లెక్కల ప్రకారం జనాభా)
A. సిక్కులు	1. 1.7%
B. క్రైస్తవులు	2. 2.3%
C. బౌద్ధులు	3. 0.4%
D. జైనులు	4. 0.7%

Options :

1. ✖ A-1, B-2, C-3, D-4
2. ✔ A-1, B-2, C-4, D-3
3. ✖ A-2, B-1, C-4, D-3
4. ✖ A-2, B-1, C-3, D-4

Question Number : 56 Question Id : 630680805100 Option Shuffling : Yes Is Question Mandatory : No Calculator : None Response Time : N.A Think Time : N.A Minimum Instruction Time : 0

Correct Marks : 1 Wrong Marks : 0.33

Which soils in Andhra Pradesh are also called as Regurs or Vertisols?

Options :

1. ✖ Red soils
2. ✖ Skeletal soils
3. ✔ Black soils
4. ✖ Lateritic soils

Question Number : 56 Question Id : 630680805100 Option Shuffling : Yes Is Question Mandatory : No Calculator : None Response Time : N.A Think Time : N.A Minimum Instruction Time : 0

Correct Marks : 1 Wrong Marks : 0.33

ఆంధ్రప్రదేశ్ లోని ఏ నేలను రెగర్స్ లేదా వెర్టిసోల్స్ అని కూడా పిలుస్తారు?

Options :

1. ✖ ఎర్ర నేలలు
2. ✖ స్కెలటల్ నేలలు
3. ✔ నల్ల నేలలు
4. ✖ లాటరిటిక్ నేలలు

Question Number : 57 Question Id : 630680805101 Option Shuffling : Yes Is Question Mandatory : No Calculator : None Response Time : N.A Think Time : N.A Minimum Instruction Time : 0

Correct Marks : 1 Wrong Marks : 0.33

Which of these is the highest peak in Andhra Pradesh located in Alluri Sitharamaraju district?

Options :

1. ✔ Arma Konda
2. ✖ Gali Konda
3. ✖ Jindhagada Peak
4. ✖ Sinkram Gutta

Question Number : 57 Question Id : 630680805101 Option Shuffling : Yes Is Question Mandatory : No Calculator : None Response Time : N.A Think Time : N.A Minimum Instruction Time : 0

Correct Marks : 1 Wrong Marks : 0.33

అల్లూరి సీతారామరాజు జిల్లాలో ఉన్న ఆంధ్రప్రదేశ్ లో ఎత్తైన శిఖరం ఏది?

Options :

- ✓ అర్క కొండ
- * గాలి కొండ
- * జింధగడ శిఖరం
- * సింక్రం గుట్ట

Question Number : 58 Question Id : 630680805103 Option Shuffling : Yes Is Question Mandatory : No Calculator : None Response Time : N.A Think Time : N.A Minimum Instruction Time : 0

Correct Marks : 1 Wrong Marks : 0.33

As per Andhra Pradesh Forest Department, as of May 2024, the state of Andhra Pradesh is ranked 8th in the country in terms of the Recorded Forest Area (RFA) which is _____sq. km.

Options :

- * 34,258
- * 35,258
- * 36,258
- ✓ 37,258

Question Number : 58 Question Id : 630680805103 Option Shuffling : Yes Is Question Mandatory : No Calculator : None Response Time : N.A Think Time : N.A Minimum Instruction Time : 0

Correct Marks : 1 Wrong Marks : 0.33

ఆంధ్రప్రదేశ్ అటవీ శాఖ ప్రకారం, మే 2024 నాటికి, ఆంధ్రప్రదేశ్ రాష్ట్రం రికార్డెడ్ ఫారెస్ట్ ఏరియా (RFA) పరంగా దేశంలో 8వ స్థానంలో ఉంది, ఇది _____sq. Km లు కలదు.

Options :

- * 34,258
- * 35,258
- * 36,258
- ✓ 37,258

Question Number : 59 Question Id : 630680805104 Option Shuffling : Yes Is Question Mandatory : No Calculator : None Response Time : N.A Think Time : N.A Minimum Instruction Time : 0

Correct Marks : 1 Wrong Marks : 0.33

Which of the following districts of Andhra Pradesh are rich in Gold resources?

Options :

- ✓ Chittoor, Kurnool, Kadapa, Ananthapur
- * Kurnool, Kadapa, Srikakulam, Guntur
- * Chittoor, Kurnool, Krishna, west Godavari
- * Kurnool, Kadapa, Prakasam, Vishakapatnam

Question Number : 59 Question Id : 630680805104 Option Shuffling : Yes Is Question Mandatory : No Calculator : None Response Time : N.A Think Time : N.A Minimum Instruction Time : 0

Correct Marks : 1 Wrong Marks : 0.33

ఆంధ్రప్రదేశ్ లోని కింది వాటిలో బంగారు ఖనిజాలు అధికంగా ఉన్న జిల్లా ఏది?

Options :

- ✓ చిత్తూరు, కర్నూలు, కడప, అనంతపురం
- * కర్నూలు, కడప, శ్రీకాకుళం, గుంటూరు
- * చిత్తూరు, కర్నూలు, కృష్ణా, పశ్చిమ గోదావరి
- * కర్నూలు, కడప, ప్రకాశం, విశాఖపట్నం

Question Number : 60 Question Id : 630680805105 Option Shuffling : Yes Is Question Mandatory : No Calculator : None Response Time : N.A Think Time : N.A Minimum Instruction Time : 0

Correct Marks : 1 Wrong Marks : 0.33

Which of the following statement is CORRECT about river Krishna?

Options :

- * It is 851 km long and its catchment area spreads over 1.42 lakh sq. km.
- * It flows towards the west till Telwara and then takes a southwest direction to join the Rann of Kuchchh.
- ✓ It is the second largest east flowing Peninsular river which rises near Mahabaleshwar in Sahyadri.
- * Its important tributaries are the Kabini, the Bhavani and the Amravati.

Question Number : 60 Question Id : 630680805105 Option Shuffling : Yes Is Question Mandatory : No Calculator : None Response Time : N.A Think Time : N.A Minimum Instruction Time : 0

Correct Marks : 1 Wrong Marks : 0.33

కింది వాటిలో కృష్ణా నదికి సంబంధించి సరైనది ఏది?

Options :

- * ఇది 851 km ల పొడవు మరియు దాని పరివాహక ప్రాంతం 1.42 లక్షల sq. km లలో విస్తరించి ఉంది.

2. ✖ ఇది తెలంగాణ వరకు పశ్చిమం వైపు ప్రవహిస్తుంది మరియు తరువాత రన్ ఆఫ్ కచ్కు చేరడానికి నైరుతి దిశలో ప్రవహిస్తుంది.
3. ✔ ఇది సహ్యాద్రిలోని మహాబలేశ్వరం సమీపంలో ప్రవహించే రెండవ అతిపెద్ద తూర్పున ప్రవహించే ద్వీపకల్ప నది.
4. ✖ దీని ముఖ్యమైన ఉపనదులు కబిని, భవాని మరియు అమరావతి.

Question Number : 61 Question Id : 630680805109 Option Shuffling : Yes Is Question Mandatory : No Calculator : None Response Time : N.A Think Time : N.A Minimum Instruction Time : 0

Correct Marks : 1 Wrong Marks : 0.33

The "Panta Sanjeevani" program in Andhra Pradesh aims to increase agricultural productivity. What does "Panta Sanjeevani" mean?

Options :

1. ✖ Pest control
2. ✖ Soil rejuvenation
3. ✔ Construction of farm ponds
4. ✖ Green Revolution

Question Number : 61 Question Id : 630680805109 Option Shuffling : Yes Is Question Mandatory : No Calculator : None Response Time : N.A Think Time : N.A Minimum Instruction Time : 0

Correct Marks : 1 Wrong Marks : 0.33

ఆంధ్రప్రదేశ్ లో "పంట సంజీవని" కార్యక్రమం వ్యవసాయ ఉత్పాదకతను పెంచడం లక్ష్యంగా పెట్టుకుంది. "పంట సంజీవని" అంటే ఏమిటి?

Options :

1. ✖ తెగులు నియంత్రణ
2. ✖ నేల పునరుజ్జీవనం
3. ✔ వ్యవసాయ గుంటల నిర్మాణం
4. ✖ హరిత విప్లవం

Question Number : 62 Question Id : 630680805110 Option Shuffling : Yes Is Question Mandatory : No Calculator : None Response Time : N.A Think Time : N.A Minimum Instruction Time : 0

Correct Marks : 1 Wrong Marks : 0.33

The cultivation of which major commercial crop, often referred to as "white gold," has expanded significantly in Andhra Pradesh in recent years?

Options :

1. ✖ Rice
2. ✖ Wheat
3. ✔ Cotton
4. ✖ Rubber

Question Number : 62 Question Id : 630680805110 Option Shuffling : Yes Is Question Mandatory : No Calculator : None Response Time : N.A Think Time : N.A Minimum Instruction Time : 0

Correct Marks : 1 Wrong Marks : 0.33

"తెల్ల బంగారం"గా తరచుగా సూచించబడే ఏ ప్రధాన వాణిజ్య పంట సాగు ఇటీవలి సంవత్సరాలలో ఆంధ్రప్రదేశ్ లో గణనీయంగా విస్తరించింది?

Options :

1. ✖ వరి
2. ✖ గోధుమలు
3. ✔ పత్తి
4. ✖ రబ్బరు

Question Number : 63 Question Id : 630680805111 Option Shuffling : Yes Is Question Mandatory : No Calculator : None Response Time : N.A Think Time : N.A Minimum Instruction Time : 0

Correct Marks : 1 Wrong Marks : 0.33

The construction of the Krishnapatnam Port in Andhra Pradesh has boosted the state's infrastructure. In which region is this port located?

Options :

1. ✖ Anantapur
2. ✖ Visakhapatnam
3. ✖ Vizianagaram
4. ✔ Nellore

Question Number : 63 Question Id : 630680805111 Option Shuffling : Yes Is Question Mandatory : No Calculator : None Response Time : N.A Think Time : N.A Minimum Instruction Time : 0

Correct Marks : 1 Wrong Marks : 0.33

ఆంధ్రప్రదేశ్ లోని కృష్ణపట్నం నౌకాశ్రయం నిర్మాణం రాష్ట్ర మౌలిక సదుపాయాలను పెంచింది. ఈ నౌకాశ్రయం ఏ ప్రాంతంలో ఉంది?

Options :

1. ✖ అనంతపురం
2. ✖ విశాఖపట్నం
3. ✖ విజయనగరం
4. ✔ నెల్లూరు

Question Number : 64 Question Id : 630680805113 Option Shuffling : Yes Is Question Mandatory : No Calculator : None Response Time : N.A Think Time : N.A Minimum Instruction Time : 0

Correct Marks : 1 Wrong Marks : 0.33

When was the Andhra Pradesh Industrial Infrastructure Corporation Ltd. (APIIC) incorporated?

Options :

1. ✖ 26th September, 1972
2. ✔ 26th September, 1973
3. ✖ 26th September, 1974
4. ✖ 26th September, 1975

Question Number : 64 Question Id : 630680805113 Option Shuffling : Yes Is Question Mandatory : No Calculator : None Response Time : N.A Think Time : N.A Minimum Instruction Time : 0

Correct Marks : 1 Wrong Marks : 0.33

ఆంధ్రప్రదేశ్ ఇండస్ట్రియల్ ఇన్ఫ్రాస్ట్రక్చర్ కార్పొరేషన్ లిమిటెడ్ (APIIC) ఎప్పుడు స్థాపించబడింది?

Options :

1. ✖ 26 సెప్టెంబర్, 1972
2. ✔ 26 సెప్టెంబర్, 1973
3. ✖ 26 సెప్టెంబర్, 1974
4. ✖ 26 సెప్టెంబర్, 1975

Question Number : 65 Question Id : 630680805115 Option Shuffling : Yes Is Question Mandatory : No Calculator : None Response Time : N.A Think Time : N.A Minimum Instruction Time : 0

Correct Marks : 1 Wrong Marks : 0.33

Match the following items correctly:

1. Jaggayyapeta Limestone mine (JLM)	a. Khammam District
2. Garbham Manganese mine (GMM)	b. Krishna District
3. Madharam Dolomite Mine (MDM)	c. Vizianagaram District

Options :

1. ✖ 1-c, 2-a, 3-b
2. ✖ 1-a, 2-b, 3-c
3. ✔ 1-b, 2-c, 3-a
4. ✖ 1-c, 2-b, 3-a

Question Number : 65 Question Id : 630680805115 Option Shuffling : Yes Is Question Mandatory : No Calculator : None Response Time : N.A Think Time : N.A Minimum Instruction Time : 0

Correct Marks : 1 Wrong Marks : 0.33

కింది వాటిని సరిగ్గా జతపరచండి:

1. జగ్గయ్యపేట సున్నపురాయి గని (JLM)	a. ఖమ్మం
2. గర్భం మాంగనీస్ గని (GMM)	b. కృష్ణా జిల్లా
3. మాధారం డోలమైట్ గని (MDM)	c. విజయనగరం జిల్లా

Options :

1. ✖ 1-c, 2-a, 3-b
2. ✖ 1-a, 2-b, 3-c
3. ✔ 1-b, 2-c, 3-a
4. ✖ 1-c, 2-b, 3-a

Question Number : 66 Question Id : 630680805116 Option Shuffling : Yes Is Question Mandatory : No Calculator : None Response Time : N.A Think Time : N.A Minimum Instruction Time : 0

Correct Marks : 1 Wrong Marks : 0.33

Which function of the environment means the process of recycling of waste material, disintegrating organic material into nutrients by biological action of living microorganisms.

Options :

1. ✖ Production function
2. ✔ Biodegradation function
3. ✖ Support function
4. ✖ Habitat function

Question Number : 66 Question Id : 630680805116 Option Shuffling : Yes Is Question Mandatory : No Calculator : None Response Time : N.A Think Time : N.A Minimum Instruction Time : 0

Correct Marks : 1 Wrong Marks : 0.33

పర్యావరణం యొక్క ఏ విధి (ఫంక్షన్) అనగా వ్యర్థ పదార్థాల రీసైక్లింగ్ ప్రక్రియ, సజీవ సూక్ష్మజీవుల జీవ చర్య ద్వారా సేంద్రీయ పదార్థాన్ని పోషకాలుగా విడదీయడం అని అర్థం.

Options :

1. ✖ ఉత్పత్తి విధి
2. ✔ పృథక్కరణ విధి
3. ✖ మద్దతు విధి
4. ✖ నివాస విధి

Question Number : 67 Question Id : 630680805117 Option Shuffling : Yes Is Question Mandatory : No Calculator : None Response Time : N.A Think Time : N.A Minimum Instruction Time : 0

Correct Marks : 1 Wrong Marks : 0.33

There are the functions of the environment that support human life and economic activity, which one of the following is the first function of them?

Options :

1. ✖ Recycling of organic matter
2. ✖ Safe absorption of the wastes
3. ✔ Production of raw materials
4. ✖ Protection from ultraviolet radiation

Question Number : 67 Question Id : 630680805117 Option Shuffling : Yes Is Question Mandatory : No Calculator : None Response Time : N.A Think Time : N.A Minimum Instruction Time : 0

Correct Marks : 1 Wrong Marks : 0.33

మానవ జీవితానికి మరియు ఆర్థిక కార్యకలాపాలకు మద్దతు ఇచ్చే పర్యావరణం యొక్క విధులు ఉన్నాయి, వాటిలో మొదటి విధి ఏది?

Options :

1. ✖ సేంద్రీయ పదార్థాల రీసైక్లింగ్
2. ✖ వ్యర్థాల సురక్షిత శోషణ
3. ✔ ముడి పదార్థాల ఉత్పత్తి
4. ✖ అతిసీల్లోహిత వికీరణం నుండి రక్షణ

Question Number : 68 Question Id : 630680805118 Option Shuffling : Yes Is Question Mandatory : No Calculator : None Response Time : N.A Think Time : N.A Minimum Instruction Time : 0

Correct Marks : 1 Wrong Marks : 0.33

Which of the following is a key principle of sustainable development?

Options :

1. ✖ Prioritizing the interests of one particular industry
2. ✖ Exploiting natural resources without limits
3. ✔ Meeting the needs of the present without compromising the ability of future generations to meet their own needs
4. ✖ Maximizing short-term economic growth

Question Number : 68 Question Id : 630680805118 Option Shuffling : Yes Is Question Mandatory : No Calculator : None Response Time : N.A Think Time : N.A Minimum Instruction Time : 0

Correct Marks : 1 Wrong Marks : 0.33

కింది వాటిలో సుస్థిరాభివృద్ధికి కీలక సూత్రం ఏది?

Options :

1. ✖ ఒక నిర్దిష్ట పరిశ్రమ ప్రయోజనాలకు ప్రాధాన్యత ఇవ్వడం
2. ✖ పరిమితులు లేకుండా సహజ వనరులను దోపిడీ చేయడం
3. ✔ భవిష్యత్ తరాల వారి స్వంత అవసరాలను తీర్చుకునే సామర్థ్యాన్ని రాజీ పడకుండా ప్రస్తుత అవసరాలను తీర్చడం
4. ✖ స్వల్పకాలిక ఆర్థిక వృద్ధిని పెంచడం

Question Number : 69 Question Id : 630680805120 Option Shuffling : Yes Is Question Mandatory : No Calculator : None Response Time : N.A Think Time : N.A Minimum Instruction Time : 0

Correct Marks : 1 Wrong Marks : 0.33

What is a primary driver of deforestation and habitat loss, leading to environmental crises such as species extinction?

Options :

1. ✖ Sustainable logging practices
2. ✔ Agricultural expansion and urban development
3. ✖ Expansion of protected natural areas
4. ✖ Decreased demand for wood products

Question Number : 69 Question Id : 630680805120 Option Shuffling : Yes Is Question Mandatory : No Calculator : None Response Time : N.A Think Time : N.A Minimum Instruction Time : 0

Correct Marks : 1 Wrong Marks : 0.33

జాతుల విలువైన వంటి పర్యావరణ సంక్షోభాలకు దారితీసే అటవీ నిర్మూలన మరియు ఆవాసాల నష్టం యొక్క ప్రాథమిక కారణం ఏది?

Options :

1. ✖ స్థిరమైన లాగింగ్ పద్ధతులు
2. ✔ వ్యవసాయ విస్తరణ మరియు పట్టణ అభివృద్ధి
3. ✖ రక్షిత సహజ ప్రాంతాల విస్తరణ
4. ✖ చెక్క ఉత్పత్తులకు డిమాండ్ తగ్గింది

Question Number : 70 Question Id : 630680805121 Option Shuffling : Yes Is Question Mandatory : No Calculator : None Response Time : N.A Think Time : N.A Minimum Instruction Time : 0

Correct Marks : 1 Wrong Marks : 0.33

Match the Sustainable Development Goal (SDG) with its Description:

Sustainable Development Goals:

- A) SDG 7
- B) SDG 12
- C) SDG 15
- D) SDG 13

Descriptions:

1. Ensure access to affordable, reliable, sustainable, and modern energy.
2. Promote sustainable agriculture and responsible consumption and production.
3. Take urgent action to combat climate change and its impacts.
4. Life on land.

Options :

1. * A) 2, B) 1 C) 4, D) 3
2. ✓ A) 1, B) 2, C) 4, D) 3
3. * A) 1, B) 2, C) 3, D) 4
4. * A) 4, B) 2, C) 1, D) 3

Question Number : 70 Question Id : 630680805121 Option Shuffling : Yes Is Question Mandatory : No Calculator : None Response Time : N.A Think Time : N.A Minimum Instruction Time : 0

Correct Marks : 1 Wrong Marks : 0.33

సుస్థిరాభివృద్ధి లక్ష్యము (SDG)ని దాని వివరణతో జతపరచండి:

సుస్థిరాభివృద్ధి లక్ష్యాలు:

- A) SDG 7
- B) SDG 12
- C) SDG 15
- D) SDG 13

వివరణలు:

1. సరసమైన, నమ్మదగిన, స్థిరమైన మరియు ఆధునిక శక్తిని అందించుట.
2. సుస్థిర వ్యవసాయం, బాధ్యతాయుతమైన వినియోగం మరియు ఉత్పత్తిని ప్రోత్సహించడం.
3. వాతావరణ మార్పు మరియు దాని ప్రభావాలను ఎదుర్కోవడానికి తక్షణ చర్య తీసుకోవడం.
4. భూ గ్రహంపై జీవనం.

Options :

1. * A) 2, B) 1 C) 4, D) 3
2. ✓ A) 1, B) 2, C) 4, D) 3
3. * A) 1, B) 2, C) 3, D) 4
4. * A) 4, B) 2, C) 1, D) 3

Question Number : 71 Question Id : 630680805122 Option Shuffling : Yes Is Question Mandatory : No Calculator : None Response Time : N.A Think Time : N.A Minimum Instruction Time : 0

Correct Marks : 1 Wrong Marks : 0.33

This question consist of two statements – Assertion (A) and Reason (R). Answer the question selecting the appropriate option given below:

Assertion: Economic sustainability primarily involves maximizing profits without considering social or environmental impacts.

Reason: Economic sustainability seeks to achieve a balance between economic growth, social equity.

Options :

1. * Both the assertion and reason are true, and the reason is a correct explanation of the assertion.
2. ✓ Both the assertion and reason are true, but the reason is NOT a correct explanation of the assertion.
3. * The assertion is true, but the reason is false.
4. * The reason is true, but the assertion is false.

Question Number : 71 Question Id : 630680805122 Option Shuffling : Yes Is Question Mandatory : No Calculator : None Response Time : N.A Think Time : N.A Minimum Instruction Time : 0

Correct Marks : 1 Wrong Marks : 0.33

ఈ ప్రశ్నలో, నిశ్చిత వాక్యం (A) మరియు కారణం (R) అనే రెండు ప్రకటనలు ఉంటాయి. దిగువ ఇవ్వబడిన సముచిత ఎంపికను ఎంచుకుని ప్రశ్నకు సమాధానం ఇవ్వండి:

నిశ్చిత వాక్యం: ఆర్థిక స్థిరత్వం అనేది ప్రధానంగా సామాజిక లేదా పర్యావరణ ప్రభావాలను పరిగణనలోకి తీసుకోకుండా లాభాలను పెంచడం.

కారణం: ఆర్థిక స్థిరత్వం ఆర్థిక వృద్ధి, సామాజిక సమానత్వం మధ్య సమతుల్యతను సాధించడానికి ప్రయత్నిస్తుంది.

Options :

1. * నిశ్చిత వాక్యం మరియు కారణం రెండూ నిజం, మరియు కారణం నిశ్చిత వాక్యంకు సరైన వివరణ.
2. ✓ నిశ్చిత వాక్యం మరియు కారణం రెండూ నిజమే, కానీ కారణం నిశ్చిత వాక్యంకు సరైన వివరణ కాదు.
3. * నిశ్చిత వాక్యం నిజం, కానీ కారణం తప్పు.
4. * కారణం నిజం, కానీ నిశ్చిత వాక్యం తప్పు.

Question Number : 72 Question Id : 630680805123 Option Shuffling : Yes Is Question Mandatory : No Calculator : None Response Time : N.A Think Time : N.A Minimum Instruction Time : 0

Correct Marks : 1 Wrong Marks : 0.33

Match the Socioeconomic Challenge with its Corresponding SDG:

Socioeconomic Challenges:

- Gender inequality
- Youth unemployment
- Inadequate healthcare
- Food insecurity

Sustainable Development Goals:

- Goal 2: Zero Hunger
- Goal 3: Good Health and Well-being
- Goal 5: Gender Equality
- Goal 8: Decent Work and Economic Growth

Options :

- * A) 2, B) 4, C) 3, D) 1
- * A) 4, B) 3, C) 2, D) 1
- ✓ A) 3, B) 4, C) 2, D) 1
- * A) 1, B) 4, C) 2, D) 3

Question Number : 72 Question Id : 630680805123 Option Shuffling : Yes Is Question Mandatory : No Calculator : None Response Time : N.A Think Time : N.A Minimum Instruction Time : 0

Correct Marks : 1 Wrong Marks : 0.33

సామాజిక ఆర్థిక సవాలును దాని సంబంధిత SDGతో జతపరచండి:

సామాజిక ఆర్థిక సవాళ్ళు:

- లింగ అసమానత
- యువత నిరుద్యోగం
- సరిపోని ఆరోగ్య సంరక్షణ
- ఆహార అభద్రత

సుస్థిరాభివృద్ధి లక్ష్యాలు:

- లక్ష్యం 2: శూన్య ఆకలి
- లక్ష్యం 3: మంచి ఆరోగ్యం మరియు శ్రేయస్సు
- లక్ష్యం 5: లింగ సమానత్వం
- లక్ష్యం 8: మంచి పని మరియు ఆర్థిక వృద్ధి

Options :

- * A) 2, B) 4, C) 3, D) 1
- * A) 4, B) 3, C) 2, D) 1
- ✓ A) 3, B) 4, C) 2, D) 1
- * A) 1, B) 4, C) 2, D) 3

Question Number : 73 Question Id : 630680805124 Option Shuffling : Yes Is Question Mandatory : No Calculator : None Response Time : N.A Think Time : N.A Minimum Instruction Time : 0

Correct Marks : 1 Wrong Marks : 0.33

Select the correct statements related to agricultural practices and their environmental impact:

- The use of synthetic fertilizers and pesticides can lead to soil and water pollution.
- Sustainable farming methods prioritize soil health and biodiversity conservation.
- Modern agriculture has no connection to the depletion of freshwater resources.
- The expansion of monoculture farming is beneficial for overall ecosystem stability.

Options :

- * II and IV
- * III and IV
- * I and III
- ✓ I and II

Question Number : 73 Question Id : 630680805124 Option Shuffling : Yes Is Question Mandatory : No Calculator : None Response Time : N.A Think Time : N.A Minimum Instruction Time : 0

Correct Marks : 1 Wrong Marks : 0.33

వ్యవసాయ పద్ధతులు మరియు వాటి పర్యావరణ ప్రభావానికి సంబంధించిన సరైన ప్రకటనలను ఎంచుకోండి:

- కృత్రిమ ఎరువులు మరియు పురుగుమందుల వాడకం నేల మరియు నీటి కాలుష్యానికి దారి తీస్తుంది.
- సుస్థిర వ్యవసాయ పద్ధతులు నేల ఆరోగ్యం మరియు జీవవైవిధ్య పరిరక్షణకు ప్రాధాన్యతనిస్తాయి.
- ఆధునిక వ్యవసాయానికి మంచినీటి వనరుల క్షీణతకు సంబంధం లేదు.
- మోనోకల్చర్ వ్యవసాయం యొక్క విస్తరణ మొత్తం పర్యావరణ వ్యవస్థ స్థిరత్వానికి ప్రయోజనకరంగా ఉంటుంది.

Options :

- * II మరియు IV
- * III మరియు IV
- * I మరియు III
- ✓ I మరియు II

Question Number : 74 Question Id : 630680805125 Option Shuffling : Yes Is Question Mandatory : No Calculator : None Response Time : N.A Think Time : N.A Minimum Instruction Time : 0

Correct Marks : 1 Wrong Marks : 0.33

Match the environmental function with its description:

- Recreation and Aesthetics
- Cultural Heritage
- Medicinal Resources
- Waste Decomposition

- Breakdown of organic waste materials into simpler compounds.
- Source of traditional knowledge, practices, and beliefs tied to ecosystems.
- Use of natural spaces for leisure and enjoyment.
- Discovery and utilization of plants and animals for medicinal purposes.

Options :

- a-ii, b-iii, c-iv, d-i
- a-iii, b-ii, c-iv, d-i
- a-iii, b-ii, c-i, d-iv
- a-iii, b-iv, c-ii, d-i

Question Number : 74 Question Id : 630680805125 Option Shuffling : Yes Is Question Mandatory : No Calculator : None Response Time : N.A Think Time : N.A Minimum Instruction Time : 0

Correct Marks : 1 Wrong Marks : 0.33

పర్యావరణ విధిని (Environmental function) దాని వివరణతో జతపరచండి:

- వినోదం మరియు సౌందర్యం
- సాంస్కృతిక వారసత్వం
- ఔషధ వనరులు
- వ్యర్థాల పునరుత్పాదక చక్రం

- సేంద్రియ వ్యర్థ పదార్థాలను సరళమైన సమ్మేళనాలుగా విభజించడం.
- పర్యావరణ వ్యవస్థలతో సాంప్రదాయ జ్ఞానం, పద్ధతులు మరియు నమ్మకాల మూలాలు ముడిపడి ఉన్నాయి.
- విశ్రాంతి మరియు ఆనందం కోసం సహజ ప్రదేశాలను ఉపయోగించడం
- ఔషధ ప్రయోజనాల కోసం మొక్కలు మరియు జంతువులను కనుగొనడం మరియు ఉపయోగించడం.

Options :

- a-ii, b-iii, c-iv, d-i
- a-iii, b-ii, c-iv, d-i
- a-iii, b-ii, c-i, d-iv
- a-iii, b-iv, c-ii, d-i

Question Number : 75 Question Id : 630680805126 Option Shuffling : Yes Is Question Mandatory : No Calculator : None Response Time : N.A Think Time : N.A Minimum Instruction Time : 0

Correct Marks : 1 Wrong Marks : 0.33

Match the correct pairs Andhra Pradesh Economy.

i. Andhra Pradesh economy growth rate in 2015-16	a. 11.61%
ii. Andhra Pradesh per capita income growth rate in 2014-2017.	b. 31.18 %
iii. Andhra Pradesh economy growth rate in 2016-17.	c. 10.95%

Options :

- i-a, ii-b, iii-c
- i-b, ii-c, iii-a
- i-c, ii-b, iii-a
- i-a, ii-c, iii-b

Question Number : 75 Question Id : 630680805126 Option Shuffling : Yes Is Question Mandatory : No Calculator : None Response Time : N.A Think Time : N.A Minimum Instruction Time : 0

Correct Marks : 1 Wrong Marks : 0.33

సరైన జతలతో ఆంధ్రప్రదేశ్ ఆర్థిక వ్యవస్థను జతపరచండి..

i. 2015-16లో ఆంధ్రప్రదేశ్ ఆర్థిక వృద్ధి రేటు	a. 11.61%
ii. 2014-2017లో ఆంధ్రప్రదేశ్ ఆర్థిక ఆదాయ వృద్ధి రేటు.	b. 31.18 %
iii. 2016-17లో ఆంధ్రప్రదేశ్ ఆర్థిక వృద్ధి రేటు.	c. 10.95%

Options :

- i-a, ii-b, iii-c
- i-b, ii-c, iii-a

3. ✓ i-c, ii-b, iii-a
4. ✗ i-a, ii-c, iii-b

Question Number : 76 Question Id : 630680805127 Option Shuffling : Yes Is Question Mandatory : No Calculator : None Response Time : N.A Think Time : N.A Minimum Instruction Time : 0

Correct Marks : 1 Wrong Marks : 0.33

When was the Andhra Pradesh State Housing Corporation Limited (APSHCL) launched the YSR Jaganna Housing Scheme or AP Housing society scheme?

Options :

1. ✗ June 3, 2020
2. ✓ June 3, 2021
3. ✗ June 3, 2022
4. ✗ June 3, 2023

Question Number : 76 Question Id : 630680805127 Option Shuffling : Yes Is Question Mandatory : No Calculator : None Response Time : N.A Think Time : N.A Minimum Instruction Time : 0

Correct Marks : 1 Wrong Marks : 0.33

ఆంధ్రప్రదేశ్ స్టేట్ హౌసింగ్ కార్పొరేషన్ లిమిటెడ్ (APSHCL) YSR జగనన్న హౌసింగ్ స్కీమ్ లేదా AP హౌసింగ్ సొసైటీ పథకాన్ని ఎప్పుడు ప్రారంభించింది?

Options :

1. ✗ జూన్ 3, 2020
2. ✓ జూన్ 3, 2021
3. ✗ జూన్ 3, 2022
4. ✗ జూన్ 3, 2023

Question Number : 77 Question Id : 630680805128 Option Shuffling : Yes Is Question Mandatory : No Calculator : None Response Time : N.A Think Time : N.A Minimum Instruction Time : 0

Correct Marks : 1 Wrong Marks : 0.33

Which e-governance initiative in Andhra Pradesh started in November, 2011 focuses on providing citizens with a single platform for various government services and transactions?

Options :

1. ✗ Amma Vodi
2. ✗ Rythu Bandhu
3. ✓ MeeSeva
4. ✗ Navaratnalu

Question Number : 77 Question Id : 630680805128 Option Shuffling : Yes Is Question Mandatory : No Calculator : None Response Time : N.A Think Time : N.A Minimum Instruction Time : 0

Correct Marks : 1 Wrong Marks : 0.33

2011 నవంబర్లో ఆంధ్రప్రదేశ్లో వివిధ ప్రభుత్వ సేవలు మరియు లావాదేవీల కోసం పౌరులకు ఒకే వేదికను అందించడంపై దృష్టి సారించేందుకు ఏ ఇ-గవర్నెన్స్ కార్యక్రమం ప్రారంభించబడింది?

Options :

1. ✗ అమ్మ ఒడి
2. ✗ రైతు బంధు
3. ✓ మీసేవ
4. ✗ నవరత్నాలు

Question Number : 78 Question Id : 630680805129 Option Shuffling : Yes Is Question Mandatory : No Calculator : None Response Time : N.A Think Time : N.A Minimum Instruction Time : 0

Correct Marks : 1 Wrong Marks : 0.33

The "Janmabhoomi - Maa Vooru" program in Andhra Pradesh encourages citizen participation in local governance and development. When the third phase of it was launched?

Options :

1. ✓ January, 2016
2. ✗ October, 2016
3. ✗ January, 2018
4. ✗ October, 2018

Question Number : 78 Question Id : 630680805129 Option Shuffling : Yes Is Question Mandatory : No Calculator : None Response Time : N.A Think Time : N.A Minimum Instruction Time : 0

Correct Marks : 1 Wrong Marks : 0.33

ఆంధ్రప్రదేశ్లోని "జన్మభూమి - మా ఊరు" కార్యక్రమం స్థానిక పాలన మరియు అభివృద్ధిలో పౌరుల భాగస్వామ్యాన్ని ప్రోత్సహిస్తుంది. దీని మూడవ దశను ఎప్పుడు ప్రారంభించారు?

Options :

1. ✓ జనవరి, 2016
2. ✗ అక్టోబర్, 2016
3. ✗ జనవరి, 2018
4. ✗ అక్టోబర్, 2018

Question Number : 79 Question Id : 630680805130 Option Shuffling : Yes Is Question Mandatory : No Calculator : None Response Time : N.A Think Time : N.A Minimum Instruction Time : 0

Correct Marks : 1 Wrong Marks : 0.33

The process of amending the Constitution of India is laid down in which part of the Constitution?

Options :

- ✘ Part IV
- ✘ Part IX
- ✘ Part XVIII
- ✔ Part XX

Question Number : 79 Question Id : 630680805130 Option Shuffling : Yes Is Question Mandatory : No Calculator : None Response Time : N.A Think Time : N.A Minimum Instruction Time : 0

Correct Marks : 1 Wrong Marks : 0.33

భారత రాజ్యాంగాన్ని సవరించే ప్రక్రియ రాజ్యాంగంలోని ఏ భాగంలో పేర్కొనబడింది?

Options :

- ✘ భాగం IV
- ✘ భాగం IX
- ✘ భాగం XVIII
- ✔ భాగం XX

Question Number : 80 Question Id : 630680805131 Option Shuffling : Yes Is Question Mandatory : No Calculator : None Response Time : N.A Think Time : N.A Minimum Instruction Time : 0

Correct Marks : 1 Wrong Marks : 0.33

Which reform in India launched in 2014, focused on promoting financial inclusion by providing access to banking services to all households in the country?

Options :

- ✘ Goods and Services Tax (GST)
- ✔ Pradhan Mantri Jan Dhan Yojana (PMJDY)
- ✘ Make in India initiative
- ✘ Pradhan Mantri Fasal Bima Yojana (PMFBY)

Question Number : 80 Question Id : 630680805131 Option Shuffling : Yes Is Question Mandatory : No Calculator : None Response Time : N.A Think Time : N.A Minimum Instruction Time : 0

Correct Marks : 1 Wrong Marks : 0.33

భారతదేశంలో 2014లో ఏ సంస్కరణ దేశంలోని అన్ని కుటుంబాలకు బ్యాంకింగ్ సేవలను అందించడం ద్వారా ఆర్థిక మేళవింపును ప్రోత్సహించడంపై దృష్టి సారించింది?

Options :

- ✘ వస్తు సేవల పన్ను (GST)
- ✔ ప్రధాన మంత్రి జన్ ధన్ యోజన (PMJDY)
- ✘ మేక్ ఇన్ ఇండియా కార్యక్రమం
- ✘ ప్రధాన మంత్రి ఫసల్ బీమా యోజన (PMFBY)

Question Number : 81 Question Id : 630680805132 Option Shuffling : Yes Is Question Mandatory : No Calculator : None Response Time : N.A Think Time : N.A Minimum Instruction Time : 0

Correct Marks : 1 Wrong Marks : 0.33

In which of the following years, the Andhra Pradesh Public Service Commission was established?

Options :

- ✘ 1969
- ✔ 1956
- ✘ 1966
- ✘ 1965

Question Number : 81 Question Id : 630680805132 Option Shuffling : Yes Is Question Mandatory : No Calculator : None Response Time : N.A Think Time : N.A Minimum Instruction Time : 0

Correct Marks : 1 Wrong Marks : 0.33

కింది ఏ సంవత్సరంలో, ఆంధ్రప్రదేశ్ పబ్లిక్ సర్వీస్ కమిషన్ స్థాపించబడింది?

Options :

- ✘ 1969
- ✔ 1956
- ✘ 1966
- ✘ 1965

Question Number : 82 Question Id : 630680805133 Option Shuffling : Yes Is Question Mandatory : No Calculator : None Response Time : N.A Think Time : N.A Minimum Instruction Time : 0

Correct Marks : 1 Wrong Marks : 0.33

The Andhra Pradesh government's policy to handle the issue of water scarcity for irrigation and agriculture by installing borewells for individual or collective farmers with 2.5 acres of land is known as?

Options :

- ✘ Jala Jyothi

2. ✖ Jala Jwala
3. ✔ Jala Kala
4. ✖ Jala Amruth

Question Number : 82 Question Id : 630680805133 Option Shuffling : Yes Is Question Mandatory : No Calculator : None Response Time : N.A Think Time : N.A Minimum Instruction Time : 0

Correct Marks : 1 Wrong Marks : 0.33

2.5 ఎకరాల భూమి ఉన్న వ్యక్తిగత లేదా సామూహిక రైతులకు బోర్ వెల్ లను ఏర్పాటు చేయడం ద్వారా నీటిపారుదల మరియు వ్యవసాయానికి నీటి కొరత సమస్యను పరిష్కరించే ఆంధ్రప్రదేశ్ ప్రభుత్వ విధానాన్ని ఏమంటారు?

Options :

1. ✖ జల జ్యోతి
2. ✖ జల జ్వాల
3. ✔ జల కల
4. ✖ జల అమృత్

Question Number : 83 Question Id : 630680805134 Option Shuffling : Yes Is Question Mandatory : No Calculator : None Response Time : N.A Think Time : N.A Minimum Instruction Time : 0

Correct Marks : 1 Wrong Marks : 0.33

Which program in Andhra Pradesh is a key promise among the 9 promises of the Navaratnalu designed for farmers welfare by providing financial assistance to farmers and making farming a remunerative profession.

Options :

1. ✔ YSR Rythu Bharosa scheme
2. ✖ NTR Housing Scheme
3. ✖ Amma Vodi
4. ✖ Dr. YSR Aarogyasri

Question Number : 83 Question Id : 630680805134 Option Shuffling : Yes Is Question Mandatory : No Calculator : None Response Time : N.A Think Time : N.A Minimum Instruction Time : 0

Correct Marks : 1 Wrong Marks : 0.33

ఆంధ్రప్రదేశ్ లోని రైతులకు ఆర్థిక సహాయం అందించడం మరియు వ్యవసాయాన్ని లాభదాయకమైన వృత్తిగా చేయడం ద్వారా రైతుల సంక్షేమం కోసం రూపొందించిన నవరత్నాల 9 హామీలలో కీలకమైన హామీ కార్యక్రమం ఏది?

Options :

1. ✔ వైఎస్ఆర్ రైతు భరోసా పథకం
2. ✖ ఎన్టీఆర్ గృహనిర్మాణ పథకం
3. ✖ అమ్మ ఒడి
4. ✖ డా. వైఎస్ఆర్ ఆరోగ్యశ్రీ

Question Number : 84 Question Id : 630680805135 Option Shuffling : Yes Is Question Mandatory : No Calculator : None Response Time : N.A Think Time : N.A Minimum Instruction Time : 0

Correct Marks : 1 Wrong Marks : 0.33

The " Jagananna Amma Vodi " scheme launched January 2020 in Andhra Pradesh is to encourage poor mothers to send their children to school and college by depositing / into the bank account of the student's mother or recognised guardian.

Options :

1. ✖ Rs 10000
2. ✖ Rs 25000
3. ✔ Rs 15000
4. ✖ Rs 5000

Question Number : 84 Question Id : 630680805135 Option Shuffling : Yes Is Question Mandatory : No Calculator : None Response Time : N.A Think Time : N.A Minimum Instruction Time : 0

Correct Marks : 1 Wrong Marks : 0.33

ఆంధ్రప్రదేశ్ లో జనవరి 2020న ప్రారంభించబడిన "జగనన్న అమ్మ ఒడి" పథకం పేద తల్లులు తమ పిల్లలను పాఠశాలకు మరియు కళాశాలకు పంపేలా ప్రోత్సహించడం కొరకు విద్యార్థి తల్లి లేదా గుర్తింపు పొందిన సంరక్షకుని బ్యాంక్ ఖాతాలో _____ లను జమ చేస్తుంది.

Options :

1. ✖ Rs 10000
2. ✖ Rs 25000
3. ✔ Rs 15000
4. ✖ Rs 5000

Question Number : 85 Question Id : 630680805136 Option Shuffling : Yes Is Question Mandatory : No Calculator : None Response Time : N.A Think Time : N.A Minimum Instruction Time : 0

Correct Marks : 1 Wrong Marks : 0.33

Choose the correct pair/s.

- I. "MeeSeva" in Telugu means – At your service.
- II. EDS Department under MeeSeva – Prints MeeSeva Certificate.
- III. EDUCATION Department under MeeSeva – Provides Migration Certificate (For Passed Candidates Only).

Options :

1. ✖ Only I

2. ✖ I & II
3. ✔ I, II & III
4. ✖ Only III

Question Number : 85 Question Id : 630680805136 Option Shuffling : Yes Is Question Mandatory : No Calculator : None Response Time : N.A Think Time : N.A Minimum Instruction Time : 0

Correct Marks : 1 Wrong Marks : 0.33

సరైన జత/లని ఎంచుకోండి.

- I. తెలుగులో "మీసేవ" అంటే - మీ సేవలో
- II. మీసేవ కింద EDS డిపార్ట్‌మెంట్ - మీసేవ సర్టిఫికేట్‌ను ముద్రిస్తుంది.
- III. మీసేవ కింద విద్యా విభాగం - మైగ్రేషన్ సర్టిఫికేట్ అందిస్తుంది (ఉత్తీర్ణులైన అభ్యర్థులకు మాత్రమే).

Options :

1. ✖ I మాత్రమే
2. ✖ I & II
3. ✔ I, II & III
4. ✖ III మాత్రమే

Question Number : 86 Question Id : 630680805137 Option Shuffling : Yes Is Question Mandatory : No Calculator : None Response Time : N.A Think Time : N.A Minimum Instruction Time : 0

Correct Marks : 1 Wrong Marks : 0.33

This question consist of two statements – Assertion (A) and Reason (R). Answer the question selecting the appropriate option given below:

Assertion(A): The Bharatiya Nyaya Sanhita is a crucial legal framework in India.

Reason(R): It defines crimes and prescribes punishments for offenses against the state, public, and individuals.

Options :

1. ✔ Both Assertion (A) and Reason (R) are the true and Reason (R) is a correct explanation of Assertion (A).
2. ✖ Both Assertion (A) and Reason (R) are the true but Reason (R) is not a correct explanation of Assertion (A).
3. ✖ Assertion (A) is true and Reason (R) is false.
4. ✖ Assertion (A) is false and Reason (R) is true.

Question Number : 86 Question Id : 630680805137 Option Shuffling : Yes Is Question Mandatory : No Calculator : None Response Time : N.A Think Time : N.A Minimum Instruction Time : 0

Correct Marks : 1 Wrong Marks : 0.33

ఈ ప్రశ్నలో, నిశ్చిత వాక్యం (A) మరియు కారణం (R) అనే రెండు ప్రకటనలు ఉంటాయి. దిగువ ఇవ్వబడిన సముచిత ఎంపికను ఎంచుకుని ప్రశ్నకు సమాధానం ఇవ్వండి:

నిశ్చిత వాక్యం (A): భారతీయ న్యాయ సంహిత అనేది భారతదేశంలో ఒక కీలకమైన చట్టపరమైన ఫ్రేమ్‌వర్క్ (పనిచేయుట).

కారణం(R): ఇది నేరాలను వివరిస్తుంది మరియు రాష్ట్రం, ప్రజలు మరియు వ్యక్తులపై జరిపిన నేరాలకు శిక్షలను నిర్దేశిస్తుంది.

Options :

1. ✔ నిశ్చిత వాక్యం (A) మరియు కారణం (R) రెండూ నిజం మరియు నిశ్చిత వాక్యం (A)కి కారణం (R) సరైన వివరణ.
2. ✖ నిశ్చిత వాక్యం (A) మరియు కారణం (R) రెండూ నిజమైనవే కానీ నిశ్చిత వాక్యం (A)కి కారణం (R) సరైన వివరణ కాదు.
3. ✖ నిశ్చిత వాక్యం (A) నిజం మరియు కారణం (R) తప్పు.
4. ✖ నిశ్చిత వాక్యం (A) తప్పు మరియు కారణం (R) నిజం.

Question Number : 87 Question Id : 630680805138 Option Shuffling : Yes Is Question Mandatory : No Calculator : None Response Time : N.A Think Time : N.A Minimum Instruction Time : 0

Correct Marks : 1 Wrong Marks : 0.33

How many days will it take for firms to receive pre-establishment and pre-operations approvals under Andhra Pradesh's single desk policy 2015-20?

Options :

1. ✖ 15
2. ✖ 07
3. ✖ 30
4. ✔ 21

Question Number : 87 Question Id : 630680805138 Option Shuffling : Yes Is Question Mandatory : No Calculator : None Response Time : N.A Think Time : N.A Minimum Instruction Time : 0

Correct Marks : 1 Wrong Marks : 0.33

ఆంధ్రప్రదేశ్ సింగిల్ డెస్క్ పాలసీ 2015-20 ప్రకారం సంస్థలకు ముందస్తు-స్థాపన మరియు ముందస్తు కార్యకలాపాల ఆమోదాలు పొందడానికి ఎన్ని రోజులు పడుతుంది?

Options :

1. ✖ 15
2. ✖ 07
3. ✖ 30
4. ✔ 21

Question Number : 88 Question Id : 630680805139 Option Shuffling : Yes Is Question Mandatory : No Calculator : None Response Time : N.A Think Time : N.A Minimum Instruction Time : 0

Correct Marks : 1 Wrong Marks : 0.33

When was the 'BhuSeva' launched as pilot programme by the Hon'ble Chief Minister, Govt. of Andhra Pradesh?

Options :

1. ✖ 11th April, 2017
2. ✔ 11th April, 2018
3. ✖ 11th April, 2019
4. ✖ 11th April, 2020

Question Number : 88 Question Id : 630680805139 Option Shuffling : Yes Is Question Mandatory : No Calculator : None Response Time : N.A Think Time : N.A Minimum Instruction Time : 0

Correct Marks : 1 Wrong Marks : 0.33

ప్రభుత్వం ద్వారా 'భూసేవ' అను పైలట్ కార్యక్రమమును ఆంధ్ర ప్రదేశ్ గౌరవనీయులైన ముఖ్యమంత్రి ఎప్పుడు ప్రారంభించారు?

Options :

1. ✖ 11 ఏప్రిల్, 2017
2. ✔ 11 ఏప్రిల్, 2018
3. ✖ 11 ఏప్రిల్, 2019
4. ✖ 11 ఏప్రిల్, 2020

Question Number : 89 Question Id : 630680805140 Option Shuffling : Yes Is Question Mandatory : No Calculator : None Response Time : N.A Think Time : N.A Minimum Instruction Time : 0

Correct Marks : 1 Wrong Marks : 0.33

The National Informatics Center - Andhra Pradesh State Center (NIC - APSC) offers MEDHAS as an all-inclusive solution for which of the following universities?

Options :

1. ✖ Andhra University
2. ✖ Dravida University
3. ✔ Dr.NTR University of Health Sciences
4. ✖ Yogi Vemana University

Question Number : 89 Question Id : 630680805140 Option Shuffling : Yes Is Question Mandatory : No Calculator : None Response Time : N.A Think Time : N.A Minimum Instruction Time : 0

Correct Marks : 1 Wrong Marks : 0.33

నేషనల్ ఇన్ఫర్మేటిక్స్ సెంటర్ - ఆంధ్ర ప్రదేశ్ స్టేట్ సెంటర్ (NIC - APSC) కింది ఏ విశ్వవిద్యాలయాలకు MEDHASని పరిష్కారంగా అందిస్తోంది?

Options :

1. ✖ ఆంధ్రా యూనివర్సిటీ
2. ✖ ద్రవిడ విశ్వవిద్యాలయం
3. ✔ డా.ఎన్టీఆర్ యూనివర్సిటీ ఆఫ్ హెల్త్ సైన్సెస్
4. ✖ యోగి వేమన విశ్వవిద్యాలయం

Question Number : 90 Question Id : 630680805141 Option Shuffling : Yes Is Question Mandatory : No Calculator : None Response Time : N.A Think Time : N.A Minimum Instruction Time : 0

Correct Marks : 1 Wrong Marks : 0.33

The Polavaram Dam project is spanned over which river of Andhra Pradesh?

Options :

1. ✖ Pennar
2. ✖ Tungabhadra
3. ✖ Krishna
4. ✔ Godavari

Question Number : 90 Question Id : 630680805141 Option Shuffling : Yes Is Question Mandatory : No Calculator : None Response Time : N.A Think Time : N.A Minimum Instruction Time : 0

Correct Marks : 1 Wrong Marks : 0.33

పోలవరం అనకట్ట ప్రాజెక్టు ఆంధ్రప్రదేశ్ లోని ఏ నదిపై కలదు?

Options :

1. ✖ పెన్నా
2. ✖ తుంగభద్ర
3. ✖ కృష్ణ
4. ✔ గోదావరి

Question Number : 91 Question Id : 630680805142 Option Shuffling : Yes Is Question Mandatory : No Calculator : None Response Time : N.A Think Time : N.A Minimum Instruction Time : 0

Correct Marks : 1 Wrong Marks : 0.33

As per the Andhra Pradesh Reorganisation Act, 2014 the common Governor of Andhra Pradesh and Telangana shall be assisted by how many advisors to be appointed by the Central Government in the initial phase?

Options :

1. ✔ Two
2. ✖ Three
3. ✖ Five
4. ✖ Four

Question Number : 91 Question Id : 630680805142 Option Shuffling : Yes Is Question Mandatory : No Calculator : None Response Time : N.A Think Time : N.A Minimum Instruction Time : 0

Correct Marks : 1 Wrong Marks : 0.33

ఆంధ్రప్రదేశ్ పునర్యవస్థీకరణ చట్టం, 2014 ప్రకారం ఆంధ్రప్రదేశ్ మరియు తెలంగాణ ఉమ్మడి గవర్నర్ కు ప్రారంభ దశలో కేంద్ర ప్రభుత్వం ఎంత మంది సలహాదారులను నియమించాలి?

Options :

1. ✓ ఇద్దరు
2. ✘ ముగ్గురు
3. ✘ ఐదు
4. ✘ నాలుగు

Question Number : 92 Question Id : 630680805143 Option Shuffling : Yes Is Question Mandatory : No Calculator : None Response Time : N.A Think Time : N.A Minimum Instruction Time : 0

Correct Marks : 1 Wrong Marks : 0.33

When was The Andhra Pradesh government had started the Clean Andhra Pradesh (CLAP)-Jagananna Swachha Sankalpam programme to clean up rural areas?

Options :

1. ✘ October 2, 2020
2. ✓ October 2, 2021
3. ✘ October 2, 2022
4. ✘ October 2, 2023

Question Number : 92 Question Id : 630680805143 Option Shuffling : Yes Is Question Mandatory : No Calculator : None Response Time : N.A Think Time : N.A Minimum Instruction Time : 0

Correct Marks : 1 Wrong Marks : 0.33

గ్రామీణ ప్రాంతాలను శుభ్రం చేసేందుకు ఆంధ్రప్రదేశ్ ప్రభుత్వం స్వచ్ఛ ఆంధ్రప్రదేశ్ (CLAP)-జగనన్న స్వచ్ఛ సంకల్పం కార్యక్రమాన్ని ఎప్పుడు ప్రారంభించింది?

Options :

1. ✘ అక్టోబర్ 2, 2020
2. ✓ అక్టోబర్ 2, 2021
3. ✘ అక్టోబర్ 2, 2022
4. ✘ అక్టోబర్ 2, 2023

Question Number : 93 Question Id : 630680805144 Option Shuffling : Yes Is Question Mandatory : No Calculator : None Response Time : N.A Think Time : N.A Minimum Instruction Time : 0

Correct Marks : 1 Wrong Marks : 0.33

This question consist of two statements – Assertion (A) and Reason (R). Answer the question selecting the appropriate option given below:

Assertion (A): State Government of Andhra Pradesh have decided to issue the Right of Children to Free and Compulsory Education Rules in 2010.

Reason (R): These above rules were issued under the provisions of the Right of Children to Free and Compulsory Education Act, 2009 of the Parliament of India.

Options :

1. ✓ Both Assertion (A) and Reason (R) are the true and Reason (R) is a correct explanation of Assertion (A).
2. ✘ Both Assertion (A) and Reason (R) are the true but Reason (R) is not a correct explanation of Assertion (A).
3. ✘ Assertion (A) is true and Reason (R) is false.
4. ✘ Assertion (A) is false and Reason (R) is true.

Question Number : 93 Question Id : 630680805144 Option Shuffling : Yes Is Question Mandatory : No Calculator : None Response Time : N.A Think Time : N.A Minimum Instruction Time : 0

Correct Marks : 1 Wrong Marks : 0.33

ఈ ప్రశ్నలో, నిశ్చిత వాక్యం (A) మరియు కారణం (R) అనే రెండు ప్రకటనలు ఉంటాయి. దిగువ ఇవ్వబడిన సముచిత ఎంపికను ఎంచుకుని ప్రశ్నకు సమాధానం ఇవ్వండి:

నిశ్చిత వాక్యం(A): ఆంధ్రప్రదేశ్ రాష్ట్ర ప్రభుత్వం 2010లో పిల్లల ఉచిత మరియు నిర్బంధ విద్యా హక్కు నిబంధనలను జారీ చేయాలని నిర్ణయించింది. కారణం (R): ఈ పైన పేర్కొన్న నియమాలు భారత పార్లమెంట్ యొక్క ఉచిత మరియు నిర్బంధ విద్యా హక్కు చట్టం, 2009లోని నిబంధనల ప్రకారం జారీ చేయబడ్డాయి.

Options :

1. ✓ నిశ్చిత వాక్యం (A) మరియు కారణం (R) రెండూ నిజమైనవి మరియు కారణం (R) అనేది నిశ్చిత వాక్యం (A)కి సరైన వివరణ.
2. ✘ నిశ్చిత వాక్యం (A) మరియు కారణం (R) రెండూ నిజమైనవే కానీ కారణం (R) అనేది నిశ్చిత వాక్యం (A)కి సరైన వివరణ కాదు.
3. ✘ నిశ్చిత వాక్యం(A) అనేది నిజం మరియు కారణం (R) అనేది తప్పు.
4. ✘ నిశ్చిత వాక్యం(A) అనేది తప్పు మరియు కారణం (R) అనేది నిజం.

Question Number : 94 Question Id : 630680805145 Option Shuffling : Yes Is Question Mandatory : No Calculator : None Response Time : N.A Think Time : N.A Minimum Instruction Time : 0

Correct Marks : 1 Wrong Marks : 0.33

This question consist of two statements – Assertion (A) and Reason (R). Answer the question selecting the appropriate option given below:

Assertion (A): By the end of November, 2021 garbage collection directly from rural households of Andhra Pradesh was at 22 per cent but by the end of January, 2022 it had reached 61.50 per cent.

Reason (R): The Clean Andhra Pradesh (CLAP)-Jagananna Swachha Sankalpam programme to clean up rural areas was launched in October, 2020.

Options :

1. ✘ Both Assertion (A) and Reason (R) are the true and Reason (R) is a correct explanation of Assertion (A).

2. ✖ Both Assertion (A) and Reason (R) are the true but Reason (R) is not a correct explanation of Assertion (A).
3. ✔ Assertion (A) is true and Reason (R) is false.
4. ✖ Assertion (A) is false and Reason (R) is true.

Question Number : 94 Question Id : 630680805145 Option Shuffling : Yes Is Question Mandatory : No Calculator : None Response Time : N.A Think Time : N.A Minimum Instruction Time : 0

Correct Marks : 1 Wrong Marks : 0.33

ఈ ప్రశ్నలో, నిశ్చిత వాక్యం (A) మరియు కారణం (R) అనే రెండు ప్రకటనలు ఉంటాయి. దిగువ ఇవ్వబడిన సముచిత ఎంపికను ఎంచుకుని ప్రశ్నకు సమాధానం ఇవ్వండి:

నిశ్చిత వాక్యం(A): నవంబర్, 2021 చివరి నాటికి ఆంధ్రప్రదేశ్ లోని గ్రామీణ కుటుంబాల నుండి నేరుగా చెత్త సేకరణ 22 శాతం ఉంది, అయితే 2022 జనవరి చివరి నాటికి అది 61.50 శాతానికి చేరుకుంది.

కారణం (R): పరిశుభ్ర ఆంధ్రప్రదేశ్ (CLAP)-గ్రామీణ ప్రాంతాలను శుభ్రం చేయడానికి జగన్ నన్ను స్వచ్ఛ సంకల్పం కార్యక్రమం అక్టోబర్, 2020లో ప్రారంభించబడింది.

Options :

1. ✖ నిశ్చిత వాక్యం (A) మరియు కారణం (R) రెండూ నిజమైనవి మరియు కారణం (R) అనేది నిశ్చిత వాక్యం (A)కి సరైన వివరణ.
2. ✖ నిశ్చిత వాక్యం (A) మరియు కారణం (R) రెండూ నిజమైనవే కానీ కారణం (R) అనేది నిశ్చిత వాక్యం (A)కి సరైన వివరణ కాదు.
3. ✔ నిశ్చిత వాక్యం(A) అనేది నిజం మరియు కారణం (R) అనేది తప్పు.
4. ✖ నిశ్చిత వాక్యం(A) అనేది తప్పు మరియు కారణం (R) అనేది నిజం.

Question Number : 95 Question Id : 630680805146 Option Shuffling : Yes Is Question Mandatory : No Calculator : None Response Time : N.A Think Time : N.A Minimum Instruction Time : 0

Correct Marks : 1 Wrong Marks : 0.33

Which one of the following statement/s is/are correct?

- I. The YSR Jagananna Badugu Vikasam scheme of Andhra Pradesh Government was launched to encourage OBCs in the state.
- II. This scheme was launched on 26 October 2022.

Options :

1. ✔ Neither I nor II
2. ✖ Both I & II
3. ✖ Only II
4. ✖ Only I

Question Number : 95 Question Id : 630680805146 Option Shuffling : Yes Is Question Mandatory : No Calculator : None Response Time : N.A Think Time : N.A Minimum Instruction Time : 0

Correct Marks : 1 Wrong Marks : 0.33

కింది ప్రకటన/లలో ఏది/వి సరైనది/వి?

- I. రాష్ట్రంలో ఓబీసీలను ప్రోత్సహించేందుకు ఆంధ్రప్రదేశ్ ప్రభుత్వం వైఎస్ఆర్ జగన్ నన్ను బడుగు వికాస పథకాన్ని ప్రారంభించింది.
- II. ఈ పథకం 26 అక్టోబర్ 2022న ప్రారంభించబడింది.

Options :

1. ✔ I కానీ లేదా II కానీ ఏదీ కాదు
2. ✖ I & II రెండూ
3. ✖ II మాత్రమే
4. ✖ I మాత్రమే

Question Number : 96 Question Id : 630680805147 Option Shuffling : Yes Is Question Mandatory : No Calculator : None Response Time : N.A Think Time : N.A Minimum Instruction Time : 0

Correct Marks : 1 Wrong Marks : 0.33

Which of the following is the largest Solar Park of India as on 2023?

Options :

1. ✖ Pavagada Solar Park
2. ✔ Bhadla Solar Park
3. ✖ Ananthapuram Ultra Mega Solar Park
4. ✖ Kurmool Ultra Mega Solar Park

Question Number : 96 Question Id : 630680805147 Option Shuffling : Yes Is Question Mandatory : No Calculator : None Response Time : N.A Think Time : N.A Minimum Instruction Time : 0

Correct Marks : 1 Wrong Marks : 0.33

కింది వాటిలో 2023 నాటికి భారతదేశంలో అతిపెద్ద సోలార్ పార్క్ ఏది?

Options :

1. ✖ పావగడ సోలార్ పార్క్
2. ✔ భద్రా సోలార్ పార్క్
3. ✖ అనంతపురం అల్ట్రా మెగా సోలార్ పార్క్
4. ✖ కర్నూలు అల్ట్రా మెగా సోలార్ పార్క్

Question Number : 97 Question Id : 630680805148 Option Shuffling : Yes Is Question Mandatory : No Calculator : None Response Time : N.A Think Time : N.A Minimum Instruction Time : 0

Correct Marks : 1 Wrong Marks : 0.33

As per Central Organization for Railway Electrification, India, till 1 March 2024, how much of total broad-gauge railway network has electrified?

Options :

1. ✓ 94%
2. ✘ 75%
3. ✘ 65%
4. ✘ 84%

Question Number : 97 Question Id : 630680805148 Option Shuffling : Yes Is Question Mandatory : No Calculator : None Response Time : N.A Think Time : N.A Minimum Instruction Time : 0

Correct Marks : 1 Wrong Marks : 0.33

సెంట్రల్ ఆర్గనైజేషన్ ఫర్ రైల్వే ఎలక్ట్రిఫికేషన్, ఇండియా ప్రకారం, మార్చి 1, 2024 వరకు, మొత్తం బ్రాడ్-గేజ్ రైల్వే నెట్వర్క్ ఎంత విద్యుదీకరించబడింది?

Options :

1. ✓ 94%
2. ✘ 75%
3. ✘ 65%
4. ✘ 84%

Question Number : 98 Question Id : 630680805151 Option Shuffling : Yes Is Question Mandatory : No Calculator : None Response Time : N.A Think Time : N.A Minimum Instruction Time : 0

Correct Marks : 1 Wrong Marks : 0.33

From which of the following countries, the Ambassador of India to that country has requested the export of railway wagons from India in 2021?

Options :

1. ✘ UAE
2. ✓ Brazil
3. ✘ Sri Lanka
4. ✘ Colombia

Question Number : 98 Question Id : 630680805151 Option Shuffling : Yes Is Question Mandatory : No Calculator : None Response Time : N.A Think Time : N.A Minimum Instruction Time : 0

Correct Marks : 1 Wrong Marks : 0.33

కింది వాటిలో, 2021లో భారత రాయబారిని భారతదేశం నుండి రైల్వే వ్యాగన్లను ఎగుమతి చేయాలని అభ్యర్థించిన దేశం ఏది?

Options :

1. ✘ యూఏఈ
2. ✓ బ్రెజిల్
3. ✘ శ్రీ లంక
4. ✘ కొలంబియా

Question Number : 99 Question Id : 630680805152 Option Shuffling : Yes Is Question Mandatory : No Calculator : None Response Time : N.A Think Time : N.A Minimum Instruction Time : 0

Correct Marks : 1 Wrong Marks : 0.33

Which one of the following cities is not included in the list of mission cities from state of Rajasthan under AMRUT till March, 2024?

Options :

1. ✘ Jaipur
2. ✘ Alwar
3. ✘ Tonk
4. ✓ Dausa

Question Number : 99 Question Id : 630680805152 Option Shuffling : Yes Is Question Mandatory : No Calculator : None Response Time : N.A Think Time : N.A Minimum Instruction Time : 0

Correct Marks : 1 Wrong Marks : 0.33

మార్చి, 2024 వరకు అమృత్ (AMRUT) జాబితాలో రాజస్థాన్ రాష్ట్రం నుండి మిషన్ నగరాల జాబితాలో కింది నగరాల్లో ఏది చేర్చబడలేదు?

Options :

1. ✘ జైపూర్
2. ✘ అల్వార్
3. ✘ టోంక్
4. ✓ దౌసా

Question Number : 100 Question Id : 630680805153 Option Shuffling : Yes Is Question Mandatory : No Calculator : None Response Time : N.A Think Time : N.A Minimum Instruction Time : 0

Correct Marks : 1 Wrong Marks : 0.33

The government of India set up the Central Pollution Control Board (CPCB) in _____

Options :

1. ✘ 1970
2. ✓ 1974
3. ✘ 1980
4. ✘ 1984

Question Number : 100 Question Id : 630680805153 Option Shuffling : Yes Is Question Mandatory : No Calculator : None Response Time : N.A Think Time : N.A Minimum Instruction Time : 0

Correct Marks : 1 Wrong Marks : 0.33

భారత ప్రభుత్వం కేంద్ర కాలుష్య నియంత్రణ బోర్డు (CPCB)ని _____లో ఏర్పాటు చేసింది

Options :

1. ✖ 1970
2. ✔ 1974
3. ✖ 1980
4. ✖ 1984

Question Number : 101 Question Id : 630680805154 Option Shuffling : Yes Is Question Mandatory : No Calculator : None Response Time : N.A Think Time : N.A Minimum Instruction Time : 0

Correct Marks : 1 Wrong Marks : 0.33

In this question, a statement is given followed by two conclusions. Choose the correct response from the given four options:

Statement:

In India Thermal power plants emit large quantities of carbon dioxide which is a green house gas.

Conclusion:

- i) They can lead to the climate change.
- ii) Wind power generation can be a good and safe alternate for this.

Options :

1. ✖ Only conclusion (i) is correct.
2. ✖ Only conclusion (ii) is correct.
3. ✔ Both conclusion (i) and (ii) are correct.
4. ✖ None of the conclusions are correct.

Question Number : 101 Question Id : 630680805154 Option Shuffling : Yes Is Question Mandatory : No Calculator : None Response Time : N.A Think Time : N.A Minimum Instruction Time : 0

Correct Marks : 1 Wrong Marks : 0.33

ఈ ప్రశ్నలో, ఒక ప్రకటన దాని తర్వాత రెండు తీర్మానాలు ఇవ్వబడ్డాయి. ఇవ్వబడిన నాలుగు ఎంపికల నుండి సరైన ప్రతిస్పందనను ఎంచుకోండి:

ప్రకటన:

భారతదేశంలో ధర్మల్ పవర్ ప్లాంట్లు పెద్ద మొత్తంలో గ్రీన్ హౌస్ వాయువు అయిన కార్బన్ డయాక్సైడ్ను విడుదల చేస్తాయి.

తీర్మానం:

- i). అవి వాతావరణ మార్పులకు దారితీయవచ్చు.
- ii). పవన విద్యుత్ ఉత్పత్తి దీనికి మంచి మరియు సురక్షితమైన ప్రత్యామ్నాయం.

Options :

1. ✖ తీర్మానం (i) మాత్రమే సరైనది.
2. ✖ తీర్మానం (ii) మాత్రమే సరైనది.
3. ✔ తీర్మానాలు (i) మరియు (ii) రెండూ సరైనవి.
4. ✖ తీర్మానాలు ఏవి సరైనవి కావు.

Question Number : 102 Question Id : 630680805155 Option Shuffling : Yes Is Question Mandatory : No Calculator : None Response Time : N.A Think Time : N.A Minimum Instruction Time : 0

Correct Marks : 1 Wrong Marks : 0.33

In this question, a statement is given followed by two conclusions. Choose the correct response from the given four options:

Statement:

The Insolvency and Bankruptcy Code, 2015 was introduced in Lok Sabha in December 2015.

Conclusion:

- i) The Government decided to replace the existing insolvency laws with new stringent laws which would take care of the existing defaulters in a time bound manner.
- ii) This code seeks to address the issues faced currently in the context of insolvency and winding up.

Options :

1. ✖ Only conclusion (i) is correct.
2. ✖ Only conclusion (ii) is correct.
3. ✖ Both conclusion (i) and (ii) are correct.
4. ✔ None of the conclusions are correct.

Question Number : 102 Question Id : 630680805155 Option Shuffling : Yes Is Question Mandatory : No Calculator : None Response Time : N.A Think Time : N.A Minimum Instruction Time : 0

Correct Marks : 1 Wrong Marks : 0.33

ఈ ప్రశ్నలో, ఒక ప్రకటన దాని తర్వాత రెండు తీర్మానాలు ఇవ్వబడ్డాయి. ఇవ్వబడిన నాలుగు ఎంపికల నుండి సరైన ప్రతిస్పందనను ఎంచుకోండి:

ప్రకటన:

దివాలా మరియు దివాలా నియమావళి, 2015 అనోది డిసెంబర్ 2015 లో లోక్ సభలో ప్రవేశ పెట్టబడింది.

తీర్మానం:

- i). ప్రస్తుతం ఉన్న దివాలా చట్టాల స్థానంలో కొత్త కఠినమైన చట్టాలను తీసుకురావాలని ప్రభుత్వం నిర్ణయించింది, ఇది ప్రస్తుత ఎగవేతదారులను కాపరిమితిలో చూసుకుంటుంది.
- ii). ఈ నియమావళి ప్రస్తుతం దివాలా మరియు మూసివేత సందర్భంలో ఎదుర్కొంటున్న సమస్యలను పరిష్కరించడానికి ప్రయత్నిస్తుంది.

Options :

1. ✖ తీర్మానం (i) మాత్రమే సరైనది.
2. ✖ తీర్మానం (ii) మాత్రమే సరైనది.
3. ✖ తీర్మానాలు (i) మరియు (ii) రెండూ సరైనవి.

4. ✓ తీర్మానాలు ఏవి సరైనవి కావు.

Question Number : 103 Question Id : 630680805156 Option Shuffling : Yes Is Question Mandatory : No Calculator : None Response Time : N.A Think Time : N.A Minimum Instruction Time : 0

Correct Marks : 1 Wrong Marks : 0.33

Which was the primary sector contributing maximum to India's GDP at the time of Independence?

Options :

- ✘ Manufacturing
- ✓ Agriculture
- ✘ Services
- ✘ Mining

Question Number : 103 Question Id : 630680805156 Option Shuffling : Yes Is Question Mandatory : No Calculator : None Response Time : N.A Think Time : N.A Minimum Instruction Time : 0

Correct Marks : 1 Wrong Marks : 0.33

స్వాతంత్ర్యం వచ్చినప్పుడు భారతదేశ GDPకి గరిష్టంగా సహకరించిన ప్రాథమిక రంగం ఏది?

Options :

- ✘ తయారీ
- ✓ వ్యవసాయం
- ✘ సేవలు
- ✘ గనుల తవ్వకం

Question Number : 104 Question Id : 630680805157 Option Shuffling : Yes Is Question Mandatory : No Calculator : None Response Time : N.A Think Time : N.A Minimum Instruction Time : 0

Correct Marks : 1 Wrong Marks : 0.33

Which of the following statements best describes the significance of The Industrial Policy Resolution, 1948 (IPR, 1948)?

Options :

- ✘ The IPR, 1948, established a framework for the complete nationalization of key industries in India.
- ✘ The IPR, 1948, marked the beginning of economic liberalization in India, promoting free-market principles.
- ✓ The IPR, 1948, outlined the roles of both the public and private sectors in India's economy, defining their respective spheres.
- ✘ The IPR, 1948, advocated for the exclusive dominance of private enterprises in all sectors of the Indian economy.

Question Number : 104 Question Id : 630680805157 Option Shuffling : Yes Is Question Mandatory : No Calculator : None Response Time : N.A Think Time : N.A Minimum Instruction Time : 0

Correct Marks : 1 Wrong Marks : 0.33

కింది వాటిలో పారిశ్రామిక విధాన తీర్మానం 1948 (ఇండస్ట్రియల్ పాలసీ రెసోల్యూషన్- IPR, 1948) యొక్క ప్రాముఖ్యతను ఉత్తమంగా వివరించు ప్రకటన ఏది?

Options :

- ✘ IPR, 1948, భారతదేశంలోని కీలక పరిశ్రమల పూర్తి జాతీయీకరణ కోసం ఒక ఫ్రేమ్వర్క్(పనిచేత్రం)ను ఏర్పాటు చేసింది.
- ✘ IPR, 1948, స్వేచ్ఛా-మార్కెట్ సూత్రాలను ప్రోత్సహిస్తూ భారతదేశంలో ఆర్థిక సరళీకరణకు నాంది పలికింది.
- ✓ IPR, 1948, సంబంధిత రంగాలను నిర్వచిస్తూ భారతదేశ ఆర్థిక వ్యవస్థలోని ప్రభుత్వ మరియు ప్రైవేట్ రంగాల పాత్రలను వివరించింది.
- ✘ IPR, 1948, భారత ఆర్థిక వ్యవస్థలోని అన్ని రంగాలలో ప్రైవేట్ సంస్థల ప్రత్యేక ఆధిపత్యం గురించి సూచించింది.

Question Number : 105 Question Id : 630680805158 Option Shuffling : Yes Is Question Mandatory : No Calculator : None Response Time : N.A Think Time : N.A Minimum Instruction Time : 0

Correct Marks : 1 Wrong Marks : 0.33

In which year the first industrial or economic Policy of the independent India was declared?

Options :

- ✘ 1954
- ✘ 1956
- ✓ 1948
- ✘ 1965

Question Number : 105 Question Id : 630680805158 Option Shuffling : Yes Is Question Mandatory : No Calculator : None Response Time : N.A Think Time : N.A Minimum Instruction Time : 0

Correct Marks : 1 Wrong Marks : 0.33

స్వతంత్ర భారతదేశంలో మొదటి పారిశ్రామిక లేదా ఆర్థిక విధానాన్ని ఏ సంవత్సరంలో ప్రకటించారు?

Options :

- ✘ 1954
- ✘ 1956
- ✓ 1948
- ✘ 1965

Question Number : 106 Question Id : 630680805159 Option Shuffling : Yes Is Question Mandatory : No Calculator : None Response Time : N.A Think Time : N.A Minimum Instruction Time : 0

Correct Marks : 1 Wrong Marks : 0.33

In which year the Fourth Five Year Plan was finally launched in India?

Options :

1. ✖ 1965
2. ✖ 1966
3. ✔ 1969
4. ✖ 1973

Question Number : 106 Question Id : 630680805159 Option Shuffling : Yes Is Question Mandatory : No Calculator : None Response Time : N.A Think Time : N.A Minimum Instruction Time : 0

Correct Marks : 1 Wrong Marks : 0.33

భారతదేశంలో నాల్గవ పంచవర్ష ప్రణాళిక అంతిమంగా ఏ సంవత్సరంలో ప్రారంభించబడింది?

Options :

1. ✖ 1965
2. ✖ 1966
3. ✔ 1969
4. ✖ 1973

Question Number : 107 Question Id : 630680805161 Option Shuffling : Yes Is Question Mandatory : No Calculator : None Response Time : N.A Think Time : N.A Minimum Instruction Time : 0

Correct Marks : 1 Wrong Marks : 0.33

How much the Industry sector contributed in GDP of India during 1950-51.

Options :

1. ✔ 13%
2. ✖ 59%
3. ✖ 28%
4. ✖ 40%

Question Number : 107 Question Id : 630680805161 Option Shuffling : Yes Is Question Mandatory : No Calculator : None Response Time : N.A Think Time : N.A Minimum Instruction Time : 0

Correct Marks : 1 Wrong Marks : 0.33

1950-51 మధ్య కాలంలో భారతదేశ GDPలో పరిశ్రమల రంగం ఎంత సహకారాన్ని అందించింది.

Options :

1. ✔ 13%
2. ✖ 59%
3. ✖ 28%
4. ✖ 40%

Question Number : 108 Question Id : 630680805162 Option Shuffling : Yes Is Question Mandatory : No Calculator : None Response Time : N.A Think Time : N.A Minimum Instruction Time : 0

Correct Marks : 1 Wrong Marks : 0.33

Arrange the below events in a Chronological Order regarding the Green Revolution in India.

- I. The first green revolution period ended.
- II. Intensive Agriculture District Programme (IADP) in 114 selected districts.
- III. M S Swaminathan Research Foundation (MSSRF) established.

Options :

1. ✖ I, II, III
2. ✔ II, I, III
3. ✖ III, I, II
4. ✖ II, III, I

Question Number : 108 Question Id : 630680805162 Option Shuffling : Yes Is Question Mandatory : No Calculator : None Response Time : N.A Think Time : N.A Minimum Instruction Time : 0

Correct Marks : 1 Wrong Marks : 0.33

భారతదేశంలో హరిత విప్లవానికి సంబంధించి క్రింది సంఘటనలను కాలక్రమానుసారంగా అమర్చండి.

- I. మొదటి హరిత విప్లవ కాలం ముగిసింది.
- II. ఇంటెన్సివ్ అగ్రికల్చర్ డిస్ట్రిక్ట్ ప్రోగ్రామ్ (IADP) 114 జిల్లాల్లో ఎంపిక చేయబడింది.
- III. ఎం ఎస్ స్వామినాథన్ రీసెర్చ్ ఫౌండేషన్ (MSSRF) స్థాపించబడింది.

Options :

1. ✖ I, II, III
2. ✔ II, I, III
3. ✖ III, I, II
4. ✖ II, III, I

Question Number : 109 Question Id : 630680805163 Option Shuffling : Yes Is Question Mandatory : No Calculator : None Response Time : N.A Think Time : N.A Minimum Instruction Time : 0

Correct Marks : 1 Wrong Marks : 0.33

Which of the following institution implements the monetary policy in India?

Options :

1. ✖ Bank of Baroda

2. ✘ ICICI Bank
3. ✘ Canara Bank
4. ✔ RBI

Question Number : 109 Question Id : 630680805163 Option Shuffling : Yes Is Question Mandatory : No Calculator : None Response Time : N.A Think Time : N.A Minimum Instruction Time : 0

Correct Marks : 1 Wrong Marks : 0.33

కింది వాటిలో ఏ సంస్థ భారతదేశంలో ద్రవ్య విధానాన్ని అమలు చేస్తుంది?

Options :

1. ✘ బ్యాంక్ ఆఫ్ బరోడా
2. ✘ ICICI బ్యాంక్
3. ✘ కానరా బ్యాంక్
4. ✔ RBI

Question Number : 110 Question Id : 630680805164 Option Shuffling : Yes Is Question Mandatory : No Calculator : None Response Time : N.A Think Time : N.A Minimum Instruction Time : 0

Correct Marks : 1 Wrong Marks : 0.33

Union Budget 2023-24 was presented by whom in the parliament?

Options :

1. ✔ Nirmala Sitharaman
2. ✘ Raj Nath Singh
3. ✘ Amit shah
4. ✘ Jai Shankar

Question Number : 110 Question Id : 630680805164 Option Shuffling : Yes Is Question Mandatory : No Calculator : None Response Time : N.A Think Time : N.A Minimum Instruction Time : 0

Correct Marks : 1 Wrong Marks : 0.33

2023-24 కేంద్ర బడ్జెట్‌ను పార్లమెంటులో ఎవరు సమర్పించారు?

Options :

1. ✔ నిర్మలా సీతారామన్
2. ✘ రాజ్ నాథ్ సింగ్
3. ✘ అమిత్ షా
4. ✘ జయ శంకర్

Question Number : 111 Question Id : 630680805165 Option Shuffling : Yes Is Question Mandatory : No Calculator : None Response Time : N.A Think Time : N.A Minimum Instruction Time : 0

Correct Marks : 1 Wrong Marks : 0.33

The Revenue deficit is calculated by subtracting the total _____ from the Revenue expenditure.

Options :

1. ✘ Borrowings and other liabilities
2. ✘ Non-debt Receipts
3. ✘ Capital Receipts
4. ✔ Revenue receipts

Question Number : 111 Question Id : 630680805165 Option Shuffling : Yes Is Question Mandatory : No Calculator : None Response Time : N.A Think Time : N.A Minimum Instruction Time : 0

Correct Marks : 1 Wrong Marks : 0.33

రెవెన్యూ లోటు అనేది రెవెన్యూ వ్యయం నుండి _____ మొత్తం తీసివేయడం ద్వారా లెక్కించబడుతుంది.

Options :

1. ✘ రుణాలు మరియు ఇతర బాధ్యతలు
2. ✘ రుణేతర వసూళ్లు
3. ✘ మూలధన వసూళ్లు
4. ✔ రెవెన్యూ వసూళ్లు

Question Number : 112 Question Id : 630680805166 Option Shuffling : Yes Is Question Mandatory : No Calculator : None Response Time : N.A Think Time : N.A Minimum Instruction Time : 0

Correct Marks : 1 Wrong Marks : 0.33

In this question, a statement is given followed by two conclusions. Choose the correct response from the given four options:

Statement:

Marginal propensity to consume (MPC): it is the change in consumption per unit change in income.

Conclusion:

i) In that sense, it is also known as Marginal propensity to save.

ii) it is the consumption per unit of income.

Options :

1. ✘ Only conclusion (i) is correct.
2. ✘ Only conclusion (ii) is correct.
3. ✘ Both conclusion (i) and (ii) are correct.
4. ✔ None of the conclusions are correct.

Question Number : 112 Question Id : 630680805166 Option Shuffling : Yes Is Question Mandatory : No Calculator : None Response Time : N.A Think Time : N.A Minimum Instruction Time : 0

Correct Marks : 1 Wrong Marks : 0.33

ఈ ప్రశ్నలో, ఒక ప్రకటన దాని తర్వాత రెండు తీర్మానాలు ఇవ్వబడ్డాయి. ఇవ్వబడిన నాలుగు ఎంపికల నుండి సరైన ప్రతిస్పందనను ఎంచుకోండి: ప్రకటన:

వినియోగానికి ఉపాంత ప్రవృత్తి (MPC): ఇది ఆదాయంలో యూనిట్ మార్పుకు వినియోగంలో మార్పు.

తీర్మానం:

i). ఆ కోణంలో, పొదుపు చేయడానికి ఉపాంత ప్రవృత్తి అని కూడా అంటారు.

ii). ఇది యూనిట్ ఆదాయంకు వినియోగం.

Options :

1. ✖ తీర్మానం (i) మాత్రమే సరైనది.
2. ✖ తీర్మానం (ii) మాత్రమే సరైనది.
3. ✖ తీర్మానాలు (i) మరియు (ii) రెండూ సరైనవి.
4. ✔ తీర్మానాలు ఏవి సరైనవి కావు.

Question Number : 113 Question Id : 630680805167 Option Shuffling : Yes Is Question Mandatory : No Calculator : None Response Time : N.A Think Time : N.A Minimum Instruction Time : 0

Correct Marks : 1 Wrong Marks : 0.33

As on March 2022, for registration as a Non-banking financial company –Micro Finance Institution (NBFC-MFI), the minimum net owned fund required is

Options :

1. ✖ ₹2 crore
2. ✖ ₹5 crore
3. ✖ ₹4 crore
4. ✔ ₹10 crore

Question Number : 113 Question Id : 630680805167 Option Shuffling : Yes Is Question Mandatory : No Calculator : None Response Time : N.A Think Time : N.A Minimum Instruction Time : 0

Correct Marks : 1 Wrong Marks : 0.33

మార్చి 2022 నాటికి, బ్యాంకింగ్ తర ఫైనాన్షియల్ కంపెనీ -మైక్రో ఫైనాన్స్ ఇన్స్టిట్యూషన్ (NBFC-MFI)గా నమోదు చేసుకోవడానికి అవసరమైన కనీస నికర యాజమాన్యం ఫండ్ అనేది

Options :

1. ✖ ₹2 కోట్లు
2. ✖ ₹5 కోట్లు
3. ✖ ₹4 కోట్లు
4. ✔ ₹10 కోట్లు

Question Number : 114 Question Id : 630680805168 Option Shuffling : Yes Is Question Mandatory : No Calculator : None Response Time : N.A Think Time : N.A Minimum Instruction Time : 0

Correct Marks : 1 Wrong Marks : 0.33

When was the new series of National Accounts Statistics (NAS) has been introduced replacing the previous series of 2004-05.

Options :

1. ✖ 2010-11
2. ✖ 2012-13
3. ✔ 2011-12
4. ✖ 2009-10

Question Number : 114 Question Id : 630680805168 Option Shuffling : Yes Is Question Mandatory : No Calculator : None Response Time : N.A Think Time : N.A Minimum Instruction Time : 0

Correct Marks : 1 Wrong Marks : 0.33

2004-05 మునుపటి సిరీస్ స్థానంలో నేషనల్ అకౌంట్స్ స్టాటిస్టిక్స్ (NAS) యొక్క కొత్త సిరీస్ ఎప్పుడు ప్రవేశపెట్టబడింది.

Options :

1. ✖ 2010-11
2. ✖ 2012-13
3. ✔ 2011-12
4. ✖ 2009-10

Question Number : 115 Question Id : 630680805170 Option Shuffling : Yes Is Question Mandatory : No Calculator : None Response Time : N.A Think Time : N.A Minimum Instruction Time : 0

Correct Marks : 1 Wrong Marks : 0.33

In this question, a statement is given followed by two conclusions. Choose the correct response from the given four options:

Statement:

Reserve Bank of India (RBI) is Central bank of India responsible for monetary policy and regulation of the banking sector.

Conclusion:

- i) In that sense, it is Largest public sector bank in India, offering a wide range of financial services.
- ii) it Formulates, implements and monitors the monetary policy.

Options :

1. ✖ Only conclusion (i) is correct.

2. ✓ Only conclusion (ii) is correct.
3. ✗ Both conclusion (i) and (ii) are correct.
4. ✗ None of the conclusions are correct.

Question Number : 115 Question Id : 630680805170 Option Shuffling : Yes Is Question Mandatory : No Calculator : None Response Time : N.A Think Time : N.A Minimum Instruction Time : 0

Correct Marks : 1 Wrong Marks : 0.33

ఈ ప్రశ్నలో, ఒక ప్రకటన దాని తర్వాత రెండు తీర్మానాలు ఇవ్వబడ్డాయి. ఇవ్వబడిన నాలుగు ఎంపికల నుండి సరైన ప్రతిస్పందనను ఎంచుకోండి: ప్రకటన:

భారతీయ రిజర్వ్ బ్యాంక్ (RBI) ద్రవ్య విధానం మరియు బ్యాంకింగ్ రంగ నియంత్రణకు బాధ్యత వహించే సెంట్రల్ బ్యాంక్ ఆఫ్ ఇండియా.

తీర్మానం:

- i). ఆ కోణంలో, ఇది భారతదేశంలోని అతిపెద్ద ప్రభుత్వ రంగ బ్యాంకు, ఇది విస్తృత శ్రేణి ఆర్థిక సేవలను అందిస్తోంది.
- ii). ఇది ద్రవ్య విధానాన్ని రూపొందిస్తుంది, అమలు చేస్తుంది మరియు పర్యవేక్షిస్తుంది.

Options :

1. ✗ తీర్మానం (i) మాత్రమే సరైనది.
2. ✓ తీర్మానం (ii) మాత్రమే సరైనది.
3. ✗ తీర్మానాలు (i) మరియు (ii) రెండూ సరైనవి.
4. ✗ తీర్మానాలు ఏవి సరైనవి కావు.

Question Number : 116 Question Id : 630680805171 Option Shuffling : Yes Is Question Mandatory : No Calculator : None Response Time : N.A Think Time : N.A Minimum Instruction Time : 0

Correct Marks : 1 Wrong Marks : 0.33

Which of the following is an example of a natural disaster that can be mitigated through early warning systems?

Options :

1. ✗ Financial crises
2. ✗ Road accidents
3. ✗ Internet outages
4. ✓ Floods

Question Number : 116 Question Id : 630680805171 Option Shuffling : Yes Is Question Mandatory : No Calculator : None Response Time : N.A Think Time : N.A Minimum Instruction Time : 0

Correct Marks : 1 Wrong Marks : 0.33

కింది వాటిలో ముందస్తు హెచ్చరిక వ్యవస్థల ద్వారా తగ్గించగల సహజ విపత్తుకు ఉదాహరణ ఏది?

Options :

1. ✗ ఆర్థిక సంక్షోభాలు
2. ✗ రోడ్డు ప్రమాదాలు
3. ✗ ఇంటర్నెట్ అంతరాయాలు
4. ✓ వరదలు

Question Number : 117 Question Id : 630680805172 Option Shuffling : Yes Is Question Mandatory : No Calculator : None Response Time : N.A Think Time : N.A Minimum Instruction Time : 0

Correct Marks : 1 Wrong Marks : 0.33

What is the " Incident Command System or ICS" in disaster management?

Options :

1. ✓ Refers to a management system to be used for incidents of various kinds and sizes such as earthquakes, flood, cyclone, landslides etc.
2. ✗ A series of interconnected metal chains used for rescue operations
3. ✗ A communication network for disaster survivors
4. ✗ A tool for breaking through debris in search and rescue efforts

Question Number : 117 Question Id : 630680805172 Option Shuffling : Yes Is Question Mandatory : No Calculator : None Response Time : N.A Think Time : N.A Minimum Instruction Time : 0

Correct Marks : 1 Wrong Marks : 0.33

విపత్తు నిర్వహణలో "సంఘటన కమాండ్ సిస్టమ్ లేదా ICS" అంటే ఏమిటి?

Options :

1. ✓ భూకంపాలు, వరదలు, తుఫానులు, కొండచరియలు విరిగిపడటం వంటి వివిధ రకాల మరియు పరిమాణాల సంఘటనల కోసం ఉపయోగించే నిర్వహణ వ్యవస్థను సూచిస్తుంది.
2. ✗ రక్షణ కార్యకలాపాల కోసం ఉపయోగించే ఇంటర్కనెక్టెడ్ మెటల్ చైన్ల శ్రేణి
3. ✗ విపత్తు నుండి బయటపడినవారి కోసం కమ్యూనికేషన్ నెట్వర్క్
4. ✗ శోధన మరియు రక్షణ ప్రయత్నాలలో శిథిలాలను చేదించే ఒక సాధనం

Question Number : 118 Question Id : 630680805175 Option Shuffling : Yes Is Question Mandatory : No Calculator : None Response Time : N.A Think Time : N.A Minimum Instruction Time : 0

Correct Marks : 1 Wrong Marks : 0.33

Which of the following is an example of a structural mitigation strategy for earthquake prevention?

Options :

1. ✗ Conducting search and rescue operations
2. ✗ Developing early warning systems

3. ✓ Creating building codes and standards
4. ✘ Providing emergency medical care

Question Number : 118 Question Id : 630680805175 Option Shuffling : Yes Is Question Mandatory : No Calculator : None Response Time : N.A Think Time : N.A Minimum Instruction Time : 0

Correct Marks : 1 Wrong Marks : 0.33

కింది వాటిలో భూకంప నివారణకు నిర్మాణాత్మక ఉపశమన వ్యూహానికి ఉదాహరణ ఏది?

Options :

1. ✘ శోధన మరియు రక్షణ కార్యకలాపాలను నిర్వహించడం
2. ✘ ముందస్తు హెచ్చరిక వ్యవస్థలను అభివృద్ధి చేయడం
3. ✓ బిల్డింగ్ కోడ్లు మరియు ప్రమాణాలను రూపొందించడం
4. ✘ అత్యవసర వైద్య సంరక్షణ అందించడం

Question Number : 119 Question Id : 630680805176 Option Shuffling : Yes Is Question Mandatory : No Calculator : None Response Time : N.A Think Time : N.A Minimum Instruction Time : 0

Correct Marks : 1 Wrong Marks : 0.33

During a disaster, GIS enables emergency response teams to quickly gather and analyze real-time data from various sources. Which one of the following is NOT a source of that kind?

Options :

1. ✘ Satellite imagery
2. ✘ Weather data
3. ✘ Sensor networks
4. ✓ News channels

Question Number : 119 Question Id : 630680805176 Option Shuffling : Yes Is Question Mandatory : No Calculator : None Response Time : N.A Think Time : N.A Minimum Instruction Time : 0

Correct Marks : 1 Wrong Marks : 0.33

విపత్తు సమయంలో, GIS వివిధ వనరుల నుండి నిజ-సమయ వివరాలను త్వరగా సేకరించడానికి మరియు విశ్లేషించడానికి అత్యవసర ప్రతిస్పందన బృందాలను అనుమతిస్తుంది. కింది వాటిలో ఆ రకమైన మూలం కానిది ఏది?

Options :

1. ✘ ఉపగ్రహ చిత్రాలు
2. ✘ వాతావరణ వివరాలు
3. ✘ సెన్సార్ నెట్వర్క్లు
4. ✓ న్యూస్ ఛానెల్స్

Question Number : 120 Question Id : 630680805177 Option Shuffling : Yes Is Question Mandatory : No Calculator : None Response Time : N.A Think Time : N.A Minimum Instruction Time : 0

Correct Marks : 1 Wrong Marks : 0.33

Where the headquarters of National Atlas and Thematic Mapping Organisation (NATMO) of India?

Options :

1. ✓ Kolkata
2. ✘ New Delhi
3. ✘ Hyderabad
4. ✘ Guwahati

Question Number : 120 Question Id : 630680805177 Option Shuffling : Yes Is Question Mandatory : No Calculator : None Response Time : N.A Think Time : N.A Minimum Instruction Time : 0

Correct Marks : 1 Wrong Marks : 0.33

భారతదేశంలోని నేషనల్ అట్లాస్ మరియు థీమాటిక్ మ్యాపింగ్ ఆర్గనైజేషన్ (NATMO) ప్రధాన కార్యాలయం ఎక్కడ ఉంది?

Options :

1. ✓ కోల్కత
2. ✘ న్యూ ఢిల్లీ
3. ✘ హైదరాబాద్
4. ✘ గువాహాటీ

Question Number : 121 Question Id : 630680804475 Option Shuffling : Yes Is Question Mandatory : No Calculator : None Response Time : N.A Think Time : N.A Minimum Instruction Time : 0

Correct Marks : 1 Wrong Marks : 0.33

Read the given statements and conclusions carefully. Assuming that the information given in the statements is true, even if it appears to be at variance with commonly known facts, decide which of the given conclusions logically follow(s) from the statements.

Statements:

- A. Some stools are chairs.
- B. Some chairs are irons.

Conclusions:

- I. No stools are irons.
- II. Some irons are chairs.

Options :

1. ✘ Only conclusions I and II follow
2. ✘ Only conclusion I follows

3. ✓ Only conclusion II follows

4. ✘ Either conclusions I or II follow

Question Number : 121 Question Id : 630680804475 Option Shuffling : Yes Is Question Mandatory : No Calculator : None Response Time : N.A Think Time : N.A Minimum Instruction Time : 0

Correct Marks : 1 Wrong Marks : 0.33

ఇచ్చిన ప్రకటనలను మరియు తీర్మానాలను జాగ్రత్తగా చదవండి. ప్రకటనలలో ఇవ్వబడిన సమాచారం సాధారణంగా తెలిసిన వాస్తవాలతో విభేదిస్తున్నట్లు కనిపించినప్పటికీ నిజమని భావిస్తూ, ఇచ్చిన తీర్మానాల లో ఏది/వి తార్కికంగా ప్రకటనలను అనుసరిస్తుందో/స్తాయో నిర్ణయించండి. ప్రకటనలు:

- A. కొన్ని స్థూలు కుర్చీలు.
B. కొన్ని కుర్చీలు ఇనుములు.

తీర్మానాలు:

- I. స్థూలు ఏదీ కూడా ఇనుము కాదు.
II. కొన్ని ఇనుములు కుర్చీలు.

Options :

1. ✘ I మరియు II తీర్మానాలు మాత్రమే అనుసరిస్తాయి
2. ✘ తీర్మానం I మాత్రమే అనుసరిస్తుంది
3. ✓ తీర్మానం II మాత్రమే అనుసరిస్తుంది
4. ✘ తీర్మానం I కానీ లేదా II కానీ ఏదో ఒకటి మాత్రమే అనుసరిస్తుంది

Question Number : 122 Question Id : 630680804476 Option Shuffling : Yes Is Question Mandatory : No Calculator : None Response Time : N.A Think Time : N.A Minimum Instruction Time : 0

Correct Marks : 1 Wrong Marks : 0.33

Three statements are given, followed by three conclusions numbered I, II and III. Assuming the statements to be true, even if they seem to be at variance from commonly known facts, decide which of the conclusions logically follow(s) from the given statements.

Statements:

- A. All goats are lions.
B. Some elephants are lions.
C. No lions are tigers.

Conclusions:

- I. Some goats are elephants.
II. No goats are tigers.
III. All goats are elephants.

Options :

1. ✘ Only conclusion I follows
2. ✘ Only conclusions I and III follow
3. ✘ All the conclusions I, II and III follow
4. ✓ Only conclusion II follows

Question Number : 122 Question Id : 630680804476 Option Shuffling : Yes Is Question Mandatory : No Calculator : None Response Time : N.A Think Time : N.A Minimum Instruction Time : 0

Correct Marks : 1 Wrong Marks : 0.33

ఈ ప్రశ్నలో మూడు ప్రకటనలు, వాటి తర్వాత I, II మరియు III అనే సంబంధ కలిగిన తీర్మానాలు ఇవ్వబడ్డాయి. సాధారణంగా తెలిసిన సత్యాలతో విభేదిస్తున్నప్పటికీ, ఇచ్చిన ప్రకటనలు సత్యమని భావించి, ఇచ్చిన తీర్మానాల్లో ఏవి ఆ ప్రకటనలను తార్కికంగా అనుసరిస్తున్నాయో నిర్ణయించండి. ప్రకటనలు:

- A. గొర్రెలన్నీ సింహాలు.
B. కొన్ని ఏనుగులు సింహాలు.
C. సింహాలు ఏవీ పులులు కావు.

తీర్మానాలు:

- I. కొన్ని గొర్రెలు ఏనుగులు.
II. గొర్రెలు ఏవీ పులులు కావు.
III. గొర్రెలన్నీ ఏనుగులు.

Options :

1. ✘ తీర్మానం I మాత్రమే అనుసరిస్తుంది
2. ✘ తీర్మానాలు I మరియు III మాత్రమే అనుసరిస్తున్నాయి
3. ✘ తీర్మానాలు I, II మరియు III అనుసరిస్తున్నాయి
4. ✓ తీర్మానం II మాత్రమే అనుసరిస్తుంది

Question Number : 123 Question Id : 630680804477 Option Shuffling : Yes Is Question Mandatory : No Calculator : None Response Time : N.A Think Time : N.A Minimum Instruction Time : 0

Correct Marks : 1 Wrong Marks : 0.33

Three statements are given, followed by three conclusions numbered I, II and III. Assuming the statements to be true, even if they seem to be at variance from commonly known facts, decide which of the conclusions logically follow(s) from the given statements.

Statements:

- A. Some papers are trees.
B. All trees are birds.
C. All birds are tigers.

Conclusions:

- I. All papers are birds.
II. All papers are tigers.
III. All trees are tigers. .

Options :

1. ✖ Only conclusions I and II follow
2. ✔ Only conclusions III follows
3. ✖ All the conclusions I, II and III follow
4. ✖ Either conclusion I or III and II follow

Question Number : 123 Question Id : 630680804477 Option Shuffling : Yes Is Question Mandatory : No Calculator : None Response Time : N.A Think Time : N.A Minimum Instruction Time : 0

Correct Marks : 1 Wrong Marks : 0.33

మూడు ప్రకటనల కింద I, II మరియు III అనే సంఖ్యలతో మూడు తీర్మానాలు ఇవ్వబడ్డాయి. సాధారణంగా తెలిసిన వాస్తవాలకు భిన్నంగా ఉన్నట్లు అనిపించినప్పటికీ, ప్రకటనలను నిజమని భావించి, ఇచ్చిన తీర్మానాలలో ఏది/వి తార్కికంగా ప్రకటనలను అనుసరిస్తుందో/స్తాయో నిర్ణయించండి. ప్రకటనలు:

- A. కొన్ని పేపర్లు చెట్లు.
- B. చెట్లన్నీ పక్షులు.
- C. పక్షులన్నీ పులులు.

తీర్మానాలు:

- I. పేపర్లన్నీ పక్షులు.
- II. పేపర్లన్నీ పులులు.
- III. చెట్లన్నీ పులులు.

Options :

1. ✖ I మరియు II తీర్మానాలు మాత్రమే అనుసరిస్తాయి
2. ✔ తీర్మానం III మాత్రమే అనుసరిస్తుంది
3. ✖ I, II మరియు III అన్ని తీర్మానాలు అనుసరిస్తాయి
4. ✖ తీర్మానం I కానీ లేదా III మరియు II కానీ ఏవైనా అనుసరిస్తాయి

Question Number : 124 Question Id : 630680804478 Option Shuffling : Yes Is Question Mandatory : No Calculator : None Response Time : N.A Think Time : N.A Minimum Instruction Time : 0

Correct Marks : 1 Wrong Marks : 0.33

If

$P + Q$ means P is the father of Q

$P \times Q$ means Q is the mother of P

$P * Q$ means P is the wife of Q

$P - Q$ means P is the sister of Q

$P \div Q$ means Q is the daughter of P

Then,

How is 'C' related to 'F' in $A * B + C \div D \times E - F$?

Options :

1. ✖ Son
2. ✖ Husband
3. ✖ Father
4. ✔ Brother-in-Law

Question Number : 124 Question Id : 630680804478 Option Shuffling : Yes Is Question Mandatory : No Calculator : None Response Time : N.A Think Time : N.A Minimum Instruction Time : 0

Correct Marks : 1 Wrong Marks : 0.33

ఒకవేళ

$P + Q$ అంటే P అనేది Q యొక్క తండ్రి

$P \times Q$ అంటే Q అనేది P యొక్క తల్లి

$P * Q$ అంటే P అనేది Q యొక్క భార్య

$P - Q$ అంటే P అనేది Q యొక్క సోదరి

$P \div Q$ అంటే Q అనేది P యొక్క కుమార్తె

అయినప్పుడు,

$A * B + C \div D \times E - F$ లో, 'F'కి 'C' ఏమవుతారు ?

Options :

1. ✖ కుమారుడు
2. ✖ భర్త
3. ✖ తండ్రి
4. ✔ బ్రదర్-ఇన్-లా

Question Number : 125 Question Id : 630680804479 Option Shuffling : Yes Is Question Mandatory : No Calculator : None Response Time : N.A Think Time : N.A Minimum Instruction Time : 0

Correct Marks : 1 Wrong Marks : 0.33

Select the option that will replace the question mark (?) in the following series.

AVC, DQV, GLO, JGH, ?

Options :

1. ✖ MBB
2. ✔ MBA
3. ✖ MCA
4. ✖ NBA

Question Number : 125 Question Id : 630680804479 Option Shuffling : Yes Is Question Mandatory : No Calculator : None Response Time : N.A Think Time : N.A Minimum Instruction Time : 0

Correct Marks : 1 Wrong Marks : 0.33

క్రీంది క్రేణిల్ ప్రశ్న గుర్తు (?)ను భర్తీ చేసే ఐచ్చికాన్ని ఎంచుకోండి.
AVC, DQV, GLO, JGH, ?

Options :

1. ✖ MBB
2. ✔ MBA
3. ✖ MCA
4. ✖ NBA

Question Number : 126 Question Id : 630680804480 Option Shuffling : Yes Is Question Mandatory : No Calculator : None Response Time : N.A Think Time : N.A Minimum Instruction Time : 0

Correct Marks : 1 Wrong Marks : 0.33

In a certain code language, 'WEST' is coded as 'UTFX', 'JUNE' is coded as 'FOVK'. Which of the following option will be true for the given?

1. PLAY	X. EOBI
2. MOON	Y. ZBMQ
3. HAND	Z. OPPN

Options :

1. ✔ 1-Y, 2-Z and 3-X
2. ✖ 1-Y, 2-X and 3-Z
3. ✖ 1-X, 2-Z and 3-Y
4. ✖ 1-Z, 2-Y and 3-X

Question Number : 126 Question Id : 630680804480 Option Shuffling : Yes Is Question Mandatory : No Calculator : None Response Time : N.A Think Time : N.A Minimum Instruction Time : 0

Correct Marks : 1 Wrong Marks : 0.33

ఒక నిర్దిష్ట కోడ్ భాషలో, 'WEST'ని 'UTFX'గా, 'JUNE'ని 'FOVK'గా కోడ్ చేస్తారు. కింది ఎంపికలలో ఇవ్వబడినదానికి సరైనది ఏది?

1. PLAY	X. EOBI
2. MOON	Y. ZBMQ
3. HAND	Z. OPPN

Options :

1. ✔ 1-Y, 2-Z మరియు 3-X
2. ✖ 1-Y, 2-X మరియు 3-Z
3. ✖ 1-X, 2-Z మరియు 3-Y
4. ✖ 1-Z, 2-Y మరియు 3-X

Question Number : 127 Question Id : 630680804481 Option Shuffling : Yes Is Question Mandatory : No Calculator : None Response Time : N.A Think Time : N.A Minimum Instruction Time : 0

Correct Marks : 1 Wrong Marks : 0.33

In a certain code language:

- Rule 1: Each Consonant is shifted 3 positions forward in the alphabet. (B becomes E, C becomes F etc.)
- Rule 2: Vowels (A, E, I, O, U) are replaced with a number code: A=1, E=2, I=3, O=4, U=5.
- Rule 3: The order of letters is reversed.

How would the word "AUGUST" be coded?

Options :

1. ✖ WV5J5D
2. ✖ WV5JX1
3. ✖ WVXJ51
4. ✔ WV5J51

Question Number : 127 Question Id : 630680804481 Option Shuffling : Yes Is Question Mandatory : No Calculator : None Response Time : N.A Think Time : N.A Minimum Instruction Time : 0

Correct Marks : 1 Wrong Marks : 0.33

ఒక నిర్దిష్ట సంకేత భాషలో:

- నియమం 1: వర్ణమాలలోని ప్రతి హల్లు దాని స్థానం నుండి 3 స్థానాలు ముందుండే అక్షరంగా మారుతుంది. (B అనేది Eగా, C అనేది Fగా మారుతుంది.)
- నియమం 2: అచ్చులు (A, E, I, O, U) ఒక సంఖ్య కోడ్తో మార్చబడుతాయి: A=1, E=2, I=3, O=4, U=5.
- నియమం 3: అక్షరాల క్రమం రివర్స్ చేయబడుతుంది.

ఈ భాషలో "AUGUST"ని ఏవిధంగా కోడ్ చేస్తారు?

Options :

1. ✖ WV5J5D
2. ✖ WV5JX1
3. ✖ WVXJ51
4. ✔ WV5J51

Question Number : 128 Question Id : 630680804482 Option Shuffling : Yes Is Question Mandatory : No Calculator : None Response Time : N.A Think Time : N.A Minimum Instruction Time : 0

Correct Marks : 1 Wrong Marks : 0.33

Match the letter cluster which is related in the same way as the first letter cluster is related to the second letter cluster and third letter cluster is related to fourth letter cluster.

EGH : JLM :: RTV : WYA

1. MET	X. XFI
2. SAD	Y. ZXJ
3. USE	Z. RJY

Options :

- ✘ 1-Y, 2-X and 3-Z
- ✘ 1-X, 2-Z and 3-Y
- ✔ 1-Z, 2-X and 3-Y
- ✘ 1-Z, 2-Y and 3-X

Question Number : 128 Question Id : 630680804482 Option Shuffling : Yes Is Question Mandatory : No Calculator : None Response Time : N.A Think Time : N.A Minimum Instruction Time : 0

Correct Marks : 1 Wrong Marks : 0.33

మొదటి అక్షర సమూహానికి, రెండవ అక్షర సమూహం సంబంధించిన విధంగా మరియు మూడవ అక్షర సమూహానికి, నాల్గవ అక్షర సమూహం సంబంధించిన విధంగా, ఇలాంటి సంబంధాన్ని కలిగి ఉన్న అక్షర సమూహాలను జతపరచండి.

EGH : JLM :: RTV : WYA

1. MET	X. XFI
2. SAD	Y. ZXJ
3. USE	Z. RJY

Options :

- ✘ 1-Y, 2-X మరియు 3-Z
- ✘ 1-X, 2-Z మరియు 3-Y
- ✔ 1-Z, 2-X మరియు 3-Y
- ✘ 1-Z, 2-Y మరియు 3-X

Question Number : 129 Question Id : 630680804483 Option Shuffling : Yes Is Question Mandatory : No Calculator : None Response Time : N.A Think Time : N.A Minimum Instruction Time : 0

Correct Marks : 1 Wrong Marks : 0.33

Four letter-clusters pairs have been given, out of which three are alike in some manner and one is different. Select the letter-cluster pair that is different.

Options :

- ✘ BEAUTY : HKGAZE
- ✘ BATTLE : HGZZRK
- ✘ BEFORE : HKLUXK
- ✔ BEHALF : HKMHRL

Question Number : 129 Question Id : 630680804483 Option Shuffling : Yes Is Question Mandatory : No Calculator : None Response Time : N.A Think Time : N.A Minimum Instruction Time : 0

Correct Marks : 1 Wrong Marks : 0.33

నాలుగు అక్షర-సమూహాల జతలు ఇవ్వబడ్డాయి, వాటిలో మూడు ఏదో ఒక పద్ధతిలో ఒకేలా ఉంటూ, ఒకటి భిన్నంగా ఉంటుంది. భిన్నమైన అక్షర-సమూహ జతను ఎంచుకోండి.

Options :

- ✘ BEAUTY : HKGAZE
- ✘ BATTLE : HGZZRK
- ✘ BEFORE : HKLUXK
- ✔ BEHALF : HKMHRL

Question Number : 130 Question Id : 630680804484 Option Shuffling : Yes Is Question Mandatory : No Calculator : None Response Time : N.A Think Time : N.A Minimum Instruction Time : 0

Correct Marks : 1 Wrong Marks : 0.33

Nine friends Amit, Mayank, Janardan, Dev, John, Farhan, Gagan, Hardeep, and Imad are watching an IPL match sitting in a row facing North.

- Mayank is sitting at one end of the row.
- Only Hardeep is sitting between Farhan and Gagan.
- Dev is sitting to the immediate left of Janardan.
- Janardan is sitting at the third place to the right of John.
- Farhan is sitting immediate right of Amit.
- Mayank is sitting at the third place to the right of Farhan.

Who among the following is sitting immediately right of John in the row?

Options :

- ✔ Imad
- ✘ Dev
- ✘ Mayank
- ✘ Amit

Question Number : 130 Question Id : 630680804484 Option Shuffling : Yes Is Question Mandatory : No Calculator : None Response Time : N.A Think Time : N.A Minimum Instruction Time : 0

Correct Marks : 1 Wrong Marks : 0.33

అమిత్, మయాంక్, జనార్ధన్, దేవ్, జాన్, ఫర్హాన్, గగన్, హర్షిత్ మరియు ఇమాద్ అనే తొమ్మిది మంది స్నేహితులు ఉత్తరాభిముఖంగా కూర్చుని IPL మ్యాచ్ ను చూస్తున్నారు.

- మయాంక్ వరుసలో ఒక చివర కూర్చున్నాడు.
 - ఫర్హాన్ మరియు గగన్ ల మధ్య హర్షిత్ మాత్రమే కూర్చున్నాడు.
 - దేవ్, జనార్ధన్ కి తక్షణ ఎడమవైపు కూర్చున్నాడు.
 - జాన్ కు కుడివైపున మూడో స్థానంలో జనార్ధన్ కూర్చున్నాడు.
 - ఫర్హాన్ అమిత్ కి తక్షణ కుడివైపున కూర్చున్నాడు.
 - మయాంక్ ఫర్హాన్ కు కుడివైపున మూడో స్థానంలో కూర్చున్నాడు.
- కింది వారిలో జాన్ కు వరుసలో తక్షణ కుడివైపు ఎవరు కూర్చున్నారు?

Options :

1. ✓ ఇమాద్
2. ✗ దేవ్
3. ✗ మయాంక్
4. ✗ అమిత్

Question Number : 131 Question Id : 630680804485 Option Shuffling : Yes Is Question Mandatory : No Calculator : None Response Time : N.A Think Time : N.A Minimum Instruction Time : 0

Correct Marks : 1 Wrong Marks : 0.33

Seven doctors- Sachin, Hina, Neha, Anas, Luke, Devika and Kanika have to visit OPD in hospital on different days of the week starting from Sunday, but not necessarily in the same order.

- Anas visits immediately before Devika.
- Only two doctors are visiting between Anas and Hina.
- Kanika visits before Neha.
- Neha does not visit before Sachin.
- Hina visits on Friday.
- Kanika visits immediately before Anas.
- Exactly one person visit between Luke and Neha.

Who among the following doctor visits OPD on Sunday?

Options :

1. ✗ Anas
2. ✗ Devika
3. ✗ Luke
4. ✓ Sachin

Question Number : 131 Question Id : 630680804485 Option Shuffling : Yes Is Question Mandatory : No Calculator : None Response Time : N.A Think Time : N.A Minimum Instruction Time : 0

Correct Marks : 1 Wrong Marks : 0.33

ఏడుగురు వైద్యులు- సచిన్, హీనా, నేహా, అనస్, లూక్, దేవిక మరియు కనికా అనేవారు ఆదివారం నుండి వారంలో వేర్వేరు రోజులలో ఆసుపత్రిలో OPDని సందర్శించాలి, కానీ ఇచ్చిన ఇదే క్రమంలో ఉండవలసిన అవసరం లేదు.

- దేవిక కంటే తక్షణ ముందు అనస్ సందర్శిస్తాడు.
- అనస్ మరియు హీనాల మధ్య ఇద్దరు వైద్యులు మాత్రమే సందర్శిస్తున్నారు.
- నేహా కంటే ముందు కనికా సందర్శిస్తుంది.
- సచిన్ కంటే ముందు నేహా సందర్శించదు.
- శుక్రవారం హీనా సందర్శిస్తుంది.
- కనికా, అనస్ కంటే తక్షణ ముందు సందర్శిస్తుంది.
- లూక్ మరియు నేహాల మధ్య సరిగ్గా ఒక వ్యక్తి సందర్శిస్తాడు.

కింది వారిలో ఆదివారం OPDని సందర్శించేవారు ఎవరు?

Options :

1. ✗ అనస్
2. ✗ దేవిక
3. ✗ లూక్
4. ✓ సచిన్

Question Number : 132 Question Id : 630680804486 Option Shuffling : Yes Is Question Mandatory : No Calculator : None Response Time : N.A Think Time : N.A Minimum Instruction Time : 0

Correct Marks : 1 Wrong Marks : 0.33

Two statements labelled as Assertion (A) and Reason (R) are given. Consider both the statements carefully and select your answer on the basis of the given options.

Assertion (A): Contemporary Indian literature reflects the complexities of societal shifts and cultural dynamics in the India.

Reason (R): Through themes of identity, gender, and social critique, Indian authors engage with the evolving fabric of Indian society, blending tradition with modernity in their literary expressions.

Options :

1. ✓ Both A and R are true and R is the correct explanation of A.
2. ✗ Both A and R are true but R is not the correct explanation of A.
3. ✗ A is false and R is true.
4. ✗ A is true and R is false.

Question Number : 132 Question Id : 630680804486 Option Shuffling : Yes Is Question Mandatory : No Calculator : None Response Time : N.A Think Time : N.A Minimum Instruction Time : 0

Correct Marks : 1 Wrong Marks : 0.33

నిశ్చిత వాక్యం (A) మరియు కారణం (R) అని పేర్కొనబడిన రెండు ప్రకటనలు ఇవ్వబడ్డాయి. రెండు ప్రకటనలను జాగ్రత్తగా పరిశీలించి, ఇచ్చిన ఎంపికల ఆధారంగా మీ సమాధానాన్ని ఎంచుకోండి.

నిశ్చిత వాక్యం (A): సమకాలీన భారతీయ సాహిత్యం భారతదేశంలోని సామాజిక మార్పులు మరియు సాంస్కృతిక గతిశీలత సంక్లిష్టతలను ప్రతిబింబిస్తుంది.

కారణం (R): గుర్తింపు, లింగం మరియు సామాజిక విమర్శల ఇతివృత్తాల ద్వారా, భారతీయ రచయితలు భారతీయ సమాజం యొక్క పరిణామ స్వరూపం, వారి సాహిత్య వ్యక్తీకరణలలో సంప్రదాయాన్ని ఆధునికతతో మిళితం చేస్తారు.

Options :

1. ✓ A మరియు Rలు రెండూ నిజం మరియు R అనేది A యొక్క సరైన వివరణ.
2. ✗ A మరియు R రెండూ నిజమే కానీ R అనేది A యొక్క సరైన వివరణ కాదు.
3. ✗ A అనేది తప్పు మరియు R అనేది నిజం.
4. ✗ A అనేది నిజం మరియు R అనేది తప్పు.

Question Number : 133 Question Id : 630680804488 Option Shuffling : Yes Is Question Mandatory : No Calculator : None Response Time : N.A Think Time : N.A Minimum Instruction Time : 0

Correct Marks : 1 Wrong Marks : 0.33

Select the option that will replace the question mark (?) in the following series.

432, 415, 381, 330, ?

Options :

1. ✗ 245
2. ✗ 284
3. ✗ 320
4. ✓ 262

Question Number : 133 Question Id : 630680804488 Option Shuffling : Yes Is Question Mandatory : No Calculator : None Response Time : N.A Think Time : N.A Minimum Instruction Time : 0

Correct Marks : 1 Wrong Marks : 0.33

కింది శ్రేణిలో ప్రశ్న గుర్తు (?)ని భర్తీ చేసే ఎంపికను ఎంచుకోండి.

432, 415, 381, 330, ?

Options :

1. ✗ 245
2. ✗ 284
3. ✗ 320
4. ✓ 262

Question Number : 134 Question Id : 630680804487 Option Shuffling : Yes Is Question Mandatory : No Calculator : None Response Time : N.A Think Time : N.A Minimum Instruction Time : 0

Correct Marks : 1 Wrong Marks : 0.33

Select the option that will replace the question mark (?) in the following series.

177, 302, 366, 393, ?

Options :

1. ✓ 401
2. ✗ 394
3. ✗ 406
4. ✗ 425

Question Number : 134 Question Id : 630680804487 Option Shuffling : Yes Is Question Mandatory : No Calculator : None Response Time : N.A Think Time : N.A Minimum Instruction Time : 0

Correct Marks : 1 Wrong Marks : 0.33

కింది శ్రేణిలో ప్రశ్న గుర్తు (?)ని భర్తీ చేసే ఎంపికను ఎంచుకోండి.

177, 302, 366, 393, ?

Options :

1. ✓ 401
2. ✗ 394
3. ✗ 406
4. ✗ 425

Question Number : 135 Question Id : 630680804489 Option Shuffling : Yes Is Question Mandatory : No Calculator : None Response Time : N.A Think Time : N.A Minimum Instruction Time : 0

Correct Marks : 1 Wrong Marks : 0.33

Four number pairs are given. The number on left side of (-) is related to the number on the right side of (-) with some Logic/Rule/Relation. Three are similar on basis of same Logic/Rule/Relation. Select the odd one out from the given alternatives.

Options :

1. ✗ 17-272
2. ✗ 19-342
3. ✗ 23-506
4. ✓ 29-816

Question Number : 135 Question Id : 630680804489 Option Shuffling : Yes Is Question Mandatory : No Calculator : None Response Time : N.A Think Time : N.A Minimum Instruction Time : 0

Correct Marks : 1 Wrong Marks : 0.33

నాలుగు సంఖ్యా జతలు ఇవ్వబడ్డాయి. (-) యొక్క ఎడమ వైపున ఉన్న సంఖ్య కొంత తరగం/నియమం/సంబంధంతో (-) కుడి వైపున ఉన్న సంఖ్యకు సంబంధించినది. అదే తరగం/నియమం/సంబంధం ఆధారంగా మూడు ఒకేలా ఉంటాయి. ఇచ్చిన ప్రత్యామ్నాయాల నుండి భిన్నంగా ఉన్నదానిని ఎంచుకోండి.

Options :

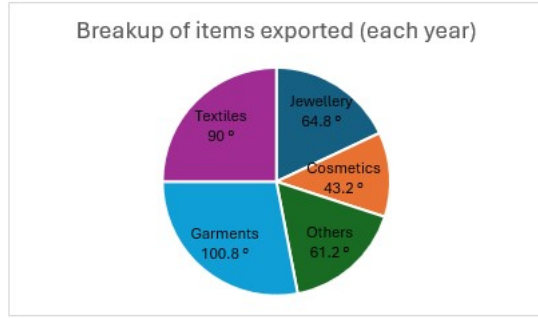
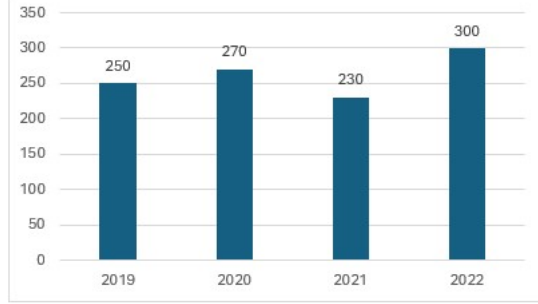
1. ✖ 17-272
2. ✖ 19-342
3. ✖ 23-506
4. ✔ 29-816

Question Number : 136 Question Id : 630680804205 Option Shuffling : Yes Is Question Mandatory : No Calculator : None Response Time : N.A Think Time : N.A Minimum Instruction Time : 0

Correct Marks : 1 Wrong Marks : 0.33

Study the following graphs and answer the question:

Exports of a country from 2019 to 2022 (in ₹ billions)



The export of garments and cosmetics together in 2020 is what percent of the total exports of textiles and jewellery in the years 2019 and 2021 (correct to one decimal place)?

Options :

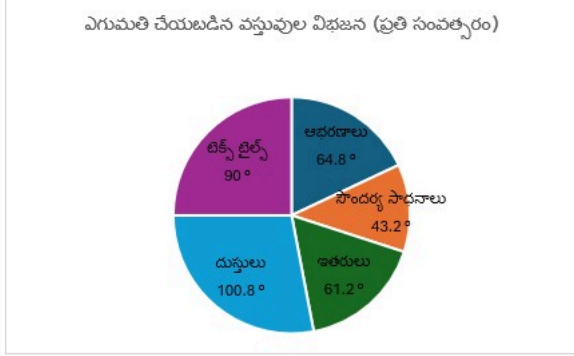
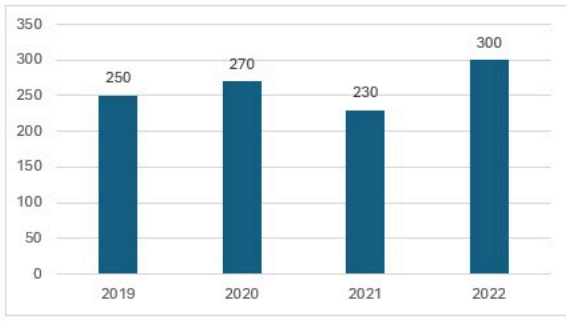
1. ✖ 50.5 %
2. ✖ 51.4 %
3. ✔ 52.3 %
4. ✖ 53.2 %

Question Number : 136 Question Id : 630680804205 Option Shuffling : Yes Is Question Mandatory : No Calculator : None Response Time : N.A Think Time : N.A Minimum Instruction Time : 0

Correct Marks : 1 Wrong Marks : 0.33

కింది గ్రాఫులను అధ్యయనం చేసి ప్రశ్నకు సమాధానం ఇవ్వండి:

2019 నుండి 2022 వరకు ఒక దేశం యొక్క ఎగుమతులు (₹ బిలియన్లలో)



2020లో దుస్తులు మరియు సౌందర్య సాధనాల ఎగుమతి అనేది 2019 మరియు 2021 సంవత్సరాలలో టెక్స్ టైల్స్ మరియు ఆభరణాల మొత్తం ఎగుమతులలో ఎంత శాతం (ఒక దశాంశ స్థానానికి సవరించండి)?

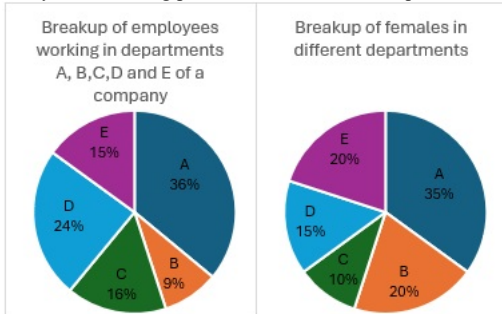
Options :

1. ✘ 50.5 %
2. ✘ 51.4 %
3. ✔ 52.3 %
4. ✘ 53.2 %

Question Number : 137 Question Id : 630680804201 Option Shuffling : Yes Is Question Mandatory : No Calculator : None Response Time : N.A Think Time : N.A Minimum Instruction Time : 0

Correct Marks : 1 Wrong Marks : 0.33

Study the following pie-charts and answer the question:



Number of employees working in department C = 560

Number of female employees working in department A = 350

If one-fourth of females working in department E and 20 % of male employees working in department B got promotion, then the total number of females in E and males in B, who got promotion in these two departments, is what percent of the total number of females working in departments C and D? (correct to one decimal place)

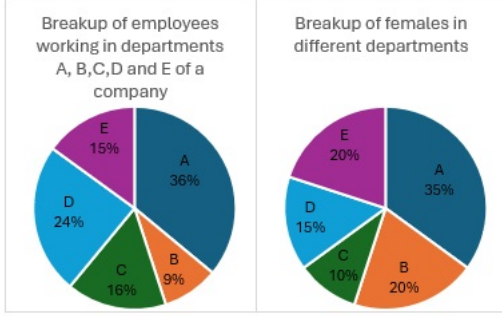
Options :

1. ✘ 24.5 %
2. ✘ 24.8 %
3. ✔ 29.2 %
4. ✘ 29.4 %

Question Number : 137 Question Id : 630680804201 Option Shuffling : Yes Is Question Mandatory : No Calculator : None Response Time : N.A Think Time : N.A Minimum Instruction Time : 0

Correct Marks : 1 Wrong Marks : 0.33

కింది పై-చార్టులను అధ్యయనం చేసి, ప్రశ్నకు సమాధానం ఇవ్వండి :



C విభాగంలో పనిచేస్తున్న ఉద్యోగుల సంఖ్య = 560

A విభాగంలో పనిచేస్తున్న మహిళా ఉద్యోగుల సంఖ్య = 350

అనువాద సూచిక: (Breakup of Employees working in Departments A,B,C,D and E of a company : సంస్థ యొక్క A,B,C,D మరియు E విభాగాలలో పనిచేస్తున్న ఉద్యోగుల విభజన, Breakup of females in different departments : వివిధ విభాగాల్లో మహిళల విభజన)

ఒకవేళ E అనే విభాగంలో పనిచేస్తున్న మహిళలలో నాలుగింట ఒక వంతు మరియు B అనే విభాగంలో పనిచేస్తున్న పురుష ఉద్యోగులలో 20% మందికి పదన్నతి లభిస్తే, ఈ రెండు విభాగాలలో పదన్నతి పొందిన E లోని మొత్తం మహిళలు మరియు B లోని పురుషుల మొత్తం సంఖ్య C మరియు D విభాగాల్లో పనిచేస్తున్న మహిళల సంఖ్యలో ఎంత శాతం? (ఒక దశాంశ స్థానానికి సవరించండి)

Options :

1. ✖ 24.5 %
2. ✖ 24.8 %
3. ✔ 29.2 %
4. ✖ 29.4 %

Question Number : 138 Question Id : 630680804200 Option Shuffling : Yes Is Question Mandatory : No Calculator : None Response Time : N.A Think Time : N.A Minimum Instruction Time : 0

Correct Marks : 1 Wrong Marks : 0.33

Study the following information and answer the question:

In a warehouse of a company, there are four types of items, namely Mobile Phones, Televisions, Computers and Washing Machines. The total number of all the items is 3600. Each of the items has two brands: A and B. One-third of the total number of items are Televisions. The ratio of the number of Computers to that of Televisions is 3:4. 40 % of the total number of televisions and computers are Mobile Phones and 35 % of the total number of Washing Machines are of brand A. Three-fifth of each of the total number of Mobile Phones as well as of the total number of Computers are of brand B. The number of Televisions of brand A is 300 less than that of Televisions of brand B.

Which of the following statements is (are) correct?

I: The ratio of the number of Washing Machines of brand B to the number of Mobile Phones of brand A is 112:143.

II: The number of Televisions of brand B is approximately 83 % of the total number of Computers.

III: The average of the number of Computers of brand A and the number of Mobile Phones of brand B is 432.

Options :

1. ✖ I and II
2. ✔ II and III
3. ✖ I and III
4. ✖ I, II and III

Question Number : 138 Question Id : 630680804200 Option Shuffling : Yes Is Question Mandatory : No Calculator : None Response Time : N.A Think Time : N.A Minimum Instruction Time : 0

Correct Marks : 1 Wrong Marks : 0.33

కింది సమాచారాన్ని అధ్యయనం చేయండి మరియు ప్రశ్నకు సమాధానం ఇవ్వండి:

ఒక కంపెనీ గోదాములో మొబైల్ ఫోన్లు, టెలివిజన్లు, కంప్యూటర్లు మరియు వాషింగ్ మెషిన్లు అనే నాలుగు రకాల వస్తువులు కలవు. మొత్తం అన్ని వస్తువుల సంఖ్య 3600. ప్రతి వస్తువుకు రెండు బ్రాండ్లు ఉన్నాయి: A మరియు B. మొత్తం వస్తువుల సంఖ్యలో మూడింట ఒక వంతు టెలివిజన్లు ఉన్నాయి. టెలివిజన్ల సంఖ్యకు కంప్యూటర్ల సంఖ్యకు గల నిష్పత్తి 3:4. మొత్తం టెలివిజన్లు మరియు కంప్యూటర్ల సంఖ్యలో 40 % మొబైల్ ఫోన్లు మరియు మొత్తం వాషింగ్ మెషిన్లలో 35 % A అనే బ్రాండ్ కి చెందినవి. మొత్తం మొబైల్ ఫోన్ల సంఖ్యలో పాటు మొత్తం కంప్యూటర్ల సంఖ్యలోనూ ఐదింట మూడు వంతులు B అనే బ్రాండ్ కు చెందినవి. A అనే బ్రాండ్ యొక్క టెలివిజన్ల సంఖ్య B అనే బ్రాండ్ యొక్క టెలివిజన్ల కంటే 300 తక్కువ.

కింది ఏ ప్రకటన(లు) సరైనది(వి) ?

I: బ్రాండ్ B యొక్క వాషింగ్ మెషిన్ల సంఖ్య మరియు బ్రాండ్ A యొక్క మొబైల్ ఫోన్ల సంఖ్యల నిష్పత్తి 112 : 143.

II: బ్రాండ్ B యొక్క టెలివిజన్ల సంఖ్య మొత్తం కంప్యూటర్ల సంఖ్యలో సుమారు 83 %.

III: బ్రాండ్ A యొక్క కంప్యూటర్ల సంఖ్య మరియు బ్రాండ్ B యొక్క మొబైల్ ఫోన్ల సంఖ్యల సగటు 432.

Options :

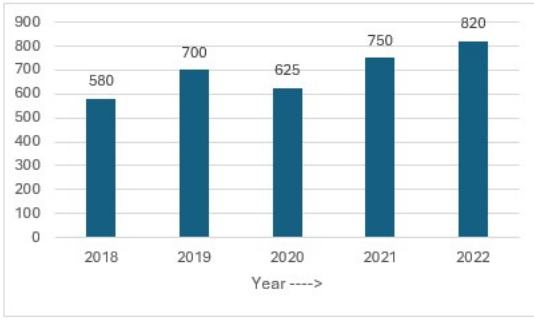
1. ✖ I మరియు II
2. ✔ II మరియు III
3. ✖ I మరియు III
4. ✖ I, II మరియు III

Question Number : 139 Question Id : 630680804203 Option Shuffling : Yes Is Question Mandatory : No Calculator : None Response Time : N.A Think Time : N.A Minimum Instruction Time : 0

Correct Marks : 1 Wrong Marks : 0.33

Study the following bar graph and answer the question:

Annual consumption of tea in a country across five years (2018 to 2022) (in lakh tonnes)



The average annual consumption of tea during 2018 and 2021 is what percent less than the total annual consumption of tea during 2019 and 2022?

Options :

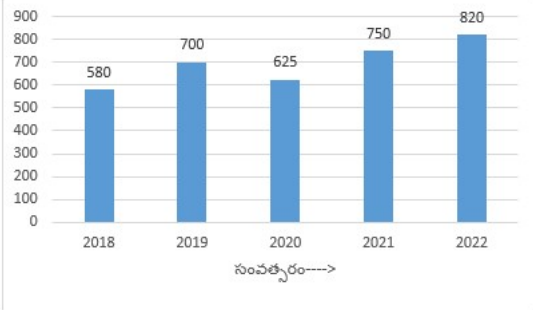
1. ✓ 56.25 %
2. ✗ 56.65 %
3. ✗ 57.5 %
4. ✗ 58.5 %

Question Number : 139 Question Id : 630680804203 Option Shuffling : Yes Is Question Mandatory : No Calculator : None Response Time : N.A Think Time : N.A Minimum Instruction Time : 0

Correct Marks : 1 Wrong Marks : 0.33

కింది బార్ గ్రాఫును అధ్యయనం చేసి ప్రశ్నకు సమాధానం ఇవ్వండి:

ఒక దేశంలో ఐదు సంవత్సరాలలో (2018 నుండి 2022 వరకు) వార్షిక టీ వినియోగం (లక్ష టన్నులలో)



2018 మరియు 2021లో సగటు వార్షిక టీ వినియోగం అనేది 2019 మరియు 2022లో టీ యొక్క మొత్తం వార్షిక వినియోగంలో ఎంత శాతం తక్కువ?

Options :

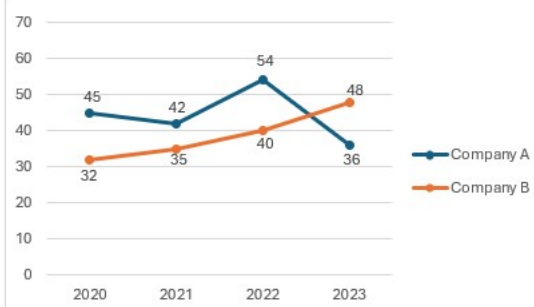
1. ✓ 56.25 %
2. ✗ 56.65 %
3. ✗ 57.5 %
4. ✗ 58.5 %

Question Number : 140 Question Id : 630680804204 Option Shuffling : Yes Is Question Mandatory : No Calculator : None Response Time : N.A Think Time : N.A Minimum Instruction Time : 0

Correct Marks : 1 Wrong Marks : 0.33

Study the following graph and answer the question:

Percent profit earned by companies A and B during 2020 to 2023



Profit = Income – Expenditure

$$\text{Profit \%} = \frac{\text{Income} - \text{Expenditure}}{\text{Expenditure}} \times 100$$

The expenditure of company B in 2021 was ₹ 430 crores and the income of company A in 2023 was ₹ 680 crores. What is the difference (in ₹ crores) between the income of B in 2021 and the expenditure of company A in 2023?

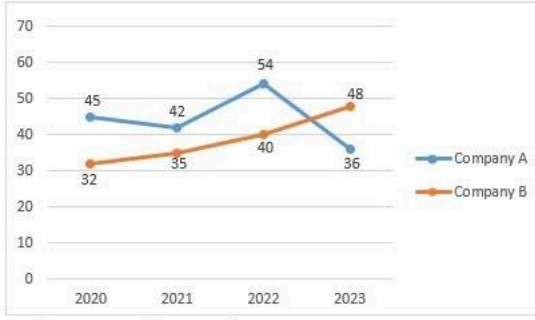
Options :

1. ✗ 78.5
2. ✓ 80.5
3. ✗ 85
4. ✗ 82

Question Number : 140 Question Id : 630680804204 Option Shuffling : Yes Is Question Mandatory : No Calculator : None Response Time : N.A Think Time : N.A Minimum Instruction Time : 0

Correct Marks : 1 Wrong Marks : 0.33

కింది గ్రాఫును అధ్యయనం చేసి ప్రశ్నకు సమాధానం ఇవ్వండి:
2020 నుండి 2023 మధ్య కాలంలో A మరియు B కంపెనీలు ఆర్జించిన లాభ శాతం



లాభం = ఆదాయం - ఖర్చు

$$\text{లాభ \%} = \frac{\text{ఆదాయం} - \text{వ్యయం}}{\text{వ్యయం}} \times 100$$

అనువాద సూచిక:

(Company A : కంపెనీ A, Company B : కంపెనీ B)

2021లో కంపెనీ B యొక్క ఖర్చు ₹ 430 కోట్లు మరియు 2023లో కంపెనీ A యొక్క ఆదాయం ₹ 680 కోట్లు. 2021లో B ఆదాయానికి మరియు 2023లో కంపెనీ A వ్యయ వ్యత్యాసం (₹ కోట్లలో) ఎంత?

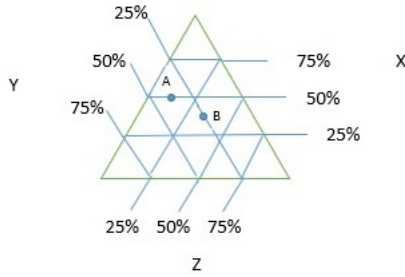
Options :

1. ✘ 78.5
2. ✔ 80.5
3. ✘ 85
4. ✘ 82

Question Number : 141 Question Id : 630680804202 Option Shuffling : Yes Is Question Mandatory : No Calculator : None Response Time : N.A Think Time : N.A Minimum Instruction Time : 0

Correct Marks : 1 Wrong Marks : 0.33

The following chart provides the information about the number of assembly seats won by political parties X, Y and Z in two different assemblies A and B in 2020. The number of seats in A is 280 and that in B is 400. Each point (A, B) represents three different values – one in each direction. A and B are the mid-points of the respective line segments. Study the chart and answer the question:



Which of the following statements is (are) correct?

I: Total number of seats won by party X in assembly A and by party Y in assembly B is 240.

II: Total number of seats won by party Z in assemblies A and B is 175.

III: The difference between the number of seats won by X in assembly B and Y in assembly A is 45.

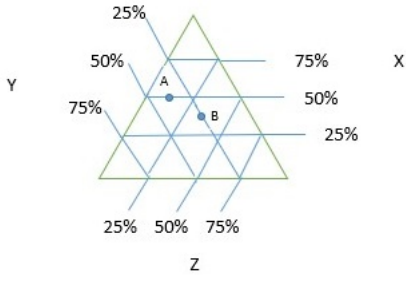
Options :

1. ✘ I only
2. ✘ I and II
3. ✘ II and III
4. ✔ I and III

Question Number : 141 Question Id : 630680804202 Option Shuffling : Yes Is Question Mandatory : No Calculator : None Response Time : N.A Think Time : N.A Minimum Instruction Time : 0

Correct Marks : 1 Wrong Marks : 0.33

క్రింది చార్టు 2020 లో, A మరియు B అనే రెండు వేర్వేరు అసెంబ్లీలలో X, Y మరియు Z అనే రాజకీయ పార్టీలు గెలుపొందిన అసెంబ్లీ సీట్ల సంఖ్యకు సంబంధించిన సమాచారాన్ని అందిస్తుంది. A లోని సీట్ల సంఖ్య 280 మరియు B లోని సీట్ల సంఖ్య 400. ఒక్కో బిందువు (A, B) మూడు వేర్వేరు విలువలను సూచిస్తుంది - ప్రతి దిశలో ఒకటి. A మరియు B అనేవి సంబంధిత రేఖాఖండం యొక్క మధ్య బిందువులు. చార్టును అధ్యయనం చేసి ప్రశ్నకు సమాధానం ఇవ్వండి:



కింది ప్రకటన(లు)లో సరైనది/వి ఏది/వి?

- I: అసెంబ్లీ Aలో X పార్టీ మరియు అసెంబ్లీ Bలో Y పార్టీలు గెలుచుకున్న మొత్తం స్థానాల సంఖ్య 240.
 II: A మరియు B అసెంబ్లీలలో Z పార్టీ గెలుచుకున్న మొత్తం స్థానాల సంఖ్య 175.
 III: అసెంబ్లీ Bలో X మరియు అసెంబ్లీ A లో Y గెలిచిన సీట్ల సంఖ్యల మధ్య గల వ్యత్యాసం 45.

Options :

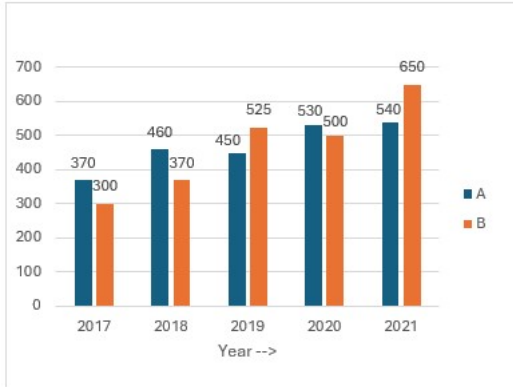
1. ✘ I మాత్రమే
2. ✘ I మరియు II
3. ✘ II మరియు III
4. ✔ I మరియు III

Question Number : 142 Question Id : 630680804206 Option Shuffling : Yes Is Question Mandatory : No Calculator : None Response Time : N.A Think Time : N.A Minimum Instruction Time : 0

Correct Marks : 1 Wrong Marks : 0.33

Study the following bar graph and answer the question.

Annual production of wheat in states A and B during 2017 to 2021 (in million tonnes)



The average annual production of wheat by state B during 2018 and 2021 is what percent more than the average annual production of wheat by state A during 2017, 2019 and 2020? (correct to one decimal place)

Options :

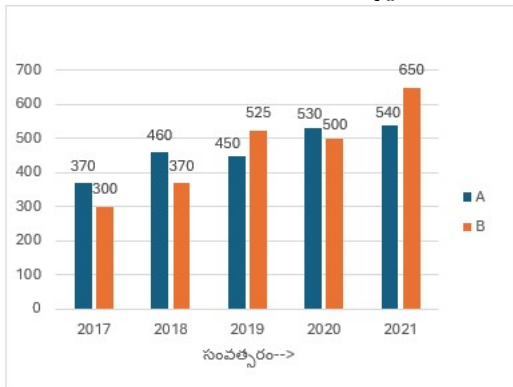
1. ✘ 11.8 %
2. ✔ 13.3 %
3. ✘ 12.5 %
4. ✘ 14.4 %

Question Number : 142 Question Id : 630680804206 Option Shuffling : Yes Is Question Mandatory : No Calculator : None Response Time : N.A Think Time : N.A Minimum Instruction Time : 0

Correct Marks : 1 Wrong Marks : 0.33

కింది బార్ గ్రాఫ్ను అధ్యయనం చేసి ప్రశ్నకు సమాధానం ఇవ్వండి.

2017 నుండి 2021 వరకు A మరియు B రాష్ట్రాలలో గోధుమల వార్షిక ఉత్పాదన (మిలియన్ టన్నులలో)



2018 మరియు 2021 లలో రాష్ట్రం B యొక్క సగటు వార్షిక గోధుమల ఉత్పాదన అనేది 2017, 2019 మరియు 2020లో రాష్ట్రం A యొక్క సగటు వార్షిక గోధుమల ఉత్పాదన కంటే ఎంత శాతం ఎక్కువ? (ఒక దశాంశ స్థానానికి సవరించండి)

Options :

1. ✘ 11.8 %

2. ✓ 13.3 %
 3. ✘ 12.5 %
 4. ✘ 14.4 %

Question Number : 143 Question Id : 630680804208 Option Shuffling : Yes Is Question Mandatory : No Calculator : None Response Time : N.A Think Time : N.A Minimum Instruction Time : 0

Correct Marks : 1 Wrong Marks : 0.33

Study the following table:

Revenue (R) and expenditure (E) of companies A and B during 2019 to 2022 (in ₹ crores)

Company \ Year	A		B	
	R	E	R	E
2019	320	240	250	200
2020	350	225	340	280
2021	400	275	350	300
2022	450	300	420	340

Which of the following statements is (are) correct?

- The total revenue of both companies in 2021 is ₹ 70 crores less than the total expenditure of company B in 2019, 2020 and 2022.
- The revenue of company A increased by 33.75 % in 2022 as compared to that in 2019.
- The difference between the revenue of company B in 2022 and the average expenditure of company A in 2020 and 2021 is ₹ 170 crores.

Options :

- ✘ I only
- ✘ II and III
- ✓ I and III
- ✘ I, II and III

Question Number : 143 Question Id : 630680804208 Option Shuffling : Yes Is Question Mandatory : No Calculator : None Response Time : N.A Think Time : N.A Minimum Instruction Time : 0

Correct Marks : 1 Wrong Marks : 0.33

కింది పట్టికను అధ్యయనం చేయండి:

2019 నుండి 2022 వరకు A మరియు B కంపెనీల యొక్క రాబడి (R) మరియు వ్యయం (E) (₹ కోట్లలో)

Company \ Year	A		B	
	R	E	R	E
2019	320	240	250	200
2020	350	225	340	280
2021	400	275	350	300
2022	450	300	420	340

అనువాద సూచిక:(Company : కంపెనీ, Year : సంవత్సరం)

కింది వాటిలో ఏది/వి సరైనది/వి?

- 2021లో రెండు కంపెనీల మొత్తం రాబడి అనేది 2019, 2020 మరియు 2022లో కంపెనీ B యొక్క మొత్తం వ్యయం కంటే ₹ 70 కోట్లు తక్కువగా ఉంది.
- A కంపెనీ యొక్క రాబడి 2019లో పోలిస్తే 2022లో 33.75% పెరిగింది.
- 2022లో కంపెనీ B యొక్క రాబడికి మరియు 2020 మరియు 2021లో కంపెనీ A యొక్క సగటు వ్యయాల మధ్య గల వ్యత్యాసం ₹ 170 కోట్లు.

Options :

- ✘ I మాత్రమే
- ✘ II మరియు III
- ✓ I మరియు III
- ✘ I, II మరియు III

Question Number : 144 Question Id : 630680804207 Option Shuffling : Yes Is Question Mandatory : No Calculator : None Response Time : N.A Think Time : N.A Minimum Instruction Time : 0

Correct Marks : 1 Wrong Marks : 0.33

The table below shows the production of wheat, rice, and millets from 2018 to 2022 (in lakh tonnes)

Year	Wheat	Rice	Millets
2018	160	200	240
2019	260	240	180
2020	350	280	260
2021	380	290	210
2022	440	260	250

Based on the information given in the above table, match the items in column A and column B.

Column A	Column B
(a) In which year was the production of rice 20 % less than the production of wheat?	(e) 2018
(b) In which year was the production of millets 25 % less than the production of rice?	(f) 2019
(c) In which year was the production of millets 50 % more than the production of wheat?	(g) 2022
(d) In which year was the average production of wheat and rice 140 % the production of millets?	(h) 2020

Options :

- ✘ (a) → (h), (b) → (f), (c) → (g), (d) → (e)
- ✘ (a) → (f), (b) → (h), (c) → (e), (d) → (g)
- ✘ (a) → (f), (b) → (h), (c) → (g), (d) → (e)
- ✔ (a) → (h), (b) → (f), (c) → (e), (d) → (g)

Question Number : 144 Question Id : 630680804207 Option Shuffling : Yes Is Question Mandatory : No Calculator : None Response Time : N.A Think Time : N.A Minimum Instruction Time : 0

Correct Marks : 1 Wrong Marks : 0.33

దిగువ పట్టిక 2018 నుండి 2022 వరకు (లక్ష టన్నులలో) గోధుమలు, బియ్యం మరియు చిరుధాన్యాల ఉత్పత్తిని చూపుతుంది

సంవత్సరం	గోధుమలు	వరి	చిరుధాన్యాలు
2018	160	200	240
2019	260	240	180
2020	350	280	260
2021	380	290	210
2022	440	260	250

పై పట్టికలో ఇవ్వబడిన సమాచారం ఆధారంగా, వరుస A మరియు వరుస B లోని అంశాలను జతపరచండి.

వరుస A	వరుస B
(a) ఏ సంవత్సరంలో వరి ఉత్పత్తి గోధుమ ఉత్పత్తి కంటే 20% తక్కువగా ఉంది?	(e) 2018
(b) వరి ఉత్పత్తి కంటే 25% చిరుధాన్యాల ఉత్పత్తి ఏ సంవత్సరంలో తక్కువగా ఉంది?	(f) 2019
(c) గోధుమ ఉత్పత్తి కంటే 50% చిరుధాన్యాల ఉత్పత్తి ఏ సంవత్సరంలో ఉంది?	(g) 2022
(d) ఏ సంవత్సరంలో గోధుమ మరియు వరిల సగటు ఉత్పత్తి చిరుధాన్యాల ఉత్పత్తికి 140% ఉంది?	(h) 2020

Options :

- ✘ (a) → (h), (b) → (f), (c) → (g), (d) → (e)
- ✘ (a) → (f), (b) → (h), (c) → (e), (d) → (g)
- ✘ (a) → (f), (b) → (h), (c) → (g), (d) → (e)
- ✔ (a) → (h), (b) → (f), (c) → (e), (d) → (g)

Question Number : 145 Question Id : 630680804213 Option Shuffling : Yes Is Question Mandatory : No Calculator : None Response Time : N.A Think Time : N.A Minimum Instruction Time : 0

Correct Marks : 1 Wrong Marks : 0.33

The following questions consists of two statements, namely, Assertion (A) and Reason (R). For selecting the correct answer, use the following:

- Both A and R are true and R is a correct explanation of A.
- Both A and R are true but R is not a correct explanation of A.
- A is true and R is false.
- A is false and R is true

Assertion (A)					Reason (R)
The median of the distribution is 23.5					Median = $l + \left(\frac{\frac{n}{2} - cf}{f}\right) \times h$, where l, n etc., have usual meaning.
Class	0-10	10-20	20-30	30-40	
Frequency	12	28	32	28	

Options :

- a
- b
- c
- d

Question Number : 145 Question Id : 630680804213 Option Shuffling : Yes Is Question Mandatory : No Calculator : None Response Time : N.A Think Time : N.A Minimum Instruction Time : 0

Correct Marks : 1 Wrong Marks : 0.33

కింది ప్రశ్నలలో నిశ్చిత వాక్యం (A) మరియు కారణం (R) అనే రెండు ప్రకటనలు ఉంటాయి. సరైన సమాధానాన్ని ఎంచుకోవడానికి, కింది వాటిని ఉపయోగించండి:

- A మరియు R రెండూ నిజం మరియు R అనేది A కి సరైన వివరణ.
- A మరియు R రెండూ నిజమే కానీ R అనేది A కి సరైన వివరణ కాదు.
- A అనేది నిజం మరియు R అనేది తప్పు.
- A అనేది తప్పు మరియు R అనేది నిజం.

నిశ్చిత వాక్యం (A)					కారణం (R)
విభాజని యొక్క మధ్యగతం: 23.5					మధ్యగతం = $l + \left(\frac{\frac{n}{2} - cf}{f}\right) \times h$, ఇక్కడ l, n మొదలైనవి సాధారణ అర్థాన్ని కలిగి ఉంటాయి.
తరగతి	0-10	10-20	20-30	30-40	
పౌనఃపున్యం	12	28	32	28	

Options :

- a
- b
- c
- d

Question Number : 146 Question Id : 630680804210 Option Shuffling : Yes Is Question Mandatory : No Calculator : None Response Time : N.A Think Time : N.A Minimum Instruction Time : 0

Correct Marks : 1 Wrong Marks : 0.33

The following questions consists of two statements, namely, Assertion (A) and Reason (R). For selecting the correct answer, use the following:

- Both A and R are true and R is a correct explanation of A.
- Both A and R are true but R is not a correct explanation of A.
- A is true and R is false.
- A is false and R is true

Assertion (A)	Reason (R)
The harmonic mean (HM) OF 10,20,40,80 and 100 is 25.3 (approximate)	For observations x_i , $HM = \frac{n}{\sum \frac{1}{x_i}}$, $i=1,2,\dots,n$

Options :

- a
- b
- c
- d

Question Number : 146 Question Id : 630680804210 Option Shuffling : Yes Is Question Mandatory : No Calculator : None Response Time : N.A Think Time : N.A Minimum Instruction Time : 0

Correct Marks : 1 Wrong Marks : 0.33

కింది ప్రశ్నలలో నిశ్చిత వాక్యం (A) మరియు కారణం (R) అనే రెండు ప్రకటనలు ఉంటాయి. సరైన సమాధానాన్ని ఎంచుకోవడానికి, కింది వాటిని ఉపయోగించండి:

- (a) A మరియు R రెండూ నిజం మరియు R అనేది Aకి సరైన వివరణ.
- (b) A మరియు R రెండూ నిజమే కానీ R అనేది Aకి సరైన వివరణ కాదు.
- (c) A అనేది నిజం మరియు R అనేది తప్పు.
- (d) A తప్పు మరియు R నిజం.

నిశ్చిత వాక్యం (A)	కారణం (R)
10,20,40,80 మరియు 100 యొక్క హరాత్మక మధ్యమం (HM) 25.3 (సుమారు)	పరిశీలనల కోసం x_i , $HM = \frac{n}{\sum_{i=1}^n \frac{1}{x_i}}$ $i=1,2,\dots,n$

Options :

1. ✓ a
2. ✗ b
3. ✗ c
4. ✗ d

Question Number : 147 Question Id : 630680804211 Option Shuffling : Yes Is Question Mandatory : No Calculator : None Response Time : N.A Think Time : N.A Minimum Instruction Time : 0

Correct Marks : 1 Wrong Marks : 0.33

The variance of $7x_i-11$, $i=1, 2, \dots, n$, is 42, then what is the variance of $3x_i$'s?

Options :

1. ✗ $\frac{18}{7}$
2. ✗ 9
3. ✓ $\frac{54}{7}$
4. ✗ 7

Question Number : 147 Question Id : 630680804211 Option Shuffling : Yes Is Question Mandatory : No Calculator : None Response Time : N.A Think Time : N.A Minimum Instruction Time : 0

Correct Marks : 1 Wrong Marks : 0.33

$7x_i-11$, $i=1, 2, \dots, n$, యొక్క విస్తృతి (variance) 42, అప్పుడు $3x_i$ యొక్క విస్తృతి (variance) ఎంత?

Options :

1. ✗ $\frac{18}{7}$
2. ✗ 9
3. ✓ $\frac{54}{7}$
4. ✗ 7

Question Number : 148 Question Id : 630680804212 Option Shuffling : Yes Is Question Mandatory : No Calculator : None Response Time : N.A Think Time : N.A Minimum Instruction Time : 0

Correct Marks : 1 Wrong Marks : 0.33

What is the value of k, if the mean of the distribution below is 16?

Class	11-13	13-15	15-17	17-19	19-21
Frequency	5	K	8	6	7

Options :

1. ✗ 9
2. ✓ 10
3. ✗ 11

4. ✖ 12

Question Number : 148 Question Id : 630680804212 Option Shuffling : Yes Is Question Mandatory : No Calculator : None Response Time : N.A Think Time : N.A Minimum Instruction Time : 0

Correct Marks : 1 Wrong Marks : 0.33

దిగువ విభాజని యొక్క సగటు 16 అయితే, k విలువ ఎంత?

తరగతి	11-13	13-15	15-17	17-19	19-21
పౌనః పుణ్యం	5	K	8	6	7

Options :

1. ✖ 9

2. ✔ 10

3. ✖ 11

4. ✖ 12

Question Number : 149 Question Id : 630680804209 Option Shuffling : Yes Is Question Mandatory : No Calculator : None Response Time : N.A Think Time : N.A Minimum Instruction Time : 0

Correct Marks : 1 Wrong Marks : 0.33

The following questions consists of two statements, namely, Assertion (A) and Reason (R). For selecting the correct answer, use the following:

(a) Both A and R are true and R is a correct explanation of A.

(b) Both A and R are true but R is not a correct explanation of A.

(c) A is true and R is false.

(d) A is false and R is true

Assertion (A)	Reason (R)
The standard deviation (SD) of 7,6,10,11,13,9,14 is close to 2.7.	SD for $x_i, i=1, 2, \dots, n$, is given by $\sqrt{\sum \frac{x_i^2}{n} - \frac{\bar{x}^2}{n}}$, where \bar{x} is the mean.

Options :

1. ✖ a

2. ✖ b

3. ✔ c

4. ✖ d

Question Number : 149 Question Id : 630680804209 Option Shuffling : Yes Is Question Mandatory : No Calculator : None Response Time : N.A Think Time : N.A Minimum Instruction Time : 0

Correct Marks : 1 Wrong Marks : 0.33

కింది ప్రశ్నలలో నిశ్చిత వాక్యం (A) మరియు కారణం (R) అనే రెండు ప్రకటనలు ఉంటాయి. సరైన సమాధానాన్ని ఎంచుకోవడానికి, కింది వాటిని ఉపయోగించండి:

(a) A మరియు R రెండూ నిజం మరియు R అనేది A కి సరైన వివరణ.

(b) A మరియు R రెండూ నిజమే కానీ R అనేది A కి సరైన వివరణ కాదు.

(c) A అనేది నిజం మరియు R అనేది తప్పు.

(d) A అనేది తప్పు మరియు R అనేది నిజం.

నిశ్చిత వాక్యం(A)	కారణం (R)
7,6,10,11,13,9,14 యొక్క ప్రామాణిక విచలనం (SD) 2.7 కి సమీపంగా ఉంటుంది.	x_i యొక్క SD, $i=1, 2, \dots, n$, $\sqrt{\sum \frac{x_i^2}{n} - \frac{\bar{x}^2}{n}}$ ద్వారా ఇవ్వబడింది, ఇక్కడ \bar{x} అనేది సగటు.

Options :

1. ✖ a

2. ✖ b

3. ✔ c

4. ✖ d

Question Number : 150 Question Id : 630680804214 Option Shuffling : Yes Is Question Mandatory : No Calculator : None Response Time : N.A Think Time : N.A Minimum Instruction Time : 0

Correct Marks : 1 Wrong Marks : 0.33

The number of members of groups A, B and C are 25, 35 and 20, respectively. All the members of the groups went to a restaurant. The average amount spent on each member of the groups A, B and C are ₹ 80, ₹ 72 and ₹ 90, respectively. What is the average amount (in ₹) they spent per person?

Options :

1. ✘ 78
2. ✔ 79
3. ✘ 80
4. ✘ 81

Question Number : 150 Question Id : 630680804214 Option Shuffling : Yes Is Question Mandatory : No Calculator : None Response Time : N.A Think Time : N.A Minimum Instruction Time : 0

Correct Marks : 1 Wrong Marks : 0.33

A, B మరియు C సమూహాల సభ్యుల సంఖ్యలు వరుసగా 25, 35 మరియు 20 కలవు. సమూహంలోని సభ్యులంతా ఓ రెస్టారెంట్‌కి వెళ్లారు. A, B మరియు C సమూహాల్లోని ప్రతి సభ్యునిపై ఖర్చు చేసిన సగటు మొత్తం వరుసగా ₹ 80, ₹ 72 మరియు ₹ 90 కలవు. వారు ఒక వ్యక్తికి ఖర్చు చేసిన సగటు మొత్తం (₹లో) ఎంత?

Options :

1. ✘ 78
2. ✔ 79
3. ✘ 80
4. ✘ 81