



1. The word 'beleaguered' means
 (A) Belittled
 (B) Benefitted
 (C) Troubled
 (D) Irritated
2. Find the appropriate synonym of the word 'Indefatigable'.
 (A) Tireless
 (B) Indomitable
 (C) Unhappy
 (D) Incompatible
3. The detective suddenly _____ a useful clue. Fill in with the right phrasal verb.
 (A) gave in
 (B) came across
 (C) fill up
 (D) fell down
4. The tranquillity and sanctity of the place soothed us. Replace the underlined word with a suitable word.
 (A) Security
 (B) Holiness
 (C) Equanimity
 (D) Placidity
5. Correct the following sentence and choose the right answer: We had gone to the movies last night.
 (A) We had had gone to the movies last night.
 (B) We went to the movies last night.
 (C) We should have gone to the movies last night.
 (D) We have gone to the movies last night.
6. Select the right answer: My watch is five minutes _____.
 (A) slow
 (B) lately
 (C) past
 (D) late

7. Fill in with suitable conjunction: He advanced _____ he could.
 (A) until
 (B) while
 (C) as far as
 (D) as
8. Select the correct answer to fill in the blank: I am sure I _____ him before.
 (A) have met
 (B) met
 (C) had met
 (D) will meet
9. Fill in with the right option: I _____ him for a long time.
 (A) have known
 (B) knew
 (C) had known
 (D) should have known
10. Which is the correct form of the given sentence: They discussed about the matter.
 (A) They had discussed about the matter.
 (B) They should have discussed about the matter.
 (C) They discussed the matter.
 (D) The given sentence is correct.
11. Change the voice of the verb and select the correct answer: 'The script is being written.'
 (A) The script will have to be written.
 (B) Write the script.
 (C) They are writing the script.
 (D) They have been writing the script.
12. The idiomatic expression 'see eye to eye' means
 (A) agree with someone.
 (B) to remain neutral.
 (C) to take over (something).
 (D) to enjoy the best of both.
13. Ornithology is the study of
 (A) Fish
 (B) Coins
 (C) Relics
 (D) Birds

14. Ram made the most _____ his resources.

Choose the correct preposition.

(A) at

(B) of

(C) from

(D) with

15. The word necrophilia means

(A) Love for insects

(B) Love for children

(C) Cultivation of knowledge

(D) Fascination with dead bodies

16. Convert the given sentence into an interrogative sentence: I will meet you at the train station.

(A) When will you meet me?

(B) How will you meet me?

(C) Where will you meet me?

(D) Can't you meet me?

17. She wanted to go on vacation, so she saved money. Convert this to a simple sentence.

(A) As she wanted to go on vacation she saved money.

(B) She saved money for vacation.

(C) She wanted to go on vacation and saved her money.

(D) Although she saved her money, she wanted to go on vacation.

18. Convert the given sentence into a simple sentence:

Pancakes are delicious but not without syrup.

(A) Pancakes are delicious when served with syrup.

(B) Pancakes are delicious only with syrup.

(C) If served with syrup, pancakes are delicious.

(D) None of the above

19. Add a suitable prefix to form the opposite of the word 'Balance'.

(A) Nonbalance

(B) Unbalance

(C) Disbalance

(D) Imbalance

20. Fill in with the appropriate word:

The jury _____ divided in their opinion.

(A) were

(B) was

(C) have been

(D) have

21. Fill in the blank with the suitable option:
Let's meet _____ next week.

(A) sometimes

(B) sometime

(C) some time

(D) some times

22. Choose the right option to rewrite the sentence:

No sooner _____ the sun risen than the fog disappeared.

(A) did

(B) has

(C) had

(D) was

23. He says he has invented a time machine, which is clearly a load of cobblers.

(A) Genuine

(B) Great

(C) Nonsense

(D) Significant

24. He entered the hall in the _____ part of the show. Which is the right answer?

(A) Latter

(B) Later

(C) Late

(D) Lately

25. He preferred classical music _____ popular numbers. Choose the correct preposition.

(A) from

(B) of

(C) over

(D) to

Please Turn Over

26. পূর্ব কলকাতা জলাভূমিকে ঘোষণা করা হয়েছে
 (A) জৈববৈচিত্র্যযুক্ত স্থান হিসেবে
 (B) পর্যটন কেন্দ্র হিসেবে
 (C) বিশ্ব হেরিটেজ স্থান হিসেবে
 (D) রামসার স্থান হিসেবে
27. ভারতের উচ্চ গাঙ্গেয় সমভূমির ভূর হল একপ্রকার
 (A) বায়ুপ্রবাহ দ্বারা সঞ্চিত বালির তরঙ্গায়িত ভূমি
 (B) পুরাতন পলি
 (C) নতুন পলি
 (D) কর্দমাক্ত অঞ্চল
28. পশ্চিমবঙ্গ ভূমিসংস্কার আইন বলবৎ হয়
 (A) 1956 সালে
 (B) 1958 সালে
 (C) 1955 সালে
 (D) 1959 সালে
29. ভারতের Central Inland Water Transport Corporation-এর সদর দপ্তরটি অবস্থিত
 (A) এলাহাবাদে
 (B) কলকাতায়
 (C) কোচিনে
 (D) মুম্বাই-এ
30. কোলকাতায় মেট্রোরেল চালু হয়
 (A) 1984 খ্রি:
 (B) 1986 খ্রি:
 (C) 1988 খ্রি:
 (D) 1989 খ্রি:
31. ভারতের কয়লা সঞ্চয়ের প্রায় 80% অবস্থান করছে
 (A) দামোদর উপত্যকায়
 (B) শোন উপত্যকায়
 (C) মহানদী উপত্যকায়
 (D) গোদাবরী উপত্যকায়
32. তেলঙ্গানা একটি পূর্ণরাজ্য হিসাবে আনুপ্রকাশ করে
 (A) 1লা জুন, 2013
 (B) 1লা জুন, 2014
 (C) 1লা জুন, 2015
 (D) 1লা জুন, 2016
33. ধনেখালি কী জন্য বিখ্যাত?
 (A) তাঁত শিল্পের জন্য
 (B) কাগজ শিল্পের জন্য
 (C) পাট শিল্পের জন্য
 (D) চর্ম শিল্পের জন্য
34. তিস্তা নদীর পশ্চিম ভাগ যে নামে পরিচিত —
 (A) তরাই
 (B) ডুয়ার্স
 (C) তাল
 (D) দিয়ারা
35. সুন্দরবনকে নিম্নলিখিত বৈশিষ্ট্যের জন্য 'World Heritage Site' নামে নথিভুক্ত করা হয়েছে
 (A) বাঘ সংরক্ষণের জন্য
 (B) সুন্দরী গাছের জন্য
 (C) ম্যানগ্রোভ বনভূমির জন্য
 (D) জীববৈচিত্র্যের জন্য

36. জলপাইগুড়ি শহর কোন্ নদীর তীরে অবস্থিত ?
 (A) তিস্তা ও করলা নদী
 (B) তিস্তা ও জলঢাকা নদী
 (C) জলঢাকা ও রায়ঢাক নদী
 (D) তিস্তা ও রায়ঢাক নদী
37. রাম্মাম জলবিদ্যুৎ প্রকল্পটি কোথায় অবস্থিত ?
 (A) পূর্বলিয়া
 (B) বাঁকুড়া
 (C) জলপাইগুড়ি
 (D) দার্জিলিং
38. নিম্নলিখিত কোন্ জোড়াটি সঠিক নয় ?
 (A) ভিতর কণিকা : অলিভ রিডলে কচ্ছপ
 (B) দলমা পাহাড় : বন্য হাতি
 (C) কাজিরাসা : একশৃঙ্গ গণ্ডার
 (D) মচিগাম : এশীয় সিংহ
39. পশ্চিমবঙ্গের কোথা থেকে কোথায় প্রথম রেলপথ চালু হয় ?
 (A) হাওড়া থেকে বর্ধমান
 (B) হাওড়া থেকে রানীগঞ্জ
 (C) হাওড়া থেকে বর্ধমান
 (D) শিয়ালদহ থেকে নৈহাটি
40. নিম্নলিখিত কোন্ রাজ্যের মধ্য দিয়ে কর্কটক্রান্তি রেখা অতিক্রম করেনি ?
 (A) মিজোরাম
 (B) ত্রিপুরা
 (C) ওড়িশা
 (D) মধ্যপ্রদেশ
41. শোলা অরণ্য দেখা যায়
 (A) হিমালয় পর্বতে
 (B) পশ্চিমঘাট পর্বতে
 (C) বিছা পর্বতে
 (D) পূর্বঘাট পর্বতে
42. কোলেরু হ্রদ কোথায় অবস্থিত ?
 (A) গোদাবরী ও কাবেরীর মধ্যে
 (B) গোদাবরী ও কৃষ্ণার মধ্যে
 (C) কৃষ্ণা ও কাবেরীর মধ্যে
 (D) মহানদী ও গোদাবরীর মধ্যে
43. জনসংখ্যার লভ্যাংশ বলতে কী বোঝায় ?
 (A) 0-5 বছর বয়সের মানুষের সংখ্যা বৃদ্ধি
 (B) 6-15 বছর বয়সের মানুষের সংখ্যা বৃদ্ধি
 (C) 16-64 বছর বয়সের মানুষের সংখ্যা বৃদ্ধি
 (D) 65 বছরের অধিকবয়সের মানুষের সংখ্যা বৃদ্ধি
44. স্বাধীনতা লাভের সময় পশ্চিমবঙ্গে নীচের কোন্ জেলাটি ছিল না ?
 (A) কোচবিহার
 (B) হাওড়া
 (C) দার্জিলিং
 (D) মুর্শিদাবাদ
45. পশ্চিমবঙ্গে শিক্ষার হার
 (A) 82-67%
 (B) 74-04%
 (C) 77-08%
 (D) 71-16%

Please Turn Over

46. নিম্নলিখিত রাজ্যগুলির মধ্যে পশ্চিমবঙ্গের সঙ্গে সর্বাধিক দৈর্ঘ্যের সীমান্ত আছে

- (A) কাড়খণ্ডের
- (B) বিহারের
- (C) ওড়িশার
- (D) আসামের

47. লাক্ষা দ্বীপপুঞ্জ হল

- (A) প্রবাল দ্বীপপুঞ্জ
- (B) আগ্নেয় দ্বীপপুঞ্জ
- (C) টেকটনিক দ্বীপপুঞ্জ
- (D) পলিগঠিত দ্বীপপুঞ্জ

48. নিম্নলিখিত কোন্ ধরনের বনভূমি ভারতে সর্বাধিক দেখা যায়?

- (A) ক্রান্তীয় আর্দ্র চিরহরিৎ বনভূমি
- (B) ক্রান্তীয় আর্দ্র পর্ণমোচী বনভূমি
- (C) পার্বত্য অঞ্চলে আর্দ্র নাতিশীতোষ্ণ বনভূমি
- (D) ক্রান্তীয় শুষ্ক পর্ণমোচী বনভূমি

49. মানস সরোবর অবস্থিত

- (A) কারাকোরাম পর্বতশ্রেণিতে
- (B) পীরপাঞ্জাল পর্বতশ্রেণিতে
- (C) কৈলাস পর্বতশ্রেণিতে
- (D) মহাভারত পর্বতশ্রেণিতে

50. শিলং শহর অবস্থিত

- (A) নাগা পর্বতে
- (B) গারো পর্বতে
- (C) খাসি পর্বতে
- (D) মিকির পর্বতে

51. 'ঘড়ির কাঁটা যখন মধ্যরাত হোবে, যখন গোটা পৃথিবী ঘুমন্ত, ভারতবর্ষ সেই সময়ে জীবন ও স্বাধীনতার স্পর্শে জেগে উঠবে,'— এই মন্তব্য করেন

- (A) লর্ড মাউন্টব্যাটেন
- (B) ডঃ রাজেন্দ্রপ্রসাদ
- (C) জহরলাল নেহরু
- (D) উপরের কেউই নন

52. ভারতীয় জাতীয় কংগ্রেস ভারতীয়দের এক আণুবীক্ষণিক সংখ্যালঘিষ্ঠ অংশের প্রতিনিধিত্ব করে। এই বক্তব্য কে পোষণ করতেন?

- (A) লর্ড কার্জন
- (B) লর্ড এলগিন
- (C) লর্ড ল্যান্ডাউন
- (D) লর্ড ডাফরিন

53. 'পাকিস্তান' প্রস্তাবটির জনক কে?

- (A) আসফ আলি
- (B) মহম্মদ আলি জিন্না
- (C) এইচ. এস. সুহরাওয়ার্দি
- (D) চৌধুরী রহমত আলি

54. ক্রিপ্সু মিশন প্রস্তাব একটি 'ফেল করা ব্যাকের ওপর আগামীদিনের চেক-এর মতো'— এই উক্তি কার?

- (A) সর্দার বম্ভভাই প্যাটেল
- (B) মহাত্মা গান্ধী
- (C) সুভাষ চন্দ্র বোস
- (D) জহরলাল নেহরু

55. জালিয়ানওয়ালাবাগ হত্যাকাণ্ড হয়

- (A) অমৃতসর-এ
- (B) দিল্লী-তে
- (C) জলন্ধর-এ
- (D) লাহোর-এ

Please Turn Over

56. নিম্নে উল্লিখিত কোন্ প্রশাসক বঙ্গভঙ্গ রদ করেন ?
- (A) লর্ড হার্ডিঞ্জ
(B) লর্ড মিল্টো
(C) লর্ড কার্জন
(D) লর্ড চেমসফোর্ড
57. কনিটকের যুদ্ধ হয়েছিল
- (A) ফরাসী ইস্ট ইন্ডিয়া কোং ও ইংরেজ ইস্ট ইন্ডিয়া কোং-এর মধ্যে
(B) ফরাসী ইস্ট ইন্ডিয়া কোং ও ডাচ ইস্ট ইন্ডিয়া কোং-এর মধ্যে
(C) ডাচ ইস্ট ইন্ডিয়া কোং ও পর্তুগীজ-দের মধ্যে
(D) ইংলিশ ইস্ট ইন্ডিয়া কোং ও ডাচ (ওলন্দাজ)-দের মধ্যে
58. মহাশ্মা গান্ধীর নেতৃত্বে প্রথম গণআন্দোলনটি ছিল
- (A) অসহযোগ আন্দোলন
(B) ভারত-ছাড় আন্দোলন
(C) নীল বিদ্রোহ
(D) লবণ আন্দোলন
59. ভারতের স্বাধীনতা আন্দোলনের কোন্ ঘটনার সঙ্গে সূর্য সেন জড়িত ছিলেন ?
- (A) চট্টগ্রাম অস্ত্রাগার লুণ্ঠন
(B) কাকোরী ষড়যন্ত্র মামলা
(C) আইন অমান্য আন্দোলন
(D) হোমরুল আন্দোলন
60. 1857-র মহাবিদ্রোহে কানপুরে সিপাহীদের নেতৃত্ব দেন
- (A) তাঁতিয়া টোপি
(B) রানী লক্ষ্মীবাই
(C) নানাসাহেব
(D) কুণ্ডয়ার সিং
61. 'এশিয়াটিক সোসাইটি অফ বেঙ্গল' প্রতিষ্ঠা করেন
- (A) সি. এফ. এ্যাড্জুজ
(B) রাজা রামমোহন রায়
(C) স্যার উইলিয়াম জেন্স
(D) উইলিয়াম মার্শাল
62. ভারত ও পাকিস্তান রাষ্ট্রের সীমান্ত চিহ্নিত করার দায়িত্ব নেন
- (A) লর্ড মাউন্টব্যাটেন
(B) স্যার সিরিল র্যাডক্রিফ
(C) স্যার স্ট্যাফোর্ড ক্রীপস
(D) স্যার পেথিক লরেন্স
63. স্বরাজ পার্টির প্রধান নেতারা ছিলেন
- (A) বিঠঠলভাই জে. প্যাটেল ও ডঃ আনসারি
(B) এম. এন. রায় ও মুজফ্ফর আহমেদ
(C) মতিলাল নেহরু ও সি. আর. দাশ
(D) বি. আর. আম্বেদকর ও পি. সি. যোশী
64. নিম্নে লিখিত কোন্ মহিলা ভারতীয় জাতীয় কংগ্রেসের প্রথম মহিলা সভাপতি হন ?
- (A) অ্যানি বেসান্ত
(B) মীরা বেন
(C) সরোজিনী নাইডু
(D) সরলা দেবী চৌধুরানী
65. ভারতীয় জাতীয় কংগ্রেসের প্রতিষ্ঠাতা ছিলেন
- (A) এ. ও. হিউম
(B) বাল গঙ্গাধর তিলক
(C) মতিলাল নেহরু
(D) সুরেন্দ্র নাথ ব্যানার্জী

66. বঙ্গারের বুদ্ধ ঘটে
 (A) 1762 খ্রিস্টাব্দে
 (B) 1764 খ্রিস্টাব্দে
 (C) 1768 খ্রিস্টাব্দে
 (D) 1772 খ্রিস্টাব্দে
67. কার অনুমতিক্রমে ইংরেজ ইস্ট ইন্ডিয়া কোম্পানী সুরাটে প্রথম কারখানা স্থাপন করে?
 (A) আকবর
 (B) জাহাঙ্গীর
 (C) শাহজাহান
 (D) ঔরঞ্জিব
68. ডাঙ্গো-দা-গামা কবে ভারতে পদার্পণ করেন?
 (A) 1498 খ্রিস্টাব্দে
 (B) 1409 খ্রিস্টাব্দে
 (C) 1496 খ্রিস্টাব্দে
 (D) 1492 খ্রিস্টাব্দে
69. ফতেপুর সিক্রীতে ইবাদতখানা-র নির্মাতা ছিলেন
 (A) শাহজাহান
 (B) ঔরঞ্জিব
 (C) আকবর
 (D) জাহাঙ্গীর
70. মালিক কাফুর কার সেনাপতি ছিলেন?
 (A) ফিরোজশাহ তুঘলক
 (B) চন্দ্রগুপ্ত মৌর্য
 (C) বিষ্ণুসার
 (D) আলাউদ্দীন খিলজী
71. গৌতম বুদ্ধ কোথায় নির্বাণলাভ করেন?
 (A) লুম্বিনী
 (B) সারণাথ
 (C) কুশীনগর
 (D) বোধগয়া
72. 'মৃচ্ছকটিকম্' নাটকটির রচয়িতা ছিলেন
 (A) বিশাখদত্ত
 (B) শূদ্রক
 (C) বানভট্ট
 (D) ভাস
73. গুপ্ত বংশের উত্তরাধিকারী হিসাবে সমুদ্রগুপ্তের পরবর্তী শাসক হন
 (A) দ্বিতীয় চন্দ্রগুপ্ত
 (B) বিষ্ণুগুপ্ত
 (C) প্রথম চন্দ্রগুপ্ত
 (D) স্কন্দগুপ্ত
74. অশোকের লিপি ও ব্রাহ্মী লিপির পাঠোদ্ধার করেন
 (A) আলেকজান্ডার কনিংহাম
 (B) জেমস্ প্রিন্সেপ
 (C) ম্যাক্স মুলার
 (D) মর্টিমার হইলার
75. নিম্নে উল্লিখিত কোন স্থানটিতে ভারতীয় উপমহাদেশের প্রাচীনতম কৃষিকার্যের সাক্ষ্য মেলে?
 (A) প্রতাপগড়
 (B) মেহেরগড়
 (C) কোয়েটা
 (D) কালাত

Please Turn Over

76. অক্ষরবিশিষ্ট জোড়া নির্বাচন করো যার সঙ্গে মোটা হরফে লেখা মৌলিক জোড়াটির কিছু সম্পর্ক আছে।

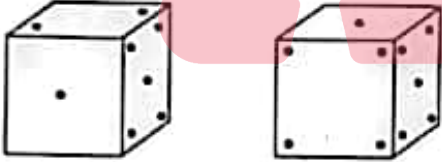
Poverty : Prosperity

- (A) Love : Sorrow
(B) Train : Cart
(C) Rain : Flood
(D) Intelligence : Stupidity

77. একটি নির্দিষ্ট সংকেত পদ্ধতিতে BREAKTHROUGH কে লেখা হয় EAOUHRBRGHKT, সেই সংকেত পদ্ধতি মেনে DISTRIBUTION-কে কী লেখা হবে?

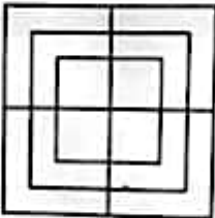
- (A) TISTBUONDIRI
(B) STTIBUONRIDI
(C) STTIBUDIONRI
(D) RISTTIBUDION

78. নিম্নলিখিত ছকে বিন্দুর সংখ্যা (1 থেকে 6 বিন্দু) নিরীক্ষণ করো। যে উপরিভাগে 4 টি বিন্দু আছে তার বিপরীত দিকে কয়টি বিন্দু আছে?



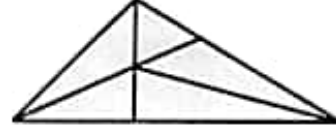
- (A) 2
(B) 3
(C) 6
(D) Cannot be determined

79. নিম্নের চিত্রে কতগুলি বর্গ হয়েছে নির্ণয় করো।



- (A) 8
(B) 12
(C) 15
(D) 18

80. নিম্নলিখিত চিত্রে কতগুলি ত্রিভুজ তৈরি হয়েছে?



- (A) 6
(B) 10
(C) 11
(D) 12

শ্রেষ্ঠ বিকল্পটি নির্বাচন করো উত্তর হিসাবে (প্রশ্ন নং 81 এবং 82)।

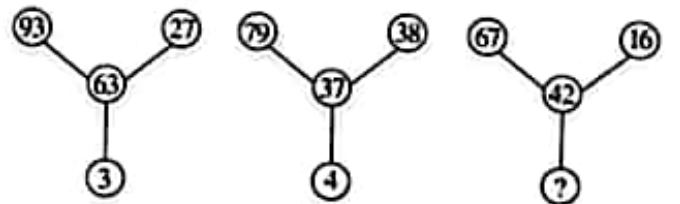
81. একটি camera-র সর্বদা থাকে

- (A) Lens
(B) Reels
(C) Flash
(D) Stand

82. একটি নদীর সর্বদা থাকে

- (A) Delta
(B) Tributaries
(C) Boats
(D) Banks

83.



- (A) 5
(B) 6
(C) 8
(D) 9

Please Turn Over

84. এক ব্যক্তির কাছে কিছু ছোটো বাস আছে যেগুলি মোড়কজাতকরণ করতে হবে। তিনি যদি 3, 4, 5 বা 6 করে মোড়ক করেন তাহলে তাঁর কাছে 1 টি বাস থাকে; যদি তিনি 7 টি করে মোড়ক করেন, তাহলে কিছু অবশিষ্ট থাকে না। বাসের সংখ্যা কতগুলি যা মোড়ক করতে হবে?

- (A) 106
- (B) 301
- (C) 309
- (D) 400

85. নিম্নলিখিত বিষয়গুলিকে সাধারণ থেকে বিশেষ পর্যায়ে সাজাও :

- (i) Animal
- (ii) Feline
- (iii) Leopard
- (iv) Mammal
- (v) Vertebrate
- (vi) Cat

- (A) (i), (ii), (iii), (iv), (v), (vi)
- (B) (i), (iii), (v), (iv), (ii), (vi)
- (C) (i), (iv), (iii), (ii), (v), (vi)
- (D) (i), (v), (iv), (ii), (iii), (vi)

86. নিম্নলিখিত শব্দগুলিকে একটি অর্থযুক্ত পর্যায়ক্রমে সাজাও :

- (i) Consultation
- (ii) Illness
- (iii) Doctor
- (iv) Treatment
- (v) Recovery

- (A) (ii), (iii), (i), (iv), (v)
- (B) (ii), (iii), (iv), (i), (v)
- (C) (iv), (iii), (i), (ii), (v)
- (D) (v), (i), (iv), (iii), (ii)

87. নিম্নলিখিত কোন সংখ্যাগুলি পরস্পর স্থান বিনিময় হলে দেয় সমীকরণটি সঠিক হবে?

$$8 \times 20 \div 3 + 9 - 5 = 38$$

- (A) 3, 8
- (B) 8, 9
- (C) 3, 5
- (D) 3, 9

88. যদি $A > B$, $B > C$ এবং $C > D$ হয়, তাহলে কোন সিদ্ধান্তটি নিশ্চিতভাবে ভুল?

- (A) $A > D$
- (B) $A > C$
- (C) $D > A$
- (D) $B > D$

89. যদি ' $<$ ' চিহ্ন মানে 'বিয়োগ' হয়, ' $>$ ' চিহ্ন মানে 'যোগ' হয়, ' $=$ ' চিহ্ন মানে 'গুণিতক' হয়, এবং '\$' মানে বিভাজ্য হয়, তাহলে $27 > 81 \$ 9 < 6$ এর মান কত?

- (A) 6
- (B) 33
- (C) 30
- (D) 54

90. নিম্নলিখিত পর্যায়ক্রমে কতগুলি 3 আছে যেগুলির পূর্বে 6 অবস্থিত নয়, এমনকি ঠিক পরবর্তী স্থান 9 দ্বারা অনুসরণকৃত নয়?

9 3 6 6 3 9 5 9 3 7 8 9 1 6 3 9 6 3 9

- (A) One
- (B) Two
- (C) Three
- (D) Four

91. নিম্নলিখিত অনুক্রমে কতগুলি বিসম সংখ্যা আছে যেগুলি 3 বা 5 দ্বারা বিভাজ্য এবং তারপর বিসম সংখ্যা দ্বারা অনুসরণকৃত এবং তারপর জোড়সংখ্যা দ্বারা অনুসরণকৃত।

12, 19, 21, 3, 25, 18, 35, 20, 22, 21, 45, 46, 47, 48, 9, 50, 52, 54, 55, 56

- (A) Zero
- (B) One
- (C) Two
- (D) Three

Please Turn Over

92. $\delta = \beta F 2 * K S 7 5 \# S P L V S @ M U E$
 $6 \uparrow Q G \odot 9 3 \& T Y \pounds$

এই বিন্যাসে কতগুলি অক্ষর আছে যেগুলি প্রত্যেকটির ঠিক পূর্বে একটি চিহ্ন আছে অথবা একটি সংখ্যা দ্বারা অনুসরণকৃত কিন্তু উভয়ই প্রযোজ্য নয়?

- (A) Three
 (B) Four
 (C) Five
 (D) Eight

93. MEAN শব্দটির কেবলমাত্র consonant গুলির পরিবর্তন করে কতগুলি অর্থযুক্ত শব্দ লেখা যাবে এই শর্তে যে consonant গুলির প্রত্যেকটি স্থান পরিবর্তন করা হবে English বর্ণমালার ঠিক পূর্ববর্তী অক্ষর দ্বারা এবং প্রতিটি অক্ষর প্রতিটি শব্দে কেবলমাত্র একবারই ব্যবহৃত হবে?

- (A) One
 (B) Two
 (C) Three
 (D) Four

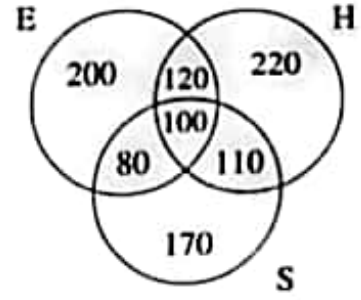
94. NECESSARY শব্দের নিম্নলিখিত অক্ষরগুলি যদি নিজেদের মধ্যে স্থান পরিবর্তন করে লেখা হয় যেমন - প্রথম ও তৃতীয় অক্ষর একে অপরের স্থানে, চতুর্থ এবং ষষ্ঠ অক্ষরদ্বয় একে অপরের স্থানে, সপ্তম এবং নবম অক্ষরদ্বয় একে অপরের স্থানে, তাহলে বাম দিক থেকে সপ্তম স্থানে কোন অক্ষরটি থাকবে?

- (A) A
 (B) Y
 (C) R
 (D) E

95. নিম্নলিখিত শব্দগুলি অভিধানের নিয়ম অনুসারে সাজাও:

- (i) Epitaxy
 (ii) Episode
 (iii) Epigene
 (iv) Epitome
 (v) Epilogue
 (A) (i), (ii), (iii), (iv), (v)
 (B) (iii), (ii), (v), (iv), (i)
 (C) (iii), (v), (ii), (i), (iv)
 (D) (v), (iv), (ii), (i), (iii)

96. 1000 ব্যক্তির Hindi(H), English(E) এবং Sanskrit(S)-এর উপর জ্ঞানের একটি সার্ভে'র ফল নিম্নরূপ:



সকল 3টি বিষয় জানা আছে এমন ব্যক্তির সংখ্যা এবং Sanskrit জানা নেই এমন ব্যক্তির সংখ্যার অনুপাত কত?

- (A) $\frac{1}{9}$
 (B) $\frac{1}{10}$
 (C) $\frac{10}{17}$
 (D) $\frac{5}{27}$

97. A এবং B-এর আয়ের যোগফল C এবং D-এর যৌথ আয়ের থেকে বেশি। A এবং C-এর আয়ের যোগফল B এবং D-এর আয়ের যোগফলের সমান। অধিকন্তু A-এর আয় B এবং D-এর আয়ের যোগফলের অর্ধেক।

কার আয় সর্বাধিক?

- (A) A
 (B) B
 (C) C
 (D) D

98. যদি ROME লেখা হয় MORE, তাহলে DARE লেখা হবে

- (A) RDAE
 (B) RDEA
 (C) RAED
 (D) RADE

99. বিসম কোনটি?

- (A) BdEg
 (B) KmNp
 (C) PrSu
 (D) TwXz

Please Turn Over

100. Igloos : Canada : : Rondavels : কী?

- (A) Africa
- (B) Rangoon
- (C) Russia
- (D) Indonesia

101. ভারতবর্ষে ভোটাধিকার ও নির্বাচিত হওয়ার অধিকার একটি

- (A) মৌলিক অধিকার
- (B) স্বাভাবিক অধিকার
- (C) সাংবিধানিক অধিকার
- (D) বৈধ বা আইনি অধিকার

102. ভারতীয় সংবিধানে আন্তর্জাতিক শান্তি ও নিরাপত্তার উৎসাহদান অঙ্গবৃত্ত আছে —

- (A) Preamble to the Constitution-এ
- (B) Directive Principles of State Policy-তে
- (C) Fundamental Duties-এ
- (D) Ninth Schedule-এ

103. যদি একটি Monetary Bill রাজ্যসভায় সবলভাবে সংশোধন করা হয়, তবে পরবর্তী ধাপ কী হবে?

- (A) লোকসভা, রাজ্যসভার সুপারিশ গ্রহণ করে বা না করে পুনরায় অগ্রসর হবে।
- (B) লোকসভা পুনরায় বিবেচনার জন্য ঐ বিল গ্রহণ করতে পারে না।
- (C) লোকসভা ঐ বিল পুনরায় রাজ্যসভায় ফেরত পাঠাতে পারে পুনর্বিবেচনার জন্য।
- (D) রাষ্ট্রপতি একটি যৌথ আলোচনায় বসার জন্য বলতে পারেন বিলটি পাশ করার জন্য।

104. 'Welfare State'-এর চিত্রা ভারতীয় সংবিধানে সযত্নে রক্ষা করা হয় কোথায়?

- (A) প্রস্তাবনায়
- (B) রাজ্যনীতির প্রত্যক্ষ নীতিসমূহে
- (C) মৌলিক অধিকারে
- (D) সপ্তম তালিকায়

105. 'Panchayati Raj' ব্যবস্থার মৌলিক উদ্দেশ্য হল নিম্নলিখিত কোনটি নিশ্চিত করা?

- (A) উন্নতিতে জনগণের অংশগ্রহণ
- (B) রাজনৈতিক দায়বদ্ধতা
- (C) গণতান্ত্রিক বিকেন্দ্রিকরণ
- (D) আর্থিক যোজন

106. ভারতীয় সুপ্রিম কোর্টে বিচারকের সংখ্যা বৃদ্ধির ক্ষমতা কেবলমাত্র নিহিত আছে —

- (A) ভারতের রাষ্ট্রপতি
- (B) লোকসভা
- (C) ভারতের প্রধান বিচারপতি
- (D) আইন কমিশন

107. Hausla 2018 সম্পর্কীয় নিম্নলিখিত বিবৃতিগুলি বিচার করো —

1. It is an initiative of Ministry of Minority Affairs.
2. It provides a platform to children living in Child Care Institutions (CCIs) to showcase their skills.

এই বিবৃতিগুলির মধ্যে কোনটি/কোনগুলি সঠিক?

- (A) কেবলমাত্র 1
- (B) কেবলমাত্র 2
- (C) 1 এবং 2 উভয়ই
- (D) 1 বা 2 কোনোটিই নয়

108. অতি সম্প্রতি বিশ্ব ব্যাঙ্ক প্রকাশিত 'Ease of Doing Business Report 2019' অনুযায়ী ভারতের স্থান

- (A) 67 তম
- (B) 77 তম
- (C) 87 তম
- (D) 100 তম

109. PCA শব্দসংক্ষেপটি কী মূল শব্দ বোঝায়?

- (A) Public Current Account
- (B) Principles of Corporate Accounting
- (C) Prompt Corrective Action
- (D) Public Channel Agency

Please Turn Over

110. Regional Comprehensive Economic Programme (RCEP) সম্পর্কিত বিবৃতিগুলি বিচার করো।

1. It is an economic cooperation for the China led free trade.
2. It is a counter cooperation for the America led trans-Pacific partnership.
3. In the countries involved in this cooperation Indian Professionals will have job market.

নিম্নলিখিত code ব্যবহার করে সঠিক উত্তর নির্দেশ করো।

- (A) কেবলমাত্র 1 এবং 2
- (B) কেবলমাত্র 1 এবং 3
- (C) কেবলমাত্র 2 এবং 3
- (D) উপরের সবগুলি

111. সঠিক তারিখ এবং বছর চিহ্নিত করুন, যখন থেকে ভারতীয় সংবিধান আরোপিত বা কার্যকর হয়েছিল :

- (A) 15th August, 1947
- (B) 24th July, 1948
- (C) 20th January, 1951
- (D) 26th January, 1950

112. ভারতের সংবিধান অনুযায়ী রাষ্ট্রপতির কর্তব্য হল পার্লামেন্টের ডেকে (লোকসভার টেবিলে) উপস্থাপন করা নিম্নলিখিতগুলি —

1. Recommendations of Union Finance Commission (কেন্দ্রীয় ফিন্যান্স কমিশনের সুপারিশগুলি)
2. Public Accounts Committee -এর Report
3. Comptroller and Auditor-General -এর Report
4. National Scheduled Caste Commission -এর Report

Which of the statements given above is/are correct?

- (A) কেবলমাত্র 1
- (B) 2 এবং 4
- (C) 1, 3 এবং 4
- (D) 1, 2, 3 এবং 4

113. নিম্নলিখিত সংস্থা বা সংগঠনগুলির মধ্যে কোনটি প্রকাশিত করে— 'Agricultural Marketing and Farm Friendly Reforms Index'?

- (A) NTI Aayog
- (B) Ministry of Agriculture
- (C) Commission for Agricultural Costs and Prices (CACP)
- (D) কোনটিই নয়

114. 'United Sovereign Bengal'-এর advocate-দের মধ্যে একজন ছিলেন

- (A) H.S. Surhwardi
- (B) Shyamaprasad Mukherjee
- (C) Maulana Abdul Kalam Azad
- (D) উপরের কেউই নয়

115. সকল নাগরিকের কথা বলা ও মত প্রকাশের স্বাধীনতা ভারতীয় সংবিধানের কোন্ Article-এ নিশ্চিত করা হয়েছে?

- (A) Article 16
- (B) Article 17
- (C) Article 18
- (D) Article 19

116. ECF কী?

- (A) Economic Capital Framework
- (B) Equity Cash Flow
- (C) Entity Concept Fund
- (D) উপরের কোনটিই নয়

117. ভারতীয় সংবিধানের কোন্ তালিকায় কেন্দ্র এবং রাজ্যের মধ্যে ক্ষমতা বন্টন করেছে?

- (A) First Schedule
- (B) Second Schedule
- (C) Sixth Schedule
- (D) Seventh Schedule

Please Turn Over

118 ভারতীয় সংবিধানের 86 নং সংশোধনে Directive Principle-এ পরিবর্তন করা হয়েছে কোন্টির জন্য?

- (A) early childhood care and education for all children until they complete the age of six years.
- (B) the state to provide free legal aid.
- (C) encouraging village panchayats.
- (D) prohibiting intoxicating drinks and drugs injurious to health.

119. কোন্ রাজ্যে District Judge নিযুক্ত হন

- (A) Governor দ্বারা
- (B) High Court-এর প্রধান বিচারক দ্বারা
- (C) রাজ্যের কাউন্সিল অব মিনিস্টারস্ দ্বারা
- (D) রাজ্যের Advocate General দ্বারা

120. ভারতের রাষ্ট্রপতির ক্ষেত্রে অভিযোগ আনা যায়

- (A) পার্লামেন্টের উভয় কক্ষের যেকোনটিতে।
- (B) পার্লামেন্টের উভয় কক্ষের যৌথ অধিবেশনে।
- (C) লোকসভায় এককভাবে।
- (D) রাজ্যসভায় এককভাবে।

121. নিম্নলিখিত বিবৃতিগুলি বিচার কর :

Public Accounts-এর উপর Parliamentary Committee

1. লোকসভার 25 জন সদস্য-এর অধিক দ্বারা গঠিত হয় না।
2. কেবলমাত্র আইনি ও বৈধতার নিরিখে public expenditure পরীক্ষা করে না কোনরকম technical অনিয়ম আছে কিনা জানার জন্য, উপরন্তু অর্থনৈতিক, স্বচ্ছতা, জ্ঞান এবং যথার্থতা দেখার জন্যও পরীক্ষিত হয়।
3. ভারতের Comptroller এবং Auditor General-এর রিপোর্ট পরীক্ষার জন্য।

উপরিউল্লিখিত কোন্ উক্তর বা উক্তরগুলি সঠিক?

- (A) কেবলমাত্র 1
- (B) 2 এবং 3
- (C) কেবলমাত্র 3
- (D) 1, 2 এবং 3

122. নিম্নলিখিত কোন্ সংবিধানিক আধিকারিকের ক্ষমতা করার ক্ষমতা আছে?

- (A) রাষ্ট্রপতির
- (B) রাষ্ট্রপতির এবং কোন রাজ্যের রাজ্যপালের
- (C) রাজ্যপালের
- (D) ভারতীয় সুপ্রিম কোর্টের মুখ্য বা প্রধান বিচারকের

123. ভারতীয় সংবিধানে আর্টিকেল 280-তে নিম্নলিখিত কোন্টি স্থাপনের ব্যবস্থা করা হয়েছে?

- (A) পরিকল্পনা কমিশন
- (B) আন্তঃরাজ্য কাউন্সিল
- (C) নদীর জলসংক্রান্ত ট্রাইব্যুনাল
- (D) অর্থ কমিশন

124. ভারতের পঞ্চয়তি রাজ ব্যবস্থার প্রকার

- (A) একস্তর
- (B) দ্বিস্তর
- (C) তিনস্তর
- (D) চারস্তর

125. ভারতীয় সংবিধানের সংশোধনগুলির মধ্যে কোন্ সংশোধন লোকসভা এবং রাজ্য বিধানসভায় SC এবং ST-র জন্য সংরক্ষণ সম্পর্কিত এবং অ্যাংলো ভারতীয়দের প্রতিনিধি লোকসভায় এবং রাজ্য বিধানসভায় থাকার ব্যাপারে সম্পর্কিত?

- (A) 54তম সংশোধন
- (B) 63তম সংশোধন
- (C) 111তম সংশোধন
- (D) 79তম সংশোধন

126. 121 cm দৈর্ঘ্যের একটি বৃত্তাপ, বৃত্তের কেন্দ্রে 77° কোণ উৎপন্ন করে। বৃত্তের ব্যাসার্ধ হল

- (A) 110 cm
- (B) 100 cm
- (C) 90 cm
- (D) 70 cm

Please Turn Over

127. 9, 12, 15, 18, 20 ও 22-এর গড় 1 বৃদ্ধি পাবে যদি 15-এর বদলে নেওয়া হয়

- (A) 16
- (B) 17
- (C) 19
- (D) 21

128. মানুষের শরীরে সুবৃদ্ধা হাড়ের সংখ্যা হল

- (A) 12 জোড়া
- (B) 31 জোড়া
- (C) 31
- (D) 12

129. কোন চলন্ত বিমান থেকে একটি স্থানে বোমা ফেলা হল। বিমান চালক দেখবে যে

- (A) বোমাটি বক্রপথে চলে ঐ স্থানের পিছনে পড়ে।
- (B) বোমাটি বক্রপথে চলে ঐ স্থানের সামনে পড়ে।
- (C) বোমাটি উল্লম্বভাবে নীচে পড়ে।
- (D) বোমাটি কিছু সময় বায়ুতে স্থির থাকে।

130. 'বিউটি পার্গারে' চুল বিন্যস্ত করার জন্য ব্যবহার করা হয়

- (A) ক্লোরিন
- (B) সালফার
- (C) ফসফরাস
- (D) সিলিকন

131. নীচের কোন সারে নাইট্রোজেনের পরিমাণ বেশি থাকে?

- (A) ইউরিয়া
- (B) অ্যামোনিয়াম নাইট্রেট
- (C) পটাশিয়াম নাইট্রেট
- (D) অ্যামোনিয়াম ফসফেট

132. উত্তম তাপ শোষকরা হল

- (A) দুর্বল বিকিরক
- (B) অ-বিকিরক
- (C) উত্তম বিকিরক
- (D) উচ্চ পালিশযুক্ত

133. ঘরের উপরের দিকে ভেন্টিলেটর থাকে

- (A) শ্বাসক্রিয়ার অক্সিজেন আসার জন্য।
- (B) যাতে সূর্যের আলো ঘরে আসতে পারে।
- (C) বাতাসের পরিচলনশ্রোত বজায় রেখে বাতাসকে তাজা রাখার জন্য।
- (D) কার্বন ডাই অক্সাইডের একটি নির্গম পথ রাখার জন্য।

134. তোমার বন্ধুর কণ্ঠস্বর চেনা যায় তার

- (A) পিচ্ (তীব্রতা) দ্বারা
- (B) কোয়ালিটি (গুণ বা জাতি) দ্বারা
- (C) প্রাবল্য (তীব্রতা) দ্বারা
- (D) বেগ দ্বারা

135. 'আলোকবর্ষ' হল

- (A) এক বছরে সূর্য যে আলো বিকিরণ করে।
- (B) সূর্য থেকে পৃথিবীতে আলো আসতে যে সময় লাগে।
- (C) শূন্যস্থানে আলো এক বছরে যে দূরত্ব অতিক্রম করে।
- (D) সূর্যের চারিদিকে এক বার ঘুরতে পৃথিবীর যে সময় লাগে।

136. তারাদের কিকিমিকি করার কারণ হল

- (A) এদের বিশাল দূরত্ব ও বায়ুর ঝড়
- (B) পৃথিবীর ঘূর্ণন
- (C) তারাদের বিশাল আকার
- (D) এদের বিশাল দূরত্ব ও বায়ুর ঘনত্বের হ্রাসবৃদ্ধি

Please Turn Over

137. যেটির pH < 7 সেটি হল

- (A) লেবুর রস
- (B) চুন জল
- (C) মানুষের রক্ত
- (D) অম্লশক (এক্টাসিড)

138. দাঁতের ক্ষয়রোধের জন্য আমাদের নিয়মিত দাঁত মাজার উপদেশ দেওয়া হয়। যে মাজন ব্যবহার করা হয় তার মৌলিক প্রকৃতি হল

- (A) অম্লিক
- (B) নিরপেক্ষ (নিউট্রাল)
- (C) ক্ষারীয়
- (D) ক্ষয়কারক (করোসিভ)

139. নীচের কোনটি সিমেন্টের মূল উপাদান?

- (A) জিপসাম
- (B) চূনাপাথর
- (C) মাটি
- (D) ছাই

140. পিতল কোনটির মিশ্রণ?

- (A) তামা ও দস্তা
- (B) তামা ও টিন
- (C) তামা, নিকেল ও দস্তা
- (D) তামা, অ্যালুমিনিয়াম ও ম্যাগনেসিয়াম

141. কোন ঘনকের প্রতিটি ধার দ্বিগুণ করলে, ক্ষেত্রফল বৃদ্ধির শতকরা হার হল

- (A) 25%
- (B) 50%
- (C) 150%
- (D) 300%

142. $\frac{4}{3}$, $\frac{8}{9}$ এবং $\frac{3}{5}$ -এর ল.সা.ও

- (A) 20
- (B) 24
- (C) $\frac{1}{24}$
- (D) $\frac{1}{20}$

143. যদি $1^2 + 2^2 + 3^2 + \dots + n^2 = \frac{n(n+1)(2n+1)}{6}$

হয়, তবে $5^2 + 6^2 + 7^2 + \dots + 10^2$ -এর মান হবে

- (A) 330
- (B) 345
- (C) 355
- (D) 360

144. দুটি গাড়ি, উচ্চগতিতে একে অপরকে অতিক্রম করছে। তাদের পাশাপাশি চলার বিপদ-এর কারণ

- (A) তাদের মাঝের অংশের বায়ুর চাপ বেড়ে যাওয়া।
- (B) তাদের মাঝে অবস্থিত বায়ুগণার বেগ কমে যাওয়া।
- (C) তাদের মাঝের অংশের বায়ুর চাপ কমে যাওয়া।
- (D) তাদের মাঝে অবস্থিত বায়ুগণার বেগ বেড়ে যাওয়া।

145. প্রতি একক ভরে বেশি ক্যালরি যোগান দেয় যে খাদ্য তা হল

- (A) প্রোটিন
- (B) কার্বোহাইড্রেট
- (C) ফ্যাট
- (D) জল

146. ECG লিপিবদ্ধ করে

- (A) হার্টবিট (হৃদস্পন্দন) এর হার
- (B) বিভব পার্থক্য
- (C) ডেনড্রিকুলার ঘনত্ব
- (D) পাম্প করা রক্তের আয়তন

Please Turn Over

147. 'বায়োগ্যাসের' উপাদানগুলি

- (A) কার্বন মনোক্সাইড, মিথেন ও হাইড্রোজেন
- (B) কার্বন ডাই অক্সাইড, মিথেন ও হাইড্রোজেন
- (C) কার্বন মনোক্সাইড, ইথেন ও হাইড্রোজেন
- (D) কার্বন ডাই অক্সাইড, ইথেন ও হাইড্রোজেন

148. শব্দদূষণ হয়, শব্দের (গোলমাল) মাত্রা যদি বেশি হয়

- ✓ (A) 70-75 dB-এর
- (B) 50-60 dB-এর
- (C) 80-99 dB-এর
- (D) 40-65 dB-এর

149. কোন ব্যক্তির আলকোহলে আসক্তির জন্য লিভার ক্ষতিগ্রস্ত হয় কারণ এটি

- (A) আলকোহলের উপাদান অপসারিত করে।
- (B) বাড়তি গ্রহীকন সক্ষম করে।
- (C) বেশি উদ্দীপিত করে যকৃৎ থেকে বেশি পাচক রস নির্গত করে।
- (D) বেশি ফ্যাট সঞ্চয় করে।

150. চৌম্বকক্ষেত্রে বিনতি কোণ—

- (A) 45°
- (B) 30°
- (C) শূন্য
- (D) 90°

151. 123 তম সংবিধান সংশোধনে কী বিষয়ে নিয়ে আলোচনা করা হয়েছে?

- (A) ন্যাশনাল কমিশন অন ব্যাকওয়ার্ড ক্লাসেস-এর ক্ষমতায়ন
- (B) ন্যাশনাল কাউন্সিল ফর ব্যাকওয়ার্ড ক্লাসেস-এর ক্ষমতায়ন
- (C) ন্যাশনাল কাউন্সিল ফর শিডিউল কাস্টস-এর ক্ষমতায়ন
- (D) ন্যাশনাল কমিশন ফর শিডিউল কাস্টস-এর ক্ষমতায়ন

152. ভারতীয় দণ্ডবিধির কোন্ ধারায় ব্যাভিচার সংক্রান্ত আইনের উল্লেখ রয়েছে?

- (A) 496
- (B) 497
- (C) 498
- (D) 499

153. 2018-য় প্রধান চরিত্রে অভিনয়ের জন্য কোন্ অভিনেতা একাডেমী পুরস্কার পান?

- (A) স্যাম রকওয়েল
- (B) লী স্মীথ
- (C) অ্যালেক্সান্ডার দেশপ্লাত
- (D) রিচার্ড কিং

154. 2018 সালে সাহিত্যে পুলিৎজার পুরস্কার পেলেন কোন্ সাহিত্যিক?

- (A) এন্ড্রেউ সিন গ্রিয়ার
- (B) সুম্পা লাহিড়ী
- (C) অরভিন্দ এডিগা
- (D) হারনান ডিয়াজ

155. আগামী জি 20 সামিট কোথায় অনুষ্ঠিত হবে?

- (A) ওসাকা
- (B) ওকলাহোমা
- (C) ওরসিয়েন্স
- (D) ওসলো

156. সংবিধানের কোন্ ধারায় রাজ্যপালকে রাজ্যের শাসনবিভাগীয় ক্ষমতা দেওয়া হয়েছে?

- (A) 156
- (B) 155
- (C) 154
- (D) 153

157. 'ফ্লাড অফ ফারার' বইটি কার লেখা ?
 (A) অমিত মিত্র
 (B) অমিত চৌধুরী
 (C) অমিতাভ ঘোষ
 (D) অতুল কে ঠাকুর
158. UNICEF-এর নবনিযুক্ত Goodwill Ambassador কে ?
 (A) মিলি ববি ড্রাউন
 (B) ডমিনিক ল্যাপিয়ের্
 (C) দীপিকা পাডুকোন
 (D) সাম্মা হায়েক্
159. চিনে বর্তমানে ভারতের রাষ্ট্রদূত কে ?
 (A) বিজয় গোখলে
 (B) বিক্রম মিশ্রী
 (C) বিজয় অরোরা
 (D) রামেশ্বর সিংহ
160. আই এম এফ-এর অধ্যক্ষ কে ?
 (A) হরশ্ট কোহলার
 (B) রডরিগো ব্যাটো
 (C) ডমিনিক ষ্টাউস
 (D) ক্রিস্টিন লাগার্দে
161. মালদ্বীপের রাষ্ট্রপতির নাম কী ?
 (A) ইব্রাহীম মোহাম্মেদ সলিহ
 (B) ইব্রাহীম নাসের
 (C) মোহাম্মেদ নাসীদ
 (D) আব্দুল্লা ইয়ামেন
162. মিউনিখ গণহত্যার সময়ে ইজরায়েলের প্রধানমন্ত্রী কে ছিলেন ?
 (A) গোল্ডা মেয়ের্
 (B) ডেভিড বেন-গুরিয়ন্
 (C) লেভি এশকল্
 (D) শিমন পেরেস্
163. বর্তমানে মার্কিন যুক্তরাষ্ট্রের স্বরাষ্ট্র সচিব কে ?
 (A) মাইক পম্পেও
 (B) রেঙ্গ টিলারসন
 (C) হিলারি রোচাম ক্রিস্টন
 (D) ওয়ারেন ক্রিস্টফার
164. কে 2019-এর এপ্রিল পর্যন্ত জাপানের সফট থাকবেন ?
 (A) মুতসুহিতো
 (B) আকিহিতো
 (C) হিরোহিতো
 (D) মিচিকো
165. দক্ষিণ কোরিয়ার রাষ্ট্রপতির নাম কী ?
 (A) মুন জে ইন
 (B) লি জে মিউং
 (C) বান কি মুন
 (D) আহন চেওল সু
166. সিকিমের শেষ স্বাধীন শাসক কে ?
 (A) ফুন্টসগ নামগেয়াল
 (B) তেনসুং নামগেয়াল
 (C) ভাশি নামগেয়াল
 (D) পালসেন নামগেয়াল

Please Turn Over

167. প্রেসিডেন্ট ট্রাম্প কবে 'এশিয়া রিয়ারসুরেল ইনিশিয়েটিভ অ্যান্ড'-কে স্বাক্ষর করে আইনে পরিণত করেন?

- (A) 31শে ডিসেম্বর 2018
- (B) 31শে অক্টোবর 2018
- (C) 31শে জুলাই 2018
- (D) 31শে আগস্ট 2018

168. বাম্পা জাতীয় উদ্যান কোথায় অবস্থিত?

- (A) উত্তরপ্রদেশ
- (B) ওড়িশা
- (C) রাজস্থান
- (D) মধ্যপ্রদেশ

169. ইরানের মুদ্রা কী?

- (A) ইরানি রিয়াল
- (B) ইরানি রুবেল
- (C) ইরানি দিনার
- (D) ইরানি ডলার

170. World Day for War Orphans কবে পালিত হয়?

- (A) 3রা জানুয়ারী
- (B) 4ঠা জানুয়ারী
- (C) 5ই জানুয়ারী
- (D) 6ই জানুয়ারী

171. সুপ্রিম কোর্টের সবারিমালা রায়ে কোন্ বিচারপতি ভিন্নমত পোষণ করেছেন?

- (A) বিচারপতি ইন্দিরা ব্যানার্জী
- (B) বিচারপতি নারিমান
- (C) বিচারপতি খানুইজ্জার
- (D) বিচারপতি ইন্দু মালহিয়া

172. এদের মধ্যে কে এ.আই.এম্.আই.এম্-এর নেতা?

- (A) জুফিকর আলি
- (B) আসাদুদ্দীন ওয়েসি
- (C) ওয়েসুদ্দীন সিদ্দীকি
- (D) দিনকার রাই

173. ভারতের কোন্ রাজ্যে সম্পূর্ণ জৈব পদ্ধতিতে চাষ হয়?

- (A) মিজোরাম
- (B) ত্রিপুরা
- (C) অরুণাচলপ্রদেশ
- (D) সিকিম

174. এদের মধ্যে কে কখনো মার্কিন যুক্তরাষ্ট্রের রাষ্ট্রপতি হন নি?

- (A) হারবট হুভার
- (B) জিরাপ্তিন ফোরড
- (C) কেন্ভিন কুলিড্র
- (D) জেমস বুচানান

175. 54তম জ্ঞানপীঠ পুরস্কার পেলেন কোন্ সাহিত্যিক?

- (A) বিক্রম শেঠ
- (B) অনিতা দেশাই
- (C) কিরণ দেশাই
- (D) অমিতাভ ঘোষ

176. 1932 সালে 'অল ইন্ডিয়া হরিজন সমাজ' প্রতিষ্ঠা করেছিলেন কে?

- (A) সি. আর. দাশ
- (B) সুভাষ চন্দ্র বসু
- (C) জহরলাল নেহরু
- (D) এম. কে. গান্ধি

Please Turn Over

177. গদর পাটি প্রতিষ্ঠা করেছিলেন কে ?

- (A) লাল লাজপত রাই
- (B) লাল হরদয়াল
- (C) ভগৎ সিং
- (D) কুনওয়ার সিং

178. অহুয়াী আঙ্গাদ হিঙ্গ সরকার কোথায় গঠিত হয়েছিল ?

- (A) সিঙ্গাপুর-এ
- (B) টোকিও-তে
- (C) বার্নিন-এ
- (D) রোম-এ

179. আই. এন. এ.-র বিখ্যাত বিচার-মামলা দিয়ারী লালকেয়ায় কত সালে অনুষ্ঠিত হয়েছিল ?

- (A) 1945
- (B) 1946
- (C) 1947
- (D) 1948

180. কংগ্রেস ওয়ার্কিং কমিটি কোন স্থানে 'ভারত ছাড়' আন্দোলনের প্রস্তাব প্রথম গ্রহণ করে ?

- (A) ওয়ার্শ
- (B) বারানসী
- (C) কলকাতা
- (D) দিল্লী

181. 1920 সালে অসহযোগ আন্দোলন শুরু করার দিনে কোন নেতার মৃত্যু হয় ?

- (A) বাল গঙ্গাধর তিলক
- (B) লাল লাজপৎ রাই
- (C) পি. সীতারামাইয়া
- (D) সি. রাজাগোপালাচারি

182. 'ভারতের জাতীয় কংগ্রেসের কোন অধিবেশনে প্রথমবার 'বন্দে মাতরম্' গানটি গাওয়া হয় ?

- (A) 1920 অধিবেশন
- (B) 1906 অধিবেশন
- (C) 1896 অধিবেশন
- (D) 1922 অধিবেশন

183. অসহযোগ আন্দোলন কোন সালে সাময়িকভাবে মূলত্ববী রাখা হয়েছিল ?

- (A) 1918
- (B) 1920
- (C) 1922
- (D) 1924

184. ভারতের জাতীয় কংগ্রেসের প্রথম অধিবেশনে সভাপতি ছিলেন কে ?

- (A) সুরেন্দ্রনাথ বন্দ্যোপাধ্যায়
- (B) উমেশ চন্দ্র ব্যানার্জি
- (C) অরবিন্দ ঘোষ
- (D) বিপিন চন্দ্র পাল

185. 'ইন্ডিয়ান ইনডিপেন্ডেন্স লীগ'— কে প্রতিষ্ঠা করেন ?

- (A) রাসবিহারী বসু
- (B) সুভাষ চন্দ্র বসু
- (C) মহাত্মা গান্ধী
- (D) জহরলাল নেহেরু

186. হিন্দু এবং মুসলমানদের পৃথক নির্বাচকমণ্ডলীতে নির্ধারণ করার সংস্থান কোন ব্যবস্থার মাধ্যমে করা হয়েছিল ?

- (A) গভর্নমেন্ট অফ ইন্ডিয়া অ্যাক্ট, 1935
- (B) মন্টেগু চেমস্ফোর্ড রিফর্মস
- (C) মিন্টো-মরলে রিফর্মস
- (D) মাউন্টব্যাটেন পরিকল্পনা

187. ভারতের জাতীয় কংগ্রেস কোন্ অধিবেশনে 'পূর্ণ স্বাধীনতা' অর্জনকে লক্ষ্য করে ঘোষণা করেছিল?

- (A) লাহোর, 1929
- (B) লক্ষৌ, 1916
- (C) হিমুরী, 1939
- (D) বোম্বে, 1940

188. জালিয়ানওয়ালাবাগ হত্যাকাণ্ডের অব্যবহিত পূর্বে কোন্ বিশেষ ঘটনা ঘটেছিল?

- (A) কমুনাল আওয়াজ
- (B) সাইমন কমিশনের আগমন
- (C) অসহযোগ আন্দোলন
- (D) Rowlatt আইন প্রণয়ন

189. বিখ্যাত পাকিস্তান প্রস্তাব কোথায় পাশ হয়?

- (A) লাহোর
- (B) দিল্লী
- (C) বোম্বে
- (D) লক্ষৌ

190. কোন্ আইনকে 'Black-Bill' বলা হত?

- (A) Rowlatt আর্ট-কে
- (B) Pitt ইন্ডিয়া আর্ট-কে
- (C) দি রেভলুটিং আর্ট-কে
- (D) ইন্ডিয়ান কাউন্সিল আর্ট-কে

191. 'নেহরু একজন দেশপ্রেমিক, জিন্না একজন রাজনীতিবিদ।' — এই মন্তব্যটি কে করেছিলেন?

- (A) মৌলানা আজাদ
- (B) মহাত্মা গান্ধি
- (C) স্যার মহম্মদ ইকবাল
- (D) আব্দুল গফফর খান

192. কার বা কাদের নেতৃত্বে খিলাফত আন্দোলন শুরু হয়?

- (A) মহম্মদ আলি জিন্না
- (B) ডা. জাকির হুসেন
- (C) ফকরুদ্দিন আলি আহমেদ
- (D) আলি ভাইয়েরা

193. 'সাইমন কমিশনের প্রতিবেদন আবর্জনার স্থূপে নিক্ষেপ করা উচিত।' — এই কথা কে বলেছিলেন?

- (A) এম. কে. গান্ধী
- (B) শিবস্বামী আয়ার
- (C) মহম্মদ আলি জিন্না
- (D) জহরলাল নেহরু

194. কোন্ দিনকে মুসলিম লীগ 'প্রত্যক্ষ সংগ্রাম দিবস' বলে ঘোষণা করেছিল?

- (A) 3 সেপ্টেম্বর, 1946
- (B) 16 আগস্ট, 1946
- (C) 16 মে, 1946
- (D) 4 ডিসেম্বর, 1946

195. 1930 সালের 6ই এপ্রিল ভারতের ইতিহাসে বিশেষ উল্লেখযোগ্য, কারণ এই দিনটি সম্পর্কিত —

- (A) মহাত্মার 'ভাতি অভিযান'-এর সঙ্গে
- (B) 'ভারত-ছাড়' আন্দোলনের সঙ্গে
- (C) 'বঙ্গ-বিভাগ'-এর সঙ্গে
- (D) 'ভারত বিভাগ'-এর সঙ্গে

196. কোন্ যুদ্ধের মধ্য দিয়ে ভারতে ব্রিটিশ শাসনের সর্বময় কর্তৃত্ব শুরু হয়?

- (A) পলাশীর যুদ্ধ, 1757
- (B) বঙ্গারের যুদ্ধ, 1764
- (C) তৃতীয় মহীশূর যুদ্ধ, 1790-92
- (D) চতুর্থ মহীশূর যুদ্ধ, 1799

Please Turn Over

197. কুকা আন্দোলন কোন্ রাজ্যের সঙ্গে সম্পর্কিত?

- (A) আসাম
- (B) বাংলা
- (C) পাঞ্জাব
- (D) মহারাষ্ট্র

198. পাকিস্তান-এর ধারণা প্রথম কে ভাবেন?

- (A) মহম্মদ ইকবাল
- (B) এম.এ.জিন্না
- (C) সৌকর আলি
- (D) আগা খান

199. Rowlatt আইন কত সালে প্রণীত হয়?

- (A) 1917
- (B) 1919
- (C) 1921
- (D) 1923

200. নিম্নলিখিত আন্দোলনগুলির মধ্যে কোন্ আন্দোলন বঙ্গবিভাগের অব্যবহিত পরে সংগঠিত হয়েছিল?

- (A) অসহযোগ আন্দোলন
- (B) স্বদেশী আন্দোলন
- (C) আইন অমান্য আন্দোলন
- (D) গদর আন্দোলন